

【FdData 高校入試：中学数学 3 年：二次方程式の応用】

[\[係数を求める問題／面積／体積／数の問題／2 次方程式のその他の応用／整数解の問題／FdData 入試製品版のご案内\]](#)

[\[FdData 入試ホームページ\]](#)掲載の pdf ファイル(サンプル)一覧

※次のリンクは[Shift]キーをおしながら左クリックすると、新規ウィンドウが開きます

理科：[\[理科 1 年\]](#)，[\[理科 2 年\]](#)，[\[理科 3 年\]](#)

社会：[\[社会地理\]](#)，[\[社会歴史\]](#)，[\[社会公民\]](#)

数学：[\[数学 1 年\]](#)，[\[数学 2 年\]](#)，[\[数学 3 年\]](#)

※全内容を掲載しておりますが、印刷はできないように設定しております

【】 係数を求める問題

[問題]

二次方程式 $x^2 + ax - 10 = 0$ の 1 つの解が 2 のとき、 a の値と他の解を求めよ。

(青森県)(**)

[解答欄]

a の値：	他の解：
---------	------

[ヒント]

$x^2 + ax - 10 = 0$ に $x = 2$ を代入する。

[解答] a の値：3　他の解：-5

[解説]

$x^2 + ax - 10 = 0$ の 1 つの解が 2 であるので、

$x^2 + ax - 10 = 0$ に $x = 2$ を代入すると、

$$4 + 2a - 10 = 0, \quad 2a = 6, \quad a = 3$$

$a = 3$ を $x^2 + ax - 10 = 0$ に代入すると、

$$x^2 + 3x - 10 = 0, \quad (x - 2)(x + 5) = 0$$

$$x = 2, -5$$

よって、他の解は -5 である。

[問題]

x についての二次方程式 $(x+1)(x-2)=a$ (a は定数) の解の 1 つが 4 である。このとき、 a の値を求めよ。また、この方程式の他の解を求めよ。

(熊本県)(**)

[解答欄]

a の値 :	他の解 :
----------	-------

[ヒント]

$(x+1)(x-2)=a$ に $x=4$ を代入する。

[解答] a の値 : 10 他の解 : -3

[解説]

$(x+1)(x-2)=a$ の解の 1 つが 4 であるので、

$(x+1)(x-2)=a$ に $x=4$ を代入すると、

$$5 \times 2 = a, \quad a = 10$$

$a=10$ を $(x+1)(x-2)=a$ に代入すると、

$$(x+1)(x-2)=10, \quad x^2 - x - 2 = 10, \quad x^2 - x - 12 = 0$$

$$(x+3)(x-4)=0, \quad x = -3, 4$$

よって、他の解は -3

[問題]

2 次方程式 $x^2 - 5x - 6 = 0$ の大きい方の解が、2 次方程式 $x^2 + ax - 24 = 0$ の解の 1 つになっている。このときの a の値を求めよ。

(神奈川県)(**)

[解答欄]

[ヒント]

まず、 $x^2 - 5x - 6 = 0$ を解く。

[解答] $a = -2$

[解説]

まず、 $x^2 - 5x - 6 = 0$ を解く。

$$(x+1)(x-6)=0$$

$$x = -1, 6$$

よって、大きい方の解は $x=6$

$x=6$ は $x^2 + ax - 24 = 0$ の解なので、 $x=6$ を $x^2 + ax - 24 = 0$ に代入すると、

$$36 + 6a - 24 = 0, \quad 6a = -12$$

$$a = -2$$


【】 面積

[長方形の面積]

[問題]

Aさんの学校では、花だんを何区画かつくることにした。このとき、どの区画も形と大きさが同じ長方形となるようにする。1区画の花だんは、縦を横より1m長くし、面積が 12m^2 となるようにする。右の図のように横の長さを $x\text{m}$ として、2次方程式をつくり、 x の値を求めよ。

(山口県)(**)



1区画の花だん

[解答欄]

[ヒント]

横の長さを $x\text{m}$ とすると、縦の長さは $x+1(\text{m})$ になる。

[解答]

横の長さを $x\text{m}$ とすると、縦の長さは $x+1(\text{m})$ になる。

面積は 12m^2 なので、

$$(x+1) \times x = 12$$

$$x^2 + x - 12 = 0$$

$$(x-3)(x+4) = 0$$

$$x = 3, -4$$

$x > 0$ なので、 $x = -4$ は問題にあわない。

$x = 3$ は問題にあう。

$$\underline{x = 3}$$

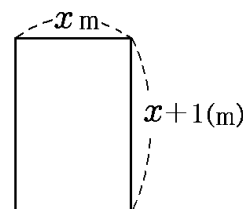
[解説]

横の長さを $x\text{m}$ とすると、「縦を横より1m長く」するので、縦の長さは $x+1(\text{m})$ になる。

1区画の花だんの「面積が 12m^2 となるようにする」とあるので、

$$(\text{縦の長さ}) \times (\text{横の長さ}) = 12(\text{m}^2)$$

$$\text{よって、} (x+1) \times x = 12$$



[問題]

1 辺の長さが x cm の正方形がある。この正方形の縦の辺を 2cm, 横の辺を 3cm それぞれ伸ばしてできた長方形の面積が, もとの正方形の面積の 2 倍となった。もとの正方形の 1 辺の長さを求めよ。方程式をつくり, それを解く過程も書け。

(群馬県)(**)

[解答欄]

[ヒント]

「縦の辺を 2cm, 横の辺を 3cm それぞれ伸ばしてできた長方形」の,
(縦の長さ) = $x+2$ (cm), (横の長さ) = $x+3$ (cm)

[解答]

長方形の縦は $x+2$ (m), 横は $x+3$ (m) なので面積は $(x+2)(x+3)$ (m²) である。この長方形の面積は, 正方形の面積 x^2 m² の 2 倍なので,

$$(x+2)(x+3) = 2x^2$$

$$x^2 + 5x + 6 = 2x^2$$

$$x^2 - 5x - 6 = 0$$

$$(x+1)(x-6) = 0$$

よって, $x = -1, 6$

$x > 0$ だから, $x = -1$ は問題にあわない。

$x = 6$ は問題にあう。

正方形の 1 辺は 6cm

[解説]

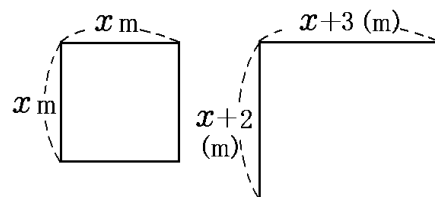
(1 辺の長さが x cm の正方形の面積) = x^2 (cm²)

「縦の辺を 2cm, 横の辺を 3cm それぞれ伸ばしてできた長方形」の, (縦の長さ) = $x+2$ (cm),

(横の長さ) = $x+3$ (cm) なので,

(長方形の面積) = $(x+2)(x+3)$ (cm²)

「長方形の面積が, もとの正方形の面積の 2 倍となった」とあるので, $(x+2)(x+3) = 2x^2$



[問題]

縦の長さ と 横の長さ の和が 6m で、面積が 6m^2 の長方形がある。縦の長さが横の長さよりも短いとき、縦の長さを求めよ。ただし、用いる文字が何を表すかを示して方程式をつくり、それを解く過程も書け。

(岩手県)(**)

[解答欄]

[ヒント]

この長方形の縦の長さを $x\text{m}$ とすると、横の長さは $6-x(\text{m})$ になる。

[解答]

この長方形の縦の長さを $x\text{m}$ とすると、横の長さは $6-x(\text{m})$ になる。

面積が 6m^2 であるので、

$$x(6-x)=6$$

$$6x-x^2=6$$

$$x^2-6x+6=0$$

解の公式より、

$$x = \frac{6 \pm \sqrt{36-24}}{2} = \frac{6 \pm 2\sqrt{3}}{2} = 3 \pm \sqrt{3}$$

$$x = 3 + \sqrt{3} \text{ のとき, (縦の長さ)} = 3 + \sqrt{3}, \text{ (横の長さ)} = 6 - (3 + \sqrt{3}) = 3 - \sqrt{3}$$

縦の長さが横の長さより長いので、問題にあわない。

$$x = 3 - \sqrt{3} \text{ のとき, (縦の長さ)} = 3 - \sqrt{3}, \text{ (横の長さ)} = 6 - (3 - \sqrt{3}) = 3 + \sqrt{3}$$

縦の長さが横の長さよりも短いので問題にあう。

縦の長さは $3 - \sqrt{3}(\text{m})$

[解説]

縦の長さを $x\text{m}$ とする。

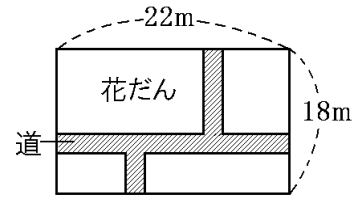
「縦の長さ と 横の長さ の和が 6m 」なので、横の長さは $6-x(\text{m})$ になる。

「面積が 6m^2 の長方形」とあるので、 $x \times (6-x) = 6$, $x(6-x) = 6$

[花だんと道]

[問題]

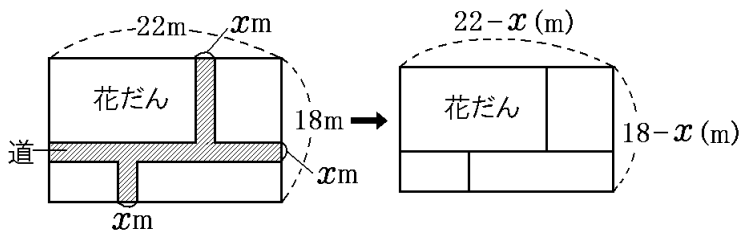
右図の土地は、縦の長さが 18m、横の長さが 22m である。
この土地に、図のように、幅の等しい道と 4 つの長方形の花だ
んをつくる。4 つの花だんの面積の合計が 320m^2 になると
き、道の幅を x として 2 次方程式をつくり、道の幅を求めよ。



(山口県)(***)

[解答欄]

[ヒント]



[解答]

道の幅を $x\text{ m}$ とする。道路の部分を取り取って、残りの土地をつなげると、縦 $18-x(\text{m})$ 、横 $22-x(\text{m})$ の長方形になるので、

$$(18-x)(22-x) = 320$$

$$x^2 - 40x + 396 = 320$$

$$x^2 - 40x + 76 = 0$$

$$(x-2)(x-38) = 0$$

$$x = 2, 38$$

土地の縦の長さは 18m なので、道の幅は 18m 未満である。

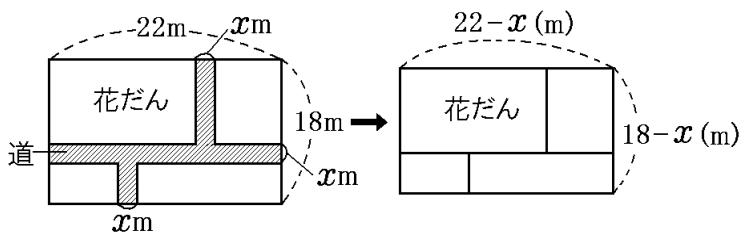
したがって、 $x = 38$ は問題にあわない。 $x = 2$ は問題にあう。

道の幅は 2m

【解説】

道の幅を x m とする。

右図のように、道路の部分を切り取って、残りの土地をつなげると、縦 $18-x$ (m)、横 $22-x$ (m) の長方形になる。




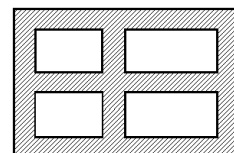
「4つの花だんの面積の合計が 320m^2 になる」ので、

$$(\text{縦の長さ}) \times (\text{横の長さ}) = 320 (\text{m}^2)$$

$$\text{よって、} (18-x)(22-x) = 320$$

【問題】

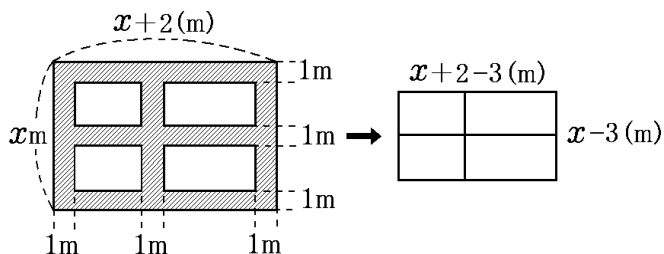
横が縦より 2m 長い長方形の土地がある。この土地に、図のように同じ幅の道(図の  の部分)をつくり、残った4つの長方形の土地を花だんにする。道幅が 1m 、4つの花だんの面積の合計が 35m^2 のとき、この土地の縦の長さは何 m か。



(愛知県)(***)

【解答欄】

【ヒント】



[解答]

この土地の縦の長さを x m とすると、横の長さは $x+2$ (m) である。

道路の部分を取り取って、残りの土地をつなげると、縦 $x-3$ (m)、横 $x+2-3$ (m) の長方形になるので、

$$(x-3) \times (x+2-3) = 35$$

$$x^2 - 4x + 3 = 35$$

$$x^2 - 4x - 32 = 0$$

$$(x+4)(x-8) = 0$$

$$x = -4, 8$$

$x > 0$ なので、 $x = -4$ は問題にあわない。

$x = 8$ は問題にあう。

土地の縦の長さは 8m

[解説]

この土地の縦の長さを x m とする。

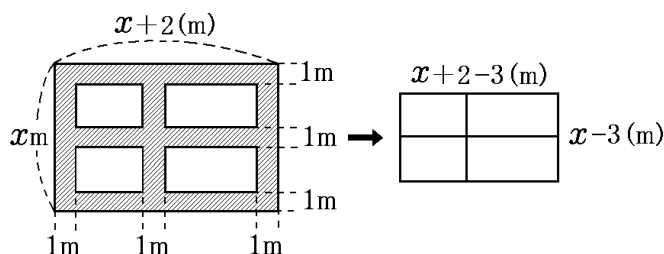
「横が縦より 2m 長い」ので、横の長さは $x+2$ (m) である。

右図のように、道路の部分を取り取って、残りの土地をつなげると、縦 $x-3$ (m)、

横 $x+2-3$ (m) の長方形になる。「4つの花だんの面積の合計が 35m^2 」なので、

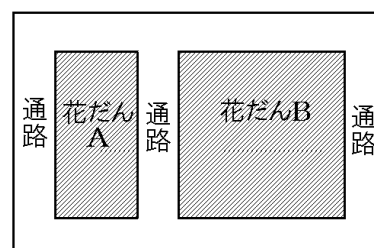
$$(\text{縦の長さ}) \times (\text{横の長さ}) = 35(\text{m}^2)$$

$$\text{よって、} (x-3) \times (x+2-3) = 35$$




[問題]

右の図のように、長方形の土地に、花だん A、花だん B、およびそのまわりに通路をつくることにした。花だん A は長方形、花だん B は正方形とし、花だん B の横の長さは花だん A の横の長さの 2 倍、2 つの花だんの縦の長さは同じとする。また、通路の幅はすべて 1m とする。長方形の土地全体の面積を 96m^2 とするとき、花だん A の横の長さを求めよ。ただし、方程式をつくり、答えを求めるまでの過程も書け。

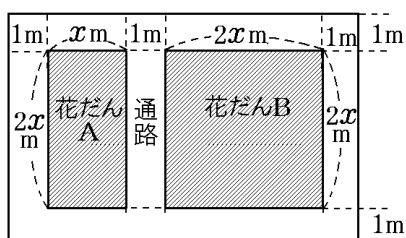


(佐賀県)(***)

[解答欄]



[ヒント]



[解答]

花だん A の横の長さを x m とすると、花だん B の横は $2x$ m、縦は $2x$ m、花だん A の縦は $2x$ m になる。通路の幅はすべて 1 m なので、長方形の土地の横は $3x + 3$ (m)、縦は $2x + 2$ (m) になる。長方形の土地全体の面積は 96m^2 なので、

$$(2x + 2) \times (3x + 3) = 96$$

式を整理すると、 $(x + 1)^2 = 16$

$$x + 1 = \pm 4, \quad x = 3, -5$$

$x > 0$ なので $x = -5$ は問題にあわない。

$x = 3$ は問題にあう。

花だん A の横の長さは 3m

[解説]

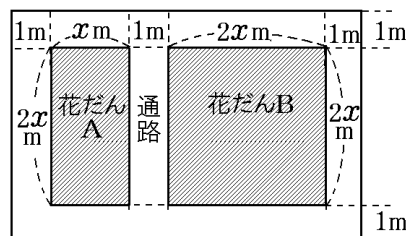
花だん A の横の長さを x m とする。

「花だん B は正方形とし、花だん B の横の長さは花だん A の横の長さの 2 倍、2 つの花だんの縦の長さは同じ」とあるので、花だん B の横は $2x$ m、縦は $2x$ m、花だん A の縦は $2x$ m になる。右図のように、

長方形の土地の横は $x + 2x + 1 + 1 + 1 = 3x + 3$ (m)、

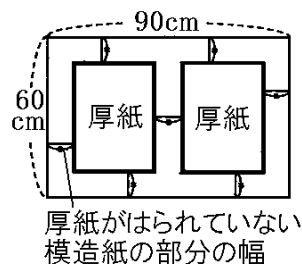
縦は $2x + 1 + 1 = 2x + 2$ (m) になる。「長方形の土地全体の面積を 96m^2 とする」ので、

$$(\text{縦の長さ}) \times (\text{横の長さ}) = 96(\text{m}^2), \quad (2x + 2) \times (3x + 3) = 96$$



[問題]

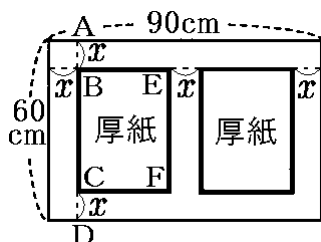
A 中学校では、在校生が卒業生へのメッセージを 2 枚の厚紙にかけて、その厚紙を、右の図のように、縦 60cm、横 90cm の長方形の模造紙にはることにした。2 枚の厚紙は合同な長方形で、厚紙 1 枚の面積は 1200cm^2 である。厚紙の縦と横の辺をそれぞれ模造紙の縦と横の辺に平行にし、厚紙がはられていない模造紙の部分の幅をすべて等しくするようにする。厚紙がはられていない模造紙の部分の幅を求めよ。



(福岡県)(***)

[解答欄]

[ヒント]



[解答]

厚紙がはられていない模造紙の部分の幅を $x\text{ cm}$ とすると、

厚紙の縦の長さは $60 - 2x\text{ (cm)}$ 、横の長さは $\frac{90 - 3x}{2}\text{ (cm)}$ なので、

$$(60 - 2x) \times \frac{90 - 3x}{2} = 1200$$

式を整理すると、

$$x^2 - 60x + 500 = 0$$

$$(x - 50)(x - 10) = 0$$

$$x = 50, 10$$

$x=50$ のとき、幅の横の部分の長さは $50 \times 3 = 150(\text{cm})$ となり、厚紙の横の長さ 90cm より長くなるので、問題にあわない。

$x=10$ は問題にあう。

模造紙の部分の幅は 10cm

[解説]

厚紙がはられていない模造紙の部分の幅を $x\text{cm}$ とする。

右図の厚紙 $BCFE$ に注目する。

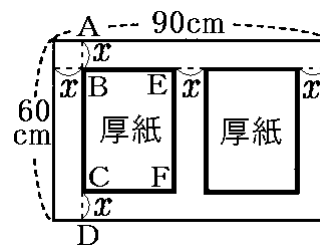
$$BC = AD - AB - CD = 60 - x - x = 60 - 2x (\text{cm})$$

$$\text{同様にして, } BE = \frac{90 - 3x}{2} (\text{cm})$$

$$(\text{厚紙 } BCFE \text{ の面積}) = (60 - 2x) \times \frac{90 - 3x}{2}$$

「厚紙 1 枚の面積は 1200cm^2 である」ので、

$$(60 - 2x) \times \frac{90 - 3x}{2} = 1200$$



[その他]

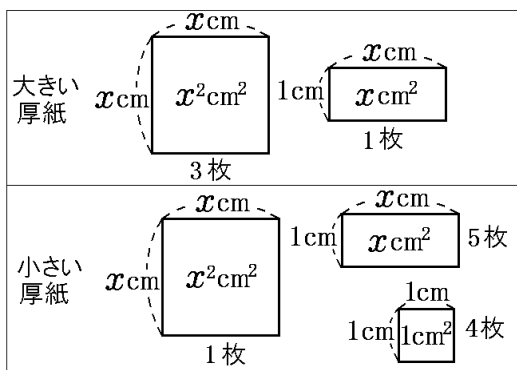
[問題]

大小 2 枚の厚紙がある。この 2 枚の厚紙をそれぞれ切り分けたところ、大きい厚紙は、1 辺が $x\text{cm}$ の正方形が 3 枚、1 辺が $x\text{cm}$ で他方の辺が 1cm の長方形が 1 枚の合計 4 枚の図形に分けることができた。また、小さい厚紙は、1 辺が $x\text{cm}$ の正方形が 1 枚、1 辺が $x\text{cm}$ で他方の辺が 1cm の長方形が 5 枚、1 辺が 1cm の正方形が 4 枚の合計 10 枚の図形に分けることができた。切り分ける前の大小 2 枚の厚紙の面積の差が 26cm^2 であったとき、 x の値を求めよ。求める過程も書け。

(福島県)(**)

[解答欄]

[ヒント]



[解答]

厚紙の面積の差が 26cm^2 であるので、

$$x^2 \times 3 + x - (x^2 + x \times 5 + 1 \times 4) = 26$$

式を整理すると、 $x^2 - 2x - 15 = 0$

$$(x+3)(x-5) = 0$$

$$x = -3, 5$$

$x > 0$ なので、 $x = -3$ は問題にあわない。

$x = 5$ は問題にあう。

$$\underline{x = 5}$$

[解説]

「大きい厚紙は、1辺が $x\text{cm}$ の正方形が 3枚、1辺が $x\text{cm}$ で他方の辺が 1cm の長方形が 1枚の合計 4枚の図形に分けることができた。」とあるので、右図のように、

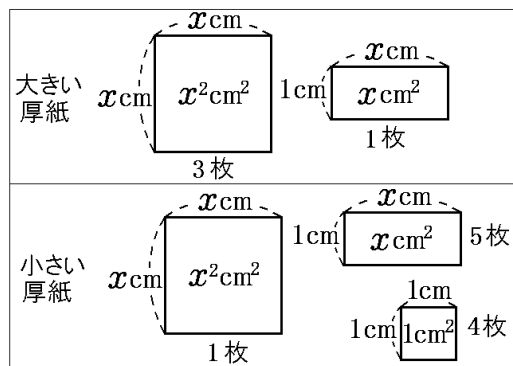
$$(\text{大きい厚紙の面積}) = x^2 \times 3 + x$$

「小さい厚紙は、1辺が $x\text{cm}$ の正方形が 1枚、1辺が $x\text{cm}$ で他方の辺が 1cm の長方形が 5枚、1辺が 1cm の正方形が 4枚の合計 10枚の図形に分けることができた」とあるので、右図のように、

$$(\text{小さい厚紙の面積}) = x^2 + x \times 5 + 1 \times 4$$

「大小 2枚の厚紙の面積の差が 26cm^2 であつた」ので、

$$x^2 \times 3 + x - (x^2 + x \times 5 + 1 \times 4) = 26$$

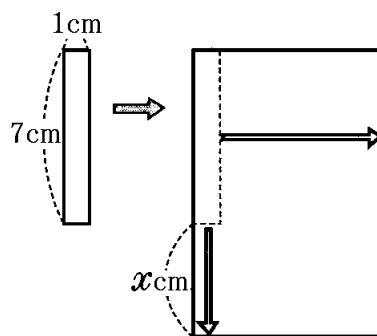


[問題]

右の図のように、縦の長さが 7cm、横の長さが 1cm の長方形がある。縦と横の長さをそれぞれ伸ばして、周の長さが 38cm の長方形をつくる。のばしてできる長方形の面積が 60cm^2 になるのは、縦の長さを何 cm だけのばしたときか。方程式をつくり、答えを求めるまでの過程も書け。

(佐賀県)(**)

[解答欄]



[ヒント]

縦の長さを $x\text{cm}$ のばしたとする。周の長さが 38cm なので、

$$(AB+AD)\times 2=38$$

$$AB+AD=19$$

$$x+7+AD=19$$

$$AD=12-x(\text{cm})$$

[解答]

縦の長さを $x\text{cm}$ のばしたとすると、

のばしてできる長方形の縦の長さは $x+7(\text{cm})$ 、横の長さは $12-x(\text{cm})$ なので、

$$(x+7)\times(12-x)=60$$

式を整理すると、

$$x^2-5x-24=0$$

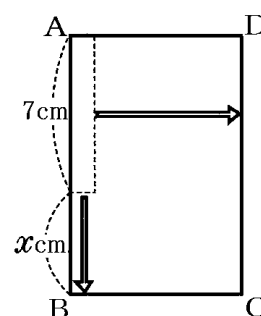
$$(x+3)(x-8)=0$$

$$x=-3, 8$$

$x>0$ なので $x=-3$ は問題にあわない。

$x=8$ は問題にあう。

縦の長さを 8cm だけのばした



[解説]

縦の長さを x cm のばしたとする。

「縦と横の長さをそれぞれのばして、周の長さが 38cm の長方形をつくる」とあるので、 $(AB+AD) \times 2 = 38$

$$AB+AD=19$$

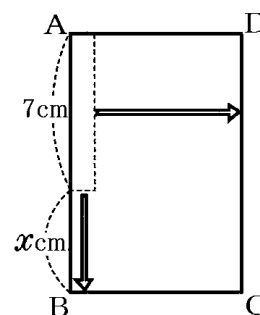
$$x+7+AD=19$$

$$AD=12-x \text{ (cm)}$$

「のばしてできる長方形の面積が 60cm^2 になる」ので、

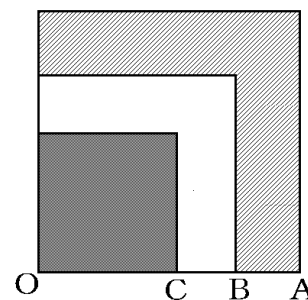
$$AB \times AD = 60$$

$$\text{よって、} (x+7) \times (12-x) = 60$$



[問題]

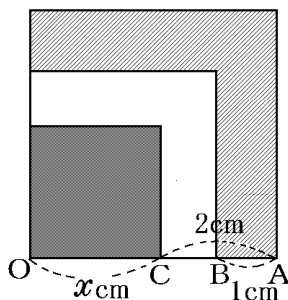
右の図のように、線分 OA を 1 辺とする正方形がある。辺 OA 上に AB=1cm, AC=2cm となるように 2 点 B, C をとり、OA を 1 辺とする正方形と同じ側に、2 つの線分 OB, OC を 1 辺とする正方形をそれぞれつくる。■で示された部分の面積と // で示された部分の面積が等しいとき、OC の長さを求めよ。ただし、用いる文字が何を表すかを示して方程式をつくり、それを解く過程も書け。



(岩手県)(**)

[解答欄]

[ヒント]



[解答]

OC の長さを x cm とすると、2つの部分の面積が等しいので、

$$x^2 = (x+2)^2 - (x+1)^2$$

式を整理すると、

$$x^2 - 2x - 3 = 0$$

$$(x+1)(x-3) = 0$$

$$x = -1, 3$$

$x > 0$ なので、 $x = -1$ は問題にあわない。

$x = 3$ は問題にあう。

OC は 3cm

[解説]

OC の長さを x cm とすると、

$$\text{(■の正方形の面積)} = x \times x = x^2 \text{ (cm}^2\text{)} \cdots \text{①}$$

$\text{(//の部分の面積)} = \text{(OA を 1 辺とする正方形の面積)} - \text{(OB を 1 辺とする正方形の面積)}$

OA = OC + AC = $x + 2$ (cm) なので、

$$\text{(OA を 1 辺とする正方形の面積)} = (x+2)^2 \text{ (cm}^2\text{)}$$

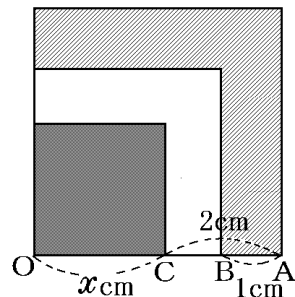
OB = OA - AB = $x + 2 - 1 = x + 1$ (cm) なので、

$$\text{(OB を 1 辺とする正方形の面積)} = (x+1)^2 \text{ (cm}^2\text{)}$$

よって、 $\text{(//の部分の面積)} = (x+2)^2 - (x+1)^2 \cdots \text{②}$


$\text{(■の正方形の面積)} = \text{(//の部分の面積)}$ なので、①、②より、

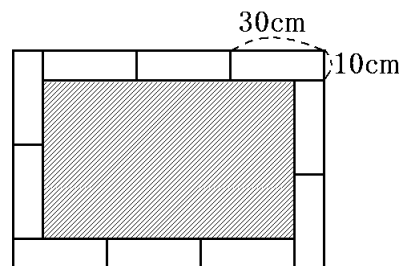
$$x^2 = (x+2)^2 - (x+1)^2$$




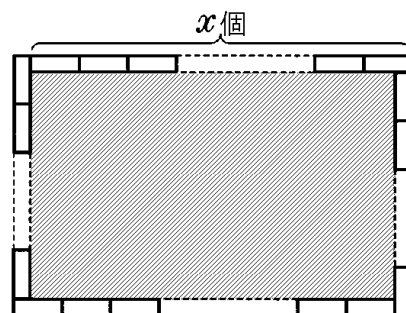
[問題]

校庭に同じ大きさのレンガを並べて、長方形の花だんをつくる。レンガの上の面は、縦 10cm、横 30cm の長方形である。ただし、レンガの高さは考えないものとする。次の各問いに答えよ。

(1) 右の図のように、レンガ 10 個を並べて花だんをつくった。このとき、レンガに囲まれた  の部分の面積を求めよ。



(2) レンガ 36 個を(1)と同じように並べて花だんをつくった。このとき、レンガに囲まれた  の部分の面積が 64000cm^2 となった。右の図のように、横に並べたレンガの数を x 個として、① x についての方程式をつくれ。②また、 x の値を求めよ。ただし、花だんの横の長さは縦の長さより長いものとする。

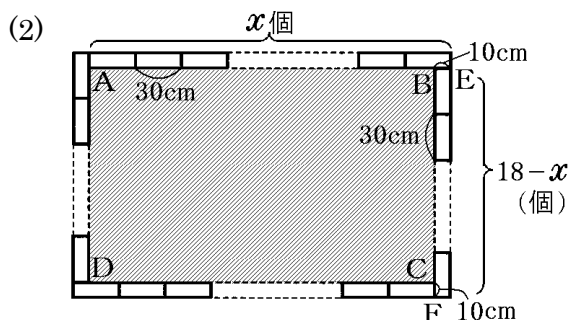


(大分県)(***)

[解答欄]


(1)	(2)①	②
-----	------	---

[ヒント]



[解答](1) 4000cm^2 (2)① $(30x-10)\{30(18-x)-10\}=64000$ ② $x=11$

[解説]

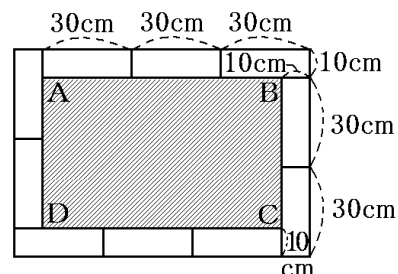
(1) 右図で  の部分の長方形 ABCD で、

$$AB=30(\text{cm})\times 3-10(\text{cm})=80(\text{cm})$$

$$BC=30(\text{cm})\times 2-10(\text{cm})=50(\text{cm})$$

よって、(長方形 ABCD の面積) $=AB\times BC$

$$=80(\text{cm})\times 50(\text{cm})=4000(\text{cm}^2)$$



(2) まず、右図の AB の長さを求める。

AE 間には、横 30cm のレンガが x 個並んでいるので、 $AE = 30 \times x = 30x$ (cm)

よって、 $AB = AE - BE = 30x - 10$ (cm)・・・①

次に、BC の長さを求める。

レンガは 36 個なので、横に並ぶレンガ x 個と縦に並ぶレンガの合計は、 $36 \div 2 = 18$ (個)である。

したがって、縦に並ぶレンガの個数は $18 - x$ (個)である。

よって、BF 間には $18 - x$ (個)のレンガが並んでいるので、

$BF = 30 \times (18 - x)$ (cm)

よって、 $BC = BF - CF = 30(18 - x) - 10$ (cm)・・・②

①、②より、(長方形 ABCD の面積) = $AB \times BC = (30x - 10)\{30(18 - x) - 10\}$

したがって、

$(30x - 10)\{30(18 - x) - 10\} = 64000$ が成り立つ。

式を整理すると、

$$x^2 - 18x + 77 = 0$$

$$(x - 7)(x - 11) = 0$$

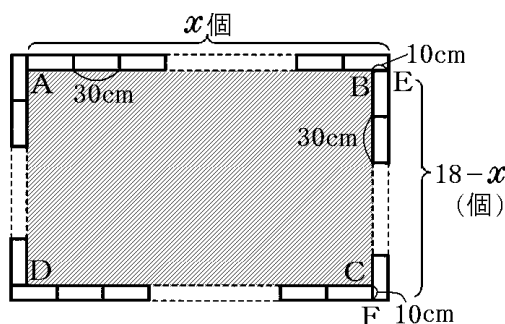
$$x = 7, 11$$

$x = 7$ のとき、横には 7 個、縦には $18 - 7 = 11$ (個)のレンガが並ぶ。

「花だんの横の長さは縦の長さより長いものとする」とあるので、 $x = 7$ は問題にあわない。

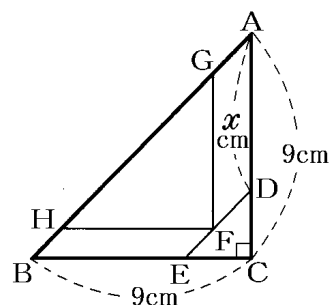
$x = 11$ のとき、横には 11 個、縦には $18 - 11 = 7$ (個)のレンガが並ぶ。これは問題にあう。

よって、 $x = 11$



[問題]

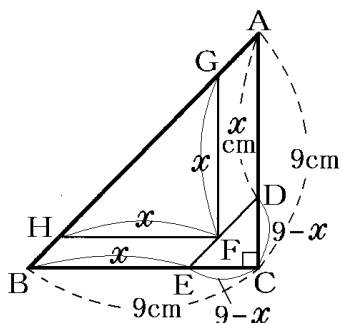
右の図のように、2つの直角二等辺三角形 ABC と DEC があり、辺 AC 上に辺 DC、辺 BC 上に辺 EC がある。AC = BC = 9cm とする。辺 DE 上に点 F、辺 AB 上に2点 G、H をとり、四角形 GFDA と HBEF がともに平行四辺形になるようにする。四角形 GFDA と HBEF の面積の和が $\triangle DEC$ の面積の4倍になるとき、AD の長さは何 cm になるか。AD の長さを x cm として方程式をつくり、求めよ。



(北海道)(***)

[解答欄]

[ヒント]



[解答]

$$\begin{aligned}(\text{四角形 GFDA と HBEF の面積の和}) &= (\triangle ABC \text{ の面積}) - (\triangle DEC \text{ の面積}) - (\triangle GHF \text{ の面積}) \\ &= \frac{81}{2} - \frac{1}{2}(9-x)^2 - \frac{1}{2}x^2\end{aligned}$$

四角形 GFDA と HBEF の面積の和が $\triangle DEC$ の面積の 4 倍になるので,

$$\frac{81}{2} - \frac{1}{2}(9-x)^2 - \frac{1}{2}x^2 = \frac{1}{2}(9-x)^2 \times 4$$

式を整理すると,

$$x^2 - 15x + 54 = 0$$

$$(x-9)(x-6) = 0$$

$$x = 9, 6$$

$0 < x < 9$ なので, $x = 9$ は問題にあわない。

$x = 6$ は問題にあう。

AD の長さは 6cm

【解説】

$\triangle ABC$ は 2 つの三角形と 2 つの平行四辺形に分けられる。

それぞれの部分の面積について考える。

まず、 $\triangle DEC$ について、

$$DC = AC - AD = 9 - x \text{ (cm)}$$

$\triangle DEC$ は直角二等辺三角形なので、 $EC = DC = 9 - x \text{ (cm)}$

$$\text{よって、} (\triangle DEC \text{ の面積}) = \frac{1}{2}(9-x)^2 \text{ (cm}^2\text{)}$$

次に $\triangle GHF$ について、

四角形 GFDA は平行四辺形なので、 $GF = AD = x \text{ (cm)}$

四角形 HBEF は平行四辺形なので、 $HF = BE = x \text{ (cm)}$

$$\text{よって、} (\triangle GHF \text{ の面積}) = \frac{1}{2}x^2$$

$$\text{また、} (\triangle ABC \text{ の面積}) = \frac{1}{2} \times 9 \times 9 = \frac{81}{2}$$

四角形 GFDA と HBEF の面積の和を S とすると、

$$S + (\triangle DEC \text{ の面積}) + (\triangle GHF \text{ の面積}) = (\triangle ABC \text{ の面積})$$

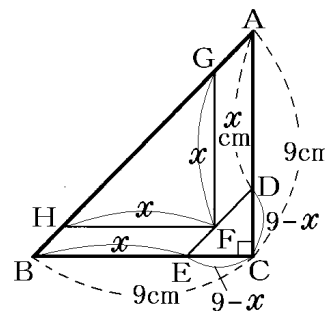
$$S + \frac{1}{2}(9-x)^2 + \frac{1}{2}x^2 = \frac{81}{2}$$

$$\text{よって、} S = \frac{81}{2} - \frac{1}{2}(9-x)^2 - \frac{1}{2}x^2$$

「四角形 GFDA と HBEF の面積の和が $\triangle DEC$ の面積の 4 倍になる」ので、

$$S = \frac{1}{2}(9-x)^2 \times 4$$

$$\text{よって、} \frac{81}{2} - \frac{1}{2}(9-x)^2 - \frac{1}{2}x^2 = \frac{1}{2}(9-x)^2 \times 4$$



【】 体積

[問題]

横が縦より 3cm 長い長方形を底面とする、ふたのない合同な直方体の容器が 8 つある。すべての容器に水の深さが 3cm となるように水を入れたところ、入った水の体積は 546cm^3 であった。この容器の底面の縦の長さを求めよ。ただし、容器の厚さは考えないものとする。求める過程も書け。

(福島県)(**)

[解答欄]

[ヒント]

底面の縦の長さを $x\text{ cm}$ とおくと、底面の横の長さは $x+3(\text{cm})$ である。

[解答]

底面の縦の長さを $x\text{ cm}$ とおくと、底面の横の長さは $x+3(\text{cm})$ で、水の深さは 3cm である。容器 8 つの体積は 546cm^3 であるので、

$$x \times (x+3) \times 3 \times 8 = 546$$

$$24x(x+3) = 546, \quad 4x(x+3) = 91$$

$$4x^2 + 12x - 91 = 0$$

$$\text{解の公式より, } x = \frac{-12 \pm \sqrt{12^2 - 4 \times 4 \times (-91)}}{8} = \frac{-12 \pm \sqrt{1600}}{8} = \frac{-12 \pm 40}{8}$$

$$x > 0 \text{ なので, } x = \frac{28}{8} = \frac{7}{2}, \quad x = \frac{7}{2} \text{ は問題にあう。}$$

$$\underline{\underline{\text{底面の縦の長さは } \frac{7}{2} \text{ cm}}}$$

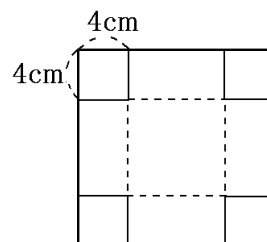
[解説]

底面の縦の長さを $x\text{ cm}$ とおくと、「横が縦より 3cm 長い」ので、底面の横の長さは $x+3(\text{cm})$ である。直方体の底面の長方形の縦が $x\text{ cm}$ 、横が $x+3(\text{cm})$ 、「水の深さが 3cm」なので、(直方体 1 個に入っている水の体積) $= x \times (x+3) \times 3 = 3x(x+3)(\text{cm}^3)$

「容器が 8 つ」に「入った水の体積は 546cm^3 で」あるので、 $3x(x+3) \times 8 = 546$

[問題]

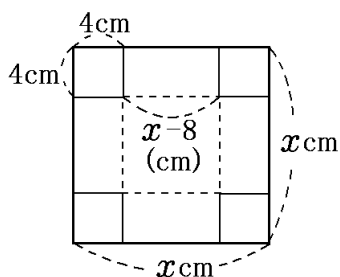
中学生の優子さんは、地域の子ども会のキャンプに参加した。野外炊飯をしようとしたところ、米の計量カップを忘れたことに気づいた。そこで、レクリエーション用に持ってきていた画用紙を使って、米1合分(180cm^3)を量るための箱を作ることにした。箱はふたのない直方体とし、右の図のように、正方形の画用紙の4すみから1辺が4cmの正方形を切り取り、容積が 180cm^3 となるように作る。4すみから正方形を切り取る前のはじめの正方形の画用紙の1辺の長さをいくらにすればよいか。答えを求めるまでの過程も書いて答えよ。



(岡山県)(**)

[解答欄]

[ヒント]



[解答]

正方形の画用紙の1辺の長さを $x\text{ cm}$ とすると、底面の正方形の1辺の長さは $x-8(\text{cm})$ である。高さが 4cm 、容積が 180cm^3 なので、

$$(x-8) \times (x-8) \times 4 = 180$$

$$(x-8)^2 = 45$$

$$x-8 = \pm\sqrt{45}$$

$$x-8 = \pm 3\sqrt{5}$$

$$x-8 > 0 \text{ なので, } x-8 = 3\sqrt{5}, \quad x = 8 + 3\sqrt{5}$$

$x = 8 + 3\sqrt{5}$ は問題にあう。

正方形の画用紙の1辺の長さは $8 + 3\sqrt{5}(\text{cm})$

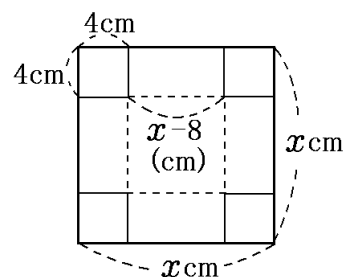
【解説】

正方形の画用紙の1辺の長さを x cm とすると、
底面の正方形の1辺の長さは、 $x - 4 - 4 = x - 8$ (cm)なので、

$$(\text{直方体の容積}) = (x - 8) \times (x - 8) \times 4$$

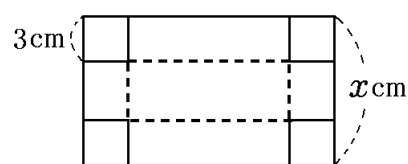
容積は 180cm^3 なので、

$$(x - 8) \times (x - 8) \times 4 = 180$$



【問題】

右の図のような、縦の長さが横の長さより短い長方形の紙があり、周の長さは 52cm である。この紙の4すみから、1辺の長さが 3cm の正方形を切り取り、ふたのない直方体の箱を作ると、その容積は 120cm^3 になった。

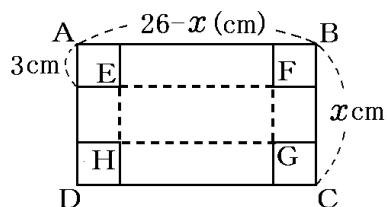


もとの長方形の紙の縦の長さを x cm として、 x の値を求めよ。 x の値を求める過程も、式と計算を含めて書け。

(香川県)**

【解答欄】

【ヒント】



【解答】

直方体の箱の容積は 120cm^3 なので、

$$(x - 6) \times (20 - x) \times 3 = 120$$

式を整理すると、

$$x^2 - 26x + 160 = 0$$

$$(x-10)(x-16)=0$$

$$x=10, 16$$

$x=10$ のとき、縦の長さは 10cm、横の長さは $26-10=16$ (cm)

縦の長さが横の長さより短いので問題にあう。

$x=16$ のとき、縦の長さは 16cm、横の長さは $26-16=10$ (cm)

縦の長さが横の長さより長いので問題にあわない。

$$\underline{x=10}$$

[解説]

$$(\text{直方体の容積}) = (\text{縦 FG}) \times (\text{横 EF}) \times (\text{高さ } 3\text{cm}) = 120(\text{cm}^3)$$

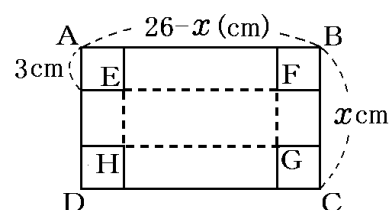
$$\text{FG} = \text{BC} - 3 - 3 = x - 6 \text{ (cm)}$$

「周の長さは 52cm である」ので、

$$\text{AB} = 52 \div 2 - x = 26 - x \text{ (cm)}$$

$$\text{EF} = \text{AB} - 3 - 3 = 26 - x - 6 = 20 - x$$

$$\text{よって、} (\text{直方体の容積}) = (x-6) \times (20-x) \times 3 = 120$$



【】 数の問題

[問題]

ある数 x と、 x を 2 乗した数との和は 3 である。このとき、 x についての方程式をつくり、 x の値を求めよ。

(熊本県)(*)

[解答欄]

[解答]

$$x + x^2 = 3$$

$$x^2 + x - 3 = 0$$

$$x = \frac{-1 \pm \sqrt{1^2 - 4 \times 1 \times (-3)}}{2}$$

$$x = \frac{-1 \pm \sqrt{13}}{2}$$

[問題]

連続する 2 つの自然数があり、それぞれを 2 乗した数の和が 113 になるとき、小さいほうの自然数を求めよ。

(神奈川県)(**)

[解答欄]

[ヒント]

小さいほうの自然数を x とすると、大きい方の数は $x+1$ になる。

[解答]

小さいほうの自然数を x とすると、大きい方の数は $x+1$ になるので、

$$x^2 + (x+1)^2 = 113$$

式を整理すると、

$$x^2 + x - 56 = 0$$

$$(x+8)(x-7) = 0$$

$$x = -8, 7$$

x は自然数なので、 $x = -8$ は問題にあわない。 $x = 7$ は問題にあう。

小さいほうの自然数は 7

[問題]

1~20 までの正の整数から 3 つの数を選び、それぞれ A, B, C とする。B は A より 5 小さい数であり、C は A の 2 倍より 1 小さい数である。A と B の積が C を 3 倍したものより 25 小さいとき、整数 A, B, C をそれぞれ求めよ。方程式をつくり、答えを求めるまでの過程も書け。

(佐賀県)(**)

[解答欄]

[ヒント]

A = x とすると、B = $x - 5$ 、C = $2x - 1$ になる。

[解答]

A = x とすると、B = $x - 5$ 、C = $2x - 1$ なので、

$$x \times (x - 5) = (2x - 1) \times 3 - 25$$

式を整理すると、

$$x^2 - 11x + 28 = 0$$

$$(x - 4)(x - 7) = 0$$

$$x = 4, 7$$

$x=4$ のとき, $A=4$, $B=4-5=-1$, $C=8-1=7$ A , B , C は正の整数なので, $B=-1$ は問題にあわない。 $x=7$ のとき, $A=7$, $B=7-5=2$, $C=14-1=13$ で, 問題にあう。

$A=7$, $B=2$, $C=13$

[解説]

$A=x$ とする。

「 B は A より 5 小さい」ので, $B=x-5$

「 C は A の 2 倍より 1 小さい」ので, $C=2x-1$

「 A と B の積が C を 3 倍したものより 25 小さい」ので,

$$A \times B = C \times 3 - 25$$

$$x \times (x-5) = (2x-1) \times 3 - 25$$

[問題]

ある正の数 x に 4 を加えて 2 乗するところを, 誤って x に 2 を加えて 4 倍したため, 正しい答えより 29 小さくなった。この正の数 x を求めよ。

(千葉県)**

[解答欄]

[ヒント]

$$(\text{正しい答え}) = (x+4)^2$$

$$(\text{誤った答え}) = (x+2) \times 4 = 4(x+2)$$

[解答]

$$4(x+2) = (x+4)^2 - 29$$

整理すると,

$$x^2 + 4x - 21 = 0$$

$$(x+7)(x-3) = 0$$

$$x = -7, 3$$

$x > 0$ なので $x = -7$ は問題にあわない。

$x = 3$ は問題にあう。

【解説】

正しい答えは、「ある正の数 x に 4 を加えて 2 乗」して得られる数なので、

(正しい答え) = $(x+4)^2$ である。

誤った答えは、「 x に 2 を加えて 4 倍」して得られる数なので、

(誤った答え) = $(x+2) \times 4 = 4(x+2)$

誤った答えは、「正しい答えより 29 小さくなった」ので、

(誤った答え) = (正しい答え) - 29 よって、 $4(x+2) = (x+4)^2 - 29$

【問題】

2 けたの自然数がある。この自然数の一の位の数は十の位の数より 3 小さい。また、十の位の数の 2 乗は、もとの自然数より 15 小さい。もとの自然数の十の位の数を x として方程式をつくり、もとの自然数を求めよ。

(栃木県)(**)

【解答欄】

【ヒント】

十の位の数は x 、一の位の数は $x-3$ なので、

(もとの自然数) = $10x + x - 3$ である。

【解答】

$$x^2 = 10x + x - 3 - 15$$

$$x^2 - 11x + 18 = 0$$

$$(x-2)(x-9) = 0$$

$$x = 2, 9$$

$$x = 2 \text{ のとき, (一の位の数)} = x - 3 = 2 - 3 = -1$$

したがって、 $x = 2$ は問題にあわない。

$$x = 9 \text{ のとき, (一の位の数)} = x - 3 = 9 - 3 = 6$$

したがって、 $x = 9$ は問題にあう。

もとの自然数は 96

【解説】

もとの自然数の十の位の数を x とし、「一の位の数は十の位の数より 3 小さい」ので、
(一の位の数) = $x - 3$ である。

したがって、

$$(\text{もとの自然数}) = (\text{十の位の数}) \times 10 + (\text{一の位の数}) = x \times 10 + x - 3 = 10x + x - 3$$

「十の位の数の 2 乗は、もとの自然数より 15 小さい」ので、

$$x^2 = 10x + x - 3 - 15$$

【】 2次方程式のその他の応用

【問題】

1個100円で売ると、1日に240個売れる商品がある。この商品は1円値下げするごとに、1日あたり4個多く売れる。この商品を x 円値下げした日の売り上げは25600円であった。このとき、 x の方程式をつくり、何円値下げしたかを求めよ。

(栃木県)(**)

【解答欄】

【ヒント】

x 円値下げしたものとすると、売値は $100-x$ (円)で、 $240+4x$ (個)売れる。

【解答】

x 円値下げしたものとすると、売値は $100-x$ (円)で $240+4x$ (個)売れるので、

$$(100-x) \times (240+4x) = 25600$$

式を整理すると、

$$x^2 - 40x + 400 = 0$$

$$(x-20)^2 = 0$$

$$x = 20$$

$x = 20$ は問題にあう。

20円値下げした。

【解説】

x 円値下げしたものとすると、

「この商品は1円値下げするごとに、1日あたり4個多く売れる」ので、

x 円値下げすると、1日あたり $240+4x$ (個)売れる。このときの売値は $100-x$ (円)で、

(売値) \times (個数) $=25600$ (円)なので、

$$(100-x) \times (240+4x) = 25600$$

[問題]

4つの数 a, b, c, d について $\begin{bmatrix} a & b \\ c & d \end{bmatrix} = ab - cd$ とする。たとえば, $\begin{bmatrix} 2 & 3 \\ 4 & 5 \end{bmatrix} = 2 \times 3 - 4 \times 5 = -14$

である。 $\begin{bmatrix} x & x \\ 1 & 3x \end{bmatrix} = 3$ をみたす x の値を求めよ。程式をつくり, 答えを求めるまでの過程も書け。

(鹿児島県)(**)

[解答欄]

[解答]

$$\begin{bmatrix} x & x \\ 1 & 3x \end{bmatrix} = 3 \text{ より, } x \times x - 1 \times 3x = 3$$

$$x^2 - 3x - 3 = 0$$

$$x = \frac{3 \pm \sqrt{9 - 4 \times 1 \times (-3)}}{2}$$

$$x = \frac{3 \pm \sqrt{21}}{2}$$

【】 整数解の問題

[問題]

和歌子さんは、1個80円のキウイフルーツを a 個、1個120円のグレープフルーツを b 個買ったところ、代金は800円であった。このとき考えられるキウイフルーツとグレープフルーツの買い方の個数の組み合わせを、 a と b の値の組 (a, b) として、すべて求めよ。ただし、必ずキウイフルーツとグレープフルーツの両方を買うものとする。

(和歌山県)(***)

[解答欄]

$(a, b) =$

[ヒント]

$$80a + 120b = 800 \text{ より } a = \frac{20 - 3b}{2}$$

$b = 1, 2, 3, \dots$ と代入して、 a が自然数になるものをさがす。

[解答] $(a, b) = (1, 6), (4, 4), (7, 2)$

[解説]

「1個80円のキウイフルーツを a 個、1個120円のグレープフルーツを b 個買ったところ、代金は800円であった」とあるので、

$$80a + 120b = 800$$

$$2a + 3b = 20, \quad 2a = 20 - 3b, \quad a = \frac{20 - 3b}{2}$$

「必ずキウイフルーツとグレープフルーツの両方を買うものとする」とあるので、

$$a \geq 1, \quad b \geq 1$$

$$b = 1 \text{ のとき, } a = \frac{20 - 3 \times 1}{2} = \frac{17}{2} \quad \text{不適}$$

$$b = 2 \text{ のとき, } a = \frac{20 - 3 \times 2}{2} = \frac{14}{2} = 7 \quad \text{適する}$$

$$b = 3 \text{ のとき, } a = \frac{20 - 3 \times 3}{2} = \frac{11}{2} \quad \text{不適}$$

$$b = 4 \text{ のとき, } a = \frac{20 - 3 \times 4}{2} = \frac{8}{2} = 4 \quad \text{適する}$$

$$b = 5 \text{ のとき, } a = \frac{20 - 3 \times 5}{2} = \frac{5}{2} \quad \text{不適}$$

$$b = 6 \text{ のとき, } a = \frac{20 - 3 \times 6}{2} = \frac{2}{2} = 1 \quad \text{適する}$$

$$b = 7 \text{ のとき, } a = \frac{20 - 3 \times 7}{2} = -\frac{1}{2} \quad \text{不適}$$

$b \geq 8$ のとき、 $a < 0$ となるので、不適
したがって、 $(a, b) = (1, 6), (4, 4), (7, 2)$

[問題]

1箱 60円のチョコレートと1個 40円のあめが売られている。このチョコレートとあめを買うとき、代金をちょうど 500円にするには、買い方は全部で何通りあるか。ただし、必ずチョコレートとあめの両方を買うものとする。

(広島県)(***)

[解答欄]

[ヒント]

チョコレートを n 個、あめを m 個買うものとする、

$$60n + 40m = 500, \quad m = \frac{25 - 3n}{2}$$

$n = 1, 2, 3, \dots$ と代入して、 m が自然数になるものをさがす。

[解答] 4 通り

[解説]

チョコレートを n 個、あめを m 個買うものとする。

「1箱 60円のチョコレート」 n 個と「1個 40円のあめ」 m 個で、「代金をちょうど 500円にする」ので、

$$60n + 40m = 500, \quad 3n + 2m = 25, \quad 2m = 25 - 3n$$

$$m = \frac{25 - 3n}{2}$$

「必ずチョコレートとあめの両方を買うものとする」とあるので、 $n \geq 1, m \geq 1$

$$n = 1 \text{ のとき, } m = \frac{25 - 3 \times 1}{2} = \frac{22}{2} = 11 \quad \text{適する}$$

$$n = 2 \text{ のとき, } m = \frac{25 - 3 \times 2}{2} = \frac{19}{2} \quad \text{不適}$$

$$n = 3 \text{ のとき, } m = \frac{25 - 3 \times 3}{2} = \frac{16}{2} = 8 \quad \text{適する}$$

$$n = 4 \text{ のとき, } m = \frac{25 - 3 \times 4}{2} = \frac{13}{2} \quad \text{不適}$$

$$n = 5 \text{ のとき, } m = \frac{25 - 3 \times 5}{2} = \frac{10}{2} = 5 \quad \text{適する}$$

$$n=6 \text{ のとき, } m = \frac{25-3 \times 6}{2} = \frac{7}{2} \text{ 不適}$$

$$n=7 \text{ のとき, } m = \frac{25-3 \times 7}{2} = \frac{4}{2} = 2 \text{ 適する}$$

$$n=8 \text{ のとき, } m = \frac{25-3 \times 8}{2} = \frac{1}{2} \text{ 不適}$$

$$n=9 \text{ のとき, } m = \frac{25-3 \times 9}{2} = -\frac{2}{2} = -1 \text{ 不適}$$

$n \geq 10$ のとき, $m < 0$ となるので, 不適

したがって, $(m, n) = (1, 11), (3, 8), (5, 5), (7, 2)$ の 4 通り

[問題]

2 次方程式 $x^2 + ax - b = 0$ の解の 1 つが $x = -3$ であるとき, a, b の値の組は 2 つある。2 つの a, b の値の組 (a, b) を求めよ。ただし, a, b は自然数であるとする。

(岐阜県)(***)

[解答欄]

$(a, b) =$

[ヒント]

$x^2 + ax - b = 0$ に $x = -3$ を代入すると,

$$9 - 3a - b = 0, \quad b = 9 - 3a$$

$a = 1, 2, 3 \cdots$ と代入して, b が自然数になるものをさがす。

[解答] $(a, b) = (1, 6), (2, 3)$

[解説]

「2 次方程式 $x^2 + ax - b = 0$ の解の 1 つが $x = -3$ である」ので,

$x^2 + ax - b = 0$ に $x = -3$ を代入すると,

$$9 - 3a - b = 0, \quad b = 9 - 3a$$

$a = 1$ のとき, $b = 9 - 3 \times 1 = 6$ 適する

$a = 2$ のとき, $b = 9 - 3 \times 2 = 3$ 適する

$a = 3$ のとき, $b = 9 - 3 \times 3 = 0$ 不適 (b は自然数なので)

$a \geq 4$ のとき, b は負の数になるので不適

よって, $(a, b) = (1, 6), (2, 3)$

[問題]

$\frac{60}{2n+1}$ が整数となるような自然数 n をすべて求めよ。

(埼玉県)(***)

[解答欄]

[ヒント]

$\frac{60}{2n+1}$ が整数になるためには、 $2n+1$ は 60 の約数でなければならない。

[解答] $n = 1, 2, 7$

[解説]

$\frac{60}{2n+1}$ が整数になるためには、 $2n+1$ は 60 の約数でなければならない。

60 の約数は、1, 2, 3, 4, 5, 6, 10, 12, 15, 20, 30, 60 である。

n は自然数なので、 $2n+1$ は 3 以上の奇数である。

したがって、 $2n+1$ は、3, 5, 15 のいずれかである。

$2n+1=3$ のとき、 $2n=2$, $n=1$

$2n+1=5$ のとき、 $2n=4$, $n=2$

$2n+1=15$ のとき、 $2n=14$, $n=7$

よって、 $n=1, 2, 7$

【FdData 入試製品版のご案内】

詳細は、[\[FdData 入試ホームページ\]](#)に掲載 ([Shift]+左クリック→新規ウィンドウ)

姉妹品：[\[FdData 中間期末ホームページ\]](#) ([Shift]+左クリック→新規ウィンドウ)

◆印刷・編集

この PDF ファイルは、FdData 入試を PDF 形式に変換したサンプルで、印刷はできないように設定しております。製品版の FdData 入試は Windows パソコン用のマイクロソフト Word(Office)の文書ファイルで、印刷・編集を自由に行うことができます。

◆FdData 入試の特徴

FdData 入試は、公立高校入試問題の全傾向を網羅することを基本方針に編集したワープロデータ(Word 文書)です。入試理科・社会・数学ともに、過去に出題された公立高校入試の問題をいったんばらばらに分解して、細かい單元ごとに再編集して作成しております。

◆サンプル版と製品版の違い

ホームページ上に掲載しておりますサンプルは、製品の Word 文書を PDF ファイルに変換したもので印刷や編集はできませんが、製品の全内容を掲載しており、どなたでも自由に閲覧できます。問題を「目で解く」だけでもある程度の効果をあげることができます。

しかし、FdData 入試がその本来の力を発揮するのは印刷や編集ができる製品版においてです。また、製品版は、すぐ印刷して使える「問題解答分離形式」、編集に適した「問題解答一体形式」、などの形式を含んでいますので、目的に応じて活用することができます。

※[FdData 入試の特徴\(QandA 方式\)](#) ([Shift]+左クリック→新規ウィンドウ)

◆FdData 入試製品版(Word 版)の価格(消費税込み)

※以下のリンクは[Shift]キーをおしながら左クリックすると、新規ウィンドウが開きます

[数学 1 年](#)(4400 円), [数学 2 年](#)(6400 円), [数学 3 年](#)(9600 円) : (統合版は 16,200 円)

[理科 1 年](#)(6800 円), [理科 2 年](#)(6800 円), [理科 3 年](#)(6800 円) : (統合版は 16,200 円)

[社会地理](#)(6800 円), [社会歴史](#)(6800 円), [社会公民](#)(6800 円) : (統合版は 16,200 円)

※Windows パソコンにマイクロソフト Word がインストールされていることが必要です。
(Mac の場合はお電話でお問い合わせください)。

◆ご注文は、メール(info2@fdtext.com), または電話(092-811-0960)で承っております。

※[注文→インストール→編集・印刷の流れ](#) ([Shift]+左クリック)

※[注文メール記入例](#) ([Shift]+左クリック)

【Fd 教材開発】 Mail : info2@fdtext.com Tel : 092-811-0960