

【】世界の国々の調査

【】中国 : 自然

[問題]

地図中 X の河川名を答えなさい。

(2005 年沖縄県)

[解答欄]



[解答]黄河

[解説]

中国は、西部と東部に大きく分けられる。ヒマラヤ山脈・チベット高原・クンルン山脈・タリム盆地・テンシヤン山脈と標高が高く乾燥した地域が広がる西部は、人口が非常に少ない。東部は、低地で平野が広がり、雨が比較的によく人口も多い。東部はさらに黄河流域の華北、長江流域の華中、チュー川流域の華南に分けられる。



[問題]

中国の属する大陸の名称を書きなさい。


(2009 年群馬県)

[解答欄]

[解答]ユーラシア大陸

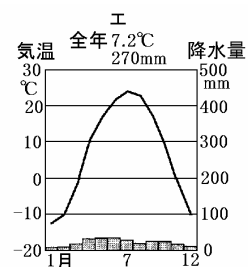
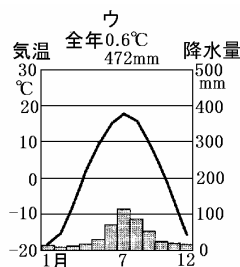
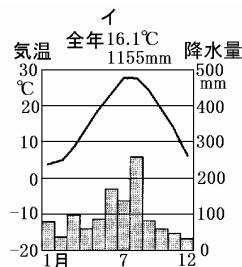
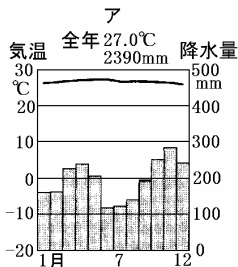
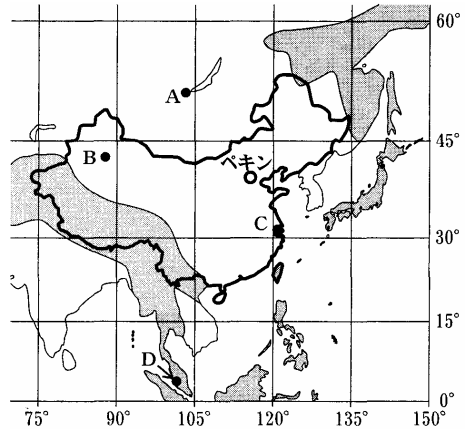
**[問題]**

次の問いに答えよ。

- (1) 1班は地形について調べ、資料の  の地域の特徴についてまとめた。下の文中の( ) に適する語句を書け。

この地域は高くけわしい山々がつらなる造山帯に属します。大地の動きがさかんで、しばしば( )が起きます。火山活動も活発で、噴火による災害がもたらされることもあります。

- (2) 2班は気候について調べた。資料のA~Dの4つの都市のうち、Cの都市の雨温図を、次のア~エから1つ選んで記号で書け。



(2009年福井県)

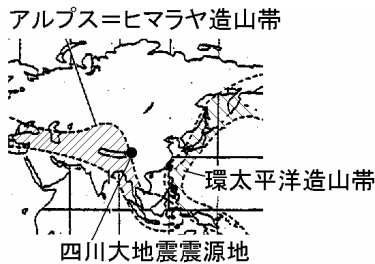
**[解答欄]**

(1)	(2)
-----	-----

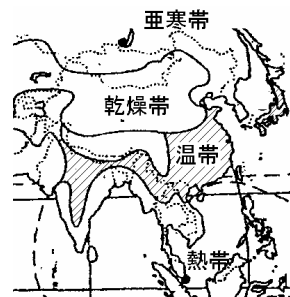
[解答](1) 地震 (2) イ

**[解説]**

(1) 中国は、世界三大造山帯(地震帯)のうちの2つ・環太平洋造山帯とアルプス・ヒマラヤ造山帯が交わる地域である。



2008年5月に四川大地震が起こり7万人近くの死者が出た。

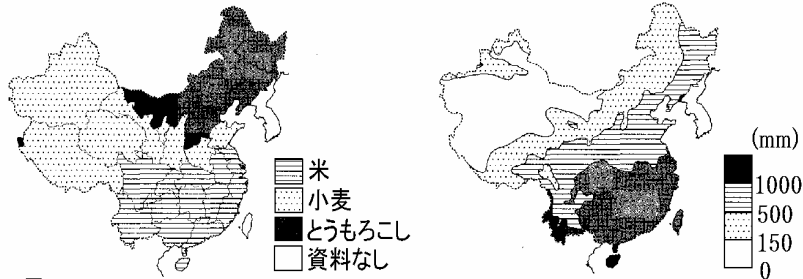


(2) Dは赤道付近で1年中雨が多く高温な熱帯雨林気候である(雨温図はア)。Cの上海は温帯で雨温図はイである。Bは乾燥帯で雨温図はエである。Aは亜寒帯で雨温図はウである。

【】中国：農業

[問題]

図は、中国の行政地区ごとに、生産量が最も多い穀物の品目を示したものである。米の生産量が多い行政地区について、その大部分にみられる気候の特徴を、図から読み取り、簡潔に述べなさい。 図Ⅰ 穀物生産の地域によるちがい 図Ⅱ 年降水量の分布



(2007年山口県)

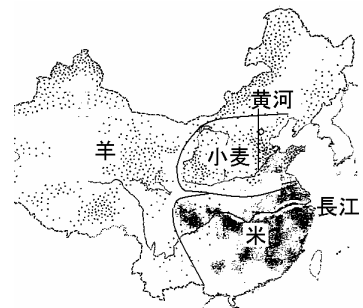
[解答欄]

[解答]年降水量が1000mmより多い。

[解説]

中国の米、小麦、綿花<sup>めんか</sup>の生産量はいずれも世界一である。稲作<sup>いなさく</sup>は高い気温と大量の水(年間降水量1000mm以上)が必要である。黄河と長江<sup>りゅうきま</sup>のほぼ中間より南の長江流域などでは、暖か<sup>ぬか</sup>で降水量も多いため稲作が行われている。それより北の黄河流域などでは降水量が少なく低温であるので、その条件下でも栽培できる小麦が作られている。

西部の内陸部では降水量が極端に少ないため放牧(羊など)が中心な農業であるが、一部ではオアシス農業や畑作も行われている。



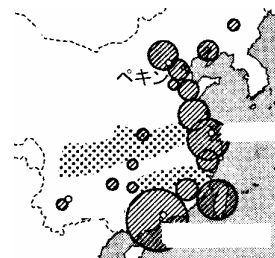
[問題]

右図の●●●●の地域で主に栽培されている農産物名を答えなさい。

(2006年沖縄県)

[解答欄]

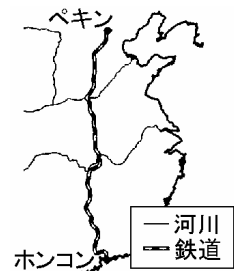
[解答]米



**[問題]**

次の文は、地図中のペキンからホンコンへ鉄道で旅行したえりかさんが書いたものである。資料はそのルートを示している。文中の ~ の ( )内からそれぞれ適語を選びなさい。

出発した当初は、周辺の農地ではパンやめん類の主原料となる穀物の (米 / 小麦)が栽培されていた。その後、中国の二大河川のうちの一つである (黄河 / 長江)を渡った。さらに、もう一つの (黄河 / 長江)を渡って南下を続けると、農地では穀物の (米 / 小麦)が栽培されていた。その生産量は世界の 30% 近くを占めると聞いた。



(2009 年高知県)

**[解答欄]**

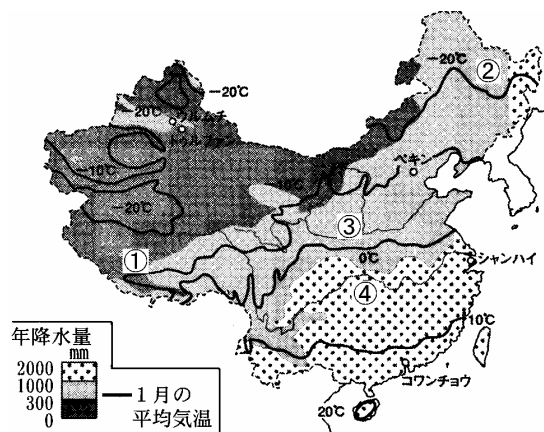
--	--	--	--

**[解答]** 小麦 黄河 長江 米

**[問題]**

次のア～エは図に示す ~ のいずれかの地域の様子を述べたものである。このうち、 の地域について述べた文を、ア～エの中から一つ選び、記号を書きなさい。

- ア 広大な高原地帯が広がっており、人口密度が低い。雨が極端に少なく、遊牧が行われている。
- イ 日本と同じく四季がはっきりしており、雨が多いので米の栽培が盛んである。世界最大級のダムが建設中である。
- ウ 広大な平野が広がっており、冬の寒さが厳しい。石炭や鉄鉱石などの資源の開発が早くから行われてきた。
- エ 雨が少なく小麦の栽培が盛んな地域で、小麦を使ったメンやマントウなどが食べられている。古代王朝の中心でもあった。



(2009 年佐賀県)

**[解答欄]**

--

[解答]エ

[解説]

アは ，イは ，ウは ，エは

[問題]

中国の農業について説明した次の文章中の( )に当てはまることばを、漢字二字で書きなさい。

南部では高温多湿のため米の栽培が、北部では小麦の栽培がさかんである。西部の内陸部では降水量が極端に少ないため( )が中心的な農業であるが、一部ではオアシス農業や畑作も行われている。

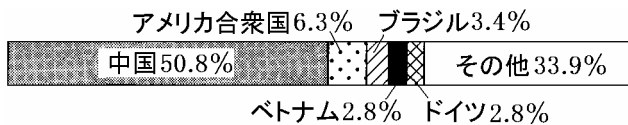
(2009年岡山県)

[解答欄]

[解答]放牧

[問題]

中国の農業や食生活について調べた。資料はある家畜の飼育頭数の国別割合を示している。この家畜に関する下の文を参考にして、家畜名を、[ ]から1つ選んで書け。



イスラム教徒は、この家畜の肉を食べない。

[牛 羊 豚]

(2009年福井県)

[解答欄]

[解答]豚

【】中国 : 工業・経済

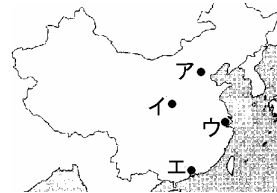
[問題]

中国の首都である北京の位置を、図のア～エから選びなさい。

(2009年群馬県)

[解答欄]

[解答]ア



[問題]

長江河口付近に位置し、中国有数の商工業都市である都市 X の名前を、次の中から一つ選びなさい。

[ペキン ホンコン チョンチン ウルムチ シャンハイ]

(2009年福島県)

[解答欄]

[解答]シャンハイ



[問題]

図中のア～エの地域のうち、近年、経済発展がめざましく、外国企業が最も多く進出している地域を選び、記号で答えなさい。

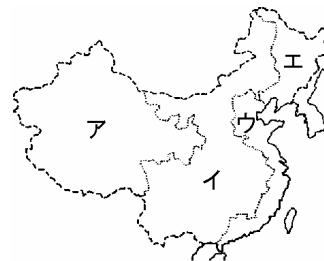
(2009年山口県)

[解答欄]

[解答]ウ

[解説]

1980年代に、日本やアメリカなどの先進国から、資金と技術を導入して工業の発展をはかる政策が始められた。香港の近くのシェンチェンなど5都市(地図の )を経済特区に指定し、外国企業にさまざまな特典(工業用地を安く提供、税金を安くする、輸出入の関税を免除など)をあたえて、工場の誘致をはかった。日本やアメリカの企業にとって、労働者の賃金が安くかつ労働力が豊富である中国へ進出する利益が大きかったので、あいついで進出を行った。経済開発区の成功について、中国は沿岸部全体にわたって14の港湾都市(地



図の )を経済開発区に指定し、外国企業の誘致を行ったが、指定された地区はいずれも沿岸部である。これは、沿岸部のほうが、原料等の輸入や製品の輸出にかかる輸送費用が安くてすむためである。(陸上輸送の費用は海上輸送費用よりはるかに高い) 外資導入などの改革開放政策により、1990年代から、中国経済は年間で7~9%の高い経済成長を続けているが、その中心は沿岸部の都市で、内陸部、とくに農村は貧しいままになっている。このため沿岸部都市と農村部の所得格差は大きく、農民の不満は大きな問題になっている。

**[問題]**

図は、中国を東北地区、東部地区、中部地区、西部地区の4つの地域に分けたものである。また、次の表は、中国の4つの地区の1人当たりのGDP(国内総生産)などをそれぞれ比較したものである。表から読み取れる中国国内の経済的な問題を、図の各地区の位置にも着目して説明しなさい。



	1人当たり GD(ドル)	外資導入額 (千万ドル)
東北	2779	247
東部	4719	5501
中部	1928	337
西部	1793	218

(2009年熊本県)

**[解答欄]**

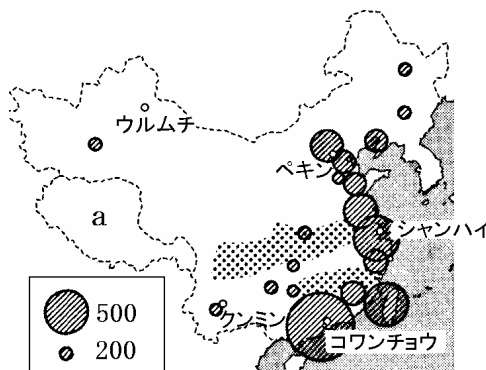
[解答]外資が多く導入されている東部と、その他の地域の間で、1人あたりのGDPに大きな差がある。

**[問題]**

図の●のしるしは日本に関係のある事からの分布を示している。あてはまることを下のア~エから1つ選び、記号で答えなさい。

- ア 日本人留学生の数
- イ 日本企業の進出数
- ウ 日本人の観光客数
- エ 華僑(華人)の送金額

(2006年沖縄県)

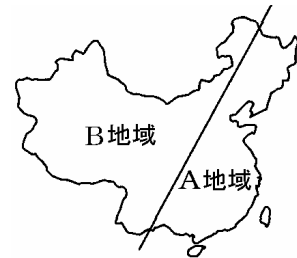


[解答欄]

[解答]イ

[問題]

中国の地域の特徴について調べ、大まかに資料のA地域・B地域に分けた。特色について述べた文として誤っているものを、次のア～エから1つ選んで記号で書け。



- ア 少数民族の分布地域はA地域で多く、B地域で少ない。
- イ 工業のさかんな地域はA地域で多く、B地域で少ない。
- ウ 米や小麦の収穫量はA地域で多く、B地域で少ない。
- エ 人口はA地域で多く、B地域で少ない。

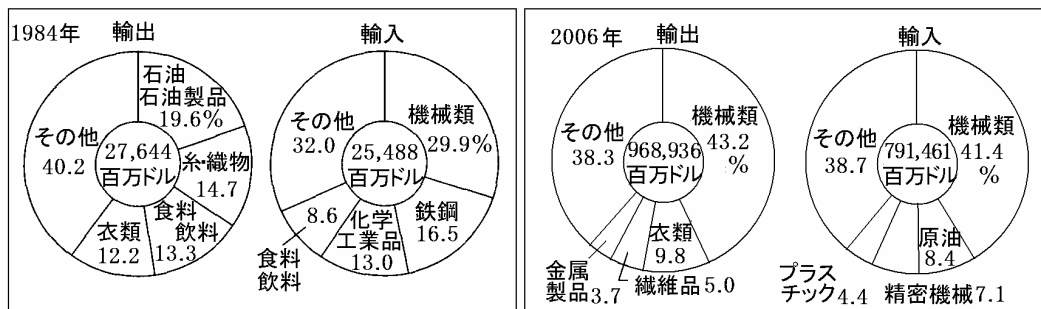
(2009年福井県)

[解答欄]

[解答]ア

[問題]

下の資料から、中国の経済がどのように変化したと考えられるか。「～ので、…と考えられる。」という形式で答えよ。



(2007年佐賀県)

[解答欄]

[解答]主な輸出品目が、繊維製品から機械類に変わっているなので、重工業が発達したと考えられる。)

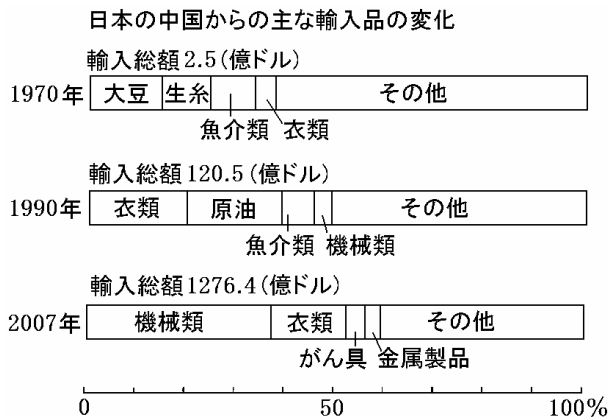
**[解説]**

1984年の輸出品は、衣類、糸・織物の繊維製品、石油や食料などが中心であったが、近年、著しい工業発展をとげた結果、機械類などが輸出の中心になってきている。また、輸出額も1984～2003年で約16倍に増大している。

統計修正：「日本国勢図会 2009/2010年版」P355

**[問題]**

日本の中国からの主な輸入品の変化について、その特色を次の資料を見て、簡潔に書きなさい。



(2009年群馬県)

**[解答欄]**

**[解答]** 原材料中心から工業製品中心に変化した。

**[問題]**

次の資料は、近年、経済発展がめざましいブラジル、ロシア連邦、インド、中国の面積や人口密度などを示している。このうち、中国はどれか。資料のア～エの中から一つ選び、その記号を書きなさい。

	面積 (万 km <sup>2</sup> )	人口密度 (人 / km <sup>2</sup> )	1人あたりの 国民総所得 (ドル)	日本の 輸入総額 (億円)	日本の 輸出総額 (億円)
ア	1,710	8	5,770	12,415	12,654
イ	960	137	2,000	150,355	128,390
ウ	852	22	4,710	7,050	4,693
エ	329	340	820	4,906	7,233

(「世界国勢図会 2008 / 09」などによる)

(2009年青森県)

[解答欄]

[解答]イ

[解説]

輸出と輸入をあわせた金額では、2007年に中国がアメリカ合衆国を抜き、日本の最大の貿易相手国となった。2008年輸出(総額81.0兆円)の国別順位は、アメリカ合衆国(17.5%)、中国(16.0%)である。2008年輸入(総額79.0兆円)の国別順位は、中国(18.8%)、アメリカ合衆国(10.2%)である。(統計出典)「日本国勢図会2009/10」P320

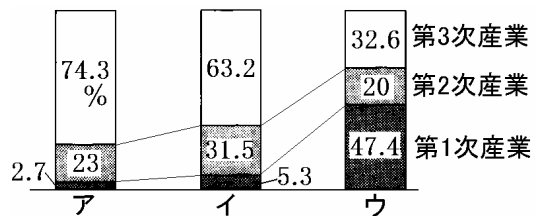
したがって、日本の輸出・輸入額がとびぬけて大きいイが中国と判断できる。

面積から判断することもできる。世界の国を国土の面積が大きい順に並べると、ロシア、カナダ、中国、アメリカ、ブラジル、オーストラリアである。したがって、アはロシア、イは中国、ウはブラジル、エはインドと判断できる。

[問題]

右図は、日本、中国、アメリカ合衆国の産業別人口の割合を示している。中国に当てはまるものを図のア～ウから1つ選び、記号で答えなさい。

(2007年沖縄県)



[解答欄]

[解答]ウ

[解説]

中国は近年著しい工業発展をとげているが、日米両国に比べれば産業構造の高度化は進んでおらず、第1次産業の人口の割合が高い。

【】中国 :人口・民族など

[問題]

中国で、一夫婦に子ども一人が望ましいとする政策を何というか、答えなさい。

(2004年沖縄県)

[解答欄]

[解答]一人っ子政策

[解説]

1949年の建国時に5億人台であった人口は、増加を続け、1970年には8億人を越え、2007年現在の人口は13.2億人になった。世界の人口は66.7億人(2007年)なので、世界の人口の5分の1は中国人である。現在でも、1年に700~800万人以上の割合で人口が増え続けている。

食糧不足に陥ることをおそれた中国政府は、1970年後半から晩婚を推奨し、さらに1979年には1夫婦に子どもは1人という一人っ子政策を始めた。都市部では厳しく適用され、2人目の子どもを産むと罰金が科せられたり、賃金がカットされたりした。逆に、子どもは1人しかもたないと宣言した夫婦には一人っ子証が与えられ、子どもの学費や医療費を支給するという優遇措置がとられた。農村では、規制はややゆるやかで、1人目が女子であった場合には、2人目を産むことが許された。また、一人っ子政策は、少数民族には適用されなかった。こうした一人っ子政策は、人口爆発をおさえる上で一定の効果をあげたが、少子化による人口構成のアンバランス、男女比率の不均衡(働き手となる男の子をほしがるため、女子が生まれたときに間引きすることがある)、などの問題が生じている。このため、2002年には一人っ子政策の緩和措置がとられた。

[問題]

中華人民共和国では、政府が1970年代末から「一人っ子政策」を進めています。「一人っ子政策」の目的を、「人口」ということばを使い、簡単に書きなさい。

(2005年北海道)

[解答欄]

[解答]人口の増加をおさえるため

[問題]

中国の人口は約13億人である。中国の人口は日本の人口の約何倍か。次の[ ]から一つ選びなさい。

[約5倍 約10倍 約15倍 約20倍]

(2009年岐阜県)

[解答欄]

[解答]約 10 倍

[問題]

右の地図は、中国の民族のおもな分布を示したものである。

■で示した民族の多くが信仰している宗教を何というか。

答えなさい。

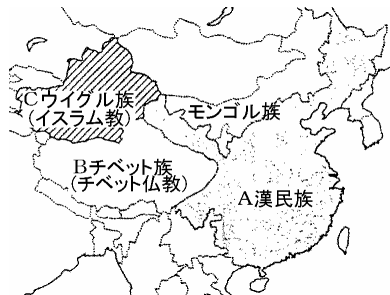
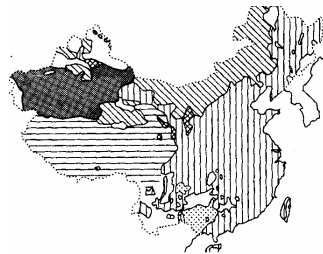
(2005 年山口県)

[解答欄]

[解答]イスラム教

[解説]

中国の人口の 90%以上をしめるのは漢民族<sup>かんみんぞく</sup>で、農業・工業がさかんな東部・東北部(地図の A)におもに住んでいる。西部や北部には、言葉や宗教が異なる 50 以上の少数民族<sup>しょうすうみんぞく</sup>がいる。少数民族がかたまって住んでいるところは自治区が設けられている。チベット高原一帯(地図の B)に住むチベット族はチベット系の仏教を信仰しており、北西部(地図の C)に住むウイグル族はイスラム教を信仰している。また、北部にはモンゴル族が住んでいる。



[問題]

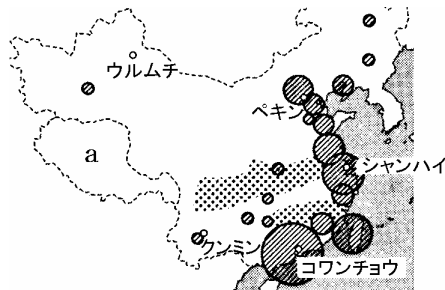
民族分布に関して a の自治区では主にどのような宗教が信仰されているか、下から 1 つ選びなさい。

[イスラム教 ヒンドゥー教 キリスト教 仏教]

(2006 年沖縄県)

[解答欄]

[解答]仏教



**[問題]**

タイなど東南アジアに多くくらす、現地の国籍をとって定住した中国人を何というか書け。

(2005 年福井県)

**[解答欄]**

**[解答]**華人

【】東南アジア：タイ

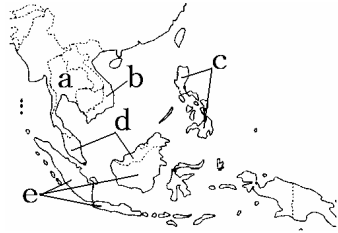
[問題]

図の a～e から、タイ、フィリピンを、それぞれ 1 つずつ選び、記号で答えなさい。

(2007 年熊本県)(2007 年奈良県)

[解答欄]

タイ：	フィリピン：
-----	--------



[解答]タイ：a フィリピン：c

[解説]

a はタイで、首都はバンコク、人口は 6531 万人(2007 年)である。古くからの独立国で、第 2 次世界大戦前、東南アジアの中では唯一独立を保持していた国である。チャオプラヤ川流域で稲作をおこない、世界最大の米の輸出国になっている。かつては浮稲が栽培されていたが、現在では収量の多い乾季作が広がっている。近年、外国資本の導入で工業化を進め、東南アジア諸国の中では、シンガポールに次ぎ、マレーシアと並んで工業化が進み、機械類が最大の輸出品になっている。日本へは、機械類のほか、えびなどの魚介類、天然ゴムなどを輸出している。



[問題]

右の 2 つの表は、世界的な米の輸出国である 国のおもな輸出品目とそれぞれの輸出額を、1980 年と 2006 年についてそれぞれ示したものである。 国について述べた文として最も適当

1980 年	
おもな輸出品目	輸出額 (百万ドル)
米	953
野菜	817
天然ゴム	603
すず	555
機械類	389

2006 年	
おもな輸出品目	輸出額 (百万ドル)
機械類	46836
自動車	10056
天然ゴム	5430
魚介類	5176
プラスチック	5145

なものを、下のアからエまでの中から選んで、そのかな符号を書け。

- ア 広大な国土や巨大な人口を有するこの国は、集団組織による農業を生産責任制に改め、生産量を増やす工夫をしたり、経済特区や経済開発区を設けて工業の発展にもつとめている。
- イ この国は、アパルトヘイト政策廃止後、民主的な選挙によって選ばれた黒人の大統領のもとで国内の統一を進めるとともに豊富な鉱産資源を背景に経済の発展につとめている。

ウ 広大な国土を有するこの国は、豊富な資源や食料を多くイギリスに輸出していたが、最近では日本やアメリカを中心に輸出するようになり、日本企業もシドニーなどに数多く進出している。

エ この国は、チャオプラヤ川の下流に耕地が広がり、農産物や鉱産資源などをおもに輸出していたが、その後外国企業の進出に伴って国内の工業化が進み、工業製品を多く輸出している。

(2004年愛知県)

[解答欄]

[解答]エ

[解説]世界的な米の輸出国で、天然ゴムやすずを輸出していることから、X国は説明文エのタイと判断できる。タイは近年外国企業の進出に伴って国内の工業化が進み、工業製品を多く輸出するようになった。アは中国、イは南アフリカ共和国、ウはオーストラリアについての説明である。

統計修正：「日本国勢図会 2009/2010年版」P356

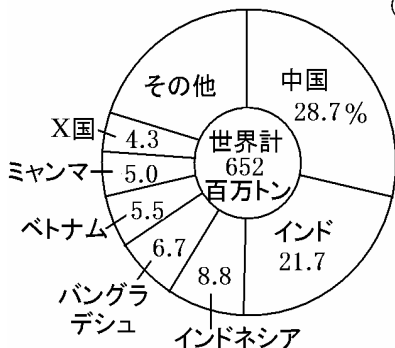
[問題]

右図のX国では米の生産がさかんであることがわかり、世界の国々の米の生産量や輸出量について調べました。次の資料と資料は、そのとき調べたものです。あとの文章は、資料と資料からわかったことや考えたことをまとめたものです。適切なまとめになるように、文章中の( )にあてはまる言葉を、それぞれ考えて書きなさい。




[資料Ⅰ]

世界の米の生産量に占めるおもな国の割合  
(2007年)



[資料Ⅱ]

世界の米の輸出量に占めるおもな国の割合  
(2006年)



X国では、中国に比べて、生産された米のうち輸出に向けられた米の割合が( )ことがわかる。中国で、X国に比べて、生産された米のうち輸出に向けられた米の割合が( )のは、米が( )割合が( )からだと考えられる。

(2007 年山形県)

[解答欄]

--	--	--


[解答] 大きい(高い) 小さい(低い) 国内の消費に向けられた

[解説]

X国はタイで、米の輸出量は世界のトップクラス。米の流通にあたっては、<sup>かじん</sup>華人の勢力が強い。  
統計修正：「日本国勢図会 2009/2010 年版」P155・156

[問題]

右の写真は主に日本へ輸出するために、タイの沿岸部に造成されたえびの養殖場である。養殖場を拡大するために、マングローブ林などの熱帯林が伐採されることがある。それによりどのような被害がおこると考えられるか説明しなさい。



(2004 年島根県)

[解答欄]

--

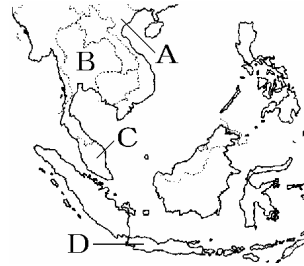
[解答]水質汚濁によって海辺の環境が汚染される。

【】東南アジア：インドネシア

[問題]

次の文は、たかしさんが、東南アジアから大分の大学に留学しているメガワテイさんから聞いたことがらである。問いに答えなさい。

メガワテイさんの国は、赤道が通り、熱帯の気候で、人口が2億人を超えます。彼女が日本に来て、学生食堂で困ったことがあったそうです。彼女の国では、大半の人々が、( )教を信仰しており、彼女もその教えで豚肉を食べなかったので、学生食堂での日替わりメニューが、トンカツ定食やカツ丼だったりすると別の物を注文したということでした。



- (1) 文中の( )に最も適当な語句を書きなさい。  
(2) メガワテイさんは、どの国の出身か。当てはまる国を、右上の略地図中のA~Dから1つ選び、符号を書きなさい。

(2007年大分県)

[解答欄]

(1)	(2)
-----	-----

[解答](1) イスラム (2) D

[解説]

東南アジアで人口が1億人をこえるのはDのインドネシアだけである。インドネシアの首都はジャカルタで、国土の大部分が高くけわしい山地が多いところ(新しい造山帯)に属しているため、地震や津波による自然災害がよく発生する。国土の大部分は熱帯気候に属している。

人口は2億2491万人(2007年)(世界4位)である。人口が多いため、かつては不足する米を輸入していたが、近年、緑の革命で米の三期作を行うようになり、自給を達成した。インドネシアではイスラム教が信仰されているが、イスラム教徒は、豚肉、血の残った肉、異教徒によって処理された肉をタブーとして、食べない。AのベトナムとBのタイは仏教徒が多い。Cのマレーシアは60%がイスラム教徒だが、人口は約2500万人。

[問題]

インドネシアの特色のうち日本と共通するものを、次のア~オから二つ選び記号で答えなさい。

- ア 地形：国土の大部分が、高くけわしい山地が多いところ(新しい造山帯)に属している。
- イ 気候：国土の大部分が熱帯気候に属している。
- ウ 自然災害：地震や津波による自然災害が発生した。
- エ 産業：産業別人口では、第一次産業人口の割合が最も高い。
- オ 宗教：国民の大多数がイスラム教を信仰している。

(2007年熊本県)

[解答欄]

[解答]ア・ウ

[解説]

日本は温帯で第三次産業の割合が最も高く、イスラム教徒は1%に満たない。

[問題]

表は、米、小麦、天然ゴムの生産量の上位4か国について、表は、わが国の木材、液化天然ガスの輸入額の上位4か国について、それぞれ示したものである。表、表中のa~dは、インド、インドネシア、中国、マレーシアのいずれかの国を示している。a~dのうち、インドネシアにあたるものはどれか。記号で答えなさい。

表 (2007年)			
	米	小麦	天然ゴム
1位	a	a	タイ
2位	b	b	c
3位	c	アメリカ	d
4位	バングラデシュ	ロシア	b

表 (2008年)		
	木材	液化天然ガス
1位	カナダ	d
2位	アメリカ	c
3位	ロシア	オーストラリア
4位	d	カタール

(2008年山口県)

[解答欄]

[解答]c

[解説]

米の生産(2007年)： 中国(28.7%)， インド(21.7%)， インドネシア(8.8%)， バングラデシュ(6.7%)

小麦の生産(2007年)： 中国(18.1%)， インド(12.3%)， アメリカ(8.8%)， ロシア(8.1%)

天然ゴムの生産(2007年)： タイ(31.4%)， インドネシア(28.3%)， マレーシア(12.3%)， インド(8.3%)

木材の輸入(2008年)： カナダ(26.9%)， アメリカ(16.2%)， ロシア(13.7%)， マレーシア(6.8%)

液化天然ガス(2008年)： マレーシア(19.2%)， インドネシア(18.9%)， オーストラリア(15.8%)， カタール(12.6%)

以上より，aは中国，bはインド，cはインドネシア，dはマレーシアとわかる。

統計修正：「日本国勢図会 2009/2010年版」P155・158・280・318

**[問題]**

次のグラフは、インドネシア・アメリカ合衆国・カナダ・日本の面積と経済水域を示したものである。インドネシアに当てはまるものを、グラフ中のア～エから1つ選んで記号で答えなさい。

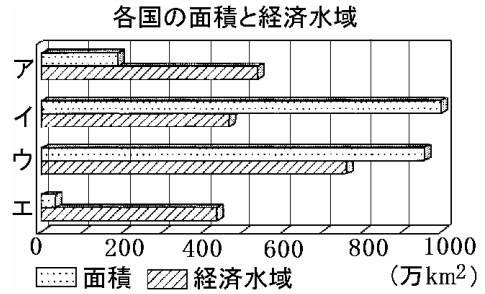
(2007年島根県)

**[解答欄]**

**[解答]ア**

**[解説]**

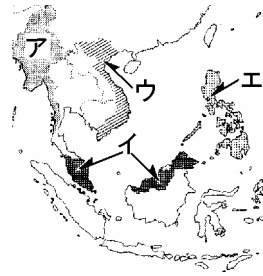
インドネシアは日本と同じく、多くの島からなる国なので、国土面積に比べて経済水域が広い。したがって、アとウが日本とインドネシアであるが、インドネシアの国土面積は日本よりも大きいので、アがインドネシアでエが日本と判断できる。



【】東南アジア：その他

[問題]

30 年くらい前の( )は、天然ゴムやパーム油、すず、原油などの輸出に頼っていたけど、今では工業製品の輸出国になっている。文中の( )にあてはまる国は、右の略地図中にア～エで示した国のうちのどれか。1つ選んで、その記号を書きなさい。



(2004 年香川県)

[解答欄]

[解答]イ

[解説]

Xは地図イのマレーシアで、首都はクアラルンプール、人口は2772万人(2007年)で、気候は熱帯である。多民族国家でマレー人が最も多いが、中国系(華人)やインド系も多い。かつての輸出品は天然ゴムとすずであったが、現在ではコンピューターやICなどの機械類が輸出の中心になっている。農業は、かつてマレーシア経済を支えた天然ゴムは、より収益性の高いアブラヤシの栽培に変わった。マハティール首相のルックイーストという工業化政策で急速に工業化が進み、東南アジア諸国の中では、シンガポールに次ぎ、タイと並んで工業が発達した国になっている。ルックイースト政策とは、アジアの工業国である東方(イースト)の日本や韓国などに学ぼう(ルック)という政策である。安くて豊富な労働力を求めて日本企業も多く進出している。

[問題]

マレーシアに広く分布している森林の種類は、(熱帯/温帯/亜寒帯)林である。この国では森林の減少が問題となっている。

(2008 年岐阜県)

[解答欄]

[解答]熱帯

[問題]

大韓民国とシンガポールは、20 世紀後半、急速な工業化を達成し、台湾、(ホンコン/ベトナム)とともに、(ASEAN/アジア NIES)とよばれている。

(2005 年北海道)

[解答欄]

--	--

[解答] ホンコン アジア NIES

[解説]

近年急速に工業が発達した国や地域を NIES(ニーズ)という。NIES は、Newly(新興)、Industrializing(工業化)、Economics(経済地域)の頭文字をとったもので、「新興工業経済地域」の略称である。NIES にふくまれる国・地域は、韓国、台湾、香港、シンガポール、メキシコ、ブラジルである。このうち、アジアにある韓国、台湾、ホンコン、シンガポールをアジア NIES(アジアニーズ)とよんでいる。

[問題]

マレー半島の先に隣接する A 国は、韓国、香港、台湾とともに NIES(新興工業経済地域)とよばれ、工業が急成長した国の 1 つである。その国名を何というか、答えなさい。

(2004 年沖縄県)

[解答欄]

--

[解答]シンガポール

[問題]

下の表のア～エは、韓国、台湾、香港、シンガポールのいずれかに当てはまります。韓国に当てはまるものを、ア～エから選びなさい。

国・地域	人口 (千人)	人口密度 (人/km <sup>2</sup> )	自動車保有 台数(千台)	日本への買 易輸出額(億 円)
ア	22,723	631	6,134	18,047
イ	4,326	6,334	576	6,802
ウ	7,041	6,407	550	1,758
エ	47,817	480	14,587	23,834

(2007 年北海道)

[解答欄]

--

[解答]エ

[解説]韓国、台湾、香港、シンガポールはともに NIES(新興工業経済地域)である。韓国は他の国や地域に比べて面積が大きく人口も多い。

[問題]

日本企業が東アジアや東南アジアへ進出し、生産をおこなっている理由を「労働力」という言葉を用いて、簡単に書け。

(2004年香川県)

[解答欄]

[解答]安くて豊富な労働力が得られるから。

[問題]

ASEAN 諸国の米の生産に、大きな影響を与えている風の名称を書きなさい。

(2004年宮城県)

[解答欄]

[解答]季節風(モンスーン)

[問題]

国の経済が特定の農作物や鉱産物などの一次産品に大きく頼っている状態は何と呼ばれるか。その呼び名を書け。

(2004年香川県)

[解答欄]

[解答]モノカルチャー

[問題]

Xの国々が加盟する地域連合を何というか、書きなさい。

(2009年石川県)

[解答欄]

[解答]ASEAN(東南アジア諸国連合)



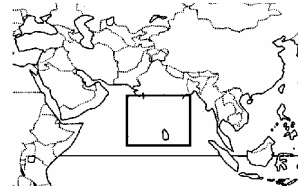
【】インド

[問題]

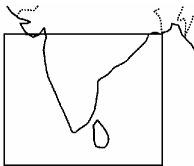
略地図は、インドの一部がかかれていない。この部分のおおまかな形をかきなさい。

(2007年佐賀県)

[解答欄]



[解答]



[問題]

右の地図に関連して、次の(1)~(3)の問いに答えなさい。

- (1) この地域のほとんどを、かつて植民地支配していたヨーロッパの国はどこか、書きなさい。
- (2) 欧米列強が、19世紀から20世紀初めにかけてアジアの多くの地域を植民地化していった背景を説明した文として、正しいものを、次のア~エから1つ選び、記号で答えなさい。



ア ロシアで革命が成功したので、欧米列強はアジアに進出して社会主義を広めようとした。

イ 世界恐慌への対策として欧米列強はアジアでブロック経済を形成して乗り切ろうとした。

ウ 日清戦争後の三国干渉に失敗したため欧米列強はアジアへの日本の進出を防ごうとした。

エ 資本主義が急速に発展したので、欧米列強はアジアで資源や市場を手に入れようとした。

- (3) バングラデシュのAさんはシレットにある紅茶の大農園で働いています。この大農園は植民地時代に欧米人によって開かれたものですが、こうした大農園を何というか、書きなさい。

(2006年宮城県)

[解答欄]

(1)	(2)	(3)
-----	-----	-----

[解答](1) イギリス (2) エ (3) プランテーション

[解説]

17 世紀～20 世紀半ばにかけて、インドはイギリスの植民地であった。植民地時代に、大資本によって茶や綿花の大農園(プランテーション)がひらかれた。

第一次世界大戦の前後、独立の気運が高まり、ガンジーは「非暴力・不服従」の理念のもと独立運動を続け、第二次世界大戦後ようやく独立を達成した。しかし、宗教上の対立から、ヒンズー教のインド、イスラム教のパキスタン、仏教のセイロン(現在はスリランカ)の 3 つに分裂して独立した。さらに 1971 年には、東西に分かれていたパキスタンのうち東パキスタンがバングラデシュとして独立した。



ヒンズー教は多神教で、牛を神の使者として大切に扱われ、牛乳は飲むが牛肉は絶対に食べない。ヒンズー教徒の間には、カースト制度のなごりがあり、階級によって職業が固定していたり、階級が異なれば同席や結婚がしにくいなどの差別が残っている。

[問題]

インドで、社会での地位や職業の決定に大きな影響をあたえている、古くから残る身分制度のことを何というか、答えなさい。

(2004 年沖縄県)

[解答欄]

[解答]カースト制度

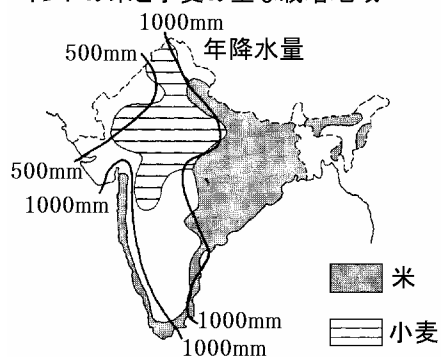
[問題]

米と小麦の主な栽培地域と年降水量との関係を、インドの米と小麦の主な栽培地域資料を参考にして、簡潔に書きなさい。

(2007 年群馬県)

[解答欄]

[解答]米は年降水量が 1000mm 以上の地域で、小麦は 500mm 以上 1000mm 以下の地域で主に栽培されている。



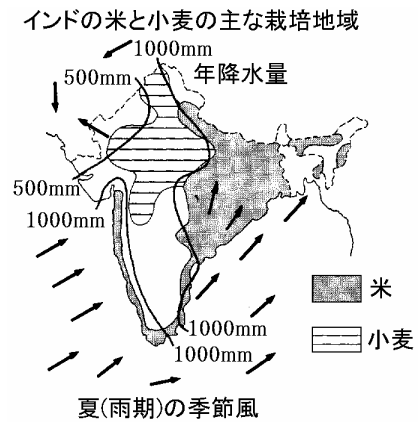
[解説]

インドの気候は、季節によって風向きが変わる季節風(モンスーン)の影響を強く受ける。夏には南西の季節風(南西の方向から北東へ吹く風)のために、インド洋から陸地に湿った空気が運ばれ、南西部の沿岸地域や北東部で雨が多くなる。これに対し、海からの風が届かない北西部は雨が少ない。

インドの農業分布は、降水量と密接な関係がある。米は年降水量 1000mm 以上の地域(ガンジス川流域など)で多く生産されている。降水量が 500mm 以上 1000mm 以下の地域(インダス川流域など)では、乾燥した気候に適した小麦の栽培が行われている。

インドは、米・小麦ともに中国について世界第 2 位の生産量がある。また、デカン高原では綿花の栽培がさかんである。

インドの人口は 2007 年現在で 11.3 億人で、中国の 13.2 億人について世界第 2 位である。かつては増加する人口のため食糧不足の問題が深刻であったが、「緑の革命」によって穀物生産が増加し、食糧難はまめかれた。しかし、働く人の 6 割は農民で、国全体の生活レベルは非常に低い。



[問題]

次の問いに答えなさい。

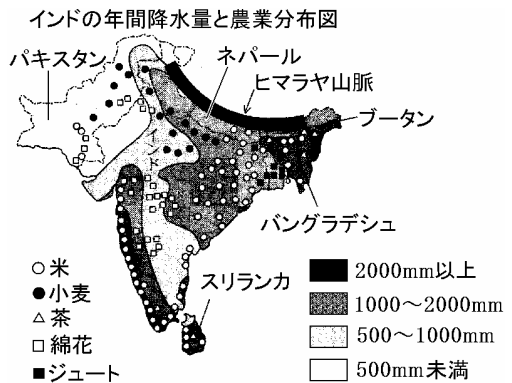
- (1) よしこさんは、インドの降水量について調べたことを下の文章のようにまとめた。文章中の( )に共通してあてはまる最も適当な語を書きなさい。

インドで降水量が多い地域は、西の海岸沿いやヒマラヤ山脈の南東である。その理由を調べてみると、夏と冬で向きが変わる( )によることがわかった。この地域の( )は、夏の間、インド洋から陸地に湿った空気を運んでいる。

- (2) よしこさんは、インドの農業分布と降水量の関係についてわかったことを下の文章のようにまとめた。文章中の X, Y にあてはまる語を、下の[ ]のうちから 1 つずつ選びなさい。

インドの農業分布は、降水量と密接な関係があるようだ。米は年降水量 1000mm 以上の地域で多く生産されている。年降水量 2000mm 以上の地域では( X )の生産も見られる。また、比較的降水量の少ないインド中央部では( Y )が栽培されている。

[小麦 綿花 茶 ジュート]



(2006 年千葉県)

[解答欄]

(1)	(2) X :	Y :
-----	---------	-----

[解答](1) 季節風(モンスーン) (2)X: 茶 Y: 綿花

[問題]

インドのある地域では雨季には南西の季節風が吹く。下線の季節風について述べた文として適切なものを、ア～エから一つ選び、符号で書きなさい。

- ア 南西から北東に向かってふく風で、風向きは年中一定である。
- イ 北東から南西に向かってふく風で、風向きは年中一定である。
- ウ 南西から北東に向かってふく風で、乾季は雨季と風向きが変わる。
- エ 北東から南西に向かってふく風で、乾季は雨季と風向きが変わる。

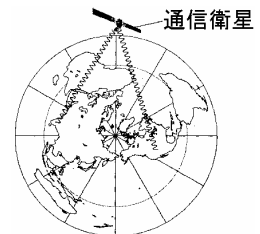
(2009 年岐阜県)

[解答欄]

[解答]ウ

[問題]

最近では、インドとアメリカの企業が協力し、一日の始めと終わりに通信衛星を利用して仕事を引き継ぎ、24 時間体制でコンピュータソフト生産を行っている。24 時間体制でコンピュータソフト生産が可能な理由を、右の資料を参考に、インドとアメリカの位置に着目して書きなさい。



(2007 年群馬県)

[解答欄]

[解答]両国の時差が約 12 時間あるから。

[解説]

独立後のインドは外国資本にたよらず国内の企業だけで工業化を進めてきたため、新しい技術の導入などで大きくおくれをとった。そこで、1990 年代に方針を転換し、外国資本の参入の制限を取り払った。その結果、おもに外国資本による先端技術産業、電気機器、自動車、化学などの工業が急成長した。インドは、現在 BRICs の一つとして著しい経済成長を続けている。(BRICs の B はブラジル、R はロシア、I はインド、C は中国(China)を表している。)

とくに IT 産業 , 中でもソフトウェア産業の伸びが著しい。インドはもともと数学の教育に力を入れており , コンピュータ教育もさかんで , 英語が堪能な人材が多い。当初はアメリカなどへ技術者が渡り , ソフトウェアの開発にたずさわっていたが , 現在は国内での生産が中心になっている。外国から受注した製品(ソフトウェア)は衛星通信を使って即座にできる。また , アメリカとは約 12 時間の時差があるので , あるソフトウェアを共同で開発し , 例えば , アメリカのプログラマーが仕事を終える時間に作業データを衛星通信でインドのプログラマーに送り , 引き継いだインドのプログラマーがさらに作業を進め , 仕事の終わる時間にアメリカのプログラマーへ送り返す。このようにして 24 時間体制でコンピュータソフト生産が可能となっている。

**[問題]**

シンさんの国では , 内陸部の都市などに , アメリカのコンピュータ関連の企業が進出しています。その進出の要因としては , まず , アメリカが夜の時に , シンさんの国では昼なので , 人工衛星を利用したデータのやりとりにより , 技術開発が 24 時間体制で行えることがあげられます。次に , 世界で 7 番目の広大な国土の大部分が , イギリスにより植民地支配されていたこともあって , 英語が主要な言語の 1 つとなっていることもあります。さらに , 人口が多く , 技術者を安い賃金で雇用できることなども関係しています。シンさんの国はどこか。国名を書きなさい。

(2006 年大分県)

**[解答欄]**

**[解答]**インド

## 【】西アジア

### [問題]

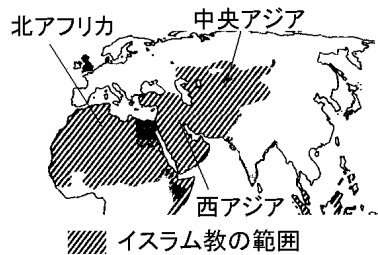
サウジアラビアなどの西アジアの国では、国民のほとんどが、一日に5回、聖地に向かってお祈りをし、豚の肉を食べず、酒も飲まないなど、宗教と生活が深く結びついている。この宗教の名称を書きなさい。

(2003年青森県)

### [解答欄]

### [解答]イスラム教

北アフリカ～西アジア(中東)～中央アジアは乾燥帯であるが、この地域の大部分の人々が信仰しているのはイスラム教である。イスラム教は、610年にアラビア半島の商人マホメットが始めた宗教である。マホメットはアラビアの遊牧民族をまとめてアラビア半島を統一し、さらにその後継者たちが西は北アフリカから、東は唐の国境にまでいたる巨大なイスラム帝国をつくった。イスラム教では、アラーを唯一の神とし、信者は、各地にあるモスクという寺院に礼拝に行く。また、1日5回メッカのカーバ神殿に向かって礼拝をする。イスラム教では、豚肉を食べたり、酒を飲むことは禁じられている。イスラム教の宗派にはスンニ派とシーア派がある。スンニ派はイスラム教徒の9割以上を占める多数派である。イランはほとんどがシーア派である。イラクにもシーア派が多い。



### [問題]

ユダヤ人によって建国された右図のX国は、三つの宗教の聖地であるエルサレムを首都と定めている。X国の国名を書きなさい。

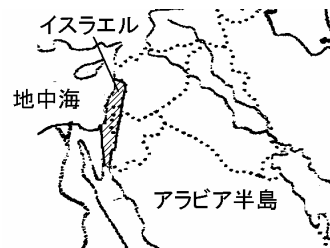
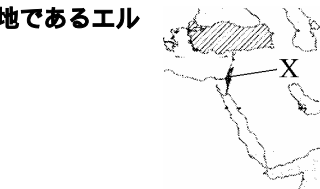
(2008年福島県)

### [解答欄]

### [解答]イスラエル

### [解説]

ユダヤ人は紀元前10世紀のころパレスチナの地に国家を作っていたが、後に滅ぼされて世界各地にちらばった。しかし、ユダヤ教によって同じ民族としての意識を持ち続けた。第一次世界大戦のとき、この地域を支配下においていたイギリスは、戦争への協力を取り付けるためにユダヤ人とパレスチナ人(アラ



ブ人)の両方に対し独立を約束した。第二次世界大戦中のユダヤ人虐殺という苦難を経験したユダヤ人は、戦後、続々とパレスチナの地へ移住してきた。このパレスチナの地に住んでいたアラブ系の住民(パレスチナ人)はユダヤ人の入植に強く反発した。1948年にユダヤ人がイスラエルの建国を宣言すると、これに反対する周囲のアラブ諸国との間に戦争が起こった(第一次中東戦争)。この戦争にアラブ諸国は破れ、多数のパレスチナ人が難民となった。その後、第二次(1956年)・第三次(1967年)・第四次中東戦争(1973年)を経て現在に至っているが、イスラエル占領地区に住むパレスチナ人とイスラエルの対立は続き、パレスチナ人による自爆テロと、イスラエル軍の軍事侵攻という「報復の連鎖」が続き、和平への展望が開けない状況が続いている。イスラエルの首都エルサレムには、イスラム教、ユダヤ教、キリスト教の3つの宗教の聖地が混在している。

**[問題]**

- (1) 日本の石油輸入先が集中する地域を次の[ ] から1つ選びなさい。  
 [南アジア 西アジア 東南アジア 東アジア]
- (2) (1)の地域が最も多く属する気候帯を次の[ ] から1つ選びなさい。  
 [熱帯 冷帯 乾燥帯 温帯]

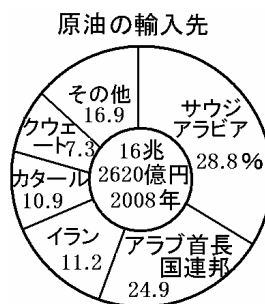
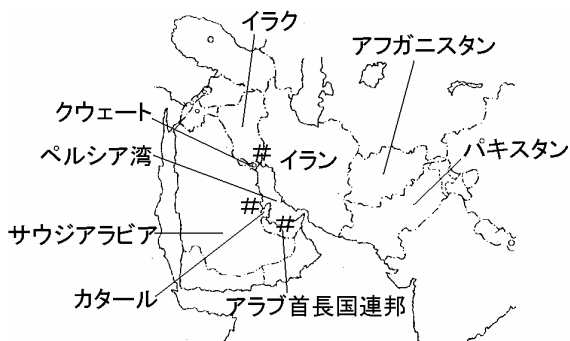
(2008年長野県)

**[解答欄]**

(1)	(2)
-----	-----

**[解答]**(1) 西アジア (2) 乾燥帯

**[解説]**



世界の石油埋蔵量の2/3は、ペルシア湾沿岸を中心とする西アジアに集中している。また、石油の生産量・輸出量ともにペルシア湾沿岸の産油国が大きな割合を占めている。

日本の石油輸入の約8割はペルシア湾沿岸の国々からである。その中でも多いのが、サウジアラビアとアラブ首長国連邦とイランである。

統計修正：「日本国勢図会 2009/2010年版」P313・318

[問題]

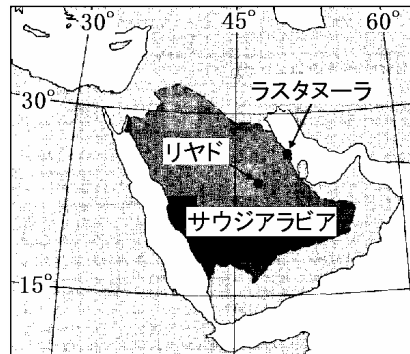
次の文は、友子さんと、サウジアラビアで仕事をしていたおじさんとの会話です。これを読んで、あとの問いに答えなさい。

友子：おじさん，サウジアラビアの首都のリヤドはどんな所でしたか。

おじ：砂漠の真ん中にある大都市で，夏はとても暑く，一年を通して雨はほとんど降らなかったよ。

友子：サウジアラビアは，産油国として有名ですよ。

おじ：そうだね。ラスタヌーラという原油の積み出し港には，たくさんのタンカーが集まっていたよ。サウジアラビアでは，国が経営する会社で原油と石油製品の生産や輸出を行うから，その利益の大部分が国の歳入になっていて，歳入全体の約8割を占めていると聞いたよ。



(1) 地図を参考にして，サウジアラビアについて述べた文として，正しいものを，次のア～エから1つ選び，記号で答えなさい。

- ア サウジアラビアは，アジア州に属している。
- イ サウジアラビアは，大西洋の沿岸にある。
- ウ 首都のリヤドは，仙台市より高い緯度にある。
- エ 首都のリヤドは，西経45度の付近にある。

(2) 下線部のリヤドが属している気候帯の名称を，会話を参考にして，書きなさい。

(2009年宮城県)

[解答欄]

(1)	(2)
-----	-----

[解答](1) ア (2) 乾燥帯

[問題]

東アジア付近が極東と呼ばれるのに対し，西アジア付近が中東と呼ばれるのは，( )から見た位置関係にもとづいている。

(2008年徳島県)

[解答欄]

--

[解答]ヨーロッパ

**[問題]**

バグダッドの様子として最も適当なものを、次の写真ア～エから1つ選んで記号で答えなさい。



(2006年島根県)

**[解答欄]**

**[解答]ア**

【】アフリカ

[問題]

次の文はアフリカのある国について述べたものである。この国名を答えなさい。

この国は、アフリカ大陸の北東部に位置し、地中海に面している。世界最長の川の流域には、古代文明の遺跡があり、世界各地から多くの観光客が訪れている。

(2006年栃木県)

[解答欄]

[解答]エジプト

[解説]

エジプトには世界最長のナイル川が流れており、流域では紀元前3000年ごろにエジプト文明がおこった。エジプトについてよく出題されるのは、直線的な国境線についてである。エジプトとリビアの間の国境線は東経25度の経線とうけいで、スーダンとの国境線は北緯22度の緯線ほくいが使われている。これは、ヨーロッパ各国による植民地分割しょくみんちぶんかつのなごりで、ヨーロッパの国々がアフリカを植民地とした際、支配した国が、地図上に線を引いて範囲を決めたなごりである。また、アフリカ大陸には、アラビア語以外に英語・フランス語・ポルトガル語などヨーロッパ諸国の言語が公用語として使われている国が少なくないが、これも、かつての植民地時代のなごりである。



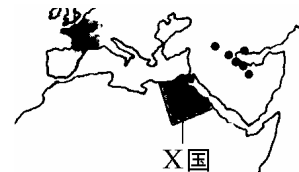
[問題]

略地図中のX国の国名を書きなさい。

(2007年徳島県)

[解答欄]

[解答]エジプト



[問題]

右図で示された国が位置する大陸には、経線や緯線などを利用してまっすぐに引かれた国境線が多く見られるが、それはなぜか。歴史的な背景をふまえて書きなさい。

(2006年岡山県)



[解答欄]

[解答]ヨーロッパの国々が植民地とした際、支配した国が地図上に線を引いて範囲を決めたから。

[問題]

アフリカ大陸には、アラビア語以外に英語・フランス語・ポルトガル語などヨーロッパ諸国の言語が公用語として使われている国がある。この大陸で、ヨーロッパ諸国の言語が使われているのはなぜか、簡潔に書きなさい。

(2007年佐賀県)

[解答欄]

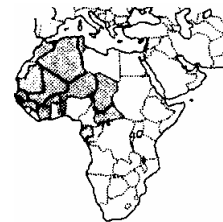
[解答]アフリカ大陸にある国々が独立する前に、イギリス、フランス、ポルトガルなどのヨーロッパ諸国の植民地支配を受けていたから。

[問題]

20世紀初め、略地図中の○で示した地域を統治していた国はどこですか。その国名を書きなさい。

(2006年和歌山県)

[解答欄]



[解答]フランス

[解説]

アフリカ大陸の西アフリカから中央アフリカにかけて、旧宗主国がフランスの国が多い。

[問題]

サハラ砂漠の南ふちにそって細長くのびる、砂漠化の著しい地域を何というか、答えなさい。

(2004年沖縄県)

[解答欄]

[解答]サヘル

[解説]

サハラ砂漠の南の地区はサヘル地域と呼ばれ人口増 かちく 家畜の過剰放牧 かじょうほうぼく 砂漠化 さばくか が進み深刻な問題となっている。

[問題]

サハラ以南のアフリカの多くの国々では、深刻な食料不足が続いています。この地域で食料が不足している理由を説明した文として、正しいものを、次のア～エから1つ選び、記号で答えなさい。

- ア この地域では家畜が過剰に放牧されたことにより砂漠化が進んで農地が減っているから。
- イ この地域で主に排出されるフロンガスによりオゾン層が破壊され穀物が枯れてしまうから。
- ウ この地域では人口の減少が急激に進んでいるので農地を耕す働き手が不足しているから。
- エ この地域を流れる河川へ工場から廃液が流れこみ、農業用水として使えなくなっているから。

(2006年宮城県)

[解答欄]

[解答]ア

[問題]

ケニアは( )大陸の赤道直下に位置し、首都ナイロビは海拔約1700mにあります。

(2006年岐阜県)

[解答欄]

[解答]アフリカ

[問題]

ガーナの魅力を紹介した、旅行パンフレットのタイトルとして、最も適当なものはどれか。

- ア 雪と氷の世界でトナカイに会おう
- イ 太陽の沈まぬ一日(白夜)を体験しよう
- ウ 砂漠に立ってピラミッドを仰ぎ見よう
- エ 密林や草原で大型野生動物を観察しよう

(2005年栃木県)

[解答欄]

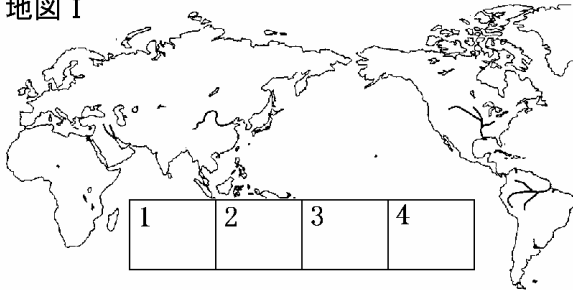
[解答]エ

【】オセアニア

[問題]

地図 は地図 I の一部を切り取ったものである。この地図 があてはまる場所としてふさわしいのは地図 I の 1~4 に示したうちのどこか。

地図 I



地図 II



(2007 年神奈川県)(2007 年兵庫県)

[解答欄]

[解答]2

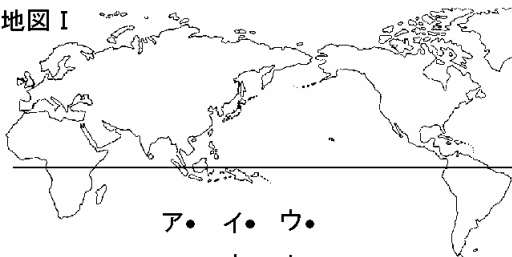
[解説]

日本から見ると、オーストラリアはほぼ真南に位置している。

[問題]

地図 に示してある大陸は、地図 I にかかれていない大陸の 1 つである。この大陸名を書きなさい。また、地図 の の都市の位置を、地図 I のア~カから 1 つ選び、その符号を書きなさい。

地図 I



ア・ イ・ ウ・  
エ・ オ・ カ・

地図 II



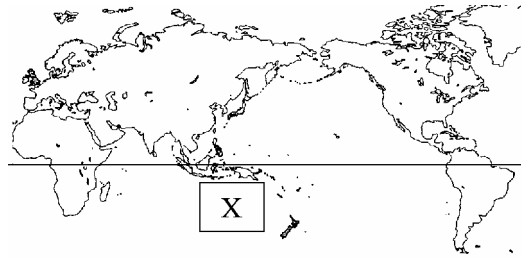
(2009 年石川県)

[解答欄]

[解答]オーストラリア大陸ノイ

[問題]

地図中の X にあてはまる国は、この地図上ではどのような形ですか。次のア～エの中から 1 つ選び、その記号を書きなさい。なお、ア～エは上が北を示します。



(2006 年埼玉県)(2006 年鹿児島県)

[解答欄]

[解答]イ

[問題]

地図の X 国についての説明文として、正しいものを次のア～エから 1 つ選び、記号で答えなさい。



- ア 日本の東側にある。
- イ 日本との時差は 12 時間である。
- ウ 日本と季節は逆である。
- エ 日本とほとんど同じ気候帯である。

(2007 年沖縄県)

[解答欄]

[解答]ウ

[解説]

ア・イは誤り。オーストラリアは日本のほぼ真南にあり、時差はほとんどない。

ウは正しい。南半球みなみはんきゆうは日本と季節が逆になる。

エは誤り。オーストラリアは沿岸部を除いてほとんどが乾燥気候かんそう。

[問題]

図のア～ウは熱帯, 温帯, 乾燥帯のいずれかである。熱帯にあたるものをア～ウ から選び, 記号で書きなさい。

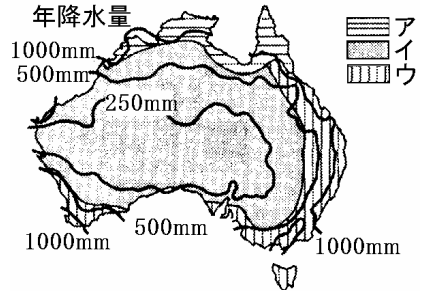
(2006 年群馬県)

[解答欄]

[解答]ア

[解説]

オーストラリアでは, 北に行くほど赤道に近づくことになり, 気温が高くなる。アは熱帯, イは乾燥帯, ウは温帯である。



[問題]

右の地図から読み取ることができるオーストラリア大陸の人口分布の特徴を, 年間降水量と関連づけて次のように考えた。次の文章の( ) 内にあてはまる内容を書きなさい。オーストラリア大陸では, ( )。ただし, 北部については, その関連は説明できない。

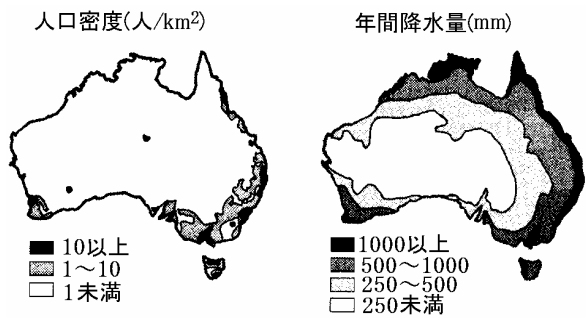
(2006 年鳥取県)

[解答欄]

[解答]人口は比較的降水量の多い東部と南西部の海岸部に集中している。

[解説]

人口は東部の温帯(温暖湿润気候と西岸海洋性気候)の地域と南西部の温帯(地中海性気候)の地域に集中している。



[問題]

次のア～エは、世界の大陸のうちのいずれかについて述べたものです。このうち、右の地図中の A で示した大陸について述べているものはどれですか。1つ選び、その記号を書きなさい。



- ア 人口が世界で最も多い大陸で、南部や東部には、人口集中が著しい地域がみられる。それらの地域の大半は熱帯や温帯の地域で、米や小麦の栽培が盛んである。
- イ 面積の半分以上は冷帯や寒帯の地域である。大陸中部は、経営規模の大きな農業が発達していて、とうもろこしや小麦の世界的な生産地域となっている。
- ウ 大都市は海岸部に集中している。乾燥帯が広がる内陸部は人口密度が非常に低くなっているが、羊や肉牛の飼育が盛んな世界有数の牧畜地域もみられる。
- エ 大陸の西側に高く険しい山脈がつらなり、北部を中心に大陸の半分以上を広大な熱帯地域が占めている。コーヒーやバナナなどの世界有数の生産国がある。

(2007年岩手県)

[解答欄]

[解答]ウ

[解説]

アはユーラシア大陸、イは北アメリカ大陸、ウはオーストラリア大陸、エは南アメリカ大陸(大陸の西側の高く険しい山脈とはアンデス山脈のことである。)

[問題]

よしこさんは、オーストラリアの農業分布と降水量の関係についてわかったことを下の文章のようにまとめた。文章中の X, Y にあてはまる語を下の [ ] のうちから1つずつ選びなさい。

オーストラリアの農業分布と降水量との関係を見ると、( X )は、おもに大陸東部と西部の年降水量 250mm から 500mm の地域で行われている。一方、

( Y )は、おもに大陸北部の年降水量 500mm から 1000mm の地域で行われており、中央部の年降水量が 500mm に満たない地域でも地下水を利用して行われている。

[羊(毛用種)の放牧 果物・野菜の栽培 肉牛の放牧 さとうきびの栽培]

オーストラリアの年降水量と農業分布図



- 羊の放牧
- △ 肉牛の放牧
- さとうきびの栽培
- 果物・野菜の栽培
- 1000mm以上
- ▨ 500mm～1000mm
- ▧ 250mm～500mm
- 250mm未満

(2006 年千葉県)









[解答欄]

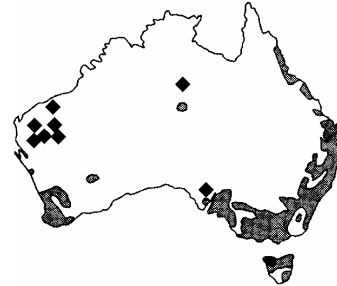
X :	Y :
-----	-----

[解答]X : 羊(毛用種)の放牧 Y : 肉牛の放牧

[問題]

次のア～エのうち、正しく述べているものはどれですか。1つ選び、その記号を書きなさい。

- ア  は羊の飼育が盛んな地域を示し、 は石炭の主産地を示している。
- イ  は羊の飼育が盛んな地域を示し、 は鉄鉱石の主産地を示している。
- ウ  は人口密度が  $1\text{km}^2$  あたり 1 人以上の地域を、 は石炭の主産地を示している。
- エ  は人口密度が  $1\text{km}^2$  あたり 1 人以上の地域を、 は鉄鉱石の主産地を示している。



(2003 年岩手県)

[解答欄]

[解答]エ

[解説]

鉄鉱石はオーストラリア大陸の北西部、石炭は東部に集中している。


[問題]

オーストラリアでは、内陸の乾燥地域において、ある家畜の飼育が盛んである。その家畜を、次のア～エの中から一つ選び、記号を書きなさい。

(2009 年佐賀県)

[解答欄]

[解答]ウ



[問題]

略地図の X の国とわが国との関係について述べた次の文の ， のそれぞれに当てはまることばを，( ) 内から選びなさい。



X の国は，わが国の主要な貿易相手国であり，例えば，X の国は，わが国が輸入する (石油 / 石炭) の輸入先の第 1 位となっているなど，わが国にとって資源の重要な輸入先となっている。このほかに， (機械類 / 食料品) についても，X の国からの輸入額が多く，わが国と X の国との経済的な結びつきは，近年さらに強まっている。

(2006 年北海道)

[解答欄]

--	--

[解答] 石炭 食料品

[解説]

わが国が輸入する石炭と鉄鉱石<sup>てつこうせき</sup>の半分以上はオーストラリアからのものである。(2008 年統計では，石炭は全輸入量の 63.3%，鉄鉱石は全輸入量の 52.9% をオーストラリアから輸入している) そのほか，小麦(アメリカ 60.6%・カナダ 23.7%・オーストラリア 15.5% : 2008 年統計)，牛肉などの輸入も多い。

統計：「日本国勢図会 2009/2010 年版」P318

[問題]

国旗のデザインにも表現されているように，オーストラリアは，歴史的に ( ) との結びつきが強かった。しかし，図に示されるように，貿易では 1965 年と 2007 年の輸出と輸入をそれぞれ比べると，かわり( )。

(1) にはいる国名を書きなさい。



(2) 当てはまる文を，図を参考にして書きなさい。

(2006 年群馬県)

[解答欄]

(1)	(2)
-----	-----

[解答](1) イギリス (2) 日本，アメリカや中国との結びつきが強くなっている

オーストラリアの貿易に関する資料

		輸出				
		アメリカ ニューージーランド 6.2				
1965年	①	日本	10.8			その他
	17.5%	16.3			49.2	
		韓国 アメリカ				
2007年	日本	中国	8.0	6.0	5.6	その他
	18.9%	14.2				47.3
		輸入				
		ニューージーランド 西ドイツ 5.5				
1965年	①	アメリカ	日本			その他
	26.3%	23.3	9.7			35.2
		シンガポール 5.6 ドイツ 5.2				
2007年	中国	アメリカ	日本			その他
	15.5%	12.8	9.6			51.3

[解説]

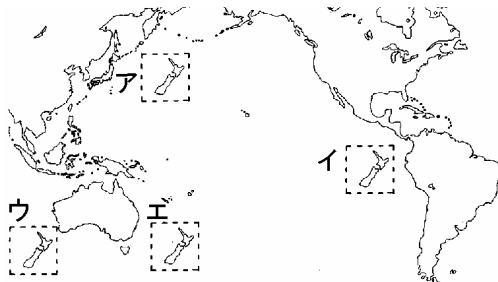
- (1) オーストラリアの国旗には、イギリスの国旗が描かれている。
- (2) EU との結びつきが強くなるイギリスに対し、オーストラリアは太平洋に面した国々との結びつきが強くなっている。

統計修正：「日本国勢図会 2009/2010 年版」P353

[問題]

図のア、イ、ウ、エのうち、環太平洋造山帯に属するニュージーランド(北島と南島)の正しい位置はどれか。

(2006 年栃木県)(2006 年和歌山県)

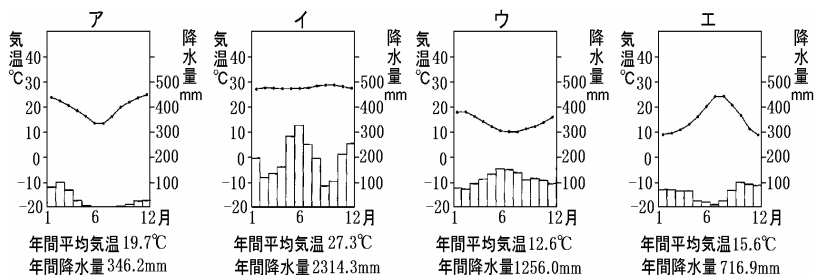


[解答欄]

[解答]エ

[問題]

温帯に属するニュージーランドの首都ウェリントンの気温と降水量のグラフをア～エの中から1つ選び、その記号を書きなさい。



(2006 年埼玉県)

[解答欄]

[解答]ウ

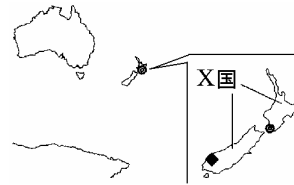

[解説]

ウェリントンは南半球にあるので、北半球と季節が逆になり、気温のグラフが 字型に近くなる。ア～エのうち、気温のグラフが 字型に近いグラフはアとウであるが、ウェリントンの気候は温帯に属するので、ウが正解。

**[問題]**

右の写真は X 国の 付近で撮影されました。  
この写真の地形は、長い年月をかけて地面がけ  
ずられてできたものです。何によってけずられ  
たのか、書きなさい。

(2003 年山形県)



**[解答欄]**

**[解答]**氷河

【】アメリカ合衆国 : 自然

[問題]

右図のサンフランシスコからワシントンまで大陸を横断する鉄道を利用して移動した。次の文は、この移動について説明したものである。文中の( )から適切なものを1つずつ選びなさい。



サンフランシスコから (アルプス/ヒマラヤ/ロッキー)山脈を越え, (アマゾン/ナイル/ミシシッピ)川の支流を渡って, (太平洋/大西洋/インド洋)側に位置するワシントンに到着した。

(2006 年大阪府)

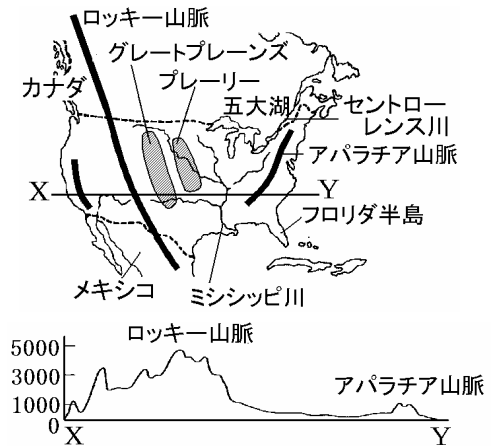
[解答欄]

--	--	--

[解答] ロッキー ミシシッピ 大西洋

[解説]

ロッキー山脈は、環太平洋造山帯かんたいへいようざうざんたいに属するけわしい山脈である。その東にはグレートプレーンズという乾燥した大平原が広がり、さらに東にはやや雨の多いプレーリーという大草原ごさいこが広がっている。五大湖と中央低地を流れるミシシッピ川とセントローレンス川は重要な内陸水路になっている。アパラチア山脈はなだらかな山脈で石炭を産出する。フロリダ半島は、亜熱帯あねつたいの気候である。



[問題]

次の a, b, c, d の文は、B さんがアメリカ合衆国を横断したとき、その経路において観察できることを述べたものである。ニューヨークからサンフランシスコにいたる間に観察できることを経路順に並べなさい。

- a グレートプレーンズの東側で、穀物が栽培されている。
- b 中央平原で、飼料穀物栽培と牧畜を行っている。
- c アパラチア山脈に炭田があり、工業地帯に石炭を多く供給している。
- d ロッキー山脈で、放牧が行われている。

(2004 年愛知県)

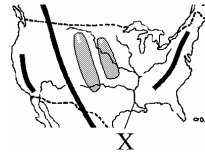
[解答欄]

[解答]c b a d

[問題]

地図中 X の河川名を答えなさい。

(2005 年沖縄県)

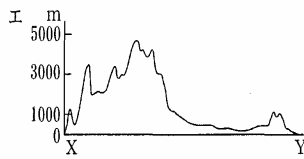
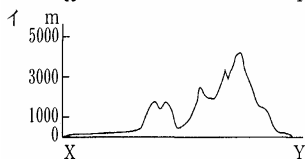
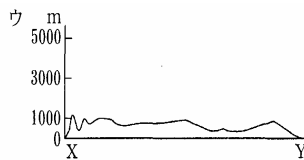
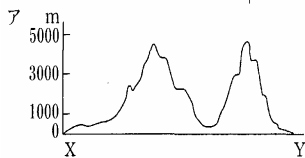
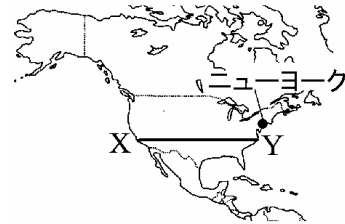


[解答欄]

[解答]ミシシッピ川

[問題]

略地図中の X-Y の断面図を正しく表したものを、次のア～エの中から 1 つ選び、記号を書きなさい。



(2007 年佐賀県)(2006 年沖縄県)

[解答欄]

[解答]エ

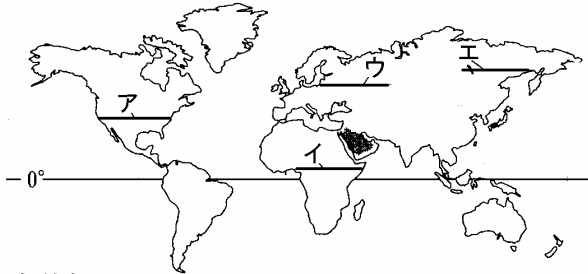

[解説]

アメリカ大陸の西側には高く峻険な山脈(ロッキー山脈)が、東側には低くなだらかな山脈(アパラチア山脈)が連なっているのでエが正解。

**[問題]**

右の資料は、下の略地図中のア～エのいずれかの断面図である。どこの断面図か、ア～エから1つ選びなさい。

**[資料]**



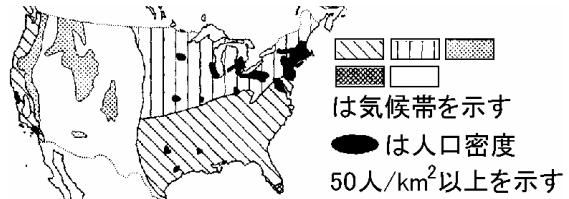
(2008年徳島県)

**[解答欄]**

**[解答]**ア

**[問題]**

右の地図は、アメリカの気候区分に、人口密度が 50 人/km<sup>2</sup> 以上の地域の分布を重ねたものである。人口密度が 50 人/km<sup>2</sup> 以上の地域が最も広く分布している気候帯の名称を答えなさい。



(2005年山口県)

**[解答欄]**

**[解答]**冷帯

**[解説]** れいたい  は冷帯の気候、あんだい  は温帯、かんそうたい  は乾燥帯、こうざんきこう  は高山気候である。

**[問題]**

那覇市と同じぐらいの緯度にある都市はどこか。次から1つ選びなさい。

[ニューヨーク シカゴ シアトル マイアミ]

(2006年沖縄県)

**[解答欄]**

**[解答]**マイアミ

**[解説]**

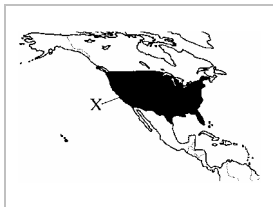
なはは  
那覇やマイアミの緯度は北緯約26度である。ニューヨークは北緯40度付近にあるが、北緯40度の緯線は、日本では秋田県と岩手県を通る。五大湖沿岸のシカゴや、太平洋岸でカナダとの国境近くにあるシアトルは北緯40度より北にある。

**[問題]**

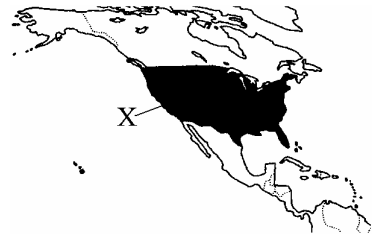
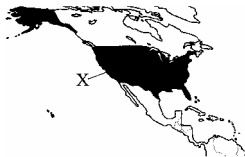
右の地図中のX国は、50の州からなる連邦国家であるが、地図中にはハワイ州を含め49の州が塗りつぶされている。あと一つの州を塗りつぶしなさい。

(2008年佐賀県)

**[解答欄]**



**[解答]**



【】アメリカ合衆国 : 農業

[問題]

アメリカ合衆国の農業について述べた次の文の , には適する語を, には適する文を, それぞれ書きなさい。

右の資料の農作物のなかで, 最も温暖な地域で生産されるのが( )で, 最も乾燥した地域で生産されるのが( )です。また,

の地域では野菜や花の生産が行われていますが, これは, この地域が( )ので, 近郊農業に適しているからです。

(2004 年群馬県)

[解答欄]

--	--	--

[解答] 綿花 小麦 大都市に近い

[解説]

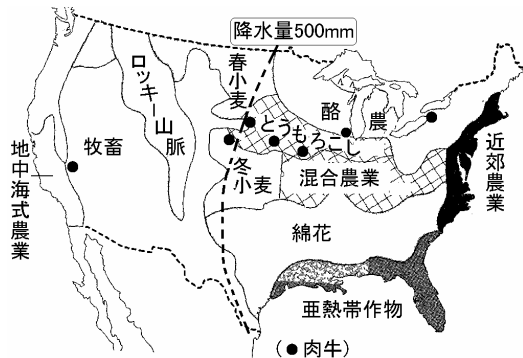
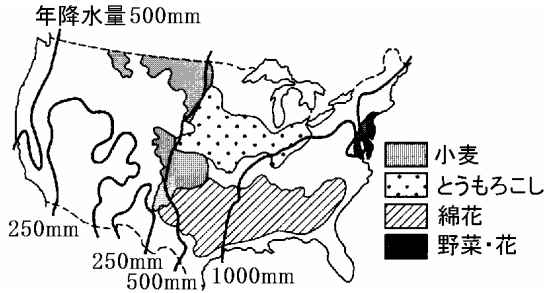
太平洋岸のカリフォルニア州では, 夏に乾燥する地中海性気候で, 大規模なかんがいによって果実, 野菜, 米などを栽培する地中海式農業がおこなわれている。

乾燥したグレートプレーンズからロッキー山脈周辺にかけての地帯では, 肉牛や羊の大規模な企業的牧畜が行われている。牛があるほど大きくなると, とうもろこし地帯に送って, 短期間で太らせてシカゴなどの家畜市場に送っている。

最近では, グレートプレーンズの一部でセンターピボットという大規模なかんがいを行って, とうもろこしを栽培し, 牛を太らせることも行われるようになった。センターピボットとは, 地下水をくみ上げる井戸を中心に, 散水装置のついた約 400m のアームを回転させ, 円形にかんがいする方法である。とうもろこし地帯で収穫されるとうもろこしは, おもに, 牛や豚の飼料(えさ)として使われる。図のは肉牛の分布を表しているが, その多くはとうもろこし地帯にあるのがわかる。この地域では大豆も栽培されている。

小麦は年降水量 500mm ~ 750mm のやや乾燥した地域で栽培されている。南の方の草原地帯の中央部では, 秋に種をまき冬を越して夏に収穫される冬小麦が栽培されている。カナダよりの一帯では, 春に種をまいて秋に収穫する春小麦が栽培されている。

気温の温暖な南東部は綿花地帯である。かつては黒人奴隷の労働力を利用していましたが, 現在では



機械化されている。

冷涼な五大湖周辺では、乳牛を飼育し、牛乳・バター・チーズなどの乳製品を大都市に出荷する酪農が行われている。大西洋岸の大都市付近では、野菜・草花・酪農などの近郊農業がおこなわれている。メキシコ湾に面した亜熱帯作物地帯では、米、さとうきびのほか、熱帯性の果実や、野菜などが作られている。

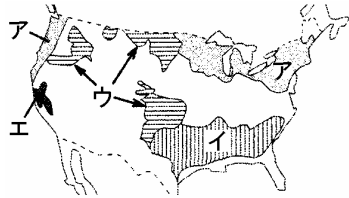
[問題]

主に小麦が栽培されている地域を、右図のア～エから一つ選んで記号で答えなさい。

(2004年島根県)

[解答欄]

[解答]ウ



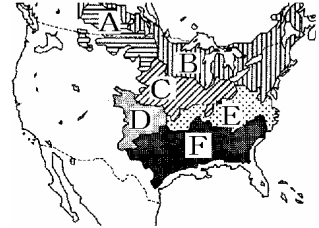
[問題]

右図のA～Fは農産物の栽培地域を表している。Cの地域で主に栽培されている農産物名を答えなさい。

(2006年沖縄県)

[解答欄]

[解答]とうもろこし



[問題]

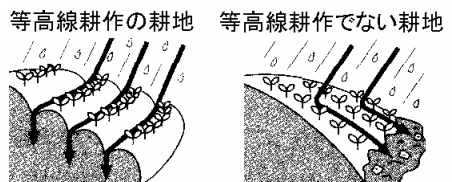
等高線耕作という環境に配慮した農業の方法によって防ぐことができるものは何か。最も適当な解答を次から1つ選びなさい。[地球の温暖化 土壌侵食 大気汚染 熱帯林の破壊]

(2005年沖縄県)

[解答欄]

[解答]土壌侵食

[解説]中央平原では、風雨のために地表の肥えた土壌が流出する土壌侵食が深刻になった。これに対し、斜面の耕地では、右図のように等高線に水平に作物を植える等高線耕作が行われるようになった。



**[問題]**

アメリカでは、大型機械を使用し、工業生産にも似た企業的な農業が行われています。また、作物の品種改良に(バイオテクノロジー/エレクトロニクス)の技術も活用されています。

(2009年愛知県)

**[解答欄]**

**[解答]**バイオテクノロジー

【】アメリカ合衆国 :工業その他

[問題]

アメリカ合衆国の東海岸のワシントンとボストンの間に広く長くつらなる大都市群のことを何  
というか、答えなさい。

(2004年沖縄県)

[解答欄]

[解答]メガロポリス

[問題]

右の表は、アメリカ合衆国の輸出額の上位4品目を示したものである。このうち、表中の( )に入る品目の2006年の輸出額は、アメリカ合衆国が世界第1位である。この品目は何か。次から一つ選びなさい。

	品目	輸出額(百万ドル)
1位	機械類	333,107
2位	自動車	89,347
3位	( )	66,720
4位	精密機械	49,125

[石油製品 繊維品 航空機 鉄鋼]

(2008年山口県)

[解答欄]

[解答]航空機

統計修正：「日本国勢図会 2009/2010年版」P358

[問題]

次のグラフは、「ある工業製品」の国別輸出額の割合をあらわしている。「ある工業製品」は何か。次の[ ]の中から一つ選びなさい。

アメリカ 41.1%	フランス 17.8	ドイツ 15.5	その他 25.6
---------------	--------------	-------------	-------------

(世界の統計2008年版)

[航空機 自動車 衣類 鉄鋼 コンピューター]

(2009年福島県)

[解答欄]

[解答]航空機

[問題]

ニューヨークやシカゴの都心部では、限られた土地を有効に使うために高層ビルを建てていることに気がついた。限られた土地を有効に使わなければならない理由を簡潔に説明せよ。

(2008 年福井県)

[解答欄]

[解答]地価が高いから。

[問題]

アメリカ合衆国が、2001 年以降、世界第 1 位であることがらとして正しいものを、次のア～エから 1 つ選び、記号で答えなさい。

ア 政府開発援助(ODA)の総額    イ 人口    ウ鉄鉱石の生産量    エ 国土面積

(2007 年熊本県)

[解答欄]

[解答]ア

[解説]

イは中国、ウはブラジル、エはロシア。

[問題]

アメリカへの中南米からの移民で、スペイン語を話す人々を何というか。その名前を書きなさい。

(2006 年山梨県)

[解答欄]

[解答]ヒスパニック

[解説]

メキシコ・プエルトリコ・キューバ出身のスペイン語系のアメリカ人をヒスパニックという。1970 年代から増加し、現在も人口増加率が高く、2003 年には 13.4%と、黒人の比率をこえた。今後ともメキシコなどからの流入が続くこと、出生率が高いことから、2050 年には人口の 25%をしめるという予測もある。独自の文化とスペイン語という共通言語をもち、グループとして生活しているため、英語を学ばず、アメリカの文化や政治に同化しようとしないう傾向が見られる。

**[問題]**

アメリカ合衆国の人口が3億人に達した。この人口急増の背景には、中南米からのヒスパニックと呼ばれる人々の流入がある。ヒスパニックと呼ばれる人々が主として話す言語は何か、次から1つ選べ。

[スペイン語 中国語 ドイツ語 イタリア語]

(2007年高知県)

**[解答欄]**

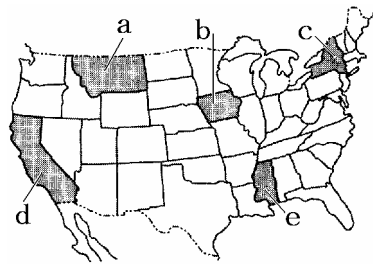
**[解答]**スペイン語

**[問題]**

下の文章が説明する州を、右の資料のa~eから1つずつ選んで記号で書け。

この州では、綿花栽培が盛んに行われてきた。現在、州人口に占めるアフリカ系住民の比率が高いのは、その綿花栽培と関係があるようだ。

この州に広がる農場に大勢のヒスパニックの人々が働いている。この州には、シリコンバレーと呼ばれるハイテク産業が集中する工業地域がある。



(2008年福井県)

**[解答欄]**

<input type="text"/>	<input type="text"/>
----------------------	----------------------

**[解答]** e d

**[問題]**

( )は、北アメリカ大陸の北部を占め、世界でも有数の木材輸出国である。

(2008年岐阜県)

**[解答欄]**

**[解答]**カナダ

【】南アメリカ : 自然その他

[問題]

南アメリカ大陸の自然について述べた文として最も適切なものを、次のア～エの中から1つ選び、その記号を書きなさい。

- ア 大陸の西部に高くけわしい山脈があり、大陸の北部に冷帯や寒帯が分布している。
- イ 大陸の東部にゆるやかな山脈があり、広く乾燥帯が分布し、大陸の大部分が平坦である。
- ウ 大陸の西部に高くけわしい山脈があり、広く熱帯が分布し、大河が西から東に流れている。
- エ 大陸北西部に高くけわしい山脈があり、大陸の南部と北部に広く乾燥帯が分布している。

(2007年青森県)

[解答欄]

[解答]ウ

[解説]

中央アメリカと南アメリカ大陸を合わせた地域は、中南アメリカまたはラテンアメリカと呼ばれる。南アメリカ大陸の西部には、環太平洋造山帯かんたいへいようぞうざんたいに属し、高くて険しいアンデス山脈が走っている。ブラジルを流れるアマゾン川流域せきどちゅうよつかは赤道直下せきだうちかにあり、高温で多雨の熱帯雨林気候ねったいりんきこうでジャングルが広がっている。



[問題]

右の地図中の X の山脈を何といいますか。

(2006年和歌山県)(2006年北海道)

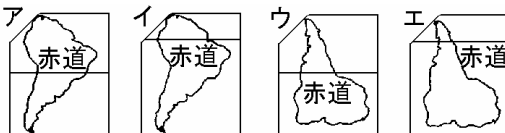
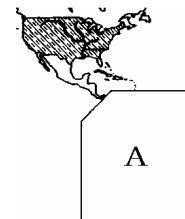
[解答欄]

[解答]アンデス山脈



[問題]

地図中の空白 A には南アメリカ大陸が入ります。大陸の形及び赤道の通っている位置として最も適当なものを下のア～エから1つ選び、記号で答えなさい。



(2005 年沖縄県)

[解答欄]

[解答]イ

[問題]

北アメリカはアングロアメリカと呼ばれ中央アメリカと南アメリカ大陸を合わせた地域は、中南アメリカまたは( )アメリカと呼ばれる。

(2005 年鹿児島県)

[解答欄]

[解答]ラテン

【】南アメリカ : ブラジルなど

(資料問題)

[問題]

次の問いに答えなさい。

- (1) ブラジルの位置を示すものを、地図の A~D から 1 つ選び、符号で答えなさい。  
 (2) 下の資料をもとに、ブラジルについて、正しいものを、次のア~エから 1 つ選び、符号で答えなさい。

- ア ブラジルの国土面積は、日本の約 45 倍の広さである。  
 イ ブラジルの人口は、日本よりも約 4300 万人多い。  
 ウ ブラジルの国土の大部分は、四季の変化がはっきりした気候である。  
 エ ブラジルの首都は、西経 45 度の経線をもとに標準時としている。



面積	約 851 万 km <sup>2</sup>
人口	約 1 億 8900 万人
気候	国土の大部分は熱帯
日本との時差	首都と日本の時差は 12 時間
おもな言語	ポルトガル語
日系人の数	約 140 万人
日本への輸出品	鉄鉱石、肉類、コーヒー

(2006 年宮崎県)

[解答欄]

(1)	(2)
-----	-----

[解答](1) C (2) エ

[解説]

(2) アは誤り。日本の国土面積が 38 万 km<sup>2</sup> であることは覚えておかなければならない。

$$851 \text{ 万 km}^2 \div 38 \text{ 万 km}^2 = \text{約 } 22 \text{ 倍}$$

イは誤り。日本の人口が約 1 億 2800 万人(2008 年)であることは覚えておかなければならない。

$$1 \text{ 億 } 8600 \text{ 万人} - 1 \text{ 億 } 2800 \text{ 万人} = 5800 \text{ 万人}$$

ウは誤り。四季がはっきりしている気候は、おんたい温帯の特徴。資料を見ると、ブラジルの国土の大部分はねつたい熱帯に属している。

エは正しい。日本との時差が 12 時間なので、日本との経度差は 15(度) × 12(時間) = 180 度である。

日本は東経 135 度の経線をもとに標準時ひょうじゆんじを決めているので、ブラジルは西経 45 度(180 - 135 = 45)となる。

統計修正(ブラジルの人口)：「日本国勢図会 2009/2010 年版」P36

**[問題]**

下の表は、1980年と2004年のブラジルのおもな輸出品を示したものである。表中の(a)には、下の写真の農作物が入る。この写真の農作物は何か。答えなさい。

1980年 201億ドル		2006年 1378億ドル	
( a )	12%	機械類	13%
機械類	10%	自動車	9%
鉄鉱石	8%	鉄鋼	7%
植物油かす	7%	鉄鉱石	6%
砂糖	7%	肉類	6%
その他	56%	原油	5%
		その他	54%
合計	100%	合計	100%



(2006年山口県)

**[解答欄]**

**[解答]** コーヒー

**[解説]**

ブラジルは世界一のコーヒー生産国。

統計修正：「日本国勢図会 2009/2010年版」P358

**[問題]**

地図のX国の発電量の約84%は水力発電である。これはX国の気候が大きく関係している。地図を見て、どのような関係があるか。書きなさい。

(2009年滋賀県)

**[解答欄]**



**[解答]** 降水量が年間を通じて多いため、水力発電に必要な水量が豊富に得られるから。

**[問題]**

ブラジル人はおもにポルトガル語を、ブラジルの周辺諸国の人々は、おもにスペイン語を使用している。このように、ブラジルや周辺諸国の人々が、ヨーロッパの言語を使用しているのはなぜか。その理由を、歴史と関連させて簡潔に書きなさい。

(2006 年宮崎県)

**[解答欄]**

**[解答]**かつて、ヨーロッパの植民地支配を受けたから。

**[解説]**

コロンブスの新大陸発見以降、ヨーロッパ人が中南米へ進出した。現在のブラジル一帯はポルトガルの植民地となった。ブラジルでポルトガル語が公用語として使われているのはこのような歴史的背景によるものである。ブラジル以外の中南米を植民地として支配したのはスペインである。メキシコや南米諸国の多くでスペイン語が使われているのはその名残である。

**[問題]**

ブラジルでおもに使用されている言語は何か。

(2009 年岩手県)

**[解答欄]**

**[解答]**ポルトガル語

**[問題]**

ペルーではなぜスペイン語を話す人が多いのか、歴史的なつながりをもとに説明せよ。

(2006 年福井県)

**[解答欄]**

**[解答]**スペインの植民地だったから。

[問題]

次のア～エは、アメリカ合衆国、アルゼンチン、カナダ、ブラジルのいずれかの国について述べたものです。このうち、ブラジルについて述べているものはどれですか。1 つ選び、その記号を書きなさい。

- ア 英語が主に使われ 50 の州からなる連邦制の国である。近年は、ヒスパニックやアジア系の人々が増えている。
- イ 英語とフランス語が主に使われ、国旗のかえでの葉は複数民族の統合の象徴である。国内にはタイガが広がり、林業も盛んである。
- ウ ポルトガル語が主に使われカーニバルで有名なりオデジャネイロはこの国の南東部にある。近年は、労働者として日本に来る人々も多い。
- エ スペイン語が主に使われ、白人が大部分を占める。パンパと呼ばれる平原が広がり、西部の高くけわしいアンデス山脈は、隣国との国境になっている。

(2006 年岩手県)

[解答欄]

[解答]ウ

[解説]

アはアメリカ合衆国。イはカナダ、ウはブラジル。エはアルゼンチン

[問題]

右の略地図の  で示した国の首都名を、次から 1 つ選びなさい。


[キャンベラ サンティアゴ ウェリントン ブエノスアイレス]

(2007 年青森県)

[解答欄]

[解答]ブエノスアイレス

[解説]

 で示した国はアルゼンチンで、首都はブエノスアイレスである。



[問題]

今から約 500 年前、南米の都市クスコを首都として栄えていた、先住民の国の名称を書きなさい。

(2003 年山形県)

[解答欄]

[解答]インカ帝国



[問題]

アンデス地方を原産とするある農作物で、この地方の人々の主食となっており、現在は世界中で栽培され、人々の食生活に欠かせない重要な食料となっているこの農作物は何か、書きなさい。

(2003 年山形県)

[解答欄]

[解答]じゃがいも

[問題]

表を見て X 国の産業において、1982 年から 2006 年までにどのような変化があったと考えられるか、簡潔に書きなさい。また、その根拠を、表の輸出品名と数値を用いて書きなさい。

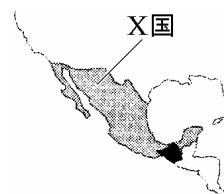
(2006 年秋田県)

[解答欄]

[解答]工業化が進んだと考えられる。(根拠)(例)機械類の輸出総額に占める割合が 2.2%から 37.8% になった。

統計修正：「日本国勢図会 2009/2010 年版」P358

X 国の輸出品		
	1982 年(%)	2006 年(%)
原油	74.4	機械類 37.8
石油ガス	2.3	自動車 15.8
機械類	2.2	原油 13.9
魚介類	2.2	精密機械 3.2
野菜	1.8	衣類 2.5
総額	210 億ドル	総額 2500 億ドル



## 【】ヨーロッパ連合 (EU)

### [問題]

2006 年現在、図中に●で示した国々が加盟している組織では、共通通貨を発行したり、人やものの移動を自由にするなどして、加盟国間の結びつきを強めている。この組織の名称は何か、書きなさい。  
(2007 年和歌山県)(2007 年新潟県)(2006 年栃木県)(2006 年山口県)



### [解答欄]

[解答]ヨーロッパ連合(欧州連合, EU)

### [解説]

1958 年に、フランス、旧西ドイツ、イタリア、ベネルクス三国(ベルギー、オランダ、ルクセンブルグ)の 6 国で結成された EEC(ヨーロッパ経済共同体)は、1967 年には、EC(ヨーロッパ共同体)となり、結束を強めた。1973 年には、EC にイギリス、アイルランド、デンマークの 3 国が加盟。1981 年にはギリシャ、1986 年にはスペインとポルトガルが加盟した。EC は 1992 年末までに市場統合を完成し、加盟国の中では、人(労働力、観光)、物(商品、サービス)、金(資本)が自由に移動できるようになった。

1993 年に EU(ヨーロッパ連合)が発足し、政治・経済・社会にわたり、より強くヨーロッパの統合をめざすこととなった。ヨーロッパ単一市場が発足し、単一通貨の名前をユーロと決定した。2002 年からユーロ紙幣とユーロ硬貨が 12 国で流通することになった。ユーロが導入されたことで巨大な共通通貨圏ができた。この通貨統合により、ユーロはアメリカのドルに対抗する力を持つことになった。また、交通の面でも、1994 年には、イギリスとフランスを結ぶ鉄道専用の海底トンネル(ユーロトンネル)が完成し、ヨーロッパ統合の象徴となった。2004 年に、ポーランド、チェコ、スロバキア、2007 年にルーマニアとブルガリアなど東ヨーロッパの国が加盟し、加盟国数は 27 ヶ国(2009 年現在)になった。これによって、EU 全体の人口は 4 億 9400 万人(2007 年)、GDP 合計は約 15.9 兆ドルになった。

EU のかかえる問題点としては、国や地域による経済的な格差が残っていることである。

統計：「日本国勢図会 2009/2010 年版」P41

### [問題]



右の旗は、ヨーロッパのある組織の旗を示している。この組織の名称を書け。  
(2006 年鹿児島県)



### [解答欄]

[解答]EU(ヨーロッパ連合)

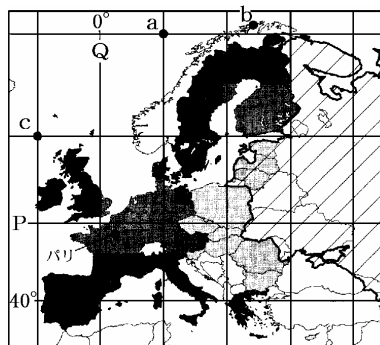
[問題]

右図の A , B  で示した国々は 2000 年以前に EU に加盟していた国々と、2001 年以降に加盟した国々を示している。2001 年以降に加盟した国々は A, B のどちらか、その符号を書きなさい。

(2008 年兵庫県)

[解答欄]

[解答]A



[問題]

EU(ヨーロッパ連合)が使用している共通の通貨の名を書きなさい。

(2007 年岐阜県)(2007 年福井県)(2007 年茨城県)

[解答欄]

[解答]ユーロ

[問題]

ユーロは、ヨーロッパの多くの国々の共通の通貨となっている。これらの国々が、共通の通貨を使用する目的を、簡潔に書きなさい。

(2005 年群馬県)

[解答欄]

[解答]EU 加盟国の経済的な結びつきを強めるため。

[問題]

ヨーロッパでは、ドイツをふくめ EU という組織をつくり、政治や経済の面でも結びつきを強めているが、それにあてはまらないものを次のア～エから 1 つ選び、記号で答えなさい。


- ア 貿易にかかる税が廃止されている。
- イ 共通通貨のユーロが発行されている。
- ウ 共通言語が使われている。
- エ 国境の通過が自由にできる。

(2007 年沖縄県)

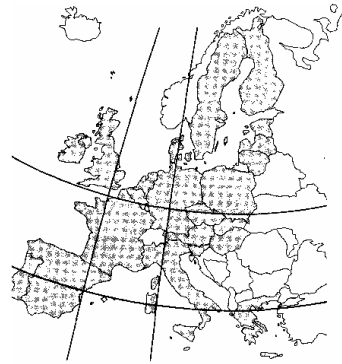
[解答欄]

[解答]ウ

[問題]

右の地図の  で表されている国々が加盟している国際組織を説明した文として、正しいものを、次のア～エの中から1つ選びなさい。

- ア 石油産出国の利益を守るため結成された。加盟国の石油の大幅な値上げにより石油危機がおきた。
- イ NGO として政治・信条などにかかわる人権問題に取り組んでいる。
- ウ 地域統合をめざして結成された。共通通貨をつくるなど、特に経済的な統合が進んでいる。
- エ 当初は東側陣営に対抗するため結成された。近年は旧ユーゴスラビアの紛争に介入した。



(2006年福島県)

[解答欄]

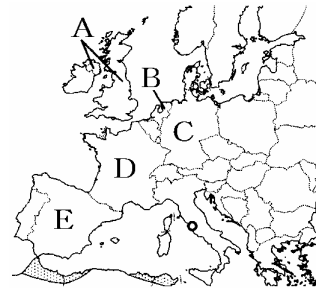
[解答]ウ

【】ヨーロッパ各国

[問題]

下の表は、わが国と図の A～E のいずれかの国の面積などを比較したものである。表中の( )に当てはまる国を、図の A～E から 1 つ選び、記号で答えなさい。

	面積 (万 km <sup>2</sup> )	総発電量 (億 kwh)	原子力による発電量 (億 kwh)	穀物自給率 (%)
日本	37.8	11,611	3,030	27
( )	55.2	5,745	4,504	173



(2006 年熊本県)

[解答欄]

[解答]D

[解説]

こくもつじききょうりつ穀物自給率が非常に高いことと原子力発電の依存度が高いことから D のフランスであることがわかる。フランスはヨーロッパ最大の農業国で、小麦等を輸出している。

統計修正：「日本国勢図会 2009/2010 年版」P135 , P142

[問題]

次のア～エのうち、右の略地図中に示した国について述べたものはどれか。1 つ選んで、その記号を書きなさい。

- ア ドイツとほぼ同じ民族構成で、国民の大多数はゲルマン民族である。
- イ ボルダーと呼ばれる干拓地が国土の 4 分の 1 を占めている。
- ウ 農業がさかんで、小麦の生産量はヨーロッパで最も多い。
- エ 外国人労働者が多く、トルコから最も多くの労働者を受け入れている。



(2004 年香川県)

[解答欄]

[解答]ウ

[解説]

アは誤り。フランスはラテン系が多い。イはオランダ。エはドイツ。

**[問題]**

アヴィニオンは、フランス南部に位置し、地中海に近い。ヨーロッパの交通のかなめであり、パリから南下してくる鉄道や高速道路はここで分かれ、西はスペインへ、東は（イタリア/ドイツ）へと通じている。また、この県の気候帯は大部分が（温帯/熱帯/亜寒帯）であり、主要な産業は農業である。特に農地の40%はワインのためのぶどう畑となっている。

(2007年栃木県)

**[解答欄]**

--	--

**[解答]** イタリア 温帯

**[問題]**

右図のA国の首都は、東京、ニューヨークとならぶ世界経済の中心地である。首都名を書きなさい。

(2008年福島県)

**[解答欄]**

--

**[解答]** ロンドン

**[解説]**

A国はイギリスである。



**[問題]**

次の文の内容に当てはまるぶどうの生産国を、あとの[ ]から一つ選びなさい。

わが国の北海道から東北地方に当たる地域とほぼ同じ緯度に位置するEUの加盟国である。この国の首都が位置する半島部ではぶどうの栽培がさかんである。2006年のぶどうの生産量は約830万トンであり、世界1位となっている。

[イギリス イタリア ドイツ ロシア]

(2009年大阪府)

**[解答欄]**

--

**[解答]** イタリア

[問題]

ローマ近郊をはじめ地中海沿岸地域では、この地域の気候を生かした農業が行われています。この地域で主に栽培される農作物として、最も適切なものを、次から1つ選びなさい。

[ジャガイモ カカオ オリーブ コーヒー]

(2005年宮城県)

[解答欄]

[解答]オリーブ

[解説]

地中海沿岸は温暖で夏に雨が少ないため、オリーブやぶどうなどの果樹栽培に適している。

[問題]

ローマには、右の資料に見られるようなサン=ピエトロ大聖堂を中心とした世界で最も面積の小さい国があるが、その国名を何というか、書きなさい。

(2006年三重県)(2006年熊本県)



[解答欄]

[解答]バチカン市国

[解説]

バチカン市国はイタリアの首都ローマの中にある世界最小の独立国。東京ドームの約10倍の広さで、人口約1000人。バチカンはカトリック教会の総本山であり、ローマ教皇庁が置かれている。

[問題]

1990年、東西に分かれていた国が統一されたが、その国を右図のA～Eの中から選びなさい。

(2006年鹿児島県)

[解答欄]

[解答]ア



[解説]

第二次世界大戦後、ドイツはアメリカがあとおしをする西ドイツと、旧ソ連があとおしをする東ドイツに分けられた。1989年にベルリンの壁が壊され、1990年に西ドイツが東ドイツを吸収する形で統一が成しとげられた。

[問題]

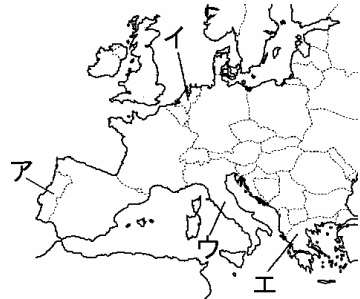
次の ~ からいずれか1つの国を選び、次の(1)、(2)に答えなさい。

イタリア オランダ ポルトガル ギリシャ

(1) あなたが選んだ国を、~ の記号で書きなさい。また、その国の位置を右の略地図のア~エから選びなさい。

(2) (1)で選んだ国を説明した文を、A~Dから選びなさい。

- A 大西洋に面した国で、この国の人が16世紀に鉄砲を日本に伝えた。
- B エーゲ海に面した国で、2004年に首都を中心にオリンピックが開催された。
- C 北海に面した国で、正式な国名には「低い土地」という意味がある。
- D 地中海に面した国で、首都の中にバチカン市国という独立国がある。



(2005年北海道)

[解答欄]

(1)			
(2)			

[解答](1) ウ イ ア エ (2) D C A B

[解説]

アはポルトガルで16世紀に鉄砲を日本に伝えた。イはオランダで北海に面した国。ポルダーと呼ばれる干拓地が広がっており、酪農がさかんである。正式な国名「ネーデルランド」には「低い土地」という意味がある。ウはイタリアで地中海に面した国で、首都の中にバチカン市国という独立国がある。エはギリシャでエーゲ海に面した国で、2004年に首都を中心にオリンピックが開催された。

**[問題]**

オランダは、ポルダーと呼ばれる干拓地が広がっており、チーズやバターなどの乳製品を生産するために、乳牛を飼う農業がさかんである。このような農業を何というか、書きなさい。

(2003年青森県)

**[解答欄]**

**[解答]**酪農

**[問題]**

フランス、ドイツのそれぞれにおいて、半数以上の国民が信仰している宗教を、次の[ ]から一つ選びなさい。

[仏教 イスラム教 ヒンドゥー教 キリスト教]

(2009年山口県)

**[解答欄]**

**[解答]**キリスト教

【】ロシア

[問題]

- ・モスクワは東京より( )にあるため、東京と比べて日の光が弱く、冬は昼の時間が短い。
- ・シベリアは冷帯(亜寒帯)にあるため、北海道に見られるような( )の森林帯が広がっている。

(2009 年群馬県)

[解答欄]

--	--

[解答] 高緯度 針葉樹

[解説]

1917 年のロシア革命によってソビエト社会主義共和国連邦(ソ連)が成立した。社会主義体制のソ連ではすべての産業が国有で、計画経済が行われていた。しかし、競争のない経済は停滞し、つねに物不足の状態が続いた。1991 年にソ連は解体し、15 の国に分裂した。ロシアはそのうちの最大の国である。

ロシア(首都はモスクワ)は、世界で最も面積が大きい国で、日本の約 45 倍の大きさである。人口は 1 億 4200 万人(2007 年)である。国土のほとんどが亜寒帯に属し、北にはツンドラやタイガ(針葉樹林帯)が広がっている。

[問題]

次の A~D は、それぞれインド、ベトナム、モンゴル、ロシアのいずれかを示している。ロシアは A~D のうちのどれか。

- A この国は、世界で最も面積が大きい国で、日本の 50 倍近くになる。社会主義の国が 1991 年に解体して、独立した国々の 1 つである。
- B この国を建設した民族は、13 世紀にアジアからヨーロッパにかかる大帝国を築いた。13 世紀から 14 世紀にかけて中国も支配した。
- C この国は、1954 年以降、南北に分かれていた。アメリカの介入で戦争が激しくなったが、やがて 1976 年に統一された。
- D この国のある地域において、紀元前に、シャカによって仏教が開かれた。一時イギリスに支配されたが、20 世紀に独立した。

(2006 年愛知県)

[解答欄]

--

[解答]A

[解説] A はロシア。B はモンゴル。C はベトナム。D はインド。

[問題]

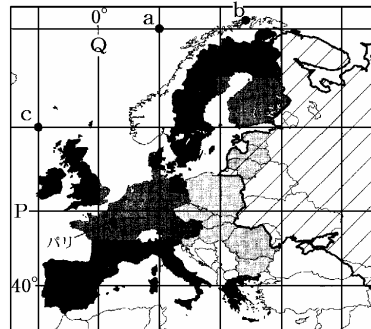
右図の  の部分は、かつて1つの国を構成していた。

1991年に解体したこの国の名を書きなさい。

(2008年兵庫県)

[解答欄]

[解答]ソ連



[問題]

ロシアの黒色土地帯で栽培されている主な農産物を、次から選びなさい。

[米 小麦 パナナ コーヒー]

(2009年群馬県)

[解答欄]

[解答]小麦

[問題]

右の表の ~ は、それぞれインド、ベトナム、モンゴル、ロシアのいずれかを示している。は何という国か。

(2006年愛知県)

[解答欄]

[解答]ロシア

[解説] インド、ベトナム、モンゴル、ロシアの中で人口が1億人をこえるのはインドとロシア。インドの人口は10億人をこえるので がインド、 がロシアと判断できる。気温から、 はベトナム、 はモンゴルと判断できる。

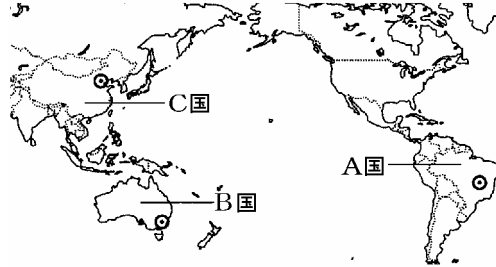
国名	人口(千人)	首都の年間平均気温( )	首都の年間降水量(mm)
~	1,065,462	25.0	779.1
~	143,246	5.3	705.3
~	81,377	23.5	1,704.1
~	2,594	- 1.3	281.8

【】各国の比較：特色

[問題]

O, P, Q の3人は地図にあるA~C国のいずれかの出身です。

Oさん：わたしの国は、( )大陸に位置し、  
人口が世界一多い国です。農業がさか  
んで、米や小麦の生産量は世界一です。  
また、近年外国から多くの企業が進出  
しています。



Pさん：東京を通っている経線がわたしの国を  
通っています。日本はわたしの国から  
小麦や肉類を多く輸入しています。

Qさん：日本は、南アメリカ大陸にあるぼくの国からも肉類を輸入しています。ぼくの国に日本  
から移民が来て、2008年で100年になりました。

- (1) 文中の( )に適語を入れなさい。
- (2) Oさん, Qさんの出身国名をそれぞれ書きなさい。

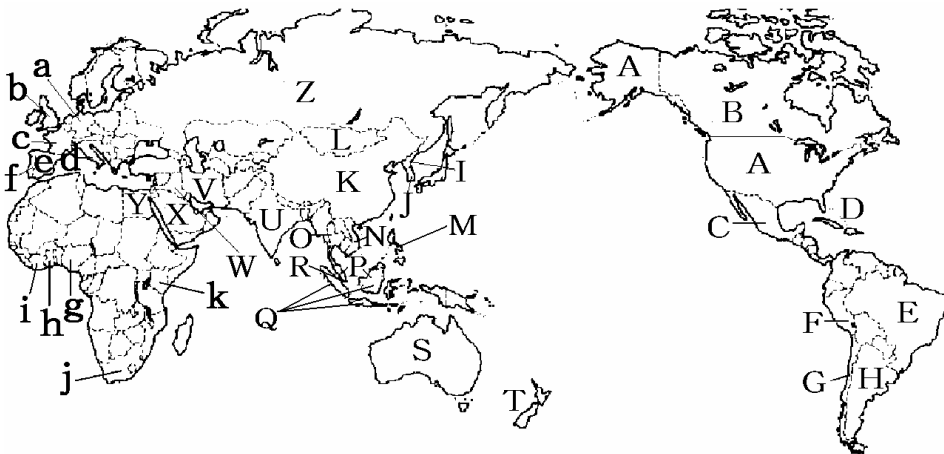
(2009年長野県)

[解答欄]

(1)	(2)O	Q
-----	------	---

[解答](1) ユーラシア (2)O：中国 Q：ブラジル

[解説]



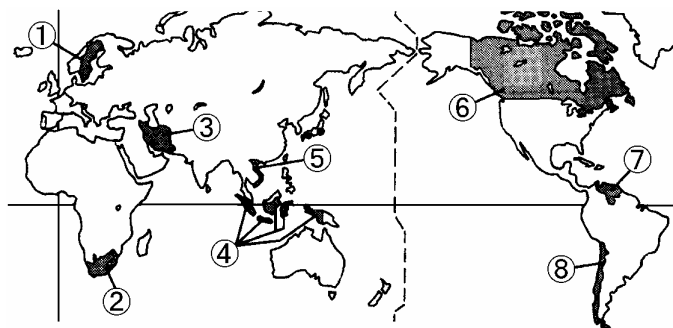
A アメリカ合衆国：政治・経済・文化などで世界の中心国。この国の国名は、この大陸を探検したアメリゴ・ベスピッチからきている。ニューヨークにある自由の女神像、ディズニーランド、ハワイ、グランドキャニオン、ナイアガラの滝で有名。

- B カナダ：世界で2番目に面積の大きい国。アメリカ合衆国との国境線は直線。国旗にはかえでの葉が描かれている。
- C メキシコ：500年前にアステカ帝国が栄えていた国。
- D キューバ："シュガー・アイランド"のニックネームを持つこの国は、国土の大部分でさとうきびの栽培がさかんである。バレーボールや野球など、スポーツも強い。
- E ブラジル：リオデジャネイロのカーニバル。日系人が多い。日本はこの国から鉄鉱石を輸入。
- F ペルー：国土の中央をアンデス山脈が連なる。マチュピチュなど古代インカ帝国の遺跡がある。
- G チリ：海岸線が複雑で南北に細長い国、日本からみて、地球の裏側になる。
- H アルゼンチン：日本のほぼ裏側に位置するこの国は、日本の約7倍の面積を有し、農業がさかんである。ブラジルとならぶサッカーの強豪としても有名である。
- I 北朝鮮：社会主義国。日本人拉致事件、ミサイル・核開発で国際社会で問題を起こしている。
- J 大韓民国：九州から最も短い時間で行ける外国。NIESのひとつ。
- K 中華人民共和国：人口が13億人と世界で1番多い。万里の長城。
- L モンゴル：内陸国。国土の80%が草原で、遊牧が盛ん。ゲルという移動式のテント。
- M フィリピン：かつてアメリカの植民地だった国で、キリスト教国である。サトウキビやバナナのプランテーションがある。日本が輸入するバナナの7割以上はフィリピンからのものである。
- N ベトナム：東南アジアの国で、南北に細長い国土をもつ。南北に分かれていたが、内戦の後統一された。
- O タイ：ゾウの鼻のような形をしている。東南アジア最大の米の輸出国でもある。仏教国。東南アジアの中で、ただ一つ欧米の植民地にされなかった国で、古くは「シャム」とよばれ、日本とは深い交流の歴史をもっている。
- P マレーシア：この国は、マハティール首相によって近年きわめて積極的なルックイースト策がとられ、急速に近代化している。
- Q インドネシア：アジアの中で赤道が通過している島国。人口は2億人をこえる。日本へは石油や天然ガスを輸出。
- R シンガポール：マレー半島の先端にある島国で、面積は淡路島とほぼ同じ。貿易を中心に経済発展を続けている。
- S オーストラリア：コアラやカンガルーのいる国。日本の真南にあって、約20倍の面積を持ち、大陸全体が一つの国になっている。鉄鉱石・石炭・羊毛などを日本へ輸出している。
- T ニューージーランド：キャプテン・クックが探検したこの国は、温和な気候に恵まれ、北島・南島を中心とした島国である。面積は日本の2/3ほどだが、羊毛の生産では世界第2位である。
- U インド：人口は世界第二位。ヒンドゥー教の国で、牛を神聖な動物とし、決して牛肉は食べない。タージマハルという大変美しい建物がある。多くの香辛料を使ったカレーが有名。この国の女性は「サリー」とよばれる衣装を身につけている。ガンジス川。

- V イラン：この国では、女性は外出するときチャドルという黒い布ではだをおおう。ナンとよばれるパン。
- W イラク：メソポタミア文明の発祥地として、古い歴史をほこるこの国は、独裁者のフセイン政権が打倒され、民主的な国家づくりにはげみ、新しい歩みを続けている。
- X サウジアラビア：イスラム教の聖地メッカがあるこの国は、国土の大部分がさばくにおおわれ、厳しい自然条件にあるが、世界一の石油産出量をほこる西アジア最大の国である。
- Y エジプト：ピラミッドで有名。四角い形をした国で、国境が直線になっている。ナイル川、首都はカイロ。
- Z ロシア連邦：面積が世界最大。11 もの地方時間があり、国のはしとはしとでは時間のずれが10時間にもなる。
- a ドイツ：1990年に東西ドイツが合併した。ヨーロッパ最大の工業国である。面積は、ほぼ日本と同じで、ライン川がゆったりと流れている。この国の国民はビールが大好きである。
- b イギリス：世界で最も早く産業革命の起こった国。国旗がユニオンジャックと呼ばれ、サッカーの発祥地、日本と同じ島国。イングランド、スコットランド、北アイルランドからなる「連合王国」。
- c フランス：かつてこの地方にあったフランク王国から国名がきている。ヨーロッパ最大の農業国。首都のパリには凱旋門(位置：48.8736, 2.2950)などがあり、世界各地からの観光客が多い。
- d イタリア：長くつのような形をした国。首都ローマにはコロシウム(位置：41.8902, 12.4923)などの遺跡が多い。
- e スペイン：バルセロナのサグラダ・ファミリア、闘牛、フラメンコ。15世紀にコロンブスを援助して新航路を開拓したことで知られている。
- f ポルトガル：日本人が初めて接したヨーロッパ人は、この国の人で、彼らが持ち込んだ鉄砲は、当時の日本社会に大きな影響を与えた。ブラジルを植民地としていた歴史がある。
- g ナイジェリア：アフリカで最も人口の多い国。この国の海岸は「どれい海岸」とよばれアフリカの悲しい歴史を物語っている。石油を産出するこの国は、「ブラック・アフリカ」の中では、豊かな国の一つである。
- h ガーナ：野口英世は、この国で黄熱病の研究に取り組み、その生涯をささげた。野口英世の銅像がたつこの国は、カカオ豆の生産でも有名である。
- i コートジボアール：カカオ豆の生産が世界一。
- j 南アフリカ共和国：金やダイヤモンドを産出。かつて「アパルトヘイト」という人種差別政策をとっていた。
- k ケニア：多くの野生動物がすむ赤道直下の国。

**[問題]**

次のア～エの文は、地図の～のいずれかの国について述べたものである。ア～エから2つを選んでその符号を書き、選んだ文に当てはまるそれぞれの国の位置を～から選んで、その番号を書きなさい。また、その国名を書きなさい。



- ア 太平洋に面した国で、日本と季節が逆になる。
- イ 北緯 20 度から北緯 45 度の間に位置する国で、日本に石油を多く輸出している。
- ウ ユーラシア大陸の国で、人口の高齢化が最も進んでいる国の 1 つである。
- エ 東南アジアの国で、国民の約 9 割がイスラム教徒である。

(2005 年石川県)

**[解答欄]**

ア	イ	ウ	エ
---	---	---	---

[解答]ア： ,チリ イ： ,イラン ウ： ,スウェーデン エ： ,インドネシア

**[解説]**

はスウェーデン, は南アフリカ共和国, はイラン, はインドネシア, はベトナム, はカナダ, はベネズエラ, はチリ。

ア：日本と季節が逆になることから南半球の国。南半球にある と のうち、太平洋に面しているのは のチリである。

イ：北緯 20 度から北緯 45 度の間に位置する国は のイラン。日本の石油の輸入先は、ペルシア湾に面した国で、2008 年実績は、サウジアラビア(29%)・アラブ首長国連邦しゅうちょうこくれんぽう(24%)・イラン(12%)・カタール(11%)・クウェート(8%)の順である。

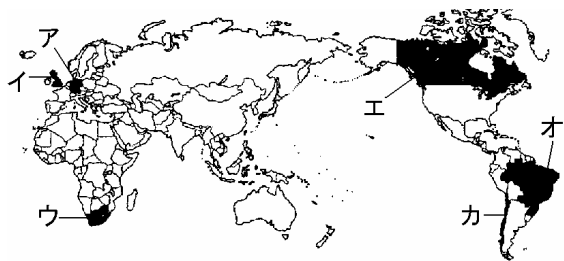
(統計出典)「日本国勢図会 2009/10」P119

ウ：ユーラシア大陸にあるのは , , であるが、人口の高齢化こうれいかが最も進んでいるのは先進国の特徴なので、 のスウェーデンが適する。

エ：東南アジアにあるのは と 。このうち国民の約 9 割がイスラム教徒なのは のインドネシア。 のベトナムは仏教徒が多い。

[問題]

次の(1), (2)の文にあてはまる国を, 地図のア~カからそれぞれ選び, その記号を書きなさい。また, その国名を書きなさい。



(1) 東京より高緯度に位置し, 第二次世界大戦後 2 つの国に分断されていたが, 1990 年に統一された。

(2) 大西洋に面し, アンデス山脈から流れる川の周囲には世界有数の森林地帯がある。

(2009 年石川県)

[解答欄]

(1)	(2)
-----	-----

[解答](1) ア, ドイツ (2) オ, ブラジル

[解説]

アはドイツ, イはイギリス, ウは南アフリカ共和国, エはカナダ, オはブラジル, カはチリ。

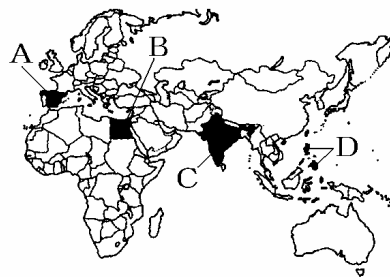
[問題]

略地図の A~D からいずれか一つの国を選び, 次の(1), (2)に答えなさい。

(1) あなたが選んだ国を, A~D の記号で書きなさい。

また, その国の首都の名を書きなさい。

(2) 次の文のア~エは, 略地図の A~D の国のいずれかを説明したものです。あなたが(1)で選んだ国について説明した文を, ア~エから選びなさい。



ア 大西洋に面したこの国は, 15 世紀にコロンブスを援助して新航路を開拓したことで知られている。

イ 多くの人々がヒンドゥー教を信仰しているこの国は, 現在世界の国々の中で 2 番目に人口が多い。

ウ ASEAN に加盟しているこの国は, 近年日本が輸入するバナナの 7 割以上を日本に輸出している。

エ ナイル川が流れているこの国は, 世界遺産に登録されたピラミッドがあることで知られている。

(2009 年北海道)

**[解答欄]**

(1)A	B	C	D
(2)A	B	C	D

**[解答]**(1)A マドリード B カイロ C ニューデリー D マニラ (2)A ア B エ C イ D ウ

**[解説]**

アは A のスペインで首都はマドリード，イは C のインドで首都はニューデリー，ウは D のフィリピンで首都はマニラ，エは B のエジプトで首都はカイロ。

**[問題]**

表の 4 つの国のうち国土面積が一番大きい国を 1 つ選んで書け。



(2007 年福井県)

**[解答欄]**


**[解答]**ブラジル

**[解説]**

国土の面積が大きい国を順に並べると，ロシア，カナダ，中国，アメリカ，ブラジル，オーストラリアである。したがって，この中ではブラジルの面積が一番大きい。

**[問題]**

写真ア～ウは，それぞれ，エジプト，アメリカ，ブラジルのうちのどこのものか。



(2007 年山梨県)

**[解答欄]**

ア	イ	ウ
---	---	---

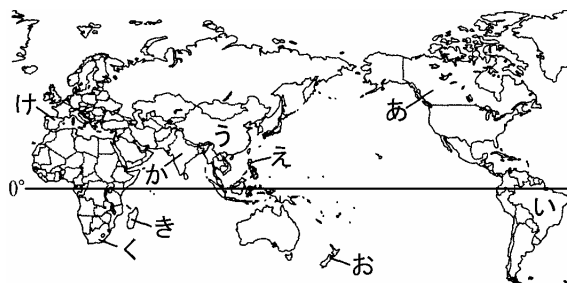
**[解答]**ア アメリカ イ ブラジル ウ エジプト

[問題]

次の A、B の国を地図のあ～けから選んで記号を書きなさい。また、その国名を書きなさい。

A：気候帯は熱帯で、環太平洋造山帯に属している国である。

B：日本が冬の季節には夏になり、日本より早く新年を迎える国である。



(2006 年長野県)

[解答欄]

A	B
---	---

[解答] A え, フィリピン B お, ニューゼーランド

[解説]

「あ」はカナダ, 「い」はブラジル, 「う」は中国, 「え」はフィリピン, 「お」はニューゼーランド, 「か」はインド, 「き」はマダガスカル, 「く」は南アフリカ共和国, 「け」はスペイン。

A：赤道直下の熱帯にあるのは「き」「え」「い」だが、太平洋をとりまく環太平洋造山帯に位置するのは「え」のフィリピンである。

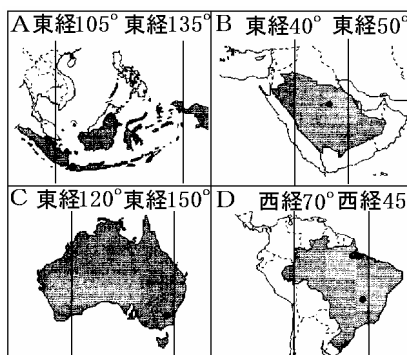
B：日本と季節が反対なので南半球の国。日本より早く新年を迎えることから日本より東で、太平洋の真ん中を通る日付変更線より西に位置する。この条件を満たすのは「お」のニューゼーランドである。

[問題]

次の文は、ある生徒が日本の日時に 8 月 2 日の午前 8 時に、A、B、C、D の略地図中に示された 4 国のいずれかの国の首都に住む友人から受けた国際電話の内容の一部である。この国際電話を受けたときの、友人の住む国の首都の日時として最も適当なものを、下のアからカまでの中から選んで、そのかな符号を書け。

「この国は日本よりも人口が多く、日本に鉄鉱石やコーヒーを輸出していることで有名だね。」

- ア 8 月 1 日の午後 8 時    イ 8 月 1 日の午後 11 時
- ウ 8 月 2 日の午前 8 時    エ 8 月 2 日の午前 11 時
- オ 8 月 2 日の午後 8 時    カ 8 月 2 日の午後 11 時



(2007年愛知県)

[解答欄]

[解答]ア

[解説]

日本の人口(約1億2800万人)より多いのは、Aのインドネシア(2億2500万人)とDのブラジル(1億8900万人)である。このうち日本に鉄鉱石てつこうせきやコーヒーを輸出しているのはDのブラジルである。日本は東経135度で西経45度のブラジルとは $135 + 45 = 180$ 度の経度差があり、時差は、 $180(\text{度}) \div 15(\text{度}) = 12$ 時間である。ブラジルは日本から見て西にあるので、8月2日の午前8時から12時間マイナスして8月1日の午後8時。

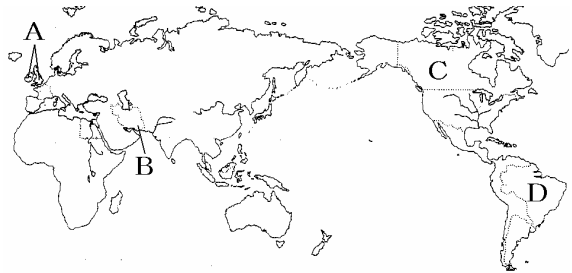
(統計出典)(2007年人口)「日本国勢図会 2009/10」P32～36

【】各国の比較：統計による比較

[問題]

次の表のア～エは、略地図の A～D の国のいずれかに当てはまります。また、表の中の数字は、各項目についてア～エの国を比較し、値の大きい順にそれぞれつけた順位です。ア～エからいずれか1つの国を選び、その国の名を書きなさい。また、その国の位置を略地図の A～D から選びなさい。

国	第三次産業人口の割合	国土面積に占める森林面積の割合	原油の輸出量	小麦の生産量
ア	3	1	4	4
イ	4	4	1	3
ウ	2	3	2	2
エ	1	2	3	1



(2007年北海道)

[解答欄]

ア	イ	ウ	エ
---	---	---	---

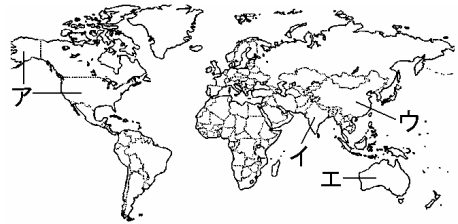
[解答]ア ブラジル・D イ イラン・B ウ イギリス・A エ カナダ・C

[解説]

A はイギリス、B はイラン、C はカナダ、D はブラジルである。このうち小麦の生産量が多きも多きのはカナダなので、エはC のカナダである。A、B、D のうち、原油の輸出量が多きのは、ペルシャ湾沿岸のB のイランと ほっかいゆでん 北海油田の発見により石油輸出国になったA のイギリスである。このうち、第三次産業人口の割合の高きウがイギリスと考えられる。したがって、イはイランである。残りのアは、赤道直下のアマゾン川流域のジャングルがあつて、国土面積に占める森林面積の割合が高きブラジルである。

[問題]

下の表は、地図中のア～エの国について面積、人口、首都、主な宗教、特徴をまとめたものである。表中 A～D の国は、地図中のア～エの国のいずれかを表している。次の各問いに答えなさい。



	A	B	C	D
面積	774 万 km <sup>2</sup>	936 万 km <sup>2</sup>	329 万 km <sup>2</sup>	960 万 km <sup>2</sup>
人口	2102 万人	2 億 9940 万人	11 億 3402 万人	13 億 2129 万人
首都	キャンベラ	ワシントン	ニューデリー	ペキン
主な宗教	キリスト教	キリスト教	ヒンドゥー教 イスラム教	儒教・仏教
特徴	カンガルーやコアラなど、珍しい動物が入る。	X	世界第 2 位の人口を抱えている	2008 年に首都でオリンピックが開催される

- (1) 表中 A の国の位置として正しいものを、地図中のア～エの中から 1 つ選び、記号を書きなさい。
- (2) 表中 X の欄に当てはまる B の国の特徴を正しく説明したものを、次のア～エの中から 1 つ選び、記号を書きなさい。

- ア 世界一の原油の産出国で、その多くを日本に輸出している。
- イ 世界の政治・経済の中心となる国で、国際連合の本部がある。
- ウ 古代文明がおこった国で、ピラミッドなどの遺跡がある。
- エ 広大な国土を有する国で、ほとんどが亜寒帯に属している。

(2006 年佐賀県)

[解答欄]

(1)	(2)
-----	-----

[解答](1) エ (2) イ

[解説]

A はエのオーストラリア、B はアのアメリカ、C はイのインド、D はウの中国である。世界の政治・経済の中心となる国で、国際連合の本部があるのはアメリカである。

世界で人口上位 5 か国のおよその人口は覚えておいたほうがよい。

人口の多い順に、1)中国(13 億人)、2)インド(11 億人)、3)アメリカ(3 億人)、4)インドネシア(2.2 億人)、5)ブラジル(1.9 億人) である。(2007 年) 日本は 10 位で約 1.3 億人である。

統計修正：「日本国勢図会 2009/10」P32～36

**[問題]**

わが国においては、1970年代以降に乗用車が急速に普及した。次の表は、日本、アメリカ合衆国、インド、韓国、フランスについて、2003(平成15)年の乗用車の保有台数と人口及び1970(昭和45)年から2000(平成12)年までの乗用車1台当たりの人口の10年ごとの推移を示したものである。韓国に当たるものを表中のア～エから1つ選び、記号を書きなさい。

国名	2003年		乗用車1台あたりの人口(人)			
	乗用車の保有台数(万台)	人口(万人)	1970年	1980年	1990年	2000年
ア	13,592	29,404	1.9	1.8	1.8	2.1
日本	5,521	12,765	6.0	4.9	3.6	2.4
イ	2,956	6,014	3.5	2.8	2.4	2.1
ウ	1,028	4,770	248.4	157.1	20.8	5.9
エ	667	106,546	859.8	703.4	349.2	213.1

(2007年大阪府)

**[解答欄]**

**[解答]ウ**

**[解説]**

世界の国で人口が2億人をこえるのは、中国(13億人)、インド(11億人)、アメリカ(3億人)、インドネシア(2.2億人)である。したがって、エはインド、アはアメリカとわかる。残りのイとウはフランスか韓国である。韓国が急速な発展をとげたのは近年であるので、乗用車1台あたりの人口が急速に少なくなっているウが韓国であると判断できる。

**[印刷 / 他の PDF ファイルについて]**

このファイルは、FdData 入試社会(15,000 円)の一部を PDF 形式に変換したサンプルで、印刷はできないようになっています。製品版の FdData 入試社会は Word(または一太郎)の文書ファイルで、印刷・編集を自由に行うことができます。

FdData 入試社会・入試理科全分野の PDF ファイル、FdData 中間期末(社会・理科・数学)全分野の PDF ファイル、および製品版の購入方法は<http://www.fdtype.com/dan/> に掲載しております。

下図のような、[FdData 無料閲覧ソフト(RunFdData)]を、Windows のデスクトップ上にインストールすれば、FdData 中間期末・FdData 入試の全 PDF ファイル(各教科約 1500 ページ)を自由に閲覧できます。次のリンクを左クリックするとインストールが開始されます。

RunFdData(Word 版) 【 <http://www.fdtype.com/lnk/instRunFdDataWDs.exe> 】

RunFdData(一太郎版) 【 <http://www.fdtype.com/lnk/instRunFdDataTAs.exe> 】

ダイアログが表示されたら、【実行】ボタンを左クリックしてください。インストール中、いくつかの警告が出ますが、[実行][許可する][次へ]等を選択します。

**【イメージ画像】**



**【Fd教材開発 : URL <http://www.fdtype.com/dan/> Tel (092) 404-2266】**