

【FdData 高校入試：中学社会地理：ヨーロッパ州】

[\[国名・地形／気候／民族・宗教など／農業／EUの発足／EUの統合と人々の生活／EU内の経済格差の問題／ヨーロッパ各国／ロシア／FdData入試製品版のご案内\]](#)

[\[FdData入試ホームページ\]](#)掲載の pdf ファイル(サンプル)一覧

※次のリンクは[Shift]キーをおしながら左クリックすると、新規ウィンドウが開きます

社会：[\[社会地理\]](#)，[\[社会歴史\]](#)，[\[社会公民\]](#)

理科：[\[理科1年\]](#)，[\[理科2年\]](#)，[\[理科3年\]](#)

数学：[\[数学1年\]](#)，[\[数学2年\]](#)，[\[数学3年\]](#)

※全内容を掲載しておりますが、印刷はできないように設定しております

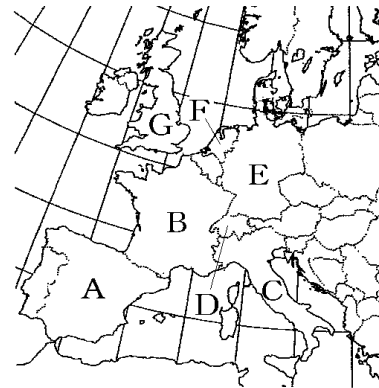
【】 国名・地形

[国名]

[問題]

右の地図について、次の各問いに答えよ。

- (1) A～G の国名を書け。
(2) B, C, E, G の首都の名前を答えよ。
(補充問題)



[解答欄]

(1)A	B	C	D
E	F	G	(2)B
C	E	G	

[解答](1)A スペイン B フランス C イタリア D スイス E ドイツ F オランダ
G イギリス (2)B パリ C ローマ E ベルリン G ロンドン

※入試出題頻度：この単元はときどき出題される。

[地形]

[問題]

右の略地図の○付近には、氷河の侵食でつくられた谷に海水が入り込んでできた、細長く奥行きのある湾が見られる。この地形を何というか。



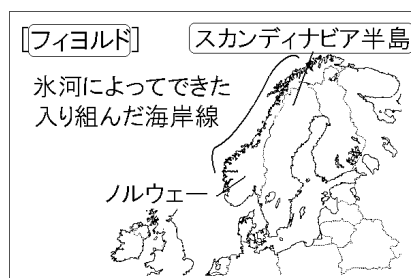
(青森県)

[解答欄]

[解答]フィヨルド

[解説]

スカンディナビア半島西部のノルウェーの沿岸部は入りくんだ地形になっている。これは氷河によってけずられた谷の奥深くまで海水が入りこんでできた複雑な海岸線である。このような地形をフィヨルドという。



※入試出題頻度：「フィヨルド◎」「氷河○」

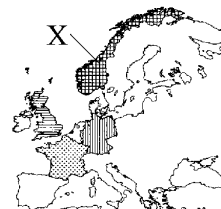
「スカンディナビア半島○」「ノルウェー△」

(頻度記号：◎(特に出題頻度が高い)，○(出題頻度が高い)，△(ときどき出題される))

[問題]

次の文中の①に当てはまる国名。②に当てはまる語を書け。

右図のXで示した(①)の沿岸で見られる、氷河によってつくられた複雑な地形を(②)という。



(熊本県)

[解答欄]

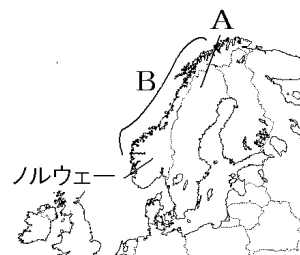
①	②
---	---

[解答]① ノルウェー ② フィヨルド

[問題]

次の各問いに答えよ。

- (1) 右図のAの半島名を答えよ。
 - (2) Aの半島の海岸線Bに見られる複雑な海岸地形のことを何というか、カタカナで答えよ。
 - (3) (2)は何によって削られてできた地形か。漢字2字で答えよ。
- (北海道・福井県)



[解答欄]

(1)	(2)	(3)
-----	-----	-----

[解答](1) スカンディナビア半島 (2) フィヨルド (3) 氷河

[問題]

次のア～エのうち、フィヨルドの特徴を述べているものはどれか。1つ選べ。

ア 河川が運んできた細かい砂や泥が堆積している。

イ 山地が海に沈むことで、出入りの多い海岸線となっている。

ウ 氷河によって削られた広く深い谷に、海水が浸入している。

エ 浅い海底が隆起してできた地形で、長い砂浜がなめらかに続いている。

(岩手県)

[解答欄]

[解答]ウ

[解説]

アは三角州、イはリアス海岸、ウはフィヨルド、エは砂浜海岸である。

[問題]

ノルウェーの沿岸部では、フィヨルドと呼ばれる奥行きのある湾が見られる。この湾はどのようにしてつくられたか、書け。

(石川県)

[解答欄]

[解答]氷河によって削られた谷の奥深くまで海水が入り込んでできた。

[問題]

ノルウェーについて述べた次の文中の①、②の()内からそれぞれ適語を選べ。

この国の西岸には、①(川／氷河)によって削られた奥深い湾が連続する海岸線がみられる。また、緯度の高い地域では、②(夏／冬)には白夜となる時期がある。

(新潟県)

[解答欄]

①	②
---	---

【解答】① 氷河 ② 夏

【解説】

北極圏の北緯 66.6 度より北では、夏至を中心とした期間にまったく太陽がしずまなくなる。北極圏に近い地域もふくめて、夜でも完全に暗くはならない現象が起こる。これを**白夜**という。一方で、冬至を中心とした期間では、まったく太陽がのぼらなくなり、昼でも薄暗い現象が起こる。これを**極夜**という。南極圏は北極圏と季節が逆だが、同じ現象が起こる。
※入試出題頻度：「白夜(高緯度・夏)△」

【問題】

右図の X で示した町では、夏になると、太陽が一日中沈まなかったり、沈んでも暗くならなかったりする時期がある。太陽が沈んでも暗くならない現象のことを何というか、その名称を漢字で書け。



(三重県)

【解答欄】

【解答】白夜

【問題】

右の地図中の(A)山脈からヒマラヤ山脈にのびる造山帯は、(A)・ヒマラヤ造山帯と呼ばれる。Aにあてはまる適当な言葉を書け。



(愛媛県)

【解答欄】

【解答】アルプス

【解説】

アルプス山脈はスイスとイタリアの国境に位置している。ライン川はアルプス山脈に源を發し、ドイツなど 6 か国を通過しており、ヨーロッパの水上交通の大動脈になっている。ライン川のように複数の国をまたがって流れる川を**国際河川**という。ドナウ川も国際河川である。
※入試出題頻度：「アルプス山脈◎」「ライン川◎」

「ドナウ川○」「国際河川◎」



[問題]

右の地図の X は国際河川であり，その一部はドイツとフランスの国境としても利用されている。この河川の名称を書け。

(佐賀県)



[解答欄]

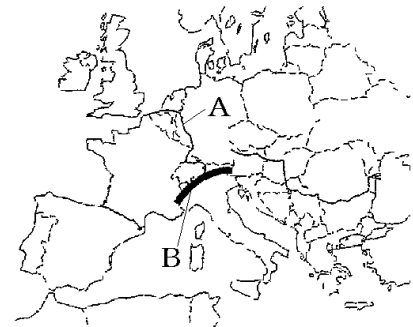
[解答]ライン川

[問題]

右の地図を見て各問いに答えよ。

- (1) 右図の A の川の名前を答えよ。
- (2) A のように複数の国を流れる川を何というか。
- (3) B の山脈の名前を答えよ。

(補充問題)



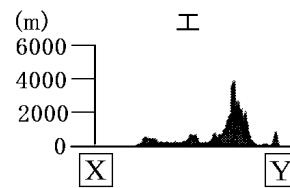
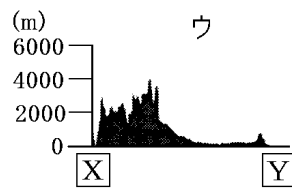
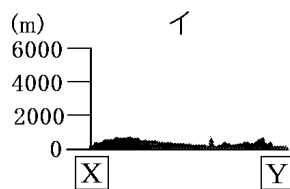
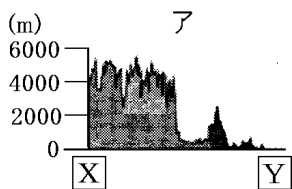
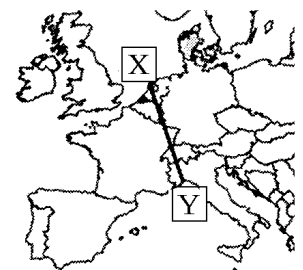
[解答欄]

(1)	(2)	(3)
-----	-----	-----

[解答](1) ライン川 (2) 国際河川 (3) アルプス山脈

[問題]

右の略地図に示した X-Y 間の断面図はどれか，次のア～エから最も適当なものを 1 つ選び，その記号を書け。



(三重県)

[解答欄]

[解答]エ

[解説]

Y の方にアルプス山脈があるので，X-Y 間の断面図はエのようになる。

【】 気候

[気候：高緯度のわりに温暖な理由]

[問題]

次の文章は、イギリスの気候について述べている。文章中の①，②に入る適当な語句を①は漢字 4 文字，②漢字 2 文字でそれぞれ答えよ。

イギリスは日本に比べて高緯度に位置しているが，気候は温暖である。その理由は，暖流の(①)海流と(②)風が寒さをやわらげているからである。

(沖縄県)

[解答欄]

①	②
---	---

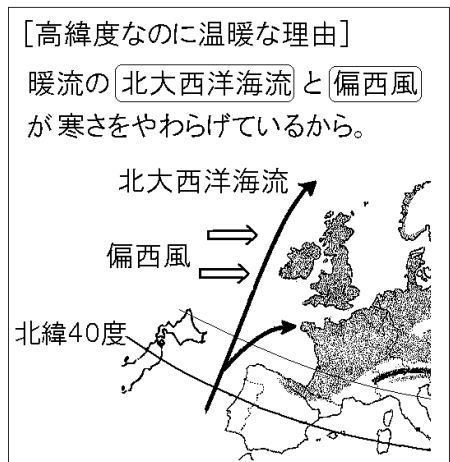
[解答]① 北大西洋 ② 偏西

[解説]

秋田県のおおがたむらの上を通る北緯40度の緯線は，ヨーロッパでは地中海の上を通っている。右図からわかるように，フランス南部は北海道と同じ緯度にあり，イギリスはさらにその北にある。(北海道は冷帯であるが，フランスやイギリスは温帯である)

このように，ヨーロッパは緯度が高い割には温暖であるが，それは海流と風が原因になっている。大西洋を南から北に流れる暖流の北大西洋海流の上を，1年中，西から吹いてくる偏西風が海流に暖められた空気を運んでくるので，高緯度にもかかわらず暖かい。すなわち，暖流の北大西洋海流と偏西風が寒さをやわらげているのである。

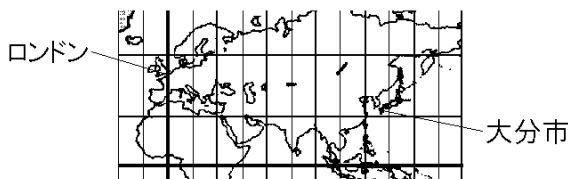
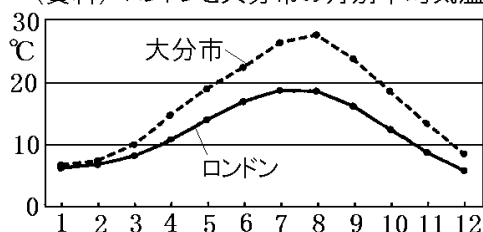
※入試出題頻度：「北大西洋海流(暖流)◎」「偏西風◎」「暖流の北大西洋海流と偏西風が寒さをやわらげているから○」「北緯 40 度(図)△」



[問題]

次の資料は、イギリスの首都ロンドンと大分市の月別平均気温を示したものである。次の文中の①～③に当てはまる語句をあとの[]からそれぞれ1つずつ選べ。

(資料) ロンドンと大分市の月別平均気温



略地図から、ロンドンは大分市より(①)に位置している。ところが、資料から、1月の平均気温が大分市とほぼ同じであることがわかる。理由は、ロンドンの沖合を流れる(②)である北大西洋海流と、(③)の影響を受けるからである。

[低緯度 高緯度 暖流 寒流 偏西風 季節風]

(大分県)

[解答欄]

①	②	③
---	---	---

[解答]① 高緯度 ② 暖流 ③ 偏西風

[問題]

ヨーロッパの大西洋沿岸地域に広くみられる西岸海洋性気候は、気温と降水量の変化が小さく、緯度が高いにもかかわらず温暖であるという特徴がある。その理由を説明せよ。

(熊本県)

[解答欄]

[解答]暖流の北大西洋海流と偏西風が寒さをやわらげているから。

[問題]

パリは札幌よりも北にあるのに暖かいが、このような気候をもたらす要因の一つに海流がある。その海流の向きを右の略地図中のA、Bから選べ。

(岩手県)

[解答欄]



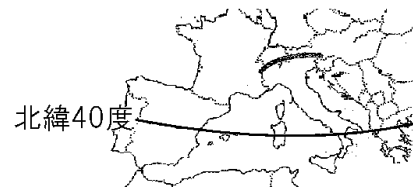
[解答]B

[問題]

右の地図中の北緯 40 度線の最も近くに位置している日本の都市を次の[]より 1 つ選べ。

[札幌市 秋田市 仙台市 新潟市]

(沖縄県)



[解答欄]

[解答]秋田市

[解説]

東北地方の秋田県の大潟村の上を通る北緯 40 度の緯線は、ヨーロッパでは地中海の上を通っている。フランス南部は北海道と同緯度にあり、イギリスはさらにその北にある。

[問題]

ヨーロッパの大部分は日本と比べ高緯度に位置している。図 1 の北緯 40° と同緯度を示す緯線は、図 2 のア、イ、ウ、エのどれか。

図1

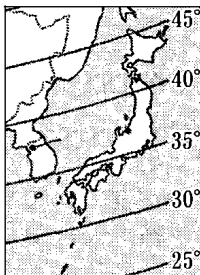
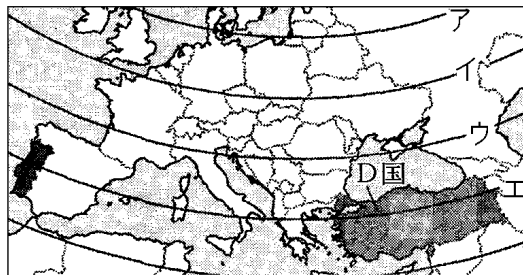


図2



(栃木県)

[解答欄]

[解答]エ

[問題]

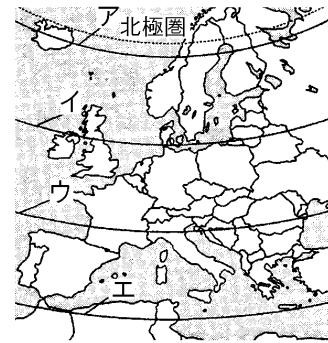
北海道北部を通る北緯 45 度の緯線を、地図のア～エから 1 つ選べ。

(長野県)

[解答欄]

--

[解答]ウ



[問題]

次の資料は、正樹さんが右図の A 国の気候について学習したときにまとめたものである。文中の①～③の()内からそれぞれ適語を選べ。

(資料)

- ・疑問に思ったこと：A 国の首都は山形市に比べ①(低緯度／高緯度)に位置しているのに、冬の気候が②(温暖／寒冷)である。どうしてだろうか。
- ・調べてわかったこと：A 国の気候は、③(低緯度から高緯度／高緯度から程度)方向へ流れる海流と、その上空をふく風の影響を受けている。



(山形県)

[解答欄]

①	②	③
---	---	---

[解答]① 高緯度 ② 温暖 ③ 低緯度から高緯度

[西岸海洋性気候と地中海性気候]

[問題]

次の文は、イギリスの気候についてまとめたものである。文中の①、②の()内からそれぞれ適語を選べ。

イギリスは、大西洋を北上する①(寒流／暖流)の北大西洋海流と、その上空を吹く偏西風の影響を受けて、②(地中海性／西岸海洋性)気候となる。

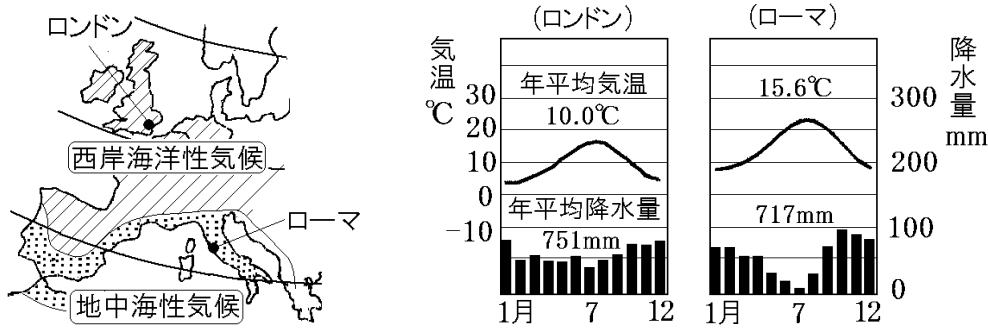
(静岡県)

[解答欄]

①	②
---	---

[解答]① 暖流 ② 西岸海洋性

【解説】



西ヨーロッパは^{おんたい}温帯に属する。イギリスやフランス北部などのヨーロッパの北西部は、^{だんりゅう}暖流の北大西洋^{きたたいせいようかいりゅう}海流と偏西風^{へんせいふう}が寒さをやわらげているため、^{こういど}高緯度であるにもかかわらず温暖で、温帯の中でも西岸海洋性気候に属する。

西岸海洋性気候は、一年を通して降水量の差が小さいという特徴がある。

イタリアなど^{ちちゅうかい}地中海沿岸の地域は温帯の地中海性気候で、^{かんそう}夏は乾燥し、冬に比較的雨が多い。

※入試出題頻度：「西岸海洋性気候○」「高緯度なのに温暖，降水量の差が小さい○」

「地中海性気候○」「夏は乾燥し，冬に比較的雨が多い○」

【問題】

パリとローマの気候区の名称をそれぞれ答えよ。

(岩手県改)

【解答欄】

パリ：	ローマ：
-----	------

【解答】パリ：西岸海洋性気候　ローマ：地中海性気候

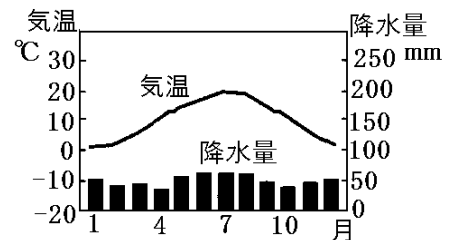
【問題】

右のグラフは、ドイツの首都であるベルリンの気温と降水量の月別平年値をあらわしている。この都市の気候(気温と降水量)の特徴を、「高緯度」「一年」の2つの語句を用いて説明せよ。

(福島県)

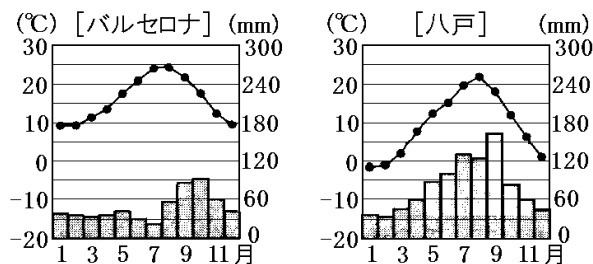
【解答欄】

【解答】高緯度の割には温暖で，一年を通して降水量の差が小さい。



[問題]

右の図は、スペインのバルセロナと、バルセロナとほぼ同緯度にある青森県の八戸の気温と降水量を表したものである。八戸と比較して、バルセロナの夏と冬の気候の特色を、簡潔に書け。



(和歌山県)

[解答欄]

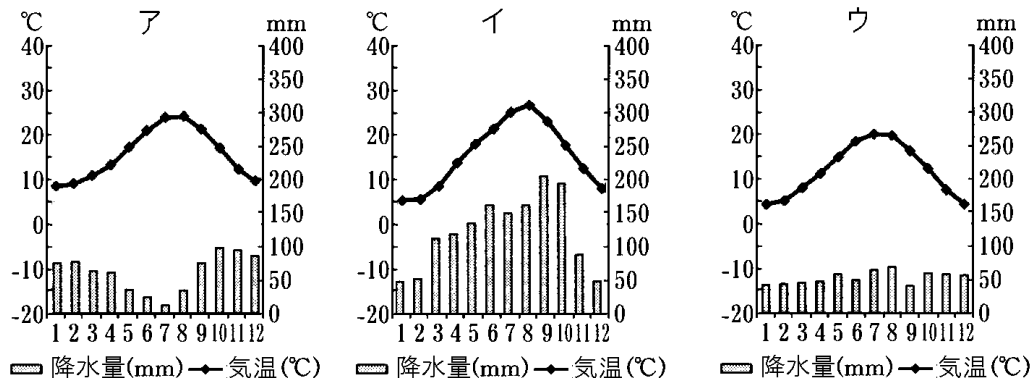
[解答]夏の降水量が少なく、冬も温暖である。

[解説]

地中海に面したバルセロナは地中海性気候である。地中海性気候は夏の降水量が少ないという特徴がある。また、暖流の北大西洋海流と偏西風の影響で高緯度の割には温暖である。

[問題]

次の図のア～ウの雨温図は、パリ、ローマ、東京のいずれかのものである。ローマとパリにあてはまるものをア～ウのうちから1つずつ選び、記号で答えよ。



(沖縄県)

[解答欄]

ローマ :	パリ :
-------	------

[解答]ローマ : ア パリ : ウ

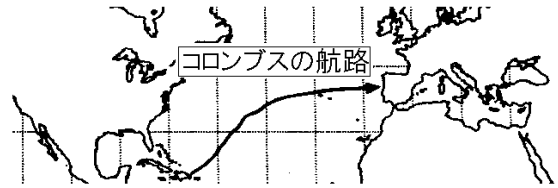
[解説]

雨温図アは夏(7月ごろ)の降水量が極端に少ないことから地中海性気候と判断できる。したがって、地中海沿岸に位置するローマの雨温図はアである。イは降水量が比較的多いことから、温帯(温暖)湿潤気候の東京と判断できる。一年を通して降水量の差が小さいウは西岸海洋性気候のパリであることがわかる。

[その他]

[問題]

右の資料に示された矢印は、コロンブスが大西洋を横断したときの帰りの航路を示したものである。この航海の多くの部分で追い風として利用した風の名称を書け。



(福井県)

[解答欄]

[解答]偏西風

[問題]

右の資料は、地図中の◎で示した X の付近の立ち枯れした森林の様子である。このような被害が発生する主な原因は、()である。()に当てはまる地球環境問題は何か。



(熊本県)

[解答欄]

[解答]酸性雨

[解説]

工場や自動車から排出される硫黄酸化物などを原因とする汚染物質が偏西風に流されるため、発生地よりも東側に被害が拡大する。

【】 民族・宗教など

[言語・民族]

[問題]

ヨーロッパの言語について述べた次の文の①，②に適する語句を書け。

ヨーロッパの北西部では英語やドイツ語などのゲルマン系言語，南部ではフランス語やイタリア語などの(①)系言語，東部ではロシア語やポーランド語などの(②)系言語が使われている。

(福井県)

[解答欄]

①	②
---	---

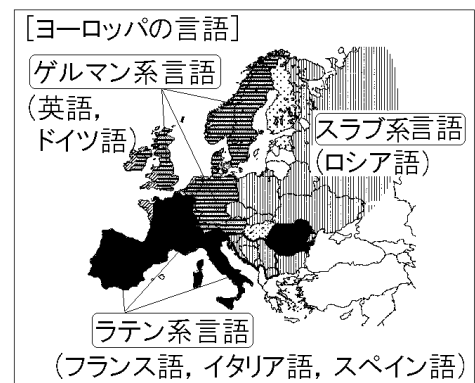
[解答]① ラテン ② スラブ

[解説]

ヨーロッパの言語は大きく3つに分けられる。西部や北部では英語やドイツ語などのゲルマン系言語^{けいげんご}，南部ではフランス語やイタリア語やスペイン語などのラテン系言語，東部ではロシア語やポーランド語などのスラブ系言語が使われている。このほかにもさまざまな言語がある。

※入試出題頻度：「ゲルマン系言語(民族)○」

「ラテン系言語(民族)○」「スラブ系言語(民族)○」



[問題]

イタリア語は、(英語／ドイツ語／ロシア語／フランス語)などと同じラテン系言語である。文中の()から適語を選べ。

(岐阜県)

[解答欄]

--

[解答]フランス語

[問題]

次の文章中の①～③の()内からそれぞれ適語を選べ。

ヨーロッパのさまざまな言語は大きく3つの系統に分けられる。例えば、英語は①(ラテン／ゲルマン)系言語に分類され、イタリア語は②(ラテン／ゲルマン)系言語に分類される。また、イタリア語と同じ②系言語に分類される③(スペイン／フランス)は、16世紀に③人が進出した南アメリカ大陸において、現在、多くの国で公用語とされている。

(京都府)

[解答欄]

①	②	③
---	---	---

[解答]① ゲルマン ② ラテン ③ スペイン

[解説]

スペイン語とフランス語はともにラテン系言語である。16世紀以降、南アメリカを植民地としたのはスペインとポルトガルである。現在のブラジルはポルトガルが、それ以外はスペインが支配した。

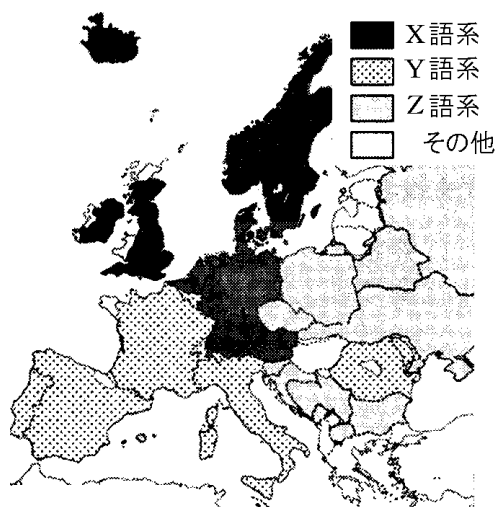
[問題]

ヨーロッパでは、民族による言語の類似性がみられる。①右のある国の「おはよう」を表す言葉は、表のA～Cのうち、どのグループにあてはまるか、記号で答えよ。②また、図ではX～Zの言語分布のうち、どのグループにあてはまるか、記号で答えよ。

ある国の「おはよう」
を表す言葉
God morgen

各言語の「おはよう」を表す言葉

(A)系言語	(B)系言語	(C)系言語
Bonjour Buon giorno など	Good morning Guten Morgen など	Доброе утро Dzień dobry など



(島根県)

[解答欄]

①	②
---	---

[解答]① B ② X

[問題]

右図のⅠとⅡで示した国について、資料1は、挨拶に使われる言葉、資料2は、産業についての説明である。Ⅱの国の言葉と説明の組み合わせはどれか、下のア～エから最も適当なものを1つ選び、その記号を書け。



(資料1)挨拶に使われる言葉(言語系統)

- A Guten Morgen(グーテンモルゲン)(ゲルマン系言語)
- B Bonjour(ボンジュール)(ラテン系言語)

(資料2)産業についての説明

- a EU加盟国の中で農業生産額が最も高い。
- b EU加盟国の中で工業生産額が最も高い。

- ア 言葉-A, 説明-a
- イ 言葉-A, 説明-b
- ウ 言葉-B, 説明-a
- エ 言葉-B 説明-b

(三重県)

[解答欄]

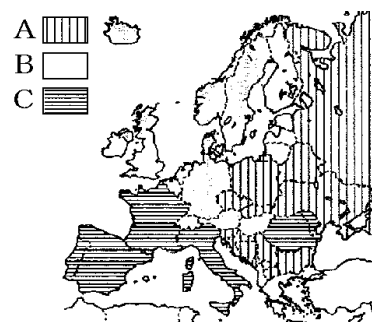
[解答]イ

[解説]

ⅠはフランスでEU最大の農業国である。フランス語はイタリア語やスペイン語と同じラテン系言語である。ⅡはドイツでEU最大の工業国である。ドイツ語は英語と同じゲルマン系言語である。

[問題]

ヨーロッパの民族について、右の地図では、ゲルマン系民族、ラテン系民族、スラブ系民族のいずれかが人口の60%以上を占めている国をA～Cで示している。A～Cにあてはまる民族をそれぞれ答えよ。



(山口県)

[解答欄]

A	B	C
---	---	---

[解答]A スラブ系民族 B ゲルマン系民族 C ラテン系民族

[宗教]

[問題]

ヨーロッパで広く信仰されている宗教を、次の[]の中から1つ選べ。

[ヒンドゥー教 イスラム教 キリスト教 仏教]

(和歌山県)

[解答欄]

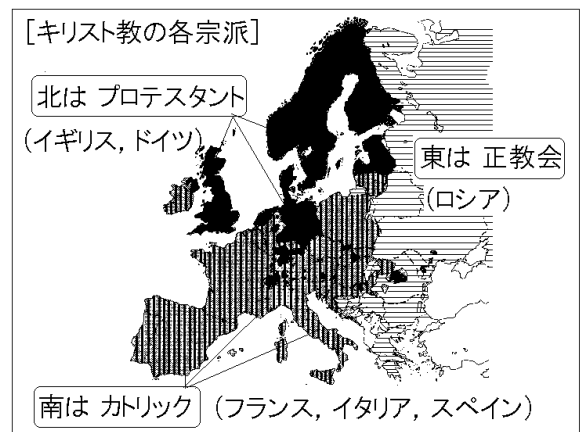
[解答]キリスト教

[解説]

ヨーロッパやロシアではキリスト教が信仰されている。キリスト教は、3つの宗派に分かれている。ローマ教皇を頂点とするカトリックは、イタリア、フランス、スペインなどラテン系言語の国々に広がっている。ドイツのルターの宗教改革(16世紀)によって、カトリックから分かれたプロテスタントは、ドイツ、イギリス、北欧などゲルマン系言語の国々に広がっている。ロシア連邦、ギリシャ、東ヨーロッパなどスラブ系民族の国々などでは正教会が中心である。ただし、宗派の分布と言語の分布は完全に一致しているわけではない。

※この単元を取り扱っていない教科書もある。

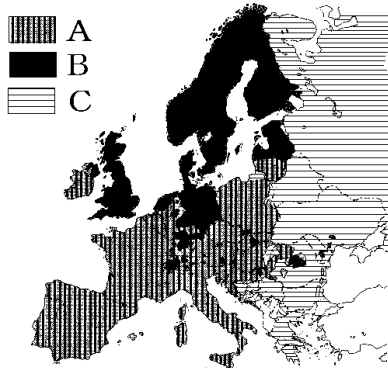
※入試出題頻度：「キリスト教○」「カトリック○」「プロテスタント○」「正教会○」



[問題]

次の地図はヨーロッパのキリスト教の分布図である。A, B, C のキリスト教の宗派名を次の[]から選べ。

[プロテスタント 正教会 カトリック]



(補充問題)

[解答欄]

A	B	C
---	---	---

[解答]A カトリック B プロテスタント C 正教会

[問題]

ヨーロッパの宗教(キリスト教)について、次の文章中の①～④に適する語句を下の[]からそれぞれ選べ。

地中海沿岸地域には(①)の信者が多く、(②)語系が多く分布する。スカンディナヴィア半島など北海周辺の地域には(③)の信者が多く、ゲルマン語系が多く分布する。東ヨーロッパには正教会の信者が多く、(④)語系が多く分布する。

[正教会 カトリック プロテスタント ラテン スラブ]

(栃木県改)

[解答欄]

①	②	③	④
---	---	---	---

[解答]① カトリック ② ラテン ③ プロテスタント ④ スラブ

[問題]

1960年代以降、アフリカやトルコなどヨーロッパ以外から仕事を求めてヨーロッパに移住する人々増えたが、これらの人々の多くが信仰する宗教は何か。

(補充問題)

[解答欄]

--

[解答]イスラム教

[解説]

1960年代以降、イスラム教徒が多い北アフリカやトルコ(西アジアにある)から、仕事を求めてヨーロッパに移住する人々が増えている。

[問題]

イタリアとフランスの共通点について述べた文として適当でないものを、ア～エから1つ選び、記号を書け。

ア どちらも地中海に面している。

イ どちらもプロテスタントを信仰する人が多い。

ウ どちらも温帯に属している。

エ どちらもラテン系言語が多く使われている。

(大分県)

[解答欄]

[解答]イ

[解説]

イが誤り。イタリアとフランスはカトリックを信仰する人が多い。

【】 農業

[地中海式農業]

[問題]

イタリアは、夏は比較的雨が少なく乾燥しているため乾燥に強いオリーブなどを、冬は比較的雨が多いため小麦などを栽培している。このような農業を何というか。

(徳島県)

[解答欄]

[解答]地中海式農業

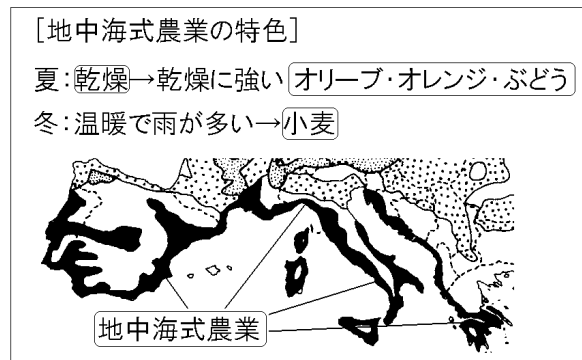
[解説]

アルプス山脈より南の地中海沿岸は、
地中海性気候で夏の降水量が少ない。このため、夏には乾燥に強いオリーブ(食用油の原料)、ぶどう(ワインの原料)、オレンジなどの果樹を、温暖で雨の多い冬には小麦を栽培する地中海式農業が行われている。

※入試出題頻度：「地中海式農業◎」

「乾燥する夏：オリーブやぶどう◎」

「やや雨が深い冬：小麦○」



[問題]

次の文中の X に当てはまることばとして最も適当なものを、あとのア～エのうちから 1 つ選べ。

ギリシャの地中海沿岸の地域は、夏は雨が少なく乾燥し、冬は雨が多くなるのが特徴である。このような気候を生かして、地中海式農業が行われており、(X)がさかんである。

ア カカオやコーヒーなどの栽培

イ やぎや乳牛の飼育と乳製品の生産

ウ ライ麦などの穀物の栽培と豚や牛の飼育

エ ぶどうやオリーブなどの栽培

(千葉県)

[解答欄]

[解答]エ

[問題]

ギリシャで主にみられる農牧業の特徴として最も適当なものは次のどれか。

- ア 地中海式農業がおこなわれ、オリーブが栽培されている。
- イ 焼畑農業がおこなわれ、いも類や雑穀が栽培されている。
- ウ プランテーション農業がおこなわれ、カカオ豆が栽培されている。
- エ 遊牧がおこなわれ、トナカイが飼育されている。

(長崎県)

[解答欄]

[解答]ア

[問題]

右の資料は、イタリアで生産される、ある農産物である。この農産物の実をしばってつくった油は、料理に使われる。資料の農産物は何か。



(山形県)

[解答欄]

[解答]オリーブ

[問題]

次の文の X に当てはまる内容を、あとのア～エの中から 1 つ選べ。

イタリアやフランス、スペインの地中海沿岸では、(X), ぶどうやオリーブ、オレンジなどの栽培が行われている。

- ア 乾燥する夏の気候を利用して
- イ 水の得られるオアシスの周辺で
- ウ 熱帯のプランテーションで
- エ 古くから続く焼畑農業により

(茨城県)

[解答欄]

[解答]ア

[問題]

次の文は地中海沿岸地域のおもな農業の特徴について述べたものである。空欄①，②に入る語句の組み合わせとして正しいものを下のア～エのうちから1つ選び，記号で答えよ。

(①)気候を生かして，夏はオレンジやオリーブなどを栽培し，冬には(②)などを栽培する農業。

ア：① 夏に雨が多く降り，冬に乾燥する ② コーヒー

イ：① 夏に乾燥し，冬に雨が多く降る ② 小麦

ウ：① 夏に乾燥し，冬に雨が多く降る ② カカオ

エ：① 夏に雨が多く降り，冬に乾燥する ②小麦

(沖縄県)

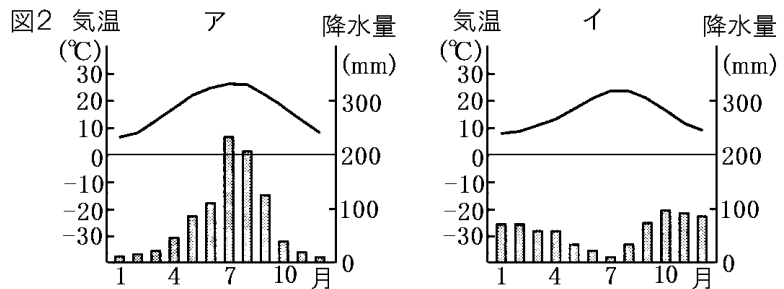
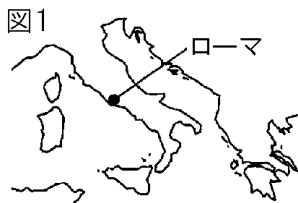
[解答欄]

[解答]イ

[問題]

次の文章中の①，③，④の()内からそれぞれ適語を選べ。②の()には適語を入れよ。

図1のローマの気温と降水量を示したものは，図2の①(ア/イ)である。ヨーロッパ南部の(②)沿岸では，③(夏/冬)には乾燥に強いオリーブやぶどうを栽培し，④(夏/冬)には小麦や牧草などを栽培する(②)式農業が行われてきた。



(茨城県)

[解答欄]

①	②	③	④
---	---	---	---

[解答]① イ ② 地中海 ③ 夏 ④ 冬

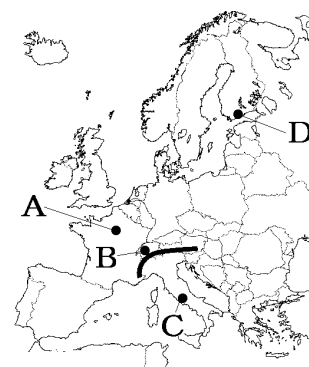
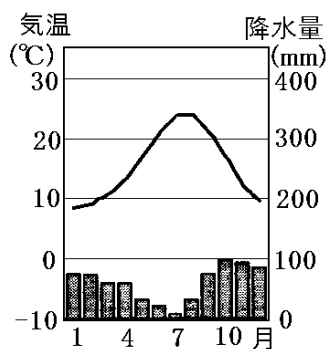
[解説]

地中海沿岸のローマは，地中海性気候で，夏は降水量が少ない。したがって，雨温図は7月の降水量が少ないイになる。

[問題]

次の各問いに答えよ。

- (1) 右のグラフは略地図中の都市 A～D のどの都市にあたるか、1つ選んで、その符号を書け。
- (2) (1)の都市と同じ気候でみられるヨーロッパの農業の特色について述べた文として適切なものを、次のア～エから1つ選んで、その符号を書け。



- ア オリーブやオレンジなどを栽培する農業が行われている。
- イ 麦類の栽培と家畜の飼育を組み合わせた農業が行われている。
- ウ 乳牛などを飼育して乳製品を生産する農業が行われている。
- エ 寒さに強いトナカイなどの放牧が行われている。

(兵庫県)

[解答欄]

(1)	(2)
-----	-----

[解答](1) C (2) ア

[解説]

雨温図で、夏の降水量が少ないことから地中海性気候と判断できる。

[混合農業]

[問題]

右の地図中の X の地域では、小麦やライ麦といった穀物などの栽培と家畜の飼育を組み合わせた農業が発達した。このような農業を何というか。



(高知県)

[解答欄]

[解答]混合農業


【解説】

アルプス山脈の北側のフランス，ドイツ，東ヨーロッパなどヨーロッパの大部分では，混合農業が行われている。混合農業は，小麦やライ麦といった穀物栽培と，豚や牛を中心とした家畜の飼育を組み合わせた農業である。

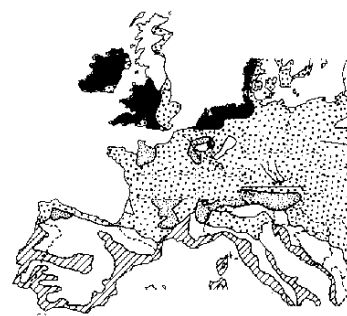
※入試出題頻度：「混合農業◎」「小麦やライ麦といった穀物栽培と，豚や牛を中心とした家畜の飼育を組み合わせた農業○」



【問題】

次のア～エのうち，右の略地図中ので行われている農業の特徴について述べているものとして，最も適当なものはどれか。1つ選び，その記号を書け。

- ア 乳牛を飼い，生乳やチーズ，バターが生産が行われている。
- イ 小麦やライ麦，じゃがいもを栽培し，豚や牛の飼育が行われている。
- ウ 乾燥する夏はオリーブやぶどうを栽培し，雨の降る冬は小麦を栽培している。
- エ リャマやアルパカの放牧を行い，じゃがいもやとうもろこしを栽培している。



(岩手県)

【解答欄】

【解答】イ

【解説】

アは酪農，イは混合農業，ウは地中海式農業，エはペルーの高山気候の地域の農業である。

【問題】

ドイツでは，伝統的に混合農業が行われている。混合農業とはどのような農業か。説明せよ。

(山口県)

【解答欄】

【解答】穀物の栽培と家畜の飼育とを組み合わせた農業。

[酪農]

[問題]

オランダは、ポルダーとよばれる干拓地が広がっており、チーズやバターなどの乳製品を生産するために、乳牛を飼う農業がさかんである。このような農業を何というか。

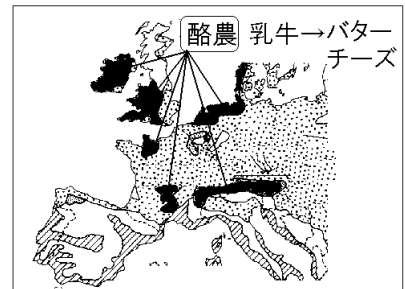
(青森県)

[解答欄]

[解答]酪農

[解説]

酪農は、冷涼で穀物栽培に適さないヨーロッパ北部のオランダ、デンマーク、イギリス、アルプス山脈などで行われ、乳牛などを飼育して、生乳やバター、チーズなどの乳製品を生産する農業である。(乳牛は冷涼な気候に適している。食べた飼料を胃で分解して大量の乳をつくるが、大量の熱が発生するので、乳牛は多少の寒さには強いが、夏の暑さに対しては非常に弱い家畜である。)



※入試出題頻度：「酪農○」

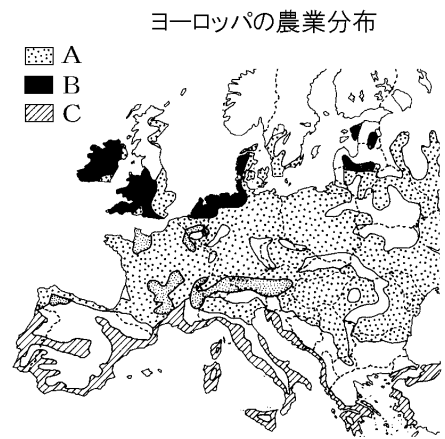
[地中海式農業・混合農業・酪農]

[問題]

右図の A～C はヨーロッパ州の特徴的な農業分布の模式図である。A～C の地域の農業の特徴を次のア～ウからそれぞれ選べ。

- ア 乳牛を飼育し、乳製品の生産を行う酪農
- イ 小麦などの穀物栽培と、豚などの家畜の飼育を行う混合農業
- ウ 夏の乾燥に強いオリーブなどの果樹や、冬の降水を利用した小麦の栽培を行っている地中海式農業

(沖縄県改)



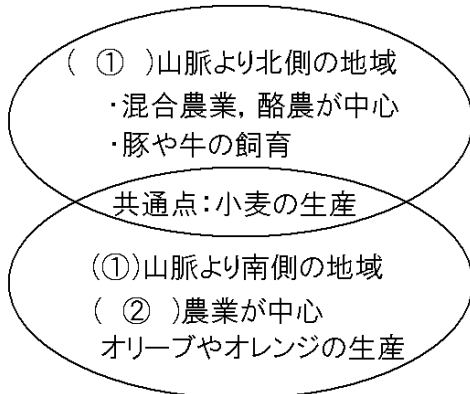
[解答欄]

A	B	C
---	---	---

[解答]A イ B ア C ウ

[問題]

次の図は、ヨーロッパの農業のようすをまとめたものである。図中の①、②にあてはまる語を答えよ。



(鳥取県)

[解答欄]

①	②
---	---

[解答]① アルプス ② 地中海式

[問題]

ヨーロッパの国または地域における農業の特色を説明した文として、最も適切なものを、次のア～エから1つ選び、記号で答えよ。

- ア アルプス山脈より北の地域では、じゃがいもなど穀物の栽培に特化した混合農業が行われている。
- イ デンマークやオランダでは、乳牛を飼い、バターやチーズを生産する酪農がさかんである。
- ウ アルプス山脈より南の地域では、一年中湿潤な気候を生かした地中海式農業が行われている。
- エ ドイツは、ヨーロッパ連合(EU)最大の農業国である。

(鳥取県)

[解答欄]

--

[解答]イ

[解説]

アは誤り。混合農業は穀物栽培と、豚や牛を中心とした家畜の飼育を組み合わせた農業である。

ウは誤り。地中海式農業は夏に乾燥し、冬にやや雨が多い気候を生かした農業である。

エは誤り。EU最大の農業国はフランスである。

[問題]

右の資料のア～ウの線は、オリーブ、小麦、ぶどうが栽培できる北の限界線のいずれかを示している。アの線まで栽培可能な農作物として最も適当なものを、オリーブ、小麦、ぶどうから1つ選んで書け。



(福井県)

[解答欄]

[解答]小麦

[農業統計の問題]

[問題]

次の表は、右図のA～D国の小麦、ぶどう、肉類の生産量を表している。D国にあてはまるものを、ア～エの中から1つ選べ。



	小麦(千 t)	ぶどう(千 t)	肉類(千 t)
	2019 年	2019 年	2019 年
ア	40605	5490	5419
イ	6739	7900	3690
ウ	23063	1125	7919
エ	16225	—	4092

(福島県)

[解答欄]

[解答]イ

[解説]

まずブドウの生産量に注目する。ぶどうは夏に乾燥する地中海沿岸で栽培がさかんであるので、ぶどうの生産が多いアとイはBのフランスかDのイタリアのどちらかである。次に小麦の生産量に注目する。フランスはヨーロッパで最大の小麦の生産国なので、アがフランスと判断できる。したがって、Dのイタリアはイである。ちなみに、ウはCのドイツ、エはAのイギリスである。

[問題]

次の表の①に当てはまるヨーロッパのある国の名前を書け。また、②に当てはまる最も適切な農畜産物を、次の[]から1つ選べ。

[牛乳 ぶどう てんさい チーズ]

(ヨーロッパの5つの国の農畜産物)(2019年)(千t)

	小麦	(②)	肉類
イタリア	6739	7900	3690
スペイン	6041	5745	7165
(①)	40605	5490	5419
ドイツ	23063	1125	7919
オランダ	1131	2	3104

(長野県)

[解答欄]

①	②
---	---

[解答]① フランス ② ぶどう

[解説]

フランスはヨーロッパ最大の小麦生産国なので①はフランスと判断できる。イタリア、スペイン、①のフランスは地中海沿岸の国なので、②はぶどうであるとわかる。

【】 EU の発足

[EU の発足とその目的]

[問題]

ヨーロッパでは、1993年、12か国により(X)が発足した。2023年現在の加盟国は27か国で、国のわく組みをこえた経済的・政治的な統合が進んでいる。文中のXに適語を入れよ。

(栃木県)

[解答欄]

[解答] ヨーロッパ連合(EU)

[解説]

第二次世界大戦によって国力が弱体化した西ヨーロッパの国々では、政治・経済の面でアメリカ合衆国などの大国に対抗することと、二度とヨーロッパで戦争を起こさないようにするために、国家のわくをこえて経済的に協力する動きが起こった。1967年にヨーロッパ共同体(EC)、さらに、1993年にヨーロッパ連合(EU)を結成した。

※ヨーロッパの大半はキリスト教を中心にした同質の文化

圏であるにもかかわらず、中世以来、血なまぐさい戦争をくり返してきた(例えば17世紀におこった三十年戦争では、ドイツの人口の3分の1が犠牲になったといわれている)。20世紀には、2度にわたる世界大戦の舞台となり、おびただしい犠牲者を出した。ヨーロッパの国々が数々の困難をのりこえて経済的・政治的な統合をはかろうとするのは、互いの手を縛り合っしばて、戦争をできないようにするためであると考えられる。

※入試出題頻度：「EU(ヨーロッパ連合)◎」「政治・経済の面でアメリカ合衆国などの大国に対抗するため○」「二度とヨーロッパで戦争を起こさないようにするため○」

[EC・EUの発足とその理由]

1967年 ヨーロッパ共同体(EC)

1993年 ヨーロッパ連合(EU)

政治・経済の面でアメリカ合衆国などの大国に対抗するため。

戦争を起こさないようにするため。

[問題]

EUができる以前は、EC(ヨーロッパ共同体)という組織があった。ECやEUが結成された理由を、「アメリカ合衆国」「政治・経済」「戦争」という語句を使って答えよ。

(島根改)

[解答欄]

[解答] 政治・経済の面でアメリカ合衆国などの大国に対抗するため。二度とヨーロッパで戦争を起こさないようにするため。

[問題]

EU を説明した文として、正しいものを、次のア～エの中から 1 つ選べ。

- ア 石油産出国の利益を守るため結成された。加盟国の石油の大幅な値上げにより石油危機がおきた。
- イ NGO として政治・信条などにかかわる人権問題に取り組んでいる。
- ウ 地域統合をめざして結成された。共通通貨をつくるなど、特に経済的な統合が進んでいる。
- エ 当初は東側陣営に対抗するため結成された。近年は旧ユーゴスラビアの紛争に介入した。

(福島県)

[解答欄]

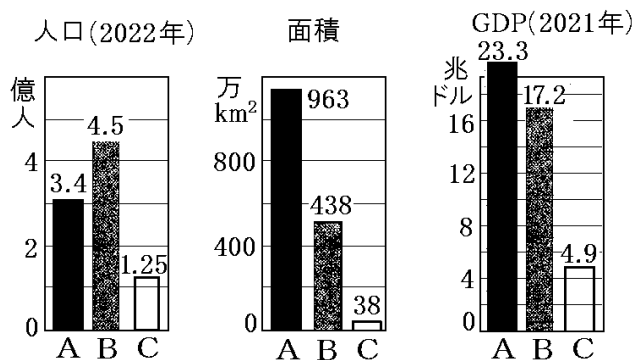
[解答]ウ

[解説]

アは OPEC，ウは EU，エは NATO である。

[問題]

次の資料は、EU とアメリカ合衆国、日本の人口、面積、GDP を比較したグラフである。



- (1) EU とアメリカにあたるものを A～C からそれぞれ選び、記号で答えよ。
- (2) ヨーロッパの国々が国境を越えて統合した理由を資料からわかることをもとに、簡潔に説明せよ。

(山口県改)

[解答欄]

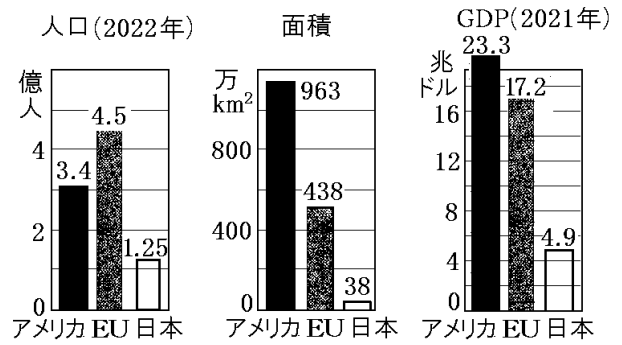
(1)EU :	アメリカ合衆国 :
(2)	

[解答](1)EU : B アメリカ : A (2) 政治・経済の面でアメリカ合衆国などの大国に対抗するため。

【解説】

ヨーロッパ諸国で人口が1億人をこえる国はないが、EUとしてまとまることで、人口は約4.5億人となり、アメリカ合衆国の3.3億人をこえる。また、GDP総額もアメリカ合衆国の7割強になる。

(統計修正)「日本国勢図会 2023/2024」P24, 90



※入試出題頻度：この単元はしばしば出題される。

【航空機：EU内の国際的な分業で生産】

【問題】

(X)の製造では、フランス、イギリス、ドイツ、スペイン、ベルギーなどの国々が国境をこえた技術協力を行い、各部品の生産を各国で分担し、フランスのトゥールーズで組み立てを行っている。文中のXに適する語句を書け。

(福井県)

【解答欄】

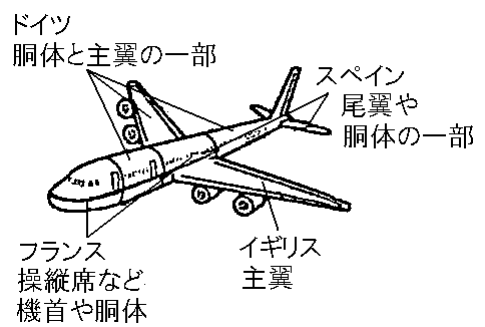
【解答】航空機

【解説】

第二次世界大戦後、世界の航空機産業を独占していたアメリカ合衆国に対抗するため、フランスとドイツの航空機メーカーが共同で出資して、エアバス社という会社を設立した。

【航空機】
アメリカ合衆国に対抗するため、**国際的な分業で生産**

その後、スペインやイギリスなどほかのEU諸国の企業も参加し、新しい航空機の開発に向けて国を越えた協力体制がとられるようになった。右図のように、各部分ごとに生産を分担し、フランスで組み立てを行っている。



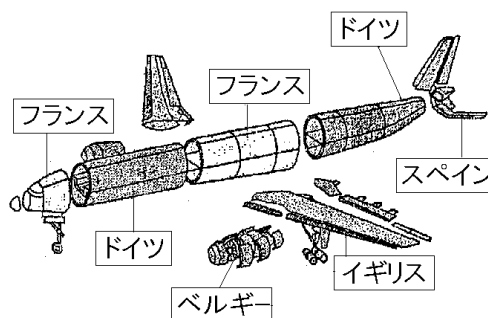
※ジェット旅客機の開発コストが高くなったことなどにより、ヨーロッパの既存の航空機各社が単独では、アメリカの航空機メーカーであるボーイング社などと競争することが困難になった。そこで、ヨーロッパ各国が共同でエアバス社を設立した。現在では、世界の航空機市場をアメリカのボーイング社とヨーロッパのエアバス社で二分するほどの存在に成長し、その機体は日本をはじめ、世界の航空会社で使われている。

※入試出題頻度：「航空機をEU各国の分業で生産○」「アメリカ合衆国に対抗するため△」

[問題]

次の表は、ヨーロッパにある国の航空機(部品含む)輸出額についてまとめたものの一部である。①表の X にあてはまる国名を答えよ。②また、この地域における航空機の生産の特徴を、表や次の図をもとにして、「組み立て」ということばを使って書け。

国名	輸出額 (100 万ドル)
X	54,479
ドイツ	43,134
スペイン	4,472
ベルギー	956
イギリス	6



(鹿児島県)

[解答欄]

①
②

[解答]① フランス ② 航空機の部品を各国で分担して製造し、フランスでその組み立てを行っている。

[EU の加盟国数]

[問題]

右の旗は、ヨーロッパのある組織の旗を示している。①この組織の名称を書け。②またこの組織の加盟国数は何か国か。



(鹿児島県改)

[解答欄]

①	②
---	---

[解答]① EU(ヨーロッパ連合) ② 27 か国

[解説]



EUは最初、西ヨーロッパ諸国を中心^{しよこく}に発足したが、2004年以降に、多くの東ヨーロッパ諸国が加盟^{かめい}した。未加盟国^{みかめいこく}としてはスイス、ノルウェーなどがある。イギリスは2016年、国民投票の結果EUからの離脱^{りだつ}を決定し、2020年にEUを離脱した。その結果、EU加盟国数は 27 か国になった(2023年現在)。

<p>[加盟国数など] EU加盟国: 27か国 未加盟国: スイス, ノルウェーなど 2020年にイギリスが離脱</p>
--

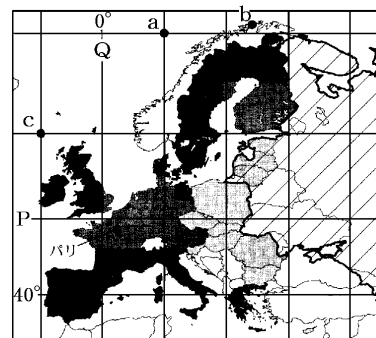
※入試題頻度: 「2004年以降に多くの東ヨーロッパ諸国が加盟△」「イギリスの離脱△」「27か国△」

[問題]

次の各問いに答えよ。

- (1) 右図の A , B  で示した国々はもともと EU に加盟していた国々と、2004 年以降に加盟した国々を示している。2004 年以降に加盟した国々は A, B のどちらか、その符号を書け。
- (2) 2020 年に EU から離脱した国はどこか。

(兵庫県改)





[解答欄]

(1)	(2)
-----	-----

[解答](1) A (2) イギリス

[解説]

EU は B  の西ヨーロッパの国々が中心になって発足し、のちに、A  の東ヨーロッパの国々が加盟した。

【】 EU の統合と人々の生活

[共通通貨ユーロ]

[問題]

EU で使われている共通通貨を何というか。

(岩手県)

[解答欄]

[解答]ユーロ

[解説]

2002 年に きょうつうつうか 共通通貨の ユーロ が どうにゆう 導入された。共通通貨を導入した目的は、EU の けいざいとうごう 経済統合を そくしん 促進すること である。ただし、EU 加盟国のすべてがユーロを使っているわけではない。デンマークやスウェーデンなどユーロを導入しないで独自の通貨を使っている国もある。

※入試出題頻度：「ユーロ◎」「EU の経済統合を促進する目的△」

[EUの共通通貨(ユーロ)]

目的:EUの経済統合の促進
(導入していない国もある)



[問題]

次の各問いに答えよ。

- (1) ドイツとフランスなど、多くのヨーロッパ連合(EU)加盟国で流通している共通通貨を何というか。
- (2) EU の多くの国々が、(1)の共通通貨を使用する目的を、簡潔に説明せよ。

(群馬県)

[解答欄]

(1)	(2)
-----	-----

[解答](1) ユーロ (2) EU の経済統合を促進すること。

[国境・関税・資格など]

[問題]

右の写真は、フランスのストラスブール市から、ドイツのケール市につながる橋のようすを示したものである。この写真を参考にして、多くのヨーロッパ連合(EU)加盟国の間での通行の特徴について、「国境」、「パスポート」という語句を用いて書け。

(新潟県)



[解答欄]

[解答] パスポートなしに自由に国境を通過できる。

[解説]

国境をこえて移動するときには、通常ではパスポートが必要で、出入国の手続きが行われたり、輸入品に関税がかかったりするなど、さまざまな制限がある。EUでは、そのような制限を取りはらった。すなわち、EU内では、パスポートなしに自由に国

[国境・関税・資格など]

パスポートなしに自由に国境を通過できる

関税がかからない

仕事の資格や大学の卒業資格が共通

境を通過でき、EU内では関税もかからない。さらに、2002年には共通通貨のユーロが導入され、EUの経済統合が進められている。これによって、国境をこえて買い物や通勤をする人や旅行をする人が増えている。例えば、賃金の高いルクセンブルクに通勤するフランス人が増えている。食料品をもとめて国境をこえてフランスで買い物をするドイツ人もいる。人々はEU内のどこでも、国内と同じように居住し、働くことができるので、EU内での労働者の移動も多くなっている。仕事の資格はEU内で共通である。他国の大学で授業を受けても卒業資格を取得できる。また、電気製品などの規格も同じなので、他国でも、そのまま使うことができる。ただし、完全に1つの国になったわけではないので、例えば、福祉サービスは国によって異なる。

※入試出題頻度：「パスポートなしに自由に国境を通過できる○」「関税がかからない○」「仕事の資格や大学の卒業資格が共通△」

[問題]

EU のとっている政策について、次の文章中の①～③にあてはまる語句を答えよ。

EU 加盟国内では、(①)なしで国境をこえて自由に移動でき、輸入品に(②)がかからない。このため、国境をこえて買い物や通勤や旅行をする人が増えている。また、仕事の(③)が共通なので他国で働くこともできる。

(補充問題)

[解答欄]

①	②	③
---	---	---

[解答]① パスポート ② 関税(税金) ③ 資格

[問題]

ヨーロッパでは、EU という組織をつくり、政治や経済の面でも結びつきを強めているが、それにあてはまらないものを次のア～エから 1 つ選び、記号で答えよ。

- ア 貿易にかかる税が廃止されている。
- イ 共通通貨のユーロが発行されている。
- ウ 共通言語が使われている。
- エ 国境の通過が自由にできる。

(沖縄県)

[解答欄]

[解答]ウ

[問題]

EU(ヨーロッパ連合)の説明文として正しいものを、次のア～エのうちから 2 つ選び、記号で答えよ。

- ア 多くの加盟国間では、国境の行き来が自由になったため、EU 域内のどこでも働くことができるようになった。
- イ すべての加盟国が共通通貨ユーロを導入しているため、両替をせず買い物ができる。
- ウ 加盟国間は関税がかからないため、EU 域内の農作物や工業製品の貿易がさかんになった。
- エ EU 域内では、西ヨーロッパと東ヨーロッパの国々の間にみられた経済格差は解消した。

(沖縄県)

[解答欄]

[解答]ア，ウ

[解説]

イは誤り。デンマーク、ブルガリア、チェコ、ハンガリー、ポーランド、ルーマニア、スウェーデンの 7 か国はユーロを導入していない。

エは誤り。西ヨーロッパと東ヨーロッパの国々の間の経済格差は解消していない。

[問題]

フランスやドイツなどの多くの EU 加盟国では、国境を自由に行き来し、買い物などの経済活動を行う人々が多い。この理由について、「多くの EU 加盟国では、」の書き出しのことばに続けて書け。ただし、「パスポート」と「ユーロ」ということばを使うこと。

(鹿児島県)

[解答欄]

[解答]多くの EU 加盟国では，国境でパスポートの検査がなく，共通通貨のユーロを使用しているため。

[問題]

ヨーロッパでは，国境に近い地域を中心に，国境をこえる通勤や買い物がさかんである。フランスと(X)の間に建設された鉄道用の海底トンネルを走るユーロスター，ドイツの特急 ICE などの高速鉄道のほか，高速道路，航空路線も充実しており，人々の移動は整備された交通網に支えられている。文中の X に当てはまる国を次の[]から 1 つ選べ。

[イギリス スイス オランダ イタリア]

(岐阜県)

[解答欄]

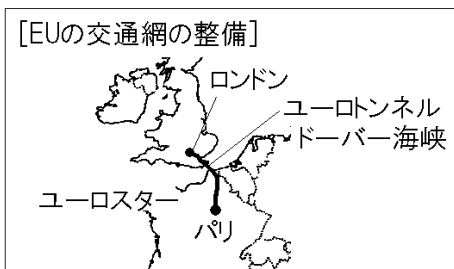
[解答]イギリス

[解説]

EUによる統合がすすむ中で，人々の移動いどうを支える交通網こうつうもうも整備せいびされてきている。イギリスの首都しゅとロンドンとフランスの首都パリを 2 時間 15 分で結ぶユーロスターという高速鉄道が運用されている。ユーロスターは，ドーバー海峡かいきょうに掘られたユーロトンネルを通っている。

※この単元を扱っていない教科書もある。

※入試出題頻度：この単元はときどき出題される。



【】 EU 内の経済格差の問題

[問題]

EU がかかえる課題について、次のようにまとめた。文章中の①～③の()内からそれぞれ適語を選べ。

ヨーロッパの国々は、アメリカなどの経済力の強い国に対抗するため、ヨーロッパ共同体(EC)を経て、EU を発足させ、今日にいたっている。2004 年以降に EU に加盟した国々は、おもに①(東/西)ヨーロッパの国々である。それらの国々は、2004 年より前に加盟した国々と比べて、国民一人あたりの GDP は②(高い/低い)傾向が見られる。EU 加盟国が増えるにつれて、経済的に豊かな国とそうではない国との間の③(経済格差/加工貿易)が問題となってきた。また、移民の流入にともなう課題や EU からの離脱を表明する国が現れるなどの課題が生まれてきている。

(長野県改)

[解答欄]

①	②	③
---	---	---

[解答]① 東 ② 低い ③ 経済格差

[解説]

EUによる統合が進む中で大きな課題になっているのは、EU加盟国の間の経済格差である。1人あたりの国民総所得(GNI)が大きいのは、以前からの西ヨーロッパのEU加盟国(ドイツ、フランス、イギリスなど)である。これに対し、2004年以降に加盟した東ヨーロッパ諸国の1人あたりの国民総所得は小さい。

[EUの課題]

EU加盟国の間で経済格差が大きい

西ヨーロッパ:所得が高い

東ヨーロッパ:所得が低い

※入試出題頻度:「1人当たりの国民総所得(GNI):西ヨーロッパは高い○、東ヨーロッパは低い◎」「経済格差が大きい◎」

[問題]

EU 内では、ドイツやフランスなど特定の国に、EU 内の他の国々から労働者が多く働きに来る一方で、ドイツやフランスなどから EU 内の他の国々に、工場を移転する動きもみられる。このような動きの背景には、近年 EU がかかえる課題があるといわれている、それはどのような課題か、「経済」という言葉を用いて書け。

(山形県)

[解答欄]

--

[解答]EU 加盟国間で経済に大きな格差があること。

【解説】

ヨーロッパでは、EU域内での移動が自由になった結果、1人当たりの国民総所得が低い東ヨーロッパなどから、賃金の高いドイツ、フランス、イギリスなどへ働きに来る外国人労働者が増えている。国内の外国人労働者数が最も多い国はドイツである。フランスへは、かつてフランスの植民地だったアフリカ大陸北部の国々から働きに来る外国人労働者も多い。

[経済格差から生じる諸問題]

東ヨーロッパから西ヨーロッパへ高い賃金を求めて労働者が移動

↓
東ヨーロッパ:労働力が不足し、高い技術をもった人が流出

西ヨーロッパの企業:賃金が安い東ヨーロッパに工場を移転

東ヨーロッパでは、労働力の流出によって、労働力が不足し、高い技術をもった人が流出するという問題が生じている。一方、賃金が安い東ヨーロッパに工場を移転する西ヨーロッパの企業が増えている。

EUは、域内の格差を埋めるために補助金を出して支援する対策をとってきた。その補助金の多くは、ドイツやフランスなど財政が豊かな国々が負担している。イギリスは、こうした負担の増加に対して不満を抱き、EUから離脱した。

※入試出題頻度:「東ヨーロッパ→西ヨーロッパへ外国人労働者が増加○」

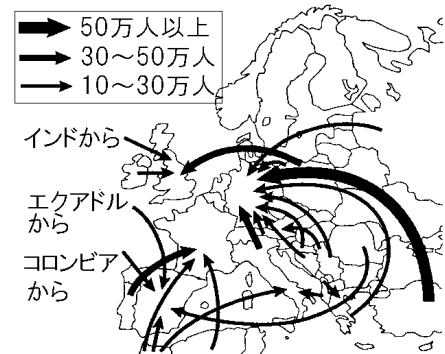
「東ヨーロッパ:労働力が不足し、高い技術をもった人が流出○」

「西ヨーロッパの企業:賃金が安い東ヨーロッパに工場を移転○」

【問題】

次の各問いに答えよ。

- (1) 右の資料で、外国人の受け入れ人数が最も多い国はどこか。
- (2) 資料のような人の移動が進むと、東ヨーロッパ諸国においてどのような問題が起こると考えられるか。「労働力」「高い技術」という語句を使って答えよ。
- (3) EUでは、1990年代以降、東ヨーロッパへ工場を移転する企業が増えた。その理由を「賃金」という語句を使って説明せよ。



(補充問題)

【解答欄】

(1)	(2)
(3)	

【解答】(1) ドイツ (2) 労働力が不足し、高い技術を持った人が流出すること。

(3) 東ヨーロッパ諸国では賃金が安いから。

[問題]

1990年代から2000年代にかけて、西ヨーロッパだけでなく、東ヨーロッパへEU加盟国が拡大するなかで、西ヨーロッパの国々の企業が、東ヨーロッパの国々に工場を移転するようになった。西ヨーロッパの国々の企業が、東ヨーロッパの国々に工場を移転するようになった理由を、「賃金」という語を用いて書け。

(山形県)

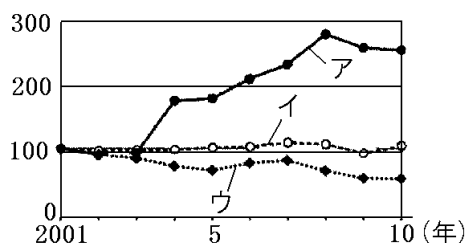
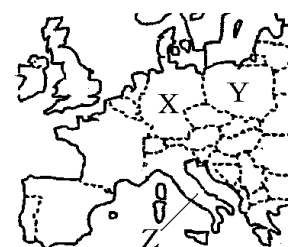
[解答欄]

[解答]東ヨーロッパの国々では賃金が安いから。

[問題]

資料のア～ウは、略地図のX～Z国のいずれかの国の2001年から10年間の自動車の生産台数の変化を表したものである。

①アはどの国の変化を表したものか、X～Zから1つ選び、その符号を書け。②また、その国の自動車の生産台数が2004年以降に急激に増えた理由を、2004年に起こったその国のできごとにふれて書け。



(注)生産台数の変化は、2001年のそれぞれの国の生産台数を100として表している。

(石川県)

[解答欄]

①

②

[解答]① Y ② Y国が2004年にEUに加盟し、西ヨーロッパの国々の企業が、賃金の安いY国などに工場を移転するようになったから。

[問題]

右のグラフは、フランスの外国人労働力人口の内訳をあらわしてしる。このグラフについてまとめた次の文の①、②にあてはまる語句を、それぞれ書け。

フランスの外国人労働力人口の内訳を見ると、EU加盟国を除けば、(①)大陸の北部に位置する国の割合が高くなっている。その理由は、これらの国々がかつてフランスの(②)だったため、

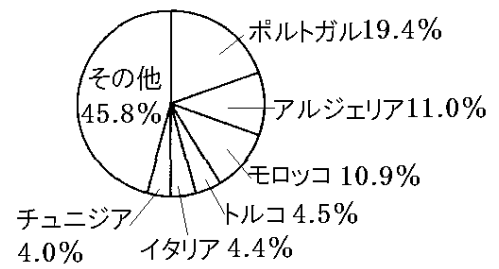
(福島県)

[解答欄]

①	②
---	---

[解答]① アフリカ ② 植民地

[フランスの外国人労働力人口の内訳]



独立した現在でも結びつきが強いからで

【】 ヨーロッパ各国

[問題]

次のア～エのうち、右の略地図中に X で示した国について述べたものはどれか。1つ選んで、その記号を書け。

ア ドイツとほぼ同じ民族構成で、国民の大多数はゲルマン系民族である。

イ ポルダーとよばれる干拓地が国土の4分の1を占めている。

ウ 農業がさかんで、小麦の生産量はヨーロッパで最も多い。

エ 外国人労働者が多く、トルコから最も多くの労働者を受け入れている。



(香川県)

[解答欄]

[解答]ウ

[解説]

フランスはラテン系民族が多いので、アはフランスではない。イはオランダである。ウはフランスである。フランスはヨーロッパ最大の農業国である。エはドイツである。

※入試出題頻度：この単元(ヨーロッパ各国)はときどき出題される。

[問題]

次の文に述べられている国として最も適当なものを、下の[]から1つ選べ。

この国は、EU 創設当時から加盟しており、穀物自給率が100%をこえる。旅客機の生産においても、国境をこえた技術協力が進み、この国で組み立てが行われている。

[ベルギー イタリア スウェーデン フランス]

(大分県)

[解答欄]

[解答]フランス

[問題]

右図の A 国の首都は、東京、ニューヨークとならぶ世界経済の中心地である。首都名を書け。

(福島県)

[解答欄]



[解答] ロンドン

[解説]

A国はイギリスで、首都はロンドンである。

[問題]

次の文の内容にあてはまるぶどうの生産国を、あとの[]から1つ選べ。

わが国の北海道から東北地方にあたる地域とほぼ同じ緯度に位置するEUの加盟国である。この国の首都が位置する半島部ではぶどうの栽培がさかんである。2020年のぶどうの生産量は世界2位となっている。

[イギリス イタリア ドイツ ロシア]

(大阪府)

[解答欄]

[解答] イタリア

[解説]

ぶどうの生産国

1位中国、2位イタリア、3位スペイン、4位フランス、5位アメリカ

(統計修正)「世界国勢図会 2022/2023」P219

[問題]

1990年、東西に分かれていた国が統一されたが、その国を右図のア～エの中から選べ。

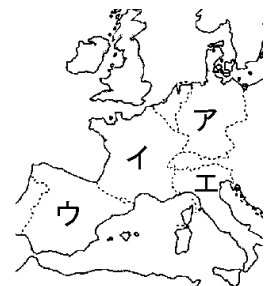
(鹿児島県)

[解答欄]

[解答] ア

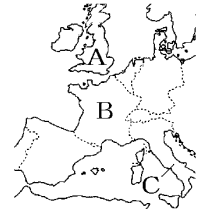
[解説]

第二次世界大戦後、ドイツはアメリカがあとおしをする西ドイツと、旧ソ連があとおしをする東ドイツに分けられた。1989年にベルリンの壁が壊され、1990年に西ドイツが東ドイツを吸収する形で統一が成しとげられた。



[問題]

みのるさんは、ヨーロッパの人々の生活と環境について調べ、夏休みに家族で右の地図の A 国、B 国、C 国の順で旅行した。ア～ウはこの 3 つの国それぞれの旅行の思い出を記したものである。ア～ウをみのるさんが旅行した順に並べて、記号を書け。



ア この国の南部では、海水浴や日光浴を楽しむ人が多かったです。夕食はコース料理を頼みました。父と母はお肉に合わせたワインを楽しんで、満足そうでした。



イ この国の首都には歴史的建造物が多く、コロッセウムを見ることができました。ピザやパスタなどの味付けは地域性があってどれもおいしかったです。



ウ この国の首都では、大きな宮殿や有名な時計台を見ました。昼食はフィッシュアンドチップスを食べました。日本ほどの暑さはなく、過ごしやすかったです。



(佐賀県)

[解答欄]

[解答]ウ→ア→イ

[解説]

A 国(イギリス)ウ→B 国(フランス)ア→C 国(イタリア)イ

[問題]

次の①～④からいずれか 1 つの国を選び、次の(1)、(2)に答えよ。

① イタリア ② オランダ ③ ポルトガル ④ ギリシャ

(1) あなたが選んだ国を、①～④の番号で書け。また、その国の位置を右の略地図のア～エから選べ。

(2) (1)で選んだ国を説明した文を、A～D から選べ。

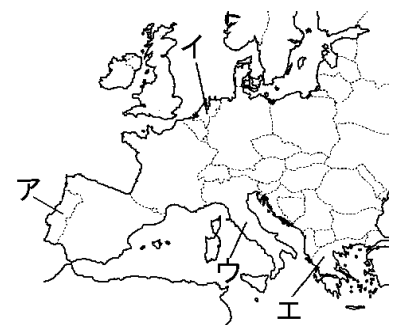
A 大西洋に面した国で、この国の人々が 16 世紀に鉄砲を日本に伝えた。

B エーゲ海に面した国で、2004 年に首都を中心にオリンピックが開催された。

C 北海に面した国で、正式な国名には「低い土地」という意味がある。

D 地中海に面した国で、首都の中にバチカン市国という独立国がある。

(北海道)



【解答欄】

(1)①	②	③	④
(2)①	②	③	④

【解答】(1)① ウ ② イ ③ ア ④ エ (2)① D ② C ③ A ④ B

【解説】

アはポルトガルで 16 世紀に鉄砲を日本に伝えた。イはオランダで北海に面した国。ポルダーとよばれる^{かんたくち}干拓地が広がっており、^{らくのう}酪農がさかんである。正式な国名「ネーデルランド」には「低い土地」という意味がある。ウはイタリアで地中海に面した国で、首都の中にバチカン市国という独立国がある。エはギリシャでエーゲ海に面した国で、2004 年に首都を中心にオリンピックが開催された。

【】 ロシア

[問題]

地図中の A の国に関する次の各問いに答えよ。

- (1) A の国名を書け。
 (2) A 国の首都である a の都市名を書け。

(静岡県改)

[解答欄]

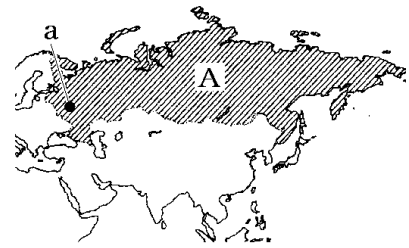
(1)	(2)
-----	-----

[解答](1) ロシア連邦 (2) モスクワ

[解説]

1991 年に解体したソ連(ソビエト社会主義共和国連邦)の大部分をしめるのはロシア連邦である。ロシアは、ウラル山脈を境界にしているアジア州とヨーロッパ州にまたがる国で、国土面積は日本の 45 倍もある。国土の大部分は冷帯(亜寒帯)の気候で冬の寒さが厳しい。約 1 億 4600 万人(2020 年)の人口の多くは、首都モスクワを中心とするロシアの西部に集中している。ロシアには 100 を超える少数民族が暮らしているが、全体の約 80%がスラブ系のロシア人で、ロシア語が広く使われている。宗教はキリスト教の正教会が中心である。となり合う日本とは、貿易などで密接な関係にあるが、北方領土をめぐる問題も残されている。

※入試出題頻度：「ソ連△」「ロシア連邦△」「モスクワ△」「ウラル山脈△」



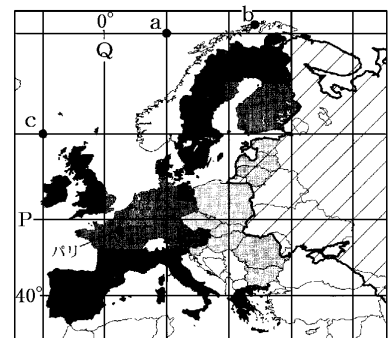
[問題]

右図の斜線の部分は、かつて 1 つの国を構成していた。1991 年に解体したこの国の名を書け。

(兵庫県)

[解答欄]

[解答]ソ連



[問題]

右の地図中の線 P は、アジア州とヨーロッパ州とを区分する境界の一部であり、自然地形に沿って区分されている。その自然地形として最も適切なものを、次の[]から 1 つ選べ。

- [ドナウ川 ライン川 ウラル山脈 ヒマラヤ山脈]

(鳥取県)



【解答欄】

【解答】ウラル山脈

【問題】

ロシア連邦は大量の石油や天然ガスを陸続きのヨーロッパ諸国に輸出している。これらの資源の陸上の輸送手段を次の[]から選べ。

[パイプライン 鉄道 トラック]

(補充問題)

【解答欄】

【解答】パイプライン

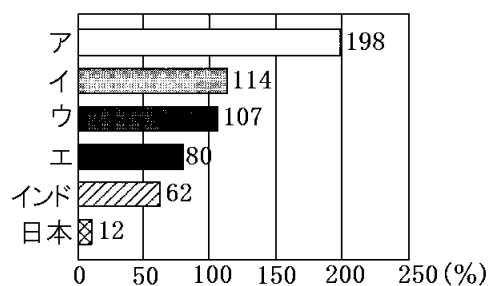
【解説】

ロシアには、原油や天然ガスなどの鉱産資源が豊富にあり、これらをヨーロッパや日本などへ輸出している。特に、陸続きの EU 諸国へは、パイプラインを使って原油や天然ガスを大量に輸出している。また、シベリアには、タイガという針葉樹の森林があり、木材をヨーロッパ諸国に輸出している。農業は、南西部に広がる肥えた土地で、小麦やライ麦などの穀物

※入試出題頻度：「パイプライン△」「石油や天然ガス△」「小麦△」「シベリア鉄道△」

【問題】

右のグラフは一次エネルギー自給率(2019年)で、グラフ中のア～エは、ブラジル、ロシア、中国、南アフリカ共和国のいずれかを示している。ロシアを示すものを、ア～エから1つ選び、記号で答えよ。なお、一次エネルギーとは、化石燃料などの自然界に存在するエネルギーをさす。



(島根県)

【解答欄】

【解答】ア

[問題]

ロシア連邦について述べた次の文の X に共通して当てはまる語句を書け。

ロシア連邦は世界で最も面積が広い国であり，国内には，様々な気候帯が分布している。ウラル山脈の東側の(X)とよばれる地域のほとんどは，北海道と同じ冷帯(亜寒帯)に属しており，この広い地域を横断する(X)鉄道により，日本海に面したウラジオストクと首都モスクワが結ばれている。

(北海道)

[解答欄]

[解答]シベリア

[問題]

ロシアの黒土地帯で栽培されている主な農産物を，次から選べ。

[米 小麦 バナナ コーヒー]

(群馬県)

[解答欄]

[解答]小麦

【FdData 入試版のご案内】

詳細は、[\[FdData 入試ホームページ\]](#)に掲載 ([Shift]+左クリック→新規ウィンドウ)

姉妹品：[\[FdData 中間期末ホームページ\]](#) ([Shift]+左クリック→新規ウィンドウ)

◆印刷・編集

この PDF ファイルは、FdData 入試を PDF 形式に変換したサンプルで、印刷はできないように設定しております。製品版の FdData 入試は Windows パソコン用のマイクロソフト Word(Office)の文書ファイルで、印刷・編集を自由に行うことができます。

◆FdData 入試の特徴

FdData 入試は、公立高校入試問題の全傾向を網羅することを基本方針に編集したワープロデータ(Word 文書)です。入試理科・入試社会ともに、過去に出題された公立高校入試の問題をいったんばらばらに分解して、細かい單元ごとに再編集して作成しております。

◆サンプル版と製品版の違い

ホームページ上に掲載しておりますサンプルは、製品の Word 文書を PDF ファイルに変換したもので印刷や編集はできませんが、製品の全内容を掲載しており、どなたでも自由に閲覧できます。問題を「目で解く」だけでもある程度の効果をあげることができます。

しかし、FdData 入試がその本来の力を発揮するのは印刷や編集ができる製品版においてです。また、製品版は、すぐ印刷して使える「問題解答分離形式」、編集に適した「問題解答一体形式」、暗記分野で効果を発揮する「一問一答形式」の 3 形式を含んでいますので、目的に応じて活用することができます。

※[FdData 入試の特徴\(QandA 方式\)](#) ([Shift]+左クリック→新規ウィンドウ)

◆FdData 入試製品版(Word 版)の価格(消費税込み)

※以下のリンクは[Shift]キーをおしながら左クリックすると、新規ウィンドウが開きます

[社会地理](#)、[社会歴史](#)、[社会公民](#)：各 6,800 円(統合版は 16,200 円) ([Shift]+左クリック)

[理科 1 年](#)、[理科 2 年](#)、[理科 3 年](#)：各 6,800 円(統合版は 16,200 円) ([Shift]+左クリック)

※Windows パソコンにマイクロソフト Word がインストールされていることが必要です。(Mac の場合はお電話でお問い合わせください)。

◆ご注文は、メール(info2@fdtext.com)、または電話(092-811-0960)で承っております。

※[注文→インストール→編集・印刷の流れ](#) ([Shift]+左クリック)

※[注文メール記入例](#) ([Shift]+左クリック)

【Fd 教材開発】 Mail : info2@fdtext.com Tel : 092-811-0960