

【】選挙・政党・世論

【】選挙の原則：普通選挙・平等選挙・直接選挙・秘密選挙

[] 日本の選挙は、満()歳以上のすべての国民に選挙権を認める普通選挙であり、議員を直接選出できる直接選挙、無記名で投票をおこなう秘密選挙(投票)、一人が一票をもつ()選挙という原則のもとでおこなわれている。

(2005 年京都府)

[解答欄]

--	--

[解答][20 平等]

[解説] 現在の選挙の 4 つの原則は、普通選挙(一定の年齢(満 20 歳)に達していれば、誰にでも選挙権が与えられる)、平等選挙(一人につき一票の投票権)、秘密選挙(無記名で投票を行う)、直接選挙(議員を直接選挙する)である。

[] 現在の選挙制度では、20 歳以上の国民に選挙権が与えられているが、これは次のうちのどの原則と関係があるか。

[直接選挙 平等選挙 普通選挙 秘密選挙]

(2006 年埼玉県)

[解答欄]

--

[解答][普通選挙]

[] 国政選挙などの選挙の方法について定めた公職選挙法の条文の中に「投票用紙には、選挙人の氏名を記載してはならない。」というのがある。この条文が示す選挙の原則は何か。その用語を書け。

(2008 年奈良県)

[解答欄]

--

[解答][秘密選挙]

[] わが国の国会議員の選挙は、秘密選挙で行われている。秘密選挙では具体的にどのような方法で投票するか、書きなさい。

(2006年石川県)

[解答欄]

[解答][無記名で投票を行う。]

[] 現在の選挙の原則として誤っているものを、次から1つ選んで記号で書け。

[普通選挙 平等選挙 直接選挙 公開選挙]

(2007年福井県)

[解答欄]

[解答][公開選挙]

[] 選挙は国民の政治への参加の基本である。わが国の選挙のあり方として誤っているものを、次のア～エから1つ選び、記号で答えなさい。

ア ある年齢に達したら、納税額や性別に関係なく選挙権をもつ。

イ だれが、どの候補者に投票したか公開する。

ウ 公平に一人一票である。

エ 有権者が代表者を直接選出する。

(2007年沖縄県)

[解答欄]

[解答][イ]

[] 現在の日本の選挙制度として正しいものを、次のア～エから一つ選んで記号で答えなさい。

ア 衆議院議員と参議院議員の被選挙権は、ともに満25歳以上である。

イ 比例代表制は、衆議院議員選挙と参議院議員選挙の両方で採用されている。

ウ 国民の意思を反映しやすくするため、衆議院議員選挙は間接選挙によって行われる。

エ 投票に責任をもつため、参議院議員選挙では投票用紙に投票者の名前を記入する。

(2008年島根県)

[解答欄]

[解答][イ]

[] 選挙はなぜ重要か。「主権者」という語句を用いて、「選挙は、」の後に続けて書きなさい。

(2006年福島県)

[解答欄]

[解答][選挙は、主権者である国民の意思を政治に反映させるものであるから。]

[] 国民が政党の提示した具体的な政策を判断し、政治のあり方を選択する制度にはどのようなものがあるか、書きなさい。

(2006年佐賀県)

[解答欄]

[解答][選挙制度]

【】一票の価値（重み）

[] 下の表は、ある衆議院議員選挙におけるある小選挙区の有権者数を示しています。表中の a~d のうち、一票の価値が最も高い選挙区はどれですか。その記号を書きなさい。

衆議院小選挙区	A	B	C	D
有権者数(人)	467,610	380,284	312,081	214,764

(2007 年広島県)

[解答欄]

[解答][D]

[解説]

A の選挙区は約 47 万人で 1 人の衆議院議員を、D の選挙区は約 21 万人で 1 人の衆議院議員を選出する。仮に D と同じ有権者をもつ D' という選挙区があったとすると、D と D' で合計 42 万人で合計 2 人の議員を選出することになる。A の選挙区は 47 万人で 1 人しか選出しないので、D や D' のほうが有利である。言い換えれば D や D' の有権者 1 人当たりの議員数は A の 2 倍以上である。議席数あたりの有権者数が少ない選挙区ほど 1 票の価値が高い。

このような 1 票の価値(1 票の重み)の違いが生じたのは、人口の都市への集中によって都市部の人口が増大し、農村部の人口が減少したためである。法の下での平等に反するというので、何度か訴訟がおこされ、最高裁判所も 3 倍を越すような格差は違憲であるとの判決を下している。国会もたびたび定数是正を行ってきたが、議員や政党自身の利害がからむだけに、根本的な解決にはいたっていない。

[] 右資料は、衆議院小選挙区での有権者数(2006 年 9 月 2 日時点)を示している。資料中のア~エの選挙区のうち、1 票の価値が最も高い選挙区はどれか、記号で答えよ。

選挙区	有権者数(人)
ア	475204
イ	214985
ウ	471535
エ	216045

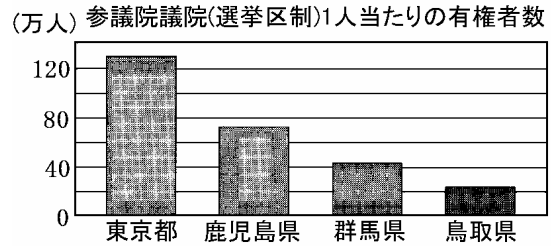
(2007 年福岡県)

[解答欄]

[解答][イ]

[] 次の問いに答えなさい。

- (1) 資料は、4 都県の参議院議員 1 人当たりの有権者数である。このうち一票の価値が最も高い都県名を書きなさい。
- (2) 一票の価値の格差が大きいことが、憲法問題として争われる理由を簡潔に書きなさい。



(2007 年群馬県)

[解答欄]

(1)	(2)
-----	-----

[解答] [(1) 鳥取県 (2) 法の下での平等に反するから。]

[] 今日の選挙は、一人が一票を有する()選挙を原則としているが、右の表から、議員一人当たりの有権者数が選挙区によって大きく異なっており、たとえば東京都の議員一人当たりの有権者数は、鳥取県のそれに対して、およそ (2 / 5 / 10 / 20) 倍であったことがわかる。言いかえると、鳥取県の有権者の一票の価値(重さ)は、東京都のそれに対して、およそ 倍であったということになる。このことが「法の下()」をうたう日本国憲法に違反するのではないかということから、裁判で争われた。

選挙区名	有権者数 (万人)	議員定数
東京都	1010	8
千葉県	490	4
・		・
・		・
鳥根県	60	2
鳥取県	50	2

(2007 年岡山県)

[解答欄]

--	--

[解答] [平等 5]

[解説]

議員一人当たりの有権者数は、東京都: $1010(\text{万人}) \div 8(\text{人}) = \text{約 } 126(\text{万人})$ 、鳥取県: $50(\text{万人}) \div 2(\text{人}) = 25(\text{万人})$ である。したがって、東京都の議員一人当たりの有権者数は、鳥取県のそれに対して、 $126(\text{万人}) \div 25(\text{万人}) = \text{約 } 5(\text{倍})$ である。したがって、鳥取県の有権者の一票の価値(重さ)は、東京都のそれに対して、およそ 5 倍であるということになる。

[] 国会議員を選ぶ選挙では、「一票の格差」の問題があることがわかりました。「一票の格差」の問題が生じる理由を、選挙区、有権者の二つの言葉を使って書きなさい。

(2008 年山形県)

[解答欄]

[解答][選挙区によって、議員 1 人あたりの有権者の数に大きな差があるから。]

【】小選挙区制

[] 小選挙区制のしくみについて簡潔に書きなさい。

(2006 年埼玉県)(2006 年和歌山県)

[解答欄]

[解答][一つの選挙区から一人の議員を選出する制度。]

[解説]

1 選挙区から 1 名を選ぶのが小選挙区制である。例えば、ある選挙区で A 党の候補者が 40%、B 党の候補者が 35%、その他の候補者が 25%の得票であったとき、小選挙区制の場合、当選するのは A 党の候補者 1 名のみとなる。もし、1 選挙区から 2 名を選ぶ中選挙区制なら A 党候補者と B 党候補者の 2 名が当選することになる。仮に、すべての選挙区が小選挙区で、かつ一律に A 党が 40%、B 党が 35%、その他が 25%の得票であったとすれば、A 党が全議席を獲得することになる。このように小選挙区制では一つの政党が議会の過半数の議席を獲得しやすい傾向がある。その長所は大政党が有利になり政局が安定することである。短所は小政党が不利になり死票が増加し少数意見を反映しにくいことである。

[] 小選挙区の説明として正しいものを、次のア～エから一つ選び、記号で答えなさい。

- ア 一つの選挙区で一人の代表を選ぶ制度
- イ 人口の少ない地域の選挙区制度
- ウ 都道府県を一つの単位とする制度
- エ 政党の得票率に応じて議席を配分する制度

(2007 年宮崎県)

[解答欄]

[解答][ア]

[] 小選挙区制について、最も適切に述べているものを、次のア～エの中から 1 つ選び、その記号を書きなさい。

- ア 一つの政党が議会の過半数の議席を獲得しやすい。
- イ 大政党ができにくく、小さな政党がたくさんできやすい。
- ウ 落選者に投じられた票が少なくなり、国民のさまざまな意見が反映されやすい。
- エ 一つの選挙区から 2 名以上の代表が選ばれる。

(2007 年和歌山県)

[解答欄]

[解答][ア]

[] 小選挙区制の短所を、次のことばに続けて説明せよ。

「小選挙区制は、比例代表制に比べて」

(2005 年福井県)

[解答欄]

[解答][死票が多くなる。(少数意見を反映しにくい)]

[] 中学校の授業で、1 区～7 区までの架空の選挙区を設定し、選挙のしくみを学習することにした。次の表は、各選挙区に、A、B、C の政党から一人ずつ立候補したときの選挙結果を示したものである。小選挙区制で7人の当選者を決めるとき、A 党の当選者数は何人になるか。

	1 区	2 区	3 区	4 区	5 区	6 区	7 区	計
有権者数	130	150	100	140	130	120	80	850
A 党(A 党候補者)の得票数	40	80	40	60	20	50	10	300
B 党(A 党候補者)の得票数	30	20	20	30	50	30	20	200
C 党(A 党候補者)の得票数	50	30	10	30	30	10	40	200
棄権した人の数	10	20	30	20	30	30	10	150

(2005 年香川県)

[解答欄]

[解答][4 人]

[解説]

小選挙区制なので、1 選挙区の当選者は1人で、各区の当選者の政党は次のようになる。

1 区	2 区	3 区	4 区	5 区	6 区	7 区
C	A	A	A	B	A	C

よって、当選者数は、A 党が4名、B 党が1名、C 党が2名となる。

【】 比例代表制

[] 比例代表制について簡潔に説明しなさい。

(2004 年埼玉県)

[解答欄]

[解答][政党の得票率に応じて議席を配分する制度。]

[解説]

比例代表制は政党名を書いて投票し、得票率に応じて各政党に議席を配分する。少数党も得票分に応じて議席を得ることができるので、国民のいろんな意見が反映され、死票も少ないという利点がある。しかし、小党分立をまねき政局の不安定化をもたらすおそれがある。また、支持する候補者に投票できないという問題点もある。

[] 資料は比例代表制による選挙の各政党の得票数をもとに、議席を配分するために作成した表である。比例代表の当選者を 5 人とするとき、5 人目の当選者が出る政党を、資料の A～C から 1 つ選びなさい。ただし、各政党の候補者名簿に記載された人数は、それぞれ 5 人とする。

政党	A	B	C
得票数	24,000 票	18,000 票	9,600 票
得票数÷1	24,000	18,000	9,600
得票数÷2	12,000	9,000	4,800
得票数÷3	8,000	6,000	3,200

(2007 年滋賀県)

[解答欄]

[解答][B]

[解説]

比例代表制ではドント方式で議席が配分される。各党の得票数を 1 から順に整数で割っていき(÷1, ÷2, ÷3.....), 商の多い順に定数まで当選者を決定する。次の表の ~ がその順位で, A の当選者は 2 名, B 党の当選者は 2 名, C 党の当選者は 1 名になる。また, 5 番目の当選者は B 党から出る。

政党	A	B	C
得票数÷1	24,000	18,000	9,600
得票数÷2	12,000	9,000	4,800
得票数÷3	8,000	6,000	3,200

[] 定数 4 名の比例代表の選挙区で、各政党の得票数が A 党 1200 票、B 党 720 票、C 党 600 票であるとき、各政党の当選者はそれぞれ何名になりますか、書きなさい。

(2007 年和歌山県)

[解答欄]

A 党	B 党	C 党
-----	-----	-----

[解答][A 党 2 名 B 党 1 名 C 党 1 名]

[解説]

政党	A	B	C
得票数 ÷ 1	1200	720	600
得票数 ÷ 2	600	360	300
得票数 ÷ 3	400	240	200

上の表から、A 党 2 名 B 党 1 名 C 党 1 名の当選者となる。

[] 小選挙区選挙では、(有権者 / 政党 / 候補者 / 野党)名を、比例代表選挙では(与党 / 有権者 / 政党 / 候補者)名を記載して投票する。

(2006 年宮崎県)

[解答欄]

--	--

[解答][候補者 政党]

[] 選挙制度には、1 つの選挙区で()人の代表を選ぶ小選挙区制度や、得票率に応じてそれぞれの()に議席を配分する比例代表制度などがある。

(2006 年岐阜県)

[解答欄]

(1)	(2)
-----	-----

[解答][(1) 1 (2) 政党]

[] 比例代表制を説明したものを、二つ選んで記号を書きなさい。

- ア 小さい政党でも議席を獲得しやすい。
- イ 二大政党制を維持するのに適している。
- ウ 一つの選挙区から一人の議員を選出する。
- エ 政党の得票率と議席獲得率がほぼ一致する。

(2008 年秋田県)

[解答欄]

[解答][ア, エ]

【】衆議院と参議院の選挙制度

[] 衆議院の選挙は、()区制と比例代表制が組み合わされて行われます。()にあてはまる漢字 3 字を書きなさい。

(2006 年山形県)

[解答欄]

[解答][小選挙]

[解説] 衆議院議員選挙の選挙制度は、1 つの選挙区から 1 人の議員を選ぶ小選挙区制(定数 300)と、政党に投票して、政党の得票率に応じて議席を配分する比例代表制(定数 180)を組み合わせたものである(小選挙区比例代表並立制)。議員の任期は 4 年であるが、解散があるので、平均の任期はそれよりも短くなる。

[] 1996 年以降の衆議院議員総選挙は、一つの選挙区から()人の議員を選ぶ小選挙区制と、政党に投票して、政党の得票率に応じて議席を配分する()制とを組み合わせた、小選挙区()並立制で行われている。

(2005 年愛媛県)

[解答欄]

[解答][1 比例代表]

[] 衆議院議員の総定数 480 人のうち 300 人は、一つの選挙区から一人の代表者を選ぶという制度によって選出されている。この選挙制度を何というか。

(2003 年県)

[解答欄]

[解答][小選挙区制]

[] 平成 17 年(2005 年)8 月に衆議院が解散され、9 月に衆議院議員総選挙が行われた。この選挙は、全国 300 の選挙区から 1 名ずつを選出する小選挙区制と、政党の得票数で議員数を配分する()制の並立によるものであった。

(2006 年神奈川県)(2007 年徳島県)

[解答欄]

[解答][比例代表]

[] 衆議院小選挙区における各選挙区の議員定数は何人ですか。次から選びなさい。

[1人 2人 3人 4人]

(2007年広島県)

[解答欄]

[解答][1人]

[] 右の表は、ある衆議院議員選挙におけるある選挙区の開票結果である。選挙区における選挙では、A候補の当選が決定した。また、この選挙における別の制度によってC候補も当選した。このような現在の衆議院議員の選挙制度を何というか答えなさい。

候補者	所属政党	得票数
A候補	e	72,384
B候補	f	67,540
C候補	g	23,123
D候補	h	2,307

(2006年鳥取県)

[解答欄]

[解答][小選挙区比例代表並立制]

[解説]

C候補のように、小選挙区で落選した場合でも、比例代表制で当選する場合もある。

[] 参議院議員選挙において熊本県の有権者は、()を単位とする比例代表選挙(比例代表選出議員選挙)と、()を単位とする選挙区選挙(選挙区選出議員選挙)で投票する。 、 に当てはまるものを、次からそれぞれ一つずつ選びなさい。

[市町村 熊本県 九州 全国]

(2005年熊本県)

[解答欄]

[解答][全国 熊本県]

[解説]

参議院議員選挙では、都道府県を選挙区とする選挙区選出議員選挙と、全国を一つの単位とした比例代表選出議員選挙で行われている。任期は6年で、全員が一度に改選されるのではなく、3年ごとに半数ずつ選挙される。衆議院とちがって解散はない。

[] 次は、まさみさんのおじいさん(1925 年生まれ)の日記の中の選挙に関する記述である。A～C に当てはまる語を[]内から選びなさい。

[衆議院議員 千葉県議会議員 参議院議員]

昭和 24 年 1 月 23 日

午前、(A)選挙の投票所へ行く。投票所では、投票だけではなく、初めて最高裁判所裁判官の審査を行った。

昭和 58 年 6 月 26 日

午後、(B)選挙の投票所へ。候補者に投票する用紙と、政党に投票する用紙の 2 種類ある選挙は初めてだ。3 年前の選挙で当選した議員には、まだ 3 年の任期が残っている。

平成 17 年 10 月 23 日

午前中に投票所へ行った。大規模な商業施設の建設計画が発表され、その是非をめぐって住民による投票を行うことになった。

平成 19 年 4 月 8 日

夜 7 時過ぎ、(C)選挙の投票所へ。次の選挙は、住民による議会の解散請求等がない限り 4 年後に行われるだろう。

(2008 年千葉県)

[解答欄]

A :	B :	C :
-----	-----	-----

[解答][A : 衆議院議員 B : 参議院議員 C : 千葉県議会議員]

[] 国会や選挙制度について説明した文として誤っているものを、次のア～エから一つ選んで記号で答えなさい。

ア 参議院議員選挙は、小選挙区比例代表並立制によって行われている。

イ 参議院議員の任期は 6 年で解散はないが、衆議院議員の任期は 4 年で、解散もある。

ウ 衆議院で可決し参議院で否決された法律案は、衆議院で再可決をした場合には法律となる。

エ 衆議院の解散中に緊急の必要がある場合には、参議院の緊急集会が召集される。

(2006 年島根県)

[解答欄]

[解答][ア]

[解説]

アが誤り。参議院議員選挙は、選挙区(都道府県単位)と全国 1 ブロックの比例区から選出される。

[] わが国の選挙のうち、政党名を書いて投票する制度を含むものはどれか。次の中からあてはまるものをすべて選びなさい。

[都道府県知事選挙 地方議会の議員選挙 参議院議員選挙 衆議院議員選挙]

(2005 年長崎県)

[解答欄]

[解答][参議院議員選挙，衆議院議員選挙]

【】選挙：その他

【】国民の政治に対する関心はどのように変化してきたか、右の資料を参考にして、簡潔に書きなさい。

(2006年群馬県)

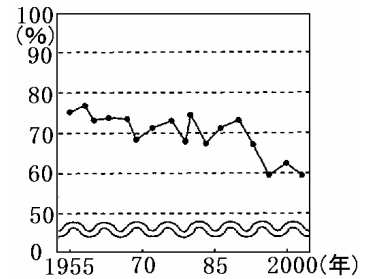
【解答欄】

【解答】[政治に対する関心がしだいに低下してきている。]

【解説】

資料をみると、投票率とうひょうりつが下がっていることがわかる。このことから、政治に対する関心がしだいに低下してきていることがうかがえる。

衆議院議員総選挙投票率の推移



【】最近では、投票しやすくする様々な制度上の工夫も行われている。具体的にどのようなことがあるか、1つ書きなさい。

(2006年群馬県)(2007年鹿児島県)

【解答欄】

【解答】[投票時間を延ばす。]

【】選挙の課題として、棄権が多いことがあげられる。そこで、有権者が投票しやすくするために、()という制度が整えられたり、投票時間が延長されたりしている。()にあてはまる制度の内容を、「投票日」のことばを用いて簡潔に書きなさい。

(2008年岐阜県)

【解答欄】

【解答】[投票日に投票できないときは期日前に投票できる]

[] 選挙の課題に対する取り組みとして、現在行われていないものを、次のア～エから 1 つ選び、記号で答えなさい。

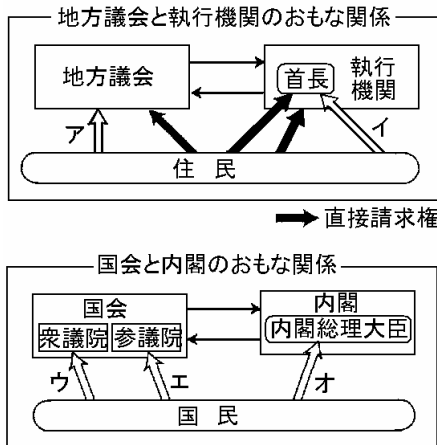
- ア 投票しやすくするために、投票時間を延長している。
- イ 用事がある人のために、期日前に投票できる制度を整えている。
- ウ 棄権を減らすために、都道府県によっては棄権した場合に罰金を課す制度を取り入れている。
- エ 政党や候補者の違いがわかるように、政党や候補者が政権公約(マニフェスト)を示すようになってきている。

(2008 年宮崎県)

[解答欄]

[解答][ウ]

[] 下図のア～オのうち、選挙を示していないものを 1 つ選び、記号を書きなさい。



(2006 年富山県)

[解答欄]

[解答][オ]

[解説]

わが国は議院内閣制ぎいんないかくせいを採用しているため、内閣総理大臣ないかくそうりだいじんは国民でなく国会により選出される。

[] アメリカ合衆国では、()が大統領選挙人を選び、大統領選挙人を通じて大統領を選ぶ。
(2007年熊本県)

[解答欄]

[解答][国民]

【】政党

【】()は、政治について同じ考えや政策をもつ人々が、その考えや政策を実現するためにつくる政治団体で、人々の意見を集約して、政治に反映させるはたらきをしている。()は、選挙では政策を明らかにし、議会での議席の獲得をめざして活動する。一般に、国会で多数の議席を占め、内閣を組織して政権を担当する()のことを()という。

(2005 年兵庫県)

【解答欄】

--	--

【解答】[政党 与党]

【解説】

同じ政治的考え(主義)や政策を持つ人々が、その実現を目指して作った組織を政党^{せいとう}という。選挙において、政党は、当面の政治課題やその解決方法を公約としてまとめ、国民に約束する。衆議院議員選挙で第一党となった政党の党首^{とうしゅ}が、国会で内閣総理大臣に指名され、内閣を組織する。内閣を組織する政党を与党^{よとう}という。最近では、内閣が1つの政党ではなく複数の政党から組織されることが多くなったが、このような政権を連立政権^{れんりつせいけん}という。(2006年現在は、自由民主党と公明党の連立政権である) 与党以外の政党を野党^{やとう}という。野党は、与党や政府の行う政治を監視し、政治の方向を修正する役割をはたす。小選挙区制では二党制が発達しやすい。比例代表制では、多党制^{たとうせい}が生まれやすい。

【】政党とはどのような団体か、説明しなさい。

(2007 年熊本県)

【解答欄】

--

【解答】[(政権を担当することをめざし、)同じ考え方や政策をもつ人々が、その考えや政策を実現するためにつくる団体である。]

【】政権を担当する政党を何というか。漢字二字で書け。

(2007 年鹿児島県)(2007 年鳥取県)

【解答欄】

--

【解答】[与党]

[] 一般に，（衆議院／参議院）議員選挙で第一党となった政党の党首が，国会で内閣総理大臣に指名され内閣を組織する。内閣を組織する政党を（野党／与党）という。

(2008 年岐阜県)

[解答欄]

--	--

[解答][衆議院 与党]

[] 内閣を組織して政権を担当する政党に対し，それ以外の政権を担当しない政党を何というか書け。

(2007 年福井県)(2007 年鳥取県)

[解答欄]

--

[解答][野党]

[] 1993 年以降，内閣が一つの政党ではなく複数の政党から組織されることが多くなった。このような形の政権を何というか，書きなさい。

(2006 年宮城県)(2006 年石川県)

[解答欄]

--

[解答][連立政権]

[] 選挙の際に立候補者や政党が，当選後に実施する政策を約束することやその約束を何というか。

(2007 年長崎県)

[解答欄]

--

[解答][公約]

[] 政党は，選挙の際に，マニフェストとよばれるものを示すことが多くなっています。マニフェストが，従来の公約と違うのは，どのような点か，書きなさい。

(2008 年山形県)

[解答欄]

--

[解答][政策の目標や財源など，具体的な内容を示している点。]

【】世論・マスメディア

[] 政治や社会の問題についての多くの人々の意見のまとまりは、政治を動かす力となる。このような意見のまとまりを何というか、書きなさい。

(2005 年兵庫県)

[解答欄]

[解答][世論]

[解説]

政治や社会の問題についての国民の意見を世論^{せろん}といい、その形成に大きな役割をはたしているのがマスメディアである。情報の受け手が情報に盲従するのではなく、自分で判断することが大切である。

[] 次の文の()に最も適当な語句を、漢字 2 字で書きなさい。ただし、2 か所とも同一の語句である。

ラジオ・新聞・テレビなどのマスメディアは、()を形成するのに大きな力をもっている。私たちは、()調査の結果から、政治や社会の問題に対する人々の意見や要求について知ることができる。

(2007 年大分県)

[解答欄]

[解答][世論]

[] 世論を把握するために様々な調査が行われている。世論調査の例として最も適当なものを、下のア～エのうちから一つ選び、その符号を書きなさい。

- ア 全国の過去 5 年間における年ごとの年代別の失業率を調べる。
- イ 各都道府県の人口 10,000 人あたりの地方公務員数を調べる。
- ウ ある駅の利用者 1,000 人に対して、通勤に要する時間の聞きとり調査を行う。
- エ 全国で 10,000 人を対象に、税の制度についての意見を聞く。

(2006 年千葉県)

[解答欄]

[解答][エ]

[] 新聞・テレビ・ラジオなど，情報を多数の人々に提供するものを何というか，書きなさい。

(2006 年石川県)

[解答欄]

[解答][マスメディア]

[] 現代は，テレビや新聞などのマスメディアからのさまざまな情報で満ちあふれている。そのような中で，私たちが情報を受け取る場合に必要とされることを[無批判・判断]の二つの言葉を用い，「情報を，」の書き出しに続けて，簡単に書け。

(2006 年愛媛県)

[解答欄]

[解答][（情報を，）無批判に受け入れるのではなく，その内容について自分自身で考え，きちんとした判断をすること。]

[印刷 / 他の PDF ファイルについて]

このファイルは、FdData 入試社会(15,000 円)の一部を PDF 形式に変換したサンプルで印刷はできないようになっています。製品版の FdData 入試社会は Word(または一太郎)の文書ファイルで、印刷・編集を自由に行うことができます。

製品版の FdData 入試社会は次の 3 形式を収録しています。

問題解答一体形式(Word または一太郎)：このサンプルの形式。編集して印刷するのに便利。

問題解答分離形式(Word または一太郎)：購入後、ただちに印刷して使うことができます。

一問一答閲覧形式(PDF ファイル)：閲覧専用。一問一答ソフトのような使い方ができます。

FdData 入試社会全分野の PDF ファイル、 の形式(問題解答分離形式・一問一答閲覧形式)のサンプル、および製品版の購入方法は、<http://www.fdtex.com/dan/> に掲載しております。