

【】三権分立

□ ベルサイユ宮殿は、フランスの国王が絶対的な権力をにぎっていた時期に建てられた。この時期に、国王の政治を批判した思想家の 1 人にモンテスキューがいる。彼は『法の精神』で、権力をたがいに抑制させることによって、1 つの権力が肥大化しないようにしようという考えを説いた。この考えを何というか、書きなさい。

(2007 年兵庫県)

[解答欄]

[解答][三権分立]

[解説]

三権分立さんけんぶんりつとは、国の権力を立法・行政・司法という独立した機関に担当させ、お互いに抑制よくせいしあい、均衡きんこうを保つしくみである。これは、権力が一つの機関に集中し権力が濫用らんようされることを防ぐためのものである。フランスのモンテスキューが「法の精神」の中で主張した。

□ 現在のわが国は政治に三権分立のしくみを取り入れている。この三権とは何か。三権をすべて書きなさい。

(2006 年大阪府)

[解答欄]

[解答][立法・行政・司法]

□ 国の権力が三権に分けられている理由を簡潔に書きなさい。

(2007 年群馬県)(2006 年大阪府)

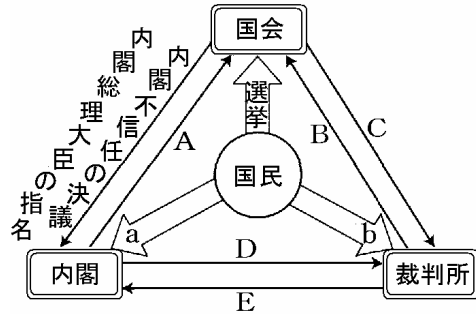
[解答欄]

[解答][国家権力の集中による濫用を防ぐため。]

□ 右の資料は、三権分立などについて示したものである。次の問いに答えなさい。

- (1) 次の , にあてはまるものを、A~Eの中からそれぞれ一つ選び、その記号を書きなさい。

最高裁判所長官の指名  
国会召集の決定



- (2) a は国民と内閣, b は国民と裁判所との関係を示している。a, b にあてはまるものを、次の語群の中から一つずつ選んで書きなさい。

[ 世論 閣議 検察官 国民審査 弾劾裁判 規制緩和 憲法調査会 ]

- (3) 衆議院において「内閣不信任の決議」が可決され、10日以内に衆議院が解散されない場合、内閣がしなければならないことを書きなさい。  
(4) 現在、三権分立制がとられている理由を書きなさい。

(2007年青森県)

[解答欄]

(1)		(2)a	b
(3)			
(4)			

[解答] [(1) D A (2)a 世論 b 国民審査 (3) 総辞職しなければならない。 (4) 三権がたがいに抑制し合い、均衡を保つことによって、権力の濫用を防ぐため。]

[解説]

内閣総理大臣の指名

衆議院による内閣不信任の決議

衆議院の解散

違憲審査権

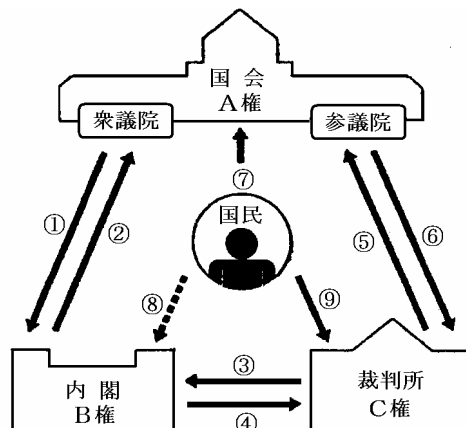
裁判官の指名・任命

違憲審査権

裁判官の弾劾裁判

選挙 世論 国民審査

A 立法 B 行政 C 司法



□ 右の図は、我が国の三権分立のしくみを表したものである。国中の a, b にそれぞれ当てはまる言葉を次から選びなさい。

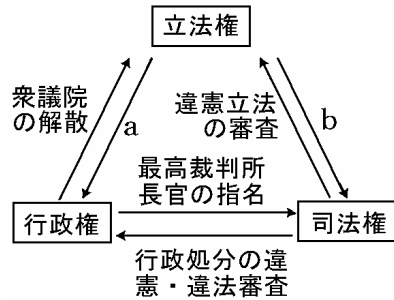
- [内閣不信任の決議 国務大臣の任命  
 裁判官の弾劾裁判 下級裁判所裁判官の任命]

(2007年愛媛県)

[解答欄]

a	b
---	---

[解答][a 内閣不信任の決議 b 裁判官の弾劾裁判]



□ 図はわが国の三権の関係を表している。図中の(a)~(c)にあてはまる語を、次の中から一つずつ選びなさい。

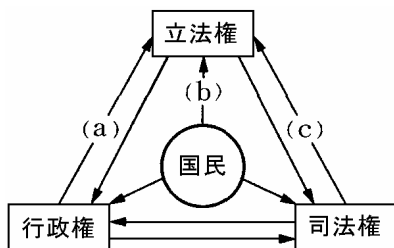
- [内閣不信任決議 選挙 弾劾裁判 世論  
 違憲立法審査 衆議院の解散 裁判官任命]

(2006年茨城県)

[解答欄]

a	b	c
---	---	---

[解答][a 衆議院の解散 b 選挙 c 違憲立法審査]



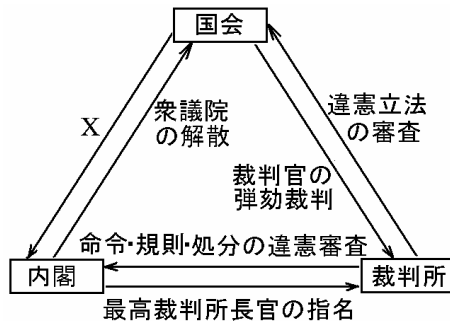
□ 右図の内閣から国会への「衆議院の解散」に対応していることがらとして、X にはどのような内容が入るか、書きなさい。

(2006年新潟県)

[解答欄]

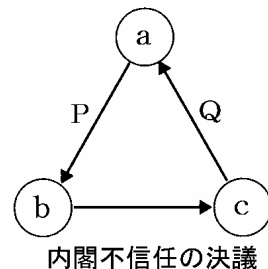
--

[解答][衆議院による内閣不信任決議]



□ 図は、裁判所、内閣、国会の関係を示し、a~c は、その機関のいずれかである。P, Q が示す仕事としてあてはまるものを、次のア~エからそれぞれ一つずつ選び、記号で答えよ。

- ア 内閣総理大臣の指名  
 イ 衆議院の解散  
 ウ 最高裁判所長官の指名  
 エ 違憲立法の審査



(2007 年福岡県)

[解答欄]

P	Q
---	---

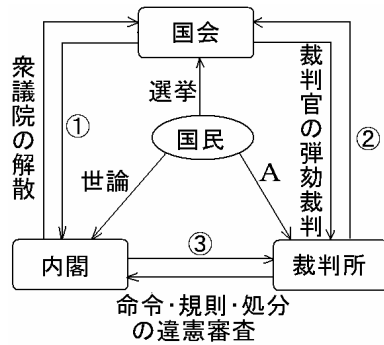
[解答][P:エ Q:ウ]

[解説]

内閣不信任の決議は衆議院が内閣に対して行うので、bは国会、cは内閣である。したがってaは裁判所である。Pは裁判所(a)が国会(b)に対してもつ権限なので、エの違憲立法の審査があてはまる。Qは内閣(c)が裁判所(a)に対してもつ権限なので、ウの最高裁判所長官の指名があてはまる。

□ 次の問いに答えなさい。

- 図中の ~ で示した→印のうち、違憲立法の審査を示しているものはどれか、~ から1つ選んで、その番号を書きなさい。
- 図中の A には、最高裁判所裁判官が適任か不適任かを判断するしくみが入る。これを何というか、書きなさい。



(2006 年兵庫県)

[解答欄]

(1)	(2)
-----	-----

[解答][(1) (2) 国民審査]

□ 国の権力は三権に分けられそれぞれ独立した機関が担当している。行政権は( )が担当している。

(2008 年山梨県)

[解答欄]

--

[解答][内閣]

[印刷 / 他の PDF ファイルについて]

このファイルは、FdData 入試社会(15,000 円)の一部を PDF 形式に変換したサンプルで印刷はできないようになっています。製品版の FdData 入試社会は Word(または一太郎)の文書ファイルで、印刷・編集を自由に行うことができます。

製品版の FdData 入試社会は次の 3 形式を収録しています。

問題解答一体形式(Word または一太郎)：このサンプルの形式。編集して印刷するのに便利。

問題解答分離形式(Word または一太郎)：購入後、ただちに印刷して使うことができます。

一問一答閲覧形式(PDF ファイル)：閲覧専用。一問一答ソフトのような使い方ができます。

FdData 入試社会全分野の PDF ファイル、 の形式(問題解答分離形式・一問一答閲覧形式)のサンプル、および製品版の購入方法は、<http://www.fdttext.com/dan/> に掲載しております。