

【】 社会保障

[ ] 社会保障の 4 本柱

[問題]

日本では年金などの社会保険をはじめ、社会福祉・公的扶助・公衆衛生の分野を整えているが、このように国や社会全体で個人の生活を支える制度を何というか。

(福井県)

[解答欄]

[解答] 社会保障制度

[解説]

日本の社会保障制度は、「すべて国民は、健康で文化的な最低限度の生活を営む権利を有する」という憲法 25 条の生存権せいぞんけんの規定にもとづいて整備された。日本の社会保障制度は、社会保険(医療保険、年金、雇用保険)、社会福祉(母子家庭、高齢者、障害者の福祉)、公的扶助(生活保護など)、公衆衛生(伝染病の予防や下水道の整備)の 4 つを基本としている。

【社会保障の4本柱】

- ・ 社会保険
- ・ 公的扶助
- ・ 社会福祉
- ・ 公衆衛生

[問題]

社会保障の 4 つの柱は、( )、公的扶助、社会福祉、公衆衛生である。文中の( ) に適語をいれよ。

(兵庫県)

[解答欄]

[解答] 社会保険

[問題]

日本の社会保障制度は憲法にもとづいて整備され、4 つの基本的な柱が立てられている。この 4 つの柱の中で、「公的扶助」と「公衆衛生」以外の 2 つを書け。

(埼玉県)

[解答欄]

[解答] 社会保険、社会福祉

[問題]

次の文の内容と最もかかわりのある権利は、[自由権 生存権 財産権 環境権]のうち  
のどれか。

収入がとだえたら，人間としての最低限度の生活さえ営むことができなくなる。そう  
した場合には，生活保護法などによって生活を保障される。また，人々が安定した生活  
を送ることができるように，老齢年金や障害年金，健康保険などの制度が設けられてい  
る。

(埼玉県)

[解答欄]

[解答]生存権

[ ] 社会保険

[社会保険]

[問題]

我が国の社会保障制度は、主として、[公衆衛生 社会保険 公的扶助 社会福祉]の4つの種類に分けられる。病気やけが、老齢、失業などによって経済的に困ったときに備えて、個人や会社などがかけ金を積み立てておき、必要が生じたときに給付を受ける制度は、このうちのどれか。

(愛媛県)

[解答欄]

[解答]社会保険

[解説]

社会<sup>しゃかい</sup>保<sup>ほし</sup>障<sup>しょう</sup>制<sup>せい</sup>度<sup>ど</sup>の中心となっているのは、社会保険で、病気や事故・失業や老後の生活にそなえて、加入者が日ごろから少しずつ掛<sup>か</sup>け金を積み立てておき、必要なときに給付を受けるしくみになっている。社会保険には、医<sup>い</sup>療<sup>りょう</sup>保<sup>ほ</sup>険<sup>けん</sup>・年<sup>ねん</sup>金<sup>きん</sup>保<sup>ほ</sup>険<sup>けん</sup>・介<sup>かい</sup>護<sup>ご</sup>保<sup>ほ</sup>険<sup>けん</sup>・雇<sup>こ</sup>用<sup>よう</sup>保<sup>ほ</sup>険<sup>けん</sup>・労<sup>らう</sup>災<sup>さい</sup>保<sup>ほ</sup>険<sup>けん</sup>の5種類がある。

[社会保険]

医療保険  
年金保険  
介護保険 など

医療保険

病院で<sup>ちりょう</sup>治療を受けた場合、窓口で<sup>じ</sup>自<sup>こ</sup>己<sup>ふたんぶん</sup>負担分の費用を支払う。自己負担の割合は3割であるので、例えば窓口で支払った金額が3000円である場合は、残りの7割の7000円は健康保険組合等が負担することになる。

年金保険

自営業者が加入する国民年金の場合、月々の保険料は約15,000円である。年金の支給開始は、原則として65歳である。支給額は保険料を支払った期間によって異なるが、満額で月7,9000円(20～60歳の40年間の場合)、現在の受給者の平均月額額は約53,000円である。サラリーマンが加入する厚生<sup>こうせいねんきん</sup>年金の場合、保険料は収入の約15%で、そのうちの半分は企業(雇用主)が支払う。年金の支給開始は、原則として65歳で、現在の受給者の平均月額額は約165,000円である。公務員が加入するのは共済<sup>きょうさい</sup>組合である。

介護保険

高齢化が進むなか、自宅や施設で保健・医療・福祉<sup>ふくし</sup>サービスが総合的に受けられることを目的とした<sup>かいごほけん</sup>介護保険制度が2000年から導入され、40歳以上の全ての国民が保険料を負担することになった。

その他 雇<sup>こ</sup>用<sup>よう</sup>保<sup>ほ</sup>険<sup>けん</sup>は失業したとき生活費を支給し、再<sup>さい</sup>就<sup>しゅう</sup>職<sup>しょく</sup>を助ける制度である。

[問題]

老齢年金は、社会保障制度の4つの種類のうち、どれによって給付されるものか、次から1つ選べ。

[ 公的扶助 社会保険 社会福祉 公衆衛生 ]

(富山県)

[解答欄]

[解答]社会保険

[問題]

資料の事例は、次のどの基本的な柱にあてはまる制度によるものか、4つの柱から1つ選んで書け。

基本的な柱：社会保険，公的扶助，社会福祉，公衆衛生

事例：2005年，40歳代のある会社員が風邪で通院したとき，医療費の自己負担が3割だった。

課題：社会保障を支える財源の確保

(秋田県)

[解答欄]

[解答]社会保険

[問題]

年金や介護サービスなどは、日本の社会保障制度における4つの基本的な柱のうち、どれにあてはまるか。漢字4字で書け。

(福島県)

[解答欄]

[解答]社会保険

[問題]

次の資料は、ある企業に勤務する A さんの給料からの控除(引かれるお金)額をまとめたものである。このうち、A さんが支払っている社会保険料は合計でいくらになるか。

所得税	住民税	厚生年金	健康保険	雇用保険	介護保険
9,900 円	20,000 円	15,000 円	8,000 円	3,300 円	2,200 円

(福井県)

[解答欄]

[解答]28,500 円

[解説]

表の項目のうち、社会保険は、厚生年金、健康保険、雇用保険、介護保険の 4 つである。

[問題]

社会保険は、どのような状況になったときに給付を受けることができるか、具体的に 1 つ書け。

(熊本県)

[解答欄]

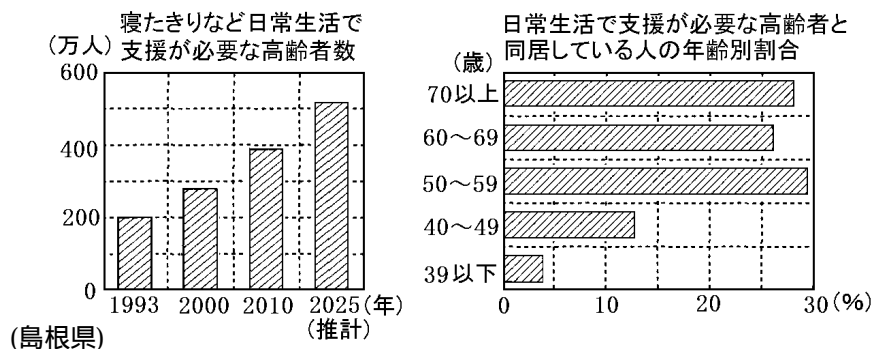
[解答]病院で治療を受けたとき。

[介護保険]

[問題]

わが国の社会保障の問題点の 1 つを、下のグラフから読み取り、その解決のための制度として最も適当なものを、次から 1 つ選べ。

[ 介護保険制度 医療保険制度 雇用保険制度 年金保険制度 ]



[解答欄]

[解答]介護保険制度

[解説]

日本では、他の国にも例がないほどのスピードで高齢化が進んでいる。介護が必要な高齢者の数も急速に増大している(問題の左図)。また、核家族化の進展から、高齢者だけの家族、あるいは一人暮らしの高齢者が増えており、現在介護を行っている人の半数以上は60歳以上の人々である(問題の右図)。例えば、80歳になる寝たきりの夫を75歳の妻が介護しているような場合である。食事・着替え・入浴など日常的な介護だけでも、大変な労力を要する。さらに、深夜であっても介護を必要とすることも少なくない。介護には、時間的な切れ目がないため、介護者の肉体的・精神的な負担は非常に大きい。介護者が「1週間に1度、半日でもいいから介護から解放されたい」と願うのは、ごく自然なことである。ホームヘルパー・デイサービス・ショートステイなどの介護サービスはこうした願いに応えるためのものである。デイサービスとは、例えば朝、車が迎えに来てくれて施設に入り、レクレーションや入浴などで1日を過ごして夕方に帰ってくるサービスである。「行った本人も気分が変わって機嫌が良くなって帰ってきます。何が助かるって、在宅で面倒見ている家族が1日開放されるのが助かるんです。毎日毎日延々介護していると終わりのないような感じがして耐えられなくなります。一週間に2回ですがその2回の日に出発ができ、家族の気分転換ができるんです。」とは、実際にこれを利用したある家族の感想である。

ショートステイとは介護している人が病気や家事都合で一時的に介護できなくなったとき、特別養護老人ホームなどでその高齢者を短期間介護することである。

ここで問題になるのは介護のための費用である。介護サービスは、人手を要するため人件費がかかる。仮に、費用の全額を利用者が負担する場合、ホームヘルプサービスは1回・1時間で4000円、デイサービスは1日で1万円といった大きな金額になってしまう。

そこで、2000年から導入されたのが介護保険制度である。介護保険は社会保険の一種であり、40歳以上の全国民が保険料を払い、介護が必要になった場合は、その障害の程度に応じて介護サービスを受けることができる。要介護認定は市区町村が行い、申請者は、その結果に応じてケアマネージャーと相談して介護サービス計画(ケアプラン)を作成し、サービスを利用することになる。利用者は費用の10%を負担するだけですみ、残りは国民が負担する保険料(45%)と公的資金(税金)(45%)が負担することになる。

[問題]

下の資料は、福祉施設で説明を受けた、ある保険制度のサービスの例である。政府が2000年から導入したこの保険制度の名前を書け。

	午前	午後	夜間
月	家事などの援助		巡回ヘルプ
火		デイサービス・デイケア	
水		家事などの援助	巡回ヘルプ
木		デイサービス・デイケア	
金	家事などの援助		巡回ヘルプ
土		デイサービス・デイケア	
日	家事などの援助		

(山梨県)

[解答欄]

[解答]介護保険制度

[問題]

わが国では、2000年から介護保険制度が導入された。この制度において、原則、保険に加入し、保険料を払い始める年齢は何歳からか、次の[ ]の中から適切なものを1つ選べ。

[ 20歳 30歳 40歳 50歳 ]

(和歌山県)

[解答欄]

[解答]40歳

[問題]

わが国で2000年から実施されている介護保険は、社会保障制度の4種類の柱のうちどれに含まれるか、次から1つ選べ。

[ 公衆衛生・医療 社会福祉 公的扶助 社会保険 ]

(徳島県)

[解答欄]

[解答]社会保険

[問題]

右の資料は、ある社会保険の給付費の負担割合をあらわしている。この社会保険を次から1つ選べ。

[ 年金保険 介護保険 雇用保険 労災保険 ]

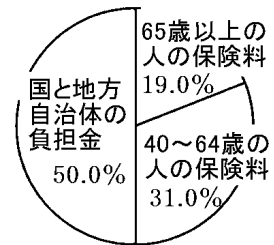
(石川県)

[解答欄]

[解答]介護保険

[解説]

グラフよりこの保険の保険料を支払うのは40歳以上の人であることがわかる。40歳以上の人が保険料を支払うのは介護保険である。



[問題]

高齢社会に対応した介護保険制度に関する説明として正しいものを、次のア～エから1つ選び、記号で答えよ。

- ア 生活の保障を目的とした公的扶助の1つである。
- イ 介護が必要な人に対して、国が介護サービスを行う。
- ウ 生存権を保障するためにつくられた制度の1つである。
- エ 第二次世界大戦後、民主化政策の1つとして始まった。

(熊本県)

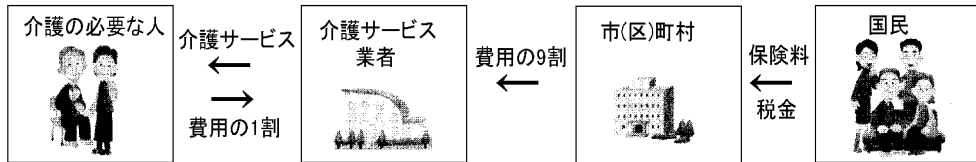
[解答欄]

[解答]ウ



[問題]

図は、2000年4月から始まった介護保険制度のしくみを示している。図をみて、介護保険制度のよさを、「介護の必要な人が、」の書き出しで、「国民」と「介護サービス」の語句を使って書け。



(福岡県)

[解答欄]

[解答]介護の必要な人が、国民が納める保険料や税金をもとに、少ない負担で介護サービスを受けることができる。

[ ] 社会福祉・公的扶助・公衆衛生

[公的扶助]

[問題]

さまざまな理由で生活が困難になり、最低限度の生活を維持できない人に生活費を保障する制度は、次の何にあてはまるか、1つ選べ。

[ 社会保険 公的扶助 社会福祉 公衆衛生 ]

(沖縄県)

[解答欄]

[解答]公的扶助

[解説]

公的扶助こうてきふじょは、生活保護法による生活保護が中心で、生活に困っている程度によって、生活扶助・医療扶助・住宅扶助・教育扶助などの経済的援助が行われる。そのための費用は、すべて国庫支出によってまかなわれている。

[問題]

公的扶助の内容について、最も適切に述べているものを、次のア～エの中から1つ選び、その記号を書け。

- ア 児童や老人、障害者など社会的に弱い立場の人々に、施設やサービスを提供する。
- イ 伝染病の予防や上下水道の整備などを通して、国民の健康増進と生活環境の改善をはかる。
- ウ 生活保護法などにもとづき、生活が困難な人々に対し、生活費や教育費などを支給する。
- エ 病気、老齢、失業、労働災害などに対して、積み立てた掛け金から一定の給付を行う。

(和歌山県)

[解答欄]

[解答]ウ

[社会福祉]

[問題]

わが国の社会保障制度のうち、障害者をはじめ、高齢者や児童などを支援し、自立を助ける制度として最も適当なものは、次の[ ]のうちのどれか。1つ選べ。

[ 社会保険 公的扶助 社会福祉 公衆衛生 ]

(香川県)

[解答欄]

[解答]社会福祉

[解説]

日本の社会保障の4本柱は社会保険、社会福祉、公的扶助、公衆衛生である。このうちの社会福祉は、社会生活上でハンディキャップをもつ人(社会的弱者)の生活を保障し、自立を助けるための制度である。老人・心身障害者・母子家庭・児童などがその対象となる。具体的には、老人ホームなどの福祉施設、障害者のための援護施設や職業訓練施設、児童養護施設や保育所などの社会福祉施設が作られ、市町村に設けられた社会福祉事務所が福祉行政を行っている。

[問題]

社会福祉について述べたものを、次のア～エから1つ選び、その記号を書け。

ア 保護や援助を必要とする児童や高齢者や障害者の生活を支援する。

イ 病気を予防したり、環境衛生を改善したりする。

ウ 所得の少ない人々に生活費を支給する。

エ 病気・けが、失業、高齢になったときの生活を保障する。

(高知県)

[解答欄]

[解答]ア

[公衆衛生]

[問題]

伝染病などの予防をめざす仕事と最も関係が深いものを，次から 1 つ選べ。

[ 公的扶助 社会保険 社会福祉 公衆衛生 ]

(石川県)

[解答欄]

[解答]公衆衛生

[問題]

日本国憲法 25 条に定められている公衆衛生の説明として正しいものを，次のア～エから 1 つ選べ。

ア 国民の健康保持・増進を図り，感染症の予防などをめざすこと。

イ 自立が困難な人々に対して，生活の保障や支援のサービスをすること。

ウ 人々が積み立てた保険料を，病気や高齢になったときに給付すること。

エ 生活に困り最低限度の生活を営めない人に生活費などを給付すること。

(山口県)

[解答欄]

[解答]ア

[社会保障全般]

[問題]

現在の日本の社会保障制度として誤っているものを，次のア～エから 1 つ選んで記号で書け。

ア 公的扶助・社会保険・社会福祉・公衆衛生の 4 つの柱からなっている。

イ 健康で文化的な生活を営むことができるという自由権にもとづいている。

ウ 公衆衛生は，感染症などの予防をめざしている。

エ 介護を必要とする高齢者が増加するなか，介護保険制度が始まっている。

(福井県)

[解答欄]

[解答]イ

[解説]

イは自由権ではなく社会権。

[問題]

すべての人々が安心して豊かな生活を送ることができるよう社会全体で支え合うしくみがつくられている。次のうち、わが国の社会保障制度について述べた文として、その内容が誤っているものを1つ選び、記号を書け。

ア 健康で文化的な最低限度の生活を営む生存権の理念に基づいている。

イ 公的扶助，社会保険，社会福祉，公衆衛生の4つを柱としている。

ウ 社会保障制度における給付などの費用は，すべて保険料によってまかなわれている。

エ 介護を社会全体で支えていくことをねらいとして介護保険制度が導入されている。

(大阪府)

[解答欄]

[解答]ウ

[問題]

社会保険費について説明している文章として適切なものを下のア～エから1つ選び、記号で答えよ。

ア 福祉施設やサービスを提供する費用

イ 予防接種や公衆衛生を行う費用

ウ 環境衛生や廃棄物処理をする費用

エ 老人医療費や年金を給付する費用

(沖縄県)

[解答欄]

[解答]エ

[問題]

次にあげた社会保障制度に関する文のうち、自分自身も一定の掛け金を積み立てておく必要のある制度について説明したものはどれか、次のア～エから1つ選び、記号で答えよ。

- ア 児童や高齢者、障害者など、自立することが困難な人に、施設やサービスなどを、提供する。
- イ 様々な理由で生活が困難な人に、生活費や教育費などを支給する。
- ウ 病気やけがで必要が生じた時に、医療費を給付する。
- エ 感染症対策や、上下水道の整備などをおこなう。

(鳥取県)

[解答欄]

[解答]ウ

## 【】公害の防止と環境保全

[ ] 公害の防止

[四大公害]

[問題]

四大公害病とされるのは新潟水俣病，イタイイタイ病，水俣病とあと1つは何か。

(長崎県)

[解答欄]

[解答]四日市ぜんそく

[解説]

戦前の日本においても、<sup>あしおとうざんこうどくしけん</sup>足尾銅山鉍毒事件、<sup>べっし</sup>別子煙害事件など深刻な公害問題が起こっていた。戦後、日本は急速な経済発展をとげたが、企業は成長を最優先にして公害防止や安全の費用をおしんだ。こうした中、各地で深刻な公害問題が発生した。なかでも、<sup>みなまた</sup>熊本県水俣湾の水俣病、<sup>みえけんよっかいち</sup>三重県四日市の四日市ぜんそく、<sup>しんづうがわ</sup>富山県神通川流域のイタイイタイ病、<sup>にいがたみなまたびょう</sup>新潟県阿賀野川流域の新潟水俣病の4つは四大公害とよばれた。四大公害のうちの3つは<sup>すいしつおたく</sup>水質汚濁が原因である。すなわち、水俣病と新潟水俣病は工場廃液中の有機水銀が、イタイイタイ病はカドミウムが原因であった。これに対し、四日市ぜんそくは、工場の煙突から大気中の排出された<sup>いおうさんかぶつ</sup>硫黄酸化物・<sup>ちっそ</sup>窒素酸化物による大気汚染であった。

こうした中、1960年代のなかばから公害反対の世論がまきおこり、各地で住民運動がさかんになった。四大公害の被害者は、それぞれ<sup>おせん</sup>汚染物質を排出した企業を相手どって訴訟を起こし勝訴した。国は1967年に公害対策基本法を制定したが、1970年にはこれを改正し、1971年には<sup>かんきょうちょう</sup>環境庁を発足させ公害防止に本腰を入れるようになった。企業も、公害防止に力を注ぐようになり、公害防止のための投資を行うようになった。産業公害に対する国民の認識も変わり、企業側の意識も大きく転換した。こうして「公害対策基本法」が一番問題にしていた産業公害の問題は徐々に<sup>ちんせい</sup>沈静化していった。



[問題]

「四大公害病」のうち、三重県四日市市で起こった公害病の主な原因は、次のどれか。

[ 水質汚濁 土壌汚染 大気汚染 騒音 ]

(岡山県)

[解答欄]

[解答]大気汚染

[解説]

四大公害病のうち、大気汚染たいきおせんが原因であるのは四日市ぜんそくよっかいちである。あとの3つみなまたびょう (水俣病、イタイイタイ病、新潟水俣病にいがたみなまたびょう すいしつおたく)は水質汚濁が原因である。

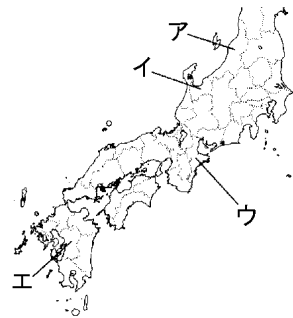
[問題]

四大公害のうち、大気汚染を原因とする公害はどの県でおきたか。右の地図のア～エの中から1つ選べ。

(福島県)

[解答欄]

[解答]ウ



[問題]

次のア～エの文は、1950年代後半からの高度経済成長が進むなかで深刻化してきた公害や環境問題などについて述べたものである。その内容が誤っているものはどれか。1つ選び、記号を書け。

ア 四大公害裁判では、いずれも原告側の主張が認められた。

イ 有害物質による被害は、高度経済成長期にはじめて発生した。

ウ 国や地方公共団体において、公害防止対策が進められるようになった。

エ 新しい人権の1つとして、よい環境を求める権利である環境権が主張されるようになった。

(大阪府)

[解答欄]



[解答]イ

[解説]

イが誤り。すでに明治時代に足尾銅山あしおどうざんの鉱毒事件こうどくがおきている。

[問題]

1971年に環境庁が設置された目的を、当時の日本経済の様子を含めて書け。

(石川県)

[解答欄]

[解答]高度経済成長期に深刻化した公害問題に対応するため。

[環境基本法]

[問題]

環境の保全に関する施策を総合的に推進するために、1993年に公害対策基本法にかわって制定された法律を何というか。その名称を書け。

(広島県)

[解答欄]

[解答]環境基本法

[解説]

高度経済成長期に問題化した公害は、企業の排出物はいしゅつぶつによる産業公害が中心であった。公害対策基本法やその他の法律がつられ、産業公害をまき散らすような企業の存立を許さないというように産業公害に対する国民の認識も変わり、企業側の意識も大きく転換した。こうして「公害対策基本法」が一番問題にしていた産業公害の問題はしだいに沈静化ちんせい化していった。

しかし、1990年前後から、二酸化炭素の増大による地球温暖化ちきゅうおんだんかやフロンガスによるオゾン層の破壊など地球規模の環境問題かんきょうが意識されるようになった。1993年には、地球サミットなどの世界的な環境保護の気運の高まりをうけて、それまでの公害対策基本法にかわって環境基本法が制定された。「環境基本法」は、第一条にあるように、「環境に関する国の政策の基本的な方向を示す」法律である。

[問題]

次の文は、1993年に制定された、わが国のある法律の一部である。この法律は何というか。

第1条

この法律は、環境の保全について、基本理念を定め、並びに国、地方公共団体、事業者及び国民の責務を明らかにするとともに、環境の保全に関する施策を総合的かつ計画的に推進し、もって現在及び将来の国民の健康で文化的な生活の確保に寄与するとともに人類の福祉に貢献することを目的とする。

(栃木県)

[解答欄]

[解答]環境基本法

[問題]

次の文の、 に適語を入れよ。

日本では地球環境問題への対応が求められるなか、国は1993年に( )法を制定し、環境の保全に関する施策の基本的な方向を示した。また、国や地方公共団体などは、紙・缶などのリサイクルや電気・ガスなどを節約する( )対策を進めている。私たちは、地球温暖化防止など地球環境を守るために、身近な生活のなかで、くらし方を見直し、リサイクルや( )に取り組み、二酸化炭素排出量の削減など環境の保全に努めることが大切である。

(兵庫県)

[解答欄]

<input type="text"/>	<input type="text"/>
----------------------	----------------------

[解答] 環境基本 省エネルギー

[問題]

環境基本法が制定されたのは、次のどの時期か。

- ア 1955年以前の時期
- イ 1956年から1970年間の時期
- ウ 1971年から1985年間の時期
- エ 1986年から2000年間の時期

(神奈川県)

[解答欄]

[解答]工

[問題]

公害対策基本法に「公害」として示されておらず、環境基本法に示されている地球環境問題を、次から 1 つ選べ。

[ 土壌の汚染 地盤の沈下 オゾン層の破壊 水質の汚濁 ]

(福岡県)

[解答欄]

[解答]オゾン層の破壊

[環境アセスメント]

[問題]

法律で定められた制度により、事業者には、開発にあたって事前に環境への影響を調査することが義務づけられている。このことを何というか。

(山形県)

[解答欄]

[解答]環境アセスメント

[解説]

1997 年に環境影響評価法かんきょうえいきょうひょうかほうが制定され、開発事業者に環境アセスメントを行うことが義務づけられた。環境アセスメントとは、都市の開発や大規模な建設を行う前に、自然環境への影響を調査し、結果を公表して住民の意見を聞いて、十分な環境保全対策を行うためのものである。

[問題]

環境保全と経済発展の両立を図るための方策の 1 つとして、「環境アセスメント」がある。「環境アセスメント」とは、どういうことか、「開発にあたって、」という書き出しに続けて説明せよ。

(岡山県)

[解答欄]

[解答]開発にあたって、事前に開発が環境に対してどのような影響を及ぼすのかについて調査、予測すること。

[その他]

[問題]

ポイ捨て防止条例は、自然環境や生活環境の悪化が進むなか、人間が健康で快適な環境を享受し、維持する権利を実現するためのものである。同じような目的をもつ取り組みとして、あてはまる最も適切なものを1つ選んで記号を書け。

- ア 裁判員制度の整備
- イ ディーゼル車の規制
- ウ 赤字国債発行の抑制
- エ オンブズマン制度の導入

(秋田県)

[解答欄]

[解答]イ

[問題]

環境問題について、日本で取り組まれている内容として適切でないものを、次のア～エの中から1つ選び、その記号を書け。

- ア ガソリンや石炭などには、環境への負荷に応じて税金をかける環境税が導入されている。
- イ 貴重な自然や歴史的環境を守るための、ナショナルトラスト運動が行われている。
- ウ 循環型社会をめざして、資源の再生利用・再使用やゴミの抑制などが行われている。
- エ 太陽光発電、風力発電、ハイブリッドカーなどの開発や普及が進められている。

(青森県)

[解答欄]

[解答]ア

[解説]

アが誤り。日本では環境税は導入されていない。

イは正しい。ナショナル・トラスト運動とは、もともとは歴史的建造物(文化財や歴史地区)の保護を目的としたもので、後に自然の景勝<sup>けいしょう</sup>も保全する活動に拡大された。日本では、市民有志による土地の買い上げや自治体に買い取らせる事により、環境保護を行うものと解されている。

ウとエは正しい。

[ ] 循環型社会

[循環型社会]

[問題]

右図は、容器や包装の識別マークの1つであり、分別をやすくし、廃棄物の有効利用や減量化を促進するために、表示が義務づけられている。このように、生産物の再利用を徹底し、廃棄物をなくすことをめざす社会を何というか。次から選べ。



[ 情報社会 少子高齢社会 循環型社会 多文化社会 ]

(愛媛県)

[解答欄]

[解答]循環型社会

[解説]

2000年に制定された循環型社会形成推進基本法は、ごみの発生をおさえ、かつ再利用、再生利用等を促進することで、天然資源の消費と環境への負荷をできる限り減らすことを目的としている。例えば、スーパーでの買い物には自分の買い物袋を持っていきレジ袋はもらわない人が増えているが、これはゴミの発生をおさえるための試みである。また、あき缶やペットボトルのリサイクルを容易にするために、空き缶等の分別収集が行われている。清涼飲料水などの容器に表示されている右図のようなマークは分別収集を容易にするためのものである。



[問題]

2000年に制定された( X )型社会形成推進基本法では、ごみの発生する量をおさえ、リサイクルすることなどが求められている。これまでのごみ問題への取り組みを見直し、(X)型社会になるように、家庭、企業、地方公共団体、国がそれぞれの役割を果たすことが大切である。(X)に共通してはいる語句を答えよ。

(長野県)

[解答欄]

[解答]循環

[問題]

循環型社会の形成に向け、消費者としての国民の責務を定めている法律について述べているのは、次のア～エのうちのどれか。

- ア この法律は、製造物の欠陥により人の生命、身体又は財産に被害が生じた場合の製造業者に対する損害賠償の責任を定めることにより、被害者の保護を図ることを目的に制定された。
- イ この法律は、事業者の不適切な説明等により消費者が誤認して契約を結んだ場合に契約を取り消すことができるようにすること等により、消費者の利益を守ることを目的に制定された。
- ウ この法律は、製品等が廃棄物等となることをおさえ、かつ再利用、再生利用等を促進することで、天然資源の消費と環境への負荷をできる限り減らす社会をつくることを進め、国民の健康で文化的な生活を確保することを目的に制定された。
- エ この法律は、私的独占や不公正な取引方法等を禁止して、生産や販売等の不当な制限その他一切の不当な拘束を排除することにより、公正で自由な競争を促進することを目的に制定された。

(東京都)

[解答欄]

[解答]ウ

[解説]

アは製造物責任法(PL法)。イはクーリングオフを定めた法律。ウは循環型社会形成推進基本法。エは独占禁止法。

[問題]

循環社会を築くための具体的な例としてあてはまらないものを、1つ選んで記号を書け。

- ア 生ごみを飼料や肥料に利用する。
- イ プラスチック類を自宅で焼却する。
- ウ ガラス製びんを分別して回収する。
- エ 不要なパソコンから金属を取り出す。

(秋田県)

[解答欄]

[解答]イ

[問題]

循環型社会についての説明として、適切なものを次のア～エから1つ選び、記号で答えよ。

ア リサイクル率を高めるため、ごみの分別収集が各地ではじまっている。

イ 製品を使ったあとの廃品の回収・再生利用については、すべて生産者に責任をもたせている。

ウ 日本のリサイクルへの取り組みは、ドイツなどに比べるとすすんでいる。

エ 日本人の生活様式が変化したため、ごみの年間排出量は年々減っている。

(沖縄県)

[解答欄]

[解答]ア

[問題]

循環型社会が必要とされているのはなぜか。その理由を資源と環境に着目して簡潔に書け。

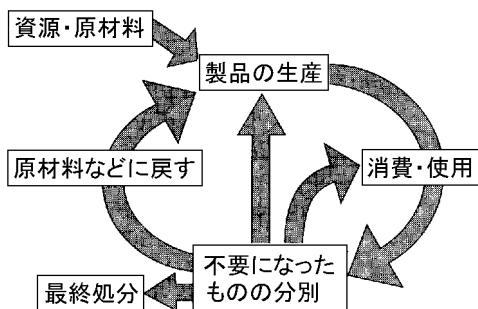
(和歌山県)

[解答欄]

[解答]限りある資源を有効に利用し、環境を維持するため。

[問題]

「不要になったものの分別」を適切にすすめることは、「資源・原材料」の消費量にどのような影響を与えると考えられるか、次の資料を参考に、理由を含めて。



(三重県)



[解答欄]

[解答]製品の再使用や再生利用がすすむため、資源・原材料の消費量が抑えられる。

[リデュース・リユース・リサイクル]

[問題]

リデュース(ゴミの発生を抑制する)、リユース(再使用する)の具体例の組み合わせとして最も適当なものを、次のア～エから1つ選び、記号で答えよ。

- a アルミ缶とスチール缶をきちんと分別して、資源ごみの日に出す。
- b 買い物には、自分の買い物袋を持っていき、レジ袋はもらわない。
- c 食品を買う際は、表示をみて、食品添加物の少ないものを買う。
- d ビールびんを小売店に持っていき、びん代を返却してもらおう。

[ア -c. -d イ -b. -a ウ -d. -a エ -b. -d]

(鳥取県)

[解答欄]

[解答]エ

[解説]

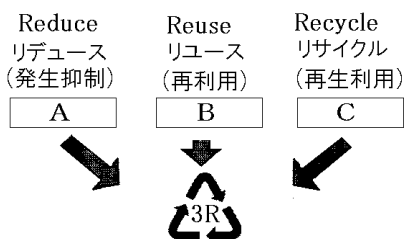
- a は資源のリサイクル、回収された鉄やアルミは地金に再生される。
- b はゴミの発生を抑制する(リデュース)の効果がある。
- c は食品の安全に関することで、資源の有効利用とは関係がない。
- d は資源の再利用(リユース)。回収されたビールびんは、ふたたび使用される。

[問題]

右の図は、循環型社会のキーワードを示したものである。次のア～ウのうち、図中のA～Cのそれぞれにあてはまる事例はどれか。1つずつ選び、その記号を書け。

- ア 分別回収に協力する。
- イ 容器をくり返し使う。
- ウ 買い物でマイバッグを使う。

(岩手県)



[解答欄]

A	B	C
---	---	---

[解答]A ウ B イ C ア

[問題]

次のア～エのうち、リサイクルの具体例はどれか。

ア 牛乳ビンを回収し、洗浄・殺菌するなどして、繰り返し利用する。

イ 買い物の際にマイバッグを持参して、レジ袋の使用を控える。

ウ ペットボトルを回収して、資源として再生利用する。

エ 故障した時計を修理して、買い替えずに使用し続ける。

(栃木県)

[解答欄]

[解答]ウ

[解説]

アはリユース，イはリデュース，ウはリサイクル，エはリデュース。

[問題]

空き缶などを資源として再利用することを( )といい、消費者は空き缶の分別収集や回収に協力することが大切である。文中の( )に適語をいれよ。

(兵庫県)

[解答欄]

[解答]リサイクル

[問題]

右のマークは、現在、清涼飲料水などの容器に表示されているものである。これらのマークはどのような目的で表示されているか、「分別」と「資源」の2つの語を用いて簡潔に書け。

(栃木県)



[解答欄]

[解答]空き容器を分別して収集し，資源の再利用をすすめるため。

[問題]

循環型社会形成推進基本法に明記された，モノの生産から処分にいたるまでの循環型社会をめざした行動として，リユースやリサイクルの前に実施すべきリデュースとはどのような行動か，簡単に説明せよ。

(福井県)

[解答欄]

[解答]ごみの発生を抑制する。

[問題]

私たちは，現在と将来の世代の様々なニーズを満たすような社会を形成しなければならない。下線部のような社会を「( )可能な社会」という。( )の中にあてはまる言葉を漢字2文字で答えよ。

(沖縄県)

[解答欄]

[解答]持続

[印刷 / 他の PDF ファイルについて]

このファイルは、FdData 入試社会(16,200 円)の一部を PDF 形式に変換したサンプルで、印刷はできないようになっています。製品版の FdData 入試社会は Word の文書ファイルで、印刷・編集を自由に行うことができます。

FdData 入試社会・入試理科全分野の PDF ファイル、FdData 中間期末(社会・理科・数学)全分野の PDF ファイル、および製品版の購入方法は <http://www.fdtex.com/dan/> に掲載しております。

下図のような、[FdData 無料閲覧ソフト(RunFdData2)]を、Windows のデスクトップ上にインストールすれば、FdData 中間期末・FdData 入試の全 PDF ファイル(各教科約 1800 ページ以上)を自由に閲覧できます。次のリンクを左クリックするとインストールが開始されます。

RunFdData 【 <http://fddata.deci.jp/lnk/instRunFdDataWDs.exe> 】

ダイアログが表示されたら、【実行】ボタンを左クリックしてください。インストール中、いくつかの警告が出ますが、[実行][許可する][次へ]等を選択します。

【イメージ画像】



【Fd 教材開発：URL <http://www.fdtex.com/dat/> Tel (092) 404-2266】