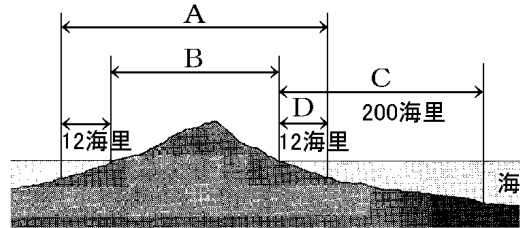


【】国際関係

【】領土・国際法

[問題]

次の図は、日本の領土や領空、領海などについて示したものである。このうち、領空と領海の範囲を示した記号の組み合わせとしてふさわしいものはどれか。



- 1 領空：A 領海：C
- 2 領空：A 領海：D
- 3 領空：B 領海：C
- 4 領空：B 領海：D

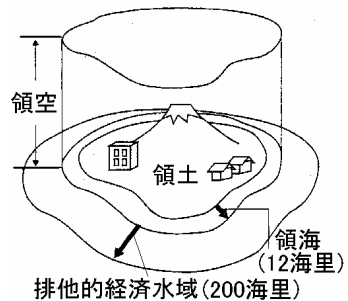
(2007 年神奈川県)

[解答欄]

[解答]2

[解説]

国家の領域は、領土・領海(海岸線から 12海里)・領空(領土と領海の上空)である。(1 海里は 1852m) 領海の外は公海でどの国の船でも自由に航海できる。これを公海自由の原則という。さらに、領海の外の海岸から 200 海里(約 370km)までの範囲を経済水域として漁業資源などを沿岸国の権利として認めている。(ただし、南極大陸は、どこの国の領域にもなっておらず、人類の共通資産となっている。)



[問題]

国家の領域は、領土・()・領空からなり、()は国際法で海岸線から 12 海里を超えない範囲と定められている。さらにその外側に、海岸線から()海里までの経済水域(排他的経済水域)の設定が認められている。

(2006 年岡山県)

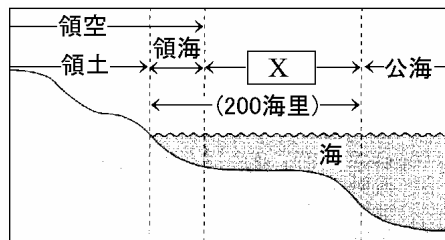
[解答欄]

[解答] 領海 200

[問題]

右の図は、国の範囲などを示す模式図です。

- (1) 図の X に入る語は、海洋に関する条約によって、沿岸の国が水産資源や鉱産資源を利用する権利をもつとされている範囲を表す語です。X にあてはまる語を書きなさい。
- (2) 世界の国々が、自国の 200 海里内における権利を行使するようになってから、日本の漁業は影響を受けてきました。その影響による、日本の遠洋漁業の漁獲量や、魚介類の輸入量の変化を、簡潔に書きなさい。



(2007 年山形県)

[解答欄]

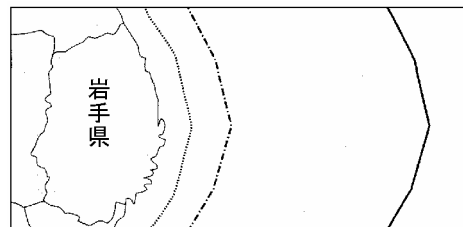
(1)

(2)

[解答](1) 排他的経済水域(経済水域) (2) 遠洋漁業の漁獲量が減り、魚介類の輸入量が増えた。

[問題]

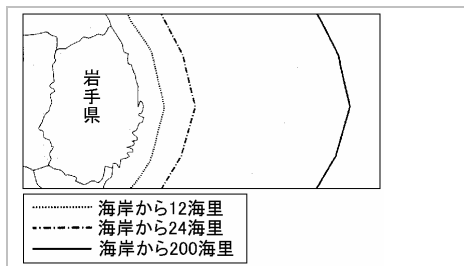
次の図は、岩手県を中心として、わが国の海岸から、12 海里、24 海里、200 海里を次の 3 種類の線で示した模式図です。経済水域は図中のどの範囲ですか。その範囲を斜線で表しなさい。



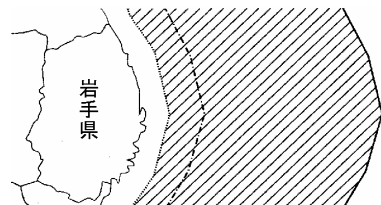
..... 海岸から12海里
 - - - 海岸から24海里
 ——— 海岸から200海里

(2006 年岩手県)

[解答欄]



[解答]



[解説]

経済水域 200海里は海岸から 200 海里までの範囲であり、その中の地下資源・水産資源はその国のものである。ただし海岸から 12 海里までは領海であり、その国の統治権が全面的に及ぶので、経済水域には含まれない。

[問題]

領海とそのまわりの経済水域の外側にあり、どこの国の船や漁船でも自由に航行や操業ができる水域を何というか書け。

(2009 年福井県)

[解答欄]

[解答]公海

[問題]

国家が成り立つためには、領土と国民と(X)の 3 つの要素が必要であるといわれています。(X)とは、他国から支配や干渉を受けず、国内の政治や外交についての決定権を自らもつことをいいます。国際社会は(X)国家によって構成されており、すべての国の(X)を平等に尊重しあうことが、国際社会の大切な原則です。

(2005 年三重県)

[解答欄]

[解答]主権

[解説]

国家の 3 要素は、国民・領域・主権(政治権力)である。主権は、他国から支配や干渉を受けない権利(内政不干渉の原則)、多くの国々に対等である権利(主権平等の原則)からなっている。主権の確立した国を主権国家という。

[問題]

それぞれの国がもつ、他国の支配や干渉を受けず、自国の領土や国民の安全を主張できる権利を何というか漢字で書け。

(2007 年福井県)

[解答欄]

[解答]主権

[問題]

国際法は、国家が互いに主権を尊重し合っていくために、国際社会において守らなければならないルールであり、長年の慣行から法となった国際()法と、国家間で結ばれる条約などから成っている。

(2005 年愛媛県)

[解答欄]

[解答]慣習

【】国際連合：発足

[問題]

国家どうしの戦争を防ぎ、世界の平和を維持することを最大の目的として 1945 年に結成された機関の名を、漢字 4 字で書きなさい。

(2007 年岐阜県)

[解答欄]

[解答]国際連合

[解説]

国際連盟が第二次大戦を防げなかった反省から、もっと強力な国際組織を作って世界の平和を維持しようと、1945年にサンフランシスコに51ヶ国が集まり、国際連合憲章を採択し、国際連合が成立した。国際連合は総会・安全保障理事会・経済社会理事会・事務局などから成り、本部はニューヨークに置かれている。

[問題]

略称である「国連」を、省略せずに漢字 4 字で書きなさい。また、その本部が置かれている都市を、次の[]から 1 つ選びなさい。

[ロンドン ニューヨーク パリ ワシントン]

(2009 年長野県)

[解答欄]

[解答]国際連合 / ニューヨーク

[問題]

国連の本部が置かれている都市名を書きなさい。

(2007 年福島県)(2007 年徳島県)

[解答欄]

[解答]ニューヨーク

[問題]

国際連合が発足したのは何年か。次から一つ選びなさい。

[1920年 1933年 1945年 1956年]

(2005年高知県)

[解答欄]

[解答]1945年

[問題]

国際連合が発足した理由を、次の三つの語句を用いて説明しなさい。

[国際連盟 反省 平和]

(2006年福島県)

[解答欄]

[解答]国際連盟が第二次大戦を防げなかった反省を生かして、再び戦争をおこすことなく、世界の平和を維持しようとしたから。

[問題]

国際連合の設立の目的をふまえて、下の資料中の(A)に共通してあてはまる語句を書け。

(資料)国際連合憲章(一部)

...寛容を実行し、且つ、善良な隣人として互いに(A)に生活し、国際の(A)及び安全を維持するためにわれらの力を合わせ、共同の利益の場合を除く外は武力を用いないことを原則の受諾と方法の設定によって確保し、...

(2005年長崎県)

[解答欄]

[解答]平和

【】国際連合：加盟国数の変化

[問題]

現在の国連加盟国数として、最も近いものは次のどれか。[100 150 200 250]

(2007年神奈川県)

[解答欄]

[解答]200

[解説]

1945年にサンフランシスコに51ヶ国が集まり、こくさいれんごうけんしやう国際連合憲章を採択し、さいたく国際連合が成立した。現在の加盟国数は192ヶ国(2009年)である。

[問題]

国際連合の加盟国数(2009年3月未現在)とその本部がある都市の組み合わせとして、最も適当なものはどれか。

- ア 192, ジュネーブ イ 154, ジュネーブ
ウ 192, ニューヨーク エ 154, ニューヨーク

(2006年鹿児島県)

[解答欄]

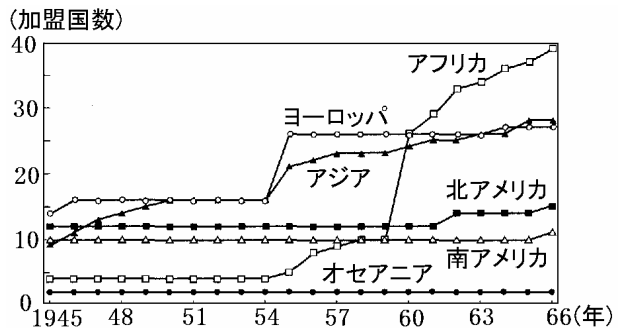
[解答]ウ

[問題]

次のグラフは、1945年～1966年における、世界の6州別の国際連合加盟国数の推移を示したものである。次の(1)、(2)の問いに答えよ。

(1) グラフの1957年から1963年にかけて大きな変化がみられる。その特徴について簡潔に書け。

(2) (1)のような変化があらわれた理由を簡潔に書け。その際、その州がおかれていた状況についてふれること。



(2007 年長崎県)

[解答欄]

(1)

(2)

[解答](1)アフリカの加盟国が大幅に増えたこと。(2) アフリカには多数の植民地があり,その多くが独立国となったため。

[解説]

アジアでは第二次世界大戦後,多くの国が独立したために 1945~1955 年間の国連加盟国数が増加している。1960 年は「アフリカ年」といわれ,多くの独立国が生まれた。これによって,1955~1965 年間のアフリカ諸国の国連加盟国数が増加している。ヨーロッパでは,1991 年にソ連が崩壊し,多くの共和国が生まれたため国連加盟国数が増加した。

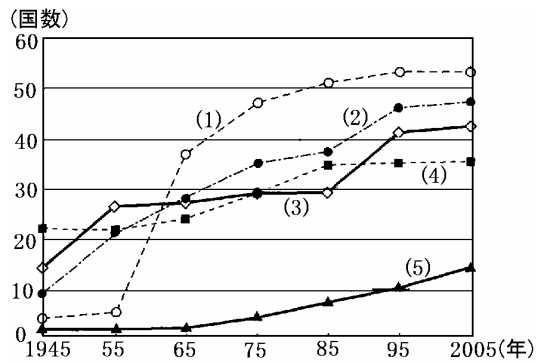
[問題]

右の図は,国際連合の地域別加盟国数の推移を 10 年ごとに表したもので,図中の(1)~(5)は,アジア,南北アメリカ,アフリカ,オセアニア,ヨーロッパのいずれかの地域を示している。アフリカに当てはまるのは,(1)~(5)のうちのどれですか。

(2006 年岡山県)

[解答欄]

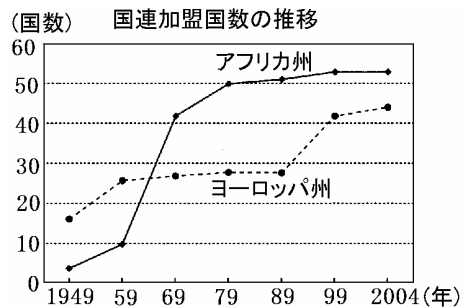
[解答](1)



[問題]

右の資料で,アフリカ州の加盟国数は 1959 年から 1969 年の間に,ヨーロッパ州の加盟国数は 1989 年から 1999 年の間に大幅に増えていることがわかります。それはなぜですか。当時の国際情勢をふまえ,それぞれの州について,簡潔に書きなさい。

(2005 年和歌山県)



[解答欄]

アフリカ州：

ヨーロッパ州：

[解答]アフリカ州：多くの植民地が独立したから，ヨーロッパ州：ソ連が崩壊して多くの国が生まれたから

[問題]

グラフ中の A～E は、アジア、オセアニア、ヨーロッパ・旧ソ連、南北アメリカ、アフリカのいずれかである。次のア～オの中から、正しく述べたものを二つ選びなさい。

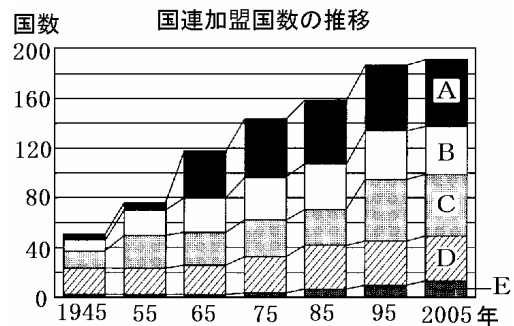
ア A は、1956 年から 1965 年にかけて 32 か国が独立したアフリカである。

イ B は、現在の全加盟国数にしめる割合が最も高いアジアである。

ウ C は、ソ連やユーゴスラビアなどが解体したヨーロッパ・旧ソ連である。

エ D は、年々全加盟国数にしめる割合が低下しているオセアニアである。

オ E は、加盟国数 14 のうち 1976 年以降に 10 か国が加盟した南北アメリカである。



(2007 年福島県)

[解答欄]

[解答]ア，ウ

[問題]

永世中立国の立場から国際協調重視へと方針を転換し、2002 年 9 月、国際連合に新しく加盟した国の名前を答えなさい。

(2004 年沖縄県)

[解答欄]

[解答]スイス

【】国際連合：総会

[問題]

国際連合で、すべての加盟国からなり、1国が1票の議決権をもつ機関は何か書け。

(2007年福井県)

[解答欄]

[解答]総会

[解説]

総会そうかいは全加盟国で構成され、年に1回定期的に開かれる。各国1票の投票権たすうけんをもち、多数決制をとっている。

[問題]

国際連合について説明した次の文の下線部ア～エの中に、一か所誤りがあります。誤りをア～エから選び、正しいことばを書きなさい。

国際連合は、ア)第二次世界大戦が終わった1945年に設立され本部はアメリカ合衆国のイ)ニューヨークに置かれている。国際連合は、すべての加盟国に1票の議決権が認められているウ)経済社会理事会や、国際司法裁判所、事務局などの主要な機関と、ユネスコなどのいろいろな機関から構成されている。国際連合を構成する機関の中でも、アメリカ合衆国などの常任理事国と任期2年の非常任理事国で構成されているエ)安全保障理事会は、世界の平和と安全の維持に大きな役割をになっている。

(2006年北海道)

[解答欄]

[解答]ウ，総会

[解説]

ウが誤り。すべての加盟国に1票の議決権が認められるのは総会である。

[問題]

国際連合の中の総会についての説明として誤っているものを、次のア～エからひとつ選び、記号で答えなさい。

- ア 5つの常任理事国がおかれており、これらの国々は決定に際して拒否権を持つ。
- イ 国際連合加盟国には一国一票の投票権がある。
- ウ 国際連合の中心的な機関で、全加盟国によって構成されている。
- エ 毎年1回、定期的開催されている。

(2008 年鳥取県)

[解答欄]

[解答]ア

[解説]

アは安全保障理事会についての説明である。

【】国際連合：安全保障理事会

[問題]

国際連合の主要機関で、世界の平和と安全維持に責任をもち、常任理事国と非常任理事国から構成される機関名を漢字で答えなさい。

(2007年沖縄県)(2007年徳島県)

[解答欄]

[解答]安全保障理事会

[解説]

国際連合の主要機関の中で、平和と安全の維持にあっているのは安全保障理事会である。安全保障理事会は5つの常任理事国(アメリカ・イギリス・フランス・ロシア・中国)と10の非常任理事国から成り立っている。議決は9理事国以上の多数決で行われるが、重要問題については、5常任理事国すべての賛成が必要とされている。

[問題]

安全保障理事会について述べた文として最も適当なものを、下のア～エのうちから一つ選び、その符号を書きなさい。

- ア 常任理事国 5 か国と非常任理事国 5 か国で構成されている。
- イ 常任理事国 5 か国と非常任理事国 10 か国で構成されている。
- ウ 常任理事国 10 か国と非常任理事国 5 か国で構成されている。
- エ 常任理事国 10 か国と非常任理事国 10 か国で構成されている。

(2008年千葉県)

[解答欄]

[解答]イ

[問題]

安全保障理事会に2年間の任期で参加する国のことを何というか、書きなさい。

(2007年秋田県)

[解答欄]

[解答]非常任理事国

[問題]

国際連合は、総会・安全保障理事会などの機関からなる。フランスはアメリカや()とともに安全保障理事会の常任理事国である。文章中の()に入る国の組み合わせとして適切なものを、次のア～エから1つ選んで、その符号を書きなさい。

- ア 中国, イタリア, ドイツ イ イタリア, スイス, ロシア
ウ 中国, イギリス, ロシア エ イギリス, スイス, ドイツ

(2007年兵庫県)(2006年神奈川県)

[解答欄]

[解答]ウ

[問題]

現在の国際連合の加盟国数と安全保障理事会の常任理事国の正しい組み合わせはどれか、ア～エから1つ選べ。

	加盟国数	安全保障理事会の常任理事国
ア	約90か国	日本・アメリカ・イギリス・フランス・中国
イ	約190か国	日本・アメリカ・イギリス・フランス・中国
ウ	約90か国	アメリカ・イギリス・フランス・ロシア・中国
エ	約190か国	アメリカ・イギリス・フランス・ロシア・中国

(2007年京都府)

[解答欄]

[解答]エ

[問題]

G8北海道洞爺湖サミットには、日本、アメリカ、イギリス、フランス、ドイツ、イタリア、カナダ、ロシアの8か国の首脳とEUの委員長が参加した。文中の8か国のうち4か国は国際連合の安全保障理事会常任理事国である。その4か国以外の常任理事国を書きなさい。

(2009年富山県)

[解答欄]

[解答]中国

【】国際連合：安全保障理事会

[問題]

常任理事国には、重要な議題に関して一国でも反対すると、安全保障理事会として決定できないという権限が与えられている。この権限を何というか。その用語を書きなさい。

(2006 年新潟県)

[解答欄]

[解答]拒否権

[解説]

安全保障理事会の議決は9理事国以上の多数決で行われるが、重要問題については、5常任理事国すべての賛成が必要とされている。すなわち、常任理事国のうち1国でも反対すれば、その議案は否決されてしまうことになる。常任理事国のみがもつこの権限を拒否権きよひけんという。拒否権は、世界平和の維持には「五大国の一致」が不可欠であるとして考え出されたものである。

[問題]

国際連合による平和維持活動は、主に安全保障理事会の決議によって行われます。安全保障理事会の決議について述べた文として、正しいものを、次のア～エから1つ選びなさい。

- ア 常任理事国の過半数の賛成が必要である。
- イ すべての常任理事国の賛成が必要である。
- ウ すべての非常任理事国の賛成が必要である。
- エ 常任理事国の過半数と、非常任理事国の過半数の賛成が必要である。

(2008 年宮城県)

[解答欄]

[解答]イ

[問題]

安全保障理事会の常任理事国 5 か国が持っている拒否権とはどういうものか。「採決において、」という書き出しで説明しなさい。

(2007 年福島県)(2007 年埼玉県)(2007 年愛媛県)(2006 年福井県)

[解答欄]

[解答]採決において、常任理事国のうちの1国でも反対すると決定できないこと。

[問題]

わが国は、1956年に国際連合への加盟を実現した。ひとしさんは、わが国がそれ以前にも国際連合への加盟を求めていたが認められなかったことを知り、右の資料を作成した。資料は、1952年9月に行われた安全保障理事会における、わが国の加盟についての投票結果を示している。賛成が多数を占めたにもかかわらず、わが国の加盟が認められなかったのはなぜか。資料をもとに、常任理事国だけがもつ権限(権利)にふれて、その理由を書きなさい。

	国数
賛成	10か国
反対	1か国

(2007年三重県)

[解答欄]

[解答]常任理事国は拒否権をもっており、常任理事国の中の1か国が拒否権を発動したから。

[解説]

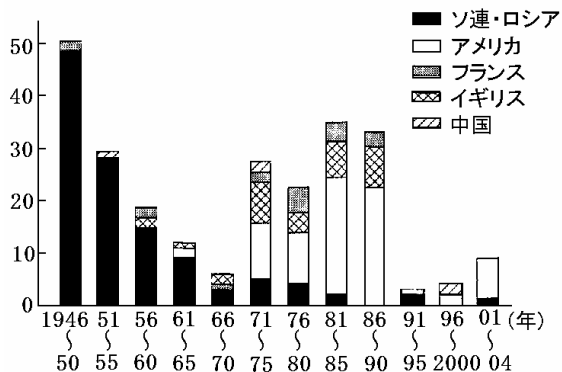
1951年にサンフランシスコ平和条約によって主権を取り戻した日本は、国連加盟を求めたが、ソ連が拒否権を発動したために加盟ができなかった。1956年に日ソ共同宣言を行った後、ソ連の拒否権発動の障害がなくなって、ようやく国連加盟を果たした。

[問題]

安全保障理事会では、1980年代までその機能が十分に果たされない時期があった。【資料】と【略年表】を参考にし、拒否権発動の背景にふれながらその理由を簡潔に書きなさい。

年代	できごと
1945年	アメリカが原爆を保有する
1949年	ソ連が原爆を保有する
1950年	朝鮮戦争が始まる
1965年	ベトナム戦争が激化する
1979年	ソ連のアフガニスタン侵攻が始まる
1989年	東西陣営の対立が終結する

【資料】安全保障理事会常任理事国の拒否権発動回数



[解答欄]

[解答]冷戦によってアメリカとソ連が対立していたため、拒否権の発動がひんぱんに行われ、議決ができないことが多かったから。

[問題]

国際連合の安全保障理事会の説明として正しいものを，次のア～エから一つ選び，符号で答えなさい。

- ア 常任理事国と非常任理事国で構成され，常任理事国には拒否権が認められている。
- イ 常任理事国は，アメリカ，イギリス，フランス，日本，中国の5か国で構成される。
- ウ 非常任理事国は常任理事国により選出され，任期2年の5か国で構成される。
- エ 国連平和維持活動を行うユネスコやユニセフなどのいろいろな専門機関がある。

(2005年宮崎県)

[解答欄]

[解答]ア

[解説]

アは正しい。

イは誤り。日本は常任理事国になっていない。

ウは誤り。非常任理事国は10か国で，総会の選挙で選ばれる。

エは誤り。ユネスコやユニセフなどの専門機関は経済社会理事会のものにおかれている。

【】国際連合：PKO

[問題]

国連の重要なはたらきの一つは、世界の平和と安全を維持することである。国連は地域紛争に際して、当事者間で停戦合意が結ばれた場合に、停戦状態の監視などの活動をおこなっている。国連のこのような活動は、一般に何と呼ばれるか。次から一つ選びなさい。

[NGO NPO PKO WHO]

(2006年香川県)(2006年新潟県)

[解答欄]

[解答]PKO

[解説]

国際平和の維持にあたる国連の機関は安全保障理事会である。しかし、東西の対立がきびしかった冷戦期には、拒否権がひんぱんに発動されたため安全保障理事会は十分に機能しなかった。これにかわって必要に応じた便宜的措置として生まれたのが、国連の平和維持活動(PKO)である。当初は、紛争当事国の同意を前提として小規模の平和維持軍(PKF)を派遣し、停戦の監視、兵力分離、非武装地帯の維持、平和回復後の選挙監視などの任務にあたった。冷戦中は5大国のPKO参加は控えられる傾向があった。

1989年12月の米ソ首脳会談で冷戦終結宣言が行われてからは、冷戦の下で抑圧されてきた地域的な民族・宗教・領土紛争などが頻発するようになり、国連の平和維持活動(PKO)は急増し、その性質も以前のPKOと異なるものであった。1991年の湾岸戦争後に設置された国連イラク・クウェート監視団は、イラクの同意を得ずに派遣され、5大国も参加した。さらに、1993年の国連ソマリア活動では、国連が平和を強制するために重火器で装備した平和執行部隊を派遣したが、失敗に終わっている。

[問題]

PKOの活動として適切なものはどれか。次のア～エから一つ選び、記号で書きなさい。

- ア 紛争地域での停戦や選挙の監視などをおこなう活動
- イ 予防接種を広めたり、保健の大切さを伝えたりする活動
- ウ 発展途上国に小学校を建てるなど、教育を広める活動
- エ 青年海外協力隊員を派遣し、技術協力をおこなう活動

(2007年山梨県)

[解答欄]

[解答]ア

[解説]

国際連合は、紛争地域に平和維持軍(PKF)を派遣して、停戦の監視などの平和維持活動(PKO)を行っている。イは WHO、ウはユネスコ、エは ODA による活動である。

[問題]

1992 年、わが国では、国連を中心とした国際平和のための努力に寄与することを目的に、自衛隊の(X)への参加を盛りこんだ(X)協力が成立した。

(2004 年熊本県)

[解答欄]

[解答]国連平和維持活動

[解説]

湾岸戦争を契機に、日本でも PKO への人的国際貢献が議論され、1992 年に PKO 協力が制定された。これをうけて、まずカンボジアの国連暫定統治機構にはじめて自衛隊が派遣された。

[問題]

美咲さんは、国際連合がカンボジアで行った停戦の監視などの活動に、我が国が 1992 年から 1993 年にかけて協力したという記事を見つけた。次の写真は、そのときの自衛隊の様子を撮影したものである。我が国の自衛隊が協力した、このような国際連合の活動をアルファベット三文字の略称で答えなさい。



(2009 年岡山県)

[解答欄]

[解答]PKO

[問題]

1992 年 6 月の国連平和維持活動協力の成立を受けて、日本の自衛隊が初めて平和維持活動に出かけた場所として正しいものを次から一つ選びなさい。

[カンボジア コソボ 東ティモール イスラエル]

(2004 年島根県)

[解答欄]

[解答]カンボジア

【】地域紛争

[問題]

冷戦の象徴であった壁が壊され、その後、1990年10月に統一を果たした国の名前を、カタカナ3字で書きなさい。

(2007年山梨県)

[解答欄]

[解答]ドイツ

[解説]

1980年後半、ソ連のゴルバチョフは、ペレストロイカという改革をすすめ、外交面では対米協調路線をとるようになった。1989年、東ヨーロッパ諸国の共産党政権が次々に崩壊し、1989年、冷戦の象徴であったベルリンの壁が壊された。こうした中で、米ソ首脳は1989年12月のマルタ会談で冷戦の終結を宣言した。1990年、西ドイツと東ドイツは統合された。さらに1991年にソ連が解体し、冷戦は終わった。

冷戦の終結によって、米ソ超大国の支配が崩れはじめると、それまで冷戦の下で抑えられてきた地域的な民族・宗教・領土紛争などが頻発するようになった。旧ソ連領のチェチェンの民族紛争、旧ユーゴスラビアのボスニア・ヘルツェゴビナ紛争、コソボ問題などの地域紛争で、対立する民族間で悲惨な大量虐殺などがおこった。迫害を受けた民族の人々の中には、難民となって他国に逃れる者もあった。

[問題]

1992年～95年の間、旧ユーゴスラビアのボスニア・ヘルツェゴビナで発生した紛争の原因として最も顕著なものを下のア～エから1つ選び、記号で答えなさい。

ア 政治体制のちがい イ 民族問題 ウ 領土問題 エ 経済の格差

(2004年沖縄県)

[解答欄]

[解答]イ

[問題]

内戦などの武力紛争や政治的な弾圧などのために、他国に逃れる人々を何と呼ぶか、書きなさい。

(2008 年宮城県)(2007 年山梨県)

[解答欄]

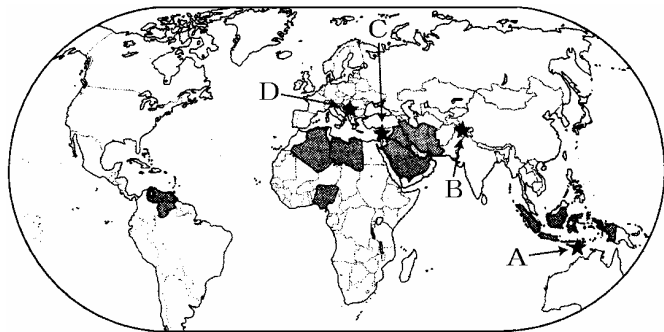
[解答]難民

[問題]

国際社会について、次の問いに答えなさい。

(1) 地図中の で示した国々は、ある資源の産出国で結成された国際的組織である。その組織の名称を答えなさい。

(2) 地図中の 印 A~D は、地域紛争が起こった地域である。ユダヤ人とアラブ人



との間の民族的・宗教的・政治的な対立が長期化している地域をひとつ選び、記号で答えなさい。

(2006 年鳥取県)

[解答欄]

(1)	(2)
-----	-----

[解答](1) 石油輸出国機構(OPEC) (2)C

[解説]

(2) ユダヤ人は紀元前 10 世紀のころパレスチナの地に国家を作っていたが、後に滅ぼされて世界各地にちらばった。しかし、ユダヤ教によって同じ民族としての意識を持ち続けた。第一次世界大戦のとき、この地域を支配下においていたイギリスは、戦争への協力を取り付けるためにユダヤ人とパレスチナ人(アラブ人)の両方に対し独立を約束した。第二次世界大戦中の



ユダヤ人^{ぎょくまつ}虐殺という苦難を経験したユダヤ人は、戦後、続々とパレスチナの地へ移住してきた。このパレスチナの地に住んでいたアラブ系の住民(パレスチナ人)はユダヤ人の入植に強く反発した。

1948年にユダヤ人がイスラエルの建国を宣言すると、これに反対する周囲のアラブ諸国との間に戦争が起こった(第一次中東戦争)。この戦争にアラブ諸国は破れ、多数のパレスチナ人が難民となった。その後、第二次(1956年)・第三次(1967年)・第四次中東戦争(1973年)を経て現在に至っているが、イスラエル占領地区に住むパレスチナ人とイスラエルの対立は続き、パレスチナ人による自爆テロと、イスラエル軍の軍事侵攻という「報復の連鎖」が続き、和平への展望が開けない状況が続いている。

[問題]

次のア～エのうち、誤っているものを一つ選び、記号で書きなさい。

- ア 新たな核保有国の増加を阻止するため、多くの国は核拡散防止条約に加盟している。
- イ 日本は核兵器を「もたず、つくらず、もちこませず」という非核三原則をかかげている。
- ウ 1998年に、インドとバングラデシュが核実験を実施した。
- エ 冷戦中でも、アメリカと旧ソ連は、条約を結んで核兵器を削減しようとした。

(2007年山梨県)

[解答欄]

[解答]ウ

[解説]

ウが誤り。1998年に核実験を行ったのは、パキスタンとインドである。

【】国際連合：専門機関

[問題]

次の[]の国際連合の主な機関のうち、ILO や WHO などの専門機関と協力し合って活動するとともに、専門機関の活動を調整することができる機関はどれか。一つ選びなさい。

[経済社会理事会 信託統治理事会 国際司法裁判所 事務局]

(2009年山口県)

[解答欄]

[解答]経済社会理事会

[解説]

経済社会理事会の専門機関としては、国連教育科学文化機関(ユネスコ)(UNESCO)(文化の面から世界平和に貢献することを目的に、世界遺産の決定や文化財保護、識字教育などの活動をしている)、国際労働機関(ILO)(労働者の地位向上)、世界保健機関(WHO)(保健に関する国際協力)、国際通貨基金(IMF)(為替の安定や貿易の拡大をはかる)、国際復興開発銀行(IBRD)(発展途上国の産業振興をはかり、貸し付けなどを行う)などがある。また、総会によって設立された機関としては、国連貿易開発会議(UNCTAD)(南北問題の解決をはかる)、国連児童基金(ユニセフ)(UNICEF)(発展途上国の子どものために医療や食料などを援助)、国連難民高等弁務官事務所(UNHCR)(1991年から2000年まで緒方貞子さんが最高責任者をつとめた)などがある。

[問題]

世界の教育・文化・科学の発展に貢献している()の総会で「世界遺産条約」という取り決めが採択された。この取り決めに登録された文化財や自然が、世界遺産である。()に当てはまる国際連合の専門機関の名称を書きなさい。

(2006年群馬県)

[解答欄]

[解答]ユネスコ

[問題]

文化財保護や識字教育などの活動を行っている「国連教育科学文化機関」の略号を、次から一つ選びなさい。

[UNESCO WHO UNICEF UNHCR]

(2009 年岐阜県)

[解答欄]

[解答]UNESCO

[問題]

ユネスコ(UNESCO)のおもな活動の説明として最も適当なものを，次のア～エの中から一つ選びなさい。

- ア 武力紛争などで他国にのがれた難民を保護する活動をしている。
- イ おもに発展途上国で医療・衛生への取り組みをしている。
- ウ 子どもの心身の健やかな成長を守る活動をしている。
- エ 世界遺産の決定や文化財保護，識字教育などの活動をしている。

(2007 年福島県)

[解答欄]

[解答]エ

[問題]

健康向上を目的とした活動を行う専門機関の略称を，次から一つ選びなさい。

[WHO PKO NPO NATO]

(2006 年埼玉県)

[解答欄]

[解答]WHO

[解説]

WHO は世界保健機関で，「すべての人に健康を」を目標とし，発展途上国で，医療・衛生への取り組みをしている。PKO は国連平和維持活動，NPO は非営利組織，NATO は北大西洋条約機構。

[問題]

国際連合の専門機関の一つである WHO は、()仕事をしている。

- ア 世界のすべての人々に、より高い水準の健康をもたらす
- イ 世界で起こっている争いの解決を行い、平和と安全を維持する
- ウ 教育・科学・文化を通じて国家間の協力を促進し、世界平和をはかる
- エ 国際法にもとづき、国家間の紛争を解決するための裁判を行う

(2007 年和歌山県)

[解答欄]

[解答]ア

[解説]

アは WHO(世界保健機関)。イは安全保障理事会、ウはユネスコ、エは国際司法裁判所。

[問題]

次のア～エのうち、国際連合の総会によって設立された機関や専門機関の説明として誤っているものを 1 つ選び、記号を書きなさい。

- ア 発展途上国の子どもたちに、健康衛生に関する援助や教育・職業訓練を行っている。
- イ 教育・科学・文化を通じて、各国間の相互理解や国際協力を図っている。
- ウ 伝染病対策など、人々の健康の維持と増進に取り組む活動を行っている。
- エ 加盟国間において、共通の通貨を使用し、輸出入の制限をなくす活動を行っている。

(2007 年富山県)

[解答欄]

[解答]エ

[解説]

アは国連児童基金(UNICEF: ユニセフ)の活動。イは国連教育科学文化機関(UNESCO: ユネスコ)の活動。ウは世界保健機関(WHO)の活動。エは EU(ヨーロッパ連合)で、国連の機関ではない。

[問題]

国連児童基金は、主に、発展途上国において、児童に対する予防接種や、安全な水の供給などを行っている国際連合の機関である。国連児童基金の略称はどれか。

[IAEA ILO UNESCO UNICEF]

(2006 年栃木県)

[解答欄]

[解答]UNICEF

[解説]

UNICEF(ユニセフ)(国連児童基金)は、総会によって設立された機関の一つで、本部がニューヨークにあり、戦争などで被害を受けた地域や発展途上国^{はってんとじょうこく}で、子どもたちの医療や食料などの援助をすることを主な目的としている。IAEA は国際原子力機関、ILO は国際労働機関、UNESCO は国連教育科学文化機関の略称である。

[問題]

戦争などで被害を受けた地域や発展途上国で、子どもたちの医療や食料などの援助をすることを主な目的とする国際連合の機関は、次のうちのどれですか。

[WHO UNICEF ILO UNESCO]

(2006 年岡山県)(2006 年茨城県)(2007 年鳥取県)

[解答欄]

[解答]UNICEF

[問題]

国際連合の組織の中には、飢えなどで苦しんでいる子どもたちを助けるための活動をしている機関がある。その名称を答えなさい。

(2006 年埼玉県)

[解答欄]

[解答]ユニセフ(UNICEF)

[問題]

ユニセフについての説明として、正しいものを次のア～エから 1 つ選び、記号で答えなさい。

- ア 紛争地域における停戦の監視など平和維持活動を行っている。
- イ 難民に国際的な保護を与える活動を行っている。
- ウ 子供たちの命と健康を守ることを中心とした活動を行っている。
- エ 教育・科学・文化の分野から国際平和を目指した活動を行っている。

(2007 年沖縄県)

[解答欄]

[解答]ウ

[解説]

アは平和維持活動(PKO)、イは国連難民高等弁務官事務所(UHCR)、エは国連教育科学文化機関(ユネスコ: UNESCO)の活動である。

[問題]

政治的理由などで、自国にいと迫害を受けるため、他国に逃れた人々を何というか書け。

(2009年福井県)

[解答欄]

[解答]難民

[問題]

人々の保護や救援活動に中心的な役割をはたしている国連の機関として、最もふさわしいものはどれか。

[国連難民高等弁務官事務所 国際司法裁判所 国連信託統治理事会 国際開発協会]

(2007年神奈川県)

[解答欄]

[解答]国連難民高等弁務官事務所

[問題]

武力紛争や政治的迫害などが原因で難民となった人々を保護・救援するために設立された国際連合の機関は次のうちのどれか。

[ASEAN UNHCR NATO ILO]

(2003年栃木県)

[解答欄]

[解答]UNHCR

[問題]

難民に対して支援活動をしている国際機関に UNHCR(国連難民高等弁務官事務所)がある。かつてその最高責任者として活躍し、文化勲章を受章した人物を、次の中から一人選びなさい。

[田中耕一 緒方貞子 湯川秀樹 向井千秋]

(2004 年青森県)

[解答欄]

[解答]緒方貞子

[問題]

自由貿易を発展させ、国と国の貿易に関することがらを取り決めたり、争いを解決したりすることを目的とした国際機関の略称を、次から 1 つ選びなさい。

[WTO UNESCO NGO WHO]

(2009 年滋賀県)

[解答欄]

[解答]WTO

[問題]

労働条件の改善や労働問題の解決などを目的とする専門機関を何といいますか。次の中から 1 つ選びなさい。

[WHO IMF FAO ILO]

(2005 年和歌山県)

[解答欄]

[解答]ILO

[問題]

原子力の平和的利用を促進するとともに、原子力が軍事的利用に転用されることを防止するための国連に関連する組織の略称として正しいものはどれか。

[PKO IAEA ODA UNESCO]

(2008年神奈川県)

[解答欄]

[解答]IAEA

【】国際連合：総合

[問題]

国際連合について述べた文として、正しいものはどれか。

- ア 国際連合が発足してから 60 年以上たつが、その間、加盟国数はほとんど増加していない。
- イ 安全保障理事会は、10 か国の常任理事国と 5 か国の非常任理事国とで構成されている。
- ウ 本部はジュネーブに置かれ、世界の平和を維持することを最大の目的としている。
- エ 総会は、すべての加盟国からなり、各国は平等に一票ずつの投票権をもっている。

(2009 年鹿児島県)

[解答欄]

[解答]エ

[解説]

- アは誤り。国連発足時の加盟国は 51 ケ国。現在は 192 ケ国(2009 年)である。
イは誤り。常任理事国は 5 ケ国、非常任理事国は 10 ケ国。
ウは誤り。国連本部はニューヨークにある。

[問題]

国際連合の説明として適切なものを下のア～エから 1 つ選び、記号で答えなさい。

- ア 国連の目的は国際社会の武力紛争の解決のみで、経済、人権、環境の取り組みは含まれない。
- イ 現在、国連の加盟国は約 140 か国で、世界の国の約 3 分の 2 が加盟している。
- ウ 総会は、すべての加盟国からなり、決議は国の大小にかかわらず一国一票である。
- エ 安全保障理事会は、常任理事国 10 か国と非常任理事国 5 か国から構成される。

(2006 年沖縄県)

[解答欄]

[解答]ウ

[解説]

- アは誤り。国連のはたらきの第一は、世界の平和と安全の維持である。第二は、経済、社会、文化、環境、人権などの分野で、世界の人々の暮らしを向上させる努力を、専門機関を通じて行っていることである。
イは誤り。国連の加盟国数は 192 か国(2009 年現在)である。
ウは正しい。
エは誤り。安全保障理事会は、常任理事国 5 か国と非常任理事国 10 か国から構成される。

[問題]

国際連合について述べた文として正しいものを、次のア～エの中から一つ選び、記号を書きなさい。

- ア 第一次世界大戦の反省のうえに、世界の平和を維持することを目的として発足した。
- イ 現在およそ 190 カ国が加盟しており、本部は、ワシントンに置かれている。
- ウ 総会、事務局、国際司法裁判所および三つの理事会などの主要機関が設けられている。
- エ 国家間の紛争解決のために軍を派遣するが、民族間の紛争には派遣しない。

(2009 年佐賀県)

[解答欄]

[解答]ウ

[解説]

アは誤り。国際連合は 第二次世界大戦の反省のうえに、世界の平和を維持することを目的として発足した。

イは誤り。国際連合の本部はニューヨークに置かれている。

ウは正しい。

エは誤り。国連の平和維持軍(PKF)は民族間の紛争の場合も派遣される。

[問題]

国際連合について正しく述べたものを、次のア～エの中から一つ選んで、その記号を書きなさい。

- ア 第一次世界大戦後、アメリカの提案にもとづいて創設された。
- イ 日本はイギリス、フランスなどととも常任理事国になった。
- ウ アメリカは参加せず、ソ連やドイツもはじめは除外された。
- エ 安全保障理事会では、常任理事国に拒否権があたえられた。

(2007 年茨城県)

[解答欄]

[解答]エ

[解説]

ア・イ・ウはいずれも^{こくさいれんめい}国際連盟についての記述である。

[問題]

国際連合について述べた次の文のうち、誤っているものはどれか。

- ア 第二次世界大戦が終結した年に、国際平和や安全の維持などを目指して発足した。
- イ 安全保障理事会を構成する 15 の理事国には、拒否権が認められている。
- ウ 総会では、加盟国に対して平等に 1 国 1 票の投票権を認めている。
- エ 停戦の監視などのために、平和維持活動(PKO)をおこなうことがある。

(2006 年長崎県)

[解答欄]

[解答]イ

[解説] イが誤り。拒否権きよひけんが認められているのはアメリカ合衆国・イギリス・フランス・ロシア・中国の 5 常任理事国じょうにんりじこくのみである。

[問題]

国際連合について、誤っているものを、次のア～エから一つ選んで記号で答えなさい。

- ア アジアやアフリカの加盟国は発足時に比べて著しく増え、総会での発言力を強めている。
- イ 安全保障理事会の常任理事国はアメリカ合衆国、ロシア連邦、中国、ドイツ、イギリスである。
- ウ WHO は専門機関の一つであり、世界の人々の健康増進に取り組むなどの活動を行っている。
- エ 世界人権宣言や子どもの権利条約を採択するなど、国際的な人権保障に取り組んでいる。

(2007 年島根県)

[解答欄]

[解答]イ

[解説]

ドイツは常任理事国じょうにんりじこくではない。常任理事国はアメリカ合衆国、ロシア連邦、中国、フランス、イギリスである。

[問題]

次のうち誤っているものはどれか。

- ア 国連の安全保障理事会は、5か国の常任理事国と、10か国の非常任理事国から構成されている。
- イ 国連の安全保障理事会の常任理事国と非常任理事国には、拒否権が認められている。
- ウ 国連は紛争当事国の同意や要請により、停戦の監視や選挙の監視などの平和維持活動を行う。
- エ 日本では、1992年に国連平和維持活動協力法(PKO 協力法)が制定された。

(2007年神奈川県)

[解答欄]

[解答]イ

[解説]

イが誤り。常任理事国のみ拒否権が認められている。

[問題]

次のうち、国際連合について述べた文として誤っているものを一つ選び、記号を書きなさい。

- ア 紛争国間の停戦の監視などの平和維持活動を行っている。
- イ 総会では、すべての加盟国が一国一票の平等な議決権をもっている。
- ウ 世界の平和と国際協調を主な目的として、第一次世界大戦の直後に発足した。
- エ 安全保障理事会は、非常任理事国と拒否権を認められている常任理事国とで構成される。

(2006年大阪府)

[解答欄]

[解答]ウ

[解説]

ウが誤り。第一次世界大戦の直後に発足したのは国際連盟である。

【】地域主義

[問題]

インドネシア，マレーシア，タイ，フィリピンなどが，経済や政治，文化などの分野で協力を進めるために1967年に設立し，現在では10か国が加盟している国際組織を何というか。その名称を書け。

(2007年奈良県)(2007年岐阜県)(2007年山口県)(2006年宮崎県)

[解答欄]

[解答]ASEAN(東南アジア諸国連合)

[解説]

地理的に近い複数の国家が経済や安全保障で結びつきを強める動きを地域主義(リージョナリズム)という。EU(ヨーロッパ連合)はその代表例である。共通の通貨(ユーロ)が導入され，ヨーロッパ全体が一つの国内市場のようになってきており，経済的統合は完成段階にある。また，外交や安全保障の分野においても，共通の政策をとる努力がなされている。さらに，EUに大統領，議会，政府を置いて，一つの国のようにしようという動きもすすみ，そのためにEUの憲法をつくらうという努力も続けられている。

アジアにおいては，1967年にASEAN(東南アジア諸国連合)が東南アジア地域の経済，社会の発展につとめることを目的に設立された。現在では10か国が加盟しており，事務局はインドネシアのジャカルタに置かれている。近年，ASEANに日本，中国，韓国を加えた「ASEAN+3」という会合が開かれ協力を深めている。

アジア太平洋地域には，1989年にオーストラリアの提唱ではじまったAPEC(アジア太平洋経済協力会議)があり，アメリカ，日本，オーストラリア，中国，韓国，ASEAN諸国，ロシアなど21ヶ国が参加している。

アメリカは1994年に，カナダ，メキシコとの間でNAFTA(北米自由貿易協定)を発足させ，関税撤廃や投資規制の解除などを進めている。

EU，ASEAN，APEC，NAFTAなどを「地域主義」と1つの単元でまとめているが，EUとそれ以外では性質がまったく異なるのではないかと思う。ヨーロッパの大半はキリスト教を中心にした同質の文化圏であるにもかかわらず，中世以来，血なまぐさい戦争を繰り返してきた。(例えば17世紀におこった三十年戦争では，ドイツの人口の3分の1が犠牲になったと言われている。)20世紀には，2度にわたる世界大戦の舞台となり，おびただしい犠牲者を出した。ヨーロッパが数々の困難をのりこえて経済的・政治的な統合をはかろうとするのは，互いの手を縛り合って，戦争をできないようにするためである。ヨーロッパが1つの連邦国家になるのはそう遠くはないかもしれない。これに対し，ASEAN，APEC，NAFTAなどはEUのように統合をめざしたのではなく，経済的・政治的な協力によって相互の利益をはかろうとするものである。

[問題]

ASEAN とは世界のどの地域の国々が設立した組織か。次から一つ選びなさい。

[ヨーロッパ 西アジア 東南アジア アフリカ]

(2005 年岐阜県)

[解答欄]

[解答]東南アジア

[問題]

地域主義，地域統合の動きのひとつに APEC の開催がある。APEC は何の略称のことか，次の中からひとつ選びなさい。

[東南アジア諸国連合 ヨーロッパ連合 アジア太平洋経済協力会議 北米自由貿易協定]

(2004 年鳥取県)

[解答欄]

[解答]アジア太平洋経済協力会議

[問題]

我が国を含むアジア太平洋地域の持続的発展に向けた地域協力を図るため，(EU / ASEAN / NIES / APEC)が 1989 年に発足した。

(2008 年愛媛県)

[解答欄]

[解答]APEC

[問題]

世界各地で，経済活動を行いやすくするために特定の地域でまとまりをつくり，協力を強めようとする動きが見られるが，カナダ，メキシコ，アメリカ合衆国の 3 か国が，1992 年に相互に市場を開放するために結んだ協定は，次のどれですか。[NAFTA APEC ASEAN]

(2007 年岡山県)

[解答欄]

[解答]NAFTA

[問題]

次のうち，NAFTA に加盟していない国を1つ選びなさい。

[アメリカ イタリア メキシコ カナダ]

(2007 年富山県)

[解答欄]

[解答]イタリア

[問題]

1990 年代になって，FTA を結ぶ動きが世界各地で広がってきている。FTA を結ぶおもな目的は何か。「関税・貿易」の二つの語句を用いて，「加盟国間で，」の後に続けて書きなさい。

(2007 年福島県)

[解答欄]

[解答]加盟国間で，関税をなくして貿易を活発にすること。

【】サミット

[問題]

1975 年以降毎年 1 回開かれている世界の主要な国による国際会議は何か。カタカナ 4 字で書きなさい。

(2006 年福島県)

[解答欄]

[解答]サミット

[解説]

第 1 回サミット(主要国首脳会議)は、石油危機後の世界経済を安定させることを目的として、1975 年にフランスで開催された。当初の参加国は、アメリカ、日本、西ドイツ、イギリス、フランス、イタリアで、その後、カナダとロシアが加わった。参加国が持ち回りで、議長国をつとめている。2008 年 7 月には北海道で洞爺湖サミットが開催された。

[問題]

次の文章で述べられている会議に当てはまるのは次のア～エのうちのどれか。

石油危機など世界規模での経済問題に対して、各国が共同して対応するために 1975 年にフランスのバリ郊外のランブイエで第 1 回の会議が開かれた。会議はその後毎年開催され、日本でも 1979 年に東京で、2000 年には沖縄で開催された。現在参加国は、日本やアメリカ合衆国など 8 か国及び EU(ヨーロッパ連合)の代表である。会議の議題も世界情勢を受けて変化し、近年は南北問題や地域紛争などの政治問題や環境問題など地球規模での社会問題も取り上げられている。

- | | |
|--------------------|-----------------|
| ア 国連環境開発会議(地球サミット) | イ 主要国首脳会議(サミット) |
| ウ 国連貿易開発会議(UNCTAD) | エ 地球温暖化防止京都会議 |

(2007 年東京都)

[解答欄]

[解答]イ

[問題]

第 1 回のサミットは、世界経済の諸問題について、先進国の首脳が話し合うため、1975 年にフランスで開催された。当時の世界経済の混乱をもたらした出来事として最も適切なものをア～エから選び、記号を書きなさい。

- | | | | |
|---------|--------------|--------|------------|
| ア ソ連の解体 | イ アメリカ同時多発テロ | ウ 石油危機 | エ 東西ドイツの統一 |
|---------|--------------|--------|------------|

(2009 年富山県)

[解答欄]

[解答]ウ

[問題]

2008年7月に日本で開かれたサミットについて、開催された都道府県として正しいものを、次の[]から一つ選びなさい。

[北海道 東京都 京都府 沖縄県]

(2009年島根県)

[解答欄]

[解答]北海道

[解説]

2008年7月に開催されたのは洞爺湖^{とうやこ}サミットである。

[問題]

地球規模で一体となった(循環型社会/大量消費社会/男女共同参画社会/グローバル社会)において、国際紛争、資源・エネルギーや環境などの問題の解決には国家や地域をこえて、協力していくことが重要で、地球的課題の解決に努力しようとする、「地球市民」としての資質が求められます。

(2005年宮崎県)

[解答欄]

[解答]グローバル社会

【】南北問題

[問題]

先進国と発展途上国との経済格差，およびそこから生じる諸問題を何というか，書きなさい。

(2006 年兵庫県)(2006 年岡山県)

[解答欄]

[解答]南北問題

[解説]

先進工業国の多くは北半球に位置し，世界の人口の 8 割を占める発展途上国の多くは南半球に位置している。このことから，この経済格差の問題を南北問題とよんでいる。南北問題は 1960 年ころから国際社会の重要な課題とされるようになった。南北問題を解決するため，1962 年に国連貿易開発会議(UNCTAD)が設立され，世界銀行(IBRD)も協力して，先進国から途上国への技術と資金の移転や国際的な所得の再配分をすすめてきた。特に日本の政府開発援助(ODA)は世界のトップクラスの水準に達している。青年海外協力隊も日本の ODA の一環である。また，非政府組織(NGO)など民間の組織がさまざまな活動を行っている。

1970 年代以降になると，同じ発展途上国の中でも，アジア NIEs とよばれる新興工業国・地域や中東の産油国と，アフリカなどに残る貧しい国々との格差が拡大してきている。これを南南問題という。

[問題]

南北問題について，正しいことを述べているのはどれか。

- ア 資本主義国の国内に見られる，宗教的対立の問題である。
- イ 発展途上国の間に見られる，政治的対立の問題である。
- ウ 先進工業国と発展途上国との間に見られる，経済格差の問題である。
- エ 先進工業国の間に見られる，民族対立の問題である。

(2005 年栃木県)

[解答欄]

[解答]ウ

[問題]

南北問題について、「北」と呼ばれる国々よりも、「南」と呼ばれる国々の方の数値が大きくなる項目を、一つ選んで記号を書きなさい。

- ア 国民千人あたりの医師数
- イ 政府開発援助(ODA)の支出額
- ウ 国民百人あたりのパソコン台数
- エ 総人口に占める栄養不足人口の割合

(2008年秋田県)

[解答欄]

[解答]エ

[解説]

「北」は先進工業国、「南」は発展途上国を意味する。

[問題]

先進工業国と発展途上国との間の経済格差から生まれるさまざまな問題を(A)問題といい、1960年ころから国際社会の重要な課題とされるようになった。1970年代以降になると、同じ発展途上国の中でも、工業化が進んできた国・地域や石油などの資源をもつ国と、資源や産業をもちあらず経済的な発展の遅れている国との間に新たな経済格差が生まれた。この経済格差を(B)問題という。A、Bに当てはまることばの組み合わせとして正しいものを、ア～エから選びなさい。

- ア A 東西, B 南南 イ A 南南, B 南北 ウ A 南北, B 南南 エ A 南北, B 東西

(2007年北海道)

[解答欄]

[解答]ウ

[問題]

発展途上国の中でも、産油国やアジア NIES とよばれる新興工業国と、資源にめぐまれない国々との経済格差が目立つようになってきた。このことを何というか、漢字四字で書け。

(2006年鹿児島県)(2006年香川県)(2006年千葉県)(2007年山梨県)

[解答欄]

[解答]南南問題

[問題]

世界には、食料が豊富な国や、内戦や砂漠化などで食料不足が続いている国がある。主に地球の北側にある()と呼ばれる国々と、それより南側に位置し、南アジアやアフリカなどにある()と呼ばれる国々の間では、経済格差などの南北問題がある。これらの問題を解決していくために、各国では、()開発援助(ODA)だけでなく、非()組織(NGO)など民間の組織がさまざまな活動を行っている。

(1) , に入る語句の組み合わせとして最も適切なものを、次から1つずつ選びなさい。

[社会主義国 資本主義国 先進工業国 発展途上国]

(2) に当てはまる最も適切な語句を、漢字2字で書きなさい。

(2006年長野県)

[解答欄]

--	--	--

[解答] 先進工業国 発展途上国 政府

【 】 ODA

[問題]

発展途上国の経済や福祉の向上などのために、日本など先進工業国が行う、さまざまな技術の協力や資金の援助を何というか、書きなさい。

(2007年三重県)(2007年新潟県)(2007年山口県)(2007年香川県)(2006年宮崎県)(2006年大阪府)

[解答欄]

[解答]ODA(政府開発援助)

[解説]

ODA(政府開発援助)は、先進国の政府が^{はってんとじょうこく}発展途上国に対して行う経済援助である。ODAには、贈与と貸しつけがある。日本のODAは、^{そつよ}贈与が少なく貸しつけが多い、^{えんじょ}援助がアジアにかたよりにすぎているなどの批判がある。日本のODAの額は1991年から2000年まで世界一であったが、近年の財政難のあおりをうけてODAへの支出額が削減され、2008年現在は第5位である。

2008年 ODA： アメリカ(260億ドル) ドイツ(139) イギリス(114) フランス(110)

日本(94)

統計：「日本国勢図会 2009/2010年版」P364

[問題]

資料は、南アジアのある国の政府が、2004年に、日本からの経済協力50周年を記念して発行した切手シートの一部である。この切手のデザインには、技術協力を行っている日本の青年海外協力隊員や専門家の姿、また、日本の資金協力で建設された水力発電所やトンネルが採用されている。このような発展途上国の経済や福祉の向上のために先進国が行う資金や技術の支援を何というか、書きなさい。

(2009年徳島県)

[解答欄]

[解答]ODA(政府開発援助)



[問題]

今日、日本の国際貢献の一つとして、資金援助や技術援助を行う ODA(政府開発援助)がある。これは、どのような問題を解決するのに役立っているのか。説明しなさい。

(2006 年佐賀県)

[解答欄]

[解答]先進国と発展途上国の経済格差の問題。

[問題]

あゆみさんは表 1, 2 を作成し、メモを書いた。表 1, 2 を参考にして、 , にあてはまる文をそれぞれ書きなさい。ただし、ともに「ODA 総額」のことは用いること。

(表 1) ODA 総額(単位：億ドル)

国名	2000 年	2008 年
アメリカ	100	260
ドイツ	50	139
イギリス	45	114
フランス	41	110
日本	135	94

(表 2) 国内総生産(GDP)(単位：億ドル)

国名	2007 年
アメリカ	137,416
ドイツ	33,161
イギリス	28,034
フランス	25,898
日本	43,854

[あゆみさんのメモ]

日本の ODA については、「総額では世界のトップクラスになっており、じゅうぶんに国際社会に貢献している」という見方と、「他の国々に比べて、じゅうぶんとはいえない」という二つの見方がある。私たちのグループは、表 1, 2 を作成し、後者の見方について考えを深めた。表 1 は、2008 年における上位 5 か国の ODA 総額について、2000 年と比較したものである。これによると、()ということがわかる。表 2 は、表 1 にあげた国々の 2007 年の GDP を示したものである。GDP とは、1 年間に国内で新しく作り出された価値の総計のことで、その国の経済力を表す目安になる。表 1, 2 の 2006 年のデータに着目すると、アメリカと日本は他の国々に比べて()ということがわかる。

(2009 年岐阜県)

[解答欄]

[解答] 他の国の ODA 総額は増えているのに、日本は減っている。 GDP に対する ODA 総額の割合が小さい。

統計修正：「日本国勢図会 2009/2010 年版」P364 , P104

[問題]

発展途上国と先進国との間にある（東西対立／南北問題）を解決するために、わが国は、（ODA(政府開発援助)／PKO(平和維持活動))として、資金協力や技術協力を行っている。わが国の総額は約 94 億ドル(2008 年)で、世界有数である。

(2006 年福岡県)

[解答欄]

--	--

[解答] 南北問題 ODA(政府開発援助)

統計修正：「日本国勢図会 2009/2010 年版」P364

[問題]

ODA の説明としてあてはまらないものを、次のア～エの中から一つ選びなさい。

- ア 2 国間 ODA と国際機関向けの資金協力の 2 種類に大別される。
- イ 紛争地域での停戦の監視などの平和維持活動を行っている。
- ウ 貧しい国々に住む人々の生活をよくすることを目的としている。
- エ 国際協力機構の青年海外協力隊の活動も ODA の一つである。

(2007 年福島県)

[解答欄]

--

[解答]イ

[解説]

イが誤り。平和維持活動(PKO)である。

エは正しい。教育や農業技術などの支援のために派遣されている青年海外協力隊も ODA の一つである。

[問題]

発展途上国を支援するために政府が行う援助を（NGO／ODA）といい、日本は、資金協力と技術協力を行っている。技術協力の一つとして、教育や農業技術などの支援のために派遣されている（オンブズマン／青年海外協力隊）がある。

(2004 年千葉県)

[解答欄]

--	--

[解答] ODA 青年海外協力隊

[問題]

青年海外協力隊の隊員は、現在、アジアやアフリカなどの(先進工業国 / 発展途上国 / 国際原子力機関 / 国際労働機関)に派遣され農業技術や教育などの援助をおこなっている。

(2006 年茨城県)

[解答欄]

[解答]発展途上国

[問題]

～ に入る略号を[]内からそれぞれ選びなさい。

日本をはじめ、各国政府は()と呼ばれる国際協力を行っています。これには、国際連合の組織である()などに協力する援助と、相手国に直接、資金協力などを行う援助があります。また近年、()と呼ばれる民間団体も、活発に援助活動を行っています。

[NGO ODA UNICEF]

(2008 年宮城県)

[解答欄]

--	--	--

[解答] ODA UNICEF NGO

[問題]

日本の ODA は、資金や物資の提供だけでなく、青年海外協力隊の派遣や研修生の受け入れなどを通じた人材育成にも力を入れている。日本は、このような人材育成を通して、途上国がどのようにして発展していくことを期待しているのか、「知識・技術」という語句を使って書きなさい。

(2009 年石川県)

[解答欄]

[解答]日本で知識・技術を学んで、発展途上国が自分たちの力で発展していくこと。

【】 NGO・NPO

[問題]

飢餓や貧困の問題，環境破壊や人権侵害などの問題に対して，国境や国籍の違いをこえて自主的に活動している民間団体は，一般に何と呼ばれるか。次の[]から一つ選べ。

[GHQ ODA PKO NGO]

(2009年香川県)(2006年徳島県)(2007年沖縄県)(2007年秋田県)

[解答欄]

[解答]NGO

[解説]

NGOは非政府組織の略称で，政府にたよらない民間の非営利組織のことである。NGOの中には国連を介して，国際的なネットワークをつくり，軍縮・開発援助・環境保護・人権擁護・^{ようご}・^{まが}飢餓の救済・学術など，多様な領域で活動しているものもある。NPO(民間非営利団体)も同じような意味に使われるが，NGOは国際的な活動をする組織に対して使われ，NPOは国内で活動する組織に対して使われることが多い。

[問題]

近年，国際社会において，食糧問題や環境問題，さらには地震による被害からの復興などに取り組む「非政府組織」の活動が注目されている。この「非政府組織」の略称を，アルファベットの大文字3字で書きなさい。

(2006年神奈川県)(2006年大阪府)(2006年福井県)(2007年鹿児島県)

[解答欄]

[解答]NGO

[問題]

国際社会の動きについて述べた文として，最も適当なものを，次のア～エから一つ選んで記号で答えなさい。

- ア 国際連合の平和維持活動(PKO)は，現在紛争地域がないため行われていない。
- イ 政府開発援助(ODA)には日本の消極的であり，その額は先進国中最低である。
- ウ 政府だけではなく，非政府組織(NGO)など民間の国際組織の活動も増えている。
- エ 環境問題の解決に向けては，各国の利害対立はほとんど見られない。

(2006 年島根県)

[解答欄]

[解答]ウ

[問題]

インドネシアのスマトラ島沖で発生した巨大地震の際、日本が被害地域に対して行った活動のうち、NGO(非政府組織)が行ったものはどれか。下のア～エのうちから最も適当なものを一つ選び、その符号を書きなさい。

- ア 警察庁や消防庁が派遣した専門家チームが、捜索や救助活動に関する助言や指導を行った。
- イ 政府がODAにより、総額5億ドルの資金援助を行った。
- ウ 仮設住宅を建設したり、食料・衣料などの援助物資を配布した。
- エ 外務省が情報の収集を行い、援助計画の大きな枠組みを作成した。

(2006 年千葉県)

[解答欄]

[解答]ウ

[問題]

NPOに関連して、1998(平成10)年に、住民による自由な社会貢献活動の健全な発展を推進することなどを内容とする法律が制定された。その法律の名称は何か。下から最も適当なものを一つ選びなさい。

[消費者保護基本法 独占禁止法 特定非営利活動促進法 環境基本法]

(2003 年千葉県)

[解答欄]

[解答]特定非営利活動促進法

[解説]

福祉、医療、環境等の分野において、ボランティア活動などを行っている民間の非営利組織をNPOという。NPOに関連して、1998(平成10)年に、住民による自由な社会貢献活動の健全な発展を推進することなどを内容とする特定非営利活動促進法が制定された。

[問題]

福祉，医療，環境等の分野において，ボランティア活動などを行っている民間の非営利組織を何といいますか，次の中から1つ選びなさい。

[NPO WTO ILO WHO]

(2006 年和歌山県)(2007 年栃木県)(2007 年大阪府)

[解答欄]

[解答] NPO

[問題]

NPO は，民間であっても，一般の企業と異なり，()を得ることを目的としない団体である。

(2008 年埼玉県)

[解答欄]

[解答] 利潤

【】為替相場

[問題]

自国の通貨と他国の通貨の交換比率のことを何というか。漢字4字で書きなさい。

(2008年福島県)

[解答欄]

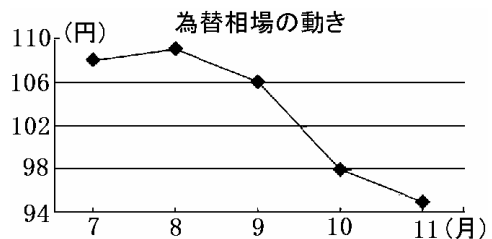
[解答]為替相場

[解説]

貿易では、外国の企業とのあいだで、代金の支払いや受け取りをおこなう必要がある。しかし、国ごとに通貨が異なるため、自国通貨と外国通貨との交換が必要になる。このときの交換比率が外国為替相場である。現在、ドルや円などの為替レートは、外国為替市場で、需要と供給のバランスによって決められている(変動相場制)。

[問題]

輸入農産物の価格はさまざまな要因で変動する。次のグラフは、ある年の為替相場について、1アメリカドルと交換できる円の動きを月別に表したものである。9月から11月にかけての為替相場の動きによって、輸入農産物の価格はどのように変動すると考えられるか、最も適当なものを、ア～エから一つ選んで記号で答えなさい。



- ア 円高により、輸入農産物の価格が上がる。
- イ 円高により、輸入農産物の価格が下がる。
- ウ 円安により、輸入農産物の価格が上がる。
- エ 円安により、輸入農産物の価格が下がる。

(2009年島根県)

[解答欄]

[解答]イ

[解説]

例えば小麦10kgが3ドルだったとする。為替相場が1ドル=110円のと看、小麦10kgを買うのに $3(\text{ドル}) \times 110(\text{円}/\text{ドル}) = 330$ 円が必要である。為替相場が1ドル=94円になると、小麦10kgを買うのに $3(\text{ドル}) \times 94(\text{円}/\text{ドル}) = 282$ 円でよいことになる。1ドル=94円の場合、 $330 \text{円} = 3.5$

ドルになるので、330 円で $10(\text{kg}) \times \frac{3.5}{3} = 11.7(\text{kg})$ の小麦を買うことができるようになる。このように、1 ドル = 110 円 1 ドル = 94 円に為替相場が変動する場合、同じ金額(日本円)で買える小麦の量が多くなる。すなわち、円の価値が高くなる。これを円高という。これをドルの立場から見ると、ドルの円に対する価値が低くなるのでドル安ということになる。

[問題]

次の資料は、あきこさんが、ショッピングセンターへ出かけたときに、靴売り場で見かけたお知らせである。問いに答えなさい。

お客様へのお知らせ

いつも当店をご利用いただき、誠にありがとうございます。さて、当社がアメリカ合衆国の社から輸入し、販売いたしております、靴の価格を、最近の(P)の状況に伴いまして、下記のように改定いたしましたので、よろしく願い申し上げます。

記

改定前 1 足 24,000 円(1 ドル = 120 円で換算)

改定後 1 足(Q)(1 ドル = 100 円で換算)

(1) 文中の(P)に当てはまる語句を、次の[]から 1 つ選びなさい。

[円高ドル安 円高ドル高 円安ドル高 円安ドル安]

(2) 文中の(Q)に当てはまる金額を、書きなさい。

(2009 年大分県)

[解答欄]

(1)	(2)
-----	-----

[解答](1) 円高ドル安 (2) 20,000 円

[解説]

流通経費等を考えないとすると、1 ドル = 120 円のと看、200 ドルの靴は $200 \times 120 = 24,000$ 円になる。為替相場が 1 ドル = 100 円になると、200 ドルの靴は $200 \times 100 = 20,000$ 円になる。

[問題]

為替相場が変動し例えば「1 ドル = 120 円」から「1 ドル = 80 円」になった場合を考えると、この場合においては、円のドルに対する価値が [上がった / 下がった] ことになり、[円高 / 円安] になったといえる。綿のシャツを例にとって価格の計算をすると、為替相場が「1 ドル = 120 円」のときは、1 枚の価格が 4 ドルの綿のシャツ 100 枚の合計価格は円に換算すると 48,000 円であるが、「1 ドル = 80 円」のときは、1 枚の価格が 4 ドルの同じ綿のシャツ 100 枚の合計価格は円に換算すると () 円となる。

(2007 年大阪府)

[解答欄]

--	--	--

[解答] 上がった 円高 32,000

[問題]

1 ドル = 150 円が 1 ドル = 100 円になった場合を考えてみましょう。1 ドルの商品を買うために 150 円払っていたのが、100 円で購入することになります。これは、ドルに対して円の価値が (上がった / 下がった) ことをあらわしており、(円高 / 円安) といいます。この時、貿易は (輸出 / 輸入) が有利になります。

(2007 年茨城県)

[解答欄]

--	--	--

[解答] 上がった 円高 輸入

[解説]

1 ドル = 150 円が 1 ドル = 100 円になると、それまで 150 円していたアメリカ製の商品が 100 円で購入することになる。これは円の貨幣価値なべいが上がったことを意味する。1 ドル = 円という数字が小さくなれば、円の価値が上がることになるが、これを円高という。円高になれば、アメリカの商品が割安になるので、アメリカからの輸入が増え、日本からの輸出は減少することになる。逆に、1 ドル = 円という数字が大きくなれば、円の価値が下がる円安になり、アメリカからの輸入が減少し、日本からの輸出は増加することになる。

[問題]

次の文は、為替相場の変動について述べたものです。文中の ， にあてはまる最も適切なことばをそれぞれ書きなさい。

わが国の通貨と外国の通貨との交換比率を為替相場という。例えば、為替相場が「1 ドル = 120 円」から「1 ドル = 115 円」に変動すると、1 バレルあたり 50 ドルの原油が 6,000 円から 5,750 円になり、ドルに対して円の価値は() ことになる。これは、わが国の貿易において、() する時に有利な状況である。

(2008 年岩手県)

[解答欄]

--	--

[解答] 上がる 輸入

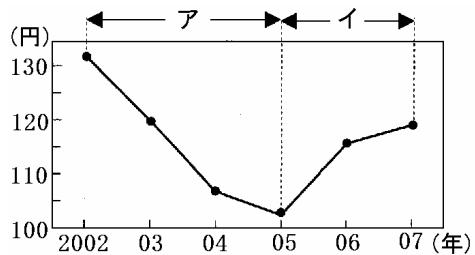
[問題]

図中で、1 ドルに対する円の価値が上がっていく状態は、ア、イのいずれにあたるか、適切な符号を書きなさい。

(2009 年兵庫県)

[解答欄]

[解答]ア



[問題]

次の文中の下線を引いた三つのことばのうち誤っているものが一つある。それを抜き出して書き、正しいことばに直しなさい。

異なる通貨の交換比率のことを為替相場といい、1 ドル=100 円が、1 ドル=90 円になるように、円の価値が上がることを円安という。

(2009 年岡山県)

[解答欄]

[解答]円安 円高

[問題]

一般に、ドルに対する円の価値が上がると、アメリカに輸出した日本の商品の価格は (高く / 安く) なり、アメリカから輸入する商品の価格は (高く / 安く) なる。

(2009 年兵庫県)

[解答欄]

<input type="text"/>	<input type="text"/>
----------------------	----------------------

[解答] 高く 安く

[解説]

ドルに対する円の価値が上がる(円高ドル安)と、アメリカから輸入する商品の価格は安くなるので、日本の輸入量はふえる。逆に、日本からアメリカに輸出する日本の商品の価格は高くなるので、輸出量は減少する。

[問題]

下の資料は、日本の通貨の円とアメリカの通貨のドルとの為替相場の年平均を表したものである。この資料をもとに、2004年から2006年にかけての為替相場の変化とその影響について述べた文として正しいものを、次のア～エから一つ選び、その記号を書け。

	2004年	2005年	2006年
1ドルあたりの円	108.19	110.22	116.30

- ア 円高ドル安になったため、アメリカからの輸入品の価格が下がった。
- イ 円安ドル高になったため、アメリカからの輸入品の価格が上がった。
- ウ 円高ドル安になったため、アメリカからの輸入品の価格が上がった。
- エ 円安ドル高になったため、アメリカからの輸入品の価格が下がった。

(2008年高知県)

[解答欄]

[解答]イ

[解説]

2004～2006年にかけては、円安ドル高が進行している。円安ドル高になると、アメリカからの輸入品の価格(円)は上がり、アメリカへ輸出する日本製品の価格(ドル)は下がる。

[問題]

次のA、B、C、Dの文は、為替相場について述べたものである。A、BおよびC、Dの中からより適当なものをそれぞれ一つずつ選びなさい。

- A 一般に、海外でつくられた服を日本に輸入する場合、円高のときより円安のときのほうが輸入産業にとって有利である。
- B 一般に、日本でつくられた服を海外に輸出する場合、円高のときより円安のときのほうが輸出産業にとって有利である。
- C 一般に、日本人が海外を旅行する場合、円安のときより円高のときに旅行するほうが割安である。
- D 一般に、海外の外国人が日本を旅行する場合、円安のときより円高のときに旅行するほうが割安である。

(2007年愛知県)

[解答欄]

[解答]BとC

[解説]

A は誤り。円高になると輸入品の価格(円)は下がり、円安になると輸入品の価格(円)は上がる。

B は正しい。円高になると輸出品の価格(ドルなど)は上がり、円安になると輸出品の価格(ドルなど)は下がる。したがって、円安のほうが輸出量が増える。

C は正しい。日本人が海外を旅行し、旅行費用が 1000 ドルの場合で考える。円安で 1 ドル = 150 円のときの費用は日本円では $1000 \times 150 = 15$ 万円になる。円高で 1 ドル = 100 円になると、費用は日本円では $1000 \times 100 = 10$ 万円ですむ。

D は誤り。外国人が日本を旅行し、旅行費用が 15 万円の場合で考える。円安で 1 ドル = 150 円のときの費用は、 $150000(\text{円}) \div 150 = 1000$ ドルになる。円高で 1 ドル = 100 円のときの費用は $150000(\text{円}) \div 100 = 1500$ ドルになる。すなわち、円安のほうが割安になる。

[問題]

日本の通貨の価値が高まり円高となることにより生じる状況についての記述として誤っているものを、次のア～エからひとつ選び、記号で答えなさい。

- ア 日本国内の工場を海外に移す企業が増加する。
- イ 輸出が増え、輸出産業の業績があがる。
- ウ 海外のブランド商品が安く買えるようになる。
- エ 外国から日本に来る旅行者が減少する。

(2008 年鳥取県)

[解答欄]

[解答]イ

[印刷 / 他の PDF ファイルについて]

このファイルは、FdData 入試社会(15,000 円)の一部を PDF 形式に変換したサンプルで、印刷はできないようになっています。製品版の FdData 入試社会は Word(または一太郎)の文書ファイルで、印刷・編集を自由に行うことができます。

FdData 入試社会・入試理科全分野の PDF ファイル、FdData 中間期末(社会・理科・数学)全分野の PDF ファイル、および製品版の購入方法は<http://www.fdtype.com/dan/> に掲載しております。

下図のような、[FdData 無料閲覧ソフト(RunFdData)]を、Windows のデスクトップ上にインストールすれば、FdData 中間期末・FdData 入試の全 PDF ファイル(各教科約 1500 ページ)を自由に閲覧できます。次のリンクを左クリックするとインストールが開始されます。

RunFdData(Word 版) 【 <http://www.fdtype.com/lnk/instRunFdDataWDs.exe> 】

RunFdData(一太郎版) 【 <http://www.fdtype.com/lnk/instRunFdDataTAs.exe> 】

ダイアログが表示されたら、【実行】ボタンを左クリックしてください。インストール中、いくつかの警告が出ますが、[実行][許可する][次へ]等を選択します。

【イメージ画像】

