

【】ヨーロッパ人との出会い

【】鉄砲の伝来とキリスト教伝来

[鉄砲の伝来]

[問題]

1543年、ポルトガル人を乗せた中国船が種子島に漂着した。このとき日本に伝えられ戦国大名の間に広まり、戦術の変化や築城技術の向上をもたらしたものは何か。

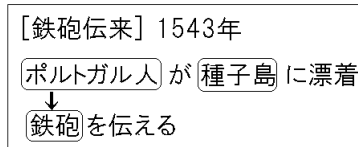
(兵庫県)

[解答欄]

[解答]鉄砲

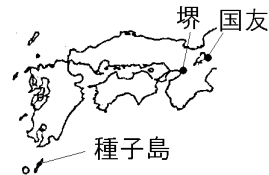
[解説]

1543年にポルトガル人を乗せた中国の船が種子島に流れ着き、日本に初めて鉄砲を伝えた。(一期四散(1543)の鉄砲伝来)



このとき伝えられた鉄砲は、まもなく堺や国友な

どで、刀鍛冶職人によってつくられるようになり、戦国大名の間に広まった。鉄砲の普及は、戦い方の変化と築城技術の向上をもたらし、全国統一の動きを促進した。



鉄砲をもっとも有効に活用したのは織田信長である。長篠の

戦いで足軽鉄砲隊を使った集団戦法で、当時最強といわれた武田の騎馬隊を打ち破ったのはあまりにも有名である。

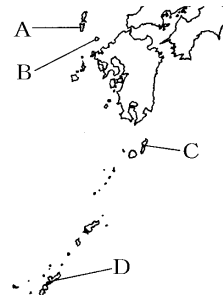
[問題]

戦国時代に入ると、鉄砲がポルトガル人により種子島に伝えられ、戦国大名などの戦法に変化が見られるようになった。種子島の位置を、右の略地図のA~Dから選べ。

(北海道)

[解答欄]

[解答]C



[問題]

鉄砲は()に流れ着いたポルトガル人によって伝えられた。文中の()内に入れる適語を答えよ。

(和歌山県)

[解答欄]

[解答]種子島

[問題]

鉄砲を日本に伝えたのはヨーロッパのどの国の人か。

(栃木県)

[解答欄]

[解答]ポルトガル

[問題]

鉄砲は、わが国に伝来した後、急速に広まった。その理由を、当時の時代背景に着目し、簡潔に書け。

(奈良県)

[解答欄]

[解答]当時は戦国時代であり、戦国大名が新兵器である鉄砲を求めたから。

[キリスト教の伝来]

[問題]

1549年鹿児島に上陸し、日本にキリスト教を伝えたのは誰か。

(補充問題)

[解答欄]

[解答]フランシスコ・ザビエル

[解説]

ルターらの^{しゅうきょうかいかく}宗教改革の刺激を受けて、カトリック教会側でも、勢力を回復するために、フランシスコ・ザビエルらがイエズス会をつくり、^{ふきょう}海外布教などに力を入れた。キリスト教(カトリック)は、1549年、フランシスコ・ザビエルによって日本にもたらされた。(以後よく(1549)発展キリスト教)ザビエルは鹿児島に上陸した後、山口、京都、^{ぶんごふない}豊後府内(大分市)などで布教して、2年あまりで去ったが、その後も^{せんきょうし}宣教師がやって来て、教会などを建てて布教を行った。

[キリスト教の伝来]

宗教改革→イエズス会の海外布教



1549年 フランシスコ・ザビエル
が日本にキリスト教を伝える



フランシスコ・ザビエル

[問題]

右の資料の人物は、1549年に来日し、キリスト教を伝えた。この人が来日した背景とは結びつかないできごとを、次のア～エから1つ選び、記号で答えよ。

ア スペインの援助を受けたコロンブスは、大西洋を横断して、西インド諸島に到達した。

イ 蒸気機関が機械の原動力として使われるようになり、生産力がいじりしく増加するようになった。

ウ ルターらが宗教改革をおこす一方で、カトリック教会も規律の立て直しをめざす動きをはじめた。

エ 香辛料などのアジアの物産を得るために、直接アジアへ到達する航路の開拓をはじめた。

(鳥取県)

[解答欄]

[解答]イ

[解説]

イは、ずっと後(18世紀)の産業革命について述べている。



[問題]

右の写真の人物についての説明として正しいものを，次のア～エから 1 つ選び，記号で答えよ。

ア 長崎に上陸し，その後，天皇や将軍に会いキリスト教を認めてもらった。

イ イエズス会を結成し，アジア地域へ布教をはじめた。

ウ 布教のかたわら，鉄砲の普及につとめた。

エ 日本と貿易を行い，利益を得ようとした。

(沖縄県)

[解答欄]

[解答]イ



[問題]

右図の人物が来日した目的を，簡潔に書け。

(群馬県)

[解答欄]

[解答]キリスト教を広めるため。



[問題]

イエズス会はアジアなどで積極的に布教活動を行った。この背景には，16 世紀初めからのルターたちによる運動があったが，これを何というか。

(石川県)

[解答欄]

[解答]宗教改革

[問題]

イエズス会の宣教師は、アジアやアメリカ大陸などで積極的に布教活動を行った。その理由を、当時のヨーロッパの宗教上のできごとに着目し、簡潔に書け。

(和歌山県)

[解答欄]

[解答]宗教改革に対抗して、カトリック教会の建て直しをはかるため。

[問題]

日本にはじめてキリスト教を伝えたイエズス会のフランシスコ・ザビエルは、キリスト教のどの宗派に属していたか。次から選べ。

[カトリック プロテスタント 東方正教 イギリス国教会]

(沖縄県)

[解答欄]

[解答]カトリック


[問題]

右の資料はポルトガル式のローマ字で書かれた天草版「平家物語」の本の一部で南蛮人が日本語を学ぶなどの目的でつくられた。この資料は日本に宣教師を派遣した教団によってつくられた。その教団の名称を書け。

(福島県)

[解答欄]

[解答]イエズス会



【】南蛮貿易とキリスト教の広まり

[南蛮貿易]

[問題]

16世紀半ばから17世紀初めにかけて、ポルトガル人やスペイン人がさかんに日本に
来航した。この当時、ポルトガルやスペインの人々と日本人との間で行われた貿易を何
というか。その用語を書け。

(新潟県)

[解答欄]

[解答]南蛮貿易

[解説]

マカオを根拠地としていたポルトガル商人たちも、貿易
の相手として日本に注目し、平戸(長崎県)や長崎などで
貿易が始まった。輸入品は、生糸や絹織物など中国産の
品物が中心であったが、毛織物、時計、ガラス製品、鉄
砲、火薬などの品物もあった。日本は、おもに銀を輸出
した。16世紀後半にはスペイン人も日本に来て貿易をするようになった。ポルトガル人
やスペイン人は南蛮人と呼ばれたので、この貿易を南蛮貿易という。

[南蛮貿易]

南蛮人:ポルトガル, スペイン
貿易港:長崎, 平戸
輸出品:銀

当時、日本の銀の産出量は世界の約3分の1を占めていた。日本の銀のほとんどは石見
銀山(島根県)で産出されていた。産出された大量の銀は、南蛮貿易で海外に輸出された。

[問題]

次のうち、南蛮貿易の相手国として、最も適切なものを1つ選び、記号を書け。

[ポルトガル ドイツ インド アメリカ]

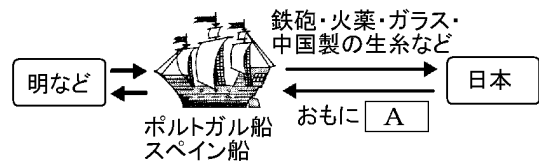
(富山県)

[解答欄]

[解答]ポルトガル

[問題]

南蛮貿易によるものの流れを、右の図のようにまとめた。Aには、当時日本でさかんに産出された鉱物名があてはまるが、それは何か、1つ書け。



(三重県)

[解答欄]

[解答]銀

[問題]

南蛮貿易で日本が中国から輸入したものとして、最も適当なものを次から1つ選べ。

[塩 生糸 金 銀]

(宮崎県)

[解答欄]

[解答]生糸

[問題]

16世紀のなかば以降、ポルトガル人やスペイン人は、九州各地などに来航し貿易をさかに行うようになった。このことについて、(1)、(2)に答えよ。

(1) この貿易を一般に何というか。

(2) この貿易について、次の語句を用いて、簡潔に説明せよ。

[銀 絹織物 中国産]

(和歌山県)

[解答欄]

(1)	(2)
-----	-----

[解答](1) 南蛮貿易 (2) 日本は、中国産の絹織物や生糸を輸入し、銀を輸出した。

[問題]

「16世紀、南国人とよばれたポルトガル人やスペイン人が来航した。」下線部はまちがって書いたものである。正しい語になおして書け。

(青森県)

[解答欄]

[解答]南蛮人

[問題]

南蛮貿易について述べた文として最も適切なものを、次のア～エから1つ選び、記号で答えよ。

ア 南蛮貿易は、イギリス人やオランダ人を相手に行われた。

イ 南蛮貿易の船に乗って、キリスト教の宣教師が、布教のために日本へ来航した。

ウ 南蛮貿易では、長崎の出島のみが貿易の窓口であった。

エ 南蛮貿易を通して日本にヨーロッパの学問や技術が伝わり、蘭学がおこった。

(山形県)

[解答欄]

[解答]イ

[キリスト教の広まり]

[問題]

ポルトガル人やスペイン人が、九州各地に来航したが、その目的として、日本と貿易をすることの他に、どのような目的があったか。

(滋賀県)

[解答欄]

[解答]キリスト教の布教をすること。

[解説]

キリスト教の信者たちはキリシタンとよばれ、人々の間に信仰が広まった。西日本の大名のなかには、なんばんぼうえき南蛮貿易の利益を得るために、キリスト教を保護し、

[キリスト教の広まり]
キリシタン大名：南蛮貿易の利益
天正遣欧少年使節

自らも洗礼せんれいを受けてキリシタン大名となる者もいた。

1582年、イエズス会は、布教の成果を示すため、伊東マンショなど4人の少年を、豊後の大友宗麟おともそりんなどのキリシタン大名が派遣した使節てんしょうけんだとして、ローマ教皇のもとへ連れていったてんしょうけん（天正遣欧少年使節）。

[問題]

キリスト教の伝来後、西日本にキリスト教が広まったが、その理由の1つを、次の3つの語句を使用して30字程度で説明せよ。

(南蛮貿易 キリスト教 大名)

(鳥根県)

[解答欄]

[解答]南蛮貿易の利益を得るために、大名がキリスト教を保護したから。

[問題]

キリスト教に関して、次のうち、九州の3大名が4人の少年使節を送った都市はどれか。

[エルサレム ローマ メッカ パリ]

(広島県)

[解答欄]

[解答]ローマ

[南蛮文化]

[問題]

16世紀中ごろから、ポルトガル人やスペイン人らによる貿易や布教活動を通してわが国に伝えられた西洋の文化は何とよばれるか。

(香川県)

[解答欄]

[解答]南蛮文化

[問題]

戦国大名が争っていた頃、ヨーロッパの人々が来航し、鉄砲とともに「カステラ (Castella)」や「カルタ(Carta)」などを日本に伝えたが、これらの外来語はどこの国の言葉をもとにしているか答えよ。

(島根県)

[解答欄]

[解答]ポルトガル

[堺や京都]

[問題]

右の絵に製造のようすが描かれているものは、ある国からわが国に伝えられた。その国はどこか。次から選べ。

[スペイン オランダ ポルトガル イギリス]


(山口県)

[解答欄]

[解答]ポルトガル


[解説]

日明貿易などによって室町時代から栄え、戦国時代には南蛮貿易で栄えていた堺は、商人による自治が行われていた。1543年に種子島に漂着したポルトガル人によって鉄砲が伝えられた後、日本国内で鉄砲が生産されるようになったが、堺は近江の国友などとともに鉄砲生産の中心地となった。



[問題]

次の絵は、鉄砲鍛冶がさかんであったある都市の様子を描いている。港町・自治都市として発展したこの都市を、略地図のア～エから1つ選べ。



(滋賀県)

[解答欄]

[解答]イ

[問題]

堺の町は独特な政治のしくみで治められていた。この独特な政治のしくみとはどのようなことか、簡潔に書け。

(宮城県)

[解答欄]

[解答]商人による自治が行われていたこと。

[問題]

次は、16世紀後半にキリスト教の宣教師が書いた手紙の一部である。これを読み、当時の都市の発展をふまえ、堺が安全で平和であったことの原因として誤っているものを、下のア～エの中から1つ選び、その記号を書け。

日本全国この堺の町より安全な所はなく、他の諸国で動乱があっても、この町には全くない。敗者も勝者も、この町にやってくたら皆平和に生活し、人々は仲良くし、他人に害を加える者はいない。市街ではこれまでもめ事がおこったことはなく、敵味方の差別なく皆深い愛情と礼儀でもてなした。市街にはすべて門があつて番人を置き、もめ事があれば直ちに門を閉鎖することも1つの理由であろう。(中略)町は非常に堅固であり、西は海で、他の側は深い堀で囲まれ常に水で満たされている。

ア 貿易で富をえた町人が自治組織をつくり、寄合によって町の政治を行ったから。

イ 町の西側は海、他方は深い堀で囲まれ防御のための施設が万全であったから。

ウ 市街には門が設置されもめ事がおこれば門を閉鎖することになっていたから。

エ 幕府の直轄地として重んじられ、強力な幕府から手厚い保護を受けていたから。

(埼玉県)

[解答欄]

[解答]エ

[問題]

室町時代に、豊かな商工業者を中心に町の自治が行われていた京都では、これらの人々が祇園祭を復興した。これらの商工業者を何とよぶか。

(滋賀県)

[解答欄]

[解答]町衆

[解説]

京都や、明との貿易で栄えた堺や博多では商人による自治組織が^{よりあい}つくり、^{よりあい}寄合によって町の自治が行われた。京都では町衆^{まちしゅう}とよばれた裕福な商工業者が自治を行い、^{おうにん}応仁の乱(1467年)で一時すたれた祇園祭を復興し、民衆芸能を支えるなど、文化の担い手となった。

[問題]

次の文は、室町時代後期のある都市について述べたものである。この都市は図中にA～Dで示した都市のうちのどれか。1つ選んで、その記号を書け。

この都市は、町衆とよばれる裕福な商工業者の努力によって、戦乱による荒廃から復興した。綿織物の生産が、この都市の西陣でさかんになった。

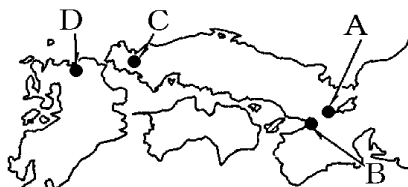
(香川県)

[解答欄]

[解答]A

[解説]

Aの京都で町衆^{まちしゅう}を中心に行われたのが祇園祭。Bの堺^{さかい}は日明貿易・南蛮貿易^{なんばん}の港として、また鉄砲の生産地としても有名。Cの山口は、博多商人と組んだ日明貿易で経済的に潤った大内氏の城下町で、^{ぎおん}応仁の乱で荒廃した京都の文化人を招き「西の京」ともよばれた。Dの博多は、対中国(宋・元・明)貿易の港として重要であり、その経済力を背景に戦国時代には自治都市となっていた。



[問題]


応仁の乱によってとだえた後，京都の町衆の努力によって復興されたものが右の資料に描かれている。これは何か，次の中から1つ選べ。

[かぶき踊り 能 祇園祭 伊勢参り]

(青森県)

[解答欄]

[解答]祇園祭



【】安土・桃山時代

【】信長の統一事業

[長篠の戦いなど]

[問題]

天下統一のために、いちはやく京都にのぼった尾張の戦国大名()は、対抗する戦国大名を次々とやぶるとともに、延暦寺や一向一揆などの宗教勢力に対してもきびしい態度でのぞんだ。文中の()内に入れる適語を答えよ。

(茨城県)

[解答欄]

[解答]織田信長

[解説]

尾張おわりの小さな戦国大名であった織田おだのぶなが信長は、2万5千という大軍で侵入してきた今川いまがわよしもと義元を、そのわずか10分の1の兵力で奇襲きしゅうして破った。これが桶狭間おけの戦いである。その後、足利あしががよしあき義昭を援助して



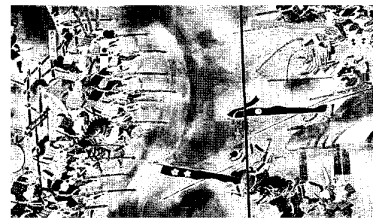
(織田信長)

[長篠の戦い]

鉄砲てつぱうを使って、武田勝頼を破る

京都にのぼって、將軍職につけたが、1573年、敵対するようになった義昭を追放して、室町幕府をほろぼした。(以後情け(1573)無用と室町滅ぶ)

織田信長は、1575年の長篠ながしのの戦いで武田勝頼たけだかつよりを打ち破った。右図の左側の鉄砲を使用しているのが織田方である。信長は川岸に柵さくを設けて、大量の鉄砲を使って一斉射撃いっせいしゃげきをあびせかけて、当時最強といわれた武田の騎馬軍団きばぐんだんを壊滅かいめつさせた。



織田方
(鉄砲を使っている)

武田方

[問題]

次の文章中の ~ に適語を入れよ。

織田信長は、今川義元を()の戦いで破ったあと勢力を広げ、()を援助して京都にのぼった。信長は、朝廷に働きかけて()を第15代將軍にすることで実権をにぎり、1573年には、敵対するようになった()を京都から追放した。これによって、()幕府は滅亡した。

(補充問題)

[解答欄]

--	--	--

[解答] 桶狭間 足利義昭 室町

[問題]

織田信長が鉄砲を用いて武田氏を打ち破った戦いを何というか。

(熊本県)

[解答欄]

--

[解答]長篠の戦い

[問題]

右の資料は、長篠の戦いの様子を描いたものである。この戦いにおいて勝利したのは、資料中のア、イのどちら側の軍か記号を選び、勝利した軍の戦い方を資料から読み取り、簡単に説明せよ。


(富山県)

[解答欄]

--

--

[解答] ア 鉄砲を効果的に使った戦い方をしている。



[問題]

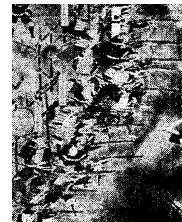
右の資料は、長篠の戦いで勝利をおさめた軍勢の戦いのようすを描いたものである。この戦いで勝利をおさめた尾張(愛知県)の戦国大名の名前を書け。また、この戦いで、尾張の戦国大名の軍勢が勝利をおさめた主な理由を、資料に見られる戦いのようすに着目して簡単に書け。

(愛媛県)

[解答欄]

--	--

[解答] 織田信長 鉄砲を効果的に使った戦い方をしたから。



[問題]

右図は、「長篠の戦い」を描いている。Bは織田信長軍である。そのように判断できる理由を書け。

(沖縄県)

[解答欄]



[解答]Bには鉄砲隊があるから

[問題]

織田信長が堺を支配しようとした理由は何か、右の資料1および資料2を参考にして書け。

(三重県)

(資料1)
長篠の戦い



(資料2)
ヨーロッパ人が描いた堺のようす



[解答欄]

[解答]堺が鉄砲生産と貿易によって栄えていたから。

[解説]

戦国武将の中で、鉄砲を最も有効に活用したのは信長^{のぶなが}であった。鉄砲は、戦法の変化をもたらすとともに、全国統一を早める力となった。当時、堺^{さかい}は鉄砲の最大の生産地であったので、ここを支配下におくことは鉄砲をライバルの戦国大名たちの手にわたりにくくすることができるのである。また、当時、南蛮^{なんばん}貿易などで栄えていた堺を支配下におくことは経済的な意味でも魅力的であった。

[問題]

鉄砲伝来の影響を次の語句を使用して簡潔に書け。

[全国統一 鉄砲 戦法 織田信長]

(徳島県)

[解答欄]

[解答]鉄砲は織田信長によっていち早く活用され、戦法の変化をもたらすとともに、全国統一を早める力となった。

[仏教勢力などとの戦い]

[問題]

信長の仏教勢力への対応を、具体的な例をあげて書け。

(青森県)

[解答欄]

[解答]延暦寺や一向一揆などにはきびしい態度でのぞみ、屈服させた。

[解説]

桶狭間の戦いによって今川氏の勢力がおとろえた後、徳川家康は今川方から独立して織田信長と同盟を結び、以後、織田信長が本能寺の変で倒れるまで忠実に信長に従ってともに戦った。

[織田信長の敵対勢力]

比叡山延暦寺、一向宗、堺
キリスト教は保護

信長は堺の鉄砲と経済力に目をつけ、これを支配下に置こうとしたため、堺の商人たちは自治を守るために戦ったが、信長に屈服した。

信長は宗教勢力に対しても、敵対する勢力には厳しい態度で臨んだ。当時の大寺院・寺社は強大な宗教的権威と経済力を背景に武装しており、それ自体が強大な政治勢力であった。信長は敵対する比叡山延暦寺(琵琶湖のほとりにあった)を焼き討ちにした。信長にとって最大の敵となったのは、石山本願寺を頂点にした一向一揆勢力であった。信長は、1573年には伊勢長島の一向一揆をほろぼし、翌年には越前の一向一揆を平定し、ついに1580年には石山の本願寺を屈服させることに成功した。なお、信長は、キリスト教に対しては、仏教勢力に対抗させる意図もあって、これを保護した。

[問題]

織田信長がキリスト教を保護した理由の1つを、簡潔に書け。

(群馬県)

[解答欄]

[解答]仏教勢力に対抗するため。

[問題]

九州の一部の戦国大名や織田信長は、キリスト教の教えにひかれたり仏教勢力に対抗したりするだけでなく、他の理由もあってキリスト教を保護した。その理由を15字以内で答えよ。

(島根県)

[解答欄]

[解答]南蛮貿易で利益を得るため。

[楽市・楽座]

[問題]

織田信長が琵琶湖の南岸に建てた、高くそびえる天守閣を持つ城は何とよばれるか。そのよび名を書け。

(香川県)

[解答欄]

[解答]安土城

[解説]

織田信長は、長篠の戦いの翌年、琵琶湖のほとり(現在の滋賀県)に 5 層の天守をもつ壮大な安土城を築いた。信長は安土城下には楽市・楽座の



[楽市・楽座]
安土城を築き、
城下で、楽市・楽座
関所を廃止

政策によりだれでも自由に商工業ができるようにした。室町時代以降、同業者の団体である座が増えたが、商人の座は、寺社や荘園領主に営業税を納める代わりに一定地域内における独占的販売権を認められていた。楽市・楽座の政策は、商工業の発展をはかるために、座の特権を廃止し、市場の税を免除し誰でも自由に商工業ができるようにした政策である。

また、当時、寺社や荘園領主が交通の要所に関所を設け、通行税を徴収していたが、信長は関所を廃止して、商工業の発展を図った。

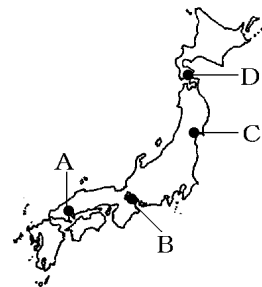
[問題]

織田信長がつくった安土城の場所は、右の略地図の A～D のどこか。

(神奈川県)

[解答欄]

[解答]B



[問題]

織田信長は、安土城下で市場の税を免除し、自由に商工業ができるようにした。この政策を何というか。

(和歌山県)

[解答欄]

[解答] 楽市・楽座

[問題]

次の文の ， の()内より適語を選べ。

織田信長は、商工業の発展をはかるため、(関所/問)を廃止して物資の流通をさかんにするとともに、(検地/楽市・楽座)を実施して営業の自由を認めるなどした。

(北海道)

[解答欄]

<input type="text"/>	<input type="text"/>
----------------------	----------------------

[解答] 関所 楽市・楽座

[問題]

楽市・楽座の説明として正しいものを、下のア～エの中から1つ選べ。

ア 御家人が売ってしまった土地を、売買後の年月に関係なく、もとの持ち主に返させた。

イ 市場の税を免除して、だれでも自由に商売ができるようにした。

ウ 農民の五人組をつくり、年貢の納入や、犯罪の防止などに共同で責任を負わせた。

エ ものさしの単位やますの大きさを決めて、田畑の面積や収穫高を全国的に調べさせた。

(茨城県)

[解答欄]

[解答] イ

[問題]

楽市・楽座とはどのようなことか、「自由」の語句を用いて簡潔に書け。

(徳島県)

[解答欄]

[解答]市場の税を免除し、だれでも自由に商工業ができるようにした政策。

[問題]

織田信長は、自分の城下に楽市・楽座令を出した。この法令を出した目的は何か。

(山形県)

[解答欄]

[解答]商工業の発展を図ること

【】豊臣秀吉の全国統一

[太閤検地]

[問題]

右図の人物は、太閤検地や刀狩などの政策を行った。

図の人物はだれか。その人物名を書け。

(静岡県)

[解答欄]

[解答]豊臣秀吉

[解説]

とよとみひでよし ねんぐ
豊臣秀吉は、年貢を確実に取るために、全国の田畑の面積、土地のよしあし、耕作者を調べさせ、村ごとに検地帳をつくらせた。これを太閤検地という。収穫高は、全国どこでも同じ大きさの京ます(右図)ではかり、石高(こくだか体積の単位)で表すようにした。検地帳に記された農民は、その田畑を耕作する権利を認められたかわりに、定められた年貢を領主である武士に納めることになった。これによって年貢収納が確実になり、荘園領主などがもっていた田畑に関する権利はすべて否定され、荘園は完全に消滅することになった。



[太閤検地]

ものさし、ますを統一

石高(体積), 検地帳

荘園が消滅

(京ます)



[問題]

安土桃山時代に実施された太閤検地の内容として正しくないものを、次のア～エから1つ選び、その記号を書け。

ア 全国的にものさしやますを統一し、米の収穫高を石高で示すようにした。

イ 田畑の面積や土地のよしあし、耕地ごとの耕作者などを検地帳に記した。

ウ 村ごとに庄屋、組頭、百姓代などの村役人を決め、村の運営をまかせた。

エ 農民の耕作権を認める代わりに、年貢を負担させ、住む場所を固定させた。

(奈良県)

[解答欄]

[解答]ウ

[解説]

ウは江戸時代のことである。

[問題]

豊臣秀吉が行った政策のなかで、刀狩とともに兵農分離を進めることに大きな役割をはたした政策は何か。その名称を書け。

(奈良県)

[解答欄]

[解答]太閤検地

[問題]

豊臣秀吉は、全国各地に役人を派遣して太閤検地を行った。豊臣秀吉は、太閤検地において、派遣した役人にどのようなことを調べさせたか。1つ簡単に書け。

(静岡県)

[解答欄]

[解答]田畑の面積(田畑のよしあし)

[問題]

秀吉は、田畑のようすを調査して、予想される生産高を米に換算した()であらわし、耕作者の名前とともに土地台帳に記載した。文中の()内に入れる適語を答えよ。

(兵庫県)

[解答欄]

[解答]石高

[問題]

全国的な検地を行うためには、田畑の広さや米の収穫高を正確に調べるための道具を統一する必要があった。田畑の広さを調べるためにものさしが統一されたが、米の収穫高を調べるために統一された道具は何か。

(三重県)

[解答欄]

[解答]ます

[問題]


豊臣秀吉が行った右の資料のような政策の結果について正しく述べたものを、次のア～エから1つ選び、記号で答えよ。

ア 全国の田畑の生産量が同一の基準で表され農民は石高に応じた年貢を納めることになった。

イ 農民に口分田が与えられ、農民は口分田の面積に応じて税や労役などを負担することになった。

ウ 地価が決められ土地の所有者は一定の税率にもとづいて現金で税を納めることになった。

エ 開墾した土地の私有が認められたため貴族などがさかんに開墾をすすめるようになった。



(山形県)

[解答欄]

[解答]ア

[解説]

イは奈良時代ごろの班田収授法^{はんでんしゅうじゅほう}。ウは明治初期の地租改正^{ちそかいせい}。エは奈良時代の墾田永年私財法。

[問題]

太閤検地以後の社会の変化のようすをあらわした適切な文を、次のア～オの中からすべて選び、記号を書け。

ア 実際に耕作する農民に土地の権利がみとめられ予想される生産高に応じて年貢が決められた。

イ 実力のある者が力をのばして、上の身分の者にうちかつ下剋上の風潮が強まった。

ウ 農民は、荘園領主だけでなく、地頭に対しても年貢や労役などを負担するようになった。

エ 武士は石高で領地をあたえられるとともに、農民との身分の区別が明らかになっていった。

オ 守護大名が領国内の武士を家来として、一国全体の支配権をにぎるようになった。

(長野県)

[解答欄]

[解答]ア，エ

[解説]

イは室町後期～戦国時代。ウは鎌倉時代。オは室町初期の南北朝の争乱の時代。

[問題]

太閤検地が中世までの土地制度を終わらせたといわれる理由を、「公家や寺社」と「土地の権利」の2語を用いて簡潔に説明せよ。

(長野県)

[解答欄]

[解答]公家や寺社のもっていた土地の権利を否定したから。

[刀狩]

[問題]

「諸国の百姓が、刀やわきざし、弓、やり、鉄砲、そのほかの武具などを持つことは、かたく禁止する。」この法令は、農民の一揆を防ぎ、耕作に従事させるために制定されたものである。この法令名を何というか。

(岩手県)

[解答欄]

[解答]刀狩令

[解説]

豊臣秀吉は、次の^{かたながり}刀狩令を出して武士以外の者から刀やわきざし、弓、やり、鉄砲などの武器を取り上げた。

「諸国の百姓が刀やわきざし、弓、やり、鉄砲、そのほかの武具などを持つことは、かたく禁止する。不必要な武具をたくわえ、年貢その他の税をなかなか納入せず、

ついには一揆をくわだてたりして、領主に対してよからぬ行為をする者は、もちろん処罰する。」刀狩は武力による農民の一揆を防ぎ、耕作に専念させるためであった。

また、それまで自分の領地にいた武士は、大名の城下町に集められた。これらの政策によって、武士と農民の区別がはっきりした。これを兵農分離^{へいのうぶんり}という。

[刀狩]

武力による農民の一揆を防ぎ、耕作に専念させるため

→兵農分離

[問題]

豊臣秀吉は、全国統一を進める中で、農民が所持していた武器を取り上げる刀狩令を出した。この刀狩令を出した目的は何か、簡潔に書け。

(徳島県)

[解答欄]

[解答]農民の一揆を防ぎ耕作に専念させること。

[問題]

太閤検地や刀狩の実施によって、農民の身分に関してどのような影響が生じたか。「武士」ということばを用いて書け。

(岡山県)

[解答欄]

[解答]武士と農民との身分の区別が明らかになり、兵農分離がすすんだ。


[問題]

右図の人物が行った刀狩や検地などの政策によって、武士と農民との身分がはっきりと区別されることになった。このことを何というか。漢字4字で書け。

(福島県)

[解答欄]

[解答]兵農分離



[宣教師の追放]

[問題]

宣教師の影響を受けてキリシタンとなる大名がいるなかで、豊臣秀吉は宣教師の国外追放を命じた。その理由を説明せよ。

(熊本県)

[解答欄]

[解答]長崎が教会領になり，キリスト教勢力をおそれたから。

[解説]

秀吉は，九州を従えたあと，長崎がイエズス会に寄進されていることを知り，日本は「神国」であるとして宣教師の国外追放を命じた(バテレン追放令)。キリスト教の布教が，スペインやポルトガルの侵略政策と結びついてい

バテレン追放令
南蛮貿易は奨励
↓
キリスト教禁止は徹底せず

ることを危険視したためである。しかし，宣教師の一部は日本にとどまって布教活動を続け，また秀吉が直接支配することになった長崎では南蛮貿易が奨励されていたため，キリスト教徒は増加していった。

[問題]

豊臣秀吉は，キリスト教布教を禁止しようとしたが徹底しなかった。資料は，豊臣秀吉が出した，ある法令の一部を要約したものである。キリスト教の布教の禁止が徹底しなかった理由を，資料から読み取り，簡単に書け。

(資料)

- 一 キリスト教の宣教師を日本に住ませることはできないので，二十日以内に準備して帰国せよ。
- 一 ポルトガル・スペイン船が貿易に来るのは事情がちがうので，今後も自由に売り買いをしてよい。

(静岡県)

[解答欄]

[解答]ポルトガルやスペインなどとの貿易は認めたから。

[問題]

豊臣秀吉や当初の江戸幕府は，なぜ南蛮人の来航を認めていたのか。その理由を書け。

(滋賀県)

[解答欄]

[解答]貿易の利益を重視したから。

[朝鮮侵略]

[問題]

豊臣秀吉は、日本への服属を拒否した()に対し、2 度にわたって出兵した。文中の()内に入れる適語を答えよ。

(富山県)

[解答欄]

[解答]朝鮮

[解説]

全国統一を果たした秀吉は、1592(文禄元)年に、明の
征服をめざして、諸大名に命じ 15 万人の大軍を朝鮮に
派遣した(文禄の役)。日本の軍勢は、朝鮮の首都漢城(ソ
ウル)を占領して朝鮮北部に進んだが、救援に来た明軍

におしもどされた。また、各地で朝鮮の民衆が抵抗運動を起こし、朝鮮南部では、龜甲
船を率いて戦った朝鮮の李舜臣の水軍が日本の水軍を破り、日本からの補給路をたつた。
このため秀吉は、明と講和を結ぼうとしたが、秀吉を日本国王に任命するという明の皇
帝の国書に不満を持ち、1597(慶長 2)年ふたたび戦いを始めた(慶長の役)。日本の軍勢
は苦戦し、1598 年、秀吉が病死したのを機に全軍が引きあげた。この 2 度にわたる侵
略をまとめて朝鮮侵略という。朝鮮侵略のときに朝鮮から連れてこられた技術者によ
って有田焼などの陶磁器が作られるようになった。

江戸時代になって、1609 年に对馬藩の努力によって朝鮮との国交が回復した。

[朝鮮侵略]

(文禄の役・慶長の役)

明の征服、李舜臣、有田焼

[問題]

豊臣秀吉が征服をめざした中国の王朝名を何というか。

(長崎県)

[解答欄]

[解答]明

[問題]

豊臣秀吉による朝鮮への出兵について述べた文として適当なものを，ア～エから1つ選び，その記号を書け。

- ア 朝鮮半島の加羅(任那)地方に分立していた小国と結んで，高句麗などと戦った。
- イ 江華島付近における武力衝突をきっかけとして，不平等な内容の条約をおしつけ，朝鮮を開国させた。
- ウ 朝鮮の各地で起こった民衆による抵抗や，李舜臣の率いる水軍の攻撃にあい苦戦した。
- エ 百済救援のための軍を送ったが，白村江の戦いで敗れ，朝鮮半島から手を引いた。

(愛媛県)

[解答欄]

[解答]ウ

[問題]

わが国の陶器や磁器には，16世紀末から17世紀初めに朝鮮半島から優れた技術が伝わってつくられるようになったものも多い。この技術の伝来と最も関係が深い人物はどれか。

- ア 太閤検地や刀狩を行った人物
- イ 室町幕府を滅ぼした人物
- ウ 長篠の戦いで敗れた人物
- エ 本能寺の変をおこした人物

(栃木県)

[解答欄]


[解答]ア

【】桃山文化

[桃山文化の特色]

[問題]

17世紀初頭に、右の資料の天守閣が築かれた。この建物に代表される豪華・雄大で活気にあふれる開放的な文化は、何とよばれるか。その名称を書け。



(奈良県)

[解答欄]

[解答]桃山文化

[解説]

全国を統一する政権が出現した桃山時代は、古い社会のしくみがこわされ、社会には活気がみなぎった。この時代の桃山文化は、大名や大商人たちの権力や富を背景にした豪華で壮大な文化で、南蛮文化の影響も受けている。

[桃山文化]
豪華で壮大

[問題]

全国統一がすすめられた時期には、桃山文化が発達した。城には天守閣がつくられ、城の内部のふすまや屏風には、はなやかな色彩の絵がえがかれた。これらの城のようすにみられる桃山文化の特色を、この文化をおもにどのような人々が好んだのかが分かるように、簡単に書け。

(静岡県)

[解答欄]

[解答]大名や大商人たちの豪華で雄大な文化。

[天守・ふすま絵]

[問題]

桃山文化の代表的なものに城がある。鉄砲の伝来によって築城法が大きく変わり、城外には堀がつくられ、城壁が高くなった。また、右図の姫路城のように城の最上部には壮大な()がつくられるようになった。()に適語を入れよ。
(補充問題)



[解答欄]

[解答]天守

[解説]

桃山文化を代表するのは、安土城、大阪城、姫路城などの支配者の権威を示す壮大な城である。これらの城の最上部には天守がつくられるようになった。姫路城は世界遺産に登録されている。

城のふすまや屏風には、はなやかな絵がえがかれるようになった。屏風絵やふすま絵で有名なのは狩野永徳(右図の「唐獅子図屏風」)は其の代表作)や狩野山楽である。

[天守・ふすま絵]
城には天守(姫路城など)
ふすま絵: 狩野永徳



天守(姫路城)



狩野永徳(唐獅子図屏風)

[問題]

次の資料は、安土桃山時代につくられた唐獅子図屏風の一部である。この作品の作者名を答えよ。

(熊本県)



[解答欄]

[解答]狩野永徳

[問題]

狩野永徳の作品を、次のア～エから1つ選び、その記号を書け。

ア



イ



ウ



エ



(高知県)

[解答欄]

[解答]ア

[茶の湯・芸能など]

[問題]

堺の商人出身で、「わび茶」という、質素さを大切にする茶道を大成したのはだれか。
漢字 3 字で書け。

(神奈川県)

[解答欄]

[解答]千利休

[解説]

茶の湯は、大名や大商人たちの間で流行していたが、秀吉に仕えた千利休は、質素なわび茶の作法を完成させた。

[茶の湯・芸能]
茶の湯: 千利休
かぶき踊り: 出雲の阿国



千利休



出雲の阿国

社会全体に、現世を楽しむ風潮が強まり、恋愛などをうたう小歌が流行し、室町時代に琵琶などに合わせて恋物語などを語った浄瑠璃が、琉球から伝わった三線をもとにつくられた三味線に合わせて語られるようになった。

17世紀はじめ、出雲の阿国という女性が始めたかぶき踊りも人気を集めた。「かぶく」は「傾く(かぶく)」という語から生まれた言葉で、目をおどろかす異様な姿で変わったことをする者を「かぶき者」といった。

[問題]

千利休によって大成されたものは何か。

(長崎県)

[解答欄]

[解答]わび茶

[問題]

姫路城が築かれた安土桃山時代には、壮大な城にみられるような、豪華ではなやかな文化が栄えた。このころの文化を次のア～エの中から1つ選び、その記号を書け。

- ア 武士が台頭し、貴族政治が衰える中、鴨長明は「方丈記」を著して、世の中のむなしさを説いた。
- イ 茶の湯が大名や大商人たちの間で流行する中、千利休は質素なわび茶の作法を完成させた。
- ウ 京都や大阪など、上方で庶民中心の文化が発達する中、町人の風俗を題材にした浮世絵がさかんに描かれた。
- エ 民衆や武士が、戦乱や飢饉をのりこえて成長する中、浄土宗などの簡単でわかりやすい新しい仏教の教えが生まれた。

(埼玉県)

[解答欄]

[解答]イ

[解説]

茶の湯は、大名や大商人たちの間で流行し、秀吉に仕えた堺の商人千利休は、質素なわび茶の作法を完成させた。千利休は、豊臣秀吉に重用されたが、のちに秀吉の怒りにふれ、自害した。

アとエは鎌倉時代の文化。ウは江戸時代の元禄文化。

[問題]

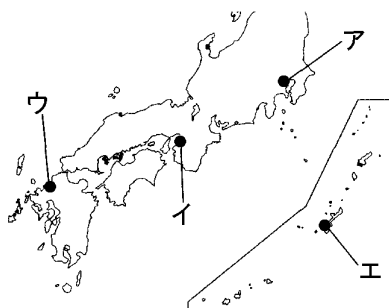
千利休は、勘合を用いた明との貿易で栄え、鉄砲の生産地であった(A)の商人出身である。Aにあてはまる都市名を書け。また、その位置を右の地図のア～エから1つ選び、その記号を書け。

(長崎県)

[解答欄]

<input type="text"/>	<input type="text"/>
----------------------	----------------------

[解答] 堺 イ



[問題]

()は、出雲国の巫女だったといわれている。また、京都でかぶき踊りをはじめた。

(佐賀県)

[解答欄]

[解答]阿国

[解説]

17世紀はじめに出雲の阿国いずもが始めた踊りをかぶき踊りという。「かぶく」は「傾く(かぶく)」という語から生まれた言葉で、目をおどろかす異様な姿で変わったことをする者を「かぶき者」といった。

[問題]

出雲の阿国のかぶき踊りについて正しく述べている文章を、次のア～エから1つ選び、記号で答えよ。

- ア この踊りは、田植えのときに豊作を祈る神事から始まったもので、田で笠をかぶり楽器をならして踊るものである。
- イ この踊りは、浄瑠璃の語りと楽器のリズムに合わせて人形を動かしていくもので、日本独自の特色ある芸能である。
- ウ この踊りは、現世を楽しもうとする庶民娯楽のひとつで、ものまね・民謡などを取り入れたり、女が男装したりして踊ったものである。
- エ この踊りは、伊勢神宮などのお札が天から降ってきたとあって、「ええじゃないか」と熱狂的にはやしたてながら踊ったものである。

(鳥取県)

[解答欄]

[解答]ウ

[問題]

図1は、桃山時代に京都で流行した踊りのようすを描いたものである。この踊りはそのちに発展し、江戸時代には図2のような役者が演じて人々に親しまれた。図1の踊りから発展し、現代に伝わる伝統文化は何か。

図1



図2



(島根県)

[解答欄]

[解答]歌舞伎

[印刷 / 他の PDF ファイルについて]

このファイルは、FdData 入試社会(16,200 円)の一部を PDF 形式に変換したサンプルで、印刷はできないようになっています。製品版の FdData 入試社会は Word の文書ファイルで、印刷・編集を自由に行うことができます。

FdData 入試社会・入試理科全分野の PDF ファイル、FdData 中間期末(社会・理科・数学)全分野の PDF ファイル、および製品版の購入方法は<http://www.fdttext.com/dan/> に掲載しております。

下図のような、[FdData 無料閲覧ソフト(RunFdData2)]を、Windows のデスクトップ上にインストールすれば、FdData 中間期末・FdData 入試の全 PDF ファイル(各教科約 1800 ページ以上)を自由に閲覧できます。次のリンクを左クリックするとインストールが開始されます。

RunFdData 【 <http://fddata.deci.jp/lnk/instRunFdDataWDs.exe> 】

ダイアログが表示されたら、【実行】ボタンを左クリックしてください。インストール中、いくつかの警告が出ますが、[実行][許可する][次へ]等を選択します。

【イメージ画像】



【Fd 教材開発 : URL <http://www.fdttext.com/dat/> Tel (092) 404-2266】