

【】江戸時代

【】幕府の成立

[問題]

1600年、徳川家康は石田三成らを()の戦いで破った。

(2007年高知県)

[解答欄]

[解答]関ヶ原

[解説]

秀吉の死後、徳川家康は 1600 年の関ヶ原の戦いで石田三成を中心とする豊臣方を破り、実権を握った。1603 年には征夷大將軍に任じられ、江戸幕府を開いた(人群多(1600)い関ヶ原ノ人群れ溝(1603)ちる江戸幕府)。さらに、1615 年には、豊臣氏を大阪の陣で滅ぼした。

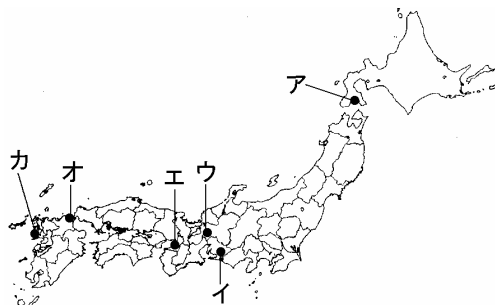
[問題]

関ヶ原の戦いが起こった場所を右図の A ~ C から選びなさい。

(2008年島根県)

[解答欄]

[解答]ウ



[問題]

徳川家康は 1603 年に、朝廷から()に任命されて江戸幕府を開いた。

(補充問題)

[解答欄]

[解答]征夷大將軍

[問題]

江戸時代は何世紀にはじまり何世紀に終わったか。答えなさい。

(2009 年山口県)

[解答欄]

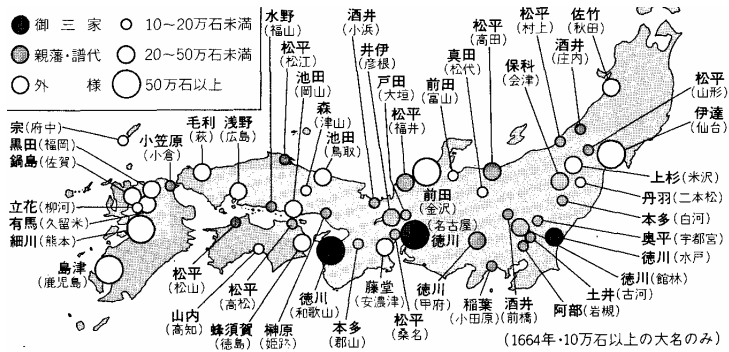
(はじまり)	(終わり)
--------	-------

[解答] (はじまり)17 世紀 / (終わり)19 世紀

【】大名の配置

[問題]

江戸幕府が行った大名配置の特徴を下の地図から読み取り、簡潔に説明しなさい。



(三重県)

[解答欄]

[解答]親藩や譜代を要所に配置し、有力な外様は遠隔地に配置した

[解説]

大名とは1万石以上の領地を与えられた武士である。また、大名の支配する領地とその政治組織を藩という。徳川幕府は大名を、徳川氏の親せきである親藩、関ヶ原の戦いより前から徳川氏の家来だった譜代大名、関ヶ原の戦いより後から徳川氏の家来になった外様大名の3つに分けた。徳川幕府を永続させるため、全国の領地の4分の1をしめる圧倒的な実力を背景にして、徹底した大名統制を行った。大名の領地がえを行って、関東、中部、近畿などの重要な所には親藩や譜代大名を配置し、有力な外様大名は九州、四国、東北などの遠隔地に配置し、親藩や譜代に外様を監視させた。

[問題]

江戸幕府による支配の説明として適当でないのは、ア～エのうちではどれですか。

- ア 幕府は重要な都市や鉱山を直接支配し、貨幣の発行権をもっていた。
- イ 幕府は有力な外様大名を江戸の近くに配置し、監視した。
- ウ 幕府は武家諸法度を制定し、大名の守るべきことを定めた。
- エ 幕府は参勤交代の制度を定め、大名に江戸と領地を定期的に往復させた。

(2005年岡山県)

[解答欄]

[解答]イ

[問題]

江戸時代の大名で、関ヶ原の戦い以降に徳川氏に従った大名を何と呼ぶか。書きなさい。

(2007年滋賀県)(2007年青森県)

[解答欄]

[解答]外様大名

[問題]

大名の中で、関ヶ原の戦いより前から徳川家の家臣であった大名を何というか。また、大名の中で徳川家の一族を何というか。

(補充問題)

[解答欄]

<input type="text"/>	<input type="text"/>
----------------------	----------------------

[解答]譜代大名 / 親藩

【】武家諸法度

[問題]

徳川幕府は、豊臣氏をほろぼしたのち、()という法律を定め、大名家どうしが無断で婚姻を結んだりすることを禁止した。

(2007年福井県)

[解答欄]

[解答]武家諸法度

[解説]

最初の武家諸法度は二代將軍徳川秀忠ひでただのときに出され、以後、將軍がかわるたびごとに出された。武家諸法度は大名の統制を目的にしたもので、大名どうしが無断で婚姻関係を結ぶことを禁じ、あらたに城をつくったり、無断で城を修理することを禁止した。

江戸幕府初期には、多くの大名が武家諸法度違反などの理由で処罰された。たとえば、1619年、関ヶ原の合戦で功績があった福島正則ふくしまさのりは、武家諸法度で禁じられていた城の修築を無断で行ったという理由でお家取りつぶしの処罰を受けている。これは、昔からの功勞者であった者も法度に背けば容赦しないという武断政治の姿勢を示したものである。

[問題]

武家諸法度は、將軍が代わるごとに出された。この法律のねらいは何か。「大名」の語句を用いて簡潔に書け。

(2007年奈良県)(2006年熊本県)

[解答欄]

[解答]大名を統制するため

[問題]

次のア～エのうち、武家諸法度の説明として、最も適切なものを選び、記号を書きなさい。

ア 家臣の婚姻や相続の許可制、けんか両成敗など、領国内の武士の行動を取りしまった。

イ 仏教や儒教の考え方を取り入れ、天皇の命令に従うべきことなど役人の心得を示した。

ウ 武士の社会の慣習に基づいて、公平な裁判の基準を示した。

エ 大名が許可なく城を修繕したり、大名同士が無断で婚姻関係を結んだりすることを禁止した。

(2008年富山県)

[解答欄]

[解答]工

[解説]

アは戦国大名の分国法。イは聖徳太子の十七条憲法。ウは鎌倉時代の御成敗式目。

[問題]

江戸幕府は、武家諸法度を定めて大名を統制した。武家諸法度において、幕府が大名に禁止したことのうち、城に関するものを簡単に書け。

(2009年香川県)

[解答欄]

[解答]あらたに城をつくったり、無断で城を修理することを禁止した。

[問題]

江戸幕府が武家諸法度を定めて、大名に対して禁止したことや規制したことのうち、1つを書きなさい。

(2007年滋賀県)

[解答欄]

[解答]許可なく城を修理すること(大名どうしが無断で婚姻関係を結んだりすること)

[問題]

徳川幕府が行ったことについて説明した次の文の下線部ア～エの中に、一か所誤りがあります。誤りをア～エから選び、正しいことばを書きなさい。

大名を統制するために、ア御成敗式目という法令を定め、さらに、大名を1年おきに江戸と領地に住ませるイ参勤交代の制度を設けた。また、天皇や公家の行動を制限し、朝廷を監視するために、ウ京都所司代を設けた。農民に対しては、5～6戸を単位とするエ五人組をつくらせ、犯罪防止や年貢を納めることについて、共同の責任を負わせた。

(2003年北海道)

[解答欄]

--	--

[解答]ア / 武家諸法度

【】参勤交代

[問題]

江戸時代、大名は1年おきに江戸と領国に住み、江戸と領国との間を往復することが江戸幕府によって決められていた。この制度は何と呼ばれているか。書きなさい。

(2007年大阪府)

[解答欄]

[解答]参勤交代

[解説]

三代将軍徳川家光は参勤交代いそみつ きんきんこうたいの制度を定め、大名は江戸に妻子を人質として置き、1年おきに領地と江戸を往復することを義務づけた。往復のための費用や江戸での生活のための費用は大きな負担となり、このために各藩の財政は非常に苦しくなり、大名の経済力が弱められた。

[問題]

武家諸法度には徳川家光の時代に参勤交代の制度が定められた。この時の参勤交代の制度の内容について簡潔に説明しなさい。

(2007年新潟県)(2006年埼玉県)

[解答欄]

[解答]大名が1年おきに領地と江戸を往復することを義務づけた。

[問題]

参勤交代によって、大名は多くの出費をしいられるようになった。どのようなことに出費がしいられたか、1つ書きなさい。


(2007年青森県)

[解答欄]

[解答]領地と江戸を往復するための費用(大名の妻子を江戸に住ませる費用)

[問題]

次の資料は、加賀藩の参勤交代の様子を描いたものの一部である。参勤交代は大名の重い負担となったが、資料を参考にしてその理由を書きなさい。



(2006年石川県)

[解答欄]

[解答]大勢の家来を連れて江戸と領地を往復するのに多くの費用がかかったから。

[問題]

大名は、妻子を江戸におき、江戸と領地を往復させられた。この制度がつけられた目的を、「幕府が、」の書き出しで書け。

(2007年福岡県)

[解答欄]

[解答]幕府が、大名の統制を強めるため。

[問題]

日光の東照宮は、3代将軍(X)により造営された。(X)は、参勤交代の制度を定め、大名を統制した。

(2005年千葉県)

[解答欄]

[解答]徳川家光

[問題]

徳川家光が行った政策について述べた文として最も適当なものを、ア～エから1つ選び、その記号を書け。

- ア 上げ米の制を定めて大名に米を献上させ、財政の立て直しを図った。
- イ 商人に出資させて、印旛沼などの干拓を行い、新田を増やそうとした。
- ウ 同業者組織である株仲間の解散を命じ、物価の引き下げを図った。
- エ 領地と江戸の間を往復させる参勤交代の制度を定め、大名を統制した。

(2007 年愛媛県)

[解答欄]

[解答]エ

[解説]

アは徳川吉宗よしむねの享保きやうほうの改革，イは老中田沼意次たぬまおきつぐの政治，ウは老中水野忠邦みずのただくにの天保てんぽうの改革。

【】朱印船貿易と日本町

[問題]

徳川幕府は、鎖国前は、秀吉の奨励した貿易のしかたを引き継いでいた。この貿易を何というか。答えなさい。

(補充問題)

[解答欄]

[解答]朱印船貿易

[解説]

徳川家康は、最初、大名や大商人に海外渡航を許可する右図のような朱印状をあたえて、貿易をすすめた。これを朱印船貿易という。西国の大名や京都・堺・長崎などの商人は、朱印船を派遣して貿易を行った。その結果、東南アジア各地に日本人が進出し、日本町がつけられた。



[問題]

江戸時代初期、大名や商人は、(朱印状/勘合)とよばれる右の文書によって、我が国の商船であることが証明された船を用いて、貿易を行った。貿易がさかんになるにつれて、多くの日本人が海外にわたり、(東南アジア/ヨーロッパ)の各地には日本町ができた。

(2008年新潟県)

[解答欄]

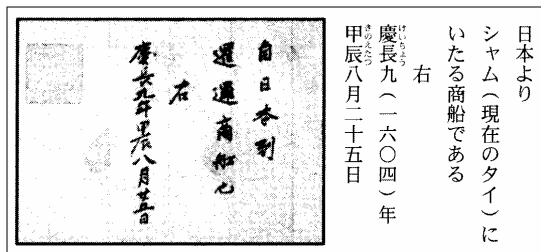
--	--

[解答] 朱印状 東南アジア



[問題]

右の資料は、江戸幕府が作成した文書と
その内容を示したものです。資料について
述べた文として正しいものを、ア～エから
選びなさい。



- ア シヤムの国王に、貿易を認める証明として与えた朱印状である。
- イ シヤムへの渡航と貿易を許可する証明としてつくった朱印状である。
- ウ シヤムからの使節に、正式な使いと認める合い札として与えた勘合である。
- エ シヤムとの貿易を認める合い札としてつくった勘合である。


(2006 年北海道)

[解答欄]

[解答]イ

[問題]

右の資料のような許可状による貿易の発展にともない、わが
国の人々が主に東南アジア各地に形成し、自治を認められた居
住地を何というか。



(2006 年鹿児島)

[解答欄]

[解答]日本町

[問題]

朱印船による貿易がさかんになって、日本町がつけられた地域としてあてはまるものはどれか。

[東南アジア 西アジア 南アメリカ 西ヨーロッパ]

(2003 年神奈川県)

[解答欄]

[解答]東南アジア

[問題]

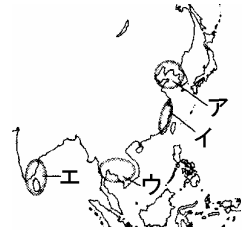
朱印船貿易がさかんだったころ海外に出た日本人が住みついでできた日本町があった地域を右のア～エから1つ選びなさい。

(2006年長崎県)

[解答欄]

[解答]ウ

[解説]シャム(現在のタイ)のアユタヤやカンボジアのプロンベンなどに日本町が形成された。貿易商人やキリシタンが日本町の中心となっていた。



[問題]

江戸時代の初期にはヨーロッパの国の船がわが国に来航した。また、多くの日本人が東南アジアへ貿易に出向いた。江戸時代の初期には、東南アジアの各地に居住する日本人が増えて、日本町と呼ばれる場所が形成された。右図中の●は、この当時にあった代表的な日本町の1つの位置を示している。図中の○で示した日本町が位置している国はどこか。現在の国名で書きなさい。

(2006年大阪府)

[解答欄]

[解答]タイ




[問題]

17世紀、外国と貿易をしようとする者には朱印状が与えられ、西国の大名や商人は船をたてて、さかんに貿易を行った。右の資料(朱印状)を参考にして、この時期の貿易船の主な航路として、最も適当なものを、地図中のア～エから1つ選び、記号で答えなさい。

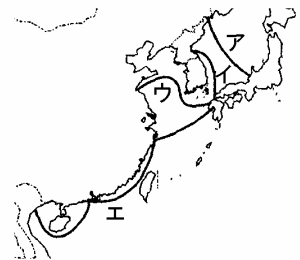
(2003年鳥取県)

[解答欄]

[解答]エ



上の資料には、「日本より東京(トンキン)に至る商船なり」と書かれている。



【】キリスト教の禁止と貿易統制の強化

[問題]

幕府は、当初、キリスト教を黙認していた。その理由を経済的な面から説明しなさい。

(2007年富山県)

[解答欄]

[解答]貿易によってばく大な利益を得ることができたため。

[問題]

はじめ幕府はキリスト教を黙認していたが、のちに方針をかえて禁教令を出すことになった。その理由について述べた文として正しいものを、次のア～エからひとつ選び、記号で答えなさい。

- ア キリスト教を信仰する民衆が、かつての一向一揆のように幕府に反抗する勢力となることをおそれたため。
- イ アヘン戦争の結果から、諸外国の力を恐れたため。
- ウ 朱印船貿易で、多くの日本人が海外に移住するのをくい止めるため。
- エ 島原の乱で大きな打撃を受けたので、鎖国体制をさらに強化しようとしたため。

(2007年鳥取県)

[解答欄]

[解答]ア

[解説]

徳川家康は、最初は海外貿易の利益のために、キリスト教については黙認していた。しかし、この間に全国にキリスト教の信者が増加していった。家康は三河の時代に一向一揆に苦しめられた経験からキリスト教徒が増えて大きな勢力になることを恐れた。また、当時、海外進出を行っていたヨーロッパの国の中で、ポルトガルとスペインの旧教(カトリック)国は、貿易と

年代	おもなできごと
1612年	天領に禁教令をだし、キリスト教を禁止する
1624年	スペイン船の来航を禁止
1635年	日本人の海外渡航と帰国を禁止する
1637年	島原・天草一揆がおこる
1639年	ポルトガル船の来航を禁止

ともにキリスト教の布教を行っていた。幕府は、キリスト教の布教がスペイン・ポルトガルの侵略を招くおそれがあると感じ取っていた。(実際、ポルトガルやスペインは、まず宣教師を送りこんで信者を増やし、反乱をおこさせて、やがてそこを植民地としてしまうということもやっていた。) こうした理由から、1612年、天領(幕府の直轄領)に禁教令を出し、翌年これを全国におよぼして信者に改宗を強制し、宣教師やキリスト教信者に対して処刑や国外追放など激しい迫害を加えた。1924年には、布教をやめようとしなかったスペイン人の来航を禁止した。

[問題]

伊達政宗は貿易に関心を抱き支倉常長をヨーロッパに派遣したが、帰国したころには、江戸幕府の政策により各大名は外国と貿易ができにくくなっていた。江戸幕府が行った外交政策について、具体的に述べなさい。

(2007 年宮城県)

[解答欄]

[解答]幕府は鎖国政策をとり、キリスト教を禁止するとともに、貿易による利益の独占をはかろうとした。

[解説]

当初、幕府は朱印船貿易を奨励していたので、仙台藩主伊達政宗は、1613年に家臣の支倉常長をスペインに派遣した。しかし、支倉常長が帰国した1620年には、状況が一変しており、大名が貿易を行うことは事実上できにくくなっていたのである。

西国の大名が貿易によって経済力を増すのを恐れた幕府は、1616年にはヨーロッパ船の来航を長崎と平戸に限定して貿易を独占した。1624年にはスペイン船の来航を禁じ、1635年には、日本人の海外渡航と在外日本人の帰国を禁止し、明船の寄港を長崎に限った。

【】島原の乱

[問題]

江戸時代に、右の略地図の で示した地域で、キリシタン(キリスト教信者)への迫害や領主のきびしい支配に苦しんだ人々がおこした事件は何か。

[戊辰戦争 島原・天草一揆 応仁の乱 三・一運動]

(2005年神奈川県)



[解答欄]

[解答]島原・天草一揆

[解説]

1637年、^{しまばら}島原(長崎県)・^{あまくさ}天草(熊本県)地方のキリスト教徒の農民など約4万人が無理な年貢の取り立てとキリスト教徒へのきびしい取り締まりに反対して島原・天草一揆を起こした。幕府は12万の大軍を送ってようやく一揆をしずめた。(人むざんなり(1637)島原・天草一揆)



年代	おもなできごと
1612年	天領に禁教令をだし、キリスト教を禁止する
1624年	スペイン船の来航を禁止
1635年	日本人の海外渡航と帰国を禁止する
1637年	島原・天草一揆がおこる
1639年	ポルトガル船の来航を禁止

[問題]

島原・天草一揆には、2つの要因があった。その1つは領主による無理な年貢の取り立てであるが、もう1つの要因は何か。簡潔に書け。

(2008年奈良県)

[解答欄]

[解答]キリスト教徒への弾圧


[問題]

右図のように、キリスト教の信者であるかどうかを確かめるために行われたことを何といいますか。

(補充問題)

[解答欄]

[解答]絵踏



[解説]

島原・天草一揆に衝撃を受けた幕府は、キリスト教への弾圧をさらに徹底させた。役人の前でイエスの像などを踏ませてキリスト教徒でないことを証明させ、それを拒んだ場合はキリスト教徒として逮捕、処罰する^{えびみ}絵踏は、すでに 1629 年から行っていたが、島原・天草一揆の後は、これをさらに徹底させた。

さらに、人々をいずれかの寺院を菩提寺^{ぼだいじ}と定め、その檀家^{だんか}となることを義務付け、寺院にその人がキリスト教徒でないことを証明させる^{しゅうもんあらた}宗門改めを実施した。

[問題]

絵踏は、どんなことを調べるために行われたのか。簡単に書け。

(香川県)

[解答欄]

[解答]キリスト教信者かどうかを調べるため

[問題]

島原・天草一揆の結果、江戸幕府はますますキリスト教を警戒し絵踏の制度を強めた。さらにキリスト教の禁止を徹底させるため、寺院に、()を証明させた。

(長崎県)

[解答欄]

[解答]キリスト教徒でないこと

[問題]

A～D を古い順に並べなさい。

- A 徳川家光は、日本人の海外渡航と海外からの帰国を禁止した。
- B 江戸幕府は、平戸のオランダ商館を長崎の出島に移した。
- C 徳川家康は、幕府領でキリスト教を禁止した。
- D 島原・天草のキリスト教徒の農民などが、一揆を起こした。

(2006 年三重県)

[解答欄]

[解答]C A D B

【】鎖国の完成

[問題]

1639年,()人の来航を禁止し,()が完成した。

(補充問題)

[解答欄]

--	--

[解答] ポルトガル 鎖国

[解説]

しまばら あまくさいつき
島原・天草一揆の後の1639年,三代將軍徳川家光いえみつはポルトガル人の来航を禁止した。当時日本と貿易を行っていたオランダは,キリスト教の新教(プロテスタント)の国で,布教は行わず,貿易のみを行っていたので,引き続き貿易を認めることとしたが,貿易を行う場所を幕府の天領である長崎ながさきの出島でじまに限定した。また,清しん(17世紀の初め中国では明が滅んで清が建国した)の商人も長崎でのみ貿易を認められた。こうして鎖国が完成した(一路鎖国(1639))。鎖国を行った理由の1つはキリスト教が広がるのを防ぐためであった。また,西国の大名が貿易によって経済力を増すのを恐れ,貿易を行う場所を天領である長崎に限定して,貿易を独占した。

[問題]

「日本人は異国に行ってはならない。異国に住む日本人が帰国したら死罪とする。今後はポルトガル船の来航を禁止する。もし来航したら,船を破壊し,乗っている者を斬ること。」という江戸幕府の外交の基本方針を決定した理由として,あてはまらないものを1つ選んで記号を書きなさい。

- ア キリスト教徒の勢力拡大を防ぐため
- イ 外国との関係や海外からの情報を統制するため
- ウ 産業革命が始まったヨーロッパからの工業製品の輸入を制限するため
- エ 西国大名が外国との貿易によって経済力を強め,幕府に対抗することを防ぐため

(2006年秋田県)

[解答欄]

--

[解答]ウ

[問題]

江戸幕府が鎖国を行った理由として正しいものを、次から2つ選びなさい。

- ア キリスト教徒の団結を恐れた。
- イ 大名が貿易を行うことを喜ばなかった。
- ウ アヘン戦争の影響を恐れた。
- エ 倭寇の被害を恐れた。

(2007年宮崎県)

[解答欄]

[解答]ア,イ

[問題]

江戸幕府は、ヨーロッパの国との貿易をオランダのみに制限した時期に、海外との関係において、日本人の信仰と移動についても制限を設けていたが、その信仰の制限と移動の制限を書きなさい。

(2006年兵庫県)

[解答欄]

<input type="text"/>	<input type="text"/>
----------------------	----------------------

[解答] キリスト教の禁止 海外渡航と帰国の禁止

[問題]

3代将軍である徳川家光は、日本人の海外渡航や帰国を禁止し、スペイン船やポルトガル船の来航も禁止した。これらの国の船が来航を禁じられた後も、長崎の出島で江戸時代にわが国と貿易を行ったヨーロッパの国はどこか。国名を書きなさい。

(2006年大阪府)(2007年三重県)(2007年沖縄県)(2006年福島県)


[解答欄]

[解答]オランダ

[問題]

次の写真は、『解体新書』の扉絵である。
この本と関係が深い国は、江戸時代に長崎
の出島で貿易が許されていた。その国名を
書け。また、その国の位置を示しているも
のを地図のア～エから一つ選び、その記号
を書け。

(2008年長崎県)



[解答欄]

--	--

[解答]オランダ/ウ

[問題]

幕府は長崎だけで貿易を行ったが、その相手国として正しい組み合わせはどれか、ア～エから
1つ選びなさい。

- ア 中国と朝鮮 イ 朝鮮とポルトガル
ウ ポルトガルとオランダ エ オランダと中国

(2005年徳島県)

[解答欄]

--

[解答]エ

[問題]

わが国は、鎖国の間も (ポルトガル/スペイン/オランダ)とだけでなく、中国や朝鮮とも貿易
を行った。()や中国との貿易は (鹿兒島/長崎/浦賀)で行われ、朝鮮との貿易は対馬が拠点
となつて行われた。

(2006年福岡県)

[解答欄]

--	--

[解答] オランダ 長崎

[問題]

下の文は鎖国のもとでも海外と交易をしていたある港について述べたものである。この港の位置を地図中のア～エのうちから1つ選び、その符号を書きなさい。

幕府は、この地の出島にオランダの商館を移して、日本人との接触を制限する一方、オランダから世界の情勢をまとめた報告書を提出させた。

(2007年千葉県)(2006年北海道)




[解答欄]

[解答]ア

[問題]

右の図は、江戸時代に、日本に滞在する外国人の居住地としてつくられた人工の島をえがいたものです。この島を何といいますか、漢字2字で書きなさい。



(2006年北海道)(2006年栃木県)(2006年兵庫県)(2006年新潟県)

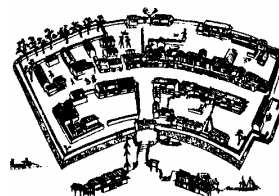
[解答欄]

[解答]出島

[問題]

幕府は法令Aを出した後、図で示された埋め立て地で、ごく限られた人にだけ貿易を許した。島原・天草一揆の後には法令Bを出し、その後、図の場所では、オランダ人だけが貿易を許された。

- (1) 下線部を何というか、書きなさい。
- (2) 幕府が法令A、法令Bを出したり、外国との交流の場を限定したりした理由を、2つ書きなさい。



(2006年群馬県)

[解答欄]

(1)	(2)
-----	-----

[解答](1) 出島 (2) 貿易を統制するため、キリスト教を禁止するため

[問題]

長崎での貿易におけるわが国のおもな輸入品を、次から1つ選びなさい。

[銀 生糸 米 海産物 銅]

(2005年熊本県)

[解答欄]

[解答]生糸

【】朝鮮との関係

[問題]

鎖国中に幕府が対馬藩を通じて国交を結んでいた国を、次から1つ選びなさい。

[朝鮮 オランダ 中国 イギリス]

(2007年島根県)

[解答欄]

[解答]朝鮮

[解説]

秀吉の朝鮮侵略の後、朝鮮との国交は途絶えていたが、対馬藩のなかだちで、家康のときに国交が回復した。その後、将軍が代わるごとに朝鮮から通信使という使節が訪れた(1607年に第1回目、1811年までに計12回、朝鮮国王から派遣された)。対馬藩は朝鮮との国交の実務を担当するかわりに、朝鮮との貿易を許可されて、銀や銅を輸出し、朝鮮にんじん、木綿、絹などを輸入した。

[問題]

江戸時代に、日本の窓口として、朝鮮との貿易や国交の実務を行った藩はどこか。次から1つ選びなさい。[土佐藩 薩摩藩 松前藩 対馬藩]

(2007年山口県)

[解答欄]

[解答]対馬藩

[問題]

江戸時代に、対馬藩は朝鮮と貿易を行っており、また、将軍の代がわりなどの際に朝鮮からの使節が江戸を訪れた。朝鮮からのこの使節は何と呼ばれているか。書きなさい。

(2006年大阪府)(2007年石川県)

[解答欄]

[解答]通信使

[問題]

江戸時代、朝鮮から通信使が来日することが慣例となりました。この使節は、どのようなときに訪れたのですか、簡潔に書きなさい。

(2006 年和歌山県)

[解答欄]

[解答]将軍の代がわりするとき

[問題]

鎖国後もいくつかの国や民族との交流は続いたが、朝鮮と江戸幕府との交流はどのように続けられたか、書きなさい。

(2006 年新潟県)

[解答欄]

[解答]将軍の代がわりときに朝鮮通信使が来るなど交流が続けられた。

【】琉球との関係

[問題]

江戸時代に琉球王国を事実上支配して、大きな利益を得ていた藩として、正しいものを、次から1つ選びなさい。

薩摩藩 松前藩 土佐藩 長州藩]

(2006年宮城県)

[解答欄]

[解答]薩摩藩

[解説]

17世紀の初め、琉球は薩摩藩に征服され、薩摩藩の支配下にはいった。薩摩藩は、年貢米を取り立てるなど、きびしく監督をしたり、琉球王国の中国に対する朝貢貿易を継続させ、大きな利益を横取りした。琉球王国は、国王や日本の将軍の代わりごとに、江戸に使節を派遣した。

[問題]

薩摩藩に事実上支配されながら、中国にも朝貢していた国の名を書きなさい。

(2009年岐阜県)

[解答欄]

[解答]琉球王国

[問題]

江戸時代における琉球の状況を説明した文として適切なものを、次のア～エの中から1つ選び、その記号を書きなさい。

- ア 琉球は、独立した王国として、薩摩藩と対等な貿易をしていた。
- イ 琉球は、薩摩藩に服属しながらも、清とは対等な貿易をしていた。
- ウ 琉球は、薩摩藩に事実上支配されながら、清にも貢ぎ物をおくっていた。
- エ 琉球は、清に貢ぎ物をおくりながらも、薩摩藩とは対等に貿易をしていた。

(2005年青森県)

[解答欄]

[解答]ウ

【】アイヌ民族との交易

[問題]

松前藩は、樺太を経由して中国の東北部などと交易していた()民族との取り引きを独占した。

(2005 年福島県)

[解答欄]

[解答]アイヌ

[解説]

蝦夷地にはアイヌ人が住んでおり、日本人とだけでなく、樺太をへて中国の東北部とも交易し、毛皮を売って蝦夷錦などを得ていた。また、こんぶは蝦夷地から西廻り航路をへて琉球にも運ばれ、琉球から中国に輸出された。蝦夷地南部に領地をもつ松前藩は、アイヌ人との取引を独占し暴利をむさぼっていた。これに対して、アイヌ人は17世紀の後半シャクシャインを指導者として戦いを起こした。松前藩は幕府に助けを求めて、ようやくこれをしずめた。

[問題]

北海道は、当時、一般に何とよばれていましたか。

(北海道)

[解答欄]

[解答]蝦夷地

[問題]

蝦夷地の南部に領地をもつ()藩は、アイヌの人たちとの取り引きを独占し大きな利益を得ました。17世紀後半、シャクシャインを中心とした蜂起がありました。

(2007 年埼玉県)(2006 年兵庫県)

[解答欄]

[解答]松前

[問題]

松前藩は、アイヌの人たちと、米などを（生糸／鮭(さけ)）などと交換し、利益を得ていた。また、1669年に（ ）を指導者とするアイヌの人たちと松前藩との間で、大規模な戦いがあった。

(2007年北海道)

[解答欄]

--	--

[解答] 鮭 シラクシャイン

[問題]

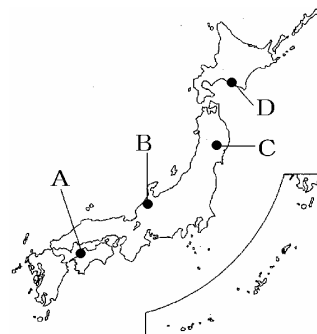
江戸時代に、シラクシャインの戦いがあった。この戦いでシラクシャインが拠点とした場所は、略地図のA～Dのどこか。

(2006年神奈川県)

[解答欄]

--

[解答]D



[問題]

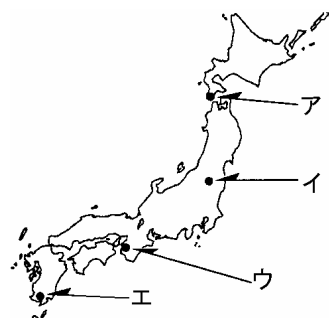
シラクシャインの戦いは、シラクシャインを中心とする人々と松前藩との間であったものである。略地図中のア～エのうち、松前藩があった場所として最も適当なものはどれか。一つ選んで、その記号を書け。

(2009年香川県)

[解答欄]

--

[解答]ア



[問題]

蝦夷地(北海道)の交易に関する次のア～エのうち、誤っているものを1つ選び、記号で書きなさい。

- ア アイヌは樺太をへて中国の東北部とも交易し、毛皮を売って蝦夷錦などを得ていた。
- イ 17世紀初め、会津藩は、江戸幕府からアイヌとの独占的な取り引きを認められた。
- ウ 17世紀後半、和人と不利な取り引きに反発し、シヤクシャインが反乱をおこした。
- エ 昆布は蝦夷地から西廻り航路をへて琉球にも運ばれ、琉球から中国に輸出された。

(2005年山梨県)

[解答欄]

[解答]イ

[解説]

イが誤り。アイヌとの独占的な取り引きを認められていたのは、会津藩ではなく松前藩である。

[問題]

文中のa～cの中にあてはまる語の組み合わせとして正しいものを、ア～カの中から1つ選んで、その記号を書きなさい。またdにあてはまる語を書きなさい。

日本と外国との交流は、鎖国下においても続けられた。(a)藩は、アイヌの人たちとの交易を独占し、アイヌの人たちは、蝦夷地の産物だけでなく、ロシアや中国東北部の産物をもたらした。(b)藩は、朝鮮との国交の実務を担当するとともに、朝鮮との貿易を許された。薩摩藩は、(c)を支配し、中国との貿易を続けさせて利益を得た。また、オランダの商館は、(d)につくられた出島に移され、中国船とオランダ船のみが(d)に限って貿易を許された。

ア[a 琉球 b 対馬 c 松前] イ[a 琉球 b 松前 c 対馬]

ウ[a 対馬 b 松前 c 琉球] エ[a 対馬 b 琉球 c 松前]

オ[a 松前 b 琉球 c 対馬] カ[a 松前 b 対馬 c 琉球]

(2007年茨城県)

[解答欄]

--	--

[解答]カ/長崎

[解説]

アイヌの人たちとの交易を独占していたのは松前藩である。朝鮮との国交の実務を担当するとともに、朝鮮との貿易を許されていたのは対馬藩である。琉球を支配していたのは薩摩藩である。

[問題]

次のア～エの中から，薩摩を通じて，交流のあった国あるいは民族について述べた文を1つ選び，記号で答えなさい。

- ア 高麗をたおして建国された国で，日本の将軍の代がわりごとに大規模な通信使を派遣した。
- イ 蝦夷地で狩猟・漁業を行っており，さけやこんぶなどをおもな交易品としていた。
- ウ 日本と貿易する唯一のヨーロッパの国で，出島の商館に滞在して貿易を行った。
- エ 尚氏によって統一された国で，その国の国王や日本の将軍の代がわりごとに使節を派遣した。

(2006年静岡県)

[解答欄]

[解答]エ

[解説]

アは朝鮮，イはアイヌ民族，ウはオランダ，エは琉球王国である。

[問題]

幕府の許可を受けて，朝鮮，琉球，蝦夷地のいずれかと直後がかかわっていた藩として，当てはまらないのは，次のうちではどれですか。

[松前藩 土佐藩 薩摩藩 対馬藩]

(2006年岡山県)

[解答欄]

[解答]土佐藩

【】農民統制

[問題]

次の資料は、江戸時代に出されたきまりの一部である。このきまりは何か。[]内から選りなさい。

- 一 朝は早く起きて草をかり、昼は田畑を耕し、晩は縄や俵を作れ。
- 一 酒や茶を買って飲まないようにせよ。
- 一 百姓の衣類は、麻布と木綿に限る。

[武家諸法度 慶安の御触書 刀狩令 公事方御定書]

(2003年愛知県)

[解答欄]

[解答]慶安の御触書

[解説]

武士の生活は農民が納める年貢^{ねんぐ}でささえられていた。幕府や藩は、4公6民(収穫高の4割が年貢で、6割が農民の手元に残る)や5公5民という重い年貢を取り立て、財政をまかなった。農民から年貢を安定して取るために、土地の売買を禁止したり、米以外の作物(商品作物など)の栽培を制限するなど、さまざまな規制をくわえた。1649年に慶安^{けいあん}の御触書^{おふれがき}を出して、「朝には早起きして草を刈り、昼は田畑の耕作をし、…」 「酒や茶を買って飲んではならない」など農民の生活のあらゆる面にわたって細かく規制した。また、五人組の制度をつくり、五戸前後を一組として年貢の納入や犯罪の防止などについて農民に共同責任を負わせた。名主(庄屋)・組頭・百姓代などの村役人が年貢の徴収や村の政治にあたった。

[問題]

年貢の納入や犯罪について農民に共同責任を負わせるためのしくみを何というか。その名称を書きなさい。

(2003年奈良県)

[解答欄]

[解答]五人組

[問題]

江戸時代、幕府や諸藩は、農民に対し、土地の売買を禁止し、米以外の作物を栽培することも制限していたが、このような政策をとったのはなぜか。「幕府や諸藩の財政は」という書き出しで説明しなさい。

(福島県)

[解答欄]

[解答]幕府や諸藩の財政は、農民が米で納める年貢で支えられていたから。

[問題]

ア～エのうち、江戸時代の農村について述べているものを選びなさい。

- ア 用水の管理や山野の利用など、惣のおきてが定められました。
- イ 名主(庄屋)・組頭・百姓代などの村役人が年貢の徴収や村の政治にあたりました。
- ウ 地頭が土地や農民への支配を強め、荘園領主との争いがおこりました。
- エ 班田収授が行われなくなり、有力な農民が開墾にはげみました。

(2004年埼玉県)

[解答欄]

[解答]イ

[問題]

江戸幕府の政策について述べたものとしてあてはまらないものは、次のア～エのうちのどれか。1つ選んで、その記号を書きなさい。

- ア 農民から年貢を安定して取るために、土地の売買を禁止したり、米以外の作物の栽培を制限した。
- イ 農村における人手と肥料の不足から収穫が減り、食糧難が深刻となったため、米を配給制とした。
- ウ 寛政の改革では、凶作やききんに備えるため、農村に倉を設けて米をたくわえさせ、商品作物の栽培を制限した。
- エ 享保の改革では、上げ米の制を定めて、大名の参勤交代を一時ゆるめるかわりに、幕府に米を献上させた。

(2005年香川県)

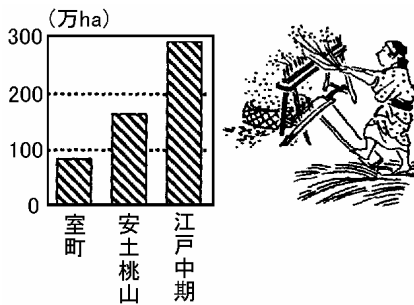
[解答欄]

[解答]イ

【】農業の発達

[問題]

下の資料から読み取れる、江戸時代の農業の発展のようすを簡潔に書け。



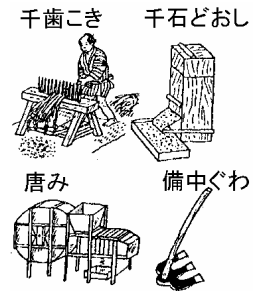
(2003年奈良県)

[解答欄]

[解答]農具の発明や改良によって生産性が上がり、また、新田開発などにより耕作地面積が増えた。

[解説]

江戸時代になって、備中ぐわ(土を深く耕すことを可能にした)、千歯こき(稲穂からもみをしごいてとる(脱穀))、千石どおし(米粒をふるいわけする)、唐み(風を送りもみながらなどを取り去る)などの農具が発明され、農業技術が向上した。また、大規模な用水路をつくって水を引き、荒地を開墾して田畑の面積を広げ、海や沼地を干拓したりして新田開発を行った。その結果、田畑の面積は安土・桃山時代のころから100年の間に約2倍になった。大規模な用水路建設を可能にしたのは、戦国時代から近世にかけての築城で使われた測量・掘削などの技術革新であった。



[問題]

1600年から100年ぐらいの間に耕地面積が大幅に増加したが、その理由を書きなさい。


(石川県)

[解答欄]

[解答]新田開発がさかんに行われたから

[問題]

江戸時代、商業や工業とともに、農業が発達した。
次の資料の農具は、この時代に用いられるようになったものである。これらは農業の発達にどのような役割を果たしたか、簡潔に書きなさい。



(2009年群馬県)

[解答欄]

[解答]農作業を効率的にし、生産性を向上させる役割を果たした。

[問題]

江戸時代に右の資料のような農具が考案されたが、この農具によりどのような農作業が効率化されたか、書きなさい。



(2005年石川県)

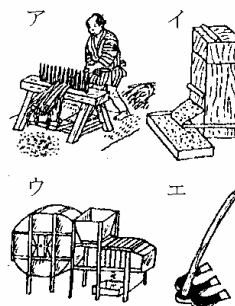
[解答欄]

[解答]もみを穂からとる作業

[問題]

次の問いに答えなさい。

- (1) 江戸時代に発明された田畑を深く耕すことを可能にした農具は何か。また、それは右の図のどれか。
- (2) 脱穀のための農具が発明されて、脱穀の能率が向上したが、何という農具か。また、それは右図のどれか。



(補充問題)

[解答欄]

(1)	(2)
-----	-----

[解答](1) 備中ぐわ, エ (2) 千歯こき, ア

[問題]

江戸時代の農村にみられる様子についての説明として、誤っているものはどれか。

- ア 千歯こきや備中ぐわなどの農具が使用された。
- イ 農民による荘園領主への抵抗や土一揆がおこった。
- ウ 綿などの商品作物がつくられた。
- エ 幕府や藩によって新田開発が進められた。

(2008年神奈川県)

[解答欄]

[解答]イ

[問題]

江戸時代の農業に関する説明として最もよく当てはまるのは、ア～エのうちではどれですか。

- ア 墾田永年私財法が出され、貴族や寺社は、農民を使って開墾を進めた。
- イ 農民、領主、町人による新田開発が進み、耕地面積が急激に増加した。
- ウ 農地改革が行われ、自作地や自作農が大幅に増えた。
- エ 農業技術が進歩し、近畿地方では、裏作に麦を作る二毛作がはじまった。

(2004年岡山県)

[解答欄]

[解答]イ

[解説]

アは奈良時代。ウは太平洋戦争後の農地改革。エは鎌倉時代。

[問題]

江戸時代には、さまざまな産業が発達し、各地に特産物が生まれた。図は、染料として使用される最上地方(山形県)の特産物を加工しているようすである。この特産物を何というか、[]の中から一つ選びなさい。

[紅花 麻 綿 油菜]

(2009年茨城県)



[解答欄]

[解答]紅花

【】 諸産業の発達

[問題]

江戸時代、水産業では網が改良され、九十九里浜(千葉県)で大規模な漁が行われました。その漁として最も適切なものを、次のア～エの中から1つ選び、その記号を書きなさい。

ア くじら漁 イ かつお漁 ウ いわし漁 エ にしん漁

(2007年和歌山県)

[解答欄]

[解答]ウ

[解説]

九十九里浜くじゅうくりはまでは大規模ないわし漁がおこなわれるようになった。いわしは、干鰯ほしかという肥料に加工され、近畿地方などの錦作地帯に販売された。

[問題]

江戸時代の産業について適当でないものを次のア～エから1つ選んで記号で答えなさい。

- ア 土地を深く耕せる備中鍬や、脱穀のための千歯こきなどの農具が使用された。
- イ 陸路では馬借、港町では問(問丸)とよばれる業者が活動した。
- ウ 染料に使う藍や紅花などの商品作物の栽培が広まっていった。
- エ 九十九里浜(千葉県)では大規模ないわし漁が行われるようになった。

(2004年島根県)

[解答欄]

[解答]イ

[問題]

次の文章は、江戸時代に生産が盛んであった陶磁器について述べたものである。これらの陶磁器が生産された地域は、下のア～エのうちのどれか。

唐津焼は、16世紀の終わりごろから生産が始められたとされ、江戸時代中期には大量に生産されるようになり、わが国を代表する陶器の1つとなった。有田(伊万里)焼は、17世紀の初めころから生産が始められた磁器で、近くにあるわが国唯一の貿易港から輸出され、なかでも白地に華やかな文様が描かれた製品は、海外でも評判をよんだ。

ア 薩摩(鹿児島県) イ 備前(岡山県) ウ 肥前(佐賀県、長崎県) エ 加賀(石川県)

(2007年東京都)

[解答欄]

[解答]ウ

【】都市の発達

[問題]

江戸時代、江戸が「将軍のおひざもと」とよばれたのに対し、商業都市として栄え大名たちが蔵屋敷をおいた都市は何とよばれたか。

(2003 年滋賀県)

[解答欄]

[解答]天下の台所

[解説]

各地の大名は、大阪に蔵屋敷くらやしきをおいて年貢米や特産品を大商人に売りさばかせ、藩の財政をまがなった。大阪は、全国の物資の集散地として栄えた商業都市で、「天下の台所」とよばれた。京都は高級絹織物などの工芸品の発達した、文化・学問の一大中心地かみがたであった。大阪・京都を上方という。江戸は「将軍のおひざもと」といわれ、人口は約 100 万人に達した。江戸、大坂、京都をあわせて三都とよんだ。

[問題]

江戸時代に「天下の台所」と呼ばれた都市はどこか。その都市名を答えなさい。

(2004 年鳥取県)

[解答欄]

[解答]大阪

[問題]

江戸時代に西廻り航路などによって年貢米や特産物が集まり、諸藩の蔵屋敷がたちならんで「天下の台所」とよばれた場所を、右の地図中の a～d から選べ。

(2004 年長崎県)

[解答欄]

[解答]c



[問題]

江戸時代には、全国から米や特産物が大阪に運びこまれた。これを保管するため、諸藩が設けた右の絵のような施設を何と
いうか、書きなさい。

(2006 年宮崎県)(2007 年大阪府)



[解答欄]

[解答]蔵屋敷

[解説]

絵は、大阪に諸藩が置いた蔵屋敷である。蔵屋敷に集められた品物は、蔵元によって売りさばかれ藩の収入になった。大阪の蔵屋敷は規模も大きく、取扱う量も群をぬいていた。他に江戸、敦賀、大津、酒田、長崎にもみられた。

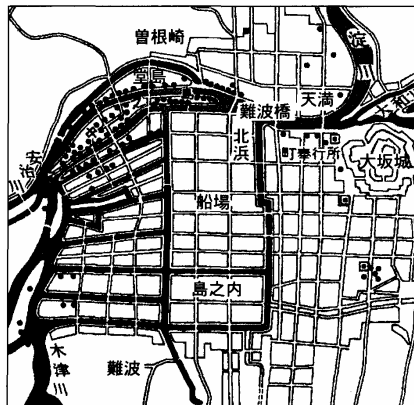
[問題]


右図は大阪の町の一部を表した略地図であり、は、諸藩が設けた蔵屋敷の位置を示しています。蔵屋敷がその場所に設けられた理由を、水路に着目して簡潔に書きなさい。

(2007 年和歌山県)

[解答欄]

[解答]年貢米や特産物を、船で大量に運び込むことができるから。



地図中  は水路を表す。
〔「日本の歴史」16などから作成〕

[問題]

江戸時代には、江戸を含めた三つの繁栄した都市が三都と呼ばれた。この三都のうち、江戸以外の二つの都市名を書きなさい。

(2006 年大阪府)

[解答欄]

<input type="text"/>	<input type="text"/>
----------------------	----------------------

[解答]大阪、京都

[問題]

江戸時代における江戸の様子について述べているのはどれか。

- ア 鎖国のもとで、貿易を許されたオランダ人の居住地が置かれた。
- イ 諸藩の屋敷が置かれ 18 世紀には人口が約 100 万人に達した。
- ウ 古くから都として栄え、西陣織などのすぐれた工芸品を産出した。
- エ 「天下の台所」とよばれ全国の商業や金融の中心地として栄えた。

(2004 年栃木県)

[解答欄]

[解答]イ

[解説]

アは長崎，イは江戸，ウは京都，エは大阪。

[問題]

江戸時代の都市についての説明文として適当でないものを，次のア～エから 1 つ選んで記号で書け。

- ア 江戸の人口は 18 世紀はじめには 100 万人を超えていた。
- イ 京都には朝廷があった。
- ウ 大阪(大坂)には各藩の蔵屋敷が集まっていた。
- エ 堺は自治都市として栄えていた。

(2006 年福井県)

[解答欄]

[解答]エ

[解説]

エが誤り。堺は室町時代に日明貿易や南蛮貿易で栄え，戦国時代後期には富裕な商人(町人)による自治が行われたが，織田信長・豊臣秀吉に屈服して，それまでの自治機能をうばわれた。江戸時代は，幕府の直轄領であった。

[問題]

江戸や各地の城下町には武士や町人が集められ身分に応じた職業によって生活していました。武士と町人では住むところが分かれ，町人が住むところでは，町ごとに町役人が選ばれて，町の()が行われていました。()にあてはまることばを漢字 2 字で書きなさい。

(2007 年福島県)

[解答欄]

[解答]自治

[解説]

町人が住む地域では、町ごとに名主などの町役人が選ばれ、町奉行のもとで自治を行った。

[問題]

右の資料の鑑札は、江戸時代の商工業者の同業者組織への加入を証明したものです。この同業者組織は何とよばれるか、漢字3字で書きなさい。

(2006年山形県)

[解答欄]

[解答]株仲間

[解説]

江戸時代の同業組合は株仲間である。商人の独占的利益が目立つようになったので天保の改革で解散を命じられた。



【】交通の発達

[問題]

東北地方や北陸地方の米などを日本海沿岸から瀬戸内海をまわって大阪へ運んだ航路を何というか、書きなさい。

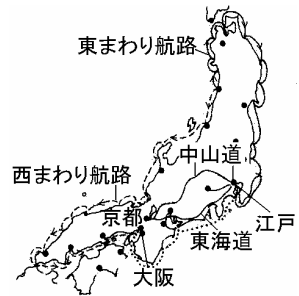
(2004年石川県)

[解答欄]

[解答]西廻り航路

[解説]

東北・北陸地方の物資を、太平洋沿岸をまわって江戸に運ぶ航路は東廻り航路で、日本海沿岸をまわって大阪に運ぶ航路を西廻り航路とよんだ。江戸・大阪間には菱垣廻船、樽廻船とよばれる船が運行され、菜種油、酒、しょうゆ、木綿などが大阪から江戸へ運ばれた。



[問題]

江戸時代、全国から江戸に荷物を運ぶための航路が開かれていました。その中で、東北地方の物資を太平洋岸にそって江戸に運んだ航路を何といいますか。

(和歌山県)

[解答欄]

[解答]東廻り航路

[問題]

大阪で作られた菜種油は特産物となり、米や材木などの物資と同じように大量に江戸へ運ばれた。このときの大阪から江戸へのおよその輸送路を、右の地図に線で記入しなさい。

(2007年熊本県)

[解答欄]



[解答]



[問題]

江戸時代には、交通の整備などによって物資の流通がさかんになった。表は、18世紀初期に、大阪に大量に運ばれた物資について、それを大阪に送った地域を示している。表から、この時期にどのような輸送手段が発達していたことが分かるか。そのように判断した理由とあわせて、簡単に書きなさい。

物資	地域
米	東北，中部，近畿，中国，四国，九州
材木	東北，中部，近畿，中国，四国，九州
紙	東北，関東，中部，近畿，中国，四国，九州

(2007年静岡県)

[解答欄]

[解答]遠い地域からも運ばれているので、船による輸送。

[問題]

江戸時代、大阪や江戸などの大都市に、年貢米や特産物などの物資が集まるようになったのはなぜか。

(2006年佐賀県)

[解答欄]

[解答]人口が多く、商品がたくさん売れ、また、交通網の発達によって物資の輸送が便利になったから。

[問題]

菱垣廻船についての説明として最も適当なものを、次のアからエまでの中から選んで、そのかな符号を書け。

- ア 当時、将軍によって貿易の発展がはかられ、朱印状によって、大名や大商人が海外への渡航を許されました。これは、そのときに使われた船です。
- イ 江戸は将軍の城下町として、大阪はいわゆる天下の台所として栄え、江戸と大阪の間で物資を運ぶ定期航路ができました。これは、そのときに使われた船です。
- ウ 正式の貿易船は、倭寇と区別するために勘合という札を用いて明との貿易にたずさわることになりました。これは、そのときに使われた船です。
- エ ポルトガルなどの商船が、九州の各地に来航し、貿易がさかんになりました。これは、そのときに来航した人々によって使われた船です。

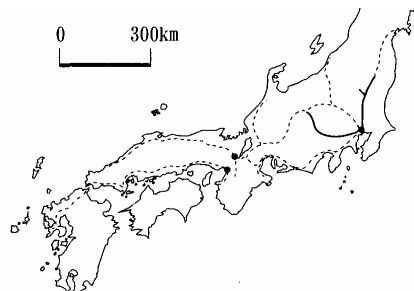
(2005 年愛知県)

[解答欄]

[解答]イ

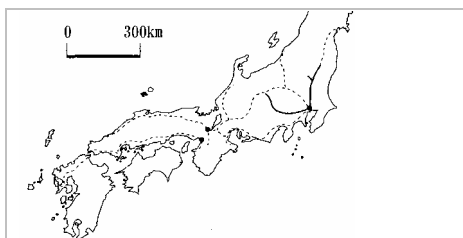
[問題]

東海道は、江戸時代に整備された五街道の1つである。次の略地図は、江戸時代の五街道をすべて含むおもな街道を、-----とで示したものであり、は五街道のうちの一つの街道を示している。これを例にして、-----のうち、五街道の残りの二つの街道にあたる部分を略地図中にで示せ。なお、・は当時の三都を示しており、五街道には京都 - 大阪間を含めないものとする。

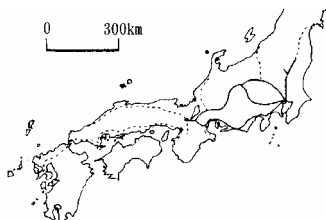


(2007 年愛知県)

[解答欄]



[解答]



[解説]

全国的な陸上交通の整備は豊臣政権にはじまり，江戸幕府により完成された。江戸を中心に東海道・中山道・甲州街道・日光街道・奥州街道の五街道が整備された。



[問題]

江戸時代に，江戸を中心に整えられ幕府が直接支配した東海道や中山道などの陸路をあわせて何といいますか。ことばで書きなさい。

(2007年岩手県)

[解答欄]

[解答]五街道

[問題]

江戸幕府が東海道の要地である箱根に，宿駅とともに置いた治安維持のための施設を何とつか漢字で書け。

(2005年福井県)

[解答欄]

[解答]関所

[問題]

江戸時代、街道沿いには宿泊施設などが整備され、町は旅の中継地点として栄えた。街道沿いの各地にあったこのような町を何というか、書きなさい。

(2007年石川県)

[解答欄]

[解答]宿場町

【】元禄文化

[問題]

右図の松尾芭蕉が活躍した時期の文化を何というか。次の中から1つ選びなさい。

[元禄文化 天平文化 国風文化 化政文化]

(2006年福島県)

[解答欄]

[解答]元禄文化

[解説]

17世紀末、五代將軍徳川綱吉つなよしの時代に、都市が繁栄し、京都・大阪などの上方かみがたを中心にした文化(元禄文化)が発達した。各地を旅しながら俳諧はいかいを芸術の域まで高めたのは「奥の細道」で名高い松尾芭蕉である。芭蕉は、和歌の上の句と下の句を次々と別の人がよむ連歌れんがから分かれた俳諧はいかいに新しい作風を取り入れた。近松門左衛門ちかまつもんざゑもんは人形浄瑠璃にんぎょうじやうるりの台本に、義理と人情の板ばさみになやむ男女の気持ちを書いた。大阪の町人井原西鶴いはらさいかくは、当時の世相や町人・武士のくらしをありのままに浮世草子うきよぞうしという小説に描いた。歌舞伎かぶきでは、坂田藤十郎や市川団十郎らの名優が出た。菱川師宣ひしかわもちのぶは浮世絵うきえの版画を始めた。その代表作は「見返り美人」(右の写真)である。



[問題]

松尾芭蕉は、連歌から分かれた文芸において、自己の内面を表現する新しい作風を生み出した。その文芸として適切なものを、次の中から1つ選びなさい。

[短歌 川柳 俳諧 狂歌]

(2004年青森県)

[解答欄]

[解答]俳諧

[問題]

芭蕉は、和歌の上の句と下の句を次々と別の人がよむ()から分かれた俳諧に新しい作風を取り入れた。

(2007年福井県)

[解答欄]

[解答]連歌

[問題]

大阪の町人で、当時の世相や人々のくらしを浮世草子とよばれる小説にえがいた人物はだれか、次から選びなさい。[井原西鶴 葛飾北斎 伊能忠敬 杉田玄白]

(2007 年徳島県)(2007 年三重県)

[解答欄]

[解答]井原西鶴

[問題]

人形浄瑠璃の台本作者として、義理と人情の世界をえがいた右の人物を次から選びなさい。

[本居宣長 十辺舎一九 近松門左衛門 井原西鶴]

(2006 年富山県)(2007 年大阪府)

[解答欄]

[解答]近松門左衛門



[問題]

元禄のころ栄えた文化において活躍した、人物とその分野の組合せとして正しいものを、次のア～エから1つ選び、記号で書きなさい。

ア 松尾芭蕉 - 浮世草子(小説) イ 近松門左衛門 - 人形浄瑠璃

ウ 歌川広重 - 浮世絵(風景版画) エ 菱川師宣 - 俳諧

(2007 年山梨県)

[解答欄]

[解答]イ

[問題]

右の資料に関連して、美人画や風景画など、町人の風俗や風景を題材とし、後にヨーロッパの絵画にも影響を与えたこのような絵を何というか。最も適当な語句を、漢字3字で書きなさい。

(2007年大分県)(2006年山口県)

[解答欄]



[解答]浮世絵

[問題]

江戸時代の文化について説明した次の文の下線部a~dの中に、一か所誤りがあります。誤りをa~dから選び、そこに当てはまる正しい人名を下の(語群)から選びなさい。

江戸時代には、都市の繁栄を背景に庶民の文化がさかえた。文芸では、大阪のa 井原西鶴が商人などの町人の生活をいきいきとえがき、b 近松門左衛門が、人形浄瑠璃などの台本作者として、義理と人情の板ばさみに悩む男女の姿をえがいた。さらに、俳諧の分野で、c 千利休が、自然や人生を日常のことばでよみ、自己の内面を表現する芸術性の高い作風を完成させ、多くの人たちに親しまれた。また、美術では、浮世絵が庶民に人気があり、d 菱川師宣のえがいた美人画などのすぐれた作品が残されている。

(語群) 歌川広重 杉田玄白 伊能忠敬 松尾芭蕉

(2004年北海道)

[解答欄]

--	--

[解答]c / 松尾芭蕉

[問題]

元禄文化について述べたものを、次のア~エから1つ選び、その記号を書け。

- ア 近松門左衛門が、義理と人情の板ばさみに悩む男女の姿をえがいた人形浄瑠璃の脚本を書いた。
- イ 出雲の阿国という女性が、演劇の歌舞伎につながる、かぶき踊りを始めた。
- ウ 吉田兼好が、出家した後に随筆「徒然草」を書いた。
- エ 葛飾北斎が、浮世絵の分野で優れた風景画を残した。

(2004年高知県)

[解答欄]

[解答]ア

[解説]

イは桃山文化。ウは鎌倉時代の文化。エは江戸時代後期の化政文化。

【】 綱吉の政治

[問題]

徳川幕府の5代将軍を、次の中から選びなさい。

[徳川家光 徳川綱吉 徳川吉宗 徳川秀忠]

(2004年青森県)(2007年京都府)

[解答欄]

[解答] 徳川綱吉

[解説]

17世紀後半になると、社会が安定し、幕府ができたころの武断政治(力による支配)から文治政治へ変わった。五代将軍徳川綱吉は、忠義や孝行を重視する儒学の朱子学を奨励し、湯島に聖堂を建てて孔子をまつり、政治の安定を図ろうとした。綱吉は、「(綱吉に)子どもができないのは前世における殺生のためである」というある僧のすすめに従い、生類憐れみの令を出し、鳥獣、とくに犬を大切にし、殺傷した者は重い刑に処した。

綱吉は寺院の建設などに多額の費用をかけ、また、17世紀後半に佐渡金山などからの金銀の産出量が急減したこともあって、幕府の財政は苦しくなっていた。綱吉は貨幣の質を落として財政難を切り抜けようとしたが、物価の上昇を招く結果になった。綱吉の後、六・七代将軍につかえた新井白石は貨幣の質を元に戻し、また、長崎貿易を制限して金銀の海外流失をふせいだ。

[問題]

五代将軍綱吉のときには、寺院の建設などで財政が苦しくなったため、幕府は新しい貨幣を発行して財政難を逃れようとした。新しい貨幣の質と発行量をどのようにしましたか、簡単に書きなさい。

(北海道)

[解答欄]

[解答] 質の悪い貨幣を大量に発行した

[問題]

次の文章中の()にあてはまる文として最も適当なものを、アからエまでの中から選んで、そのかな符号を書け。

「徳川綱吉は、質を落とした金貨・銀貨を大量に発行することで幕府の財政難を切りぬけようとした。また()。」

- ア 新田の開発をすすめる、年貢の率を引き上げるとともに、裁判の基準となる公事方御定書を制定した
- イ 農民を故郷に帰すなど農村の立て直しを目指して改革をすすめる、旗本や御家人の生活を救うため、借金を帳消しにした
- ウ 商工業者が株仲間を結ぶことをすすめる、長崎での貿易を拡大したが、一方でわいろがさかんになって政治が乱れた
- エ 儒学をさかんにして政治の引きしめを行う一方で、生類憐みの令という極端な動物愛護令を出した

(2009年愛知県)

[解答欄]

[解答]エ

[解説]

アは徳川吉宗の享保の改革。イは松平定信の寛政の改革。ウは田沼意次の改革。

[問題]

徳川綱吉が將軍職にあるときに行われた政策について述べた文として正しいものを、次のア～エから1つ選び、その記号を書け。

- ア 財政不足を補うため、金貨・銀貨の質を落として貨幣の数量を増やした。
- イ 土地の所有者と地価を定め、地価の3%を地租として現金で納めさせる地租改正を行った。
- ウ 御家人の権利・義務や領地の裁判などの武家社会のならわしをもとに、御成敗式目を定めた。
- エ 商工業者が株仲間を結ぶことを認めて営業を独占させ、その代わりに税を納めさせて財政収入を増やそうとした。

(2007年高知県)(2006年香川県)

[解答欄]

[解答]ア

[解説]

イは明治政府の政策。ウは鎌倉時代で北条泰時が制定。エは江戸中期の田沼意次の政治。

【】享保の改革

[問題]

徳川吉宗は、財政の再建を図るため、新田の開発を奨励し、年貢の取り方を改め、また、法令を整備するなど、改革を行った。徳川吉宗が行った一連の改革は何と呼ばれているか。書きなさい。

(2007 年大阪府)

[解答欄]

[解答]享保の改革

[解説]

1716年、徳川吉宗が八代将軍になったとき、幕府は、旗本・御家人に支給する米にも不足していた。そこで、徳川吉宗は享保の改革とよばれる次のような改革を実施した。(美男ヒーロー(1716)吉宗公) 武士に質素・儉約をすすめた。上げ米の制を定め、参勤交代の負担を軽くすることを条件に、1万石について百石の米を各大名に出させた。新田開発をすすめた。墾作・不作にかかわらず年貢の率を一定にし、年貢の率を引き上げた。このような改革によって、幕府の収入は増加し、財政はいったんは立ち直った。さらに、公事方御定書という法令集をつくらせて裁判の基準とした。民衆の意見を直接聞くために目安箱を設けた。なお、吉宗の時代に江戸で初めての打ちこわしがおこった。

[問題]

8代将軍の()は、新田の開発を奨励したり、年貢の取り方を変えたりして、幕府の財政を立て直しを図った。また、目安箱を設けて、庶民の意見を直接聞いた。

(2006 年山梨県)(2006 年徳島県)

[解答欄]

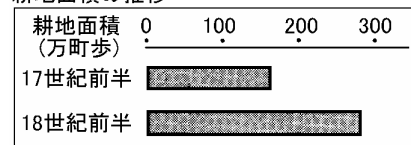
[解答]徳川吉宗

[問題]

徳川吉宗は8代将軍として、幕府の財政を立て直すための政治改革を行った。具体的にどのようなことを行ったか、右の資料を参考にして書きなさい。

(2005 年群馬県)

耕地面積の推移



[解答欄]

[解答]新田開発を行った

[問題]

享保の改革により、幕府に納められる年貢高が増えて、幕府財政は好転した。これは、幕府のどのような政策によるか、政策の1つを書きなさい。

(富山県)

[解答欄]

[解答]新田の開発

[問題]

享保の改革の大きな目的は幕府財政の立て直しであり、幕府はそのための政策の1つとして、新田の開発を奨励した。新田を開発することが、幕府財政の立て直しにつながるのはなぜか。簡単に書きなさい。

(2005年静岡県)

[解答欄]

[解答]新田開発によって米の生産量を増加させ、年貢収入を増やすことができるから

[問題]

徳川吉宗が行った政治の改革の名称と、その内容の組み合わせとして最も適当なものはどれか。

- ア 天保の改革：年貢の取り方を変え、新田の開発を奨励し、法律を整備した。
- イ 享保の改革：年貢の取り方を変え、新田の開発を奨励し、法律を整備した。
- ウ 天保の改革：出版や風俗を取りしまり、ぜいたくを禁じ、株仲間を解散させた。
- エ 享保の改革：出版や風俗を取りしまり、ぜいたくを禁じ、株仲間を解散させた。

(2007年鹿児島県)

[解答欄]

[解答]イ

[問題]

徳川吉宗が八代將軍になったとき、幕府は、旗本や御家人に支給する米にも不足していました。そこで、吉宗は、武士に質素・儉約をすすめました。大名に対しては、(鎖国 / 生類憐みの令 / 外国船打払令 / 参勤交代)を一時ゆるめるかわりに米を献上させました。

(岐阜県)

[解答欄]

[解答]参勤交代

[問題]

將軍徳川吉宗が実施した政策として適当なものを、次のア～エから1つ選んで記号で書け。

- ア 外国船打払令を出した。
- イ 上げ米の制を定めた。
- ウ 株仲間の解散を命じた。
- エ 生類憐みの令を出した。

(2008年福井県)

[解答欄]

[解答]イ

[問題]

徳川吉宗が、急増する訴訟や犯罪に対処し、裁判の公平をはかるために作らせ、当時の裁判の基準となったものを、次から選びなさい。

[御成敗式目 大宝律令 五箇条の御誓文 公事方御定書]

(北海道)

[解答欄]

[解答]公事方御定書

[問題]

享保の改革で、人々の意見を聞くためにもうけた投書箱を何というか。

(補充問題)

[解答欄]

[解答]目安箱

【】田沼の政治

[問題]

下の A の時期に、大商人を利用して幕府の財政を立て直そうとした人物名を書け。

享保の改革 - A - 寛政の改革 - 天保の改革

(2006 年福井県)

[解答欄]

[解答]田沼意次

[解説]

18 世紀後半になると幕府の財政はいきづまりの状態になった。1772 年に老中になった田沼意次は商人の経済力を利用することによって幕府の財政を立て直す政策をとった。(非難何(1772)するものぞと田沼さん) すなわち、商工業者が株仲間を結ぶことを奨励して、これに特権を与えるかわりに、税を取り立てた。町人に出資させて印旛沼(千葉県)などの干拓を行い、新田を増やそうとした。長崎貿易で金銀を輸入するため、銅や海産物の輸出を奨励した。蝦夷地の開発をこころみた。しかし、一部の商人と結びつき、わいろが横行して政治が乱れた。

1783 年、天明のききんがおこり、農村では百姓一揆が、都市では打ちこわしがおこり、田沼は老中をやめさせられた。

[問題]

田沼意次の時代において、商工業者に対して積極的に結成が奨励された組織を答えなさい。

(2009 年鳥取県)

[解答欄]

[解答]株仲間

[問題]

田沼意次は、幕府の財政を立て直すため、貿易や開発に力を入れたことのほかに、商工業者に対して、どのような政策を実施したか。簡潔に述べなさい。

(2006 年山口県)

[解答欄]

[解答]株仲間を結ぶことを奨励した。

[問題]

田沼意次は、銅や海産物の輸出を奨励したが、その貿易が行われた港を、地図のA～Dから1つ選んで記号を書きなさい。

(2004年秋田県)

[解答欄]

[解答]C

[解説]

江戸時代は鎖国政策がとられており、外国(オランダ・清)との貿易は長崎(C)に限られていた。田沼意次は、干しあわびやふかひれなどの海産物を、積極的に中国に輸出した。



[問題]

干しあわびやふかひれなどの海産物を、18世紀後半、老中の田沼意次は積極的に中国に輸出した。このときの中国の王朝を、次から1つ選びなさい。

[漢 唐 元 清]

(2003年山口県)

[解答欄]

[解答]清

[問題]

田沼意次の政治について正しく説明しているものを、次のア～エから1つ選び、記号で答えなさい。

- ア あいつぐ異国船の接近に対し、打ち払うように命令を出した。
- イ 商人の力を積極的に利用するとともに、長崎での貿易を奨励した。
- ウ 物価を下げるため、株仲間の解散を命じた。
- エ ききんに備え、村に倉を設けて米をたくわえさせた。

(2005年鳥取県)

[解答欄]

[解答]イ

[問題]

老中田沼意次は、幕府の財政たてなおしのために株仲間を奨励し、営業税を徴収しようとした。この政策の結果について述べた文として最も適当なものを、次のア～エから1つ選び、その符号を書きなさい。

- ア わいろがさかんになり、幕府や大商人だけが利益を得ているとの批判がおこった。
- イ 幕府の収入は増えたが、農民からの年貢のみによっていたため、農民の不満が高まった。
- ウ 生糸などの輸出品や米の価格が急激に値上がりし、人々の生活は苦しくなった。
- エ 改革の内容が厳しすぎたので人々の反発をかい、改革は約6年間で終わった。

(2005年新潟県)

[解答欄]

[解答]ア

【】農村の変化・工場制手工業

[問題]

江戸時代の中ごろ，貨幣経済が農村へ広くおよんできた結果，農村にどのような変化が起きたか。説明しなさい。

(鳥取県)

[解答欄]

[解答]商品作物の栽培や手工業が広まり，豊かな農民と貧しい農民の差がはっきりしてきた。

[解説]

18世紀になると，木綿の原料となる綿^{もめん}，油の原料となる菜種^{なたね}，染料となるあい^{あゐ}や紅花^{べにばな}などの商品作物の栽培がさかんになった。これらの商品作物の栽培には干糶^{ほしか}などの肥料を購入することが必要であったので，それまでの自給自足経済がくずれ貨幣経済が農村にも浸透した。成功して他の農民の土地を手に入れて大地主となる者がいるいっぽうで，土地を手放して小作人となる農民も多くなり，貧富の差が大きくなった。

[問題]

江戸時代の中ごろになると，農村にも貨幣経済が広がったが，このことによって社会におこった変化を説明した文として，正しいものを，次のア～エから1つ選び，記号で答えなさい。

- ア 貧富の差が拡大して，土地を失って小作人となったり，都市に働きに出たりする者が多くなった。
- イ 町衆とよばれる裕福な商人を中心に自治を行い，幕府や大名の支配から離れる都市があらわれた。
- ウ 全国の商業や金融の中心となった江戸は，「天下の台所」とよばれ諸藩の蔵屋敷が設けられた。
- エ 幕府や藩は，農民から年貢を安定して取るために，五人組の制度をつくり共同の責任を負わせた。

(2006年宮城県)

[解答欄]

[解答]ア

[解説]

江戸後期になると農民が豪農と小作人に分化し，小作人で都市に働きに出る者も増えた。

[問題]

江戸時代の中ごろから、紅花や、綿、菜種などが商品作物として農村で栽培されるようになり、農村に経済上の変化がおこりました。その変化とはどのようなことが、書きなさい。

(2008年山形県)

[解答欄]

[解答]農村に貨幣経済が広がったこと。

[問題]

ろうそくの原料は、植物の「はぜ」です。江戸時代には、「はぜ」をはじめさまざまな作物が栽培されていました。作物とそれからつくられたものを「はぜ ろうそく」のように表したとき、誤っているものを、次のア～エの中から1つ選び、その記号を書きなさい。

ア 紅花 染料・口紅・油 イ 菜種 油・肥料

ウ 藍 染料 エ 綿花 生糸

(2005年埼玉県)

[解答欄]

[解答]エ

[問題]

江戸時代に、1つの作業所に働き手を集めて、分業によって製品を仕上げる工業の仕組みによって、綿織物の生産がさかんになった。このような工業の仕組みは何とよばれるか。その名称を書きなさい。

(2006年静岡県)

[解答欄]


[解答]工場制手工業

[解説]

手工業が各地の農村に広がっていった。最初は、商人が織機や材料を農家に貸し出し製品にする問屋制家内工業であったが、のちにたくさんの労働者が分業によって製品をつくる工場制手工業に変わっていった。

[問題]

右の資料は、江戸時代の工場制手工業による酒づくりの様子を示しています。工場制手工業とは、どのような生産のしくみをいうか、書きなさい。



(2006年山形県)

[解答欄]

[解答]工場に働く人を集めて、分業により製品を生産するしくみ。

[問題]

次の資料は、江戸時代、大阪周辺でさかんであった菜種油づくりのようすをえがいたものである。資料を見ると、当時の油づくりが工場制手工業で行われていたことがわかる。工場制手工業の作業の特徴について書きなさい。

(菜種油づくりの工程)

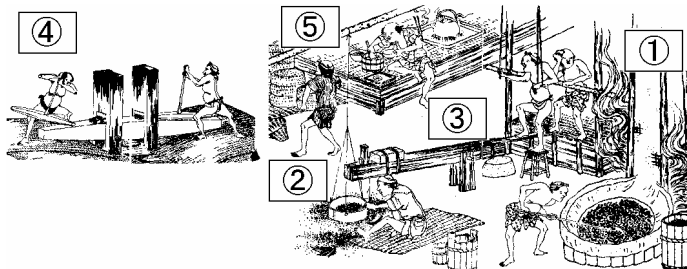
菜種を鍋に入れて、強い火で熱する。

熱した菜種をふるいで選別する。

選別した菜種を臼でつき、砕く。

砕いた菜種をしぼって油をとる。

しぼったかすを並べる。



(2007年熊本県)

[解答欄]

[解答]分担して作業を行う。

【】ききん・百姓一揆・打ちこわし

[問題]

田沼意次が老中のとき，浅間山の噴火などの自然災害や天候不順などによってききんがおきました。このききんは何とよばれているか。次から1つ選びなさい。

[天保のききん 享保のききん 寛永のききん 天明のききん]

(2003年山形県)

[解答欄]

[解答]天明のききん

[解説]

それまでの自給自足経済がくずれ貨幣経済が農村にも浸透した。成功して他の農民の土地を手に入れて大地主となる者がいるいっぽうで，土地を手放して小作人となる農民も多くなり，貧富の差が大きくなった。貧しい小作人が増えると，日照り・長雨・いなごの害などによって不作になると，大勢の人が飢え死にするききんがおこりやすくなった。とくに，1783年の浅間山あさまやまの噴火によって火山灰が降りつもり，関東から東北地方にかけて深刻なききんに見舞われた(天明のききん)。こうしたなかで，農村では年貢の軽減や不正な代官の交代などを要求する百姓一揆いっきがおこり，江戸や大阪などの都市では，貧しい人々が，米の値段をつり上げる大商人をおそう打ちこわしを行った。

[問題]

右の絵は，江戸時代におこった深刻なききんの1つである天明のききんのときの，食料を求めてさまよう家族の様子を描いたものである。



このききんが始まったのは，年表中のA~Dのどの時期か。1つ選んで，その記号を書きなさい。

(2007年香川県)

[解答欄]

[解答]C

[解説]

天明のききんによる混乱からの立て直しのため，松平定信が田沼意次の失脚後に寛政の改革を行った。

年代	できごと	
1603	徳川家康征夷大將軍となる	
1639	ポルトガル船の来航を禁止する	
1716	徳川吉宗の改革が始まる	
1787	松平定信の改革が始まる	
1841	水野忠邦の改革が始まる	

[問題]

天明の大ききんのときには、多くの餓死者がでて、年貢を減らすことなどを要求する()
や打ちこわしが多発した。()に当てはまる語句を次から1つ選びなさい。

[百姓一揆 一向一揆 国一揆 土一揆]

(2007年山梨県)

[解答欄]

[解答]百姓一揆

[問題]

右の図は、江戸時代に農民が一揆をおこすときに、団結の意味をこめて名前を書いた連判状である。図のように、名前を円形に書いた理由を簡潔に書きなさい。



(2006年茨城県)

[解答欄]

[解答]誰が指導者であるかがわからないようにするため

[解説]

幕府や藩は、指導者を死刑にしたり、流刑にするなど、厳しく処罰した。

[問題]

江戸時代後期、都市で、米を買い占めた商人をおそうできごとが増加した。このできごとを何
というか、語句で答えよ。

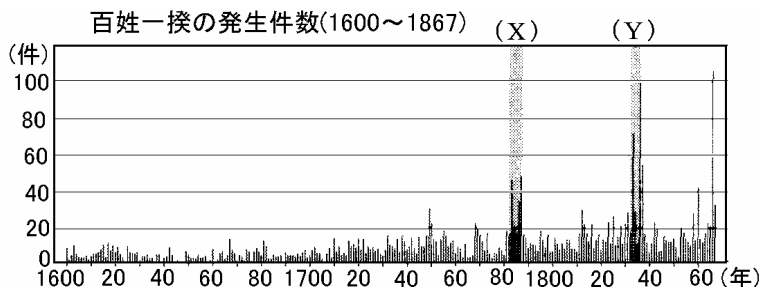
(2007年福岡県)(2006年島根県)

[解答欄]

[解答]打ちこわし

[問題]

次のグラフに関する説明文として正しいものを、次のア～エから1つ選んで記号で答えなさい。



- ア 17世紀はほとんど一揆は発生していないが、18世紀以降は発生件数が毎年増え続けている。
- イ グラフ中の(X)の時期には、天明のききんがおこり、一揆が40件以上発生した年もある。
- ウ グラフ中の(Y)の時期には、享保のききんがおこり、一揆が毎年60件をこえた。
- エ 開港後、諸外国との貿易が始まると、人々の生活も安定し、一揆が激減した。

(2006年島根県)

[解答欄]

[解答]イ

[解説]

アは誤り。18世紀以降一揆の発生件数は多くなるが、表の(X)や(Y)のようなききんのときに急増している。(Y)の時期は天保てんぽうのききんなので、ウは誤り。開港後、経済が混乱し、一揆の件数が急増したので、エも誤り。

【】寛政の改革

[問題]

江戸時代の後半に寛政の改革を行った老中はだれか。漢字4字で書きなさい。

(2007年神奈川県)(2007年千葉県)

[解答欄]

[解答]松平定信

[解説]

田沼意次たぬまおきつぐにかわって老中になった松平定信まつだいらさだのぶは寛政の改革を行った。(非難ひなんはな(1787)いかと定信さん) 農民の都市への出かせぎを禁止し、江戸などに出てきていた農民を農村に帰した。凶作きょうさくやききんに備えるため、農村に倉ぐらを設けて米を蓄えさせた(困米かこいまい)。旗本や御家人の生活難を救うため、金融業を営んでいた札差ふださしからの借金を帳消しにした。昌平坂学問所しょうへいざかでは、朱子学を公認の学問として他の学問を禁止した。出版物の内容まできびしい統制をくわえた。しかし、この改革は十分な効果をあげることができず、きびしい統制や儉約の強要は民衆の反発をうんだ。

[問題]

「白河の清きに魚のすみかねて もとの濁りの田沼恋しき」という狂歌は、ある人物の改革についてよまれたものである。この改革を行った人物名を書きなさい。

(富山県)

[解答欄]

[解答]松平定信

[解説]

「白河しらかわの」は白河藩の藩主であった松平定信まつだいらさだのぶのことをさし、「田沼たぬま」は田沼意次おきつぐのことをさしている。また、「濁りにご」とはわいろで政治が濁っていたことをさしている。松平定信の寛政の改革があまりにも厳しすぎて、むしろ田沼時代のほうがまだましだったと皮肉っている。

[問題]

老中松平定信は、江戸に流れ込んだ農民を村に帰し、ききんに備えて米をたくわえさせた。また、生活の苦しくなった旗本などの借金を帳消しにした。この改革の名称を書きなさい。

(2005年新潟県)

[解答欄]

[解答]寛政の改革

[問題]

天明のききんがおこったときには、多くの人々が苦しんだ。このあと、老中松平定信は、農村を立て直したり、ききんに備えたりするためにどのような対策を行ったか、1つ書きなさい。

(2006年石川県)

[解答欄]

[解答]江戸などに出てきていた農民を農村に帰した。(農村に米を蓄えさせた。)

[問題]

寛政や天保の改革では、都市に出てきた農民を農村に戻そうとする政策が出された。その目的を、「武士の生活」と「年貢」の語句を使って書け。

(2003年福岡県)

[解答欄]

[解答]武士の生活を支える年貢を確保するため

[問題]

寛政の改革が失敗に終わった理由を書きなさい。

(石川県)

[解答欄]

[解答]いたずらに厳しい統制は人々の反感をうんだだけで、政策は時勢に合わなかったから。

[問題]

寛政の改革の内容として最も適当なものを、次のアからエまでの中から選んで、そのかな符号を書きなさい。

- ア 荒れた農村を復興するため農民の都市への出かせぎを禁止したり、旗本や御家人の生活難を救うため借金を帳消しにするなどした。
- イ 楽市・楽座の政策により、市場の税を免除して取引を行いやすくし、それによって商工業の発展をはかった。
- ウ 商工業者が株仲間を結ぶことを奨励し、営業を独占する特権を与えるかわりに、一定の税を納めさせて財政収入を増やそうとした。
- エ 開墾を奨励するため墾田永年私財法を出し、新しく開墾した土地であれば、いつまでも私有してよいことにした。

(2004年愛知県)

[解答欄]

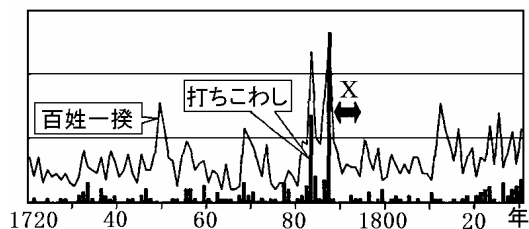
[解答]ア

[解説]

イは織田信長の政策。ウは田沼意次の政治。エは奈良時代。

[問題]

右の資料を見ると、18世紀に百姓一揆・打ちこわしが急激に増加したが、その後、Xの期間に一時的に減少している。Xの期間の幕府の政策として最も適当なものを、ア～エから1つ選び、符号を書きなさい。



- ア 株仲間の解散に命じたり、江戸・大阪周辺の土地を幕府の領地にしようとした。
- イ 江戸に出ていた農民を故郷に帰したり、凶作に備えて農村に米を蓄えさせたりした。
- ウ 新田の開墾を奨励し、年貢の取り方を変えたり、法律の整備などを行ったりした。
- エ 商工業者の株仲間を増やして税を徴収したり、長崎貿易を拡大したりした。

(2006年大分県)

[解答欄]

[解答]イ

[解説]

Xの期間は、^{まつだいらさだのぶ}松平定信が^{かんせい}寛政の改革を行っていた時期にあたる。Aは19世紀半ばに^{みずのただくに}水野忠邦が行った^{てんぽう}天保の改革、Uは18世紀前半に^{よしむね}徳川吉宗が行った^{きょうほう}享保の改革、Eは^{かんせい}寛政の改革の前に^{たぬまおまつく}田沼意次が行った政治。

[問題]

寛政の改革とほぼ同じころのできごととして最も適当なものを、次のA～Eから一つ選んで記号で答えなさい。

- A ロシアではレーニンの指導のもと、社会主義を唱える世界最初の政府ができた。
- イ フランスでは政治に対する不満が広がって革命がおこり、人権宣言が発表された。
- ウ スペインの援助を受けたコロンブスが、大西洋を横断して西インド諸島に到着した。
- E ドイツではルターたちが、信仰のあり方をただす宗教改革を進めた。

(2009年島根県)

[解答欄]

[解答]イ

[解説]

寛政の改革は1787年～1793年。イのフランス革命が始まったのは1789年である。寛政の改革とフランス革命がほぼ同じ時期であることを問う問題はときどき出題される。

[問題]

A～Eを年代の古い順に左から並べて、その記号を書きなさい。

- A 老中水野忠邦は、物価を下げるために、株仲間を解散させた。
- イ 老中田沼意次は、大商人を利用して財政再建に力を入れ、長崎貿易を奨励した。
- ウ 將軍徳川吉宗は、質素・儉約をすすめ、新田の開発や法律の整備をおこなった。
- E 老中松平定信は、旗本や御家人の生活を救うために、その借金を帳消しにした。

(2006年茨城県)

[解答欄]

[解答]ウ イ E A

[解説]

ウ：享保の改革(1716年～45年) イ：田沼の政治(1772年～86年) E：寛政の改革(1787年～93年) A：天保の改革(1841年～43年)。

【】外国船打払令

[問題]

大黒屋光太夫らが漂着した国の使節は、根室に来航し、通商を求めました。その使節を日本に派遣したはどこか、その国名を書きなさい。

(2009 年山形県)

[解答欄]

[解答]ロシア

[解説]

伊勢国の船乗りだった大黒屋光太夫(右図)は、台風にあい、ロシアに漂着した。10年後の1792年にロシア使節のラックスマンに連れられて蝦夷地に帰着いた。ラックスマンは通商を求めてきたが、幕府はこれを断った。



[問題]

1792年にロシアの使節が根室に来て漂流民を送りとどけ、通商を求めた。このできごとの後、幕府は外国の接近に対してどのような対応をしたか。鎖国と関連づけて書きなさい。

(2005 年福島県)

[解答欄]

[解答]外国船打払令を出して、鎖国を維持しようとした。

[解説]

18世紀末頃から日本の海岸にロシア・イギリス・アメリカの船が現れるようになったため、幕府は1825年に外国船打払令を出した。(いやに剛氣(1825)な打ち払い) 蘭学を通じて世界の動きに目を向けていた高野長英や渡辺崋山は外国船打払令の無謀さを説き、幕府を批判して処罰された。

[問題]

江戸時代の日本は鎖国をしていたけれど、18世紀後半にはロシア船が来航し、19世紀になると、アメリカやイギリスの船も日本に近づくようになった。こうした動きを警戒した幕府が出した命令を何とというか、書きなさい。

(2009 年青森県)

[解答欄]

[解答]外国船打払令

[問題]

幕府は、鎖国政策を続けるために外国船打払令を定めた。その理由は何か。次から1つ選べ。

- ア アヘン戦争が起こった。
- イ 倭寇による海賊行為が活発に行われるようになった。
- ウ 島原・天草一揆が起こった。
- エ 日本の沿岸にアメリカ船などが現れるようになった。

(2007年奈良県)

[解答欄]

[解答]エ

[問題]

江戸時代の外交関係について、適切なものを下のア～エから1つ選び、記号で答えなさい。

- ア 鎖国後、スペインと中国にのみ貿易を許可した。
- イ 毎年、幕府は朝鮮に対して朝鮮通信使を派遣していた。
- ウ 幕府は外国船が近づくようになると、外国船を追い払う政策をとった。
- エ 幕末になると、攘夷というヨーロッパを尊重する考え方が生まれた。

(2006年沖縄県)

[解答欄]

[解答]ウ

[問題]

外国船打払令と幕府の鎖国政策を批判してとらえられた学者を、次から1人選びなさい。

[杉田玄白 新井白石 高野長英 本居宣長]

(滋賀県)

[解答欄]

[解答]高野長英

[問題]

次のうち、蘭学に最も関係の深いものはどれか、ア～エから1つ選びなさい。

- ア 石田梅岩は、京都の町人で、儉約・正直などの大切さを教え、町人の生き方を説いた。
- イ 大塩平八郎は、ききんに苦しむ民衆を救うため、大阪で乱をおこし、幕府に大きな衝撃を与えた。
- ウ 渡辺崋山は、外国船の打払いを批判する書物を書き、幕府によってきびしく処罰された。
- エ 本居宣長は、儒教や仏教にとらわれない日本人の精神を明らかにし、幕末の尊王運動に影響を与えた。

(2003年京都府)

[解答欄]

[解答]ウ

[解説]

わたなべかざん
渡辺崋山は、蘭学者で蘭学を通して欧米の実力を知っていたので、外国船の打払いという政策が無謀であると知っていた。

[問題]

老中水野忠邦は、外国船打払令の緩和を行った。このきっかけとなった海外でおきた戦争の名を書きなさい。

(2003年岐阜県)

[解答欄]

[解答]アヘン戦争

[解説]

1840年に起こったアヘン戦争で清がイギリスに敗れ、なんきん南京条約という不平等条約を結んだことが伝わると、みずのただくに水野忠邦は外国船打払令をかんわ緩和した。

[問題]

水野忠邦が中心となって幕府の政治を行っていたころの世界のできごとを、ア～エから選びなさい。

ア イギリスからの独立を求めて植民地の人々が立ちあがり、アメリカの独立戦争がおきた。

イ 戦争や国王中心の政治に対して都市の民衆などの不満が高まり、フランス革命がおきた。

ウ アヘンの取りしまりをめぐって清とイギリスとの対立が深まり、アヘン戦争がおきた。

エ 戦争や皇帝による政治への不満から労働者や兵士などが立ちあがり、ロシア革命がおきた。

(2005 年北海道)

[解答欄]

[解答]ウ

【】大塩平八郎の乱

[問題]

1830年代には大きなききが全国をおそい、「天下の台所」とよばれた大阪でも、餓死者が出るほどでした。1837年、もと大阪町奉行所の役人であった()は、幕府のききん対策に不満をもち、立ちあがりました。この乱は1日でしずめられましたが、幕府は衝撃を受けました。このような情勢のなかで、1841年、幕府は()とよばれる政治の立て直しに着手しました。

(2008年埼玉県)

[解答欄]

--	--

[解答] 大塩平八郎 天保の改革

[解説]

1830年代、天保てんぽうのききんが全国をおおい、百姓一揆と打ちこわしが頻発した。1837年、もと大阪奉行所の役人で、儒学の中の陽明学ようめいがくの学者であった大塩平八郎おおしおへいはちろうはききんで苦しむ人々を救うため、大阪で乱をおこした。(人はみな(1837)大塩したい打ちこわし)

陽明学は「世の中の矛盾を知るだけでは何の価値もなく、行動を起こすことが大切である」という「知行合一ちぎょうごういつ」を重視する革命の理論という一面をもっていた。

元幕府の役人の大塩平八郎が、幕領の大阪で乱をおこしたため、幕府は衝撃を受けた。また、各地で不穏な動きがみられた。そこで幕府権力みずのただくにの立て直しのため老中水野忠邦を中心に天保の改革が行われた。

年代	おもなできごと
1825年	外国船打払令が出される。
1837年	大塩平八郎が乱を起こす。
1841年	水野忠邦が老中になる。

[問題]

右の人物は、もと幕府の役人であったが、人々の苦しい生活を救済しようとして、大阪で反乱を起こした。この反乱を何というか。答えなさい。

(2007年山口県)(2007年広島県)(2007年茨城県)



[解答欄]

--

[解答]大塩の乱

[問題]

大塩平八郎の乱は、江戸時代の三都の一つに数えられた都市で起こった。その都市はどこか、書きなさい。

(2008 年徳島県)

[解答欄]

[解答]大阪

[問題]

大塩の乱がおこった場所は、略地図のア～エのうちどれか。

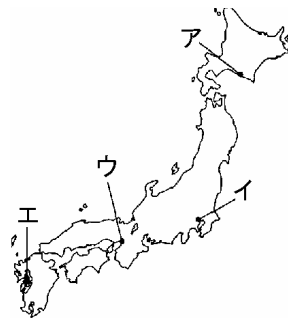
(2009 年鹿児島県)

[解答欄]

[解答]ウ

[解説]

大塩の乱が起こったのは、大阪(ウ)である。



【】天保の改革

[問題]

右の人物は大きなきんが起こり、人々の苦しい生活を見かねて、大阪で乱を起こした。この人物が起こした乱により、幕府は衝撃を受け、政治改革を行った。



(1) その改革を行った人物は次のうちの誰か。

[水野忠邦 徳川吉宗 徳川家光 田沼意次]

(2) 改革の内容として適切なものをア～エから1つ選びなさい。

ア 株仲間の解散，江戸に出てきていた農民を村へ帰す

イ 株仲間の奨励，銅や海産物の輸出

ウ 上げ米の制，目安箱の設置，年貢の率の引き上げ

エ 参勤交代の制，鎖国の完成

(2006年富山県)(2007年福井県)(2006年秋田県)

[解答欄]

(1)	(2)
-----	-----

[解答](1) 水野忠邦 (2) ア

[解説]

(1) 元幕府の役人の大塩平八郎が、幕領の大阪で乱をおこしたため、幕府は衝撃を受けた。また、各地で不穏な動きがみられた。そこで幕府権力の立て直しのため老中水野忠邦を中心に天保の改革が行われた。この改革で、人返しの法で江戸に流入した貧民を農村に帰し、農民が江戸に出稼ぎにくるのを禁止した。株仲間を解散させて、自由な取引が行われて物価が下がることをねらった。しかし、江戸・大阪周辺の農村を幕府の領地にしようとしたことで、大名や旗本の反対にあい、改革はわずか2年で失敗に終わった。

(2) イは田沼意次の改革、ウは徳川吉宗の享保の改革、エは徳川家光の政策である。

[問題]

次の文を読んで、あとの問いに答えなさい。

きびしい儉約を命じ、出版や風俗をとりしめた。また、農民の江戸への出かせぎを禁止して、農民を村に帰し、商工業者の株仲間を解散させるなどの政策を行った。

(1) この資料に書かれた改革を行った人物はだれか、次から一人選びなさい。

[徳川吉宗 田沼意次 水野忠邦 松平定信]

(2) 下線部の政策はどのようなことをねらいとして行われたか、具体的に書きなさい。

(2003年三重県)

[解答欄]

(1)	(2)
-----	-----

[解答](1) 水野忠邦 (2) 物価を下げる

[問題]

天保の改革で老中水野忠邦が行った、農村を復興させるための政策の内容と、物価を下げるための政策の内容を、それぞれ簡潔に書きなさい。

(2006 年栃木県)

[解答欄]

[解答] 江戸に出てきている農民を村へ帰らせた。株仲間を解散させた。

[問題]

次の文章中の()にあてはまることばを、「物価」と「株仲間」の二つの語を用いて20字以内(読点も含む)で書きなさい。

江戸時代の中ごろ、大商人は、同業者どうしで、幕府に認められた組合をつくり、営業を独占した。これに対し、天保の改革では、水野忠邦は()を命じた。

(2006 年千葉県)

[解答欄]

--

[解答]物価を下げるために株仲間の解散

[問題]

天保の改革で株仲間を解散した目的は何か。

(2007 年福井県)

[解答欄]

--

[解答]物価を下げる

[問題]

田沼意次と水野忠邦は、株仲間に対してそれぞれどのような政策を行いましたか。二人の政策のちがいがわかるように、簡単に書きなさい。

(2008 年北海道)

[解答欄]

[解答]田沼意次は株仲間を奨励し、水野忠邦は株仲間を解散させた。

[問題]

水野忠邦が行った政策について述べたものは、次のア～エのうちのどれか。

- ア 江戸・大阪周辺の農村を幕府の領地にしようとしたが、大名や旗本の反対にあった。
- イ 極端な動物愛護令である生類憐みの令を出し、特に犬を大事にした。
- ウ 商工業者の株仲間結成を奨励して、特権を与えるかわりに税を取った。
- エ 上げ米の生を定めて大名の参勤交代を一時ゆるめるかわりに、幕府に米を献上させた。

(2007 年香川県)

[解答欄]

[解答]ア

[解説]

アは上知令^{あげちれい}のこと。強い反対にあい実行できず失脚した。イは徳川綱吉^{つなよし}、ウは田沼意次^{たぬまおきつぐ}の政治、エは徳川吉宗^{よしむね}の享保^{きょうぼう}の改革。

[問題]

天保の改革が行われたころに世界で起こっていた出来事として最も適当なものを、次の [] から 1 つ選びなさい。

[アメリカの独立 フランス革命 アヘン戦争 ロシア革命]

(2009 年三重県)

[解答欄]

[解答]アヘン戦争

[解説]

1840 年に起こったアヘン戦争で清がイギリスに敗れ、南京条約^{なんきん}という不平等条約を結んだことが伝わると、水野忠邦は外国船打払令^{みずのただくに}を緩和^{かんわ}した。

[問題]

江戸時代，財政の再建をはかるために各地の藩が実際に行った手だてとして最も適切なものをア～エから1つ選び，符号で書きなさい。

ア 特産物の専売制 イ 楽市・楽座の政策 ウ 上げ米の制 エ 長崎貿易の奨励

(2006年岐阜県)

[解答欄]

[解答]ア

[問題]

諸藩が財政を補うため発行した紙幣を何というか書け。

(2007年福井県)

[解答欄]

[解答]藩札

【】新しい学問：国学と蘭学

[問題]

江戸時代に本居宣長は『古事記伝』をあらわした。宣長は日本の古典を研究し、儒教や仏教の影響を受ける前の日本人の考え方を明らかにしようとしたが、この学問を何というか。

(2007年兵庫県)(2007年栃木県)

[解答欄]

[解答]国学

[解説]

元禄時代にはじまった古典の研究は、「古事記」や「日本書紀」などの歴史書の研究へと進み、やがて、仏教や儒教の影響を受ける前の日本、外来の思想にとらわれない日本人らしい心や考え方を研究する国学へと発達した。国学は、「古事記伝」を著した本居宣長によって大成された。その後、国学は尊王攘夷運動に影響を与えた。

[問題]

古事記伝を著し、国学を大成した人物は誰か、答えなさい。

(2009年福島県)

[解答欄]

[解答]本居宣長

[問題]

本居宣長は、「古事記」をとおして()を研究し、国学を発展させた。その後、国学は尊王攘夷運動に影響を与えた。()にあてはまるのは、ア～エのどれですか。1つ選び、その記号を書きなさい。

- ア すべての人が等しく農業を営む万人平等の理想社会
- イ 西洋の天文学や地理学など実用に役立つ学問や知識
- ウ 武士道とよばれるきびしい道徳や主従関係のあり方
- エ 外来の思想にとらわれない日本人らしい心や考え方

(2003年岩手県)

[解答欄]

[解答]エ

[問題]

杉田玄白に関し，(1)，(2)に答えなさい。

(1) この人物と最も関係の深い学問を次の中から1つ選びなさい。

[蘭学 朱子学 儒学 国学]

(2) この人物と前野良沢らが，翻訳・出版した人体解剖書を何といいますが，書きなさい。

(2006 年和歌山県)

[解答欄]

(1)	(2)
-----	-----

[解答](1) 蘭学 (2) 解体新書

[解説]


徳川^{よしむね}吉宗が漢訳の洋書の輸入を許可してから，蘭学^{らんがく}が発達した。蘭学者の杉田玄白と前野良沢はオランダの医学書を翻訳して解体新書^{かいたいしんしょ}を出版した。江戸時代後半に来日したドイツ人シーボルトは長崎^{なるたき}の鳴滝で医学を教え，多くの弟子を育てた。

[問題]

18 世紀の後半になると，オランダ語で西洋の文化を学ぶ蘭学の基礎が築かれました。右の写真は，杉田玄白らが翻訳・出版した()の一部です。

(2005 年岐阜県)

[解答欄]



[解答]解体新書

[問題]

『ターヘル・アナトミア』という西洋の解剖書を翻訳した蘭学者の1人はだれか，最も適当なものを次の[]から選びなさい。

[杉田玄白 伊能忠敬 渡辺華山 高野長英]

(2009 年三重県)

[解答欄]

[解答]杉田玄白

[問題]

西洋文化とわが国の関わりに関する次のア～ウのできことが、年代の古い順に並べなさい。

- ア 徳川吉宗は、当時禁書とされていた、西洋の科学に関係のある書籍の輸入の禁止を緩めた
- イ 福沢諭吉が「学問のすゝ(す)め」を著し、人間の平等と民主主義を説いた
- ウ 杉田玄白らが「解体新書」を翻訳し、わが国の蘭学の基礎を築いた

(2006年香川県)

[解答欄]

[解答]ア ウ イ

[解説]

ア：漢訳洋書の輸入緩和は1720年 ウ：かいたいしんしょ解体新書の刊行は1774年 イ：学問のすゝめの刊行は明治時代。

[問題]

江戸時代に西洋の文化を学ぶ蘭学が、医学の分野で特に研究された。蘭学に関して、わが国と最も関係の深い国を、右の略地図のア～エの中から選べ。

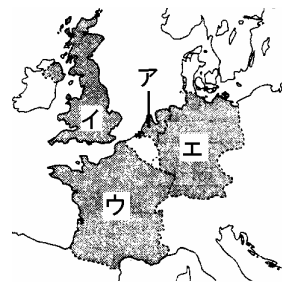
(2004年鹿児島県)

[解答欄]

[解答]ア

[解説]

江戸時代の鎖国下で、日本人が接触できたヨーロッパの国はオランダのみである。地図のアがオランダである。



[問題]

19世紀のころに、全国各地の沿岸を測量してつくられた日本地図が完成した。この地図をつくるのに中心となった人物はだれか。

(2006年長崎県)

[解答欄]

[解答]伊能忠敬

[解説]

19世紀の初め、西洋の測量術を取り入れて、伊能忠敬は、^{いのうただが}全国の海岸線を17年間かけて測量し、現在とほとんど変わらないほど正確な日本地図をつくった。

[問題]

伊能忠敬は全国各地の沿岸を測量して日本地図をつくった。当時は()ことなどがあり、幕府としては、沿岸地図をつくる必要があった。()に当てはまることばを、ア～エから1つ選び、符号を書きなさい。

- ア 島原や天草の人々が一揆をおこした
- イ 宣教師が豊後府内などでキリスト教の布教に努めた
- ウ 倭寇が朝鮮半島や中国の沿岸を荒らしはじめた
- エ 外国船がしばしば日本に近づくようになった

(2004年大分県)

[解答欄]

[解答]エ

[問題]

右の資料は、江戸時代の庶民の子どもたちが勉強をしているようすである。このような教育機関を何というか、書きなさい。

(2006年徳島県)(2007年埼玉県)

[解答欄]

[解答]寺子屋

[解説]

読み・書き・そろばんを教える^{てらこや}寺子屋は江戸時代後期に急増し、当時の世界でもめずらしいほどに初等教育が普及していた。



[問題]

江戸時代、町人や農民の子どもたちは、寺子屋でおもに、読み・()・()を学んでいた。

(2009 年熊本県)

[解答欄]

--	--

[解答] 書き そろばん

【】化政文化

[問題]

18世紀の中ごろから19世紀のはじめのころになると、文化の中心は上方から江戸に移り、江戸の町人を中心とする(元禄/東山/桃山/化政)文化が栄えた。


(2005年茨城県)

[解答欄]

[解答]化政

[解説]

19世紀の初め、江戸を中心に民衆の文化が栄えたが、この文化を化政文化という。文芸では、世の中を風刺した狂歌や川柳が流行した。(五七五・七七の短歌形式になっているものを狂歌といい、「役人の子はにぎにぎを能く覚え」などのように五七五の俳句の形式になっているものを川柳という。)十返舎一九の「東海道中膝栗毛」のようなこっけいな小説が人気を集める一方で、滝沢馬琴の「南総里見八犬伝」なども多くの人に読まれた。俳諧では、与謝蕪村が絵のような風景を表現し、小林一茶は素朴な感情をよんだ。浮世絵の技術も進化し、錦絵とよばれる多色刷りの版画が大流行した。歌川広重(安藤広重)や葛飾北斎は風景画のすぐれた作品を残し、喜多川歌麿は美人画を描いた。(右の「神奈川沖浪裏」は葛飾北斎の作品である)



[問題]

18～19世紀、文化の中心が上方から()に移り、町人文化が栄えた。

(鹿児島県)

[解答欄]

[解答]江戸

[問題]

民衆の生活をこっけいに描いた「東海道中膝栗毛」の作者を次から選びなさい。

[滝沢馬琴 歌川広重 十返舎一九 葛飾北斎]

(和歌山県)

[解答欄]

[解答]十返舎一九

[問題]

浮世絵の技術が進んだ文化・文政年間には、多色刷りの美しい版画がさかんにつくられた。このような多色刷りの版画は、何と呼ばれるか。次から1つ選びなさい。

[大和絵 絵巻物 水墨画 錦絵]

(2006年香川県)

[解答欄]

[解答]錦絵

[問題]

浮世絵の技術が進んで、錦絵とよばれる多色刷りの美しい版画がつくられ、(雪舟/安藤広重/菱川師宣/狩野永徳)は風景画を残した。

(2005年茨城県)

[解答欄]

[解答]安藤広重


[問題]

富士山を中心に右の図のような「富嶽三十六景」を描いた浮世絵師は誰か。

(補充問題)

[解答欄]

[解答]葛飾北斎



[問題]

江戸時代、世相を皮肉る、右にあげるような形式の歌が民衆の間に流行していた。このような歌を何というか、次の[]からひとつ選びなさい。

[俳句 狂歌 短歌 連歌]

(2009年鳥取県)

[解答欄]

[解答]狂歌

年号は
安く永くとかわれども
諸色^{しよいろ}たかくて 今に明和^{めいわく}九
(注)明和九(一七七二)年は、
途中から安永元年に変わった。
また、諸色とは、物価のこと
である。

[問題]

江戸時代の化政文化について述べたものを、次のア～エから1つ選び、その記号を書け。

- ア 貴族の伝統文化のうえに、武士や民衆にもわかりやすい文化が発達してきた。武士の気風にあった簡素で剛健な建築や彫刻がつけられた。
- イ 町人が文化のにない手であった。民衆の生活をこっけいに表現したものや風刺のきいた作品が生まれ、多くの人たちに楽しまれた。
- ウ 大名や大商人の権力や富を背景にして発達した豪華で壮大な文化であった。天守閣のそびえる城がつけられる一方、簡素さを尊ぶ茶の湯も大成された。
- エ 貴族の文化と武士の文化が融合し、さらに禅宗の影響も加わり、新しい文化が生まれてきた。床の間を設けた書院造の建物がつけられた。

(2003年高知県)

[解答欄]

[解答]イ

[解説]

アは鎌倉時代の文化。ウは桃山文化。エは室町時代の文化。

[問題]

19世紀前半の江戸の文化に当てはまることを、ア～エから1つ選び、符号を書きなさい。

- ア 葛飾北斎や歌川広重は、すぐれた風景版画を残した。
- イ 千利休は、質素なわび茶の作法を完成させた。
- ウ 近松門左衛門は、人形浄瑠璃において男女の悲劇をえがいた。
- エ 世阿弥らは、猿楽や田楽などをもとに能として大成した。

(2004 年大分県)

[解答欄]

[解答]ア

[解説]

イは桃山文化。ウは元禄^{げんろく}文化。エは室町時代の文化。

【】ペリーの来航と日米和親条約

[問題]

下の資料を見て、アメリカの軍船四せきの司令長官の名前を書きなさい。また、和睦して結ばれた条約名を漢字で書きなさい。

(資料)

六月三日、浦賀に異国船が渡来した。アメリカの軍船は四せきで、多くの人に乗っていた。(中略)翌年再び、正月中旬にアメリカ船が浦賀にやってきた。江戸はもちろんのこと日本中が大騒ぎになった。(中略)二月下旬アメリカ人と幕府の役人が対談して和睦したので、異国船は帰っていった。

(2006 年長野県)

[解答欄]

--	--

[解答]ペリー / 日米和親条約

[解説]

1853 年アメリカの使節ペリーが、4 隻の軍艦(黒船)をひきいて浦賀(神奈川県)沖に現れ、幕府に開国をせまった。(いや御三(1853)家！とペリー来航)

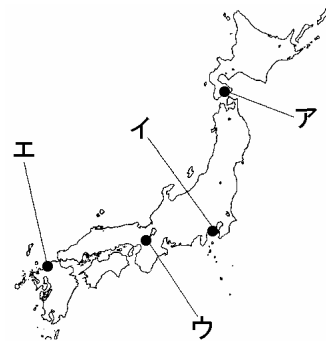
アメリカは、捕鯨船などが日本の港で燃料・水・食料を補給できるように求めた。幕府は、翌年の返事を約束してペリーをいったん引きとらせた。幕府は、このことを朝廷に報告し、大名などの意見も聞いたが、こうしたことは今までにないことで、幕府の力のおとろえを示す結果となった。翌 1854 年にペリーは、再び江戸湾に来航し、回答をせまった。幕府は、やむなく、日米和親条約を結び、下田(静岡県)と函館(北海道)の 2 港を開き、燃料・水・食料を補給することと、下田に領事をおくことなどを認めた。幕府はイギリス・オランダ・ロシアとも、同じような条約を結んだ。

年代	おもなできごと
1853 年	ペリーが浦賀に来航する
1854 年	日米和親条約
1858 年	日米修好通商条約が結ばれる



[問題]

略地図中のア～エは、わが国における歴史の流れを変えたできごとが起こった浦賀、京都、博多、函館のいずれかの位置を示したものである。次の文章で述べているできごとが起こった場所に当てはまるのは、略地図中のア～エのうちのどれか。



太平洋横断航路や太平洋で操業する捕鯨船の食料や水の補給地として、日本の港を利用したいと考えていたアメリカ合衆国は、ペリーを使節として日本に派遣した。ペリーは4隻の軍艦を率いてこの地に来航し、大統領の国書を幕府に提出し、開国を求めた。

(2007年東京都)

[解答欄]

[解答]イ

[問題]

ペリーが浦賀に来た目的として最も適当なものを、次のア～エから1つ選びなさい。

- ア 治外法権(領事裁判の制度)を認めさせるため。
- イ 琉球をゆずりうけるため。
- ウ キリスト教の布教を進めるため。
- エ 自国船への補給港を確保するため。

(2003年熊本県)

[解答欄]

[解答]エ

[問題]

ペリーの要求に応じ、幕府はアメリカとの間で、下田、函館の二港の開港などを認める条約を結んだ。この条約を何といいますか。

(2006年岡山県)(2006年神奈川県)(2006年新潟県)

[解答欄]

[解答]日米和親条約

[問題]

日米和親条約を結んだアメリカ東インド艦隊司令長官は誰か。

(2007年岩手県)

[解答欄]

[解答]ペリー

[問題]

アメリカのペリーは日本に開国を要求したが、その結果結ばれた条約によって、日本が開港した港の名称を二つ書きなさい。

(2007年青森県)(2006年新潟県)

[解答欄]

<input type="text"/>	<input type="text"/>
----------------------	----------------------

[解答]下田，函館

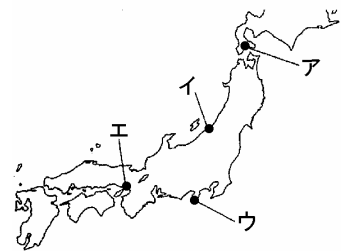
[問題]

日米和親条約によって開かれ、のちにアメリカ総領事のハリスが駐在した場所を、右の地図のア～エから1つ選んで記号を書きなさい。

(秋田県)

[解答欄]

[解答]ウ



[問題]

日米和親条約が結ばれ下田とともに開かれた港はどこか、右図のA～Dの中から1つ選んで、その番号を書きなさい。

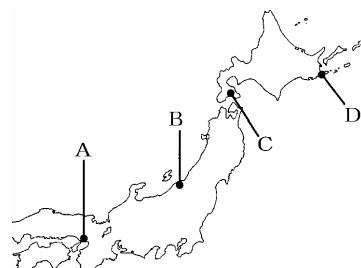
(2004年茨城県)

[解答欄]

[解答]C

[解説]

Cは函館。



[問題]

ペリーの黒船が来航する以前におこり、日本の開国に影響を与えたできごととは何か。次のア～エの中から1つ選び、記号を書きなさい。

ア 義和団事件 イ フランス革命 ウ 中華民国の成立 エ アヘン戦争

(2004年佐賀県)

[解答欄]

[解答]エ

【 】 不平等な通商条約の締結

[問題]

1854年、江戸幕府は、日米和親条約を結んだ。その後、下田に来た()は、幕府に貿易を行うことを求めた。そこで、このころ大老になった井伊直弼は、1858年に日米修好通商条約を結んだ。

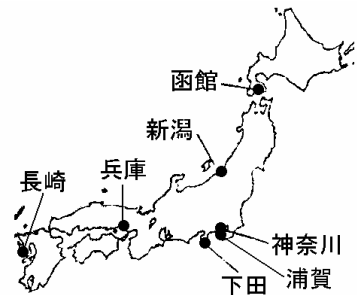
(岩手県)

[解答欄]

[解答]ハリス

[解説]

下田しもだに着任したアメリカ総領事ハリスは、貿易開始のための条約を結ぶことを要求してきた。幕府は朝廷に許可を求めたが、得られなかった。1858年、通商がさげられないと判断した大老の井伊直弼なおすけは、反対派の意見をおさえて、日米修好通商条約にちべいしゅうこうつうしょうじょうやくを結んだ。この条約によって、函館・新潟・神奈川(横浜市)・兵庫(神戸市)・長崎の5港を貿易港として開いた。しかし、この条約は、日本で罪を犯した外国人をその国の領事が裁く領事裁判権りょうじさいばんけん(治外法権ちがいほうけん)を認め、輸入品に自由に関税をかける関税自主権かんぜいじしゅけんが日本にないという不平等なものであった。続いて幕府は、イギリス・オランダ・ロシア・フランスとも、同じような条約を結んだ。開国後の最大の貿易相手国はイギリスであった。輸出品は生糸と茶で、輸入品は毛織物・綿織物・武器・艦船であった。



[問題]

大老井伊直弼は、1858年にアメリカ合衆国と、貿易のために5つの港を開く条約を結んだ。この条約を何というか、書きなさい。

(2006年徳島県)(2006年山形県)(2006年大阪府)(2006年京都府)(2006年岩手県)

[解答欄]

[解答]日米修好通商条約

[問題]

日米修好通商条約によって開港された港は、函館・神奈川(横浜)・長崎・兵庫(神戸)と、あと一つはどこか。次の中から選びなさい。

[下田 名古屋 新潟 鹿児島]

(2009 年青森県)

[解答欄]

[解答]新潟

[問題]

1858 年に日本がアメリカと結んだ条約について述べた文として正しいものを、ア～エから選びなさい。

ア 日本は、下田などの 2 港を開き、水や食料などを補給することを認めた。

イ 日本は、講和を結んで独立を回復し、アメリカ軍の駐留を認めた。

ウ 日本は、神奈川(横浜)、新潟などの 5 港を開き、貿易を始めた。

エ 日本は、関税自主権を回復し、関税率を自主的に決めるようになった。

(2008 年北海道)

[解答欄]

[解答]ウ

[問題]

1858 年に結ばれた日米修好通商条約は、わが国にとって不平等な内容を含んでいた。不平等な内容を二つ簡潔に書きなさい。

(2006 年栃木県)(2006 年兵庫県)

[解答欄]

[解答]日本に関税自主権がなく、アメリカに領事裁判権(治外法権)が認められていたこと

[問題]

日米修好条約をはじめとして諸外国と同様の条約が結ばれると、神戸には外国人が住むようになりました。しかし日本側は外国人の犯罪者を取り締まることができませんでした。これは、これらの条約で諸外国にどのような権利が認められていたからか、書きなさい。

(2007 年宮城県)

[解答欄]

--

[解答]領事裁判権(治外法権)

[問題]

日本に関税自主権がなかったことは、日本の産業の発展にとって不利な条件となった。このことを説明する次の文章の ， に当てはまる語を、()内からそれぞれ選びなさい。

外国から商品を輸入する際、輸入品の価格や重量などに対して、関税が課せられる。一般に、課せられた関税の金額が輸入品の価格に上乗せされるので、関税の税率が高いと、輸入量は (多く / 少なく)なる。日米修好通商条約締結ののち、外国が日本に輸出しやすいように、日本の関税の税率は (低く / 高く)設定された。そのため、外国から安価な綿織物などが多く輸入され、国産品が売れなくなる原因の1つとなった。

(2004 年静岡県)

[解答欄]

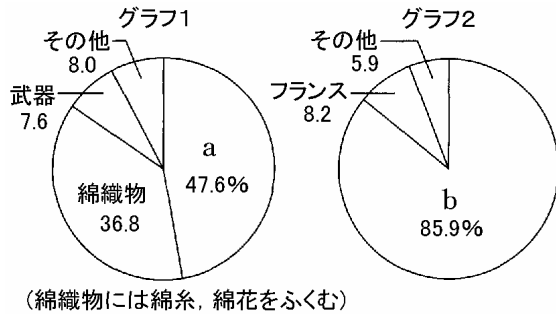
--	--

[解答] 少なく 低く

【】開国の影響

[問題]

日米修好通商条約に続いて、オランダ、ロシア、イギリス、フランスともほぼ同じような内容の条約が結ばれ、自由な貿易が行われるようになった。グラフ1は幕末の1865年の我が国の品目別輸入額の割合を、グラフ2は同年の横浜港における国別の貿易額(輸出額と輸入額の総額)の割合を、それぞれ表したものである。



グラフ1のaに当てはまる品目名と、グラフ2のbに当てはまる国名の組み合わせとして適当なものを、ア～エから1つ選び、その記号を書け。

- ア a: 生糸 b: アメリカ合衆国 イ a: 生糸 b: イギリス
 ウ a: 毛織物 b: アメリカ合衆国 エ a: 毛織物 b: イギリス

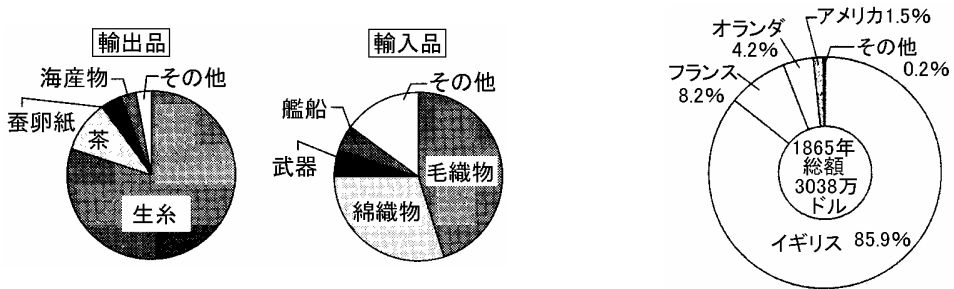
(2006年愛媛県)

[解答欄]

[解答]エ

[解説]

貿易が始まると、最大の貿易相手国はイギリスとなった(全体の8割以上)。日米修好通商条約の主役であるアメリカは当時南北戦争中だったので貿易に身が入らなかった。輸出額は輸入額を上回ったが、輸出品の8割以上を生糸が占め、茶・海産物などがこれについた。このように、輸出品のほとんどが原料・食料品だったのに対し、輸入品は毛織物・綿織物などの繊維製品や武器・艦船などの軍需品であった。最大の貿易港は横浜港であった。



[問題]

貿易総額が日本全体の大部分をしめていた横浜港では、(X)や茶などが、当時"世界の工場"といわれた(Y)を中心に外国に輸出されました。その後、江戸幕府にかわって成立した明治政府は、近代産業を育てるため殖産興業政策を進め、機械による(X)の生産を拡大させました。

ア : 生糸 Y: アメリカ イ : 毛織 Y: イギリス

ウ : 毛織物 Y: アメリカ エ : 生糸 Y: イギリス

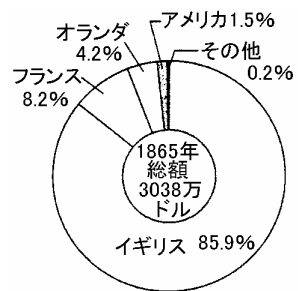
(2007 年埼玉県)

[解答欄]

[解答]エ

[問題]

右のグラフは、横浜港における、1865 年の貿易相手国を示したものである。アメリカの貿易額の割合が低いのは、この時期にアメリカ国内で起こった出来事の影響によるものであるが、その出来事とは何か、答えなさい。




(2003 年鳥取県)

[解答欄]

[解答]南北戦争

[問題]

図は、1865 年のわが国の主な輸出品の割合を示している。図中の は、後に群馬県の富岡につくられた官営模範工場などで生産されたものである。 に当てはまるのは[]のうちのどれか。[鉄鋼 銅 綿糸 生糸]



(2007 年栃木県)(2007 年三重県)

[解答欄]

[解答]生糸

[問題]

日米修好通商条約が結ばれた後、生糸や蚕卵紙が海外に輸出され福島県では、養蚕がさらにさかんになった。右の写真は蚕がえさを食べているようすである。えさとして栽培された作物は何か。書きなさい。



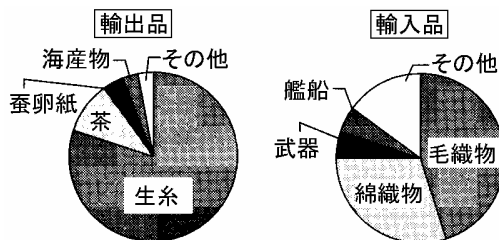
(2006 年福島県)

[解答欄]

[解答]桑

[問題]

グラフは、日米修好通商条約を結んだ後の、1865 年における日本の貿易額の品目別の割合を示している。グラフの輸出品目と輸入品目の違いから分かる、当時の日本の貿易の特徴を、簡単に書きなさい。




(2007 年静岡県)

[解答欄]

[解答]原料を輸出して製品を輸入していた。

[問題]

右の資料は、明治初期の横浜がにぎわっている様子である。当時、横浜がにぎわった理由を、資料を参考にして、簡潔に書きなさい。



(2007 年群馬県)

[解答欄]

[解答]港が開かれ多くの外国船が来航したから。

[問題]

外国との貿易が始まると、生糸が大量に()されて、品不足により国内の絹織物業は打撃を受けた。また、安価な綿織物が大量に()されて、国内の綿生産地や綿織物業も打撃を受けた。さらに、日常品の物価が上昇して国内の経済は大きく混乱した。

(2007 年京都府)

[解答欄]

--	--

[解答] 輸出 輸入

[解説]

貿易が始まると、日本の経済は大きな影響を受けた。かんぜいじしゅけん関税自主権がなかったために、イギリスの安価な機械製の綿織物が大量に輸入され、国内の綿織物業は成り立たなくなってしまった。また、最大の輸出品は生糸で、輸出額の 8 割以上を占めていたが、このために国内の生糸が品不足となり、各地の絹織物業が圧迫された。さらに、金と銀の交換比率が日本と外国で違っていたため、外国商人は日本に銀を持ち込み金貨を持ち出した。これに対して幕府は金貨の質を落としたが、それは国内の物価の急激な上昇をもたらし、国内経済は混乱した。

[問題]

日米修好通商条約により自由な貿易が始まった。この貿易が人々の生活にあたえた影響について正しいものを、次のア～エの中から 2 つ選び、記号を書きなさい。

- ア 生糸・茶が輸出され、値段が下がった。
- イ 生糸・茶が輸出され、値段が上がった。
- ウ 米の値段が上がり、生活が苦しくなった。
- エ 米の値段が下がり、生活が楽になった。

(2006 年長野県)

[解答欄]

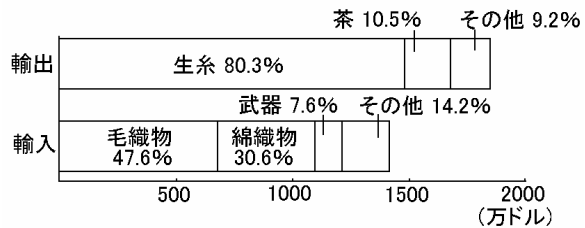
--

[解答]イ,ウ

[問題]

次のグラフを参考にして、日米修好通商条約締結後の貿易や、その影響について述べた文として最も適切なものを、下のア～エから1つ選んで記号で答えなさい。

輸出入総額と主要輸出入品の割合(1865年)



- ア 輸出総額が輸入総額を上回ったため、景気が良くなり武士や庶民の生活は楽になった。
- イ 最大の輸出品であった生糸は値上がりしたが、その他の物価は安定していた。
- ウ 毛織物が輸入されたことによって、毛織物の国内需要が伸びて主要な産業となった。
- エ 綿織物が輸入されたことによって、国内の綿織物生産地は打撃を受けた。

(2007年 島根県)

[解答欄]

[解答]エ

[問題]

1858年に日米修好通商条約が結ばれ、貿易が開始されたころの国内のようすを述べた文として最も適切なものを、次のア～エから選び、記号で答えなさい。

- ア 米などが配給となり、人々の生活は苦しくなった。
- イ 軽工業が発展し、産業革命がはじまった。
- ウ 経済が好景気にわき、重工業が発展した。
- エ 物価が急に高くなり、経済は大きく混乱した。

(2005年 山口県)

[解答欄]

[解答]エ

[問題]

1858年に日米修好通商条約が結ばれ、続いて、同じような条約が、オランダ、ロシア、イギリス、フランスとも結ばれ、貿易が始まった。貿易の影響として適切なものを、次の中から1つ選びなさい。

- ア オランダ船が長崎に入港し、中国産の生糸などをもたらした。
- イ キリスト教を禁止しなかったので、多くの宣教師が来日した。
- ウ 輸出の増加による品不足や米の買い占めなどにより、物価が上昇した。
- エ 多くの日本人が海外に移住し、東南アジア各地に日本町ができた。

(2006年青森県)

[解答欄]

[解答]ウ

【】幕末：尊王攘夷運動・倒幕運動

[問題]

幕末の混乱は、日本が諸外国と条約を結び貿易を開始すると、さらに大きくなった。貿易開始後の幕末の混乱のうち、政治的混乱、または、経済的混乱のいずれかについて、簡潔に書きなさい。

(2006年群馬県)

[解答欄]

[解答](政治的混乱)尊王攘夷運動がさかんになった。(経済的混乱)輸出の増加などによる品不足により物価が急激に上がった。

[解説]

開国による貿易の開始は、物価の急激な上昇をもたらし、国内経済は混乱した。このような中で、外国や幕府に対する反感が武士や民衆の間に高まり、外国人を打ち払えという攘夷論じょういが高まった。さらに、幕府が朝廷の反対を退けて開国したことから、攘夷論と、朝廷の権威を高めようとする尊王論そんのうとが結びつき、尊王攘夷運動そんのうじょういに発展していった。

1858年に幕府の大老井伊直弼たいりゅうい いなおすけは条約を結んだが、反対していた大名や武士を弾圧した。これを安政の大獄あんせいというが、これによって、長州藩の吉田松陰しゅういんや越前藩の橋本左内きさなは死刑に処せられた。しかしかえって反発は強まり、1860年江戸城桜田門外で、井伊直弼は水戸藩の浪人によって暗殺された。(桜田門外の変) 井伊直弼の死によって、尊王攘夷運動そんのうじょういろうんどうは勢いを得ていった。

[問題]

大老の井伊直弼が幕府に反対する武士などを弾圧した事件を何といいますか、書きなさい。

(2004年和歌山県)

[解答欄]

[解答]安政の大獄

[問題]

日米修好通商条約を結んだ後、大老の()は尊王攘夷をとなえる大名や公家、武士を処罰したが、かえって幕府に対する反感が強まり、江戸城の桜田門外で殺された。

[田沼意次 井伊直弼 松平定信 水野忠邦]

(補充問題)

[解答欄]

[解答]井伊直弼

[問題]

日米修好通商条約を結んだ後、幕府が開国に反対した大名や公家を処罰したため、急速に高まった運動を何というか、書きなさい。

(2009年青森県)

[解答欄]

[解答]尊皇攘夷運動

[問題]

長州藩は、幕府の攘夷の命令を受けて外国船を砲撃しました。しかし、イギリスなど4か国から報復攻撃を受け、下関砲台が占領されました。このあと、()。

()に入る文として適するものを、次のア～エから1つ選び、符号で答えなさい。

ア 不満を持つ山口県の士族たちが、西南戦争を引き起こしました。

イ 坂本竜馬のなかだちで薩摩藩と同盟を結び、倒幕をめざしました。

ウ 木戸孝允らが、幕府中心の強い国家をつくるために活躍しました。

エ 伊藤博文が専制政治を批判し、民権議院設立の建白書を提出しました。

(2006年宮崎県)

[解答欄]

[解答]イ

[解説]

1863年、幕府は、朝廷や大名の主張に動かされて、やむなく外国を排除する攘夷じやういの命令を全国に出した。これを受けて長州藩は1863年、下関を通る外国船に砲撃をくわえた。しかし、翌年、イギリス・フランス・アメリカ・オランダからなる4ヶ国の連合艦隊に攻撃され、下関砲台しもせきほうだいを占領された。薩摩藩も、1862年、イギリス商人を殺害する事件を起こしたため、翌1863年にイギリス艦隊に鹿児島を砲撃され、大きな損害を受けた(薩英戦争)。これらの事件によって、長州藩と薩摩藩は、外国の軍事力の強大さを思い知

年代	おもなできごと
1858年	日米修好通商条約
1859年	安政の大獄
1860年	桜田門外の変
1866年	薩長同盟が成立する
1867年	大政奉還
1867年	王政復古の大号令
1868年	戊辰戦争がおこる

り、攘夷が不可能であることを悟った。さらに、この強力な欧米列強の植民地になることをまめかれ、独立を保っていくためには、幕府を倒して強い統一国家を作るしかないという結論に達した。

1866年に、土佐藩出身の坂本竜馬りょうまらの仲立ちで、薩摩藩と長州藩は薩長同盟さつちやうどうめいを結び、薩摩藩の西郷隆盛さいごうたかもりと大久保利通おおくほとしみち、長州藩の木戸孝允きどたかよしと高杉晋作たかすぎしんさくを中心に、倒幕へとむかっていった。

[問題]

尊王攘夷論の影響を受けておきたできごとを、次から1つ選びなさい。

- ア 大塩平八郎が大阪で乱をおこした。
- イ 天草四郎と農民が島原・天草一揆をおこした。
- ウ シャクシャインらが蝦夷地で蜂起した。
- エ 長州藩が下関海峡を通る外国船を砲撃した。

(2006年青森県)

[解答欄]

[解答]エ

[問題]

右の資料は、江戸時代末期、欧米4か国の連合艦隊に占領された砲台のようすを示している。資料に示した砲台はどこにあったか、その場所を示す略地図中の記号を書きなさい。また、砲台を占領された藩の名称を次から1つ選びなさい。



[薩摩藩 長州藩]

(2008年三重県)

[解答欄]

<input type="text"/>	<input type="text"/>
----------------------	----------------------

[解答]X / 長州藩

[問題]

薩摩藩が攘夷をあきらめるにいたった、外国との間におこった出来事を書け。

(2003 年福井県)

[解答欄]

[解答]薩英戦争

[問題]

次の文は現在の高知市出身のある人物について述べたものである。その人物名を下から 1 つ選びなさい。また、文中の(X)にあてはまる語を書きなさい。

彼は、倒幕のためには(X)藩と薩摩藩とが手を結ぶ必要があると考え、(X)藩の木戸孝允や薩摩藩の西郷隆盛らに働きかけ、同盟の仲立ちをした。

[井伊直弼 大久保利通 岩倉具視 坂本龍(竜)馬]

(2006 年茨城県)

[解答欄]

<input type="text"/>	<input type="text"/>
----------------------	----------------------

[解答]坂本龍(竜)馬 / 長州

[問題]

討幕運動は、同盟を結んでいた、長州藩と「ある藩」とによって積極的にすすめられた。「ある藩」を次の中から選びなさい。

[松前藩 会津藩 水戸藩 薩摩藩]

(群馬県)

[解答欄]

[解答]薩摩藩

[問題]

次の三つのできごとを古い順に並べなさい。

- ア 大老の井伊直弼が桜田門外で暗殺された。
- イ 坂本竜馬のなかだちで薩摩藩と長州藩が同盟を結んだ。
- ウ 長州藩が外国から攻撃され、下関の砲台を占領された。

(2007 年神奈川県)

[解答欄]


[解答]ア ウ イ

[問題]

次のア～エのうち、右の資料のできごとが影響を与えたものとして、最も適切なものを選び、記号を書きなさい。

- ア 町人の生活をえがいた小説など、庶民中心の元禄文化が生まれた。
- イ 人々は、演劇や大衆雑誌などを楽しむようになった。
- ウ 商工業者や上層の農民も参加した自由民権運動が全国に広まった。
- エ 世直しを期待する声が高まり、倒幕運動がさかんになった。

ええじゃないか



(2007年富山県)

[解答欄]

[解答]エ

[解説]

1866年、幕府は、第二次長州征伐ちやうしやうせいはつを行ったが、各地で破れた。このころ、全国で世直しを期待して一揆が起り、1867年には、「ええじゃないか」といって人々が熱狂するさわぎが、各地で流行した。「ええじゃないか」と連呼・乱舞し、京坂一帯が無政府状態となる間に、倒幕運動が進展した。

1867年、薩摩藩と長州藩が武力で幕府を倒す計画を進めているとき、15代将軍の徳川慶喜よしのぶは、政権を天皇に返すことを申し出た。これを大政奉還たいせいほうかんという。慶喜は、天皇のもとに大名の会議を作り、自分は議長として政治の実権を持ち続けようと考えていた。これに対し、朝廷は王政復古おうせいふくこの号令だいにうれいを發表して新政府の成立を宣言し、幕府の領地を取り上げ、天皇が直接政治を行うことを決めた。これを不満とした旧幕府軍は、1868年1月、新政府と戦争を起こしたが、鳥羽・伏見の戦いで敗れた。新政府は、軍を東にすすめ、江戸城を明け渡させた。ついで、会津若松あいづわかまつなど東北地方で戦い、最後に北海道函館はこだて ぐりようかくの五稜郭にたてこもった幕府軍を打ち破った。鳥羽・伏見から函館にいたるこの戦いを戊辰戦争ぼしんという。

[問題]

幕末に、右の資料に示すような「奇妙な大衆行動」が起こった。この大衆行動は何とよばれたか。その名称を書け。

(2006 年奈良県)

[解答欄]

[解答]ええじゃないか

一八六七年の八月ごろから名古屋あたりに、伊勢神宮のお札が天から降つてきたとのうわさがきつかけで、人々の間に奇妙なうたと乱舞が起こった。やがて奈良や三輪にも、この奇妙な大衆行動の風が及んできた。

[問題]

將軍徳川慶喜が政権を朝廷に返したできごとの名称を書きなさい。

(2006 年青森県)

[解答欄]

[解答]大政奉還

[問題]

大政奉還を行った 15 代將軍は誰か。次から選びなさい。

[徳川吉宗 徳川綱吉 徳川慶喜 徳川家光]

(2008 年鳥取県)

[解答欄]

[解答]徳川慶喜

[問題]

徳川慶喜が行った大政奉還とは何か。「朝廷」と「政権」の二つの語句を使って、簡潔に書け。

(2007 年高知県)(2007 年鹿児島県)

[解答欄]

[解答]朝廷に政権を返すこと

[問題]

1867年、大政奉還が行われ、()の重大令(宣言)が出された。

(2004年新潟県)

[解答欄]

[解答]王政復古

[問題]

倒幕までのできごとを年代順に並べたが、2つが入れかわってしまった。正しくするにはどれとどれを入れかえるとよいか。次のア～エから2つ選んで記号で書け。

ア 長州藩が下関海峡を通る外国船を砲撃 イ 薩摩藩と長州藩が同盟 ウ 王政復古の重大令
エ 大政奉還

(2007年福井県)

[解答欄]

[解答]ウとエ

[問題]

王政復古の重大令の後、約1年半にわたって新政府軍と旧幕府軍との間で戦争が続くが、この戦争を何というか、答えなさい。

(2005年島根県)

[解答欄]

[解答]戊辰戦争

[印刷 / 他の PDF ファイルについて]

このファイルは、FdData 入試社会(15,000 円)の一部を PDF 形式に変換したサンプルで、印刷はできないようになっています。製品版の FdData 入試社会は Word(または一太郎)の文書ファイルで、印刷・編集を自由に行うことができます。

FdData 入試社会・入試理科全分野の PDF ファイル、FdData 中間期末(社会・理科・数学)全分野の PDF ファイル、および製品版の購入方法は<http://www.fdtype.com/dan/> に掲載しております。

下図のような、[FdData 無料閲覧ソフト(RunFdData)]を、Windows のデスクトップ上にインストールすれば、FdData 中間期末・FdData 入試の全 PDF ファイル(各教科約 1500 ページ)を自由に閲覧できます。次のリンクを左クリックするとインストールが開始されます。

RunFdData(Word 版) 【 <http://www.fdtype.com/lnk/instRunFdDataWDs.exe> 】

RunFdData(一太郎版) 【 <http://www.fdtype.com/lnk/instRunFdDataTAs.exe> 】

ダイアログが表示されたら、【実行】ボタンを左クリックしてください。インストール中、いくつかの警告が出ますが、[実行][許可する][次へ]等を選択します。

【イメージ画像】



【Fd 教材開発 : URL <http://www.fdtype.com/dan/> Tel (092) 404-2266】