

【FdData 高校入試：中学社会歴史：世界 2】

[\[市民革命／産業革命と 19 世紀の欧米／ヨーロッパのアジア侵略／FdData 入試製品版のご案内\]](#)

[\[FdData 入試ホームページ\]](#)掲載の pdf ファイル(サンプル)一覧]

※次のリンクは[Shift]キーをおしながら左クリックすると、新規ウィンドウが開きます

社会： [\[社会地理\]](#), [\[社会歴史\]](#), [\[社会公民\]](#)

理科： [\[理科 1 年\]](#), [\[理科 2 年\]](#), [\[理科 3 年\]](#)

数学： [\[数学 1 年\]](#), [\[数学 2 年\]](#), [\[数学 3 年\]](#)

※全内容を掲載しておりますが、印刷はできないように設定しております

【】 市民革命

[ピューリタン革命]

[問題]

次の各問いに答えよ。

(1) 17 世紀半ばのイギリスで、国王と、その専制に反対する議会との間で内戦が起こった。

議会側が勝利し、国王を処刑して共和制を始めた。この革命を何というか。

(2) (1)を指導し、のちに独裁者ようになった人物は誰か。

(補充問題)

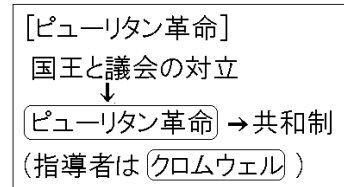
[解答欄]

(1)	(2)
-----	-----

[解答](1) ピューリタン革命 (2) クロムウェル

[解説]

イギリスの政治の中心は国王と議会であったが、17 世紀半ばの国王は議会を無視した政治を続けたため、こうした専制に反対する議会との間で対立がおこり、1640 年にピューリタン革命がおこった。1649 年に国王が処刑され共和制がひかれた。しかし、政権をにぎったクロムウェルの独裁政治は人々の不満をまねき、その死後、王政が復活した。



[名誉革命]

[問題]

1688年にある国の議会在国王を交代させて、その翌年に議会と国王の権限の確認を行うことで議会政治の基礎が固まった。無血で行われたこのできごとを何というか。次の[]の中から1つ選べ。

[名誉革命 フランス革命 辛亥革命 ロシア革命]

(福島県)

[解答欄]

[解答]名誉革命

[解説]

イギリスでは、1688年に^{めいよかくめい}名誉革命が起^{つひほう}こり、国王を追放した議会は新しい国王をオランダから迎えた。(名誉革命^{いちろ}一路はや(1688)) (国王を処刑することなく新しい国王を選び、革命が成功したことから、「名誉」革命と呼ばれている。)

このときに出された^{けんりしやうてん}権利章典は、「第1条 議会の同意なしに、国王の権限によって法律とその^{こうりよく}効力を停止することは違法である。」「第4条 国王大権と称して、議会の承認なく、国王の使用のために税金を課すことは、違法である。」と国王の権力を制限する形で議会の権利を確認したもので、一種の憲法として、現在でもイギリスで受けつがれている。こうして^{ぎかいせいじ}議会政治の基礎ができあがり、「国王は^{くんにん}君臨すれども^{とうち}統治せず」という^{りっけんくんしゆせい}立憲君主制が確立した。

[名誉革命]

1688年に[名誉革命]

↓

[権利章典]

「[国王]は[議会]の承認なしに法律を停止することはできない」

[問題]

次の文中の()に入るものとして最も適当なものを下のア～エから選べ。

17世紀末にイギリスで名誉革命が起こり、()。

- ア 自由や平等をうたう人権宣言が発表された
- イ 王政が否定され議会だけによる共和政治が実現した
- ウ 権利の章典(権利章典)が制定され、議会政治が確立した
- エ 社会権を保障した憲法が制定された

(京都府)

[解答欄]

[解答]ウ

[問題]

次の各問いに答えよ。

(1) 1688年に名誉革命がおきた国を、次の[]の中から1つ選べ。

[アメリカ スペイン イギリス ドイツ]

(2) (1)の革命に関連して、その翌年に出された、議会と国王との関係を定めたものを何というか。

(茨城県)

[解答欄]

(1)	(2)
-----	-----

[解答](1) イギリス (2) 権利章典

[問題]

次の資料は、1689年にイギリスで制定された法律の一部である。この法律を、下の[]の中から1つ選べ。

(資料)

第1条 議会の同意なしに、国王の権限によって法律とその効力を停止することは違法である。

第5条 国王に請願することは臣民の権利であり、この請願を理由に監禁したり裁判にかけたりすることは違法である。

[世界人権宣言 権利章典 ワイマール憲法 マグナ・カルタ]

(青森県)

[解答欄]

--

[解答]権利章典

[問題]

17世紀後半のイギリスのできごととして最も適当なものを、ア～エから1つ選び、符号を書け。

ア 産業革命が起こり、工場で安い綿布が大量につくられるようになった。

イ 国王の専制政治に反対して2度の革命が起こり、議会が政治の中心となった。

ウ 労働災害や貧富の差をめぐる社会問題が生じ、社会主義の思想が芽ばえた。

エ 男女平等の選挙権が実現し、労働者の権利も認められるようになった。

(大分県)

[解答欄]

[解答]イ

[アメリカ合衆国の独立]

[問題]

それまでイギリスの植民地だったアメリカは、独立を求めて 1775 年に戦いを始めた。

①これを何というか。②また、戦いに勝った後、1776 年に出された宣言は何か。

(補充問題)

[解答欄]


①	②
---	---

[解答]① 独立戦争 ② 独立宣言

[解説]

北アメリカには 17 世紀初めころからイギリス人が渡って

きて、18 世紀中頃には 13 の植民地を作った。イギリスは、フランスとの戦争の費用が財政を圧迫したために、新税を植民地にかけたが、植民地側は「代表なくして課税なし」と唱えて反対運動を始めた(植民地の人々が本国の議会で代表を送ることは認め



ワシントン

[アメリカの独立]

イギリスの植民地だった

↓
1775年 独立戦争

1776年 独立宣言 合衆国憲法

13州→現在は50州

初代大統領はワシントン

られていなかった)。

イギリスがこれを弾圧したために、植民地の人々は、ボストン茶会事件をきっかけに 1775 年にワシントンを総司令官として独立戦争をおこした。

1776 年には、「我々は以下のことを自明の真理であると信じる。人間はみな平等に創られ、ゆずりわたすことのできない権利を神によってあたえられていること、その中には、生命、自由、幸福の追求がふくまれていること、である。」という独立宣言を出した。(ひとつ名なろう(1776)と独立宣言)

アメリカはフランスなどの支援を受けて独立戦争に勝ち、人民主権、連邦制、三権分立を柱とする合衆国憲法を定め、初代大統領に独立戦争の司令官だったワシントンを選んだ。こう

して世界初の大統領制が生まれたが、独立直後のアメリカは、まだ奴隷制が続いており、大陸東部の 13 州だけを領土とする国であった。(最初のアメリカの国旗(右図)は、星も紅白のしまも、13 の州を表していた。)



[問題]

次の文中の①に当てはまる国名と、②に当てはまる数字を、それぞれ書け。

北アメリカで、植民地をつくって自治を行っていた人々は、(①)との間で、独立戦争を起し、勝利した。この結果、(②)の州からなるアメリカ合衆国が誕生した。

(新潟県)

[解答欄]

①	②
---	---

[解答]① イギリス ② 13

[問題]

アメリカ独立戦争のときに、独立軍の総司令官として活躍した人物は次のうちの誰か、選べ。

[ウィルソン リンカーン ワシントン ルーズベルト]

(栃木県)

[解答欄]

--

[解答]ワシントン

[問題]

次はアメリカ独立宣言の一部である。Xに入る適語を答えよ。

「われわれは、自明の真理として、すべての人は平等に造られ、造物主によって、一定の奪いがたい天賦の権利を付与されそのなかに生命、(X)および幸福の追求の含まれることを信ずる。

(島根県)

[解答欄]

--

[解答]自由

[問題]

イギリスの課税に抗議して植民地の人々が立ち上がり、独立戦争に勝利した人々は、(世界人権宣言／憲法)を制定した。文中の()内より適語を選べ。

(愛知県)

[解答欄]

--

[解答]憲法

[フランスの絶対王政]

[問題]

次の各問いに答えよ。

- (1) 17世紀後半からのフランスでは、国王が政治権力のすべてをにぎり、議会を開かずに国を治めていた。このような政治を何というか。
- (2) フランスで(1)が最も栄えたときの国王は誰か。
- (3) (2)がパリ郊外に建てた宮殿を何というか。

(補充問題)

[解答欄]

(1)	(2)	(3)
-----	-----	-----

[解答](1) 絶対王政 (2) ルイ 14 世 (3) ベルサイユ宮殿

[解説]

17世紀後半からのフランスでは、国王が政治権力のすべてをにぎり、議会を開かずに国を治めていた。このような政治をぜったいおうせい絶対王政という。絶対王制を正当化した考え方は「国王の権限は神から与えられたもので、国民はこれに従わなければな

らない」というおうけんしんじゆせつ王権神授説であった。フランスの絶対王制のさいせいき最盛期は、ルイ 14 世のときである。ルイ 14 世はパリのこうがい郊外に、広大で美しいきゆうでんベルサイユ宮殿を建てた。

[フランスの絶対王制] ルイ14世のときが最盛期 王権神授説, ベルサイユ宮殿

[革命前のフランス]

[問題]

右の資料は、フランス革命がおこる前の社会状況を風刺した絵である。この絵が風刺している内容を、ア～エから1つ選べ。

- ア 国王と聖職者が、絶対王政のもとで貴族を弾圧している。
- イ 聖職者と貴族が、平民に重税を課してぜいたくな暮らしをしている。
- ウ 聖職者と平民が、権力を持つ横暴な貴族を打倒しようとしている。
- エ 貴族と軍隊が、植民地の人々に様々な税金をかけている。



(大分県)

[解答欄]

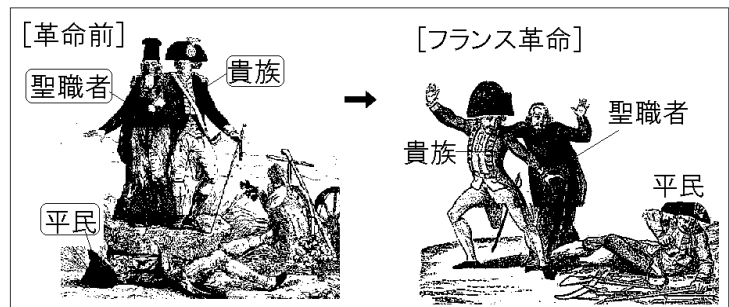
[解答]イ

[解説]

フランス革命前のフランスでは、身分による^{ひんが}貧富の差は大きく、第一身分(聖職者(僧))と第二身分(貴族)は^{せいしよくしゃ そふ}免税の特権を持ち、人口の90%をしめる第三身分(平民)だけが^{きぞく めんぜい}重い税に苦しめられていた。

右の図の「革命前」では、平民が

重い石(重税)の下で苦しんでいるようすが描かれている。「フランス革命」の図は、平民が立ち上がろうとしており、聖職者と貴族がこれに驚いているようすが描かれている。



[問題]

右の資料は、フランス革命の原因となった社会の様子を風刺したもので、平民の上にある石は、税を表している。資料からわかる、当時のフランス社会の様子について、簡潔に書け。

(群馬県)

[解答欄]

[解答]平民が重い税に苦しめられている。



[フランス革命]

[問題]

18世紀後半、松平定信による幕政の改革が行われたころ、ヨーロッパの()では革命がおこり、人間はすべて自由と平等の権利をもち、主権は国民にあるとした人権宣言が出された。文中の()内に入れる適語を答えよ。

(三重県)

[解答欄]

[解答]フランス

[解説]

1789年、バスチーユ牢獄襲撃事件をきっかけに、フランス革命が起こった。(非難は急(1789)だフランス革命)

「人は生まれながらに自由で平等な権利を持つ。」(第1条)、「主権のみなもとは、もともと国民の中にある。」(第3条)はこのときに出された人権宣言である。

革命の影響が及ぶのをおそれたまわりの国々がフランスに攻めこんだが、革命政府は、農民や市民から兵をつのって防戦するとともに、王政を廃止して共和国となることを宣言し、国王ルイ16世を処刑した。こうした中で軍人のナポレオンが政権をにぎり、1804年にフランス皇帝になり、一時はヨーロッパのほとんどを征服した。ナポレオンは、法のもとの平等、経済活動の自由、家族の尊重を定めるナポレオン法典という民法典を制定した。

[フランス革命]

1789年 フランス革命 ←バスチーユ牢獄襲撃

人権宣言

「人は生まれながらに自由で平等な権利を持つ。」

1804年 ナポレオンが皇帝になる

[問題]

次の資料の発表につながるできごとを、下の[]の中から1つ選べ。

(資料) 人権宣言(一部要約)

第1条 人間は、生まれながらにして、自由で平等な権利をもっている。

第3条 すべての主権の源は、本来国民の中にある。

[アヘン戦争 フランス革命 名誉革命 南北戦争]

(茨城県)

[解答欄]

[解答]フランス革命

[問題]

フランス革命において、市民が自由で平等な社会をつくるという原理を示した宣言が出された。この宣言を何というか。

(高知県)

[解答欄]

[解答]人権宣言

[問題]

次の文中の A, B に当てはまる語を書け。

(フランス人権宣言)

第1条 人間は、生まれながらにして、(A)で(B)な権利をもっている。

(アメリカ独立宣言)

我々は以下のことを自明の真理であると信じる。人間はみな(B)に創られゆずりわたすことのできない権利を神によって与えられていること、その中には、生命、(A), 幸福の追求が含まれていること、である。

(群馬県)

[解答欄]

A	B
---	---

[解答]A 自由 B 平等

[問題]

フランスで権力を握り、後に皇帝の位につき、フランス革命の精神である自由や平等を広めた人物名を書け。

(兵庫県)

[解答欄]

[解答]ナポレオン

[市民革命全般]

[問題]

フランス革命など、新興の商工業者が中心となって、新しい社会をつくろうとした動きを一般に何革命というか。

(京都府)

[解答欄]

--

[解答]市民革命

[問題]

次の①～③にあてはまるできごとを下の[]のうちからそれぞれ1つ選べ。

1642～49年 ピューリタン革命, 国王の処刑

1688～89年 (①), 権利の章典

1775～76年 (②), 独立宣言

1789年 (③), 人権宣言

[フランス革命 名誉革命 アメリカ独立戦争]

(沖縄県)

[解答欄]

①	②	③
---	---	---

[解答]① 名誉革命 ② アメリカ独立戦争 ③ フランス革命

[問題]

次のA～Cは、17世紀から19世紀にかけて、欧米で起こったできごとを示したものである。A～Cを書かれた内容の古いものから順に並べると、どのようになるか、その記号を書け。

A ナポレオンが、皇帝の位につき、ヨーロッパを支配した。

B ワシントンが、独立戦争を指導し、初代大統領に就任した。

C クロムウェルが、ピューリタン革命を指導し、政権をにぎった。

(三重県改)

[解答欄]

--

[解答]C→B→A

【】産業革命と19世紀の欧米

[産業革命]

[問題]

18世紀後半になると、イギリスで大量生産を行うための技術の改良や機械の発明が次々となされた。石炭を燃料とする蒸気機関が、新しい動力として使われるようになり、綿織物は工場で大量に生産されるようになった。さらに、製鉄、造船、鉄道などの産業も急速に発達し始めた。このような、工場での機械生産などの技術の向上による、社会と人々の生活の変化を何というか。

(千葉県)

[解答欄]

[解答]産業革命

[解説]

18世紀後半のイギリスでは、インドの良質の綿布に対抗するために、紡績機^{ぼうせきき}や織機^{おり}があいついで発明、改良され、綿織物業^{めんおりものぎょう}から産業革命^{さんぎょうかくめい}が始まった。また、ワット^{ワット}によって蒸気機関^{じょうききかん}が改良され、動力に用いられるようになると、工場制手工業^{くわじょうせいこうぎょう}にかわり、工場制機械工業^{くわじょうせいきかきこうぎょう}がおこってきた。さらに、蒸気機関車による鉄道が広まり、製鉄、機械、車両、造船、武器などの産業も発達し、人々の生活は大きく変わった。19世紀にイギリスは、その繁栄^{はんえい}ぶりから「世界の工場」と呼ばれた。

[産業革命]

18世紀に、イギリスで産業革命
綿織物業から始まる、蒸気機関の改良
(ワット)
↓
世界の工場

[問題]

最初に産業革命がおこったヨーロッパの国はどこか。その国名を書け。

(静岡県)

[解答欄]

[解答]イギリス

[問題]

イギリスのワットが18世紀に改良したことで実用化が進んだ動力は何か。


(滋賀県)

[解答欄]

[解答]蒸気機関

[問題]

1851年のロンドン万国博覧会にはのべ600万人の入場者があったといわれている。これだけの人数を動員できた理由の1つに、19世紀前半に改良され実用化された交通機関の発達があげられる。この交通機関は何か。ア～エのうちから最も適当なものを1つ選び、その符号を書け。



(千葉県)

[解答欄]

[解答]ウ

[解説]

ワットが蒸気機関を改良したのち、スチーブンソンはさらに蒸気機関車を作り、公共の鉄道による輸送が始まった。

[問題]

産業革命期のイギリスでは、紡績機や織物を織る機械の発明や改良がさかんに行われた。これは、当時イギリスにどの国から輸入されていた、どのような織物に対抗するためであったか。国名と織物の種類を[]からそれぞれ1つずつ選べ。

国名[アメリカ インド 中国], 織物の種類[絹織物 毛織物 綿織物]

(山口県)

[解答欄]

国名：	織物の種類：
-----	--------

[解答]国名：インド 織物の種類：綿織物

[問題]

インドからヨーロッパへの輸出品であったものが、ヨーロッパからの輸入品に変わった。それは何か。次から選べ。

[香料 銀 茶 綿製品]

(山梨県)

[解答欄]

[解答]綿製品

[問題]

インドでさかんに行われていた綿織物業は、19世紀にイギリスから安価な綿織物が流入すると、大きな打撃を受け衰退した。この当時のイギリスが、インドに比べて安価な綿織物を作ることができたのはなぜか。

(石川県)

[解答欄]

[解答]産業革命により、綿織物を大量につくることができたから。

[問題]

19世紀のイギリスに関する記述として適当でないものを、次のア～エから1つ選んで、その記号を書け。

ア 首都のロンドンで、世界で初めての万国博覧会が開催された。

イ 蒸気機関車が走るようになり、鉄道網が広がった。

ウ 絹織物の生産が急増し、世界に輸出されるようになった。

エ 製鉄、機械、造船などの産業が発達し、「世界の工場」と呼ばれるようになった。

(福井県)

[解答欄]

[解答]ウ

[解説]

ウが誤り。「絹織物」ではなく「綿織物」である。

[問題]

イギリスでは産業革命が進み、工場などを持つ者が、多くの労働者を賃金で雇い、自由に生産し大きな利益をあげていた。このような経済のしくみを何というか。

(滋賀県)

[解答欄]

[解答]資本主義

【解説】

産業革命によってできあがった新しい社会は、利益をめざす競争社会であり、生産のもとでなる資本をもつ者が、労働者を雇って生産するしくみが広がった。このような経済のしくみを資本主義という。

【アメリカの南北戦争】

【問題】

イギリスから独立したアメリカでは、自由貿易や奴隷制をめぐり、1861年に内戦が起こった。この内戦を何というか。

(補充問題)

【解答欄】

【解答】南北戦争

【解説】

アメリカでは、自由貿易や奴隷制^{どれいせい}をめぐって北部と南部が対立していた。早くから工業が発達していた北部は、その保護のため、輸入品に高い関税をかけることを求めた。また、工場労働者を確保する必要もあって、黒人奴隷の解放をとらえた。

これに対し、南部は、綿花などの農産物の輸出をさかんにするために、輸入品の関税を高くすることに反対した。また、南部では綿花^{めんか}の栽培が行われていたが、綿つみのためにアフリカから連れてこられた黒人を奴隷として使っていたので、奴隷制を守ろうとした。北部出身のリンカンが大統領に当選すると、南部は合衆国からの分離を宣言し、1861年、南北戦争^{なんぼくせんそう}が起こった。戦争中、北部側の大統領リンカンは、奴隷解放宣言^{どれいかいほうせんげん}を出した。リンカンはゲティスバーグにおける演説で、「人民の、人民による、人民のための政治」

(Government of the people, by the people, for the people)を訴えた。この内戦は北部側の勝利に終わった。

【アメリカの南北戦争】

1861年 南北戦争

リンカンの奴隷解放宣言

「人民の、人民による、人民のための政治」

【問題】

右の絵は、1863年にアメリカの大統領が、ゲティスバーグで民主政治について演説している様子をえがいたものである。この演説で、「人民の、人民による、人民のための政治」をうたった大統領の名を書け。

(北海道)



[解答欄]

--

[解答]リンカン

[問題]

南北戦争について、次の各問いに答えよ。

- (1) このころの南部の州では、黒人奴隷を使う大農場で、綿花などの栽培を盛んに行っていた。このような大農場を何というか。
- (2) 北部の州の支援を受けて、アメリカ合衆国第 16 代大統領となった人物は誰か。

(新潟県)

[解答欄]

(1)	(2)
-----	-----

[解答]① プランテーション ② リンカン

【】 ヨーロッパのアジア侵略

[イギリスの三角貿易]

[問題]

右の資料は、19世紀にイギリス、インド、中国(清)で行われた三角貿易の様子を表している。資料中のA～Cにあてはまる国名を次の[]からそれぞれ選べ。

[インド 中国(清) イギリス]

(青森県)

[解答欄]

A	B	C
---	---	---

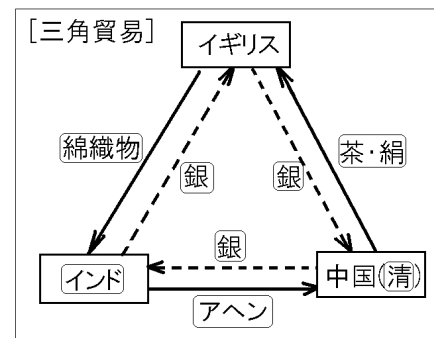
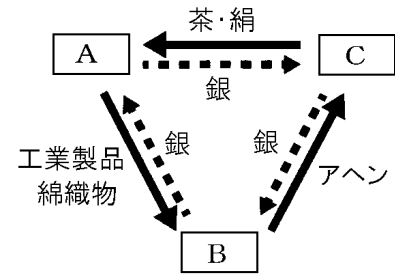
[解答]A イギリス B インド C 中国(清)

[解説]

イギリスは、18世紀ごろから中国(清)とも貿易を行っていた。中国から大量の茶や絹を輸入し、中国へは綿織物などの工業製品を輸出した。しかし、綿織物などが思うように売れなかったため、貿易は大幅な赤字で、差額を銀で支払っていた。

19世紀にはいり、イギリスは、中国へ支払う銀が不足してきたため、綿織物などの工業製品をインドへ売り込み、

インドで作らせたアヘンを中国に密輸で売り込み、逆に利益をあげるようになった(三角貿易)。(この関係を銀の流れに注目して説明すると、上図のように、中国からインドにアヘンの対価として銀が支払われ、インドからイギリスへは綿織物等の対価として銀が支払われ、イギリスから中国へは茶・絹の対価として銀が支払われた。)



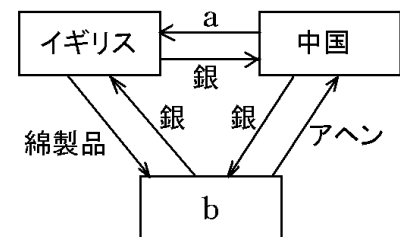
[問題]

右の資料は、アヘン戦争の背景になった貿易を示した図である。図中の主な貿易品目 a と国名 b の正しい組合せを、次のア～エから1つ選べ。

- ア a-紅茶, b-インド
- イ a-毛織物, b-インド
- ウ a-紅茶, b-タイ
- エ a-毛織物, b-タイ

(滋賀県)

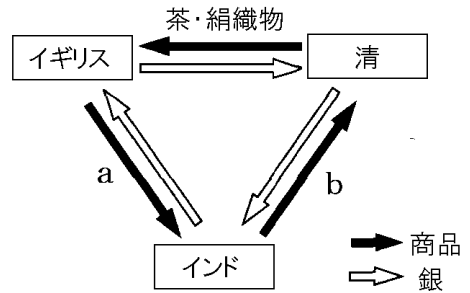
[解答欄]



[解答]ア

[問題]

産業革命が進展したイギリスは、機械で大量に生産した商品を各地に輸出し、「世界の工場」と呼ばれるようになった。右図は 19 世紀前半のイギリス、インド、清の貿易関係の一部を示したものである。(イギリスは商品 a をインドに輸出し、代金として銀を受け取り、清から輸入した茶・綿織物の代金として銀を支払っていることを示している。)



図の a, b にあてはまる商品を次の[]からそれぞれ選べ。

[綿織物 アヘン 陶磁器 綿花]

(長崎県)

[解答欄]

a	b
---	---

[解答]a 綿織物 b アヘン

[問題]

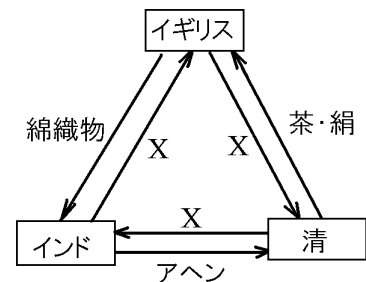
右図は、19 世紀のイギリス、インド、清における貿易の関係を示したものであり、矢印は取り引きされたものの流れを表している。X に共通して当てはまる語句を、漢字 1 字で書け。

(北海道)

[解答欄]

--

[解答]銀



[問題]

アヘン戦争は、中国(清)が、イギリスによるアヘンの密輸を厳しく取りしまったことを機におきた。右の資料は、アヘンをイギリスの植民地の工場で生産しているようすを描いたものである。この植民地名を書け。

(青森県)

[解答欄]

--



[解答]インド

[アヘン戦争]

[問題]

1840年に始まったイギリスと清との戦争の名称を書け。

(長崎県)

[解答欄]

[解答]アヘン戦争

[解説]

イギリスはインドで作らせたアヘンを清に密輸で売り込む三角貿易を行った。アヘン患者が増加し、貿易赤字が大きくなった清はアヘンの輸入を禁止した。これに対し、1840年イギリスは艦隊を送って清を屈服させた。これをアヘン戦争という。(一発清を(1840)おどろかし)

[アヘン戦争]

1840年 イギリスが清を破る

1842年 南京条約

香港を譲り受ける

領事裁判権，関税自主権なし

1842年に南京条約が結ばれて、イギリスは清から香港を譲り受け、賠償金を支払わせた。翌年には、清の関税自主権(輸入品の関税率を定める権利)を認めず、イギリスが領事裁判権(イギリス人が罪を犯しても清は裁判をする権利がない)をもつ不平等条約を結んだ。



[問題]

右の絵は、1840年に中国(清)で起こった戦争のようすをえがいたものである。次の文章中の①，②にあてはまることばを書け。ただし，②には国名を書け。



清による(①)の取りしまりに対して、(②)は艦隊を派遣し、複数の港を占領するなどして清を降伏させた。この(①)戦争の結果、清には不平等条約がおしつけられた。

(岡山県)

[解答欄]


①	②
---	---

[解答]① アヘン ② イギリス

[問題]

次の文中の①，②に当てはまる国名を下の[]から選べ。③は適語を記入せよ。

幕府が開国の要求に応じた背景には、アヘン戦争の影響があったといわれる。右図は、アヘン戦争の絵である。炎上している帆船が(①)の船で、右奥の蒸気船は(②)の船である。この戦争では(①)が敗れた。(②)では、すでに18世紀後半から世界に先駆けて(③)が始まっており、19世紀には「世界の工場」とよばれていた。



[インド 清 イギリス アメリカ]

(静岡県)

[解答欄]

①	②	③
---	---	---

[解答]① 清 ② イギリス ③ 産業革命

[問題]

イギリスは、インド産アヘンを中国に密輸で売りこみ、銀を手に入れた。清が密輸の取りしまりを強めたので、イギリスは、蒸気船の軍艦を送って、1840年にアヘン戦争を起こして清を破り、その後、()条約を結んで上海など5港を開かせた。文中の()内に入れる適語を答えよ。

(岩手県)

[解答欄]

[解答]南京

[問題]

アヘン戦争の結果、中国(清)が失ったのはどこか。地名を書け。

(福井県)

[解答欄]

[解答]香港

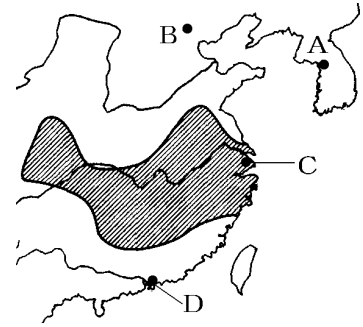
[問題]

アヘン戦争により清は開港し、香港をゆずった。香港の位置を略地図中の A~D から 1 つ選んで、その符号を書け。

(兵庫県)

[解答欄]

[解答]D



[問題]

アヘン戦争について述べたものを、次のア~エから 1 つ選び、その記号を書け。

- ア イギリスが清に対して戦争を起こし、イギリスが勝利した戦争である。
- イ アメリカ合衆国の南部と北部との間に起こった戦争である。
- ウ オーストリア皇太子夫妻の暗殺事件をきっかけに始まった戦争である。
- エ 日本と清との間で、朝鮮の支配をめぐる始まった戦争である。

(高知県)

[解答欄]

[解答]ア

[解説]

イは 1861 年の南北戦争。ウは第一次世界大戦のきっかけとなった 1914 年のサラエボ事件。エは 1894 年の日清戦争。

[問題]

アヘン戦争後の重税や社会不安によって、清国では、土地を平等に分配することなどを主張した反乱がおこった。この反乱を何というか。

(兵庫県)

[解答欄]

[解答]太平天国の乱

[解説]

アヘン戦争後、賠償金支払いなどのために清は農民に重税を課したので、洪秀全を指導者とする太平天国の乱がおこり、反乱軍は太平天国という国を建てた。清は 14 年がかりでこの反乱を抑えた。

1851年	太平天国の乱
	洪秀全

[問題]

江戸時代の末期の 1837 年，大塩平八郎の乱が起こったが，このころと最も近い時期の世界のできごとを，下のア～エの中から 1 つ選んで，その記号を書け。

ア フランスで革命がおこり，新たにできた議会は人権宣言を発表した。

イ バルカン半島をめぐる問題をきっかけに，第一次世界大戦がはじまった。

ウ ロシアで革命がおこり，社会主義を唱える世界最初の政府が生まれた。

エ 貿易をめぐるアヘン戦争がおこり，イギリスは中国を屈服させた。

(茨城県)

[解答欄]

[解答]エ

[解説]

大塩の乱(1837 年)と同時期の 1840 年からイギリスと清の間でアヘン戦争がおこった。このニュースは日本にも伝わり，大きな衝撃を与え，天保の改革(1841 年～)を行った水野忠邦は外国船打払令を緩和した。

[インドの植民地化]

[問題]

1857 年，イギリスの東インド会社に雇われていたインド兵が反乱をおこし，農民なども加わって反乱は全国に広がった。これを()という。これを鎮圧したイギリスはインド皇帝を退位させ，インドをイギリスの領土とした。文中の X に適語を入れよ。

(補充問題)

[解答欄]

[解答]インド大反乱

[解説]

イギリスの東インド会社にやとわれていたインド兵が反乱をおこし，農民なども加わって反乱は全国に広がった。

これをインド大反乱だいはんらんという。これを鎮圧ちんあつしたイギリスは

インド皇帝を退位させ，インドをイギリスの領土とした。(いやご難(1857)のインド大反乱)

[インド大反乱] 1857年 ↓ イギリスがムガル帝国を滅ぼす

[問題]

右の図は、ある強国がアジア・アフリカなどへ進出したようすを示している。黒くぬった地域を支配していた国はどこか、次から選べ。



[イギリス フランス アメリカ ドイツ]

(沖縄県)

[解答欄]

[解答]イギリス

[問題]

欧米列強は、資源や市場を求めて 19 世紀末からアジアやアフリカへの経済進出を強め、軍事力によってこれらを植民地としていった。この時代のこのような動きを、歴史上、()主義とよんでいる。文中の()内に入れる適語を答えよ。

(愛知県)

[解答欄]

[解答]帝国

【FdData 入試版のご案内】

詳細は、[\[FdData 入試ホームページ\]](#)に掲載 ([Shift]+左クリック→新規ウィンドウ)

姉妹品：[\[FdData 中間期末ホームページ\]](#) ([Shift]+左クリック→新規ウィンドウ)

◆印刷・編集

この PDF ファイルは、FdData 入試を PDF 形式に変換したサンプルで、印刷はできないように設定しております。製品版の FdData 入試は Windows パソコン用のマイクロソフト Word(Office)の文書ファイルで、印刷・編集を自由に行うことができます。

◆FdData 入試の特徴

FdData 入試は、公立高校入試問題の全傾向を網羅することを基本方針に編集したワープロデータ(Word 文書)です。入試理科・入試社会ともに、過去に出題された公立高校入試の問題をいったんばらばらに分解して、細かい單元ごとに再編集して作成しております。

◆サンプル版と製品版の違い

ホームページ上に掲載しておりますサンプルは、製品の Word 文書を PDF ファイルに変換したもので印刷や編集はできませんが、製品の全内容を掲載しており、どなたでも自由に閲覧できます。問題を「目で解く」だけでもある程度の効果をあげることができます。

しかし、FdData 入試がその本来の力を発揮するのは印刷や編集ができる製品版においてです。また、製品版は、すぐ印刷して使える「問題解答分離形式」、編集に適した「問題解答一体形式」、暗記分野で効果を発揮する「一問一答形式」の 3 形式を含んでいますので、目的に応じて活用することができます。

※[FdData 入試の特徴\(QandA 方式\)](#) ([Shift]+左クリック→新規ウィンドウ)

◆FdData 入試製品版(Word 版)の価格(消費税込み)

※以下のリンクは[Shift]キーをおしながら左クリックすると、新規ウィンドウが開きます

[社会地理](#)、[社会歴史](#)、[社会公民](#)：各 6,800 円(統合版は 16,200 円) ([Shift]+左クリック)

[理科 1 年](#)、[理科 2 年](#)、[理科 3 年](#)：各 6,800 円(統合版は 16,200 円) ([Shift]+左クリック)

※Windows パソコンにマイクロソフト Word がインストールされていることが必要です。(Mac の場合はお電話でお問い合わせください)。

◆ご注文は、メール(info2@fdtext.com)、または電話(092-811-0960)で承っております。

※[注文→インストール→編集・印刷の流れ](#) ([Shift]+左クリック)

※[注文メール記入例](#) ([Shift]+左クリック)

【Fd 教材開発】 Mail : info2@fdtext.com Tel : 092-811-0960