

【】明治時代

【】五箇条の御誓文

[問題]

「広く会議ヲ興シ、万機公論ニ決スヘシ」と新しい政治の方針を、天皇が神に誓うという形で示したのは何か。

(補充問題)

[解答欄]

[解答]五箇条の御誓文

[解説]

新政府は、1868年、天皇が神に誓う形で、「広く会議ヲ興シ 万機公論に決スヘシ」「智識ヲ世界ニ求メ、大ニ皇基ヲ振起スヘシ」という五箇条の御誓文を出し、外国の文化をとり入れ、世論にしたがった新しい政治を行うことを明らかにした。(人は狼狽(1868)御誓文) しかし、国民に対しては五榜の掲示を出して一揆やキリスト教を禁止するなど江戸幕府と変わらない政策を示した。

[問題]

下の資料は、新政府が1868年に新しい政治の方針として定めた五箇条の御誓文の一部である。資料中の、
、
について、それぞれ読み取ることができる政治方針を答えなさい。その際、それぞれの答えに「世論」「外国」の語句のうちいずれか1つを使用すること。

広く会議ヲ興シ万機公論ニ決スヘシ

知識ヲ世界ニ求メ、大ニ皇基ヲ振起スヘシ

(2007年島根県)

[解答欄]

[解答] 世論を大切にして政治を進めること。 外国に学んで国を発展させること。

[問題]

1868年から1871年ごろまでの一連の改革を何というか。

(補充問題)

[解答欄]

[解答]明治維新

【】版籍奉還・廃藩置県

[問題]

1869年、明治政府が全国の藩主に土地と人民を返させる()が行われた。

(2009年山形県)

[解答欄]

[解答]版籍奉還

[解説]

ヨーロッパ列強の植民地支配の動きに対抗するためには、中央集権国家をつくる必要があった。しかし、徳川幕府を倒して、新政府が成立した後も、大名を領主とする藩はそのまま残って

年代	おもなできごと
1868(明治1)	五箇条のご誓文、五榜の掲示
1869(明治2)	版籍奉還
1871(明治4)	廃藩置県

いたので、1869年(明治2年)、政府は版籍奉還を実施し、土地(版)と人民(籍)を天皇に返させた。しかし、この改革は形式的なものであり、旧藩主がそのまま藩政にあたることとしたため、政府が全国を直接治める中央集権にはほど遠いものであった。(人はむくれる(1869)版籍奉還)

そこで、1871年(明治4年)、約1万人の兵を東京に集めた上で、廃藩置県を断行した。これは、藩を廃して府・県をおき、中央から府知事・県令を派遣して治めさせ、もとの藩主に対しては東京に住むことを命じた。これによって、国内の政治的統一が完成し、新しい中央集権の国家ができた。(藩とはいわない(1871)県という)

*廃藩置県は、大名や武士の生活の基礎をうばい取ることであり、たいへんな変革であった。イギリスの領事などは、「そのようなことを行えば、大名や武士の反抗・反乱を引き起こしかねない。」と判断していたほどである。しかし、たいした混乱もなく、改革が行われた。

[問題]

版籍奉還について、25字以内で説明しなさい。

(2006年熊本県)

[解答欄]

[解答]藩が支配していた土地と人民を朝廷に返させたこと

[問題]

明治政府は、中央集権の形をつくりあげるために、全国に新しく府や県を置き、府知事や県令を派遣して治めさせることにした。この改革を何というか。

(2007年愛媛県)

[解答欄]

[解答]廃藩置県

[問題]

廃藩置県の目的を，簡潔に書きなさい。

(2003 年山形県)

[解答欄]

[解答]中央集権国家をつくること

[問題]

廃藩置県後，中央政府から派遣された府知事や() (のちの県知事)とよばれる役人が中心となって，地方の政治を行った。

(2005 年栃木県)

[解答欄]

[解答]県令

[問題]

次のア～エのうち，廃藩置県について述べているものはどれですか。1 つ選び，その記号を書きなさい。

- ア 政府によって新たに任命された府知事・県令が中央から派遣された。
- イ 住民の直接選挙によって都道府県の知事が選出されることになった。
- ウ 幕府は，藩のとりつぶしや領地がえを行うなど大名の配置を工夫した。
- エ 強い統一国家をつくるため，薩摩藩と長州藩は同盟し，倒幕をめざした。

(2004 年岩手県)

[解答欄]

[解答]ア

[問題]

廃藩置県によって中央集権国家のしくみが整った。この廃藩置県により、地方を治めるしくみはどのように変わったか。江戸時代の藩と新しく置かれた府県を比べて書きなさい。

(2007年石川県)

[解答欄]

[解答]江戸時代の藩は大名がそれぞれ独自に治めていたが、廃藩置県によって置かれた府県は中央から派遣された役人が治めるようになった。

[問題]

五箇条の御誓文の発布以後のできごとを、年代の古い順に並べてあるのはどれか。

- | | | | |
|---|------|------|------|
| ア | 版籍奉還 | 廃藩置県 | 地租改正 |
| イ | 版籍奉還 | 地租改正 | 廃藩置県 |
| ウ | 廃藩置県 | 版籍奉還 | 地租改正 |
| エ | 廃藩置県 | 地租改正 | 版籍奉還 |

(2005年鹿児島県)

[解答欄]

[解答]ア

[問題]

1870年代の日本のできごとについて述べた文として誤っているものを、ア～エから選びなさい。

- ア 藩が廃止され、県が置かれた。
- イ 学制が公布(発布)された。
- ウ 第1回帝国議会が開かれた。
- エ 新橋・横浜間に鉄道が開通した。

(2007年北海道)

[解答欄]

[解答]ウ

[解説]

ウの第1回帝国議会が開かれたのは1890年である。

【】市民平等

[問題]

新政府は天皇のもとに国民を1つにまとめるため、四民平等をとらえ、それまでの身分制度を廃止した。これにより、農民(百姓)と他の身分とをへだてていたさまざまな制限はなくなっていた。このことによって農民の生活におこった変化を述べた文として、誤っているものを、次のア～エから1つ選び、記号で答えなさい。

- ア 農民も、名字を名のることができるようになった。
- イ 農民も、兵役の義務が課せられることになった。
- ウ 農民も、小学校教育を受けることとされた。
- エ 農民も、帯刀が許されるようになった。

(2003年宮城県)

[解答欄]

[解答]エ

[解説]

政府は四民平等しみんびやうどうをとらえて、江戸時代の身分制を改めた。四民平等は、天皇のもとに国民を1つにまとめて近代国家作りをすすめるために必要不可欠なものであった。その結果、国民はすべて名字を名のり、職業や居住地の自由を認められた。ただし、天皇の一族を皇族、もとの公家と大名を華族かぞく、武士しそくを士族とし、農民・町人を平民へいみんとした。また、えた、ひにんなどの呼び名を廃止し、身分・職業ともに平民と同じにする解放令を出した。四民平等になって、ちょんまげをゆうことや、刀をさすことはしだいに廃止されていった。

【】富国強兵・殖産興業

[問題]

明治政府は、欧米の国々に劣らない強い国をつくるために、文明開化の風潮を背景にして、産業の育成、すなわち殖産興業と、軍事力の強化による国力の充実をはかった。この政策の名前を漢字4字で書きなさい。

(2008年山梨県)

[解答欄]

[解答]富国強兵

[解説]

19世紀にヨーロッパ諸国はアジアへ進出し、植民地化をすすめた。なかでも、イギリスは1840年に中国の清とのアヘン戦争に勝利をおさめ、南京条約によって中国を半植民地化した。この情報は幕末当時の知識階層に大きな衝撃を与えた。日本もこのままではヨーロッパ列強の植民地になってしまうかもしれないという危機意識は、明治維新を主導した藩閥のリーダーたちに共通したものであった。こうした、危機から脱却するために、ヨーロッパ諸国を手本として、産業を発展させる(殖産興業)とともに軍備を強化する富国強兵をおしすすめることが当時の最大の国家目標となった。

[問題]

官営模範工場や鉄道の建設、郵便制度や電信網の整備などの近代産業を育てることを目的とした政策の名称を書きなさい。

(2006年青森県)(2007年福島県)(2007年宮城県)(2007年愛知県)(2007年兵庫県)(2006年滋賀県)(2006年島根県)

[解答欄]

[解答]殖産興業

[問題]

富岡製糸場は、当時の政府のどのような政策でつくられたか、漢字4字で書きなさい。

(2006年群馬県)

[解答欄]

[解答]殖産興業

[解説]

明治初期の日本は、農業が中心の国家で、民間工業の発達は、江戸時代からのマニファクチュア経営が一部に見られるという程度にとどまっております、民間資本には近代工業をおこす力はなかつた。そこで、政府は、群馬県のとみおかせいしじょう富岡製糸場などのかんえいもほん官営模範工場をつくったり、はくらんかい博覧会を開いたりして、近代産業の育成をはかろうとした。

*幕末以来の最大の輸出品は、生糸であつたが、まゆ繭から生糸をつくる製糸工程は人力や前近代的な小規模な器具によるところが大きく、大量生産ができないだけでなく、品質の点でも劣っていた。そこで、政府は、フランス人技師の指導でフランスから繰糸機や蒸気機関等を輸入し、養蚕業の盛んな富岡に日本初の器械製糸工場を設置した。当時は世界でも有数の規模であり、数百人の工女が日本全国から集められた。工女の労働環境は充実しており、後に日本全国に建設された製糸工場に繰糸の方法を伝授する役割も果たした。

[問題]

明治政府は技術者を外国から招き、資金を投じて工場を設立するなど、さかんに産業を奨励した。右図は、群馬県につくられた官営模範工場の()製糸場である。()にはいる地名を書きなさい。



(2005年茨城県)

[解答欄]

[解答]富岡

[問題]

右の資料は、近代産業の育成をめざして、群馬県の富岡につくられた官営工場である。この工場生産されたものは何か。書きなさい。



(2008年滋賀県)

[解答欄]

[解答]生糸

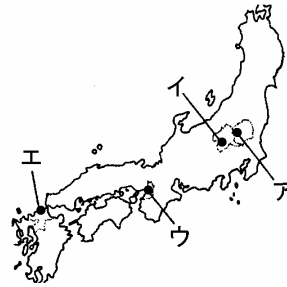
[問題]

官営富岡製糸工場がおかれた場所を、右の略地図中のア～エから選び、符号を書きなさい。

(2005 年大分県)

[解答欄]

[解答]イ



[問題]

欧米から機械を導入し、技師も招いて政府がつくった製糸・綿糸紡績、造船などの工場を何とよぶか。答えなさい

(滋賀県)

[解答欄]

[解答]官営模範工場

[問題]

殖産興業の目的と内容について、「官営」、「近代産業」の二つの語句を用いて書きなさい。

(2007 年新潟県)

[解答欄]

[解答]官営模範工場をつくるなどして近代産業の育成をめざした。

[問題]

日本の産業革命の中心は、軽工業でした。当時の日本の軽工業における代表的な産業は何ですか。その産業名を1つ書きなさい。

(2007 年山形県)

[解答欄]

[解答]製糸業(紡績業)

[解説]

日本では日清戦争前後に蒸気動力化による製糸・紡績など軽工業部門を中心に第一次産業革命、日露戦争前後に電力による重工業部門中心の第二次産業革命が進行した。

[問題]

富岡の官営工場が設立されたころ、この工場で生産されていた日本の代表的な輸出品として、最も適切なものを次から選び、記号を書きなさい。[綿糸 麻糸 生糸 毛糸]

(2007年富山県)

[解答欄]

[解答]生糸

[問題]

殖産興業に関することがらとして正しいものを、次のア～エから1つ選び、記号で答えなさい。

- ア 財閥を解体するなど、経済の改革を進めた。
- イ 鉄道やラジオ放送など、交通・通信のしくみを整えた。
- ウ 富岡製糸場など、官営の工場を建設した。
- エ 軍需物資(軍事物資)など、アメリカからの大量の注文に応じた。

(2006年熊本県)

[解答欄]

[解答]ウ

[問題]

この都市の港は、日米修好通商条約が結ばれた結果開かれた。外国との貿易が始まると、日本の総貿易額のうち、この港の貿易額のしめる割合が最も大きく、特に輸出品の中心となった生糸はこの港に集まった。この都市の名前を書きなさい。

(2005年埼玉県)

[解答欄]

[解答]横浜

【】 学制

[問題]

近代化を進める政策の1つとして、1872年に、6歳以上の男女すべてが小学校教育を受けることとし公布されたきまりを、漢字2字で書きなさい。

(2007年長野県)(2006年徳島県)

[解答欄]

--

[解答] 学制

[解説]

富国強兵をすすめるためには、まず税制、学制、兵制の三大改革をおこなうことが必要であった。1872年に、「村に不学の家がなく、一家に不学の人がいないよう心がけなければならない。…」という学制が公布され、6歳以上のすべての男女に小学校教育を受けさせることとした。教育費は親の負担であり、子どもは大切な働き手であったため、最初のころ、就学率は低かった。しかし、1900年ごろには90%をこえるまでになった。このような急速に小学校教育が広まった原因の1つとして、江戸時代の寺子屋にみられる教育の普及があげられる。また、東京大学をはじめとする高等教育機関もつくられ、外国人教師を招くとともに、多くの留学生在が欧米へ派遣された。このような教育の普及は、日本の近代化の基礎の1つになった。

[問題]

1872年に制定され6歳以上の子どもに教育を受けさせることとした法令は何か、書きなさい。また、これにより全国各地に小学校がつけられたが、初めのうちは就学率が低かったのはなぜか、その理由を1つ書きなさい。

(2006年石川県)

[解答欄]

--	--

[解答] 学制 / 学校の授業料が負担であったため。(子どもは大切な働き手であったから。)

[問題]

明治時代の教育についての説明としてあてはまらないのはどれか。

- ア 学制が定められた。
- イ 教育勅語が出された。
- ウ 津田梅子が海外に留学した。
- エ 義務教育が9か年に延長された。

(2004 年福岡県)

[解答欄]

[解答]エ

[解説]

ア：学制がくせいが公布されたのは 1872 年(明治 5 年)

イ：忠君愛国の道徳を柱とする教育勅語ちゆうくんあいこくが出されたのは、大日本帝国憲法が公布された 1889 年(明治 22 年)の翌年。

ウ：津田梅子つだうめこは、1871 年(明治 4 年)の岩倉使節団いわくらしせつだんとともに出発した。

エ：義務教育期間は、最初 4 年で、1907 年(明治 40 年)に 6 年に延長された。義務教育期間が 9 年になったのは太平洋戦争後である。

[問題]

次の文のうち、明治時代初期の教育について述べたものとして最も適当なものはどれか、ア～ウから 1 つ選びなさい。

- ア 学制の発布によって、小・中学校 9 年間に於いて 6 歳以上の男子だけが義務教育を受けることになった。
- イ 学制の発布によって、すべての児童が小学校教育を受けることになり、日本の近代化に大きな役割を果たすことになった。
- ウ 学制の発布によって、デモクラシーの考え方が普及し、自主性を重視するなど自由主義的な教育が始められた。

(2003 年京都府)

[解答欄]

[解答]イ

【】地租改正

[問題]

明治初期，政府は，地価を定めてその3%を現金によって納めさせる税制に改めた。これを何と
いうか。

(2007年長崎県)

[解答欄]

[解答]地租改正

[解説]

国家としての機能を維持し，さらに富国強兵のための各種改革をすすめていくためには巨額の財源が必要であった。しかし，明治初期の日本は貧しい農業国であり，政府が進める改革のための財源は，主として農民が納める米であった。しかし，江戸時代と同じ方式では，収穫高と変動する米価のために収入が一定せず，予算を立てて計画的な財政支出をおこなうことができなかった。そこで，1873年(明治6年)に地租改正を行い，地価を定めて土地の所有者に地券を与え，課税の基準を収穫高から地価に変更し，税率を地価の3%として土地の所有者に現金で納めさせた。(いやな山村(1873)地租改正) この地租改正によって政府の収入は安定した。しかし，地租は全体で江戸時代の年貢の総量と同じになるように計算されていたので農民の負担は軽くはならなかった。(富国強兵を進めるためには，歳入を削る余裕などなかった) そのため，1876年には地租改正反対一揆がおこり，地租は地価の3%から2.5%に引き下げられた。

[問題]

富国強兵をめざす明治政府は，税制の改革として地租改正を行い，国民が税として納めるものを変えた。明治政府は，国民が税として納めるものを，地租改正の前と後でどのように変えたか。地租改正の目的と関連づけて，簡単に書きなさい。

(2007年静岡県)(2006年宮城県)

[解答欄]

[解答]国家の財政を安定させるために，税として納めるものを米から現金に変えた。

[問題]

1873年、政府は国家の財政を安定させるため、地租改正を実施した。これにより、課税の基準と、税として納めるものは、それぞれどのように変更されたか。改正前と改正後の違いがわかるように、下に示した書き出しに続けて簡潔に書きなさい。

課税の基準は(), 納めるものは()

(2007年栃木県)(2007年愛媛県)(2006年千葉県)

[解答欄]

--

[解答](課税の基準は)収穫高から地価に変更され、(納めるものは)収穫物(米)から現金に変更された。

[問題]

政府は地租改正を行い、地価を定めて土地の所有者に()を交付し、地価の()%を現金で納めさせることにした。

(千葉県)

[解答欄]

--	--

[解答] 地券 3

[問題]

地租改正について述べた文のうち、誤っているものをア～オから二つ選びなさい。

- ア 政府は土地の所有権を認めるとともに、地価を定めて地券を発行した。
- イ 課税の基準は、従来の収穫高から新たに定められた地価に変更された。
- ウ 農民の負担は従来とあまり変わらなかったため、地租改正に反対する一揆がおきた。
- エ 土地の所有者は、米などの現物で、地租を収穫高に応じて国に納めた。
- オ 地租は、当初、地価の2.5%と定められたが、その後、地価の3%に変更された。

(2005年北海道)

[解答欄]

--

[解答]エ, オ

[問題]

明治 10 年(1877 年), 地租を地価の 3%から 2.5%に引き下げたが, その背景を, 次の 3 語を用いて 40 字程度で書きなさい。[士族の反乱・改革・農民一揆]


(2003 年青森県)

[解答欄]

[解答]政府の急激な改革に対し, 各地で士族の反乱や地租改正反対の農民一揆がおこった。

[問題]

右図の「地券」の文字の左に, 土地の所在地や持ち主, 面積などが書かれている A の部分に書かれている内容を, 次のア~エから 1 つ選び, 記号で答えなさい。



- ア 持ち主の家族の名前と年齢
- イ 土地の値段と納税額
- ウ 米の収穫量と納める米の量
- オ 作物の種類と栽培方法

(2007 年山口県)

[解答欄]

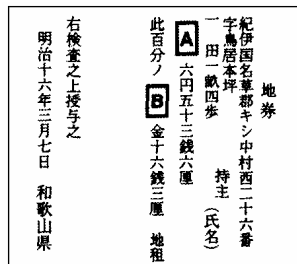
[解答]イ

[解説]

地租改正ちそかいせいによって課税の基準が地価となったことから, 正解はアと判断できる。

[問題]

右図は地券の内容を表したものです。図中の A, B にあてはまるものの組み合わせとして正しいものを, 次のア~エの中から 1 つ選び, その記号を書きなさい。



- ア A: 収穫高 B: ニケ半(2.5 のこと)
- イ A: 収穫高 B: 三
- ウ A: 地価 B: ニケ半
- エ A: 地価 B: 三

(2006 年和歌山県)

[解答欄]

[解答]ウ

[解説]

16 銭 3 厘 = 0.163 円, 6 円 53 銭 6 厘 = 6.536 円 $0.163(\text{円}) \div 6.536 = \text{約 } 0.025 = 2.5(\%)$

明治 10 年(1877 年), 地租を地価の 3% から 2.5% に引き下げたが, この地券の日付は明治 16 年になっているので, 税率は 2.5%

[問題]

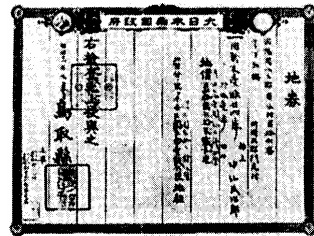
右の資料について述べた文として正しいものを, 次のア~エからひとつ選び, 記号で答えなさい。

ア これは, 政府が全国に検地を実施したときの土地台帳である。

イ これは, 政府が 6 歳以上の人々に口分田を与えるためつくった戸籍である。

ウ これは, 政府が地主に与えた土地所有権の確認書である。

エ これは, 政府が決められた穀物以外の作物を栽培しないように農民にむけて出した法令である。



(2007 年鳥取県)

[解答欄]

[解答]ウ

[問題]

明治新政府がおこなった富国強兵政策について述べたものとしてあてはまらないものは, 次のア~エのうちのどれか。1 つ選んで, その記号を書け。

ア 学制の公布により, 6 歳以上の男女すべてが小学校教育を受けることになったが, 初めは入学する児童は多くなかった。

イ 国家総動員法の公布により, 産業・経済・国民生活のすべてにわたって戦争に動員され, 農村では人手不足が, いっそう深刻となった。

ウ 地租改正の実施により, 国家財政は安定したが, 農民の負担はそれまでの年貢とほとんど変わらず, 各地で反対の一揆がおこった。

エ 徴兵令の公布により, 満 20 歳に達した男子は兵役を負担することになったが, 多くの免除規定があり, 最初は国民皆兵が実現しなかった

(2007 年香川県)

[解答欄]

[解答]イ

[解説]

国家総動員法は日中戦争が長引き軍事費が増大していた 1938 年に公布された。

【 】その他の政策

[問題]

兵役の義務を負わせた法令は何か。

(補充問題)

[解答欄]

[解答]徴兵令

[解説]

兵制については、全国統一の近代的な軍隊をつくるため、1873年に徴兵令^{ちやうへいけい}を出し、満20歳に達した男子は、士族、平民にかかわらず兵役の義務を負うこととした。(いやな山村(1873)徴兵令)しかし、これは大きな負担を強いるものであったので、各地で徴兵反対の一揆が起こった。

[問題]

明治初期に行われた改革についての説明として正しいものを、次のア～エの中から一つ選びなさい。

- ア 地租改正により、土地の所有者は収穫高の3%を現金で納めることになった。
- イ 徴兵令により、満20歳に達した男子は兵役の義務を負うことになった。
- ウ 飛脚制度が整えられ、全国均一の料金で手紙などが配達されるようになった。
- エ 江戸時代の大名や武士を華族、百姓や町人を平民と呼ぶようになった。

(2009年福島県)

[解答欄]

[解答]イ

[解説]

アは誤り。「収穫高の3%」ではなく、「地価の3%」を現金で納めることになった。
ウは誤り。「飛脚制度」ではなく、「郵便制度」が整備された。
エは誤り。公家や大名を華族とし、武士を士族とした。

[問題]

北海道の開発などを目的として、明治政府が設置した役所は何とよばれるか。その名称を書け。

(2005年奈良県)

[解答欄]

[解答]開拓使

[解説]

北海道については、開拓使^{かいたくし}を設置して北海道の開拓を進めた。農民を移住させ、土族^{どんてんへい}を屯田兵として配置した。開拓使は、札幌農学校^{さっぽろ}を開き、アメリカ人の農業技術の導入を図った。

[問題]

祖父の父親は、明治時代の中ごろに、北海道の警備と開拓を行う()として、本州から移住してきた。午前中は兵士としての訓練、午後は開拓の仕事をしたということです。

(北海道)

[解答欄]

[解答]屯田兵

【】文明開化

[問題]

江戸時代から続いている習慣や生活様式を変え、欧米の文化などを盛んに取り入れようとした明治時代初期の風潮は何と呼ばれているか。書きなさい。

(2006 年大阪府)(2007 年宮崎県)(2006 年京都府)(2006 年奈良県)

[解答欄]

[解答]文明開化

[解説]

近代化をめざす政策により、欧米の文化がさかんに取り入れられ、伝統的な生活が変化し始めたが、これを文明開化ぶんめいかい化とよぶ。都市ではれんが造りの洋風の建物が増え、道路には人力車や馬車が走り、ランプやガス灯がつけられた。また、洋服やコート、帽子が流行し、牛肉を食べるなど、食生活の変化も始まった。暦こよみも 1873 年から太陽暦たいようれきが採用された。

[問題]

文明開化の風潮を示した資料として適切でないものを、ア～エから 1 つ選び、記号で書きなさい。



(2007 年山梨県)(2006 年宮城県)

[解答欄]

[解答]エ


[解説]

エは江戸時代の朝鮮の通信使。

[問題]

右の資料は文明開化の時期のようすをえがいたものである。次の問いに答えなさい。

- (1) 右の2つの資料に共通して見られる、文明開化の特色を示す乗り物を1つ書きなさい。
- (2) 資料中の人物の姿に着目し、乗り物の利用のほかに、2つの資料に共通して見られる文明開化の特色について、具体例を1つ示し、説明しなさい。



(2007年兵庫県)(2006年京都府)

[解答欄]

(1)	(2)
-----	-----

[解答](1) 鉄道 (2) 洋服を着ている人がいる。

[問題]

文明開化に関して述べた下の文中の下線部ア～エのうち、適当でないものを1つ選び、その記号を書きなさい。

これまでつかわれてきた曆にかえてア 太陽曆がもちいられるようになり、一部の地域ではイ ラジオ放送もはじまった。また、東京などの都市部や横浜などの開港場ではウ 牛肉が食べられ、エ れんが造りなどの洋風の建物もつくられるようになった。

(2003年長崎県)

[解答欄]

[解答]イ

[解説]

イのラジオ放送が始まったのは大正時代。

[問題]

日本最初の鉄道は新橋からどこまでしかれたか、書きなさい。また、その場所について述べている文はどれか、次のア～エから1つ選び、その符号を書きなさい。

- ア ペリーが来航し、開国を求める大統領の国書を差し出した。
- イ 日米和親条約により開港し、アメリカ船に食料や水を提供した。
- ウ 諸藩の蔵屋敷が置かれ、全国から米や特産物が運ばれた。
- エ 日米修好通商条約をうけて開港し、国内最大の貿易港になった。

(2006 年石川県)

[解答欄]

--	--

[解答] 横浜 / エ

[解説]

経済の発展に欠かせない交通の整備が進められた。1872年(明治5年)に新橋・^{しんばし}横浜間^{よこはま}に最初の鉄道が開通した。横浜は、当時、日本最大の貿易港であった。

【】岩倉使節団

[問題]

条約改正の交渉と欧米の視察を目的として 1871 年(明治 4 年)に派遣され、アメリカ、フランスなどを訪れて 1873 年(明治 6 年)に帰国した使節団を何というか。

(2007 年栃木県)

[解答欄]

[解答]岩倉使節団

[解説]

外交問題では、幕府からひきついだ不平等条約の改正が大きな課題であった。1871 年、廃藩置県を断行した直後、岩倉具視を全権とする使節団を欧米に送った。条約改正はできなかったが、大久保利通、木戸孝允、伊藤博文など政府の主要メンバーの半数が、約 2 年間、欧米の進んだ政治、産業、文化を直接に体験し、国力の充実が必要であると痛感して帰国した。岩倉使節団には、約 60 名の留学生が加わっていたが、その中には 5 名の女子留学生もふくまれていた。最年少は 7 歳の津田梅子で、帰国後、女子英学塾(現在の津田塾大学)を設立し、女子教育の発展に貢献した。

年代	おもなできごと
1871(明治 4)	岩倉使節団が派遣される
1874(明治 7)	民撰議院設立建白書が提出される
1875(明治 8)	江華島事件
1877(明治 10)	西南戦争がおこる

[問題]

次の(A)、(B)に当てはまる人名を、下の語群からそれぞれ選びなさい。

右の写真は、1872 年に最初の訪問国であるアメリカで、(A)を大使(代表)とする使節団を写したものです。この使節団は、横浜港を出航してから 2 年近くにわたって、欧米諸国の政治のしくみを調査したり、産業や社会の様子を視察したりして帰国しました。写真の中央の人物は大使の(A)で、写真の右から 2 人目の人物は、のちに日本の初代内閣総理大臣となった(B)です。この使節団に参加した人々は、日本の近代化に大いに貢献したといわれています。



[語群] 大隈重信 西郷隆盛 伊藤博文 板垣退助 岩倉具視

(2007 年北海道)(2006 年大阪府)

[解答欄]

A	B
---	---

[解答]A 岩倉具視 B 伊藤博文

[問題]

大久保利通は明治維新後に新政府が派遣した使節団に加わり、欧米の制度や文化を学んで帰国しました。この使節団の全権大使となった人物は誰か、次から1人選びなさい。

[岩倉具視 大隈重信 板垣退助 西郷隆盛]

(2007年宮城県)(2007年神奈川県)

[解答欄]

[解答]岩倉具視

[問題]

岩倉使節団の派遣の目的は、江戸幕府が各国と結んだ不平等条約の改正の準備などであった。それらの条約には、輸入品にかかる税に関する不平等な内容があった。その内容を簡潔に書け。

(2006年長崎県)

[解答欄]

[解答]日本に関税自主権がなかったこと。

[解説]

1858年に幕府が結んだ^{にちべいしゅうこうつうしょうじょうやく}日米修好通商条約などの通商条約は、^{ちがいほうけん}治外法権を認め、^{かんざいじしゅけん}関税自主権のない不平等な条約であった。

[問題]

岩倉使節団が派遣された主な目的は2つあった。このことに関して、次の問いに答えなさい。

- (1) 岩倉使節団が派遣された目的の1つは、不平等条約を改正することにあった。日本の関税自主権が認められていない内容を含む、日本がアメリカと結んだ条約名を書きなさい。
- (2) 岩倉使節団に加わった人物の多くは、帰国後、近代化を進めるためにさまざまな分野で活躍した。このことに着目し、この使節団が欧米諸国に派遣されたもう1つの目的を書きなさい。

(2008年兵庫県)

[解答欄]

(1)	(2)
-----	-----

[解答](1) 日米修好通商条約 (2) 欧米の政治や産業を視察すること。

[問題]

次は岩倉使節団に同行した人物が書いた記録である。()に当てはまる国名を書きなさい。
()の富は、石炭と鉄で機械を動かし、毛織物や綿織物の生産によって築かれる。原料の羊毛は遠くオーストラリアより輸入し、綿花はアメリカより輸入している。

(2005 年長野県)

[解答欄]

[解答]イギリス

[問題]

津田梅子は 7 歳で()に同行し、アメリカに渡った日本で最初の女子留学生として知られています。帰国したあとは、日本の女子教育の発展に力を尽くし、現在の津田塾大学となる教育機関をつくりました。()に入る適切な語句を、次からひとつ選びなさい。

[岩倉使節団 ベリー ロシア使節団 朝鮮通信使]

(2007 年鳥取県)

[解答欄]

[解答]岩倉使節団

[問題]

右の写真は、1871 年、日本最初の女子留学生として海外にわたった 5 人である。この中で、最年少の 8 歳でアメリカに留学し、その後、日本の女子教育に力を注いだ人物はだれか。(写真右から 2 人目)

(沖縄県)

[解答欄]

[解答]津田梅子



[問題]

明治政府は、不平等条約の改正の準備などを目的として、1871年に大規模な使節団を欧米に派遣した。次の中から、この使節団の使節及び同行した留学生のいずれにも該当しない人物を1人選びなさい。[大久保利通 津田梅子 岩倉具視 西郷隆盛]

(2007年静岡県)

[解答欄]

[解答]西郷隆盛

【】 征韓論

[問題]

次の資料は、征韓論をめぐって対立したときの明治政府の指導者について、その立場を示したものである。～Zに当てはまる人物を、それぞれ[]の中から選びなさい。

[西郷隆盛 板垣退助 大久保利通]

(2009年大分県)

[解答欄]

X	Y
Z	

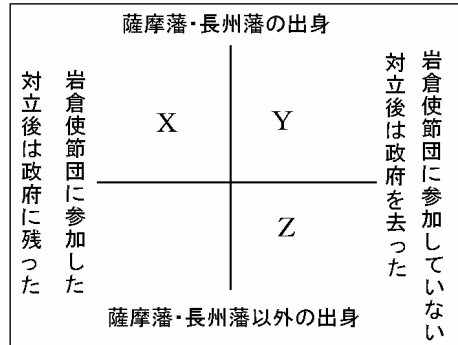
[解答]X 大久保利通 Y 西郷隆盛 Z 板垣退助

[解説]

当時の政府の実力者は、貴族出身の岩倉具視、薩摩出身の西郷隆盛、大久保利通であった。(長州の木戸孝允は、使節団から一人帰国した後は事実上引退したようになっていた。また、同じく長州の伊藤博文はまだ小物であった。) 三人の実力者のうち、岩倉・大久保が使節団をひきいて外遊している間、留守番役を引き受けたのは西郷であった。岩倉使節団が出発する前に、政府は廃藩置県を断行したが、これは武士の特権を一挙にうばいとる改革であったために、武士たちの不満をもたらした。(とくに、薩摩・長州など明治維新に功績のあった武士たちは、命をかけてつくしたのに、生活の基盤である俸禄をうばわれてしまったわけで、不満をもつのは当然であった。) この不満を一身で受け止めてやったのが西郷隆盛であった。西郷は、朝鮮に使節を派遣して開国をせまり、朝鮮政府がこれを拒否した場合には武力行使をも辞さないという征韓論を主張したが、これには武士たちの不満のエネルギーを外に向けて発散するねらいがあった。

これに対し、欧米視察で欧米列強の実力を肌で感じ取った大久保利通らは、ここで外征をおこす余裕などはなく、富国強兵・殖産興業の内政の整備が優先することを説き、征韓論に反対した。この政府内部の争いは、きわどいところで、大久保派が勝利をおさめ、征韓論をとなえた西郷隆盛や板垣退助(土佐藩出身)は政府から去った(明治六年の政変)。

西郷らが去った後の政府の中心になった大久保利通は殖産興業をすすめるとともに、国内の支配を強めていった。政府を去った板垣退助は、翌1874年(明治7年)に民撰議院設立の建白書を提出して自由民権運動を始めた。鹿児島に帰った西郷隆盛は、後に不平士族にかつがれて、1877年(明治10年)に西南戦争をおこした。



[問題]

岩倉使節団の一員として派遣され、帰国後征韓論に反対した薩摩藩出身の人物名を書きなさい。

(宮崎県)

[解答欄]

[解答]大久保利通

[問題]

征韓論をめぐる政争に敗れ、政府を去った人物の中で、土佐藩出身の人物(のちの自由党党首)と薩摩藩出身の人物が、政府に対して、それぞれどのような動きをおこしたか。人物の名前を含めて40字以内で書きなさい。

(茨城県)

[解答欄]

[解答]板垣退助は自由民権運動を始め、西郷隆盛は西南戦争をおこした。

[問題]

岩倉使節団は、不平等条約を改正するための予備交渉と、欧米の制度、文物の視察を目的として派遣された。これに関して、誤っているものを次のア～エから1つ選び、記号を書きなさい。

- ア 使節団の一員であった伊藤博文は、のちに、初代内閣総理大臣となり、日本の近代化に努めた。
- イ 使節団とともに5人の女子留学生も同行したが、その1人であった津田梅子は、帰国後、女子教育に力を注いだ。
- ウ 条約改正についてはその目的を果たせず、使節団は、欧米の進んだ政治制度や産業、社会の状況を視察し、国力の充実の必要性を痛感して帰国した。
- エ 欧米から帰国した岩倉具視や大久保利通は、武力で朝鮮に開国をせまる征韓論を主張し、これに反対する勢力と対立した。

(2005年 富山県)

[解答欄]

[解答]エ

【】明治初期の対外関係

[問題]

右図は、鹿鳴館で開かれていた舞踏会(ダンスパーティー)のようすを描いたものである。このような政府の欧化政策の目的を書きなさい。

(2007年茨城県)

[解答欄]



[解答]不平等条約の改正を実現すること。

[解説]

政府は、鹿鳴館^{ろくめいかん}を建てて外国人をまねき舞踏会^{ぶとうかい}を開くなど条約改正の努力を続けた。1886年にイギリス船ノルマントン号が和歌山県沖で沈没し、日本人乗客全員が水死する事件が起きた。事件の審理は領事裁判権^{りょうじちがいはうけん}(治外法権)によってイギリス判事が行った。イギリス領事裁判所は、イギリス人船長に軽い罰をあたえただけだったため、不平等条約改正を求める世論が高まった。

[問題]

ノルマントン号事件をきっかけに、わが国では不平等条約の改正を求める世論が高まった。国民は、とくに何を撤廃することを求めたか、[法 領事]の語を用い、「日本国内で外国人が…」という書き出しで簡潔に書きなさい。

(2006年秋田県)(2006年愛媛県)

[解答欄]

[解答]日本国内で外国人が法を犯したときに、その国の領事が裁判を行う治外法権を撤廃すること。

[問題]

Aの島々をめぐる、明治政府は清とその帰属問題で対立していたが、この帰属問題に最も関係の深い語の組み合わせとして適切なものを、次のア～エの中から1つ選びなさい。

- ア 日清修好条規 - 日朝修好条規 イ 台湾出兵 - 琉球処分
ウ 西南戦争 - 鹿藩置県 エ 沖縄返還 - 日中平和友好条約

(青森県)

[解答欄]



[解答]イ

[解説]

中国の清とは、1871年(明治4年)に対等な立場で日清修好条規を結んだ。しかし、琉球の帰属問題で日本と清は対立していた。江戸時代に琉球王国は薩摩藩の支配を受けながらも、薩摩藩の指示によって清にも朝貢していた。明治になって、日本は琉球王国を併合して琉球藩とした。しかし、

年代	おもなできごと
1871(明治4)	日清修好条規
1875(明治8)	樺太・千島交換条約
1875(明治8)	江華島事件
1876(明治9)	日朝修好条規
1879(明治12)	沖縄県設置(琉球処分)

清は琉球の領有権を主張していた。こうした中で、台湾で琉球漁民の殺害事件が起こり、日本は1874年(明治7年)に台湾出兵を行った。交渉の結果、清は日本の出兵を認め、事実上の賠償金を支払った。これは、琉球が日本に所属することを認めるもので、これで、琉球の所属に関する問題は解決した。1879年に反対する琉球の人々をおさえて、沖縄県を設置した。これらをあわせて琉球処分という。

[問題]

明治初期のころ、日本は、琉球の帰属をめぐる中国と対立しました。この中国の王朝を何といいますか。次から選びなさい。

[宋 明 清 隋]

(2004年広島県)

[解答欄]

[解答]清

[問題]

千島列島を日本領と定めた、1875年にロシアとの間で結ばれた条約の名を書きなさい。

(2006年北海道)

[解答欄]

[解答]樺太・千島交換条約

[解説]

1875年、ロシアとの間で、日本がウルップ島以北の千島列島を領有するかわりに、樺太をロシアに譲るといって樺太・千島交換条約を結んだ。

[問題]

日朝修好条規が結ばれたのは、この前年に日本と朝鮮の間におこったできごとがきっかけでした。そのできごとを、次から1つ選びなさい。

[五・四運動 義和団事件 三・一運動 江華島事件]

(2007年山形県)

[解答欄]

[解答]江華島事件

[解説]

朝鮮との間では、1875年、日本の軍艦が朝鮮漢江河口の江華島こうかとう付近で示威を行い、砲撃を受けた江華島事件こうかとうをきっかけに、軍事力を背景にして領事裁判権などをふくむ不平等な日朝修好条規にっちょうしゅうこうじょうぎを朝鮮に認めさせた。

[問題]

日朝修好条規は、1875年に朝鮮でおきた江華島事件をきっかけとして結ばれた。図の印で示したa~dの島のうち、江華島に当たるものを一つ選び、記号で答えなさい。

(2009年熊本県)

[解答欄]

[解答]b



【】士族の反乱

[問題]

次は、数十年にわたり日本に住んだドイツ人の医師ベルツが書いた日記の一節です。この日記に書かれたできごとの名称を書きなさい。

悪い時世だ! 九州島の南部にある鹿児島県は、薩摩人の本拠地であるが、政府に反旗を翻して大騒ぎである。その地には不平組の旧大名島津三郎や西郷大将が滞在している。(「ベルツの日記」から作成)

(2006年埼玉県)

[解答欄]

[解答]西南戦争

[解説]

藩閥政治に対する不満は、一方では自由民権運動を生んだが、他方では佐賀の乱、萩の乱などの不平士族の反乱をもたらした。その最大のもは、征韓論に敗れて鹿児島に帰った西郷隆盛が中心になっておこした西南戦争である。(西南戦争討伐なかなか(1877)難しい) 政府軍は約半年をついやしてこれを鎮圧した。これを最後に士族の反乱はおさまった。

[問題]

西南戦争の指導者は誰か。

(補充問題)

[解答欄]

[解答]西郷隆盛

[問題]

わたしは西郷隆盛である。江戸幕府を倒すことに力をそそぎ、新政府の中で改革にとりくんだが、意見が対立して鹿児島にもどった。新しい政治に不満をもつ(華族/士族)におされて西南戦争をおこしたが、政府軍にやぶれてしまった。

(2006年茨城県)

[解答欄]

[解答]士族

[問題]

当時、士族は専制的な政治への反発のほかに、政府に対しどのような不満をもっていたか、説明しなさい。

(福井県)

[解答欄]

[解答]身分的な特権をうばわれたことへの不満

[問題]

徴兵令により、全国統一の近代的な軍隊がつくれ政府はこの軍隊を動員して、最も大規模な士族の反乱を鎮圧した。鎮圧した場所を、地図の a~e から 1 つ選んで記号を書きなさい。

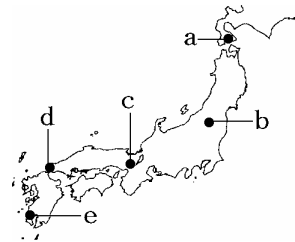
(2006 年秋田県)

[解答欄]

[解答]e

[解説]

士族の反乱の中で最大のものは西南戦争である。



【】自由民権運動

[問題]

右の人物が中心となって、民撰議院設立の建白書を政府に提出したことをきっかけにして、国会開設、憲法制定や地租の軽減などを要求する運動が全国的にさかんになった。この運動を何というか。答えなさい。

(2006年山口県)(2007年鳥取県)(2006年茨城県)



[解答欄]

[解答]自由民権運動

[解説]

征韓論の議論に敗れた板垣退助は、翌1874年に民撰議院設立の建白書を提出した。さらに、高知県に帰った板垣は立志社をつくって自由民権運動を始めた。(一派なし(1874)で建白書) 板垣らは、政府の政治を専制政治であると批判し、議会を開いて国民が政治に参加できるようにすべきだと主張した。

[問題]

征韓論が入れられず政府を去った後、民撰議院設立の建白書を政府に提出し、自由民権運動を展開した人物は誰か。答えなさい。

(補充問題)

[解答欄]

[解答]板垣退助

[問題]

板垣退助は、民撰議院設立建白書を政府に提出したのち、高知で(立志社/立憲政友会)を設立し、自由民権運動を進めた。その後、1881年に(自由党/立憲改進黨)を結成し、国会の開設に備えた。

(2009年北海道)


[解答欄]

<input type="text"/>	<input type="text"/>
----------------------	----------------------

[解答] 立志社 自由党

[問題]

右図の人物は、政府を去った後、民撰議院設立の建白書を政府に提出した。そのときこの人物は、政府に対して、どのような批判をし、どのような政治のあり方が望ましいと主張したか。



(2006年福島県)(2007年石川県)

[解答欄]

[解答]政府の政治を専制政治であると批判し、議会を開いて国民が政治に参加できるようにすべきだと主張した。

[問題]

下の文中の()にあてはまる適当なことばを、「政府」「武力」「言論」の三つの語を用いて、30字以内(読点も含む)で書きなさい。

西南戦争の後、()、自由民権運動が広まる中で、1880年には国会期成同盟が設立された。

(2008年千葉県)

[解答欄]

[解答]政府への武力による抵抗にかわり、言論による批判が中心となり

[問題]

次のア～エのうち、自由民権運動にかかわるできごとについて述べているものはどれですか。一つ選び、その記号を書きなさい。

- ア 民衆が「ええじゃないか」と踊りまわるさわぎが、各地で流行した。
- イ 最初のメーデーが行われ、最低賃金制や8時間労働制などを求めた。
- ウ 全国の数十の結社の代表者が大阪に集まり、国会期成同盟を結成した。
- エ 護憲派を支持する民衆が議事堂を取りまき、桂内閣の退陣を要求した。

(2008年岩手県)

[解答欄]

[解答]ウ

[問題]

次の資料を見て、あとの問いに答えなさい。

[X]建議有志者団結案

人民国政に参するの権は天然の真理なるを以て、野蛮未開の邦国にあらざる以上は、その政府においてもとより人民に参政の権を与へざるべからざるは僕の喋々をまたざるべし。(中略)僕の無智、無学、無氣力を顧みず、わが秋田県の同意者諸君とともに謀り、ともに[X]を政府に建議せんと欲す。(以下略)

明治十三年二月

喋々...しきりにしゃべること

(1) 資料の下線部は今から約何年前か、適切なものを1つ選びなさい。

[80 年前 130 年前 160 年前 220 年前]

(2) 資料の[X]にあてはまるものを1つ選びなさい。

[普通選挙 廃藩置県 地租改正 国会開設 農地改革 尊王攘夷]

(3) 資料に示された政治運動は、この時期、秋田県だけでなく全国に広がっていた。この政治運動を何というか、書きなさい。

(2007 年秋田県)

[解答欄]

(1)	(2)	(3)
-----	-----	-----

[解答](1) 130 年前 (2) 国会開設 (3) 自由民権運動

[解説]

西南戦争後、藩閥政治への批判は言論によるものを中心に、1880年(明治13年)には大阪で国会期成同盟が結成され、自由民権運動がもりあがった。1881年、北海道開発のために多額の国費をかけてつくった施設を薩摩出身の商人に不当に安い値段で売ろうとしたことが、国民に知れて、藩閥政府を攻撃する声、いっそうはげしくなった。政府がたおれることを心配した伊藤博文らは、憲法の即時制定と国会の早期開設を主張していた大隈重信を政府から追い出す一方、10年後に国会を開くことを約束した(国会開設の勅諭)。(明治の初期に政治の中心であった大久保利通は西南戦争の直後に暗殺されており、これ以降は伊藤博文が明治政府の中心となっていた。) 国会開設にそなえ、板垣退助は自由党を結成し、大隈重信は立憲改進黨を結成した。しかし、政府がきびしい弾圧をしたため、おりからの深刻な不況による社会不安を背景に、埼玉県でおこった秩父事件など、民権派の激化事件が起こり、民権運動は停滞した。

[問題]

自由民権運動にかかわってきた人々を中心に、国会開設に備えた政党結成の動きが進んだ。国会開設が政府により約束された年に、板垣退助らが結成した政党を何といいますか。

(2007 年岡山県)(2006 年茨城県)(2006 年鳥取県)

[解答欄]

[解答]自由党

[問題]

自由民権運動が盛んになると、議会で活動するために政党がつくられた。1881年に板垣退助が自由党をつくり、翌年、()は立憲改進黨をつくった。

[大隈重信 伊藤博文 大久保利通 西郷隆盛]

(2007年栃木県)(2006年鹿児島県)(2006年神奈川県)

[解答欄]

[解答]大隈重信

[解説]

大隈重信は、イギリス流の議会政治と立憲君主制を理想とし、立憲改進黨を結成した。板垣退助は、フランスの民権思想の影響を受け、自由党を結成した。

[問題]

大隈重信が結成した政党は何か。答えなさい。

(補充問題)

[解答欄]

[解答]立憲改進黨

[問題]

1884年、自由党員と生活に苦しむ農民が結んで、()事件という激しい民権運動の事件をおこした。

(2003年熊本県)

[解答欄]

[解答]秩父

[問題]

次のア～エを年代の古い順に並べるとどのようになりますか。その記号を順に書きなさい。

- ア 板垣退助を党首とする自由党が結成された。
- イ 国会期成同盟が結成され政府に国会の開設を求めた。
- ウ 秩父で農民たちが暴動を起こしたが、政府は武力で抑えた。
- エ 板垣退助らが、民撰議院(国会)を開設する要求を政府に出した。

(2006 年和歌山県)

[解答欄]

[解答]エ イ ア ウ

[解説]

エ：1874 年民撰議院設立の建白書 (西南戦争) イ：1880 年国会期成同盟 (国会開設の勅諭)
ア：1881 年自由党結成 ウ：1884 年秩父事件

[問題]

自由民権運動について誤っているものを次のア～エから 1 つ選び、記号で答えなさい。

- ア 政府は、自由民権運動に対して法律を定めて、自由民権運動を支援した。
- イ 自由民権運動は国会開設を目的としていた。
- ウ 国会開設に向けて、板垣退助は「自由党」を結成した。
- エ これまでの政治は専制政治であると批判し、国民も政治に参加させるべきであると訴えた。

(2007 年沖縄県)

[解答欄]

[解答]ア

【】憲法制定の準備

[問題]

右の写真の人物は、大日本帝国憲法作成にかかわった。その人物名を漢字で答えなさい。

(2007年沖縄県)



[解答欄]

[解答]伊藤博文

[解説]

国会開設にそなえて政府は、伊藤博文をドイツに派遣して憲法を調査させた。ドイツの憲法を手本にしたのは、ドイツの憲法は君主権の強い憲法でわが国の実情にあっていたからである。大日本帝国憲法は「大日

年代	おもなできごと
1881(明治 14)	政府が国会の開設を約束する
1885(明治 18)	内閣制度がつくられる
1889(明治 22)	大日本帝国憲法が公布される
1890(明治 23)	第1回帝国議会が開かれる

本帝国八万世一系ノ天皇之ヲ統治ス」と天皇主権を定めている。1885年、それまでの太政官制にかわって、内閣制度をつくった。初代の内閣総理大臣には伊藤博文が任命された。

[問題]

大日本帝国憲法の草案作成の中心となった伊藤博文は、ヨーロッパに留学して、君主権の強いある国の憲法を学んだ。ある国とはどこか。その国名を書け。

(2006年香川県)(2006年山口県)

[解答欄]

[解答]ドイツ

[問題]

大日本帝国憲法を作成するにあたって、伊藤博文はドイツ(プロイセン)憲法を学び、その草案をつくった。ドイツ憲法を手本にした理由を書きなさい。

(2006年滋賀県)

[解答欄]

[解答]ドイツ憲法は君主権が強い憲法であったため。

[問題]

伊藤博文が行ったことについて述べた文として、最も適当なものを、次のア～エから1つ選び、その符号を書きなさい。

- ア 自由民権運動を広め、立憲改進黨を結成した。
- イ ヨーロッパに留学し、プロイセンの憲法や制度を調査した。
- ウ 国会期成同盟をつくり、国会の開設を政府に請願した。
- エ「学問のすすめ」を出版し、欧米の思想を日本に紹介した。

(2007年新潟県)

[解答欄]

[解答]イ

[問題]

岩倉使節団の一員で、1885年に内閣制度ができると初代の内閣総理大臣に就任した人物はだれか、次から1つ選べ。

[西郷隆盛 伊藤博文 大久保利通 木戸孝允]

(2006年京都府)

[解答欄]

[解答]伊藤博文

【】大日本帝国憲法

[問題]

わたしは伊藤博文である。国会の開設を約束し、ヨーロッパに留学して憲法を学んだ。帰国後、わたしが中心となって草案をつくり、1889年2月11日に発布されたのが()憲法である。

(2006年茨城県)(2007年鹿児島県)

[解答欄]

[解答]大日本帝国

[解説]

1889年、天皇が国民にあたえるという形で、大日本帝国憲法が発布された。大日本帝国憲法は、「第1条 大日本帝国八万世一系ノ天皇之ヲ統治ス」と天皇を主権者と定めていた。(現在の日本国憲法における主権者は国民であり、天皇は日本国の象徴と位置づけられている。)天皇のもつ主権は天皇大権と言われ、国の統治権・軍の統帥権・条約の調印権・勅令発動権など、広範囲で強い権限であった。国民は「臣民」とされ、その人権も法律の範囲内で認められたにすぎなかった。

[問題]

大日本帝国憲法に定められた主権者はだれであったか。

(2003年京都府)

[解答欄]

[解答]天皇

[問題]

大日本帝国憲法の特徴を日本国憲法と比較し、1つ書きなさい。

(2006年岐阜県)

[解答欄]

[解答]天皇を主権者としていたこと

[問題]

大日本帝国憲法の内容と日本国憲法の内容を比較すると、さまざまな点で違いがあります。その違いの一つを、主権という言葉を使って説明しなさい。

(2008年山形県)

[解答欄]

[解答]大日本帝国憲法は天皇を主権者としているのに対し、日本国憲法は国民を主権者としている。

[問題]

大日本帝国憲法について述べたものとして適切でないものを、次のア～エから1つ選び、その記号を書け。

- ア 憲法は、天皇が国民にあたえるという形で発布された。
- イ 憲法では、帝国議会は国権の最高機関と位置づけられた。
- ウ 憲法では、天皇が国の元首として統治すると定められた。
- エ 憲法では、人権は天皇が恩恵によってあたえた権利とされた。

(2007年奈良県)

[解答欄]

[解答]イ

[問題]

大日本帝国憲法の内容として誤っているものを、次のア～エから1つ選び、記号で答えなさい。

- ア 天皇が国の統治権をもつ。
- イ 国民は、法律の範囲内で言論や集会・結社などの自由をもつ。
- ウ 天皇が陸海軍の統帥権をもつ。
- エ 帝国議会は、参議院と衆議院の両院をもって成立する。

(2004年熊本県)

[解答欄]

[解答]エ

[解説]

エが誤り。帝国議会は貴族院と衆議院から成り立っていた。

[問題]

大日本帝国憲法や帝国議会に関する文として適切なものを、次のア～エから 1 つ選んで、その符号を書きなさい。

- ア 華族や士族だけに帝国議会議員の選挙権が与えられた。
- イ 帝国議会は、参議院と衆議院の二つの議院から成り立っていた。
- ウ この憲法では、言論・出版などの自由は法律の範囲内で認めると定めていた。
- エ 主権が国民にあることを宣言し、この憲法が定められた。

(2005 年兵庫県)

[解答欄]

[解答]ウ

[解説]

アは誤り。衆議院議員の選挙権は直接国税 15 円以上をおさめる 25 歳以上の男子に与えられた。
イは誤り。「参議院と衆議院」ではなく「貴族院と衆議院」。
ウは正しい。
エは誤り。天皇が主権者とされていた。

[問題]

「大日本帝国憲法が公布される」のできごとが入るのは、略年表中の a～d のどこか、記号で答えなさい。

(2007 年山形県)(2006 年滋賀県)

[解答欄]

[解答]b

年	できごと
1871	岩倉使節団が発発する <input type="text" value="a"/>
1876	日朝修好条規が結ばれる <input type="text" value="b"/>
1895	下関条約が結ばれる <input type="text" value="c"/>
1905	ポーツマス条約が結ばれる <input type="text" value="d"/>
1914	第一次世界大戦に参戦する

[問題]

大日本帝国憲法公布～日露戦争の時期のできごとを次のア～エから 1 つ選びなさい。

- ア 義務教育が 6 年に延長された。
- イ 教育勅語が出された。
- ウ 学制が公布された。
- エ 教育基本法が制定された。

(熊本県)

[解答欄]

[解答]イ

[解説]

憲法発布の翌年には教育勅語ちよくごが出されて、忠君愛国ちゆうくんあいこくの道徳が示され、教育の柱とされるとともに、国民の精神的、道徳的なよりどころとされた。

【】 帝国議会の開設

[問題]

右図は帝国議会のうち、衆議院の議員を選ぶ第1回総選挙の投票の様子を示したものである。この時に選挙権をあたえられた者の資格について、30字以内で書きなさい。



(2004年茨城県)

[解答欄]

[解答] 直接国税 15 円以上を納める満 25 歳以上の男子

[解説]

1890 年に第一回帝国議会が開かれた。帝国議会は、国民の選挙で選ばれた議員で構成される衆議院と、皇族・華族の代表と天皇が任命した者、多額納税者の代表で構成される貴族院の 2 つの議院から成り立っていた。衆議院議員の選挙権は、満 25 歳以上で、直接国税 15 円以上を納める男子に限られていたため、有権者は全人口の約 1% にすぎなかった。

[問題]

大日本帝国憲法が公布された翌年の 1890 年に、日本最初の衆議院議員の選挙が実施されました。このときは、納税額による制限があり、選挙権が認められたのは、(A)円以上の国税(地租などの直接国税)を納めている満 25 歳以上の男子だけでした。そのため、選挙権をもっていた人は、総人口の約(B)%でした。A, B のそれぞれに当てはまる数字の組み合わせとして正しいものを、ア～エから選びなさい。

ア A:1, B:1 イ A:15, B:15 ウ A:1, B:15 エ A:15, B:1

(2005年北海道)

[解答欄]

[解答]エ

[問題]

1890 年に行われた第 1 回衆議院議員選挙における有権者総数は、当時の日本の人口の約何%であったか、次から 1 つ選びなさい。[1.1% 5.5% 20.0% 48.7%]

(2008年徳島県)

[解答欄]

[解答]1.1%

[問題]

下線部ア～エには、誤りが1つある。その記号を選び、適切な語句を書きなさい。

第1回帝国議会のア貴族院の議員は、選挙によって選出された。選挙権が与えられていたのは、イ直接国税15円以上をおさめるウ25歳以上の男子に限られていた。この選挙で、過半数の議席を得たのは、エ自由民権運動の流れをくむ民党(野党)であった。

(2007年富山県)

[解答欄]

--	--

[解答]ア，衆議院

[問題]

帝国議会の二つの議院のうちの1つで、皇族・華族などで構成されていた議院は何か。

(2006年青森県)

[解答欄]

--

[解答]貴族院

[問題]

日本は欧米諸国にならって近代的な国家としての体制を整え、そのことなどにより、欧米諸国は条約改正に応じ始めました。近代的な国家としての体制を整えたとは、どのようなことか、簡潔に書きなさい。

(2006年山形県)

[解答欄]

--

[解答]憲法を制定し、議会を開いたこと。

[問題]

1900年に伊藤博文が結成し、のちに原敬が総裁をつとめた政党は何か。

(2008年愛媛県)

[解答欄]

--

[解答]立憲政友会

【】条約改正：領事裁判権の撤廃

[問題]

次の資料は、ノルマントン号が沈没し、日本人乗客全員が水死した事件をフランス人のピゴが描いたものである。この時、イギリス人船長には軽い罰があたえられただけだったため、日本では不平等条約改正を求める世論が高まった。この事件に最も関係のある、条約の不平等な内容を書きなさい。



(2009 年青森県)

[解答欄]

[解答]領事裁判権を認めていた。

[問題]

イギリスは、日清戦争の前に領事裁判権(治外法権)の撤廃に応じました。その理由を簡潔に書きなさい。

(2004 年和歌山県)

[解答欄]

[解答]ロシアの南下に対抗するためには日本に接近するのが得策と考えたから。

[解説]

日清戦争直前の 1894 年、外相陸奥宗光はイギリスと交渉して領事裁判権の撤廃に成功した。この時期に条約改正にイギリスが応じたのは、ロシアの東アジアへの進出(南下政策)に対抗するため日本と手を結ぶ政策をとるようになったからである。それと、憲法が制定され、議会も開設されてアジアで初めて立憲制国家になったことも条約改正に有利に働いた。

[問題]

1894 年、イギリスは()の南下に対抗するため日本との条約改正に応じ、領事裁判権が撤廃された。()にはいる国名を書け。

(2006 年福井県)

[解答欄]

[解答]ロシア

[問題]

次の文の には、当てはまる国名を書きなさい。また、 には、当てはまる語句を、漢字 5 字で書きなさい。

日本にとって、不平等条約を対等なものに改正することは、重要な課題であった。1894 年には、イギリスが()の南下に対抗するため、日本との条約改正に応じ、日英通商航海条約が結ばれた。続いて、日本は、他の諸国とも同じような条約を結んだ。この結果、領事裁判権は撤廃され、()の一部も回復した。さらに、残された()の回復も、1911 年に達成された。

(2006 年大分県)

[解答欄]

--	--


[解答] ロシア 関税自主権

【】日清戦争

[問題]

次の各問いに答えなさい。

- (1) 右の図は何という戦争の風刺画か、その戦争の名前を答えなさい。
- (2) 図の中の a, b, c にあたる国名を答えなさい。



(補充問題)

[解答欄]

(1)	(2)a	b	c
-----	------	---	---

[解答](1) 日清戦争 (2) a 日本 b ロシア c 清

[解説]

朝鮮では、日本と清が勢力争いをくり広げていた。朝鮮国内では、明治維新めいじいしんになって近代化をはかろうとする親日派と、清との関係を維持しようとする親中派とが、激しく対立していた。当時、ロシアが南下政策をとりつつあり、朝鮮がロシアの手に落ちれば、やがて、日本そのものが危くなるという危機感があった。朝鮮における清との対立が深まる中、日本は軍備の増強をはかった。図は日清戦争の風刺画である。a が日本、c が清で、水の中の魚は朝鮮である。日清戦争が朝鮮をめぐる日本と清の争いであったことを表している。橋の上から漁夫の利を得ようと機会をうかがっている b はロシアである。

朝鮮では政治・経済が混乱するなかで、東学とうがくという民間宗教を信仰する農民などが、1894年、外国人排斥や政治改革をめざして兵をあげた。これを甲午農民戦争こうこという。これを機に、清と日本は出兵し、日清戦争が始まった。(一発急襲(1894)日清戦争)

[問題]

日清戦争に関して、日本と清が朝鮮半島に出兵する理由となったできごとはどれか、次から 1 つ選びなさい。[義和団事件 アヘン戦争 甲午農民戦争 江華島事件]

(2007年徳島県)

[解答欄]

[解答]甲午農民戦争

[問題]

日本は日清戦争で勝利をおさめた。この翌年に結ばれた講和条約を次から1つ選びなさい。

[ポーツマス条約 ベルサイユ条約 下関条約 南京条約]

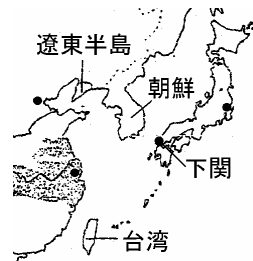
(2007年沖縄県)

[解答欄]

[解答]下関条約

[解説]

日清戦争は日本の勝利に終わり、翌1895年、^{しものせき}下関条約が結ばれた。この条約で清は、朝鮮の独立を認め、^{りあおとん}遼東半島、^{たいわん}台湾などを日本に譲る、^{ばいしやうきん}賠償金3億円を日本に支払うこと、などを認めた。



[問題]

日清戦争の講和条約が結ばれた場所はどこか。略地図のア～オから1つ選びなさい。

(2004年滋賀県)

[解答欄]

[解答]エ



[問題]

1894年に始まった ()戦争が終わったのちに、日本は、下関条約によって賠償金を得た。この賠償金などをもとに建設された八幡製鉄所の操業により、重工業がしだいに発達し、「世界の工場」とよばれた (ドイツ/イギリス/アメリカ)で最初に始まった産業革命が、わが国においても進展した。

(2007年北海道)

[解答欄]

--	--

[解答] 日清 イギリス

[問題]

日本が、下関条約によってゆずりうけ、第二次世界大戦が終わるまで領有したのは、略地図中のア～エのどこか、1 つ選び、記号で答えなさい。

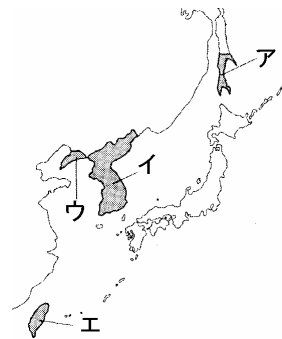
(2006 年山形県)

[解答欄]

[解答]エ

[解説]

わが国は下関条約によって台湾と遼東半島を獲得したが、三国干渉により遼東半島は清に返還した。



【】三国干涉

[問題]

ロシアなどが、日清戦争の結果日本が獲得した遼東半島の返還を要求した。このことは何とよばれているか。

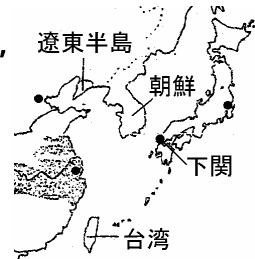
(2004年岩手県)

[解答欄]

[解答]三国干涉

[解説]

満州への進出をねらっていたロシアは、ドイツとフランスをさそって、日本に対して遼東半島を清に返すように要求してきた。これを三国干涉さんごくという。この圧力によって日本は賠償金と引きかえに遼東半島を清に返還した。その後、ロシアはこの遼東半島を清から租借そしやくした。



[問題]

三国干涉を行った三国をあげよ。

(補充問題)

[解答欄]

[解答]ロシア、フランス、ドイツ

[問題]

日本は日清戦争の結果、清から領土を獲得したが、あるできごとによりその一部を返還することになった。返還することになった理由を、できごとの名称と返還した領土の名称を示しながら、簡潔に説明せよ。

(2007年長崎県)

[解答欄]

[解答]ロシアが中心となって、遼東半島の返還を求める三国干涉を行ったため。

[問題]

三国干渉によって、わが国が返還を要求された地域を下から、またその位置を右の地図中のA～Dから、それぞれ選びなさい。

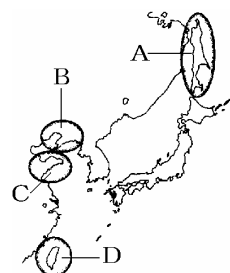
[台湾 山東半島 樺太 遠東半島]

(2003年長崎県)

[解答欄]

--	--

[解答]遠東半島 / B



[問題]

日清戦争に勝利したのち、国民の間には、ロシアへの対抗心が高まった。その理由を「下関条約」と「三国干渉」という語を使って書きなさい。

(2006年宮崎県)

[解答欄]

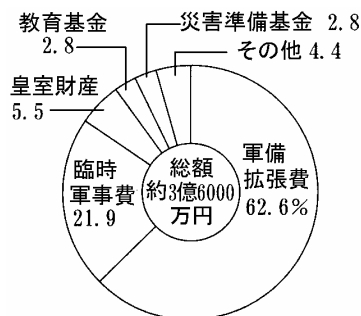
--

[解答]下関条約で獲得した遠東半島を三国干渉で返還させられたから。

[問題]

次のグラフは、日清戦争後に日本が清国より得た賠償金などの使いみちを示しているが、戦争後にもかかわらず、軍備拡張費の割合が高いのはなぜか。その理由を、日清戦争後の国際的なできごとと、それに対する日本政府の対応を中心に、簡単に書け。

(2007年香川県)



[解答欄]

--

[解答]三国干渉を受け入れた日本が、その返還勧告で中心的役割をはたしたロシアに対抗できる軍事力をもつため。

[解説]

日本は清には勝利したものの、まだ欧米列強には及ばず、国際的圧力をはね返すだけの軍事力をもつ必要があった。

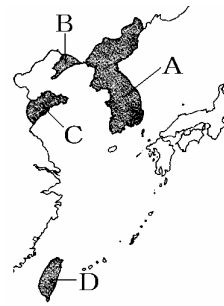
[問題]

ロシアが、三国干渉の後に租借(借りて統治)した、旅順や大連がある地域は、右の地図中の A ~ D のうちのどれですか。

(2007 年岡山県)

[解答欄]

[解答]B



【】日英同盟

[問題]

帝国主義諸国の侵略に対して、中国の民衆がある宗教団体を中心に団結し、武装して立ち上がった事件を何というか。

(補充問題)

[解答欄]

[解答]義和団事件

[解説]

日清戦争で清が敗れた後、列強の中国侵略が進んだ。これに対し中国国内では排外運動が起こり、1900年に義和団が扶清滅洋を唱えて北京の列国公使館を包囲する事件が起こった。これに対し、日本やロシアを主力とする8ヶ国の約7万人の連合軍が派遣されてようやくこれを鎮圧した。

年代	おもなできごと
1894(明治 27)	日清戦争がおこる
1895(明治 28)	下関条約が結ばれる
1900(明治 33)	義和団事件がおこる
1901(明治 34)	八幡製鉄所の開業
1902(明治 35)	日英同盟が結ばれる
1904(明治 37)	日露戦争
1905(明治 38)	ポーツマス条約が結ばれる

義和団事件後、ロシアは満州に強大な軍隊をと

どめて事実上ここを占領し、朝鮮半島へも勢力を伸ばそうとしていた。当時の日本政府は、朝鮮半島がロシアの支配下に入ってしまうと、次は日本自体が危うくなるという危機感を持っていた。こうした、ロシアの中国への進出は、イギリスが中国にもつ権益も危うくするものであったので、イギリスは日本へ接近し、1902年に日英同盟が締結された。

[問題]

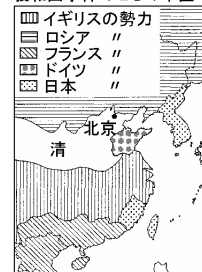
中国で義和団事件が起こった理由を、右の資料を参考にして、簡潔に書きなさい。

(2004年群馬県)

[解答欄]

[解答]列強の中国分割に反発する排外運動がさかんになったため

義和団事件のころの中国




[問題]

右の資料でケーキを食べている様子は何をあらわしているか。ケーキにたとえられた国名を明らかにして、簡潔に書きなさい。

(2008 年宮崎県)

[ケーキを食べる欧米列強及び日本]



[解答欄]

[解答]欧米列強や日本が、中国を侵略しているようすを表している。

[問題]

日本は、三国干渉によって関係が悪化していた(オランダ/フランス/ロシア/イタリア)に対抗するため、イギリスと同盟を結んだ。

(2007 年岡山県)

[解答欄]

[解答]ロシア

[問題]

日露戦争の開戦前の 1902 年に、ロシアのアジア進出に対抗して、わが国が同盟を結んだ国は次のどれか。

[ドイツ イギリス フランス アメリカ]

(2006 年長崎県)


[解答欄]

[解答]イギリス

[問題]

日露戦争前に、ロシアに対抗するために日本がとった外交上の政策について、右の資料を参考に簡潔に書きなさい。

(2007年宮崎県)(2006年群馬県)



[解答欄]

[解答]イギリスと日英同盟を結んだ。


[解説]

図は日露戦争の風刺画である。ロシアに日本が立ち向かい、イギリスが日本を後押ししている様子が描かれている。イギリスは中国の長江流域を勢力範囲にしていたが、満州をおさえ、さらに南下しようとしていたロシアに対抗するため、日本と1902年に日英同盟を結んだ。

[問題]

右の絵は、日露戦争の直前の国際関係を描いたものである。絵の中のAで示されている国はどこか答えなさい。

(2003年島根県)



[解答欄]


[解答]イギリス

[問題]

右の資料を参考にして、日露戦争直前の日本、ロシア、イギリス3国の国際関係を簡潔に書きなさい。

(2006年佐賀県)

日露戦争直前の国際関係



[解答欄]

[解答]ロシアと日本は韓国の支配をめぐって対立していた。イギリスはロシアの南下に対抗するため日本と日英同盟を結んだ。

[問題]

次の文は、日露戦争直前の列強の関係について述べたものである。X～Z にあてはまる国名を下の[]の中から1つずつ選びなさい。

(X)は三国干渉をともに行った(Y)と同盟関係にあり、アジアの植民地化で(Z)と対立していた。当時、世界で最も広い範囲を植民地として領有していた(Z)は、日本と同盟関係にあり、アジアやアフリカの植民地化で(Y)と対立していた。中国の広州湾を租借していた(Y)は、(X)には資金援助を行っていたが、三国干渉をともに行ったドイツとは対立していた。

[フランス ロシア アメリカ イギリス]

(2006 年福島県)

[解答欄]

X	Y	Z
---	---	---

[解答]X ロシア Y フランス Z イギリス

[問題]

次のア～ウは、日露戦争が始まる前におきたことがらである。年代の古い順に並べ、符号で書きなさい。

- ア 義和団事件では、日本を主力とする8か国の連合軍が鎮圧にあたった。
- イ ロシアは、ドイツ、フランスとともに、日本に対して三国干渉を行った。
- ウ 日本とイギリスは、ロシアに対抗するために日英同盟を結んだ。

(2007 年岐阜県)

[解答欄]

--

[解答]イ ア ウ

【】日露戦争

[問題]

日露戦争で戦場に行った弟の身を案じ、「君死にたまふことなかれ」とよんだ女流歌人は誰か。

(2005 年和歌山県)

[解答欄]

[解答]与謝野晶子

[解説]

社会主義者の幸徳秋水、キリスト教徒の内村鑑三、「ああをとうとよ君を泣く…」という詩をよんだ与謝野晶子は戦争に反対の声をあげたが、当時のジャーナリズムは威勢のいい主戦論を書き立てていた。政府は巨大な軍事力をもつロシアと戦うことには慎重で、何度もロシアと交渉を重ねた。しかし、ロシアとの間に妥協は成立せず、こうして、1904年に日露戦争が勃発した。(引くをよし(1904)て開戦決定日露戦争) 日本軍は苦戦を重ねつつも戦局を有利にすすめ、日本海海戦でも勝利をおさめた。しかし、日本の戦力は限界に達し、ロシアでも革命が起こるなど、両国とも戦争の継続が困難になった。

1905年、アメリカ大統領のセオドア＝ルーズベルトの仲介によって講和会議が開かれ、ポーツマス条約が結ばれた。この条約で、ロシアは、朝鮮における日本の優越権を認め、旅順・大連の租借権、長春以南の鉄道の利権を日本に譲る、樺太の南半分を日本に譲る、北緯50度以南の漁業権を日本へ譲る、ことを認めた。このときの日本の全権は外相の小村寿太郎であった。しかし、賠償金を得ることはできなかった。これに対して国民の不満が高まり、各地で講和反対集会が開かれ、東京の日比谷では焼き討ち事件が起こった。

[問題]

明治時代のある戦争に関し、アメリカの仲介により日本と対戦国との間に結ばれた講和条約は、次のどれですか。

[下関条約 ベルサイユ条約 ポーツマス条約 サンフランシスコ平和条約]

(2006 年鹿児島県)(2006 年福岡県)(2007 年徳島県)

[解答欄]

[解答]ポーツマス条約

[問題]

日露戦争では、ある国の調停により講和会議が開かれた。この調停をした国を次から選びなさい。

[イギリス フランス ドイツ アメリカ]

(石川県)

[解答欄]

[解答]アメリカ

[問題]

アメリカ大統領セオドア=ルーズベルトの仲介によって、日露戦争の講和条約である、ポーツマス条約が結ばれた。(正誤問題)

(2007年長崎県)

[解答欄]

[解答]正しい

[問題]

ポーツマス条約で、ロシアは朝鮮半島における日本の優越権を認め、(a)の南半分を日本にゆずることなどを認めた。この条約が結ばれたあと、日本は、(b)に勢力を拡大するため、鉄道や炭鉱を経営した。

ア a 樺太, b 満州

イ a 樺太, b インドシナ

ウ a シベリア, b 満州

エ a シベリア, b インドシナ

(2007年愛知県)(2006年岩手県)

[解答欄]

[解答]ア

[解説]

満州において南満州鉄道を建設した。

[問題]

ポーツマス条約の内容に当たるものとして適当なものを、ア～エから1つ選び、その記号を書け。

- ア 日本は遼東半島を清国に返還する。
- イ 日本は山東省のドイツ権益を継承する。
- ウ 日本は旅順・大連の租借権を得る。
- エ 日本は下田・函館の2港を開く。

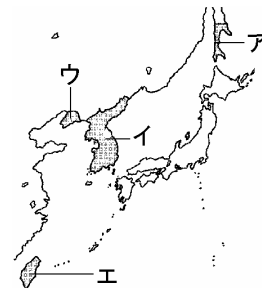
(2006年愛媛県)

[解答欄]

[解答]ウ

[問題]

次の各文は、日清戦争と日露戦争に関連して、下の略地図のア～エについて述べたものである。内容が正しいものを、次の1～4の中から1つ選び、その番号を書きなさい。



- 1 日露戦争後、日本はアをロシアにゆずりわたした。
- 2 日清戦争後、日本はイの独立を認めしたが、清はこれを拒否した。
- 3 日露戦争後、三国干渉によって、日本はウを清に返還した。
- 4 日清戦争後、日本はエを領有し、総督府を置いた。

(2007年青森県)

[解答欄]

[解答]4

[解説]

1.日露戦争後、ロシアが日本にア(南樺太)をゆずりわたした。2.日清戦争後、清はイ(朝鮮)の独立を認めた。3.三国干渉によって日本がウ(リアオトン半島)を清に返還したのは、日清戦争後。

[問題]

1905年に、東京で日比谷焼き打ち事件がおこった。この事件の原因について、「日露戦争」と「賠償金」の二つの語を用いて簡潔に書きなさい。

(2004年栃木県)

[解答欄]

[解答]日露戦争の講和条約であるポーツマス条約で、ロシアから賠償金を得ることができなかったため。

[問題]

日露戦争後のできごとについて説明した文として誤っているものを、次のア～エから1つ選んで記号で答えなさい。

- ア 南満州鉄道株式会社が鉄道や鉱山を開発し、満州の経営を本格化させた。
- イ 下関で講和条約を結び、日本は清に朝鮮の独立を認めさせて、台湾や遼東半島を獲得した。
- ウ 賠償金を獲得できなかったため、不満をもった民衆が東京で焼き打ち事件をおこした。
- エ 外国から借りた戦費の返済などのため、国民は重い負担を強いられるようになった。

(2003年島根県)

[解答欄]

[解答]イ

[解説] イは日清戦争の講和条約のことを説明している。

【】日露戦争後のアジア

[問題]

日露戦争後、日本は大陸への進出を強め、1910年にはアジアのある国を併合した。その国の名前を答えなさい。

(沖縄県)

[解答欄]

[解答]韓国(朝鮮)

[解説]

日本は、日露戦争後、^{かんこくとうかん}韓国統監府を置いて朝鮮の植民地化を進めた。初代の韓国統監になった伊藤^{いとう}博文^{ひるぶみ}が、朝鮮人の安重根^{あんじゆうこん}に暗殺された後、1910年に韓国併合^{かんこくへいごう}を行った。(幾十(1910)年韓国泣かせた韓国併合) 日本は、朝鮮總督府^{そうとくふ}を設置して、武力を背景にした朝鮮支配をおしすすめ、学校では朝鮮史を教えることを禁じ、日本史や日本語を教えて、日本人に同化させる教育をおこなった。また、朝鮮の人々の姓名を、日本式に改めさせる^{そうしかいめい}創氏改名をおし進めた。

[問題]

日本による韓国の植民地化は、日露戦争後本格化し、日本は韓国を 1910 年に併合して朝鮮總督府を置き、植民地支配をおし進めた。この植民地支配は、第二次世界大戦が終わるまで続いた。日本による韓国の植民地支配について説明したものととして、誤っている文を、次のア～エから 1 つ選び、記号で答えなさい。

- ア 板垣退助が初代の韓国統監となり、韓国皇帝とともに内政を行った。
- イ 朝鮮の学校では、朝鮮史を教えることは禁じられ、日本史や日本語が教えられた。
- ウ 朝鮮の人々の姓名を、日本式に改めさせる創氏改名をおし進めた。
- エ 多数の朝鮮の人々が日本に強制連行され、工場や炭鉱などで過酷な労働に従事させられた。

(2003 年鳥取県)

[解答欄]

[解答]ア

[解説]

アが誤り。初代の^{かんこくとうかん}韓国統監は伊藤^{いとう}博文^{ひるぶみ}である。

[問題]

次の四つのできごとのうち、日露戦争が終結した後のできごとはどれか。

- ア 朝鮮総督府がおかれた。
- イ 日朝修好条規が結ばれた。
- ウ アヘン戦争がおこった。
- エ 三国干渉が行われた。

(2006年神奈川県)

[解答欄]

[解答]ア

[問題]

中国で辛亥革命がおこったが、三民主義を唱え、その革命運動の中心となり、建国された中華民国の臨時大總統となったのは誰か。その人名を書け。

(2007年長崎県)(2007年鹿児島県)

[解答欄]

[解答]孫文

[解説]

中国では帝国主義列強の圧迫に対抗する動きが強まり、清を倒して民族の独立と近代国家の建設をめざす運動がおこった。1911年、三民主義を唱える孫文を中心にして辛亥革命がおこり、孫文を臨時大總統とし、南京を首都とする中華民国が建国された。(辛亥の三民主義は一句いい(1911))孫文は、大總統の地位を袁世凱にゆずったあとも中国統一運動を続け、1919年に中国国民党をつくった。

[問題]

1911年中国でおきた革命は何か。また、その結果1912年に成立した国は何というか。

(補充問題)

[解答欄]

<input type="text"/>	<input type="text"/>
----------------------	----------------------

[解答]辛亥革命 / 中華民国

[問題]

次の文の 〇 に当てはまる人の名を書きなさい。また、 △ に共通して当てはまる国の名を書きなさい。

日露戦争での日本の勝利により、アジア諸国の独立の動きが高まった。欧米諸国に半ば植民地とされてきた清の(〇)は、清をたおして近代国家の建設をめざすため、1905年に東京で中国同盟会をつくり、三民主義を唱えた。一方、日露戦争後、日本は武力を背景として、(△)の外交と内政を支配下におき、1910年には(△)を併合し、総督府を設置して植民地支配を行った。

(2008年北海道)

[解答欄]

--	--

[解答] 孫文 韓国

[問題]

日露戦争における日本の勝利は、アジア諸国の民族独立の動きに影響を与えた。インドでも民族独立の動きが高まった。インドは日露戦争当時、どのような状況に置かれていたか、ヨーロッパのある国との関係から書きなさい。

(2007年石川県)

[解答欄]

--

[解答]イギリスの植民地であった。

【】条約改正：関税自主権の回復

[問題]

欧米諸国との不平等条約の改正をめざす日本は、1894年にはじまる（清／ロシア）との戦争の直前に、まずイギリスとの間で（関税自主権／領事裁判権）の撤廃を中心とする条約の一部改正に成功し、続いて、他の欧米諸国とも同様の改正をおこなった。その後も、イギリスをはじめとする欧米諸国と条約改正に向けて交渉を続け、1911年に、欧米諸国との間で完全な平等条約を結ぶことができた。

(2006年広島県)

[解答欄]

--	--

[解答] 清 領事裁判権

[解説]

日清戦争直前の1894年、外相陸奥宗光はイギリスと交渉して領事裁判権の撤廃に成功した。関税自主権の回復は、日露戦争後の1911年であった。外相小村寿太郎はアメリカと交渉して関税自主権の回復をはたした。(自主権回復ひどくない(1911))

[問題]

1911年、幕末に欧米諸国との間に結ばれた不平等条約が、完全に対等な条約に改正された。それは、この年に何という権限を確立することによって実現したのか、書きなさい。

(2007年徳島県)

[解答欄]

--

[解答]関税自主権

[問題]

次のア～エは不平等条約の改正に関することがらである。年代の古い順に並べかえなさい。ただし、アは2番目になる。

- ア ノルマントン号事件がおきた。
- イ 関税自主権を完全に回復した。
- ウ 岩倉使節団を欧米に派遣した。
- エ 領事裁判権(治外法権)が撤廃された。

(2004年大分県)

[解答欄]

[解答]ウ ア エ イ

[問題]

条約改正の実現に貢献した人物の組み合わせとして、最も適当なものはどれか。

- ア 西郷隆盛・板垣退助 イ 板垣退助・陸奥宗光
ウ 陸奥宗光・小村寿太郎 エ 西郷隆盛・小村寿太郎

(2004 年鹿児島県)

[解答欄]

[解答]ウ

[解説]

むつおれみつ陸奥宗光は日清戦争前後の時期の外務大臣で治外法権の撤廃に成功した。こむらじゅたろう小村寿太郎は日露戦争前後の時期の外務大臣で関税自主権の撤廃に成功した。

[問題]

幕末以来の不平等条約の改正が完全に達成された時期と一番近い時期のできごとを、次のア～ウから 1 つ選び、記号を書きなさい。

- ア 下関条約を結ぶ
イ ポーツマス条約を結ぶ
ウ サンフランシスコ平和条約をむすぶ

(2006 年長野県)

[解答欄]

[解答]イ

[問題]

「わが国は、不平等条約で失った()の自主権を完全に回復した。その後起こった第一次世界大戦中に、わが国は経済力を伸ばした。」この文は、資料中のO~Rのいずれかの期間のようすを述べたものか。

(2007年福岡県)

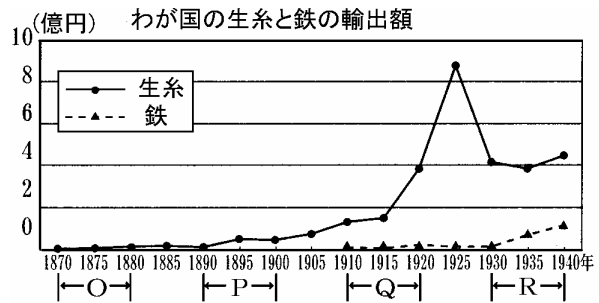
[解答欄]

--	--

[解答]関税/Q

[解説]

関税自主権の回復と領事裁判権の撤廃を主な内容とする不平等条約改正を実現できたのは、日露戦争後の1911年であった。



[問題]

条約改正が実現した背景として、あてはまらないものを、一つ選んで記号を書きなさい。

- ア 国際連盟に加盟し、常任理事国となった。
- イ 立憲政治が実現し、国のしくみが整った。
- ウ 日露戦争の勝利で国際的地位が向上した。
- エ ノルマントン号事件で国内世論が高まった。

(2009年秋田県)

[解答欄]

--

[解答]ア

[解説]

条約改正の完成は明治末である。アは大正時代のできごとなので条約改正とは関係がない。

【】産業革命：軽工業の発展

[問題]

18世紀のイギリスにおいて、機械の発明などにより、社会のようすが大きく変わる(X)が起こり、やがて世界各国に広がった。明治初期に政府が近代産業の育成につとめた日本においても、1880年代に入ると、紡績、製糸などの軽工業から(X)が始まり、新しい社会のしくみである資本主義が発展した。

(2004年愛知県)

[解答欄]

[解答]産業革命

[解説]

1880年代には政府が民間産業を育成する政策をとったこともあって、^{ほうせん}紡績・製糸などの軽工業が発展し日本も産業革命の時代を迎えた。

[問題]

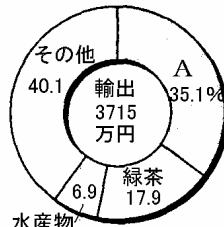
グラフ1とグラフ2は、それぞれ1885年と1899年のわが国における品目別輸出入品の割合を示したものである。また下の資料は、フランスの技術を取り入れ群馬県に設立された官営模範工場である。

- グラフ中のAは、資料の工場で生産された品目であるが、Aにあてはまるものは何か答えなさい。
- グラフ1とグラフ2の輸出入品の品目の変化をふまえて、1885年から1899年の間にわが国の産業にどのような変化があったか、具体的に品目をあげて説明しなさい。



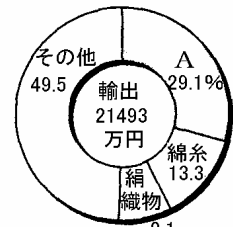
(2006年鳥取県)

[解答欄]

グラフ1 1885年の貿易



グラフ2 1899年の貿易



[解答](1)生糸 (2) 1885 年には綿糸を輸入していたが、1899 年には綿花を輸入し、綿糸を輸出していることから、紡績業が発達したことがわかる。

[解説]

(1) 幕末以来、生糸は最大の輸出品であった。明治初期に官営模範工場として建設された富岡製糸場は、外国の機械を導入した生糸の生産工場であった。その後、輸入機械にまなんで在来技術を改良した器械製糸による小工場が、長野・山梨県などの養蚕地帯にぞくぞくと生まれ、日露戦争後には、アメリカむけを中心にさらに生糸輸出が伸び、明治末ごろには輸出規模は世界最大になった。

(2) グラフで注目すべきは綿糸である。1885 年には最大の輸入品であったが、1899 年には A の生糸につぐ輸出品になっている点に注目すべきである。幕末以来の綿製品の輸入に圧迫されて、綿織物業は一時おとろえたが、原料糸に輸入綿糸を用いて農村での問屋制家内工業を中心に生産はしだいに回復していた。このような中で、輸入した紡績機械を用いた大規模な綿糸の生産工場が次々につくられ、やがて国産の綿糸が輸入品を追い出し、さらに、生糸につぐ輸出品になった。綿糸の原料である綿花はおもに輸入にたよったので、綿花は最大の輸入品となった。

[問題]

次の問いに答えなさい。

(1) (A)に当てはまるものを、次から選びなさい。

[生糸 船舶 銀 陶磁器]

(2) 1882 年に輸入品の 1 位であった綿糸は、1897 年には輸出品の 2 位になっていることが分かる。このように変化した理由を、「工場」という語を用いて、簡潔に書きなさい。

日本の主な輸出入品の変化

	順位	1882年	1897年
輸出品	1	(A)	(A)
	2	緑茶	綿糸
	3	水産物	絹織物
輸入品	1	綿糸	綿花
	2	砂糖	米
	3	綿織物	砂糖

(2007 年群馬県)

[解答欄]

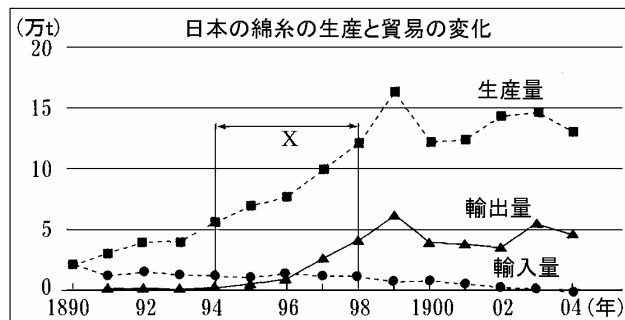
(1)	(2)
-----	-----

[解答](1) 生糸 (2) 輸入した綿花を原料として、工場で綿糸を大量生産できるようになったから。

[問題]

右のグラフは、日本の綿糸の生産と貿易の変化を示したものである。グラフを見て、Xの期間の綿糸の貿易の変化について、30字以上40字以内で説明しなさい。ただし、生産量が変化した理由も含めて書くこと。

(2007年大分県)(2007年鹿児島県)



[解答欄]

[解答]産業革命の進行により、綿糸の生産量が伸びて、輸出量が輸入量を上回るようになった。

[問題]

次の ~Z, グラフの a ~c は綿糸, 生糸, 鉄類のいずれかである。綿糸, 生糸のそれぞれを表すものを X~Z, a~c からそれぞれ選びなさい。

：この品目は、1880年代まで

はおもに輸入にたよっていた。わが国の産業改革により生産量が増大し、日清戦争以降は急速に輸出量が増大した。

Y：この品目は、重工業の発達とともに、需要が増大した。国内での生産は、1900年代初めに福岡県の官営工場が操業を開始して以降、しだいに本格化した。

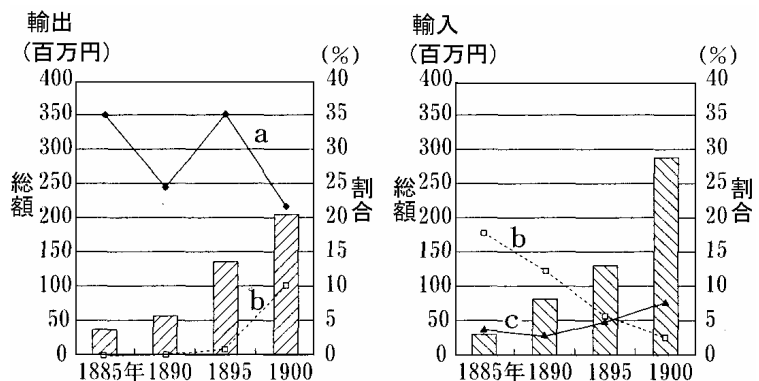
Z：この品目は、開国以来、重要な輸出品であった。工場の建設と機械化による生産の拡大により、1880年代、1890年代においてもわが国の輸出の中心であった。

(2007年熊本県)

[解答欄]

--	--

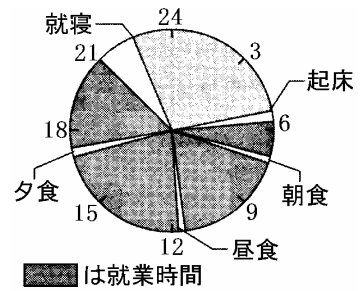
[解答] ・b Z・a



[問題]

右図は明治時代の、長野県のある製糸工場で働く女子工員の平均的な一日の生活を示している。現代では、この工場における女子工員のような労働は、法律によって規制されている。現代の法律で定められた労働条件のもとでの労働と比べたとき、この工場における女子工員の労働には、どのような問題があるか。図から分かる問題を、簡単に書きなさい。

(2006年静岡県)



[解答欄]

[解答] 休憩時間が短く、労働時間が長すぎること。

[解説]

女子工員たちの労働時間は非常に長く、しかも低賃金であった。

[問題]

1880年代には産業革命の時代をむかえた。資本主義の発達とともに、工場労働者が増加してきたが、大半は(食品/石炭/繊維/化学)産業で働く若い女子で、低賃金で長時間の労働に従事していた。

(鳥取県)

[解答欄]

[解答] 繊維

【】産業革命：重工業の発展

[問題]

日本では、1880年代後半から、製糸業や紡績業に代表される（軽工業／重工業）が発展した。また、1897年に、政府は八幡製鉄所の建設に着手し、（軽工業／重工業／化学工業）の基礎となる鉄鋼の国産化をめざした。

(2005年千葉県)

[解答欄]

--	--

[解答] 軽工業 重工業

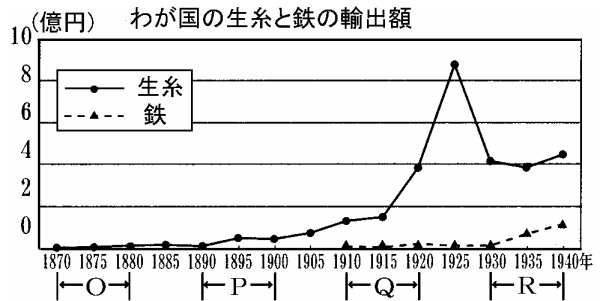
[解説]

1880年代には政府が民間産業を育成する政策をとったこともあって、^{ぼうせき}紡績・製糸などの軽工業が発展し日本も産業革命の時代を迎えた。重工業では、日清戦争後に、清からの賠償金をもとに、官営の^{やはた}八幡製鉄所が建設され、その後、鉄鋼、電気、造船などが発達した。

[問題]

資料からわが国の工業の発達が読み取れる。軽工業と重工業はどのような順に発達したか、「生糸に代表される」の書き出しで書け。

(2007年福岡県)



[解答欄]

--

[解答]生糸に代表される軽工業が発達し、後に、重工業が発達した。

[問題]

日清戦争のあとに、明治政府は国内の近代産業を発展させるために、官営の施設を建設しました。この施設の名称を、次の中から1つ選びなさい。

[鹿鳴館 富岡製糸場 八幡製鉄所 開拓使]

(2007年埼玉県)

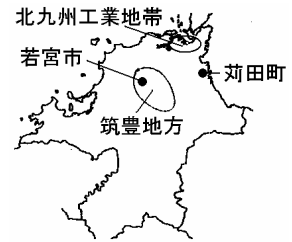
[解答欄]

--

[解答]八幡製鉄所

[解説]

日清戦争の賠償金を使って、1901年に洞海湾^{どうかいわん}の南側に(現在の北九州市)官営の八幡製鉄所^{やはな}がつけられた。ここに製鉄所が設けられたのは、近くに筑豊地方^{ちくほう}の石炭(筑豊炭田)や石灰石の産地があったこと、鉄鉱石の輸入先であった中国に近かったことによる。



[問題]

官営八幡製鉄所がおかれた場所を、右の略地図中のア～エから選び、符号を書きなさい。

(2005年大分県)

[解答欄]

[解答]エ



[問題]

重工業製品の国産化をめざして、八幡製鉄所が1901年に操業を開始した。製鉄に使われ、燃料にも用いられる、北九州で豊富に産出していた鉱産資源を書きなさい。

(2009年兵庫県)

[解答欄]

[解答]石炭

[問題]

日清戦争の後、わが国では鉄鋼の需要が高まり、官営の八幡製鉄所が設立された。鉄鋼の需要が高まったおもな理由を、二つ選んで記号を書きなさい。

ア 軍備の増強 イ 貨幣の鑄造 ウ 自動車の増産 エ 鉄道網の拡大

(2006年秋田県)

[解答欄]

[解答]ア・エ

[問題]

日清戦争直後の、わが国の工業のようすについて説明した文として、最も適切なものを、次のア～エから選び、記号で答えなさい。

- ア 造船業がさかんになるとともに、官営製鉄所の建設がはじまった。
- イ 欧米からの輸入がとだえ、国内で機械工業や化学工業が発達した。
- ウ 戦時体制が強められ、軍艦や飛行機などの生産に力を入れた。
- エ 外国から機械を買い、製糸や紡績の官営模範工場をつくった。

(2007年山口県)

[解答欄]

[解答]ア

[問題]

八幡製鉄所が建設されたころの社会のようすを述べた文として、正しいものを、次のア～エから1つ選び、記号で答えなさい。

- ア 新政府は近代国家建設のために、廃藩置県や学制の公布などの改革を行った。
- イ 日清戦争後に、機械化が進んだ軽工業で輸出が拡大し、産業革命が進展した。
- ウ 第一次世界大戦による好景気が続き、物価が上がり全国で米騒動が発生した。
- エ 世界恐慌が発生し、日本もその影響から失業者が増え、労働争議が多発した。

(2007年宮城県)

[解答欄]

[解答]イ

[問題]

官営八幡製鉄所は、右図のA～Dのどの期間につくられましたか。適切なものを1つ選び、その記号を書きなさい。

(2007年和歌山県)(2006年兵庫県)

[解答欄]

[解答]C

- 1877年 西南戦争が起こる。
↓ A
- 1885年 内閣制度ができる。
↓ B
- 1894年 日清戦争が始まる。
↓ C
- 1904年 日露戦争が始まる。
↓ D
- 1910年 韓国が併合される。

[問題]

日露戦争のころから，日本で発展した近代工業は何か。次から1つ選びなさい。

[製糸業 紡績業 造船業 化学工業]

(石川県)

[解答欄]

[解答]造船業

[問題]

20世紀の初めには，三井・三菱などの大企業は多くの企業を支配して，日本経済に大きな力をおよぼすようになった。このような大企業を何というか，書きなさい。

(2005年徳島県)

[解答欄]

[解答]財閥

[解説]

産業の発展の中で三井^{みつい}，三菱^{みつびし}，住友^{すみとも}，安田^{やすだ}の資本家は，金融・貿易・鉱山業などの多角経営を行って，日本経済を支配する財閥^{ざいばつ}に成長していった。

[問題]

足尾銅山鉍毒事件で，右図の人物は，天皇に直訴するなど，この問題の解決に努めた。この人物は誰か。

(2005年栃木県)

[解答欄]

[解答]田中正造

[解説]

鉍工業がさかんになると，排水や煙による被害も出るようになった。栃木県の足尾銅山^{あしお}では鉍毒が農産物などに被害を与え，田中正造^{しょうぞう}を中心にした公害反対運動が起こった。



[問題]

略地図に X で示したあたりにはかつて操業していた銅山があり、この銅山から流れ出た鉱毒が渡良瀬川流域の人々や自然環境に大きな被害を与えた。明治時代、衆議院議員であった田中正造が操業停止などを訴えたこの銅山を何というか、書きなさい。

(2006 年三重県)

[解答欄]

[解答]足尾銅山



[問題]

下の資料は田中正造が天皇へあてた直訴状の一部である。田中正造はこの文章で何の問題を訴えたのか、最も適切なものを下のア～エから 1 つ選び、記号で答えなさい。

ア 政府の増税 イ 産業革命の遅れ ウ 環境の破壊 エ 失業の増加

(資料)

鉱業の機械化が進み、足尾銅山^{あしおどうざん}から流れ出す鉱毒の被害はますますひどくなっています。そのため魚は死に絶え、田畑は荒れ果て、住民は財産などを失っています。

(2006 年沖縄県)

[解答欄]

[解答]ウ

【】明治時代の文化

[問題]

人間の自由や平等にかかわる近代思想を日本に紹介し、「学問のすすめ」をあらわした人物の名前を書きなさい。

(2007年長野県)(2006年徳島県)

[解答欄]

[解答]福沢諭吉

[解説]

明治になって、欧米の近代思想も次々に紹介され、人間の平等と民主主義がわかりやすい形で説かれた。「天は人の上に人を造らず、人の下に人を造らずといえり。」という文章で有名な「学問のすすめ」を書いたのは福沢諭吉である。ルソーらの民主主義思想を紹介したのは中江兆民である。これらの思想は青年たちに大きな影響を与え、やがて自由民権運動へとつながっていった。

[問題]

右の人物は、人間の平等や学問の大切さなどを説いた『学問のすゝ(す)め』を出版した。この人物に最も関係の深いものを、次から一つ選びなさい。

[教育勅語 尊王攘夷 文明開化 民本主義]

(2008年山形県)



[解答欄]

[解答]文明開化

[問題]

フランスのルソーの思想を紹介した人物はだれか。次から選びなさい。

[中江兆民 新井白石 吉野作造 杉田玄白]

(2004年山口県)

[解答欄]

[解答]中江兆民

[問題]

フランスの(X)の思想は、中江兆民によって紹介された。(X)は、「社会契約論」を著して人民主権を唱えた。X に当てはまる人物の名を書け。

(2003 年愛媛県)

[解答欄]

[解答]ルソー

[問題]

明治時代、岡倉天心とともに日本画などの復興に努め、日本の伝統美術のすぐれた点を海外にも知らせた人物はだれか、次から選びなさい。

[フェノロサ ウィルソン ビゴー ルソー]

(2006 年三重県)

[解答欄]

[解答]フェノロサ

[解説]

おかくらてんしん岡倉天心とアメリカ人フェノロサとは日本画を復興させた。洋画では「読書」を描いたくろだせいき黒田清輝が有名である。音楽では、「荒城の月」などを作曲したたきれんたろう滝廉太郎が有名である。

[問題]

「読書」, 「湖畔」が代表作品である(歌川広重 / 黒田清輝 / 岡倉天心 / 平塚らいてう)は、日本の洋画発展の基礎をきづいた。

(2006 年千葉県)

[解答欄]

[解答]黒田清輝

[問題]

「吾輩は猫である」の作者は次のうちの誰か。

[正岡子規 岡倉天心 夏目漱石 二葉亭四迷]

(滋賀県)

[解答欄]

[解答]夏目漱石

[解説](明治時代の文学)

坪内逍遙つぽうちしやうよう：「小説神髓しんずい」：道徳にとらわれず写実を重んじ、近代文学の出発点になった。

島崎藤村しまさきとうそん：「破戒はかい」「若菜集わかなしゅう」

夏目漱石なつめそうせき：「吾輩は猫である」「坊ちゃん」「三四郎」：個人主義の立場から社会を厳しくとらえた。

森鷗外もりおうがい：「舞姫まいひめ」：ドイツに留学して医学を学んだ。

樋口一葉ひぐちいちよう：「にごりえ」「たけくらべ」

与謝野晶子よさのあきこ：「みだれ髪」：「君死にたまふことなかれ」など多くの名作を残した。

石川啄木いしかわたくぼく：「一握の砂いちあく」：社会を見つめ生活をうたった和歌を作った。

正岡子規まさおかしき：俳句の近代化につとめた。

[問題]

「舞姫」の作者は次のうちの誰か。

[森鷗外 小泉八雲 西周 若槻礼次郎]

(島根県)

[解答欄]

[解答]森鷗外

[問題]

「たけくらべ」, 「にごりえ」などの小説を発表し, 現在の五千円札にその肖像が使われていることでも知られているのはだれか。次から選びなさい。

[与謝野晶子 平塚雷鳥 樋口一葉 津田梅子]

(2008年鹿児島県)

[解答欄]

[解答]樋口一葉

[問題]

次の A～D からいずれか一人を選び、その符号を書け。また、選んだ人物を説明している文章を I 群の ア～オ から 1 つ選び、さらに、選んだ人物の作品を 群の a～e から 1 つ選んで、それぞれの符号を書きなさい。

A 滝廉太郎 B 夏目漱石 C 島崎藤村 D 黒田清輝

(I 群)

- ア 人間の平等と独立の精神を訴えた。
- イ 多くの曲をつくり、近代音楽への道をひらいた。
- ウ 個人主義の立場からすぐれた小説を書いた。
- エ フランスに留学し、洋画発展の基礎を築いた。
- オ 個性を重んじるロマン主義の詩を発表した。

(群)

a「吾輩は猫である」 b「読書」 c「荒城の月」 d「学問のすすめ」 e「若菜集」

(新潟県)

[解答欄]

A	B	C	D
---	---	---	---

[解答]A：イ，c B：ウ，a C：オ，e D：エ，b

[問題]

各人物名と説明との適切な組み合わせを、次のア～ウから 1 つ選び、記号で答えなさい。

- ア A：樋口一葉：作家：代表作『みだれ髪』
- イ D：福沢諭吉：教育者：著書『学問のすすめ』
- ウ E：野口英世：作家：代表作『我輩は猫である』

(2007 年沖縄県)

[解答欄]

[解答]イ

[問題]

右の資料は、細菌の研究者で、黄熱病を研究したことで知られる人物です。
この人物の名前を書きなさい。



(2003 年山形県)

[解答欄]

[解答]野口英世

[解説]

(明治時代の医学)

きたざとしばさぶろう 北里柴三郎：細菌学で破傷風血清療法はしょうふうけっせいりょうほうの発見など、世界的な研究を成し遂げた。

のぐちいでよ 野口英世：黄熱病おうねつびょうの研究を行った。

しがきよし 志賀潔：赤痢菌せきりきんを発見した。

[問題]

アメリカに渡る前の野口英世が指導を受けた人物で、破傷風の治療法を発見し、日本の医学が世界に認められるきっかけをつくった医学者は誰か。次の中から一人選びなさい。

[森鷗外 長岡半太郎 黒田清輝 北里柴三郎]

(2005 年福島県)

[解答欄]

[解答]北里柴三郎

[問題]

明治時代の文化について述べた文として適当でないものを、次のア～エから 1 つ選んで記号で答えなさい。

ア ドイツに留学し、西洋文明に接した森鷗外は、帰国後に小説『舞姫』を発表した。

イ 福沢諭吉は、人間の平等をわかりやすい表現で説いた『学問のすすめ』を著した。

ウ 有声映画やラジオなど新たな娯楽が大衆の人気を集めた。

エ 北里柴三郎は、細菌学の分野で、世界的な業績である破傷風血清療法を発見した。

(2007 年島根県)

[解答欄]

[解答]ウ

[解説]

ラジオ放送の開始は大正時代である。

[印刷 / 他の PDF ファイルについて]

このファイルは、FdData 入試社会(15,000 円)の一部を PDF 形式に変換したサンプルで、印刷はできないようになっています。製品版の FdData 入試社会は Word(または一太郎)の文書ファイルで、印刷・編集を自由に行うことができます。

FdData 入試社会・入試理科全分野の PDF ファイル、FdData 中間期末(社会・理科・数学)全分野の PDF ファイル、および製品版の購入方法は<http://www.fdtype.com/dan/> に掲載しております。

下図のような、[FdData 無料閲覧ソフト(RunFdData)]を、Windows のデスクトップ上にインストールすれば、FdData 中間期末・FdData 入試の全 PDF ファイル(各教科約 1500 ページ)を自由に閲覧できます。次のリンクを左クリックするとインストールが開始されます。

RunFdData(Word 版) 【 <http://www.fdtype.com/lnk/instRunFdDataWDs.exe> 】

RunFdData(一太郎版) 【 <http://www.fdtype.com/lnk/instRunFdDataTAs.exe> 】

ダイアログが表示されたら、【実行】ボタンを左クリックしてください。インストール中、いくつかの警告が出ますが、[実行][許可する][次へ]等を選択します。

【イメージ画像】



【Fd 教材開発 : URL <http://www.fdtype.com/dan/> Tel (092) 404-2266】