

【】 第一次世界大戦とその後の国際社会

【】 第一次世界大戦

[2 つに分かれた列強]

[問題]

19 世紀末から 20 世紀初めにかけて，複雑な民族対立とヨーロッパ列強の利害の対立のために戦争がおこる危険性が高かった半島はか。また，ヨーロッパの何とよばれていたか。

(補充問題)

[解答欄]

--	--

[解答] バルカン半島 ヨーロッパの火薬庫

[解説]

19 世紀末から 20 世紀初めにかけてのヨーロッパは、ドイツ・オーストリア・イタリアの三国同盟と、イギリス・フランス・ロシアの三国協商の 2 つの陣営に分かれて対立を深めていた。これらの列強は世界中で対立していたが、しだいにバルカン半島が対立の中心になり，民族・宗教の対立もからんで，バルカン半島は「ヨーロッパの火薬庫」と呼ばれるようになった。

[2 つに分かれた列強]

三国同盟：ドイツ・オーストリア・イタリア

三国協商：イギリス・フランス・ロシア

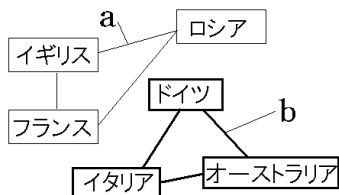
バルカン半島：ヨーロッパの火薬庫



[問題]

右図を見て，次の各問いに答えよ。

- (1) 第一次世界大戦前の右図中 a の三か国の軍事的結びつきを何というか。
- (2) 第一次世界大戦前の右図中 b の三か国の軍事的な結びつきを何というか。
- (3) 20 世紀初めのバルカン半島は，列強の利害と民族や宗教の対立がからまって，国際紛争の火種となったことから，何と呼ばれていたか。



(補充問題)

[解答欄]

(1)	(2)	(3)
-----	-----	-----

[解答](1) 三国協商 (2) 三国同盟 (3) ヨーロッパの火薬庫

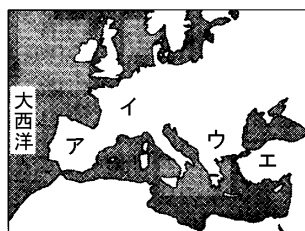
[問題]

第一次世界大戦の戦争の原因の1つとなった民族紛争が続いたのは、略地図中のア～エのどこか、記号で答えよ。

(山形県)

[解答欄]

[解答]ウ



[第一次世界大戦の勃発]

[問題]

次の各問いに答えよ。

(1) 自国の皇太子夫妻が暗殺されたのを機に、セルビアに宣戦した国の国名を書け。

(2) (1)によって始まった世界規模の戦争を何というか。

(秋田県)(沖縄県)

[解答欄]

(1)	(2)
-----	-----

[解答](1) オーストリア (2) 第一次世界大戦

[解説]

1914年(大正3年)、バルカン半島のサラエボという都市で、オーストリアの皇太子夫妻がセルビアの青年に暗殺されるというサラエボ事件が起こった。オーストリアはセルビアに宣戦布告し、ドイツ、トルコなどの同盟国がオーストリアにつき、イギリス、フランス、ロシアなどの連合国がセルビアについて、戦争は世界中に広がって、第一次世界大戦が始まった。(第一次世界大戦行く銃士(1914))

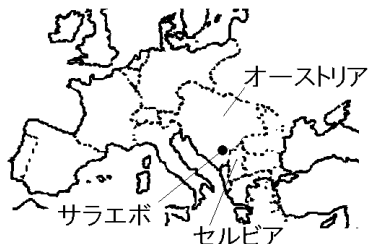
イタリアは領土をめぐってオーストリアと対立して、三国同盟から離脱し、連合国側に立って参戦した。日本は日英同盟を根拠に連合国側に立って参戦し、1917年にはアメリカも連合国側に加わるなど、戦争は世界中をまき込んだものとなった。

[第一次世界大戦]

1914年 (サラエボ事件)
(オーストリア)の皇太子夫妻が
セルビアの青年に暗殺される)

↓
第一次世界大戦が始まる

同盟国:ドイツ, オーストリア, トルコ
連合国:イギリス, フランス, ロシア,
日本, アメリカ, イタリア



[問題]

第一次世界大戦に関係するできごととして正しいものを、次のア～エの中から 1 つ選べ。

- ア オーストリア皇太子夫妻が暗殺された事件をきっかけに、戦争が始まった。
- イ 日本は日独伊三国同盟を結んでいたため、同盟国側に加わった。
- ウ フランスでは戦争や皇帝の専制に対する不満が高まり、革命が起こった。
- エ アメリカで講和会議が開かれ、ポーツマス条約が結ばれた。

(福島県)

[解答欄]

[解答]ア

[解説]

- イは誤り。日本は日英同盟を根拠に連合国側に立って参戦した。
- ウは誤り。第一次世界大戦中におきたのはロシア革命。
- エは日露戦争の講和会議である。

[問題]

第一次戦争が始まったときの状況として、正しいものを、次のア～オから 1 つ選び、その符号を書け。

- ア オーストリア、ロシアなどの国々と、フランス、イギリス、ドイツなどの国々が戦った。
- イ ロシア、フランスなどの国々と、イギリス、ドイツ、オーストリアなどの国々が戦った。
- ウ フランス、イギリスなどの国々と、ドイツ、オーストリア、ロシアなどの国々が戦った。
- エ イギリス、ドイツなどの国々と、オーストリア、ロシア、フランスなどの国々が戦った。
- オ ドイツ、オーストリアなどの国々と、ロシア、フランス、イギリスなどの国々が戦った。

(新潟県)

[解答欄]

[解答]オ

[日本の参戦]

[問題]

第一次世界大戦について、日本が連合国側として参戦する理由とした同盟は何か。

(青森県)

[解答欄]

[解答]日英同盟

[解説]

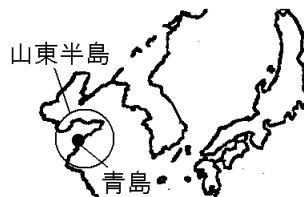
[日本の参戦]

1914年 第一次世界大戦

↓
日本も参戦: 山東半島のドイツ軍を攻撃

根拠: [日英同盟]

目的: 中国における権益拡大



日本は、中国への^{けんえき}権益をのばすために、^{にちえいどうめい}日英同盟を根拠に^{ごんきょ}連合国側にたつてドイツの^{きょてん}拠点であった^{さんとう}山東半島(山東省)の^{ちんたお}青島を攻撃した。さらに日本は中国に対して、^{けんえき}山東半島のドイツ^{けんえき}権益の^{けいしやう}継承、^{りょじゆん}旅順・^{たいれん}大連の^{そしやく}租借期間の99年延長など^{にじゅういちかじょう}二十一か条の要求を出し、これを認めさせた。

[問題]

我が国は、1902年に(A)との間に結んだ同盟を理由に、(A)やフランスなどからなる連合国側の一員として第一次世界大戦に参戦した。Aにあてはまる国の名を書け。

(愛媛県)

[解答欄]

[解答]イギリス

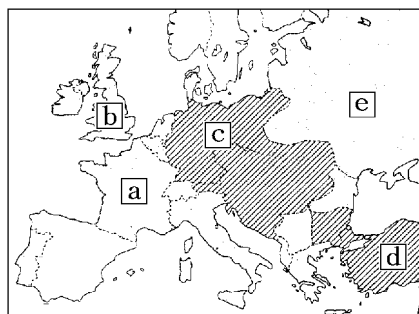
[解説]

日本は、中国への^{けんえき}権益をのばすために、^{にちえいどうめい}日英同盟を根拠に^{ごんきょ}連合国側にたつてドイツの^{しやんとん}拠点であった^{さんとう}山東半島の^{ちんたお}青島を攻撃した。さらに日本は中国に対して、^{けんえき}山東半島のドイツ^{けんえき}権益の^{けいしやう}継承、^{りょじゆん}旅順・^{たいれん}大連の^{そしやく}租借期間の延長など^{にじゅういちかじょう}二十一か条の要求を出し、これを認めさせた。



[問題]

日本はある国との同盟を理由に第一次世界大戦に参戦したが、ある国とはどこか。その国を地図中の a～d から 1 つ選び、記号で答えよ。



(沖縄県)

[解答欄]

[解答]b

[二十一か条の要求]

[問題]

大正 4 年(1915)年に、日本政府が次の資料の内容を含む文書を中国政府に提出した。この文書を何というか。その名称を書け。

- 一、中国政府は、ドイツが山東省にもっているいっさいの権利を日本にゆずる。
- 一、日本の旅順・大連の租借の期限、南満州鉄道の期限を 99 か年延長する。

(新潟県)

[解答欄]

[解答]二十一か条の要求

[解説]

日本は、中国への^{けんえき}権益をのばすために、^{にちえいどうめい こんぎょ}日英同盟を根拠に連合国側になつて第一次世界大戦に参戦し、ドイツの^{きよてん}拠点であった^{さんとう}山東半島(山東省)の^{ちんたお}青島を攻撃した。

[二十一か条の要求]

ドイツが山東省にもつ権益を日本へ譲る
旅順・大連、南満州鉄道の租借期限の延長

さらに日本は、第一次世界大戦で欧米列強のアジアへの関心がうすれたのを機に、^{ちゅうか}中華民国の^{えんせいがい}袁世凱に対して、二十一か条の要求を出し、これを認めさせた。二十一か条の要求の内容は、

- 一 中国政府は、ドイツが^{さんとうしやう}山東省にもっているいっさいの権益を日本にゆずる。
- 一 日本^{りよじゆん}の旅順・大連^{だいいれん}の租借^{そしやく}の期限、南満州鉄道の期限を 99 か年延長する。

などであった。

[問題]

次の資料は、日本が中国政府に提出した「二十一か条の要求」の一部を要約したものである。資料中の()にあてはまる、第一次世界大戦で日本が戦った国はどこか、国名を書け。

- 一、中国政府は、()が山東省にもっているいっさいの権利を日本にゆずる。
- 一、日本の旅順・大連の租借の期限、南満州鉄道の利権の期限を 99 か年延長する。

(徳島県)

[解答欄]

[解答]ドイツ

[問題]

日本が第一次世界大戦参戦当時に同盟を結んでいた国と、講和条約により継承することが認められたものの組み合わせとして、最も適当なものはどれか。

- ア アメリカ：中国におけるドイツの権益
- イ アメリカ：中国におけるフランスの権益
- ウ イギリス：中国におけるドイツの権益
- エ イギリス：中国におけるフランスの権益

(鹿児島県)

[解答欄]

[解答]ウ

[解説]

第一次世界大戦後、中国はドイツ権益の返還を主張したが、パリの講和会議で山東省のドイツ権益を日本が引き継ぐことが認められた。これに対し、中国の反日感情が爆発し、1919年、五・四運動が起こった。その後、1921年に開催されたワシントン会議の中で、中国の独立と領土保全を内容とする条約が結ばれたが、日本も協調外交の立場から、山東省の権益を中国に返還することに同意した。

[ロシア革命]

[問題]

1917年,()革命がおり,社会主義の政府が成立した。文中の()内に入れる適語を答えよ。

(鹿児島県)

[解答欄]

[解答]ロシア

[解説]

戦争が長引くにつれ,ロシア国内では国民の生活が苦しくなり,労働者のストライキなどが広がった。こうした中,1917年(大正6年)にレーニンを指導者としてロシア革命かくめいが起り,1918年,ロシアはドイツと単独たんどくで講和こうわした。(引く否

[ロシア革命]

1917年 ロシア革命 (レーニン)

1918年 シベリア出兵

1922年 ソビエト社会主義共和国連邦

(1917)とレーニン,ロシア革命)ロシア革命の影響が及ぶことを恐れた日本,アメリカ,イギリス,フランスはシベリア出兵を行った。革命政府は,内戦と列強の干渉戦争かんしょうを切り抜け,1922年,ソビエト社会主義共和国連邦しゃかいしゆぎきょうわこくれんぽう(略称はソ連)が世界で初めての社会主義国として成立した。(「ソビエト」はロシア語で「会議」という意味である。)

[問題]

ロシア革命の指導者は誰か。

(補充問題)

[解答欄]

[解答]レーニン

【】国際協調の高まり

[ベルサイユ条約]

[問題]

第一次世界大戦の講和会議で連合国とドイツとの間で結ばれた条約を何というか。

(岩手県)

[解答欄]

[解答]ベルサイユ条約

[解説]

1918年(大正7年)にドイツが降伏し、1919年にフランスのパリで講和会議が開かれ、ベルサイユ条約が結ばれた。この条約で、イ



ギリスとフランスは、ドイツに巨額の賠償金や軍備縮小をおしつけた。また、ドイツは植民地を失い、領土を縮小された。

[ベルサイユ条約]

1919年パリで講和会議
ドイツに巨額の賠償金、
軍備縮小、領土削減
ウィルソン：民族自決を提唱

この講和会議で、アメリカのウィルソン大統領は、植民地支配を受けている民族が独立し、自分たちで自立すべきという民族自決を唱えた。

[問題]

第一次世界大戦に関連して、右の図中の a~d の都市で起こったできごとの説明として適当なものはどれか。次のア~エのうちから2つ選び、年代の古いものから並べ、その符号を書け。

ア a で会議が開かれ中国の独立と領土を尊重することなどの条約が結ばれた。

イ b で講和会議が開かれ b の郊外でベルサイユ条約が結ばれた。

ウ c で革命が起こり、世界で初めての社会主義国家が成立した。

エ d で、オーストリア皇太子夫妻がセルビア人に暗殺される事件が起こった。

(千葉県)

[解答欄]



[解答]エ→イ

[国際連盟の誕生]

[問題]

1919年、連合国とドイツとの間でベルサイユ条約が調印された。この調印に先立ち開かれた会議などで、民族自決や国際連盟の設立を主張したアメリカ大統領はだれか。(兵庫県)

[解答欄]

[解答]ウィルソン

[解説]

1920年(大正9年)、民族自決を唱えるアメリカ大統領のウィルソンの提案にもとづき、世界平和と国際協調のための組織として国際連盟がつくられた。本部はスイスのジュネーブにおかれ、日本は、イギリス・フランス・イタリアとともに4常任理事国の1

[国際連盟] 1920年

ウィルソンの提案

本部はスイスのジュネーブ
常任理事国:イギリス, フランス,
イタリア, 日本
事務局次長に新渡戸稲造

つになった。しかし、当初は、アメリカ自身が議会の反対で参加しなかったうえ、ドイツやソビエト政府が除外されていた。さらに、平和を維持するための強制力をもたなかったため、世界平和を保つためには力不足であった。

新渡戸稲造が国際連盟本部の事務局次長として活躍した。



(ウィルソン)



(新渡戸稲造)

[問題]

アメリカのウィルソン大統領の提案にもとづいて設立された、世界平和を守るための組織を何というか。

(山口県)

[解答欄]

[解答]国際連盟

[問題]

国際連盟が設立された理由を「第一次世界大戦」ということばを使い、簡単に書け。
(北海道)

[解答欄]

[解答]第一次世界大戦の反省から、世界平和を守るために設立された。

[問題]

次の文が正しいければ「正しい」、誤っていれば「誤り」と答えよ。

「ウィルソンの指導のもと、アメリカは国際連盟に加盟した。」

(長崎県)

[解答欄]

[解答]誤り

[解説]

国際連盟はアメリカ大統領ウィルソンの提唱によって設立されたが、アメリカ自体は議会の反対によって国際連盟に加入しなかった。

[問題]

国際連盟の本部が置かれた国の位置を示しているものは、次の地図のア～エのどれか。



(長崎県)

[解答欄]

[解答]エ

[問題]

第一次世界大戦後に設立された国際連盟に関して述べたものとしてあてはまらないものは、次のうちのどれか。1つ選んで、その記号を書け。

- ア 民族自決を唱えていたアメリカのウィルソン大統領の提案にもとづき、世界平和と国際協調をうたう組織として誕生した。
- イ 敗戦国のドイツは遅れて加盟を認められたが、ヒトラーの率いるナチス政権の成立後に脱退した。
- ウ アメリカは国内の反対で加盟できず、ソ連もはじめは除外された。
- エ フランスなどの5か国の常任理事国は、安全保障理事会での拒否権を持つことになった。

(香川県)

[解答欄]

[解答]エ

[解説]

こくさいれんめい 国際連盟の常任理事国は日本・イタリア・フランス・イギリスの4か国。また、国際連盟のときは拒否権はなかった。

[問題]

ベルサイユ条約は第一次世界大戦の講和条約であるが、これに関して正しいものを次のア～エから1つ選び、記号で答えよ。

- ア 日本は、南満州鉄道株式会社を設立し、満州経営を本格化することが認められた。
- イ ロシア革命を支援するため、日本やアメリカなどによるシベリアへの出兵が決められた。
- ウ 国際協調・民族自決の方針のもと、ウィルソン大統領の提案で国際連盟が誕生した。
- エ 清は朝鮮の独立を認め、日本に遼東半島や台湾などをゆずりわたした。

(宮崎県)

[解答欄]

[解答]ウ

[問題]

アメリカ大統領ウィルソンが提案した考え方にもとづいて、アジア各地では独立をめざす運動が高まった。この考え方を何というか。

(石川県)

[解答欄]

[解答]民族自決

[ワシントン会議]

[問題]

1921～22年には、アメリカの呼びかけで国際会議が開かれ、わが国やアメリカ、イギリスなど9か国が参加して、海軍の軍備の制限や日英同盟の解消などについて話し合った。この会議は何と呼ばれるか。

(香川県)

[解答欄]

[解答]ワシントン会議

[解説]

第一次世界大戦中に日本は中国に二十一か条の要求を出しこれを認めさせた。このような日本の動きは、ヨーロッパやアメリカに日本に対する警戒心を起こさせるようになった。また、中国も、その民族運動のほこさきを日本に向けるようになった。その結果、日本は国際的な孤立の危機に直面するようになった。

1921年
ワシントン会議

一方、第一次世界大戦で戦場となったヨーロッパ諸国にかわって、国際政治の主導権を握るようになったアメリカは、東アジアにおける日本の拡張をおさえて東アジアの新しい国際秩序をつくり、あわせて日本・アメリカ・イギリスの間の海軍拡張競争を終わらせて自国の財政負担を軽減しようとしていた。1921年に、アメリカはワシントン会議の開催をよびかけた。

日本政府は、これをアメリカとの協調関係を確立して国際的な孤立の危機を回避するよい機会である判断して会議に参加することを決めた。この会議で、太平洋の現状維持を定める四か国条約が締結され、日英同盟は破棄された。また、九か国条約で中国の独立と領土の保全が決められ、日本は大戦中に獲得した山東省の權益を中国に返還することに同意した。さらに、アメリカ・イギリス・日本などの主力艦の保有量を制限する軍縮条約が結ばれた。こうして、国際協調の時代に入った。

[問題]

次の文の ， の()内より適語を選べ。

ヨーロッパを中心に4年余り続いた戦争の中で、飛行機や船舶などの開発が一段と進み、各国の軍備も増強された。戦後、世界平和と国際協調をうたう（国際連合／国際連盟）が発足した。このような国際協調の時代の中で、中国、太平洋地域の問題や海軍の軍縮について話し合うため、（ロンドン／ワシントン）で国際会議が開かれた。

(埼玉県)

[解答欄]

--	--

[解答] 国際連盟 ワシントン

[問題]

第一次世界大戦後、国際連盟が設立され、ワシントン会議が開かれるなど、(軍備拡張／環境保護／領土拡大／国際協調)を目指す気運が高まった。()内より適語を選べ。

(栃木県)

[解答欄]

--

[解答] 国際協調

[問題]

次の文章中の には当てはまることばを、 には当てはまる内容を「海軍」ということばを用いて書け。

第一次世界大戦が終わると、日本は不景気となり、造船業界の市場も縮小した。1921年から翌年にかけて開催されたワシントン会議では、日露戦争前に結ばれた()同盟を解消するだけでなく、日本など5か国の()ことなどが取り決められた。この取り決めにより、さらに経営が苦しくなった造船所もあった。

(岡山県)

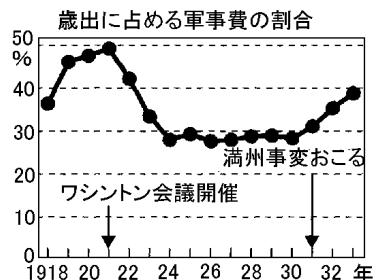
[解答欄]

--	--

[解答] 日英 海軍の軍備を縮小する

[問題]

右のグラフは、ワシントン会議の開催以降 1920 年代に、日本の軍事費の割合が低くなったことを示している。ワシントン会議において、日本を含めた各国は、国際平和の実現のためにどのようなことを行ったのか。グラフを参考に、「国際協調」のこたばを用いて、簡潔に説明せよ。



(岐阜県)

[解答欄]

[解答]海軍の軍縮条約を結ぶなど、国際協調をはかった。

[問題]

ワシントン会議のとき、大戦中にわが国が獲得した()半島の旧ドイツ権益を中国に返還することが決められた。文中の()内に入れる適語を答えよ。

(長崎県)

[解答欄]

[解答]山東

[問題]

国際連盟が設立された翌年、ワシントン会議が開かれた。ワシントン会議の決定にもとづくことがらを述べた文として最も適当なものを、次のア～エから 1 つ選び、その記号を書け。

ア 日本は、ロシアに樺太(サハリン)の領有を認め、千島全島を日本領とした。

イ 日本は、山東省の権益を中国に返し、海軍の軍備も制限された。

ウ 日本は、旅順・大連の租借の期限を延長することが認められた。

エ 日本は、満州国の不承認と占領地からの引き上げを勧告された。

(三重県)

[解答欄]

[解答]イ

[問題]

日本で、護憲運動がおり、本格的な政党内閣が成立するなど、政党政治の発展がみられたころの世界の政治のようすで、正しいものをア～オから2つ選び、記号を書け。
ア ワシントン会議が開かれ海軍の軍備の制限とアジア・太平洋地域の平和維持が決められた。

イ 第一次世界大戦後、イギリスとフランスの二国間でベルサイユ条約が結ばれた。

ウ アメリカ大統領ウィルソンの提案にもとづき、国際連盟が設立され、日本は常任理事国になった。

エ レーニンを指導者にロシア革命がおり、世界初の資本主義国家が誕生した。

オ 中国では明がたおれ、三民主義をとらえた袁世凱を臨時大総統として、中華民国が建国された。

(長野県)

[解答欄]

[解答]ア,ウ

[ワイマール憲法など]

[問題]

ドイツでは、1919年に、20歳以上の男女の普通選挙権や労働者の団結権などを認めた民主的な憲法が制定された。この憲法を何というか、答えよ。

(岡山県)

[解答欄]

[解答]ワイマール憲法

[解説]

戦後のヨーロッパでは、民主主義の高まりとともに、労働者の権利が認められ、女性の社会進出も進んだ。ドイツでは1919年、当時もっとも民主的といわれたワイマール憲法が制定され、満20歳以上の男女の普通選挙や労働者の

だんけつけん

団結権が定められた。イギリスでも1924年に労働党が初めて政権をにぎった。

このころアメリカでは雑誌、ラジオ、映画、自動車が大いに生産されて、都市の大衆は、新しい生活とデモクラシー(民主主義)の象徴のようなこれらの商品を購入し、楽しんだ。

[ワイマール憲法]

1919年 ドイツ
社会権、20歳以上の
男女の普通選挙

[問題]

次のア～エのうち、世界ではじめて憲法に社会権の規定を設けた国の、憲法制定当時のようすについて述べたものはどれか。1つ選び、その記号を書け。

- ア 世界初の国際平和維持機構である国際連盟への加盟が、議会の反対により見送られた。
- イ 第一次世界大戦の敗北により、植民地や領土の一部を失い多額の賠償金が課せられた。
- ウ 共産党による独裁体制がしかれ重工業中心の工業化と農業の集団化がすすめられた。
- エ 議会の第一党の党首が首相となり、党員を中心とした本格的な政党内閣がつくられた。

(岩手県)

[解答欄]

[解答]イ

[解説]

世界ではじめて社会権の規定が設けられたのは、第一次世界大戦後のドイツのワイマール憲法である。アはアメリカ、イはドイツ、ウはソ連、エはイギリスのことを述べている。

[問題]

次の文章中の(X)に共通してあてはまる適切な内容を、下の[]の中から1つ選べ。

ヨーロッパでは、第一次世界大戦前から女性の(X)を求める動きが見られた。大戦中には、男性が戦争に動員されたため労働力が不足し、女性がさかんに職場へ進出するようになった。これらを背景に、イギリスでは1918年に女性の(X)が実現した。

[団結権 プライバシーの権利 生命・身体の自由 参政権]

(青森県)

[解答欄]

[解答]参政権

【】アジアの民族運動

[三・一独立運動]

[問題]

日本の植民地支配に対して、第一次世界大戦後の1919年に朝鮮でおきた民族運動を何というか。

(佐賀県)

[解答欄]

[解答]三・一独立運動

[解説]

日本の植民地支配のもとに置かれていた朝鮮では、1919年(大正8年)3月1日、ソウルで独立をめざす知識人や学生らが日本からの独立を宣言する文章を発表し、人々は「独立万歳」をさげんでデモ行進を行った。これに刺激されて独立運動は、朝鮮全土に広がった。これを三・一独立運動という。日本は軍隊を動員してこれを鎮圧した。

[三・一独立運動]

1919年、朝鮮で起こる

[五・四運動]

[問題]

中国では、日本の二十一か条の要求の取り消しを求める運動が高まり、帝国主義の侵略に反対する国民運動へと発展した。これを何というか、次からひとつ選べ。

[二・二六事件 三・一独立運動 五・一五事件 五・四運動]

(鳥取県)

[解答欄]

[解答]五・四運動

[解説]

1919年(大正8年)、ベルサイユ条約でドイツの中国における権益を日本が引き継ぐことが認められたため、中国の反日感情が爆発した。1919年5月4日の北京での学生集会をきっかけに、中国国内で反日運動がおこり、さらに帝国主義の侵略に反対する国民運動へと発展した。これを五・四運動という。(行く行く(1919)排日五・四運動) この運動をきっかけに、孫文は中国国民党を結成し、1921

[五・四運動]

1919年、中国で起こる

→ 孫文が国民党を結成

年に結成された中国共産党とともに、民族の独立と国家の統一をめざす運動をくり広げた。日本は、ベルサイユ条約で山東省のドイツの権益を引きついだが、ワシントン会議の結果、これを中国に返還し、中国との経済関係を重視する政策をとった。

[問題]

次の各問いに答えよ。

- (1) パリ講和会議で日本の中国における権益の拡大が認められたことから、1919年に中国で起こった運動を何というか。
- (2) (1)の運動をきっかけに、中国国民党を結成し、民族の独立と国家の統一をめざす運動を行った中心人物は誰か。
- (3) 1921年に結成され、中国国民党と協力し、(1)の運動を行った党は何か。
- (4) その後、日本はある国際会議で山東省の権益を中国に返還することを決めた。何という会議か。

(補充問題)

[解答欄]

(1)	(2)	(3)	(4)
-----	-----	-----	-----

[解答](1) 五・四運動 (2) 孫文 (3) 中国共産党 (4) ワシントン会議

[問題]

次のア～ウは、第一次世界大戦中から大戦後にかけておきたことがらである。年代の古い順に並べ、符号で書け。

- ア ワシントン会議が開かれ、中国の独立と領土の保全を決めた。
イ 中国国内で、帝国主義の侵略に反対する五・四運動がおきた。
ウ 日本が、中国に二十一か条の要求を認めさせた。

(岐阜県)

[解答欄]

[解答]ウ→イ→ア

[インドの民族運動]

[問題]

民族自決の考え方にもとづいて、世界の各地で独立運動が高まった。インドの独立運動の指導者だった右の資料の人物の名前を、カタカナで書け。

(長野県)

[解答欄]



[解答]ガンディー

[解説]

イギリスの植民地であったインドでは、戦争に協力すれば自治を認めるという約束をイギリスが守らなかったため、非暴力・不服従を唱えるガンディーを指導者として、完全な自治を求める運動が起こった。

[インドの民族運動]

インド：イギリスの植民地
完全な自治を求める運動

ガンディーの非暴力・不服従

[問題]

写真の人物は、イギリスの植民地支配に対抗してアジアで活動していた指導者である。この人物について述べた次の文中の、
、にあてはまる最も適当な語を、それぞれ漢字2字で書け。

祖国の独立を目指して、非()・非協力・不()を提唱するとともに、国産品の使用をすすめるなどの運動を展開した。

(千葉県)

[解答欄]



[解答] 暴力 服従

[問題]

ガンディーが独立運動を展開していたころ、インドを支配していた国はどこか。

(沖縄県)

[解答欄]

[解答]イギリス

[問題]

20 世紀の初め，インドでは，民族運動がさかんになった。この運動は，どのような考え方にもとづき，何を目標して行われたか。「ガンディー」，「イギリス」の 2 つの語句を用いて書け。

(新潟県)

[解答欄]

[解答]ガンディーの指導により，非暴力・不服従の考えにもとづき，イギリスからの独立をめざした。

[問題]

ベルサイユ条約が結ばれてから後の日本やアジアの情勢として誤っているものを，次のア～エから 1 つ選んで記号で答えよ。

- ア インドではガンディーの指導のもと，イギリスからの独立を求める運動が起こった。
- イ 朝鮮では日本の植民地支配からの独立を求める三・一独立運動が起こった。
- ウ 中国では義和団がたち上がったが，日本を含めた連合軍によって鎮圧された。
- エ 国際連盟が発足し日本はその常任理事国となったが，満州事変の後に脱退した。

(島根県)

[解答欄]

[解答]ウ

[解説]

ウ：義和団ぎわだん事件は 1900 年(明治 33 年)におこった。

【】大正時代

【】大正デモクラシーと政党内閣の成立

[第一次護憲運動]

[問題]

大正デモクラシーに関係の深いできごととして最も適当なものを、次から 1 つ選べ。

[義和団事件 第一次護憲運動 二・二六事件 自由民権運動]

(愛媛県)

[解答欄]

[解答] 第一次護憲運動

[解説]

1912 年(大正元年) , 藩閥勢力の桂 太郎内閣が議会を無視した政治を行ったとして、新聞や知識人などが憲法にもとづく政治を守ろうとする運動を起し、それを支持する民衆運動も各地で起こり、桂内閣は退陣した。この運動を第一次護憲運動という。

[第一次護憲運動]
→ 桂内閣の退陣

[問題]

次の文の、の()内より適語を選べ。

陸軍出身の(原敬 / 桂太郎)が藩閥の後押しを受けて 3 度目の組閣を行ったが、その政治姿勢に対して、(憲法の制定 / 議会の重視)を求める運動がおこり、翌年内閣は総辞職した。

(千葉県)

[解答欄]

[解答] 桂太郎 議会の重視

[問題]

1912 年の第一次護憲運動は、この年の政治上のできごとに対して行われた。そのできごととはどのようなことか、藩閥という言葉を使って書け。

(山形県)

[解答欄]

[解答] 議会を無視して、藩閥に後押しされた桂内閣がつくられたこと。

[問題]

右の写真は、多くの民衆が桂太郎首相の退陣を求めて国会議事堂をとりまいているようすである。この時期の民衆の思想や運動を發展させようとする風潮を何というか。



(茨城県)

[解答欄]

[解答]大正デモクラシー

[大正デモクラシーの思想]

[問題]

デモクラシーの理念が、わが国で高まりをみせた大正時代に、民本主義を唱え、普通選挙によって民意を政治に反映させることなどを主張した人物はだれか。

(香川県)

[解答欄]

[解答]吉野作造

[解説]

第一次護憲運動に始まり、政党政治の發展をみた大正時代は、デモクラシーが唱えられ、自由主義の風潮が高まった時期であった。このような風潮を大正デモクラシー

[(大正デモクラシー)]

[吉野作造]の[民本主義]

美濃部達吉の天皇機関説

二という。吉野作造は「普通選挙によって民意を政治に反映させるべきである」という民本主義を唱え、美濃部達吉は「主権は国家にあり、天皇は国家の最高機関として憲法に従って統治する」という天皇機関説を唱えた。

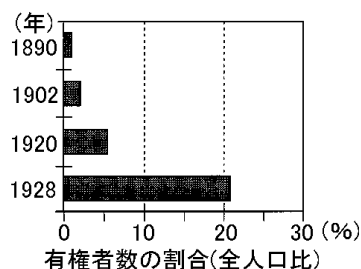


吉野作造 美濃部達吉

[問題]

大正デモクラシーの風潮に影響をあたえた吉野作造が主張した考え方は何か。[]から1つ選べ。また、その考え方は、どのような制度や政治が実現することを目指したもののか。右の資料を参考にして、簡潔に書け。

[民本主義 社会主義 帝国主義 三民主義]



(奈良県)

[解答欄]

--	--

[解答] 民本主義 普通選挙によって民意を政治に反映させること。

[問題]

次の文の ， の()内より適語を選べ。

政治学者の吉野作造は、(民本主義 / 民主主義)を唱えて、普通選挙によって民意を政治に反映することを主張した。また、憲法学者の(原敬 / 美濃部達吉)は、議会中心の政治に即して憲法を解釈し、政党内閣制に理論的根拠をあたえた。このような考え方は、政党政治や普通選挙を実現し、民衆の思想や運動を発展させようとする風潮を育てた。

(茨城県)

[解答欄]

--	--

[解答] 民本主義 美濃部達吉

[問題]

下の資料は、吉野作造が発表した論文の一部をやさしく直したものである。()にあてはまる最も適切なものを1つ選べ。

(資料)

民主主義といえは、「国家の主権は人民にあり」という危険な学説と混同されやすい。…(略)…憲政の根底にあるのは、(一般民衆 / 多額納税者 / 財閥 / 地主)を重んじ、貴賤上下の区別をせず、しかも国体の君主制か共和制かを問わないことである。したがって、民本主義という用語が一番適当であるかと思う。

(青森県)

[解答欄]

--

[解答]一般民衆

[大戦景気]

[問題]

次の文は、大戦景気について説明したものである。文中の　、　の(　)内からそれぞれ適語を選べ。

第一次世界大戦が始まり日本は好景気となった。中国を中心としたアジアへの（綿織物 / 鉄鉱石）の輸出が大きく増加した。さらに、欧米からの輸入がとだえたことにより、国内の（重化学工業 / 農業）が発展し、国内の産業にしめる割合が大きくなった。

(岩手県)

[解答欄]

--	--

[解答] 綿織物 重化学工業

[解説]

1914年(大正3年)に第一次世界大戦が始まると、ヨーロッパ各国からアジアやアフリカなどへの輸出が減少したため、綿織物などの日本製品の輸出先がアジア、アフリカに広がり、連合国への武器などの輸出も急増した。これによって、日本の輸出が急増して輸入を上回り、好景気になった(大戦景気)。また、欧米からの輸入がとだえたため国内の重化学工業が発展し、工業国としての基礎が築かれた。第一次世界大戦が始まった1914年には、工業生産額は農業生産額とほぼ等しかったが、大戦景気により、工業生産額は農業生産額を大幅に上回るようになった。また、造船・海運・鉄鋼業などで、にわかに巨額の利益をあげた成金と呼ばれる人々が生まれた。しかし、戦争が終わってヨーロッパ各国がアジア市場にもどってくると、輸出は減少に転じた。

[大戦景気]
日本の輸出が急増
重化学工業が発展

[問題]

第一次世界大戦中、わが国は空前の好景気となった。このとき、わが国では貿易と産業の面でそれぞれ具体的にどのような変化が生じたか、簡潔に書け。

(栃木県)

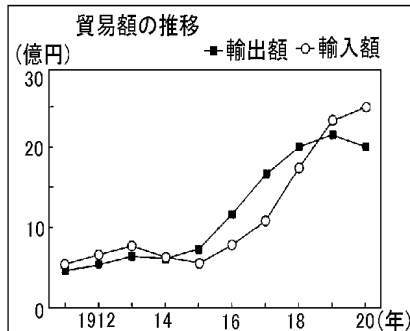
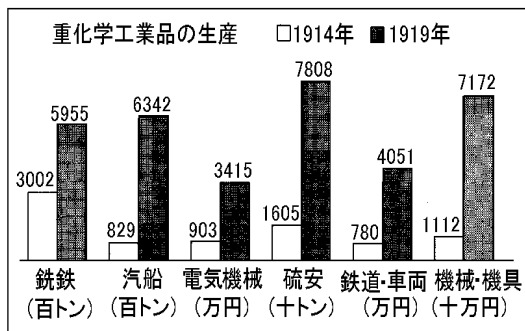
[解答欄]

--

[解答]輸出が輸入を上回り、重化学工業が発展した。

[問題]

1914年、オーストリアの皇太子夫妻がセルビアの青年に暗殺され、これをきっかけとして、第一次世界大戦が始まった。日本も参戦し、日本経済は大きく変化したが、下の2つの資料からどのようなことがわかるか、簡潔に書け。



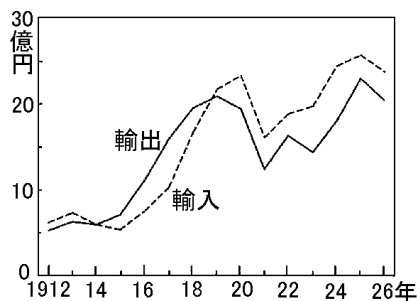
(佐賀県)

[解答欄]

[解答]重化学工業が飛躍的に成長し、貿易額が急増していることがわかる。また、大戦中は輸出額が輸入額を上回っていることもわかる。

[問題]

右のグラフは、大正時代のわが国の貿易額の推移を示したものである。このグラフを見ると、1914～1918年ごろは輸出超過であったことがわかる。それはなぜか。その理由を、当時の世界情勢とあわせて「商品」「アジア」の2つの言葉を用いて書け。



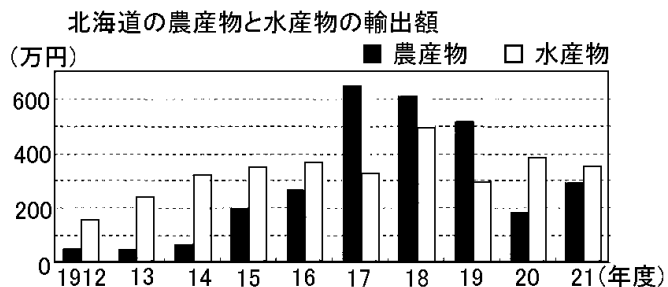
(香川県)

[解答欄]

[解答]第一次世界大戦によって、ヨーロッパ列強が後退したアジア市場への日本の商品の輸出が増加したため

[問題]

右のグラフは、大正時代の北海道の農産物と水産物について、年度別輸出総額を示している。グラフに関して述べた次の文の 、 のそれぞれにあてはまることばを、 ()内から選べ。



農産物と水産物の年度別輸出総額について、前年度と比較して、輸出総額が 300 万円以上増加した年度がみられるのは、 (農産物 / 水産物)の輸出総額である。この年度の輸出総額が前年度に比較して大幅に増加したのは、 (日中戦争 / 第一次世界大戦)の影響などによる。

(北海道)

[解答欄]

--	--

[解答] 農産物 第一次世界大戦

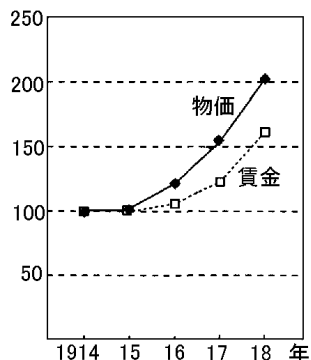
[解説]

1916～17 年にかけて農産物は 400 万円近く輸出を増やした。これは第一次世界大戦のため、世界の食料供給が減少したためである。

[問題]

次の各問いに答えよ。

- (1) 1914 年に (日露戦争 / 第一次世界大戦)がおこった影響で、わが国の貿易額は大きく伸び、1915 年から 1918 年にかけて (輸出額が輸入額 / 輸入額が輸出額)を上回って、好景気となった。



項目 年	貿易額(百万円)	
	輸出	輸入
1911	447	514
1912	527	619
1913	632	729
1914	591	596
1915	708	532
1916	1127	756
1917	1603	1036
1918	1962	1668
1919	2090	2173
1920	1948	2336

- (2) 1915 年から 1918 年にかけての時期は好景気であったが、一方では、

労働者をはじめとする人々の生活が苦しくなり、1918 年には、米騒動が全国に広がるとともに、労働運動もさかんになった。図は、1914 年から 1918 年にかけての物価と労働者の賃金それぞれを、1914 年を 100 とした場合、どう変化したかを比較したものである。労働者の生活が苦しくなった理由を、図にもとづいて書け。

(熊本県)

[解答欄]

(1)	
(2)	

[解答](1) 第一次世界大戦 輸出額が輸入額 (2) 賃金の上昇より物価の上昇が大きく、実質的には賃金が減っていることになるから。

[問題]

第一次世界大戦中に日本で起こったこととして正しいものを、次のア～エから1つ選んで記号で答えよ。

- ア 輸出総額が輸入総額を上回った。
- イ 生糸の価格が暴落した。
- ウ 八幡製鉄所が鉄鋼の生産を開始した。
- エ 足尾銅山鉱毒事件が起こった。

(島根県)

[解答欄]

[解答]ア

[米騒動]

[問題]

シベリア出兵に際して、1918年に、あるものの値段が急上昇したため、その安売りを求める動きが全国的に発生したが、その動きを何というか、漢字3字で答えよ。

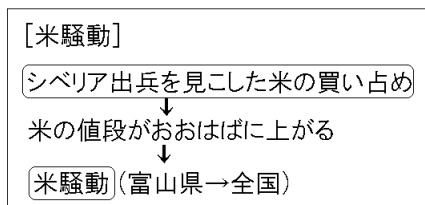
(島根県)

[解答欄]

[解答]米騒動

[解説]

1918年(大正7年)、シベリア出兵を見こした米の買い占めによって、米は異常な値上がりが続けた。富山県の漁村の主婦たちが、



米の県外への積み出しを実力で止め、安売りを求める事件が起きた。新聞でこれが報道されると、全国各地で米の安売りを求めて民衆が集まり、米屋・金貸し・大商店におしやるなどはげしい行動を起こした。これを^{こめそどう}米騒動という。(行く人は(1918)やる米騒動)

[問題]

次の文は、米騒動について説明したものである。　　、　　にあてはまることばをそれぞれ書け。

(　　)革命の影響がおよぶことをおそれた日本、アメリカ、イギリスなどの各国は(　　)出兵を行った。その際、日本国内では米の買いしめが起こり、米の価格ははね上がった。このため人々は安売りを求めて騒動を起こした。

(福島県)

[解答欄]

--	--

[解答] ロシア　　シベリア

[問題]

次の文中の(　　)にあてはまるできごとを書け。

米騒動は、米価が急上昇したことがきっかけでおこった。米価の急上昇は、ロシア革命の後、社会主義革命の広がりをおそれた日本など 4 か国が共同で(　　)を行うことを決定したため、商人が米を買い占めたことなどによるものであった。

(徳島県)

[解答欄]

--

[解答]シベリア出兵

[問題]

1916～1920 年の間に米の価格が 2.5 倍以上になった。この米の価格変化にかかわることとして適切なものを、次のア～エからすべて選び、記号を書け。

- ア シベリア出兵による米の買い占め
 - イ 米の配給の開始など統制経済の強化
 - ウ 農地改革による自作農の増加
 - エ 富山で起こった騒動が全国に拡大
- (長野県)

[解答欄]

[解答]ア, エ

[問題]

米騒動がおきた原因を, 「シベリア出兵」ということばを使い, 簡単に説明せよ。

(北海道)

[解答欄]

[解答]シベリア出兵を見こした商人の米の買い占めによって米価が上昇したから。

[本格的政党内閣の成立]

[問題]

米騒動のあと, はじめての本格的な政党内閣の首相になった, 立憲政友会の総裁はだれか。答えよ。

(山口県)(石川県)

[解答欄]

[解答]原敬

[解説]

1918年(大正7年)の^{こめそうどう}米騒動の結果、^{てらうちまさたけ}寺内正毅内閣が倒れて、同年、^{りっけんせいゆうかい}立憲政友会の^{はらたかし}原敬を首相とする^{さいしょの本格的政党内閣}ができた。原敬は「^{へいみんさいしやう}平民宰相」として国民の人気が高かったが、^{じきしやうそう}普通選挙は時期尚早として、選挙権の納税条件を引き下げただけであった。

[本格的政党内閣の成立]

1918年 米騒動



原敬 内閣

[問題]

1918年, ()を中心とした本格的な政党内閣が成立した。

[立憲政友会 友愛会 立志社 立憲改進黨]

(福島県)

[解答欄]

[解答]立憲政友会

[問題]

原敬内閣には、それまでの内閣と比べて、どのような違いがあったか。その特色を書け。

(山形県)

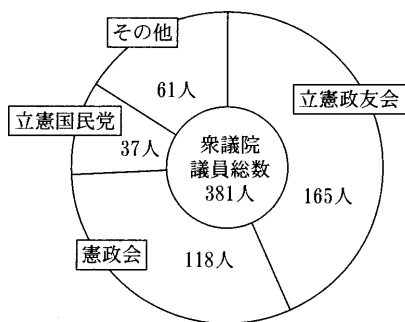
[解答欄]

[解答]本格的な政党内閣であったこと。

[問題]

米騒動の直後、原敬を首相とする初の本格的な政党内閣が誕生した。原敬を首相とする内閣が、本格的な政党内閣とよばれる理由は何か、資料1および資料2から読み取れることをもとに、書け。

〈資料2〉原内閣が組閣されたときの衆議院の政党別議員数（1918年）



(「原敬と立憲政友会」, ほかから作成)

〔注: 資料2は、原内閣が成立した後、最初に召集された第41会通常帝国議会における各党派所属議員数を示す。〕

〈資料1〉原敬を首相とする初の政党内閣の構成 (1918年)

	所属政党等
内閣総理大臣	立憲政友会
外務大臣	外務官僚
内務大臣	立憲政友会
大蔵大臣	立憲政友会
陸軍大臣	軍人
海軍大臣	軍人
司法大臣	立憲政友会
文部大臣	立憲政友会
農商務大臣	立憲政友会
通信大臣	立憲政友会

(「日本議会史録2」, ほかから作成)

(三重県)

[解答欄]

[解答]内閣を構成する大臣のうち、外務、陸軍、海軍以外の大臣を、衆議院の第一党である立憲政友会の党員が占めているから。

[問題]

次のア～エを古い順に並べかえ，符号で書け。ただし，アは3番目になる。

ア 本格的な政党内閣である，原敬内閣が成立した。

イ シベリア出兵による米の買い占めから米価が急上昇し，米騒動が起こった。

ウ 第一次護憲運動により，桂太郎内閣が総辞職に追いこまれた。

エ 加藤高明内閣は治安維持法を制定し，共産主義に対する取りしまりを強めた。

(大分県)

[解答欄]

[解答]ウ→イ→ア→エ

【】社会運動と普通選挙の実現

[労働運動・農民運動]

[問題]

次の ， の争議をそれぞれ何というか。

労働者が労働条件の改善を求めて起こした争議。

小作人が地主などに対して，小作料の引き下げを要求して起こした争議。

(補充問題)

[解答欄]

--	--

[解答] 労働争議 小作争議

[解説]

1912年(大正元年)には、労働者の地位の向上をめざして
ゆうあいかい友愛会が結成された。第一次世界大戦中の経済の発展に
よって労働者がおおはばに増加して、ろうどうそうぎ労働争議もしきりに
起こった。友愛会は労働組合の全国組織へと発展し、

[労働運動・農民運動]

労働者の増加→労働争議
1920年に、最初のメーデー
農村では、小作争議

1920年(大正9年)には日本で最初のメーデーにほんろうどうそうどうめいを主催した。1921年には日本労働総同盟と
改称し、労働者の団結と労働条件の改善を求めた。

農村でも、小作料の減額などを求めるこさくそうぎ小作争議がしきりに起こり、1922年に日本農民
組合が結成され、農民運動を指導した。ロシア革命の影響で共産主義への関心が急速に
広がると、1922年には日本共産党にほんきょうさんとうが、ひそかに結成された。

[問題]

米騒動がおこったころ、デモクラシーの風潮の中、日本国内にはさまざまな社会運動
がおきている。次のア～エのうち、当時の社会運動の説明として、誤っているものを1
つ選び、記号を書け。

ア 農村では、小作料の引き下げを要求する小作争議がひんぱんにおこり、小作人の権
利を守る全国組織がつくられた。

イ 女性の参政権を求める運動が本格的にくり広げられるようになってきた。

ウ 労働者は団結して、第1回メーデーを開き、ストライキなどの労働争議をおこした。

エ 足尾銅山から流れ出る鉱毒により、田畑が被害を受け、公害反対運動がおこった。

(富山県)

[解答欄]

--

[解答]工

[解説]

工は明治時代。

[女性運動の台頭]

[問題]

次の文は女性解放をめざして結成された青鞥社の宣言文の一部である。この宣言文を記した人物名を書け。

元始，女性は実に太陽であった。真正の人であった。今，女性は月である。

(福島県)

[解答欄]

[解答]平塚らいてう

[解説]

大正時代，女性差別からの解放をめざす運動もさかんになり，^{ひらつか}平塚らいてうを中心にして^{せいとうしゃ}青鞥社という女性だけで構成された文学団体が結成され，「^{げんし}元始，女性は実に太陽であった。今，女性は月である。…」という青鞥社の宣言が出された。平塚らいてうは，1920年(大正9年)に，^{いちかわふさえ}市川房枝らとともに^{しんふじん}新婦人^{きょうかい}協会を設立し，女性の政治活動の自由，女子高等教育の拡充，男女共学，母性保護などを求める運動をくり広げた。

[女性運動]

^{ひらつか}平塚らいてうの青鞥社

「元始，女性は実に太陽であった。
今，女性は月である。…」

1920年 新婦人協会

[問題]

1911年に，平塚らいてうらによって結成され，「元始，女性は太陽であった。」と宣言した団体を何というか。

(和歌山県)

[解答欄]

[解答]青鞥社

[問題]

青鞞社が発刊した雑誌「青鞞」に掲載された内容にあたるものを、次のア～エから 1 つ選び、記号で答えよ。

ア 我が国においては、日本国憲法に個人の尊重と法の下での平等がうたわれ男女平等の実現に向けた様々な取り組みが、国際社会における取組とも連動しつつ、...(略)

イ 元始、女性は実に太陽であった。真正の人であった。今、女性は月である。他によって生き、他の光によってかがやく、病人のように青白い顔の月である。

ウ 広く会議ヲ興シ、万機公論ニ決スヘシ。

エ 人間は生まれながらにして、自由で平等な権利を持っている。

(鳥取県)

[解答欄]

[解答]イ

[問題]

平塚らいてうは「元始、女性は実に太陽であった。」ではじまる雑誌「青鞞」を発刊し、()を求める運動を行った。文中の()にあてはまる言葉をかけ。

(熊本県)

[解答欄]

[解答]女性の地位向上

[部落解放運動]

[問題]

差別を受けていた部落の人々は、差別からの解放、人間としての平等を実現させようと団結を強め、全国的な組織を結成した。この組織を何というか、その名称を書け。

(三重県)

[解答欄]

[解答]全国水平社

[解説]

差別からの解放を求めてきた被差別部落^{ひさべつぶらく}の人々は、1922年(大正11年)に京都で全国^{すいへいしや}水平社を結成し、「全国に散在^{さんざい}する部落の人々よ、団結せよ。…人の世に熱あれ、人間に光あれ。」という水平社宣言^{せんげん}を発表した。

[部落解放運動]

1922年 京都で全国水平社を結成
水平社宣言
「人の世に熱あれ、人間に光あれ。」

[問題]

水平社運動は、大正デモクラシーの高まりの中で起こった。この時期のできごととして正しくないものを、次のア～エから1つ選び、その記号を書け。

- ア 新婦人協会が結成された。
- イ 普通選挙法が成立した。
- ウ 自由民権運動が起こった。
- エ 日本最初のメーデーが開かれた。

(奈良県)

[解答欄]

[解答]ウ

[解説]

ウは明治時代の1874年に民撰議院設立建白書の提出に端を発した、国会開設を求める全国的な政治運動。

[問題]

1925年のできごとでないものを、ア～エから1つ選んで記号で書け。

- ア 治安維持法の制定
- イ ラジオ放送の開始
- ウ 普通選挙法の制定
- エ 国際連盟からの脱退

(福井県)

[解答欄]

[解答]エ

[解説]

ア・イ・ウは1925(大正14)年。エは1933年。

[関東大震災]

[問題]

1923年9月1日に発生した東京、横浜を中心とする地域に壊滅的な被害を与えた災害を何というか。

(補充問題)

[解答欄]

[解答]関東大震災

[解説]

1923年(大正12年)9月1日、^{かんとうだいしんさい}関東大震災が起こり、死者・行方不明者が11万人に達した。多くの死者を出したのは地震によって火事が発生したためである。この混乱の中で、「井戸に毒を入れた」「暴動を起こす」などのデマが広まり、多くの朝鮮人、中国人、社会主義者が殺された。

1923年 [関東大震災]
火事→犠牲者が増えた。
デマによる朝鮮人等の虐殺

[普通選挙法の制定]

[問題]

1925年、憲政会の加藤高明内閣は、選挙資格における財産上の制限を撤廃し、満25歳以上の男子に選挙権を与える法律を成立させた。何という法律か。

(補充問題)

[解答欄]

[解答]普通選挙法

[解説]

^{はらたかし}原敬内閣の後、ふたたび非政党内閣が続いたが、1924年(大正13年)政党勢力は、普通選挙の実施などを主張して第二次護憲運動を起こし、^{けんせいかい}憲政会の^{かとうたかあき}加藤高明内閣が成立した。1925年(大正14年)、加藤高明内閣は、^{ふつうせんきよほう}普通選挙法を成立させた。普通選挙法は、それまでの納税額による選挙権の制限を撤廃したところに特徴があり、満25歳以上の男子に選挙権を与えられた。(普選は制限解く符号(1925))

[普通選挙法の制定]

1924年 第二次護憲運動→加藤高明内閣
1925年 [普通選挙法]
[満25歳以上の男子]に選挙権

加藤内閣以後，1932年に五・一五事件で犬養毅内閣がたおれるまでの8年間，政党の総裁が内閣を組織することが慣例になった。これを，「憲政の常道」という。

[問題]

1925年に成立した普通選挙法における有権者の資格について，正しく説明しているのはどれか。

- ア 直接国税の納税額にかかわらず，20歳以上の男女に選挙権が与えられた。
- イ 直接国税の納税額にかかわらず，25歳以上の男性に選挙権が与えられた。
- ウ 直接国税の納税額3円以上で，25歳以上の男性に選挙権が与えられた。
- エ 直接国税の納税額10円以上で，25歳以上の男性に選挙権が与えられた。

(栃木県)

[解答欄]

[解答]イ

[問題]

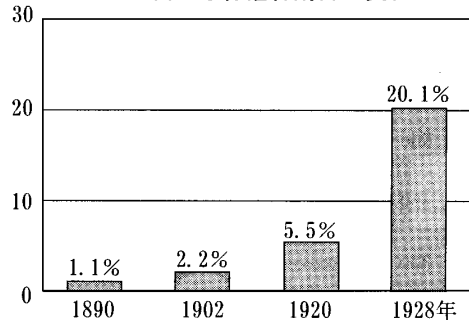
普通選挙の実現を求める運動などにより，わが国では，1925年に普通選挙制が実現した。次の資料は，1890年から1928年における，全人口に占める有権者の割合の推移をまとめたものである。有権者の割合が，特に1920年から1928年にかけて大幅に増加しているのは，衆議院議員が国民の選挙によって選出されると定められてから1925年まで選挙権を制限していたある条件が撤廃されたからであるが，それはどのような条件か。

(三重県)

[解答欄]

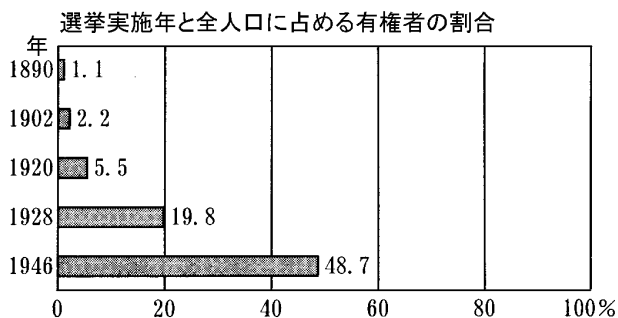
[解答]納税額による条件

(%) 全人口に占める有権者割合の変化



[問題]

次のグラフのように 1928 年の衆議院議員総選挙で有権者の割合が高まったのは、1925 年に選挙法が改正されたからである。この選挙法改正の背景として最も適当なものを、ア～エの中から 1 つ選べ。



- ア 全国に広がった憲政擁護運動によって桂太郎内閣が退陣に追いこまれた。
- イ 政党勢力による第二次護憲運動によって加藤高明内閣が成立した。
- ウ 田中正造が足尾銅山の鉱毒にかかわる活動をさかんに行っていた。
- エ アメリカからはじまった恐慌が世界中に広がった。

(福島県)

[解答欄]

[解答]イ

[解説]

アは 1913 年、イは 1924 年、ウは 1890～1901 年ごろ、エは 1929 年。

[問題]

1925 年に普通選挙法が制定されたが、普通選挙制の実施による最初の総選挙のときの有権者数は、1920 年の総選挙のときの有権者数に比べ約 4 倍に増えた。その理由を[納税額・25 歳以上]の 2 つの言葉を用いて、簡単に書け。

(愛媛県)

[解答欄]

[解答]納税額による制限がなくなり、25 歳以上のすべての男子が選挙権を持つことになったから。

[治安維持法]

[問題]

第二次護憲運動後、25歳以上の男子に選挙権をあたえる普通選挙法が制定されたが、同時に、ある法律が制定され、共産主義に対する取りしまりが強められた。この法律名を書け。

(青森県)

[解答欄]

[解答]治安維持法

[解説]

普通選挙法の実施によって共産主義者が勢力をのばすことを恐れた政府は、同時に、治安維持法を制定して、天皇を中心とする国の組織や私有財産制度の廃止をめざす共産主義の取りしまりを強化した。(いく人殺(1925)した治安維持法)

[治安維持法]
共産主義の取り締まり

[問題]

社会主義をとりしめる治安維持法が、普通選挙法と同時に制定されたのはなぜか。簡潔に書け。

(佐賀県)

[解答欄]

[解答]納税額による制限がなくなって貧しい人も選挙権を得たため、労働者・農民の政党から当選者が出ることで、社会主義が広がることを警戒したから。

【】大正時代の文化

[文化・生活]

[問題]

日本で大正時代に文化の大衆化が進んだ要因として考えられることを1つ書け。

(山形県)

[解答欄]

[解答]ラジオ放送の開始(新聞の普及)

[解説]

大正時代、工業化の推進などによって日本の資本主義は飛躍的に発展し、それとともに都市化と大衆化が進んだ。1925年に始まったラジオ放送は、またたく間に全国に普及した。また、それまでの活動写真(無声映画)にかわってトーキー(有声映画)が登場し、レコードも普及した。

[大正時代の文化・生活]

ラジオ放送の開始, トーキー

文化住宅, 洋食, 洋服

女性の進出: バスガールや電話交換手

ガス, 電気, 水道などの普及によって、都市では、西洋風の生活様式が流行した。住宅の一部に西洋間を設けガラス窓を採用した文化住宅が流行し、カレーライス、トンカツ、コロッケなどの洋食が広まった。洋服は、まず男性に普及したが、バスガールや電話交換手など、働く女性が増加し、女性にも広がり始めた。

[問題]

ラジオ放送が始まった大正期には、大衆文化が成立し、都市では、衣食住などの伝統的な生活の中に()を取り入れることが流行した。このような、伝統的な生活からの変化は、明治期の文明開化から徐々に見られるようになり、大正期に都市の大衆にまで広がった。()に適切な言葉を書き入れて文を完成させよ。

(愛媛県)

[解答欄]

[解答]西洋風の生活様式

[問題]

富山県を発端として全国に広がった米騒動がおこったころの生活や文化の説明として、最も適切なものを次のア～エから選び、記号を書け。

ア 都市では、ランプやガス灯が使われ始め、洋服や西洋料理が流行した。

イ アメリカ人のフェノロサが岡倉天心と協力して日本美術の復興・普及に努めた。

ウ 発行部数が 100 万部をこえる新聞が出現し、演劇や映画等が大衆の娯楽として普及した。

エ 冷蔵庫などの三種の神器とよばれる電化製品が普及し、人々の生活は向上した。

(富山県)

[解答欄]

[解答]ウ

[解説]

米騒動は大正時代。アとイは明治時代。エは昭和(戦後)。

[文学]

[問題]

「羅生門」「地獄変」「蜘蛛の糸」などのすぐれた文学作品を書いた人物は誰か。

(補充問題)

[解答欄]

[解答]芥川龍之介

[解説]

文学の分野でよく出題されるのは芥川龍之介である。

芥川龍之介は、「羅生門」「地獄変」「蜘蛛の糸」「鼻」

などの知性的な作品で人々に新鮮な印象をあたえた。

白樺派の志賀直哉は人道主義の理想をかがげ、

武者小路実篤らとともに雑誌「白樺」を創刊した。さ

らに、社会・労働運動の高揚にともない、小林多喜二(「蟹工船」)などのプロレタリア文学もおこった。(小林多喜二は警察の拷問により虐殺された。)

学問では、西田幾多郎が「善の研究」で東洋と西洋の哲学を統一した。

[大正の文学]

芥川龍之介「羅生門」

志賀直哉：白樺派

小林多喜二：プロレタリア文学

[問題]

次の各問いに答えよ。

- (1) 知性的な作品で人々に新鮮な印象をあたえた，右の写真の人物の名を答えよ。
- (2) 「蟹工船」などの作品を発表し，プロレタリア文学を推し進めた人物の名を答えよ。
- (3) 人道主義の理想をかかげ，武者小路実篤らとともに雑誌「白樺」を創刊した人物は誰か。



(補充問題)

[解答欄]

(1)	(2)	(3)
-----	-----	-----

[解答](1) 芥川龍之介 (2) 小林多喜二 (3) 志賀直哉

[印刷 / 他の PDF ファイルについて]

このファイルは、FdData 入試社会(16,200 円)の一部を PDF 形式に変換したサンプルで、印刷はできないようになっています。製品版の FdData 入試社会は Word の文書ファイルで、印刷・編集を自由に行うことができます。

FdData 入試社会・入試理科全分野の PDF ファイル, FdData 中間期末(社会・理科・数学)全分野の PDF ファイル, および製品版の購入方法は<http://www.fdttext.com/dan/> に掲載しております。

下図のような, [FdData 無料閲覧ソフト(RunFdData2)]を, Windows のデスクトップ上にインストールすれば, FdData 中間期末・FdData 入試の全 PDF ファイル(各教科約 1800 ページ以上)を自由に閲覧できます。次のリンクを左クリックするとインストールが開始されます。

RunFdData 【 <http://fddata.deci.jp/lnk/instRunFdDataWDs.exe> 】

ダイアログが表示されたら, 【実行】ボタンを左クリックしてください。インストール中, いくつかの警告が出ますが, [実行][許可する][次へ]等を選択します。

【イメージ画像】



【Fd 教材開発 : URL <http://www.fdttext.com/dat/> Tel (092) 404-2266】