

【】昭和時代

【】世界恐慌と各国の対応

[世界恐慌]

[問題]

アメリカで株価が暴落したのをきっかけに急激な不景気が始まり、その影響は世界の多くの国に及んだ。これを何というか。

(三重県)

[解答欄]

[解答]世界恐慌

[解説]

アメリカは、第一次世界大戦の被害を受けることなく繁栄が続き、世界経済の中心になっていた。ところが、繁栄の頂点にあった 1929 年(昭和 4 年)10 月、ニューヨークの株式市場の株価が暴落し、銀行が信用を失い人々がいっせいに預金を引き出そうとする取りつけさわぎが起こった。

これをきっかけに銀行や工場が倒産し、農産物の価格も急落し、失業者が町にあふれた。こうした混乱は、アメリカから世界じゅうに広がったので、世界恐慌と呼ばれている。(ひどくにく(1929)い世界恐慌)

[世界恐慌]

1929年 ニューヨークで
株価の暴落
↓
全世界へ波及

[問題]

次の文章中の にあてはまる国名を書け。また、 にあてはまることばを 15 字以内で書け。

()で株価が大暴落したのをきっかけに急激な景気後退がおり、不況が多くの国々に広がっていた。その影響を受け、わが国の都市では企業の倒産などによる失業者が増大し、農村では()ことによって国民の生活が苦しくなり、政治に対する不満が高まっていた。

(熊本県)

[解答欄]

<input type="text"/>	<input type="text"/>
----------------------	----------------------

[解答] アメリカ 農産物価格が暴落した

[ブロック経済]

[問題]

世界恐慌対策として、イギリスなどは本国と植民地との関係を密接にして貿易を拡大するいっぽうで、それ以外の外国商品に対して関税を高める政策をおこなった。このように、関係の深い国々だけで経済を成り立たせようとする何を何というか。そのよび名を書け。

(香川県)

[解答欄]

[解答] ブロック経済

[解説]

世界恐慌とその後の不況に対して、イギリスやフランスはブロック^{けいぎ}経済をとった。すなわち、本国と植民地との関係を密接にして、それ以外の国の商品に対する関税を高くし、関係の深い国だけで自給自足的に経済を成り立たせる政策をとった。自国優先のブロック経済は国々の対立をもたらし、国際連盟や軍縮によってできあがっていた国際協調体制が大きくゆらいだ。

[[ブロック経済]]

イギリスとフランス

本国・植民地以外には高い関税



国際協調体制が大きくゆらいだ

[問題]

世界恐慌に対して、イギリスのとった経済政策を何というか。

また、世界恐慌に対して、イギリスと同じ経済政策をとったヨーロッパの国はどこか。その国名を書け。

(熊本県)

[解答欄]

<input type="text"/>	<input type="text"/>
----------------------	----------------------

[解答] ブロック経済 フランス

[問題]

イギリス政府が、世界恐慌に対してとった主な政策として最も適当なものは次のア～エのうちのどれか。

- ア 積極的に公共事業をおこし、失業者を助けようとした。
- イ 重工業中心の工業化と農業の集団化を進めようとした。
- ウ 本国や植民地の市場から他国の商品をしめ出そうとした。
- エ 議会の権利を奪い、反対派を暴力でおさえつけようとした。

(鹿児島県)

[解答欄]

[解答]ウ

[問題]

Aの期間に、経済の混乱が各国に広がった。この混乱に対して、イギリスはどのような経済政策をとったか。「植民地」と「外国の商品」という2つの語句を用いて、簡潔に述べよ。



(山口県)

[解答欄]

[解答]本国と植民地の間の貿易を拡大する一方、外国の商品をしめだすブロック経済を実施した。

[ニューディール政策]

[問題]

世界恐慌がおこると、アメリカのルーズベルト大統領は、失業者を救済するため、積極的に公共事業をおこし、国民の購買力を高める政策を開始した。この政策を何というか。

(栃木県)

[解答欄]

[解答]ニューディール政策

[解説]

アメリカでは 1933 年(昭和 8 年)にルーズベルトが大統領になり、ニューディール政策を実施した。これは、公共事業をおこし、生産を調整し、失業者を助け、労働組合を保護する政策であった。

[ニューディール政策]
アメリカの
ルーズベルト大統領

[問題]

世界恐慌から景気を回復させるために、ニューディール政策を実施したアメリカの大統領は誰か。

(補充問題)

[解答欄]

[解答]ルーズベルト


[問題]

アメリカでは世界恐慌から景気を回復させるために、ニューディール政策をとり、その 1 つとして、政府は右の資料のような大規模なダム建設を行った。このような政策によって、景気が回復すると思われるのはなぜか。簡潔に書け。

(佐賀県)

[解答欄]

テネシー川流域の開発(TVA)



[解答]公共事業を行って失業者に職を与えることで、国民の購買力を高め、有効需要を増大させることができるので。

[問題]

世界恐慌に対して、各国は様々な対策をとった。アメリカの対策の内容を具体的に書け。

(群馬県)

[解答欄]

--

[解答]公共事業をおこして失業者に職を与えるなどのニューディール政策を行った。

[問題]

次のア～ウは、それぞれ世界恐慌後のアメリカ、イギリス、イタリアのいずれかがとった政策を説明したものである。このうち、アメリカとイギリスの説明として最も適切なものをそれぞれ選び、記号を書け。

ア ファシスト党が独裁政治を行い、新たな植民地獲得をめざし、エチオピアを侵略した。

イ 本国と植民地との貿易を拡大し、関係のある国々だけで経済を成り立たせようとした。

ウ 積極的にダム建設などの公共事業をおこし、労働組合を保護する政策をとり、国民の購買力を向上させようとした。

(富山県)

[解答欄]

アメリカ：	イギリス：
-------	-------

[解答]アメリカ：ウ イギリス：イ

[解説]

アはイタリア。

[ソ連]

[問題]

次の文章中の ， に適語を入れよ。

社会主義国のソ連は，1929年にアメリカで起こって世界に広がった()の影響をほとんど受けずに，「()」とよばれた計画経済を推進していた。

(鳥取県)

[解答欄]

--	--

[解答] 世界恐慌 五か年計画

[解説]

当時のソ連ではスターリンを指導者として 五か年計画などの 計画経済を進めていたため 世界恐慌の影響は受けなかった。スターリンは，反対する人々を大量に死刑や流刑にする独裁政治を行った。

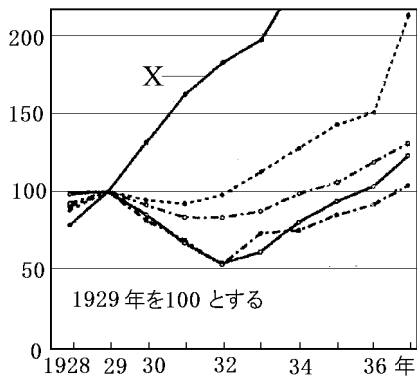
[ソ連]

スターリン, 五か年計画
世界恐慌の影響は受けず

[問題]

資料は，世界恐慌時の日本・イギリス・ソ連・アメリカの鉱工業生産指数を示している。資料中の X にあてはまる国を，次の[]から 1つ選べ。

[日本 イギリス ソ連 アメリカ]



(山口県)

[解答欄]

--

[解答]ソ連

[問題]

世界恐慌のとき、計画経済を進めていたためその影響を受けなかった国はどこか。
また、その国の指導者は誰か。

(補充問題)

[解答欄]

--	--

[解答] ソ連 スターリン

[解説]

当時ソ連ではスターリンを指導者として、五か年計画等の計画経済を進めていたため、世界恐慌の影響は受けなかった。スターリンは、反対する人々を大量に死刑や流刑にする独裁政治を行った。

[ファシズム]

[問題]

ドイツのヒトラーやイタリアのムッソリーニなどが行った、軍事力を背景にして民主主義を否定し、国民の自由を奪う独裁政治を何というか。次のうちから選べ。

[ファシズム ルネサンス レジスタンス ヘレニズム]

(沖縄県)

[解答欄]

--

[解答]ファシズム

[解説]

イタリアでは、すでに 1922 年にムッソリーニがファシスト党を率いて^{どくさい}独裁を行っていた。

ドイツは第一次世界大戦の賠償金の支払いに苦しみ、物価高がおこっていたが、世界恐慌は、経済をさらに悪化させ、

失業者が増大した。ヒトラーの率いるナチス党は、国民生活の安定を約束し、ドイツ民族の優秀さを大衆の感情に訴えることで国民の支持を集め、1933 年に政権を握った。ヒトラーは他の

政党を解散させて独裁を完成し、国際連盟を脱退して軍備を強化し、さらにユダヤ人を迫害した。ドイツやイタリアにあらわれた、このような政治をファシズムという。

[ファシズム] イタリア
ムッソリーニのファシスト党
エチオピアを侵略

[ファシズム] ドイツ
ヒトラーの ナチス
ユダヤ民族の迫害

[問題]

ファシスト党内閣はどここの国でできたか。 また、その指導者は誰か。

(補充問題)

[解答欄]

--	--

[解答] イタリア ムッソリーニ

[問題]

ドイツでナチス党を率い独裁政治を行ったのは誰か。 また、ナチス政権が迫害したのは何人か。

(補充問題)

[解答欄]

--	--

[解答] ヒトラー ユダヤ人

[問題]

右の絵が描かれたころのヨーロッパの様子に関する説明として最もよくあてはまるのは、ア～エのうちではどれか。

- ア 冷たい戦争とよばれる対立が起こっていた。
- イ レーニンらを指導者としてロシア革命が起こった。
- ウ ファシズムといわれる政治体制の国があった。
- エ ナポレオンがヨーロッパの大部分を征服していた。



(岡山県)

[解答欄]

--

[解答]ウ

[解説]

資料の絵画はピカソが描いた「ゲルニカ」である。スペイン内戦の最中の1937年、スペインの小都市・ゲルニカが、フランコ将軍を支援するナチスによって空爆を受けた。史上初めての都市無差別空爆と言われている。滞在中のパリでこの報を聞いたピカソは、怒りを込めて、戦争の悲惨と平和の尊さを主題にこの作品を完成させた。

【】昭和恐慌・満州事変～二・二六事件

[世界恐慌と日本経済]

[問題]

大正～昭和初期，わが国の経済に大きな打撃を与えるできごとが次々とおこった。この時期におこった次のア～ウのできごとを，年代の古い順に左から右へ並べよ。

- ア 日本各地の銀行が倒産する金融恐慌がおこる。
- イ アメリカでの株価暴落をきっかけに世界恐慌がおこる。
- ウ 東京，横浜などの地域が壊滅状態になる関東大震災がおこる。

(香川県)

[解答欄]

[解答]ウ→ア→イ

[解説]

日本では，1923年(大正12年)の関東大震災で経済が大きな打撃を受け，その後の混乱から，1927年(昭和2年)，銀行が信用を失い人々がいっせいに預金を引き出そうとする取りつけさわぎが起こって，多くの銀行が休業，倒産する金融恐慌に見舞われた。

[世界恐慌と日本経済]

1927年 金融恐慌

1929年 世界恐慌

↓
昭和恐慌

さらに，生糸の最大の輸出先であるアメリカで1929年(昭和4年)に始まった世界恐慌によって，生糸の輸出が激減するなど，日本の経済も大きな打撃を受け，深刻な不況におそわれた(昭和恐慌)。農村では，まゆをはじめとする農産物の価格が暴落したり，都市で失業した人々がもどってきたりしたため，生活は苦しくなった。大凶作に見舞われた東北地方と北海道ではききんが起こった。欠食児童，娘の身売りなどの社会現象がみられた。国民の生活が苦しくなる中，労働争議，小作争議は激しさを増していった。

[問題]

世界恐慌の影響でわが国におこった事象として正しいものを，次のア～エから1つ選び，記号で答えよ。

- ア 特に米の値段が上がり，米の安売りを求める動きが全国に広がった。
- イ 外国からの大量の軍事物資の注文により，急速な経済発展をとげた。
- ウ 深刻な不況となり，失業者が増大し，ストライキなどの労働争議が増えた。
- エ 世直しを期待して，一揆や「ええじゃないか」と言って踊りまわるさわぎがおこった。

(熊本県)

[解答欄]

[解答]ウ

[問題]

世界恐慌が我が国にあたえた影響について、「生糸」という語句を用いて書け。

(新潟県)

[解答欄]

[解答]生糸のアメリカへの輸出が減った。

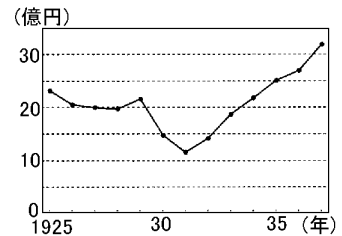
[問題]

右の資料は、1925年から1937年までの日本の輸出額の変化を示している。1929年から1931年にかけて、輸出額が急激に減少したのはなぜか、簡潔に書け。

(徳島県)

[解答欄]

[解答]世界恐慌の影響を受けたため。



[問題]

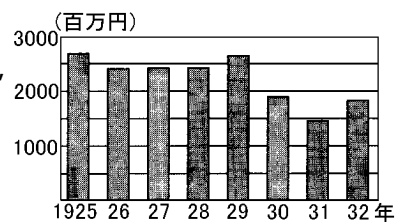
右の資料は、わが国の輸出額の変化を示している。

輸出額が、前年と比べて最も大きく変化した年は、資料中の何年か、答えよ。また、最も大きく変化した理由を、「アメリカ」の語句を使って書け。

(福岡県)

[解答欄]

[解答] 1930年 アメリカで始まった不景気によって生糸などのアメリカへの輸出が減少し、さらに世界恐慌が世界中に広がって、日本も影響を受けたから。



[問題]

1931 年におきた冷害は、東北地方の人々の生活に深刻な影響を与えた。当時、生糸などの農産物の価格が急速に下落したため不景気となった農村では、地主による土地の取り上げなどに反対する(地租改正反対一揆 / 労働争議 / 小作争議 / 農地改革)が増加した。文中の()内より適語を選べ。

(京都府)

[解答欄]

[解答]小作争議

[行きづまる政党政治]

[問題]

次の文章中の , に適語を入れよ。

日本は、1930 年、()海軍軍縮会議に参加し、軍縮条約に調印した。しかし、一部の軍人や国家主義者はこれを激しく攻撃し、首相の()は狙撃され、退陣に追い込まれた。

(補充問題)

[解答欄]

<input type="text"/>	<input type="text"/>
----------------------	----------------------

[解答] ロンドン 浜口雄幸

[解説]

大正時代は大正デモクラシーで政党政治が本格化した時代で、対外的にも対英米協調路線をとった時代であった。軍備を縮小し国民の負担を減らすため、政府は1930年(昭和5年)、ロンドン海軍軍縮会議に

[行きづまる政党政治]

1930年 ロンドン海軍軍縮条約
↓
浜口雄幸が襲撃される

参加し、イギリス、アメリカと協調して、軍縮条約に調印した。しかし、一部の軍人や国家主義者はこれを激しく攻撃し、首相の浜口雄幸は、右翼の一青年に狙撃されて重傷を負い、退陣に追い込まれた。また、国民の中には、財閥と結びついて汚職や政争をくりかえす政党への不満が高まっていった。

[満州事変]

[問題]

1931年に日本の軍部(関東軍)は、中国の奉天郊外の柳条湖で鉄道の一部を爆破し、それを機に軍事行動を開始した。このできごととして適切なものを、次の中から1つ選べ。

[日露戦争 義和団事件 日中戦争 満州事変]

(青森県)

[解答欄]

[解答]満州事変

[解説]

1927年(昭和2年)、中国では蔣介石の率いる中国国民党が南京に国民政府を樹立し、中国の統一を進めていき、満州における日本の権益を中国に回収することを表明した。これに危機感を持った日本の軍部や国家主義者などは、「満州

は日本の生命線である」と主張した。満州駐留の関東軍は、1931年(昭和6年)、奉天郊外の柳条湖で満鉄(南満州鉄道)の線路を爆破し、これを中国軍のしわざであるとして満州事変を起こし、満州全土を占領した。(いくさ人(1931)満州事変に勇みたち) 関東軍は、1932年に、清朝最後の皇帝溥儀を元首とする満州国をつくった。

[満州事変]

1931年 関東軍が柳条湖で南満州鉄道を爆破
→ 満州事変 をおこす

1932年 満州国 建国

清朝最後の皇帝 溥儀 を元首



[問題]

日本は 1932 年に()国を建国させ、資源が豊かな中国東北部の権益を確保しようとした。

(富山県)

[解答欄]

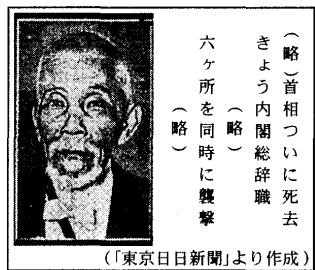
[解答]満州

[五・一五事件]

[問題]

右の資料は、戦前の政党内閣の時代の終わりを象徴する 1932 年に起きたできごとを報道した新聞の見出しの一部と写真である。これは何とよばれる事件に関するものか。また、この事件で暗殺された右の資料の首相は誰か。

(千葉県)(栃木県)



[解答欄]

--	--

[解答] 五・一五事件 犬養毅

[解説]

若槻^{わかつき}内閣にかわった犬養毅^{いぬかいつよし}内閣は、満州国の承認^{しやうにん}に反対する方針をとったが、これに対し、1932年(昭和7年)、海軍将校の一団が犬養毅首相を殺害した。この五・一五事件^{ごいちごしげん}によって8年間続いた政党政治の時代が終わった。



犬養毅

[五・一五事件]
1932年 犬養毅 首相が暗殺される
↓
政党政治の時代が終わった

(いくさに(1932)反対犬養毅)

[問題]

次は、満州事変の翌年におこった事件についてまとめたものである。()にあてはまる語を書け。

犬養毅首相が暗殺された事件により、8年間続いた()が終わった。その後、軍部の政治的発言力が強まっていった。

(秋田県)

[解答欄]

--

[解答]政党政治

[問題]

次の表は世界恐慌に対する各国の動きをまとめたものである。わが国にあてはまるものを、ア～エから1つ選んで記号を書け。

	世界恐慌に対する各国の動き
ア	インドなどの植民地と本国の関係を強め、他国を除く貿易を進めた。
イ	軍部の力が強くなり、他地域への勢力拡大を進めた。
ウ	独裁者の支配のもと、国民の言論や自由をうばい、再軍備を進めた。
エ	大統領の指導のもと、国内の公共事業をおこし、失業者を救済した。

(秋田県)

[解答欄]

[解答]イ

[解説]

アはイギリス、ウはドイツ、エはアメリカの動きである。

[国際連盟を脱退]

[問題]

次の文の ~ に適語を入れよ。

日本軍は、満州の主要部を占領し、()の最後の皇帝を元首とする満州国を建国した。日本国内では、政党政治に不満をいだく軍部や国家主義者の動きが活発になり、()首相が海軍将校の団一によって暗殺された五・一五事件によって、8年続いた政党政治が幕を閉じた。いっぽう、中国政府の訴えを受け、()が満州事変の調査を行い、総会で満州国の不承認と日本軍の撤兵を決議すると、日本は()を脱退した。

(愛知県)

[解答欄]

[解答] 清朝 犬養毅 国際連盟

[解説]

満州事変はアメリカを中心に各国の反発を招き、中国からの訴えで国際連盟はリットン調査団を派遣して調査を行い、1933年(昭和8年)、総会で満州国を認めず、日本軍の撤兵を求める勧告を採択した。これに反発した日本は国際連盟を脱退し、国際的に孤立することになった。(国際連盟引くサッサ(1933))

[国際連盟を脱退]

1933年 国際連盟 リットン調査団
 満州国を認めず、日本軍の撤兵を求める
 ↓
 日本は 国際連盟を脱退

[問題]

日本の国際連盟脱退の理由となった国際連盟による勧告案の内容にあてはまるものはどれか。

ア ポツダム宣言の受諾

イ 樺太と千島の交換

ウ 下田と函館の開港

エ 満州国からの軍隊の撤退

(神奈川県)

[解答欄]

[解答]エ

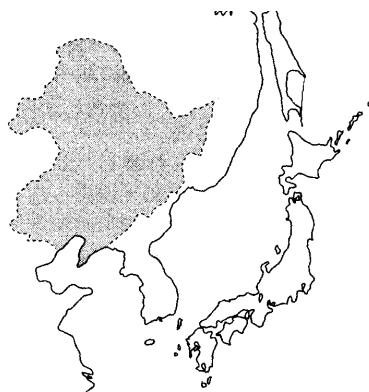
[問題]

1933年に日本が国際連盟を脱退したのは、この年の国際連盟の総会での、略地図中の●でぬってある地域にかかわる決議が原因でした。その決議において、日本が求められたのはどのようなことか。この地域の、当時の日本における名称を使って、1つ書け。

(山形県)

[解答欄]

[解答]日本が満州の占領地から軍隊を引きあげること



[問題]

満州事変によって、国際連盟は調査団を派遣した。その報告書によって国際連盟は総会で、日本軍が満州国から撤退するよう求めた。このあと日本は外交上どのような状況に追い込まれたか。資料を参考にして「脱退」と「孤立」という2つの言葉を使って簡潔に書け。

(佐賀県)

[解答欄]

[解答]日本は国際連盟を脱退し、国際的に孤立していった。



[二・二六事件]

[問題]

1936年、陸軍の青年将校らが部隊を率いて大臣などを殺傷し、首相官邸など、東京の中心部を占拠したできごとを何というか。その名称を書け。

(新潟県)

[解答欄]

[解答]二・二六事件


[問題]

右の資料は、陸軍の青年将校たちが首相官邸や警視庁など東京の中心部を一時占拠した(五・一五事件/二・二六事件)のとき、反乱軍兵士に対して投降をよびかけたピラである。文中の()内より適語を選べ。

(愛知県)

[解答欄]

[解答]二・二六事件



[解説]

1936年(昭和11年)2月26日、陸軍の一部の青年将校が首相官邸や警視庁などを襲撃する二・二六事件を起こした。これ以降、軍部は政治的発言権を強めていった。

(二・二六ひどく寒い(1936)日におこる)

[二・二六事件]

1936年、陸軍の一部の青年将校が首相官邸などを襲撃

↓
軍部の政治的な発言力が強まる

[問題]

二・二六事件の後のわが国のようすを述べているのはどれか。

ア デモクラシーの風潮が高まり、原敬が本格的な政党内閣をつくった。

イ 軍部の政界への発言力が強まり、日中戦争が始まった。

ウ 天皇を中心とする新しい政府ができ、五か条の御誓文を出した。

エ 自由民権運動により国会の開設が求められ、初めて帝国議会が開かれた。

(福岡県)

[解答欄]

[解答]イ

[問題]

昭和の時期に、わが国では軍部が台頭してきた。そのことを表すこの時期の代表的なできごとを、次から3つ選べ。

[満州事変 護憲運動 五・四運動 シベリア出兵 二・二六事件 大逆事件
五・一五事件]

(山形県)

[解答欄]

[解答]満州事変，五・一五事件，二・二六事件

[問題]

二・二六事件は、陸軍の青年将校らが大臣などを殺害し、東京の中心部を一時占拠した事件であった。この事件はその後の我が国の政治にどのような影響を与えたか、「軍部」の語句を使って簡潔に書け。

(高知県)

[解答欄]

[解答]軍部の発言力が強くなった。

【】日中戦争と戦時体制

[日中戦争]

[問題]

1937年，北京郊外で一発の銃声がおこり，これをきっかけに日中両軍の軍事衝突がおこり，全面戦争に発展したが，この戦争を何というか。

(補充問題)

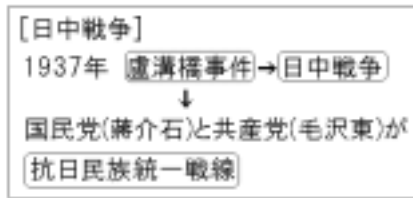
[解答欄]

[解答]日中戦争

[解説]

1937年(昭和12年)，北京郊外の盧溝橋で日本軍が中国軍と衝突し，日中戦争が始まった(盧溝橋事件)(いくさ長(1937)びく日中戦争)。戦火は華北から華中に拡大し日本軍は中国の首都南京を占領した。その中で，多数の中国人を殺害する南京事件を起こした。

中国国内では，国民党の蒋介石と，共産党の毛沢東とが対立し，内戦が続いていたが，共同して日本軍と戦うために手を結んで，抗日民族統一戦線を結成した。



蒋介石

毛沢東

[問題]

盧溝橋事件をきっかけに始まった戦争の名前と，この事件が起こった年を西暦で答えよ。

(鳥取県)

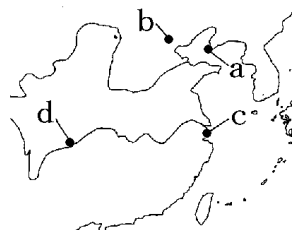
[解答欄]

--	--

[解答] 日中戦争 1937年

[問題]

日中戦争は、ある都市の郊外でおきた日中両国軍の衝突をきっかけに始まった。この都市を、次の[]から選べ。また、この都市の位置を略地図の a～d から選べ。



[北京 上海 旅順 重慶]

(北海道)

[解答欄]

--	--

[解答] 北京 b

[問題]

次のア～エを古い順に並べかえ、符号で書け。

ア 北京郊外での日中両軍の武力衝突事件をきっかけに、日中戦争が始まった。

イ 日本は、国際連盟から脱退し、国際社会から孤立した。

ウ 奉天郊外の柳条湖の南満州鉄道の線路爆破をきっかけに、満州事変が始まった。

エ 海軍の将校の一団が、犬養毅首相を首相官邸で暗殺した五・一五事件が起こった。

(大分県)

[解答欄]

--

[解答]ウ→エ→イ→ア

[解説]

ウ(1931年満州事変)→エ(1932年五・一五事件)→イ(1933年国際連盟の脱退)→ア(1937年日中戦争)

[強まる戦時体制]

[問題]

日中戦争が長引くことにより、国家予算の大部分が軍事費にあてられるようになった。この事件の翌年に定められた、政府が国民生活全体を統制できる法律を何というか。

(岡山県)

[解答欄]

--

[解答]国家総動員法

[解説]

日中戦争が長引くにつれて、政府は国民を戦争に動員する

「戦時体制」を強めていった。1938年には近衛文麿内閣が
国家総動員法を公布し、国の産業や経済から、国民の生活
のすべてにわたって、戦争に動員できる権限を持った。軍

[強まる戦時体制]

1938年 国家総動員法

1940年 大政翼賛会

需品の生産が優先されたため、生活必需品の生産が圧迫を受け、砂糖、マッチ、木炭、
綿製品などが切符制となり、米も配給制となった。戦時中の標語には、「欲しがりま
せん勝つまでは」「ぜいたくは敵だ」「ガソリンの一滴は血の一滴」などがある。

1940年には、近衛文麿が「拳国一致」の体制をつくる運動を始め、ほとんどの政党や
団体は解散し、大政翼賛会に合流した。

[問題]

戦時体制が強まるなか、1938年に国家総動員法が制定された。次のア～エのうち、
この法律によりもたらされた状況を述べているものとして最も適切なものはどれか。1
つ選び、その記号を書け。

ア 軍事上、経済上の必要から、民間の主な鉄道が国有化された。

イ 経済を支配してきた財閥を解体し、その下にある企業を独立させた。

ウ 議会の議決を経ずに、戦争に必要な物資や国民を集めることができるようになった。

エ 地券を発行して土地所有者を定め、地価を基準に課税することで国家財政を安定さ
せた。

(岩手県)

[解答欄]

[解答]ウ

[解説]

アは明治時代、イは戦後、エは明治時代。

[問題]

日本では、1930代後半から食糧難がだいに深刻になっていったが、その理由を、
次の条件 1、2に従って、30字以上40字以内で説明せよ。

条件 1 当時の中国との関係を含めて書くこと。

2 「戦時体制」、 「農村」という2つの語句を用いること。

(大分県)

[解答欄]

[解答]日中戦争が長引くにつれて、戦時体制が強まり、農村では人手や肥料が不足したから。

[問題]

1940年政党は解散させられ()が作られた。

(補充問題)

[解答欄]

[解答]大政翼賛会

[問題]

日中戦争が長期化すると、日本では戦時体制が強められ挙国一致の政治体制がつけられていった。挙国一致の政治体制をつくるため、どのような政治的な動きがあったか。次の3つの語句を用いて書け。

[解散 結成 議会]

(福島県)

[解答欄]

[解答]政党が解散し、大政翼賛会が結成されて、議会は形だけのものになった。

[問題]

日中戦争が始まってから太平洋戦争が終わるまでの間のできごとを説明した文として適当でないものを、次のア～エから1つ選んで記号で答えよ。

- ア 世界恐慌の影響が日本にもおよび、昭和恐慌とよばれる深刻な不況が始まった。
 - イ 国家総動員法が公布され国民生活のすべてにわたって、戦争に動員されることになった。
 - ウ 沖縄戦や原子爆弾などによる大きな犠牲を払い、日本はポツダム宣言を受け入れて降伏した。
 - エ 皇民化の名のもとに、朝鮮では日本語の使用や創氏改名などがおし進められた。
- (島根県)

[解答欄]

[解答]ア

【】第二次世界大戦・太平洋戦争

[第二次世界大戦の始まり]

[問題]

次の文の ， に適語を入れよ。

1939年、ドイツが()に侵入し()が勃発した。

(補充問題)

[解答欄]

--	--

[解答] ポーランド 第二次世界大戦

[解説]

[第二次世界大戦の始まり]
1933年 (ヒトラー) のナチスが政権をにぎる
1938年 オーストリア,
チェコスロバキア西部を併合
1939年 (独ソ不可侵条約)
1939年 (ポーランドに侵攻)
↓
イギリスとフランスがドイツに宣戦布告
(第二次世界大戦) が始まる



1938年(昭和13年)にオーストリア、次いでチェコスロバキア西部を併合したヒトラーの率いるナチス・ドイツは、1939年8月にソ連と独ソ不可侵条約を結んだ上で、9月にポーランドに侵攻した。これに対して、イギリスとフランスはドイツに宣戦布告し、こうして第二次世界大戦が始まった。

[日独伊三国同盟]

[問題]

1940年に日本、ドイツ、イタリアの間で結ばれた軍事同盟は何か。

(補充問題)

[解答欄]

--

[解答] 日独伊三国同盟

[解説]

日中戦争における日本の中国侵略に対抗すべく、アメリカやイギリスは、蔣介石の国民政府を支援するため、インドシナ半島北部經由の援蔣ルートなどで軍需物資などを送っていた。

イギリスやフランスなどがドイツとの戦争で劣勢におちいると、日中戦争

が長期化していた日本は、近衛内閣のもと、これらの国々の植民地がある東南アジアに武力による南進を始めた。

日本の東南アジアへの南進は、援蔣ルートをたちきるとともに、石油やゴムなどの資源を獲得するのが目的であった。

1940年(昭和15年)9月、日本は、ドイツに降伏したフランス領インドシナ北部に軍を進め、同年同月ドイツ・イタリアと日独伊三国同盟を結んだ。さらに、翌1941年(昭和16年)には、ソ連と日ソ中立条約を結んで北方の安全をはかりながら、インドシナ南部を占領した。東南アジアへの進出を正当化するために、「日本の指導のもと、欧米の植民地支配を打破しアジアの諸民族だけで繁栄しよう」という「大東亜共栄圏」の建設を唱えた。

[東南アジアへの南進]

目的: 援蔣ルートをたちきる、石油やゴムの獲得

1940年 フランス領インドシナ北部へ軍を進める

1940年 日独伊三国同盟

1941年 日ソ中立条約

1941年 フランス領インドシナ南部を占領

「大東亜共栄圏」の建設を唱える

[問題]

日本は国際連盟を脱退し、国際的に孤立していく一方で、1940年に2つの国と三国同盟を結んだ。この2つの国名を、次の中から選べ。

[イギリス フランス アメリカ合衆国 ドイツ ソビエト連邦 イタリア]

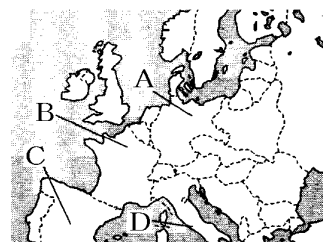
(神奈川県)

[解答欄]

[解答] ドイツ、イタリア

[問題]

右の略地図は第二次世界大戦が始まる前年のヨーロッパの国々を表したものである。日本が結んだ三国同盟の相手国を2つ選び、記号で答えよ。



(大分県)

[解答欄]

[解答]A, D

[問題]

日独伊三国同盟を結んだ時の日本の状況の説明として正しいものを、ア～エから1つ選び、符号で書け。

- ア 日中戦争が長期化していた。
- イ 義和団事件で中国へ出兵中であった。
- ウ ポツダム宣言を受諾しようとしていた。
- エ 幕末に結ばれた不平等条約の改正交渉をしていた。

(岐阜県)

[解答欄]

[解答]ア

[問題]

1941年に日本がソ連との間に結んだ条約は何か。

(補充問題)

[解答欄]

[解答]日ソ中立条約

[問題]

太平洋戦争が始まった年に、日本と中立条約を結ぶ一方で、ドイツから侵攻を受けた国はどこか、国名を書け。

(山形県)

[解答欄]

[解答]ソ連

[太平洋戦争の始まり]

[問題]

「9か月にわたる対米交渉にもかかわらず、アメリカ政府は日本の真意を理解せず、戦争の準備をしている。そこで、政府は12月8日午前8時半に、交渉打ち切りを発表し、アメリカ・イギリスと戦闘状態に入った。」この新聞記事が開戦を伝えている戦争は何か。

(群馬県)

[解答欄]

[解答]太平洋戦争

[解説]

1941年(昭和16年)12月8日、日本軍は、ハワイの真珠湾のアメリカ海軍基地を奇襲攻撃するとともに、イギリス領のマレー半島に上陸し、太平洋戦争を始めた。このときの日本の内閣総理大臣は東条英機で、アメリカの大統領はルーズベルトであった。

日本と日独伊三国同盟を結んでいたドイツとイタリアも、アメリカに宣戦布告した。こうして、ヨーロッパで開始された第二次世界大戦は、日独伊などの枢軸国と米英ソ中などの連合国が戦う世界規模の戦争に発展した。日本軍は、開戦後半年間は戦争を有利に進めたが、1942年のミッドウェー海戦での敗北を機に戦局は不利になっていった。

[太平洋戦争の始まり]

1941年 ハワイの真珠湾を奇襲攻撃
マレー半島に上陸

↓
1942年 ミッドウェー海戦で敗北



[問題]

太平洋戦争は、日本がアメリカのどこを攻撃したことに始まるか。

(補充問題)

[解答欄]

[解答]ハワイの真珠湾

[問題]

日本本土に大規模な空襲が行われたのは何という戦争か、次から1つ選べ。

[日清戦争 日露戦争 第一次世界大戦 太平洋戦争]

(京都府)

[解答欄]

[解答]太平洋戦争

[国民の動員・集団疎開]

[問題]

ひとみさんは、日中戦争～太平洋戦争の時期の国内の様子を調べ、この時期のある中学生の作文と、当時の様子を示す写真を見つけた。下の作文と写真を参考に、作文中のXにあてはまる語句を漢字2字で書け。



…(略)…2 学期が始まり、私たちの生活は大きく変わりました。働き手である多くの大人が戦地に召集されるようになってきたので、全国の中学生以上の学徒(学生や生徒)は、「勤労(X)」あるいは「学徒(X)」とって、工場などで働くことになりました。私たちも、1～2 週間の研修を受けてそれぞれの工場に配置されました。…(略)…

(山梨県)

[解答欄]

[解答]動員

[解説]

多くの成人男子が、兵士として戦場に送られた。1943年(昭和18年)、それまで徴兵を猶予されていた文科系の大学生などが軍隊に召集される学徒出陣も行われた。労働力が不足したため、中学生、女学生、未婚の女性などが勤労働員で、軍需工場などで働かされた。また、朝鮮人や中国人が日本に強制連行されて炭鉱などで働かされた。

[国民などの動員]

学徒出陣、勤労働員

朝鮮人や中国人の強制連行

[問題]

空襲をさけるため、大都市の小学生は父母のもとを離れ、まとまって地方に避難した。これを何というか。

(福井県)

[解答欄]

[解答] 集団疎開

[解説]

1942年(昭和17年)のミッドウェー海戦での敗北を機に日本軍の形勢が不利になっていった。1943年2月にガダルカナル島で敗北してから、後退を重ねていった。1944年にサイパン島が陥落すると、サイパン島の飛行場から飛び立つアメリカ軍の大型爆撃機による日本本土への空襲が激しくなった。

[本土への空襲と集団疎開]

1944年 サイパン島 が陥落
↓
日本本土への空襲が激しくなる
小学生の 集団疎開
1945年3月10日 東京大空襲

1945年(昭和20年)3月10日の東京大空襲では8万人以上が犠牲となり、100万人以上が焼け出された。アメリカ軍の日本本土への空襲が激しくなると、大都市の小学生は、空襲をさけるために、父母の元を離れて農村に集団疎開(学童疎開)した。

[沖縄・原爆・降伏]

[問題]

アメリカ軍が上陸し、はげしい戦闘がくり広げられ、県民の4人に1人が犠牲になった県はどこか。

(補充問題)

[解答欄]

[解答] 沖縄県

[解説]

1945年(昭和20年)3月に、アメリカ軍は沖縄に上陸し激しい地上戦が行われた。多くの住民が戦闘に協力させられ、戦



[1945年：沖縄・原爆・降伏]

3月 アメリカ軍が沖縄上陸
7月 ポツダム宣言
8月 広島と長崎に原爆が投下される
ポツダム宣言受諾→無条件降伏

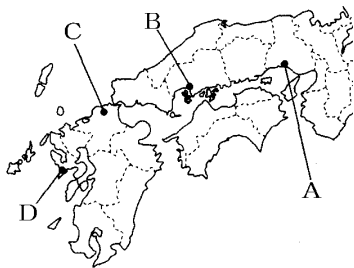
争に巻き込まれたため、県民の4人に1人が犠牲になった。

さらに、1945年8月6日に広島に、8月9日に長崎に原子爆弾が投下された。

その間の8月8日、ソ連は日ソ中立条約を一方的に破棄して参戦し、満州、朝鮮、樺太、千島列島に侵入した。満州にいた日本の兵士たちはソ連の捕虜となり、シベリアに連行されて戦後も強制労働に従事させられ、多くの人々が犠牲になった。千島列島は、そのとき以来、ソ連(現在はロシア連邦)が占拠したままになっている(北方領土問題)。こうした中で、1945年8月15日、日本はポツダム宣言を受け入れて降伏することを決め、昭和天皇がラジオ放送(玉音放送)で国民に知らせた。

[問題]

太平洋戦争末期、原子爆弾が投下され、多くの人命が失われた。次の地図を見て、原爆が投下された都市を2つ選べ。



(沖縄県)

[解答欄]

[解答]B, D

[解説]

アメリカは、原子爆弾を8月6日広島(B)に、8月9日長崎(D)に投下した。

[問題]

アメリカは、原子爆弾を8月6日広島に、9日長崎に投下し、その間、()も中立条約を破って参戦して、8月15日に戦争が終わった。文中の()内に入れる適語を答えよ。

(福井県)

[解答欄]

[解答]ソ連

[問題]

この国には、多くの日本人が開拓団として渡っていった。1945(昭和 20)年 8 月 8 日にソ連の参戦などがあり、太平洋戦争終結後も日本に帰国できず、多くの開拓民がその地で亡くなった。この国の位置を略地図上のア～エから 1 つ選び、記号で書け。



(山梨県)

[解答欄]

[解答]イ

[解説]

「この国」とはイの満州国のことである。

[問題]

1945 年、日本は()宣言を受諾し、無条件降伏をした。文中の()内に入れる適語を答えよ。

(山形県)

[解答欄]

[解答]ポツダム

[解説]

ポツダム宣言は、アメリカ・イギリス・中華民国の代表者がドイツのベルリンの郊外ポツダムで会議をもち、出した宣言。のちにソ連も参加した。軍国主義の絶滅、軍隊の解体、占領、民主主義と基本的人権の実現などを含んでいる。

[問題]

次のア～エを古い順に並べ、記号で書け。

- | | |
|--------------|-------------|
| ア ポツダム宣言の受諾 | イ 国家総動員法の公布 |
| ウ 第二次世界大戦の開始 | エ ハワイ真珠湾の攻撃 |

(福井県)

[解答欄]

[解答]イ→ウ→エ→ア

[問題]

第二次世界大戦が終結した 1945 年におきた次の a～d のできごとを、おこった順に正しく並べよ。

- a 広島に原子爆弾が投下された。 b ドイツが降伏した。
c 長崎に原子爆弾が投下された。 d 日本がポツダム宣言を受け入れた。

(神奈川県)

[解答欄]

[解答]b→a→c→d


【】戦後

【】戦後の民主化

[選挙権の拡大]

[問題]

右の資料は、1946年の国会のようすである。戦後、(X)に被選挙権が与えられ、初めて(X)の国会議員が誕生した。Xに適語を入れよ。



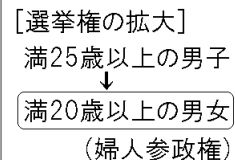
(熊本県)

[解答欄]

[解答]女性

[解説]

戦前に普通選挙が実現されていたが、選挙権は満25歳以上の男子のみに与えられ、女子には選挙権は認められていなかった。戦後、婦人参政権が認められ、選挙権は満20歳以上の男女に与えられた。



[問題]

右の資料は、主な選挙の実施年と全人口に占める有権者の割合の推移を示したものである。1946年に有権者の割合が高まった理由について説明せよ。ただし、有権者の資格を具体的に入れて書くこと。

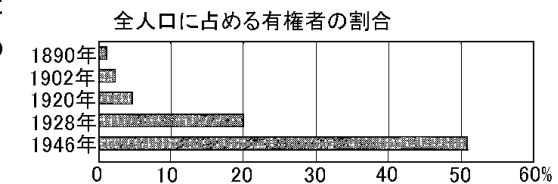
(大分県)

[解答欄]

[解答]有権者の資格が、25歳以上の男子から20歳以上の男女に変更されたから。

[解説]

すでに大正時代の1925年に普通選挙法が施行され、納税額による資格条件が撤廃されて、25歳以上のすべての男子に選挙権が与えられていたが、まだ、女性には選挙権が与えられていなかった。戦後の民主化の中で、20歳以上のすべての男女に選挙権が認められることになった。また、男性と同等の被選挙権も認められた。1946年に戦後初めての衆議院選挙が行われたが、466人中39人の女性議員が誕生した。



[問題]

右の資料は、略年表中ア～エのいずれかの期間に行われた衆議院議員総選挙で、女性が投票するようすを示している。どの期間のものか、記号で答えよ。



(福岡県)

[解答欄]

[解答]エ

[問題]

日本において、はじめて女性に選挙権が与えられたのはどの時期のことか、適当なものを次のア～エから1つ選び、その記号を書け。

- ア 第一次世界大戦中
- イ 第一次世界大戦終了から第二次世界大戦開始まで
- ウ 第二次世界大戦中
- エ 第二次世界大戦後

(三重県)

[解答欄]

[解答]エ

[経済・教育面での民主化]

[問題]

第二次世界大戦後の民主化を進める改革の中で、多くの自作農が生まれることになった改革を何というか。

(宮崎県)

[解答欄]

[解答]農地改革

(略年表)

時代	明治時代			大正時代			昭和時代			
年代	1868	1889	1895	1905	1915	1925	1932	1945	1951	1978
おもなできごと		五か条の御誓文が出される	大日本帝国憲法が公布される	A 下関条約を結ぶ	B ポーツマス条約を結ぶ	C 二十一条の要求を提出する	治安維持法が制定される	五・一五事件が起こる	ポツダム宣言を受け入れる	D 日中平和友好条約を結ぶ
				ア		イ	ウ	エ		

[解説]

農村では、農地改革が行われ、村に住んでいない地主の全耕地と在村地主の 1ha 以上の耕地は、国が買い上げて、小作人に安く売りわたした。その結果、右下図のように、自作農家が増えて小作農家が減少した。

[経済の民主化]
<u>農地改革</u> <u>財閥解体</u>
労働組合法, 労働基準法
[教育の民主化] 教育基本法

また、GHQ は財閥を軍国主義政策への協力勢力として、財閥解体を命じ、これまで日本経済を支配してきた大資本家の支配をやめさせ、それぞれの会社を独立させた。

また、労働者の権利を守るため、団結権・団体交渉権・団体行動権を保障した労働組合法、最低限の労働条件を定めた労働基準法などが制定された。


教育面では、それまでの教育勅語を廃止して、六・三・三・四制を定め、小中学校を義務教育とし、男女共学などを定めた教育基本法が制定された。

自作, 小作別農家の割合の変化

改革前	自作	自小作	小作
1930年	31.1	42.4	26.5
↓	農地改革を実施する		
↓	改革後		
1950年	自作 61.9	自小作 32.4	小作 5.1

[問題]

右の資料は、GHQ による民主化政策のうち、ある政策によってもたらされた我が国における自作地と小作地の面積の割合の変化を表したものである。このような変化をもたらした政策を何というか。



(高知県)

[解答欄]

[解答]農地改革

[問題]

農地改革で、地主と小作人との関係が改められ、自作農が大幅に増えた。このとき、自作農を増やすためにどのようなことが行われたか。「地主の土地」ということばを使い、簡単に説明せよ。

(北海道)

[解答欄]

[解答]強制的に地主の土地を買い取り，小作人に安く売り渡した。

[問題]

第二次世界大戦後に農地改革が行われたが，この目的は何か。

(佐賀県)

[解答欄]

[解答]小作農に土地を与えて自作農を増やすこと。

[問題]

日本は降伏し，連合軍総司令部(GHQ)の指令のもと，諸改革を行った。戦前多くの企業を経営し，日本経済を支配してきた()の解体が命じられ，経済の民主化が進められた。

(栃木県)

[解答欄]

[解答]財閥

[問題]

経済の民主化の中で，戦前の体制を経済的に支えたとして解体された三井・三菱・住友・安田などを何というか。

(福井県)

[解答欄]

[解答]財閥

[問題]

戦後，日本の民主化をめざしたいろいろな改革が行われた。教育の分野における，民主化をめざしてつくられた新しい法律や制度のうち，1つを書け。

(山形県)

[解答欄]

[解答]教育基本法

[解説]

小中学校を義務教育とし、男女共学などを定めた教育基本法が定められた。

[問題]

戦後、GHQ の指令のもと、民主化政策が行われた。このとき行われた政策としてあてはまらないものを、次のア～エの中から 1 つ選べ。

- ア 戦前の体制を経済的に支えたとして、財閥が解体された。
- イ 学制が公布され 6 歳以上の男女すべてが小学校教育を受けることとされた。
- ウ 農地改革で地主・小作関係が改められ多くの自作農が生まれた。
- エ 20 歳以上のすべての男女に選挙権があたえられた。

(福島県)

[解答欄]

[解答]イ

[解説]

イの学制は 1872 年(明治 5 年)に定められた。

[問題]

戦後行われた改革として適切でないものを、次のア～カの中から 2 つ選び、記号を書け。

- ア 大政翼賛会を結成した。
- イ 6・3・3・4 制の教育がはじまった。
- ウ 農地改革を行った。
- エ 20 歳以上の男女に選挙権をみとめた。
- オ 財閥を解体した。
- カ 国家総動員法を定めた。

(長野県)

[解答欄]

[解答]ア、カ

[解説]

ア：すべての政党が解散して、大政翼賛会たいせいよくさんかいがつくられたのは 1940 年。

カ：1938 年、政府は総力をあげて戦争に取り組むため、国家総動員法を制定した。

[問題]

日本国憲法が制定されたころの社会のようすを述べた文として、最も適切なものを、次のア～エから1つ選び、記号で答えよ。

ア 板垣退助が自由党を、大隈重信が立憲改進黨を、それぞれつくった。

イ 満25歳以上の男子全員に選挙権をあたえる普通選挙法が成立した。

ウ 日本で初めて、本格的な政党内閣が成立した。

エ 教育基本法の制定や、民法の改正など、法制度の整備が進められた。

(宮城県)

[解答欄]

[解答]エ

[解説]

アは明治時代、イとウは大正時代、エは戦後である。

[問題]

太平洋戦争の責任があるとされた軍人や政治家を裁いた裁判が、1946年から始まった。その裁判の名称を書け。

(佐賀県)

[解答欄]

[解答]極東国際軍事裁判

【】冷たい戦争

[国際連合]

[問題]

世界の平和と安全の維持を目的として 1945 年に設立された国際的な機関を何というか。

(三重県)

[解答欄]

[解答]国際連合

[解説]

1945 年(昭和 20 年)10 月、連合国は世界の平和と安全を維持する機関として、ニューヨークに本部を置く国際連合をつくった。国際紛争の解決をはかるために安全保障理事会が設置され、アメリカ、イギリス、フランス、ソ連、中国が常任理事国となった。

[国際連合]

ニューヨークに本部
安全保障理事会

[問題]

1945 年、(X)が発足した。日本は、1956 年に(X)に加盟した。文中の X に入れる適語を答えよ。

(富山県)

[解答欄]

[解答]国際連合

[冷たい戦争]

[問題]

戦後の世界は、アメリカを中心とする西側陣営とソ連を中心とする東側陣営に分かれ、きびしく対立した。この東西両陣営の対立を何というか。

(鳥取県)

[解答欄]

[解答]冷戦(冷たい戦争)

[解説]

第二次世界大戦後，連合は世界平和をめざして国際連合をつくったが，現実には，アメリカを中心とする資本主義の西側陣営と，ソ連が率いる共産主義の東側陣営にわかれ，厳しく対立した。

ドイツは西半分をアメリカなどが，東半分をソ連が占領したが，戦後の米ソの対立のために，そのまま分割されて，1949年(昭和24年)に資本主義の西ドイツと社会主義の東ドイツとして独立した。

アメリカを中心とする西側諸国は，1949年(昭和24年)に北大西洋条約機構(NATO)という軍事同盟を結んだ。これに対し，ソ連を中心とする東側諸国は，1955年(昭和30年)にワルシャワ条約機構を結んだ。このような東西の対立は，新たな世界大戦が発生しかねないほど厳しい対立であったが，米ソの直接の軍事衝突にまでは至らなかったので，冷たい戦争(冷戦)と呼ばれた。

西ベルリンは東ドイツに囲まれた西側陣営の飛び地であったが，1961年(昭和36年)に東ドイツが西ベルリンを取り囲むようにベルリンの壁を築いた。

[冷たい戦争(冷戦)]

西側：アメリカが中心，資本主義
北大西洋条約機構(NATO)

東側：ソ連が中心，共産主義
ワルシャワ条約機構

ドイツ：西ドイツと東ドイツに分断

[問題]

戦後，アメリカとソ連を中心とする2つの陣営が対立し，冷戦(冷たい戦争)といわれる状態が続いた。こうした状況のもとで結成されたアメリカと西ヨーロッパ諸国との軍事同盟を何というか。

(和歌山県)

[解答欄]

[解答]北大西洋条約機構(NATO)

[問題]

アメリカや西ヨーロッパ諸国に対抗して，ソ連は，1955年，()機構をつくった。
(熊本県)

[解答欄]

[解答]ワルシャワ条約

[中華人民共和国の成立]

[問題]

次の文の ， の()内より適語を選べ。

中国では (毛沢東 / 蔣介石)の率いる共産党が民衆の支持を得て内戦に勝利し，(袁世凱と手を結んで皇帝を退位させた / 中華人民共和国が成立した)。

(愛知県)

[解答欄]

--	--

[解答] 毛沢東 中華人民共和国が成立した

[解説]

第二次世界大戦後の中国では共産党と国民党の内戦が始まり，これに勝利をおさめた共産党が，1949年(昭和24年) ^{もうたくとう}毛沢東を主席とする ^{ちゅうかじんみん}中華人民共和国をつくった。敗れた国民党の ^{しやうかいせき}蔣介石は ^{たいわん}台湾にのがれた。

[中華人民共和国の成立]

戦後，共産党と国民党の内戦

1949年 [中華人民共和国] [毛沢東]

蔣介石の国民党は台湾にのがれた

[朝鮮戦争]

[問題]

次の各問いに答えよ。

- (1) 1950年に東アジアで起こった戦争は何か。
- (2) (1)の戦争の後，アメリカが日本に作らせた組織で，現在の自衛隊の前身となったものは何か。

(補充問題)

[解答欄]

(1)	(2)
-----	-----

[解答](1) 朝鮮戦争 (2) 警察予備隊

[解説]

1950年(昭和25年)，北朝鮮が韓国に ^{しんこう}侵攻して ^{ちやうせん}朝鮮戦争が始まった。韓国軍は半島の南端まで追いつめられたが，アメリカ軍を主力とする国連軍が韓国を助けるために参戦した。国連軍が北朝鮮を追って，中国との国境に近づくと，今度は中国が北朝鮮側に立って参戦し，戦局は38度線付近で一進一退をくり返した。(ひどく号令(1950)朝鮮戦争)

[朝鮮戦争]

1950年 北朝鮮が韓国に侵攻

・[特需景気] → 日本経済の復興

・[警察予備隊] (のちの自衛隊)

朝鮮戦争が起こると、アメリカは大量の軍需物資を日本に発注した。そのため、日本経済は不景気から回復し、復興を早めることができた。これを特需景気という。また、在日アメリカ軍が朝鮮戦争に出兵すると、GHQ の指令で警察予備隊がつくられた。それはしだいに強化され 1954 年(昭和 29 年)には自衛隊になった。

[問題]

吉田茂が内閣総理大臣だったときに設立された警察予備隊は、現在では何という組織になっているか。

(石川県)

[解答欄]

[解答]自衛隊

[問題]

警察予備隊がつくられたのと最も近い時期のできごとはどれか。

ア 朝鮮戦争の開始 イ 日韓基本条約の調印 ウ 日中平和友好条約の調印
エ 極東国際軍事裁判(東京裁判)の開始

(神奈川県)

[解答欄]

[解答]ア

[問題]

右の写真は、連合国軍総司令部(GHQ)の占領政策の転換により 1950 年に、わが国につくられた警察予備隊の様子を写したものである。次のア～エのうち、GHQ が占領政策を転換するきっかけとなった当時の国際的なできごととして、最も適当なものはどれか。1 つ選んで、その記号を書け。



ア 沖縄返還

イ 中華人民共和国の成立

ウ ソビエト連邦の解体

エ 東西ドイツの統一

(香川県)

[解答欄]

[解答]イ

[問題]

朝鮮戦争が日本に与えた経済的な影響について、次の2語を使って簡潔に説明せよ。

[軍事物資(軍需物資) 景気]

(富山県)

[解答欄]

[解答]大量の軍事物資(軍需物資)の調達を日本が引き受けたことにより、好景気をむかえ、経済復興が早まった。

【】独立の回復と 55 年体制

[サンフランシスコ平和条約]

[問題]

アメリカのある都市で、第二次世界大戦後の 1951 年に平和条約が締結され、翌年日本は独立を回復した。この条約の名称を書け。

(長崎県)

[解答欄]

[解答]サンフランシスコ平和条約

[解説]

占領の長期化が反米感情を高めることをおそれたアメリカは、日本との講和を急いだ。1951 年(昭和 26 年)、吉田茂内閣はアメリカなど 48 か国とサンフランシスコ平和条約を結び、この条約が発効した 1952 年に日本はようやく独立

を回復した。しかし、ソ連などの社会主義国は条約に反対して調印せず、戦争の最大の被害国である中国は会議に招かれなかった。日本が侵略したアジアの国の多くとの間では講和は実現しなかった。また、日本に対する武力攻撃を防ぎ東アジアの平和を維持するために、アメリカと日米安全保障条約(安保条約)が結ばれた。この条約により、占領終結後も沖縄県などにアメリカ軍基地が残されることになった。

[独立の回復]

1951年 サンフランシスコ平和条約

日米安全保障条約

吉田茂が首相の時

[問題]

次の文を読んで、後の各問いに答えよ。

サンフランシスコ平和条約は、資本主義諸国の西側陣営と社会主義諸国の東側陣営がきびしく対立する()とよばれる緊張した状態が高まる中で結ばれた。

(1) ()にあてはまる語を書け。

(2) サンフランシスコ平和条約に関することがらとして正しいものを、次のア～ウから 1 つ選び、記号で答えよ。

ア わが国は、講和会議に出席していたすべての国々との間でこの条約を結んだ。

イ わが国は、講和会議でこの条約を結ぶとともに、日米安全保障条約を結んだ。

ウ わが国は、この条約を結んだことによって、国際連合への加盟が認められた。

(熊本県)

[解答欄]

(1)	(2)
-----	-----

[解答](1) 冷たい戦争(冷戦) (2) イ

[問題]

次の文章中の ， に適する語句を下の[]からそれぞれ選べ。

敗戦後の日本は、マッカーサーを最高司令官とする()の指令や勧告にもとづいて政治が行われていた。1951年にアメリカのサンフランシスコで()と平和条約が結ばれその翌年、()の指令や勧告にもとづいての政治が終了した。

[GHQ 国際連盟 48 か国 108 か国]

(茨城県)

[解答欄]

--	--

[解答] GHQ 48 か国

[問題]

第二次世界大戦が終わってから、サンフランシスコ平和条約を調印するまでは、日本の主権は制約を受けていた。それは具体的にはどのようなことをいうのか、簡潔に書け。

(宮城県)

[解答欄]

--

[解答] 連合国軍に占領され、GHQの指令のもとに政治がすすめられていたこと。

[問題]

1951年のサンフランシスコ平和条約によって、この条約を結んだ国々と日本との戦争状態の終了が確認された。このこととともに、この条約を結んだ国々によって、日本が認められたのはどのようなことか、1つ書け。

(山形県)

[解答欄]

--

[解答] 日本が主権を回復すること。

[問題]

サンフランシスコ平和条約の調印と最も近い時期のできごとはどれか。

- ア 日ソ中立条約が結ばれた。
- イ 治安維持法が制定された。
- ウ 朝鮮戦争がはじまった。
- エ 日本が国際連合に加盟した。

(神奈川県)

[解答欄]

[解答]ウ

[問題]

写真は、吉田茂首相がある条約に調印している様子であり、資料はそのとき調印した条約の一部を要約したものである。この条約は、年表の B ~ E のいずれの時期に調印されたものか、1 つ選んで記号を書け。



第一条 連合国は、日本国とその*領土に対する日本国民の完全な主権を認める。
*領土：領海
(『日本外交主要文書・年表』から)

1920	関税自主権を回復する ⇕ A 第二次護憲運動がおこる ④ 満州事変がおこる
1940	⇕ B 日本国憲法を公布する
1960	⇕ C 国際連合に加盟する
	⇕ D 沖縄が日本に復帰する
1980	⇕ E 日中平和友好条約を結ぶ

(秋田県)

[解答欄]

[解答]C

[問題]

右の写真は、第二次世界大戦後に、日本がアメリカ合衆国のサンフランシスコで平和条約に調印しているようすを写したものである。写真の中央で着席して署名しているのは、当時の日本の内閣総理大臣である。この人物は誰か。人名を漢字3字で書け。



(千葉県)

[解答欄]

[解答]吉田茂

[問題]

日本はサンフランシスコ平和条約を結んで独立を回復するが、ソビエト連邦(ソ連)などがこの条約に調印していない。その理由を簡潔に書け。

(佐賀県)

[解答欄]

[解答]ソ連などの社会主義国は、アメリカなどの資本主義国と対立していたから。

[問題]

サンフランシスコ平和条約によって、1972年までアメリカの統治下に置かれたのは、現在の何県か。

(群馬県)

[解答欄]

[解答]沖縄県

[問題]

サンフランシスコ平和条約について、正しいものを、次のア～エの中から2つ選び、記号を書け。

ア 日本は、アメリカを含む資本主義国など、48か国と平和条約を結んだ。

イ 日米安全保障条約が改正され、アメリカの基地が日本に置かれることになった。

ウ 日本は、ソ連などの社会主義国も含め、すべての国と平和条約を結んだ。

エ 日本は、主権を取りもどし、独立を回復した。

(長野県)

[解答欄]

[解答]ア，エ

[解説]

イ：サンフランシスコ平和条約と同時に日米安全保障条約が結ばれた。その改正は1960年。

ウ：中国は招かれず，インド・ビルマは参加せず，ソ連など3か国は調印を拒否した。

[日米安全保障条約]

[問題]

わが国は，1951年にサンフランシスコ平和条約を48か国と結び独立を回復したが，この平和条約と同時に結ばれた条約は何か，最も適当なものを次から1つ選べ。

[日韓基本条約 日米安全保障条約 日ソ中立条約 日中平和友好条約]

(三重県)

[解答欄]

[解答]日米安全保障条約

[解説]

サンフランシスコ平和条約と同時に，日本に対する武力攻撃を防ぎ，東アジアの平和を維持するために，アメリカと日米安全保障条約にちべいあんぜんほしょうじょうやくが結ばれた。この条約で，日本はアメリカ軍が国内に駐留することを認めた。

[問題]

日本は，アメリカ軍が国内に駐留することを認めているが，その根拠となっている条約名を答えよ。

(鳥取県)

[解答欄]

[解答]日米安全保障条約

[問題]

日米安全保障条約について正しく述べたものを，次のア～エの中から1つ選んで，その記号を書け。

ア 沖縄や小笠原諸島は，アメリカが占領することになった。

イ 日本の治安維持と防衛のため，警察予備隊の設置を決定した。

ウ 日本の安全と東アジアの平和を守るという理由で，アメリカ軍の駐留を認めた。

エ 日本の領土を，北海道・本州・四国・九州とその他の島々に限った。

(茨城県)

[解答欄]

[解答]ウ

[解説]

アはサンフランシスコ平和条約で決まった。イは安保条約以前の朝鮮戦争初期のこと。エはポツダム宣言の内容。

[日ソ共同宣言と国連への加盟]

[問題]

わが国とソ連との間で、1956年に()宣言が調印された。この宣言によりソ連との戦争状態が終了し、わが国の国際連合への加盟をソ連が支持することなどが約束された。この年わが国は国際連合に加盟し、国際社会に復帰することになった。文中の()内に入れる適語を答えよ。

(栃木県)

[解答欄]

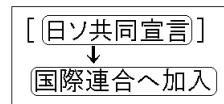
[解答]日ソ共同

[解説]

1951年(昭和26年)、サンフランシスコ平和条約が結ばれたが、ソ連などの社会主義国は条約に反対して調印ちょういんしなかった。

1956年(昭和31年)、鳩山一郎内閣はとやまいちろうによって日ソ共同宣言にっ きやうどうせんげんが調

印され、ソ連との国交が回復した。同年、日本はソ連の支持も受けて国際連合に加盟し、国際社会に復帰した。



[問題]

日本と()が共同宣言を出し国交を回復した結果、日本の国際連合への加盟が実現した。文中の()に当てはまる国の名を書け。

(愛媛県)

[解答欄]

[解答]ソ連

[問題]

日本の国際連合への加盟が、独立を回復してからすぐには実現しなかった理由を、冷戦のもとでの日本の国際的な立場にふれながら、簡潔に述べよ。

(宮城県)

[解答欄]

[解答]冷戦の中、日本は西側陣営の一員となっていたため、東側陣営のソ連が日本の加盟に反対したから。

[問題]

日本の国際連合への加盟が実現したことと関係の深いできごとを、次から1つ選べ。

[日ソ共同宣言の調印 日米安全保障条約の締結 日韓基本条約の締結

日中共同声明の調印]

(山形県)

[解答欄]

[解答]日ソ共同宣言の調印

[問題]

第二次世界大戦後、ソ連と国交を回復することによって、日本の国際社会への復帰は一層進むことになった。右の資料は、ソ連との国交回復に関連したあるできごとを報じた新聞記事の一部である。資料は、何について報じた新聞記事か。簡単に書け。


(静岡県)

[解答欄]

[解答]日本の国際連合への加盟

[解説]

資料の見出しの「総会」，「安保理」の文字に着目する。1956年，日本とソ連は日ソ共同宣言に調印し，これによって日本の国際連合への加盟が承認された。



[55年体制]

[問題]

日本において、アメリカの冷戦政策を支持する保守勢力が1955年に結成した政党は何か。

(補充問題)

[解答欄]

[解答]自由民主党

[解説]

独立回復後、1955年(昭和30年)、日本では政党に新しい動きが起こり、保守勢力が自由民主党(自民党)、革新勢力が日本社会党(社会党)を結成した。それから長く続く、自民党を与党とし、社会党を主要野党とする55年体制が始まった。自民党と社会党の対立の頂点は、1960年(昭和35年)の日米安全保障条約(安保条約)の改定であった。自民党の岸信介内閣は、アメリカとの関係を強化することをめざして、新しい安保条約を結んだ。これに対し、安保闘争という激しい反対運動が起こり、岸内閣は、条約成立後に退陣した。

[55年体制]

1955年 自由民主党結成

1960年 安保闘争

[問題]

55年体制とはどのような政治体制か。政党名を明らかにして、「与党」「野党第一党」の2つの語句を用いて説明せよ。

(福島県)

[解答欄]

[解答]自由民主党を与党とし、日本社会党を野党第一党とする政治体制のこと。

[アジア・アフリカ会議]

[問題]

東西冷戦の中、第二次世界大戦後に独立した国々を中心に、1955年、インドネシアで()会議が開かれ、いち早く平和共存が提唱された。()に適語を入れよ。

(福井県)

[解答欄]

[解答]アジア・アフリカ(バンドン)

[解説]

第二次世界大戦後、アジアとアフリカでは多くの国が植民地支配から独立した。これらの国々は、1955年(昭和30年)にインドネシアのバンドンで、アジア・アフリカ会議(バンドン会議)を開き、帝国主義の植民地支配反対と平和を守ることなどを決めた。

[アジア・アフリカ会議]
1955年
インドネシアのバンドン

[問題]

1955年にバンドンでアジア・アフリカ会議が開かれたが、このころの世界のようすを述べた文章として最もふさわしいものを、次のア～エの中から1つ選んで、その記号を書け。

- ア 広島で第1回原水爆禁止世界大会が開かれ、原水爆に反対する運動が世界的に広まった。
- イ 朝鮮半島に、朝鮮民主主義人民共和国(北朝鮮)と大韓民国(韓国)が建国された。
- ウ 第四次中東戦争が起こり、産油国が石油の生産量を減らしたため、石油価格が上昇した。
- エ 核兵器拡散防止条約が結ばれ、軍備縮小に関する世界的な取り決めが行われた。

(茨城県)

[解答欄]

[解答]ア

[解説]

アメリカは第二次世界大戦末期に原爆を開発していたが、1949年(昭和24年)にはソ連も原爆の開発に成功した。1954年(昭和29年)にはアメリカがビキニ環礁で

水爆実験を行い、現地付近の島民や日本の第五福竜丸という漁船などが被害を受けた。このころソ連も水爆の開発に成功しており、アメリカとソ連は核兵器の開発競争を行った。アメリカのビキニ環礁での水爆実験以降、核兵器開発に対する反対運動が高まり、翌1955年には広島で第1回原水爆禁止世界大会が開催された。

1954年 アメリカがビキニ環礁で水爆実験
↓
第五福竜丸が死の灰をあびる
↓
広島で第1回原水爆禁止世界大会

【】高度経済成長の時代

[高度経済成長]

[問題]

1950年代後半～1970年代前半，日本は急速に経済的な発展をとげ，世界でも豊かな国の1つになった。この急速な経済の発展は何とよばれているか。

(山形県)

[解答欄]

[解答]高度経済成長

[解説]

1950年代半ばまでに戦前の水準をほぼ回復した日本経済は，1955年から73年までの間，年平均で10%程度の高度経済成長を続けた。1961年(昭和36年)，池田勇人内閣は所得倍増をスローガンにかかげた。

[高度経済成長]

1955年～1973年 高度経済成長

1961年 池田勇人内閣の所得倍增計画

1964年 東京オリンピック，東海道新幹線

1968年 日本のGNPは世界2位になる

高度経済成長によって，国民の所得は増え，くらしが便利になった。まず，白黒テレビ・洗濯機・冷蔵庫，ついで，カラーテレビ・自動車・クーラーが普及した。1964年(昭和39年)に東京オリンピックが開催されたが，これにあわせて，東海道新幹線，首都高速道路が建設され，これをきっかけにして高速道路網が整備された。1968年(昭和43年)，日本の国民総生産(GNP)は，資本主義国の中でアメリカに次ぐ第2位になった。

[問題]

1950～1970年ころにおける我が国の経済や社会のようすについて述べた文として最も適当なものを，ア～エから1つ選び，その記号を書け。

ア 熊本県の水俣や三重県の日市などをはじめとする各地で，公害問題が深刻化した。

イ 富岡製糸場などの官営模範工場がつくられ新技術の開発と普及が図られた。

ウ インターネットなどが急速に普及し，世界各地との結びつきが強くなった。

エ 重工業の発展の基礎となる鉄鋼生産のため，官営の八幡製鉄所が設立された。

(愛媛県)

[解答欄]

[解答]ア

[解説]

イとエは明治時代。ウは現代社会の様子。

[問題]

わが国のテレビ放送は、1953 年にはじまった。テレビ放送の開始から石油危機までの間に起きたできごとを、次のア～エから 1 つ選び、記号で答えよ。

- ア 米ソ首脳による冷戦終結の宣言
- イ 四大公害裁判の提訴
- ウ サンフランシスコ平和条約の調印
- エ 日本国憲法の公布

(山口県)

[解答欄]

[解答]イ

[解説]

ウ(1951 年)とエ(1946 年)は、1953 年以前。アは 1989 年。

[60 年代の国際関係]

[問題]

米ソ両国が核兵器による全面戦争に最も近づいた 1962 年の出来事は何か。

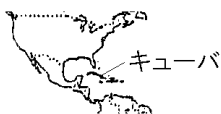
(福井県)

[解答欄]

[解答]キューバ危機

[解説]

1962 年(昭和 37 年)、ソ連がキューバに核ミサイル基地を建設していることを察知



したアメリカは、キューバの海上封鎖を行った。このキューバ危機は、米ソ間の核

[60 年代の国際関係]

- 1962 年 キューバ危機 → 緊張緩和
- 1965 年 ベトナム戦争にアメリカが介入
→ 73 年に撤退 → アジアの緊張緩和
- 1967 年 ヨーロッパ共同体(EC)設立

戦争が起^{せんそう}こる寸^{すんぜん}前で回^{かいひ}避された。この事件をきっかけとして、アメリカとソ連は首^{しゅのう}脳間の直通電話(ホットライン)を設置し、急速に関係を改善していき、緊^{きんちようかんわ}張緩和が本格化した。

西ヨーロッパ諸国は、1967年(昭和42年)にヨーロッパ共同体(EC)を設立する一方、1970年代前半に東ヨーロッパ諸国との関係を改善した。

1965年(昭和40年)、アメリカは南ベトナムを支援して北ベトナムへの激しい爆^{ばくげき}撃と地上軍の派^{はけん}遣を行いベトナム戦争が激化した。世界各地で反戦運動が高まる中、アメリカは、ソ連と対立していた中国との関係を改善し、1973年(昭和48年)にベトナムから撤^{てつたい}退すると、緊張緩和はアジアにも広がった。

[問題]

沖縄の日本復帰運動は、ある戦争に対する反戦運動の高揚とともに、1960年代半ばからさかんになった。ある戦争とは何か。

(山形県)

[解答欄]

[解答]ベトナム戦争

[問題]

インドシナ半島においては、1973年に(X)戦争の停戦のための和平協定が結ばれアメリカ軍は撤退した。その後、1976年に南北(X)は統一された。文中のXに適語を入れよ。

(千葉県)

[解答欄]

[解答]ベトナム

[解説]

ベトナム戦争(1960年～1975年)は、ベトナムの独立と南北統一をめぐるおこった戦争。

[沖縄の日本復帰]

[問題]

わが国に沖縄が復帰する前年の 1971 年に国会で決議され復帰後の沖縄にも適用された「持たず、つくらず、持ちこませず」という核兵器に関するわが国の方針は何か。そのよび名を書け。

(香川県)

[解答欄]

[解答]非核三原則

[解説]

サンフランシスコ平和条約で、^{おきなわ}沖縄はアメリカの^{とうちか}統治下に置かれていたが、^{さとうえいさく}佐藤栄作内閣はアメリカ政府と交渉を進め、1972年(昭和47年)5月に、^{ふっさき}沖縄の日本への復帰

[沖縄の日本復帰]

1972年に実現

非核三原則

「核兵器を持たず、作らず、持ちこませず。」

が実現した。この過程で、核兵器を「持たず、つくらず、持ちこませず」という^{ひかくさんげんそく}非核三原則が国の方針になった。

[問題]

沖縄県で右側を走っていた自動車が、現在のように左側を走るようになった背景にある歴史的事実を、簡潔に述べよ。

(宮城県)

[解答欄]

[解答]沖縄がアメリカ合衆国から日本へ返還されたこと。

[解説]

1972年の復帰前は、沖縄は米国による占領下にあり、アメリカの交通規則が適用されていた。

[問題]

日本は唯一の被爆国として、非核三原則をかがげ、核兵器保有国の拡大を防ぐ()条約に参加するなど、積極的に行動している。

(群馬県)

[解答欄]

[解答]核拡散防止

[解説]

核拡散防止条約は、核兵器の保有を制限し、核軍縮を進めるための条約。1968年に調印。1971年には、核兵器を「持たず、つくらず、持ちこませず」という非核三原則を国会で決議した。

[韓国・中国との国交正常化]

[問題]

わが国は1965年に、韓国と()条約を結び、国交を正常化した。文中の()内に入れる適語を答えよ。

(栃木県)

[解答欄]

[解答]日韓基本

[解説]

東南アジア諸国との賠償問題は、1950年代末までにおおむね解決された。また、韓国とは、1965年(昭和40年)に日韓基本条約を結び、韓国政府を朝鮮半島の唯一の政府として承認した。

中国とは、1972年(昭和47年)に田中角栄内閣が日中共同声明によって国交を正常化した。このとき、中国

から日本へパンダが贈られた。さらに、1978年(昭和53年)には日中平和友好条約が結ばれた。石油危機後の1975年から、先進諸国の間で毎年1回、サミットという首脳会議が開かれるようになった。

[60～70年代の日本の外交]

1965年 日韓基本条約

1972年 沖縄の日本復帰
→ 非核三原則

1972年 日中共同声明

1978年 日中平和友好条約

[問題]

1972年に、日本と中国の国交が正常化すると、パンダが日本に贈られ、1978年には()条約が結ばれた。文中の()内に入れる適語を答えよ。

(岐阜県)

[解答欄]

[解答]日中平和友好

[問題]

次の文の ， の()内より適語を選べ。また， には適語を入れよ。

サンフランシスコ平和条約を結び、しばらくして、日本は（国際連盟／サミット／国際連合）へ加盟し国際社会に復帰した。その後、日本国民の強い願いにより、アメリカから（北方領土／種子島／沖縄）が日本に返還された。中国とは、国交が回復され、その記念として日本にパンダが贈られた。その6年後、()条約が結ばれ中国との国交が本格化した。

(長野県)

[解答欄]

--	--	--

[解答] 国際連合 沖縄 日中平和友好

[解説]

佐藤栄作首相はアメリカと交渉を行い、1968年に小笠原諸島の日本への返還を実現し、1972年には、沖縄がアメリカから返還され、日本に復帰した。同じ1972年、田中角栄首相が中国を訪れ日中共同声明に調印して国交が回復した。さらに1978年の福田起夫内閣のとき、日中平和友好条約が結ばれた。

[問題]

次のア～カの中から、1972年におこったことを2つ選べ。

- ア 小笠原諸島が日本に復帰する。
- イ ベトナム戦争が終結する。
- ウ 日中共同声明が発表される。
- エ 朝鮮戦争の休戦協定が結ばれる。
- オ 日中平和友好条約が結ばれる。
- カ 沖縄が日本に復帰する。

(福島県)

[解答欄]

--

[解答]ウ、カ

[問題]

次のア～エは、東京オリンピックが開催されたころの日本と国際社会の関係について述べたものである。これらのできごとを年代の古い順に並べるとどのようになるか、その記号を順に書け。

- ア ソ連と国交を回復し、国際連合に加盟した。
- イ 中華人民共和国と共同声明を発表し、国交を正常化した。
- ウ 日米安全保障条約を改定し、アメリカとの関係をより強化した。
- エ 大韓民国と日韓基本条約を結び、国交を正常化した。

(和歌山県)

[解答欄]

[解答]ア→ウ→エ→イ

[石油危機]

[問題]

1973 年に中東で起きた戦争をきっかけに、中東などの石油産出国が石油価格を約 4 倍に引き上げたことにより、日本を含む世界の経済が打撃を受けたが、このできごとを何というか。

(愛媛県)

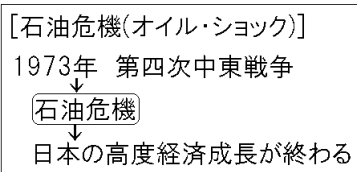
[解答欄]

[解答]石油危機

[解説]

1973 年(昭和 48 年)、アラブ諸国とイスラエルの間で第四次中東戦争ちゆうとうが起こった。この戦争を機に、アラブ諸国は、石油の輸出制限と石油価格の大幅な引き上げを行った。石油をおもなエネルギー源としていた日本などの先進国は、大きな打撃を受けた。こ

れを石油危機せきゆき(オイル・ショック)という。石油の輸入に大きく依存していた日本経済は、石油の国際価格が大幅に上がったため、大きな打撃を受けた。売りおしみや買い占めによって物価が上昇し、トイレットペーパーなどの日用品の品不足が起こった。1974 年には戦後初めて経済の成長がマイナスとなり、高度経済成長は終わった。



[問題]

1973 年の石油危機は、ある戦争をきっかけに起こったものである。この戦争を何と
いうか、次から 1 つ選べ。

[ベトナム戦争 朝鮮戦争 第二次世界大戦 第四次中東戦争]

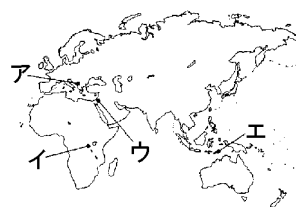
(高知県)

[解答欄]

[解答]第四次中東戦争

[問題]

この地域で 1970 年代に起きた戦争をきっかけに、産油
国が原油の値上げと輸出の制限を行ったため、石油危機が
発生し、世界経済は大きな打撃を受けた。この地域の安定
のために、国際連合による平和維持活動が行われたり、国
際会議が開かれたりしている。「この地域」とは地図中の
ア～エのうちのどれか。



(東京都)

[解答欄]

[解答]ウ

[問題]

1973 年に第四次中東戦争をきっかけに中東のアラブ諸国などがおこなった政策によ
って、日本などの先進国の経済は大きな打撃を受けた。その政策の内容を簡潔に書け。

(長崎県)

[解答欄]

[解答]石油の価格を引き上げる政策

[問題]

1973年に第四次中東戦争がおこった。これをきっかけにおきたできごとによって、右の資料のような現象がみられた。なぜ、このような現象がみられたのか、その理由として正しいものを、次から1つ選び、符号で答えよ。



(スーパーに殺到する人々)

- ア 先進工業国と発展途上国の経済的格差が広がり、南北問題が生じたから。
- イ 大量の軍需物資の調達が行われ、特需景気をむかえたから。
- ウ 石油産出国が石油価格を4倍に引き上げ、石油危機がおこったから。
- エ 日本の重化学工業が発展し、国民総生産(GNP)が飛躍的に増えたから。

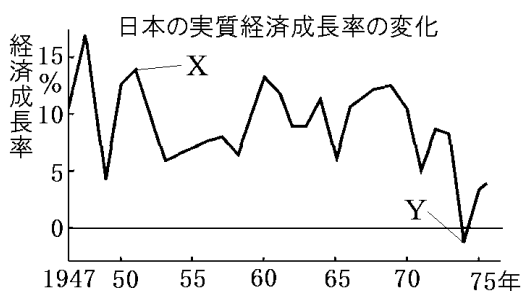
(宮崎県)

[解答欄]

[解答]ウ

[問題]

右の資料は、日本の実質経済成長率の変化を表したものである。次の各問いに答えよ。



(1) 1951年に経済成長率がXのようになった理由を、簡潔に書け。ただし、前年に始まった戦争の名称を示すとともに、「物資」という語句を用いること。

(2) 1974年に経済成長率がYのようにになっているのは、ある地下資源の価格のおおはばな上昇により、日本などの先進工業国が大きく混乱したからである。この混乱を何というか。

(大分県)

[解答欄]

(1)

(2)

[解答](1) 朝鮮戦争が起こり、アメリカが日本に大量の物資を注文したから。 (2) 石油危機

【】冷戦の終結・バブル経済など

[冷戦の終結]

[問題]

1989年に、東西冷戦の象徴としての「(X)の壁」が崩壊した。1990年、東西に分裂していたドイツが統一され、(X)があらためて首都と定められた。文中の X に適語を入れよ。

(千葉県)

[解答欄]

[解答]ベルリン

[解説]

1980年代、ソ連は経済が停滞^{ていた}し、国力が低下した。1985年(昭和60年)に成立したゴルバチョフ政権は、アメリカなどの西側諸国との関係を改善する一方で、国内の経済と政治の立て直しをはかったが成功しなかった。

このような中、東ヨーロッパ諸国では民主化運動が高まり、

1989年(平成元年)に共産党政権が次々とたおれた。ドイツでは1989年に、冷戦^{れいせん}の象徴であったベルリンの壁が取りはらわれ、翌1990年(平成2年)に東西ドイツが統一した。1989年、ソ連のゴルバチョフ書記長とアメリカのブッシュ大統領(父親のほう)は、マルタ会談^{かいだん}で冷戦^{れいせん}の終結^{しゅうけつ}を宣言^{せんげん}した。東ヨーロッパの激変の影響を受けて、1991年、ソ連を構成していたロシアなどの各共和国が独立し、ソ連は解体^{かいたい}した。

[冷戦の終結]

1989年 ベルリンの壁の崩壊
1989年 マルタ会談
1990年 ドイツ統一
1991年 ソ連が解体

[問題]

次の文中の、の()内からそれぞれ適語を選べ。

1980年代末に起きた右の資料のできごとは、(ベトナム戦争 / ベルリンの壁の崩壊)で、これによって、(冷戦が始まった / 冷戦が激化した / 冷戦が終結した)。



(佐賀県)

[解答欄]

<input type="text"/>	<input type="text"/>
----------------------	----------------------

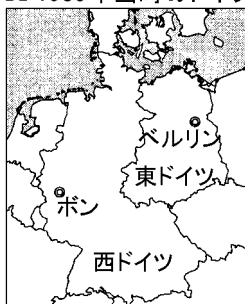
[解答] ベルリンの壁の崩壊 冷戦が終結した

[問題]

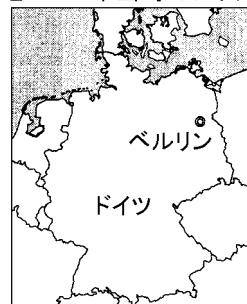
右の資料について、次の各問いに答えよ。

- (1) ドイツが A から B に変化するきっかけとなった、ベルリンで起こった象徴的なできごとは何か、簡潔に書け。
- (2) ドイツが A から B に変化した時代の国際情勢について、「冷戦」という語を用いて、簡潔に書け。

A 1985年当時のドイツ



B 1995年当時のドイツ



(群馬県)

[解答欄]

(1)

(2)

[解答](1) ベルリンの壁が壊されたこと。 (2) ソ連が崩壊し、冷戦が終わった。

[問題]

第二次世界大戦後の冷戦に関する次のア～ウのできごとが、年代の古い順に左から右へ並ぶように、記号ア～ウを用いて書け。

ア キューバ危機

イ ベルリンの壁の崩壊

ウ 北大西洋条約機構(NATO)結成

(香川県)

[解答欄]

[解答]ウ→ア→イ

[解説]

ウの北大西洋条約機構(NATO)結成(1949年)は冷戦初期。アのキューバ危機(1962年)は東西対立の頂点。イのベルリンの壁の崩壊(1989年)は冷戦の終わりを象徴するできごと。

[問題]

冷戦の終結と最も関係の深いできごとを、次のア～エの中から1つ選び、その記号を書け。

- ア ベトナム戦争が終わる。
- イ 第1回アジア・アフリカ会議が開かれる。
- ウ ベルリンの壁が崩壊する。
- エ 日中平和友好条約が結ばれる。

(和歌山県)

[解答欄]

[解答]ウ

[問題]

1990年、ヨーロッパでは、東西に分かれていた2つの国がまとまって1つになった。その現在の国名を書け。

(福井県)

[解答欄]

[解答]ドイツ

[問題]

ゴルバチョフが大統領をつとめた社会主義国の()は1991年に崩壊し、いくつかの国に分裂した。現在では、それらの国の1つであるロシア連邦が、国際連合の安全保障理事会の常任理事国をつとめ、国際社会で重要な役割をになっている。文中の()内に入れる適語を答えよ。

(長崎県)

[解答欄]

[解答]ソ連

[問題]

戦後の日本と国際社会とのかかわりとして、正しいものを次のア～オの中から2つ選び、記号を書け。

- ア ASEAN(東南アジア諸国連合)に加盟した。
- イ 日ソ中立条約を結んだ。
- ウ NAFTA(北米自由貿易協定)に加盟した。
- エ 国連の平和維持活動(PKO)に参加した。
- オ 先進国首脳会議(サミット)に参加した。

(長野県)

[解答欄]

[解答]エ, オ

[バブル経済の崩壊]

[問題]

1980年代後半～1990年代の時期における日本のできごとについて述べているのは、ア～エのうちではどれか。

- ア 土地や株の価格が高騰するバブル経済が続いたが、バブルが崩壊すると経営に行き詰まる企業や銀行が続出した。また、国際連合の平和維持活動への参加を定めた法律を制定した。
- イ 朝鮮戦争のころからの好景気で経済は戦前の水準に回復していった。また、北方領土の問題を残しながらも日ソ共同宣言に調印し、国際連合に加盟した。
- ウ 経済成長率が戦後初めてマイナスを記録し、企業経営の合理化や省エネルギー化が進められた。また、世界経済の諸問題を討議するため、第1回先進国首脳会議に参加した。
- エ 技術革新が進み、重化学工業が発展して、経済が急速に成長する一方で、公害問題が深刻化した。また、日韓基本条約を結んで韓国との国交を正常化し、経済協力を進めた。

(東京都)

[解答欄]

[解答]ア

[解説]

イ：日ソ共同宣言に調印し、国際連合に加盟したのは 1956 年。

ウ：経済成長率が戦後始めてマイナスを記録したのは 1974 年。

エ：日韓^{にっかん}基本条約を結んで韓国と国交を正常化したのは 1965 年。

[問題]

1990 年代のころの日本のようすとして当てはまるものを、次のア～エの中から 1 つ選んで、その記号を書け。

ア 労働者の団結や労働組合をつくることを認める、労働組合法が制定された。

イ 地租改正により、土地所有者が地価の 3% に当たる額を地租として納めた。

ウ 当時の内閣が「所得倍増」政策をうちだし、経済成長を推進した。

エ バブル経済(バブル景気)が崩壊し、長期間の不況が始まった。

(茨城県)

[解答欄]

[解答]エ

[印刷 / 他の PDF ファイルについて]

このファイルは、FdData 入試社会(16,200 円)の一部を PDF 形式に変換したサンプルで、印刷はできないようになっています。製品版の FdData 入試社会は Word の文書ファイルで、印刷・編集を自由に行うことができます。

FdData 入試社会・入試理科全分野の PDF ファイル, FdData 中間期末(社会・理科・数学)全分野の PDF ファイル, および製品版の購入方法は<http://www.fdttext.com/dan/> に掲載しております。

下図のような, [FdData 無料閲覧ソフト(RunFdData2)]を, Windows のデスクトップ上にインストールすれば, FdData 中間期末・FdData 入試の全 PDF ファイル(各教科約 1800 ページ以上)を自由に閲覧できます。次のリンクを左クリックするとインストールが開始されます。

RunFdData 【 <http://fddata.deci.jp/lnk/instRunFdDataWDs.exe> 】

ダイアログが表示されたら, 【実行】ボタンを左クリックしてください。インストール中, いくつかの警告が出ますが, [実行][許可する][次へ]等を選択します。

【イメージ画像】



【Fd 教材開発 : URL <http://www.fdttext.com/dat/> Tel (092) 404-2266】