

【FdData 高校入試：中学社会歴史：昭和】

[[占領下の日本](#)／[選挙権の拡大](#)／[農地改革と財閥解体など](#)／[日本国憲法の制定など](#)／
[国際連合の設立](#)／[冷たい戦争](#)／[独立の回復](#)／[高度経済成長期の日本](#)／
[60～70年代の国際関係と日本外交](#)／[冷戦の終結後の世界](#)／[変化の中の日本](#)／[現代の文化](#)／
[FdData 入試製品版のご案内](#)]

[[FdData 入試ホームページ](#)]掲載の pdf ファイル(サンプル)一覧]

※次のリンクは[Shift]キーをおしながら左クリックすると、新規ウィンドウが開きます

社会： [[社会地理](#)]， [[社会歴史](#)]， [[社会公民](#)]

理科： [[理科 1 年](#)]， [[理科 2 年](#)]， [[理科 3 年](#)]

数学： [[数学 1 年](#)]， [[数学 2 年](#)]， [[数学 3 年](#)]

※全内容を掲載しておりますが、印刷はできないように設定しております

【】 戦後の民主化

【】 占領下の日本

[問題]

マッカーサーは、1945 年に来日した連合軍最高司令部(連合軍最高司令官総司令部)の最高司令官で、日本政府に民主化を進める政策の実行を指令した。下線部の略称を、アルファベット大文字 3 字で書け。

(北海道)

[解答欄]

[解答]GHQ

[解説]

1945 年 8 月 15 日、日本の降伏と戦後の民主化を求めるポツダム宣言を受け入れて無条件降伏を行った。(人窮し降(1945)伏ポツダム受諾) 日本は、アメリカを主力とする連合軍に占領されることになった。占領下におかれた日本の政治は、アメリカのマッカーサーを最高司令官とする

[占領下の日本]

連合軍(アメリカが中心)の占領

GHQ マッカーサー

非軍事化と民主化

極東国際軍事裁判

GHQ(連合軍最高司令官総司令部)の指令のもとに間接統治の形で戦後改革が進められた。GHQは日本の非軍事化と民主化を目指して五大改革指令を出した。軍隊は解散され、戦争の責任があるとされた軍人や政治家が極東国際軍事裁判(東京裁判)にかけられ、開戦時の首相であった東条英機などが絞首刑になった。

また、戦争中に重要な地位にあった人は公職こうしょくから追放ついほうされた。また、1946年、天皇が神の子孫であることを否定する人間宣言を行った。

日本の固有の領土である、沖縄おきなわと奄美群島あまみぐんとう、小笠原諸島おがさわらしょとうは、本土から切りはなされ、アメリカ軍の直接統治のもとに置かれた。また、北方領土は、ソ連によって占拠された。

※入試出題頻度：「GHQ○」「マッカーサー○」「極東国際軍事裁判△」

(頻度記号：◎(特に出題頻度が高い)、○(出題頻度が高い)、△(ときどき出題される))

[問題]

GHQの最高司令官として、戦後の改革を主導した人物は誰か。その人物名を書け。

(奈良県)

[解答欄]

[解答]マッカーサー

[問題]

次の表1と表2から、ポツダム宣言受諾後におけるGHQの基本方針を読みとり書け。

表1 ポツダム宣言受諾後の主なできごと

時期	主なできごと
1945年 9月	・陸軍と海軍が解体される ・戦争の責任者と見なされた軍人や政治家の逮捕が始まる
12月	・陸軍省と海軍省が廃止される

表2 憲法の比較

	大日本帝国憲法	日本国憲法
主権	天皇主権	国民主権
人権	法律の範囲内で認められる	基本的人権の尊重

(宮城県)

[解答欄]

[解答]非軍事化と民主化

[問題]

太平洋戦争の責任があるとされた軍人や政治家を裁いた裁判が、1946年から始まった。その裁判の名称を書け。

(佐賀県)

[解答欄]

--

[解答]極東国際軍事裁判

[問題]

昭和天皇は、GHQの意向に従って、天皇が神であるという考え方を否定する宣言を発表した。何という宣言か。

(補充問題)

[解答欄]

--

[解答]人間宣言

[問題]

次の文中の①，②に適語を入れよ。

敗戦後の日本の領土は、北海道、本州、四国、九州とその周りの島々に限られ、沖縄や奄美群島、小笠原諸島は(①)軍が直接統治することとなった。また、(②)領土はソ連によって不法に占拠された。

(補充問題)

[解答欄]

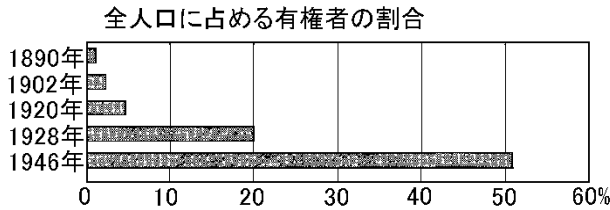
①	②
---	---

[解答]① アメリカ ② 北方

【】 選挙権の拡大

[問題]

次の資料は、主な選挙の実施年と全人口に占める有権者の割合の推移を示したものである。1946年に有権者の割合が高まった理由について説明せよ。ただし、有権者の資格を具体的に記入して書くこと。



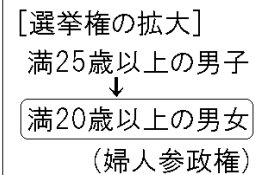
(大分県)

[解答欄]

[解答]有権者の資格が、25歳以上の男子から20歳以上の男女に変更されたから。

[解説]

1925年の普通選挙法^{ふつうせんきよ}で、戦前に普通選挙が実現されていたが、選挙権は満25歳以上の男子のみに与えられ、女子には選挙権は認められていなかった。戦後、1945年の選挙法改正^{ふじんさんせいけん}で婦人参政権が認められ、選挙権は満20歳以上の男女にあてられた。



※入試出題頻度：「有権者の資格が、25歳以上の男子から20歳以上の男女に変更された◎」

[問題]

選挙制度が変わったことについて、資料1、資料2を参考に、後の各問いに答えよ。

(資料1) 有権者の割合

衆議院議員 総選挙が行 われた年	直接国税の 金額による 制限	有権者の割合 (全人口に対する比率)
1890	15円以上	1.1%
1902	10円以上	2.2%
1920	3円以上	5.5%
1928	制限なし	20.8%
1946	制限なし	50.4%

(資料2) ある年に実施された選挙における投票風景



(1) 1920年に比べ、1928年に行われた衆議院総選挙の有権者の割合が増加した理由は何か、簡潔に書け。

(2) 1928年に比べ、1946年に行われた衆議院総選挙の有権者の割合が増加した理由は何か、簡潔に書け。

(佐賀県)

[解答欄]

(1)
(2)

[解答](1) 直接国税の制限がなくなったため。

(2) 女性にも参政権(選挙権)が与えられたため。

[問題]

右の資料は、1946年の国会のようすである。戦後、(X)に被選挙権が与えられ、初めて(X)の国会議員が誕生した。Xに適語を入れよ。



(熊本県)

[解答欄]

--

[解答]女性

[解説]

戦後、女性にも選挙権だけでなく被選挙権も与えられ、はじめて女性の国会議員が誕生した。

[問題]

次の資料は、略年表中ア～エのいずれかの期間に行われた衆議院議員総選挙で、女性が投票するようすを示している。どの期間のものか、記号で答えよ。



(福岡県)

[解答欄]

--

[解答]エ

[解説]

ポツダム宣言受諾→終戦→選挙法改正(1945年)

〈略年表〉


時代	明治時代				大正時代		昭和時代			
年代	1868	1889	1895	1905	1915	1925	1932	1945	1951	1978
おもなできごと	五か条の御誓文が出される	大日本帝国憲法が公布される	A 下関条約を結ぶ	B ポーツマス条約を結ぶ	C 二十一条の要求を提出する	治安維持法が制定される	五・一五事件が起こる	ポツダム宣言を受け入れる	サンフランシスコ平和条約を結ぶ	D 日中平和友好条約を結ぶ
							X			
			←ア→			←イ→		←ウ→	←エ→	

【】 農地改革と財閥解体など

[農地改革]

[問題]

次の資料は、GHQによる民主化政策のうち、ある政策によってもたらされたわが国における自作地と小作地の面積の割合の変化を表したものである。このような変化をもたらした政策を何というか。



(高知県)

[解答欄]

[解答]農地改革

[解説]

農村では、^{のうちいかく}農地改革が行われた。地主が持つ小作地を政府が強制的に買い上げて、小作人に安く売りわたした。その結果、図のように、小作農家が減り自作農家が増えた。

[[農地改革]]

地主が持つ小作地を政府が強制的に買い上げて、小作人に安く売りわたした

↓
小作農家が減り自作農家が増えた。

※入試出題頻度：「農地改革◎」「地主が持つ小作地を政府が強制的に買い上げて、小作人に安く売りわたした◎」「小作農が減り自作農家が増えた○」

[問題]

次の文は、農地改革について述べたものである。文中の①～③に適する語句を下の[]からそれぞれ選べ。

政府が(①)の農地を買い上げ、(②)に安く売りわたすことで、(③)が大幅に増えた。

[小作人 自作農 地主]

(富山県)

[解答欄]

①	②	③
---	---	---

[解答]① 地主 ② 小作人 ③ 自作農

[問題]

農地改革で、地主と小作人との関係が改められ、自作農が大幅に増えた。このとき、自作農を増やすためにどのようなことが行われたか。「地主が持つ小作地」ということばを使い、簡単に説明せよ。

(北海道)

[解答欄]

[解答]地主が持つ小作地を政府が強制的に買い上げて、小作人に安く売りわたした。

[問題]

右の資料は1930年と1950年の福井県における自作農家、小作農家、自小作農家の戸数を表したものである。1930年と1950年を比較して読み取れる変化を、その変化の原因となった政策名を必ず入れて書け。

	1930年	1950年
自作農家	26,630戸	40,125戸
小作農家	16,514	3,348
自小作農家	28,170	28,175

(福井県)

[解答欄]

[解答]農地改革により小作農家が減り自作農家が増えた。

[財閥解体など]

[問題]

日本は降伏し、連合国軍総司令部(GHQ)の指令のもと、諸改革を行った。戦前多くの企業を経営し、日本経済を支配してきた(X)の解体が命じられ、経済の民主化が進められた。文中の X に適語を入れよ。

(栃木県)

[解答欄]

[解答]財閥

[解説]

GHQは財閥を軍国主義政策への協力勢力として、財閥解体を命じ、これまで日本経済を支配してきた大資本家の支配をやめさせ、それぞれの会社を独立させた。

また、労働者の権利を守るため、団結権・団体交渉権・団体行動権を保障した労働組合法、最低限の労働条件を定めた労働基準法などが制定された。

[経済の民主化]
財閥解体
 労働組合法、労働基準法

※入試出題頻度：「財閥解体○」「労働組合法△」

[問題]

戦後の経済の民主化の1つとして農地改革が行われた。そのほかに、経済の民主化として行われたことを1つ書け。

(山形県)

[解答欄]

--

[解答]財閥解体が行われた。

[問題]

次の文は、第二次世界大戦後に行われた経済の民主化と労働者に関わる改革について述べたものである。文中の①、②にあてはまる語句を、それぞれ書け。

連合軍最高司令官総司令部(GHQ)は日本政府に経済の民主化などの改革を指令し、鉱山業や金融業などで成長した三井・三菱などの(①)は、戦前の日本経済を独占支配し、戦争に協力してきたとして解体された。また、労働者の地位を向上させるために、労働者の団結やストライキを行う権利などを認めた(②)法が制定された。

(徳島県)

[解答欄]

①	②
---	---

[解答]① 財閥 ② 労働組合法

【】 日本国憲法の制定など

[問題]

1946年，国民主権などを原則とする(X)が公布された。文中の X に適語を入れよ。
(鹿児島県)

[解答欄]

[解答] 日本国憲法

[解説]

日本政府はGHQの示した草案をもとに，憲法改正案をつくり，議会の審議を経て1946年11月3日に日本国憲法^{こうふ}を公布し，その半年後の1947年5月3日^{しこう}から施行した。日本国憲法の3つの基本原理は，国民主権，基本的人権の尊重，平和主義である。

日本国憲法1条は「天皇は，日本国の象徴^{しやうちゆう}であり日本国民統合の象徴であって，この地位は，主権^{しゆけん}の存する日本国民の総意に基づく。」と，国民が主権を持つこと，天皇は象徴であることを定めている。

教育面では，それまでの教育勅語^{きやういくちよくご}を廃止して，六・三・三・四制を定め，小中学校を義務教育とし，男女共学などを定めた教育基本法が制定された。

※入試出題頻度：「日本国憲法○」「国民主権・基本的人権の尊重・平和主義○」
「教育基本法○」

[[日本国憲法の制定]
[[国民主権(天皇は象徴)]
[[基本的人権の尊重]
[[平和主義]

[[教育の民主化]
[[教育基本法]

[問題]

日本政府は，GHQの草案を基に，憲法改正案を作成した。新しい憲法は1946年11月3日に公布され，1947年5月3日から施行された。。これについて，次の各問いに答えよ。

- (1) この憲法の名前を答えよ。
- (2) (1)の憲法の3つの基本原理を答えよ。

(補充問題)

[解答欄]

(1)	(2)
-----	-----

[解答](1) 日本国憲法 (2) 国民主権，基本的人権の尊重，平和主義

[問題]

1947年に日本国憲法が施行された。この憲法によって，主権者がかわった。この憲法の施行前後で，主権者はだれからだれにかわったか。簡単に書け。

(静岡県)

[解答欄]

--

[解答]天皇から国民にかわった。

[問題]

次の文中の①，②に適語を入れよ。

国民主権，基本的人権の尊重，（ ① ）を三原則とする日本国憲法が制定されたことによって，多くの法律や制度が改められた。教育の機会均等や9年間の義務教育などを規定した（ ② ）が定められたこともその一つである。

(島根県改)

[解答欄]

①	②
---	---

[解答]① 平和主義 ② 教育基本法

[問題]

戦後，GHQ の指令のもと，民主化政策が行われた。このとき行われた政策としてあてはまらないものを，次のア～エの中から1つ選べ。

ア 戦前の体制を経済的に支えたとして，財閥が解体された。

イ 学制が公布され6歳以上の男女すべてが小学校教育を受けることとされた。

ウ 農地改革で地主・小作関係が改められ多くの自作農が生まれた。

エ 20歳以上のすべての男女に選挙権があたえられた。

(福島県)

[解答欄]

--

[解答]イ

[解説]

イの学制は1872年(明治5年)に定められた。

【】 冷たい戦争・独立の回復

【】 国際連合の設立

[問題]

世界の平和と安全の維持を目的として 1945 年に設立された国際的な機関を何というか。

(三重県)

[解答欄]

--

[解答] 国際連合

[解説]

1945 年 10 月、連合国は世界の平和と安全を維持する機関として、ニューヨークに本部を置く国際連合をつくった。国際紛争の解決をはかるために安全保障理事会が設置され、アメリカ、イギリス、フランス、ソ連、中国が常任理事国となった。

[国際連合] ニューヨークに本部 安全保障理事会

※入試出題頻度：「国際連合○」「ニューヨーク△」「安全保障理事会△」

[問題]

次の文中の①～③に適語を入れよ。

1945 年、連合国は世界の平和と安全を維持する機関として、(①)(都市名)に本部を置く(②)をつくった。国際紛争の解決をはかるために(③)会が設置され、アメリカ、イギリス、フランス、ソ連、中国が常任理事国となった。

(補充問題)

[解答欄]

①	②	③
---	---	---

[解答] ① ニューヨーク ② 国際連合 ③ 安全保障理事

[問題]

次のア～エのうち、国際連合について述べているものはどれか。1つ選べ。

ア 本部はスイスのジュネーブに設置され 42 か国が参加して発足した。

イ 安全保障理事会では、常任理事国に拒否権が認められることになった。

ウ ヨーロッパの国々を中心に運営され、日本も常任理事国の一つになった。

エ アメリカは議会の反対で加盟できず、ドイツ、ソ連もはじめは除外された。

(岩手県)

[解答欄]

--

[解答]イ

[解説]

ア, ウ, エは国際連盟である。

【】 冷たい戦争

[問題]

戦後の世界は、アメリカを中心とする資本主義の西側陣営とソ連を中心とする共産主義の東側陣営に分かれ、きびしく対立した。この東西両陣営の対立を何というか。

(鳥取県)

[解答欄]

[解答]冷たい戦争(冷戦)

[解説]

連合国間の協調は長くは続かなかった。アメリカを中心とする資本主義の西側陣営と、ソ連を中心とする共産主義(社会主義)の東側陣営にわかれ、厳しく対立した。

ドイツは西半分をアメリカなどが、東半分をソ連が占領したが、戦後の米ソの対立のために、そのまま分割されて、1949年に資本主義の西ドイツと共産主義の東ドイツとして独立した。

アメリカを中心とする西側諸国は、1949年に北大西洋条約機構(NATO)という軍事同盟を結んだ。これに対し、ソ連を中心とする東側諸国は、1955年にワルシャワ条約機構を結んだ。このような東西の対立は、新たな世界大戦が発生しかねないほど厳しい対立であったが、米ソの直接の軍事衝突にまでは至らなかったので、冷たい戦争(冷戦)と呼ばれた。西ベルリンは東ドイツに囲まれた西ドイツの飛び地であったが、1961年に東ドイツが西ベルリンを取り囲むようにベルリンの壁を築いた。

※入試出題頻度：「冷たい戦争(冷戦)◎」「アメリカを中心とする資本主義の西側・ソ連を中心とする共産主義の東側○」「北大西洋条約機構(NATO)△」「ワルシャワ条約機構△」

[冷たい戦争(冷戦)]

西側：アメリカが中心、資本主義
北大西洋条約機構(NATO)

東側：ソ連が中心、共産主義
ワルシャワ条約機構

ドイツ：西ドイツと東ドイツに分断

[問題]

次の文の X に当てはまる国の名を書け。

第二次世界大戦後の世界は、アメリカを中心とする西側の資本主義諸国と、(X)を中心とする東側の共産主義諸国の2つに分裂し、冷戦とよばれる状態が続いた。

(北海道)

[解答欄]

[解答]ソ連

[問題]

冷たい戦争とよばれる対立における東西両陣営の中心となった当時の国の組合せとして、最も適当なものを、次のア～エから1つ選び、その符号を書け。

ア アメリカと中国 イ イギリスと中国

ウ アメリカとソ連 エ イギリスとソ連

(新潟県)

[解答欄]

--

[解答]ウ

[問題]

第二次世界大戦後の冷戦とは、どのような状態のことか。「アメリカ」「資本主義陣営」の語句を用いて書け。

(新潟県)

[解答欄]

--

[解答]アメリカを中心とする資本主義陣営と、ソ連を中心とする共産主義陣営との対立状態のこと。

[問題]

戦後、アメリカとソ連を中心とする2つの陣営が対立し、冷戦(冷たい戦争)といわれる状態が続いた。これについて、次の各問いに答えよ。

(1) こうした状況のもとで1949年に結成されたアメリカと西ヨーロッパ諸国との軍事同盟を何というか。

(2) (1)に対抗して、ソ連と東ヨーロッパ諸国が1955年に結んだ軍事同盟を何というか。

(和歌山県・熊本県)

[解答欄]

(1)	(2)
-----	-----

[解答](1) 北大西洋条約機構(NATO) (2) ワルシャワ条約機構

[問題]

1961年、東ドイツ側がソ連の同意のもとに東西両X(ワルシャワ／ベルリン)境界線に半恒久的なブロック・バリケードを構築して、西(X)に入る道を閉鎖した。Xの()内より適語を選べ。

(神奈川県)

[解答欄]

[解答]ベルリン

[中華人民共和国の成立]

[問題]

次の文の①, ②の()内より適語を選べ。

中国では①(毛沢東／蔣介石)の率いる共産党が民衆の支持を得て内戦に勝利し, ②(袁世凱と手を結んで皇帝を退位させた／中華人民共和国が成立した)。

(愛知県)

[解答欄]

①	②
---	---

[解答]① 毛沢東 ② 中華人民共和国が成立した

[解説]

第二次世界大戦後の中国では共産党と国民党の内戦が始まり, これに勝利をおさめた共産党が, 1949年, 毛沢東を主席とする中華人民共和国をつくった。敗れた国民党の蔣介石は台湾にのがれた。



[中華人民共和国の成立]
戦後, 共産党と国民党の内戦
1949年 中華人民共和国(毛沢東)
蔣介石の国民党は台湾にのがれた

※入試出題頻度: 「中華人民共和国△」「毛沢東△」

[問題]

次のア～エのうち, 中華人民共和国の建国にかかわるできごとについて述べているものはどれか。1つ選び, その記号を書け。

- ア 民族の独立と近代国家の建設をめざす運動が高まり, 三民主義を唱えた孫文がその活動の中心となって活躍した。
- イ 蔣介石が率いる国民党と, 毛沢東が率いる共産党との内戦が続いていたが, 民衆の支持を集めた共産党が勝利した。
- ウ アヘン戦争の費用や賠償金をまかなうために農民に重税を課したこともあり, 洪秀全を指導者として反乱が広がった。
- エ 列強の進出に反発して外国の勢力を排除しようとする運動がさかんになり, 義和団を中心とする民衆が立ち上がった。

(岩手県)

[解答欄]

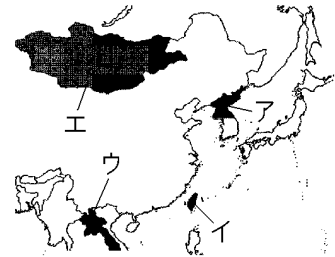
[解答]イ

[解説]

アは辛亥革命，ウは太平天国の乱，エは義和団事件である。

[問題]

日本の敗戦後，中国では中国国民党(国民政府)と中国共産党との間で内戦が再発した。内戦に敗れた中国国民党はどこにのがれたか。右の略地図中のア～エから1つ選べ。



(島根県)

[解答欄]

[解答]イ

[朝鮮戦争]

[問題]

1950年に(X)戦争がおこると，アメリカから大量の軍需物資が注文され，日本経済の復興が急速にすすんだ。文中のXに適語を入れよ。

(鹿児島県)

[解答欄]

[解答]朝鮮

[解説]

冷戦が激しくなると，アメリカは東側陣営に対抗するため，日本を西側陣営の強力な一員にしようとして，日本に対する占領政策を，経済復興を重視する方向に転換した。

1950年，北朝鮮が韓国に侵攻して朝鮮戦争が始まった。韓国軍は半島の南端まで追いつめられたが，アメリカ軍を主力

とする国連軍が韓国を助けるために参戦した。国連軍が北朝鮮を追って，中国との国境に近づくと，今度は中国が北朝鮮側に立って参戦し，戦局は38度線付近で一進一退をくり返した。(ひどく号令(1950)朝鮮戦争) 朝鮮戦争が起こると，大量の軍需物資が日本で調達され，経済の復興が早まった。これを特需景気という。また，在日アメリカ軍が朝鮮戦争に出兵すると，GHQの指令で警察予備隊がつくられた。それはしだいに強化され1954年には自衛隊になった。

[朝鮮戦争]

1950年 北朝鮮が韓国に侵攻

・特需景気→日本経済の復興

・警察予備隊(のちの自衛隊)

※入試出題頻度：「朝鮮戦争○」「特需景気：大量の軍需物資が日本で調達され経済の復興が早まった○」「警察予備隊→自衛隊○」

[問題]

(X)景気と呼ばれた朝鮮戦争に伴う好景気で活気を取りもどした日本経済は、やがて高度経済成長をむかえた。文中の X に適語を入れよ。

(福井県)

[解答欄]

[解答]特需

[問題]

朝鮮戦争がわが国にあたえた影響を、「軍需物資」、「経済の復興」の 2 つの語句を用いて書け。

(新潟県)

[解答欄]

[解答]大量の軍需物資が日本で調達され、経済の復興が早まった。

[問題]

1950 年に朝鮮戦争が始まったが、次のア～エから、その戦争の影響について説明したものを 2 つ選べ。

ア 特需により、日本経済の復興が進んだ。

イ 三井、三菱などの財閥が解体された。

ウ 世界平和を維持するために国際連合がつくられた。

エ 日本国内に自衛隊の前身である警察予備隊がつくられた。

(鳥取県)

[解答欄]

[解答]ア, エ

[問題]

次の文中の①，②に適語を入れよ。

在日アメリカ軍が朝鮮戦争に出兵すると，GHQの指令で(①)隊がつけられた。それはしだいに強化され1954年には(②)隊になった。

(石川県改)

[解答欄]

①	②
---	---

[解答]① 警察予備 ② 自衛

[問題]

戦後しばらくすると日本に対する占領政策は，経済復興を重視する方向に転換された。このように占領政策が転換された理由について，右の資料から読み取ることができる当時の国際状況にふれて説明せよ。ただし，「西側」という語句を必ず使うこと。

年	出来事
1949	北大西洋条約機構の成立 東西ドイツに分裂 中華人民共和国の成立
1950	朝鮮戦争の開始
1951	サンフランシスコ平和条約

(福井県)

[解答欄]

--

[解答]冷戦が激しくなると，アメリカは東側陣営に対抗するため，日本を西側陣営の強力な一員にしようとしたから。

【】 独立の回復

[サンフランシスコ平和条約]

[問題]

アメリカのある都市で、第二次世界大戦後の 1951 年に平和条約が締結され、翌年日本は独立を回復した。この条約の名称を書け。

(長崎県)

[解答欄]

--

[解答]サンフランシスコ平和条約

[解説]

占領^{せんりょう}の長期化が反米感情を高めることをおそれたアメリカは、日本との講和^{こうわ}を急いだ。1951 年、吉田茂^{よしだしげる}内閣はアメリカなど 48 か国とサンフランシスコ平和条約を結び、この条約が発効^{はっこう}した 1952 年に日本はようやく独立を回復した。しかし、ソ連などの社会主義国は条約に

反対して調印せず、戦争の最大の被害国である中国は会議に招かれなかった。日本が侵略^{しんりやく}したアジアの国の多くとの間では講和は実現しなかった。また、日本に対する武力攻撃を防ぎ東アジアの平和を維持するために、アメリカと日米安全保障条約^{にちべいあんぜんほしょうじょうやく} (安保条約) が結ばれた。この条約により、占領終結後も沖縄県などにアメリカ軍基地が残されることになった。

※入試出題頻度：「サンフランシスコ平和条約◎」「日米安全保障条約◎」「吉田茂◎」「独立の回復○」

【独立の回復】

1951年 サンフランシスコ平和条約

日米安全保障条約

吉田茂が首相のとき

[問題]

次の文章中の①，②に適語を入れよ。

1951 年、日本はアメリカなど 48 か国と(①)平和条約を結んだ。それと同時に、アメリカと日米安全保障条約を結んだ。右の資料は(①)平和条約の調印の様子で、中央で署名しているのは、日本の首席全権として出席した(②)首相である。

(埼玉県改)

[解答欄]

①	②
---	---

[解答]① サンフランシスコ ② 吉田茂

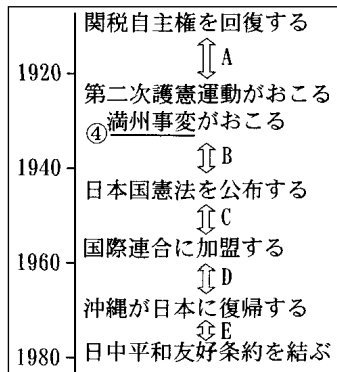


[問題]

次の写真は、当時の首相がサンフランシスコ平和条約に調印している様子であり、資料はそのとき調印した条約の一部を要約したものである。後の各問いに答えよ。



第一条 連合国は、日本国とその他の*領土に對する日本国民の完全な主權を認め、
 *領水・領海
 (「日本外交主要文書・年表」から)



- (1) 「当時の首相」とはだれか。
- (2) この条約は、年表の B～E のいずれの時期に調印されたものか、1つ選んで記号を書け。
- (3) この条約とあわせて、日本とアメリカとの間で結ばれた日本の防衛に関する条約の名を書け。

(千葉県改)

[解答欄]

(1)	(2)	(3)
-----	-----	-----

[解答](1) 吉田茂 (2) C (3) 日米安全保障条約

[問題]

次の文中の①～③に適語を入れよ。

吉田茂内閣は、右の写真のように、アメリカなど 48 か国との間に(①)で平和条約を結んだ。条約の発効により、日本は(②)を回復した。また同時に、アメリカと(③)条約を結んだ。



(鹿児島県改)

[解答欄]

①	②	③
---	---	---

[解答]① サンフランシスコ ② 独立 ③ 日米安全保障

[問題]

1951年のサンフランシスコ平和条約によって、この条約を結んだ国々と日本との戦争状態の終了が確認された。このこととともに、この条約を結んだ国々によって、日本が認められたのはどのようなことか、1つ書け。

(山形県)

[解答欄]

[解答]日本が独立を回復すること。

[問題]

サンフランシスコ平和条約について、正しいものを、次のア～エの中から2つ選び、記号を書け。

- ア 日本は、アメリカを含む資本主義国など、48か国と平和条約を結んだ。
- イ 日米安全保障条約が改正され、アメリカの基地が日本に置かれることになった。
- ウ 日本は、ソ連などの社会主義国も含め、すべての国と平和条約を結んだ。
- エ 日本は、主権を取りもどし、独立を回復した。

(長野県)

[解答欄]

[解答]ア, エ

[解説]

- イ:サンフランシスコ平和条約と同時に日米安全保障条約が結ばれた。その改正は1960年。
- ウ:中国は招かれず、インド・ビルマは参加せず、ソ連など3か国は調印を拒否した。

[問題]

日本はサンフランシスコ平和条約を結んで独立を回復するが、ソビエト連邦(ソ連)などがこの条約に調印していない。その理由を簡潔に書け。

(佐賀県)

[解答欄]

[解答]ソ連などの社会主義国は、アメリカなどの資本主義国と対立していたから。

[問題]

日米安全保障条約について正しく述べたものを、次のア～エの中から1つ選んで、その記号を書け。

- ア 沖縄や小笠原諸島は、アメリカが占領することになった。
- イ 日本の治安維持と防衛のため、警察予備隊の設置を決定した。
- ウ 日本の安全と東アジアの平和を守るという理由で、アメリカ軍の駐留を認めた。
- エ 日本の領土を、北海道・本州・四国・九州とその他の島々に限った。

(茨城県)

[解答欄]

[解答]ウ

[解説]

アはサンフランシスコ平和条約で決まった。イは安保条約以前の朝鮮戦争初期のこと。
エはポツダム宣言の内容。

[問題]

サンフランシスコ平和条約によって、1972年までアメリカの統治下に置かれたのは、現在の何県か。

(群馬県)

[解答欄]

[解答]沖縄県

[原水爆禁止運動]

[問題]

1954年にアメリカが太平洋のビキニ環礁で行った水爆実験で、日本のまぐろ漁船の()が放射能をもつ死の灰をあびた。この事件がきっかけとなり、広島で第1回原水爆禁止世界大会が開かれた。文中の()に適語を入れよ。

(補充問題)

[解答欄]

[解答]第五福竜丸

[解説]

1954年、アメリカはビキニ^{かんしょう}環礁^{すいぼく}で水爆実験を行い、現地付近の島民や日本の^{ふくりゅうまる}第五福竜丸という漁船などが被害を受けた。このころソ連も水爆の開発に成功しており、アメリカとソ連は核兵器の開発競争を行った。アメリカのビキニ環礁での水爆実験以降、核兵器開発に対する反対運動が高まり、翌1955年には広島で第1回原水爆禁止世界大会が開催された。

[原水爆禁止運動]

1954年 アメリカがビキニ環礁で水爆実験
↓
第五福竜丸が死の灰をあびる
↓
広島で第1回原水爆禁止世界大会

※入試出題頻度：この単元はときどき出題される。

[問題]


右の資料と最もかかわりの深いできごとを、ア～エから1つ選べ。

- ア 環境庁が設置された。
- イ 国会で非核三原則が決議された。
- ウ 第1回原水爆禁止世界大会が開かれた。
- エ 核拡散防止条約(核兵器不拡散条約)が採択された。

(北海道)

[解答欄]

[解答]ウ



これは、ビキニ環礁での核実験で「死の灰」を浴びた第五福龍丸である。

[アジア・アフリカ会議など]

[問題]

東西冷戦の中、第二次世界大戦後に独立した国々を中心に、1955年、インドネシアで()会議が開かれ、いち早く平和共存が提唱された。()に適語を入れよ。

(福井県)

[解答欄]

[解答]アジア・アフリカ(バンドン)

[解説]

第二次世界大戦後、アジアとアフリカでは多くの国が植民地支配から独立した。これらの国々は、1955年(昭和30年)にインドネシアのバンドンで、アジア・アフリカ会議(バンドン会議)を開き、帝国主義の植民地支配反対と平和を守ることなどを決めた。

※入試出題頻度：「アジア・アフリカ会議△」

[アジア・アフリカ会議]
1955年
インドネシアのバンドン

[問題]

1955年にバンドンでアジア・アフリカ会議が開かれたが、このころの世界のようすを述べた文章として最もふさわしいものを、次のア～エの中から1つ選んで、その記号を書け。

- ア 広島で第1回原水爆禁止世界大会が開かれ、原水爆に反対する運動が世界的に広まった。
- イ 朝鮮半島に、朝鮮民主主義人民共和国(北朝鮮)と大韓民国(韓国)が建国された。
- ウ 第四次中東戦争が起こり、産油国が石油の生産量を減らしたため、石油価格が上昇した。
- エ 核兵器拡散防止条約が結ばれ、軍備縮小に関する世界的な取り決めが行われた。

(茨城県)

[解答欄]

[解答]ア

[日ソ共同宣言と国連への加盟]

[問題]

わが国とソ連との間で、1956年に(X)宣言が調印された。この宣言によりソ連との戦争状態が終了し、わが国の国際連合への加盟をソ連が支持することなどが約束された。この年わが国は国際連合に加盟し、国際社会に復帰することになった。文中の X に入れる適語を答えよ。

(栃木県)

[解答欄]

[解答]日ソ共同

[解説]

1951年、サンフランシスコ平和条約が結ばれたが、ソ連などの社会主義国は条約に反対して調印しなかった。独立回復後、日本は国連への加盟を目指したが、安全保障理事会の常任理事国であるソ連が拒否権を行使したため、加盟ができなかった。

[[日ソ共同宣言]
ソ連と国交回復
国際連合へ加入]

1956年、鳩山一郎内閣によって日ソ共同宣言が調印され、ソ連との国交が回復した。同年、日本はソ連の支持も受けて国際連合に加盟し、国際社会に復帰した。しかし、ソ連との北方領土をめぐる問題は未解決のまま残された。

※入試出題頻度：「ソ連と国交回復△」「日ソ共同宣言○」「国際連合へ加入○」

[問題]

サンフランシスコ平和条約によって独立を回復した後、日本は国際連合への加盟を申請したが、認められなかった。このことの原因を、「安全保障理事会」と「拒否権」という語句を使って簡潔に書け。

(山梨県)

[解答欄]

[解答]安全保障理事会の常任理事国であるソ連が拒否権を行使したため。

[問題]

次の文中の①～③に適語を入れよ。

1956年、鳩山一郎内閣によって(①)が調印され、ソ連との国交が回復した。その結果、日本の(③)への加盟が実現した。しかし、この国との(②)領土をめぐる問題は未解決のまま残された。

(鹿児島県改)


[解答欄]

①	②	③
---	---	---

[解答]① 日ソ共同宣言 ② 国際連合 ③ 北方

[問題]

第二次世界大戦後、ソ連と国交を回復することによって、日本の国際社会への復帰は一層進むことになった。右の資料は、ソ連との国交回復に関連したあるできごとを報じた新聞記事の一部である。資料は、何について報じた新聞記事か。簡単に書け。



(静岡県)

[解答欄]

--

[解答]日本の国際連合への加盟

[解説]

資料の見出しの「総会」、「安保理」の文字に着目する。1956年、日本とソ連は日ソ共同宣言に調印し、これによって日本の国際連合への加盟が承認された。

[問題]

次のア～ウを、時期の古い順に並べ替え、記号を書け。

- ア 日ソ共同宣言に調印し、ソ連との国交を回復した。
- イ 国際連合への加盟が認められた。
- ウ アメリカなど48か国とサンフランシスコ平和条約を結んだ。

(秋田県)

[解答欄]

--

[解答]ウ→ア→イ

[解説]

ウ(サンフランシスコ平和条約 1951年)→ア(日ソ共同宣言 1956年)→イ(国際連合への加盟 1956年)

[問題]

日本の国際社会への復帰に関する次のア～エのできごとを、年代の古い順に並べ、記号で書け。

ア サンフランシスコ平和条約の締結

イ 日本国憲法の公布

ウ 日ソ共同宣言の調印

エ ポツダム宣言の受諾

(山梨県)

[解答欄]

[解答]エ→イ→ア→ウ

[解説]

エ(ポツダム宣言の受諾 1945 年)→イ(日本国憲法の公布 1946 年)→ア(サンフランシスコ平和条約 1951 年)→ウ(日ソ共同宣言 1956 年)

[55 年体制]

[問題]

日本において、アメリカの冷戦政策を支持する保守勢力が 1955 年に結成した政党は何か。

(補充問題)

[解答欄]

[解答]自由民主党

[解説]

独立回復後の 1955 年、日本では政党に新しい動きが起こり、保守勢力が自由民主党(自民党)、革新勢力が日本社会党(社会党)を結成した。それから長く続く、自民党を与党とし、社会党を主要野党とする 55 年体制が始まった。自民党と社会党の対

[55年体制]

1955年 自由民主党結成

1960年 安保闘争

立の頂点は、1960 年の日米安全保障条約(安保条約)の改定であった。自民党の岸信介内閣は、アメリカとの関係を強化することをめざして、新しい安保条約を結んだ。これに対し、安保闘争という激しい反対運動が起こり、岸内閣は、条約成立後に退陣した。

※入試出題頻度：この単元はときどき出題される。

[問題]

55年体制とはどのような政治体制か。政党名を明らかにして、「与党」「野党第一党」の2つの語句を用いて説明せよ。

(福島県)

[解答欄]

[解答]自由民主党を与党とし，日本社会党を野党第一党とする政治体制のこと。

【】 高度経済成長期の日本と世界

【】 高度経済成長期の日本

[高度経済成長]

[問題]

1955年から1973年までの間、技術革新が進み重化学工業を中心に産業が発展し、日本の経済は年平均で10%程度の成長を続けた。この経済発展を何というか。

(青森県)

[解答欄]

[解答]高度経済成長

[解説]

1950年代半ばまでに戦前の水準をほぼ回復した日本経済は、1955年から73年までの間、年平均で10%程度の高度経済成長を続けた。1961年、池田勇人内閣は所得倍増をスローガンとしてかかげた。1964年に東京オリンピックが開催されたが、これにあわせて、東海道新幹線、首都高速道路が建設され、これをきっかけにして高速道路網が整備された。1968年、日本の国民総生産(GNP)は、資本主義国の中でアメリカに次ぐ第2位になった。

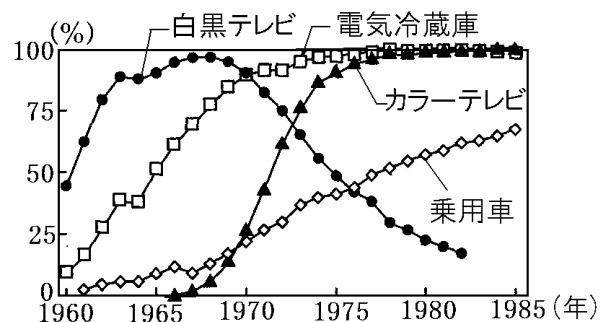
高度経済成長によって、国民の所得は増え、くらしが便利になった。まず、白黒テレビ・洗濯機

・冷蔵庫(三種の神器)、ついで、カラーテレビ・自動車・クーラー(3C)が普及した。高度経済成長の時代、各地で深刻な公害問題が発生した。また、都市では人口が流入して過密化の問題が起き、農村では人口が減って過疎化の問題が生じた。

※入試出題頻度：「高度経済成長◎」「東海道新幹線△」「東京オリンピック△」

「電化製品等の普及のグラフ○」「GNPが世界2位△」

【高度経済成長】
1955年～1973年 高度経済成長
1961年 池田勇人内閣の所得倍増
1964年 東京オリンピック、東海道新幹線
1968年 日本のGNPは世界2位になる



[問題]

次の文章中の①～③に適語を入れよ。

1950年代後半～1970年代前半、日本は急速に経済的な発展をとげ、世界でも豊かな国の1つになった。この急速な経済の発展は(①)と呼ばれている。1964年には、(②)新幹線が開通し、東京(③)が開催された。これにともない高速道路網も拡充した。

(山形県改)

[解答欄]

①	②	③
---	---	---

[解答]① 高度経済成長 ② 東海道 ③ オリンピック

[問題]

高度経済成長の時期のわが国の社会の様子として正しくないものを、次のア～エから1つ選び、その記号を書け。

- ア 高速道路などの交通機関が整備された。
- イ 国民総生産が資本主義国の中で第2位になった。
- ウ 都市の過密化と農村の過疎化が進んだ。
- エ ラジオ放送が開始され、全国にラジオが普及した。

(奈良県)

[解答欄]

[解答]エ

[解説]

エは大正時代である。

[問題]

高度経済成長の時期にみられた社会の変化について述べた文として、誤っているものを、次のア～エから1つ選び、記号で答えよ。

- ア 都市に人口が集中するとともに、農村では過疎化という新しい問題がおこった。
- イ 洗濯機などの電化製品が各家庭に急速に普及し、家事負担が軽減された。
- ウ 介護保険制度が実施されたことで、各世帯の社会保険料負担が増加した。
- エ 公害による被害があい次いでおこり、住民による公害反対の動きが広まった。

(宮城県)

[解答欄]

[解答]ウ

[解説]

ウが誤り。介護保険制度が始まったのは2000年である。

[問題]

高度経済成長によって生活が豊かになる一方で、急激な物価上昇が問題となった。このような物価上昇のことを何というか、カタカナで答えよ。

(沖縄県)

[解答欄]

[解答]インフレーション

[問題]

次の文中の X に当てはまる語を書け。

高度経済成長のはじまった 1950 年代後半から 60 年代にかけて、家庭に急速に普及した電化製品のうち、洗濯機、白黒テレビ、(X)は「三種の神器」とよばれた。

(栃木県)

[解答欄]

[解答]冷蔵庫

[問題]

1950 年代後半からの高度経済成長をきっかけとして、日本の社会は大きく変化した。右のグラフのア～エは、1960 年から 1985 年の、乗用車、白黒テレビ、カラーテレビ、電気冷蔵庫の、いずれかの普及率の推移を示している。ア～エの中から、カラーテレビの普及率の推移を示しているものを 1 つ選び、記号で答えよ。

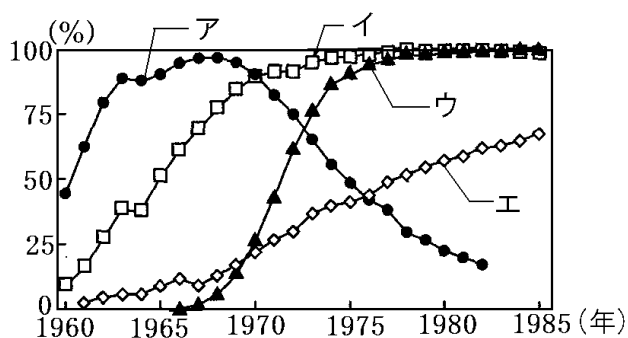
(静岡県)

[解答欄]

[解答]ウ

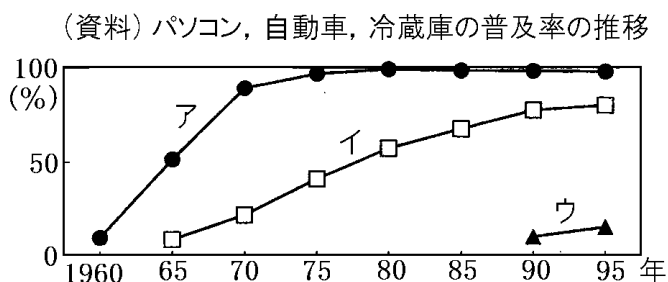
[解説]

アは白黒テレビで、1960 年以降急速に普及したが、1960 年代後半から 70 年代にウのカラーテレビにとってかわられた。イは電気冷蔵庫、エは乗用車である。



[問題]

次の資料のア～ウは、パソコン、自動車、冷蔵庫のいずれかを示している。パソコンと冷蔵庫にあてはまるものをそれぞれ1つ選び、記号を書け。



(福岡県)

[解答欄]

パソコン：	冷蔵庫：
-------	------

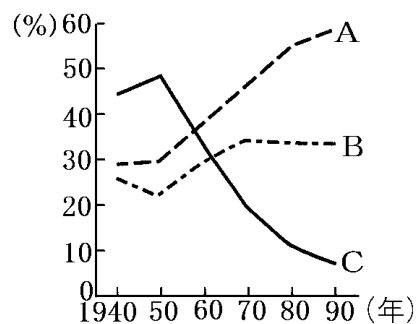
[解答] パソコン：ウ 冷蔵庫：ア

[解説]

パソコン(図のウ)が作られたのは 1990 年ごろからで高度経済成長期ではない。冷蔵庫(図のア)は自動車(図のイ)よりも早い時期から普及し、やがて、ほぼすべての家庭に普及した。

[問題]

高度経済成長を経て日本の産業構造は大きく変化した。右のグラフは、日本の産業別人口の割合の推移を示し、グラフ中の A, B, C は、第 1 次産業、第 2 次産業、第 3 次産業のいずれかの産業と一致する。A と C にあたるものはそれぞれ何か。



(広島県)

[解答欄]

A	C
---	---

[解答] A 第 3 次産業 C 第 1 次産業

[解説]

高度経済成長によって、C のように第 1 次産業(農林水産業)人口が減少し、B の第 2 次産業(製造業など)や A の第 3 次産業(商業、サービス業)の人口が増加した。

[問題]

炭鉱の閉山があいついだ 1960 年代に日本の社会で起きた変化について述べた文として、最も適切なものを、次のア～エから 1 つ選び、記号で答えよ。

- ア バブル経済が崩壊して不景気になった。
- イ 大戦景気のなかで重化学工業が発展した。
- ウ 主要なエネルギー資源が石油に移った。
- エ 石油危機の影響で物価が上昇した。

(宮城県)

[解答欄]

[解答]ウ

[解説]

1960 年代、主要なエネルギー資源が石炭から石油に移るエネルギー革命が起きた。

[公害問題の発生]

[問題]

三重県四日市市では、四大公害の一つが発生した。その公害の原因として最も適切なものを、次の[]の中から 1 つ選び、記号で答えよ。

[水質汚濁 騒音 大気汚染 土壌汚染]

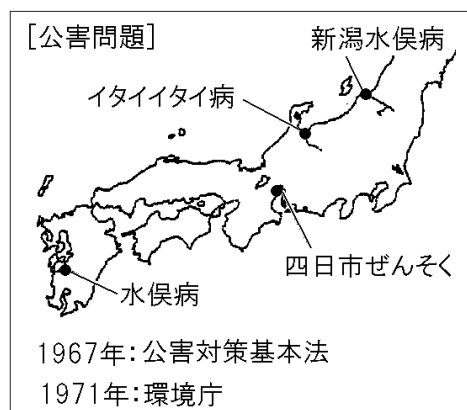
(静岡県)

[解答欄]

[解答]大気汚染

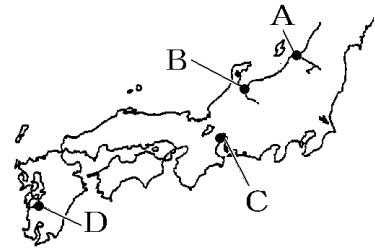
[解説]

高度経済成長の時代、各地で深刻な公害問題が発生した。なかでも、熊本県水俣湾の水俣病(有機水銀)、三重県四日市の四日市ぜんそく(大気汚染)、富山県神通川流域のイタイイタイ病(カドミウム)、新潟県阿賀野川流域の新潟水俣病(有機水銀)の 4 つは四大公害と呼ばれた。これに対して、公害追放の住民運動が各地で展開されたため、公害を防止し、環境汚染をくいとめるべく、1967 年に公害対策基本法が作られ、1971 年には環境庁(現在の環境省)が新設された。また、1993 年に環境基本法が作られた。
※入試出題頻度：この単元はときどき出題される。



[問題]

右図中の A～D は四大公害が発生した県である。公害の名称と原因、発生した県の組み合わせとして正しいものを次のア～エより 1 つ選び、記号で答えよ。



	公害の名称	原因	県
ア	イタイイタイ病	有機水銀	C
イ	水俣病	有機水銀	D
ウ	四日市ぜんそく	大気汚染	B
エ	新潟水俣病	カドミウム汚染	A

(沖縄県)

[解答欄]

[解答]イ

[問題]

高度経済成長の時代に、日本では公害が社会問題となった。1967年に公害防止と環境保護を目指して制定された法律を何というか。

(茨城県)

[解答欄]

[解答]公害対策基本法

[問題]

公害問題に対処するため、1971年に新設された役所は何か。

(補充問題)

[解答欄]

[解答]環境庁

[石油危機]

[問題]

高度経済成長は、1973年に中東で起こった戦争による原油価格の上昇とそれにもなう経済的混乱によって終わることとなった。この経済的混乱を何というか。

(山口県)

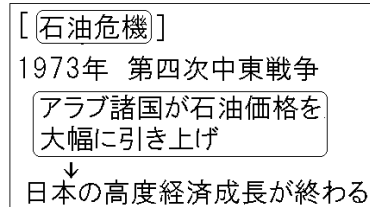
[解答欄]

--

[解答]石油危機

[解説]

1973年、アラブ諸国とイスラエルの間で第四次^{ちゅうとう}中東戦争が起こった。この戦争を機に、アラブ諸国は、石油の輸出制限と石油価格の大幅な引き上げを行った。石油をおもなエネルギー源としていた日本などの先進国は、大きな打撃を受けた。これを石油危機^{せきゆき}(オイル・ショック)という。石油の輸入に大きく依存していた日本経済は、石油の価格が大幅に上がったため、大きな打撃を受けた。売りおしみや買い占めによって物価が大幅に上昇し、トイレットペーパーなどの日用品の品不足が起こった。1974年には戦後初めて経済の成長がマイナスとなり、高度経済成長は終わった。



※入試出題頻度：「第四次中東戦争△」「アラブ諸国が石油価格を大幅に引き上げ○」
「石油危機◎」

[問題]

1973年に中東で起きた戦争をきっかけに、中東などの石油産出国が石油価格を約4倍に引き上げたことにより、日本を含む世界の経済が打撃を受けた。次の各問いに答えよ。

- (1) このできごとを何というか。
 - (2) 「1973年に中東で起きた戦争」とは何か。
- (愛媛県・高知県)

[解答欄]

(1)	(2)
-----	-----

[解答](1) 石油危機 (2) 第四次中東戦争

[問題]

1973年に第四次中東戦争をきっかけに中東のアラブ諸国などがおこなった政策によって、日本などの先進国の経済は大きな打撃を受けた。その政策の内容を簡潔に書け。

(長崎県)

[解答欄]

--

[解答]石油の価格を大幅に引き上げる政策

[問題]

1973年に第四次中東戦争がおこった。これをきっかけにおきたできごとによって、右の資料のような現象がみられた。なぜ、このような現象がみられたのか、その理由として正しいものを、次から1つ選び、符号で答えよ。



(スーパーに殺到する人々)

- ア 先進工業国と発展途上国の経済的格差が広がり、南北問題が生じたから。
- イ 大量の軍需物資の調達が行われ、特需景気をむかえたから。
- ウ 石油産出国が石油価格を4倍に引き上げ、石油危機がおこったから。
- エ 日本の重化学工業が発展し、国民総生産(GNP)が飛躍的に増えたから。

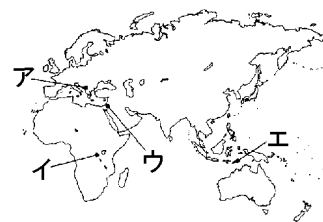
(宮崎県)

[解答欄]

[解答]ウ

[問題]

この地域で1970年代に起きた戦争をきっかけに、産油国が原油の値上げと輸出の制限を行ったため、石油危機が発生し、世界経済は大きな打撃を受けた。この地域の安定のために、国際連合による平和維持活動が行われたり、国際会議が開かれたりしている。「この地域」とは地図中のア～エのうちのどれか。



(東京都)

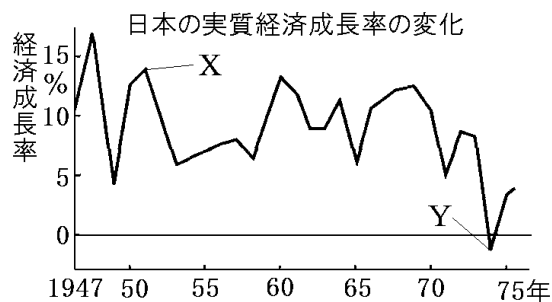
[解答欄]

[解答]ウ

[問題]

右の資料は、日本の実質経済成長率の変化を表したものである。次の各問いに答えよ。

- (1) 1951年に経済成長率がXのようになった理由を、簡潔に書け。ただし、前年に始まった戦争の名称を示すとともに、「物資」という語句を用いること。



- (2) 1974年に経済成長率がYのようになっているのは、ある地下資源の価格の大幅な上昇により、日本などの先進工業国が大きく混乱したからである。この混乱を何というか。

(大分県)

[解答欄]

(1)

(2)

[解答](1) 朝鮮戦争が起こり，アメリカが日本に大量の物資を注文したから。 (2) 石油危機

[問題]

次のア～ウのことがらを，年代の古い順に並べ，符号で書け。

ア 石油価格が上昇し，第1次石油ショックが起こった。

イ 高速交通網の整備が始められ東海道新幹線が開通した。

ウ 朝鮮戦争により特需が起こり，日本経済が活気を帯びた。

(岐阜県)

[解答欄]

[解答]ウ→イ→ア

[解説]

ウ(朝鮮戦争 1950 年)→イ(東海道新幹線の開通 1960 年代)→ア(第1次石油ショック 1970 年代初め)

[問題]

日本経済について述べた次のア～エの文を，年代の古い順に並べ，記号で書け。

ア 年平均 10%をこえる高い経済成長が続いた。

イ 財閥解体などによって，経済の民主化が進められた。

ウ 狂乱物価といわれる激しいインフレがおこった。

エ 朝鮮戦争に関係する軍事物資の輸出が増加し，経済が急速に回復した。

(山梨県)

[解答欄]

[解答]イ→エ→ア→ウ

[解説]

イ(財閥解体：占領下)→エ(朝鮮戦争 1950 年)→ア(高度経済成長)→ウ(石油危機)

【】60～70年代の国際関係と日本外交

[キューバ危機・ベトナム戦争]

[問題]

米ソ両国が核兵器による全面戦争に最も近づいた1962年の出来事は何か。

(福井県)

[解答欄]

[解答]キューバ危機

[解説]

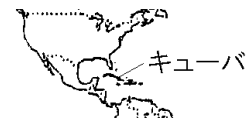
1962年、ソ連がキューバに核ミサイル基地を建設していることを察知したアメリカは、キューバの海上封鎖を行った。このキューバ危機は、米ソ間の核戦争が起こる寸前で回避された。この事件をきっかけとして、アメリカとソ連は首脳間の直通電話(ホットライン)を設置し、急速に関係を改善していき、緊張緩和が本格化した。

西ヨーロッパ諸国は、1967年にヨーロッパ共同体(EC)を設立する一方、1970年代前半に東ヨーロッパ諸国との関係を改善した。

1965年、アメリカは南ベトナムを支援して北ベトナムへの激しい爆撃と地上軍の派遣を行いベトナム戦争が激化した。世界各地で反戦運動が高まる中、アメリカは、ソ連と対立していた中国との関係を改善し、1973年にベトナムから撤退すると、緊張緩和はアジアにも広がった。

※入試出題頻度：「キューバ危機△」「ベトナム戦争○」

[60年代の国際関係]
1962年 キューバ危機 → 緊張緩和
1965年 ベトナム戦争にアメリカが介入 → 73年に撤退 → アジアの緊張緩和
1967年 ヨーロッパ共同体(EC)設立



[問題]

キューバ危機について、次の文章中の①、②に適する国名を下の[]からそれぞれ選べ。

キューバで革命が起こると、(①)はキューバにミサイル基地を建設した。これに対し、(②)は、キューバを海上封鎖し、戦争の危機が高まったが、(①)がミサイルの撤去に同意したことで、戦争は回避された。

[アメリカ 中国 ソ連]

(愛媛県)

[解答欄]

①	②
---	---

[解答]① ソ連 ② アメリカ

[問題]

インドシナ半島においては、1973年に(X)戦争の停戦のための和平協定が結ばれアメリカ軍は撤退した。その後、1976年に南北(X)は統一された。文中のXに適語を入れよ。

(千葉県)

[解答欄]

[解答]ベトナム

[解説]

ベトナム戦争(1960年～1975年)は、ベトナムの独立と南北統一をめぐるおこった戦争。

[問題]

東西冷戦に関連することがらとして適当でないものを、ア～エから1つ選べ。

ア キューバ危機 イ ベトナム戦争 ウ 朝鮮戦争 エ イラク戦争

(大分県)

[解答欄]

[解答]エ

[解説]

2003年に起きたイラク戦争は、1989年の冷戦終結の宣言の後のできごとである。

[沖縄の日本復帰]

[問題]

1972年、アメリカの統治のもとにおかれていた(X)が日本に返還された。文中のXに適語を入れよ。

(富山県)

[解答欄]

[解答]沖縄

[解説]

サンフランシスコ平和条約で、^{おきなわ}沖縄はアメリカの^{とうちか}統治下に置かれていたが、^{さとうえいさく}佐藤栄作内閣はアメリカ政府と交渉を進め、1972年5月に、沖縄の日本への^{ふつき}復帰が実現した。この過程で、核兵器を「持たず、つくらず、持ちこませず」という^{ひかくさんげんそく}非核三原則が国の方針になった。

[沖縄の日本復帰]

1972年、佐藤栄作首相のとき実現


非核三原則

核兵器を(持たず、つくらず、持ちこませず)

※入試出題頻度：「沖縄の日本復帰○」「佐藤栄作△」「非核三原則○」「持たず，つくらず，持ちこませず○」

[問題]

右図は，沖縄の人々が，銀行でドルを円に換えようとしている 1972 年の写真である。なぜ，換金することになったのか，簡潔に書け。



(栃木県)

[解答欄]

--

[解答]沖縄がアメリカから日本へ返還されることになったため。

[解説]

戦後，沖縄がアメリカの統治下にあったときは，ドルが通貨として使われていた。また，車も，アメリカと同じように右側通行であった。

[問題]

次の文中の①に適語を入れよ。また，②の()内から適語を選べ。

サンフランシスコ平和条約が結ばれた後もアメリカの統治下にあった，現在の(①)県は，②(湾岸／ベトナム)戦争の際にアメリカの軍事拠点となった。その後，佐藤栄作内閣の時にアメリカから日本に返還された。

(北海道)

[解答欄]

①	②
---	---

[解答]① 沖縄 ② ベトナム

[問題]

次の文中の①，②の()内からそれぞれ適語を選べ。また，③の()内に適語を入れよ。

沖縄は，①(中華人民共和国／アメリカ合衆国)の統治下にあったが，日本への復帰を求める住民の運動が続けられ，②(佐藤栄作／田中角栄)内閣のとき，日本に復帰した。しかし，サンフランシスコ平和条約と同時に締結されていた(③)条約により，アメリカ軍の基地を残したままの復帰となった。

(愛媛県改)

[解答欄]

①	②	③
---	---	---

[解答]① アメリカ合衆国 ② 佐藤栄作 ③ 日米安全保障

[問題]

佐藤栄作について述べた文として適切なものを、次のア～エの中から1つ選び、その記号を書け。

ア アメリカ政府と交渉を進め、沖縄の日本への復帰を実現させた。

イ 日ソ共同宣言を調印し、ソ連との国交を回復させた。

ウ アメリカなどとサンフランシスコ平和条約を結んだ。

エ 日中共同声明によって中国との国交を正常化させた。

(青森県)

[解答欄]

[解答]ア

[解説]

アは佐藤栄作内閣、イは鳩山一郎内閣、ウは吉田茂内閣、エは田中角栄内閣のときである。

[問題]

わが国に沖縄が復帰する前年の1971年に国会で決議され復帰後の沖縄にも適用された「持たず、つくらず、持ちこませず」という核兵器に関するわが国の方針は何か。そのよび名を書け。

(香川県)

[解答欄]

[解答]非核三原則

[問題]

次の文の①の()の中から適当なものを1つ選べ。また、②に当てはまる語を書け。

被爆国であるわが国では、①(佐藤栄作／田中角栄)内閣のときに、核兵器を「持たずつくらず持ち込ませず」とする(②)を、衆議院で決議し国の方針として確認した。

(熊本県)

[解答欄]

①	②
---	---

[解答]① 佐藤栄作 ② 非核三原則

[問題]

次の文中の①の()の中から当てはまる内容を1つ選び、記号で書け。また、②の()に当てはまる内容を書け。

1971年に、①(ア沖縄返還協定が調印 イ警察予備隊が新設)された。この年、核兵器を(②)という非核三原則を守るべきとする衆議院決議が採択された。

(山梨県)

[解答欄]

①	②
---	---

[解答]① ア ② 持たず、つくらず、持ち込ませず

[問題]

日本は唯一の被爆国として、非核三原則をかかげ、核兵器保有国の拡大を防ぐ()条約に参加するなど、積極的に行動している。

(群馬県)

[解答欄]

--

[解答]核拡散防止

[解説]

かくかくさんぼうし核拡散防止条約は、核兵器の保有を制限し、核軍縮を進めるための条約。1968年に調印。1971年には、核兵器を「持たず、つくらず、持ちこませず」という非核三原則を国会で決議した。

[問題]

次のア～エを年代の古いものから順に並べ、その符号を書け。

- ア 東京オリンピックが開かれた。
- イ 沖縄が日本に復帰した。
- ウ サンフランシスコ平和条約が結ばれた。
- エ 日本が国際連合に加盟した。

(新潟県)

[解答欄]

--

[解答]ウ→エ→ア→イ

[解説]

ウ(サンフランシスコ平和条約 1951年)→エ(国際連合に加盟 1956年)→ア(東京オリンピック 1964年)→イ(沖縄の日本復帰 1972年)

[韓国・中国との国交正常化]

[問題]

わが国は1965年に、韓国と(X)条約を結び、国交を正常化した。文中の X に入れる適語を答えよ。

(栃木県)

[解答欄]

[解答]日韓基本

[解説]

東南アジア諸国との賠償問題は、1950年代末までにおおむね解決された。また、韓国とは、1965年に日韓基本条約を結び、韓国政府を朝鮮半島の唯一の政府として承認し、賠償問題も解決された。

中国とは、1972年に田中角栄内閣が日中共同声明によっ

て国交を正常化した。このとき、中国から日本へパンダが贈られた。さらに、1978年には日中平和友好条約が結ばれた。

※入試出題頻度：「日韓基本条約△」「日中共同声明○」「日中平和友好条約○」

[韓国・中国との国交正常化]

1965年 日韓基本条約

1972年 日中共同声明

1978年 日中平和友好条約

[問題]

日本と中華人民共和国の関係について述べた次の文中の X に当てはまる適切な語句を、漢字6字で書け。

日本は、サンフランシスコ平和条約を結んだが、中華人民共和国とは正式な関係がないままの状態が続いた。1972年に(X)が調印され、国交が開かれた。

(長野県)

[解答欄]

[解答]日中共同声明

[問題]

1972年に中国と日本の国交が正常化した。両国の関係をさらに発展させるため、1978年に日本が中国と結んだ条約は何か。

(福島県)

[解答欄]

[解答]日中平和友好条約

[問題]

次の文章中の①～③に適語を入れよ。

1965年、日本は韓国と(①)条約を結び、韓国政府を朝鮮半島の唯一の合法的な政府として承認した。1972年に沖縄がアメリカから日本に返還されたが、同じ年、国交断絶の状態が続いていた中国と(②)声明に調印して国交を回復し、その記念として日本にパンダが贈られた。その6年後、(③)条約が結ばれ中国との国交が本格化した。

(長野県改)

[解答欄]

①	②	③
---	---	---

[解答]① 日韓基本 ② 日中共同 ③ 日中平和友好

[問題]

次のア～カの中から、1972年におこったことを2つ選べ。

- ア 小笠原諸島が日本に復帰する。
- イ ベトナム戦争が終結する。
- ウ 日中共同声明が発表される。
- エ 朝鮮戦争の休戦協定が結ばれる。
- オ 日中平和友好条約が結ばれる。
- カ 沖縄が日本に復帰する。

(福島県)

[解答欄]

--

[解答]ウ, カ

[問題]

第二次世界大戦後の次のできごとを古い順に並べよ。

- ア サンフランシスコ平和条約が結ばれた。
- イ 日中共同声明が調印された。
- ウ 日韓基本条約が結ばれた。
- エ 日ソ共同宣言が調印された。
- オ 日中平和友好条約が結ばれた。

(神奈川県改)

[解答欄]

--

[解答]ア→エ→ウ→イ→オ

【解説】

ア(サンフランシスコ平和条約 1951 年)→エ(日ソ共同宣言 1956 年)→ウ(日韓基本条約 1965 年)→イ(日中共同声明 1972 年)→オ(日中平和友好条約 1978 年)

【問題】

次のア～エのできごとを，年代の古い順に並べよ。

- ア 日中平和友好条約が結ばれる。
- イ 日本が国際連合に加盟する。
- ウ サンフランシスコ平和条約が締結される。
- エ 沖縄が日本に返還される。

(鹿児島県)

【解答欄】

【解答】ウ→イ→エ→ア

【解説】

ウ(サンフランシスコ平和条約 1951 年)→イ(日本が国際連合に加盟 1956 年)→エ(沖縄の日本復帰 1972 年)→ア(日中平和友好条約 1978 年)

【】 冷戦の終結後の世界

[冷戦の終結]

[問題]

1989年に、東西冷戦の象徴としての「(X)の壁」が崩壊した。1990年、東西に分裂していたドイツが統一され、(X)があらためて首都と定められた。文中のXに適語を入れよ。

(千葉県)

[解答欄]

--

[解答]ベルリン

[解説]

1980年代、ソ連は経済が停滞し、国力が低下した。1985年に成立したゴルバチョフ政権は、アメリカなどの西側諸国との関係を改善する一方で、国内の経済と政治の立て直しをはかったが成功しなかった。

このような中、東ヨーロッパ諸国では民主化運動が高まり、

1989年に共産党政権が次々とたおれた。

ドイツでは1989年に、冷戦の象徴であったベルリンの壁が取りはらわれ、翌1990年に東西ドイツが統一した。

1989年、ソ連のゴルバチョフ書記長とアメリカのブッシュ大統領(父親のほう)は、マルタ会談で冷戦の終結を宣言した。

東ヨーロッパの激変の影響を受けて、1991年、ソ連を構成していたロシアなどの各共和国が独立し、ソ連は解体した。

※入試出題頻度：「ベルリンの壁の崩壊○」「冷戦の終結○」「マルタ会談△」「ドイツの統一△」「ソ連の解体△」

[問題]

次の文中の①、②の()内からそれぞれ適語を選べ。

1980年代末に起きた右の資料のできごとは、

①(ベトナム戦争／ベルリンの壁の崩壊)で、これによって、

②(冷戦が始まった／冷戦が激化した／冷戦が終結した)。

(佐賀県)

[解答欄]

①	②
---	---

[解答]① ベルリンの壁の崩壊 ② 冷戦が終結した

[冷戦の終結]

1989年 ベルリンの壁の崩壊

1989年 マルタ会談

1990年 ドイツ統一

1991年 ソ連が解体



(ベルリンの壁の崩壊)



ブッシュ (アメリカ) ゴルバチョフ (ソ連)
(マルタ会談)



[問題]

次の文章中の①，②に適語を入れよ。

右の写真は 1989 年にアメリカのブッシュ大統領とソ連のゴルバチョフ共産党書記長が(①)会談で(②)の終結を宣言したときのものである。(②)が終わっても，民族や宗教の対立などから各地で地域紛争が起こり，中東では 1991 年に湾岸戦争が勃発した。



(千葉県改)

[解答欄]

①	②
---	---

[解答]① マルタ ② 冷戦

[問題]

1989 年のマルタ会談では，2 つの国の首脳が冷戦の終結を宣言した。この 2 つの国の組み合わせとして適切なものを，次のア～カから 1 つ選び，記号で答えよ。

- ア アメリカ，中国 イ アメリカ，ソ連 ウ アメリカ，イギリス
エ イギリス，中国 オ イギリス，ソ連 カ 中国，ソ連

(山形県)

[解答欄]

--

[解答]イ

[問題]

次の図 1，2 のできごとによって，このときまで続いた国際関係にある結果がもたらされた。その結果とは何か，10 字以内で書け。

図1



図2



(山梨県)

[解答欄]

--

[解答]冷戦が終結した。

[問題]

1990年、ヨーロッパでは、東西に分かれていた2つの国がまとまって1つになった。その現在の国名を書け。

(福井県)

[解答欄]

[解答]ドイツ

[問題]

ドイツでおこったできごとについて述べた次の文のXに適することばを補い、これを完成させよ。

ドイツでは、1989年にベルリンの壁が取りはらわれ、その翌年、(X)された。

(鹿児島県)

[解答欄]

[解答]東西ドイツが統一

[問題]

ゴルバチョフが大統領をつとめた社会主義国の(X)は1991年に崩壊し、いくつかの国に分裂した。現在では、それらの国の1つであるロシア連邦が、国際連合の安全保障理事会の常任理事国をつとめ、国際社会で重要な役割をになっている。文中のX内に入れる適語を答えよ。

(長崎県)

[解答欄]

[解答]ソ連

[問題]

第二次世界大戦後の冷戦に関する次のア～ウのできごとが、年代の古い順に左から右へ並ぶように、記号ア～ウを用いて書け。

ア キューバ危機

イ ベルリンの壁の崩壊

ウ 北大西洋条約機構(NATO)結成

(香川県)

[解答欄]

[解答]ウ→ア→イ

[解説]

ウ(NATO 結成 1949 年)→ア(キューバ危機 1962 年)→イ(ベルリンの壁の崩壊 1989 年)

[問題]

次のア～エの世界のできごとについて、年代の古い順に並べるとどのようになるか、その記号を順に書け。

ア 朝鮮を統一しようとした北朝鮮が、韓国に攻め込み、朝鮮戦争が始まった。

イ 東西ドイツが、ベルリンの壁の崩壊をきっかけに、統一を実現させた。

ウ 連合国が、戦争を防ぐために、国際連合を成立させた。

エ ロシアなどの各共和国が独立し、ソ連が解体した。

(和歌山県)

[解答欄]

[解答]ウ→ア→イ→エ

[解説]

ウ(国際連合の成立 1945 年)→ア(朝鮮戦争 1950 年)→イ(東西ドイツの統一 1990 年)
→エ(ソ連の解体 1991 年)

[国際協調への動き]

[問題]

ヨーロッパは二度の世界大戦において戦場となり、大きな被害を受けた。その後、ヨーロッパの国々は二度と戦争を起こさないようにするために経済的な結びつきを強めていった。さらに、冷戦終結後の 1993 年には政治の統合の推進もめざした組織を結成した。この組織の名称を書け。

(高知県)

[解答欄]

[解答]ヨーロッパ連合(EU)

[解説]

冷戦後の世界では、国際協調の動きが強まった。冷戦下では東西両陣営の対立のためにじゅうぶんに機能しなかった国連は、ほぼ全世界を代表する国際機関として役割が高まった。1975年に始まった主要国首脳会議(サミット)も重要な役割を果たしている。また、地域統合も進展した。1993年、ECは、域内の市場の統合を完成させたうえで、ヨーロッパ連合(EU)に発展した。EUは、冷戦の終結にともない民主化した東ヨーロッパに拡大するとともに、政治の統合も推進している。アジアでも、1989年に発足したアジア太平洋経済協力会議(APEC)など、地域協力のわく組みがゆるやかにつくられてきている。

[国際協調への動き]

主要国首脳会議(サミット)
ヨーロッパ連合(EU)
アジア太平洋経済協力会議(APEC)

※入試出題頻度：「EU△」「サミット△」「APEC△」

[問題]

重要な国際問題を話し合う会議として、アメリカ・イギリス・フランス・ドイツ(当時は西ドイツ)・イタリア・日本の首脳によって1975年にはじめて開催され、その後も、毎年開かれている国際会議の名称を、カタカナ4字で書け。

(大分県)

[解答欄]

[解答]サミット

[問題]

日本をはじめ、アジアや環太平洋の国・地域が参加する、1989年に発足した経済や貿易などに関する話し合いを行う組織の略称を何というか。適当なものを、次の[]の中から1つ選べ。

[EU AU ASEAN APEC NAFTA]

(福島県)

[解答欄]

[解答]APEC

[相次ぐ地域紛争]

[問題]

次の文章中の①～③に適語を入れよ。

冷戦終結後、東西の対立にかわって、世界各地で、民族、宗教、文化のちがいや国家間の対立などが原因で地域紛争が起きている。その1つの焦点は中東である。イラクがクウェートに侵攻して、1991年には(①)戦争が起こった。2001年9月11日アメリカのニューヨークなどで大規模な(②)テロが発生し、それをきっかけに翌年、アメリカは、アフガニスタンを攻撃した。さらに、2003年には(③)戦争が起こった。

(補充問題)

[解答欄]

①	②	③
---	---	---

[解答]① 湾岸 ② 同時多発 ③ イラク

[解説]

冷戦終結後、東西の対立にかわって、世界各地で地域紛争ちいきふんそうが起きている。また、テロリズムも発生している。その1つの焦点は中東である。

1990年にイラクがクウェートに侵攻しんこうした。これに対し、1991年に、国際連合が多国籍軍たこくせきぐんを派遣してイラクを攻撃し湾岸戦争わんがんが起こった。

2001年9月11日、イスラム教過激派かげきはにハイジャックされた民間航空機が、アメリカのニューヨークの高層ビルこうそうなどに突入して多くの死傷者を出す同時多発テロどうじたはつが起きた。

これに対し、アメリカのブッシュ大統領(息子のほう)は、テロの首謀者しゅぼうしやをかくまっているとして、アフガニスタンを攻撃し、2003年にはイラクを攻撃した(イラク戦争)。

※入試出題頻度：「湾岸戦争△」「同時多発テロ△」「イラク戦争△」

[同時多発テロなど]
1991年 湾岸戦争
2001年 同時多発テロ
2002年 アメリカがアフガニスタンを攻撃
2003年 イラク戦争

[問題]

次の各問いに答えよ。

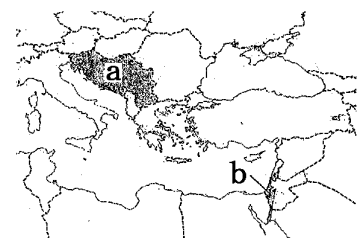
(1) 冷戦の終結後、地域紛争が世界各地で起こるようになったが、右の地図の a, b で示した紛争が起きた地域名をそれぞれ下の[]から1つずつ選べ。

[キプロス パレスチナ ソマリア ユーゴスラビア]

(2) 国連は、紛争やテロが起こっている(1)の地域などの平和を守るための活動をおこなっている。この活動を何というか。

(3) 1992年、日本がはじめて(2)の活動に参加し、自衛隊を派遣した国はどこか。

(補充問題)



[解答欄]

(1)a	b	(2)
(3)		

[解答](1)a ユーゴスラビア b パレスチナ (2) PKO(国連平和維持活動) (3) カンボジア

[解説]

冷戦の終結後、地域紛争が世界各地で起こるようになった。国際連合は、紛争やテロが起こっている地域の平和を守るために、PKO(国連平和維持活動)を派遣している。日本も、1992年にカンボジアにおけるPKOに参加した。

[地域紛争とPKO]

PKO(国連平和維持活動)
日本も参加(カンボジア)

※入試出題頻度：「PKO○」

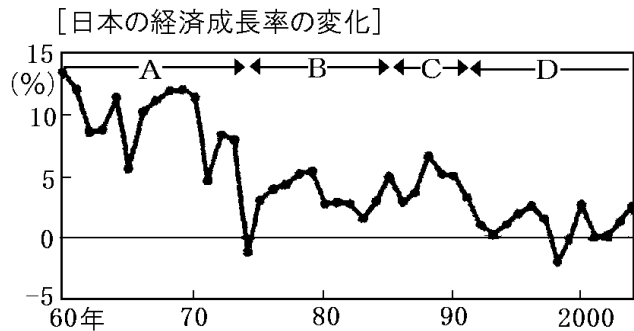
【】 変化の中の日本

[石油危機後の日本経済]

[問題]

次の①～④の各文は右の資料の A～D のどの時期にあてはまるか。

- ① 企業が持つ余った資金が土地などに投資され、土地などの価格が大幅に上昇した。
- ② 高い経済成長が続き、世界有数の経済大国になった。
- ③ バブル経済が崩壊し、経済が停滞し、株価や物価が下がり、不況が続いた。
- ④ 高度経済成長の時期が終わり、安定成長の時代に移った。



(補充問題)

[解答欄]

①	②	③	④
---	---	---	---

[解答]① C ② A ③ D ④ B

[解説]

Aの時期：1955年から1973年までの間、日本経済は年平均で10%程度の高度経済成長を続けた。しかし、1973年に起こった石油危機によって高度経済成長は終わった。

Bの時期：石油危機後、日本は経営の合理化や省エネルギー化を進め、いちはやく不況を乗り越え安定成長の時期を迎えた。そして、鉄鋼や造船にかわって自動車や電気機器などの輸出がのび、貿易黒字が増えた。

しかし、日本の輸出増加により、とくにアメリカとの間に貿易摩擦が生じた。

Cの時期：1980年代末、投機によって株式と土地の価格が異常に高くなるバブル経済が発生した。しかし、このバブル経済は1991年に崩壊した。

Dの時期：長期にわたる平成不況のもとで、企業の倒産が増え、失業者が増大した。政府は国債を大量に発行し、税収の不足を補った。1990年代末に、小泉純一郎内閣が規制緩和、国営事業の民営化を進め、景気も回復した。しかし、貧富の格差や都市と地方の格差が拡大したといわれている。2008年の世界金融危機によって、ふたたび深刻な不況が発生した。

※入試出題頻度：この単元はときどき出題される。

[石油危機後の日本経済]
1973年 石油危機→高度経済成長が終わる
1970年代後半～80年代 安定成長 アメリカとの間に貿易摩擦
1980年代末 バブル経済→1991年に崩壊
1990年代 平成不況
1990年代末～ 小泉内閣の規制緩和など 景気回復, 格差の拡大
2008年 世界金融危機

[問題]

次の文は、右の資料のように経済成長率が変化した理由を説明したものである。①と②にあてはまる語句を書け。

20世紀後半に、わが国の経済成長率が、0%を下回った時期が2度あったことがわかる。1度目は、(①)の影響によるものである。(①)は、中東戦争と関係が深い。2度目は、(②)が崩壊したことによるものである。

(②)は、実際の経済の力をこえて、株式や土地の価格が急激に上昇したことである。

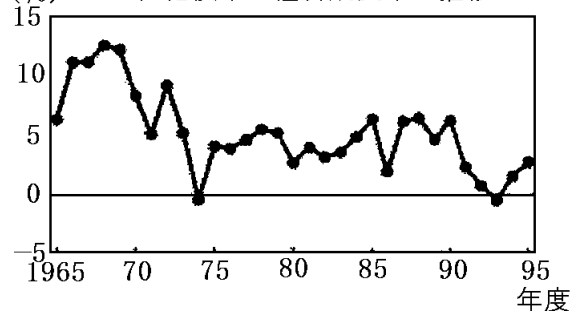
(福岡県)

[解答欄]

①	②
---	---

[解答]① 石油危機(オイル・ショック) ② バブル経済

(%) 20世紀後半の経済成長率の推移



[問題]

次の各問いに答えよ。

- (1) 1970～80年代に日本の輸出増加により貿易摩擦が生じた相手国はどこか。
- (2) 1980年代後半、企業による株式や土地への投資の増大から、株式や土地の価格が実体以上にふくらんだ。この経済状態を何というか。
- (3) 1990年代初めには、(1)が崩壊し、深刻な不況が続いた。これを何というか。

(補充問題)

[解答欄]

(1)	(2)	(3)
-----	-----	-----

[解答](1) アメリカ (2) バブル経済 (3) 平成不況

[問題]

バブル経済とはどのような現象か、「土地や株式」「地価や株価」という語句を用いて書け。

(徳島県)

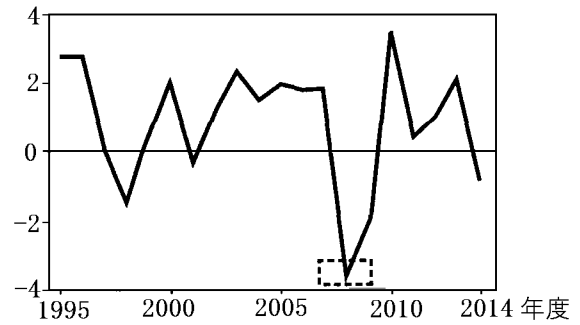
[解答欄]

--

[解答]土地や株式に対する投資が拡大し、実際の価値以上に地価や株価が高くなる現象。

[問題]

右の資料は日本の経済成長率を表したものである。図の[]の部分には、アメリカで起きて世界中に広がったできごとと関連がある。このできごととは何か、書け。



(福井県)

[解答欄]

[解答]世界金融危機

[問題]

次のア～エは、戦後の日本経済について述べたものである。これらのできごとを年代の古い順に並べるとどのようになるか、その記号を順に書け。

- ア 第四次中東戦争をきっかけとして石油危機がおり、高度経済成長が終わった。
- イ 朝鮮戦争がはじまると、大量の物資が日本で調達され特需景気(朝鮮特需)となった。
- ウ 実際の経済の力をこえて、株式や土地の価格が異常に高くなるバブル経済となった。
- エ 景気が上昇したこの時期に、東海道新幹線が開通し、オリンピック東京大会が開催された。

(和歌山県)

[解答欄]

[解答]イ→エ→ア→ウ

[解説]

イ(朝鮮戦争 1950 年)→エ(オリンピック東京大会 1964 年)→ア(第四次中東戦争 1973 年)→ウ(バブル経済 1980 年代末)

[55 年体制の終わり]

[問題]

次の文章中の①～③の()内から適する記号をそれぞれ選べ。

1993 年に、①(ア 衆議院／イ 参議院／ウ 衆議院と参議院の両院)で内閣不信任の決議案が可決された後、細川護照内閣が成立し、②(ア 55 年間／イ 1955 年から)続いていた③(ア 自民党を与党、社会党を野党第一党／イ 社会党を与党、自民党を野党第一党)とする体制が終わった。

(京都府)

【解答欄】

①	②	③
---	---	---

【解答】① ア ② イ ③ ア

【解説】

1993年に^{ほそかわもりひろ}細川護熙を首相とする非自民連立内閣が成立し、自民党を与党、社会党を野党第一党とする 55年体制は終わった。その後、自民党はふたたび政権の座についたが、単独で内閣を組織するほどの力はなく、さまざまな政党と連立政権をつくった。2009年には、それにかわって民主党を中心とする連立内閣ができた。2012年に、再び自民党が連立政権をつくった。

※入試出題頻度：この単元はときどき出題される。

【】現代の文化

[問題]

次の文章中の①、②の()内からそれぞれ適語を選べ。

大衆の娯楽としては映画が人気を集め、「羅生門」の監督である①(川端康成／黒澤明)などが、世界的にも高い評価を受けた。1950年代末には②(テレビ／インターネット)が急速に普及し、全国の人々は、②を通じて同じ内容の情報を同時に得るようになっていった。

(岐阜県)

[解答欄]

①	②
---	---

[解答]① 黒澤明 ② テレビ

[解説]

戦後、多くの新聞や雑誌が復刊・創刊された。大衆の娯楽としては、映画が人気を集め、「羅生門」の監督である黒澤明などが世界的にも高い評価を受けた。ラジオは、NHKに続いて1951年に民間放送が始まった。また、1953年にテレビ放送が始まり、1950年代末には急速に普及し、全国の人々は、テレビを通じて同じ内容の情報を同時に得るようになっていった。スポーツや芸能などの娯楽もテレビで楽しむ傾向が強まり、プロ野球の長嶋茂雄や王貞治、大相撲の大鵬などの国民的なヒーローが生まれた。

1950年代末には週刊誌ブームが起こり、週刊の漫画誌や女性誌などが広く読まれるようになった。漫画は、手塚治虫が物語性の高い作品を生み出したことで発展し、子どもだけでなく大人にも読まれるようになった。1960年代には、手塚の漫画を原作とする日本初の本格的なテレビアニメの「鉄腕アトム」が放送された。文学では、芸術性に重きを置く純文学と、娯楽性の高い大衆小説との中間的な作品が増え、松本清張の推理小説や司馬遼太郎の歴史小説が人気を集めた。その一方で、ノーベル賞を受賞した川端康成(「伊豆の踊子」)や大江健三郎をはじめ、優れた純文学の作品も数多く発表された。

※入試出題頻度：この単元はときどき出題される。

[問題]

戦後に活躍した人物と、その人物に関係するものの組み合わせとして、最も適切なものを、次のア～エから1つ選び、記号で答えよ。

ア 岡本太郎－「羅生門」

イ 黒澤明－「伊豆の踊子」

ウ 川端康成－「太陽の塔」

エ 手塚治虫－「鉄腕アトム」

(鳥取県)

[解答欄]

[解答]エ

[解説]

岡本太郎－「太陽の塔」、黒澤明－「羅生門」、川端康成－「伊豆の踊子」、手塚治虫－「鉄腕アトム」が正しい組み合わせである。

[問題]

ノーベル賞を受賞した人物として適当なものを、[]から1人選べ。

[黒澤明 与謝野晶子 平塚らいてう 川端康成]

(愛媛県)

[解答欄]

[解答]川端康成

[問題]

日本人として初めてノーベル賞(物理学)を受賞した人物名を、次の[]から選べ。

[湯川秀樹 野口英世 北里柴三郎 川端康成]

(千葉県)

[解答欄]

[解答]湯川秀樹

【FdData 入試版のご案内】

詳細は、[\[FdData 入試ホームページ\]](#)に掲載 ([Shift]+左クリック→新規ウィンドウ)

姉妹品：[\[FdData 中間期末ホームページ\]](#) ([Shift]+左クリック→新規ウィンドウ)

◆印刷・編集

この PDF ファイルは、FdData 入試を PDF 形式に変換したサンプルで、印刷はできないように設定しております。製品版の FdData 入試は Windows パソコン用のマイクロソフト Word(Office)の文書ファイルで、印刷・編集を自由に行うことができます。

◆FdData 入試の特徴

FdData 入試は、公立高校入試問題の全傾向を網羅することを基本方針に編集したワープロデータ(Word 文書)です。入試理科・入試社会ともに、過去に出題された公立高校入試の問題をいったんばらばらに分解して、細かい單元ごとに再編集して作成しております。

◆サンプル版と製品版の違い

ホームページ上に掲載しておりますサンプルは、製品の Word 文書を PDF ファイルに変換したもので印刷や編集はできませんが、製品の全内容を掲載しており、どなたでも自由に閲覧できます。問題を「目で解く」だけでもある程度の効果をあげることができます。

しかし、FdData 入試がその本来の力を発揮するのは印刷や編集ができる製品版においてです。また、製品版は、すぐ印刷して使える「問題解答分離形式」、編集に適した「問題解答一体形式」、暗記分野で効果を発揮する「一問一答形式」の 3 形式を含んでいますので、目的に応じて活用することができます。

※[FdData 入試の特徴\(QandA 方式\)](#) ([Shift]+左クリック→新規ウィンドウ)

◆FdData 入試製品版(Word 版)の価格(消費税込み)

※以下のリンクは[Shift]キーをおしながら左クリックすると、新規ウィンドウが開きます

[社会地理](#)、[社会歴史](#)、[社会公民](#)：各 6,800 円(統合版は 16,200 円) ([Shift]+左クリック)

[理科 1 年](#)、[理科 2 年](#)、[理科 3 年](#)：各 6,800 円(統合版は 16,200 円) ([Shift]+左クリック)

※Windows パソコンにマイクロソフト Word がインストールされていることが必要です。(Mac の場合はお電話でお問い合わせください)。

◆ご注文は、メール(info2@fdtext.com)、または電話(092-811-0960)で承っております。

※[注文→インストール→編集・印刷の流れ](#) ([Shift]+左クリック)

※[注文メール記入例](#) ([Shift]+左クリック)

【Fd 教材開発】 Mail : info2@fdtext.com Tel : 092-811-0960