

【】 明治維新

【】 五箇条の御誓文

[問題 1]

「広く会議ヲ興シ、万機公論ニ決スベシ」と新しい政治の方針を、天皇が神に誓うという形で示したのは何か。  
(補充問題)

五箇条の御誓文

[問題 2]

下の資料は、新政府が 1868 年に新しい政治の方針として定めた五箇条の御誓文の一部である。資料中の ，  
について、それぞれ読み取ることができる政治方針を答えなさい。その際、それぞれの答えに「世論」「外国」の語句のうちいずれか 1 つを使用すること。

世論を大切にして政治を進めること。

外国に学んで国を発展させること。

広く会議ヲ興シ万機公論ニ決スベシ

知識ヲ世界ニ求メ、大ニ皇基ヲ振起スベシ

(島根県)

[問題 3]

1868 年から 1871 年ごろまでの一連の改革を何というか。  
(補充問題)

明治維新

【】 版籍奉還・廃藩置県・四民平等

[問題 4]

1869 年，明治政府が全国の藩主に土地と人民を返させる( )が行われた。

(山形県)

版籍奉還

[問題 5]

版籍奉還について，25 字以内で説明しなさい。

(熊本県)

藩が支配していた土地と人民を朝廷に返させたこと。

[問題 6]

明治政府は，中央集権の形をつくりあげるために，全国に新しく府や県を置き，府知事や県令を派遣して治めさせることにした。この改革を何というか。

(愛媛県)

廃藩置県

[問題 7]

廃藩置県の目的を，簡潔に書きなさい。

(山形県)

中央集権国家をつくること。

[問題 8]

廃藩置県後，中央政府から派遣された府知事や( ) (のちの県知事)とよばれる役人が中心となって，地方の政治を行った。

(栃木県)

県令

[問題 9]

次のア～エのうち、廃藩置県について述べているものはどれですか。1つ選び、その記号を書きなさい。

- ア 政府によって新たに任命された府知事・県令が中央から派遣された。
- イ 住民の直接選挙によって都道府県の知事が選出されることになった。
- ウ 幕府は、藩のとりつぶしや領地がえを行うなど大名の配置を工夫した。
- エ 強い統一国家をつくるため、薩摩藩と長州藩は同盟し、倒幕をめざした。

(岩手県)

ア

[問題 10]

廃藩置県によって中央集権国家のしくみが整った。この廃藩置県により、地方を治めるしくみはどのように変わったか。江戸時代の藩と新しく置かれた府県を比べて書きなさい。

(石川県)

江戸時代の藩は大名がそれぞれ独自に治めていたが、廃藩置県によって置かれた府県は中央から派遣された役人が治めるようになった。

[問題 11]

五箇条の御誓文の発布以後のできごとを、年代の古い順に並べてあるのはどれか。

- ア 版籍奉還 → 廃藩置県 → 地租改正
- イ 版籍奉還 → 地租改正 → 廃藩置県
- ウ 廃藩置県 → 版籍奉還 → 地租改正
- エ 廃藩置県 → 地租改正 → 版籍奉還

(鹿児島県)

ア

[問題 12]

1870 年代の日本のできごとについて述べた文として誤っているものを，ア～エから選びなさい。

- ア 藩が廃止され，県が置かれた。
- イ 学制が公布(発布)された。
- ウ 第 1 回帝国議会が開かれた。
- エ 新橋・横浜間に鉄道が開通した。  
(北海道)

ウ

[問題 13]

新政府は天皇のもとに国民を 1 つにまとめるため，四民平等をとなえ，それまでの身分制度を廃止した。これにより，農民(百姓)と他の身分とをへだてていたさまざまな制限はなくなっていった。このことによって農民の生活におこった変化を述べた文として，誤っているものを，次のア～エから 1 つ選び，記号で答えなさい。

- ア 農民も，名字を名のることができるようになった。
- イ 農民も，兵役の義務が課せられることになった。
- ウ 農民も，小学校教育を受けることとされた。
- エ 農民も，帯刀が許されるようになった。  
(宮城県)

エ

【】明治維新の三大改革

[問題 14]

近代化を進める政策の1つとして、1872年に、6歳以上の男女すべてが小学校教育を受けることとし公布されたきまりを、漢字2字で書きなさい。

(長野県)

学制

[問題 15]

1872年に制定され6歳以上の子どもに教育を受けさせることとした法令は何か、書きなさい。また、これにより全国各地に小学校がつくられたが、初めのうちは就学率が低かったのはなぜか、その理由を1つ書きなさい。

(石川県)

学制

学校の授業料が負担であったため。(子どもは大切な働き手であったから。)

[問題 16]

明治時代の教育についての説明としてあてはまらないのはどれか。

- ア 学制が定められた。
- イ 教育勅語が出された。
- ウ 津田梅子が海外に留学した。
- エ 義務教育が9か年に延長された。

(福岡県)

エ

[問題 17]

次の文のうち、明治時代初期の教育について述べたものとして最も適当なものはどれか、ア～ウから1つ選びなさい。

- ア 学制の公布によって、小・中学校9年間において6歳以上の男子だけが義務教育を受けることになった。
- イ 学制の公布によって、すべての児童が小学校教育を受けることになり、日本の近代化に大きな役割を果たすことになった。
- ウ 学制の公布によって、デモクラシーの考え方が普及し、自主性を重視するなど自由主義的な教育が始められた。

(京都府)

イ

[問題 18]

明治初期、政府は、地価を定めてその3%を現金によって納めさせる税制に改めた。これを何というか。

(長崎県)

地租改正

[問題 19]

富国強兵をめざす明治政府は、税制の改革として地租改正を行い、国民が税として納めるものを変えた。明治政府は、国民が税として納めるものを、地租改正の前と後でどのように変えたか。地租改正の目的と関連づけて、簡単に書きなさい。

(静岡県)

国家の財政を安定させるために、税として納めるものを米から現金に変えた。

[問題 20]

1873 年，政府は国家の財政を安定させるため，地租改正を実施した。これにより，課税の基準と，税として納めるものは，それぞれどのように変更されたか。改正前と改正後の違いがわかるように，下に示した書き出しに続けて簡潔に書きなさい。

課税の基準は( )，納めるものは( )  
(栃木県)

(課税の基準は)収穫高から地価に変更され，(納めるものは)収穫物(米)から現金に変更された。

[問題 21]

次の文の ， に適語を入れよ。

政府は地租改正を行い，地価を定めて土地の所有者に( )を交付し，地価の( )%を現金で納めさせることにした。  
(千葉県)

地券

3

[問題 22]

地租改正について述べた文のうち，誤っているものをア～オから 2 つ選びなさい。

- ア 政府は土地の所有権を認めるとともに，地価を定めて地券を発行した。
  - イ 課税の基準は，従来の収穫高から新たに定められた地価に変更された。
  - ウ 農民の負担は従来とあまり変わらなかったため，地租改正に反対する一揆がおきた。
  - エ 土地の所有者は，米などの現物で，地租を収穫高に応じて国に納めた。
  - オ 地租は，当初，地価の 2.5%と定められたが，その後，地価の 3%に変更された。
- (北海道)

エ，オ


[問題 23]

明治 10 年(1877 年), 地租を地価の 3%から 2.5%に引き下げたが, その背景を, 次の 3 語を用いて 40 字程度で書きなさい。[ 土族の反乱 改革 農民一揆 ] (青森県)

政府の急激な改革に対し, 各地で土族の反乱や地租改正反対の農民一揆がおこった。

[問題 24]

右図の「地券」の文字の左に, 土地の所在地や持ち主, 面積などが書かれている A の部分に書かれている内容を, 次のア~エから 1 つ選び, 記号で答えなさい。




- ア 持ち主の家族の名前と年齢
  - イ 土地の値段と納税額
  - ウ 米の収穫量と納める米の量
  - オ 作物の種類と栽培方法
- (山口県)

イ

[問題 25]

右図は地券の内容を表したものです。図中の A, B にあてはまるものの組み合わせとして正しいものを, 次のア~エの中から 1 つ選び, その記号を書きなさい。




- ア A: 収穫高 B: 二ヶ半(2.5 のこと)
  - イ A: 収穫高 B: 三
  - ウ A: 地価 B: 二ヶ半
  - エ A: 地価 B: 三
- (和歌山県)

ウ



[問題 26]

右の資料について述べた文として正しいものを，次のア～エからひとつ選び，記号で答えなさい。



- ア これは，政府が全国に検地を実施したときの土地台帳である。
- イ これは，政府が6歳以上の人々に口分田を与えるためにつくった戸籍である。
- ウ これは，政府が地主に与えた土地所有権の確認書である。
- エ これは，政府が決められた穀物以外の作物を栽培しないように農民にむけて出した法令である。

(鳥取県)

ウ

[問題 27]

明治新政府がおこなった富国強兵政策について述べたものとしてあてはまらないものは，次のア～エのうちどれか。1つ選んで，その記号を書け。

- ア 学制の公布により，6歳以上の男女すべてが小学校教育を受けることになったが，初めは入学する児童は多くなかった。
- イ 国家総動員法の公布により，産業・経済・国民生活のすべてにわたって戦争に動員され，農村では人手不足が，いっそう深刻となった。
- ウ 地租改正の実施により，国家財政は安定したが，農民の負担はそれまでの年貢とほとんど変わらず，各地で反対の一揆がおこった。
- エ 徴兵令の公布により，満20歳に達した男子は兵役を負担することになったが，多くの免除規定があり，最初は国民皆兵が実現しなかった。

(香川県)

イ

[問題 28]

兵役の義務を負わせた法令は何か。

(補充問題)

徴兵令

[問題 29]

明治初期に行われた改革についての説明として正しいものを、次のア～エの中から 1 つ選びなさい。

- ア 地租改正により、土地の所有者は収穫高の 3% を現金で納めることになった。
- イ 徴兵令により、満 20 歳に達した男子は兵役の義務を負うことになった。
- ウ 飛脚制度が整えられ、全国均一の料金で手紙などが配達されるようになった。
- エ 江戸時代の大名や武士を華族、百姓や町人を平民とよぶようになった。

(福島県)

イ

【】文明開化

[問題 30]



江戸時代から続いている習慣や生活様式を変え，欧米の文化などをさかんに取り入れようとした明治時代初期の風潮は何とよばれているか。書きなさい。

(大阪府)

文明開化

[問題 31]

文明開化の風潮を示した資料として適切でないものを，ア～エから1つ選び，記号で書きなさい。



エ

(山梨県)

[問題 32]

文明開化に関して述べた下の文中の下線部ア～エのうち，適切でないものを1つ選び，その記号を書きなさい。

これまでつかわれてきた曆にかえてア 太陽曆がもちいられるようになり，一部の地域ではイ ラジオ放送もはじまった。また，東京などの都市部や横浜などの開港場ではウ 牛肉が食べられ，エ れんが造りなどの洋風の建物もつくられるようになった。

(長崎県)

イ

[問題 33]

日本最初の鉄道は新橋からどこまでしかれたか、書きなさい。また、その場所について述べている文はどれか、次のア～エから1つ選び、その符号を書きなさい。

- ア ベリーが来航し、開国を求める大統領の国書を差し出した。
- イ 日米和親条約により開港し、アメリカ船に食料や水を提供した。
- ウ 諸藩の蔵屋敷が置かれ、全国から米や特産物が運ばれた。
- エ 日米修好通商条約をうけて開港し、国内最大の貿易港になった。

(石川県)

横浜

エ

[問題 34]

人間の自由や平等にかかわる近代思想を日本に紹介し、「学問のすゝめ」をあらわした人物の名前を書きなさい。

(長野県)

福沢諭吉

[問題 35]

右の人物は、人間の平等や学問の大切さなどを説いた『学問のすゝめ』を出版した。この人物に最も関係の深いものを、次から1つ選びなさい。



- [ 教育勅語 尊王攘夷 文明開化  
民本主義 ]

(山形県)

文明開化

[問題 36]

フランスのルソーの思想を紹介した人物はだれか。次から選びなさい。

[ 中江兆民 新井白石 吉野作造 杉田玄白 ]  
(山口県)

中江兆民

[問題 37]

フランスの( X )の思想は、中江兆民によって紹介された。(X)は、「社会契約論」を著して人民主権を唱えた。Xにあてはまる人物の名を書け。

(愛媛県)

ルソー

【 】岩倉使節団

[問題 38]

条約改正の交渉と欧米の視察を目的として 1871 年(明治 4 年)に派遣され、アメリカ、フランスなどを訪れて 1873 年(明治 6 年)に帰国した使節団を何というか。  
(栃木県)

岩倉使節団

[問題 39]

次の(A)、(B)にあてはまる人名を、下の[ ]からそれぞれ選びなさい。



右の写真は、1872 年に最初の訪問国であるアメリカで、( A )を大使(代表)とする使節団を写したものです。この使節団は、横浜港を出航してから 2 年近くにわたって、欧米諸国の政治のしくみを調査したり、産業や社会の様子を視察したりして帰国しました。写真の中央の人物は大使の(A)で、写真の右から 2 人目の人物は、のちに日本の初代内閣総理大臣となった( B )です。この使節団に参加した人々は、日本の近代化に大いに貢献したといわれています。

A 岩倉具視

B 伊藤博文

[ 大隈重信 西郷隆盛 伊藤博文 板垣退助 岩倉具視 ]  
(北海道)

[問題 40]

大久保利通は明治維新後に新政府が派遣した使節団に加わり、欧米の制度や文化を学んで帰国しました。この使節団の全権大使となった人物は誰か、次から 1 人選びなさい。

岩倉具視

[ 岩倉具視 大隈重信 板垣退助 西郷隆盛 ]  
(宮城県)

[問題 41]

岩倉使節団の派遣の目的は、江戸幕府が各国と結んだ不平等条約の改正の準備などであった。それらの条約には、輸入品にかかる税に関する不平等な内容があった。その内容を簡潔に書け。

(長崎県)

日本に関税自主権がなかったこと。

[問題 42]

岩倉使節団が派遣された主な目的は2つあった。これに関して次の問いに答えなさい。

- (1) 岩倉使節団が派遣された目的の1つは、不平等条約を改正することにあった。日本に関税自主権が認められていない内容を含む、日本がアメリカと結んだ条約名を書きなさい。
- (2) 岩倉使節団に加わった人物の多くは、帰国後、近代化を進めるためにさまざまな分野で活躍した。このことに着目し、この使節団が欧米諸国に派遣されたもう1つの目的を書きなさい。

(兵庫県)

(1) 日米修好通商条約

(2) 欧米の政治や産業を視察すること。

[問題 43]

次は岩倉使節団に同行した人物が書いた記録である。

( )にあてはまる国名を書きなさい。

( )の富は、石炭と鉄で機械を動かし、毛織物や綿織物の生産によって築かれる。原料の羊毛は遠くオーストラリアより輸入し、綿花はアメリカより輸入している。

(長野県)

イギリス

[問題 44]

津田梅子は7歳で( )に同行し、アメリカに渡った日本で最初の女子留学生として知られています。帰国したあとは、日本の女子教育の発展に力を尽くし、現在の津田塾大学となる教育機関をつくりました。( )に入る適切な語句を、次から1つ選びなさい。

[ 岩倉使節団 ペリー ロシア使節団 朝鮮通信使 ]  
(鳥取県)

岩倉使節団

[問題 45]

右の写真は、1871年、日本最初の女子留学生として海外にわたった5人である。この中で、最年少の8歳でアメリカに留学し、その後、日本の



女子教育に力を注いだ人物はだれか。(写真右から2人目)

(沖縄県)

津田梅子

[問題 46]

明治政府は、不平等条約の改正の準備などを目的として、1871年に大規模な使節団を欧米に派遣した。次の中から、この使節団の使節及び同行した留学生のいずれにも該当しない人物を1人選びなさい。

[ 大久保利通 津田梅子 岩倉具視 西郷隆盛 ]  
(静岡県)

西郷隆盛



【】富国強兵・殖産興業

[問題 47]

明治政府は、欧米の国々に劣らない強い国をつくるために、文明開化の風潮を背景にして、産業の育成、すなわち殖産興業と、軍事力の強化による国力の充実をはかった。この政策の名前を漢字 4 字で書きなさい。

(山梨県)

富国強兵

[問題 48]

官営模範工場や鉄道の建設、郵便制度や電信網の整備などの近代産業を育てることを目的とした政策の名称を書きなさい。

(青森県)

殖産興業

[問題 49]

富岡製糸場は、当時の政府のどのような政策でつくられたか、漢字 4 字で書きなさい。

(群馬県)

殖産興業

[問題 50]

明治政府は技術者を外国から招き、資金を投じて工場を設立するなど、さかんに産業を奨励した。次の図は、群馬県につくられた官営模範工場の( )製糸場である。( )にはいる地名を書きなさい。



(茨城県)

富岡

[問題 51]

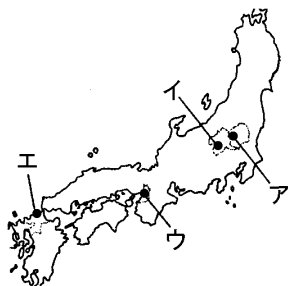
右の資料は、近代産業の育成をめざして、群馬県の富岡につくられた官営工場である。この工場で生産されたものは何か。書きなさい。  
(滋賀県)



生糸

[問題 52]

官営富岡製糸工場がおかれた場所を、右の略地図中のア～エから選び、符号を書きなさい。  
(大分県)



イ

[問題 53]

欧米から機械を導入し、技師も招いて政府がつくった製糸・綿糸紡績、造船などの工場を何とよぶか。答えなさい  
(滋賀県)

官営模範工場

[問題 54]

殖産興業の目的と内容について、「官営」、「近代産業」の2つの語句を用いて書きなさい。  
(新潟県)

官営模範工場をつくるなどして近代産業の育成をめざした。

[問題 55]

日本の産業革命の中心は、軽工業でした。当時の日本の軽工業における代表的な産業は何ですか。その産業名を1つ書きなさい。

(山形県)

製糸業(紡績業)

[問題 56]

富岡の官営工場が設立されたころ、この工場で生産されていた日本の代表的な輸出品として最も適切なものを次から選び、記号を書きなさい。

[ 綿糸 麻糸 生糸 毛糸 ]

(富山県)

生糸

[問題 57]

殖産興業に関することがらとして正しいものを、次のア～エから1つ選び、記号で答えなさい。

ア 財閥を解体するなど、経済の改革を進めた。

イ 鉄道やラジオ放送など、交通・通信のしくみを整えた。

ウ 富岡製糸場など、官営の工場を建設した。

エ 軍需物資(軍事物資)など、アメリカからの大量の注文に応じた。

(熊本県)

ウ

[問題 58]

この都市の港は、日米修好通商条約が結ばれた結果開かれた。外国との貿易が始まると、日本の総貿易額のうち、この港の貿易額のしめる割合が最も大きく、特に輸出品の中心となった生糸はこの港に集まった。この都市の名前を書きなさい。

(埼玉県)

横浜

[問題 59]

北海道の開発などを目的として、明治政府が設置した役所は何とよばれるか。その名称を書け。

(奈良県)

開拓使

[問題 60]

祖父の父親は、明治時代の中ごろに、北海道の警備と開拓を行う( )として、本州から移住してきた。午前中は兵士としての訓練、午後は開拓の仕事をしたということです。

(北海道)

屯田兵

【】自由民権運動・国会開設

【】征韓論

[問題 61]

次の資料は、征韓論をめぐって対立したときの明治政府の指導者について、その立場を示したものである。X～Zにあてはまる人物を、それぞれ[ ]の中から選びなさい。

[ 西郷隆盛 板垣退助 大久保利通 ]

		薩摩藩・長州藩の出身			
対立後は政府に残った	岩倉使節団に参加した	X	Y	対立後は政府を去った	岩倉使節団に参加していない
		薩摩藩・長州藩以外の出身			

(大分県)

X 大久保利通

Y 西郷隆盛

Z 板垣退助

[問題 62]

岩倉使節団の一員として派遣され、帰国後征韓論に反対した薩摩藩出身の人物名を書きなさい。

(宮崎県)

大久保利通

[問題 63]

征韓論をめぐる政争に敗れ、政府を去った人物の中で、土佐藩出身の人物(のちの自由党党首)と薩摩藩出身の人物が、政府に対して、それぞれどのような動きをおこしたか。人物の名前を含めて 40 字以内で書きなさい。

(茨城県)

板垣退助は自由民権運動を始め、西郷隆盛は西南戦争をおこした。

[問題 64]

岩倉使節団は、不平等条約を改正するための予備交渉と、欧米の制度、文物の視察を目的として派遣された。これに関して、誤っているものを次のア～エから 1 つ選び、記号を書きなさい。

- ア 使節団の一員であった伊藤博文は、のちに、初代内閣総理大臣となり、日本の近代化に努めた。
- イ 使節団とともに 5 人の女子留学生も同行したが、その 1 人であった津田梅子は、帰国後、女子教育に力を注いだ。
- ウ 条約改正についてはその目的を果たせず、使節団は、欧米の進んだ政治制度や産業、社会の状況を視察し、国力の充実の必要性を痛感して帰国した。
- エ 欧米から帰国した岩倉具視や大久保利通は、武力で朝鮮に開国をせまる征韓論を主張し、これに反対する勢力と対立した。

(富山県)

エ

【】明治初期の対外関係

[問題 65]

右図は、鹿鳴館で開かれていた舞踏会(ダンスパーティー)のようすを描いたものである。このような政府の欧化政策の目的を書きなさい。

(茨城県)



不平等条約の改正を実現すること。

[問題 66]

ノルマントン号事件をきっかけに、わが国では不平等条約の改正を求める世論が高まった。国民は、とくに何を撤廃することを求めたか、[法 領事]の語を用い、「日本国内で外国人が・・・」という書き出しで簡潔に書きなさい。

(秋田県)

日本国内で外国人が法を犯したときに、その国の領事が裁判を行う治外法権を撤廃すること。

[問題 67]

A の島々をめぐって、明治政府は清とその帰属問題で対立していたが、この帰属問題に最も関係の深い語の組み合わせとして適切なものを、次のア～エの中から1つ選びなさい。

- ア 日清修好条規 - 日朝修好条規
- イ 台湾出兵 - 琉球処分
- ウ 西南戦争 - 廢藩置県
- エ 沖縄返還 - 日中平和友好条約

(青森県)



イ

[問題 68]

明治初期のころ，日本は，琉球の帰属をめぐって中国と対立しました。この中国の王朝を何といいますか。次から選びなさい。

[ 宋 明 清 隋 ]

(広島県)

清

[問題 69]

千島列島を日本領と定めた，1875 年にロシアとの間で結ばれた条約の名を書きなさい。

(北海道)

樺太・千島交換条約

[問題 70]

日朝修好条規が結ばれたのは，この前年に日本と朝鮮の間におこったできごとがきっかけでした。そのできごとを，次から 1 つ選びなさい。

[ 五・四運動 義和団事件 三・一運動 江華島事件 ]

(山形県)

江華島事件

[問題 71]

日朝修好条規は，1875 年に朝鮮でおきた江華島事件をきっかけとして結ばれた。図の 印で示した a～d の島のうち，江華島にあたるものを 1 つ選び，記号で答えなさい。

(熊本県)



b



【】士族の反乱

[問題 72]

次は、数十年にわたり日本に住んだドイツ人の医師ベルツが書いた日記の一節です。この日記に書かれたできごとの名称を書きなさい。

悪い時世だ！九州島の南部にある鹿児島県は、薩摩人の本拠地であるが、政府に反旗を翻して大騒ぎである。その地には不平組の旧大名島津三郎や西郷大将が滞在している。（「ベルツの日記」から作成）

(埼玉県)

西南戦争

[問題 73]

西南戦争の指導者は誰か。

(補充問題)

西郷隆盛

[問題 74]

わたしは西郷隆盛である。江戸幕府を倒すことに力をそそぎ、新政府の中で改革にとりくんだが、意見が対立して鹿児島にもどった。新しい政治に不満をもつ(華族 / 士族)におされて西南戦争をおこしたが、政府軍にやぶれてしまった。

(茨城県)

士族

[問題 75]

当時、士族は専制的な政治への反発のほかに、政府に対しどのような不満をもっていたか、説明しなさい。

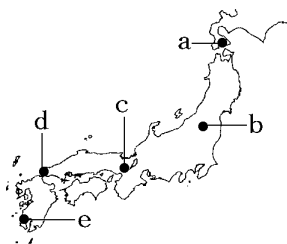
(福井県)

身分的な特権をうばわれたことへの不満

[問題 76]

徴兵令により、全国統一の近代的な軍隊がつくられ政府はこの軍隊を動員して、最も大規模な士族の反乱を鎮圧した。鎮圧した場所を、地図の a~e から 1 つ選んで記号を書きなさい。

(秋田県)



## 【】自由民権運動

### [問題 77]

右の人物が中心となって、民撰議院設立の建白書を政府に提出したことをきっかけにして、国会開設、憲法制定や地租の軽減などを要求する運動が全国的にさかんになった。この運動を何というか。答えなさい。  
(山口県)



自由民権運動

### [問題 78]

征韓論がいれられず政府を去った後、民撰議院設立の建白書を政府に提出し、自由民権運動を展開した人物は誰か。答えなさい。  
(補充問題)

板垣退助

### [問題 79]

次の文の ， の( )内より適語を選べ。

板垣退助は、民撰議院設立建白書を政府に提出したのち、高知で (立志社 / 立憲政友会) を設立し、自由民権運動を進めた。その後、1881 年に (自由党 / 立憲改進黨) を結成し、国会の開設に備えた。  
(北海道)

立志社

自由党

### [問題 80]

右図の人物は、政府を去った後、民撰議院設立の建白書を政府に提出した。そのときこの人物は、政府に対して、どのような批判をし、どのような政治のあり方が望ましいと主張したか。  
(福島県)



政府の政治を専制政治であると批判し、議会を開いて国民が政治に参加できるようにすべきだと主張した。

[問題 81]

下の文中の( )にあてはまる適当なことばを、「政府」「武力」「言論」の3つの語を用いて、30字以内(読点も含む)で書きなさい。

西南戦争の後、( )、自由民権運動が広まる中で、1880年には国会期成同盟が設立された。(千葉県)

政府への武力による抵抗にかわり、言論による批判が中心となり

[問題 82]

次のア～エのうち、自由民権運動にかかわるできごとについて述べているものはどれですか。1つ選び、その記号を書きなさい。

- ア 民衆が「ええじゃないか」と踊りまわるさわぎが、各地で流行した。
- イ 最初のメーデーが行われ、最低賃金制や8時間労働制などを求めた。
- ウ 全国の数十の結社の代表者が大阪に集まり、国会期成同盟を結成した。
- エ 護憲派を支持する民衆が議事堂を取りまき、桂内閣の退陣を要求した。

(岩手県)

ウ

[問題 83]

次の資料を見て、あとの各問いに答えなさい。

[ X ] 建議有志者団結案

人民国政に参するの権は天然の真理なるを以て、野蛮未開の邦国にあらざる以上は、その政府においてもとより人民に参政の権を与へざるべからざるは僕の喋々をまたざるべし。(中略)僕の無智、無学、無氣力を顧みず、わが秋田県の同意者諸君とともに謀り、ともに[ X ]を政府に建議せんと欲す。(以下略)

明治十三年二月

喋々...しきりにしゃべること

(1) 資料の下線部は今から約何年前か、適切なものを1つ選びなさい。

[ 80 年前 130 年前 160 年前 220 年前 ]

(2) 資料の[ X ]にあてはまるものを1つ選びなさい。

[ 普通選挙 廃藩置県 地租改正 国会開設  
農地改革 尊王攘夷 ]

(3) 資料に示された政治運動は、この時期、秋田県だけでなく全国に広がっていた。この政治運動を何と  
うか、書きなさい。

(秋田県)

(1) 130 年前

(2) 国会開設

(3) 自由民権運動

[問題 84]

自由民権運動にかかわってきた人々を中心に、国会開設に備えた政党結成の動きが進んだ。国会開設が政府により約束された年に、板垣退助らが結成した政党を何と  
いいますか。

(岡山県)

自由党

[問題 85]

自由民権運動がさかんになると、議会で活動するために政党がつくられた。1881 年に板垣退助が自由党をつくり、翌年、( )は立憲改進黨をつくった。

[ 大隈重信 伊藤博文 大久保利通 西郷隆盛 ]

(栃木県)

大隈重信

[問題 86]

大隈重信が結成した政党は何か。答えなさい。

(補充問題)

立憲改進黨

[問題 87]

1884 年、自由党員と生活に苦しむ農民が結んで、( )事件という激しい民権運動の事件をおこした。

(熊本県)

秩父

[問題 88]

次のア～エを年代の古い順に並べるとどのようになりますか。その記号を順に書きなさい。

ア 板垣退助を党首とする自由党が結成された。

イ 国会期成同盟が結成され政府に国会の開設を求めた。

ウ 秩父で農民たちが暴動を起こしたが、政府は武力で抑えた。

エ 板垣退助らが、民撰議院(国会)を開設する要求を政府に出した。

(和歌山県)

エ イ ア ウ

[問題 89]

自由民権運動について誤っているものを次のア～エから1つ選び、記号で答えなさい。

- ア 政府は、自由民権運動に対して法律を定めて、自由民権運動を支援した。
- イ 自由民権運動は国会開設を目的としていた。
- ウ 国会開設に向けて、板垣退助は「自由党」を結成した。
- エ これまでの政治は専制政治であると批判し、国民も政治に参加させるべきであると訴えた。

(沖縄県)

ア

【】憲法制定の準備

[問題 90]

右の写真の人物は、大日本帝国憲法作成にかかわった。その人物名を漢字で答えなさい。

(沖縄県)



伊藤博文

[問題 91]

大日本帝国憲法の草案作成の中心となった伊藤博文は、ヨーロッパに留学して、君主権の強いある国の憲法を学んだ。ある国とはどこか。その国名を書け。

(香川県)

ドイツ(プロイセン)

[問題 92]

大日本帝国憲法を作成するにあたって、伊藤博文はドイツ(プロイセン)憲法を学び、その草案をつくった。ドイツ憲法を手本にした理由を書きなさい。

(滋賀県)

ドイツ憲法は君主権が強い憲法であったため。

[問題 93]

伊藤博文が行ったことについて述べた文として、最も適当なものを、次のア～エから1つ選び、その符号を書きなさい。

- ア 自由民権運動を広め、立憲改進黨を結成した。
- イ ヨーロッパに留学し、ドイツ(プロイセン)の憲法や制度を調査した。
- ウ 国会期成同盟をつくり、国会の開設を政府に請願した。
- エ「学問のすゝめ」を出版し、欧米の思想を日本に紹介した。

(新潟県)

イ



[問題 94]

岩倉使節団の一員で、1885 年に内閣制度ができると初代の内閣総理大臣に就任した人物はだれか、次から 1 つ選べ。

[ 西郷隆盛 伊藤博文 大久保利通 木戸孝允 ]  
(京都府)

伊藤博文

【】大日本帝国憲法

[問題 95]

わたしは伊藤博文である。国会の開設を約束し、ヨーロッパに留学して憲法を学んだ。帰国後、わたしが中心となって草案をつくり、1889年2月11日に発布されたのが( )憲法である。

(茨城県)

大日本帝国

[問題 96]

大日本帝国憲法に定められた主権者はだれであったか。

(京都府)

天皇

[問題 97]

大日本帝国憲法の内容と日本国憲法の内容を比較すると、さまざまな点で違いがあります。その違いの1つを、主権という言葉を使って説明しなさい。

(山形県)

大日本帝国憲法は天皇を主権者としているのに対し、日本国憲法は国民を主権者としている。

[問題 98]

大日本帝国憲法について述べたものとして適切でないものを、次のア～エから1つ選び、その記号を書け。

ア 憲法は、天皇が国民にあたえるという形で発布された。

イ 憲法では、帝国議会は国権の最高機関と位置づけられた。

ウ 憲法では、天皇が国の元首として統治すると定められた。

エ 憲法では、人権は天皇が恩恵によってあたえた権利とされた。

(奈良県)

イ

[問題 99]

大日本帝国憲法の内容として誤っているものを、次のア～エから 1 つ選び、記号で答えなさい。

- ア 天皇が国の統治権をもつ。
- イ 国民は、法律の範囲内で言論や集会・結社などの自由をもつ。
- ウ 天皇が陸海軍の統帥権をもつ。
- エ 帝国議会は、参議院と衆議院の両院をもって成立する。

(熊本県)

エ

[問題 100]

大日本帝国憲法や帝国議会に関する文として適切なものを、次のア～エから 1 つ選んで、その符号を書きなさい。

- ア 華族や士族だけに帝国議会議員の選挙権が与えられた。
- イ 帝国議会は、参議院と衆議院の 2 つの議院から成り立っていた。
- ウ この憲法では、言論・出版などの自由は法律の範囲内で認めると定めていた。
- エ 主権が国民にあることを宣言し、この憲法が定められた。

(兵庫県)

ウ

[問題 101]

「大日本帝国憲法が発布される」のできごとが入るのは、略年表中の a～d のどこか、記号で答えなさい。

(山形県)

年	できごと
1871	岩倉使節団が発発する a
1876	日朝修好条規が結ばれる b
1895	下関条約が結ばれる c
1905	ポーツマス条約が結ばれる d
1914	第一次世界大戦に参戦する

b

[問題 102]

大日本帝国憲法発布～日露戦争の時期のできごとを  
次のア～エから 1 つ選びなさい。

イ

ア 義務教育が 6 年に延長された。

イ 教育勅語が出された。

ウ 学制が発布された。

エ 教育基本法が制定された。

(熊本県)

【】帝国議会の開設

[問題 103]

右図は帝国議会のうち、衆議院の議員を選ぶ第1回総選挙の投票のようすを示したものである。この時に選挙権をあたえられた者の資格について、30字以内で書きなさい。



直接国税 15 円以上を納める満 25 歳以上の男子

(茨城県)

[問題 104]

大日本帝国憲法が発布された翌年の 1890 年に、日本最初の衆議院議員の選挙が実施されました。このときは、納税額による制限があり、選挙権が認められたのは、( A )円以上の国税(地租などの直接国税)を納めている満 25 歳以上の男子だけでした。そのため、選挙権をもっていた人は、総人口の約( B )%でした。A、B のそれぞれにあてはまる数字の組み合わせとして正しいものを、ア～エから選びなさい。

ア A : 1 , B : 1    イ A : 15 , B : 15

ウ A : 1 , B : 15    エ A : 15 , B : 1

(北海道)

エ

[問題 105]

1890 年に行われた第 1 回衆議院議員選挙における有権者総数は、当時の日本の人口の約何%であったか、次から 1 つ選びなさい。

[ 1.1%   5.5%   20.0%   48.7% ]

(徳島県)

1.1%

[問題 106]

下線部ア～エには、誤りが1つある。その記号を選び、適切な語句を書きなさい。

第1回帝国議会のア貴族院の議員は、選挙によって選出された。選挙権が与えられていたのは、イ直接国税15円以上をおさめるウ25歳以上の男子に限られていた。

この選挙で、過半数の議席を得たのは、エ自由民権運動の流れをくむ民党(野党)であった。

(富山県)

ア，衆議院

[問題 107]

帝国議会の2つの議院のうちの1つで、皇族・華族などで構成されていた議院は何か。

(青森県)

貴族院

[問題 108]

日本は欧米諸国にならって近代的な国家としての体制を整え、そのことなどにより、欧米諸国は条約改正に応じ始めました。近代的な国家としての体制を整えたとは、どのようなことが、簡潔に書きなさい。

(山形県)

憲法を制定し，議会を開いたこと。

[問題 109]

1900年に伊藤博文が結成し、のちに原敬が総裁をつとめた政党は何か。

(愛媛県)

立憲政友会


【】日清戦争・日露戦争

【】日清戦争

[問題 110]

次の各問いに答えなさい。

- (1) 右の図は何という戦争の風刺画か、その戦争の名前を答えなさい。
- (2) 図の中の a, b, c にあたる国名を答えなさい。



(1) 日清戦争

(2) a 日本

b ロシア

c 清

(補充問題)

[問題 111]

日清戦争に関して、日本と清が朝鮮半島に出兵する理由となったできごとはどれか、次から 1 つ選びなさい。

[ 義和団事件 アヘン戦争 甲午農民戦争 江華島事件 ]

(徳島県)

甲午農民戦争

[問題 112]

日本は日清戦争で勝利をおさめた。この翌年に結ばれた講和条約を次から 1 つ選びなさい。

[ ポーツマス条約 ベルサイユ条約 下関条約 南京条約 ]

(沖縄県)

下関条約

[問題 113]

日清戦争の講和条約が結ばれた場所はどこか。略地図のア～オから 1 つ選びなさい。

(滋賀県)



エ

[問題 114]

1894年に始まった（ ）戦争が終わったのちに、日本は、下関条約によって賠償金を得た。この賠償金などをもとに建設された八幡製鉄所の操業により、重工業がしだいに発達し、「世界の工場」とよばれた（ドイツ/イギリス/アメリカ）で最初に始まった産業革命が、わが国においても進展した。

(北海道)

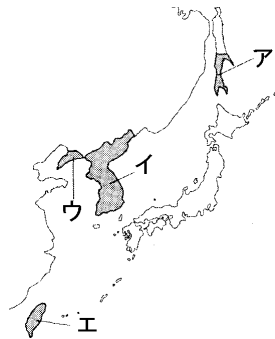
日清

イギリス

[問題 115]

日本が、下関条約によってゆずりうけ、第二次世界大戦が終わるまで領有したのは、略地図中のア～エのどこか、1つ選び、記号で答えなさい。

(山形県)



エ



【】三国干涉

[問題 116]

ロシアなどが、日清戦争の結果日本が獲得した遼東半島の返還を要求した。このことは何とよばれているか。  
(岩手県)

三国干涉

[問題 117]

三国干涉を行った三国をあげよ。  
(補充問題)

ロシア、フランス、ドイツ

[問題 118]

日本は日清戦争の結果、清から領土を獲得したが、あるできごとによりその一部を返還することになった。返還することになった理由を、できごとの名称と返還した領土の名称を示しながら、簡潔に説明せよ。  
(長崎県)

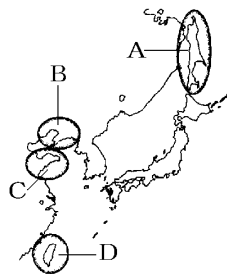
ロシアが中心となって、遼東半島の返還を求める三国干涉を行ったため。

[問題 119]

三国干涉によって、わが国が返還を要求された地域を下から、またその位置を右の地図中の A~D から、それぞれ選びなさい。

[ 台湾 山東半島 樺太  
遼東半島 ]

(長崎県)



遼東半島、B

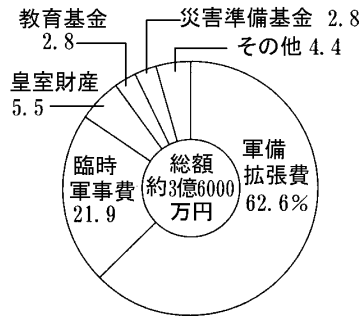
[問題 120]

日清戦争に勝利したのち、国民の間には、ロシアへの対抗心が高まった。その理由を「下関条約」と「三国干涉」という語を使って書きなさい。  
(宮崎県)

下関条約で獲得した遼東半島を三国干涉で返還させられたから。

[問題 121]

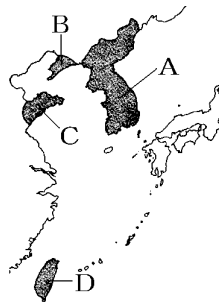
次のグラフは、日清戦争後に日本が清国より得た賠償金などの使いみちを示しているが、戦争後にもかかわらず、軍備拡張費の割合が高いのはなぜか。その理由を、日清戦争後の国際的なできごとと、それに対する日本政府の対応を中心に、簡単に書け。  
(香川県)



三国干渉を受け入れた日本が、その返還勧告で中心的役割をはたしたロシアに対抗できる軍事力をもつため。

[問題 122]

ロシアが、三国干渉の後に租借(借りて統治)した、旅順や大連がある地域は、右の地図中の A~D のうちのどれですか。  
(岡山県)



B

【】日英同盟

[問題 123]

帝国主義諸国の侵略に対して、中国の民衆がある宗教団体を中心に団結し、武装して立ち上がった事件を何と  
いうか。

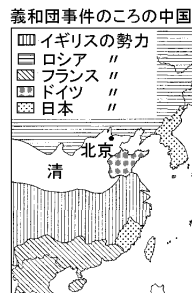
(補充問題)

義和団事件

[問題 124]

中国で義和団事件が起こった理由を、右の資料を参考にして、簡潔に  
書きなさい。

(群馬県)




列強の中国分割に反発する排外運動がさかんになったため。

[問題 125]

右の資料でケーキを食べている様子は何をあらわしているか。ケーキにたとえられた国名を明らかにして、簡潔に書きなさい。

(宮崎県)

[ケーキを食べる欧米列強及び日本]



欧米列強や日本が、中国を侵略しているようすを表している。

[問題 126]

日本は、三国干渉によって関係が悪化していた(オランダ/フランス/ロシア/イタリア)に対抗するため、イギリスと同盟を結んだ。

(岡山県)

ロシア

[問題 127]

日露戦争の開戦前の 1902 年に、ロシアのアジア進出に対抗して、わが国が同盟を結んだ国は次のどれか。

[ ドイツ イギリス フランス アメリカ ]


(長崎県)

イギリス

[問題 128]

日露戦争前に、ロシアに対抗するために日本がとった外交上の政策について、次の資料を参考に簡潔に書きなさい。

イギリスと日英同盟を結んだ。




(宮崎県)

[問題 129]

次の絵は、日露戦争の直前の国際関係を描いたものである。絵の中のアで示されている国はどこか答えなさい。

イギリス




(島根県)

[問題 130]

次の資料を参考にして、日露戦争直前の日本、ロシア、イギリス3国の国際関係を簡潔に書きなさい。

日露戦争直前の国際関係



(佐賀県)

ロシアと日本は韓国の支配をめぐって対立していた。イギリスはロシアの南下に対抗するため日本と日英同盟を結んだ。

[問題 131]

次の文は、日露戦争直前の列強の関係について述べたものである。X～Zにあてはまる国名を下の[ ]の中から1つずつ選びなさい。

( X )は三国干渉をともに行った( Y )と同盟関係にあり、アジアの植民地化で( Z )と対立していた。当時、世界で最も広い範囲を植民地として領有していた( Z )は、日本と同盟関係にあり、アジアやアフリカの植民地化で( Y )と対立していた。中国の広州湾を租借していた( Y )は、( X )には資金援助を行っていたが、三国干渉をともに行ったドイツとは対立していた。  
[ フランス ロシア アメリカ イギリス ]

(福島県)

X ロシア

Y フランス

Z イギリス

[問題 132]

次のア～ウは、日露戦争が始まる前におきたことである。年代の古い順に並べ、符号で書きなさい。

ア 義和団事件では、日本を主力とする 8 か国の連合軍が鎮圧にあたった。

イ ロシアは、ドイツ、フランスとともに、日本に対して三国干渉を行った。

ウ 日本とイギリスは、ロシアに対抗するために日英同盟を結んだ。

(岐阜県)

イ ア ウ

【】日露戦争

[問題 133]

日露戦争で戦場に行った弟の身を案じ、「君死にたまふことなかれ」とよんだ女流歌人は誰か。

(和歌山県)

与謝野晶子

[問題 134]

明治時代のある戦争に関し、アメリカの仲介により日本と対戦国との間に結ばれた講和条約は、次のどれですか。

[ 下関条約 ベルサイユ条約 ポーツマス条約  
サンフランシスコ平和条約 ]

(鹿児島県)

ポーツマス条約

[問題 135]

日露戦争では、ある国の調停により講和会議が開かれた。この調停をした国を次から選びなさい。

[ イギリス フランス ドイツ アメリカ ]

(石川県)

アメリカ

[問題 136]

ポーツマス条約で、ロシアは朝鮮半島における日本の優越権を認め、( a )の南半分を日本にゆずることなどを認めた。この条約が結ばれたあと、日本は、( b )に勢力を拡大するため、鉄道や炭鉱を経営した。

ア a 樺太, b 満州

イ a 樺太, b インドシナ

ウ a シベリア, b 満州

エ a シベリア, b インドシナ

(愛知県)

ア

[問題 137]

ポーツマス条約の内容にあたるものとして適当なものを、ア～エから1つ選び、その記号を書け。

- ア 日本は遼東半島を清国に返還する。
- イ 日本は山東省のドイツ権益を継承する。
- ウ 日本は旅順・大連の租借権を得る。
- エ 日本は下田・函館の2港を開く。

(愛媛県)

ウ

[問題 138]

1905年に、東京で日比谷焼き打ち事件がおこった。この事件の原因について、「日露戦争」と「賠償金」の2つの語を用いて簡潔に書きなさい。

(栃木県)

日露戦争の講和条約であるポーツマス条約で、ロシアから賠償金を得ることができなかったため。

[問題 139]

日露戦争後のできごとについて説明した文として誤っているものを、次のア～エから1つ選んで記号で答えなさい。

- ア 南満州鉄道株式会社が鉄道や鉱山を開発し、満州の経営を本格化させた。
- イ 下関で講和条約を結び、日本は清に朝鮮の独立を認めさせて、台湾や遼東半島を獲得した。
- ウ 賠償金を獲得できなかったため、不満をもった民衆が東京で焼き打ち事件をおこした。
- エ 外国から借りた戦費の返済などのため、国民は重い負担を強いられるようになった。

(島根県)

イ



【】日露戦争後のアジア

[問題 140]

日露戦争後，日本は大陸への進出を強め，1910 年にはアジアのある国を併合した。その国の名前を答えなさい。

(沖縄県)

韓国

[問題 141]

日本による韓国の植民地化は，日露戦争後本格化し，日本は韓国を 1910 年に併合して朝鮮総督府を置き，植民地支配をおし進めた。この植民地支配は，第二次世界大戦が終わるまで続いた。日本による韓国の植民地支配について説明したものとして，誤っている文を，次のア～エから 1 つ選び，記号で答えなさい。

- ア 板垣退助が初代の韓国統監となり，韓国皇帝とともに内政を行った。
- イ 朝鮮の学校では，朝鮮史を教えることは禁じられ，日本史や日本語が教えられた。
- ウ 朝鮮の人々の姓名を，日本式に改めさせる創氏改名をおし進めた。
- エ 多数の朝鮮の人々が日本に強制連行され，工場や炭鉱などで過酷な労働に従事させられた。

(鳥取県)

ア

[問題 142]

次の 4 つのできごとのうち，日露戦争が終結した後のできごとはどれか。

- ア 朝鮮総督府がおかれた。
- イ 日朝修好条規が結ばれた。
- ウ アヘン戦争がおこった。
- エ 三国干渉が行われた。

(神奈川県)

ア

[問題 143]

中国で辛亥革命がおこったが、三民主義を唱え、その革命運動の中心となり、建国された中華民国の臨時大統領となったのは誰か。その人名を書け。

(長崎県)

孫文

[問題 144]

1911 年中国でおきた革命は何か。 また、その結果 1912 年に成立した国は何というか。

(補充問題)

辛亥革命

中華民国

[問題 145]

次の文の にあてはまる人の名を書きなさい。また、に共通してあてはまる国の名を書きなさい。

日露戦争での日本の勝利により、アジア諸国の独立の動きが高まった。欧米諸国に半ば植民地とされてきた中国の( )は、清をたおして近代国家の建設をめざすため、1905 年に東京で中国同盟会をつくり、三民主義を唱えた。一方、日露戦争後、日本は武力を背景として、( )の外交と内政を支配下におき、1910 年には( )を併合し、総督府を設置して植民地支配を行った。

(北海道)

孫文

韓国

[問題 146]

日露戦争における日本の勝利は、アジア諸国の民族独立の動きに影響を与えた。インドでも民族独立の動きが高まった。インドは日露戦争当時、どのような状況に置かれていたか、ヨーロッパのある国との関係から書きなさい。

(石川県)

イギリスの植民地であった。

【】条約改正：領事裁判権の撤廃

[問題 147]

次の資料は、ノルマントン号が沈没し、日本人乗客全員が水死した事件をフランス人のピゴールが描いたものである。



この時、イギリス人船長には軽い罰があたえられただけだったため、日本では不平等条約改正を求める世論が高まった。この事件に最も関係のある、条約の不平等な内容を書きなさい。

(青森県)

領事裁判権を認めていた。

[問題 148]

イギリスは、日清戦争の前に領事裁判権(治外法権)の撤廃に応じました。その理由を簡潔に書きなさい。

(和歌山県)

ロシアの南下に対抗するためには日本に接近するのが得策と考えたから。

[問題 149]

1894年、イギリスは( )の南下に対抗するため日本との条約改正に応じ、領事裁判権が撤廃された。( )にはいる国名を書け。

(福井県)

ロシア

[問題 150]

次の文の には、あてはまる国名を書きなさい。また、  
には、あてはまる語句を、漢字 5 字で書きなさい。

日本にとって、不平等条約を対等なものに改正することは、重要な課題であった。1894 年には、イギリスが  
( )の南下に対抗するため、日本との条約改正に応じ、日英通商航海条約が結ばれた。続いて、日本は、他の諸国とも同じような条約を結んだ。この結果、領事裁判権は撤廃され、( )の一部も回復した。さらに、残された( )の回復も、1911 年に達成された。

(大分県)

ロシア
-----

関税自主権
-------

【】条約改正：関税自主権の回復

[問題 151]

欧米諸国との不平等条約の改正をめざす日本は、1894年にはじまる（清／ロシア）との戦争の直前に、まずイギリスとの間で（関税自主権／領事裁判権）の撤廃を中心とする条約の一部改正に成功し、続いて、他の欧米諸国とも同様の改正をおこなった。その後も、イギリスをはじめとする欧米諸国と条約改正に向けて交渉を続け、1911年に、欧米諸国との間で完全な平等条約を結ぶことができた。

（広島県）

清

領事裁判権

[問題 152]

1911年、幕末に欧米諸国との間に結ばれた不平等条約が、完全に対等な条約に改正された。それは、この年に何という権限を確立することによって実現したのか、書きなさい。

（徳島県）

関税自主権

[問題 153]

次のア～エは不平等条約の改正に関することである。年代の古い順に並べかえなさい。ただし、アは2番目になる。

- ア ノルマントン号事件がおきた。
- イ 関税自主権を完全に回復した。
- ウ 岩倉使節団を欧米に派遣した。
- エ 領事裁判権(治外法権)が撤廃された。

（大分県）

ウ ア エ イ

[問題 154]

条約改正の実現に貢献した人物の組み合わせとして、最も適当なものはどれか。

ウ

- ア 西郷隆盛・板垣退助
  - イ 板垣退助・陸奥宗光
  - ウ 陸奥宗光・小村寿太郎
  - エ 西郷隆盛・小村寿太郎
- (鹿児島県)

[問題 155]

幕末以来の不平等条約の改正が完全に達成された時期と一番近い時期のできごとを、次のア～ウから1つ選び、記号を書きなさい。

イ

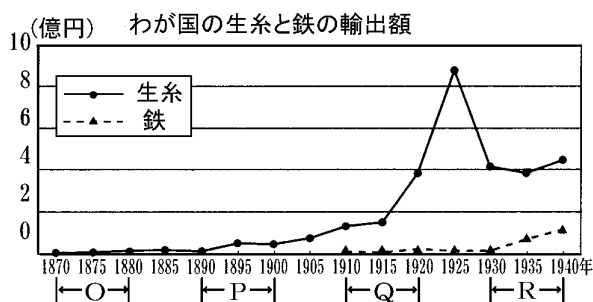
- ア 下関条約を結ぶ
  - イ ポーツマス条約を結ぶ
  - ウ サンフランシスコ平和条約をむすぶ
- (長野県)

[問題 156]

「わが国は、不平等条約で失った( )の自主権を完全に回復した。その後起こった第一次世界大戦中に、わが国は経済力を伸ばした。」

- (1) 関税
- (2) Q

- (1) 文中の( )に適語を入れよ。
  - (2) この文は、資料中の O～R のいずれかの期間のようすを述べたものか。
- (福岡県)



[問題 157]

条約改正が実現した背景として、あてはまらないものを1つ選んで記号を書きなさい。

ア

ア 国際連盟に加盟し，常任理事国となった。

イ 立憲政治が実現し，国のしくみが整った。

ウ 日露戦争の勝利で国際的地位が向上した。

エ ノルマントン号事件で国内世論が高まった。

(秋田県)

【】産業・文化

【】産業革命：軽工業の発展

[問題 158]

18 世紀のイギリスにおいて、機械の発明などにより、社会のようすが大きく変わる( X )が起こり、やがて世界各国に広がった。明治初期に政府が近代産業の育成につとめた日本においても、1880 年代に入ると、紡績、製糸などの軽工業から(X)が始まり、新しい社会のしくみである資本主義が発展した。


(愛知県)

産業革命



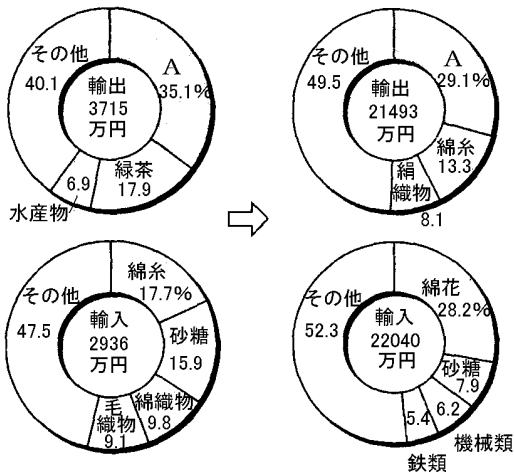
[問題 159]

グラフ 1 とグラフ 2 は、それぞれ 1885 年と 1899 年のわが国における品目別輸出入品の割合を示したものである。また下の資料は、フランスの技術を取り入れ群馬県に設立された官営模範工場である。



グラフ1 1885年の貿易

グラフ2 1899年の貿易



- (1) グラフ中の A は、資料の工場で生産された品目であるが、A にあてはまるものは何か答えなさい。
- (2) グラフ 1 とグラフ 2 の輸出入品の品目の変化をふまえて、1885 年から 1899 年の間にわが国の産業にどのような変化があったか、具体的に品目をあげて説明しなさい。

(鳥取県)

(1)生糸  
 (2) 1885 年には綿糸を輸入していたが、1899 年には綿花を輸入し、綿糸を輸出していることから、紡績業が発達したことがわかる。



[問題 160]

次の各問いに答えなさい。

- (1) (A)にあてはまるものを、次から選びなさい。

[ 生糸 船舶 銀 陶磁器 ]

- (2) 1882年に輸入品の1位であった綿糸は、1897年には輸出品の2位になっていることが分かる。このように変化した理由を、「工場」という語を用いて、簡潔に書きなさい。

(群馬県)

日本の主な輸出入品の変化

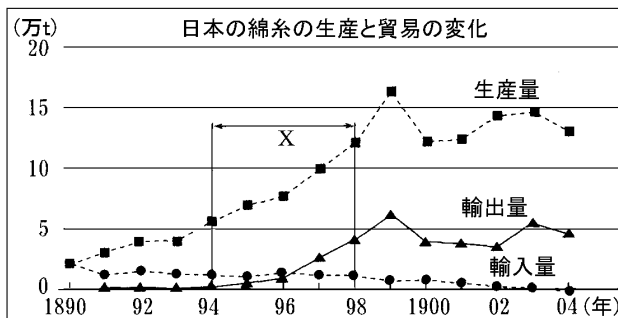
	順位	1882年	1897年
輸出品	1	( A )	( A )
	2	緑茶	綿糸
	3	水産物	絹織物
輸入品	1	綿糸	綿花
	2	砂糖	米
	3	綿織物	砂糖

(1) 生糸

(2) 輸入した綿花を原料として、工場で綿糸を大量生産できるようになったから。

[問題 161]

次のグラフは、日本の綿糸の生産と貿易の変化を示したものである。グラフを見て、Xの期間の綿糸の貿易の変化について、30字以上40字以内で説明しなさい。ただし、生産量が変化した理由も含めて書くこと。



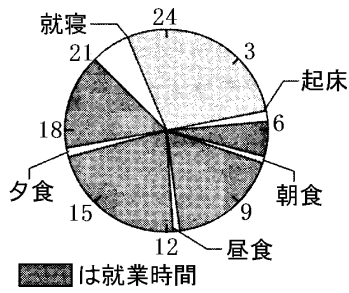
(大分県)

産業革命の進行により、綿糸の生産量が伸びて、輸出量が輸入量を上回るようになった。

[問題 162]

右図は明治時代の、長野県のある製糸工場で働く女子工員の平均的な一日の生活を示している。現代では、この工場における女子工員のような労働は、法律によって規制されている。現代の法律で定められた労働条件のもとでの労働と比べたとき、この工場における女子工員の労働には、どのような問題があるか。図から分かる問題を、簡単に書きなさい。

(静岡県)



休憩時間が短く、労働時間が長すぎること。

[問題 163]

1880年代には産業革命の時代をむかえた。資本主義の発達とともに、工場労働者が増加してきたが、大半は(食品/石炭/繊維/化学)産業で働く若い女子で、低賃金で長時間の労働に従事していた。

(鳥取県)

繊維

【】産業革命：重工業の発展

[問題 164]

次の文の ， の( )内より適語を選べ。

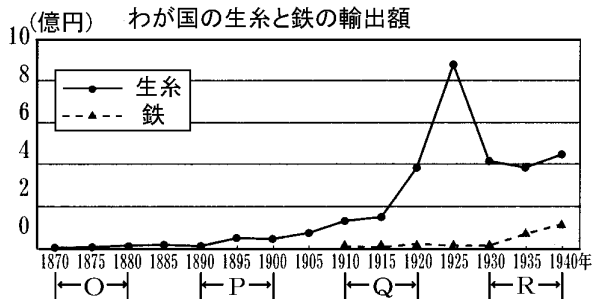
日本では，1880 年代後半から，製糸業や紡績業に代表される (軽工業 / 重工業)が発展した。また，1897 年に，政府は八幡製鉄所の建設に着手し， (軽工業 / 重工業 / 化学工業)の基礎となる鉄鋼の国産化をめざした。  
(千葉県)

軽工業
重工業

[問題 165]

資料からわが国の工業の発展が読み取れる。軽工業と重工業はどのような順に発達したか，「生糸に代表される」の書き出しで書け。

生糸に代表される軽工業が発達し，後に，重工業が発達した。



(福岡県)

[問題 166]

日清戦争のあとに，明治政府は国内の近代産業を発展させるために，官営の施設を建設しました。この施設の名称を，次の中から 1 つ選びなさい。

八幡製鉄所

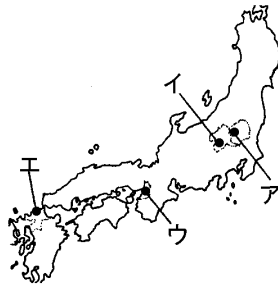
[ 鹿鳴館 富岡製糸場 八幡製鉄所 開拓使 ]

(埼玉県)

[問題 167]

官営八幡製鉄所がおかれた場所を，右の略地図中のア～エから選び，符号を書きなさい。

(大分県)



エ

[問題 168]

重工業製品の国産化をめざして，八幡製鉄所が 1901 年に操業を開始した。製鉄に使われ，燃料にも用いられる，北九州で豊富に産出していた鉱産資源を書きなさい。

(兵庫県)

石炭

[問題 169]

日清戦争の後，わが国では鉄鋼の需要が高まり，官営の八幡製鉄所が設立された。鉄鋼の需要が高まったおもな理由を，2 つ選んで記号を書きなさい。

- ア 軍備の増強      イ 貨幣の鋳造  
ウ 自動車の増産      エ 鉄道網の拡大

(秋田県)

ア，エ

[問題 170]

日清戦争直後の、わが国の工業のようすについて説明した文として、最も適切なものを、次のア～エから選び、記号で答えなさい。

- ア 造船業がさかんになるとともに、官営製鉄所の建設がはじまった。
- イ 欧米からの輸入がとだえ、国内で機械工業や化学工業が発達した。
- ウ 戦時体制が強められ、軍艦や飛行機などの生産に力を入れた。
- エ 外国から機械を買い、製糸や紡績の官営模範工場をつくった。

(山口県)

ア

[問題 171]

八幡製鉄所が建設されたころの社会のようすを述べた文として、正しいものを、次のア～エから 1 つ選び、記号で答えなさい。

- ア 新政府は近代国家建設のために、廃藩置県や学制の公布などの改革を行った。
- イ 日清戦争後に、機械化が進んだ軽工業で輸出が拡大し、産業革命が進展した。
- ウ 第一次世界大戦による好景気が続き、物価が上がり全国で米騒動が発生した。
- エ 世界恐慌が発生し、日本もその影響から失業者が増え、労働争議が多発した。

(宮城県)

イ

[問題 172]

官営八幡製鉄所は、右図の A~D のどの期間につくられましたか。適切なものを 1 つ選び、その記号を書きなさい。  
(和歌山県)

1877年 西南戦争が起こる。  
↓ A  
1885年 内閣制度ができる。  
↓ B  
1894年 日清戦争が始まる。  
↓ C  
1904年 日露戦争が始まる。  
↓ D  
1910年 韓国が併合される。

C

[問題 173]

日露戦争のころから、日本で発展した近代工業は何か。次から 1 つ選びなさい。

[ 製糸業 紡績業 造船業 化学工業 ]

(石川県)

造船業

[問題 174]

20 世紀の初めには、三井・三菱などの大企業は多くの企業を支配して、日本経済に大きな力をおよぼすようになった。このような大企業を何というか、書きなさい。  
(徳島県)

財閥

[問題 175]

足尾銅山鉱毒事件で、右図の人物は、天皇に直訴するなど、この問題の解決に努めた。この人物は誰か。  
(栃木県)



田中正造

[問題 176]

略地図に X で示したあたりにはかつて操業していた銅山があり、この銅山から流れ出た鉱毒が渡良瀬川流域の人々や自然環境に大きな被害を与えた。明治時代、衆議院議員であった田中正造が操業停止などを訴えたこの銅山を何と  
いうか、書きなさい。



足尾銅山

(三重県)

[問題 177]

下の資料は田中正造が天皇へあてた直訴状の一部である。田中正造はこの文章で何の問題を訴えたのか、最も適切なものを下のア～エから 1 つ選び、記号で答えなさい。

ア 政府の増税      イ 産業革命の遅れ

ウ 環境の破壊      エ 失業の増加

(資料)

鉱業の機械化が進み、<sup>あしおどうざん</sup>足尾銅山から流れ出す鉱毒の被害はますますひどくなっています。そのために魚は死に絶え、田畑は荒れ果て、住民は財産などを失っています。

(沖縄県)

ウ

【】明治時代の文化

[問題 178]

「吾輩は猫である」の作者は次のうちの誰か。

[ 正岡子規 岡倉天心 夏目漱石 二葉亭四迷 ]  
(滋賀県)

夏目漱石
------

[問題 179]

「舞姫」の作者は次のうちの誰か。

[ 森鷗外 小泉八雲 西周 若槻礼次郎 ]  
(島根県)

森鷗外
-----

[問題 180]

「たけくらべ」, 「にぎりえ」などの小説を発表し, 現在の五千円札にその肖像が使われていることでも知られているのはだれか。次から選びなさい。

[ 与謝野晶子 平塚らいてう 樋口一葉 津田梅子 ]  
(鹿児島県)

樋口一葉
------

[問題 181]

次の A~D からいずれか 1 人を選び, その符号を書け。  
また, 選んだ人物を説明している文章を I 群の A~オ から 1 つ選び, さらに, 選んだ人物の作品を 群の a~e から 1 つ選んで, それぞれの符号を書きなさい。

A 滝廉太郎 B 夏目漱石 C 島崎藤村 D 黒田清輝

(I 群)

ア 人間の平等と独立の精神を訴えた。  
イ 多くの曲をつくり, 近代音楽への道をひらいた。  
ウ 個人主義の立場からすぐれた小説を書いた。  
エ フランスに留学し, 洋画発展の基礎を築いた。  
オ 個性を重んじるロマン主義の詩を発表した。

( 群)

a 「吾輩は猫である」 b 「読書」 c 「荒城の月」  
d 「学問のすゝめ」 e 「若菜集」

(新潟県)

A: イ, c
---------

B: ウ, a
---------

C: オ, e
---------

D: エ, b
---------



[問題 182]

各人物名と説明との適切な組み合わせを、次のア～ウから1つ選び、記号で答えなさい。

ア A：樋口一葉：作家：代表作『みだれ髪』

イ D：福沢諭吉：教育者：著書『西洋事情』

ウ E：野口英世：作家：代表作『我輩は猫である』

(沖縄県)

イ

[問題 183]

明治時代、岡倉天心とともに日本画などの復興に努め、日本の伝統美術のすぐれた点を海外にも知らせた人物はだれか、次から選びなさい。

[ フェノロサ ウィルソン ビゴールソー ]

(三重県)

フェノロサ

[問題 184]

「読書」、「湖畔」が代表作品である(歌川広重/黒田清輝/岡倉天心/平塚らいてう)は、日本の洋画発展の基礎をきづいた。

(千葉県)

黒田清輝

[問題 185]

右の資料は、細菌の研究者で、黄熱病を研究したことでも知られる人物です。この人物の名前を書きなさい。

(山形県)



野口英世

[問題 186]

アメリカに渡る前の野口英世が指導を受けた人物で、破傷風の治療法を発見し、日本の医学が世界に認められるきっかけをつくった医学者は誰か。次の中から 1 人選  
びなさい。

[ 森鷗外 長岡半太郎 黒田清輝 北里柴三郎 ]  
(福島県)

北里柴三郎

[問題 187]

明治時代の文化について述べた文として適当でないものを、次のア～エから 1 つ選んで記号で答えなさい。

- ア ドイツに留学し、西洋文明に接した森鷗外は、帰国後に小説『舞姫』を発表した。
- イ 福沢諭吉は、人間の平等をわかりやすい表現で説いた『学問のすゝめ』を著した。
- ウ 有声映画やラジオなど新たな娯楽が大衆の人気を集めた。
- エ 北里柴三郎は、細菌学の分野で、世界的な業績である破傷風血清療法を発見した。

(島根県)

ウ