

【】地形

[日本アルプスなど]

[問題 1](3 学期)

右の地図中の飛驒山脈，木曾山脈，赤石山脈を含む山岳地帯は，ヨーロッパのある山脈にたとえて何と呼ばれているか。

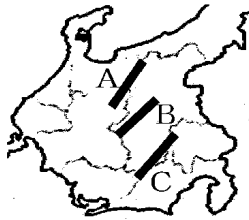


日本アルプス

[問題 2](3 学期)

右の略地図中の日本アルプスと呼ばれる A～C の山脈名を次の[]からそれぞれ選べ。

[木曾山脈 飛驒山脈
赤石山脈]



A 飛驒山脈
B 木曾山脈
C 赤石山脈

[問題 3](2 学期期末)

次の各問いに答えよ。

(1) 右の略地図の X, Y, Z の山脈名をそれぞれ答えよ。

(2) 地図中の X, Y, Z の山脈を含む山岳地帯は，標高 3,000m 前後の

山々がそびえている。これらの地域は，その景観から何と呼ばれているか。



(1)X 飛驒山脈
Y 木曾山脈
Z 赤石山脈
(2) 日本アルプス

[問題 4](3 学期)

日本アルプスではない山脈は次の[]のうちどれか。

[飛驒山脈 赤石山脈 木曾山脈 奥羽山脈]

奥羽山脈

[問題 5](2 学期期末)

新潟県と静岡県を結ぶ帯状のくぼ地(大地溝帯)を何と
いうか。カタカナで答えよ。

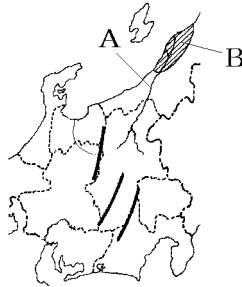
フォッサマグナ

[その他の重要地形]

[問題 6](前期期末)

次の各問いに答えよ。

- (1) 長野県から新潟県へ流れる
日本で一番長い右図 A の川
は何か。
- (2) (1)の川と阿賀野川下流の
三角州にできた右図 B の平
野は、日本でも有数の水田
単作地帯である。この平野
は何か。



(1) 信濃川

(2) 越後平野

[問題 7](3 学期)

次の各問いに答えよ。

- (1) 右図の A の河川は日本で最も長い
川である。川の名前を答えよ。
- (2) A の河川の河口に広がる平野の名
前を答えよ。
- (3) A の河川が流れている県名を漢字で 2 つ書け。



(1) 信濃川

(2) 越後平野

(3) 長野県，新潟県

[問題 8](2 学期中間)

中部地方には、日本で一番長い川と、一番高い山
がある。それぞれの名前を書け。

信濃川

富士山

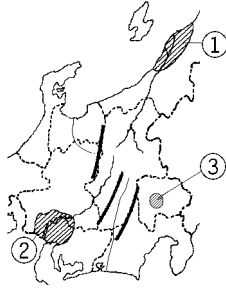
[問題 9](3 学期)

地図中の ①, ②, ③ にあてはまる地形名を下の文を参考に答えよ。

日本一長い信濃川が流れる平野。

名古屋など大都市がある平野。

扇状地が広がり果樹栽培がさかんな盆地。

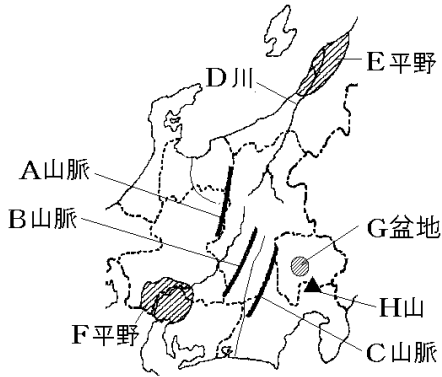


越後平野
濃尾平野
甲府盆地

--

[問題 10](2 学期期末)

次の地図中の A ~ H にあてはまる地形名を答えよ。

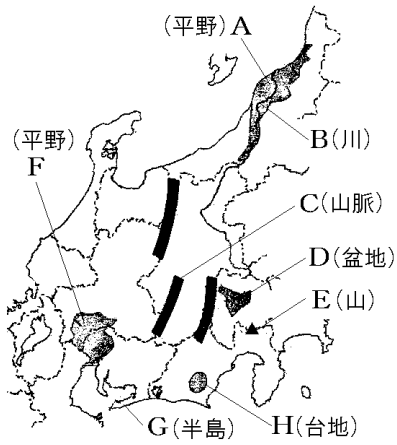


A 飛騨
B 木曾
C 赤石
D 信濃
E 越後
F 濃尾
G 甲府
H 富士

[その他の地形]

[問題 11](後期期末)

次の地図中の A~H の地形名を答えよ。



A 越後平野
B 信濃川
C 木曽山脈
D 甲府盆地
E 富士山
F 濃尾平野
G 渥美半島
H 牧ノ原台地

【】3 地域の気候

[問題 12](2 学期期末)

右の地図を参考に ~ に入れる適語を下の[]より選べ。

中部地方は、太平洋側の(), 内陸部の(), 日本海側の()という3つの地域に分けられる。



東海地方
中央高地
北陸地方

[北陸地方 関東地方 東海地方 中央高地]

[問題 13](3 学期)

次の各問いに答えよ。

(1) 中部地方を次の ~ の3つの地域に分けたときの名称をそれぞれ答えよ。

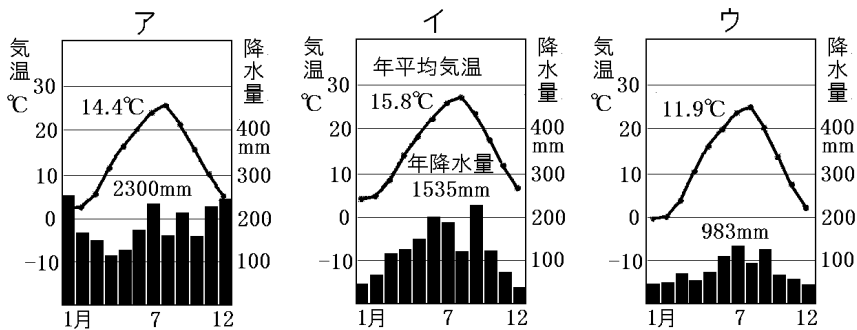
太平洋側の静岡県・愛知県・岐阜県南部

日本海側の新潟県・富山県・石川県・福井県

3000m 級の山々が連なる山梨県・長野県・岐阜県北部

(2) (1)の ~ の地方に属する都市の雨温図を、次のア ~ ウからそれぞれ選べ。

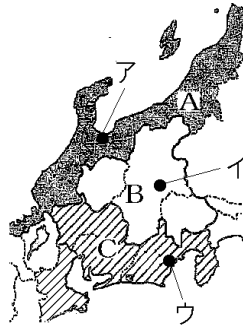
(1) 東海地方
北陸地方
中央高地
(2) イ
ア
ウ



[問題 14](3 学期)

次の各問いに答えよ。

- (1) 地図中の A～C にあてはまる地域名を答えよ。
- (2) 地図中の A～C の地域の特徴を示した次の各文の～にあてはまる語句をそれぞれ書け。

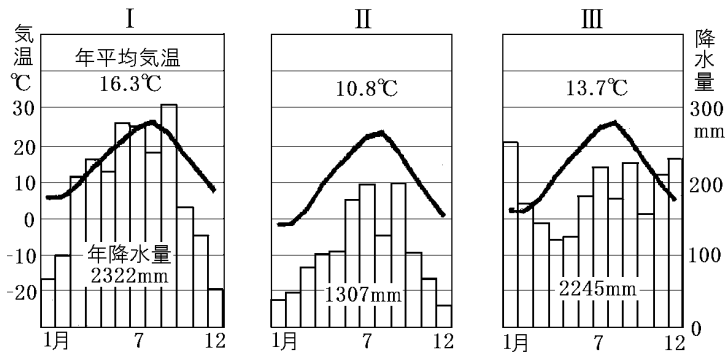


- A 大きな平野が多く、冬に北西の()の影響で雪が多い。
- B 山間の()に人口や産業が集中。冬は寒く降水量は()い。
- C 冬でも比較的温暖で、降水量は夏に多い。中部地方最大の都市である()市などに人口が集中している。

- (3) 次の～の雨温図にあてはまる都市を、地図中の A～U から 1 つずつ選べ。

(1)A	北陸地方
B	中央高地
C	東海地方
(2)	季節風
	盆地
	少な
	名古屋
(3)	ウ
	イ
	ア

--



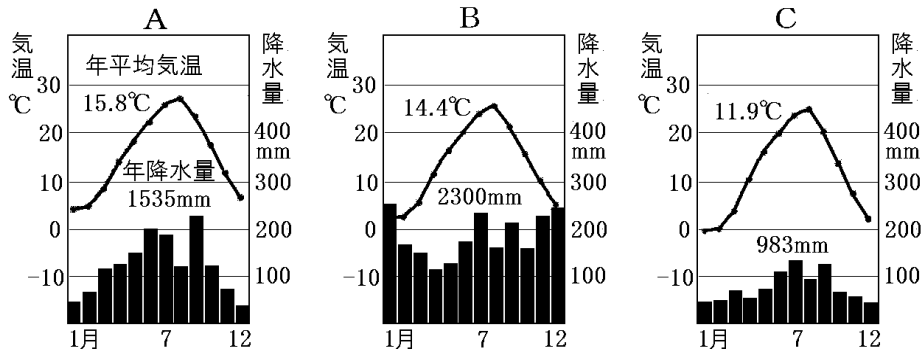
[問題 15](2 学期中間)

中部地方は、その自然環境などから、東海地方・中央高地・北陸地方の 3 つに分けられる。それぞれの地方にあてはまる雨温図を次の A～C より選べ。また、なぜその雨温図を選んだか、それぞれ理由を簡潔に答えよ。

東海地方：A，夏の降水量が多いから。

中央高地：C，年間の降水量が少なく，平均気温も低いから。

北陸地方：B，冬の降水量が多いから。



[問題 16](3 学期)

地図中の X，Y はそれぞれ金沢市と名古屋市をあらわしている。この 2 都市は同じ中部地方に位置しているにもかかわらず，冬の気候に大きな違いがある。この違いを冬の降水量に着目して簡潔に説明せよ。

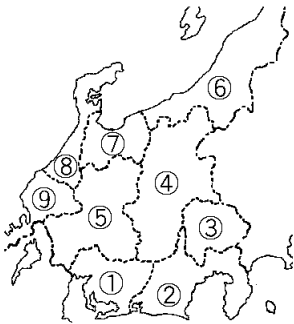


冬，X の金沢は降水量が多く，Y の名古屋は降水量が少ない。

【】 県名

[問題 17](補充問題)

次の各問いに答えよ。



- (1) 地図中の ① ~ ⑨ の県名を書け。
- (2) ① ~ ⑨ の中で、県名と県庁所在地名が異なる県が 3 つある。この 3 つの県の番号と、県庁所在地名を書け。

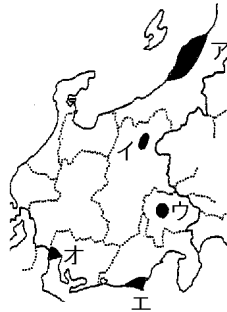
(1) 愛知県
静岡県
山梨県
長野県
岐阜県
新潟県
富山県
石川県
福井県
(2) 名古屋市, 甲府市, 金沢市

【】農業：中央高地

[甲府盆地と長野盆地の果樹栽培]

[問題 18](2 学期期末改)

山梨県のある盆地に発達している扇状地では、石の混じった水がしみこみやすい土壌が広がり、水田に適さない。そのため、かつてはくわ畑が広がり養蚕が行われていた。現在では、ぶどうやももの栽培を行い、山梨県は日本一の生産をあげている。この盆地の名前を答えよ。また、その位置を右上の地図中のア～オから選べ。



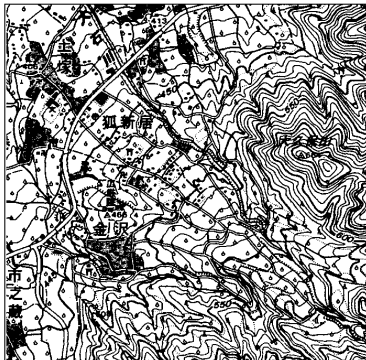
甲府盆地
ウ

--

[問題 19](補充問題)

次の資料は、甲府盆地の中の、ある地域の地形図の一部である。この地形図の中には、川が山間部から出てきたところに形成される特徴的な地形がみられる。この地形は何と呼ばれるか。次の[]から1つ選べ。

[扇状地 三角州 台地 カルデラ]



(高知県)


扇状地

--

[問題 20](3 学期)

次の各問いに答えよ。

- (1) 甲府盆地付近は山が多く、
 河川の流が速く、多くの
 土砂をおし流しながら右の
 資料のような特徴ある地形
 を作っている。この地形を
 何というか。



- (2) (1)の地形に適していない農作物を下の[]から 1
 つ選べ。

[りんご ぶどう 米 もも]

(1) 扇状地

(2) 米

[問題 21](前期期末)

次の各問いに答えよ。

ぶどう (2013年) (19.0万t)

X 25.4%	長野県 14.1	山形県 8.8	岡山県 8.1	その他 43.6
------------	-------------	------------	------------	-------------

もも (2013年) (12.5万t)

X 31.4%	福島県 23.5	長野県 12.3	その他 33.2
------------	-------------	-------------	-------------

- (1) 上の資料の X にあてはまる県名を書け。
 (2) X の県では、交通網の整備などにより、ぶどう狩り
 などができる農園を営む農家が増えている。このよ
 うな農園を何というか。
 (3) X 県の盆地の周辺に見られる、川が山地から平地に
 できるところにできる扇形の地形を何というか。
 (4) (3)の土地では、かつてくわ畑が広がり、まゆを生産
 する農業がさかんであった。これを何というか。次
 の[]から選べ。

[養蚕業 製糸業 紡績業 絹織物業]

(1) 山梨県

(2) 観光農園

(3) 扇状地




(4) 養蚕業

[問題 22](2 学期中間)

次のグラフのA, B, Cにあてはまる果実を[]からそれぞれ選べ。

[みかん ぶどう りんご なし さくらんぼ もも]

A りんご
B ぶどう
C もも



[問題 23](2 学期期末)

千曲川にそって広がるある盆地は、青森県の津軽地方につぐ第2位のりんごの産地になっている。この盆地名を答えよ。

長野盆地

[中央高地の高原野菜]

[問題 24](3 学期改)

標高 1,000m を超える右図の八ヶ岳山ろくでは、レタスやキャベツなどの(X)野菜の抑制栽培を行っている。夏の冷涼な気候を利用して収



穫・出荷を遅らせ、他県の出荷量が少ない夏に出荷できるため、高い価格で販売することができるという利点がある。X にあてはまる語句を答えよ。

高原

[問題 25](3 学期)

次のア～エの文章は、長野県の高原野菜について説明したものである。誤っているものを 1 つ選べ。

- ア 夏の冷涼な気候を利用して収穫・出荷を遅らせる抑制栽培が行われている。
- イ 他県の出荷量が少ない夏に出荷できるため高い価格で販売することができる。
- ウ 交通の発達により大都市への輸送が容易になったことで栽培がさかんになった。
- エ ビニールハウスを利用して栽培を行っている。

エ

[問題 26](後期期末)

長野県の高地では、夏の冷涼な気候を利用して、他の産地よりも時期を遅らせてレタスなどを栽培している。このような栽培方法を何栽培というか。

抑制栽培

[問題 27](3 学期)

長野県の高地では、高原野菜の抑制栽培が行われている。抑制栽培とは、どのような栽培方法か。「夏」「冷涼」「収穫・出荷」という語句を使って簡潔に説明せよ。

夏の冷涼な気候を利用して収穫・出荷を遅らせる栽培方法。

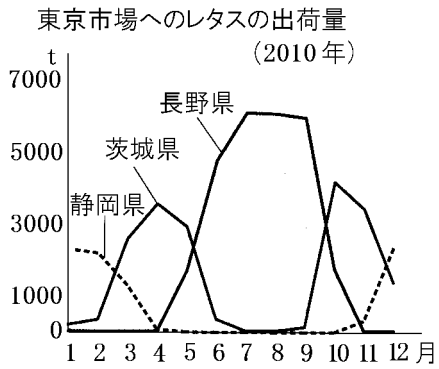
[問題 28](3 学期)

中央高地では、高原野菜を夏に出荷している。その理由を「出荷量」「価格」の語句を用いて説明せよ。

他県の出荷量が少ない夏に出荷できるため高い価格で販売することができるから。

[問題 29](3 学期)

次の資料から、他の地域と比較した長野県のレタスの出荷の特色を、気候的な特色に着目して説明せよ。



夏の冷涼な気候を利用して収穫・出荷を遅らせ、他県の出荷量が少ない夏に出荷している。

【】農業：東海

[静岡県の茶・みかん]

[問題 30](2 学期中間改)

大井川西岸に広がる右図の静岡県
の牧ノ原台地で栽培されている農作
物で、静岡県が日本一の生産量をほ
こっているものは何か。ちなみに、
この農作物の生産量第 2 位は鹿児島県で、第 3 位は三重
県である。



茶

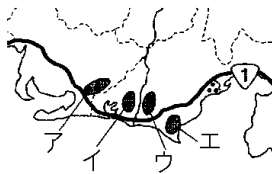
[問題 31](2 学期期末)

大井川西岸に広がる台地で、南側のゆるやかな斜面は
全国一の茶の産地となっている。この台地を何というか。

牧ノ原台地

[問題 32](補充問題)

茶の栽培がさかんである牧
ノ原台地を、略地図中のア～
エの中から 1 つ選び、その
記号を書け。 牧ノ原台地の
ある県名を答えよ。



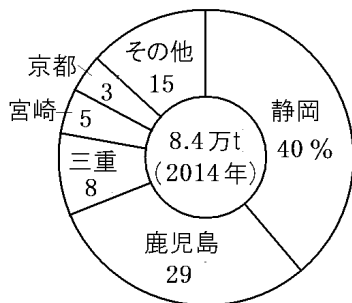
エ
静岡県

(和歌山県(旧))

[問題 33](前期期末)

次のグラフの農産物は、次の[]のうちどれか。

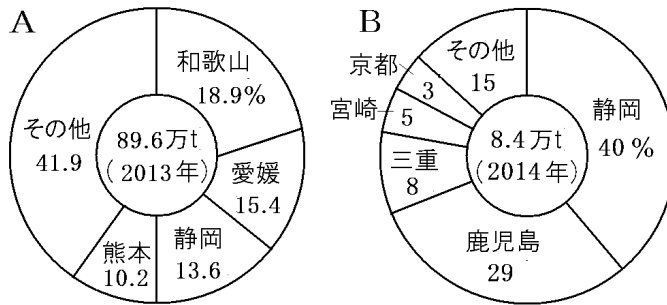
[みかん だいこん 茶 キャベツ]



茶

[問題 34](3 学期)

次のグラフの A , B が示している農産物名を答えよ。



A みかん
B 茶

[愛知県渥美半島の施設園芸農業]

[問題 35](前期期末改)

右の地図の渥美半島では、第二次世界大戦後に豊川用水が完成したことで水不足が解消し、大消費地に近いこともあって農業がさかんになった。キャベツ、スイカなどの露地栽培のほか、ガラス温室やビニールハウスなどを利用して、電照ぎくやメロンなどが栽培されている。ビニールハウスなどを利用した農業を何というか。次の[]から選べ。



施設園芸農業

--

[温暖農業 温室農業 施設園芸農業 促成栽培]

[問題 36](3 学期)

次の各問いに答えよ。

- (1) 地図中の X の半島の名前を答えよ。
- (2) X の半島のかんがい用に、1968 年に完成した用水を答えよ。



- (3) X の半島で行われているビニールハウスなどを使った農業を何というか。
- (4) X の半島では、開花時期をずらすために温室内を照明で照らして「きく」を栽培している。この「きく」を何というか。

- | |
|------------|
| (1) 渥美半島 |
| (2) 豊川用水 |
| (3) 施設園芸農業 |
| (4) 電照ぎく |

--

[問題 37](1 学期中間)

次の各問いに答えよ。

- (1) 渥美半島では、開花時期をずらすために温室内を照明で照らしてある花を栽培している。何という花か。
- (2) 渥美半島でさかんに栽培されている農作物にあてはまらないものを、次から 1 つ選べ。

[メロン スイカ りんご]

- (3) 渥美半島ではキャベツなどの野菜の栽培もさかに行われている。その理由として、次のア～エの中で適切でないものを 1 つ選べ。

ア 消費地である大都市に近く、交通の便がよい。

イ 大規模な用水路が引かれ、水を利用している。

ウ 火山灰土で水分をためておけるので農業に向いている。

エ 気候が温暖なために農業に適している。

- | |
|---------|
| (1) きく |
| (2) りんご |
| (3) ウ |

--

[用水]

[問題 38](1 学期中間)

右の地図中の知多半島の
水不足を解消するためにつ
くられ、名古屋市の工業用水
としても使われている用水
名を答えよ。

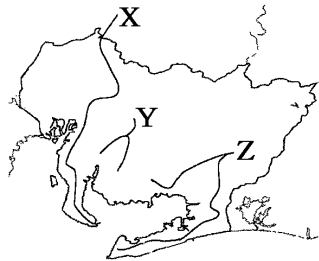


愛知用水

[問題 39](2 学期中間)

次の各問いに答えよ。

右の地図中の X, Y, Z
の線は明治用水, 豊川用
水, 愛知用水のいずれか
である。次の各文を参考
にして, それぞれの用水
名を答えよ。



X 愛知用水

Y 明治用水

Z 豊川用水

X: 木曾川から水を引き, 知多半島のかんがいや名古屋
の工業用水として利用されている。

Y: 矢作川から水を引き, 岡崎や安城の農業発展に役立
っている。

Z: 天竜川などから水を引き, 豊橋平野や渥美半島をか
んがいしている。

[濃尾平野の輪中]

[問題 40](2 学期期末)

次の文中の ， にあてはまる語句を書け。

右の資料は，木曾川，長



良川，揖斐川の流れる濃尾平野西部の低地につくられた，
()を防ぐために集落と耕地を堤防で囲んだ
()のしくみを表している。

洪水

輪中

[問題 41](1 学期中間)

次の文章中の ～ にあてはまる語句を答えよ。

()川，長良川，揖斐川の流れる()平野西部の低地は，豊かな水とよく肥えた土壤にめぐまれ，米の生産がさかんである。この地域は低湿地のため，むかしから洪水の被害が多かった。そこで江戸時代になると，家や農地を洪水の被害から守るため，村の外側を高い堤防で囲む()がつけられた。

木曾

濃尾

輪中

【】農業：北陸・中部全般

[北陸地方：水田単作]

[問題 42](2 学期期末改)

北陸地方は日本有数の豪雪地帯で冬の間は農業ができない。春になると冬に積もった雪がとける。冬に農業ができないことと豊富な雪どけ水を利用できることから、北陸地方は日本有数の水田単作地帯となっている。稲作の中心となっているのは、新潟県にある右上図の X の平野や富山県の富山平野で、早場米の産地としても有名である。X の平野の名前を答えよ。



越後平野

[問題 43](3 学期改)

次の文章中の ~ に適語を入れよ。

扇状地が多い北陸地方の平野では、ほかの地域から土を運んでくる()によって土地の改良が行われ、今日では日本を代表する水田地帯となっている。右の地

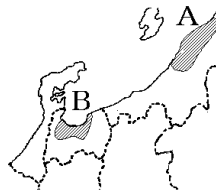


図 A の()平野や B の()平野などの平野は夏の気温が高くなることをいかして秋の早い時期に出荷する()米の産地としても有名である。

- 客土
- 越後
- 富山
- 早場

[問題 44](前期期末)


北陸の水田率が高く稲作がさかんな理由を、「雪どけ」という語句を使って書け。

雪におおわれる冬は農業ができないが、春になると豊富な雪どけ水を利用して稲作を行うことができるから。

[問題 45](後期中間)

次のグラフ(北陸四県の水田率)から読み取れる北陸の農業の特色を簡潔に説明せよ。

北陸四県の水田率 (2010年)



(水田率:耕地面積のうち田がしめる割合)

北陸四県の農業は稲作が中心である。

[問題 46](2 学期中間)

地理の学習を進めているうちに、Kさんは、北陸地方と東北地方の日本海側の農業やその関連について共通点が多いことに気がついた。次の中から、その共通点にあてはまらないものを1つ選べ。

- ア 冬になると積雪が多くなるので、水田単作地帯が多い。
- イ 減反政策により、1970年代以降、転作が進んでいる。
- ウ 銘柄米を生み出すことで、米のブランド化をはかり、消費者に受け入れられる米作りに努力している。
- エ 雪に閉ざされる長い冬の間、農作業がむずかしいので伝統産業が発達した。
- オ 扇状地や盆地といった水はけの良い土地が多いので、果樹栽培がさかんである。

オ

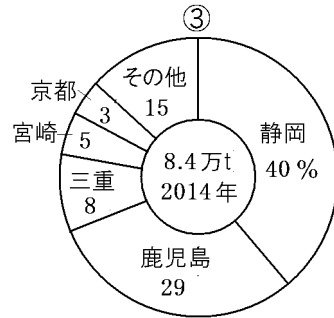


[農業全般：生産統計]

[問題 47](3 学期)

次の資料は、ある農産物の県別の生産割合を表したグラフである。～ はそれぞれ[]のどの農産物か。

[茶 ぶどう もも]

ぶどう
もも
茶

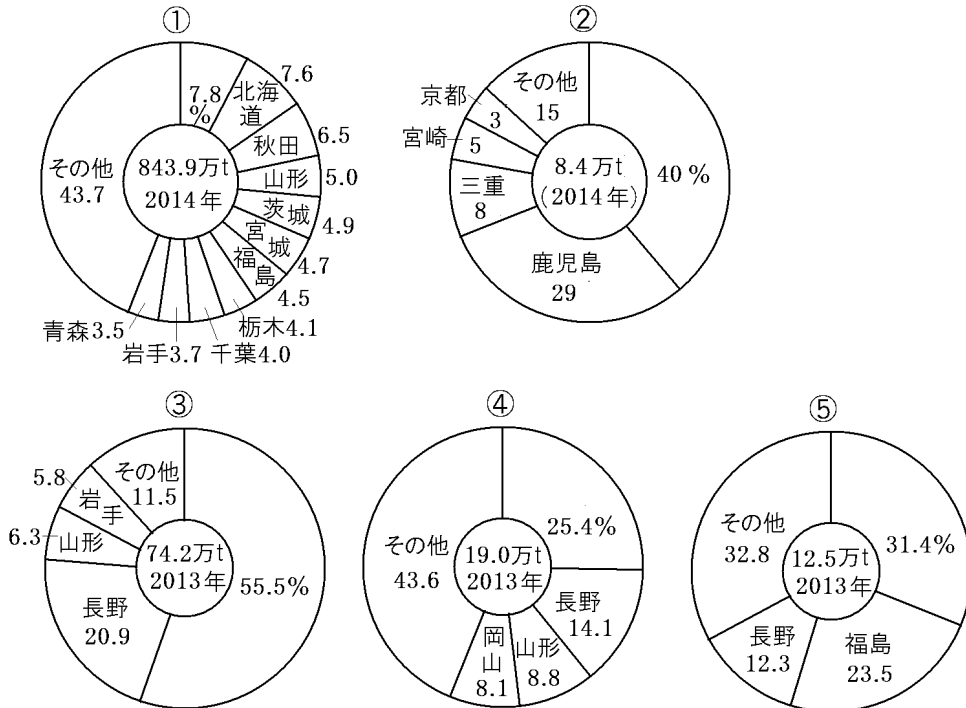


[問題 48](3 学期)

次の統計資料は[]の農産物の都道府県別生産割合を表したものである。各資料は第 1 位の都道府県名を削除している。各資料の農産物名を答えるとともに、第 1 位の都道府県名を答えよ。

[りんご 茶 ぶどう 米 もも]

米，新潟県
茶，静岡県
りんご，青森県
ぶどう，山梨県
もも，山梨県



[農業全般：各地域の農業の特色]

[問題 49](3 学期)

中部地方は、東海地方、中央高地、北陸地方の 3 つの地域に分けることができるが、それぞれの地方にもっともあてはまる農業の特徴の説明をア～ウから選べ。

- ア 水田が広がり、東北地方の農村に似ている特徴を持つ。
- イ 傾斜地や水はけの良い土地が多く、果樹や高原野菜の栽培がさかんである。
- ウ 花や野菜のビニールハウスなどでの栽培がさかんである。

東海地方：ウ

中央高地：イ

北陸地方：ア

[問題 50](後期期末)

次の文章は、中部地方の農業について述べたものである。～ にあてはまる語句を下の[]からそれぞれ選べ。

静岡県は日本 1 の()の生産地となっている。愛知県の知多半島や渥美半島では第 2 次世界大戦後に用水が引かれ、現在、メロンやきくの()農業がさかんになっている。中央高地は、盆地の周縁部の扇状地で()などの果樹栽培がさかんで、()狩りなどを行う()農園も数多くみられる。北陸地方の平野では、客土によって土を改良し、日本を代表する()作地帯となっている。

[なし 畑 施設園芸 観光 稲 ぶどう 茶 みかん
開放 輸送]

茶

施設園芸

ぶどう

観光

稲

[問題 51](3 学期)

次の ~ の地域の特色を説明するときのテーマは、ア～オのうちのどれになるか。それぞれ1つずつ選べ。

北陸 知多半島・渥美半島 甲府盆地

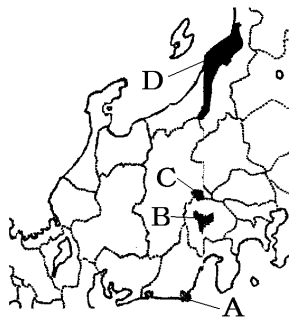
- ア 「養蚕づくりから果樹栽培へ。観光農園としての新しい発展」
- イ 「大都市向けの出荷がさかんなおいしい野菜づくりと水田単作」
- ウ 「冬の積雪と強風を乗り越え、日本1の果樹栽培を達成」
- エ 「客土による土地改良及び早場米などの工夫で、日本を代表する水田地帯へ」
- オ 「水不足を解消するために引かれた用水とさかんになった施設園芸農業」

エ
オ
ア

[問題 52](2 学期期末)

右の地図を見て、次の各問いに答えよ。

- (1) 地図中の A(牧ノ原), B(甲府盆地), C(野辺山原)で栽培がさかんな農産物を次の[]からそれぞれ選べ。
[ぶどう レタス 桑 茶]



- (2) 地図中の D などの北陸地方で、水田率(耕地に占める水田の割合)が高い理由を、「雪どけ水」「単作」という語句を使用して説明せよ。

(1)A 茶
B ぶどう
C レタス
(2) 雪におおわれる冬は農業ができないが、春になると豊富な雪どけ水を利用して稲作を行うことができるから。

[問題 53](2 学期中間)

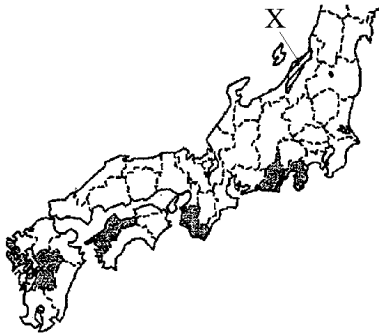
次の文を読んで、各問いに答えよ。


北陸地方の平野部では水田の割合が高く、米の生産が多い。中央高地は山地や山脈に囲まれた内陸にあり、果樹園や畑が多く、山梨県や長野県ではぶどうやももの生産が多い。東海地方の静岡県では台地がみられ、茶や(Y)の生産が多い。

(1) みかん

(2) 越後平野

(3) 扇状地




- (1) Y にあてはまる農産物の生産量上位 5 県の位置を、略地図に  で示している。Y にあてはまるものを、次の [] から 1 つ選べ。

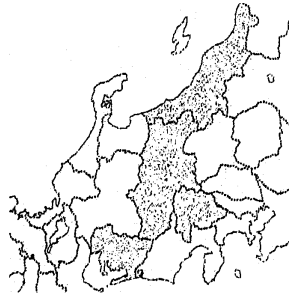
[さくらんぼ 日本なし りんご みかん]

- (2) 下線 について、略地図の X の平野名を書け。
- (3) 右の図は、下線 の甲府盆地東部の地形図である。この地形図に見られる特徴的な地形の名称を、漢字で書け。



[問題 54](後期中間)

次の表は、地図中に  で示した 4 つの県の農業生産額とその内訳を示したものである。表の A～D にあてはまる県名を答えよ。



- | |
|-------|
| A 新潟県 |
| B 愛知県 |
| C 長野県 |
| D 山梨県 |

	農業生産額(億円)	農業生産額の内訳(%) (2010年)					
		米	野菜	果実	花き	畜産	その他
A	2588	58.3	13.9	3.4	3.6	17.8	3.0
B	2976	10.9	34.9	6.8	18.6	25.3	3.5
C	2130	21.4	32.0	21.1	7.4	13.6	4.5
D	764	8.6	12.6	61.6	3.5	8.9	4.8

【】工業

[中京工業地帯：出荷額・出荷割合]

[問題 55](前期期末)

愛知県の名古屋市や豊田市を中心とする右図 X の地域に広がる，自動車などの機械工業の割合が高く，工業製品出荷額が日本 1 位の工業地帯の名前を書け。



中京工業地帯


[問題 56](2 学期中間)

次の帯グラフ A～D は，京浜工業地帯，中京工業地帯，阪神工業地帯，北九州工業地域のいずれかの工業の内訳と工業出荷額を示している。中京工業地帯のものを選り記号で答えよ。また，そのグラフを選んだ理由を「出荷額」「割合」という語句を使って簡単に説明せよ。

D

出荷額が一番多く，機械のしめる割合が高いから。

主な工業地帯・地域の産業別出荷額割合(2013年)



[中京工業地帯：自動車産業]

[問題 57](3 学期改)

愛知県を中心に広がる中京工業地帯では、右図の X の都市を中心に自動車工業がさかんで、輸送用機械工業の出荷額がしめる割合が非常に高い。完成した自動車は、付近を走る高速道路や、名古屋港に設けられた自動車専用の埠頭を活用して日本各地や世界の国々へ運ばれている。名古屋港で最も輸出額が多い輸出品は自動車である。X の都市名を答えよ。



豊田市

[問題 58](前期期末)

次の各問いに答えよ。

- (1) 右の地図の A の工業地帯は何というか。次の[] から選べ。

[中京工業地帯 阪神工業地帯
京浜工業地帯 愛知工業地帯]

- (2) 都市 X は、日本有数の「自動車の町」である。都市 X の名前を次の[]から選べ。

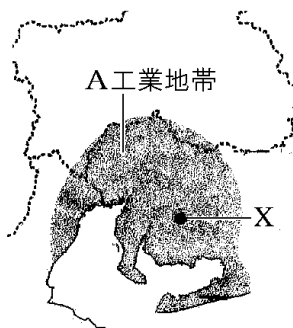
[名古屋市 豊田市 浜松市]

- (3) 中京工業地帯で最も出荷額が多い工業を次の[]の中から 1 つ選べ。

[電気機械工業 製紙・パルプ工業
輸送用機械工業 石油化学工業]

- (4) 名古屋港で最も輸出額が多い輸出品を次の[]の中から 1 つ選べ。

[鉄鋼 自動車 アルミニウム 綿織物]



(1) 中京工業地帯

(2) 豊田市

(3) 輸送用機械工業

(4) 自動車

[問題 59](前期期末)

次の各問いに答えよ。



ア	4192万t				
	完成自動車 29.0%	自動車 部品 16.0	産業 機械 9.1	鋼材 5.6	化学工業品 5.6
イ	5004万t				
	完成自動車 47.6%	自動車 部品 19.1	産業機械 4.5	鋼材 5.3	その他 23.5
ウ	2240万t				
	化学 工業品 20.1%	産業機械 18.9	完成自動車 9.5	電気機械 6.7	その他 36.4
	自動車部品 8.4				

- (1) せんい機械の会社が自動車をつくった後，自動車工業がさかんになった都市 X の名前を答えよ。
- (2) 資料ア～ウは，名古屋，神戸，横浜のいずれかの港の輸出品である。名古屋港にあてはまるものを選べ。
- (3) 中京工業地帯の自動車工場の立地の説明として誤っているものを次のア～エから 1 つ選べ。
 ア 東名高速道路沿いに工場が多く立地している。
 イ 組立工場の周辺に部品工場が多く立地している。
 ウ 名古屋市よりも豊田市に多く工場が立地している。
 エ 新幹線の線路沿いに多く組立工場が立地している。

- | |
|---------|
| (1) 豊田市 |
| (2) イ |
| (3) エ |

[問題 60](3 学期)

次の各問いに答えよ。

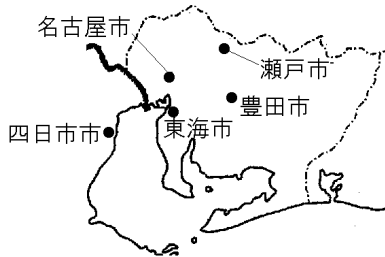
- (1) せんい機械の会社が自動車をつくった後，自動車工業がさかんになった中京工業地帯の都市名を書け。
- (2) 自動車工業のさかんな(1)の都市周辺には，部品をつくる()や下請け工場が進出している。完成した自動車は()や港を活用して各地へ輸送されている。文中の ， にあてはまる語句を書け。

- | |
|----------|
| (1) 豊田市 |
| (2) 関連工場 |
| 高速道路 |

[中京工業地帯：その他の工業]

[問題 61](3 学期)

下の ~ の各都市の名前を，次の地図中からそれぞれ 1 つずつ選べ。



四日市市

東海市

瀬戸市

石油化学コンビナートがある都市。

鉄鋼業がさかんな都市。

陶磁器やファインセラミックスの生産がさかんな都市。

[問題 62](3 学期)

次の各問いに答えよ。

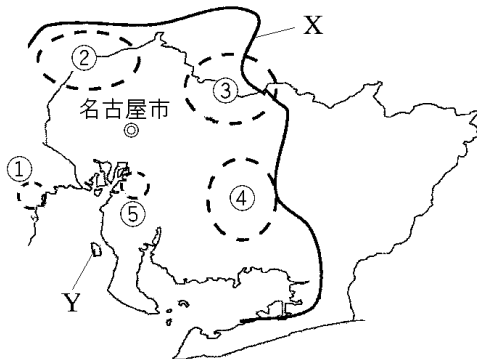
- (1) 伊勢湾の臨海部では，原料を海外からの輸入にたよっている工業がさかんである。あてはまる工業を 2 つ答えよ。
- (2) 地元でとれる土や陶磁器づくりの技術を生かして，瀬戸市や多治見市を中心とした地域でつくられている電子工業用などの磁器製品の名前をカタカナで書け。

(1) 石油化学工業，鉄鋼業(製鉄業)

(2) ファインセラミックス

[問題 63](2 学期中間)

次の各問いに答えよ。



- (1) 地図中の X は中部地方の代表的な工業地帯を示している。この工業地帯名を書け。
- (2) 地図中の ① ～ ⑤ は、(1) の工業地帯の中で特にどんな工業がさかんな地域をあらわしているか。次の A ～ E からそれぞれ選べ。
- A 鉄鋼業のさかんな地域
 - B 自動車などの機械工業のさかんな地域
 - C 石油化学工業のさかんな地域
 - D 陶磁器やファインセラミックスの生産がさかんな地域
 - E 毛織物業のほかに電機・機械工業もさかんである地域
- (3) 地図中の Y は 2005 年に開港した国際空港(愛称:セントレア)を示している。この国際空港の正式名を答えよ。

(1) 中京工業地帯

(2) C

E

D

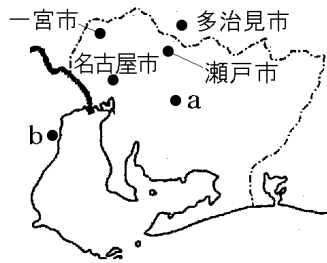
B

A

(3) 中部国際空港

[問題 64](2 学期中間)

右の地図を見て、各問いに答えよ。



- (1) 愛知県・三重県・岐阜県にまたがる工業地帯を何というか。
- (2) 自動車工業がさかんな a の都市名を書け。
- (3) (2)の都市でかつて生産がさかんであった工業製品を、次の[]から選べ。
[陶磁器 綿織物 食品 楽器]
- (4) 地図中の瀬戸市でつくられているものは何か。次の[]から選べ。
[陶磁器 綿織物 食品 楽器]
- (5) b では石油化学工業が発達したが、公害が発生した。この都市名を書け。

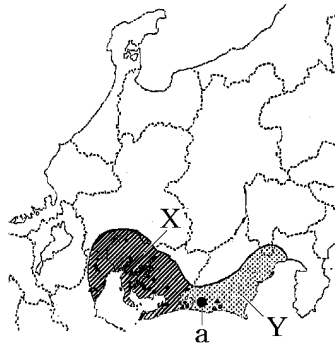
- | |
|------------|
| (1) 中京工業地帯 |
| (2) 豊田市 |
| (3) 綿織物 |
| (4) 陶磁器 |
| (5) 四日市市 |

[東海工業地域]

[問題 65](後期中間)

次の各問いに答えよ。

- (1) 右の地図中の X の工業地帯と Y の工業地域の名前をそれぞれ答えよ。
- (2) 地図の Y の工業地域にある a は、オートバイや楽器の生産がさかんな工業都市である。この都市名を、次の[]から選べ。
[静岡市 浜松市 富士市]



- | |
|-------------|
| (1)X 中京工業地帯 |
| Y 東海工業地域 |
| (2) 浜松市 |

[問題 66](3 学期)

次の各問いに答えよ。

- (1) 名古屋市を中心とする日本最大の工業地帯を何と
いうか。
- (2) 浜松市など静岡県沿岸部に広がる工業地域を何
と
いうか。
- (3) (2)の工業地域に含まれる都市と生産品を正しく組
み
合わせているものを、次のア～ウから 1 つ選べ。
ア 浜松市の楽器・オートバイ
イ 豊田市の自動車
ウ 瀬戸市・多治見市の陶磁器・ファインセラミッ
クス

(1) 中京工業地帯

(2) 東海工業地域

(3) ア

[問題 67](3 学期)

次の各問いに答えよ。

- (1) 東海工業地域の主要な工業都市である浜松市で生
産がさかんな製品を次の[]から 2 つ選べ。
[鉄鋼 オートバイ 楽器 食器]
- (2) 東海工業地域が広がる県を 1 つ書け。

(1) オートバイ, 楽器

(2) 静岡県

[問題 68](2 学期中間)

東海工業地域について、次のア～エの中でまちがっているものを 1 つ選べ。

- ア 天竜川から運ばれる木材資源を使って発展した木工業の技術が、浜松などの楽器の製造に生かされている。
- イ 第二次世界大戦中、浜松市周辺の楽器などの工場は、軍用の飛行機部品工場にかわったが、戦後はその技術を生かして、オートバイを製造する企業が成長した。
- ウ 富士川の豊富な水資源を生かして、下流の富士市では、製紙・パルプ工業が発展してきた。
- エ 第二次世界大戦中に京浜から移転してきた時計・カメラなどの工場が増え、精密機械工業が発達した。中央高速道路によって材料や製品の輸送が便利になり、IC をつくる工場も増えている。

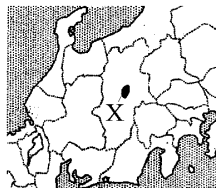
工

[諏訪盆地]

[問題 69](2 学期期末)

地図中の X の諏訪盆地で発展した [] の工業を、時代順に並べよ。

[電気機械 製糸 精密機械]



製糸 精密機械 電気機械

[問題 70](前期期末)

諏訪盆地の工業について説明した、次の文の、 にあてはまる語句を、下の [] から 1 つずつ選べ。

諏訪湖の周辺地域では、かつて養蚕がさかんで、工場の動力になる水も豊富に得られたため、製糸業が発達した。第二次世界大戦後は、時計などをつくる()工業が発達していたが、1980 年代からの高速道路の整備によって IC などの()工業にとって代わられた。

[電気機械 輸送機械 精密機械 生産用機械]

精密機械
電気機械

【】北陸の地場産業など

[北陸の地場産業]

[問題 71](3 学期改)

北陸地方では、雪が多く農作業ができない冬の間の副業として、小千谷ちぢみ・輪島塗・加賀友禅などの伝統的工芸品をつくる伝統産業、富山の売薬、鯖江市の眼鏡フレームなど地域の特色を生かした産業が発達した。このような産業をあわせて何というか。

地場産業

[問題 72](3 学期)

次の文の ~ に適語を入れよ。

中部地方の日本海側の地域は冬に()が多いため、冬の間には副業がさかんに行われ、地域の特色を生かした()産業が発達した。()産業の中には、古くからの技術を生かしてつくられる()品を製造する伝統産業も数多くある。

雪

地場

伝統的工芸

[問題 73](後期期末)

次の各問いに答えよ。

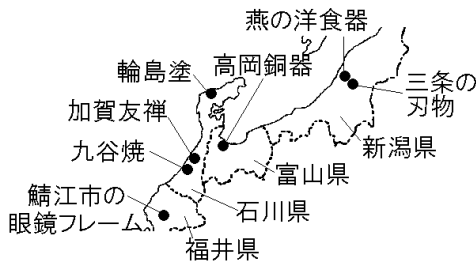
- (1) 「眼鏡フレーム(鯖江市)」「輪島塗(輪島市)」「小千谷ちぢみ(小千谷市)」のような、その地域に根づいた産業のことを何というか。
- (2) 北陸地方で(1)のような産業がさかんな理由を「雪」「副業」という2つの語句を使って説明せよ。

(1) 地場産業

(2) 雪が多く農作業ができない冬の間の副業として発達したから。

[問題 74](3 学期)

次の資料を参考にして、なぜ北陸に伝統的工芸品が多いのか、説明せよ。



雪が多く農作業ができない冬の間の副業として発達したから。

[問題 75](3 学期)

次の[]の中で、日本海側の地域で冬の副業から発達した地場産業ではないものを 1 つ選べ。

- [薬(富山市) 輪島塗(輪島市) ピアノ(浜松市)
眼鏡フレーム(鯖江市)]

ピアノ(浜松市)

[問題 76](前期期末)

次の[]のうち、北陸の伝統的工芸品ではないものはどれか。1 つ選べ。

- [九谷焼 南部鉄器 小千谷ちぢみ 高岡銅器]

南部鉄器

[問題 77](前期期末)

次の ~ の文は、ある県について説明したものである。どの県の説明か、それぞれ[]から選べ。

メガネのフレーム作りがさかんで、国内生産の約 9 割をしめている。

輪島塗や九谷焼、金沢箔などの伝統的工芸品が有名である。

冬の間の副業から小千谷ちぢみが発達した。

- [福島県 石川県 新潟県 福井県 富山県]

福井県
石川県
新潟県

[その他]

[問題 78](前期期末)

富山県では、()発電による電力を利用してアルミニウムなどの金属加工業がさかんである。()にあてはまる語句を次の[]の中から選べ。

[火力 水力 原子力 太陽光]

水力

[問題 79](3 学期)

右の地図中の若狭湾沿岸に多いのは何という発電所か。



原子力発電所

[問題 80](3 学期)

1980 年代、北陸地方では日本海周辺の国々との交流をはかり、ともに発展しようとする構想が生まれた。この構想を何というか。

環日本海経済圏構想

【】都市・その他

[問題 81](3 学期)

中部地方について、次の各問いに答えよ。

- (1) 名古屋市の周辺には、経済、文化などで名古屋市と強く結ばれる都市が点在している。これらの都市が形成している都市圏を何というか。
- (2) 名古屋市・静岡市・浜松市・新潟市は、都道府県にかわって福祉や行政などの多くの事務を行うことができる指定された都市である。このような都市を何というか。

(1) 名古屋大都市圏

(2) 政令指定都市

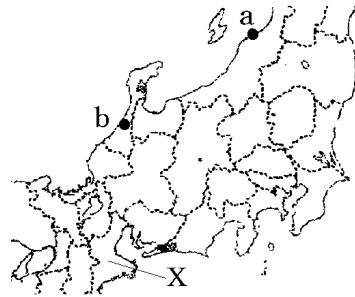
[問題 82](2 学期期末)

次の各問いに答えよ。

- (1) 次の文中の()にあてはまる語句を漢字 1 字で書け。

中部地方の東海・北陸・中央高地の 3 つの地域は、昔は 3 つの()に属していたため、まとまりはあまり強くなかった。

- (2) 県の北部が名古屋大都市圏に含まれる、右の地図中の X は何県か。
- (3) 地図中の a, b の都市は、北陸の中心的な役割をもつ都市である。このような都市のことを何というか。
- (4) a, b の都市名を書け。
- (5) b は、大名のつくった城を中心に発展した。このような都市のことを何というか。



(1) 道

(2) 三重県

(3) 地方中枢都市

(4)a 新潟市

b 金沢市

(5) 城下町

[問題 83](前期中間)

山梨県や長野県などは中部地方に属するが、生活や文化面では関東地方とのつながりが強い。それはなぜだと考えられるか。次の[]の 3 つの語句を用いて説明せよ。

[鉄道 東京 高速道路]

東京とは鉄道や高速道路で結ばれており、比較的短時間で行き来できるから。

【】中部全般

[問題 84](3 学期など)

次の各問いに答えよ。

(1) 地図 1 中の A～D

にあてはまる地形名を書け。

(2) 地図 1 中の X, Y, Z

の 3 つの山脈をあわせて何というか。

(3) 静岡県, 山梨県に

またがり, 2013 年に世界遺産に登録された日本で一番標高が高い地図 1 中の E の山を何というか。

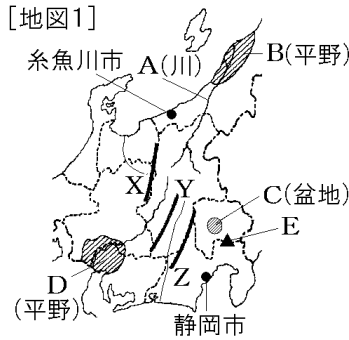
(4) 地図 1 中の糸魚川市と静岡市を結ぶ線は, 地面が大きく落ち込んだみぞ状の地形の, 西の縁となっている。このみぞ状の地形を何というか。

(5) 中部地方を 3 つの区域に分

けたとき, 地図 2 中の A～C にあてはまる地域名をそれぞれ答えよ。

(6) 次の ~ の雨温図にあ

てはまる都市を, 地図 2 中のア～ウから 1 つずつ選べ。



(1)A 信濃川

B 越後平野

C 甲府盆地

D 濃尾平野

(2) 日本アルプス

(3) 富士山

(4) フォッサマグナ

(5)A 北陸地方

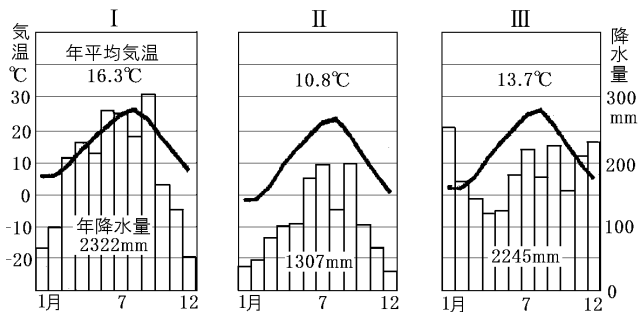
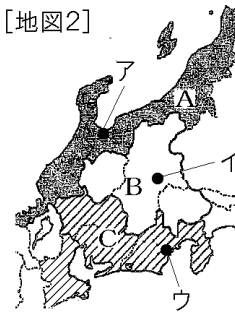
B 中央高地

C 東海地方

(6) :ウ

:イ

:ア



(7) 地図 3 中の ~ でさかなな農業を次のア～エからそれぞれ選べ。

ア 野菜の抑制栽培

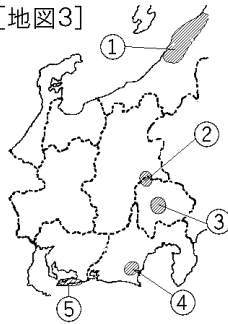
イ メロンやきくの施設園芸農業

ウ 日本を代表する稲作地帯

エ ぶどうやももなどの果樹栽培

オ 茶の栽培

[地図3]



(8) 愛知県を中心とする工業地帯の名前を書け。

(9) かつてはせんい工業がさかんであったが、今日では日本を代表する自動車工業都市になった(8)の工業地帯の中の都市はどこか。

(10) 東海工業地域に属する都市で、二輪車、ピアノなどの生産がさかんな都市はどこか。

(11) 「眼鏡フレーム(鯖江市)」「輪島塗(輪島市)」「小千谷ちぢみ(小千谷市)」のような、その地域に昔から根付いた産業のことを何というか。

(7) ウ

ア

エ

オ

イ

(8) 中京工業地帯

(9) 豊田市

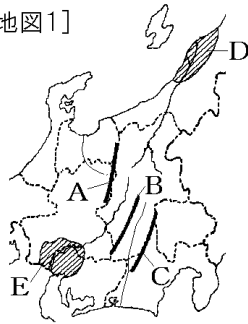
(10) 浜松市

(11) 地場産業

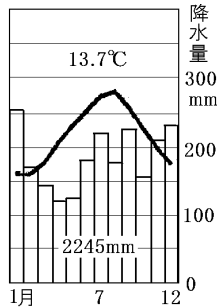
[問題 85](前期中間など)

次の各問いに答えよ。

[地図1]






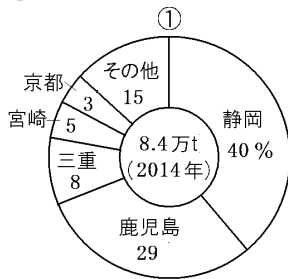


- (1) 資料中の A～C の山脈，
D，E の平野をそれぞれ何というか。
- (2) E の平野の西部には家
や農地を洪水の被害か
ら守るため，村の外側
を高い堤防で囲む集落がかつ
て作られた。これを何というか。
- (3) 中部地方をさらに細かく分け
たときに，日本海側を()
地方，太平洋側を()地方，
内陸部を()という。
- (4) 右上の雨温図は，(3)の ， ，
のどの地域のものが。
- (5) 次の ～ は農作物の県別生産の割合を示したも
のである。それぞれの農作物名を次の[]の中か
ら選べ。



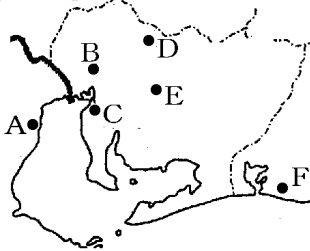
(1)A 飛驒山脈
B 木曾山脈
C 赤石山脈
D 越後平野
E 濃尾平野
(2) 輪中
(3) 北陸
東海
中央高地
(4)
(5) 茶
米
みかん
りんご
ぶどう
もも

[りんご みかん ぶどう 米 茶 もも]



- (6) 次の ~ の都市の位置を地図 2 中の A~F からそれぞれ選べ。また、その都市名を下の[]の中からそれぞれ選べ。

[地図2]



オートバイや楽器の生産がさかんである。

陶磁器やファインセラミックスの生産がさかんである。

愛知・岐阜・三重・静岡に広がる大都市圏の中心都市である。

せんい工業から日本を代表する自動車工業都市になった。

[多治見市 豊田市 名古屋市 東海市 四日市市
瀬戸市 浜松市]

- (7) 地図 2 の A ~ E の都市が含まれる日本最大の工業地帯名を書け。
- (8) 次の文章中の ~ に適語を入れよ。

中部地方の日本海側の地域は冬に()が多いため、冬の間副業がさかんに行われており、地域の特色を生かした()産業が発達した。また、加賀友禅や越前和紙など()品を製造している地域も多くある。

(6) F, 浜松市

D, 瀬戸市

B, 名古屋市

E, 豊田市

(7) 中京工業地帯

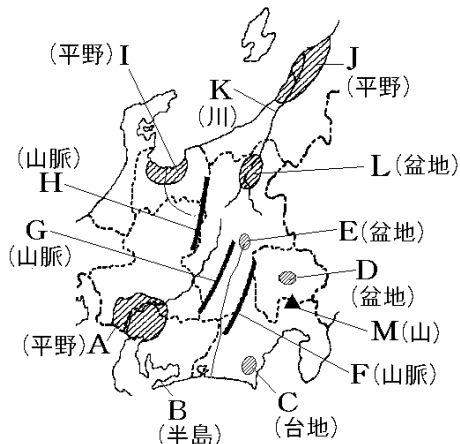
(8) 雪

地場

伝統的工芸

[問題 86](3 学期など)

次の各問いに答えよ。




- 上の地図中の A ~ M の地形名を答えよ。
- 上の地図を見て、次の文章中の ~ に適語を入れよ。

()県にある地図中の B の半島では()の花をビニールハウスで栽培する()園芸農業がさかんである。静岡県は()の生産量が日本一で、C の台地などで栽培されている。()県の D 盆地の扇状地では、()やももなどの収穫体験ができる()農園が見られる。

- 中央高地では、高原野菜を夏に出荷している。その理由を「出荷量」「価格」の語句を用いて説明せよ。
- 次のグラフ A ~ D は、京浜工業地帯、中京工業地帯、阪神工業地帯、北九州工業地域のいずれかの工業の内訳と工業出荷額を示している。中京工業地帯のものを選び記号で答えよ。

主な工業地帯・地域の産業別出荷額割合(2013年)



(1)A 濃尾平野
B 渥美半島
C 牧ノ原台地
D 甲府盆地
E 諏訪盆地
F 赤石山脈
G 木曾山脈
H 飛騨山脈
I 富山平野
J 越後平野
K 信濃川
L 長野盆地
M 富士山
(2) 愛知
きく
施設
茶
山梨
ぶどう
観光
(3) 他の産地の野菜の出荷量が少ない時期に出荷できるため、高い価格で販売することができるから。
(4) D

- (5) 知多半島にある国際空港の名前を答えよ。
- (6) 名古屋市の周辺には、経済、文化などで名古屋と強く結ばれた都市が点在している。これらの都市が形成している都市圏を何というか。
- (7) 中部地方では4つの都市が指定されている、区を設置できる都市を何というか。
- (8) 若狭湾沿岸に多い発電所を次の[]から1つ選べ。
[水力発電所 火力発電所 原子力発電所]
- (9) 鯖江市が国内生産の9割をしめる工業製品は何か。
- (10) 北陸地方に伝統産業が発達した理由を次の語句を使って説明せよ。
[冬 副業]

(5) 中部国際空港
(6) 名古屋大都市圏
(7) 政令指定都市
(8) 原子力発電所
(9) 眼鏡フレーム
(10) 北陸地方は雪が多く、冬の期間の副業として発達した。