

【】 第一次世界大戦と日本

【】 第一次世界大戦

[三国同盟と三国協商]

[問題 1](前期中間)

19世紀末に強国として台頭したドイツは、オーストリアやイタリアと三国同盟を結んだ。これに対し、ドイツと対立関係にあった、フランス、ロシア、イギリスは何という同盟を結んでドイツに対抗したか。

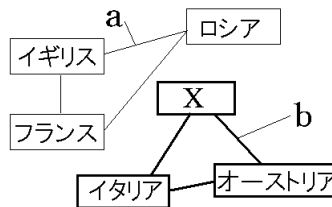
[問題 2](3 学期)

第一次世界大戦前の情勢について、次の各問いに答えよ。

(1) 右図の a の三か国の軍事的結びつきを何というか。

(2) 右図の X にあてはまる国名を答えよ。

(3) 右図の b の三か国の軍事的な結びつきを何というか。



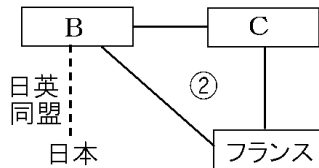
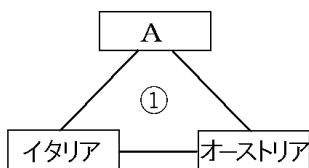
(1)

(2)

(3)

[問題 3](1 学期期末)

次の図は第一次世界大戦が始まる前の国際関係を示したものである。①、②に適する同盟関係を、A～C には適する国名を書け。



①



②

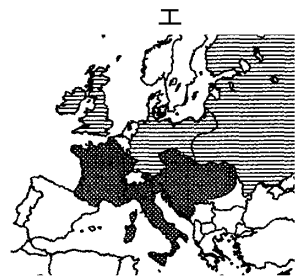
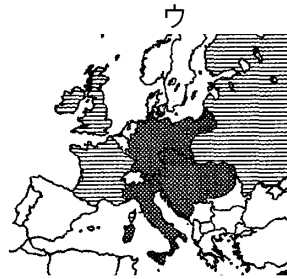
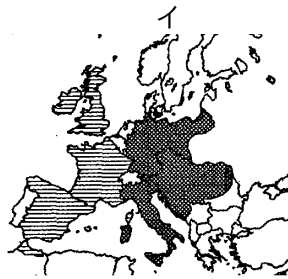
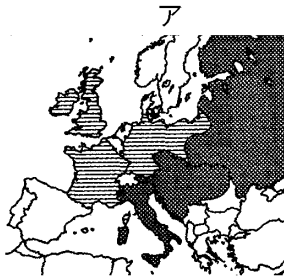
A

B

C

[問題 4](入試問題)

三国協商国を , 三国同盟国を  であらわした図として正しいものを次のア～エより 1 つ選び、記号で答えよ。



(沖縄県)

[問題 5](1 学期期末)

次の文章中の①～⑤に適する国名を答えよ。

19 世紀、急速に工業化を進めた(①)は、海軍を増強して世界各地に進出しようとした。このため、すでに強力な海軍を保有し、インドなどアジアへも植民地支配を広げていた(②)と対立するようになった。(①)が、イタリア、(③)と三国同盟を結ぶと、これに対抗して、(②)はフランス、(④)と三国協商を結んだ。一方、バルカン半島では、(⑤)の支配が弱まったため、南下政策をとって半島に進出しようとしていた(④)と、半島に勢力をのぼそうとする(③)が対立していた。(④)はセルビア人など同じスラブ民族への影響力を拡大しようとしたのに対して、(③)は同じゲルマン民族である(①)の助けをかりて半島に勢力をのぼそうとしていた。

①
②
③
④
⑤

[バルカン半島]

[問題 6](前期期末)

列強の利害と民族の対立がからまって「ヨーロッパの火薬庫」と呼ばれていた①半島名を答えよ。
②また、その位置を右の地図中のア～エから 1 つ選べ。



①
②

[問題 7](後期期末)

次の文中の①, ②に適語を入れよ。

20 世紀初め, 右図 X の(①)半島は, 列強の利害と民族の対立がからまって, 国際紛争の火種となったことから, (②)と呼ばれていた。



①
②

[問題 8](1 学期期末)

次の文章中の①～⑥に適語を入れよ。

第一次世界大戦前のヨーロッパは, (①)・オーストリア・イタリアの三国が(②)という同盟を結び, (③)・フランス・ロシアの三国は(④)という同盟を結んでいた。この 2 つの陣営の対立に民族の対立が加わって, (⑤)半島は, ちょっとした衝突から大きな戦争に発展する危険な状態にあった。こうしたことから, (⑤)半島はヨーロッパの(⑥)と呼ばれた。

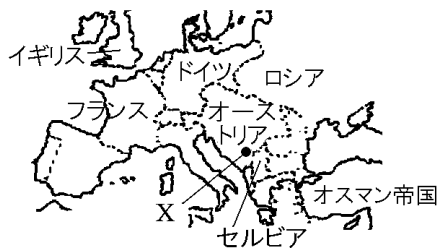
①
②
③
④
⑤
⑥

[第一次世界大戦の勃発]

[問題 9](1 学期中間)

次の文中の①, ②に適語を入れよ。

第一次世界大戦は, セルビア人の青年が, (①)という国の皇位継承者夫妻を, 右図 X の (②)で暗殺したことがきっかけで始まった。



①
②

[問題 10](2 学期期末)

次の文中の①～④に適語を入れよ。

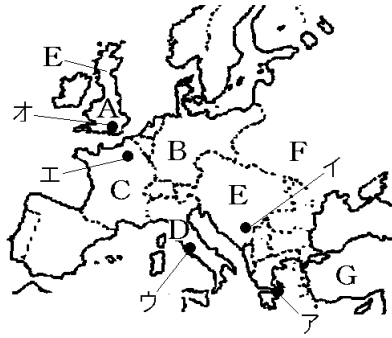
1914 年の夏, (①)の皇位継承者夫妻が(②)人の青年に(③)で暗殺される(③)事件が起こった。これをきっかけとして, オーストリア, ドイツ, オスマン帝国の同盟国側と, イギリス, フランス, ロシア, 日本, アメリカ, イタリアの(④)側の間で, 第一次世界大戦が始まった。

①
②
③
④

[問題 11](後期中間)

次の各問いに答えよ。

- (1) 当時「ヨーロッパの火薬庫」と呼ばれていたバルカン半島における対立から起こった戦争は何か。
- (2) (1)の戦争が始まったのは何年か。
- (3) (1)の戦争は、①どこの国の皇位継承者夫妻が、②何という都市で暗殺されたことがきっかけでおこったか。③②の都市を図のア～オから選べ。④また、暗殺を実行したのは何という国の青年か。
- (4) 図の A～G を①連合国側と、②同盟国側に分けよ。
- (5) A の国との同盟を理由に参戦した国はどこか。
- (6) はじめは中立の立場をとっていたが、1917年に連合国側に立って参戦した国はどこか。



(1)
(2)
(3)①
②
③
④
(4)①
②
(5)
(6)

[総力戦・新兵器]

[問題 12]

第一次世界大戦では、戦車、飛行機、潜水艦、毒ガスなどの新兵器が使われた。戦いは各国がその国の国民、経済、科学技術、資源などをすべて使い果たして戦う(X)戦になった。働き手が不足したため、女性も兵器工場などで働いた。戦死者数は約 850 万人とそれまでに例を見ない悲惨なものになった。文中の X に適語を入れよ。

[問題 13](前期中間)

第一次世界大戦について述べた①～④の文で、正しいものには○、まちがっているものには×を書け。

- ① 国の経済や資源などを総動員して戦う総力戦になった。
- ② 戦車、飛行機、毒ガス、潜水艦などの新兵器が使用された。
- ③ 働き手が不足したため、女性も兵器工場などで働いた。
- ④ 戦場はヨーロッパに限られたので、犠牲者は少なかった。

①
②
③
④

[問題 14](1 学期期末)

次の各問いに答えよ。

- (1) 第一次世界大戦のように、各国がその国の国民、経済、科学技術、資源などをすべて使い果たして戦う戦争を何というか。
- (2) 第一次世界大戦で使用された新兵器を 4 つ答えよ。

(1)

(2)


[問題 15](1 学期中間)

第一次世界大戦がそれまでの戦争と異なっている点を述べた文として当てはまらないものを次のア～エから 1 つ選び、記号で答えよ。

- ア 毒ガスなどの新兵器が使われた。
- イ 最前線でざんごう戦が行われた。
- ウ 国の経済や資源を総動員し、すぐに決着した。
- エ 女性が兵器工場に動員された。

[問題 16](1 学期期末)

次の写真は、第一次世界大戦の戦闘や社会の様子を写したものである。この写真が表す、第一次世界大戦の特色を 2 つ簡単に説明せよ。



【】日本の参戦

[日本の参戦]

[問題 17](1 学期期末改)

第一次世界大戦が始まると、日本は何という同盟を根拠に、連合国側に加わって参戦して右図の山東半島にあるドイツの根拠地を攻撃したか。同盟の名前を答えよ。



[問題 18](後期期末)

次の文の①, ③に適語を入れ, ②は()内より適語を選べ。

第一次世界大戦が始まると、日本は(①)同盟を根拠に②(同盟国/連合国)側にとって参戦し、中国の山東半島にある(③)(国名)の拠点を攻撃した。

①
②
③

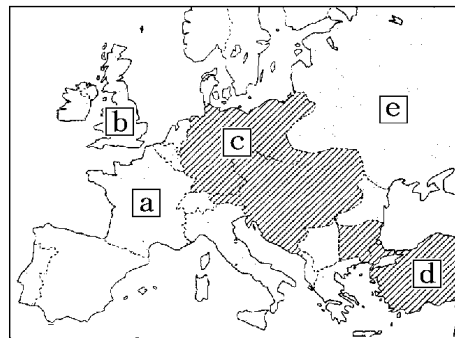
[問題 19](1 学期中間)

第一次世界大戦のときの日本について、次の各問いに答えよ。

(1) 日本は、何という同盟を根拠として参戦したか。

(2) (1)の同盟は日本と何という国の同盟か。

(3) (2)の国を地図中の a ~d から 1 つ選び、記号で答えよ。



(4) 日本は、連合国側, 同盟国側のどちらに立って参戦したか。

(5) 日本は、この戦争で主にどの国と戦ったか。

(6) (5)の国を地図中の a~d から 1 つ選び、記号で答えよ。

(7) 日本は中国の()半島にある(5)の国の根拠地を攻撃した。()に適語を入れよ。

(1)
(2)
(3)
(4)
(5)
(6)
(7)

--

[二十一か条の要求]

[問題 20](1 学期期末)

1915 年に、日本政府が次の資料の内容を含む文書を中華民国の袁世凱政府につきつけた。この文書を何とつか。その名称を書け。

- 一、中国政府は、ドイツが山東省にもっているいっさいの権利を日本にゆずる。
- 一、日本の旅順・大連の租借の期限、南満州鉄道の期限を 99 か年延長する。

[問題 21](前期中間)

次の資料を読んで、後の各問いに答えよ。

- 一 中国政府は、(①)(国名)が(②)省にもっているいっさいの權益を日本にゆずる。
 - 一 日本の旅順・大連の租借の期限、南満州鉄道の期限を 99 か年延長する。
- (1) 上の資料は 1915 年、日本から中華民国の袁世凱政府に提出された文書の一部である。その文書の名称を答えよ。
- (2) 資料の①、②に適語を入れよ。

[問題 22](3 学期)

次の資料は、第一次世界大戦中の 1915 年に、日本が中国に示した要求の一部である。

これについて、後の各問いに答えよ。

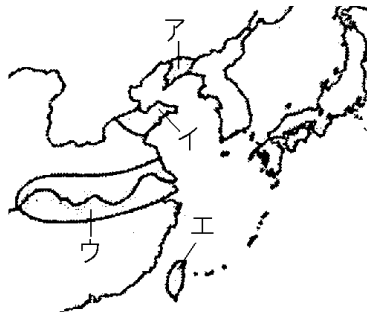
- 一 中国政府は、ドイツが(①)省にもっている
いっさいの権益を日本にゆずる。
- 一 日本の(②)・大連の租借の期限、(③)鉄道
の期限を 99 か年延長する。

- (1) この要求を何というか。
- (2) 資料の①～③にあてはまる語句をそれぞれ書け。
- (3) 資料の(①)省は右図のア～エのどこか。

- (4) 資料の(②)・大連は右図の
ア～エのどこにあるか。

- (5) この要求が出されたとき
の中国の国名を答えよ。

- (6) (4)の国の大総統であっ
たのは誰か。



- (7) (1)の要求を中国政府にほぼ認めさせることができた背景
は何か。「第一次世界大戦」「影響力」という語句を使って
書け。

(1)
(2)①
②
③
(3)
(4)
(5)
(6)
(7)

【】 ロシア革命

[ロシア革命]

[問題 23](1 学期中間改)

次の文章中の①，②に適語を入れよ。

戦争が長引くにつれ，ロシア国内では国民の生活が苦しくなり，労働者のストライキや兵士の反乱が続き，かれらの代表会議(ソビエト)が各地に設けられた。こうした中，1917年に右図の(①)を指導者とする(②)革命が起こった。この革命政府は，史上初の社会主義の政府であった。



①

②

[問題 24](1 学期中間)

次の資料を見て，後の各問いに答えよ。

言葉の時は過ぎ去った。全ロシア(A)大会は，ぜひとも自己の手に権力をとり，人民に平和と土地とパンを保証すべきである。革命と人民を救うためにはそれが必要である。権力を(A)に。全戦線における即時休戦。土地を農民に。

- (1) 文章中の A はロシア語で「会議」という意味である。A にあてはまる語句を答えよ。
- (2) この革命の名称を答えよ。
- (3) (2)を指導した人物の名前を答えよ。
- (4) (2)によって()主義を唱える世界で最初の政府ができた。()に適語を入れよ。

(1)

(2)

(3)

(4)

[シベリア出兵]

[問題 25](1 学期期末)

次の文章中の①，②に適語を入れよ。

ロシア革命による社会主義の影響が拡大することをおそれて，イギリス，フランス，アメリカ，日本などが軍隊を派遣したが，このことを(①)出兵という。ロシアの革命政府は，内戦と列強の干渉戦争を切り抜け，1922年には，(②)社会主義共和国連邦(略称はソ連)を樹立した。

①

②

[問題 26](2 学期中間)

次の文章中の①～④に適語を入れよ。

連合側に立って参戦したロシアでは、(①)を指導者とするロシア革命がおこり、ドイツと単独講和条約を結び戦争から離脱した。(②)主義の影響が拡大することをおそれたイギリス、フランス、アメリカ、日本は(③)出兵を行った。ロシアの革命政府は、内戦と列強の干渉戦争を切り抜け、1922年には、(④)(略称はソ連)を樹立した。

①
②
③
④

[問題 27](1 学期期末)

次の各問いに答えよ。

- (1) 第一次世界大戦中、ロシアで革命がおこった。①何という革命か。②また、その革命の指導者を答えよ。
- (2) (1)に対して、イギリス、フランス、アメリカ、日本は軍隊を送って干渉を行った。これを何というか。
- (3) イギリス、フランス、アメリカ、日本が(2)を行った理由を「影響」という語句を使って簡単に説明せよ。
- (4) 内戦と(1)を切り抜け、1922年に誕生した社会主義国の正式名称を答えよ。

(1)①
②
(2)
(3)
(4)

[問題 28](入試問題)

次のア～エのことがらを、年代の古い順に並べ、符号で書け。

- ア 日本、アメリカ、イギリス、フランスは、シベリア出兵を開始した。
- イ オーストリアがセルビアに宣戦し、第一次世界大戦が起こった。
- ウ ロシアでレーニンの指導のもと、ロシア革命がおこった。
- エ ソビエト社会主義共和国連邦が成立した。

(岐阜県改)

【】 ベルサイユ条約・国際連盟

[ベルサイユ条約]

[問題 29](2 学期中間改)

次の文章中の①，②に適語を入れよ。

1918年にドイツが降伏し，1919年にフランスのパリ(右図)で講和会議が開かれ，
(①)条約が結ばれた。この条約で，ドイツは多額の賠償金や軍備縮小を課され，植民地を失い領土を縮小された。この講和会議で，アメリカ大統領のウィルソンは，植民地支配を受けている民族が独立し，自分たちで自立すべきという民族(②)の原則を唱えた。東ヨーロッパでは多くの小国が独立した。



①
②

--

[問題 30](後期中間)

次の各問いに答えよ。

- (1) 第一次世界大戦の講和会議が開かれたフランスの都市はどこか。
- (2) 第一次世界大戦の講和会議で結ばれた条約は何か。
- (3) (2)の条約で，巨額の賠償金や軍備縮小などを課せられた国の名前を書け。
- (4) 第一次世界大戦の講和会議でアメリカ大統領のウィルソンは植民地支配を受けている民族が独立し，自分たちで自立していくべきであるという理念を唱えた。この考え方を何というか。

(1)
(2)
(3)
(4)

--

[問題 31](1 学期期末)

右の地図を見て、次の各問いに答えよ。

- (1) 第一次世界大戦の講和会議が開かれた都市を右の地図中の A～D から 1 つ選び、記号と都市名を書け。



- (2) 第一次世界大戦の講和会議で結ばれた条約は何か。

- (3) (2)の条約の内容として誤っているものを次のア～オから 1 つ選べ。

- ア ドイツは巨額の賠償金を課せられた。
- イ ドイツは軍備の縮小を課せられた。
- ウ ドイツはすべての植民地を失った。
- エ ドイツの領土自体は戦前と同じとされた。
- オ 日本は、ドイツから山東半島の利権を引きついだ。

- (4) 第一次世界大戦の講和会議で、植民地支配を受けている民族が独立し、自分たちで自立していこうという理念が唱えられた。①これを何というか。②①を主張したアメリカ大統領は誰か。

- (5) 戦後、多くの小さな国が独立したのは次の[]のどの地域か。1 つ選べ。

[東ヨーロッパ 西ヨーロッパ 南ヨーロッパ
北ヨーロッパ]

(1)
(2)
(3)
(4)①
②
(5)

[国際連盟の誕生]

[問題 32](1 学期期末改)

次の文章中の①, ②に適語を入れよ。

1920 年、アメリカ大統領の(①)(右図)の提案にもとづき、世界平和と国際協調のための組織として(②)がつけられた。(②)の本部はスイスのジュネーブにおかれ、日本は、イギリス・フランス・イタリアとともに 4 常任理事国の 1 つになった。また、新渡戸稲造が国際連盟本部の事務局次長として活躍した。



①
②

[問題 33](1 学期中間)

第一次世界大戦後、二度と同じ悲劇を繰り返さないために、アメリカ大統領が世界平和と国際協調のための組織をつくることを提案した。

(1) 提案を行ったアメリカ大統領の名前を答えよ。

(2) この結果設立された組織の名前を答えよ。

(3) (2)の本部はスイスの何という都市に置かれたか。

(4) (2)の本部の事務局次長をつとめた右図の日本人は誰か。



(1)
(2)
(3)
(4)

--

[問題 34](2 学期中間)

次の文章中の①～⑦に適語を入れよ。

1920年、(①)(国名)の(②)大統領の提案にもとづき、世界平和と国際協調のための(③)が誕生した。日本は、(④), フランス, イタリアとともに常任理事国となった。(③)の本部は(⑤)(都市名)に置かれた。また、日本人の(⑥)は(③)本部の事務局次長をつとめた。しかし、(①)自身が議会の反対で参加しなかったうえ、(⑦)やソビエト政府が除外されていた。さらに、平和を維持するための強制力をもたなかったため、世界平和を保つためには力不足であった。

①
②
③
④
⑤
⑥
⑦

[問題 35](前期期末)

次の各問いに答えよ。

- (1) 国際連盟はどこに本部が置かれたか。①国名と、②都市名を書け。③また、その国の位置を右の地図中から選べ。
- (2) 国際連盟を提唱したのは、①何という国の、②何という大統領か。
- (3) 常任理事国の4国をすべて答えよ。
- (4) 国際連盟本部で、事務局次長として活躍した日本人は誰か。
- (5) 国際連盟が設立された目的を簡潔に書け。
- (6) 国際連盟は平和維持のために機能しなかった。その理由を、3つの国名と「強制力」という語句を使って説明せよ。



(1)①
②
③
(2)①
②
(3)
(4)
(5)
(6)

[問題 36](入試問題)

1920年に、世界平和と国際協調を目指して国際連盟が設立された。次の資料は、アメリカ、イギリス、イタリア、ドイツ、日本、フランスの国際連盟への加盟状況を示したものである。資料の中のア～エには、アメリカ、ドイツ、日本、フランスのいずれかが当てはまる。ア～エのうち、日本、ドイツに当てはまるものはどれか。それぞれ1つずつ選び、記号で答えよ。

	1920	1930	1940	1950(年)
イギリス	←————→			
ア	←————→			
イタリア	←————→			
イ	←————→			
ウ		←————→		
エ	参加せず			

注 加盟期間は ←————→ で示している。

日本：
ドイツ：

(静岡県)

【】 国際協調・民主主義の拡大

[ワシントン会議]

[問題 37](1 学期中間)

アメリカの呼びかけで 1921 年に開かれた国際会議では、海軍の軍備制限、太平洋での勢力範囲の現状維持、日英同盟の廃止、中国の主権や領土を尊重することなどが取り決められた。この会議を何というか。

[問題 38](2 学期中間)

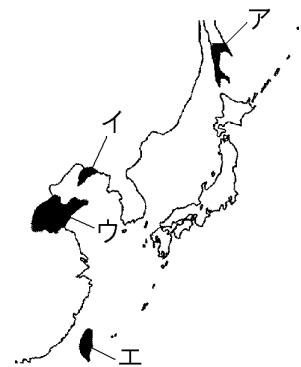
1921 年、アメリカの呼びかけで国際会議が開かれた。これについて、次の各問いに答えよ。

- (1) この会議は何と呼ばれる会議か。
(2) この会議の内容にあてはまらないものを、次のア～エから 1 つ選べ。

- ア 日英同盟を廃止する。
イ 中国の独立と領土の保全。
ウ 海軍の軍備を制限する。
エ 太平洋地域の現状維持。
オ 韓国における日本の優越権を認める。

- (3) (1)の結果、日本から中国に返還されたのはどこの権益か、右の略地図中のア～エから 1 つ選び、記号で答えよ。

(1)
(2)
(3)



[問題 39](2 学期中間改)

次の文章中の①～⑥に適語を入れよ(または、適語を選べ)。

1921 年に(①)(国名)の呼びかけで(②)会議が開かれた。この会議で、③(海軍/陸軍)の軍縮条約が結ばれた。また、(①)・イギリス・フランス・日本は、太平洋での勢力範囲の現状維持と(④)同盟の廃止を決めた四か国条約を結んだ。さらに、(⑤)の主権を尊重し、各国の(⑤)での経済活動の自由を約束した九か国条約も結んだ。こうして、1920 年代は国際(⑥)の時代になった。

①
②
③
④
⑤
⑥

[民主主義の高まり]

[問題 40](1 学期期末)

第一次世界大戦後、ドイツでは、満 20 歳以上の男女に選挙権を与える普通選挙，社会権などを定めた憲法が制定された。この憲法を何というか。

[問題 41](1 学期中間)

次の各問いに答えよ。

(1) 第一次世界大戦後、ドイツでは民主的な新たな憲法がつけられたが、この憲法を何というか。

(1)

(2) (1)の憲法で選挙権はどのような人にあたえられたか。

(2)

(3) ドイツでは、ベルサイユ条約の結果、右の資料のような出来事が起こった。その理由としてもっともふさわしいものを、次のア～エから選び、記号で答えよ。



(3)

- ア 巨額の賠償金の支払いのために、株価が暴落して紙幣が紙切れ同然になってしまったから。
- イ 巨額の賠償金の支払いのために、にせ札が大量に造られたから。
- ウ 巨額の賠償金の支払いのために、紙幣を刷りすぎたために価値が暴落して紙幣が紙切れ同然になってしまったから。
- エ 巨額の賠償金の支払いのために、それまで使われていたマルク紙幣がユーロ紙幣に交換されてしまったから。

[問題 42](1 学期中間)

第一次世界大戦後のドイツについて、誤っているものを次のア～エから 1 つ選び、記号で答えよ。

- ア ワイマール憲法が制定されて、社会権がはじめて認められた。
- イ 満 20 歳以上の男女の普通選挙が実現した。
- ウ お札を刷りすぎて、極端なインフレーションが起きた。
- エ 独立を要求する運動が高まった。

[問題 43](入試問題)

次の文章中の X に共通してあてはまる適切な内容を、下の []の中から1つ選べ。

ヨーロッパでは、第一次世界大戦前から女性の(X)を求める動きが見られた。大戦中には、男性が戦争に動員されたため労働力が不足し、女性がさかんに職場へ進出するようになった。これらを背景に、イギリスでは1918年に女性の(X)が実現した。
[団結権 プライバシーの権利 生命・身体の自由 参政権]
(青森県)

--

--

[問題 44](1 学期中間)

第一次世界大戦後の各国の動きについて、次の①～③の文にあてはまる国名をそれぞれ下の []から選べ。

- ① ワイマール憲法によって、国民主権などが定められた。
- ② 1920年代に世界一の経済力を持つようになった。
- ③ 1924年に初の労働党内閣が成立した。

[スペイン ドイツ フランス イギリス イタリア
アメリカ]

①
②
③

【】 アジアの民族運動

[五・四運動]

[問題 45]

第一次世界大戦後、中国は二十一か条の要求によって日本へ譲り渡したドイツの権益の返還を主張した。ベルサイユ会議でこれが拒絶されると、北京での学生集会をきっかけに、中国国内で反日・反帝国主義の運動が起こった。この運動を(X)という。この運動をきっかけに、孫文は中国国民党を結成し、中国共産党とともに、民族の独立と国家の統一をめざす運動をくり広げた。日本は、ベルサイユ条約で山東省のドイツの権益を引きついだが、ワシントン会議の結果、これを中国に返還した。文中の X に適語を入れよ。

--

--

[問題 46](後期中間)

次の資料を読んで、後の各問いに答えよ。

- 一 中国政府は、ドイツが山東省にもっているいっさいの権益を日本にゆずる。
- 一 日本の旅順・大連の租借の期限、南満州鉄道の期限を 99 年延長する。

(1)

(2)

(3)

- (1) 上の資料は、1915 年に日本が中国に対して出したものであるが、何と呼ばれているか。
- (2) 大戦後、中国は山東省の権益の返還を要求したが、パリ講和会議で要求が拒絶されると、北京での学生集会をきっかけに反日・反帝国主義の運動が中国全体に広まった。この運動を何というか。
- (3) (2)の運動をきっかけに、中国国民党を結成し、民族の独立と国家の統一をめざす運動を行った中心人物は誰か。

--

[問題 47](1 学期中間)

次の各問いに答えよ。

- (1) パリ講和会議で日本の中国における権益の拡大が認められたことから、1919年に中国で起こった運動を何というか。
- (2) (1)の運動を最初に起こしたのは、何という都市の大学生であったか。
①都市名を答えよ。②また、その都市の位置を右の地図のア～エから選べ。
- (3) (1)の運動をきっかけに孫文が結成した組織は何党か。
- (4) 1921年に結成され、(3)の党と協力し、(1)の運動を行った党は何か。
- (5) その後、日本はある国際会議で山東省の権益を中国に返還することを決めた。何という会議か。



(1)
(2)①
②
(3)
(4)
(5)

--

[問題 48](入試問題)

次のア～ウは、第一次世界大戦中から大戦後にかけておきたことがらである。年代の古い順に並べ、符号で書け。

- ア ワシントン会議が開かれ、中国の独立と領土の保全を決めた。
- イ 中国国内で、帝国主義の侵略に反対する五・四運動がおきた。
- ウ 日本が、中国に二十一か条の要求を認めさせた。
(岐阜県)

--

--

[三・一独立運動]

[問題 49](1 学期中間)

1919年に、朝鮮で起きた、日本からの独立を求める運動は何か。

--

[問題 50](1 学期中間)

次の文章中の①，②に適語を入れよ。

第一次世界大戦が終わると，アジアでは帝国主義に反対する民族運動や独立運動がさかんになった。(①)(国名)の植民地支配のもとに置かれていた朝鮮では，1919 年，ソウルで独立をめざす(②)運動が起こった。

①
②

[インドの民族運動]

[問題 51](1 学期期末)

インドで非暴力・不服従を唱え，イギリスに完全な自治を要求する運動を指導した右の写真の人物は誰か。



--

[問題 52](1 学期中間)

次の各問いに答えよ。

- (1) 第一次世界大戦後，インドでは完全な自治を求める運動が起こった。この運動の指導者は誰か。
- (2) (1)の人物は，()・不服従を唱えた。()にあてはまる語句を答えよ。
- (3) (1)の運動は，ある国が第一次世界大戦に協力すれば自治を認めるとした約束を守らなかったために起こった。ある国とはどこか。

(1)
(2)
(3)

--

[問題 53](3 学期)

アジアでは，「民族自決」の原則に従って，独立運動が起こった。次の各問いに答えよ。

- (1) 右の写真の人物名を答えよ。
- (2) (1)の人物は何という国の人か。
- (3) (2)は，当時，何という国の植民地であったか。
- (4) (1)の人物が唱えた言葉を書け(7 文字)。
- (5) (4)の言葉をもとに，(1)の人物が(3)の国に求めたことは何か。



(1)
(2)
(3)
(4)
(5)

【】大正デモクラシーの時代

【】大正デモクラシーと政党内閣の成立

[第一次護憲運動]

[問題 54](1 学期期末)

1912 年に藩閥の桂太郎が 3 度目の組閣をすると、議会を無視する態度をとったとして、新聞や知識人などが憲法にもとづく政治を守ろうとする運動を起こした。それを支持する民衆運動も各地で起こり、桂内閣は退陣した。この運動を何というか。

[問題 55](1 学期中間)

次の文中の①、②に適語を入れよ。ただし、①は人物名である。

1912 年、藩閥勢力の(①)内閣が議会を無視する態度をとったとして新聞や知識人が運動をおこし、それが各地に広まり、翌年、(①)内閣を退陣させた。これを(②)運動という。

[大正デモクラシーの思想]

[問題 56](1 学期中間)

大正時代、吉野作造が民本主義を唱え、美濃部達吉が天皇機関説を唱えるなど、デモクラシーが唱えられ、自由主義の風潮が高まった。このような風潮や動きを何というか。



吉野作造 美濃部達吉

[問題 57](1 学期中間)

次の文章中の①～③に適語を入れよ。

大正時代は、(①)がとなえられ、自由主義の風潮が高まった時期であったが、このような風潮を大正(①)という。(②)(人物名)は普通選挙によって民意を政治に反映させるべきとする(③)主義を唱え、美濃部達吉は「主権は国家にあり、天皇は国家の最高機関として憲法に従って統治する」という天皇機関説を唱えた。

[問題 58](1 学期期末)

次の各問いに答えよ。

(1) 普通選挙や政党政治をめざした大正時代の風潮を何というか。

(2) 右の資料の人物名を答えよ。

(3) (2)の人物は男子普通選挙によって民意を反映させることなどを主張した。これを何主義というか。

(4) 「主権は国家にあり、天皇は国家の最高機関として憲法に従って統治する」という学説を何というか。

(5) (4)の学説を唱えた人物は誰か。



(1)

(2)

(3)

(4)

(5)

[大戦景気]

[問題 59]

第一次世界大戦によって、ヨーロッパ各国の輸出が減少したため、綿織物などの日本製品の輸出先がアジア、アフリカに広がり、連合国への武器などの輸出も急増し、貿易は輸出超過になった。また、欧米からの輸入がとだえたため重化学工業が発展し、工業生産額は農業生産額を大幅に上回るようになり、工業国としての基礎が築かれた。また、にわかに巨額の利益をあげた成金と呼ばれる人々が生まれた。このような好景気を何というか。

[問題 60](1 学期中間)

第一次世界大戦中、日本は好景気をむかえた。これについて、間違った説明を次のア～エから 1 つ選べ。

ア 連合国への武器などの輸出が急増した。

イ 戦場となったヨーロッパにかわってアジア、アフリカ地域への輸出が増えたため、輸出額が輸入額を上回った。

ウ 工業生産高は大きくなったが、まだ農業生産高を越えることはなかった。

エ 重化学工業が発展し、工業国としての基礎が築かれた。

[問題 61](1 学期期末)

次の文章中の①～⑤に適語を入れよ(または、適語を選べ)。

第一次世界大戦中、日本では①(輸出額／輸入額)が②(輸出額／輸入額)を上回り、③(好景気／不景気)となった。欧米からの輸入がとだえたため日本国内の(④)工業が発展し、工業国としての基礎が築かれた。また、造船・海運・鉄鋼業などでにわか巨額の利益をあげた(⑤)と呼ばれる人々が生まれた。

①
②
③
④
⑤

[米騒動]

[問題 62](3 学期)

次の文中の①、②に適語を入れよ。

1918年に、(①)出兵を見こして商人たちが米を買い占めた結果、米の値段が大幅に



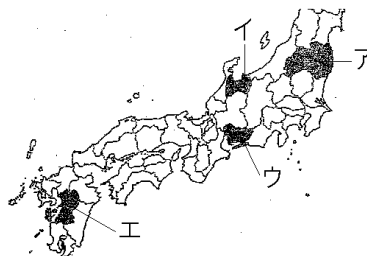
上がったため、米の安売りを求める騒動が富山県でおこり、全国に広がった。これを(②)という。

①
②

[問題 63](1 学期期末)

次の各問いに答えよ。

(1) 1918年に起こった、米の安売りを求めて民衆が米屋などをおそった騒動を何というか。



(2) (1)は最初、どこで発生したか。①都道府県名を答えよ。

②また、その位置を地図中のア～エから選べ。

(3) (1)の原因を「シベリア」「買い占め」の2語を用いて説明せよ。

(1)
(2)①
②
(2)

[本格的政党内閣の成立]

[問題 64](1 学期中間)

米騒動の後、立憲政友会の本格的な政党内閣が成立したが、平民宰相といわれた右の写真の首相は誰か。



--

[問題 65](1 学期期末)

次の文中の①～③に適語を入れよ。

1918 年に起こった米の安売りを求める米騒動により寺内正毅内閣が退陣すると、衆議院第一党の(①)総裁の(②)を首相とし、陸軍、海軍、外務の 3 大臣以外はすべて(①)の党員で組織する、本格的な(③)内閣が成立した。

①
②
③

[問題 66](2 学期期末)

次の各問いに答えよ。

- (1) 1918 年に起こった米の安売りを求めて起きた騒動を何と
いうか。
- (2) (1)の後に成立した内閣の首相の名前を答えよ。
- (3) (2)の人物が所属した政党名を答えよ。
- (4) (2)の内閣は、外務、陸軍、海軍以外の大臣を、衆議院の第一党である(3)の党員が占めていたことから、最初の本格的な()内閣と評されている。()に適語を入れよ。
- (5) (2)の人物は歴代の総理大臣と違う身分の人物であったため、国民から「〇〇宰相」と呼ばれていた。何と呼ばれていたか。

(1)
(2)
(3)
(4)
(5)

--

[問題 67](入試問題)

米騒動の直後、原敬を首相とする初の本格的な政党内閣が誕生した。原敬を首相とする内閣が、本格的な政党内閣とよばれる理由は何か、資料 1 および資料 2 から読み取れることをもとに、書け。



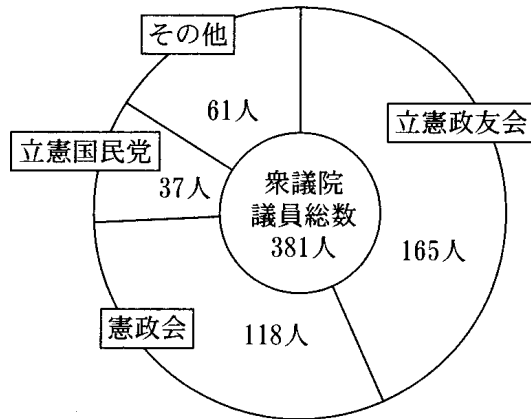
〈資料 1〉 原敬を首相とする初の政党内閣の構成 (1918年)

	所属政党等
内閣総理大臣	立憲政友会
外務大臣	外務官僚
内務大臣	立憲政友会
大蔵大臣	立憲政友会
陸軍大臣	軍人
海軍大臣	軍人
司法大臣	立憲政友会
文部大臣	立憲政友会
農商務大臣	立憲政友会
逓信大臣	立憲政友会

(「日本議会史録 2」, ほかから作成)

(三重県)

〈資料 2〉 原内閣が組閣されたときの衆議院の政党別議員数 (1918年)



(「原敬と立憲政友会」, ほかから作成)

注: 資料 2 は, 原内閣が成立した後, 最初に召集された第 41 会通常帝国議会における各党派所属議員数を示す。

【】 社会運動

[労働運動・農民運動]

[問題 68](1 学期期末改)

次の文章中の①，②に適語を入れよ。

第一次世界大戦中の経済の発展によって労働者が大幅に増加して、労働争議もしきりに起こった。1920年には日本で最初の(①)という集会が開催され、その翌年には労働組合の全国組織として日本労働総同盟が誕生した。農村でも、小作料の減額などを求める(②)がしきりに起こり、1922年に日本農民組合が結成され、農民運動を指導した。ロシア革命の影響で共産主義への関心が急速に広がると、1922年には日本共産党が、ひそかに結成された。

①

②

[問題 69](前期中間)

次の各問いに答えよ。

- (1) 第一次世界大戦中の経済の発展によって労働者が大幅に増加して、労働争議もしきりに起こった。1920年、最低賃金制や8時間労働制などを求めて、労働者の集会が初めて開かれた。この集会を何というか。カタカナで答えよ。
- (2) 1921年に労働組合の全国組織として結成されたものは何か。
- (3) 小作人が地主などに対して起こした争議を何というか。
- (4) (3)は地主に対して何を求めて起こした争議か。

(1)

(2)

(3)

(4)

[部落解放運動]

[問題 70](1 学期中間)

差別を受けていた部落の人々が、1922年に京都で部落解放運動を進めるための組織を結成し、「全国に散在する部落の人々よ、団結せよ。われわれが人間を尊敬することによって、自らを解放しようとする運動をおこしたのは当然である。…人の世に熱あれ、人間に光あれ。」という宣言を出した。この組織を何というか。

[問題 71](1 学期中間)

次は、部落解放を求めて結成された組織の宣言文の一部である。後の各問いに答えよ。

「全国に散在する(①)の人々よ、団結せよ。われわれが人間を尊敬することによって、自らを解放しようとする運動をおこしたのは当然である。…人の世に熱あれ、人間に(②)あれ。」

- (1) この組織を何というか。
- (2) 文中の①, ②に適語を入れよ。

(1)
(2)①
②

[女性運動の台頭]

[問題 72](1 学期中間)

「元始、女性は実に太陽であった。今、女性は月である。…」という宣言を出して青鞥社を結成し、1920年には市川房枝らとともに新婦人協会を結成した人物の名前を答えよ。

--

[問題 73](前期期末)

次の資料について、後の各問いに答えよ。

(①)の宣言

元始、女性は実に(②)であった。真正の人であった。今、女性は(③)である。他によって生き、他の光によってかがやく、病人のように青白い顔の(③)である。わたしたちはかくされてしまったわが(②)を今や取りもどさなくてはならない。

- (1) 資料の①には、大正時代に女性解放のために結成された文学団体の名前が入るが、その名前を答えよ。
- (2) (1)を結成した右の資料の女性は誰か。
- (3) 資料中の②, ③に入る語句を次の[]からそれぞれ選べ。
[人間 月 太陽]



(1)
(2)
(3)②
③

【】 関東大震災・普通選挙法

[関東大震災]

[問題 74](前期期末改)

1923年、(X)大震災が起こり、死者・行方不明者が11万人に達した。多くの死者を出したのは地震によって火事が発生したためである。この混乱の中で、「井戸に毒を入れた」「暴動を起こす」などのデマが広まり、多くの朝鮮人、中国人、社会主義者が殺された。文中のXに適語を入れよ。

[問題 75](1 学期期末)

右の資料は1923年9月1日に起こった大地震の被害の様子である。これについて、次の各問いに答えよ。



- (1) この震災を何というか。
- (2) この地震で死者・行方不明者が11万人と多かったのは倒壊で被害を受けただけではなく、何が原因で犠牲者が増えたのか。漢字2字で書け。
- (3) このとき、「井戸に毒を入れた」「暴動を起こす」などのデマが広まり、多くの()人、中国人、社会主義者が殺された。()に適語を入れよ。

[普通選挙法の制定]

[問題 76](前期中間)

次の文中の①、②に適語を入れよ。

1924年、政党勢力は男子普通選挙の実施などを主張して第二次護憲運動を起こし、憲政会の加藤高明内閣が成立した。この内閣のもとで、1925年、普通選挙法が成立し、満(①)以上の(②)に選挙権が与えられた。

[問題 77](2 学期期末)

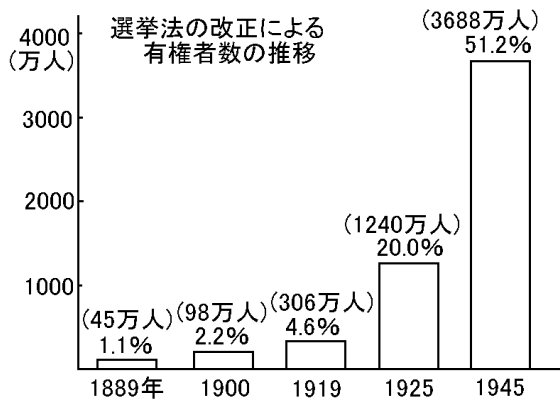
次の各問いに答えよ。

- (1) 1925 年、選挙資格における財産上の制限を撤廃する法律が成立した。何という法律か。
- (2) (1)の法律によって、選挙権の資格はどのようになったか。「満～歳以上の・・・」という形で答えよ。
- (3) (1)の法律が制定されたときの内閣総理大臣は誰か。
- (4) (3)の内閣総理大臣が所属した政党名を答えよ。

(1)
(2)
(3)
(4)

[問題 78](1 学期期末)

次の各問いに答えよ。



- (1) 上のグラフで、1925 年の有権者の割合は 1919 年に比べると約何倍に増えているか。整数で答えよ。
- (2) 有権者が増えたのは、どのような人々に選挙権があたえられるようになったからか。具体的に書け。
- (3) (2)で有権者が拡大したその法律名を書け。
- (4) 加藤内閣以後、1932 年に五・一五事件で犬養毅内閣がたおれるまでの 8 年間、憲政会と立憲政友会とが交互に政権を担当した。二大政党の党首が内閣を組織するこの慣例を何というか。

(1)
(2)
(3)
(4)

[治安維持法]

[問題 79](2 学期期末)

普通選挙法と同時に制定され、共産主義の取りしまりが強められることになった法律名を書け。

--

[問題 80](1 学期期末)

次の各問いに答えよ。

- (1) 普通選挙法が成立した同じ年に制定され、第二次世界大戦直後に廃止された法律の名称を答えよ。
- (2) (1)の法律が制定された目的を「共産主義」という語句を使って説明せよ。

(1)
(2)

[問題 81](1 学期中間)

次のア～エの出来事を古い順に並び替え、記号で答えよ。

- ア 原敬による政党内閣の発足。
- イ 治安維持法の成立。
- ウ 第一次護憲運動が起きる。
- エ 米騒動が起きる。

--

--

【】大正時代の文化

[文化・生活]

[問題 82]

1925 年に始まった(X)放送は、またたく間に全国に普及し、新聞と並ぶ主要なメディアになった。都市では、住宅の一部に西洋間を設けガラス窓を採用した文化住宅が流行し、カレーライス、トンカツ、コロッケなどの洋食が広まった。洋服は、まず男性に普及したが、バスガールや電話交換手など、働く女性が増加し、女性にも広がり始めた。文中の X に適語を入れよ。

[問題 83](1 学期中間)

大正時代には都市の人口が増え、大衆文化が発達した。これを述べた文として誤っているものを次から 1 つ選べ。

- ア 100 万部をこえる新聞があらわれた。
- イ バスガールや電話交換手など働く女性が増加した。
- ウ ラジオ放送が始まり、ついでテレビ放送が始まった。
- エ 住宅の一部に西洋間を設けガラス窓を採用した文化住宅が流行した。
- オ カレーライス、トンカツ、コロッケなどの洋食が広まった。

[問題 84](前期中間)

次の文中の①～④に適語を入れよ

- ・1925 年に始まった(①)放送は、またたく間に全国に普及した。また、100 万部をこえる新聞があらわれた。
- ・都市では、西洋風の生活様式が流行した。住宅の一部に西洋間を設けガラス窓を採用した(②)住宅が流行し、カレーライス、トンカツ、コロッケなどの(③)が広まった。
- ・バスガールや電話交換手など、新しい職業への(④)の進出も進んだ。

[文学など]

[問題 85](2 学期中間改)

次の文章中の①, ②に適語を入れよ。

大正時代は文芸や学問に新しい傾向が生まれた時代であった。文学では「羅生門」「蜘蛛の糸」などを書いた(①), 人道主義の理想をかかげた白樺派の志賀直哉や武者小路実篤, 「蟹工船」などの作品を発表し(②)文学を推し進めた小林多喜二などがあらわれた。学問では, 西田幾多郎が「善の研究」で東洋と西洋の哲学を統一した。

①

②

[問題 86](2 学期期末)

次の各問いに答えよ。

- (1) 知性的な作品で人々に新鮮な印象をあたえた, 右の写真の人物の名を答えよ。
- (2) 「蟹工船」などの作品を発表し, プロレタリア文学を推し進めた人物の名を答えよ。



(1)

(2)

(3)

- (3) 人道主義の理想をかかげ, 武者小路実篤らとともに雑誌「白樺」を創刊した人物は誰か。

[問題 87](1 学期期末)

次の各問いに答えよ。

- (1) 働く人々の生活を小説にした大正文学を何というか。
- (2) 人道主義の理想をかかげた志賀直哉や武者小路実篤らが創刊した雑誌を何というか。
- (3) 「善の研究」で東洋と西洋の哲学を統一した哲学者は誰か。
- (4) 日本初の職業オーケストラを作った音楽家は誰か。

(1)

(2)

(3)

(4)

【】 総合問題

[問題 88](要点整理)

次の年表中の①～⑯に適語を入れよ。

年代	おもなできごと
1914 年(大 3)	三国同盟と三国(①)の対立。列強の利害, 民族や宗教が対立する(②)半島は「ヨーロッパの(③)」と呼ばれる。 (④)事件:(④)でセルビアの青年が(⑤)の皇位継承者夫妻を暗殺。 (⑥)大戦が始まる。→総力戦になる。戦車, (⑦), 潜水艦, 毒ガスなどの新兵器が登場。
1915 年(大 4)	日本は(⑧)同盟を根拠に連合国側に立って参戦し, 中国の(⑨)半島にある(⑩)(国名)の拠点を攻撃。
1917 年(大 6)	日本は中国に(⑪)の要求をつきつけ, 中国の(⑨)半島に(⑩)がもつ権益を日本に譲ることなどを要求。
1918 年(大 7)	(⑫)を指導者とする(⑬)革命がおきる。
1918 年(大 7)	(⑭)出兵:(⑮)主義の拡大を防ぐために各国が軍隊を派遣。 →1922 年に(⑯)という(⑮)主義国が誕生。
1918 年(大 7)	ドイツが降伏して(⑥)大戦が終結。

[解答欄]

①	②	③	④
⑤	⑥	⑦	⑧
⑨	⑩	⑪	⑫
⑬	⑭	⑮	
⑯			

[問題 89](要点整理)

次の年表中の①～⑯に適語を入れよ。

年代	おもなできごと
1918年(大7)	ドイツが降伏して第一次世界大戦が終結。
1919年(大8)	(①)講和会議で(②)条約が結ばれる。 アメリカ大統領(③)が民族(④)を唱える。 →東ヨーロッパで多くの小国が独立。 朝鮮で(⑤)運動がおこる。 中国で(⑥)運動がおこる→(⑦)が中国国民党を結成。 インドでは、「非暴力・(⑧)」を唱える(⑨)の指導のもと、 (⑩)(国名)からの完全な自治を求める運動が高まる。 ドイツで(⑪)憲法が制定される。
1920年(大9)	アメリカ大統領(③)の提案で、(⑫)が発足する。本部はスイスの (⑬)に置かれる。日本人(⑭)が事務局次長をつとめる。
1921年(大10)	(⑮)会議が開かれ、軍縮や太平洋地域の現状維持などを確認。これによって(⑯)同盟は解消。

[解答欄]

①	②	③	④
⑤	⑥	⑦	⑧
⑨	⑩	⑪	⑫
⑬	⑭	⑮	⑯

[問題 90](要点整理)

次の年表中の①～⑳に適語を入れよ(または、適語を選べ)。

年代	おもなできごと
1912年(大1)	桂太郎内閣の藩閥政府に対し、(①)運動が起こり、桂内閣は退陣。 大正(②):(③)(右図の人物)の(④)主義。 美濃部達吉の(⑤)説。
1914年(大3)	第一次世界大戦始まる。 日本の⑥(輸出/輸入)が増加→(⑦)景気、重化学工業が発達。造船・海運などでにわかに巨額の利益をあげた(⑧)が出現。
1917年(大6)	ロシア革命
1918年(大7)	(⑨)出兵を見こした米の買い占めで米の値段が高騰したため、 (⑩)騒動が(⑪)県から全国に広がる→寺内正毅内閣が倒れる。 (⑫)(人物名)の本格的(⑬)内閣が成立(大部分の大臣を衆議院の第一党である(⑭)会の党員が占めていた)。
1920年(大9)	友愛会は労働組合の全国組織へ発展。最初の(⑮)(労働者の祭典)が開かれる。農村では(⑯)争議がしきりに起こる。 青鞞社の(⑰)が、市川房枝らと新婦人協会を設立。
1922年(大11)	部落解放を求め、京都で(⑱)社が結成される。
1923年(大12)	(⑲)が起こり、東京や横浜は壊滅状態になる。
1925年(大14)	(⑳)内閣のとき、(㉑)法が成立し、満(㉒)歳以上のすべての(㉓)に選挙権があたえられた。 社会主義者を取りしめるための(㉔)法も同時に成立。
	(大正時代の文化・生活) (㉕)放送の開始、100万部を超える新聞、円本。 都市では、住宅の一部に西洋間を設けガラス窓を採用した(㉖)住宅が流行し、カレーライス、トンカツ、コロッケなどの(㉗)が広まった。 バスガールや電話交換手など、新しい職業への(㉘)の進出も進んだ。 「羅生門」を書いた(㉙)、プロレタリア文学の(㉚)、 白樺派の(㉛)や武者小路実篤



[解答欄]

①	②	③	④
⑤	⑥	⑦	⑧
⑨	⑩	⑪	⑫
⑬	⑭	⑮	⑯
⑰	⑱	⑲	⑳
㉑	㉒	㉓	㉔
㉕	㉖	㉗	㉘
㉙	㉚	㉛	

[問題 91](後期中間など)

次の年表を見て、後の各問いに答えよ。

年代	おもなできごと
	ヨーロッパ列強の対立。…A
1914年	第一次世界大戦が始まる。…B
1914年	日本の参戦。…C
1917年	ロシアで革命が起こる。…D
1918年	Dに干渉するために日本や欧米各国が出兵。…E
1918年	第一次世界大戦が終わる。

(1) Aに関して、次の各問いに答えよ。

① ドイツ、オーストリア、イタリアの間で結ばれた同盟を何というか。

② イギリス、フランス、ロシアの間で結ばれた同盟を何というか。



③ 当時、列強の利害が対立していた右図のXの半島の名前を答えよ。



④ ③の半島はヨーロッパの何と呼ばれていたか。

(2) Bに関し、この戦争の引き金になったのは、(①)(国名)の青年が(②)(国名)の皇位継承者夫妻を暗殺した(③)事件である。①～③に適語を入れよ。

(3) Bに関し、この戦争では新兵器が多く登場した。この新兵器を2つあげよ。

(4) Cに関し、第一次世界大戦が始まると、日本は(①)同盟を根拠に②(同盟国/連合国)側にたって参戦し、中国の(③)半島にある(④)(国名)の拠点を攻撃した。さらに、1915年、日本は中国に対し、中国の③半島に④がもつ権益を日本に譲ることなどを要求したが、この要求を(⑤)という。①～⑤に適語を入れよ。

(5) Dに関し、①この革命を何というか。②指導者は誰か。

(6) Eに関して、①この出兵を何というか。②日本や欧米各国が出兵を行った理由を「影響」という語句を使って説明せよ。③1922年に誕生した社会主義国の正式名称を答えよ。

(1)①
②
③
④
(2)①
②
③
(3)
(4)①
②
③
④
⑤
(5)①
②
(6)①
②
③

--

[問題 92](2 学期期末など)

次の年表を見て、後の各問いに答えよ。

年代	おもなできごと
1918 年	第一次世界大戦が終わる。
1919 年	第一次世界大戦の講和会議が開かれる。…A 朝鮮で()運動が起こる。…B 中国で()運動が起こる。…C
1919 年	ドイツで()憲法が制定される。…D
1920 年	世界平和のための組織が誕生する。…E
1921 年	()会議が開かれる。…F

- (1) A に関して、①この講和会議は何という都市で開催されたか。②このとき結ばれた講和条約を何というか。
- (2) A の講和会議で、植民地支配を受けている民族が独立し自分たちで自立していこうという原則が唱えられたが、①この原則を何というか。②この原則を主張したアメリカ大統領は誰か。
- (3) 大戦後、多くの小さな国が独立したのは次の[]のどの地域か。1つ選べ。
[東ヨーロッパ 西ヨーロッパ 南ヨーロッパ
北ヨーロッパ]
- (4) B の()に適語を入れよ。
- (5) C の()に適語を入れよ。
- (6) C の運動をきっかけに、中国国民党を結成し、民族の独立と国家の統一をめざす運動を行った中心人物は誰か。
- (7) インドでは、第一次世界大戦に協力すれば自治を認めるという約束を(①)(国名)が守らなかったため、非暴力・(②)を唱える(③)の指導により、完全な自治を求める運動が高まった。①～③に適語を入れよ。
- (8) D の()に適語を入れよ。
- (9) E に関して、①この組織を何というか。②この組織の設立を提唱したアメリカの大統領は誰か。③①の組織本部は何という国の何という都市に置かれたか。④①の事務局次長をつとめた日本人の名前を答えよ。
- (10) F について、①()に適語を入れよ。②この会議で日本が関係するある同盟が解消されたが、何という同盟か。

(1)①

②

(2)①

②

(3)

(4)

(5)

(6)

(7)①

②

③

(8)

(9)①

②

③

④

(10)①

②

[問題 93](2 学期中間など)

次の年表を見て、後の各問いに答えよ。

年代	おもなできごと
1912 年	桂内閣の退陣を求める運動が起きる。…A
1914 年	第一次世界大戦に参戦。
1918 年	シベリア出兵(～1922)
1918 年	米の安売りを求める騒動が富山県でおこる…B
1918 年	本格的な政党内閣が成立。…C
1923 年	関東地方で大地震が起こる。…D
1925 年	()選挙法が成立。…E

- (1) 第一次世界大戦中、日本では①(輸出／輸入)が伸び、好景気となった。欧米からの輸入がとだえたため日本国内の(②)工業が発展し、工業国としての基礎が築かれた。また、造船・海運・鉄鋼業などでにわかに巨額の利益をあげた(③)と呼ばれる人々が生まれた。①の()内から適語を選び、②、③に適語を入れよ。
- (2) A の運動を何というか。
- (3) 大正時代は、デモクラシーが唱えられ、自由主義の風潮が高まった時期であったが、このような風潮を(①)という。(②)(人物名)は男子普通選挙によって民意を政治に反映させるべきとする(③)主義を唱え、(④)(人物名)は天皇機関説を唱えた。①～④に適語を入れよ。
- (4) B について、①この騒動を何というか。②この騒動が起きた原因を「シベリア出兵」「買い占め」の 2 語を用いて説明せよ。
- (5) C について、①成立した内閣の首相は誰か。②本格的な政党内閣と言われた理由を「大部分の大臣」「党员」という語句を使って説明せよ。
- (6) D の大地震を何というか。
- (7) E について、①()に適語を入れよ。②この法律によって選挙資格はどのようになったか。「満～歳以上の…」という形で答えよ。③この法律が制定されたときの内閣総理大臣は誰か。
- (8) E と同時に制定され、共産主義に対する取りしまりが強められることになった法律名を書け。

(1)①
②
③
(2)
(3)①
②
③
④
(4)①
②
(5)①
②
(6)
(7)①
②
③
(8)

--

[問題 94](1 学期中間など)

大正時代について、次の各問いに答えよ。

- (1) 労働運動がさかんになり、1920年には、日本ではじめての労働者のある祭典が開催された。何という祭典か。
- (2) 農村で地主に対して、小作料の引き下げを要求した行動を何というか。
- (3) 1922年に結成された、部落差別の撤廃を求める人たちがつくった全国的な組織は何か。
- (4) 女性解放を唱えて青鞥社を結成し、新婦人協会を設立した人物の名前を答えよ。
- (5) 1925年に何の放送が始まり、新聞と並ぶ主要なメディアになったか。
- (6) 大正時代に広まった洋間やガラス窓を取り入れた和洋折衷の住宅を何というか。
- (7) 大正時代、カレーライス、トンカツなどが広まったが、これらを何食というか。
- (8) 大正時代に女性の職業となったものを1つあげよ。
- (9) 「羅生門」などのすぐれた文学作品を書いた作家は誰か。
- (10) 人道主義の立場から人間の生き方をえがいた白樺派の作家を1人あげよ。
- (11)①働く人々の生活を小説にした大正文学を何というか。
②また、「蟹工船」などを書いた作家は誰か。

(1)
(2)
(3)
(4)
(5)
(6)
(7)
(8)
(9)
(10)
(11)①
②