

## 【】鎌倉幕府の成立

[源平の争乱]

[問題 1](1 学期中間)

源頼朝は、鎌倉を本拠地に定め、武士を結集して関東地方を支配すると、平氏をたおすために弟の源義経などを送って攻めさせた。源義経によって平氏がほろぼされたのはどこか。

[問題 2](2 学期期末)

次の文章中の ~ に適語を入れよ。

1180 年、平氏追討の命令を受けて、伊豆に流罪になっていた( )をはじめ、各地の武士団が立ち上がり、全国的な争乱になっていった。この争乱は、( )の弟である( )の軍にせめられた平氏が長門(今の山口県)の( )の戦いで滅亡するまで 5 年間続き、源平の争乱と呼ばれている。

[問題 3](3 学期)

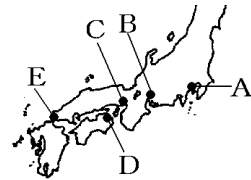
次の各問いに答えよ。

(1) 1180 年に源頼朝は挙兵したが、その後どこで指揮をとったか。地名を答えよ。右の地図中のどこか。

現在の何県か。

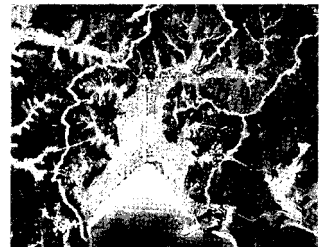
(2) 源義経によって平家がほろぼされた場所はどこか。

地名を答えよ。右の地図中のどこか。現在の何県か。



[問題 4](2 学期期末)

源頼朝は、鎌倉を本拠地に定めたが、その理由を右の資料を参考にして、「山と海」という語句を使って簡潔に説明せよ。



鎌倉幕府がおかれたところ(復元模型)

[鎌倉幕府の始まり]

[問題 5](3 学期)

1185 年、源頼朝が朝廷に強くせまって設置することを認めさせた 国ごとに置いた役職と、 荘園や公領ごとに置いた役職を、それぞれ書け。

[問題 6](2 学期期末)

次の文章中の ~ に適語を入れよ。

平氏滅亡後、源頼朝の巨大化を恐れた後白河上皇は、源頼朝の弟の( )に源頼朝の追討を命じた。これに対して源頼朝は軍を京都に送って上皇にせまり、国ごとに( )を、荘園や公領ごとに( )を任命する権利を獲得し、( )幕府を開いて武家政治を開始した。さらに、弟の( )が奥州の( )氏のもとにのがれると、平泉を拠点として栄えていた奥州の( )氏をも攻めほろぼした。1192 年、朝廷より( )に任命された源頼朝は、政治制度を整えていった。

[問題 7](3 学期)

右の肖像画の人物について、次の各問いに答えよ。

- (1) この肖像画にえがかれている人物は誰だといわれているか。
- (2) (1)の人物が設置した 守護、地頭は、それぞれどんなところに置かれたか。
- (3) (1)の人物が幕府を開いたのはどこか。
- (4) (1)の人物が幕府を開いてはじまった時代を何時代というか。
- (5) (1)の人物が朝廷から征夷大將軍に任命されたのは西暦何年か。
- (6) (1)の人物がほろぼした奥州の藤原氏の本拠地であった町の名を書け。



[鎌倉幕府のしくみ]

[問題 8](2 学期期末)

次の各問いに答えよ。

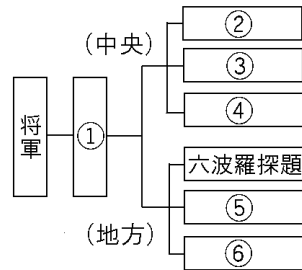
- (1) 鎌倉幕府の中央に置かれた役職で、御家人をまとめ軍事をあつかったのは何か。
- (2) 問注所とはどのような仕事を担当する役職か。漢字 2 字で答えよ。

[問題 9](3 学期)

右の図は鎌倉幕府のしくみである。図の ~ に入る語句を、次の文を参考に、下の[ ]から選んで書け。

- 将軍を助けて政治を行う。
- 御家人の統率、軍事を担当。
- 幕府の財政などを担当。
- 裁判を担当。
- 国ごとに置かれ軍事を担当。
- 荘園・公領の管理などを担当。

[鎌倉幕府のしくみ]



[ 侍所 執権 地頭 守護 政所 問注所 ]

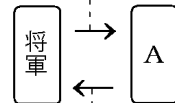
[御恩と奉公]

[問題 10](3 学期)

鎌倉時代の将軍と配下の武士(A)の関係は、右の図のようになる。次の各問いに答えよ。

- (1) 配下の武士(A)を何というか。
- (2) 図中の a, b にあてはまる語句を次の説明を参考にして漢字で書け。

a (領地の保護)



b (合戦に参加)

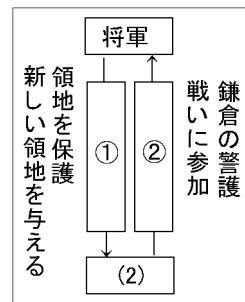
- a: 将軍から、領地を認められ、守護や地頭に任命される。
- b: 「いざ、鎌倉！」というときには、命がけで戦う。

[問題 11](2 学期中間)

次の文を読んで、後の各問いに答えよ。

鎌倉幕府の初代将軍の( )は、彼と主従関係を結んだ武士を統率し、武士による政治のしくみを整えていった。

- (1) 文中の( )にあてはまる人名を答えよ。
- (2) 下線部について、このような武士は何と呼ばれたか。
- (3) 右図について、 , にあてはまる語句を答えよ。



[問題 12](2 学期期末)

次の文章中の ~ に適語を入れよ。

( )とは、将軍(鎌倉殿)が( )の領地を保護し、功績をたてたときには新しく領地を与えることで、( )とは、( )が京都や鎌倉の警備や「いざ鎌倉」と戦いに一族を率いて参加する義務のことである。

[問題 13](後期期末)

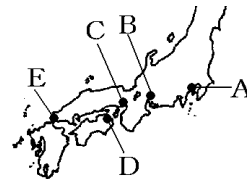
鎌倉時代の将軍と御家人の間の、「御恩」と「奉公」とはどのようなことを意味するか。それぞれ簡潔に説明せよ。

[全般]

[問題 14](3 学期)

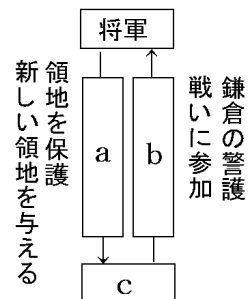
次の年表について、後の各問いに答えよ。

年代	できごと
1185 年	平氏が滅亡。…ア
1185 年	源頼朝が鎌倉幕府を開く。…イ
1192 年	源頼朝が( )に任命される。…ウ



- 年表中のアについて、平家がほろぼされた地名を答えよ。その場所を上の地図中の A~E から選べ。平家をほろぼした源頼朝の弟にあたる武将は誰か。
- 年表中のイについて、源頼朝が朝廷に強くせまって設置することを認めさせた 国ごとに置いた役職は何か。また、荘園や公領ごとに置いた役職は何か。
- 年表中のウの( )にあてはまる語句を答えよ。
- 右図は、源頼朝と配下の武士(図の c)の主従関係を表したものである。a~c にあてはまる語句を答えよ。
- 鎌倉幕府の役職のうち、次の ~ はそれぞれ何か。

- 御家人の統率、軍事を担当。
- 裁判を担当。
- 幕府の財政などを担当。



## 【】 執権政治

### [執権政治]

#### [問題 15](1 学期期末)

次の文の ， に適語を入れよ。

源頼朝の死後，幕府の実権は( )氏に移り，( )氏が( )の地位を独占して幕府の実権をにぎった。これを( )政治という。

#### [問題 16](2 学期期末)

次の各問いに答えよ。

(1) 源頼朝の死後，将軍の権力を弱めて「執権」の地位を独占した人物は誰か。下の[ ] から選べ。

[ 北条時政 源義経 藤原頼通 ]

(2) (1)の人物以後に行われた幕府の政治を何というか。

#### [問題 17](2 学期期末)

源頼朝の死後，北条氏の勢力はどのようになったか。「執権」「実権」という語句を使って説明せよ。

## [承久の乱]

#### [問題 18](1 学期期末)

次の文を読んで，後の各問いに答えよ。

源頼朝の死後，幕府の実権は北条氏に移り，有力な御家人の争いが続いた。第3代将軍の源実朝が殺害される事件が起きると，幕府の動揺を好機とみた上皇は，1221年に，執権北条義時追討の命令を出し，幕府を倒そうと兵をあげた。

(1) 文章中の下線部の上皇とはだれのことか。

(2) このできごとを何というか。

[問題 19](2 学期中間)

次の文章中の ~ に適語を入れよ。

源頼朝の死後、幕府の実権は( )氏に移った。朝廷の勢力の回復を図っていた( )上皇は、第 3 代將軍の源実朝が殺害される事件が起きると、1221 年、執権であった( )追討の命令を出して、幕府を倒すために兵を挙げた。この乱を( )という。

[問題 20](2 学期中間)

次の資料を読んで、後の各問いに答えよ。

(資料) みなの方、よく聞きなさい。これが最後の言葉です。( A )公が B 朝廷の敵 をたおし、幕府を開いてこのかた、官職といい、土地といい、その恩は山より高く、海よりも深いものでした。… 名誉を大事にする者は、C 京都 に向かって出陣し、逆臣をうち取り幕府を守りなさい。

- (1) 資料の言葉は、何という戦乱のときに、だれが訴えたものか。
- (2) A に入る人物は誰か。
- (3) A の人物と(1) の人物の関係は次の[ ]のうちのどれか。1 つ選べ。  
[ 兄と妹 母親と息子 父親と娘 夫と妻 ]
- (4) 下線部 B は次の[ ]のどれをさしているか。次の中から選べ。  
[ 源氏 平氏 將軍 ]
- (5) 下線部 C の京都で幕府を倒す命令を出した朝廷側の中心人物は誰か。
- (6) (5)の人物が倒そうとしていた当時の幕府の執権は誰か。

[承久の乱の結果]

[問題 21](1 学期期末)

承久の乱に勝利した幕府は、乱の首謀者である後鳥羽上皇を隠岐へ流し、京都に朝廷を監視するための役所を置いた。この役所を何というか。

[問題 22](2 学期期末)

次の文章中の ~ に適語を入れよ。

承久の乱に勝利した幕府は、乱の首謀者である( )上皇を( )へ流し、京都に( )を置いて朝廷を監視した。また、上皇に味方した貴族や西日本の武士の領地を取り上げ、その地頭には東日本の武士を任命した。こうして、幕府の支配力は全国的に広がっていちだんと強まった。

[問題 23](2 学期中間)

次の各問いに答えよ。

(1) 承久の乱の後、後鳥羽上皇が流された場所を、右図の A～F から選べ。

(2) 承久の乱の後、幕府が設置した六波羅探題は、どこを監視するために置いたか。また、何という都市に置いたか。

(3) 承久の乱後、上皇に味方した朝廷の人々や武士からとりあげた土地は( )。文中の( )にあてはまる文を下のア～ウから選べ。

ア 東国の武士に恩賞として与えられた

イ すべて幕府のものとした

ウ 上皇に味方した武士にもどされた。

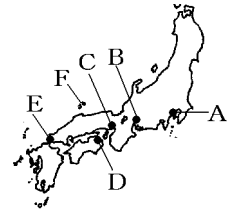
(4) 承久の乱の結果について正しいものを、次のア～エから 1 つ選び記号で答えよ。

ア 幕府の支配力がおとろえた。

イ 幕府の支配力が強まった。

ウ 全国的な戦乱の世となった。

エ 朝廷が政治の実権をにぎった。



[問題 24](2 学期期末)

承久の乱の後、京都に六波羅探題が新設されたが、その目的は何か。「朝廷」という語句を使って説明せよ。

[問題 25](3 学期)

承久の乱後に鎌倉幕府の支配力はどのように変化したか。

[御成敗式目]

[問題 26](3 学期)

1232 年に、武家社会でおこなわれていたそれまでのしきたりや裁判の例をもとに 51 か条からなる法律がつくられた。これを何というか。次の[ ]から選べ。

[ 御成敗式目 大宝律令 建武式目 班田収授法 ]

[問題 27](1 学期期末)

次の文中の ， に適語を入れよ。

1232 年に、執権の( )は、武士の権利や義務をまとめた( )を制定した。

[問題 28](2 学期期末)

次の資料を読んで、後の各問いに答えよ。

「この式目は、ものの道理を書いたものである。真実よりもその人の勢力の強さによって判決したりすることもあるので、あらかじめ裁判の基準を定めて、公平に裁判できるように、こまかく書いておいたのである。律令に比べれば多くの人にわかりやすいように書いてある。また、武家の人々のためにつくったものであるから、このきまりによって朝廷の出す律令のきまりが変更されることはない。」

- (1) 上の資料にある「この式目」とは何か。
- (2) (1)を定めた人物は誰か。
- (3) (1)を定めた目的を資料から抜き出して答えよ。



[全般]

[問題 29](3 学期)

次の年表について、後の各問いに答えよ。

年代	できごと
1199 年	源頼朝が死去。…ア
1221 年	( )の乱が起こる。…イ
1232 年	武士の社会で行われていた慣習をまとめた法律が制定される。…ウ

- (1) 年表中のアについて、源頼朝が死んだ後、実権をにぎったのは何氏か。また、は何という地位を独占したか。
- (2) 年表中のイの( )にあてはまる語句を答えよ。
- (3) (2)の乱を起こした上皇は誰か。
- (4) (2)の乱のとき、御家人に対して「みなの方、よく聞きなさい。これが最後の言葉です。頼朝公が朝廷の敵をたおし、幕府を開いてこのかた、官職といい、土地といい、その恩は山より高く、海より深いものでした。…」と説いたのは誰か。
- (5) (2)の乱に勝利をおさめた幕府は京都に朝廷を監視するための役所を置いた。この役所を何というか。
- (6) 年表中のウについて、この法律を何というか。この法律を制定したのは誰か。

【】 武士と民衆の生活


[地頭の支配]

[問題 30](1 学期期末)

地頭の勢力が強くなり荘園への支配権を拡大していったため、荘園領主との間で争いが激しくなった。荘園領主は幕府に訴えて地頭の年貢未納をおさえようとした。しかし、現地に根を下ろした地頭の行動を阻止することは難しかったため、荘園の半分を地頭に分ける妥協などが行われた。下線部を何というか。漢字 4 字で答えよ。

[問題 31](2 学期期末)

右の資料は土地を地頭と領主(領家)に分けたことを示す絵図である。この資料の説明として正しいものをア～エより 1 つ選べ。



地頭分 領家分(領主分)

- ア 領主の力が強くなった時代で、地頭は口分田を管理した。
- イ 領主の力が強くなった時代で、地頭は領主に従った。
- ウ 地頭の力が強くなった時代で、地頭は領主と同等の力があつた。
- エ 地頭の力が強くなった時代で、守護大名になる者がいた。

[問題 32](2 学期中間)

次の資料からわかることをア～ウから 1 つ選べ。

(資料) 『荘園領主への訴状』

材木の納入のことですが、地頭が何かにつけて人夫としてこき使うので、そのひまがありません。残されたわずかの者を、材木を山から運ぶために送ると、「逃げた農民の畑に麦をまけ」と地頭に追い返されてしまいました。…

- ア 各地で土地の開墾がすすめられた。
- イ 農民は荘園領主と地頭の二重支配に苦しんでいた。
- ウ 農業生産が高まり、農民の生活は向上した。

[武士の生活]

[問題 33](2 学期中間)

武士は、つねに馬や弓矢の武芸によって心身をきたえて、武士らしい心がまえを持つように努力していた。これを「何の道」と呼ぶか。


[問題 34](2 学期期末)

次の文章中の ~ に適語を入れよ。


( )や公領に館を構えた武士は、つねに馬や弓矢の武芸によって心身をきたえていた。「( )」や「武士(もののふ)の道」などと呼ばれる、名誉を重んじ、恥をきらう態度や武士らしい心構えが育っていった。武士の家は、一族の長である( )が中心となって子や兄弟などをまとめ、団結していた。領地は( )相続で、女子にもあたらされたので、女性の地頭も多くいた。

[問題 35](2 学期中間)

下の絵は、日ごろ御家人が行っていた武芸の訓練である。それぞれ何と呼ばれていたか。下の[ ]から選べ。



馬の上からの的にした笠を射る

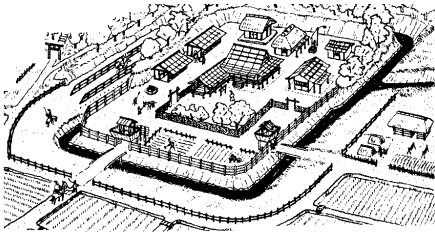


馬の上から連続した3つの的を射る

[ 犬追物 笠懸 流鏝馬 ]

[問題 36](2 学期期末)

下の資料にえがかれている絵の中で、武士の館らしい、敵の攻撃に備えたつくりの特徴を、簡潔に説明せよ。



[農業の発達]

[問題 37](1 学期期末)

鎌倉時代、農業が発達し、1 つの耕地で米と裏作として麦を作る農業が行われた。これを何というか。

[問題 38](3 学期)

次の文章中の ， に適語を入れよ。

鎌倉時代、農業技術が進歩し、農業生産は高まった。( )や馬を使った耕作や、裏作に麦を作る( )が広まり、草や木を焼いた灰が肥料として使われた。

[問題 39](3 学期)

鎌倉時代には農業技術が進歩したが、鎌倉時代に普及した農業技術にあてはまるものを、次のア～エからすべて選び、記号で答えよ。

ア 牛馬による耕作    イ 備中ぐわ    ウ 二毛作    エ 灰を用いた肥料

[商工業の発達]

[問題 40](2 学期中間)

鎌倉時代，寺社の門前や交通の便利なところで，月に 3 回ほど開かれていた市場を何というか。

[問題 41](3 学期)

次の文章中の ， に適語を入れよ。

鎌倉時代には農業生産が高まり，米の裏作に麦をつくる( )も行われるようになった。また，寺社の門前や交通の便利なところで( )が開かれ，米や布などの日用品が売買された。

[問題 42](3 学期)

資料のような定期市は，おもにどのような場所で開かれたか，ア～ウから 1 つ選び，記号で答えよ。

ア 寺社の門前など，交通の便利なところ。

イ 山に囲まれた交通の不便なところ。

ウ 海岸に築かれた石塁のあるところ。



[全般]

[問題 43](1 学期期末)


鎌倉時代の武士と民衆の生活について，次の各問いに答えよ。

(1) 地頭と領主(領家)との間には，争いがたびたび起こった。この争いは幕府によって裁かれ，右の絵図のように土地の半分が地頭にあたえられたりした。これを何というか。

(2) 武士は，つねに馬や弓矢の武芸によって心身をきたえて，武士らしい心がまえを持つように努力していた。これを「何の道」と呼ぶか。

(3) 鎌倉時代，米の裏作として麦を作る農業が行われるようになった。この農業を何というか。

(4) 寺社の門前や交通の便利なところで開かれた市場を何というか。




【】鎌倉時代の文化と宗教

[東大寺南大門・金剛力士像]

[問題 44](2 学期中間)

次の写真を見て、各問いに答えよ。

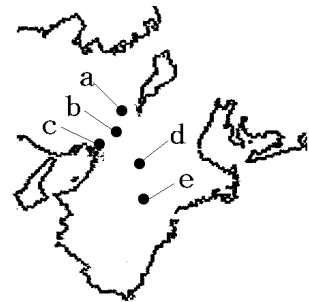


- (1) 写真 A は、現在の奈良市にある寺院の門である。この建物を何というか。
- (2) 写真 B の仏像は、A の内部に置かれている。これを何というか。
- (3) 写真 B から読みとれる、鎌倉時代の文化の特徴にあてはまるものを、次のア～エから 2 つ選べ。  
ア 優美である    イ 貴族の文化    ウ 素朴で力強い    エ 武士の文化

[問題 45](後期期末)

次の各問いに答えよ。

- (1) 右の資料の像を何というか。
- (2) (1)の像の作者は誰か。1 人あげよ。
- (3) (1)の像が置かれている寺の門を何というか。
- (4) (3)の寺のある場所を地図中の a～d から選べ。



- (5) 武士や民衆の力がのびた鎌倉時代の彫刻は、どのような特徴を持っているか。上の資料を見て、簡潔に説明せよ。

[問題 46](2 学期期末)

鎌倉時代の文化の特色を「貴族」「武士や民衆」「力強い」の語句を使って説明せよ。

[文学]

[問題 47](3 学期)

琵琶法師によって広められた漢語や口語をまじえた文章で武士の活躍をえがいた物語は何か。次の[ ]の中から選べ。

[ 源氏物語 平家物語 新古今和歌集 方丈記 ]

[問題 48](2 学期中間)

次の各問いに答えよ。

- (1) 平氏の繁栄と滅亡を情感豊かにえがいた軍記物は何か。
- (2) (1)の軍記物は、誰によって広められていったか。
- (3) 次の ， の随筆の作者を下の[ ]からそれぞれ選べ。

「方丈記」 「徒然草」

[ 紫式部 兼好法師 清少納言 鴨長明 ]

- (4) 後鳥羽上皇の命令で編集された和歌集は何か。

[問題 49](2 学期中間)

次の ~ にあてはまる文学作品を答えよ。

後鳥羽上皇の命令で藤原定家らが編集した和歌集。

鴨長明が社会のむなしさを説いた随筆。

兼好法師が書いた随筆。

[問題 50](2 学期期末)

次の ~ の書き出しで始まる文学作品名を書け。

祇園精舎の鐘の声，諸行無常の響きあり。…

ゆく河の流れは絶えずして，しかももとの水にあらず。…

つれづれなるままに，日ぐらし硯(すずり)にむかいて，…

[鎌倉仏教]

[問題 51](2 学期中間)

鎌倉時代には、新しい仏教の教えが広まった。これについて、次の各問いに答えよ。

(1) 次の念仏の 3 つの宗派名を下の[ ]から選んで、それぞれ書け。

法然は、阿弥陀如来の救いを信じて一心に念仏を唱えることを説いた。

親鸞は、自分の罪を自覚した悪人こそが救われると説いた。

一遍は、布教の方法として踊念仏を取り入れ、全国を歩きまわって布教した。

(2) 「法華經の題目を唱えれば、人も国家も救われる」と説いた宗派名を下の[ ]から選んで書け。

(3) 宋にわたった栄西や道元によって日本に伝えられた宗派名を下の[ ]から選んで書け。

[ 天台宗 時宗 日蓮宗 浄土宗 禅宗 浄土真宗 ]

[問題 52](1 学期期末)

次の表は、鎌倉時代の仏教の宗派である。～ にあてはまる人物名を入れよ。ただし、と は順不同である。

宗 派	人物	内 容
浄土宗		一心に念仏を唱えれば極楽浄土に往生できる。
浄土真宗		自分の罪を自覚した悪人ほど救われる。
時宗		踊念仏
法華宗		題目を唱えれば人も国家も救われる。
禅宗	・	座禅を組むことによって自分の力でさとりを開く。



[問題 53](3 学期)

次の表は鎌倉時代におこった新しい仏教を示したものである。～ にあてはまる語句を書け。

宗派名	人物名	教 え
( )	法然	どのような人間でも、阿弥陀如来の力にすぎり、( ) (2 字) を唱えれば、極楽浄土に生まれ変わることができる。
時宗	( )	心ひとすじに( )を唱え、踊ることによって、仏の境地に達することができる。
( )	親鸞	自分の罪の深さを自覚し、( )を唱えるものは、悪人こそ救われる。
臨済宗	( )	仏の教えの中心は禅であり戒律であるとし、国が禅を保護し、戒律を守る者が増えれば、国は守られる。
曹洞宗	道元	文字や知識に頼らず、ひたすらに座禅を行なうことによって、仏の境地に達することができる。
( )	( )	シャカのほんとうの教えは法華経にあり( ) (2 字) を唱えれば、国も人も安らかになる。

[問題 54](2 学期期末)

右の表を見て、次の各問いに答えよ。

- 右の表中の A～D にあてはまる宗派名や開祖名を書け。
- 次の仏教の教えは、表中のア～オのどれにあてはまるか。1 つずつ選び、記号で書け。

宗派	開祖	教え
浄土宗	(A)	ア
(B)宗	親鸞	イ
日蓮宗	日蓮	ウ
(C)宗	栄西・道元	エ
時宗	(D)	オ

座禅により自分の力でさとりを開く。

諸国を歩いて布教し、踊念仏をはじめ。

「南無妙法蓮華経」と唱えれば、人も国家も救われる。

[問題 55](2 学期中間)

次の各問いに答えよ。

- 右の資料は時宗の信仰の様子がえがかれている。何をしているところか。漢字 3 字で答えよ。
- 「南無阿弥陀仏」を何というか。漢字 2 字で答えよ。
- 「南無妙法蓮華経」を何というか。漢字 2 字で答えよ。
- 禅宗では、何による修行を重んじたか。漢字 2 字で答えよ。



[問題 56](2 学期期末)

次の各問いに答えよ。

- (1) 念仏を漢字 6 字で書け。
- (2) 題目を漢字 7 字で書け。

[問題 57](2 学期中間)

鎌倉時代の新しい仏教の特色を次のア～エから 1 つ選べ。

- ア いずれも人里離れた山奥での修行を重んじた。
- イ 武士の気風に合った宗派が多かったことから、幕府に保護された。
- ウ わかりやすく、実行しやすい教えが多く、武士や民衆の間に広まった。
- エ 武家の精神に反するとして、幕府より厳しい迫害を受けた。

[問題 58](2 学期中間)

鎌倉時代に新しい仏教がおこってきたが、それらの教えが急速に広まっていった理由を簡潔に説明せよ。

[全般]

[問題 59](3 学期)

次の各問いに答えよ。



C

祇園精舎の鐘の聲、  
諸行無常の響あり。  
娑羅双樹の花の色、  
盛者必衰のことはりをあらはす。  
おこれる人も久しからず、  
只春の夜の夢のごとし。  
たけき者も逐にはほろびぬ、  
偏に風の前の塵に同じ。

- (1) 写真 A は、現在の奈良市にある寺院の門である。この建物を何というか。
- (2) 写真 B の像は、A の内部に置かれている。この像を何というか。
- (3) (2)の作者は誰か。1 人あげよ。
- (4) B に見られる、この時代の文化の特徴を次から 1 つ選んで記号で答えよ。  
ア 素朴で力強い    イ 世のはかなさ    ウ 貴族の優美な感情
- (5) 資料 C は、武士の活躍をえがいた軍記物の代表作の一部である。この作品名は何か。
- (6) (5)の軍記物は、誰によって広められていったか。
- (7) 後鳥羽上皇の命令で藤原定家らが編集した和歌集は何か。
- (8) 「徒然草」の作者は誰か。
- (9) 「方丈記」の作者は誰か。
- (10) 鎌倉仏教について、次の ~ に関係のある宗派の名前と、それを開いた人物の名前を答えよ。

諸国を歩いて布教し、踊念仏をはじめ。

自分の罪の深さを自覚し、念仏を唱えるものは、悪人こそ救われる。

題目を唱えれば人も国家も救われる。

一心に念仏を唱えれば極楽浄土に往生できる。

座禅を組むことによって自分の力でさとりを開く。

(宗派名は漢字 2 字で答えよ。人物は 2 人あげよ)

【】モンゴルの襲来と鎌倉幕府の滅亡

[モンゴル帝国・元]

[問題 60](2 学期期末)

13 世紀のはじめ,モンゴル高原で遊牧生活をしていたモンゴルの部族を統一して国を建設したのは誰か。

[問題 61](2 学期期末)

次の文章中の ~ に適語を入れよ。

13 世紀の初め,( )はモンゴル民族を統一して国を建設した。( )の子や孫は,その国を広大なユーラシア大陸の東西にまたがる( )帝国に成長させた。5 代目の( )は,( )帝国のうち,中国・モンゴルなどの地域を本国として,国号を( )と定めた。( )に来て( )に仕えたイタリアの商人( )は,「東方見聞録」を著して日本のことを「黄金の国ジバング」としてヨーロッパに紹介した。

[問題 62](3 学期)

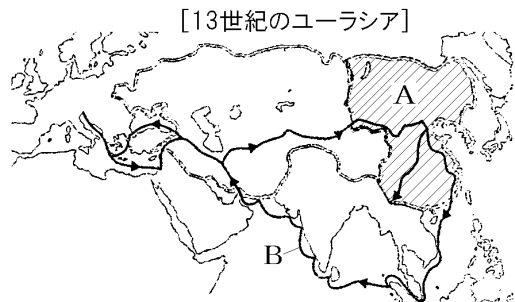
右の地図を見て,後の各問いに答えよ。

- (1) 地図中 A の国名と都を答えよ。
- (2) A の国を建国した皇帝の名前を答えよ。
- (3) (2)の人物は,1279 年に中国のある王朝をほろぼして中国全土を支配下に置いた。中国の何という王朝をほろぼしたのか。
- (4) 地図中 B は,(2)の人物につかえ,その著書の中で日本をヨーロッパに紹介したイタリア商人の通った行路である。

この商人の名を答えよ。

日本を紹介した著書の名前を答えよ。

の中で日本を「 の国ジバング」と紹介している。 にあてはまる語句を答えよ。



[元寇]

[問題 63](1 学期期末)

元のフビライ・ハンは日本に服属を求める使者を送ってきたが、これを執権の北条時宗が退けたため、1274 年と 1281 年の 2 度にわたって日本に攻め込み、集団戦法と優れた火器で幕府軍をなやませた。この 2 度にわたる元の襲来をあわせて何というか。

[問題 64](後期期末)

次の各問いに答えよ。



- (1) 上の絵にえがかれている戦いを何というか。漢字 2 字で書け。
- (2) (1)のときの、幕府の執権は誰か。敵国の皇帝は誰か。
- (3) (1)の戦いで、日本側からみて、敵側の戦い方の特徴を 2 つ書け。

[問題 65](2 学期期末)

次の文章中の ~ に適語を入れよ。

フビライ・ハンは朝鮮半島の( )を征服した後、日本も従うようにと使者を送ってきた。幕府の執権( )は使者を斬って、これを拒絶した。1274 年、元は( )の軍勢も合わせて九州の博多湾に上陸し、( )戦法とすぐれた( )によって日本軍をなやましたすえ、引き上げた(( )の役)。さらに、1281 年、約 14 万の大軍で襲来した。幕府軍は、博多湾沿いに築いた( )を利用して戦った。元の大軍は上陸できないまま、暴風雨に襲われて大損害を受けて退却した(( )の役)。この 2 度の元の襲来をあわせて( )という。

[問題 66](3 学期)

次の各問いに答えよ。

図1




図2



- (1) 元は 1274 年と 1281 年の 2 度にわたって日本に襲来したが、これをあわせて何と  
いうか。
- (2) (1)のときの元の皇帝は誰か。
- (3) (1)のときの鎌倉幕府の執権は誰か。
- (4) 図 1 は 1274 年に元が襲来したときの様子である。この戦いを何の役というか。
- (5) (4)の戦いのとき、元が攻めてきたのはどこか。地名を答えよ。その場所は図 2  
のア～カのうちのどこか。記号で答えよ。
- (6) 図 1 の A, B のうち、日本軍はどちらか。
- (7) 元軍が日本軍を苦しめた理由について、図 1 を参考に、簡潔に説明せよ。
- (8) 右の資料は、元軍との 1 回目の戦いの後、元の再度の襲  
来に備えて、日本軍が(5)の湾岸に築きあげたものである。  
これを何というか。
- (9) 元は、中国の何という王朝をほろぼしたあと、ふたたび  
日本に襲来したか。
- (10) (9)の戦いを何の役というか。
- (11) (4)の役と(10)の役では、どちらが日本に来襲した兵の数が多いか。「      の役」と  
いう形で答えよ。



[御家人の不満]

[問題 67](2 学期期末)

次の文章中の ~ に適語を入れよ。

元寇は、国内の戦いと違って、戦いに勝っても敵の( )を得たわけではないので、幕府は合戦に参加した武士に恩賞として( )を与えることができなかった。鎌倉時代の将軍と御家人の関係は、御家人が一族を率いて戦いに参加するなどの( )と、戦いに勝ったときは( )を与えるという( )によって支えられていた。戦いに参加したのに( )がもらえないというのは、この関係を破るものであり、御家人は幕府に対して不満をいだくようになった。

[問題 68](3 学期)

元との合戦に参加した武士が幕府に不満を持つようになった理由を、「恩賞」という語句を使って簡潔に説明せよ。

[問題 69](3 学期)

元寇のとき命がけで戦った御家人に、幕府は恩賞として土地を与えることができなかったが、それはなぜか。簡潔に説明せよ。

[永仁の徳政令]

[問題 70](3 学期)

領地の分割相続などによって生活が苦しくなっていた御家人を救うために、1297 年に鎌倉幕府が出した法律は何か。

[問題 71](3 学期)

次の各問いに答えよ。

[資料]

領地の質入れや売買は、御家人の生活が苦しくなるもとなので、今後は禁止する。・・・御家人以外の武士や庶民が御家人から買った土地については、売買後の年数にかかわらず、返さなければならない。

- (1) 1297 年に出された上の法律を何というか。
- (2) (1)の法律の目的を「御家人」という語句を使って説明せよ。

[問題 72](3 学期)

永仁の徳政令を幕府が出したのは、御家人の生活を救うためである。この当時、幕府の御家人の生活が苦しくなった原因を「相続」の語句を用いて説明せよ。

[鎌倉幕府の滅亡]

[問題 73](3 学期)

鎌倉幕府への反感が強まる中、政治の実権を朝廷に取りもどすために兵を挙げ、鎌倉幕府をほろぼした天皇は誰か。

[問題 74](3 学期)

次の文の ~ にはいる適語を下の[ ]からそれぞれ選べ。

御家人は、元寇のときに多くの費用を使ったのに、恩賞を十分に与えられなかったため、幕府に不満をもつようになった。また、農業と商業の発達は、御家人たちの生活に大きな影響をあたえた。御家人のなかには、( )からの借金が返せなくて、領地を失う者も出てきた。幕府は( )を出して、売ったり質流れになったりした土地を、もとの持ち主にただで返させようとした。しかし、効果は一時的なもので、かえって幕府は信用を失う結果になった。

このようにして、鎌倉幕府はゆるぎはじめた。そのうえ、武士のなかには鎌倉幕府の政治や荘園の支配に反抗する者も出はじめた。このような人たちを悪党と呼んだ。

こうした幕府のおとろえをみて、( )は、幕府をたおして( )中心の政治を取りもどそうと考え、( )など悪党と呼ばれた武士たちによびかけて兵をあげた。これに対して幕府は、大軍を京都にのぼらせた。しかし、有力な御家人の( )は、幕府にそむいて、1333 年、京都の六波羅探題を攻め落とし、( )も鎌倉に攻め込んで、鎌倉幕府をほろぼした。

鎌倉幕府がほろびると ( )は( )中心の政治をめざした。この政治を( )という。

[ 足利尊氏 足利義満 足利義政 新田義貞 楠木正成 後醍醐天皇 後鳥羽上皇  
高利貸し 徳政令 天皇 貴族 建武の新政 ]



[全般]

[問題 75](前期中間)

次の各問いに答えよ。

- (1) 13世紀のはじめ、モンゴル高原で遊牧生活をしていたモンゴルの部族を統一した人物は誰か。
- (2) (1)の子や孫が建設した帝国の名前を答えよ。
- (3) (2)の帝国のうち、中国・モンゴルなどの地域を支配した5代目の皇帝は誰か。
- (4) (3)は国号を何と定めたか。漢字1字で答えよ。
- (5) (3)に仕えて、のちに「東方見聞録」を書いたイタリア人は誰か。
- (6) (4)が、2度にわたり日本をおそったことを何というか。
- (7) (6)のときの日本の執権の名前を答えよ。
- (8) (4)の軍隊が日本軍を苦しめた理由について、「集団」「火器」という語句を使って簡潔に説明せよ。
- (9) (4)の再度の襲来に備えて、日本軍が博多湾岸に築きあげたものは何か。
- (10) 次の文中の　　、　　にあてはまる語句を書け。

鎌倉時代の将軍と御家人は、御恩と(　　)の関係を築いてきた。しかし(4)との戦いで、恩賞として(　　)を与えることができなかつたため、この関係はゆらぎ始めた。

- (11) 次の資料は、1297年に出されたものである。この法律を何というか。

領地の質入れや売買は、御家人の生活が苦しくなるもとなので、今後は禁止する。… 御家人以外の武士や庶民が御家人から買った土地については、売買後の年数にかかわらず、返さなければならない。
- (12) 鎌倉時代後期、幕府の政治に抵抗するようになった、御家人ではない武士を何というか。

(13) 鎌倉幕府への反感が強まる状況の中、政治の実権を朝廷に取りもどすために兵を挙げた天皇は誰か。
- (14) 幕府にそむいて、京都の六波羅探題を攻めた有力な御家人は誰か。

【】総合問題

[問題 76](要点整理)

次の年表中の ~ に適語を入れよ。

年代	おもなできごと
1185 年	( )が,( )(現在の山口県)で平氏をほろぼす。
1185 年	国ごとに( ), 荘園や公領ごとに( )を設置し, ( )が( )幕府を開く。
1192 年	( )が( )に任命される。 将軍と( )の主従関係: 将軍は( )として( )に以前からの領地を保護し新しい領地を与えた。( )は将軍に忠誠を誓い,( )をした。 ( )の死後, 北条氏が( )の地位を独占して( )政治を行う。
1221 年	( )上皇が( )の乱を起こすが, 敗れる。 ( )の乱後, 幕府は, 京都に( )を置いて朝廷を監視。
1232 年	公正な裁判を行うために, 北条泰時が( )を制定。  農業: 米の裏作に麦をつくる( )が行われるようになった。 商業: 寺社の門前などで( )市が開かれた。



[問題 77](要点整理)

次の年表中の ~ に適語を入れよ。

年代	おもなできごと
13 世紀初	( )・ハンがモンゴルの部族を統一し、その子孫が( )帝国を建設。
1271 年	5 代目の( )・ハンが、都を大都(北京)に移し国号を( )と定める。
1274 年	文永の役：( )の軍が、博多湾岸に襲来。幕府の執権は( )。 ( )戦法とすぐれた( )により幕府軍をなやませる。
1281 年	弘安の役：博多湾岸に築いた( )などの防備で応戦。 文永の役と弘安の役をあわせて( )という。 幕府は恩賞として土地を与えることができなかった 御家人の不満。 ( )相続により土地が細分化されて御家人の生活が苦しくなる。 荘園領主や幕府に従わず、年貢をうばう( )と呼ばれる武士も登場。
1297 年	( )令：御家人を救うために幕府が出す。 ( )天皇が、朝廷に実権を取りもどすために幕府を倒そうとする。
1333 年	( )の楠木正成や、有力御家人の( )や新田義貞が味方して、鎌倉幕府をほろぼす。

[問題 78](要点整理)

次の表中の ~ に適語を入れよ

<p>仏教</p>	<p>( )宗:( )(開祖):念仏を唱えれば極楽浄土に往生できる。          ( )宗:( )(開祖): の弟子。罪を自覚した悪人ほど救われる。          ( )宗:( )(開祖):踊念仏          ( )宗:( )(開祖):題目を唱えれば人も国家も救われる。          ( )宗:曹洞宗の( ),臨済宗の( )。座禅。</p>
<p>美術</p>	<p>Aは( )門。Bは( )像で作者は( )。</p> <div style="display: flex; justify-content: space-around; align-items: center;"> <div style="text-align: center;"> <p>A</p>  </div> <div style="text-align: center;"> <p>B</p>  </div> </div>
<p>文学</p>	<p>( ):「祇園精舎の鐘の声,・・・」( )が語り伝える。          徒然草:( )(作者)          方丈記:( )(作者)          ( )和歌集:後鳥羽上皇の命令で編集された。</p>

[問題 79](後期期末)

右の年表を見て，次の各問いに答えよ。

(1) A について，源義経が平氏をほろぼした場所はどこか。

(2) B について，1185 年に，源頼朝が国ごとに置くことを朝廷に認めさせた，軍事や警察の仕事を担当する役職を何というか。荘園や公領に置くことを朝廷に認めさせた，年貢の取り立てや犯罪の取りしまりなどをおこなう役職を何というか。

(3) C の( )に適語を入れよ。

(4) D の( )に適語を入れよ。

(5) E について，この乱を起こした上皇の名前を答えよ。

(6) F について，御成敗式目を制定した人物の名前を答えよ。

(7) F はどのような法律であったか。「慣習」という語句を使って説明せよ。

(8) G と H をあわせて何というか。

(9) (8)のときの元の皇帝の名前を答えよ。

(10) (8)で日本軍を悩ませたのは元軍の( )戦法とすぐれた( )の使用であった。  
 , に適語を入れよ。

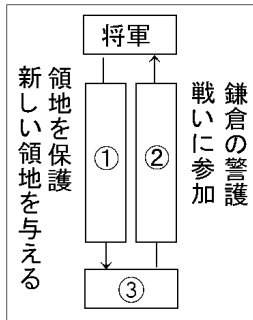
(11) I は，借金に苦しむ御家人を救うため，幕府が出したものである。I の( )内に適する語句を書け。

年代	できごと
1185 年	源義経が平氏をほろぼす。…A
1185 年	鎌倉幕府の成立。…B
1192 年	源頼朝が( )に任命される。…C
1203 年	北条時政が( )になる。…D
1221 年	承久の乱がおこる。…E
1232 年	御成敗式目を制定。…F
1274 年	文永の役。…G
1281 年	弘安の役。…H
1297 年	永仁の( )令。…I
1333 年	鎌倉幕府の滅亡。

[問題 80](3 学期)

右の年表を見て、次の各問いに答えよ。

- (1) A, B について、次の図は將軍とそれに従う武士の關係を表している。～に適語を入れよ。



年代	できごと
1185 年	鎌倉幕府の成立。…A
1192 年	( )が征夷大將軍になる。…B
1203 年	北条氏の( )政治が始まる。…C
1221 年	後鳥羽上皇が( )の乱をおこす。…D
1232 年	北条泰時が( )式目を制定。…E
1274 年	文永の役。…F
1281 年	弘安の役。…G
1297 年	永仁の徳政令。…H
1333 年	鎌倉幕府の滅亡。

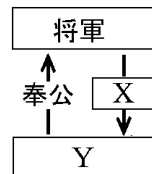
- (2) B の( )にあてはまる人物名を答えよ。
- (3) C の( )にあてはまる語句を漢字 2 字で答えよ。
- (4) D の( )にあてはまる語句を漢字 2 字で答えよ。
- (5) D の乱の後、朝廷を監視する目的で京都に置かれた役職は何か。
- (6) E の( )にあてはまる語句を漢字 3 字で答えよ。
- (7) F, G で日本に攻めてきた 中国の王朝名を答えよ。 また、そのときの鎌倉幕府の執権の名前を答えよ。
- (8) F の後、幕府は博多湾の海岸沿いにあるものを築いて、次の襲来に備えた。何を築いたか。漢字 2 字で答えよ。
- (9) H の法律は何のために出されたか。「御家人」という語句を使って簡潔に説明せよ。
- (10) 次の文章中の , に適語を入れよ。

鎌倉時代には米の裏作に麦をつくる( )作が発達した。また、寺社の門前などで定期的に( )が開かれるようになった。

[問題 81](2 学期中間)

次の各問いに答えよ。

- (1) 関東の武士団の棟梁として初めて幕府を開いた人物の名前を漢字 3 字で答えよ。
- (2) 壇ノ浦の戦いで平氏を滅亡に追い込んだ，(1)の人物の弟の名前を書け。
- (3) 右図は鎌倉幕府を支えていた主従関係を表したものである。X，Y にあてはまる語をそれぞれ書け。
- (4) 次の図は鎌倉幕府の組織図である。～ にあてはまる役職名を答えよ。



- (5) (4)の図中の六波羅探題は，1221 年に起こった乱の後に設置された役所である。1221 年に起きた乱を何というか。この乱を起こした上皇は誰か。
- (6) 武士の慣習をまとめて 1232 年に出され，武家政治の基準となった法律を何というか。また，この法律を定めた人物は誰か。
- (7) 13 世紀はじめ，モンゴルの部族を統一して国家をつくったのは誰か。
- (8) (7)の子孫がつくったユーラシア大陸の東西にまたがる帝国は何か。
- (9) 5 代目のハン(王)となったのは，誰か。
- (10) (9)の人物は，1271 年に都を大都に移し国号を「元」とした。さらに，1279 年に中国のある王朝をほろぼして中国全土を支配下に置いた。中国の何という王朝をほろぼしたのか。
- (11) (9)の人物につかえたイタリア商人の名前を答えよ。
- (12) (11)の人物は，日本のことを「東方見聞録」の中で，どんな国と紹介したか。
- (13) 元が 1274 年と 1281 年の 2 度にわたって日本に攻めてきたできごとを何というか。
- (14) (13)で日本軍は元の戦い方や武器のどんな点に悩まされたか。2 つあげよ。
- (15) 元との戦いに参加した武士が幕府に不満を持つようになった理由を，「恩賞」という語句を使って簡潔に説明せよ。

[問題 82](1 学期期末)

次の ~ の文章にもっとも関係する場所を  
地図中から 1 つずつ選び、記号で答えよ。

- 平家が滅んだ。
- 源頼朝が幕府を開いた。
- 六波羅探題が置かれた。
- 御家人たちが石塁を築いた。



[問題 83](前期期末)

次の文を読み、後の各問いに答えよ。

右の資料は、( )の南大門にある( )像で、作者は( )  
である。この作品は a 鎌倉時代の文化の特色をよく表している。文学  
では、軍記物の代表で、源氏と平氏の争いを生き生きとえがいた  
「( )」が( )法師によって語られ、人々に親しまれた。



随筆では、( )が書いた「徒然草」や鴨長明が書いた「方丈記」  
がある。和歌集としては後鳥羽上皇の命令で編集された( )和歌  
集がある。また、この時代には民衆や武士の心のよりどころとして、

b 新しい仏教の教えが広まった。これらはわかりやすく、実行しやすかったので、多く  
の人々の心をとらえた。

- (1) 文中の ~ に適する語句を答えよ。
- (2) 文中の下線部 a について、資料の像からわかる鎌倉時代の文化の特色として適切な  
ものを、次のア～エから 1 つ選べ。

- ア 日本の独自の文化    イ 力強い武士の文化
- ウ 国際色豊かな文化    エ 優美な貴族の文化

- (3) 文中の下線部 b について、次の ~ の教えを説いた人物と、その人物が開いた宗  
派をそれぞれ答えよ。ただし、の宗派は 2 文字で、人物は 2 人あげよ。

- 一心に念仏を唱えれば、だれでも極楽浄土に生まれ変わる。
- 自分の罪を自覚した悪人ほど救われる。
- 法華経の題目を唱えれば、人も国も救われる。
- 布教の方法として踊念仏を取り入れた。
- 座禅を組むことによって自分の力でさとりを開く。