

【】世界の気候

【】熱帯

[問題](1学期中間)

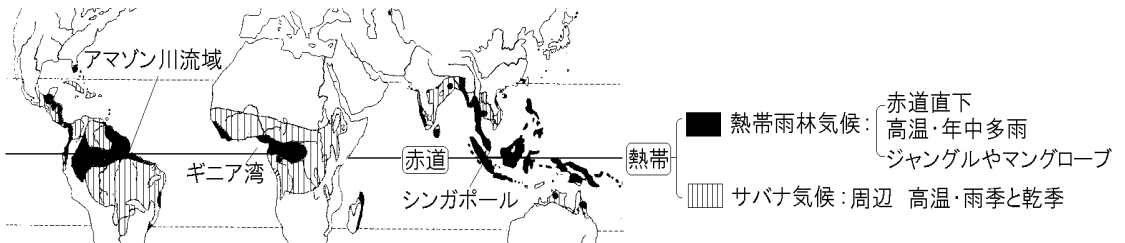
次の地図中の■の部分の気候帯を[]内から選んで書きなさい。

[寒帯 温帯 熱帯 乾燥帯]

[解答欄]

[解答]熱帯

[解説]



熱帯は赤道を中心に広がっており、一年中気温が高く、雨量も多い。とくに赤道直下では、強い日射であたためられた空気が上昇気流となるため、雲が発生しやすく、年中雨が多い熱帯雨林気候になっている。高温・多雨の気候は植物の生育をもたらし、高い木や低い木が何層にも重なった密林(ジャングル)や、河口の岸边にマングローブの森林をみることができる。

熱帯が広がっているのは、南米ブラジルのアマゾン川流域、アフリカ中央部ギニア湾沿岸、東南アジア一帯(赤道はシンガポール付近を通る)である。

[問題](増補 10)(補充問題)

「植物の種類が多く、高い木や低い木が何層にも重なった密林や、河口の岸边にマングローブの森林をみることができます。」この気候帯の名を書きなさい。(岐阜県)

[解答欄]

[解答]熱帯

[問題](増補 10)(1 学期期末)

赤道直下の沿岸部では、どのような森林が見られるか。次の[]から 1 つ選びなさい。

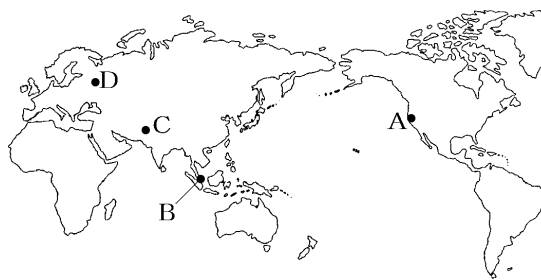
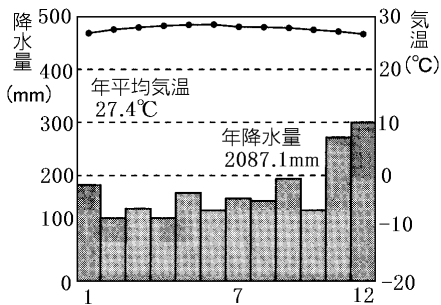
[ステップ タイガ ツンドラ マングローブ]

[解答欄]

[解答]マングローブ

[問題](増補 10)(補充問題)

左下の資料は、ある都市の気温と降水量を表したグラフである。この都市を、地図中の印 A~D から 1 つ選び、その記号を書きなさい。また、グラフからどのようなことを読み取って、その都市を選択したか、簡潔に書きなさい。(高知県)



[解答欄]

[解答] B 一年を通して高温で、降水量も多いから。

[解説]

熱帯は赤道付近にあるため、気温は一年中高い(最寒月の平均気温は 18 以上)。また、雨も多いのも熱帯の特徴である。とくに、シンガポール(B)のように赤道直下の地点は、熱帯の中でも、熱帯雨林気候という気候に分類され、問題の雨温図のように、各月の気温はつねに 18 をこえ、年中雨が多い。

熱帯雨林気候のまわりには、木々がまばらで、たけの長い草原がひろがっている。この草原をサバナといい、この気候をサバナ気候という。サバナ気候も熱帯に分類され、雨が多く降る雨季と、雨がほとんど降らない乾季がある。樹木は乾季に耐えられるものだけが育つことができる。そのため、木々がまばらに生える草原が広がっている。

[問題](増補 10)(2 学期中間)

熱帯は赤道を中心に広がっていて、一年中暑く、季節の区別がない。a 降水量が一年中多い地域と、b 雨が多く降る雨季と、雨があまり降らない乾季とがある地域がある。

- (1) 下線部 a について、この地域で育つ森林を何というか。
- (2) 下線部 b について、この地域にまばらに木の生えた草原の名前からついた、この地域の気候の名前を答えよ。

[解答欄]

(1)	(2)
-----	-----

[解答](1) 熱帯林(熱帯雨林) (2) サバナ気候

【】乾燥帯

[問題](1 学期中間)

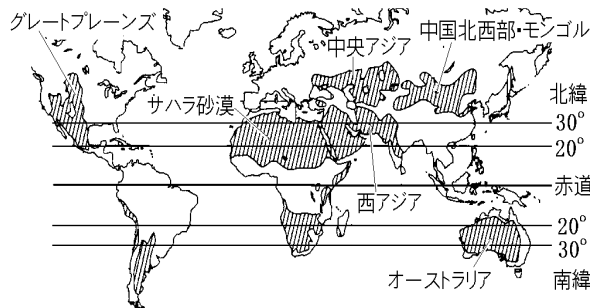
右の地図中の [] の部分の気候帯を [] 内から選んで書きなさい。

[寒帯 温帯 熱帯 乾燥帯]

[解答欄]

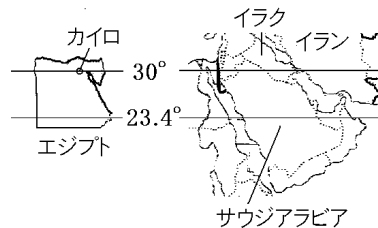
[解答]乾燥帯

[解説]



乾燥帯
 砂漠気候(雨が降らない→砂漠)
 ステップ気候(少しだけ雨が降る→草原)

世界の砂漠の多くは南北の回帰線上に存在する。その理由はこうである。上昇気流があるところでは雲ができて雨が多い。下降気流があるところでは雲は消えて天気がよい。赤道付近では、太陽の熱によって暖められた空気が上昇するため、一年中雨が多い(熱帯雨林気候)。上昇した空気は高緯度に向かって移動し、回帰線付近(23.4 度)で下降する。そのため回帰線付近ではほとんど雨が降らない砂漠になっている。砂漠気候の周辺は少しだけ雨が降り、短い草の草原が広がるステップ気候になっている。砂漠気候とステップ気候をあわせて乾燥帯という。北アフリカでは、サハラ砂漠が広がり、エジプト(首都はカイロ)も国土のほとんどが砂漠気候である。アラビア半島にあるサウジアラビアは国土の真ん中を北回帰線が通っており、国土の大部分が砂漠におおわれている。イラクやイランも乾燥帯である。インドもほぼ中央を北回帰線が通っており西部は乾燥帯になっている。(インド東部～中国南部にも北回帰線が通っているが、この地域はモンスーンの影響で雨が多くなっている。) 南半球では、南回



帰線が国土の中央を走るオーストラリアは国土の大部分が砂漠になっている。

回帰線付近以外にも乾燥帯が広がっている。ユーラシア大陸では、中央アジアや中国北西部～モンゴルにかけて砂漠や乾燥した草原が広がっている。大陸内部では海岸から遠く離れているため湿った空気が供給されず、雨がほとんど降らない。北アメリカ大陸では、ロッキー山脈の東側に広がるグレートプレーンズは乾燥した気候になっている。

[問題](2 学期期末)

気候帯で、砂漠が広がるのはどの気候帯か。次から選びなさい。

[温帯 乾燥帯 熱帯 寒帯]

[解答欄]

[解答]乾燥帯

[問題](増補 10)(1 学期期末)

乾燥帯に見られる、岩石や砂からなる地域を何といいますか。

[解答欄]

[解答]砂漠

[問題](増補 10)(1 学期期末)

右のグラフは、エジプトの首都カイロの気候を示した雨温図である。カイロが属する気候帯名を書きなさい。

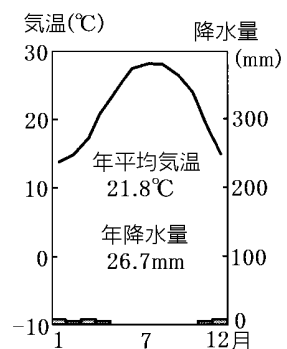
(青森県)

[解答欄]



[解答]乾燥帯


[解説]

年間降水量が 26.7mm と極端に少ないことから、乾燥帯の砂漠気候であることがわかる。(ちなみに、日本の年間降水量は 1000～2000 mm)



[問題](増補 10)(補充問題)

右の写真は、地図の  で示した地域でよく見られる景観である。 で示した地域はどんな気候帯に属していると考えられるか、書きなさい。(熊本県)




[解答欄]

--

[解答]乾燥帯

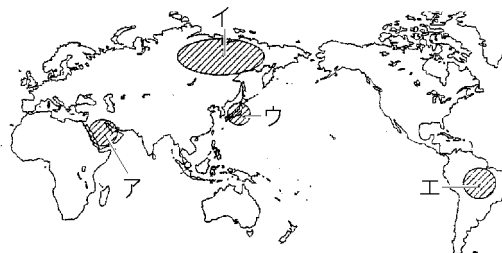
[解説]

地図の  は中国北部～モンゴルの一帯で乾燥帯に属する。写真のような草原が広がっていることから、乾燥帯の中でも、少しだけ雨が降り背の低い草原が広がるステップ気候であることがわかる。

[問題](増補 10)(2 学期中間)

乾燥帯は雨が少ない地域で、a 砂漠や b 背の低い草原が広がっている。昼と夜の気温差が大きい。砂漠の中には c オアシスとよばれる水のある場所もある。

- (1) 下線部 a について、この地形が見られる地域を、右の地図中のア～エより 1 つ選べ。
- (2) 下線部 b について、この地域に見られる背の低い草原の名前から付いた、この地域の気候の名前を答えよ。
- (3) 下線部 c について、この地域で主に栽培されている植物を次の[]から 1 つ選べ。



[ココやし なつめやし じゃがいも 米]

[解答欄]

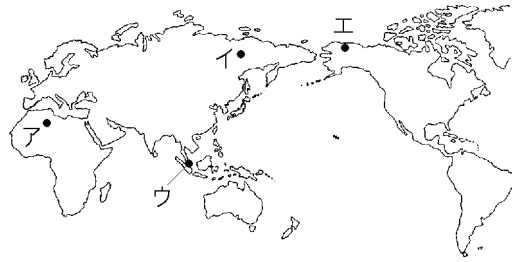
(1)	(2)	(3)
-----	-----	-----

[解答](1) ア (2) ステップ気候 (3) なつめやし

[問題](2学期中間)

次の気候にあたるところを右の地図中のア～エから選び、それぞれ記号で答えよ。

- (1) 降水量がきわめて少なく、砂漠が広がっている。
- (2) 一年中高温で雨が多い。森林が広がっている。



[解答欄]

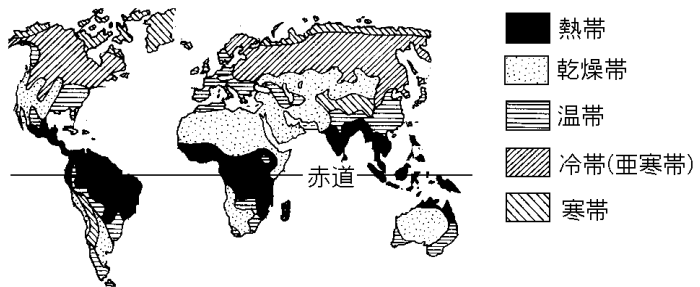
(1)	(2)
-----	-----

[解答](1) ア (2) ウ

[解説]

(1) 地図のアはサハラ砂漠北部で、降水量がきわめて少ない乾燥帯である。

(2) 一年中高温で雨が多いのは赤道直下の熱帯である。赤道は地図のウの位置を通っている。



【】 温帯

[問題](増補 10)(1 学期期末)

次の各問いに答えなさい。

- (1) 温帯の中で日本のように、湿気が多く、四季の変化がはっきりした気候を何といいますか。
- (2) 温帯の中で夏はずすしく、冬は緯度が高いわりに暖かく、一年を通して平均して雨が降る気候を何といいますか。
- (3) 温帯の中で地中海地方に見られる、雨はおもに冬に降り、夏は乾燥する気候を何といいますか。

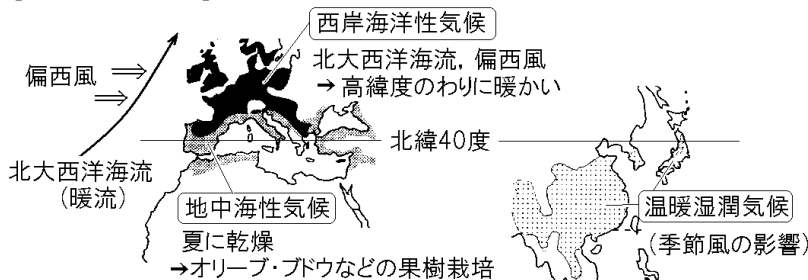
[解答欄]

(1)	(2)	(3)
-----	-----	-----

[解答](1) 温暖湿潤気候(温帯湿潤気候) (2) 西岸海洋性気候 (3) 地中海性気候

[解説]

[温帯の3つの気候]



温帯は四季の変化があり、一般に雨が多めで暖かい。そのため、米や小麦などの生産量が多く、牧畜もさかんで、多くの人々が生活している。温帯は、さらに、温暖湿潤気候(温帯湿潤気候)、西岸海洋性気候、地中海性気候の3つに分けられる。

日本を含むアジアは温暖湿潤気候(温帯湿潤気候)である。季節風(モンスーン)の影響を受け、夏は熱帯のように高温多雨であるが、冬は寒さが厳しい。四季の変化がもっとも明確である。

西ヨーロッパの大西洋岸は大西洋を流れる北大西洋海流(暖流)と其上を一年中西からふく偏西風の影響を受けて、高緯度のわりに温和な西岸海洋性気候になっている。一年間を通して、気温や降水量の変化が小さいことが特徴である。

ヨーロッパの地中海沿岸の気候は地中海性気候である。夏の降水量が極端に少ないのが特徴で、夏の乾燥に耐えられるオリーブ、ぶどう、オレンジなどの栽培がさかんである。

[問題](3 学期)

次の文の()にあてはまる語句を書きなさい。

温帯には3つの気候がある。()気候は、日本も属していて、()風の影響を強く受け、いっばんに夏に雨が()い。()気候は、ヨーロッパの多くが属していて、()風と暖流の影響を受け、高緯度の割には温暖である。()気候は、夏は高温で乾燥するため、乾燥に強い()、ぶどう、オレンジなどの農作物をつくっている。

[解答欄]

[解答] 温暖湿潤(温帯湿潤) 季節 多 西岸海洋性 偏西 地中海性 オリーブ

[問題](増補 10)(2 学期中間)

温帯は季節の変化がはっきりしていて、気温や降水量も変化に富んでいる。a 夏に降水量が多い地域や、b 年間を通して降水量が平均している地域、c 夏は乾燥し冬に降水量がやや多い地域もある。

- (1) 下線部 a について、この地域に影響を与える、大陸の東岸に吹く、季節によって風向きの変わる風を何というか。
- (2) 下線部 b について、この地域は、一年を通して吹く西よりの風の影響を強く受ける。大陸西岸の中緯度地域に吹く、この風のことを何というか。
- (3) 下線部 c について、夏は乾燥、冬はやや雨が降る気候を何というか。
- (4) (3)の気候区では、乾燥する夏にどのような作物を栽培しているか。2つ答えよ。

[解答欄]

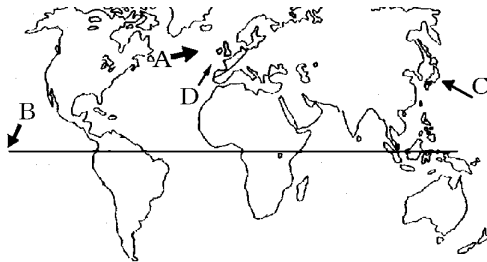
(1)	(2)	(3)	(4)
-----	-----	-----	-----

[解答](1) 季節風(モンスーン) (2) 偏西風 (3) 地中海性気候 (4) オリーブ、ぶどう(オレンジ)

[問題](1 学期中間)

次の各問いに答えなさい。

- (1) 地図の A・B の風は、一年を通して一定の方向に吹き、C の風は時期によって風向きが変わります。A～C の風をそれぞれ何といいますか。
- (2) 西ヨーロッパの気候に影響を与える D の海流名を書きなさい。



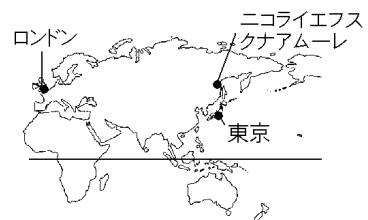
[解答欄]

(1)A	B	C	(2)
------	---	---	-----

[解答](1)A 偏西風 B 貿易風 C 季節風(モンスーン) (2) 北大西洋海流

[問題](1 学期期末)

右図のロンドンとニコライエフスクナアムーレはだいたい同じ緯度なのにロンドンが暖かいのはなぜですか。簡単に説明しなさい。



[解答欄]

[解答]西ヨーロッパでは、暖流の北大西洋海流の上を、一年中西から吹いてくる偏西風が通っており、海流に暖められた空気を運んでくるので、高緯度にもかかわらず暖かいから。

[問題](2 学期期末)

温帯で、大陸西岸のやや緯度の高い地域に吹く風を何というか。次から選びなさい。

[台風 梅雨 偏西風]

[解答欄]

[解答]偏西風

[問題](増補 10)(1 学期中間)

日本は何という気候に属するか。次の[]から選んで書きなさい。

[温暖湿潤気候 地中海性気候 西岸海洋性気候]

[解答欄]

[解答]温暖湿潤気候

[問題](増補 10)(補充問題)

次の A, B のグラフは, フランスのパリ
または東京の気温と降水量を示したもので
ある。このうち, 東京のグラフを表したも
のは A, B のうちのどちらか。

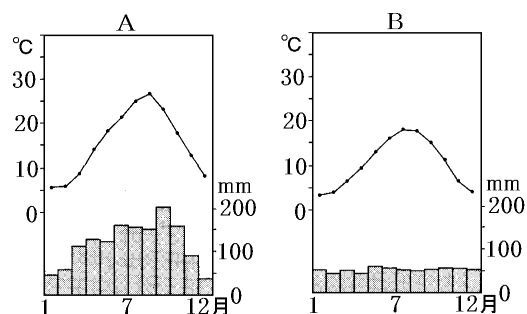
(香川県)

[解答欄]

[解答]A

[解説]

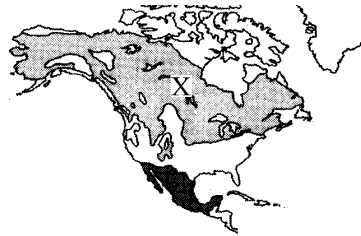
フランスのパリは西岸海洋性気候であり, 暖流の北大西洋海流の上を一年を通して西から東へ吹く偏西風の影響を受け, 夏と冬の気温差が小さく, 降水量が平均している。これに対し, 日本は季節風(モンスーン)の影響で, 夏は南東の方向から暑い風が, 冬は北西の方向から冷たい風が吹くため, 夏と冬の気温差が大きい。東京などの太平洋岸は夏は多雨, 冬は少雨となる。したがって, 気温と降水量の季節差が大きい A が東京の雨温図で, 気温と降水量の季節差が小さい B がパリの雨温図と判断できる。



【】冷帯・寒帯

[問題](増補 10)(補充問題)

右の地図中に示した X は、北アメリカ大陸のうち、ある気候帯に属した地域である。この気候帯は何か。



(高知県)

[解答欄]

[解答]冷帯(亜寒帯)

[解説]



冷帯(亜寒帯)は冬の寒さが厳しいが、短い夏には気温が上がる。シベリア、カナダ、アラスカなどではタイガと呼ばれる針葉樹林帯が広がっている。

日本では北海道が冷帯の気候である。

寒帯は一年中、ほとんど氷や雪が消えず、夏でも寒いため、森林はみられない。寒帯は氷雪気候とツンドラ気候に分類される。氷雪気候は、南極大陸など、夏でも平均気温が0 以下で、一年中雪や氷におおわれている。

ツンドラ気候では、大地は一年のほとんどが凍った状態であるが、短い夏に地表付近がとけて湿地となり、コケ類などの緑が見られる。ツンドラ地帯では、寒さに強いトナカイの放牧が行われている。

[問題](増補 10)(1 学期期末)

北海道は何という気候帯に属していますか。

[解答欄]

[解答]冷帯(亜寒帯)

[問題](増補 10)(2 学期中間)

冷帯の地域に多く広がる針葉樹林帯のことを何というか。カタカナで答えよ。

[解答欄]

--

[解答]タイガ

[問題](増補 10)(2 学期中間)

雪と氷におおわれた北極・南極とその周辺の気候は寒帯で、a 一年中寒さがきびしく、降水量は少ない。b 夏にはこけ類などの植物が育つ地域がある。

- (1) 下線部 a について、寒帯の中でも特に寒さがきびしく、最暖月(いちばん暖かい月)の平均気温が 0 をこえない気候区名を答えよ。
- (2) 下線部 b について、この「こけ類などの植物が育つ地域」のことを何というか。カタカナで答えよ。

[解答欄]

(1)	(2)
-----	-----

[解答](1) 氷雪気候 (2) ツンドラ

【】気候：総合

[問題](増補 10)(2 学期中間)

次の A～E の各文を読んで，あとの各問いに答えなさい。

- A (ア)の変化がはっきりしていて，気温や降水量も変化に富んでいる。夏に降水量が多い地域や，年間を通して降水量が平均している地域や，夏の降水量が少ない地域がある。
- B 雪と氷におおわれた北極・南極とその周辺の気候で，一年中寒さがきびしく，降水量は少ない。夏にはこけ類などの植物が育つ地域がある。
- C (イ)を中心に広がっていて，一年中暑く，(ア)の区別がない。また，比較的降水量が多く，中には，雨が多く降る雨季と，雨があまり降らない乾季とがある地域もある。
- D 夏には比較的気温が上がるが，冬の寒さは大変きびしい。降水量もあまり多くはない。北半球の北部にだけ広がっている。
- E 雨がとても少ない地域で，砂漠や背の低い草原が広がっている。昼と夜の気温差が大変大きいのが特徴。砂漠の中には(ウ)とよばれる水のある場所がある。

(1) A～E は，世界を 5 つの気候帯に分けたときの，それぞれの気候帯の説明文である。気候帯名を，それぞれ答えよ。

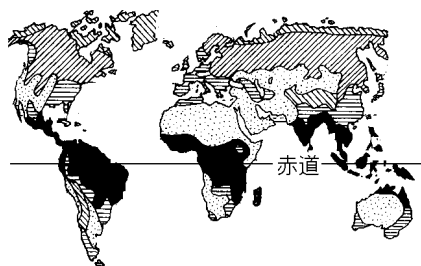
(2) 文中の空欄ア～ウにあてはまる語句を答えよ。

[解答欄]

(1)A	B	C	D
E	(2)ア	イ	ウ

[解答](1)A 温帯 B 寒帯 C 熱帯 D 冷帯(亜寒帯) E 乾燥帯 (2)ア 季節 イ 赤道
ウ オアシス

[解説]



- 熱帯(赤道付近，年中高温，雨が多い)
- 乾燥帯(雨が極端に少ない，砂漠かステップ(草原))
- ▨ 温帯(季節の変化がはっきりしている)
- ▧ 冷帯(亜寒帯)(冬の寒さが厳しいが夏は気温が上がる)
- ▩ 寒帯(一年中寒さが厳しい)

世界の気候は、熱帯、乾燥帯、温帯、冷帯(亜寒帯)、寒帯の5つに区分できる。

・**熱帯**は赤道を中心に広がっており、一年中気温が高く季節の変化はない。雨量も多い。とくに赤道直下では一年中雨が多いため密林が広がっている。熱帯が広がっているのは、南米ブラジルのアマゾン川流域、アフリカ中央部、東南アジア一帯(赤道はシンガポール付近を通る)である。

・**乾燥帯**は雨がきわめて少なく、砂漠やかわいた草原になっている。アフリカのサハラ砂漠、西アジア、内陸部にある中央アジア一帯は乾燥帯になっている。また、オーストラリアの内陸部、北アメリカの西部も乾燥帯になっている。

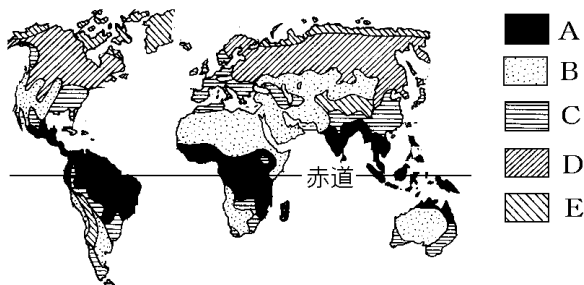
・**温帯**は四季の変化がはっきりしており、一般に雨が多めで暖かい。多くの人々が生活している。日本や中国などの東アジア、西ヨーロッパ、北アメリカ東岸などは温帯に属している。

・**冷帯(亜寒帯)**は冬の寒さが厳しいが、夏には気温が上がり、降水量が豊富なところでは、針葉樹が生育する。北ヨーロッパ、ロシア、中国北東部、アラスカ、カナダなどは冷帯の気候である。

・**寒帯**は一年中、ほとんど氷や雪が消えず、夏でも寒いため、森林はみられない。しかし、夏には地表の氷がとけて、コケ類などがはえるところもある。

[問題](1学期期末)

下の地図は気候帯の区分を表している。A～Eの気候帯名を書きなさい。



[解答欄]

A	B	C	D
E			

[解答]A 熱帯 B 乾燥帯 C 温帯 D 冷帯(亜寒帯) E 寒帯

[問題](増補 11)(3 学期)

世界の気候に関する次の文の()にあてはまる語句を答えよ。

世界の気候は森林が育つ気候と育たない気候とに分かれる。降水量が少ない砂漠などの()帯や、気温が低く一年の多くを氷や雪におおわれる()帯では森林がほとんど育たない。いっぽう、森林が育つ気候には、一年中気温が高い()帯と、短い夏と長い冬のある()帯、四季が見られる()帯がある。

[解答欄]

[解答] 乾燥 寒 熱 冷(亜寒) 温

[解説]

森林が育つかどうかで分けると、



- ・森林が育つ気候：熱帯・温帯・冷帯(亜寒帯)
- ・森林が育たない気候：乾燥帯・寒帯

となる。

[問題](3 学期)

次の各問いに答えよ。

- ① 日干しれんがの家 ② やしの木に囲まれた家 ③ 毛皮でつくった衣服



(1) 上の図の ~ は、それぞれの気候帯にふくまれるか。次から選べ。

[熱帯 乾燥帯 温帯 寒帯]

(2) 赤道から極地方(南極・北極の方角)に向かって分布する次の気候帯を順にならべよ。

[冷帯 温帯 熱帯 寒帯]

[解答欄]

(1)	(2)
-----	-----

[解答](1) 乾燥帯 熱帯 寒帯 (2) 熱帯, 温帯, 冷帯, 寒帯

[解説]

(1) 乾燥帯では木が少ないので、強いざしで作った白干しれんがが使われる。

熱帯では、やしの葉などを使った家が多い。

寒帯に住むイヌイットは、アザラシの毛皮でつくったアノラックという防寒服を着ている。

[問題](1 学期期末)

次のキーワードは、熱帯、乾燥帯、温帯、冷帯、寒帯のどの気候帯にあてはまるか。

ジャングル、スコール、ゾウ、ライオン、キリン

オリーブ、小麦、稲作、チューリップ

シロクマ、ペンギン

らくだ、オアシス、羊

タイガ、シベリア

[解答欄]

[解答] 熱帯 温帯 寒帯 乾燥帯 冷帯

[問題](1 学期中間)

右の模式図は、高度と緯度をあらわしたものです。

図中の X~Z の気候や自然の様子にあてはまるものを次から選び、記号で答えなさい。

ア 気温が高くて雨が多いため、樹木が早く生育する。

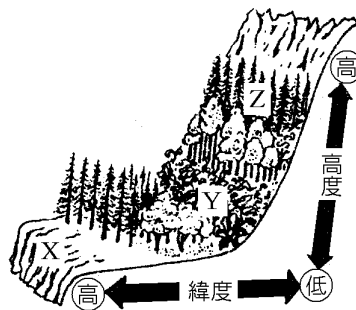
イ 一年を通して氷におおわれている。

ウ 高い山のため、気温が低く針葉樹が目立つ。

[解答欄]

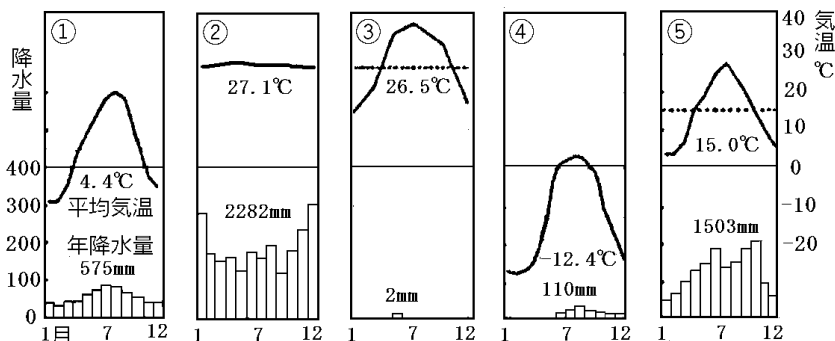
X	Y	Z
---	---	---

[解答] X イ Y ア Z ウ



[問題](2 学期期末)

下の雨温図 ~ にあてはまる特徴をア～オから選び、気候帯名も答えなさい。



- ア 寒さのきびしい冬が長く続き、地面は凍り、雪におおわれる。しかし、短期間ではあるが、夏には気温がかなり高くなる。また、昼と夜の気温の差が大きい。
- イ 季節ごとの気温や降水量は、ところによって異なるが、一般に雨が多めで、暖かい。四季の変化が明らかで、多くの人々が生活している。
- ウ 一年中、高温で、四季の変化がほとんどみられない。年中、雨が多いところもあるが、季節的に雨の降り方が異なるところもある。
- エ 一年中、ほとんど氷や雪が消えず、夏でも寒いので、森林はみられない。しかし、夏には地表の氷がとけて、こけ類などがはえるところもある。
- オ 一年中、ほとんど雨が降らず、たけの短い草のはえる草原か、かわききった荒地になっている。世界の陸地の 4 分の 1 をしめる。

[解答欄]

[解答] ア, 冷帯(亜寒帯) ウ, 熱帯 オ, 乾燥帯 エ, 寒帯 イ, 温帯

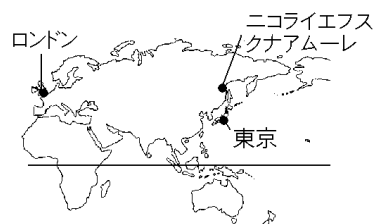
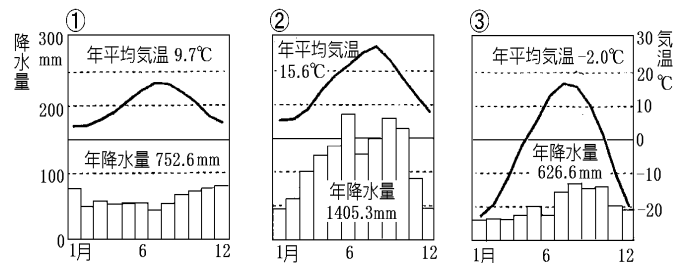
[解説]

は雨がほとんど降らないので乾燥帯であるとすぐわかる。
 熱帯, 温帯, 冷帯(亜寒帯), 寒帯を見分けるためには最寒月の気温に着目する。最寒月の気温が 18 以上は熱帯, -3 ~ 18 は温帯, -3 未満は冷帯(亜寒帯)と寒帯である。
 は最寒月の気温が 18 以上なので熱帯である。 は最寒月の気温が -3 ~ 18 の間にあるので温帯である。 と は最寒月の気温が -3 未満なので, 冷帯か寒帯である。
 冷帯と寒帯の区分は最暖月の気温で判断する。すなわち, 最暖月の気温が 10 以上なら

冷帯で、10 未満なら寒帯である。このことから、 は冷帯で、 は寒帯であることがわかる。

[問題](1 学期期末)

下に示されている ~ の気温と降水量のグラフは地図中の 3 つの都市のうちそれぞれの都市のものでしょうか。



[解答欄]

--	--	--

[解答] ロンドン 東京 ニコライエフスクナムーレ

[解説]

最寒月の気温に注目する。 と は最寒月の気温が - 3 ~ 18 の間にあるので温帯である。東京とロンドンはともに温帯の気候であるが、温暖湿潤気候の東京のほうが雨量が多く、また気温も高いと考えられる。また、ロンドンは西岸海洋性気候で一年間の気温や降水量の差が小さいという特徴がある。したがって、 が東京の雨温図で、 がロンドンの雨温図と判断できる。


は最寒月の気温が - 3 未満で、最暖月の気温が 10 以上なので冷帯(亜寒帯)の気候で、ニコライエフスクナムーレの雨温図であると判断できる。

【】世界の人々の暮らし

【】衣類

[問題](2 学期中間)

下の資料をみて、次の各問いに答えなさい。



- (1) 上のア、イ、ウの服の名を書け。
- (2) 上のエ、オの服は右の地図中の a ~d のどの地域で見られるか。それぞれ1つずつ選び 記号で答えよ。

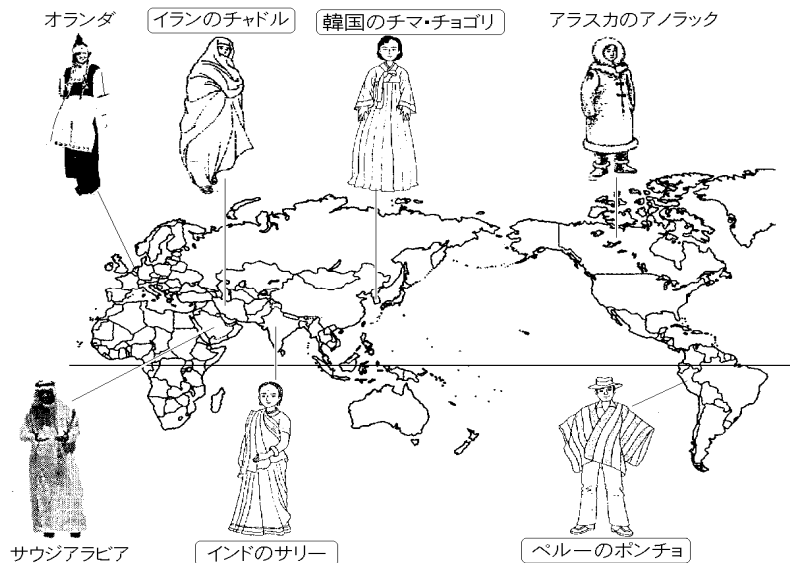


[解答欄]

(1)ア	イ	ウ	(2)エ
オ			

[解答](1)ア サリー イ チマ・チョゴリ ウ チャドル (2)エ e オ f

[解説]



(1) アはインドの民族衣装のサリーである。はば 1m, 長さ 6~10m ほどの 1 枚の布を体にまきつける。

イは韓国の民族衣装のチマ・チョゴリである。チマは長いスカート, チョゴリは短い上衣である。

ウはイランの民族衣装のチャドルである。

エは極北のイヌイットの防寒服のアノラックである。

オはペルーなどのアンデス山脈中の高地に住むインディオの着るポンチョである。立っているときは, マントになり, すわれば防寒用の毛布になる。

[問題](1 学期期末)

次の図や地図を見て, 各問いに答えなさい。



(1) 図中のア~オは, それぞれ何という服装ですか。

(2) ウ, エの服装は, 地図中のどの地域で見られますか。a~d の記号でそれぞれ答えなさい。

[解答欄]

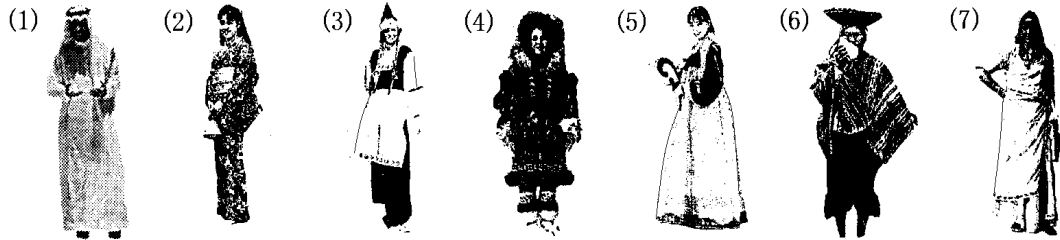
(1)ア	イ	ウ	エ
オ	(2)ウ	エ	

[解答](1)ア サリー イ チマ・チョゴリ ウ アノラック エ ポンチョ オ チャドル

(2)ウ d エ c

[問題](1 学期期末)

次のそれぞれの衣装はどこのもという衣装か、語群から選びなさい。



[語群]

インドのサリー 韓国のチマ・チョゴリ ペルーのポンチョ 日本の着物
アラスカの毛皮の衣服 サウジアラビアの民族衣装 オランダの民族衣装


[解答欄]

(1)	(2)	(3)
(4)	(5)	(6)
(7)		

[解答](1) サウジアラビアの民族衣装 (2) 日本の着物 (3) オランダの民族衣装 (4) アラスカの毛皮の衣服 (5) 韓国のチマ・チョゴリ (6) ペルーのポンチョ (7) インドのサリー

[問題](2 学期中間)

インド、韓国、ペルーの衣服を、次のア～ウからそれぞれ選んで記号で書きなさい。



[解答欄]

インド：	韓国：	ペルー：
------	-----	------

[解答]インド：ア 韓国：ウ ペルー：イ

[問題](3 学期)

サウジアラビアなどイスラム教の女性が身につける服を何といいますか。下から選
びなさい。

[サリー ポンチョ チマ・チョゴリ チャドル]

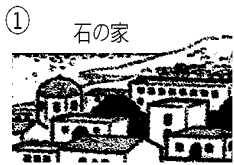
[解答欄]

[解答]チャドル

【 】住居

[問題](2 学期期末)


次の住居はどの地域のものが、[]から選びなさい。



(強い日差しを白い壁で防ぐ)



(遊牧用のテント)



高床式の家



日干しれんがの家
(熱風や砂を防ぐために窓が小さい)

[中央アジア(モンゴル) 東南アジア 西アジア 地中海沿岸]

[解答欄]

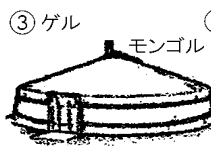
--	--	--	--

[解答] 地中海沿岸 中央アジア(モンゴル) 東南アジア 西アジア


[解説]



(強い日差しを白い壁で防ぐ)




(遊牧用のテント)



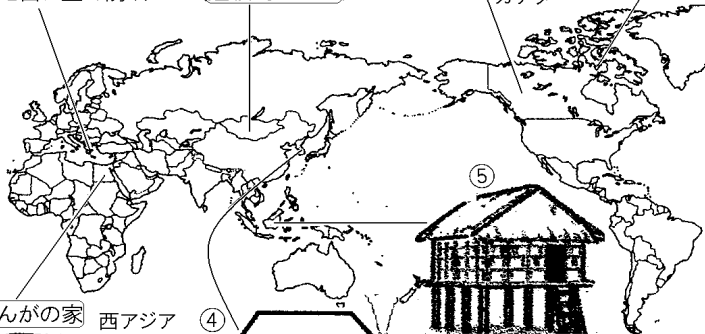
(熱風や砂を防ぐために窓が小さい)



(オンドル) 韓国



高床式の家
東南アジア



地中海沿岸は石の家が特徴的である。強い日差しを白い壁で反射させている。

西アジアや北アフリカの乾燥帯では木材が手に入らないため、日干しれんがを使っている。外の暑い空気を防ぐために窓を小さくしている。また、雨がほとんど降らないため屋根は平らになっている。

中央アジアのモンゴルではゲルという住居が特徴的である。木の骨組みに、家畜の

毛で作ったフェルトのキャンパスをはってある。家畜のえさとなる草を求めて移動する遊牧生活に適するように、組み立て式になっている。

朝鮮半島では、床下に煙道をつくって暖房を行うオンドルが特徴的である。


東南アジアの赤道直下の地域では竹とやしの葉を使った高床式の家が多い。一年中高温で、雨が多い地域にあるため床を高くして湿気を防ぎ、風通しをよくしている。

カナダなどの針葉樹林帯では、丸太作りの家が特徴的である。

雪と氷に閉ざされた寒帯で生活するイヌイットは、雪のブロックや氷でイグルーという簡易住居を作る。

[問題](2 学期中間)

次の資料をみて、下の各問いに答えなさい。



(1) A～Cの家には、人々のどことなくふうが見られますか。次のア～エから1つずつ選んで、記号で書け。

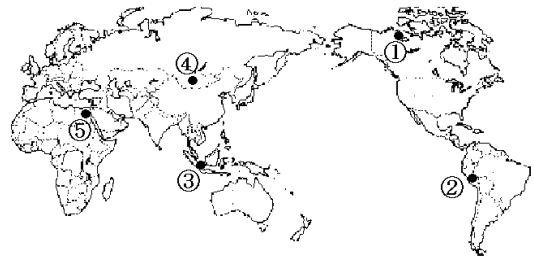
ア 日干しれんがでつくられ、外の暑い空気を防ぐために窓を小さくしている。

イ 一年中暑くて雨が多いので、床を高くし、風通しをよくしている。

ウ 狩りのときに厚手の氷のブロックを積み上げて作り、外のきびしい寒さを防いでいる。

エ 家畜のえさとなる草を求めて移動するので、組み立て式になっている。

(2) A～Cの家が見られる地域を、右の地図中の①～⑤から1つずつ選んで、番号で書け。



(3) Cの家は屋根が平らになっている。その理由を書け。

[解答欄]

(1)A	B	C	(2)A
B	C	(3)	

[解答](1)A イ B エ C ア (2)A B C (3) 雨がほとんど降らないから。

[問題](2 学期中間)

地図中の ①～④ の地域では、どんな材料の住居が多く見られるか。 []内からそれぞれ選んで書きなさい。 [木 石 氷 日干しれんが]



[解答欄]

--	--	--	--

[解答] 日干しれんが 石 木 氷

[問題](1 学期期末)

西アジアや北アフリカの乾燥帯で、住居をつくる材料として泥をかためて乾燥させたものが使われている。何という材料か。

[解答欄]

--

[解答]日干しれんが

[問題](1 学期期末)

右図のような家は、どのような気候帯のところで見られますか。

[解答欄]

--

[解答]熱帯



[問題](1 学期期末)

右図のようなテントを住居としている人々は、どのような生活をしていますか。漢字 2 字で書きなさい。

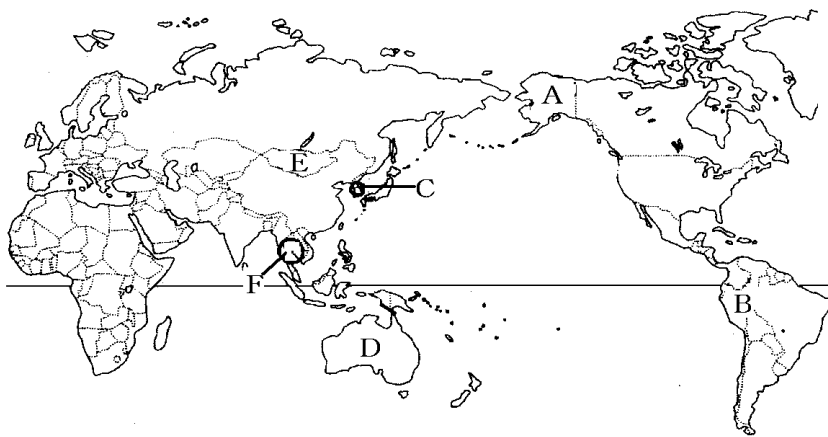


[解答欄]

[解答]遊牧

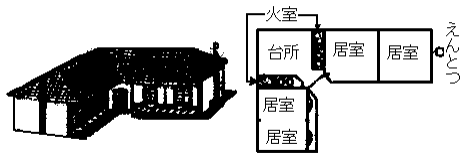
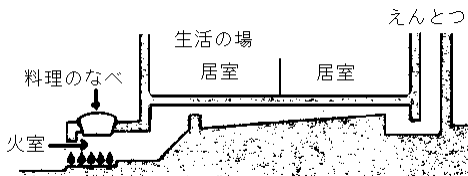

[問題](3 学期)

下の地図や絵を見て、各問いに答えなさい。



(1) 右の住居は地図中の A~F のどの地域で見られますか。記号で答えなさい。

(2) 下の暖房設備が見られる地域は地図中 A~F のどの地域ですか。記号で答えなさい。



[解答欄]

(1)	(2)
-----	-----


[解答](1) E (2) C

[解説]

(2) 図は朝鮮半島の伝統的な住居に見られるオンドルという^{ゆかたんぽう}床暖房である。

[問題](1 学期期末)

下図左のようなしくみで暖をとっている人に関係が深いのは、下図右のア～オのどれですか。記号と、図のような暖房のしくみの名を書きなさい。



[解答欄]

--	--

[解答] イ オンドル

[解説]

左の図は朝鮮半島の伝統的な住居に見られるオンドルという床暖房である。右図のイは朝鮮の民族衣装であるチマ・チョゴリである。

[問題](増補 10)(1 学期期末)

下の文はどの気候帯に住む人々の暮らしのようすか。下の[]から選びなさい。

冬の寒さがきびしいので、家の窓を二重にしている。

強い日ざしをさけるために、頭にターバンを巻き、長い服を着る。

[熱帯 乾燥帯 温帯 冷帯]

[解答欄]

--	--

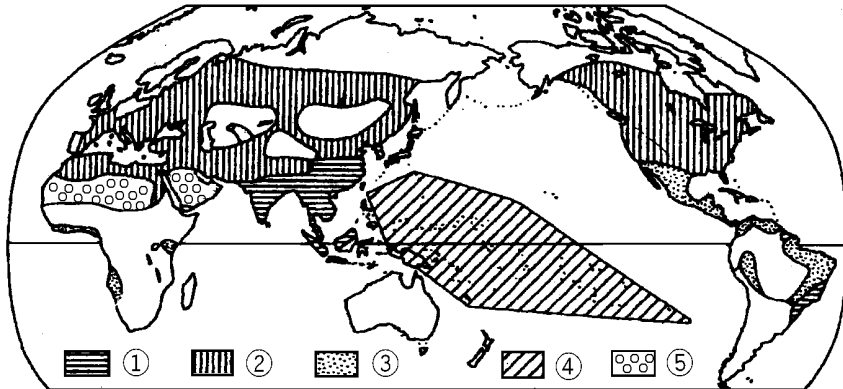
[解答] 冷帯 乾燥帯

【】 食事

[問題](1 学期期末)

地図中の ~ の地域では、おもにどんな食べ物を主食としているか。次の[]から1つずつ選んで書け。

[いも 米 乳となつめやしの実 とうもろこし 小麦]

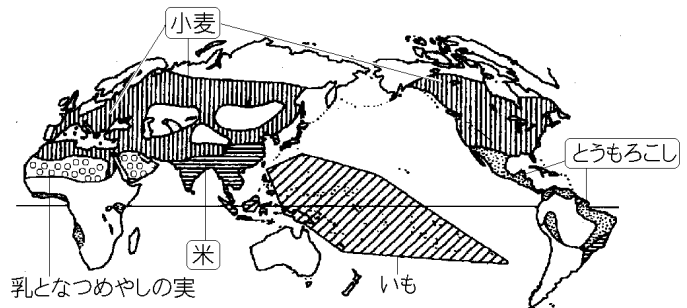


[解答欄]

[解答] 米 小麦 とうもろこし いも 乳となつめやしの実

[解説]

の日本，朝鮮，中国南部，東南アジア，インドなど気温が高く一定以上の雨の降る地域では，稲作が行われ，米が主食になっている。中国でも北部では，降水量が少ないために稲作はできず，小麦が栽培されている。



は小麦で，中国北部，ロシア，ヨーロッパ，北アメリカの主食になっている。

はとうもろこしである。とうもろこしの栽培は世界各地で行われているが，これを主食にしているのはメキシコなど中南米の一部と，アフリカの一部である。

はいもである。太平洋の島々では，タロいもやヤマいもを蒸し焼きにする料理が見られる。は乳となつめやしの実で，北アフリカ～アラビア半島の人々の主食になっている。

[問題](2 学期中間)

地図中の X の地域で主食となっているものを答えよ。

[解答欄]

[解答]米



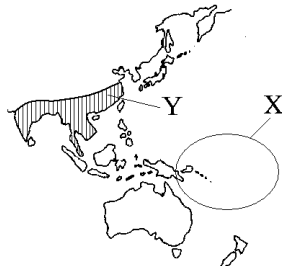
[問題](1 学期期末)

右図の X, Y の地域で主食となっているものを答えなさい。

[解答欄]

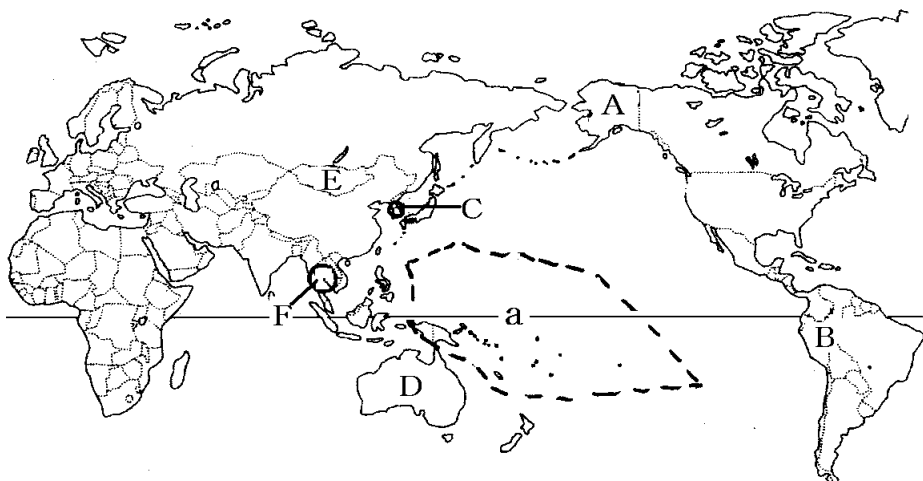
X:	Y:
----	----

[解答]X: いも Y: 米



[問題](3 学期)

下の地図や絵を見て、各問いに答えなさい。



(1) 地図中の点線で囲まれた a の地域の主食は何ですか。次の[]から選びなさい。

[米 小麦 いも類 とうもろこし]

(2) 右の資料 の米は丸くて短く、たくとねばりがあります。資料 の米は細長く、たいてもねばりが少ない米です。資料 の米が生産されている地域を地図中 A ~ F から選び記号で答えなさい。

資料 I



資料 II



[解答欄]

(1)	(2)
-----	-----

[解答](1) いも類 (2) F

[解説]

(2) 米には資料 のジャポニカ米や、資料 のインディカ米などの種類がある。日本で栽培されているのは、丸くて短く、たくとねばりがあるジャポニカ米である。インディカ米は東南アジア、インドなどで栽培されており、細長く、たいてもねばりが少ないのが特徴である。栽培される米のおよそ8割以上はインディカ米である。

[問題](1 学期期末)

次の ~ の文は、どこの国について説明したものか。下の[]から選んで書け。

スパゲティは、ふつう昼食の一部で、比較的長い昼休みをとる。

チゲとよばれる鍋料理があり、金属製の箸やスプーンで食べる。

カレーや米も素手で上手に食べる。必ず右手で食べるきまりになっている。

パンの木の实を葉で包んで、むして食べる。

[インド イタリア 大韓民国 ペルー ミクロネシア連邦]

[解答欄]

--	--	--	--

[解答] イタリア 大韓民国 インド ミクロネシア連邦

[解説]

イタリアでは、小麦粉をねってスパゲティ、マカロニなどを作って食べる。これらを総称してパスタという。

チゲは韓国の鍋料理である(「チゲ」とは「鍋」という意味である) 金属製の箸やスプーンで食べる。

カレーといったらインドである。ヒンドゥー教徒やイスラム教徒は、右手を使い、左手は使わない。

太平洋の島々からなるミクロネシア連邦では、パンの木の实を葉で包んで、むして食べる。

韓国: チゲ(鍋料理), 金属のはし・スプーン インド: カレー, チャパティやナン, 右手で食べる イタリア: パスタ(スパゲッティやマカロニ) メキシコ: トルティヤ, タコス

[問題](1 学期期末)

右図のア,イの人々の国の伝統的な料理を,それぞれ次の[] から選びなさい。

[カレー ボルシチ パエリア チゲ]

[解答欄]

ア	イ
---	---

[解答]ア カレー イ チゲ



【】宗教

[問題](1 学期期末)

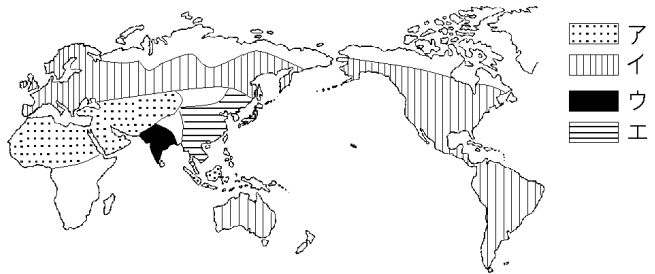
次の文章を読んで、各問いに答えなさい。

A この宗教を開いた()
は、アラ-を唯一の神とし
た。信者は、1 日 5 回
()(都市)のカーバ神
殿に向かって礼拝をする。

B バラモン教にその地域の民
間信仰が加わってできたも
ので、()といわれる身分制度とつながりが深い。

C インドで()が始めた宗教。

D ユダヤ教をもとに()がはじめたもので、()・プロテスタント・ギリシャ正
教会の 3 つに大きく分けられる。



(1) 文中の ~ に適当な人名・語句を書きなさい。

(2) 文の A~D の宗教名を書き、その信者の多い地域を地図中のア~エから選び記号で
答えなさい。

(3) 次のことがらは、A~D のどの宗教と関係が深いですか。記号で書きなさい。

ガンジス川は聖なる川とされ、人々が水に身をひたしていのりをささげる。

豚肉を食べたり、お酒を飲んだりしてはならない。

生き物を殺すことを罪悪と考え、あまり肉類を食べない。

モスクへ礼拝に行く。

牛を神の使いと考え、牛肉を食べない。

日曜は教会に礼拝に行く。

(4) A・C・D の宗教を、はじめられた年代の早い順に並べなさい。

[解答欄]

(1)			
		(2)A	B
C	D	(3)	
(4)			

[解答](1) ムハンマド(マホメット) メッカ カースト シヤカ イエ
 ス カトリック (2)A イスラム教, ア B ヒンドゥー教, ウ C 仏教, エ D キ
 リスト教, イ (3) B A C A B D (4) C, D, A

[解説]



世界の三大宗教は、キリスト教、イスラム教、仏教である。そのほかに、インド人が信仰するヒンドゥー教やユダヤ人が信仰するユダヤ教がある。

A アの地域(西アジア～北アフリカ)の人々が信仰しているのはイスラム教である。イスラム教は、610年にアラビア半島の商人ムハンマド(マホメット)が始めた宗教である。ムハンマドはアラビアの遊牧民族をまとめてアラビア半島を統一し、さらにその後継者たちが西は北アフリカから、東は唐の国境にまでいたる巨大なイスラム帝国をつくった。イスラム教では、アラー(アッラー)を唯一の神とし、信者は、各地にあるモスクという寺院に礼拝に行く。また、1日5回メッカのカーバ神殿(位置: 21.4225, 39.8261)に向かって礼拝をする。イスラム教では、豚肉を食べたり、酒を飲んだりすることは禁じられている。イスラム教の宗派にはスンニ派とシーア派がある。スンニ派はイスラム教徒の9割以上を占める多数派である。イランはほとんどがシーア派である。イラクにもシーア派が多い。

C 仏教は、インドでシヤカが紀元前6世紀ごろに始めた。仏教が信仰されているのは、タイなど東南アジアの一部、中国、日本(地図のイ)である。仏教では生き物を殺すことを罪悪とする考えがあり、日本でも、明治時代より前は、動物の肉はあまり食べなかった。仏教宗派をおおまかに3つに分けると、上座部仏教(スリランカ・タイ・ミャンマー)、大乗仏教(中国・韓国・日本)、チベット仏教(チベット・モンゴル)である。

D キリスト教はイエスがユダヤ教をもとにはじめた宗教である。ヨーロッパ、ロシア、南アメリカ(地図のイ)で信仰されている。カトリック・プロテスタント・正教会(ギリシヤ正教)の3つに大きく分けられる。信者は日曜日に教会に礼拝に行く。カトリックの総本山は、イタリアの首都ローマの中にあるバチカン市国に置かれている。

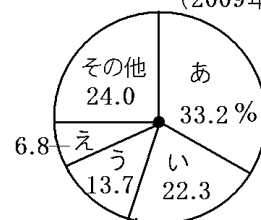
B インド(地図のウ)では、バラモン教にその地域の民間信仰が加わってできたヒンドゥー教が信仰されている。カーストといわれる身分制度とつながりが深い。ヒンドゥー教徒は、牛を神の使いと考え牛肉を食べない。また、ガンジス川は聖なる川とされ、人々が水に身をひたしていのりをささげる。

[問題](増補 10)(2 学期中間)

次の A～D の各文を読んで、あとの各問いに答えなさい。

- A (ア)を唯一絶対神とし、教典の(イ)に書かれたきびしい戒律を守る宗教で、7世紀に(ウ)がはじめた。1日5回最大の聖地であるサウジアラビアの(エ)に向かって礼拝する、一生に一度は(工)に巡礼に行く、断食月がある、などのきびしい教えとなっている。
- B (オ)が開いた宗教で、南ヨーロッパを中心とした地域に広がる(カ)、西ヨーロッパやアメリカ合衆国などに広がる(キ)、ロシアやギリシャなどに広がる正教会の3つが主流となっている。(カ)教会では日曜日にミサが行われ、(キ)では牧師の説教や賛美歌の斉唱が行われる。
- C インドの国民的宗教で、(ク)川を聖なる川として、巡礼者はその川で沐浴をして身を清める。
- D (ケ)が開いた宗教で、僧侶が信者に対し救済の道を説いたり、厳しい修行を行う。タイなどでは、出家して僧としての生活を送ることが、一人前の条件とされる。
- (1) A～D は、世界の宗教別人口割合第 1 位から第 4 位までの宗教について述べたものである。A～D それぞれにあてはまる宗教名を答えよ。

世界の宗教別人口割合
(2009年)



- (2) 右のグラフは、世界の宗教別人口割合を示したものである。グラフ中の あ～え にあてはまる宗教を A～D より 1 つずつ選べ。
- (3) 「世界三大宗教」にあてはまらないものを、A～D より 1 つ選べ。
- (4) 文中の空欄ア～ケにあてはまる語句・人名を答えよ。なお、ウ、オ、ケは、各宗教の開祖(宗教をはじめた人)の名前が入る。
- (5) 次の ～ の各文は、A～D のどの宗教ともっとも関係が深い。あてはまるものを A～D より選べ。

バラモン教と民間宗教などが合わさってできたため、カーストという身分制度とつながりが深い。

この宗教を信仰している人たちが広く世界に進出していったため、オーストラリアやラテンアメリカの国々などにも信者が多い。

牛は神の乗り物として大事にされ、牛肉を食べてはいけないとされている。

豚肉を食べたりお酒を飲んだりすることが禁じられている。

[解答欄]

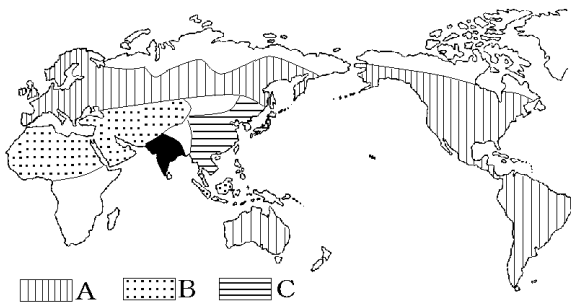
(1)A	B	C	D
(2)あ	い	う	え
(3)	(4)ア	イ	ウ
エ	オ	カ	キ
ク	ケ	(5)	

[解答](1)A イスラム教 B キリシト教 C ヒンドゥー教 D 仏教 (2)あ B い A う C え D (3) C (4)ア アラー(アッラー) イ コーラン ウ ムハンマド(マホメット) エ メッカ オ イエス カ カトリック キ プロテスタント ク ガンジス ケ シャカ (5) C B C A

(統計出典)「世界国勢図会 2010/2011」P38

[問題](2 学期中間)

地図に示された A, B, C の地域で信仰されている宗教の名前を答えなさい。



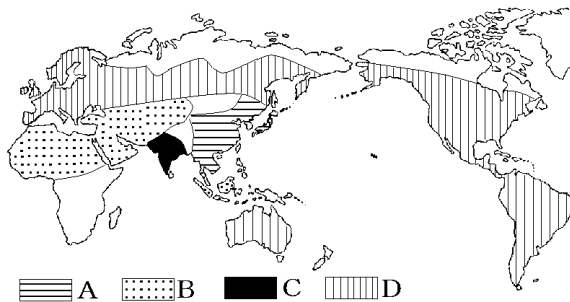
[解答欄]

A	B	C
---	---	---

[解答]A キリシト教 B イスラム教 C 仏教

[問題](3 学期)

地図中の A～D は宗教の分布をしめしている。 イスラム教， 仏教， ヒンドゥー教にあてはまるものを A～D， ア～ウからそれぞれ選べ。



- ア ガンジス川で沐浴もくもくをする。
- イ 町をめぐって托鉢たくはつする。
- ウ 聖地メッカのカーバ神殿にむかって礼拝する。

[解答欄]

--	--	--

[解答] B,ウ A,イ C,ア

[問題](増補 10)(2 学期中間)

次の ~ の地域，国で信者が多い宗教を下の[]からそれぞれ選びなさい。

西アジアや北アフリカ

ヨーロッパや北アメリカ

タイ，ベトナム

インド

[キリスト教 仏教 イスラム教 ヒンドゥー教]

[解答欄]

--	--	--	--

[解答] イスラム教 キリスト教 仏教 ヒンドゥー教

[問題](1 学期中間)

次の各問いに答えなさい。

- (1) 世界には、三大宗教があります。三大宗教とは、キリスト教、イスラム教と、もう1つは何ですか。
- (2) キリスト教のカトリックの総本山は、どこの国にありますか。次の中から選びなさい。

[フランス バチカン市国 ギリシャ イギリス]

[解答欄]

(1)	(2)
-----	-----

[解答](1) 仏教 (2) バチカン市国

[問題](増補 10)(2 学期中間)

酒を飲まない、豚肉を食べないという習慣を守る宗教を下の[]から選びなさい。

[キリスト教 仏教 イスラム教 ヒンドゥー教]

[解答欄]

[解答]イスラム教

[問題](増補 10)(2 学期中間)

日本で多くの人々に信仰されている宗教は何か。

[解答欄]

[解答]仏教

[印刷 / 他の PDF ファイルについて]

このファイルは、FdData 中間期末社会地理(7,200 円)の一部を PDF 形式に変換したサンプルで、印刷はできないようになっています。製品版の FdData 中間期末社会地理は Word(または一太郎)の文書ファイルで、印刷・編集を自由に行うことができます。

FdData 中間期末(社会・理科・数学)全分野の PDF ファイル、および製品版の購入方法は <http://www.fdtype.com/dat/> に掲載しております。

下図のような、[FdData 無料閲覧ソフト(RunFdData)]を、Windows のデスクトップ上にインストールすれば、FdData 中間期末・FdData 入試の全 PDF ファイル(各教科約 1500 ページ)を自由に閲覧できます。次のリンクを左クリックするとインストールが開始されます。

RunFdData(Word 版) 【 <http://www.fdtype.com/lnk/instRunFdDataWDS.exe> 】

RunFdData(一太郎版) 【 <http://www.fdtype.com/lnk/instRunFdDataTAs.exe> 】

ダイアログが表示されたら、【実行】ボタンを左クリックしてください。インストール中、いくつかの警告が出ますが、[実行][許可する][次へ]等を選択します。

【イメージ画像】



【Fd 教材開発 : URL <http://www.fdtype.com/dat/> Tel (092) 404-2266】