

【】東南アジア

【】歴史・宗教

[問題](2 学期中間)

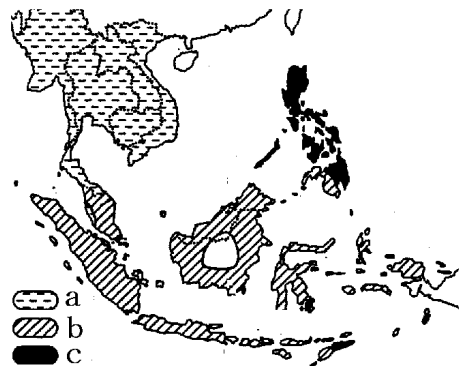
次の各問いに答えなさい。

- (1) 東南アジアの宗教分布を示した右の地図中の a~c にあてはまる宗教名を、次の [] から 1 つずつ選びなさい。

[キリシト教 イスラム教
ヒンドゥー教 仏教]

- (2) (1) の b の宗教で、飲食が禁止されているものを次の [] から 2 つ選びなさい。

[牛肉 豚肉 鳥肉 炭酸飲料 酒]



[解答欄]

(1)a	b	c	(2)
------	---	---	-----

[解答](1)a 仏教 b イスラム教 c キリシト教 (2) 豚肉, 酒

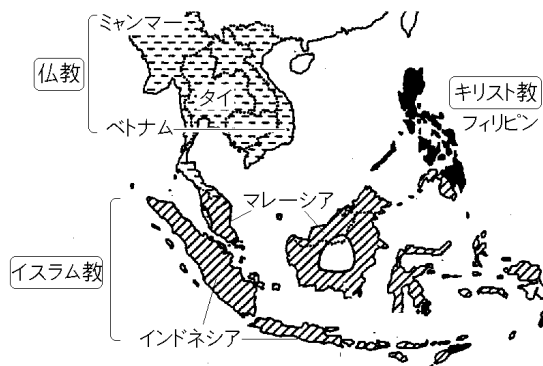
[解説]

仏教はインドから東南アジアの北部に伝わった。ミャンマー、タイ、ベトナム、ラオス、カンボジアなどに仏教徒が多いのはそのためである。

イスラム教は 7 世紀にアラビア半島で起こり、東西にまたがる広大なイスラム帝国がつけられた。イスラム商人はインド、東南アジア南部、中国にかけて海上貿易を行っており、イスラム

教はインド、東南アジア南部(現在のマレーシア、インドネシア)、さらにはフィリピンにおよんだ。

新航路の発見後、16 世紀ごろ、スペインやポルトガルはアジアへ進出した。こうしたなかで、フィリピンはスペインの植民地となった。スペインはキリシト教布教を植民地支配の手段として活用したため、フィリピンではキリシト教が広まった。

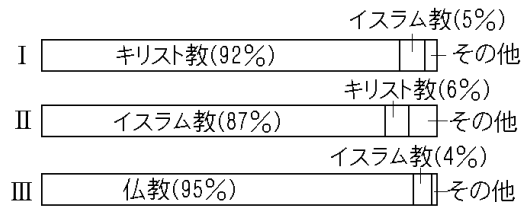


[問題](増補 10)(2 学期期末)

右のグラフは東南アジアの宗教別人口の割合を示したものである。

にあたる国を、それぞれ次の[]から選びなさい。

[タイ インドネシア フィリピン]



[解答欄]

--	--	--

[解答] フィリピン インドネシア タイ

[問題](1 学期中間)

マレーシアでは、1 日 5 回の礼拝をおこなう宗教が中心である。何という宗教か。

[解答欄]

--

[解答]イスラム教

[問題](増補 11)(補充問題)

文中の ~ にあてはまることばを書きなさい。

東南アジアは、インドと中国の間であって、古くからさまざまな宗教の影響を受けてきた。タイでは()教、インドネシアでは()教が主に信仰されている。東南アジアには、豊かな資源を求めて、16 世紀ごろから()・ポルトガルが、続いてオランダ・イギリス・フランスなどが進出し、()以外は 19 世紀末ごろまでには、つぎつぎに植民地となった。スペインの植民地(のちにアメリカの植民地)になった()ではキリスト教(カトリック)が広まった。

(大分県(旧)改)

[解答欄]

[解答] 仏 イスラム スペイン タイ フィリピン

[解説]

16 世紀以降，ヨーロッパ各国は東南アジアの植民地化を進め，20 世紀前半にはタイ以外の国は植民地になった。フィリピンはスペインの植民地となったが，1898 年の米西戦争でスペインがアメリカにやぶれたために，アメリカの植民地になった。現在のインドネシアの範囲は



オランダの植民地となった。イギリスはビルマ(現在のミャンマー)と現在のマレーシアの
一帯を植民地とした。インドシナ半島東部(現在のベトナム，カンボジア，ラオス)は
フランスの植民地となった。第二次世界大戦では，日本が東南アジア一帯を支配したが，
戦後，各国は独立を果たした。

[問題](2 学期中間)

第二次世界大戦前，東南アジアで唯一独立を保持していた国はどこか。

[解答欄]

[解答]タイ

[問題](増補 10)(補充問題)

次の ~ の国は，第二次世界大戦前までは，それぞれ，どこの国の植民地であったか(または独立国であったか)。

フィリピン インドネシア マレーシア ベトナム タイ
ミャンマー

[解答欄]

[解答] アメリカ オランダ イギリス フランス 独立国 イギリス

[問題](2 学期中間)

東南アジアで、おもに貿易や商業、金融業などに従事している、中国出身の人たちを何というか。

[解答欄]

[解答]華人

[解説]

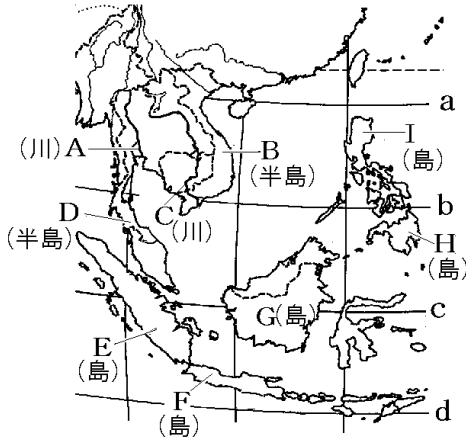
海外に移住した中国人とその子孫を華人^{かじん}という。世界には約 3000 万人の華人がいるが、その 90%は東南アジアに住んでいる。華人は、おもに商業や金融業を営んでおり、それぞれの地域の経済に大きな力を持っている。

【】自然

[問題](2学期中間)

次の各問いに答えよ。

- (1) 地図中の A～I の地形名を答えよ。
- (2) 赤道は、a～d のうちどれか。



[解答欄]

(1)A	B	C	D
E	F	G	H
I	(2)		

[解答](1)A チャオプラヤ川 B インドシナ半島 C メコン川 D マレー半島 E スマトラ島 F ジャワ島 G カリマンタン島 H ミンダナオ島 I ルソン島 (2)c

[解説]

赤道は、マレー半島南端の南・スマトラ島・カリマンタン島を通過している。赤道直下のこの一帯は、熱帯の中でも熱帯雨林気候になっており、高温多雨で熱帯林が広がっている。人々の多くは、竹や木を組んでつくる、風通しのよい高床式の住居に住んでいる。チャオプラヤ川やメコン川が流れるインドシナ半島一帯は、熱帯の中でも、雨季と乾季のあるサバナ気候になっている。

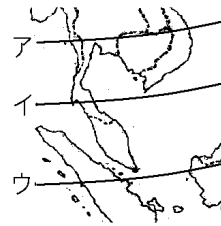


[問題](2 学期中間)

赤道は右図のア～ウのどれか。記号で書け。

[解答欄]

[解答]ウ



[問題](増補 11)(補充問題)

東南アジアの大部分が属する気候帯を次の[]から選べ。

[熱帯 乾燥帯 温帯]

[解答欄]

[解答]熱帯

[問題](増補 11)(補充問題)

右図は、ベトナムで発行された切手で、この国の伝統的な住居が描かれている。このように床を高くした住居の利点を、気候と結びつけて、簡潔に書きなさい。

(栃木県(旧))

[解答欄]

[解答]床が高いので風通しがよく、暑さや湿気をやわらげることができる利点。



[問題](増補 10)(2 学期中間)

2009年9月30日、スマトラ島沖でM7.6の大地震がありました。スマトラ島は何という国の領土ですか。

[解答欄]

[解答]インドネシア

【】稲作

[問題](増補 10)(1 学期期末)

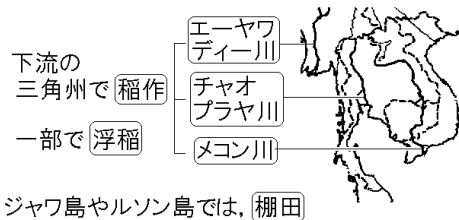
チャオプラヤ川やメコン川の流域で最も生産量が多い農作物の名前を答えなさい。

[解答欄]

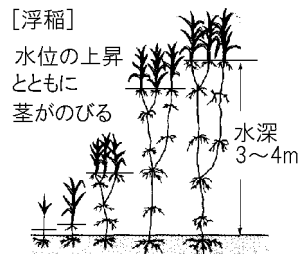
[解答]米

[解説]

インドシナ半島には、メコン川、チャオプラヤ川、エーヤワディー川などの大河が流れ、下流域に大きな三角州ができています。この一帯は6月から10月ごろまで海から湿った季節風(モンスーン)がふく。このころが雨季で、



稲作が行われる。チャオプラヤ川、メコン川などの下流域では洪水でしばしば水田が増水するが、このような地域では、水位の上昇とともに茎が成長する浮稲の栽培も行われてきた。収量は少ないが、水を管理する必要がない。かつては浮稲が多く栽培されていたが、現在では収量の多い乾季作が広がっている。



インドネシアのジャワ島やフィリピンのルソン島では、山の斜面にまで階段状の田を作って米を栽培している。これを棚田という。

東南アジアは一年中気温が高いので、1年間に2回も3回も米を作る、二期作や三期作も行われている。

[問題](増補 11)(1 学期中間)

インドシナ半島には、いくつもの大河が流れ、これらの河川によって運ばれた砂や粘土が下流域につみ重なり、大きな()をつくっている。この一帯は6月ごろから10月ごろにかけて海から湿った()が吹き、多くの雨を降らせる。このころが雨季で、稲作がさかんにおこなわれるときである。

また、平野が少ない島々では、山の斜面などを階段状にした棚田を利用して稲作をおこなっている。年間をとおして気温が高いこれらの地域では、1年の間に同じ耕地で同じ作物を2回収穫する()がおこなわれている。

(1) 文中の ~ にあてはまる語を、下の[]より選びなさい。

[扇状地 段々畑 三角州 二期作 二毛作 からっ風 やませ 季節風]

(2) インドシナ半島に流れている代表的な大河を2つ書きなさい。

[解答欄]

(1)		
(2)		

[解答](1) 三角州 季節風 二期作 (2) メコン川, チャオプラヤ川(エーヤワディー川)

[解説]

(1) 1年の間に同じ耕地で同じ作物を2回収穫するのは二期作である。二毛作は、米と野菜というように違った作物を収穫する場合である。

[問題](2 学期中間)

次の各問いに答えよ。

- (1) チャオプラヤ川・メコン川などの下流域では洪水でしばしば水田が増水する。このような地域で、伝統的に栽培されている稲を何というか。
- (2) ジャワ島やルソン島では、山の斜面にまで階段状に田を作って米を栽培している。このような田を何というか。
- (3) 東南アジアでは、1960年代の半ば頃から、研究・開発された新しい稲の品種によって生産量を増やす努力が行われてきた。このような米の収穫量の増大を目指すことを中心とする農業の変革を何と呼ぶか。

[解答欄]

(1)	(2)	(3)
-----	-----	-----

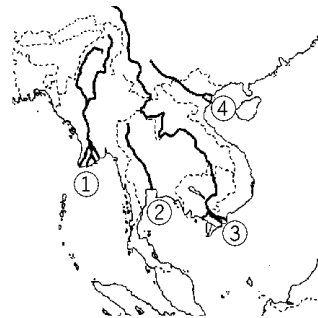
[解答](1) 浮稲 (2) 棚田 (3) 緑の革命

[解説]

(3) 戦後、発展途上国の人口急増は深刻な食糧不足の問題を生んだ。ロックフェラー財団の援助でメキシコに作られた研究所で、従来の2倍の収量を可能にする小麦の新しい品種が作られた。さらに、稲についても「奇跡の米」とよばれる高収量品種が作られた。これを緑の革命という。これによって、例えばインドネシアは米の自給を達成することができた。

[問題](増補 11)(補充問題)

X 川は、チベット高原に源を発し、南シナ海に流れこむ国際河川である。ベトナム・カンボジアにまたがる、この川の下流の広い平野は(a)の産地となっている。この一帯は、海からしめった(b)が吹く雨季に(a)が作られるが、一年中気温が高いので、二期作や三期作が行われる場合もある。宗教についてはこの川が流れる東南アジアの国々では、(c)を信じる人々の数が、最も高い比率になっている。



(1) X 川を、略地図の ~ の中から 1 つ選び、番号を書け。

(2) 文中の a, b, c にあてはまる語句をそれぞれ書け。

(佐賀県(旧))

[解答欄]

(1)	(2)a	b	c
-----	------	---	---

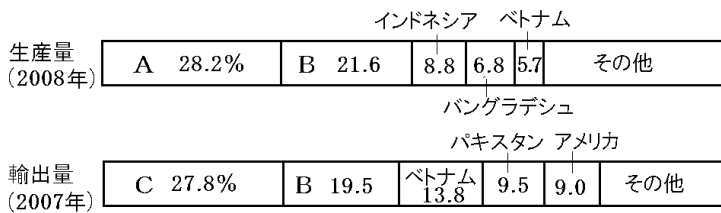
[解答](1) (2)a 米 b 季節風(モンスーン) c 仏教

[解説]

X 川はベトナム・カンボジアを流れているので のメコン川であると判断できる。

[問題](増補 11)(1 学期中間)

下のグラフは世界の米の生産量と輸出量に占める主な国の割合を示したものです。A ~ C にあたる国をそれぞれ[]から選んで書きなさい。



[中国 インド タイ アメリカ ロシア カナダ]

[解答欄]

A	B	C
---	---	---

[解答]A 中国 B インド C タイ

[解説]

世界の米の生産量は中国が1位で、インドが2位であるが、3位以下に東南アジア各国が入る。

(米の生産順位 2008年) : 1位 中国(28.2%) , 2位 インド(21.6%) , 3位 インドネシア(8.8%) , 4位 バングラデシュ(6.8%) , 5位 ベトナム(5.7%) , 6位 ミャンマー(4.5%) , 7位 タイ(4.4%) (日本は10位で1.6%)

インドネシアは米の生産量も多いが、人口も2.3億人(2009年)と多いため、かつては米の輸入国であったが、緑の革命によって米の自給を達成した。

東南アジアで米の輸出が多いのはタイとベトナムである。

(米の輸出国 2008年) : 1位 タイ(27.8%) , 2位 インド(19.5%) , 3位 ベトナム(13.8%)

(統計出典)「世界国勢図会 2010/2011」P226・P234

【】プランテーションなど

[問題](2 学期中間)

次の各問いに答えよ。

- (1) 東南アジアの気候を生かして、輸出用作物を栽培している大農園を何というか。
- (2) 1つの商品作物の輸出にたよっている経済状態のことを何というか。

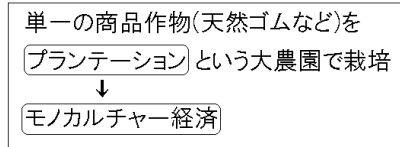
[解答欄]

(1)	(2)
-----	-----

[解答](1) プランテーション (2) モノカルチャー経済

[解説]

かつて東南アジア各国はイギリス、フランス、オランダなどのヨーロッパの国の植民地であった。ヨーロッパ人は、その地域の自然条件にあった単一の農作物(天然ゴム、バナナなど)を、プランテーション



ーションという大農園で栽培し、ヨーロッパなどに輸出した。その結果、天然ゴムなどの単一の商品作物の輸出がその国の経済を支えるモノカルチャー経済になり、その国際価格の変動が、国の経済を大きく作用するようになった。また、輸出用作物の栽培は、自給用作物の栽培面積の減少をもたらし、食料自給のさまたげともなった。

天然ゴムの生産(2009年): 1位 タイ(32.1%), 2位 インドネシア(26.4%), 3位 マレーシア(8.9%), 4位 インド(8.5%) (統計出典)「世界国勢図会 2010/2011」P305

合成ゴムの普及によって天然ゴムの価格が下がり、栽培する樹木を天然ゴムから油やしに変えるところがふえてきている(油やしからとれるパーム油はマーガリンや石けんの原料になる)。

[問題](3 学期)

次の各問いに答えなさい。

- (1) 東南アジアでは植民地時代、欧米人が現地の人々を安い賃金でやとい、熱帯性の作物を栽培する大農園をつくりました。このような大農園を何といいますか。
- (2) 右の絵は大農園で、ある熱帯性の作物をとっている絵です。何をとっている絵ですか。



[解答欄]

(1)	(2)
-----	-----

[解答](1) プランテーション (2) 天然ゴム

[問題](増補 11)(2 学期期末)

次の各問いに答えなさい。

- (1) 東南アジア・アフリカ・南アメリカに見られる，植民地時代につくられ，現地の人を安い賃金で働かせる大農園を何というか，カタカナで書きなさい。
- (2) (1)の農園で栽培される，バナナ・さとうきび・ゴムなど，販売して利益を上げることを目的に栽培される作物のことを，何といいますか。

[解答欄]

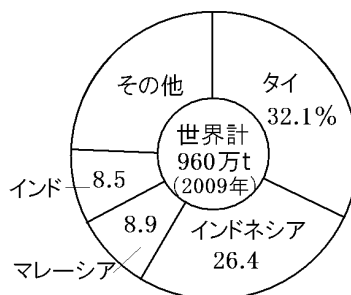
(1)	(2)
-----	-----

[解答](1) プランテーション (2) 商品作物

[問題](増補 11)(2 学期期末)

次の各問いに答えよ。

- (1) 東南アジアでは，かつて欧米人が現地の人々を安い賃金でやとい，熱帯作物を栽培する大農園がつくられていた。このような大農園を何というか。
- (2) 右の円グラフは，大農園で栽培されているある農作物の国別生産量である。この農作物は何か。
- (3) ごく少数の鉱産資源や農産物の輸出が国の経済を支えている状態を何経済というか。



[解答欄]

(1)	(2)	(3)
-----	-----	-----

[解答](1) プランテーション (2) 天然ゴム (3) モノカルチャー経済

[問題](増補 11)(補充問題)

東南アジアでは，ヨーロッパ人による植民地化が食料自給のさまたげとなったといわれる。この理由を説明せよ。



(福井県(旧))

[解答欄]

--

[解答]輸出用作物の栽培がおし進められたことで自給用作物の栽培面積が減少したから。

[問題](2学期中間)

地図中の  ,  の記号はどんな鉱物資源を表しているか。資源名を答えよ。

[解答欄]

:	:
---	---

[解答] : すす : 石油

[解説]

石油はスマトラ島, ジャワ島, カリマンタン島などで採掘されている。すすはマレー半島, スマトラ島などで採掘されている。



【】熱帯林の破壊

[問題](増補 11)(2 学期期末)

次の各問いに答えなさい。

- (1) 森林などを焼いて、その樹木の灰を肥料として行われる農業を何といいますか。
- (2) (1)や、熱帯林の伐採が、原因の1つとなっている、地球環境問題は何ですか。

[解答欄]

(1)	(2)
-----	-----

[解答](1) 焼畑農業 (2) 地球温暖化

[解説]

焼畑農業とは、森林や原野を焼き払い、その灰を肥料にする農法である。数年、農耕を行うと、土の中の養分が少なくなるので、別の場所に移動する。これを何回か繰り返すうちに、最初に焼畑を行った土地に木がはえて森林になるので、もとにもどって、焼畑を行うことができる。焼畑農業は、インドネシアなど島々が広がる赤道付近、南米のアマゾン川流域、アフリカなどで行われている。

伝統的な焼畑農業は持続可能なものであるが、最近には主に都市部からの新規農業事業者による商品作物栽培のために、十分な休閑期間をとらない焼畑農業が行われており、この結果熱帯林の回復能力を超えてしまい、熱帯林の破壊の原因になっている。二酸化炭素を吸収する熱帯林が失われることは地球温暖化を促進することになる。

[問題](増補 11)(補充問題)

東南アジアの一部では、人口増加による農地開発や、日本への大量な輸出のために、「ある資源」が減少し、深刻な環境破壊が起きている。「ある資源」とは何か、書きなさい。

(徳島県(旧))

[解答欄]

--

[解答]熱帯林

[問題](増補 11)(補充問題)

東南アジアにおける自然環境の変化について、最も適切に述べているものを、次のア～エの中から 1 つ選び、その記号を書きなさい。

- ア 工場や自動車の排出ガスなどが偏西風で運ばれ、酸性雨による森林の立ち枯れが広がった。
- イ 地下水を利用した大規模なかんがいや大型機械による農業が行われ、土壌の侵食が進んだ。
- ウ 人口増加によって、燃料用の樹木の採取や家畜の放牧を行いすぎたため、砂漠化が進行した。
- エ 焼畑耕作や商業用の樹木の伐採に加え、大規模な山林火災などの災害もあり、森林が減少した。

(和歌山県(旧)改)

[解答欄]

[解答]エ

【】ASEAN 諸国の発展

[問題](増補 10)(1 学期期末)

東南アジア諸国連合の略称を次の[]から選びなさい。

[EU ASEAN WHO IOC]

[解答欄]

[解答]ASEAN

[解説]

ASEAN(アセアン)(東南アジア諸国連合)は、1967 年に結成され、
経済・政治等の分野の地域協力を行っている。例えば、加盟国の
間では、関税を引き下げることを行っている。

ASEAN
東南アジア諸国連合

[問題](2 学期中間)

インドネシアを中心に、1967 年に発足した地域経済協力機構を何というか。アルファベットで書け。

[解答欄]

[解答]ASEAN

[問題](2 学期中間)

シンガポール・香港・台湾・韓国は、工業化を達成した国(地域)として何と呼ばれているか。カタカナ 6 文字で答えよ。

[解答欄]

[解答]アジアニーズ

[解説]

近年急速に工業が発達した国や地域を NIES(ニーズ)という。

シンガポール
アジアNIES(アジアニーズ)の1つ

NIES は、Newly(新興), Industrializing(工業化), Economics(経済地域)の頭文字をとったもので、「新興工業経済地域」の略称である。

NIES にふくまれる国・地域としては、韓国，台湾，ホンコン，シンガポール，メキシコ，ブラジル，ギリシャ，ポルトガル，スペイン，ユーゴスラビアである。このうち，アジアにある韓国，台湾，ホンコン，シンガポールをアジア NIES(アジアニーズ)とよんでいる。

[問題](2 学期中間)

近年，工業が発達し，経済が急速に発展している地域のことを何というか。アルファベット大文字 4 字で書け。

[解答欄]

[解答]NIES

[問題](2 学期中間)

次のグラフは，マレーシアの輸出額の品目別割合の変化を示したものである。これを見て，次の各問いに答えなさい。

マレーシアの輸出						
1975 年 38 億ドル	天然ゴム 21.9%	パーム 油 14.3	すず 13.1	木材 12.0	原油 9.3	機械類 5.5 その他 23.9
2008 年 1988 億ドル	機械類 31.8%		6.7	6.4	6.1	原油 その他 49.0
						液化天然ガス



- (1) この国の輸出の変化を「原料，工業製品」の 2 つの語句を必ず使って，簡潔に説明しなさい。
- (2) (1)のように変化した要因と右上の写真は密接な関係がある。写真のようにマレーシアへ企業が進出する理由を，「労働力」の語句を用いて簡潔に説明しなさい。

[解答欄]

(1)
(2)

[解答](1) かつては原料や燃料が輸出の中心であったが，現在では工業製品が中心になっている。(2) 労働力が豊富で賃金が安いから。

[解説]

ASEAN 諸国の産業の中心は、農業から工業に移ってきている。各国の政府は、工業を発展させるため、日本やアメリカ企業の工場を誘致する政策をとってきた。豊富な労働力と安い賃金を求めて、日本からも工場を進出させている企業が多い。その結果、例えばマレーシアでは、かつては天然ゴム・パーム油・すず・木材・原油などの資源が輸出の中心であったが、現在では機械類などの工業製品が輸出の中心になっている。

[ASEAN諸国の発展]
 豊富な労働力と安い賃金を求めて、
 日本やアメリカ企業の工場が進出
 ↓
 工業化 輸出品も工業製品が中心に

東南アジアでの工場の進出先は、より賃金の安い労働力を求めて、シンガポール マレーシア・タイ インドネシア・フィリピン ベトナムへと移りつつある。

(統計出典) マレーシアの輸出：「日本国勢図会 2010/2011」P354

[問題](3 学期)

次の資料を見て問いに答えなさい。

マレーシアの輸出

	機械類 5.5					
1975 年 38 億ドル	天然ゴム 21.9%	パーム 油 14.3	すず 13.1	木材 12.0	原油 9.3	その他 23.9
2008 年 1988 億ドル	機械類 31.8%	6.7	6.4	6.1	その他 49.0	
		原油	パーム油	液化天然ガス		

- (1) 2008 年におけるマレーシアの輸出額は、1975 年の輸出額の約何倍になっていますか。整数で答えなさい。
- (2) 下の文の ， にあてはまる語句を下の[]から選びなさい。
 マレーシアは()の輸出国から()の輸出国に変化した。

[工業製品 資源]

[解答欄]

(1)	(2)	
-----	-----	--

[解答](1) 約 52 倍 (2) 資源 工業製品

[問題](2 学期中間)

東南アジアへ工場を進出させている日本の企業が多いが、進出のもっとも大きな理由は何か。説明しなさい。

[解答欄]

[解答]労働力が豊富で賃金が安いから。

【】マレーシア

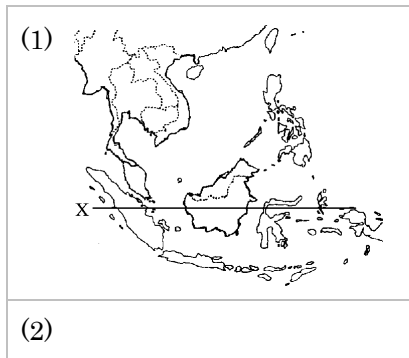
[問題](2 学期中間)

次の各問いに答えよ。

- (1) 資料の地図のうち，マレーシアの範囲に斜線を引きなさい。
- (2) 資料中の X は赤道である。赤道付近に位置するマレーシアが属する気候帯名を答えなさい。



[解答欄]



[解答](1)  (2) 熱帯

[解説]

マレーシアの首都はクアラルンプール(位置：3.1509,101.7059)で，人口は 2747 万人(2009 年)である。多民族国家でマレー人が最も多いが，中国系(華人)やインド系も多い。かつて，マハティール首相(1981～2003 年在任)のルックイースト政策で急速に工業化が進み，東南アジア諸国の中では，シンガポールに次ぎ，タイと並んで工業が発達した国になっている。ルックイースト政策とは，アジアの工業国である東方(イースト)の日本や韓国などに学ぼう(ルック)という政策である。安くて豊富な労働力を求めて日本企業も多く進出している。かつての輸出品は天然ゴムとスズなどであったが，現在ではコンピュータや IC などの機械類が輸出の中心になっている。農業は，かつてマレーシア経済を支えた天然ゴムは，より収益性の高い油やしの栽培に変わった。

[問題](2 学期中間)

マレーシアは、地図中の(A)半島の 11 州と(B)島の 2 州からなる連邦国家で、(C)系、D 中国系、インド系など、さまざまな人々がくらしている。



- (1) 文中の A～C にあてはまる語句を書きなさい。
- (2) 下線部 D に関して、おもに東南アジア各地で商業や金融業などで活動している中国系の人々を何といいますか。

[解答欄]

(1)A	B	C	(2)
------	---	---	-----

[解答](1)A マレー B カリマンタン C マレー (2) 華人

[問題](2 学期中間)

マレーシアでは、植民地時代に 輸出用作物を大規模に栽培する農園がつけられたが、このことについて、次の問いに答えなさい。

- (1) このような農園を何というか。カタカナで書きなさい。
- (2) 下線部 について、マレーシアはどこかの国の植民地だったか。国名を書きなさい。
- (3) 下線部 について、どんな農作物が栽培されていたか。次から 2 つ選びなさい。

[小麦 油やし だいず 綿花 天然ゴム]

- (4) 国の経済が特定の農産物や鉱産物に大きくたよっている状態を何といいますか。

[解答欄]

(1)	(2)	(3)
(4)		

[解答](1) プランテーション (2) イギリス (3) 油やし, 天然ゴム (4) モノカルチャー経済

[問題](2 学期中間)

マレーシアが日本や韓国の経済発展を手本にして、工業化をおしすすめた政策を何といいますか。

[解答欄]

--

[解答]ルックイースト政策

[解説]

マレーシアでは、1980年代にマハティール首相がルックイースト政策という工業化政策をとった。不足資金や技術を日本などから導入するために、工業団地を造成したり、自由貿易地区を設けたりした。安くて豊富な労働力を求めて日本企業も多く進出した。日本の企業としても、安い労働力を使って生産すれば生産コストを大幅に引き下げることができるので、例えば電気製品の工場を日本からマレーシアに移し、そこで生産した製品を輸入することも行われている。このようにして電気機械などを中心に工業化が進み、かつての輸出品は天然ゴムとスズであったが、現在では機械類が輸出の中心になっている。

[問題](2 学期中間)

次の問いに答えなさい。

- (1) マレーシアでとられた「東を見る」という意味の政策名を答えなさい。
- (2) (1)の「東を見る」とは、発展の手本となるアジアの国をさしている。その国を地図中のア～エから 2 つ選び、記号と国名を答えなさい。
- (3) (2)のうちの 1 か国は、近年急速に工業化が進んだ国である。アジアの国々のうち、このような国・地域を特に何といいますか。
- (4) 地図中に示した の国々が、経済・政治の分野で協力と相互援助を目的として構成している組織を何といいますか。アルファベットで答えなさい。



[解答欄]

(1)	(2)	(3)
(4)		

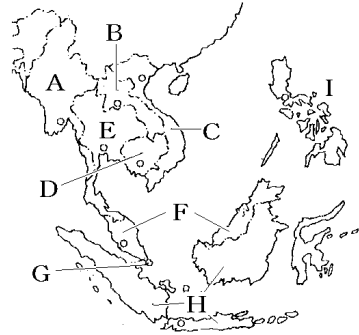
[解答](1) ルックイースト政策 (2) ウ,日本 イ,韓国 (3) アジア NIES (4) ASEAN

【】タイ・インドネシア・フィリピン

[問題](増補11)(補充問題)

タイについて、次の各問いに答えよ。

- (1) タイの位置を右の地図のA～Iから選べ。
- (2) タイの首都の名前を答えよ。
- (3) 日本との間に朱印船貿易が行われたころ、タイはシャムとよばれ、貿易の中心地アユタヤでは()町が栄えた。
- (4) タイは、(イギリスの植民地 / オランダの植民地 / フランスの植民地 / 古くからの独立国)であった。
- (5) タイの国民の大部分が信仰している宗教は(仏教 / イスラム教 / キリスト教)である。
- (6) タイは()半島の中央部をしめ、()半島にもものびている。国土の中央部を北から南に()川が流れ、その下流は広大な()になっており、(稲作 / 畑作 / 牧畜)がさかんである。
- (7) タイは米の輸出国であるが、輸出量は世界第何位か。
- (8) 海岸部では、マングローブ林などを伐採した池で()を養殖し、日本へ輸出している。
- (9) タイは、近年、外国資本の導入で工業化を進め、東南アジア諸国の中では、シンガポールに次ぎ、()と並んで工業化が進み、()類が最大の輸出品になっている。



[解答欄]

(1)	(2)	(3)	(4)
(5)	(6)		
		(7)	(8)
(9)			

[解答](1) E (2) バンコク (3) 日本(日本人) (4) 古くからの独立国 (5) 仏教 (6) インドシナ マレー チャオプラヤ 三角州 稲作 (7) 第1位 (8) えび (9) マレーシア 機械

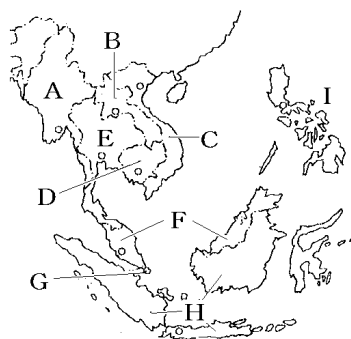
[解説]

タイの首都はバンコク(位置:13.7307,100.5210)で,人口は6776万人(2009年)である。古くからの独立国で,第2次世界大戦前,東南アジアの中では唯一独立を保持していた国である。チャオプラヤ川流域で稲作をおこない,世界最大の米の輸出国になっている。かつては浮稲が栽培されていたが,現在では収量の多い乾季作が広がっている。近年,外国資本の導入で工業化を進め,東南アジア諸国の中では,シンガポールに次ぎ,マレーシアと並んで工業化が進み,機械類が最大の輸出品になっている。日本へは,機械類のほか,えびなどの魚介類,天然ゴムなどを輸出している。

[問題](増補11)(補充問題)

インドネシアについて,次の各問いに答えよ。

- (1) インドネシアの位置を右の地図のA~Iから選べ。
- (2) インドネシアの首都は()で,()島にある。
- (3) インドネシアは,(イギリスの植民地/オランダの植民地/フランスの植民地/古くからの独立国)であった。
- (4) インドネシアの人口は(約8000万人/約1億3000万人/約2億3000万人/約3億3000万人)である。
- (5) インドネシアの国民の大部分が信仰している宗教は(仏教/イスラム教/キリスト教)である。
- (6) ジャワ島では,山の斜面にまで階段状の田を作って米を栽培している。このような田を何というか。
- (7) インドネシアでは,天然ゴム・油やし・ココやしなどの大農園が発達している。このような大農園を何というか。



[解答欄]

(1)	(2)		(3)
(4)	(5)	(6)	(7)

[解答](1) H (2) ジャカルタ ジャワ (3) オランダの植民地 (4) 約2億3000万人 (5) イスラム教 (6) 棚田 (7) プランテーション

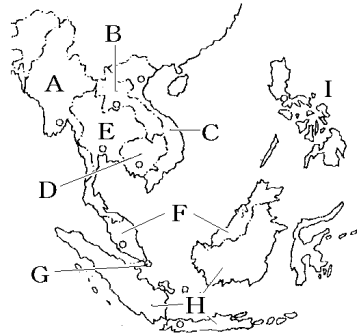
[解説]

インドネシアの首都はジャカルタ(位置：-6.2113,106.8443)である。人口は2億2997万人(2009年)(世界4位)である。イスラム教徒が多い。人口が多いため、かつては不足する米を輸入していたが、近年、緑の革命で自給を達成した。

[問題](増補11)(補充問題)

フィリピンについて、次の各問いに答えよ。

- (1) フィリピンの位置を右の地図のA～Iから選べ。
- (2) フィリピンの首都の名前を答えよ。
- (3) フィリピンは、最初スペインの植民地であったが、その後、()の植民地となり、第二次世界大戦後に独立した。
- (4) フィリピンの国民の大部分が信仰している宗教は(仏教/イスラム教/キリスト教)である。
- (5) ミンダナオ島のプランテーションで()が栽培され、その約8割は日本へ輸出されている。



[解答欄]

(1)	(2)	(3)	(4)
(5)			

[解答](1) I (2) マニラ (3) アメリカ合衆国 (4) キリスト教 (5) バナナ

[解説]

フィリピンの首都はマニラ(位置：14.6004,120.9823)，人口は9198万人(2009年)である。キリスト教徒が多い。プランテーションでバナナが栽培され、その約8割は日本へ輸出されている。

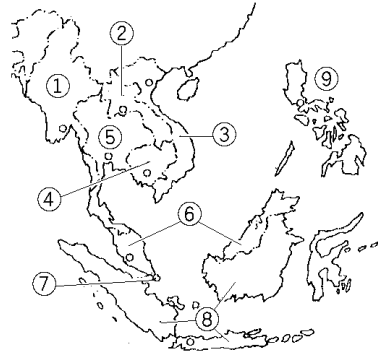
【】各国の特色

[問題](2 学期中間)

東南アジアに関する地図を見て、次の問いに答えよ。

- (1) 地図中の ①～⑨ の国名を答えよ。
 (2) ①、②、③ の首都を次の[]から選べ。

[ネーピードー ビエンチャン バンコク
 マニラ クアラルンプール プノンペン
 ジャカルタ ハノイ]



[解答欄]

(1)			
	(2)		

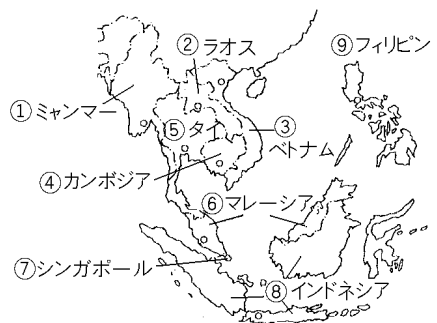
[解答](1) ミャンマー ラオス ベトナム カンボジア タイ マレーシア シンガポール インドネシア フィリピン (2) ネーピードー ビエンチャン ハノイ プノンペン バンコク クアラルンプール ジャカルタ マニラ

[解説]

①はミャンマーで、首都はネーピードー(かつてはヤンゴン)、人口は5002万人(2009年)である。旧国名はビルマ。エーヤワディー川流域で稲作を行っている。

②はラオスで、首都はビエンチャン(位置：17.9627,102.6143)。人口は632万人(2009年)である。

③はベトナムで、首都はハノイ(位置：21.0242,105.8548)、人口は8807万人(2009年)である。ベトナム戦争を経て、1976年に南北ベトナムは社会主義国として統一された。統一後、経済が停滞したが、1986年にドイモイ政策を打ち出し、市場経済の導入と対



外経済開放を行った。安くて豊富な労働力を求めて日本やアジア NIES から企業の進出が相次いだこともあって、経済が発展しつつある。

はカンボジアで、首都はプノンペン(位置:11.5586,104.9169) ,人口は 1481 万人(2009 年)である。長く内戦が続き、1970 年代にはポル・ポト派によって約 180 万人が虐殺された。

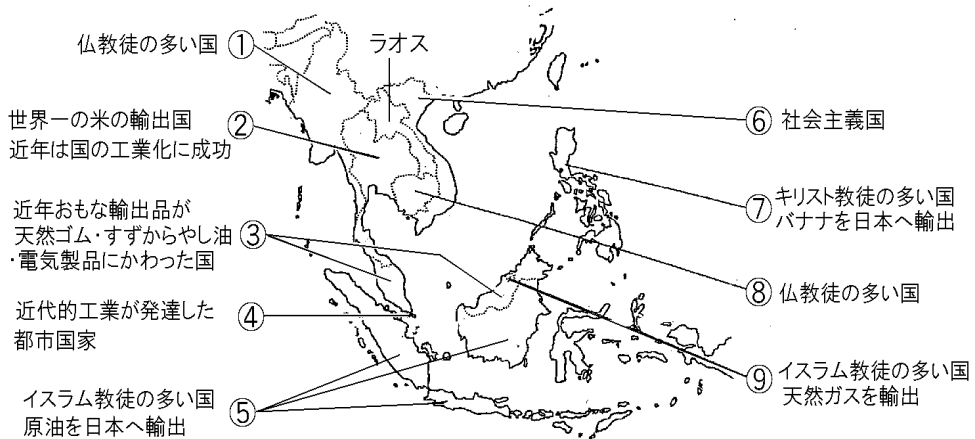
はシンガポール(位置:1.2990,103.8249)で、1965 年にマレーシアから分離した淡路島ほどの小さな島国である。人口は 474 万人(2009 年)で、中国系の華人が人口の 4 分の 3 をしめている。マラッカ海峡にのぞむ交通の要地にあり、中継貿易によって発展してきた。1970 年代に外国資本を導入して積極的な工業化を図った結果、今日ではアジア NIES の 1 つに数えられるようになっており、1 人あたりの国民所得は東南アジアでは最大である。

(統計出典) 東南アジア各国の人口 ; 「日本国勢図会 2010/2011」 P31

[問題](増補 11)(2 学期期末)

下の ~ に適する国の名前を、次の[]から選んで書きなさい。

[ベトナム カンボジア フィリピン タイ ミャンマー インドネシア マレーシア
ブルネイ シンガポール]



[解答欄]

[解答] ミャンマー タイ マレーシア シンガポール インドネシア
ベトナム フィリピン カンボジア ブルネイ

[問題](増補 10)(1 学期期末)

次の ~ の国の名前を答えなさい。また、それぞれの位置を図中の A~J から選びなさい。

首都はバンコク。仏教を信じる人が多く、各地に金色に輝く寺院がある。

約 1 万 8000 以上の島々で構成される。首都ジャカルタはジャワ島にある。イスラム教を信じる人が多い。日本へは液化天然ガスなどを輸出している。



首都マニラはルソン島にある。キリスト教を信じる人が多い。日本へはバナナなどを輸出している。

[解答欄]

--	--	--

[解答] タイ, E インドネシア, I フィリピン, A

[問題](2 学期中間)

次の ~ の国は、東南アジアのどこの国を説明したものか。国名を答えよ。

この国は、かつてフランスの植民地であった。1970 年代、ポル・ポト派によって約 180 万人が虐殺されたという。

この国は、かつてマハティール首相によって積極的な工業化政策がとられた。

この国では、人口が 2 億人を超え、イスラム教徒が多い。石油は重要な輸出資源である。

この国の南の島では、大農園でバナナが栽培され、その大半は日本へ輸出される。

[解答欄]

--	--	--	--

[解答] カンボジア マレーシア インドネシア フィリピン

[問題](3 学期)

右の地図を見て、各問いに答えなさい。

(1) 地図中 ① ~ ④ の国名を書きなさい。

(2) 次の文は地図中 ① ~ ④ のいずれかの国の特色をあらわしています。

それぞれの文にあてはまる国を

① ~ ④ から選び、番号で答えなさい。

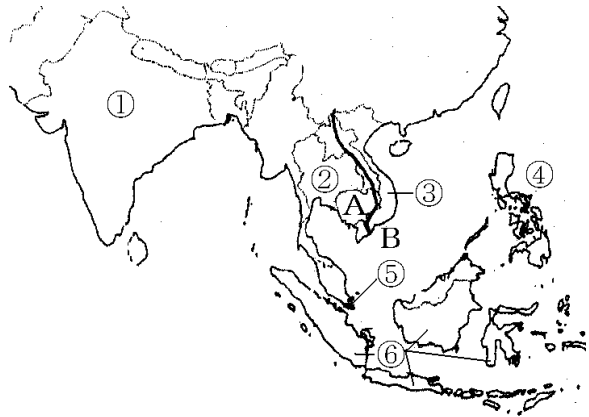
ア アメリカとの戦争で枯れ葉剤をまかれ大きな被害を受けた。

1976 年に社会主義国として成立した。

イ 古くからの独立国でヨーロッパやアメリカの植民地とはならなかった。国民の多くは仏教徒で、米の輸出額が世界 1 位である。

ウ 多くの島々から国土が構成されている。かつてオランダの植民地であった。石油や天然ガスの生産が多い。

(3) 地図中 A の半島、B の川の名前を書きなさい。



[解答欄]

(1)			
		(2)ア	イ
ウ	(3)A	B	

[解答](1) インド タイ ベトナム フィリピン シンガポール イ
 ンドネシア (2)ア イ ウ (3)A インドシナ半島 B メコン川

[問題](増補 10)(2 学期中間)

次の各問いに答えなさい。

(1) 右図の E の国を流れる河川の名前を答えなさい。

(2) パナナ栽培がさかんな A の国の名前を答えなさい。

(3) H の国の名前を答えなさい。



[解答欄]

(1)	(2)	(3)
-----	-----	-----

[解答](1) チャオプラヤ川 (2) フィリピン (3) シンガポール

[問題](1 学期期末)

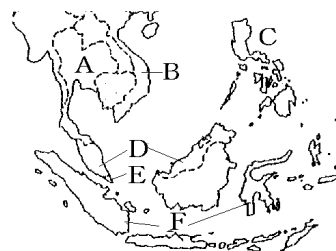
地図を見て答えなさい。

(1) 次の文が示す国は右図の A~F のどこですか。

この国は世界 1 の米の輸出国である。

(2) () 半島の先端にある E の国は、かつては

() の植民地であった。



[解答欄]

(1)	(2)	
-----	-----	--

[解答](1) A (2) マレー イギリス

[解説]

米の輸出国順位(2007 年)： タイ(27.8%)， インド(19.5%)， ベトナム(13.8%)

(「日本国勢図会 2010/2011」P154)

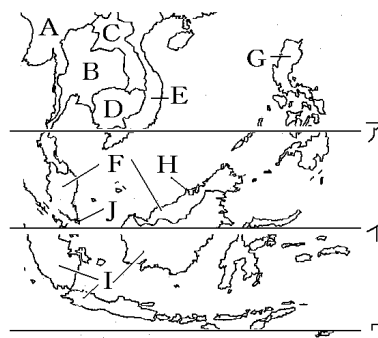
[問題](増補 10)(2 学期期末)

東南アジアに関して次の問いに答えよ。

(1) 右の地図中にあるア~ウの緯線のうち、赤道はどれか。記号で答えよ。

(2) 東南アジア 10 国が加盟している東南アジア諸国連合をアルファベットの略字で書け。

(3) 地図中にある A~J の 10 国のうち、唯一植民地にならなかった国を選び、記号で書け。



[解答欄]

(1)	(2)	(3)
-----	-----	-----

[解答](1) イ (2) ASEAN (3) B

【】インド

【】歴史と社会

[問題](増補 10)(1 学期期末)

次の各問いに答えなさい。

- (1) かつて、インドを植民地として支配していた国を次の[]から選びなさい。
[フランス ドイツ イギリス]
- (2) 第一次世界大戦後、インドで非暴力・不服従の独立運動を指導した人物を次の[]から選びなさい。
[アフマディネジャド ガンディー キムジョンイル]

[解答欄]

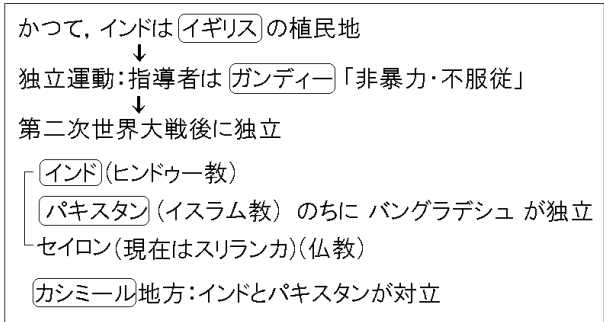
(1)	(2)
-----	-----

[解答](1) イギリス (2) ガンディー

[解説]

かつて、インドはイギリスの植民地であった。第一次世界大戦の前後、独立の気運が高まり、ガンディーは「非暴力・不服従」の理念のもと独立運動を続け、第二次世界大戦後ようやく独立を達成した。

しかし、宗教上の対立から、ヒンドゥー教のインド、イスラム教のパキスタン、仏教のセイロン(現在はスリランカ)の3つに分裂して独立した。さらに1971年には、東西に分かれていたパキスタンのうち東パキスタンがバングラデシュとして独立した。カシミール地方はパキスタンとインドが領有を主張し、これまで大小の軍事衝突を繰り返してきた。現在は、ほぼ中間付近に停戦ラインが引かれている。



[問題](2 学期期末)

次の各問いに答えなさい。

- (1) かつて、インドを植民地として支配していた国の名称を答えなさい。
- (2) 下の中から、独立運動の指導者「マハトマ=ガンディー」を選び、記号を答えなさい。



[解答欄]

(1)	(2)
-----	-----

[解答](1) イギリス (2) エ

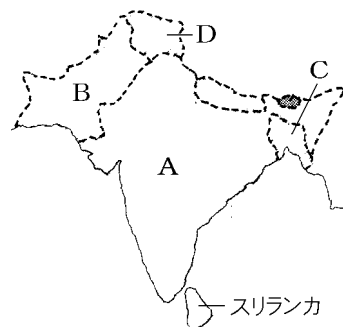
[解説]

アはヒトラー、イはガンディー(エ)とともに独立運動を指導したネルー、ウは蔣介石

[問題](2 学期期末)

独立後のインドと周辺諸国について、下の各問いに答えなさい。

- (1) 地図中の B のパキстанは、インドとは宗教上の対立から分離した。この国の国民のほとんどが信仰している宗教は何か。
- (2) 以前は東パキスタンであった地図中の C 国の名称を答えなさい。
- (3) 地図中の D 地方は、インドにもパキスタンにも帰属が決まっていない。この地域の名称を、次の[]の中から選びなさい。



[西サハラ カシミール カジランガ バルト三国]

[解答欄]

(1)	(2)	(3)
-----	-----	-----

[解答](1) イスラム教 (2) バングラデシュ (3) カシミール

[問題](増補 11)(2 学期期末)

インドとパキスタンによる領土紛争が続いている地方を、次の[]から選びなさい。
[コルカタ カシミール アッサム ムンバイ]

[解答欄]

[解答]カシミール

[問題](2 学期期末)

インドの人口は、約 12 億人(2009 年)である。人口の多さでいうと、世界で第何位であるか。

[解答欄]

[解答]第 2 位

[解説]

インドの人口は 2009 年現在約 12.0 億人で、中国の 13.5 億人について世界第 2 位である。(「日本国勢図会 2010/2011」P31) かつては増加する人口のため食糧不足の問題が深刻であったが、「緑の革命」によって穀物生産が増加し、食糧難はまぬかれた。

【】宗教・生活

[問題](増補 10)(2 学期中間)

現在、インドでもっともさかんな宗教を答えなさい。

[解答欄]

--

[解答]ヒンドゥー教

[解説]

ヒンドゥー教は多神教で、牛を神の使者として大切にあつかい、牛乳は飲むが牛肉は絶対に食べない。ガンジス川は「聖なる河」とされ、インド各地から集まった信者が、川の水に身をひたしているのをささげる。ヒンドゥー教徒の間には、カースト制度のなごりが残っている。憲法によってカ

ヒンドゥー教

- ・牛は神の使者 牛肉は食べない
- ・ガンジス川 = 「聖なる河」

カースト制度

- ・憲法でカーストによる身分差別は禁止
- ・職業・結婚などで根強く残っている

ーストによる身分差別は禁止されているが、実際上は、階級によって職業が固定していたり、階級が異なれば同席や結婚がしにくいなどの差別が残っている。

[問題](増補 11)(2 学期期末)

次の各問いに答えよ。

- (1) インドの人々の大半が信仰している宗教は何か。
- (2) インドの人々が「聖なる河」とよんでいる川はインダス川とガンジス川のどちらか。

[解答欄]

(1)	(2)
-----	-----

[解答](1) ヒンドゥー教 (2) ガンジス川

[問題](増補 11)(補充問題)

インドの国民の 80% 以上はヒンドゥー教徒である。次のア～エのうち、ヒンドゥー教徒の生活のようすとしてあてはまらないものはどれか。1 つ選んで、その記号を書け。

- ア 牛を肉として食べることはないが、乳や糞は利用する。
- イ ある都市の方向に向かって、1 日に 5 回礼拝する。
- ウ ガンジス川を聖なる河として信仰している。
- エ カースト制度と呼ばれる身分制度が受けつがれている。

(香川県(旧))

[解答欄]

[解答]イ

[解説]

イはイスラム教の宗教儀式である。

[問題](増補 11)(2 学期期末)

南アジアの宗教について述べた次の文で、正しいものを記号で選びなさい。

ア ネパールでは、主にキリスト教が信仰され、日曜日のミサに参加する風習がある。

イ パキスタンとバングラデシュでは、イスラム教を信仰する人が多い。

ウ インドでは、ヒンドゥー教を信仰する人が多く、食事は、左手でする風習がある。

エ スリランカは、シャカが仏教を開いた場所であるため、今でも仏教の信者が多い。

[解答欄]

[解答]イ


[解説]

アは誤り。ネパール国民の約8割はヒンドゥー教徒である。

ウは誤り。ヒンドゥー教徒は右手を使って食事をとる。

エは誤り。シャカが仏教を開いたのはインドである(ネパールとする説もある)。

[問題](増補 11)(補充問題)

右図の  の国でおこり、その後、東南アジアや東アジアに伝えられ、現在、タイやミャンマーなどで最も多くの人々に信仰されている宗教を、[]から選びなさい。



[キリスト教 仏教 ヒンドゥー教 イスラム教]

(北海道(旧))

[解答欄]

[解答]仏教

[問題](増補 10)(補充問題)

インドで、社会での地位や職業の決定に大きな影響をあたえている、古くから残る身分制度のことを何というか。

(沖縄県)

[解答欄]

[解答]カースト制度

[問題](2 学期期末)

次のア～エの中から、正しくないものを 1 つ選びなさい。

ア カースト制度のもとでは、職業は親から子へ伝えられていくべきものとされている。

イ ヒンドゥー教では、牛は神様の乗り物なので、大切にされている。

ウ カースト制度は、憲法でも禁止されておらず、社会の中に根強く残っている。

エ カースト制度においては、異なる身分間では結婚も食事の同席もゆるされない。

[解答欄]


[解答]ウ

[解説]

ウが誤り。カースト制度は、憲法では禁止されている。

[問題](増補 11)(補充問題)

インドの女性の、代表的な民族衣装を描いたものを、次の図ア～エから 1 つ選んで、その記号を書け。



(香川県(旧))

[解答欄]

[解答]ア

[解説]

アがインドの民族衣装のサリーである。はば 1m , 長さ 6 ~ 10m ほどの 1 枚の布を体にまきつける。

[問題](増補 11)(2 学期期末)

インドの女性が身につける一枚布の民族衣装は何か。

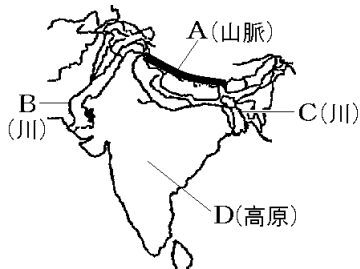
[解答欄]

[解答]サリー

【】自然と農業

[問題](増補 11)(2 学期期末)

次のA～Dの地形名を答えよ。



[解答欄]

A	B	C	D
---	---	---	---

[解答]A ヒマラヤ山脈 B インダス川 C ガンジス川 D デカン高原

[問題](増補 11)(補充問題)

インドに雨をもたらす夏の季節風(モンスーン)の風向は、右の略地図中にア～エで示した矢印のうちのどれか。1 つ選んで、その記号を書け。

(香川県(旧))

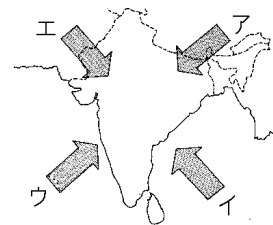
[解答欄]

[解答]ウ

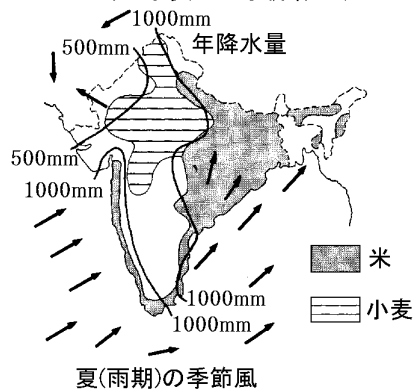
[解説]

インドの気候は、季節によって風向きが変わる季節風(モンスーン)の影響を強く受ける。夏には南西の季節風(南西の方向から北東へ吹く風)のために、インド洋から陸地に湿った空気が運ばれ、南西部の沿岸地域や北東部で雨が多くなる。これに対し、海からの風が届かない北西部は雨が少なくなる。

インドの農業分布は、降水量と密接な関係がある。米は年降水量 1000mm 以上の地域(ガンジス川流域な



インドの米と小麦の主な栽培地域



ど)で多く生産されている。降水量が 500mm ~ 1000mm の地域(インダス川流域など)では、乾燥した気候に適した小麦の栽培が行われている。

インドは、米・小麦ともに中国について世界第 2 位の生産量がある(「世界国勢図会 2008/09」P228・P229)。また、デカン高原では綿花の栽培がさかんである。アッサム地方やスリランカでは茶の栽培がさかんである。



[問題](増補 11)(補充問題)

次の各問いに答えなさい。

- (1) 図中アの河川の名前を答えよ。また、アの河川の流域でつくられている農産物を下の[]から選べ。
- (2) 図中イの河川の名前を答えよ。また、イの河川の流域でつくられている農産物を下の[]から選べ。
- (3) 図中ウの高原の名前を答えなさい。また、ウの高原でつくられている農産物を下の[]から選べ。



[さとうきび 綿花 米 カカオ 小麦]

[解答欄]

(1)		(2)	
(3)			

[解答](1) ガンジス川 米 (2) インダス川 小麦 (3) デカン高原 綿花

[問題](増補 10)(2 学期中間)

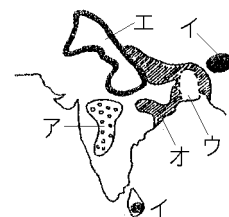
次の各問いに答えなさい。

- (1) 綿花の産地を右図のア～オから選びなさい。
- (2) 茶の産地を右図のア～オから選びなさい。

[解答欄]

(1)	(2)
-----	-----

[解答](1) ア (2) イ



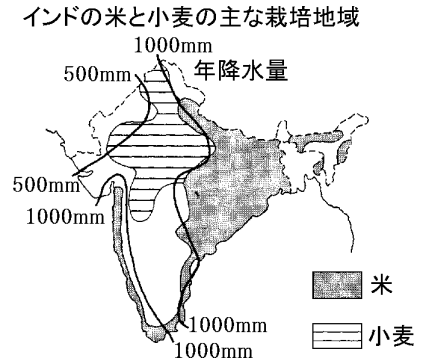
[問題](増補 10)(補充問題)

米と小麦の主な栽培地域と年降水量との関係を、資料を参考にして、簡潔に書きなさい。

(群馬県)

[解答欄]

[解答]米は年降水量が 1000mm 以上の地域で、小麦は 500mm ~ 1000mm の地域で主に栽培されている。



[問題](増補 11)(補充問題)

アジアの気候はモンスーンの影響を強く受けている。モンスーンの影響についての説明として正しいものを、次のア~エから 1 つ選び、記号で答えなさい。

- ア 夏のモンスーンは北東からふくので、雨が少なく干ばつがおりやすい。
- イ モンスーンは年間を通じて風向きが一定で、季節の移り変わりが見られない。
- ウ 冬のモンスーンは多量の雨をもたらすので、この時期に稲作が行われる。
- エ モンスーンは夏と冬で風向きが変化し、低緯度地域では雨季と乾季がみられる。

(鳥取県(旧))

[解答欄]

[解答]エ

【】 鉱工業・都市

[問題](増補 11)(2 学期期末)

インドのバンガロールには、世界的なコンピュータやソフトを開発する企業が、次々に進出しています。インドで現在、IT産業が急速に発達している理由を、人材という面から説明しなさい。

[解答欄]

[解答]インドはもともと数学の教育に力を入れており、コンピュータ教育もさかんで、英語ができる人材が多いから。

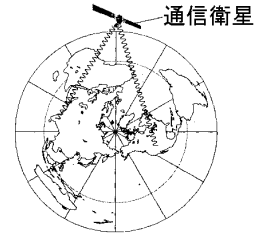
[解説]

インドでは、国内でとれる綿花やジュートを原料とする繊維工業がさかんである。また、インド東部では石炭や鉄鉱石を産出しているが、これらを使った鉄鋼業もさかんである。しかし、かつて、インドは外国資本にたよらず国内の企業だけで工業化を進めてきたため、新しい技術の導入などで大きくおくれをとった。そこで、1990 年代に方針を転換し、外国資本の参入の制限を取りはらった。その結果、おもに外国資本による先端技術産業、電気機器、自動車、化学などの工業が急成長した。インドは、現在 BRICs の 1 つとして著しい経済成長を続けている。(BRICs の B はブラジル、R はロシア、I はインド、C は中国(China)を表している。)

近年は、IT 産業、中でもソフトウェア産業の伸びが著しい。インドはもともと数学の教育に力を入れており、コンピュータ教育もさかんで、英語が堪能な人材が多い。当初はアメリカなどへ技術者が渡り、ソフトウェアの開発にたずさわっていたが、現在は国内での生産が中心になっている。アメリカとは約 12 時間の時差があるので、あるソフトウェアを共同で開発し、例えば、アメリカのプログラマーが仕事を終える時間に作業データを衛星通信でインドのプログラマーに送り、引き継いだインドのプログラマーがさらに作業を進め、仕事の終わる時間にアメリカのプログラマーへ送り返す。このようにして 24 時間体制でコンピュータソフト生産が可能となっている。

[問題](増補 10)(補充問題)

最近では、インドとアメリカの企業が協力し、一日の始めと終わりに通信衛星を利用して仕事を引き継ぎ、24 時間体制でコンピュータソフトの生産を行っている。24 時間体制でコンピュータソフトの生産が可能な理由を、右の資料を参考に、インドとアメリカの位置に着目して書きなさい。



(群馬県)

[解答欄]

[解答]両国の時差が約 12 時間あるから。

[問題](増補 10)(2 学期中間)

インドにある工業都市を次の[]から選びなさい。

[テヘラン バンガロール バグダッド バンコク]

[解答欄]

[解答]バンガロール

[問題](2 学期期末)

次の各問いに答えなさい。

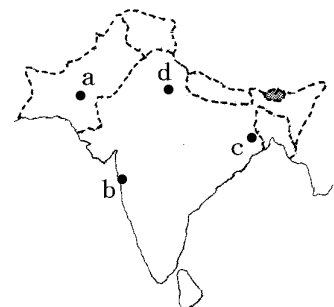
- (1) 1960 年代後半に行われた緑の革命は、さらに貧富の差を大きくした。農村から働き口を探して都市にやってきた人々が、職が見つからず、老朽化した建物やバラックに密集して住むようになった。このように都市の中で、とくに貧しい人々が集中して住んでいる地域を何とよぶか。下の[]から適当な語句を選びなさい。

[ハーレム NIES 経済特区 スラム]

- (2) (1)の地域で、貧しい人たちや病人、孤児の救済活動をおこなった人物は誰か。下の[]から選びなさい。

[ガンディー マザーテレサ ネール キング牧師]

- (3) (2)の人物が救済活動を行った「カルカッタ(コルカタ)」を、地図の a~d から選びなさい。



(4) インド国民の識字率は約何%か。下の[]から選びなさい。

[99% , 93% , 73% , 63% , 53% , 43% , 33%]

[解答欄]

(1)	(2)	(3)	(4)
-----	-----	-----	-----

[解答](1) スラム (2) マザーテレサ (3) c (4) 63%

[解説]

都市部では貧しい人々が密集するスラムがある。カルカッタ(現在はコルカタ)(位置：22.5367,88.3419)のスラムにおいて貧しい人たちや病人，孤児の救済活動をおこなったマザーテレサは有名である。

(統計出典)インドの識字率(2006年)：「世界国勢図会 2010/2011」P455

[問題](増補 10)(1 学期期末)

インドについて正しく説明している文を，ア～ウから選びなさい。

ア ムンバイやバンガロールなどの工業都市がある。

イ 北部にはアルプス山脈がある。

ウ シャカが仏教を開いた国であり，現在でも仏教を信じる人が最も多い。

[解答欄]

[解答]ア

[解説]

イは誤り。インド北部にある山脈はヒマラヤ山脈である。

ウは誤り。「シャカが仏教を開いた国」は正しいが，現在，国民のほとんどはヒンドゥー教を信じている。

【】西アジア

【】イスラム教

[問題](増補 10)(1 学期期末)

西アジアでもっともさかんな宗教の名前を答えなさい。

[解答欄]

[解答]イスラム教

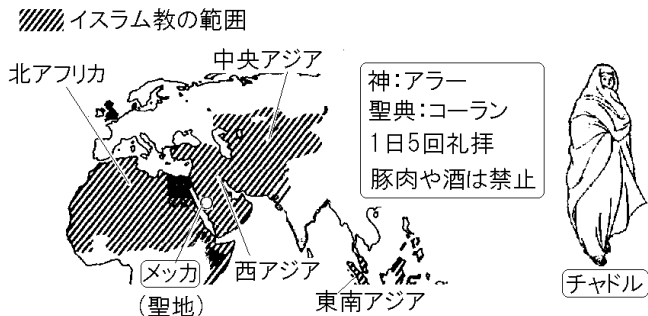
[解説]

北アフリカ～西アジア～中央アジアの気候は乾燥帯であるが、この地域の大部分の人々が信仰しているのはイスラム教である。

イスラム教は、610 年にアラビア半島の商人ムハンマド(マホメット)が始めた宗教で

ある。ムハンマドはアラビアの遊牧民族をまとめてアラビア半島を統一し、さらにその後継者たちが西は北アフリカから、東は唐の国境にまでいたる巨大なイスラム帝国をつくった。

イスラム教では、アラー(アッラー)を唯一の神とし、その教えは、コーランという聖典にまとめられている。信者は、各地にあるモスクという寺院に礼拝に行く。また、1日5回メッカ(サウジアラビアの都市、カーバ神殿がある)に向かって礼拝をする。イスラム教では、豚肉を食べたり、酒を飲んだりすることは禁じられている。イスラムの女性の民族衣装は、全身をおおうチャドル(右上図)という服である。

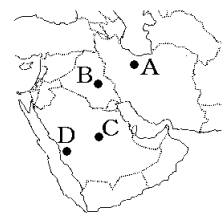


[問題](増補 11)(2 学期期末)

カーバ神殿のあるイスラム教の聖地を地図のA～Dから選び、記号で書き、その地名も書け。

[解答欄]

[解答] D メッカ



[問題](増補 10)(2 学期中間)

サウジアラビアにあるイスラム教の聖地を答えなさい。


[解答欄]

[解答]メッカ

[問題](2 学期期末)

イスラム教について、下の各問いに答えなさい。

- (1) イスラム教徒の女性の民族衣装「チャドル」はどれか。右のア～ウから選び、記号を答えなさい。
- (2) イスラム教徒が信仰している神を何とよぶか。
- (3) イスラム教徒は 1 日に何回、礼拝を行うか。



[解答欄]

(1)	(2)	(3)
-----	-----	-----

[解答](1) イ (2) アラー(アッラー) (3) 5 回

[問題](増補 11)(2 学期期末)

イスラム教について述べた次の各文の中で、誤っているものを記号で選びなさい。

- ア 人前で肌を見せないため、女性はサリーと呼ばれる布を着用しなければならない。
- イ 信者は、1日5回、決められた時刻に礼拝しなければならない。
- ウ 7世紀にムハンマドがはじめ、教えは、コーランという聖典にまとめられている。
- エ 豚肉を食べたり、酒を飲んだりすることは、禁じられている。

[解答欄]

[解答]ア

[解説]

アが誤り。「サリー」はインド女性の民族衣装である。

[問題](増補 11)(補充問題)

北アフリカや西アジアでは、ある宗教を信仰する人々が多いが、この地域での一般的な食生活に関する習慣について述べたものはどれか、次のア～エから 1 つ選べ。

- ア 生き物を殺して食べることが禁じられ、特に牛は神聖な動物と考えられている。
- イ 酒を飲むことや豚肉を食べることが禁じられ、毎年約 1 か月間の断食をする。
- ウ おもに米を主食としており、みそや魚の消費量が多く、はしを利用して食事をする。
- エ タロイモ・ヤムイモなどを主食としており、祝いごとのときには豚肉も食べる。

(京都府(旧))

[解答欄]

[解答]イ

[問題](増補 10)(2 学期中間)

第二次世界大戦後、ユダヤ人の国とアラブの国々との間で中東紛争が起きました。ユダヤ人の国を次の[]から選びなさい。

[イラン パキスタン イスラエル]

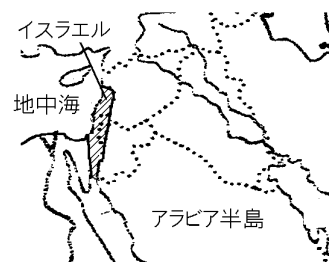
[解答欄]

[解答]イスラエル

[解説]

ユダヤ人は紀元前 10 世紀のころパレスチナの地に国家を作っていたが、ローマ帝国によって滅ぼされて世界各地にちらばった。しかし、ユダヤ教によって同じ民族としての意識を持ち続けた。第一次世界大戦のとき、この地域を支配下においていたイギリスは、戦争への協力を取り付けるためにユダヤ人とパレスチナ人(アラブ人)の両方に対し独立を約束した。

第二次世界大戦中のナチスドイツによるユダヤ人虐殺^{きよくつ}という苦難を経験したユダヤ人は、戦後、続々とパレスチナの地へ移住してきた。このパレスチナの地に住んでいたアラブ系の住民(パレスチナ人)はユダヤ人の入植に強く反発した。1948 年にユダヤ人がイ



スラエルの建国を宣言すると、これに反対する周囲のアラブ諸国との間に戦争が起こった(第一次中東戦争)。この戦争にアラブ諸国はやぶれ、多数のパレスチナ人が難民となった。その後、第二次(1956年)・第三次(1967年)・第四次中東戦争(1973年)を経て現在に至っているが、イスラエル占領地区に住むパレスチナ人とイスラエルの対立は続き、パレスチナ人による自爆テロと、イスラエル軍の軍事侵攻という「報復の連鎖」が続き、和平への展望が開けない状況が続いている。イスラエルの首都エルサレムには、イスラム教、ユダヤ教、キリスト教の3つの宗教の聖地が混在している。

[問題](2学期期末)(私立中学)

次の文章を読んで、あとの各問いに答えなさい。

ほとんどの国が()語を話し、イスラム教を信じる人たちが多い西アジアの中で、全く異質な国がひとつだけある。()である。この国にはユダヤ人が住んでいる。

なぜ、アラブの国々の中にユダヤ人が住む国ができたのか。話は約2000年前にさかのぼる。その当時、この地にはユダヤ人が住んでいたが、()の迫害(例えば、重税や奴隷など)を受け、このパレスチナから世界中に散り散りになった。そして地中海周辺やヨーロッパ各地に住むようになる。しかし、そこでも A 宗教上の違い から「異端者」として差別を受けた。その上、経済的な力を持ったので、ますます白眼視されるようになった。第二次世界大戦中は、()が B「ユダヤ人狩り」 をして、約400万以上のユダヤ人が犠牲になった。

そんな祖国を持たないユダヤの人々は、C パレスチナの地に国家をつくらうという運動をおこした。大戦後はその運動が強まり、世界中の同情も集まって、1948年、国際連合は()の建国を承認するにいたったのである。

(1) 文章中の ~ に入る最も適当な語句を、下の[]から選びなさい。

[ペルシア ヘブライ ナチスドイツ ローマ帝国 エジプト アラビア
イスラエル ペルシア帝国 アウシュビッツ]

(2) 下線部 A「宗教上の違い」について、ユダヤ人たちは唯一神ヤハウェを信仰している。この宗教の名称を答えなさい。

(3) 下線部 B「ユダヤ人狩り」について、このことを何とよぶか。カタカナで答えよ。

(4) 下線部 C「パレスチナの地に国家をつくらうという運動」について、このことを何とよぶか。

- (5) ユダヤ人の国家ができたことによりパレスチナを追われた人々は、1964年、この地域を自分たちの手に取り戻すことを目的とした組織を結成した。この組織の名称をアルファベット3文字で答えなさい。
- (6) 1948年から73年にかけて、ユダヤ人国家(文章中の())とアラブ諸国の間で4度にわたって行われた戦争を何とよぶか。

[解答欄]

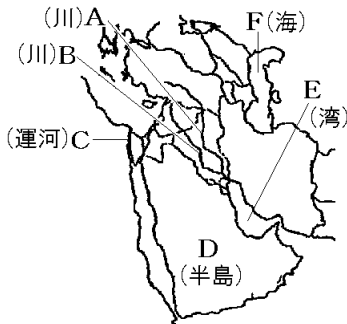
(1)			
(2)	(3)	(4)	(5)
(6)			

[解答](1) アラビア イスラエル ローマ帝国 ナチスドイツ (2) ユダヤ教 (3) ホロコースト (4) シオニズム (5) PLO (6) 中東戦争

【】地形

[問題](増補 11)(2 学期期末)

次のA～Fの地形名を答えよ。



[解答欄]

A	B	C	D
E	F		

[解答]A ティグリス川 B ユーフラテス川 C スエズ運河 D アラビア半島 E ペルシア(ペルシャ)湾 F カスピ海

[解説]

北アフリカ～西アジア～中央アジアの気候は乾燥帯(砂漠気候・ステップ気候)である。サウジアラビアのあるアラビア半島は、その大部分が砂漠である。ティグリス川・ユーフラテス川が流れる現在のイラクの一带は、かつてメソポタミア文明が栄えたところである。ペルシア湾沿岸は世界的な油田地帯となっている。



[問題](増補 11)(補充問題)

西アジア一帯の気候を次の[]から選べ。

[熱帯 乾燥帯 温帯]

[解答欄]

[解答]乾燥帯

[問題](増補 10)(2 学期中間)

イラクを流れる河川を次の[]から 2 つ選びなさい。

[ティグリス川 オビ川 ドナウ川 ニジェール川 ユーフラテス川]

[解答欄]

[解答]ティグリス川 , ユーフラテス川

[問題](増補 11)(2 学期期末)

約5300年前 , 西アジアの2つの川の間で生まれた文明を , 次の[]から選びなさい。

[黄河文明 インダス文明 エジプト文明 メソポタミア文明]

[解答欄]

[解答]メソポタミア文明

[問題](増補 11)(1 学期中間)

次の各問いに答えなさい。

- (1) エジプト文明がおこった河川名を答えなさい。
- (2) ティグリス川・ユーフラテス川周辺で起こった文明を何といいますか。

[解答欄]

(1)	(2)
-----	-----

[解答](1) ナイル川 (2) メソポタミア文明

【】農業・生活

[問題](増補 11)(補充問題)

北アフリカ～西アジアの地域にある砂漠の中には、水が得られ、樹木の育っているところがあり、そこでは、集落や畑が見られて隊商の中継地や保養地ともなっている。このような場所を何というか、カタカナ 4 字で書きなさい。

(青森県(旧))

[解答欄]

[解答]オアシス

[解説]

西アジアの地域にある砂漠の中には、水が得られ、樹木の育っているところがある。このような場所をオアシスという。オアシスでは小麦・綿花・なつめやしなどが栽培されている。イランでは山ろくから村までカナートという地下水路をつくって水を引いている。

西アジア:乾燥帯

水が得られる オアシス → 農業

遊牧 ベドウィン



一方、農産物をつくらず、家畜の群れをひきいて牧草と水を求めて移動する遊牧も、むかしから行われてきた。西アジアの遊牧民はベドウィンとよばれ、やぎやラクダの毛で織った移動に適したテント(右上図)で生活している。

[問題](増補 11)(2 学期期末)

イランで、小麦や綿花の栽培に利用されている地下水路は何か、カタカナで書きなさい。

[解答欄]

[解答]カナート

[問題](増補 11)(2 学期期末)

アジアやアフリカの乾燥帯などでさかんな、家畜と共に移動しながら生活する牧畜のことを何というか、次の[]から選びなさい。

[放牧 移牧 遊牧 酪農]

[解答欄]

[解答]遊牧

[問題](増補 11)(補充問題)

右の写真の住居に暮らす人々は、家畜のえさとなる草を求めて移動しながら牧畜に従事している。このような牧畜の形態を何というか、書きなさい。



(青森県(旧))

[解答欄]

[解答]遊牧

[問題](増補 11)(補充問題)

遊牧とは一般的にどのような牧畜をいうか。簡潔に説明しなさい。


(秋田県(旧))

[解答欄]

[解答]一か所に定住しないで水や草地を求めて移動する牧畜である。

[問題](増補 11)(補充問題)

サウジアラビアなどに住む遊牧民ベドウィンの伝統的な住居を、次のア～エから1つ選んで記号で書け。



(福井県(旧))

[解答欄]

[解答]イ

【】石油資源

[問題](増補 10)(1 学期期末)

次の各問いに答えなさい。

- (1) 右図中アは、日本が最も多くの石油を輸入している国です。この国の名前を答えなさい。
- (2) イランの位置を右図中のア～オから選びなさい。
- (3) 右図中ア、イ、ウの国が囲む湾の名前を答えなさい。

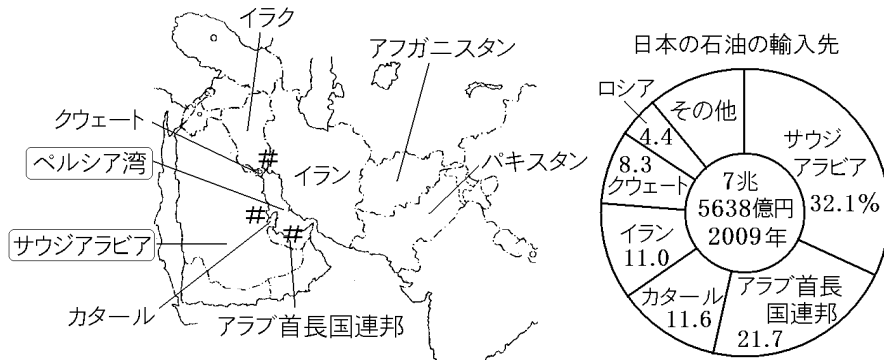


[解答欄]

(1)	(2)	(3)
-----	-----	-----

[解答](1) サウジアラビア (2) ウ (3) ペルシア湾(ペルシャ湾)

[解説]



世界の石油埋蔵量の約半分は、ペルシア湾沿岸を中心とする一帯に集中している。また、石油の生産量・輸出量ともにペルシア湾沿岸の産油国が大きな割合を占めている。日本の石油輸入の約8割はペルシア湾沿岸の国々からである。中でも多いのが、サウジアラビアである。サウジアラビアはロシアに次ぐ世界第2位の産油国(2009年)であり、石油埋蔵量は世界1位である。

(統計出典)「日本国勢図会 2010/2011」P122・315・316

[問題](増補 10)(2 学期中間)

次の各問いに答えなさい。

- (1) 右図中アとイの国にはさまれた湾の沿岸には多くの油田があります。この湾の名前を答えなさい。
- (2) アフガニスタンの位置を右図中ア～オから選びなさい。
- (3) 日本はアの国から大量の石油を輸入しています。アの国の名前を答えなさい。



[解答欄]

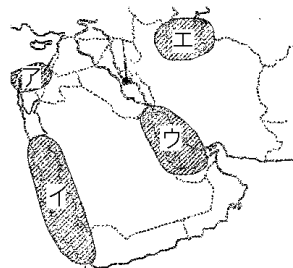
(1)	(2)	(3)
-----	-----	-----

[解答](1) ペルシア湾(ペルシャ湾) (2) ウ (3) サウジアラビア

[問題](増補 11)(2 学期期末)

次の各問いに答えよ。

- (1) 西アジアには世界最大の油田地帯があるが、それはどの一帯か、地図のア～エから選べ。
- (2) 石油の輸出国がつくった組織は何か。ローマ字で書け。



[解答欄]

(1)	(2)
-----	-----

[解答](1) ウ (2) OPEC

[解説]

かつて、西アジアの油田を開発したのは、メジャーとよばれるアメリカやイギリスなどの石油会社であった。メジャーは産油国に対してわずかな利権料を支払うだけであったので、産油国は



貧しいままの状態に置かれていた。そこで、産油国は「石油資源は産油国のものである」という主張をかかげ、1960年にOPEC(石油輸出国機構)を結成し、70年代になると、石油産業の国有化や、価格引き上げをおこなうようになった。

1973年、イスラエルとアラブ諸国の間で第四次中東戦争がおこった。アラブ諸国は、イスラエルを支持する先進国に対抗するため、石油の輸出を制限し、その価格を大きく

引き上げた。石油価格の高騰によって、ヨーロッパ諸国や日本では物価が高騰し、経済が混乱して世界的な不況にみまわれた。これを石油危機という。

[問題](増補 10)(1 学期期末)

石油輸出国機構の略称を次の[]から選びなさい。

[SCO APEC OPEC UN]

[解答欄]

--

[解答]OPEC

[問題](2 学期期末)

西アジアについて、下の各問いに答えなさい。

- (1) 西アジアの国々の中で、石油の産出量が世界 2 位(2009 年) 輸出量が世界 1 位(2007 年)である国はどこか。
- (2) アラブの国に利権料を支払い、油田を開発したアメリカやイギリスなどの石油会社を何とよぶか。
- (3) OPEC はどのような主張を持ち結成されたか。
- (4) 1973 年、OPEC が石油の大幅値上げを行い、先進国の経済は大打撃を受けた。この出来事を何とよぶか。
- (5) (4)の対策のため、イギリスは自国の油田の開発に力を入れた。その油田の名称を答えなさい。
- (6) 1990 年、イラクは、同じアラブのある国を侵略した。この出来事から湾岸戦争にまで発展したのだが、イラクはどここの国を侵略したのか。

[解答欄]

(1)	(2)	(3)
(4)	(5)	(6)

[解答](1) サウジアラビア (2) メジャー (3) 石油資源は産油国のものである。 (4) 石油危機 (5) 北海油田 (6) クウェート

(統計出典)「日本国勢図会 2010/2011」P122

【】アフリカ

【】位置・自然

[問題](増補 10)(補充問題)

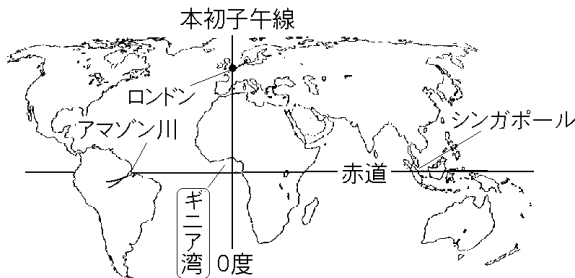
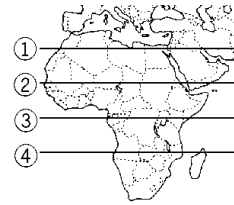
略地図中の ~ の緯線のうち、赤道にあたるものを1つ
選び、番号で答えなさい。

(山形県)

[解答欄]

[解答]

[解説]



赤道は南アメリカ大陸のアマゾン川流域、アフリカ大陸のギニア湾岸、東南アジアのシンガポール付近を通っている。経線の基準となる経度0度の線(本初子午線)はイギリスの首都ロンドン郊外にある旧グリニッジ天文台を通っている。アフリカではギニア湾岸を通っている。

[問題](増補 10)(補充問題)

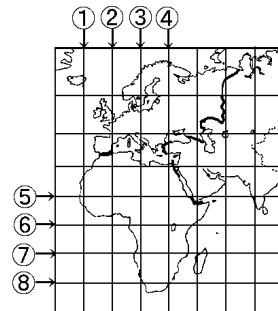
右図で赤道と本初子午線を示している線はどれか。図中の ~ のうちから、最も適当なものをそれぞれ1つずつ選び、その番号を書きなさい。

(千葉県)

[解答欄]

赤道：	本初子午線：
-----	--------

[解答]赤道： 本初子午線：



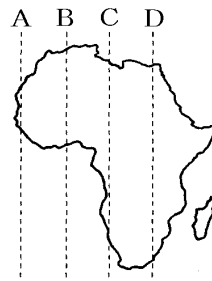
[問題](増補 10)(補充問題)

右の地図は、アフリカ大陸の略地図である。経度 0 度にあてはまるものを、A～D から 1 つ選び、符号を書きなさい。

(石川県)

[解答欄]

[解答]B



[問題](増補 11)(2 学期中間)

右の地図中にAで示した世界最大の砂漠と、Bで示した世界最長の川の名をそれぞれ答えなさい。

[解答欄]

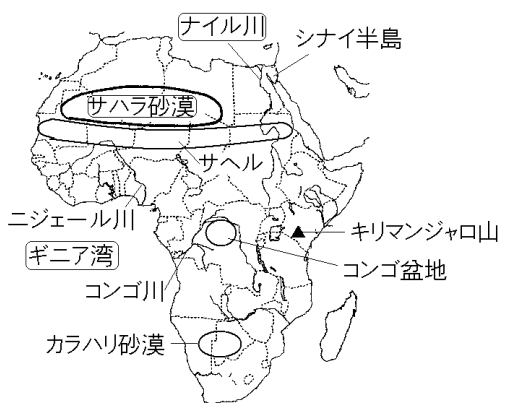
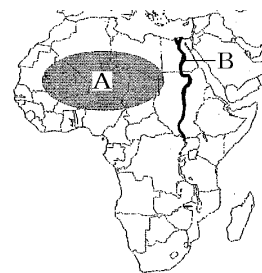
A	B
---	---

[解答]A サハラ砂漠 B ナイル川

[解説]

エジプトを流れるナイル川は長さが世界一の河川である。(長い支流が存在するとして、アマゾン川が世界一長い河川であるという説もある)。

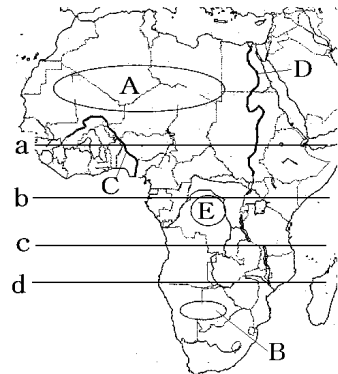
アフリカ大陸北部に広がるサハラ砂漠は世界一の砂漠である。サハラ砂漠の南にはサヘルという地域がある。ここでは、食糧を増産するために増やした家畜が草を食べつくし、砂漠化が進行している。



[問題](3 学期)

次の各問いに答えよ。

- (1) 図中の a～d から赤道の位置を選び、記号で答えよ。
- (2) 図中の A, B の砂漠名を答えよ。
- (3) 図中 C, D の河川名を答えよ。
- (4) 図中 E の盆地名を答えよ。



[解答欄]

(1)	(2)A
B	(3)C
D	(4)

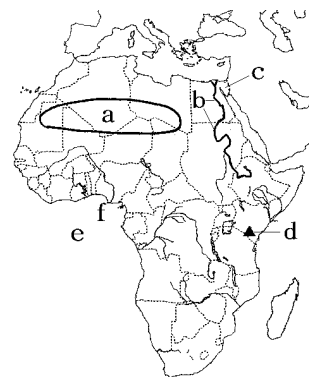
[解答](1) b (2)A サハラ砂漠 B カラハリ砂漠 (3)C ニジェール川 D ナイル川
(4) コンゴ盆地

[問題](3 学期)

次の各問いに答えなさい。

- (1) 右の地図中の a 砂漠, b 川, c 半島, d 山, e 湾の名称を、下の[]から選びなさい。

[サハラ砂漠 リビア砂漠 カラハリ砂漠 ゴビ砂漠
ナイル川 エニセイ川 レナ川 カムチャツカ半島
シナイ半島 モンブラン山 キリマンジャロ山
ギニア湾 カスピ海 バルト海 コンゴ盆地]



- (2) 地図中の f の海岸は、植民地時代に取引された商品(アメリカなどに送られた)にちなんで何とよばれているか。下の中から選びなさい。

[奴隷海岸 象牙海岸 黄金海岸 穀物海岸]

[解答欄]

(1)a	b	c	d
e	(2)		

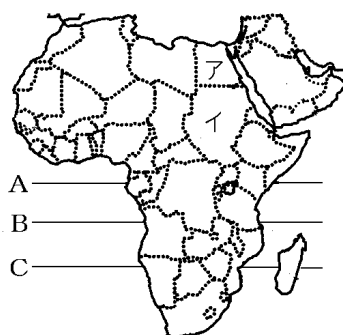
[解答](1)a サハラ砂漠 b ナイル川 c シナイ半島 d キリマンジャロ山 e ギニア湾 (2) 奴隷海岸

[問題](増補 10)(2 学期中間)

アフリカ大陸について、次の各問いに答えなさい。

- (1) アフリカ大陸を正しく説明している文を次のア～エから選びなさい。

- ア 右図中の A は赤道である。
 イ アマゾン川は右図中ア、イの国を流れている。
 ウ 直線状の国境線は古代からの伝統である。



- (2) 北部にある世界最大の砂漠の名前を答えなさい。

[解答欄]

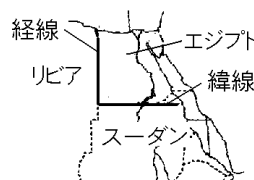
(1)	(2)
-----	-----

[解答](1) ア (2) サハラ砂漠

[解説]

(1)イは誤り。ア、イの国を流れる川はナイル川である。

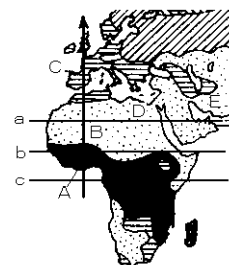
ウは誤り。アフリカ大陸には直線的な国境線が多いが、これは、ヨーロッパ諸国が植民地として支配したときに、経線や緯線などによって支配地域を分割したなごりである。その典型例はエジプトの国境線で、経線と緯線に平行に国境線が引かれている。



[問題](増補 10)(補充問題)

次の各問いに答えよ。

- (1) 図の a, b, c のうち赤道はどれか。
 (2) A→B→C と飛行機で移動すると、気候は()帯
 →()帯→()帯とかわる。
 (3) B に広がる砂漠は何か。
 (4) B, D, E 一帯で信仰されている宗教は何か。



[解答欄]

(1)	(2)		
(3)	(4)		

[解答](1) c (2) 熱 乾燥 温 (3) サハラ砂漠 (4) イスラム教

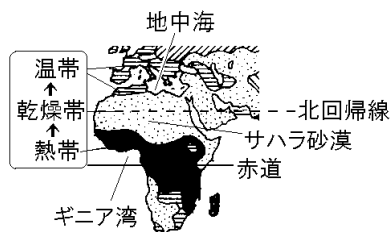
[解説]

アフリカではギニア湾付近を赤道が通っている。
赤道周辺の気候は熱帯である。赤道直下では、強い日射であたためられた空気が上昇気流となるため、雲が発生しやすく、年中雨が多い。

赤道付近で上昇した空気は高緯度に向かって移動し、北回帰線(南回帰線)付近(23.4 度)で下降する。

下降気流があるところでは雲は消えて雨はほとんど降らない。そのため回帰線付近ではほとんど雨が降らない砂漠になっている。アフリカでは北回帰線付近にはサハラ砂漠が広がっている。

アフリカ北西部の地中海沿岸は温帯(地中海性気候)になっている。



[問題](増補 11)(補充問題)

右の地図中の [] で示した地域が属する気候帯は、次のどれか。

[熱帯 温帯 冷帯 乾燥帯]

(長崎県)

[解答欄]

[解答]乾燥帯

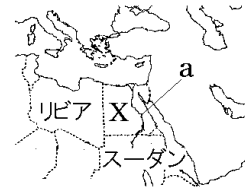


【】北アフリカ・エジプト

[問題](増補 11)(補充問題)

次の各問いに答えよ。

- (1) 右図の X の 国名を書け。また, 首都の名前も書け。
 (2) X 国を流れる a は()川で, この川の流域で紀元前 3000 年ごろに()文明がおこった。



- (3) X 国の気候は次の[]のどれか。
 [熱帯 乾燥帯 温帯]
 (4) X 国の国民の大部分が信仰している宗教は何か。
 (5) X 国と西隣のリビアとの国境線は()線を, 南隣のスーダンとの国境線は()線を利用して引かれた。
 (6) X 国にある地中海と紅海を結んでいる運河は何か。

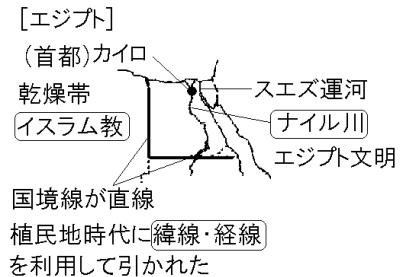
[解答欄]

(1)		(2)	
(3)	(4)	(5)	
(6)			

[解答](1) エジプト カイロ (2) ナイル エジプト (3) 乾燥帯 (4) イスラム教 (5) 経 緯 (6) スエズ運河

[解説]

エジプトの首都はカイロである。人口は 8300 万人(2009 年)で,北アフリカ・西アジアでは最大である。国民の大部分はイスラム教徒である。国土の大部分は乾燥帯(砂漠)で,中央部を南北に流れるナイル川が農業・居住の中心になっている。ナイル川河口に発達した三角州は肥沃な土地となっており,かつてエジプト文明が栄えた。ピラミッドなどの遺跡が残っており,世界有数の観光地となっている。



西と南の国境線は, 経線と緯線にそって引かれているが,これは植民地時代にヨーロッパ諸国が占領した地域に勝手に国境線を引いたためである(エジプトは第一次世界対戦後にイギリスから独立)。スエズ運河は地中海と紅海を結ぶ運河である。

[問題](1 学期期末)

次の各問いに答えよ。

- (1) 右の地図中の A の国名を答えよ。
- (2) A の国の国境線が直線となっている理由は何か。次から選べ。
 - ア この線にそってナイル川という大きな川が流れているため。
 - イ 19 世紀の終わりごろ，ヨーロッパ諸国が占領した地域に勝手に国境線を引いたため。
 - ウ この線に沿って大きな山がつらなっているため。



[解答欄]

(1)	(2)
-----	-----

[解答](1) エジプト (2) イ

[問題](2 学期期末)

エジプトと西側の国との国境は，まっすぐに切り取ったような形をしています。この国境はどのようにして決められたか。簡単に答えなさい。

[解答欄]

[解答]経線を利用して決めた。

[問題](増補 11)(2 学期中間)

地図を見て，問題に答えなさい。

- (1) 地図中の斜線の地域について述べたものとしてあてはまるものを次から1つ選びなさい。
 - ア 住民の多くがフランス人である。
 - イ フランス料理が食べられている。
 - ウ フランス語が使われている。
- (2) 上記(1)のようになったのは，以前これらの地域がフランスの何だったからか。



(3) (1)の地域からフランスを訪れるのは、どういう人たちが最も多いか。次の[]から1つ選びなさい。

[留学生 外国人労働者 政治家 外交官]

[解答欄]

(1)	(2)	(3)
-----	-----	-----

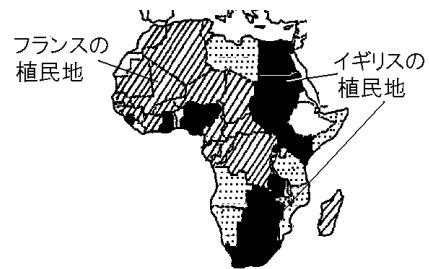
[解答](1) ウ (2) 植民地 (3) 外国人労働者

[解説]

15 世紀ごろからヨーロッパの国々がアフリカに進出し、16～19 世紀には奴隷貿易^{どれい}によって、2000 万人以上のアフリカの人々が北アメリカと南アメリカにつれ去られた。これによって、アフリカ各地の文化や社会は荒廃^{こうはい}した。

20 世紀初頭には、エチオピアなどをのぞくほぼ全域がヨーロッパの植民地となった。第二次世界大戦後、各地で独立の気運が高まり、1960 年代には多くの国が独立をはたした。しかし、植民地時代の境界線を国境としたために、同じ民族が分割されたり、逆に1つの国の中に多くの民族が混在したりしているため、民族間の対立や内戦の原因になっている。

アフリカの北西部から中部一帯はフランスの植民地だったために、今でもフランス語が使われている。また、アフリカ北西部のモロッコ、アルジェリア、チュニジアなどからフランスへ多くの外国人労働者が出かぎに来ている。



【】サハラ砂漠・サヘル

[問題](増補 11)(補充問題)

次の各問いに答えよ。

- (1) 略地図の ⋯⋯⋯ は、世界最大の砂漠が広がっている地域を示したものである。この砂漠の名称は何か。次の[]から 1 つ選べ。



[ゴビ砂漠 タクラマカン砂漠 サハラ砂漠
カラハリ砂漠]

- (2) 略地図中の ⋯⋯⋯ の南部の周辺では、砂漠の拡大や森林の減少が著しく、深刻な問題となっている。その原因に関する説明として誤っているものを、次のア～エから 1 つ選んで、その記号を書け。

- ア モンスーンによって、干ばつが毎年連続しておこる。
イ 農家の人口が増加し、新たな森林の伐採が進んでいる。
ウ 森林がしげるまでじゅうぶんに土地を休ませないまま焼畑を行う。
エ 遊牧民の人口が増加し、頭数を増やした家畜が植物を食べつくす。

(香川県(旧))

[解答欄]

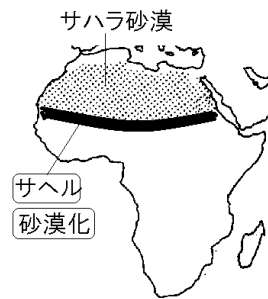
(1)	(2)
-----	-----

[解答](1) サハラ砂漠 (2) ア


[解説]

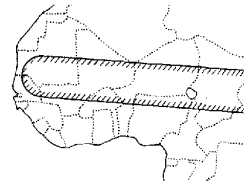
サハラ砂漠の南側を東西に細長くのびる半乾燥地域をサヘルという。この地域は、1 年の大半が乾季で、6～8 月にかけてわずかな雨季があり、年間降水量は 100～600mm 程度である。

1960 年代までは降水量も比較的安定しており、住民は耕地を広げ、家畜をふやしてきた。しかし、1960 年代後半から降水量が極端に少ない年が現れるようになり、1980 年代には大規模な干ばつに襲われ、食糧不足による飢餓が発生した。地球規模での気候変動に加え、家畜の過剰放牧、ゆきすぎた焼畑や過剰耕作などにより、緑の生育を上回るスピードで人間や家畜が緑を消費してしまうことで、大地が不毛の土地になる砂漠化が進行した。



[問題](増補 11)(補充問題)

右図の  で示された地域は、過耕作・過放牧・焼畑などによる砂漠化が進んでいる。この地域にあてはまるものを、次の [] から 1 つ 選びなさい。



[サヘル オアシス クリーク ポルダー]

(沖縄県(旧))

[解答欄]

[解答]サヘル

[問題](増補 10)(補充問題)

サハラ砂漠の南ふちにそって細長くのびる、砂漠化の著しい地域を何というか。

(沖縄県)

[解答欄]

[解答]サヘル

[問題](増補 11)(補充問題)

アフリカの乾燥地帯周辺では、ゆきすぎた焼畑や過放牧に加え、干ばつが原因となり、農牧業ができない土地が拡大する環境問題が生じている。このような現象を何というか。

(山口県(旧))

[解答欄]

[解答]砂漠化

【】ギニア湾沿岸

[問題](増補 11)(補充問題)

図中に X で示した地域では、大規模な農園で特定の農作物が大量に栽培されている。この地域の代表的な農作物を次の

[]から 1 つ選びなさい。

[米 カカオ さとうきび]

(兵庫県(旧))



[解答欄]

[解答]カカオ

[解説]

アフリカでは、植民地時代にヨーロッパ人が特定の商品作物(カカオ、油やしなど)を栽培して輸出する大農園(プランテーション)を開いた。

ギニア湾岸ではカカオや油やし(パーム油の原料)の栽培がさかんである。カカオの生産で、コート

ジボワールは世界 1 位、ガーナは 3 位、ナイジェリアは 4 位となっている。

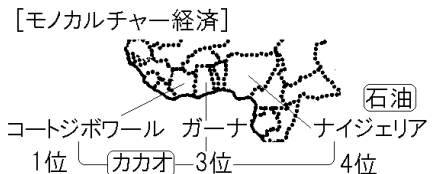
カカオの生産(2008 年): 1 位 コートジボワール(31.9%), 2 位 インドネシア(18.4%), 3 位 ガーナ(16.3%), 4 位 ナイジェリア(11.6%)

(統計出典)「世界国勢図会 2010/2011」P233

ナイジェリアは人口が 1 億 5500 万人(2009 年)とアフリカで最大の人口をかかえている。ニジェール川のデルタ地帯で産出する石油が国の財政を支えており、輸出額の 91.5% (2008 年)は石油である。ナイジェリアは OPEC の加盟国でもある。

(統計出典)「世界国勢図会 2010/2011」P354

アフリカの多くの国は、わずかな種類の商品作物(カカオなど)や鉱産物(石油、金属資源など)の輸出にたよっている。これをモノカルチャー経済という。これらの輸出品は価格の変動が大きいので、経済が安定しないという問題がある。



[問題](増補 10)(2 学期中間)

コートジボワールを代表する農作物を次の[]から選びなさい。


[カカオ オリーブ ぶどう オレンジ]

[解答欄]

[解答]カカオ

[問題](増補 11)(補充問題)

右のグラフは、ある農産物の世界の総産出量にしめる各国の割合を表している。X は略地図の A~C の国の一つである。



(1) この農産物は何か、書きなさい。

(2) X は A~C のどれか。また、国名を答えなさい。

[解答欄]

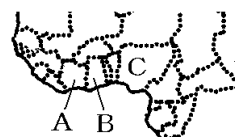
(1)	(2)
-----	-----

[解答](1) カカオ (2) B, ガーナ

[問題](増補 11)(補充問題)

次の説明にあてはまる国を、地図の A~C から 1 つ選び、国名も答えなさい。

イギリスの植民地支配から独立したが、たびたび内戦を経験し、混乱をくりかえしてきた。ニジェール川下流の森林地帯の人々は、もろこしなどの穀物やヤムいもなどの芋類を主食作物として栽培しており、河口には、東南アジアに見られるものとよく似た水上家屋がある。また、石油はこの国の最大の輸出品である。



(鳥取県(旧)改)

[解答欄]

[解答] C ナイジェリア

[問題](増補 11)(補充問題)

右のグラフは、ギニア湾岸のある国のおもな輸出品とその割合を示している。このような輸出の構造は、この国の経済にどんな影響を与えていると考えられるか、書きなさい。

原油 91.5%	
----------	--

(2008年)

(兵庫県(旧))

[解答欄]

[解答]輸出が石油に頼っているので、経済が安定しない。

[解説]

この問題の「ギニア湾岸のある国」とはナイジェリアである。

(統計出典)「世界国勢図会 2010/2011」P346

[問題](増補 11)(2 学期中間)

多くのアフリカの国々では、1種類の産物が輸出の大部分を占め、その輸出によって国の経済が支えられているという状態にあります。このようなようすを何経済といひますか。次の[]から1つ選んで答えなさい。

[サブカルチャー経済 モノカルチャー経済 アグリカルチャー経済
プレカルチャー経済]

[解答欄]

[解答]モノカルチャー経済

[問題](増補 11)(補充問題)

資料は、ギニア湾岸南部でのプランテーションの作物である。この実の種をつぶしてしぼって得た油は、ココヤシから得られるやし油とともに石けんなどの原料になるが、この油を何というか。

(福井県(旧))

[解答欄]

[解答]パーム油



[問題](増補 10)(2 学期中間)

森林を焼いて耕地を作り，その灰を肥料にして作物を栽培するというやり方の農業を何というか。

[解答欄]

[解答]焼畑農業

【】南部

[問題](増補 11)(補充問題)

次の文は、アフリカのある国について説明したものである。この国を、下の[]から選びなさい。

この国では、長い間、人口の大多数をしめる先住民などに対して、人種隔離政策が行われてきた。しかし、この政策は廃止され、全国民が参加するはじめての選挙の結果、1994年に先住民の大統領が誕生した。

[エジプト ナイジェリア ガーナ 南アフリカ共和国]

(山口県(旧))

[解答欄]

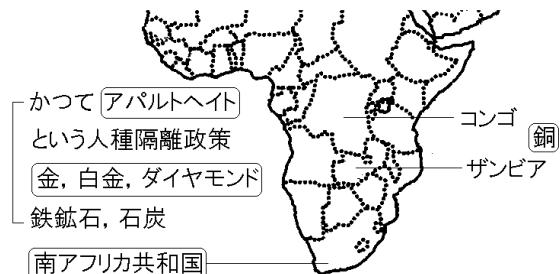
[解答]南アフリカ共和国

[解説]

南アフリカ共和国は、オランダ・イギリスの植民地であったが、1910年に独立した。少数の白人が有色人種を差別するアパルトヘイトという人種隔離政策を行っていたが、1991年に撤廃した。さらに、1994年に初の黒人大統領が誕生した。

この国は、鉄鉱石、石炭、金、白金(プラチナ)、ダイヤモンドなどの地下鉱物資源に恵まれている。日本へは白金や鉄鉱石を輸出している(2009年)。この国の南部は温暖な気候で、そこでは、ぶどうやオリーブが栽培されている。

コンゴやザンビアは銅の世界的な産地(カッパーベルト)である。



[問題](増補 10)(2 学期中間)

次の各問いに答えなさい。

- (1) 金やプラチナの産出高が世界有数であるアフリカ南部の国の名前を答えなさい。
- (2) (1)の国では、かつて黒人に対して徹底した差別政策がとられていた。この政策の名称をカタカナで答えなさい。

[解答欄]

(1)	(2)
-----	-----

[解答](1) 南アフリカ共和国 (2) アパルトヘイト

[問題](増補 11)(補充問題)

図中の a , b の両国では , 同じ地下資源が最も重要な輸出品となっている。その地下資源は何か。次の[] から 1 つ選びなさい。

[銅 石油 金 鉄鉱石]

(山口県(旧))

[解答欄]

--

[解答]銅



【】各国の特徴

[問題](増補 10)(補充問題)

次の図の A ~ K の国名を書きなさい。



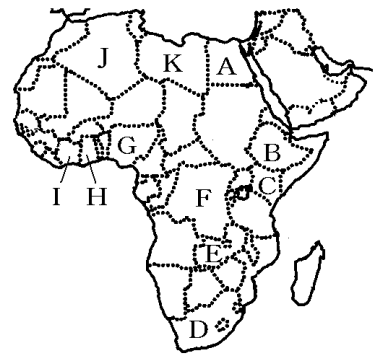
[解答欄]

A	B	C	D
E	F	G	H
I	J	K	

[解答]A エジプト B エチオピア C ケニア D 南アフリカ共和国 E ザンビア F コンゴ G ナイジェリア H ガーナ I コートジボワール J アルジェリア K リビア

[解説]

- A エジプト：ピラミッドの遺跡，ナイル川
- B エチオピア：高原の国，コーヒーの原産国
- C ケニア：赤道直下の国
- D 南アフリカ共和国：鉄鉱石，石炭，金，ダイヤモンド，かつてアパルトヘイトという人種隔離政策
- E ザンビア：銅
- F コンゴ：赤道直下，コンゴ川，コンゴ盆地，銅
- G ナイジェリア：人口はアフリカで最大，石油，カカオ
- H ガーナ：カカオの生産が世界第 3 位
- I コートジボワール：カカオの生産が世界第 1 位
- J アルジェリア：石油，オリーブ・ぶどう
- K リビア



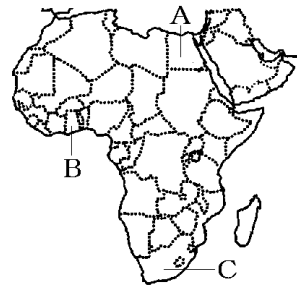
[問題](増補 11)(2 学期中間)

次の ~ の文で説明している国をA~Cから選び、国名も答えなさい。

この国はカカオの生産がさかんで、世界第 3 位の生産量をほこっている。かつて、野口英世はこの国で医学の研究に生涯をささげた。

この国では、かつてはアパルトヘイトというきびしい人種隔離政策がとられていたが、現在は廃止されている。貴金属や希少金属の生産が世界一である。

この国は世界でもっとも古い古代文明が栄えた地域の 1 つで、その文化遺産であるピラミッドやスフィンクスなどは、現在、この国の重要な観光資源となっている。



[解答欄]

--	--	--

[解答] B, ガーナ C, 南アフリカ共和国 A, エジプト

[問題](3 学期)

次の各文は、右図中イ~チのいずれかの国について述べたものである。国名と記号を答えよ。

北アフリカに位置する産油国である。地中海岸はオリーブ・ぶどうが栽培されている。1960 年代にフランスから独立した。

鉄鉱石、石炭、金、ダイヤモンドなどの地下鉱物資源に恵まれている。この国の南部は温暖な気候で、ぶどうやオリーブが栽培されている。

銅ベルトとよばれる銅の産地をもつ。この国の銅鉱はタンザン鉄道で運ばれ輸出される。

ギニア湾岸に位置するこの国は、カカオの生産で知られたが、近年は生産量が低下。国土の中央部を南北に大河川が流れている。河口に発達した三角州は肥沃な土地となって農業がおこなわれ、綿花・小麦が栽培される。ピラミッドなどで知られる。アフリカの国々は多くが 1960 年代に独立したが、西アフリカに位置するこの国は、合衆国からの移住黒人によって 19 世紀に建国された。



アフリカ北東部の高原の国。紀元前からの独立国である。コーヒーの原産国である。

[解答欄]

[解答] アルジェリア, ロ 南アフリカ共和国, チ ザンビア, ト ガーナ,
ニ エジプト, イ リベリア, ハ エチオピア, ヘ

【】オーストラリア

【】歴史

[問題](1 学期中間)

地図を見て、各問いに答えなさい。

- (1) 地図中の A, B の国名をそれぞれ書きなさい。
- (2) かつて A, B 国は、ともにヨーロッパのある国の植民地であった。どこの国の植民地だったか。



[解答欄]

(1)A	B	(2)
------	---	-----

[解答](1)A オーストラリア B ニューゼーランド (2) イギリス

[解説]

オーストラリアの原住民はアボリジニーである。18 世紀にイギリス人が移住してきて、オーストラリアやニューゼーランドを植民地とした。

オーストラリアでは、19 世紀から移民が増加し、羊や小麦の農牧業、ゴールドラッシュなどで、中国系などの人口も増加した。しかし、イギリス系

移民とアジア系移民の対立がおこったために、20 世紀に入ってまもなく移民制限法を制定し、白人以外の移民を制限する政策をとった。このような白人優先の政策を白豪主義(白豪政策)という。しかし、労働力不足や国際的な批判におされ、1970 年代に白豪主義を改め、白人以外の移民を受け入れるようになった。オーストラリアの首都はキャンベラである。オーストラリア最大の都市は、2000 年にオリンピックが開催されたシドニーである。



[問題](1 学期期末)

次の各問いに答えよ。

- (1) オーストラリアはかつてどこの国の植民地であったか。
- (2) オーストラリアの先住民を何というか。

[解答欄]

(1)	(2)
-----	-----

[解答](1) イギリス (2) アボリジニー

[問題](2 学期中間)

オーストラリアの先住民は何といわれる人々ですか。

[解答欄]

[解答]アボリジニー

[問題](増補 11)(1 学期中間)

19世紀半ば以降,1970年代までオーストラリアでは白人優先の政策が行われた。この政策を何といいますか。

[解答欄]

[解答]白豪主義(白豪政策)

[問題](増補 10)(補充問題)

次の各問いに答えよ。

- (1) オーストラリアの首都は何という都市か。都市名を答えよ。また,その場所を右図のa~cから選べ。
- (2) オーストラリア最大の都市はどこか。都市名を答えよ。また,その場所を右図のa~cから選べ。



[解答欄]

(1)	(2)
-----	-----

[解答](1) キャンベラ, c (2) シドニー, b

【】位置・地形

[問題](増補 10)(補充問題)

次の ~ に適語を入れなさい。

- ・右図のXで示した経線は東経()度で、日本では兵庫県の()市を通る。
- ・オーストラリアは日本から見て()の方位にあり、南半球にあるので1月の季節は()である。



[解答欄]

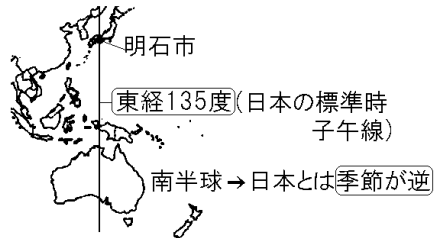
--	--	--	--

[解答] 135 明石 南 夏

[解説]

オーストラリアは南半球に位置しているため、北半球にある日本とは季節が逆になる。たとえば、日本では1月は冬であるが、オーストラリアでは夏である。

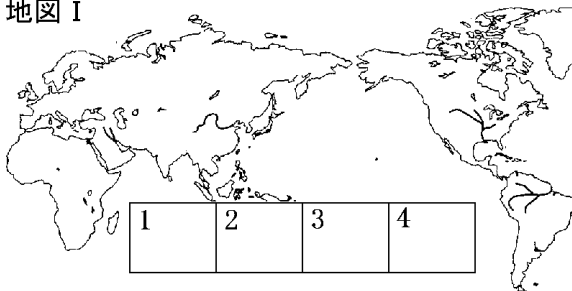
また、オーストラリアは日本の真南に位置しており、経度はほぼ同じである。明石市を通る日本の標準時子午線(東経135度)は、オーストラリアの中央部を通る。



[問題](増補 10)(補充問題)

地図Ⅰは地図Ⅱの一部を切り取ったものである。この地図Ⅰがあてはまる場所としてふさわしいのは地図Ⅱの1~4に示したうちのどこか。

地図Ⅰ



地図Ⅱ



(神奈川県)

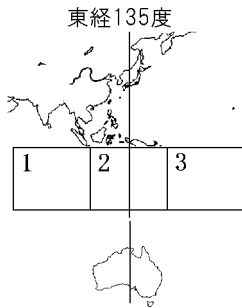
[解答欄]

--

[解答]2

[解説]

下図のように、東経 135 度の経線に注目すれば、オーストラリアが 2 の位置にあると判断できる。



[問題](増補 10)(補充問題)

地図の X 国についての説明文として、正しいものを次のア～エから 1 つ選び、記号で答えなさい。

- ア 日本の東側にある。
- イ 日本との時差は 12 時間である。
- ウ 日本と季節は逆である。
- エ 日本とほとんど同じ気候帯である。



(沖縄県)

[解答欄]

[解答]ウ

[解説]

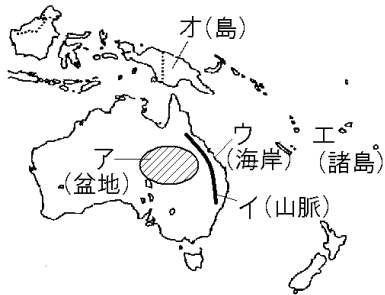
ア・イは誤り。オーストラリアは日本のほぼ真南にあり、時差はほとんどない。

ウは正しい。南半球は日本と季節が逆になる。

エは誤り。オーストラリアは沿岸部を除いて国土のほとんどが乾燥帯にある。

[問題](増補 11)(補充問題)

地図中のア～オの地形名を書きなさい。



[解答欄]

ア	イ	ウ
エ	オ	

[解答]ア 大鑛井盆地 イ グレートディバイディング山脈 ウ グレートバリアリーフ
 エ フィジー諸島 オ ニューギニア島

【】気候と農業

[問題](増補 10)(補充問題)

図のア～ウは熱帯，温帯，乾燥帯のいずれかである。熱帯にあたるものをア～ウ から選び，記号で書きなさい。

(群馬県)

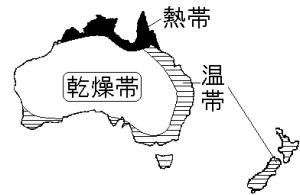
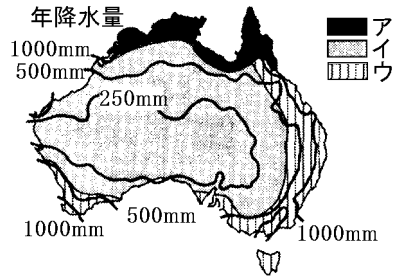
[解答欄]

[解答]ア

[解説]

南半球にあるオーストラリアでは，北に行くほど赤道に近づくことになり，気温が高くなる。したがって，赤道に近いアの気候が熱帯である。国土の大部分をしめるイは乾燥帯である。東部と南西部のウが温帯である。

なお，ニーゼーランドの気候は温帯(西岸海洋性気候)である。



[問題](増補 11)(2 学期中間)

右の地図中に  で示した地域の自然について述べた文として適切なものを，次のア～エから1つ選び，記号で答えなさい。

ア 年中高温の熱帯に属し，雨が多く，広大な密林地帯が広がっている。

イ 乾燥帯に属しているため，雨がたいへん少なく，砂漠が広がっている。

ウ 雨は多いが高原であるため，気温が低く，一面の草原地帯が広がっている。

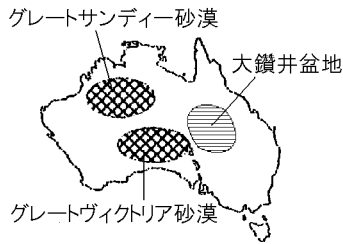
エ 温帯に属し，温暖な気候，適度な雨量が見られるため，市街地の間に豊かな温帯林が見られる。



[解答欄]

[解答]イ

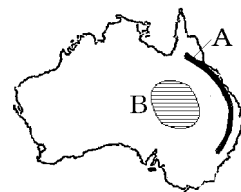
[解説]



[問題](増補 11)(1 学期中間)

次の地図を見て各問いに答えなさい。

- (1) 地図中のAの山脈名を答えなさい。
- (2) 地図中のBの盆地名を答えなさい。
- (3) Bの盆地では羊が飼われています。羊の飲み水や牧草のかんがい利用されている井戸を何といいますか。



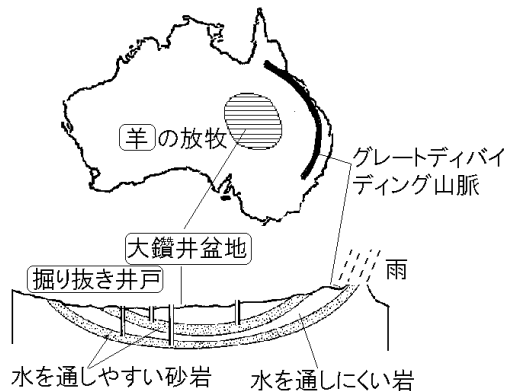
[解答欄]

(1)	(2)	(3)
-----	-----	-----

[解答](1) グレートディバイディング山脈 (2) 大鑽井盆地 (3) 掘り抜き井戸

[解説]

オーストラリアには約 7900 万頭(2008 年)の羊が飼育されており、オーストラリアは世界一の羊毛の輸出国になっている。羊は乾燥に強いので、大鑽井盆地など乾燥した地域でも飼育することができる。右図のように、東部のグレートディバイディング山脈付近に降った雨が地下水脈となっており、掘り抜き井戸をつかってくみ上げて、羊の飲み水として利用している。



大鑽井盆地より東部・南東部の比較的降水量が多いところでは、牛の放牧や小麦の栽培が行われている。

(統計出典：羊の頭数)「世界国勢図会 2010/2011」P251

[問題](増補 10)(補充問題)

次の各問いに答えよ。

- (1) 右図 A は何盆地とよばれているか。
- (2) Aの盆地では家畜の飲み水をくみ上げるための井戸がある。
何という井戸か。
- (3) Aの盆地で飼育されている家畜は牛以外では何があるか。



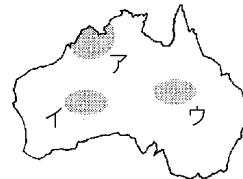
[解答欄]

(1)	(2)	(3)
-----	-----	-----

[解答](1) 大鑽井盆地 (2) 掘り抜き井戸 (3) 羊

[問題](増補 11)(補充問題)

ある家畜が大規模に飼育されている地域を图中的のア～ウから選んで，その符号を書きなさい。また，この地域の牧畜業について気候との関係にふれながら説明しなさい。



(兵庫県(旧))

[解答欄]

--	--

[解答] ウ 乾燥に強い羊の放牧が行われている。

[問題](2 学期中間)

オーストラリアの国全体で，約 7900 万頭飼育されている動物は何ですか。

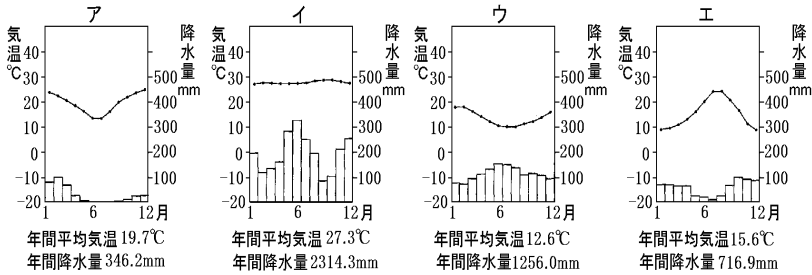
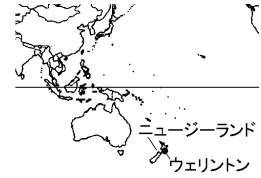
[解答欄]

--

[解答]羊

[問題](増補 10)(補充問題)

温帯に属するニュージーランドの首都ウェリントンの気温と降水量のグラフをア～エの中から 1 つ選び、その記号を書きなさい。



(埼玉県)

[解答欄]

[解答]ウ

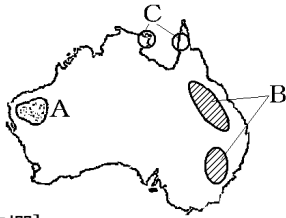
[解説]

ウェリントンは南半球にあるので、北半球と季節が逆になり、気温のグラフが U 字型に近くなる(12月・1月は夏で気温が高い)。ア～エのうち、気温のグラフが U 字型に近いグラフはアとウであるが、年間降水量が少ないアは乾燥帯である。ニュージーランドの気候は温帯(西岸海洋性気候)に属するので、ウが正解である。

【】 鉱産資源・貿易

[問題](増補 11)(1 学期中間)

地図中のA, B, Cの地域で産出されるおもな鉱山資源をそれぞれ答えなさい。



[解答欄]

A	B	C
---	---	---

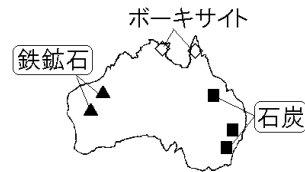
[解答]A 鉄鉱石 B 石炭 C ポークサイト

[解説]

オーストラリアは豊富な地下資源に恵まれている。特に鉄鉱石と石炭は産出量，輸出量ともに世界有数で，日本への輸出が多い。

オーストラリア 日本への輸出(2009年):石炭(42%) 液化天然ガス(16%) 鉄鉱石(14%)
(統計出典)「日本国勢図会 2010/2011」P332

石炭は東部にあるグレートディバイディング山脈の東側で多く産出する。鉄鉱石は西部で多く産出する。アルミニウムの原料となるポークサイトは北部で産出する。



[問題](増補 10)(補充問題)

右図の ， はそれぞれ何という鉱産資源の産出地を表しているか。

[解答欄]

△	■
---	---

[解答] △ : 鉄鉱石 ■ : 石炭



[問題](1 学期中間)

オーストラリアから日本へ輸出されている代表的な鉱物資源を 2 つ書きなさい。

[解答欄]

[解答]鉄鉱石，石炭

[問題](増補 11)(1 学期中間)

オーストラリアに関して述べた次の文の ・ にあてはまる語句をそれぞれ答えなさい。

1960年代の中ごろまで、オーストラリア最大の輸出相手国は、かつてこの国を植民地としていた()であった。しかし、現在では、最大の輸出相手国は()で、石炭・鉄鉱石などの鉱山資源や肉類などの農産物を輸出している。

[解答欄]

--	--

[解答] イギリス 日本

[解説]

オーストラリアの輸出相手国(2008年): 1位 日本(22%), 2位 中国(15%), 3位 韓国(8%), 4位 インド(6%), 5位 アメリカ(6%)

(統計出典)「世界国勢図会 2010/2011」P340

[問題](2 学期中間)

現在、オーストラリアにとって、輸出額の大きい上位 2 国の国名を書きなさい。

[解答欄]

--

[解答] 日本, 中国

[印刷 / 他の PDF ファイルについて]

このファイルは、FdData 中間期末社会地理(7,200 円)の一部を PDF 形式に変換したサンプルで、印刷はできないようになっています。製品版の FdData 中間期末社会地理は Word(または一太郎)の文書ファイルで、印刷・編集を自由に行うことができます。

FdData 中間期末(社会・理科・数学)全分野の PDF ファイル、および製品版の購入方法は <http://www.fdtype.com/dat/> に掲載しております。

下図のような、[FdData 無料閲覧ソフト(RunFdData)]を、Windows のデスクトップ上にインストールすれば、FdData 中間期末・FdData 入試の全 PDF ファイル(各教科約 1500 ページ)を自由に閲覧できます。次のリンクを左クリックするとインストールが開始されます。

RunFdData(Word 版) 【 <http://www.fdtype.com/lnk/instRunFdDataWDs.exe> 】

RunFdData(一太郎版) 【 <http://www.fdtype.com/lnk/instRunFdDataTAs.exe> 】

ダイアログが表示されたら、【実行】ボタンを左クリックしてください。インストール中、いくつかの警告が出ますが、[実行][許可する][次へ]等を選択します。

【イメージ画像】



【Fd 教材開発 : URL <http://www.fdtype.com/dat/> Tel (092) 404-2266】