

【】アメリカ合衆国

【】歴史

[問題](前期中間)

次の地図を見て，各問いに答えなさい。

- (1) 1492 年にアメリカ大陸を発見した人は誰ですか。次の[]から選びなさい。

[マゼラン ワシントン コロンブス リンカーン]

- (2) アメリカはどここの国の植民地から独立しましたか。

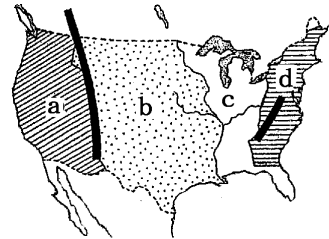
- (3) アメリカ合衆国が独立したときの領土を地図中 a～d から選びなさい。

- (4) アメリカ合衆国が独立したときの州の数を次の[]から選びなさい。

[11 13 15 17]

- (5) 現在のアメリカの州の数を次の[]から選びなさい。

[32 47 50 100]



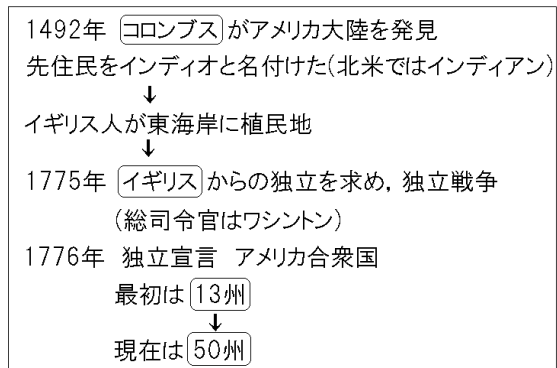
[解答欄]

(1)	(2)	(3)	(4)	(5)
-----	-----	-----	-----	-----

[解答](1) コロンブス (2) イギリス (3) d (4) 13 (5) 50

[解説]

15 世紀，スペインとポルトガルは，
 莫大ぼくだいな利益をもたらす しょうや
 香辛料こうしんりょうを求めて，アジア(とくにイ
 ンド)へ船で行く航路をさがしてい
 た。スペインの援助を受けたコロン
 ブスは，「地球は球形であり，西へ
 航海する方がインドへの近道であ
 る」という説を信じて，大西洋を西
 へ向かった。70 日あまりの困難な航



海の末に，1492 年，現在の西インド諸島へ到着した。コロンブスは，その後 3 回の航海を重ね，アメリカ大陸のカリブ海沿岸にも上陸したが，そこをインドの一部だと思いこんでいたために，先住民をインディオと名づけた。

17 世紀初めから，イギリス人が北アメリカの東海岸に移住し，18 世紀なかごろまでに

13の植民地をつくった(地図のdの地域)。原住民はアングロアメリカではインディアンと呼ばれるようになった。イギリスから移住してきた人たちがインディアンを西へと追いやり、領土を太平洋側へと広げていった。1775年に独立戦争が起こり、翌年に独立したアメリカは最初13の州で成り立っていた。独立戦争の時の総司令官がワシントンであり、この人名が現在のアメリカの首都となっている。その後、フランスやスペインの植民地を併合し、領土を拡大し、1867年にロシアから買収したアラスカ州、1959年にハワイ州を加え、現在の州の数は50州になった。

[注](1)のものと問題は「ア～エから選べ」と選択式となっていますが、学習効果を高める目的で、語句で答えさせるように問題を修正しています。

[問題](3学期)

文中の()に適語を入れよ。

1492年、()が西インド諸島に到達し、ヨーロッパに新大陸が知られることとなる。彼は先住民を()と名付けた。その後、イギリスの植民によりアングロアメリカでは()と呼ばれるようになった。

1776年に東部の()州が独立し、現在は()州からなりたっている。

[解答欄]

[解答] コロンブス インディオ インディアン 13 50

[問題](3学期)

文中()にあてはまる語句・数字を書きなさい。

1775年に独立戦争が起こり、翌年に独立したアメリカは最初は()の州で成り立っていた。独立戦争の時の総司令官が()であり、この人名が現在のアメリカの首都となっている。アメリカには、もともと()と呼ばれる先住民が暮らしていたが、イギリスから移住してきた人たちが彼らを西へと追いやり、領土を太平洋側へと広げていった。現在、アメリカには()の州があり、人口は約3.1億人(2009年)である。

[解答欄]

--	--	--	--

[解答] 13 ワシントン インディアン 50

(統計出典) アメリカの人口「日本国勢図会 2010/2011」P34

[注]

問題に使われている統計データは、入手できる限り、最新の数値に置き換えています。
バージョンアップのたびごとに最新のデータに置き換えることとしております。

[問題](1 学期中間)

文中()にあてはまる語句・数字を書きなさい。

1776 年、アメリカ東部()州のイギリス植民地が独立して、アメリカ合衆国が建国された。その後、フランスやスペインの植民地を併合して領土を拡大し、1867 年にロシアから買収した()州、1959 年に 50 番目の州となった()州を加えた。

現在、アメリカでは 50 の州から構成された()制をとっている。各州は連邦政府とは別に、政府・議会・裁判所をもち、各州独自の法律ももっている。


[解答欄]

--	--	--	--

[解答] 13 アラスカ ハワイ 連邦

[問題](2 学期期末)

右の国旗は、アメリカ合衆国が建国した当時のものである。
建国当時の州の数を、国旗を参考にして答えなさい。



[解答欄]

--

[解答]13 州

[解説]

右図は現在のアメリカ合衆国の国旗である。左上の星の数は 50 個で、現在の州の数を表している。独立当時は 13 州であったので、星の数は 13 個であった。13 本の条(横線)は独立当時の州の数を表している。13 本の赤の条(横線)は母国なるイギリスを、7 本の赤の条は母国イギリスからの独立を表わしている。



[問題](1 学期中間)

次の各問いに答えなさい。

- (1) アメリカは独自の政府を持つ州が集まった連邦制をとっていますが、現在、アメリカにはいくつの州がありますか。
- (2) 独立した頃のアメリカの州はいくつありましたか。

[解答欄]

(1)	(2)
-----	-----

[解答](1) 50 州 (2) 13 州

[問題](1 学期中間)

次の各問いに答えよ。

- (1) アメリカの首都はどこか、都市名を答えよ。
- (2) 現在のアメリカ大統領はだれか。

[解答欄]

(1)	(2)
-----	-----

[解答](1) ワシントン (2) オバマ

[問題](1 学期中間)

アメリカの正式名称を書きなさい。

[解答欄]

--

[解答]アメリカ合衆国

[問題](2 学期期末)

アメリカは世界の警察を自負し、世界各地の紛争に介入してきた。また、世界各地には()がある。日本でこれが最も多いのは沖縄県であり、現在、大きな問題となっている。

[解答欄]

--

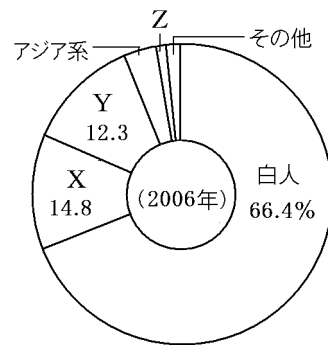
[解答]米軍基地

【】人種

[問題](2 学期期末)

次の各問いに答えなさい。

- (1) 右の円グラフは、アメリカ合衆国の人種・民族の構成を示しています。グラフ中の Y は、かつて農場労働者として強制的に連れてこられた人々の子孫です。この人々の人種を答えなさい。また、どこから連れてこられたのか、大陸名で答えなさい。



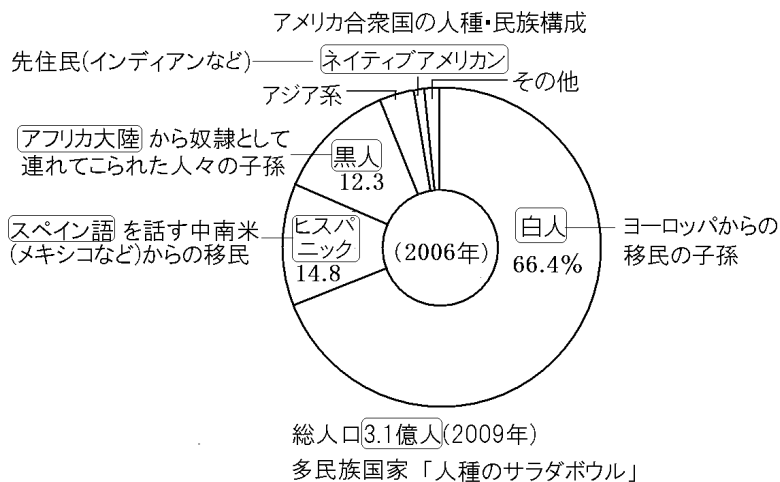
- (2) グラフ中の X は、スペイン語を話す中南米(メキシコなど)からの移住者です。この人々を何といいますか。
- (3) グラフ中の Z は、ヨーロッパの人々が移住する以前から北アメリカ大陸に住んでいた人々の子孫です。この人々を何といいますか。
- (4) アメリカ合衆国のように多くの人種・民族によって構成されている国家を何といいますか。
- (5) アメリカは多くの民族が住んでいることから、人種の「何」と呼ばれているか。

[解答欄]

(1)		(2)
(3)	(4)	(5)

[解答](1) 黒人 アフリカ大陸 (2) ヒスパニック (3) ネイティブアメリカン
(4) 多民族国家 (5) 人種のサラダボウル

[解説]



(1) Y は黒人である。かつて南部の綿花農場では、多くの人手が必要であったため、アフリカ大陸から奴隷として連れてこられた。南北戦争時にリンカーンが奴隷解放宣言を出し、1960年代には公民権運動がすすめられた。現在、就職などで依然として根強い差別も残っているが、政治への参加などでは、かなり改善された。(2009年に黒人のオバマ大統領が登場した。半世紀前には黒人の大統領が登場することなど想像もできなかったことである。)

(2) メキシコ・プエルトリコ・キューバなどの出身のスペイン語系のアメリカ人をヒスパニックという。1970年代から増加し、現在も人口増加率が高く、2003年には黒人の比率をこえた。今後もメキシコなどからの流入が続くこと、出生率が高いことから、2050年には人口の25%をしめるという予測もある。独自の文化とスペイン語という共通言語をもち、グループとして生活しているため、英語を学ばず、アメリカの文化や政治に同化しようとしないう傾向が見られる。

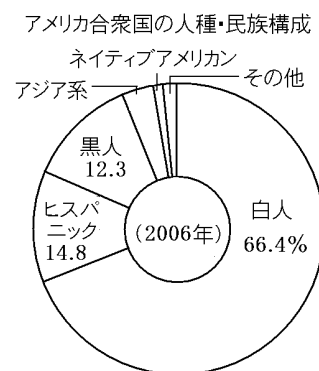
(3) アメリカ大陸の先住民は、中南米ではインディオ、北アメリカではインディアンとよばれていた。最近では、「インディアン」という呼び方が差別に結びつくということで、「ネイティブアメリカン」とよばれるようになった。(エスキモーもネイティブアメリカンに含まれる)

(4)(5) アメリカ合衆国のように多くの人種・民族によって構成されている国家を多民族国家という。かつては、さまざまな人種が1つのアメリカ人として溶け合うという意味で「人種のるつぼ」という言葉が使われたが、最近では、それぞれの人種の特徴をもちつつアメリカ人として統合されているという意味で「人種のサラダボウル」とよばれるようになった。

[問題](1 学期中間)

アメリカには(A)と呼ばれる先住民や、ヨーロッパ各地から移住してきた(B)、また、奴隷として連れてこられた(C)やスペイン語系の住民、アジア系の住民など、多くの民族がいる。

- (1) 文中の A ~ C にあてはまる語句を、円グラフから選んで書きなさい。
- (2) 文中の C の人たちの祖先は何という大陸から連れてこられたのですか。
- (3) 下線部の人々は何と呼ばれていますか。



(4) 円グラフのように、アメリカは多くの白人と少数のほかの人種で構成されていることからある問題が起こっています。その問題を何といいますか。

[解答欄]

(1)A	B	C
(2)	(3)	(4)

[解答](1)A ネイティブアメリカン B 白人 C 黒人 (2) アフリカ大陸 (3) ヒスパニック (4) 人種差別

[問題](1 学期中間)

多民族国家であるアメリカでは、白人・黒人・アジア系移民など多くの人種が生活している。プエルトリコ・メキシコなどの出身でスペイン語を話す人々のことを何といいますか。

[解答欄]

[解答]ヒスパニック

[問題](3 学期)

文中の()に適語を入れよ。ただし、 は小数第 1 位まで書け。

アメリカは多種多様な人種・民族からなる国で、「人種のサラダボウル」と呼ばれている。人口はおよそ()億人で、白人の割合が一番多い。近年は()と呼ばれるメキシコを中心とした()語系のアメリカ人が増えてきている。

[解答欄]

--	--	--

[解答] 3.1 ヒスパニック スペイン

[問題](1 学期中間)

次の A~E にあてはまる言葉を書きなさい。ただし、A は小数第 1 位まで書け。

アメリカ合衆国は移民の国である。その約(A)億人の人口は様々な人種で構成されている。ヨーロッパからの移民の子孫である(B),アフリカから奴隷として連れてこられた人々の子孫である(C),中南米から来た(D)とよばれる人々、日本人や中国人など(E)系の人々がいる。

[解答欄]

A	B	C	D
E			

[解答]A 3.1 B 白人 C 黒人 D ヒスパニック E アジア

[問題](1 学期中間)

アメリカ合衆国の民族構成は多様であり、イギリス系をはじめとするヨーロッパ系移民、先住民である()、()大陸から奴隷として連れてこられた黒人、日本や中国からのアジア系移民などにより、アメリカは多民族国家となった。最近はメキシコ・プエルトリコからの()語系移民や、フィリピンやベトナムからの移民が増えている。

(1) 文中 ~ にあてはまる語句を答えよ。

(2) 現在、アメリカの人口構成の中で、文中の黒人が占める割合を下から選べ。

[4% 8% 12% 24%]

(3) 文中下線部の人々を何とよぶか。

[解答欄]

(1)		
(2)	(3)	

[解答](1) ネイティブアメリカン アフリカ スペイン (2) 12% (3) ヒスパニック

[問題](2 学期中間)

次の文中の()にもっともあてはまる語句を、下の[]から選んで書きなさい。

アメリカは、()からきた()によってつくられた国なので、現在でも人口の約 66%が()系の人々である。また、アメリカでは、人種や()による差別をなくし、人権を守り、おたがいの()を認め合って生活しようとする認識が強くなっている。

[アフリカ ヨーロッパ アジア 言語 黒人 先住民 移民 文化 領土 民族]

[解答欄]

--	--	--	--

[解答] ヨーロッパ 移民 民族 文化

[問題](1学期中間)

アメリカは様々な人種が生活しており、「人種の()」と呼ばれている。()
に当てはまる語句を答えなさい。

[解答欄]

[解答]サラダボウル

【】文化

[問題](1 学期中間)

アメリカ合衆国では移民の出身国の文化が尊重されてきたが、アメリカ合衆国独自の文化もつくり上げた。スポーツや娯楽、()などのファーストフード、大型の()での買い物などである。またアメリカで大量生産が始まった()は世界一の保有台数であり、生活の足として欠かせない。

[解答欄]

--	--	--

[解答] ハンバーガー ショッピングセンター 自動車

[解説]

アメリカから世界に広がった文化としては、次のようなものがある。

- ・食文化：ファーストフード(マクドナルド，ケンタッキー)，コーラ
- ・服装：ジーンズ
- ・音楽・映画：ジャズはアメリカ南部で生まれた。映画の中心地はハリウッド
- ・その他：ショッピングセンター，インターネット

[問題](2 学期期末)

次の文の ， に適語を入れなさい。

アメリカの文化は世界に広がっている。音楽では、さまざまなジャンルで一流のミュージシャンを輩出している。()はアメリカの南部で発祥した。また、映画産業もさかんであり、その中心地は()である。

[解答欄]

--	--

[解答] ジャズ ハリウッド

[問題](1 学期中間)

アメリカで生まれて、世界に広まったファッションを1つあげなさい。

[解答欄]

--

[解答]ジーンズ

[問題](2 学期期末)

次のア～オには、アメリカの生活の中から生まれた食文化とそうでないものがある。アメリカの生活の中から生まれたものをア～オのうちからすべて選びなさい。



[解答欄]

[解答]ア，イ，オ

[問題](前期期末)

アメリカ合衆国で生まれて世界中に広がった文化にはどんなものがありますか。あなたの身のまわりから 1 つ書きなさい。(音楽，スポーツ，食べ物，その他)

[解答欄]

[解答]ハンバーガー(ジャズ，ジーンズなど)

[問題](2 学期期末)

移民と開拓の歴史が刻まれているアメリカでは、自分の土地は自分で守るという観点から、人々は(X)を所持してきた。今でもこの所持を認めている州は多く、人口よりも多い(X)が存在する。

[解答欄]

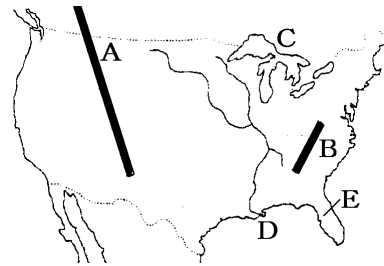
[解答]銃

【】自然

[問題](前期中間)

次の地図を見て、各問いに答えなさい。

- (1) 地図中 A, B の山脈, C で示した湖のまとまり, D の河川, E の半島について、それぞれの名を書きなさい。
- (2) A の山脈の東側に広がる平原の名を書きなさい。



[解答欄]

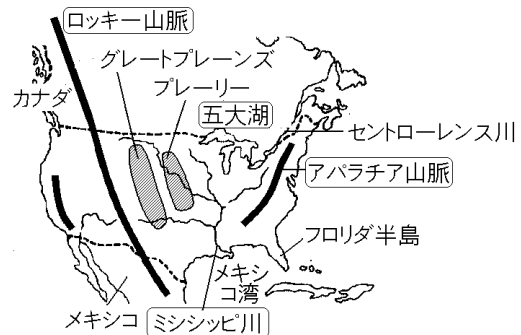
(1)A	B	C
D	E	(2)

[解答](1)A ロッキー山脈 B アパラチア山脈 C 五大湖 D ミシシッピ川 E フロリダ半島 (2) グレートプレーンズ

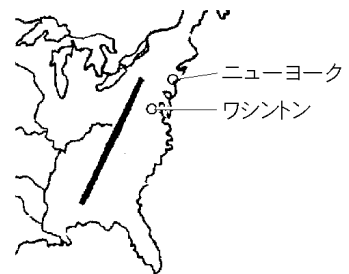
[解説]

ロッキー山脈(グランドキャニオン付近

位置：36.1132,-113.2407)は、環太平洋造山帯に属する険しい山脈である。その東にはグレートプレーンズという乾燥した大平原が広がり、さらに東には、やや雨の多いプレーリーという大草原が広がっている。五大湖(ナイアガラ滝の位置：43.0782,-79.0758)と中央平原を流れる



ミシシッピ川(河口付近の位置：29.9538, -90.0758)とセントローレンス川(位置：44.7316,-75.4636)は重要な内陸水路になっている。五大湖周辺は鉄鋼・自動車などの工業地帯になっている。アパラチア山脈はなだらかな山脈で石炭を産出する。フロリダ半島(ケネディ宇宙センター付近の位置：28.5844,-80.6495)は、亜熱帯や熱帯の気候である。ワシントンはアメリカ合衆国の首都(ホワイトハウス位置：38.8897,-77.0092)である。ニューヨーク(自由の女神像位置：40.6891,-74.0445)はアメリカ最大の都市であり、世界経済の中心となっており、国際連合の本部もおかれている。2001年の同時多発テロでは多数の死傷者が出た。



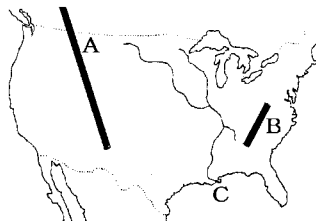
[注]

「ロッキー山脈(グランドキャニオン付近位置:36.1132,-113.2407)」の()内の数字は、(緯度,経度)で、グランドキャニオンの位置が北緯 36.1132 度,西経 113.2407 度にあることを示しています。近年,インターネット上から衛星写真のデータを取り込んで,地上の自動車が確認できるほどの高精度の衛星写真をパソコン上で見ることができる Google 社のサービスが利用できるようになりました。FdData 地理の改訂作業を行うにあたって,これらの衛星写真を資料として活用しましたが,そのときに割り出した位置(緯度,経度)を,今後の改訂のための資料として残しておきます。

そのとき使ったソフトは, Google 社の「GoogleEarth」というフリーソフトです。
<http://www.google.co.jp/intl/ja/earth/index.html> から無料でダウンロードできます。
「GoogleEarth」の左上の[検索][ジャンプ]の欄に,例えば 36.1132,-113.2407 を入力すれば,グランドキャニオン付近の衛星写真が表示されます。

[問題](3 学期)

地図中 A, B の山脈, C の川の名前を書きなさい。



[解答欄]

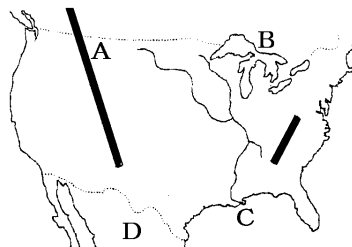
A	B	C
---	---	---

[解答]A ロッキー山脈 B アパラチア山脈 C ミシシッピ川

[問題](1 学期中間)

右の地図を見て,各問いに答えよ。

- (1) 地図中の A の山脈名, B の湖のまよりの呼び名, C の河川名を答えよ。
- (2) 地図中 D の国名を答えよ。



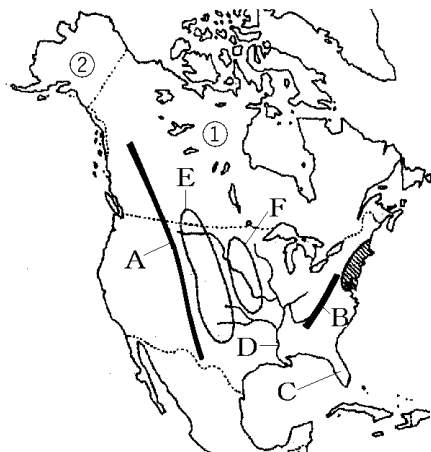
[解答欄]

(1)A	B	C	(2)
------	---	---	-----

[解答](1)A ロッキー山脈 B 五大湖 C ミシシッピ川 (2) メキシコ

[問題](2 学期中間)

次の地図を見て、各問いに答えなさい。



- (1) 地図中の A, B の山脈の名を書きなさい。
- (2) 地図中の C の半島の名を書きなさい。
- (3) 地図中の D の川の名を書きなさい。
- (4) 地図中の ① の国名とアメリカの州である ② の名を書きなさい。

[解答欄]

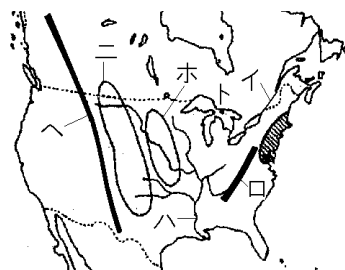
(1)A	B	(2)
(3)	(4)	

- [解答](1)A ロッキー山脈 B アパラチア山脈 (2) フロリダ半島 (3) ミシシッピ川
 (4) カナダ アラスカ州

[問題](1 学期中間)

アンダーラインを引いた場所を右の地図から記号で選びなさい。

アメリカ合衆国には、a アパラチア山脈と b ロッキー山脈の大山脈、これらの山脈の間の c プレーリーとよばれる草原と d グレートプレーンズとよばれる平原がある。また e 五大湖と f セントローレンス川、g ミシシッピ川は重要な水上輸送路である。



[解答欄]

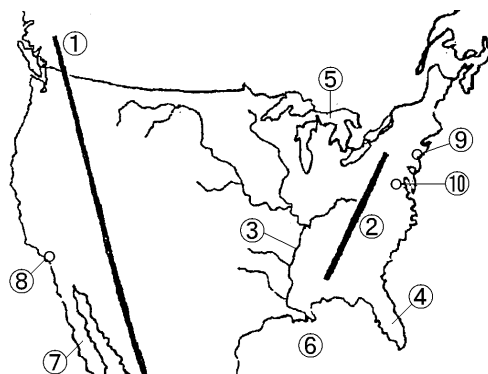
a	b	c	d	e
f	g			

[解答]a ロ b ヘ c ホ d ニ e ト f イ g ハ

[問題](2 学期中間)

次の文章にあてはまる地形・地名を地図上から選び、番号と名称を書きなさい。

- (1) 低くなだらかな山脈で、地下資源に恵まれている。
- (2) 環太平洋造山帯に属し、4000メートル級の山が連なる。
- (3) カナダとの国境にあり、合計面積は日本の本州を上回る巨大さをほこる。
- (4) 北アメリカ最長をほこり、貨物船なども行きかっている。
- (5) この半島の南部は、アメリカ合衆国本土では唯一の熱帯地域である。
- (6) 世界経済の中心地。2001年の同時多発テロでは多数の死傷者が出た。
- (7) アメリカ合衆国の首都。



[解答欄]

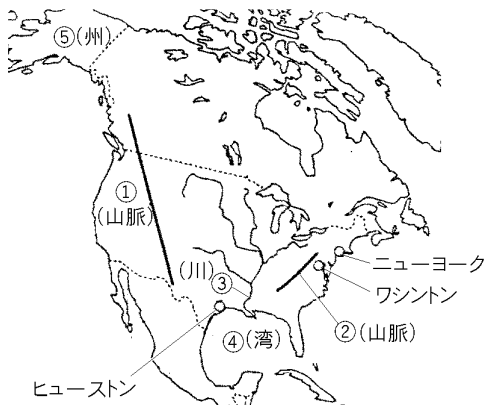
(1)	(2)	(3)
(4)	(5)	(6)
(7)		

[解答](1) アパラチア山脈 (2) ロッキー山脈 (3) 五大湖 (4) ミシシッピ川 (5) フロリダ半島 (6) ニューヨーク (7) ワシントン

[問題](2 学期期末)

地図を見て、次の各問いに答えなさい。

- (1) 地図中の ① ～ ⑤ にあてはまる地名を書きなさい。
- (2) 右の像は、アメリカ合衆国の独立 100 年を記念してフランスから送られた像です。この像がある都市名を地図中から選んで答えなさい。



[解答欄]

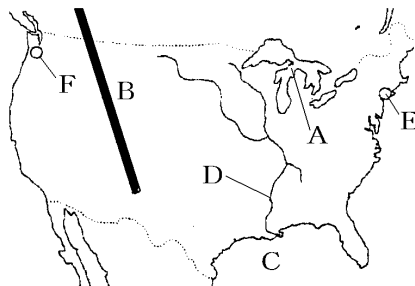
(1)		
		(2)

[解答](1) ロッキー山脈 アパラチア山脈 ミシシッピ川 メキシコ湾
アラスカ州 (2) ニューヨーク

[問題](1 学期中間)

右のアメリカの地図を見て各問いに答えなさい。

- (1) 次の地形の名称を答えなさい。
- A の 5 つの湖の総称
- B の山脈の名前
- C の湾の名前
- D の川の名前



- (2) 地図中の E, F の都市の名前を、次から選びなさい。

[サンフランシスコ シアトル ヒューストン ロサンゼルス ニューヨーク]

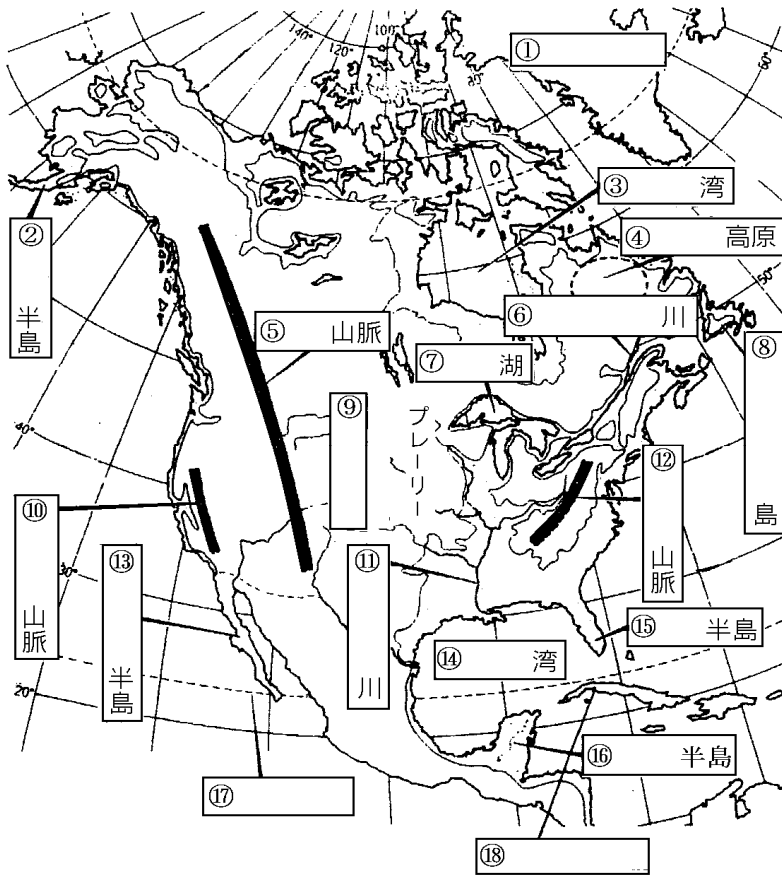
[解答欄]

(1)		
	(2)E	F

[解答](1) 五大湖 ロッキー山脈 メキシコ湾 ミシシッピ川 (2)E ニューヨーク F シアトル

[問題] (3 学期)

次の地図を見て、後の問いに答えよ。



- (1) 図中 ① ～ ⑩ に適語を入れよ。
- (2) カナダからアメリカ合衆国北部にかけての気候帯名を答えよ。
- (3) 図中 ⑩ の半島の南端部の気候帯名を答えよ。

[解答欄]

(1)				
			(2)	(3)

[解答](1) グリーンランド アラスカ ハドソン ラブラドル ロッキー
 セントローレンス 五大 ニューファンドランド グレートプレー
 ンズ シエラネヴァダ ミシシッピ アパラチア カリフォルニア
 メキシコ フロリダ ユカタン 北回帰線 キューバ (2) 冷帯(亜寒帯)
 (3) 熱帯

[問題](2 学期中間)

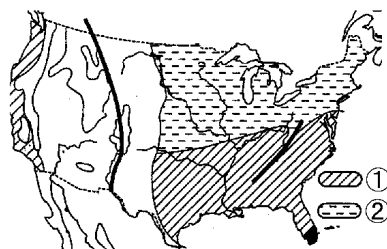
地図中の ・ にあてはまる気候帯を次から 1
 つずつ選びなさい。

[乾燥帯 冷帯 熱帯 温帯 寒帯]

[解答欄]

--	--

[解答] 温帯 冷帯



【】農業：特色

[問題](3 学期)

次の各問いに答えよ。

- (1) アメリカ合衆国の農業の特色を述べた次の各文の下線部が正しいものには、誤りのあるものは正しい語句に訂正せよ。

農牧業の就業人口率は非常に低く、全産業の就業人口の 2% にも満たない。

自給的農業 がほとんどである。

- (2) アメリカ合衆国は世界有数の農産物の生産国で、生産された作物は多くの国々へ輸出されている。このようなことから「アメリカ合衆国は()」とよばれている。空欄に適切な語句を入れよ。
- (3) アメリカ合衆国の農業の特色を示す言葉として「適地適作」がある。「適地適作」とはどのような意味なのか。簡単に説明せよ。

[解答欄]

(1)		(2)
(3)		

[解答](1) 企業的 (2) 世界の食料庫 (3) 気候や土壌などの自然条件にあわせて、その土地にもっとも適する農作物を栽培すること。

[解説]

アメリカは日本の25倍という広大な国土をもち、しかも国土面積の約43%は農地である。(日本の場合、農地は国土の約12%にすぎない) この広い耕地で農業を行うのは、人口のわずか1.7%の農民であるため、農民1人あたりの耕地面積は151haと非常に大きい。(統計は2007年)

[アメリカ農業の特色]

- ・適地適作 気候や土壌にあった作物を作る
- ・企業的農業 広い面積、少ない人数
大型機械による大規模農業
- ・多くを輸出 世界の食料庫

(統計出典)「世界国勢図会 2010/2011」P208

少ない労働力で広い面積を経営するために、大型の農業機械を使い、農作物は自給用としてではなく、商品として売るために生産している。このように、アメリカの農業は 企業的農業 という特色をもっている。また、気候や土壌にふさわしい作物を選び、同種類の作物を大量に作る適地適作 が行われているために、農業の地域区分がはっきりしている。

アメリカの穀物生産量は世界の約16.0%をしめている。これは中国の19.0%について世

界第 2 位である。(2007 年：「世界国勢図会 2010/11」P209～212) アメリカの人口が約 3.1 億人(2009 年)、中国の人口が 13.5 億人(2009 年)で食糧自給率がおよそ 100%であることを考えると、アメリカ国内の生産をはるかにこえる農産物が生産されているが分かる。小麦(世界全体の 2007 年輸出量の 24.8%)・とうもろこし(52.0%：2007 年)・大豆(40.1%：2007 年)・綿花(37.6%：2007 年)などを、世界各地に大量に輸出している。(「世界国勢図会 2010/11」P234・245)

このようなことから、アメリカは世界の食料庫であるといわれている。アメリカの農産物が不作になったり、値段が上がったりすると、日本などのように、アメリカからの農産物にたよっている国は大きな影響を受けることになる。

[問題](2 学期期末)

アメリカ合衆国の農業の特色について次の文中にあてはまる語句を下の[]から選んで答えなさい。

アメリカ合衆国では、地域ごとに降水量などの気候にあわせて農産物の栽培を行う()農業が行われている。

広い耕地で大型の()を使って大量に生産している。また、農産物を世界に大量に()しているので、生産量が減ると()が上がり、アメリカ合衆国から輸入している国に大きな影響を与える。

[機械 輸出 輸入 価格 商品 ビニールハウス 適地適作 生産費]

[解答欄]

--	--	--	--

[解答] 適地適作 機械 輸出 価格

[問題](1 学期中間)

アメリカの農業の特色を「人数、規模、機械」の 3 つの語句をすべて用いて説明しなさい。また、このような農業を何というか、答えなさい。

[解答欄]

[解答] 少ない人数で広い面積を経営するために、大型の農業機械を使う大規模な農業である。 企業的農業

[問題](2 学期中間)

広大な農場で労働者を雇い、大型機械を使い特定の作物を大量に生産する農業を何と
いうか。

[解答欄]

[解答] 企業的農業

[問題](2 学期中間)

次の文中の()にあてはまる語句を[]から選んで、それぞれ書きなさい。

()や大豆など食料の世界最大の()国であるアメリカでは、機械化された大
農場で作物を大量に生産する()な農業を行っている。

[輸出 茶 企業的 輸入 小麦 多角的]

[解答欄]


--	--	--

[解答] 小麦 輸出 企業的

[問題](2 学期期末)

次のグラフ中の X は、衣料などの原料になる農産物です。あてはまるものを次から 1
つ選びなさい。[綿花 綿 羊毛 生糸]

おもな農産物の輸出量に占めるアメリカ合衆国の割合(2007年)



[解答欄]

[解答]綿花

(統計出典)「世界国勢図会 2010/11」P234・245

[問題](1 学期中間)

アメリカで行われている，自然条件を生かして，その土地に最も適した農作物を栽培する農業のやり方を何というか。漢字で正しく答えなさい。

[解答欄]

[解答]適地適作

[問題](1 学期中間)

次の各問いに答えよ。

- (1) 傾斜地で，土壌や肥料の流出を防ぐために，等高線に沿って作物を水平に植え付ける耕作方法を何とよぶか。
- (2) アメリカでは，各地域の気候や地形に適した農産物が集中的に栽培されている。このような農業のやり方を何とよぶか。
- (3) アメリカの農業の特色にあたらぬものを下のイ～ニの中から記号で選べ。

イ 圧倒的に多い農産物輸出 口 低い生産性 八 大型機械による大規模農業
ニ コンピューターによる生産管理や工場生産に似た企業的農業

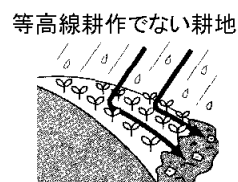
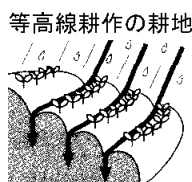
[解答欄]

(1)	(2)	(3)
-----	-----	-----

[解答](1) 等高線耕作 (2) 適地適作 (3) 口

[解説]

(1) 中央平原では，風雨のために地表の肥えた土壌が流出する土壌侵食が深刻になった。これに対し，斜面の耕地では，右図のように水平に作物を植える等高線耕作が行われるようになった。



[問題](2 学期中間)

同じ遺伝子型をもつクローンを作ることも可能になった。農産物や家畜などの育種や改良をする科学技術のことを何というか。カタカナで書きなさい。

[解答欄]

[解答]バイオテクノロジー

【】農業：区分

[問題](2学期中間)

右の地図を見て、問いに答えなさい。

- (1) 次の文に適する語句を、下の[]から選んで書け。

A で栽培され、生産量・輸出量ともに世界一の農産物。

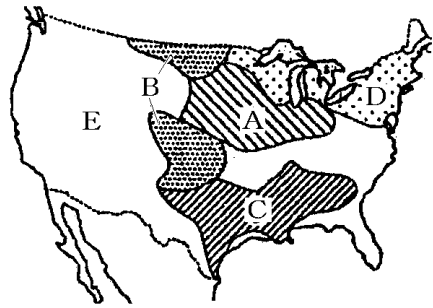
B で栽培され、輸出量が世界一である農産物。

気温の温暖な南東部 C で栽培されている農産物。昔は黒人が収穫した。

東部の五大湖の近くの D で行われている農業。

[小麦 とうもろこし 綿花 放牧 酪農 稲作]

- (2) 地図中の E の地域は、乾燥した山脈沿いの地域のためどんな農業がさかんに行われているか。

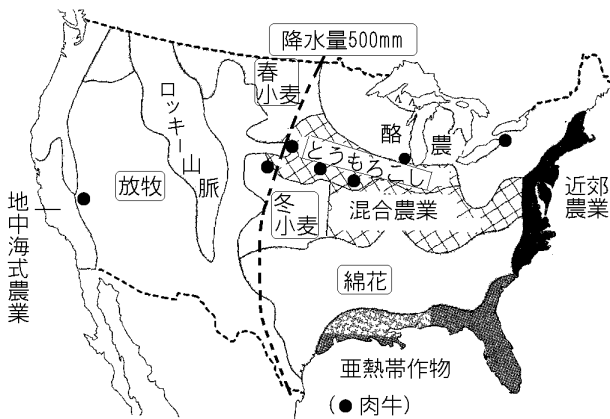


[解答欄]

(1)			
(2)			

[解答](1) とうもろこし 小麦 綿花 酪農 (2) 放牧

[解説]



太平洋岸のカリフォルニア州では、夏に乾燥する地中海性気候で、大規模なかんがいによって果実(ぶどう・レモン・オレンジ)、野菜、米などを栽培する地中海式農業がおこなわれている。

乾燥したグレートプレーンズからロッキー山脈周辺にかけての地帯では、肉牛や羊の大規模な企業的放牧が行われている。牛があるていど大きくなると、とうもろこし地帯に送って、短期間で太らせてシカゴなどの家畜市場に送っている。最近では、グレートプレーンズの一部でセンターピボットという大規模なかんがい設備を使ってとうもろこしを栽培し、牛を太らせることも行われるようになった。センターピボット(位置：40.3677,-104.5010)とは、地下水をくみ上げる井戸を中心に、散水装置のついた約400mのアームを回転させ、円形にかんがいする方法である。

とうもろこし地帯で収穫されるとうもろこしは、おもに、牛や豚の飼料(えさ)として使われる。図のは肉牛の分布を表しているが、その多くが とうもろこし地帯にあるのがわかる。この地域では大豆も栽培されている。

小麦はやや乾燥した地域で栽培されている。南の方の草原地帯の中央部では、秋に種をまき冬を越して夏に収穫される冬小麦が栽培されている。カナダよりの一帯(位置：48.9072,-100.6843)では、春に種をまいて秋に収穫する春小麦が栽培されている。

気温の温暖な南東部は綿花地帯である。かつては黒人奴隷の労働力を利用してしたが、現在では機械化されている。

冷涼な五大湖周辺では、乳牛を飼育し、牛乳・バター・チーズなどの乳製品を大都市に出荷する酪農が行われている。大西洋岸の大都市付近では、野菜・草花・酪農などの近郊農業がおこなわれている。メキシコ湾に面した亜熱帯作物地帯では、米、さとうきびのほか、熱帯性の果実や、野菜などが作られている。

[問題](2 学期期末)

地図中の A, B は農産物のおもな栽培地域、C は家畜のおもな飼育地域を示しています。A ~ C にあてはまる農産物と家畜を、次から選びなさい。

[小麦 米 とうもろこし 大豆 羊 肉牛
にわとり 豚]



[解答欄]

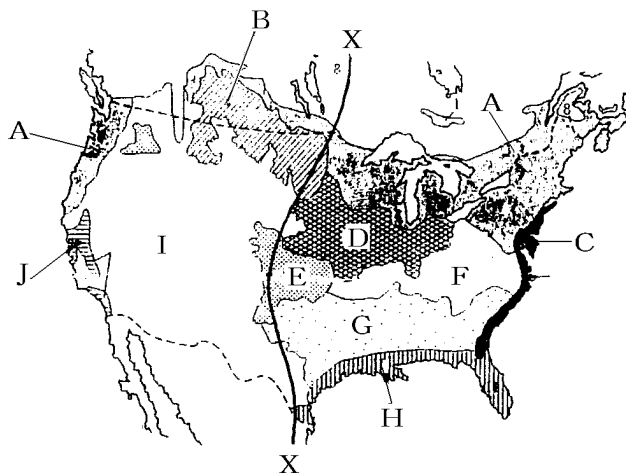
A	B	C
---	---	---

[解答]A とうもろこし B 小麦 C 肉牛

[問題](3 学期)

アメリカ合衆国の農牧業に関する次の問いに答えよ。

- (1) 次の各文は、右図中の農牧業地域を説明したものである。～の文に該当するものを語群から、その位置を図の A～J からそれぞれ選べ。



かつては黒人奴隷の労働力を利用していた。現在は機械化され、世界有数の生産を誇る。大都市近郊という立地条件と、冷涼でやせた土地という自然条件のために発達した。

やや乾燥した地域で栽培され、大草原が広がる地域からカナダにかけて分布している。

アメリカ合衆国でも有数の混合農業地帯で、近年は大豆の生産も増えている。

大規模なかんがいが行われており、果樹や野菜・米などの栽培がさかんである。

[語群]

[春小麦地帯 近郊農業地帯 酪農地帯 綿花地帯 冬小麦地帯
地中海式農業地帯 とうもろこし地帯 亜熱帯作物地帯 放牧地帯]

- (2) (1) の農業が最もさかんな州の名を答えよ。
 (3) 中の X の線は年降水量何 mm の線か。次の中から選べ。
 [250mm 500mm 800mm 1000mm 1500mm]
 (4) 放牧地帯で育てられた肉牛は、東側のある地域に送られ肥育される。このある地域とは図中のどの地域か。図中の A～J の中から選び記号で答えよ。

[解答欄]

(1)		
		(2)
(3)	(4)	

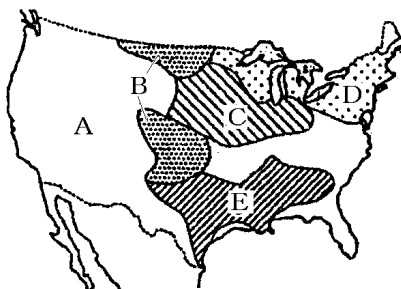
[解答](1) 綿花地帯 ,G 酪農地帯 ,A 春小麦地帯 ,B とうもろこし地帯 , D 地中海式農業地帯 , J (2) カリフォルニア州 (3) 500mm (4) D

[問題](2 学期中間)

地図を見て、各問いに答えなさい。

- (1) A の地域にあてはまるものを、次から 1 つ選び記号で書け。

- ア コーヒーや茶の栽培がさかんである。
- イ 広大な平野で、果樹栽培がさかんである。
- ウ 温暖で、米や小麦の栽培がさかんである。
- エ 降水量が少なく、企業的な牧畜がさかんである。



- (2) C の地域のおもな農産物を、次から 2 つ選べ。

[大豆 ライ麦 てんさい 綿花 とうもろこし]

[解答欄]

(1)	(2)
-----	-----

[解答](1) エ (2) 大豆, とうもろこし

[問題](1 学期中間)

図の斜線部分の地域でおもに生産されている農産物を

[]から選びなさい。

[綿花 とうもろこし 牛肉 小麦 牛乳]



[解答欄]

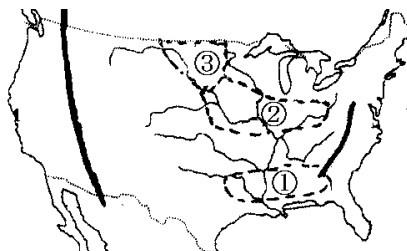
--

[解答]小麦

[問題](3 学期)

地図中 ① ~ ③ の地域で生産されている農作物をそれぞれ下の [] から選びなさい。

[綿花 春小麦 冬小麦 とうもろこし]



[解答欄]

--	--	--

[解答] 綿花 とうもろこし 春小麦

[問題](1 学期期末)

地図の A, B, C の地域で行われている農業の組み合わせとして正しいものを選びなさい。

ア A とうもろこし B 酪農 C 綿花

イ A 放牧 B とうもろこし C 綿花

ウ A 酪農 B 綿花 C 小麦

エ A 放牧 B とうもろこし C 酪農



[解答欄]

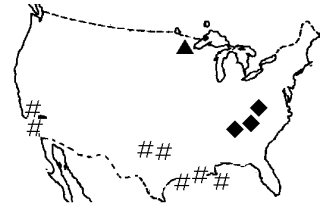
[解答]イ

【】 鉱業

[問題](1 学期中間)

地図中の , , にあてはまる地下資源を次の []から選んで答えなさい。

[石炭 金 銅 すず 鉄鉱石 石油 銀]



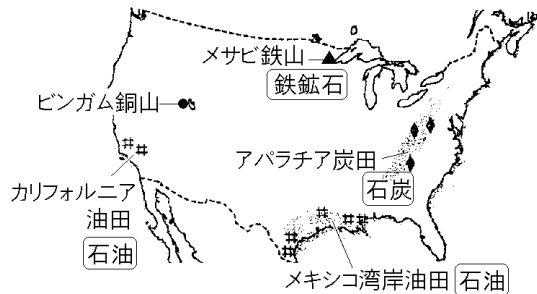
[解答欄]

:	:	:
---	---	---

[解答] : 鉄鉱石 : 石炭 : 石油

[解説]

アメリカは世界最大の工業国であるが、それを可能にした1つの要因は豊かな鉱産資源である。鉄鉱石はメサビ鉄山(位置: 47.4145, -93.0664)などで産出される。石炭はアパラチア炭田などで産出される。石油はメキシコ湾岸油田, カルフォルニア油田などで産出される。アメリカ



は世界3位の産油国であるが、国内の消費量が非常に多いため、サウジアラビア・ベネズエラ(マラカイボ湖周辺で石油を産出)・メキシコ(メキシコ湾岸で石油を産出)などから石油を輸入している。ビンガム(位置: 40.5381, -112.1288)では銅を産出している。

*原油の産出国順位(2009年)

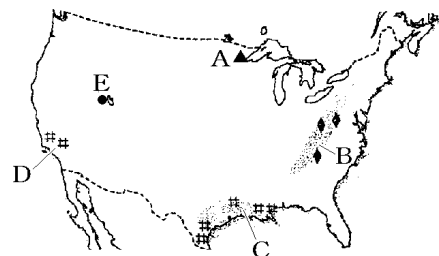
1位 ロシア(14.1%), 2位 サウジアラビア(11.2%), 3位 アメリカ(7.6%), 4位 中国(5.4%), 5位 イラン(5.3%), 6位 メキシコ(3.7%) (「日本国勢図会 2010/2011」P122)

[問題](1 学期中間)

右の地図を見て、各問いに答えよ。

- (1) 地図中 A の鉄鉱山名, B の炭田名, C と D の油田名を答えよ。
- (2) 地図中 E で豊富に産出される資源を下から選べ。

[銅 銀 天然ガス 金]



[解答欄]

(1)A	B	C
D	(2)	

[解答](1)A メサビ鉄山 B アパラチア炭田 C メキシコ湾岸油田 D カリフォルニア油田 (2) 銅

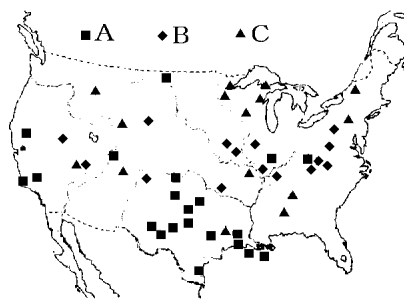
[問題](1 学期中間)

地図の A～C にあてはまる鉱産資源を次の[]から
選びなさい。

[鉄鉱石 石炭 石油 天然ガス]

[解答欄]

A	B
C	



[解答]A 石油 B 石炭 C 鉄鉱石

[問題](1 学期中間)

次の文の ～ に適する語を下の[]から選びなさい。

ひでお: アメリカの鉱産資源の産出地を見ると、()はアパラチア山脈周辺とプレーリーで、()は五大湖周辺で、それぞれ採れるんだね。

かずよ: ()は、海沿いの周辺で産出していることがわかるわ。

[石油 石炭 鉄鉱石]

[解答欄]

--	--	--

[解答] 石炭 鉄鉱石 石油

[問題](3 学期)

次の文の ～ に適語を入れなさい。

アメリカ合衆国は、鉱産資源に恵まれている。東部の古期造山帯に分布する()炭田をはじめ、スペリオール湖の西岸にある()鉄山、メキシコ湾岸油田など、鉱産資源は世界有数の産出量をほこっている。しかし、消費量が多いので、石油はマラカイボ湖油田がある()やサウジアラビアなどから輸入している。

[解答欄]

--	--	--

[解答] アパラチア メサビ ベネズエラ

[問題](1 学期中間)

アメリカはエネルギーを大量に消費している国である。アメリカの主な石油の輸入先の組み合わせとして正しいものを、下のイ～ニの中から記号で選べ。

イ 中国・ロシア・イラク

ロ サウジアラビア・カナダ・ロシア

ハ サウジアラビア・チリ・ナイジェリア

ニ サウジアラビア・ベネズエラ・メキシコ

[解答欄]

--

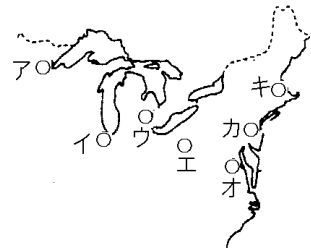
[解答]ニ

【】工業：五大湖周辺

[問題](3 学期)

次の文の ~ に適語を入れなさい。

アメリカ合衆国の最大の工業地域は五大湖周辺の地域で、
 ()炭田と()鉄山を()の水運で結びつけて
 発達した。「鉄の町」と呼ばれる()(地図記号：)や「自
 動車の町」と呼ばれる()(地図記号：)をはじめ、農畜
 産物の集散地で農業機械の製造がさかんな()(地図記
 号：)等の都市がある。

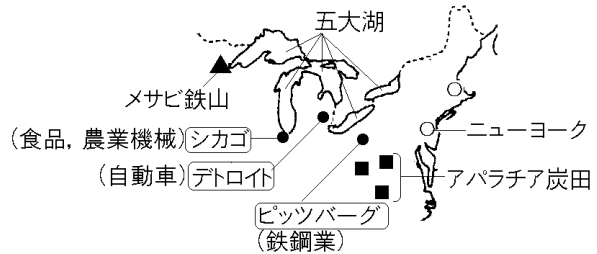


[解答欄]

[解答] アパラチア メサピ 五大湖 ピッツバーグ エ デトロイト
 ト ウ シカゴ イ

[解説]

アメリカでもっとも古くからある工業地域は五大湖周辺である(中西部工業地域)。五大湖の南にはアパラチア炭田(石炭)、西側にはメサピ鉄山(鉄鉱石)と鉱産資源に恵まれている。19世紀後半ごろから、五大湖を利用し

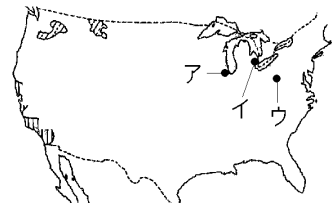


てメサピの鉄鉱石を船で運び、アパラチア炭田の石炭を使って、ピッツバーグで鉄鋼の生産が始まった。さらに、デトロイトで、この鉄鋼を材料とする自動車工業が発達した。しかし、鉄鋼や自動車などは、ヨーロッパや日本などからの輸入が増えたためにふるわなくなった。ピッツバーグでは 1980 年代に鉄鋼の生産が縮小したが、最近では、コンピューターやバイオテクノロジーなどの先端技術産業が急速に成長している。また、2009 年には、アメリカの 3 大自動車メーカーのうちの 2 社(クライスラー、GM)が破綻した。現在は経営再建の途上にある。

このほか、シカゴはアメリカ第三の都市で、畜産物の集散地になっており、農業機械、食品工業(食肉など)がさかんである。

[問題](1 学期中間)

ア～ウの各都市は、アメリカ最大の工業地域の中心都市である。このうち、自動車工業の発達した都市を1つ選び、記号と都市名を書きなさい。



[解答欄]

記号：	都市名：
-----	------

[解答]記号：イ 都市名：デトロイト

[解説]

アはシカゴ(農業機械，食品工業)，イはデトロイト(自動車工業)，ウはピッツバーグ(鉄鋼業)である。

[問題](1 学期中間)

次の文の ， に適語を入れよ。

アメリカの工業地域は、おもに資源の産出地の周辺に広がっている。早くから工業が発達していた北東部には、総合工業都市であるニューヨークやシカゴのほか、鉄鋼業の()や自動車工業の中心都市()などが分布している。

[解答欄]

--	--

[解答] ピッツバーグ デトロイト

[問題](3 学期)

ピッツバーグでさかんな工業を下の[]から選びなさい。

[自動車工業 繊維工業 鉄鋼業 石油化学工業]

[解答欄]

--

[解答]鉄鋼業

[問題](1 学期中間)

デトロイトでさかんな工業を答えなさい。

[解答欄]

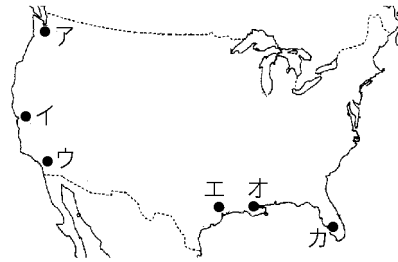
[解答]自動車工業

【】工業 : サンベルト

[問題](増補 10)(補充問題)

~ に適語を入れよ。

メキシコ湾に面している都市() (地図記号:)では,宇宙産業や石油化学工業が発達している。またアメリカ第 2 の都市ロサンゼルス(地図記号:)でも石油化学工業,航空機産業が発達している。サンフランシスコ(地図記号:)の南にあるサンノゼ付近は電子工業がさかんで()と呼ばれている。()()とも北緯()度以南に分布し,その地域は新しい産業がおこっている工業地域という意味で()と呼ばれている。

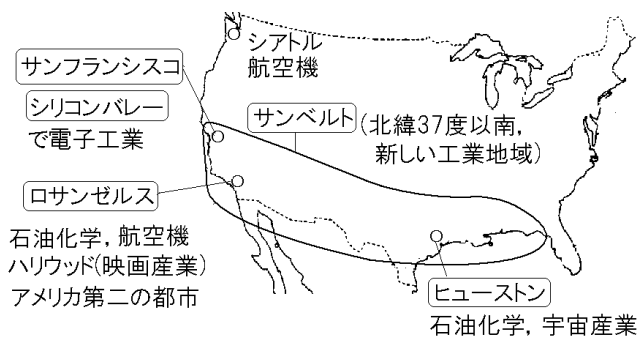


[解答欄]

[解答] ヒューストン エ ウ イ シリコンバレー 37 サンベルト

[解説]

1970年代から,北緯37度以南の地域で,広い土地や豊かな資源,労働力を利用して,新しい工業が発達した。この地域をサンベルトという。そのうちの1つはメキシコ湾岸油田地帯のある南部工業地域である。ヒューストン(位置: 29.7630,-95.3631)

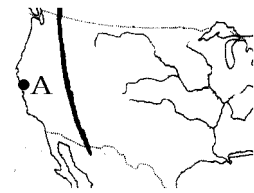


では石油化学工業と宇宙産業がさかんである。

サンベルト内のもうひとつの工業地域は,太平洋岸の工業地域である。ロサンゼルス(位置: 34.0536,-118.2421)はアメリカ第 2 の都市であり,石油化学と航空機産業がさかんで,ハリウッドの映画産業やディズニーランドも有名である。サンフランシスコ(位置: 37.7750, -122.4182)の近郊にあるサンノゼでは電子工業がとくにさかんで,シリコンバレー(位置: 37.4000,-122.0391)とよばれている。

[問題](3 学期)

地図中 A の都市は電子工業がさかんです。この都市を下の
[]から選びなさい。また、この地域は電子工業の原料に
ちなんで何と呼ばれていますか。



[ロサンゼルス ヒューストン デトロイト
サンフランシスコ]

[解答欄]

--	--

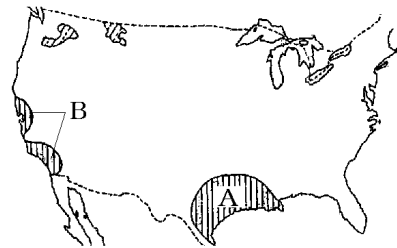
[解答] サンフランシスコ シリコンバレー

[問題](1 学期中間)

次の地図を見て、各問いに答えなさい。

(1) A の地域は、ある鉱産資源をもとに発達した新
しい工業地域である。鉱産資源名を書きな
さい。

(2) A の地域と B の地域の南部がふくまれる北緯
37 度以南では、先端技術産業を中心とする工業
の発展がめざましい。この地域は特に何とよばれていますか。



[解答欄]

(1)	(2)
-----	-----

[解答](1) 石油 (2) サンベルト

[問題](1 学期中間)

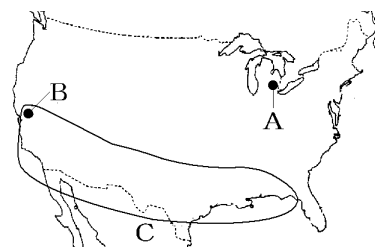
次の各問いに答えなさい。

(1) A の都市でさかんな工業を選びなさい。

[鉄鋼 石油化学 繊維 自動車]

(2) 地図中 B の近郊にある、ハイテク産業の企業や研
究所が集中している地域は何と呼ばれています
か。

(3) 地図中の C で示された、南部の工業地域を何と言
いますか。



[解答欄]

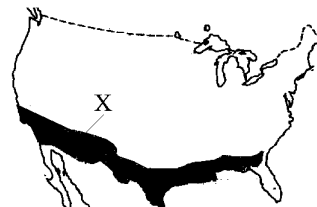
(1)	(2)	(3)
-----	-----	-----

[解答](1) 自動車 (2) シリコンバレー (3) サンベルト

[問題](1 学期中間)

地図中 X の地域では、宇宙、航空、コンピューター、情報通信、バイオテクノロジーなどのハイテク産業がさかんです。この地域のことを何といいますか。また、この地域に属していない都市を次の[]から 1 つ選びなさい。

[ヒューストン ダラス ロサンゼルス シカゴ]



[解答欄]

--	--

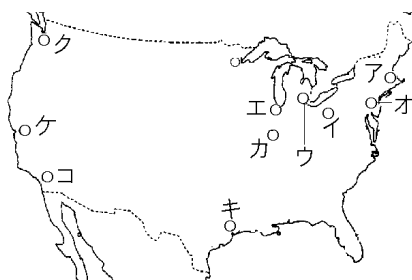
[解答] サンベルト シカゴ

[問題](2 学期中間)

地図を見て、各問いに答えなさい。

- (1) アメリカ合衆国の首都名を答えなさい。
- (2) 次の ~ の都市の位置を地図のア~コから、あてはまる文を a~f から、それぞれ 1 つずつ選び記号で書きなさい。

ニューヨーク デトロイト
ピッツバーグ シカゴ
ヒューストン ロサンゼルス



- a 五大湖の沿岸に発達し、食品工業のさかんな都市として知られている。
- b 太平洋岸最大の都市であり、石油化学や航空機産業などが発達している。
- c 炭田地帯にあり、鉄鋼業のさかんな都市として知られている。
- d 国際連合の本部が置かれ、世界の政治・経済の中心地になっている。
- e 五大湖の沿岸に発達し、自動車工業のさかんな都市として知られている。
- f メキシコ湾岸の油田に近く、石油化学工業がさかんである。

[解答欄]

(1)	(2)		

[解答](1) ワシントン (2) オ ,d ウ ,e イ ,c エ ,a キ ,f コ , b

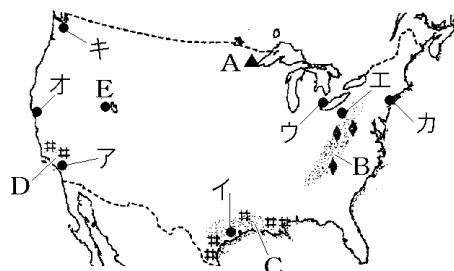
[問題](1 学期中間)

右の地図を見て、各問いに答えよ。

- (1) 地図中イ、ウ、エの都市について、都市名とさかんな工業をそれぞれ選べ。

[都市名：ワシントン ヒューストン
ピッツバーグ デトロイト]

[工業：自動車工業 石油化学工業
鉄鋼業 造船業]



- (2) 近年、地図中イを中心とするアメリカ南部一帯は、宇宙産業や電子工業などのハイテク産業が発達し、巨大な工業地域となった。この南部一帯のことを何とよぶか。
- (3) 地図中アの都市は石油化学工業や航空機産業がさかんで、映画の都・ハリウッドやディズニーランドがあることで知られる合衆国第二の都市である。都市名を答えよ。
- (4) 地図中オの都市の郊外に、コンピューターや半導体メーカー、研究所などが集中する電子工業地域がある。この地域を何とよぶか。
- (5) 地図中キは航空機産業がさかんな都市である。都市名を答えよ。

[解答欄]

(1)イ		ウ	
エ		(2)	(3)
(4)	(5)		

[解答](1)イ ヒューストン 石油化学工業 ウ デトロイト 自動車工業 エ ピッツバーグ 鉄鋼業 (2) サンベルト (3) ロサンゼルス (4) シリコンバレー (5) シアトル

[問題](2 学期期末)

アメリカ合衆国で発達しているロケットなどを生産する産業を何といいますか。

[解答欄]

[解答]宇宙産業

[問題](前期期末)

アメリカは、情報産業の分野で世界をリードしている。情報産業に関係の深いものを、次の[]から 1 つ選びなさい。

[フリーウェイ インターネット スペースシャトル バイオテクノロジー]

[解答欄]

[解答]インターネット

[問題](1 学期中間)

アメリカの工業の特色にあたらないものを下のイ～ニの中から記号で選べ。

- イ 豊かな資源に恵まれている。
- ロ 企業の自由競争が進んでいる。
- ハ 生産手段が国有化されている。
- ニ 巨大な資金がある。

[解答欄]

[解答]ハ

[問題](前期期末)

アメリカが世界最大の工業国になった理由としてあてはまらないものを、次のア～エから 1 つ選び、記号を書きなさい。

- ア パイプラインにより国内の石油産地からエネルギーの供給が容易に行える。
- イ 地下資源が豊富にとれる地域の近くに工業都市が発達した。
- ウ アメリカでは、最先端の工業技術が研究されている。
- エ 周りを広い海に囲まれており、原材料の輸入がしやすい。

[解答欄]

[解答]工

【】都市・企業

[問題](3 学期)

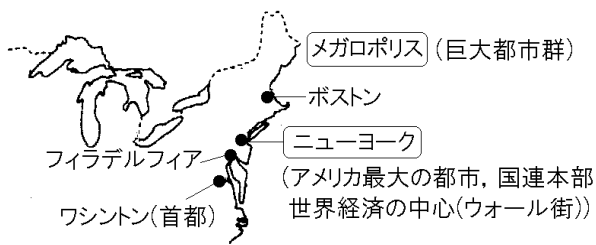
地図中 X の地域はアメリカ最大の都市ニューヨークやフィラデルフィアをはじめ、大きな都市が連なっています。この地域を何といいますか。



[解答欄]

[解答]メガロポリス

[解説]



ニューヨーク(位置：40.7132,-74.0073)はアメリカ最大の都市で，世界経済の中心となっている。ニューヨークのウォール街には世界の金融の中心といわれる株式市場などがある。また，ニューヨークには国際連合の本部もおかれている。2001 年 9 月に同時多発テロがおこり多数の死傷者が出た。

ニューヨークや首都のワシントン(ホワイトハウス位置：38.8897,-77.0092)をふくむ大西洋岸の一带は，数百キロにわたって大都市が連続している。大都市が連結されたこの一带をメガロポリス(巨大都市群)とよんでいる。

[問題](3 学期)

アメリカ合衆国の大西洋岸北東部には，大小の都市が連続しており，()と呼ばれる都市地域を形成している。

[解答欄]

[解答]メガロポリス

[問題](1 学期中間)

国際連合の本部のある都市はどこか。その都市の名前を答えなさい。

[解答欄]

[解答]ニューヨーク

[問題](1 学期中間)

2001 年 9 月の同時多発テロで倒壊した世界貿易センタービルがあった都市であり、世界経済の中心となっているアメリカ最大の都市はどこか。都市名を答えよ。

[解答欄]

[解答]ニューヨーク

[問題](1 学期期末)

ニューヨークで世界の金融の中心といわれる株式市場があるのはどこか。

[解答欄]

[解答]ウォール街

[問題](3 学期)

海外に資金や技術を持ち込んで、多くの子会社・支店・営業所をもつ国際的な企業のことを何といいますか。

[解答欄]

[解答]多国籍企業

[解説]

世界各地で活動する巨大な企業を多国籍企業たこくせきぎやうという。

[問題](2 学期期末)

次の文の ， に適語を入れなさい。

アメリカは世界経済の中心である。そのあらわれとして，アメリカの通貨である（ ）は世界で最も信頼される通貨となっている。また，世界にまたがる（ ）企業がたくさんある。

[解答欄]

--	--

[解答] ドル 多国籍

【】貿易

[問題](1 学期中間)

次の各問いに答えよ。

- (1) アメリカからみて、輸出額が第1位である国はどこか。
- (2) ラテンアメリカ諸国の多くの国は、アメリカを貿易相手国の第1位としている。アメリカに強い影響を受けているラテンアメリカの国を、すべて下から選べ。

[フィリピン シンガポール ベネズエラ メキシコ]

[解答欄]

(1)	(2)
-----	-----

[解答](1) カナダ (2) ベネズエラ, メキシコ

[解説]

アメリカの輸出入の相手国順位(2008年)は、

輸出: 1位 カナダ(20.1%), 2位 メキシコ(11.7%), 3位 中国(5.5%), 4位 日本(5.1%)

輸入: 1位 中国(16.5%), 2位 カナダ(15.7%), 3位 メキシコ(10.1%), 4位 日本(6.6%)

(統計出典)「日本国勢図会 2010/2011」P351

[問題](1 学期中間)

次の各問いに答えよ。

- (1) 2008年のアメリカの輸出額総計は1兆3000億ドル、輸入額総計は2兆1648億ドルである。この年のアメリカの貿易赤字はいくらになるか。
- (2) アメリカの対日貿易は黒字か赤字か。

[解答欄]

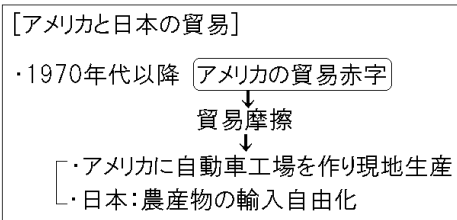
(1)	(2)
-----	-----

[解答](1) 8648億ドル (2) 赤字

[解説]

(1)アメリカの貿易赤字は近年、急増している。ドルベースでは、1999年に3573億ドルだったのが、2008年には8648億ドルに増加している。

(2)70年代以降、日本からの輸入がつねに日



本への輸出を上回り、アメリカの対日貿易は赤字を続けてきている。1960年代に繊維・鉄鋼・カラーテレビ、70年代以降は自動車などについて貿易摩擦ぼうえきまさつがおこった。この問題を少しでも解消する目的で、日本の自動車工場がアメリカに進出し、現地生産を始めた。また、アメリカは農産品の輸入拡大を日本に求め、交渉の末、日本は、牛肉・オレンジ・米などの輸入自由化に踏み切った。アメリカの貿易は、ほとんどの国との間で赤字になっている。

(統計出典)「日本国勢図会 2010/2011」P356

[問題](1 学期中間)

アメリカの貿易について正しく述べた文を1つ選んで、記号で答えなさい。

ア 日本との貿易では、アメリカの大幅な赤字が続いている。

イ メキシコが最大の貿易相手国である。

ウ EUとの貿易はさかんでない。

[解答欄]

[解答]ア

[問題](2 学期期末)

アメリカは、政治、経済、文化の面で日本と強く結びついている。日本と米国の貿易は、収支をみるとアメリカの貿易()であり、しばしば問題となっている。

[解答欄]

[解答]赤字

[問題](1 学期中間)

アメリカから輸入の拡大を求められた日本の自動車企業は、どんな方法をとりましたか。

[解答欄]

[解答]アメリカに工場を移転すること。

[問題](2 学期期末)

右のグラフは、アメリカ合衆国と日本の貿易のようすを示しています。

A, B にあてはまるものを次から選びなさい。

[自動車 航空機 小麦 綿花
とうもろこし]

アメリカへの輸出 (2009 年)		アメリカからの輸入 (2009 年)	
機械類	37.0%	機械類	28.6%
A	25.8%	B	6.7%
その他	37.2%	とうもろこし	6.2%
		その他	58.5%

[解答欄]

A	B
---	---

[解答]A 自動車 B 航空機

[解説]

日本からアメリカへの輸出で多いのは自動車である。アメリカから日本の輸出の中で特徴的なものは航空機で、ほとんどアメリカから輸入している。

(統計出典)「日本国勢図会 2010/2011」P328

【 】ラテンアメリカ

【 】歴史・文化

[問題](増補 10)(補充問題)

次の各問いに答えよ。

- (1) 南アメリカの先住民を何というか。
- (2) 1492年に、長い航海の末、西インド諸島に到達したヨーロッパ人は誰か。
- (3) 16世紀ごろ、南アメリカ各地を植民地にしていったのは何という国か。2つあげよ。
- (4) ブラジルで使われている言語は何か。
- (5) ブラジル以外の中南米の大部分の国で使われている言語は何か。
- (6) 中南米の人々に信仰されている宗教は何か。
- (7) (1)と白人の混血の人々を何というか。

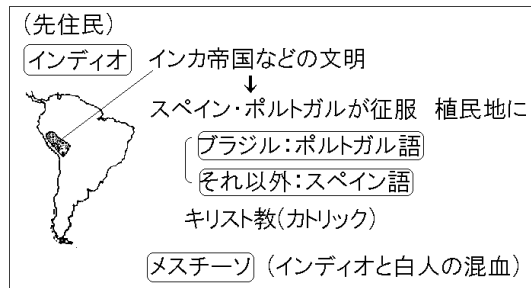
[解答欄]

(1)	(2)	(3)	
(4)	(5)	(6)	(7)

[解答](1) インディオ (2) コロンブス (3) スペイン, ポルトガル (4) ポルトガル語
(5) スペイン語 (6) キリスト教 (7) メスチーソ

[解説]

1492年にコロンブスが西インド諸島に到達する以前から、中南米にはインディオとよばれる先住民が生活していた。インディオは、ユカタン半島のマヤ文明、メキシコ高原のアステカ帝国、アンデス高地のインカ帝国など高度な文明を築いていた。16世紀のはじめごろ、スペイン人やポルトガル人がやってきて、インディオの国を滅ぼし、植民地をつくった。その後、これらのラテン系の人々が多く移住するようになると、スペイン語やポルトガル語、キリスト教(カトリック)などの文化が広がった。19世紀以降、中南米の多くの国が独立したが、現在でも、多くの国でスペイン語やポルトガル語が公用語として使われ、カトリックが信仰されている。(ブラジルではポルトガル語が、その他の大部分の国ではスペイン語が使われている) このように、言語や宗教などラテン系の民族としての共通性があることから、ラテンアメリカとよばれている。ラテンアメリカでは人種間の混血がす



すんでいる。ヨーロッパ系とインディオの混血をメスチーソという。

[問題](増補 11)(1 学期中間)

南アメリカの先住民を何といいますか。

[解答欄]

[解答]インディオ

[問題](増補 11)(補充問題)

略地図中に X で示した地域を中心に、15 世紀から 16 世紀にかけて、とうもろこしやじゃがいもを主要な作物とする農耕文化が発達し、巨大な神殿や王宮をもつ国が栄えていた。この国は何とよばれているか、その名称を書きなさい。



(和歌山県(旧))

[解答欄]

[解答]インカ帝国

[問題](増補 11)(2 学期中間)

次の各問いに答えなさい。

(1) ブラジルを除く南アメリカの多くの国々において公用語となっている言語は何語ですか。次の[]から1つ選んで答えなさい。

[英語 フランス語 スペイン語 イタリア語]

(2) 南アメリカの人々は、先住民とヨーロッパ系住民との混血の人々が多数を占めています。この人々は何とよばれていますか。次の[]から1つ選んで答えなさい。

[アボリジニー メスチーソ マオリ インディオ]

[解答欄]

(1)	(2)
-----	-----

[解答](1) スペイン語 (2) メスチーソ

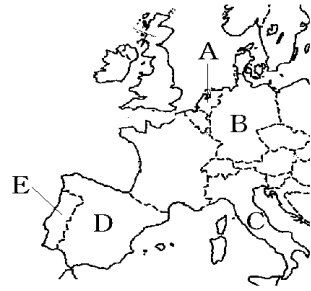
[問題](増補 11)(補充問題)

ブラジル以外の中南米の多くの国々で主に使われている言語は、略地図中の A～E のどの国の言語か。その国の記号と国名を記入せよ。

(福岡県(旧))

[解答欄]

[解答]D, スペイン



[問題](増補 10)(補充問題)

南アメリカの国々では、スペイン語やポルトガル語が使用されている。また、キリスト教(カトリック)を信仰している人が多い。その理由として考えられることを歴史的な背景に注目して書け。

[解答欄]

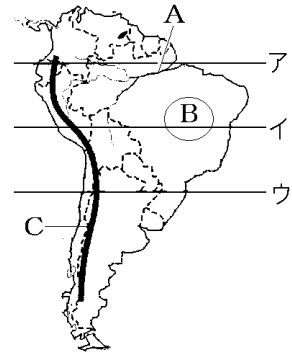
[解答]南アメリカはかつてスペインやポルトガルの植民地であったから。

【】自然

[問題](増補 10)(補充問題)

次の各問いに答えよ。

- (1) 赤道はア～ウのどれか。
- (2) A は流域面積が世界 1 位，長さが世界 2 位の川である。何という川か。
- (3) B は何という高原か。
- (4) 次の文の ~ に適語を入れよ。



A 川流域の気候は()帯で，年中高温・多雨なため密林がひろがる()気候になっている。B の気候も()帯であるが，雨季と乾季があるため，まばらな樹木が見られる草原が広がる()気候となっている。

- (5) A 川流域で問題となっている世界規模の環境問題は何か。次の[]から選べ。

[砂漠化 熱帯林の減少 地盤沈下 酸性雨]

- (6) C は何という山脈か。
- (7) C の山脈は何という造山帯の一部か。

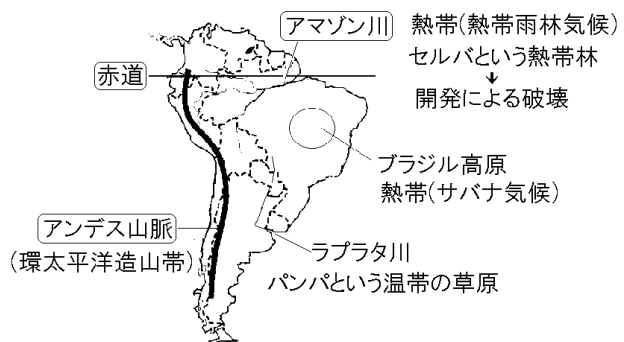
[解答欄]

(1)	(2)	(3)	(4)
		(5)	(6)
(7)			

[解答](1) ア (2) アマゾン川 (3) ブラジル高原 (4) 熱 熱帯雨林 サバナ
(5) 熱帯林の減少 (6) アンデス山脈 (7) 環太平洋造山帯

[解説]

赤道の位置を問う問題はよく出題される。南アメリカ大陸では，ブラジルのアマゾン川付近を通っている。赤道直下では，強い日射であたためられた空気が上昇気流となるため，雲が発生しやすく，年中雨が多い。高温・多雨の気候は植物の生育をもたらし，高い木や低い木が何



層にも重なった密林(ジャングル)が発達している(熱帯雨林気候)。アマゾン川流域ではセルバとよばれる熱帯林が広がっている。しかし、近年、過度の焼畑農業、資源開発のための道路建設、農地の造成などによって熱帯林が急激に減少している。

赤道から少し離れたブラジル高原の気候も熱帯であるが、雨季と乾季があるため、まばらな樹木が見られる草原が広がるサバナ気候となっている。ラプラタ川の下流域にはパンパとよばれる温帯の草原が広がっている。

南アメリカ大陸の西部には、環太平洋造山帯に属し、高くて険しいアンデス山脈が走っている。

[問題](増補 11)(補充問題)

右の略地図で赤道を示す緯線はどれか、ア～エから選びなさい。

(徳島県(旧))

[解答欄]

[解答]イ



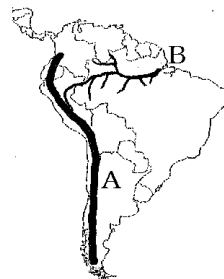
[問題](増補 11)(2 学期中間)

右の地図にAで示した山脈、Bで示した世界最大の流域面積をもつ川の名をそれぞれ答えなさい。

[解答欄]

A	B
---	---

[解答]A アンデス山脈 B アマゾン川



[問題](増補 11)(1 学期中間)

次の各問いに答えなさい。

- (1) 南アメリカにある世界最大の流域面積をもつ河川を何といいますか。
- (2) 南アメリカ大陸の太平洋側を南北に走る山脈を何といいますか。

[解答欄]

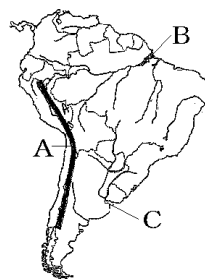
(1)	(2)
-----	-----

[解答](1) アマゾン川 (2) アンデス山脈

[問題](増補 11)(2 学期期末)

地図を見て、問いに答えよ。

- (1) Aの山脈, B・Cの川の名前を書け。
- (2) Bの川の流域ではどんな困ったことがおきているか。
- (3) Cの川の下流域に広がる温帯の草原を何というか。



[解答欄]

(1)A	B	C
(2)		
(3)		

[解答](1)A アンデス山脈 B アマゾン川 C ラプラタ川 (2) 開発などにより熱帯林が減少していること。 (3) パンパ

[問題](増補 11)(補充問題)

地図中の X 川の流域では、現在、自然環境の変化が問題になっている。問題になっている変化のようすについて、X 川の名前と「熱帯林」という言葉を用いて簡単に書け。

(愛媛県(旧))



[解答欄]

[解答]アマゾン川の流域では、開発などにより熱帯林が減少している。

[問題](増補 11)(補充問題)

アマゾン川の流域は、地球の大気にとって重要な役割をはたしているといわれている。この地域がそのようにいわれるのはなぜか。その理由を簡単に書け。

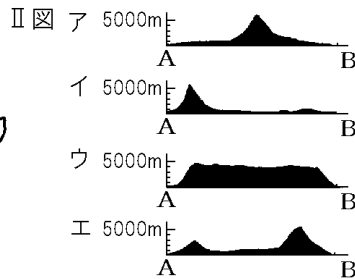
(香川県(旧))

[解答欄]

[解答]熱帯林が広がり、それが二酸化炭素を吸収し、酸素を供給しているから。

[問題](増補 11)(補充問題)

図の A - B 間の断面を示す模式図はどれか。 図のア～エのうちから最も適当なものを 1 つ選び、その符号を書きなさい。



(千葉県(旧))

[解答欄]

[解答]イ

[解説]

A付近はアンデス山脈が走っていることからイと判断できる。

[問題](増補 11)(補充問題)

アンデス山脈では、高さ(標高)によって異なる作物が栽培されている。クスコのようなアンデス山脈の高地に住む人々は、とうもろこしやこの地方が原産地である農作物を主食としている。この農作物を、次の[]から 1 つ選びなさい。

[バナナ 米 ジャがいも 大豆]

(香川県(旧))


[解答欄]

[解答]ジャがいも

[解説]

アンデス地方に住む人々の多くは、麦類やとうもろこしやこの地方が原産のジャがいもなどを主食として栽培し、この地方特有のリャマやアルパカを飼育している。ジャがいも、とうもろこし、トマト、落花生などはアンデス地方が原産の農産物である。

[問題](増補 11)(補充問題)

右の略地図中の  のアンデスの高原地方から世界に広まった作物として適当でないものを、次の[]の中から1つ選んで書け。

[落花生 コーヒー トマト ジャガイモ]

(福井県(旧))

[解答欄]

[解答]コーヒー



[問題](増補 11)(補充問題)

次の文の , に適語を入れよ。

アンデス地方に住む人々の多くは、麦類やとうもろこし、そして、この地方が原産の()などを主食として栽培し、この地方特有の()やアルパカを飼育している。

(茨城県(旧))

[解答欄]

<input type="text"/>	<input type="text"/>
----------------------	----------------------

[解答] ジャガイモ リヤマ

[問題](増補 11)(補充問題)

右の写真の衣服は、略地図中の X で示した高地に住む人々が気候に合わせてつくったものである。この人々が主食にしてきた作物と代表的な家畜の組合せを、次のア～エから1つ選び、記号で答えなさい。

ア 小麦 - 豚

イ ジャガイモ - リヤマ

ウ なつめやし - らくだ

エ 米 - 牛

(山口県(旧))

[解答欄]

[解答]イ




[解説]

アンデス山脈中の高地に住むインディオは、強い日ざしをさけるために、動物の毛でつくった帽子をかぶる。また、昼と夜の気温の差が大きいので、アルパカの毛で織った服を着る。立っているときにはマントになり、すわれば防寒用の毛布になるポンチョが有名である。



[問題](増補 11)(補充問題)

次の各問いに答えなさい。

(1) 右の略地図中の  で見られる服は下のア～エのどれですか。



(2) (1)は何という服装ですか。

[解答欄]

(1)	(2)
-----	-----

[解答](1) エ (2) ポンチョ

[問題](増補 11)(1 学期中間)

エクアドルからペルー沖にかけての海域で、海水温が平年よりも上昇する現象を何と
いいますか。

[解答欄]

--

[解答]エルニーニョ現象

【】各国の特色

[問題](増補 10)(補充問題)

ブラジルについて、次の各問いに答えよ。

- (1) ブラジルの首都はどこか。
- (2) ブラジルの公用語は何語か。
- (3) ブラジルの北部には、流域面積が世界一である()川が流れている。気候は、国土の大部分が()帯に属している。
- (4) ブラジルには多くの日系人が住んでいるが、はじめに移住した日本人は、おもにどんな農作物をつくる農園で働いていたか。
- (5) ブラジルから日本への最大の輸出品は何か。

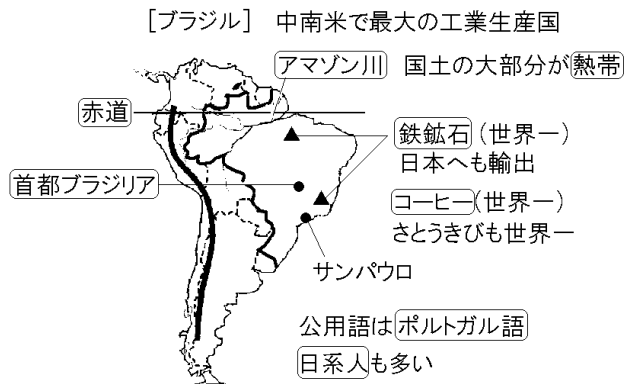
[解答欄]

(1)	(2)	(3)	
(4)	(5)		

[解答](1) ブラジリア (2) ポルトガル語 (3) アマゾン 熱 (4) コーヒー (5) 鉄鉱石

[解説]

ブラジルは世界 5 位の面積をもつ国で、南アメリカ大陸のおよそ半分を占める。北部にはアマゾン川が流れ、南部にはブラジル高原が広がっており、国土の大部分が熱帯に属する。人口も世界第 5 位(2009 年 1.9 億人)で、南アメリカでは最も多い。日系人の数も南米最大で、約 150 万人である。首都ブラジリアは人工的に建設された都市である。



かつてはポルトガルの植民地であったため、公用語はポルトガル語である。植民を行ったポルトガル人はさとうきびやコーヒーの大農園(プランテーション)を開き、19 世紀には、さとうきびとコーヒーがブラジルを代表する作物になった。現在でも、さとうきびとコーヒーは世界一の生産をあげている。

さとうきび(2008 年) : 1 位 ブラジル(37%) , 2 位 インド(20%) , 3 位 中国(7%)

コーヒー(2007年): 1位 ブラジル(24%), 2位 ベトナム(20%), 3位 コロンビア(10%)
(統計出典)「世界国勢図会 2010/2011」P226・P234

近年、コーヒーなどの輸出にたよるモノカルチャー経済から脱して、カカオ、大豆、とうもろこしなども栽培しており、牧畜もさかんである。

ブラジルは鉄鉱石、ボーキサイトなどの鉱産資源の埋蔵が多く、世界的な産出量をもっている。鉄鉱石はブラジルから日本への最大の輸出品である。

鉄鉱石の生産(2008年): 1位 ブラジル(22%), 2位 中国(22%), 3位 オーストラリア(18%)

(統計出典)「世界国勢図会 2010/2011」P158

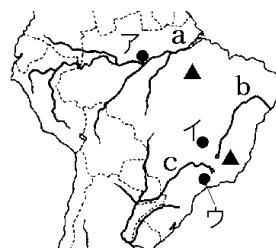
日本の鉄鉱石の輸入先(2009年): 1位 オーストラリア(55%), 2位 ブラジル(31%), 3位 南アフリカ共和国(5%), 4位 インド(5%)

(統計出典)「日本国勢図会 2010/2011」P316

ブラジルは、国内の豊富な資源を利用するとともに、アメリカや日本などの外国資本を導入して、鉄鋼・自動車・電気機械などの重化学工業を発展させた。現在では、航空機やソフトウェアなど先端技術産業も発達しており、中南米で最大の工業生産力をほこる国になっている。

[問題](増補 11)(補充問題)

「私は ブラジリアから来ました。私の国の代表的な川は アマゾン川です。私の国では 豊富な鉱産物を利用した工業も発達しています。」



(1) 下線部 の都市, 下線部 の河川の位置として適切なものを, 都市については略地図中のア~ウ, 河川についてはa~cから選んで, その符号を書きなさい。

(2) 下線部 に関して, 略地図中の で示した地域で主に産出される鉱産物として適切なものを次の[]から選びなさい。

[石油 鉄鉱石 石炭]

(兵庫県(旧))

[解答欄]

(1)		(2)
-----	--	-----

[解答](1) イ a (2) 鉄鉱石

[問題](増補 11)(2 学期中間)

ブラジルが世界第1位の生産量をあげている農作物を、次の[]から1つ選んで答えなさい。

[コーヒー とうもろこし ぶどう]

[解答欄]

[解答]コーヒー

[問題](増補 11)(2 学期期末)

地図を見て、問いに答えよ。

- (1) 右図のXの国名を書け。
- (2) Xの国の生産量が世界1位である農作物を2つ書け。



[解答欄]

(1)	(2)
-----	-----

[解答](1) ブラジル (2) コーヒー , さとうきび

[問題](増補 11)(1 学期中間)

ブラジルの首都を何といいますか。

[解答欄]

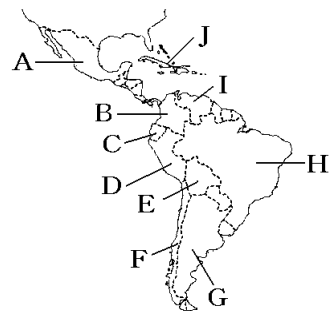
[解答]ブラジリア

[問題](増補 10)(補充問題)

次の ~ の説明にあてはまる国はそれぞれどこか。国名と地図の記号を書きなさい。

ラプラタ川河口に広がる大草原(パンパ)では、小麦やとうもろこしの栽培、肉牛や羊の放牧がさかんである。この国の国名は、スペイン語で「赤道」を意味し、赤道直下に位置している。

世界第5位の人口(2009年1.9億人)で、約150万人の日系人がくらしている。公用語はポルトガル語である。日本へは鉄鉱石やコーヒーを輸出している。



インカ帝国の都市マチュピチュの遺跡がある。漁業がさかんでアンチョビー(いわし
の一種)の漁獲量が多い。

南北の長さは、4000km 以上あるが、東西の平均は 175km しかない。銅鉱の生産
は世界一である。

熱帯にある高原や山地の国で、銀、石油などの資源に恵まれている。重化学工業も
発達している。

[解答欄]

[解答] アルゼンチン ,G エクアドル ,C ブラジル ,H ペルー ,D チ
リ ,F メキシコ , A

[解説]

- ・アルゼンチン：首都のブエノスアイレスに流
れこむラプラタ川河口に広がる大草原(パン
パ)では、小麦やとうもろこしの栽培がおこな
われ、肉牛や羊の放牧もさかんである。農産
物は冷凍船により北半球の国々へ輸出される。
- ・チリ：南北の長さは、4000km 以上あるが、東
西の平均は 175km しかない。銅鉱の生産は世
界一である。
- ・ボリビア：すずを産出する。
- ・ペルー：首都はリマ。インカ帝国の都市マチュピチュの遺跡がある。漁業がさかんで
アンチョビー(いわし)の漁獲量が多い。
- ・エクアドル：この国の国名は、スペイン語で「赤道」を意味し、赤道直下に位置して
いる。
- ・コロンビア：コーヒーに国の経済を依存する典型的なモノカルチャーの国である。
- ・ベネズエラ：石油の産出国で、OPEC に加盟している。
- ・メキシコ：熱帯にある高原や山地の国で、銀、石油などの資源に恵まれている。重化
学工業も発達している。
- ・キューバ：社会主義国。さとうきびの栽培がさかんで、砂糖は重要な輸出品である。



[問題](1 学期期末)

次の各問いに答えなさい。

- (1) 地図中の A の地域の夏至のころの太陽の動きを、次のア～ウから 1 つ選び、記号で答えなさい。

- ア 日中も水平線から上がらない。
- イ ふだんとかわらない。
- ウ 真夜中でも水平線の下に沈まない。

- (2) 地図中の B の国は、アングロアメリカとラテンアメリカのどちらに属しますか。

- (3) B の国をかつて植民地にしていたヨーロッパの国を答えなさい。

- (4) 地図中の C の国は、ウルグアイで、これと似た国名の内陸国が近くにある。その内陸国の名前を答えなさい。

- (5) 次の説明にあてはまる国の国名を、地図中から選んで答えなさい。

世界 2 位の国土の広さをほこり、国土の大半は針葉樹林におおわれている。

南北の長さは、4000km 以上あるが、東西の平均は 175km しかない。

スペイン語で「赤道」を意味する国名である。

インカ帝国の都市マチュピチュの遺跡がある。

- (6) D の国の公用語は何語ですか。

- (7) 最近、アメリカで増えているメキシコなどラテンアメリカなどからの移民を何といいますか。



[解答欄]

(1)	(2)	(3)	(4)
(5)			
(6)	(7)		

[解答](1) ウ (2) ラテンアメリカ (3) スペイン (4) パラグアイ (5) カナダ
チリ エクアドル ペルー (6) ポルトガル語 (7) ヒスパニック

[印刷 / 他の PDF ファイルについて]

このファイルは、FdData 中間期末社会地理(7,200 円)の一部を PDF 形式に変換したサンプルで、印刷はできないようになっています。製品版の FdData 中間期末社会地理は Word(または一太郎)の文書ファイルで、印刷・編集を自由に行うことができます。

FdData 中間期末(社会・理科・数学)全分野の PDF ファイル、および製品版の購入方法は <http://www.fdtype.com/dat/> に掲載しております。

下図のような、[FdData 無料閲覧ソフト(RunFdData)]を、Windows のデスクトップ上にインストールすれば、FdData 中間期末・FdData 入試の全 PDF ファイル(各教科約 1500 ページ)を自由に閲覧できます。次のリンクを左クリックするとインストールが開始されます。

RunFdData(Word 版) 【 <http://www.fdtype.com/lnk/instRunFdDataWDS.exe> 】

RunFdData(一太郎版) 【 <http://www.fdtype.com/lnk/instRunFdDataTAs.exe> 】

ダイアログが表示されたら、【実行】ボタンを左クリックしてください。インストール中、いくつかの警告が出ますが、[実行][許可する][次へ]等を選択します。

【イメージ画像】



【Fd 教材開発 : URL <http://www.fdtype.com/dat/> Tel (092) 404-2266】