

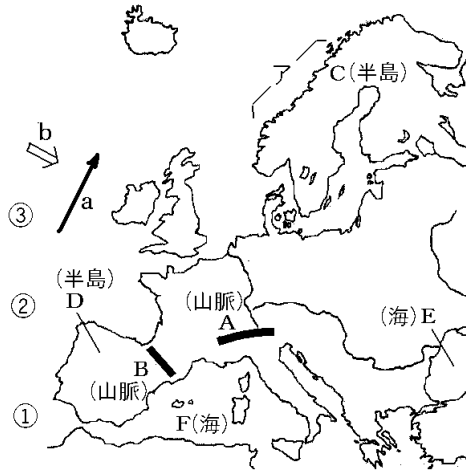
【】ヨーロッパ全般

【】自然

[問題](3学期)

右の地図を見て、下の各問いに答えよ。

- (1) A, B の山脈, C, D の半島, E, F の海の名前をそれぞれ書け。
- (2) C 半島のAに見られる氷河に削られた海岸の地形名をカタカナで書け。
- (3) 北海道を同緯度で移動してきた場合、
～ のどの位置に来るか。
- (4) 地図中の a の海流名と b の風の名を書け。
- (5) 次の文は、(4)の海流と風がヨーロッパ沿岸の気候に与える影響を説明している。
正しい文を選び、記号を書け。



ア 海流に冷やされた空気をこの風が運んでくるので、寒い気候である。

イ 海流にあたためられた空気をこの風が運んでくるので、高緯度にもかかわらず暖かい気候である。

ウ 海流にあたためられた空気をこの風が運び去るので、気候に影響はない。

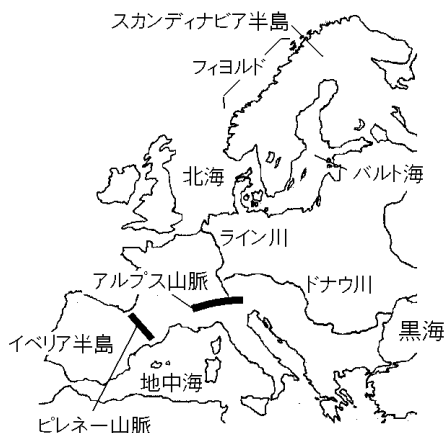
[解答欄]

(1)A	B	C
D	E	F
(2)	(3)	(4)a
b	(5)	

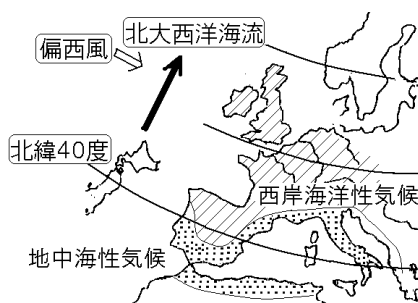
[解答](1)A アルプス山脈 B ピレネー山脈 C スカンディナビア半島 D イベリア半島 E 黒海 F 地中海 (2) フィヨルド (3) (4)a 北大西洋海流 b 偏西風 (5) イ

[解説]

スカンディナヴィア半島の西は氷河によって削られた谷の奥深くまで海水が入りこんでできた海岸線が続いているが、このような地形をフィヨルド(位置：67.8994, 15.1927)という。ライン川は、アルプス山脈に源を発し、複数の国を通過して、北海に注ぐ国際河川である。ライン川の河口付近には EU 最大の貿易港ユーロポート(位置：51.9572, 4.1082)がある。アルプス山脈は、アルプス・ヒマラヤ造山帯の一部である。



秋田県の大瀧村の上を通る北緯 40 度の緯線は、ヨーロッパでは地中海の上を通過している。右図からわかるように、フランス南部は北海道と同緯度であり、イギリスはさらにその北にある。このように、ヨーロッパは緯度が高い割には、温暖であるが、それは海流と風が原因になっている。大西洋を南から北に流れる暖流の北



大西海洋流の上を、1 年中西から吹いてくる偏西風が通っており、海流に暖められた空気を運んでくるので、高緯度にもかかわらず暖かく、1 年を通じて気温や降水量の変化が少ない。このような気候を西岸海洋性気候という。

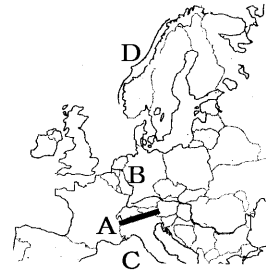
[注]「ユーロポート(位置：51.9572, 4.1082)」の()内の数字は、(緯度, 経度)で、ユーロポートの位置が北緯 51.9572 度, 東経 4.1082 度にあることを示しています。近年、インターネット上から衛星写真のデータを取り込んで、地上の自動車が確認できるほどの高精度の衛星写真をパソコン上で見ることができる Google 社のサービスが利用できるようになりました。FdData 地理の改訂作業を行うにあたって、これらの衛星写真を資料として活用しましたが、そのときに割り出した位置(緯度, 経度)を、今後の改訂のための資料として残しておきます。

そのとき使ったソフトは、Google 社の「GoogleEarth」というフリーソフトです。
<http://www.google.co.jp/intl/ja/earth/index.html> から無料でダウンロードできます。
「GoogleEarth」の左上の[検索][ジャンプ]の欄に、例えば 51.9572, 4.1082 を入力すれば、ユーロポート付近の衛星写真が表示されます。

[問題]3 学期

次の各問いに答えなさい。

- (1) A の山脈の名前を書きなさい。
- (2) B の川の名前を書きなさい。
- (3) C の海の名前を書きなさい。
- (4) 氷河に削られた D の海岸の地形の名前を書きなさい。



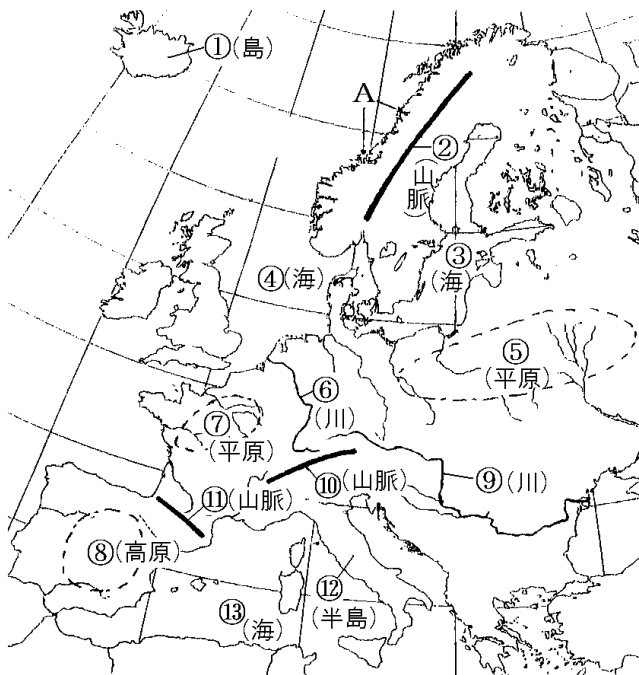
[解答欄]

(1)	(2)	(3)	(4)
-----	-----	-----	-----

[解答](1) アルプス山脈 (2) ライン川 (3) 地中海 (4) フィヨルド

[問題]2 学期中間

次のヨーロッパの地図をみて、後の問いに答えよ。



- (1) 図中の ~ の地形名称を答えよ。
- (2) 図中の A は氷河によってできた入り江の深い海岸地形である。この海岸地形を何と
いうか。

[解答欄]

(1)		
	(2)	

[解答](1) アイスランド島 スカンディナビア山脈 バルト海 北海
 東ヨーロッパ平原 ライン川 フランス平原 イベリア高原 ドナウ川
 アルプス山脈 ピレネー山脈 イタリア半島 地中海 (2) フィヨルド

[問題](増補 11)(補充問題)

右図の X の山脈は何という造山帯に属しているか。



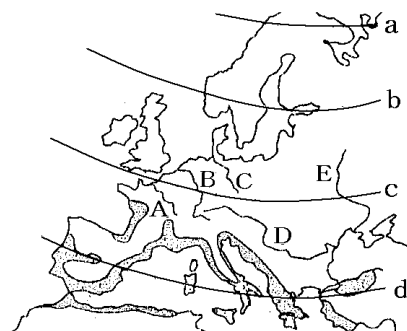
[解答欄]

[解答]アルプス・ヒマラヤ造山帯

[問題](1 学期期末)

地図を見て答えなさい。

- (1) 地図の a～d で北緯 40 度の緯線はどれですか。
- (2) ライン川は、アルプス山脈に源を発し、北海に注ぐ国際河川である。河口付近には EU 最大の貿易港()がある。
- (3) ライン川を地図の A～E から選びなさい。
- (4) 地図の地中海周辺の灰色部分で栽培されている農作物は何ですか。次から選びなさい。
 [ぶどう ジャがいも さとうきび りんご とうもろこし]



[解答欄]

(1)	(2)	(3)	(4)
-----	-----	-----	-----

[解答](1) d (2) ユーロポート (3) B (4) ぶどう

[問題](3 学期)

ライン川のように複数の国をまたがって流れる川を何といいますか。

[解答欄]

--

[解答]国際河川

[問題](2 学期中間)

北・西ヨーロッパの大西洋岸の地域では、緯度が高いのに気温の年較差が少なく一年を通じて温暖な気候である。この気候を何というか。また、この気候に影響を与えている海流と風の名称を答えよ。

[解答欄]

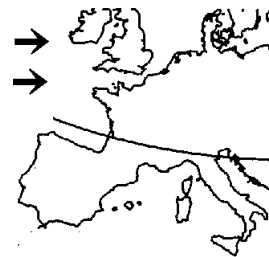
--	--	--

[解答] 西岸海洋性気候 北大西洋海流 偏西風

[問題](2 学期期末)

地図中に→で示した風の名前を書け。また、この風の影響で西ヨーロッパの中緯度地域はどのような気候になっているか。次から1つ選べ。

- ア 冬に積雪量が多い。
- イ 1年中乾燥している。
- ウ 降水量や気温の変化が少ない。
- エ 夏に降水量が多く、冬は乾燥する。



[解答欄]

--	--

[解答] 偏西風 ウ

【】 国名

[問題](1 学期中間)

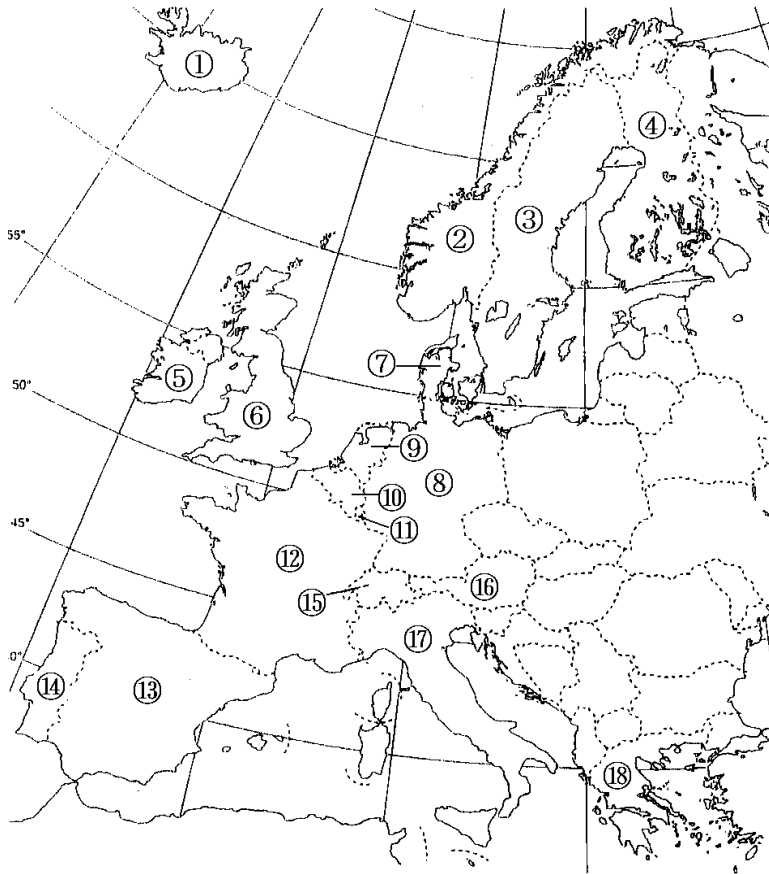
～ の国名を答えなさい。



[解答欄]

[解答] イギリス アイルランド ポルトガル スペイン フランス
イタリア ルクセンブルク ベルギー オランダ ドイツ ギリ
シャ オーストリア デンマーク スウェーデン フィンランド

[問題](2学期中間)



- (1) 図中の ○ の国名を答えよ。
 (2) 図中の ○ ○ 国の首都名をそれぞれ答えよ。

[解答欄]

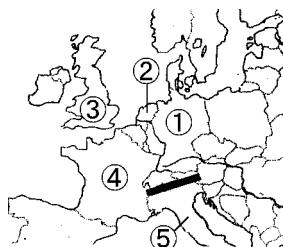
(1)		
(2)		

[解答](1) アイスランド ノルウェー スウェーデン フィンランド アイルランド イギリス デンマーク ドイツ オランダ ベルギー ルクセンブルク フランス スペイン ポルトガル スイス オーストリア イタリア ギリシャ (2) ストックホルム マドリード ベルン

[問題](3 学期)

次の各問いに答えなさい。

- (1) 地図中 ~ の国の名前を書きなさい。
 (2) 地図中 , , の国の首都を答えなさい。



[解答欄]

(1)		
		(5)

[解答](1) ドイツ オランダ イギリス フランス イタリア (2) ベルリン パリ ローマ

[問題](1 学期期末)

ヨーロッパの国々の説明として正しくないものを1つ選び記号で答えよ。

- ア 日本より緯度の高いところに位置している国が多い。
 イ 日本より面積の大きい国が全体の半数以上をしめる。
 ウ 日本より面積の小さい国が全体の半数以上をしめる。

[解答欄]

[解答]イ

【】民族・宗教

[問題](2 学期期末)

次の各問いに答えよ。

- (1) フランス・イタリアには、おもに何系の民族が住んでいるか。[]から 1 つ選べ。
[ラテン系 スラブ系 ゲルマン系]
- (2) フランスには、(1)のおもな民族のほかに、バスク人などいくつかの民族が住んでいる。おもな民族に対して、これらの民族をまとめて何というか。

[解答欄]

(1)	(2)
-----	-----

[解答](1) ラテン系 (2) 少数民族

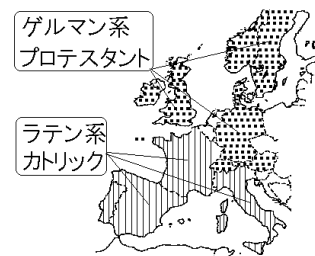
[解説]

ヨーロッパの民族は、ラテン系、ゲルマン系、スラブ系の 3 つに分けることができる。フランス、イタリア、スペイン、ポルトガルなど南ヨーロッパの国にはラテン系が多い。宗教では、キリスト教のカトリックの信者が多い。イギリス、ドイツ、などではゲルマン系が多い。宗教はキリスト教のプロテスタントである。

東ヨーロッパやロシアはスラブ系が多く、宗教はキリスト教の正教会 (ギリシャ正教)が多い。

フランスには、ラテン系の民族のほかに、バスク人などの少数民族もいる。また、北アフリカはかつてフランスの植民地であり、現在でもフランス語を公用語としている国が多い。北アフリカからフランスへの移民も少なくない。

[民族と宗教の区分]



[問題](3 学期)

次の , の国々には、おもに何系の民族が住んでいますか。

イタリア、スペイン イギリス、ドイツ

[解答欄]

--	--

[解答] ラテン系 ゲルマン系

[問題](1 学期中間)

フランスにはアフリカの国々からの移民が多いが。その理由を次から 1 つ選べ。

ア ヨーロッパの中で、群を抜いて工業が発達しているため。

イ かつては、フランスの植民地で、現在でもフランス語が通用する国であるため。

ウ ヨーロッパの中で最も過ごしやすい国であるから。

[解答欄]

[解答]イ

[問題](2 学期中間)

フランスの宗教は国民の約 8 割がキリスト教の()である。

[解答欄]

[解答]カトリック

【】工業

[問題](3 学期)

ヨーロッパの工業について、右の地図を見て各問いに答えなさい。

- (1) 次の ， の文に適する国を地図中の A～F から選び、記号と国名を書け。

18 世紀後半、世界に先がけて手工業による生産から(ア)による大量生産をなしとげ、「世界の工場」とよばれた。この大変革を(イ)という。

19 世紀後半、内陸の(ウ)炭田・ザール炭田を中心に鉄鋼・化学工業が発達した。第二次世界大戦で大部分を破壊されたが、(ウ)地方を中心に復興し、今ではヨーロッパ最大の工業国となった。



- (2) (1)の文中のア～ウに適する語句を書け。
 (3) (1) のウの位置を地図中の a , b , c から選び、記号で書け。
 (4) (1) の工業地帯が発達した理由を下の[]の 2 つの語句を必ず使い、具体的な地名、川の名前などをあげて簡単に説明せよ。
 [石炭 国際河川]
 (5) ヨーロッパ最大の貿易港「ユーロポート」がある国を A～F から選び、記号を書け。また、「ユーロポート」がある都市名も書け。
 (6) ヨーロッパでは、工場や自動車から排出されたガスによる大気汚染が原因で、樹木を枯らす被害をもたらす雨が降る。この雨を何というか。

[解答欄]

(1)		(2)ア
イ	ウ	(3)
(4)		
(5)	(6)	

[解答](1) A, イギリス E, ドイツ (2)ア 機械 イ 産業革命 ウ ルール (3) b (4) ルール炭田の石炭と国際河川であるライン川の水運にめぐまれていたから。 (5) C , ロッテルダム (6) 酸性雨

[解説]

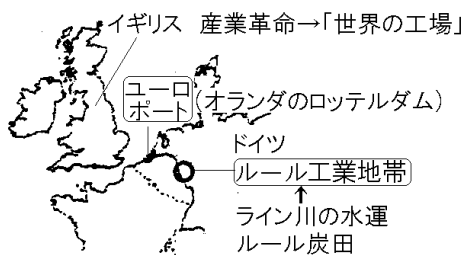
18世紀後半、世界に先がけて産業革命をおこし、「世界の工場」とよばれたのはイギリスである。

現在、ヨーロッパ最大の工業地帯はドイツのルール工業地帯である。ルール工業地帯は、ルール炭田の石炭、フランスのロレーヌ地方

の鉄鉱石、国際河川であるライン川の水運などの条件に恵まれて発展してきた。

ライン川は、アルプス山脈から流れ出て北海にそそぎ、どの国の船も自由に航行できる国際河川である。ライン川の河口の国はオランダで、ロッテルダムの中にあるユーロポートは国際的な貿易港になっている。

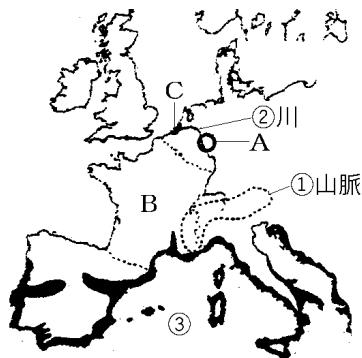
近年、ライン川の水質汚染が問題になっているが、中流域にあるルール工業地帯からの廃棄物が原因になっている。また、工場等から大気中に排出された煤煙は、西の方から吹く偏西風によって運ばれて、東側の地域に酸性雨をふらせる原因になっている。



[問題](1 学期期末)

次の各問いに答えなさい。

- (1) A の地域はヨーロッパ最大の工業地帯である。この工業地帯名を答えなさい。
- (2) B 国は EU 最大の農業国である。国名を答えなさい。
- (3) 臨海部に「ユーロポート」を持つ C の都市を答えなさい。



[解答欄]

(1)	(2)	(3)
-----	-----	-----

[解答](1) ルール工業地帯 (2) フランス (3) ロッテルダム

[問題](2 学期中間)

次の各問いに答えなさい。

- (1) ロッテルダムにある「ヨーロッパの玄関」ともよばれる港を何といいますか。
- (2) ドイツにあるヨーロッパ最大の工業地帯名を書きなさい。
- (3) オランダ・ルクセンブルグ・ベルギーの3か国をあわせて何とよんでいますか。

[解答欄]

(1)	(2)	(3)
-----	-----	-----

[解答](1) ユーロポート (2) ルール工業地帯 (3) ベネルクス三国

[問題](3 学期)

EU について以下の問いに答えなさい。

- (1) EU 加盟国の中の交通のさらなる発達をめざして、1994 年に開通したイギリスとフランスを結ぶ海底トンネルを何というか。
- (2) オランダのロッテルダム西部にある EU の共通の貿易港を何というか。
- (3) (2)は、ヨーロッパの大動脈である何という国際河川の河口にあるか。
- (4) ドイツにある EU 最大の工業地帯を何というか。

[解答欄]

(1)	(2)	(3)
(4)		

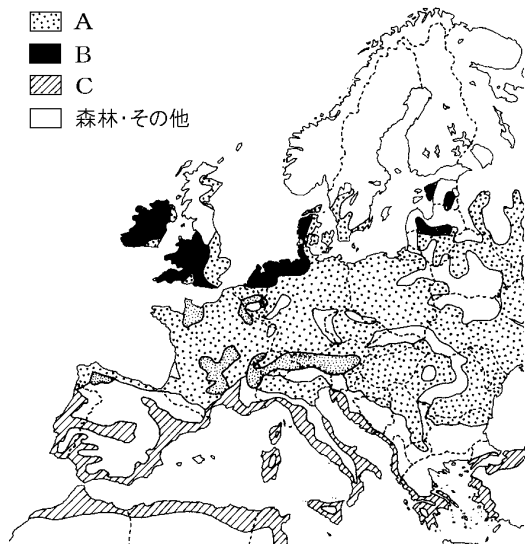
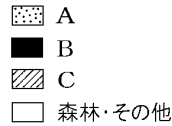
[解答](1) ユーロトンネル (2) ユーロポート (3) ライン川 (4) ルール工業地帯

【】農業

[問題](3 学期)

右の地図を見て、問いに答えなさい。

- (1) 次の ~ の文に適する農業名をそれぞれ書け。また、それぞれの農業が行われている地域を、地図中の A~C から選び、記号で書け。



乳牛を飼い、バターやチーズを生産する農業。

夏の乾燥に強い、オリーブやぶどうなどを栽培する農業。

畑作と牧畜を組み合わせた農業。

- (2) (1) では、小麦と牧草を決まった順序でつくっている。これを何というか。書け。

[解答欄]

(1)		
(2)		

[解答](1) 酪農, B 地中海式農業, C 混合農業, A (2) 輪作

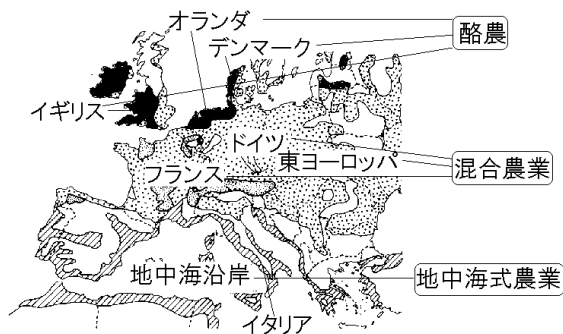
[解説]

地中海沿岸は、地中海性気候で夏の降水量が少ない。このため、夏には乾燥に強いオリーブ、ぶどう、オレンジなどを栽培し、温暖で雨の多い冬には小麦を栽培する地中海式農業が行われている。

ぶどうの生産量はイタリアが世界 1 位で、フランスが 5 位である。

*ぶどうの生産(2008 年) : 1 位 イタリア(11.5%) , 2 位 中国(10.8%) , 3 位 アメリカ(10.0%) , 4 位 スペイン(8.9%) , 5 位 フランス(8.4%)

(統計出典)「世界国勢図会 2010/2011」P229



フランス・ドイツ・東ヨーロッパなどヨーロッパの大部分では混合農業が行われている。混合農業は、小麦・ライ麦などの農作物と、大麦・とうもろこし・てんさいなどの飼料作物を3～7年周期で交代で輪作し、乳牛・肉牛・豚などの家畜を飼育する農業である。輪作を行うのは、同じ作物を連続して栽培すると地力が落ちて収穫が減るためである。冷涼で穀物栽培に適さないデンマーク・オランダ・イギリスなどでは、乳牛を飼い、バターやチーズを生産する酪農がさかんである。

[問題](3 学期)

ヨーロッパ各国の農業について、文中の ~ に該当する適語を語群から選びなさい。
 ヨーロッパの多くの国では、主食である()やじゃがいもの栽培がさかんで、この()と牛や()などの家畜の飼育と、その飼料の栽培を組み合わせた()農業が広く行なわれている。南部では()とオリーブや()などの果樹栽培、いわゆる()式農業が行なわれている。北部では、()の飼育を行ない、()などの乳製品の加工=()が行なわれている地域もある。

[語群]

[地中海 酪農 チーズ 乳牛 豚 羊 遊牧 小麦 ぶどう 混合]

[解答欄]

[解答] 小麦 豚 混合 ぶどう 地中海 乳牛 チーズ 酪農

[問題](1 学期中間)

アルプス山脈以北の地域で広く行われてきた穀物・飼料作物を組み合わせた農業を何というか。

[解答欄]

[解答]混合農業

[問題](2 学期中間)

次の各問いに答えなさい。

- (1) フランスなどで見られる，食料や飼料用の作物の栽培と牧畜を組み合わせた農業を何といいますか。
- (2) オランダの国土の 4 分の 1 をしめる干拓地を何といいますか。
- (3) (2)の干拓地で，かつて排水のために利用されていたものは何ですか。
- (4) スイスで見られる，乳牛を夏には高地の牧場に移動して放牧し，冬になる前に平地におりて畜舎で飼う農業を特に何といいますか。

[解答欄]

(1)	(2)	(3)	(4)
-----	-----	-----	-----

[解答](1) 混合農業 (2) ポルダー (3) 風車 (4) 移牧

[解説]

(2) オランダの国土の 4 分の 1 をしめる干拓地をポルダーという。干拓地では排水が重要で，かつては年中西よりの偏西風が吹くことを利用して風車を使って排水を行ってきたが，19 世紀には動力ポンプにかわった。

(3) スイスやイタリアなどでは，乳牛を夏には高地の牧場に移動して放牧し，冬になる前に平地におりて畜舎で飼う移牧が行われている。

【】EU(ヨーロッパ連合)

[問題](1 学期中間)

次の文と地図をみて、各問いに答えよ。

1958年に(A),旧西ドイツ,イタリア,ベルギー,(B),ルクセンブルグの6か国でEEC(ヨーロッパ経済共同体)が結成され,加盟国間の経済発展をめざした。これにより,貿易や()・労働力の移動が自由となった。1967年には,EECは,EURATOM と ECSC と合併して()となり,結束を強めた。1973年には,()にイギリス,(C),(D)の3か国が加盟。1981年には(E),1986年にはスペインと(F)が加盟し,



加盟国は12か国となった。マーストリヒト条約(欧州連合条約)により,1993年に()が発足。政治・経済・社会にわたり,より強くヨーロッパの統合をめざすこととなった。1995年には,(G),(H),オーストリアが加盟し,2004年にはさらに10ヶ国が加盟して,2011年現在の加盟国は()か国となった。ヨーロッパ単一市場が発足し,単一通貨の名前を()と決定した。2002年から()紙幣と()硬貨が12か国で流通することになった。()が導入されたことで巨大な共通通貨圏ができた。この通貨統合により,()はアメリカの()に対抗する力を持つことになった。

- (1) 地図と文中のA~Hの国名を答えよ。
- (2) 文中 ~ にあてはまる語句・数字を答えよ。
- (3) 文中 の本部がおかれている都市名を答えよ。
- (4) 1994年に開通したイギリスとフランスを結ぶ海底トンネルの名を答えよ。

[解答欄]

(1)A	B	C	D
E	F	G	H
(2)			
		(3)	(4)

[解答](1)A フランス B オランダ C アイルランド D デンマーク E ギリシャ F ポルトガル G スウェーデン H フィンランド (2) 資本 EC EU 27 ユーロ ドル (3) ブリュッセル (4) ユーロトンネル

[解説]

1958年に(A フランス), 旧西ドイツ, イタリア, ベネルクス三国(ベルギー, (B オランダ) ルクセンブルグ)の6か国でEEC(ヨーロッパ経済共同体)が結成され, 加盟国間の経済発展をめざした。これにより, 貿易や資本・労働力の移動が自由となった。

1967年には, EECは, EURATOMとECSCと合併してEC(ヨーロッパ共同体)となり, 結束を強めた。1973年には, ECにイギリス, (C アイルランド), (D デンマーク)の3か国が加盟。1981年には(E ギリシャ), 1986年にはスペインと(F ポルトガル)が加盟し, 加盟国は12か国となった。

マーストリヒト条約(欧州連合条約)により, 1993年にEU(ヨーロッパ連合)(欧州連合)が発足した。政治・経済・社会にわたり, より強くヨーロッパ

の統合をめざすこととなった。本部はベルギーのブリュッセルにおかれた。1994年には, イギリスとフランスを結ぶ鉄道専用の海底トンネルが完成し, ヨーロッパ統合の象徴としてユーロトンネルと名づけられた。

1995年には, (G スウェーデン), (H フィンランド), オーストリアが加盟して, 加盟国は15か国となった。ヨーロッパ単一市場が発足し, 単一通貨の名前をユーロと決定した。2002年からユーロ紙幣とユーロ硬貨が12か国で流通することになった。ユーロが導入されたことで巨大な共通通貨圏ができた。この通貨統合により, ユーロはアメリカのドルに対抗する力を持つことになった。

2011年現在の加盟国数は27ヶ国である。EUのかかえる問題点としては, 国や地域による経済的な格差が残っていることである。

(統計出典)「日本国勢図会 2010/2011」P40・31

- 1958年 EEC(ヨーロッパ経済共同体)
- 1967年 EC(ヨーロッパ共同体)(最初は6カ国)
(人・もの・金の移動が自由に)
- 1993年 EU(ヨーロッパ連合)
(本部はベルギーのブリュッセル)
- 2002年 EUの共通通貨 ユーロ
- 2011年現在の加盟国数:27カ国



[問題](2 学期期末)

次の文を読み、後の問いに答えよ。

第二次世界大戦後、ヨーロッパの多くの国々は戦前より国力が弱体化していたため、さまざまな分野で協力して危機を克服しようとした。そのさきがけとなったのが 1948 年に発足した(a)3 国関税同盟である。その後、1952 年にヨーロッパ石炭鉄鋼共同体 (ECSC)が、1958 年には、ヨーロッパ原子力共同体(EURATOM)とヨーロッパ経済共同体 (A)がそれぞれ設立された。さらに 3 つの組織は 1967 年に(B)としてまとめ、(b)6 か国の構成のもとにその本部をブリュッセルにおいた。(B)は年々拡大していき、1973 年には、(ア)とアイルランド、さらに(イ)(首都はコペンハーゲン)が加盟した。1981 年には(ウ)が、1986 年には(エ)(首都はマドリード)と(オ)(首都はリスボン)が加盟し 12 か国となった。そして、1993 年には、より強い結びつきを求めて(C)に発展し、さらに 1995 年にはオーストリア・フィンランド・(カ)が加盟し、現在 27 の国で構成されている。

- (1) 空欄 A～C にあてはまる語句をアルファベットで答えよ。
- (2) 空欄ア～カにあてはまる国を、次の[]の中から選べ。
[ギリシャ スウェーデン スイス フランス ノルウェー イギリス
西ドイツ スペイン イタリア デンマーク ポルトガル]
- (3) 下線(a)について。この関税同盟を構成した 3 国を総称して何というか。
- (4) 下線(b)について、6 か国とは下線(a)の 3 国と主要 3 か国であるが、その主要 3 国のうち最も面積の大きい国はどこか。国名を答えよ。
- (5) (C)の設立の目的の一つは、加盟国間のおもに 3 つの移動を自由にするにより、域内の経済の発展をはかろうとするところにある。その 3 つの移動とは、もの(商品)・かね(資本)とあと何か。
- (6) 1999 年 1 月に発行された(C)の共通の通貨を何というか。

[解答欄]

(1)A	B	C	(2)ア	イ
ウ	エ		オ	カ
(3)	(4)		(5)	(6)

[解答](1)A EEC B EC C EU (2)ア イギリス イ デンマーク ウ ギリシャ エ
スペイン オ ポルトガル カ スウェーデン (3) ベネルクス三国 (4) フランス (5)
ひと(人) (6) ユーロ

[問題](1 学期期末)

次の各問いに答えよ。

- (1) ヨーロッパの国々は、もう一度、世界の中心的な地位を占めようと、各国が国境をこえて、結びつきを強めている。現在 27 か国が加盟する、この組織を何というか。アルファベット 2 字で書け。
- (2) (1)の組織では、加盟国の間で、自由に使用できる共通のお金をつくり、2002 年 1 月から流通させている。このお金の名(通貨単位)を書け。

[解答欄]

(1)	(2)
-----	-----

[解答](1) EU (2) ユーロ

[問題](3 学期)

EU について以下の問いに答えよ。

- (1) EU は、日本語で何と訳されるか。
- (2) EU の本部は、ベルギーの何という都市にあるか。
- (3) EU が発足したのは、西暦何年か。
- (4) EU の加盟国は、現在何か国か。下より選んで答えよ。
[6 か国 10 か国 27 か国 50 か国]
- (5) EU の前身の EC は、1967 年に何か国で発足したか。
- (6) (5)の国とは、ベルギー・オランダ・ルクセンブルク・西ドイツ・フランスとあと 1 つは何という国か。
- (7) EU 加盟国が使用している共通の通貨(お金)は何というか。

[解答欄]

(1)	(2)	(3)	(4)
(5)	(6)	(7)	

[解答](1) ヨーロッパ連合(欧州連合) (2) ブリュッセル (3) 1993 年 (4) 27 か国 (5) 6 か国 (6) イタリア (7) ユーロ

[問題](3 学期)

次の各問いに答えなさい。

- (1) フランスやドイツなどが 1967 年に結成し、その後、イギリスなどが加盟した共同
体の名前をアルファベットで書け。
- (2) フランスやドイツなどが 1958 年に結成した、(1)の前の段階の共同体的名前をアル
ファベット 3 字で書け。
- (3) (1)の共同体的結成によって可能になったことを「自由」という語句を使って簡単に
書け。
- (4) (1)が結合をさらに進めるために 1993 年に発足させた組織の名前を書け。(日本語で)
- (5) (4)がかかえる問題点を次のア～オから 2 つ選び、記号で書け。
ア 農業保護政策による生産力の低下。
イ 経済発展(国民所得)の地域差。
ウ 農産物の生産過剰。
エ 東ヨーロッパ諸国との対立。
オ 各国の利害対立による貿易の縮小。
- (6) ドーバー海峡の海底に作られた海底トンネルの名を書け。

[解答欄]

(1)	(2)	
(3)		
(4)	(5)	(6)

[解答](1) EC (2) EEC (3) EC 内において、人、物、金の移動が自由になった。(4) ヨ
ーロッパ連合(欧州連合) (5) イ、ウ (6) ユーロトンネル

[問題](1 学期期末)

1999 年 1 月から、EU 加盟国の一部を除いて使われ始めた共通通貨をカタカナで答え
なさい。

[解答欄]

--

[解答]ユーロ

[問題](3 学期)

右のマークはある組織のマークです。その組織の名称を答えなさい。また、現在、その組織にはいくつの国が加盟していますか。



[解答欄]

--	--

[解答] EU 27 各国

[問題](3 学期)

EU で行なっていることを次から 2 つ選び、記号で答えなさい。

- ア 宗教や言語を統一する。
- イ 国境をこえて自由に移動する。
- ウ 域内の他の国の銀行へ預金する。
- エ 軍事同盟を結び、共通の軍隊を持つ。

[解答欄]

--

[解答]イ, ウ

[問題](前期期末)

次のア～オから、EU の加盟国間の協力体制でないものを 1 つ選び、記号を書きなさい。

- ア 他国の銀行への預金が自由にできる。
- イ 仕事の資格が共通で、他国でも働くことができる。
- ウ 他国の大学の授業を受けても卒業資格がとれる。
- エ 製品の規格が同じなので、他国でもそのまま使える。
- オ 国境の通過は自由だが、貿易にかかる税(関税)がある。

[解答欄]

--

[解答]オ

[問題](3 学期)

EU の加盟国間で原則としてできないことを次から 1 つ選び、記号を答えなさい。

- ア 他国で働くこと。
- イ 国境を自由に通過すること。
- ウ 他国からの安い輸入品に関税をかけること。
- エ 他国に工場を建てること。

[解答欄]

[解答]ウ

[問題](1 学期中間)

次の各問いに答えよ。

- (1) 下の[]の中で人口が最も多いのはどれか。
- (2) 下の[]の中で国内総生産が最も多いのはどれか。

[日本 アメリカ合衆国 EU 諸国]

[解答欄]

(1)	(2)
-----	-----

[解答](1) EU 諸国 (2) EU 諸国

[解説]

EU 全体の人口は 4.95 億人(2008 年), GDP 合計は約 18.3 兆ドルである(2008 年)。

アメリカの人口は約 3.15 億人(2009 年), GDP は 14.1 兆ドル(2008 年)で,

日本の人口は 1.28 億人(2009 年), GDP は 4.91 兆ドル(2008 年)である。

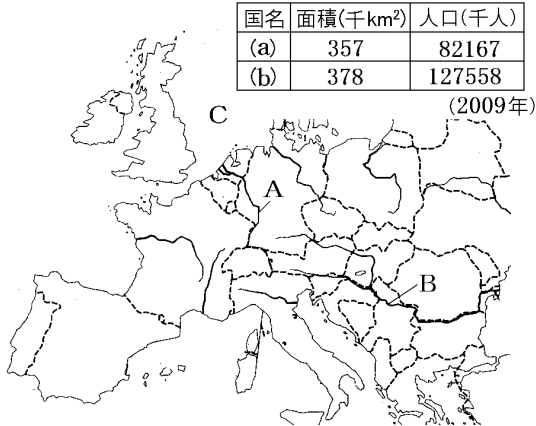
(統計出典)「世界国勢図会 2010/2011」P17・115

【】ヨーロッパ各国

【】ドイツ

[問題](3 学期)

次の地図をみて、各問いに答えなさい。



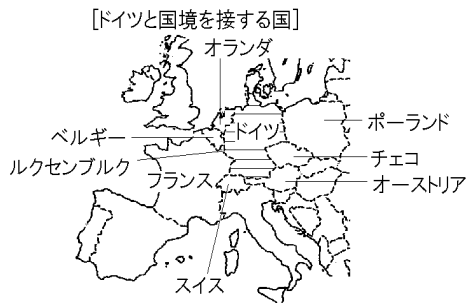
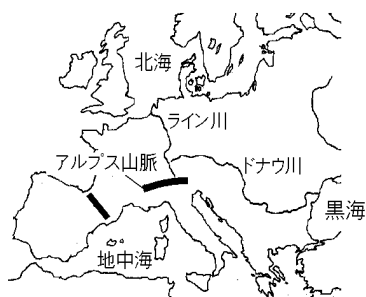
- (1) ドイツを流れる地図中の A と B の河川名と C の海名をそれぞれ書きなさい。
- (2) ドイツは、多くの国と国境を接しています。次の国のうち、ドイツと国境を接していない国を 2 つ書きなさい。
[フランス オランダ スイス イギリス スペイン ベルギー]
- (3) 地図中の表は日本とドイツの面積と人口をしめしたものです。ドイツは(a), (b)のどちらですか。

[解答欄]

(1)A	B	C	(2)
(3)			

[解答](1)A ライン川 B ドナウ川 C 北海 (2) イギリス, スペイン (3) (a)

[解説]



ドイツは、第二次世界大戦後、資本主義陣営の西ドイツと社会主義陣営の東ドイツに分断されたが、1990年に、西ドイツが東ドイツを吸収する形で統一された。

ドイツの面積は約 36 万 km² で日本(約 38 万 km²)よりわずかに小さい。人口は 8217 万人(2009 年)で、日本(1 億 2756 万人)より少ない。

[問題](3 学期)

次の問いに答えなさい。

- (1) ドイツに隣接する、地図中の ~ の国名を次から選んで書きなさい。

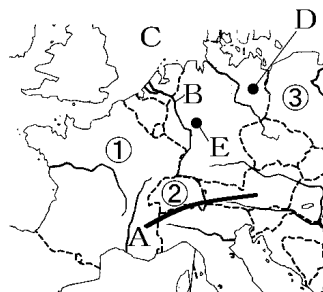
[フランス ポーランド チェコ スイス
オーストリア イタリア]

- (2) A の山脈、B の河川、C の海の名を、次から選んで書きなさい。

[ドナウ川 ライン川 黒海 北海 地中海
バルト海 ピレネー山脈 アルプス山脈]

- (3) 日本よりやや狭いドイツの国土面積を、次から選んで書きなさい。

[60 万 km² 55 万 km² 45 万 km² 36 万 km²]



[解答欄]

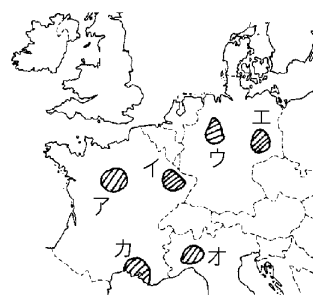
(1)			(2)A
B	C	(3)	

[解答](1) フランス スイス ポーランド (2)A アルプス山脈 B ライン川
C 北海 (3) 36 万 km²

[問題](2 学期期末)

次の問いに答えよ。

- (1) ドイツはヨーロッパ最大の工業国である。その中心をなす工業地帯は何か。
(2) (1)の工業地帯の位置を右図のア~カから選べ。
(3) (1)の地域に工業が発達した立地条件を 3 つ答えよ。



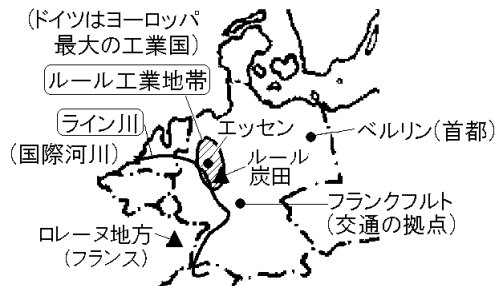
[解答欄]

(1)	(2)
(3)	

[解答](1) ルール工業地帯 (2) ウ (3) ライン川の水運, ルール炭田の石炭, フランスのロレーヌ地方の鉄鉱石

[解説]

ドイツはヨーロッパ最大の工業国で, その中心は ルール工業地帯 (位置: 51.4204, 6.7362) である。ルール工業地帯は, ルール炭田の石炭, フランスのロレーヌ地方の鉄鉱石, 国際河川であるライン川の水運などの条件に恵まれて発展してきた。ここにはエッセンをはじめとする大都市に大企業の工場や事務所が集中している。



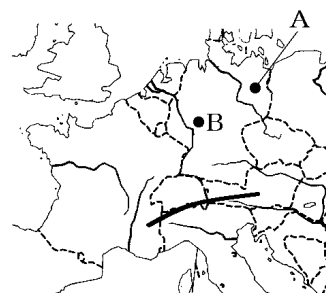
ドイツはヨーロッパの中央部にあたり, 各国と結ぶ国際列車(ユーロシティ)が運行されている。とくに, ドイツ中部にある フランクフルト はヨーロッパの交通の拠点で, 鉄道や空港が整備されている。

[問題](3 学期)

次の各問いに答えなさい。

(1) 次の文を参考に, 地図中の A, B の都市名を書きなさい。

- ・ A はドイツの首都である。第二次世界大戦後, 市内を東西に分ける壁があった。
- ・ B はヨーロッパの交通の拠点で, 鉄道や空港が整備されている。



(2) ドイツとヨーロッパ各地を結ぶ国際列車の名を書きなさい。

[解答欄]

(1)A	B	(2)
------	---	-----

[解答](1)A ベルリン B フランクフルト (2) ユーロシティ

[問題](増補 10)(1 学期期末)

ドイツの輸出相手国第 1 位の国はどこか。次から選びなさい。

[フランス 日本 アメリカ ブラジル]

[解答欄]

[解答]フランス

(統計出典)「日本国勢図会 2010/2011」P349

[問題](3 学期)

次の各問いに答えなさい。

- (1) ドイツの中を流れ、北海にそそいでいる国際河川を答えなさい。
- (2) (1)の川の汚染が特にひどいのは、中流にある工業地帯が原因になっている。その工業地帯の名称を答えなさい。

[解答欄]

(1)	(2)
-----	-----





[解答](1) ライン川 (2) ルール工業地帯

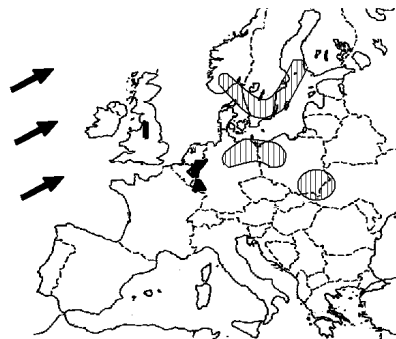
[解説]

ルール工業地帯の発展などにより、ライン川の水質汚濁が大きな問題になったが、ドイツをはじめとする流域の国々が協力して^{あすい}汚水処理施設を整備したり、工場排水などの規制をおこなったりした結果、ライン川の水質は少しずつ改善されている。

[問題](1 学期中間)

右の地図をみて、各問いに答えなさい。

- (1) 地図中に  で示した風の名称を書け。
- (2) 地図中の  はヨーロッパの代表的な工業地帯を、 は酸性雨の酸性度が特に高い地域を示している。工場の煤煙などにより汚染された大気が酸性雨の原因といわれるが、代表的な工業地帯から離れた  に強い酸性雨が降る理由を、(1)を参考にして簡潔に書け。



[解答欄]

(1)	(2)
-----	-----

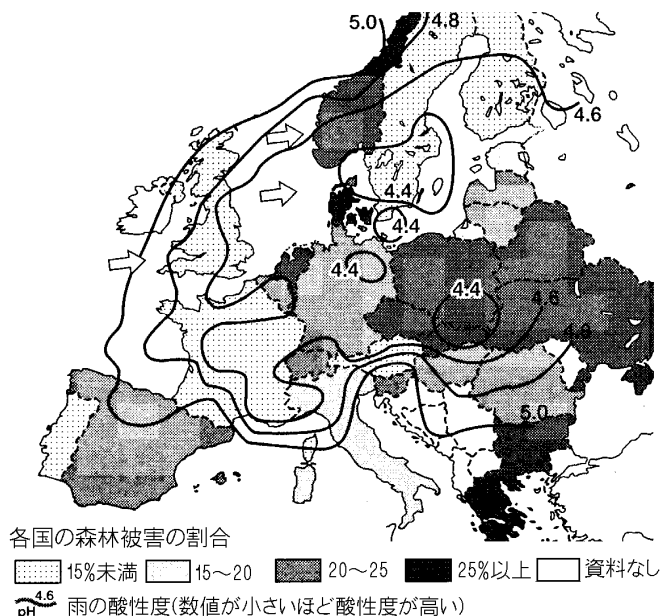
[解答](1) 偏西風 (2) 煤煙などが偏西風によって東へ流されるから。

[解説]

車の排ガスや工場の排煙による大気汚染が原因でおこる酸性雨によってシュバルツバルト(黒森)などの森林破壊が進むという問題が生じている。偏西風は西から東に吹くため、風下に当たるドイツの森林の被害はとくに深刻である。

[問題](3 学期)

ドイツの環境問題への取り組みについて、あとの問いに答えなさい。



(1) 上の図を見て、ロンドン、ローマ、ベルリンの3都市を酸性雨の濃度の高い順に並べなさい。

(2) この酸性雨の原因となる汚染物質はどの方角からどの方角へ運ばれるか、4方位で答えなさい。

[解答欄]

(1)	(2)
-----	-----

[解答](1) ベルリン、ロンドン、ローマ (2) 西から東

[問題](増補 10)(1 学期期末)

次の各問いに答えなさい。

- (1) ドイツでは、企業・家庭・自治体が協力して、ごみを仕分けして回収し、その一部を再生するしくみがつくられている。このしくみを何といいますか。
- (2) ドイツの都市で見られるパークアンドライド方式について述べた次の文中の()にあてはまる語句を、下の[]から1つずつ選びなさい。

パークアンドライド方式は、()の利用をなるべく減らすため、公共交通機関を整備して、()から()やバスへの乗換えを便利にしたしくみで、排ガスを減らし、()や交通渋滞をやわらげる効果がある。

[大気汚染 水質汚濁 電車 乗用車]

[解答欄]

(1)	(2)		
-----	-----	--	--

[解答](1) リサイクル (2) 乗用車 電車 大気汚染

[解説]

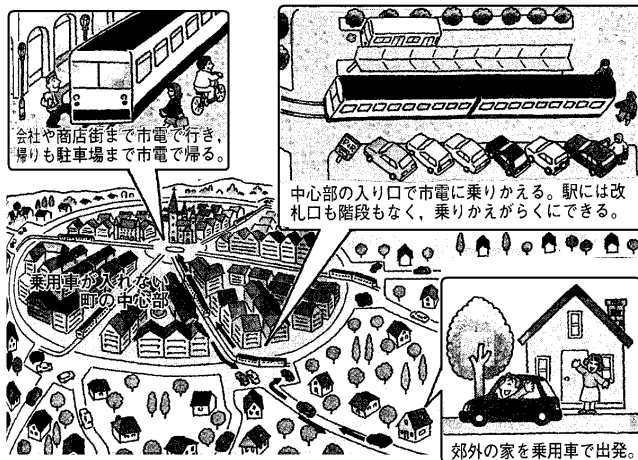
ドイツは、第二次世界大戦後の経済発展によって経済大国となったが、一方で、ライン川などの水質汚濁や大気汚染による酸性雨の問題などの環境問題に直面した。

[ドイツの環境対策]

- ・リサイクル
- ・パークアンドライド方式

このような環境問題に対し、リサイクルのしくみをつくるなど資源やエネルギーを節約する努力をおこなっている。

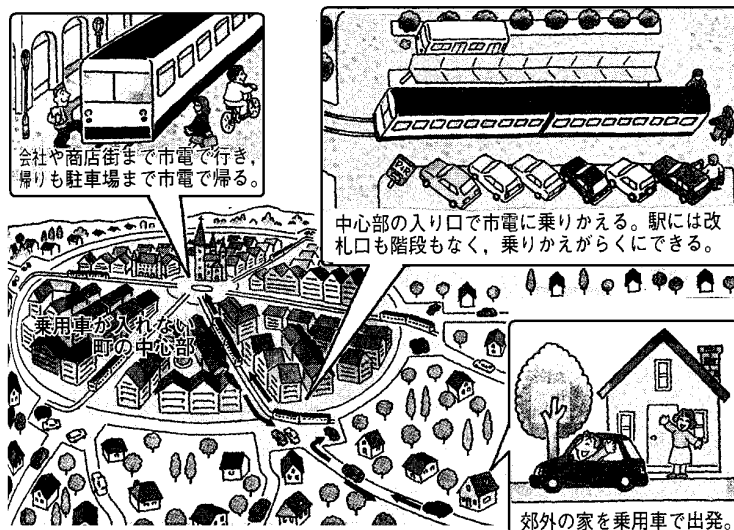
また、公共交通機関を整備して自動車の利用をなるべく減らす努力を行っている。たとえば、フライブルクという町では、市街地の中心部への車の乗り入れを禁止するパーク



アンドライド方式をとっている。郊外の家を自家用車で出発し、中心部の入り口で車を駐車して、電車に乗り換えて、中心部に移動する。これは、排ガスを減らし、大気汚染や交通渋滞を緩和するのに役立つている。

[問題](前期期末)

ドイツは世界に先がけて環境問題への対策がとられた国であるが、次の資料のパークアンドライドのしくみには、どのような効果が期待できるのか具体的に説明しなさい。



[解答欄]

[解答]排ガスを減らし、大気汚染や交通渋滞をやわらげる効果。

[問題](増補 10)(1 学期期末)

次の各問いに答えなさい。

- (1) ドイツの古い町なみの特色は町の中心に()と広場があることである。()にあてはまる語句を書きなさい。
- (2) 古い町なみにある広場をとりまく建物は、木組みや何で作られている建物が多いか。

[解答欄]

(1)	(2)
-----	-----

[解答](1) 教会 (2) 石

[解説]

ドイツには、昔ながらの町なみが各地に残っている。町の中心には教会と広場がある。キリスト教は大きく分けてカトリック(旧教)、プロテスタント(新教)、正教会があるが、ドイツやイギリスはプロテスタントの信者が多い。フランス、イタリア、スペイン、ポルトガルなど南ヨーロッパの国ではカトリックの信者が多い。

[問題](3 学期)

次の各問いに答えなさい。

- (1) ドイツなど，ヨーロッパの多くの人々が信仰している宗教は何ですか。
- (2) (1)について，ドイツで最も多い宗派は何ですか。

[解答欄]

(1)	(2)
-----	-----

[解答](1) キリスト教 (2) プロテスタント

[問題](増補 10)(1 学期期末)

ドイツの文化について，次の()にあてはまる人物名を，下の[]から 1 つずつ選びなさい。

- ・()やバッハの音楽
- ・()の童話

[ベートーベン ショパン アンデルセン グリム]

[解答欄]

--	--

[解答] ベートーベン グリム

【 】フランス

[問題](2 学期中間)

フランスは高緯度のわりに温暖で、北部は (地中海性 / 西岸海洋性) 気候、南部は (地中海性 / 西岸海洋性) 気候になっている。

- (1) , の()から適切な語句を選びなさい。
 (2) 下線部について、このような気候になるのは、海流と風の影響があるからである。
 この気候をつくっている 海流と 風の名称をそれぞれ答えなさい。

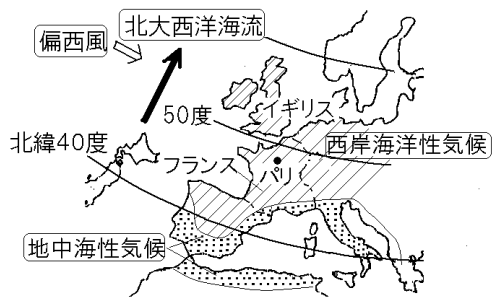
[解答欄]

(1)		(2)	
-----	--	-----	--

[解答](1) 西岸海洋性 地中海性 (2) 北大西洋海流 偏西風

[解説]

秋田県の大潟村の上を通る北緯 40 度の緯線は、ヨーロッパでは地中海の上を通っている。右図からわかるように、フランス南部は北海道北部と同緯度であり、首都パリは北海道最北端より高緯度にある。ヨーロッパは緯度が高い割には、温暖であるが、それは海流と風が原因になっている。大西洋



を南から北に流れる暖流の北大西洋海流の上を、1 年中西から吹いてくる偏西風が通っており、海流に暖められた空気を運んでくるので、高緯度にもかかわらず暖かい。このような気候を西岸海洋性気候という。

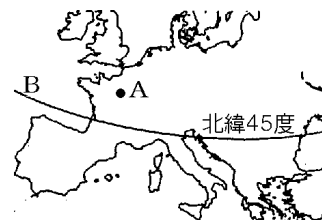
フランス南部の地中海沿岸の地域は地中海性気候である。夏の降水量が極端に少ないのが特徴で、夏の乾燥に耐えられるオリーブ、ぶどうなどの栽培がさかんである。

[問題](2 学期期末)

次の各問いに答えよ。

- (1) A はフランスの首都である。この都市名を書け。
 (2) B は、北緯 45 度の緯線である。この緯線は日本のどのあたりを通っているか。次から 1 つ選べ。

[北海道地方 東北地方 関東地方 九州地方]



[解答欄]

(1)	(2)
-----	-----

[解答](1) パリ (2) 北海道地方

[問題](2 学期中間)

次の文の ~ に適語を入れなさい。

フランスは温暖で雨が多く、農産物の生産が多い。穀物()率が 164%で、ヨーロッパ最大の農業国であり、農産物の (輸出/輸入)国である。中部から北部にかけては家畜飼育と作物栽培が結合した()農業が行われている。また、地中海沿岸では、乾燥に強いオリーブや()の栽培がさかんで、()は世界第 5 位の生産をほこる。

[解答欄]

--	--	--	--

[解答] 自給 輸出 混合 ぶどう

[解説]

フランスは国土の約 60%が農地であり、穀物自給率が 164%(2007 年)で、ヨーロッパ最大の農業国であり、小麦などの農産物の輸出国である。小麦はパリ周辺などで大規模に栽培されている。中部から北部にかけては家畜飼育と作物栽培が結合した混合農業が行われている。中部や西部ではぶどうが栽培され、地中海沿岸ではオリーブやぶどうが栽培されている。

[フランスの農業]

- ・ヨーロッパ最大の農業国
- ・穀物自給率164%、小麦の輸出国
- ・混合農業(北部と中部)
- 地中海式農業(ぶどうは世界5位)

ぶどうの主要な生産国 6771万t(2008年)

イタリア 11.5%	中国 10.8	アメリカ 10.0	スペイン 8.9	フランス 8.4	その他
---------------	------------	--------------	-------------	-------------	-----

(統計出典)「世界国勢図会 2010/2011」P217・P229

[問題](2 学期中間)

次のグラフは、ある農産物の世界における生産高を示している。その農産物とは何か。次の[]から選べ。

[米 小麦 ぶどう とうもろこし]

イタリア 11.5%	中国 10.8	アメリカ 10.0	スペイン 8.9	フランス 8.4	その他
---------------	------------	--------------	-------------	-------------	-----

6771万t(2008年)

[解答欄]

--

[解答]ぶどう

[問題](2 学期期末)

フランスで行われている穀物と飼料作物を栽培し、家畜を飼育する農業を何といひますか。

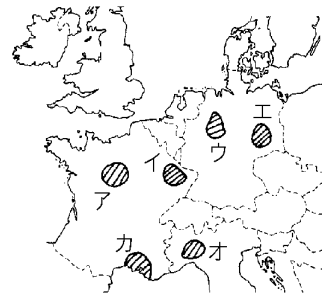
[解答欄]

[解答]混合農業

[問題](2 学期期末)

フランスは、()地方で鉄鉱石を産出するが、資源の輸入に便利な南部の()では石油化学工業が発達し、中部の()では伝統的な絹織物工業がみられる。国土の約 60%が農地であり、西ヨーロッパ最大の農業国である。

- (1) 文中の ~ に適語を入れよ。
- (2) 下線の地域は、図中のどこか、記号で答えよ。



[解答欄]

(1)			(2)
-----	--	--	-----

[解答](1) ロレーヌ マルセイユ リヨン (2) イ

[解説]

ロレーヌ地方で鉄鉱石を産出し、ドイツなどに輸出している。資源の輸入に便利な南部のマルセイユでは石油化学工業が発達し、中部のリヨンでは伝統的な絹織物工業がみられる。EU に加盟している国々との貿易が多く、最大の貿易相手国はドイツである。交通ではイギリス、フランス、ベルギーを結ぶユーロスターという鉄道が敷かれている。イギリスへはユーロトンネルを歩いていく。工業での結びつきも強く、EU の加盟国の技術を結集し、ロケットや航空機が国際分業によってつくられている。



フランスの最大の貿易相手国はドイツ

[問題](2 学期期末)

地図中の X の海底トンネルについて、次の問いに答えよ。

- (1) このトンネルの名を答えよ。
- (2) このトンネルはフランスとどこの国をむすんでいるか。



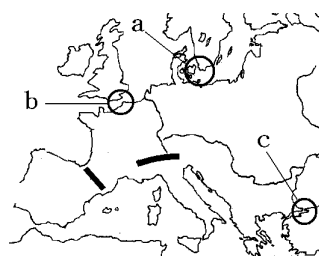
[解答欄]

(1)	(2)
-----	-----

[解答](1) ユーロトンネル (2) イギリス

[問題](1 学期中間)

図中 a~c の中から、1994 年に開通したユーロトンネルのある海峡が位置しているところを 1 つ選べ。



[解答欄]

[解答]b

[問題](2 学期中間)

次の文の　　，　　に適語を入れなさい。

イギリス、フランス、ベルギーを結ぶ(　　)という鉄道が敷かれている。イギリスへは(　　)トンネルを通過していく。

[解答欄]

--	--

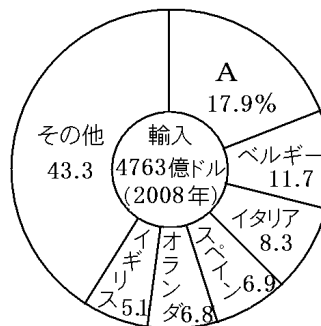
[解答] ユーロスター　　ユーロ

[問題](2 学期中間)

右のグラフは 2008 年のフランスの貿易相手国である。輸入相手 1 番の A 国が、輸出相手でも 1 番である。貿易上最もフランスとかかわる A 国とはどこか。次より 1 つ選べ。

[ドイツ 日本 ノルウェー ロシア]

[解答欄]



[解答]ドイツ

(統計出典)「日本国勢図会 2010/2011」P350

[問題](2 学期中間)

フランスには、()門やノートルダム寺院などの世界遺産、「モナ・リザ」「ミロのヴィーナス」などの名作が収蔵されている()美術館、パリコレクション、高級ブランドなど、世界に誇る文化や文化遺産が多く見られる。また、我々が長さの単位として使っている()法もこの国で生まれた。このような世界的な文化遺産や魅力的な文化が人々を引きつける。年間にフランスを訪れる観光客は約 7930 万人(2008 年)で世界()位である。

[解答欄]

--	--	--	--

[解答] 凱旋 ルーブル メートル 1

[解説]

首都のパリ(凱旋門^{凱旋門}の位置：48.8736,2.2950)は芸術の都としても知られ、世界中から多くの観光客が訪れる。(2008 年の観光客数は 7930 万人で世界一である)(「世界国勢図会 2010/2011」P466)

凱旋門やノートルダム寺院などの世界遺産、「モナ・リザ」「ミロのヴィーナス」などの名作が収蔵されているルーブル美術館、パリコレクション、高級ブランドなど、世界に誇る文化や文化遺産が多く見られる。また、我々が長さの単位として使っているメートル法もこの国で生まれた。また、フランスは食文化が発達し、フランス料理は世界中に広まっている。

[問題](2 学期中間)

日本で使われている「フランス語」(食べ物などに多い)を 1 つ上げなさい。

[解答欄]

--

[解答]スープ(デザート)

[問題](2 学期中間)

次の文のうち，フランスについて正しく書いてあるものを記号で 1 つ選べ。

ア フランスの面積は日本よりせまく，人口も日本の 4 分の 1 である。

イ フランスはヨーロッパ最大の農業国で，小麦やぶどうの生産量が多い。

ウ フランスは観光の名所が多いが，観光客は少ない。

エ フランスでは，働く場所を求めてやってくる外国人労働者が極端に少ない。

[解答欄]

[解答]イ

【 】イギリス

[問題](増補 10)(3 学期)

次の各問いに答えなさい。

- (1) 地図中の ①～④ の中で、スコットランドとイングランドにあてはまるものを数字で選び、答えなさい。
- (2) 地図中のAはイギリスの首都である。都市名を答えなさい。
- (3) カナダ、オーストラリア、ニュージーランド、インドなどの国は、イギリスと「連邦」というつながりをつくっている。これをカタカナで何といいますか。



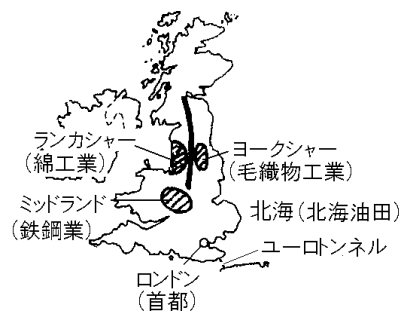
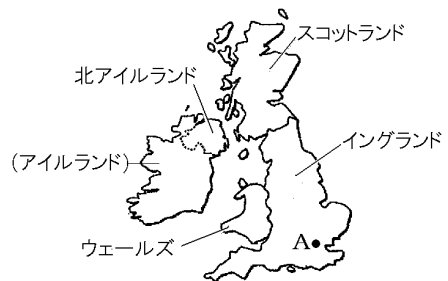
[解答欄]

(1)スコットランド:	イングランド:	(2)
(3)		

[解答](1)スコットランド: イングランド: (2) ロンドン (3) コモンウェルス

[解説]

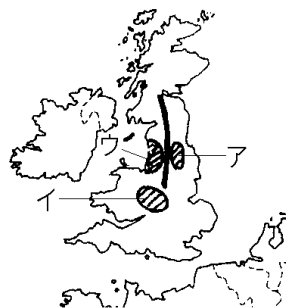
イギリスは、イングランド、スコットランド、ウェールズ、北アイルランドの4つの地域からなる連合王国(United Kingdom)(U.K.)である。(北アイルランドはアイルランドがイギリスから独立したとき、イギリスに残された地域) 首都はロンドン(位置: 51.5010,-0.1261)で、人口は6157万人(2009年)である。18世紀の半ば以降に産業革命をなしとげ、マンチェスター(位置: 53.4795,-2.2553)を中心とするランカシャー地方の綿工業、リーズ(位置: 53.7961,-1.5401)を中心とするヨークシャー地方の毛織物工業、バーミンガム(位置: 52.4801,-1.9025)を中心とするミッドランド地方の鉄鋼業などの工業都市がうまれた。しかし、近年北海油田の開発や輸入原料によって北東臨海地域や南ウェールズにその中心が移っている。農業の近代化が早くからすすめられ、現在、農業人口は約2%と少ないが、大規模な経営を中心とした農業を行っている。フランスとはユーロトンネルで結ばれている。



[問題](2 学期期末)

次の文を読み、後の問いに答えよ。

イギリスは 18 世紀の半ば以降に()をなしとげ、
 ()を中心とする A ランカシャー地方の()工業、
 ()を中心とする B ヨークシャー地方の()工業、
 ()を中心とする C ミッドランド地方の鉄鋼業などの工業都市が生まれた。しかし、近年()油田の開発や輸入原料によって北東臨海地域や南ウェールズにその中心が移っている。農業の近代化が早くからすすめられ、現在、農業人口は約 2%と少ないが、大規模な経営を中心とした農業を行っている。



(1) 文中の ~ に適語を入れよ。

(2) 下線 A~C の地域は、図中のどこか、記号で答えよ。

[解答欄]

(1)			
			(2)A
B	C		

[解答] 産業革命 マンチェスター 綿 リーズ 毛織物 パーミン
 ガム 北海 (2)A ウ B ア C イ

【 】イタリア

[問題](1 学期中間)

右の地図をみて各問いに答えよ。

- (1) ローマ市内にある面積が世界最小である国の名を答えよ。
- (2) イタリア、スイス、オーストリアにまたがる高くけわしい山脈の名を答えよ。
- (3) 地図中 A～C の中で、ゴンドラとよばれる小舟がゆきかう水路が多い都市の位置を記号で選び、都市名も答えよ。
- (4) 地図中 D の島の名を答えよ。
- (5) イタリア北部の代表的な工業都市をすべて次の中から選べ。
[トリノ ダラス ミラノ トロント ジェノバ]
- (6) イタリアが生産量世界第 1 位(2007 年)である農産物を次の中から選べ。
[米 オレンジ 小麦 ぶどう]



[解答欄]


(1)	(2)	(3)	
(4)	(5)		(6)

[解答](1) バチカン市国 (2) アルプス山脈 (3) B ベネチア(ベニス) (4) シチリア島 (5) トリノ, ミラノ, ジェノバ (6) ぶどう

[解説]



イタリアの人口は 5987 万人(2009 年)で、首都はローマ(位置：41.8905,12.4908)である。イタリアの歴史は古く、紀元前後のローマ帝国にさかのぼる。そこで使われていたラテン語が、ヨーロッパの多くの言語のもとになっている。また、コロッセオ(右図)など世界文化遺産の登録地が、世界で一番多い国でもある。



ローマの中にローマ法皇のいる世界最小(面積は東京ドームの 10 倍程度)のバチカン市国(位置：41.9021, 12.4539)がある。イタリアの中にはサンマリノ共和国という小さな独立国もある。

イタリア北部にはアルプス山脈があり、その豊富な水資源を使った水力発電がさかんである。この国の工業は、ミラノ・トリノ・ジェノバを中心とする北部三角地帯に集中しており、南部の工業化は遅れている。アドリア海に面した北部のベネチア(ベニス)(位置：45.4364, 12.3232)は、ゴンドラとよばれる小舟がゆきかう水路が多い観光都市である。農業については、北部では混合農業(農作物の栽培と家畜の飼育を有機的に結合させた農業)が行われている。北部を東西方向に流れるポー川流域は穀倉地帯となっており、小麦のほか、豊かな水を使って稲作が行われている。南部は地中海式農業が中心で、ぶどうやオリーブを栽培している。ぶ

どうを使ったワインづくりもさかんである。大土地所有制も残り、外国への出稼ぎも多い。

ぶどうの主要な生産国 6771万t(2008年)

イタリア	中国	アメリカ	スペイン	フランス	その他
11.5%	10.8	10.0	8.9	8.4	

(統計出典)「世界国勢図会 2010/2011」P229

[問題](1 学期中間)

次の各問いに答えなさい。

(1) 次の ・ の地域で、栽培がさかんな農産物の組み合わせを次のア～エから 1 つずつ選びなさい。

- | | |
|-----------|-------------|
| ポー川流域の平野 | イタリア南部 |
| ア 小麦・オリーブ | イ ジャがいも・大豆 |
| ウ パン用小麦・米 | エ 綿花・とうもろこし |

(2) ポー川流域の平野で行われている、いくつもの作物を順番に作付する方法を何といいますか。

(3) イタリア各地で栽培され、ワインの原料となる作物は何ですか。

(4) イタリアの工業は、北部・南部のどちらがさかんですか。

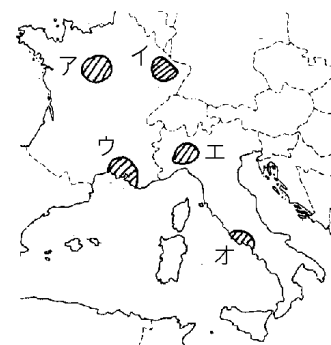
[解答欄]

(1)		(2)	(3)
(4)			

[解答](1) ウ ア (2) 輪作 (3) ぶどう (4) 北部

[問題](2 学期期末)

この国の工業は、()・トリノ・ジェノバを中心とする A 北部三角地帯に集中しており、南部の工業化はおくれている。また、北部では B 混合農業が行われているが、南部は C 地中海式農業が中心で、大土地所有制も残り、外国への出稼ぎも多い。



- (1) 文中の()に適語を入れよ。
- (2) 下線 A の地域は、右図のア～オのどこか。
- (3) 下線 C について、おもな果樹作物を 2 つ答えよ。
- (4) 下線 B の混合農業を簡単に説明せよ。

[解答欄]

(1)	(2)	(3)
(4)		

[解答](1) ミラノ (2) エ (3) ぶどう, オリーブ (4) 農作物の栽培と家畜の飼育を有機的に結合させた農業。

[問題](2 学期中間)

イタリアに関して各問いに答えなさい。

- (1) 次の文を読んで、 ~ に適語を書きなさい。

イタリアの歴史は古く、紀元前にまでさかのぼります。やがて、()と呼ばれる巨大な国となり、そこで使われていた()語が、ヨーロッパの多くの言語のもとになっています。また、()の登録地が、世界で一番多い国でもあります。

- (2) 右の資料は、イタリアにある古代の遺跡です。何と呼ばれていますか。



- (3) イタリアの中になら、独立している国を2つあげなさい。
- (4) ゴンドラとよばれる小舟が行き交う水路が発達しているイタリアの観光都市名を書きなさい。
- (5) ふもとにポンペイ遺跡があるナポリの火山名を書きなさい。

[解答欄]

(1)			(2)
(3)		(4)	(5)

[解答](1) ローマ帝国 ラテン 世界文化遺産 (2) コロッセオ (3) パチカン市国, サンマリノ共和国 (4) ベネチア(ベニス) (5) ベスビオス火山

【 】 オランダ

[問題](増補 10)(3 学期)

オランダについて、右の地図を見て次の問いに答えなさい。

- (1) A のライン川のように外国の船舶が自由に航行できる河川を何というか。
- (2) オランダの浅い海を干してつくられた干拓地のことを、カタカナで何というか。
- (3) ライン川の河口のロッテルダムにあるヨーロッパの海の玄関の役割を果たす港を何というか。



[解答欄]

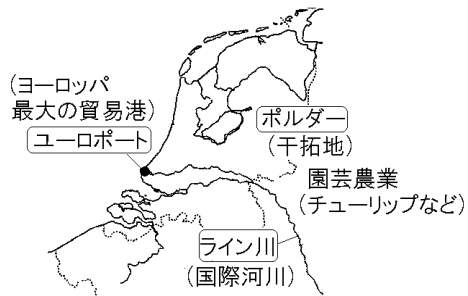
(1)	(2)	(3)
-----	-----	-----

[解答](1) 国際河川 (2) ポルダー (3) ユーロポート

[解説]

オランダの首都はアムステルダム(位置: 52.3733, 4.8929)で、人口は 1659 万人(2009 年)

である。国土のおよそ 4 分の 1 はポルダーとよばれる干拓地で、おもに酪農や園芸農業が行われている。干拓地では排水が重要で、かつては年中西よりの偏西風が吹くことを利用して風車を使って排水を行ってきたが、19 世紀には動力ポンプに変わった。



ロッテルダム近郊のライン川河口付近には

ユーロポート(位置: 51.9572, 4.1082)とよばれるヨーロッパ最大の貿易港が建設され、大規模な石油化学工業地帯がうまれた。

[問題](1 学期期末)

オランダについて、次の問いに答えよ。

- (1) 海水をくみ上げてつくられた干拓地を何というか。
- (2) チューリップに代表される花きの栽培を行う農業を何というか。
- (3) オランダにあるヨーロッパの中心的な役割を果たす港を何というか。
- (4) (3)の港は何という川の河口付近にあるか。

[解答欄]

(1)	(2)	(3)	(4)
-----	-----	-----	-----

[解答](1) ポルダー (2) 園芸農業 (3) ユーロポート (4) ライン川

[問題](2 学期期末)

次の文の , に適語を入れなさい。

オランダの国土のおよそ 4 分の 1 は()とよばれる干拓地で、おもに酪農や園芸農業が行われている。ロッテルダム近郊には()とよばれるヨーロッパ最大の貿易港が建設され、大規模な石油化学工業地帯がうまれた。

[解答欄]

--	--

[解答] ポルダー ユーロポート

[問題](2 学期期末)

ベネルクス三国を構成しているのは、ベルギー、ルクセンブルクともう一国はどこか。

[解答欄]

--

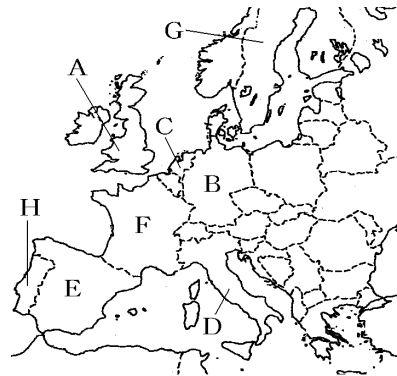
[解答]オランダ

【】各国の特徴

[問題](1 学期期末)

(1)～(4)の説明にあてはまる国を、それぞれ、右の地図から記号で選び、国名も答えなさい。

- (1) 世界に先がけて産業革命を成し遂げ、「世界の工場」と呼ばれた国。
- (2) 自動車の生産で有名なヨーロッパ最大の工業国。
- (3) 混合農業がさかんなヨーロッパ最大の農業国。
- (4) 手厚い社会福祉・社会保障で知られる福祉先進国。



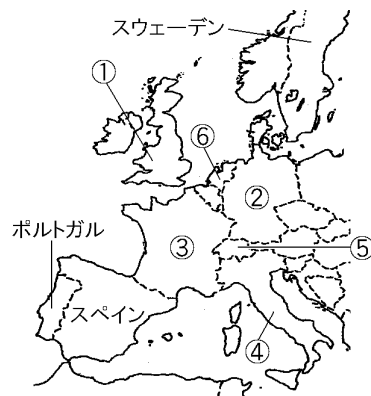
[解答欄]

(1)	(2)	(3)
(4)		

[解答](1) A, イギリス (2) B, ドイツ (3) F, フランス (4) G, スウェーデン

[解説]

- イギリス(ロンドン)：産業革命, 「世界の工場」
- ドイツ(ベルリン)：ヨーロッパ最大の工業国
- フランス(パリ)：ヨーロッパ最大の農業国
- イタリア(ローマ)：北部は工業, 南部は農業
- スイス(ベルン)：永世中立国, 移牧, 時計
- オランダ(アムステルダム)：ポルダー, 酪農や園芸農業



[問題](2 学期期末)

次の文を読み、後の問いに答えよ。

- この国は 18 世紀の半ば以降に産業革命をなしとげた。
- この国はヨーロッパ最大の工業国で、その中心はルール工業地帯である。
- この国は西ヨーロッパ最大の農業国である。
- この国の工業は、ミラノ・トリノ・ジェノバを中心とする北部三角地帯に集中しており、南部の工業化は遅れている。
- この国の国土のおよそ 4 分の 1 はポルダーとよばれる干拓地で、おもに酪農や園芸農業が行われている。

この国は酪農がさかんで、夏は山中の牧場、冬はふもとの畜舎で飼育するという牧畜形態がみられる。古くから時計などの精密機械工業もさかんである。

(1) ~ の国名を答え、首都を次から選べ。

[ローマ ベルン スtockホルム ロンドン アムステルダム ベルリン
パリ マドリード コペンハーゲン]

(2) ~ の国のうち、ヨーロッパ連合に加盟していないのはどれか。番号で答えよ。

[解答欄]

(1)		
(2)		

[解答](1) イギリス, ロンドン ドイツ, ベルリン フランス, パリ イタリア, ローマ オランダ, アムステルダム スイス, ベルン (2)

[問題](1 学期期末)

次のヨーロッパの地図を見て、各問いに答えなさい。

- (1) 地図中 Y の国の首都の中には、世界一小さな国が存在する。この世界一小さい国の名を書け。
- (2) 地図中 a, b, c の国々は、かつてアメリカ大陸を植民地として支配してきた歴史がある。a の国が支配してきた地域は、その民族名から、アングロ・アメリカとよばれているが、b と c の国が支配してきた地域は、その民族名から何とよばれているか。



[解答欄]

(1)	(2)
-----	-----

[解答](1) バチカン市国 (2) ラテンアメリカ

[解説]

(2) 15 世紀末にコロンブスがアメリカ大陸を発見した後、b のスペインと c のポルトガルは、南アメリカに進出し、植民地をつくった(ブラジルはポルトガル、それ以外はスペインの植民地)。スペインやポルトガルはラテン民族であるので、南アメリカはラテンアメリカとよばれている。

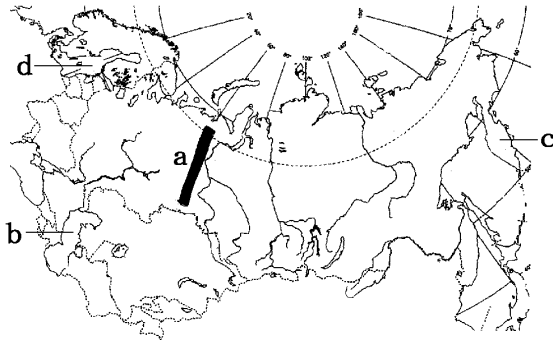
【 】ロシア

【 】自然

[問題](3 学期)

下の地図中の a～d の地形の名称を，次の[]から選びなさい。

[カラハリ砂漠 カラクーム砂漠 ゴビ砂漠 エニセイ川 レナ川
カムチャツカ半島 シナイ半島 ウラル山脈 アンデス山脈 東ヨーロッパ平原
カスピ海 バルト海 黒海 アラル海 バイカル湖 アムール川]



[解答欄]

a	b	c	d
---	---	---	---

[解答]a ウラル山脈 b カスピ海 c カムチャツカ半島 d バルト海

[問題](増補 10)(補充問題)

次の各問いに答えよ。

- (1) ロシアの大部分が属する気候帯は何か。
- (2) シベリアに広がる針葉樹林帯を何というか。カタカナ 3 文字で答えよ。
- (3) ロシアの北極海沿岸の気候帯は何か。
- (4) (3)の地域において，地中が一年のほとんど凍っているが，夏に表面だけとける土壤を何とよぶか。

[解答欄]

(1)	(2)	(3)	(4)
-----	-----	-----	-----

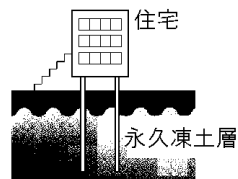
[解答](1) 冷帯(亜寒帯) (2) タイガ (3) 寒帯 (4) ツンドラ

[解説]

ロシアの国土の大部分は冷帯(亜寒帯)に属し、シベリアなどではタイガという針葉樹林帯が広がっている。夏でもほとん



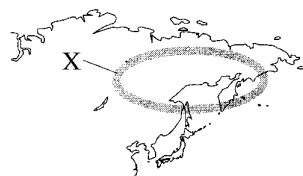
どとけない地下の永久凍土層が広がるシベリアでは、暖房などの熱が伝わると、凍土がとけて家屋が傾くなどの被害が出る。そこで、右図のような高床式の建物にして熱を地面に伝わりにくくして、凍土がとけないようにしている。



北極海沿岸の気候は寒帯である。寒帯にはツンドラ気候と氷雪気候がある。ロシアの北極海沿岸は、地中が一年のほとんど凍っているが、夏に表面だけとけてコケ類が育つツンドラ気候になっている。

[問題](増補 11)(補充問題)

右図の X の地域にみられる、樹木の種類のそろった森林地帯を何というか。



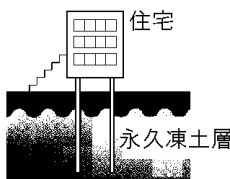
(和歌山県(旧))

[解答欄]

[解答]タイガ

[問題](増補 11)(補充問題)

地図の X 地点を含む一帯は、地下に永久凍土が分布している。右の図は、この地域に見られる地下 5~6m に打ちこんだコンクリートの柱の上のっている住宅である。写真と



グラフを見て、このような建て方の工夫をしている理由を説明しなさい。

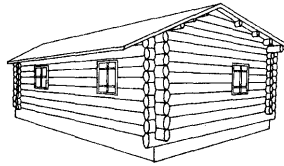
(福島県(旧)改)

[解答欄]

[解答]冬の暖房の熱で永久凍土がとけて建物が傾くのを防ぐため。

[問題](増補 11)(補充問題)

右の図は、略地図中の X で示したあたりの地域で多くみられる住居である。この住居は窓が小さく二重になっているが、その主な理由は何か、この地域の気候に着目して書きなさい。



(三重県(旧))

[解答欄]

[解答]きびしい寒さが続く気候なので、住居内の温度を下げないようにするため。

【】国土・民族・歴史

[問題](増補 10)(補充問題)

1917年の()革命によって、世界で初めての社会主義国家である()(正式名称)が誕生した。第二次世界大戦後はアメリカと肩を並べる軍事大国となったが、社会主義の計画経済が行きづまり、1991年末までに()は15の国に分裂した。そのうちの12の共和国によって、ゆるい枠組みの()という国家連合がつけられた。その中で最大のものは()である。

[解答欄]

[解答] ロシア ソビエト社会主義共和国連邦 独立国家共同体 ロシア連邦

[解説]

1917年のロシア革命によって、世界で初めての社会主義国家であるソ連(ソビエト社会主義共和国連邦)が誕生した。第二次世界大戦後はアメリカと肩を並べる軍事大国となったが、社会主義の計画経済が行きづまり、1991年末までに15の国に分裂した。そのうちの12の共和国によって、ゆるい枠組みの独立国家共同体(CIS)という国家連合がつけられた。その中で最大のものはロシア連邦である。これによって、経済の仕組みは、計画経済から市場経済に移行した。

ロシア連邦は世界でもっとも面積が広い国(日本の約45倍)で、人口は約1.4億人(2009年)である。首都はモスクワである。ロシア連邦は多くの民族からなる多民族国家であるが、その約8割を占めているのはスラブ系である

[問題](増補 11)(補充問題)

地図中のAの国に関する次の各問いに答えなさい。

- (1) Aの国名を書きなさい。
- (2) A国の首都であるaの都市名を書け、
- (3) この国は、1991年まで存在した国とは、経済のしくみが異なっている。1991年まで存在した国と現在のこの国の経済のしくみの違いを、簡単に書きなさい。



(静岡県(旧)改)

[解答欄]

(1)	(2)
(3)	

[解答](1) ロシア連邦 (2) モスクワ (3) 以前は計画経済であり，現在は市場経済に移行した。

[問題](増補 10)(補充問題)

次の各問いに答えよ。

- (1) ロシアの国土面積は日本の約(15 / 25 / 45)倍である。
- (2) ロシアの人口は約(1.4 億人 / 2.4 億人 / 3.4 億人)である。
- (3) ロシアは多くの民族からなる多民族国家であるが，その約 8 割を占めているのは(ゲルマン系 / ラテン系 / スラブ系)である。

[解答欄]

(1)	(2)	(3)
-----	-----	-----

[解答](1) 45 (2) 1.4 億人 (3) スラブ系

[問題](増補 11)(補充問題)

ロシア連邦は多くの民族からなる多民族国家であるが，そのうち，ある民族が住民の約 8 割を占めている。この民族は，次の[]のうちのどれか。

[ゲルマン ラテン スラブ タタール]

(香川県(旧))

[解答欄]

--

[解答]スラブ

【】産業

[問題](増補 10)(補充問題)

次の各問いに答えよ。

- (1) 地中が一年中凍っていて、夏に表面だけとけるツンドラ地帯では、何の遊牧が行われているか。
- (2) ウクライナから西シベリア南西部は、小麦の産地である。肥沃な土壤が広がるこの地帯を何とよぶか。

[解答欄]

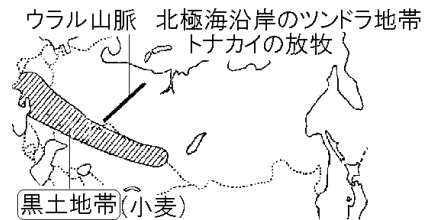
(1)	(2)
-----	-----

[解答](1) トナカイ (2) 黒土地帯

[解説]


ウクライナから西シベリア南西部にかけては肥沃な土壤に恵まれた黒土地帯になっており、世界有数の小麦の産地になっている。

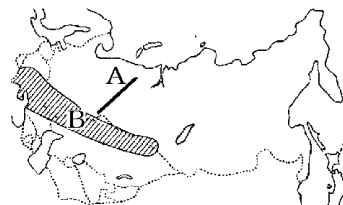
北極海沿岸のツンドラ地帯では、寒さに強いトナカイの放牧が行われている。



[問題](増補 11)(補充問題)

次の各問いに答えなさい。

- (1) A 山脈の名称を書きなさい。
- (2) で示された B の地域は、肥沃な土壤に恵まれ、世界有数の穀倉地帯となっている。この地域にあてはまるものを、次の[]から 1 つ選びなさい。



[ツンドラ地帯 モンスーン地帯 黒土地帯 綿花地帯]

(沖縄県(旧))

[解答欄]

(1)	(2)
-----	-----

[解答](1) ウラル山脈 (2) 黒土地帯

[問題](増補 10)(2 学期中間)

ロシア連邦は大量の原油・天然ガスをヨーロッパ諸国に輸出しています。これらの資源の輸送手段を次の[]から選びなさい。

[パイプライン タンカー 鉄道 トラック]

[解答欄]

[解答]パイプライン

[解説]

ソ連崩壊後、経済は大混乱し物価が数百倍になるようなハイパーインフレがおこった。生活物資も不足するなどロシア経済は低迷した。これを救ったのが、2000 年以降の石油価格の急上昇であった。石油や天然ガスの輸出量も増大し、ロシア経済は復活した。現在、ロシア連邦は世界一の産油国で、天然ガスの生産高も世界一である。

(石油産出国 2009 年) : 1 位 ロシア(14.1%) , 2 位 サウジアラビア(11.2%) , 3 位 アメリカ(7.6%) , 4 位 中国(5.4%) , 5 位 イラン(5.3%)

(天然ガスの産出国 2007 年) : 1 位 ロシア(20.9%) , 2 位 アメリカ(17.8%) , 3 位 カナダ(6.0%)

(統計出典)「世界国勢図会 2010/2011」P181

ロシア連邦は大量の原油・天然ガスをパイプラインでヨーロッパ諸国に輸出している。シベリアには、広大な森林や豊富な地下資源がある。これらを開発するために、従来からあるシベリア鉄道に加え、1985 年にはバム鉄道を完成させた。また、パイプラインの建設も行っている。

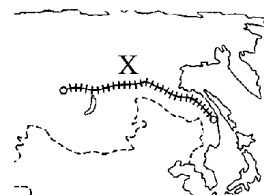
[問題](増補 11)(補充問題)

資料の X の鉄道は、シベリア東部のより一層の開発をめざして 1985 年に開業した。この鉄道を何というか。

(福井県(旧))

[解答欄]

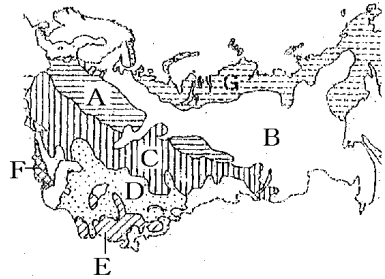
[解答]バム鉄道



[問題](増補 10)(2 学期中間)

ロシア連邦について正しく説明している文を選びなさい。

- ア 現在の大統領はプーチンである。
- イ 首都はサンクトペテルブルクである。
- ウ おもな住民はスラブ系のロシア人である。
- エ 右図中 B の地域には黒土地帯が広がる。
- オ シベリアの東部は西部より温暖である。



[解答欄]

[解答]ウ

[問題](増補 11)(補充問題)

ロシア連邦と近隣の国々(旧ソ連)について正しく述べている文を、次のア～オから 2 つ選んで記号で答えなさい。

- ア 1980 年代の後半から、アパルトヘイトとよばれる政策が行われるようになり、社会主義による新しい政治・経済体制がつくられていった。
- イ ロシア連邦では個人が所有する農地で農業が行われていたが、近年、食料増産のため国営農場や集団農場での農業に変わってきた。
- ウ 最も豊かな農業地域は、黒海の北から北東にかけてのタイガとよばれる地帯で、えん麦やライ麦などが生産され、トナカイの飼育もさかんである。
- エ ロシア連邦では、重化学工業が地下資源の供給や製品の輸送などとさまざまに結びつき、大きな工業地域を形成している。
- オ シベリアには、広大な森林や豊富な地下資源があり、これらを開発するために鉄道をしき、パイプラインを建設するなどの努力が続けられてきた。

(島根県(旧))

[解答欄]

[解答]エ，オ

[印刷 / 他の PDF ファイルについて]

このファイルは、FdData 中間期末社会地理(7,200 円)の一部を PDF 形式に変換したサンプルで、印刷はできないようになっています。製品版の FdData 中間期末社会地理は Word(または一太郎)の文書ファイルで、印刷・編集を自由に行うことができます。

FdData 中間期末(社会・理科・数学)全分野の PDF ファイル、および製品版の購入方法は <http://www.fdtype.com/dat/> に掲載しております。

下図のような、[FdData 無料閲覧ソフト(RunFdData)]を、Windows のデスクトップ上にインストールすれば、FdData 中間期末・FdData 入試の全 PDF ファイル(各教科約 1500 ページ)を自由に閲覧できます。次のリンクを左クリックするとインストールが開始されます。

RunFdData(Word 版) 【 <http://www.fdtype.com/lnk/instRunFdDataWDS.exe> 】

RunFdData(一太郎版) 【 <http://www.fdtype.com/lnk/instRunFdDataTAs.exe> 】

ダイアログが表示されたら、【実行】ボタンを左クリックしてください。インストール中、いくつかの警告が出ますが、[実行][許可する][次へ]等を選択します。

【イメージ画像】



【Fd 教材開発 : URL <http://www.fdtype.com/dat/> Tel (092) 404-2266】