

【】高度経済成長と電化製品の普及

[問題](増補 06)(1 学期中間)

次の各文を読んで、後の問いに答えなさい。

- ア 1953 年は、ラジオ、トースター、冷蔵庫、洗濯機などの( )製品を家庭で買いそろえるようになったことから「( )元年」といわれる。
- イ ( )年代の後半から、日本経済は急速に成長をとげた。これを( )という。
- ウ 1964 年には、( )新幹線が開通し、東京( )が開催された。これにともない( )網も拡充した。
- エ 冷蔵庫、洗濯機、自動車など、( )財が生活の一部となっていたが、大量( )、大量消費にともない、( )が大量に増えるなど、( )問題も起こってきた。
- (1) 文中の ~ にあてはまる語句を書きなさい。
- (2) 1960 年代後半に、「3C」とよばれて注目的になったものはカラーテレビとクーラーとあと1つは何でしょうか。
- (3) アのように( )製品の普及は人々の暮らしを便利にするとともに、女性の社会進出をうながす一因となりました。その理由を簡単に書きなさい。

[解答欄]

(1)			
		(2)	
(3)			

[解答](1) 電化 1950 高度経済成長 東海道 オリンピック 高速道路  
 耐久消費 生産 ごみ 環境 (2) 自動車 (3) 女性の家事の負担を減らしたから

[解説]

1953 年は、マスコミによって「<sup>でんか</sup>電化元年」と名付けられたが、これは家庭電化製品が普及し始めたからである。特に、テレビ、<sup>れいぞうこ</sup>冷蔵庫、<sup>せんたくき</sup>洗濯機は、「<sup>さんし</sup>三種の神器」とよばれた。1950 年代後半から、わが国の経済は<sup>こうどけいせいせいちよう</sup>高度経済成長と呼ばれる急速な成長をとげた。1964 年に東京オリンピックが<sup>かいさい</sup>開催されたが、これにあわせて、東海道新幹線、首都高速道路が建設され、これをきっかけにして高速道路網が整備された。また、この年には日本人の海外旅行が自由化された。

年代	できごと
1953 年	「電化元年」と名づけられる 日本の高度経済成長が始まる
1964 年	東京オリンピック、東海道新幹線 首都高速道路
1965 年	2 ドア冷蔵庫が発売される 3C が注目的になる

高度経済成長によって人々の所得は増加し、それにもなって消費も拡大され、電化製品は家庭にいきわたった。1960年代後半、カラーテレビ、自動車、クーラーが3Cと呼ばれ、人々のあこがれの的となり、1970年代以降、急速に普及した。電化製品の普及は、人々の暮らしを便利にするだけでなく、女性の家事負担を軽減し、女性の社会的進出を促進する要因となった。

[問題](1学期中間)

次の文中の( )に適語を入れなさい。

1950年代に三種の( )といわれる( )、( )、洗濯機が家庭に入ってきた。

[解答欄]

--	--	--

[解答] 神器 冷蔵庫 テレビ

[問題](1学期期末)

次の文を読み、各問いに答えなさい。

第二次世界大戦後、さまざまな電気製品が普及し、生活は便利で豊かになった。特に、1953年はラジオ・ミキサーなど小型のものから、(a)テレビ・( 1 )・冷蔵庫など大型のものにまで購買意欲が高まった。やがて、(b)経済が急成長をとげるなか、暮らし方も変化し、ものがあふれる時代になったが、大量生産、大量( 2 )にもなう環境問題が起こった。

(1) 文章中の空欄1・2に適語を次から選び、答えなさい。

[ラジオ、ステレオ、洗濯機、掃除機、輸入、輸出、消費]

(2) 下線部(a)を1950年代後半に何と呼んだか。

(3) 家庭電気製品の普及は、家庭における何にかかる時間を短縮したか。

(4) 下線部(b)のことを何というか。漢字で答えなさい。

[解答欄]

(1) 1	2	(2)	(3)	(4)
-------	---	-----	-----	-----

[解答](1) 1 洗濯機 2 消費 (2) 三種の神器 (3) 家事 (4) 高度経済成長

[問題](増補 05)(1 学期中間)

年表を見て、各問いに答えなさい。

- (1) 年表中の( )に適する語句を答えよ。  
 (2) 年表中 A の年のできごとでないものを下から 1 つ選び、記号で答えよ。

- ア 日本人の海外旅行の自由化  
 イ コンビニエンスストア開店

- ウ 首都高速道路開通      エ 東海道新幹線開通

- (3) 年表中 B について、3C の中の 1 つを答えよ。  
 (4) 電化製品の普及は、女性のくらしにどのような影響を与えたかを、次の 2 つの語句を使い、述べよ。(家事、社会進出)

年代	おもなできごと
1953	「( )元年」とよばれる
1958	即席( )登場
1964	A 東京( )開催 B このころ、3C が注目的

[解答欄]

(1)			(2)
(3)	(4)		

[解答](1) 電化      ラーメン      オリンピック    (2) イ    (3) カラーテレビ    (4) 家事負担を減らし社会進出を可能にした

[問題](1 学期中間)

年表を見て、次の各問いに答えなさい。

- (1) A のように名づけられた理由を書きなさい。  
 (2) B の高度経済成長とはどのような成長か、書きなさい。  
 (3) C にあてはまらないものを、次のア～エから 1 つ選びなさい。

- ア 海外旅行の自由化  
 イ 東海道新幹線の開通  
 ウ 国際連合への加盟実現  
 エ 東京オリンピックの開催

- (4) D の 3C の組み合わせで正しいものを、次のア～エから選びなさい。

- ア 電子レンジ・電卓・パソコン      イ プレイヤー・MD・DVD  
 ウ カラーテレビ・自動車・クーラー      エ ラジオ・ミキサー・洗濯機

年代	できごと	
1953年	「電化元年」と名づけられる	A
1955年	電気がまがが発売される	
	日本の高度経済成長が始まる	B
1964年	日本にとって象徴的な年になる	C
1965年	2 ドア冷蔵庫が発売される	
	3C が注目的になる	
	D	

**[解答欄]**

(1)	(2)
(3)	(4)

**[解答]**(1) 電化製品が普及しはじめたから (2) ほかに例がないような急速な経済成長 (3) ウ  
(4) ウ

**[問題]**(1 学期期末)

次の文中の( )に適語を入れなさい。

- (1) 1950 年代後半から 1970 年代初期にかけて、わが国は( )とよばれるめざましい経済発展をとげた。
- (2) わが国では、東京オリンピックの前後にクーラー・カラーテレビ・自動車という、いわゆる「( )」が普及した。

**[解答欄]**

(1)	(2)
-----	-----

**[解答]**(1) 高度経済成長 (2) 3C

**[問題]**(1 学期中間)

次の問いに答えなさい。

- (1) 1950 年代後半からの日本は、急速な経済成長をとげたが、このことを何というか。
- (2) 1960 年代後半になると、3C と呼ばれる電化製品等が急速に普及したが、3C とは何か、3 つ答えよ。
- (3) 電化製品の普及がもたらしたのは、人々の生活を便利にするだけでなく、女性の家事の負担を減らした。そのほかに何かの一因になっていることがあるが、それは何か。

**[解答欄]**

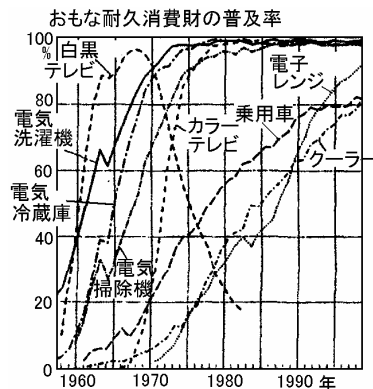
(1)	(2)	(3)
-----	-----	-----

**[解答]**(1) 高度経済成長 (2) カラーテレビ，自動車，クーラー (3) 女性の社会進出

[問題](増補 06)(1 学期中間)

次の各問いに答えなさい。

- (1) ラジオ、扇風機、洗濯機、テレビなどを家庭でそろえようと始めた 1953 年は、のちにマスコミによって何と名づけられましたか。
- (2) 右のグラフの中で、1950 年代に普及し始め、1960 年代初めに特に人気のあった商品を 3 つ答えなさい。
- (3) 1960 年代後半から普及し始めたあわせて 3C と呼ばれた商品を、右のグラフの中から 3 つ答えなさい。



[解答欄]

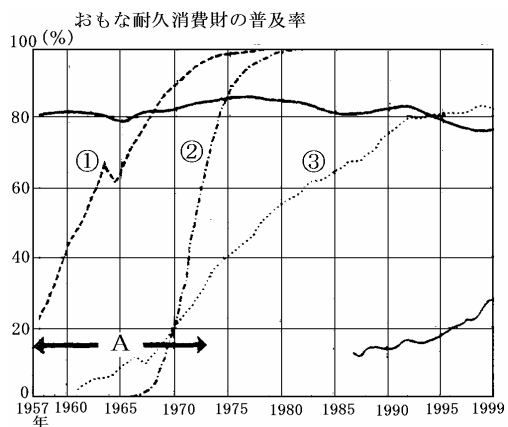
(1)	(2)		
(3)			

[解答](1) 電化元年 (2) 白黒テレビ 電気冷蔵庫 電気洗濯機 (3) カラーテレビ 乗用車 クーラー

[問題](1 学期期末)

右のグラフを見て、次の各問いに答えなさい。

- (1) グラフの A の期間、日本は世界に例のない経済成長を続けた。このことを何というか書け。
- (2) グラフの ①～③ にあてはまる耐久消費財を次から選んで書け。  
電気洗濯機 カラーテレビ ミシン  
パソコン 乗用車
- (3) 次の文の( )にあてはまる語を書け。  
電化製品の普及は( )の家事負担を軽減し( )の( )進出を促進する要因となった。



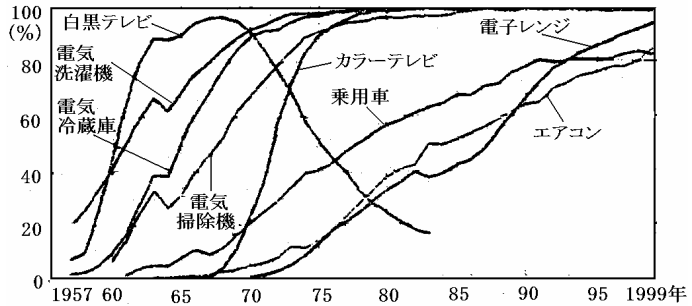
[解答欄]

(1)	(2)		
(3)			

[解答](1) 高度経済成長 (2) 電気洗濯機 カラーテレビ 乗用車 (3) 女性 社会

[問題](1 学期期末)

テレビに関して右のグラフからわかることを、簡潔に述べなさい。



[解答欄]

[解答]60年代前半に白黒テレビが普及し、70年代前半にカラーテレビがこれにとってかわった。

[問題](2 学期中間)

次の年表を見て、下の各問いに答えなさい。

- (1) ( A )に入れるできごととして、あてはまらないものを選び、記号で答えなさい。  
 ア 石油危機    イ 東京オリンピック  
 ウ 東海道新幹線開通

年	できごと
1945	戦争が終わる
1952	米軍の占領が終わる
1964	<input type="text" value="A"/>
1972	沖縄が返還される

} ①

- (2) の時期、日本人の生活は大きく変わった。これをもたらした経済的な動きを何とよぶか。
- (3) 1970年代以降に家庭に普及して3Cとよばれた製品は、クーラ、自動車ともうひとつは何か。
- (4) 電化製品の普及は、女性のくらしにどのような影響を与えたか。

[解答欄]


(1)	(2)	(3)
(4)		

[解答](1) ア (2) 高度経済成長 (3) カラーテレビ (4) 家事負担を減らし社会進出を可能にした

[問題](1 学期期末)

文中の( )に適する語句を語群から選び、記号で書け。

1964年に、アジア初の( )が開催された。右の写真はこのときの様子である。これに合わせて、東海道( )と首都高速道路が開通して、人々の移動は高速化した。また、同じ年に日本人の( )が自由化された。



[ア 新幹線    イ 余暇    ウ オリンピック    エ 海外旅行]

[解答欄]

--	--	--

[解答] ウ ア エ

[問題](増補 06)(1 学期期末)

下の文章を読んで各問いに答えなさい。

1950 年代の後半から、a 日本の経済は急速に成長し、人々の所得は増加し、電化製品が各家庭に普及して人々の暮らしは便利になった。電化製品の普及は、( )の家事負担を軽減し、b( )の( )進出を促す一因となった。

現在、わたしたちのまわりには電化製品や自動車・パソコンなどの( )消費財があふれているが、その一方では( )生産・( )消費にともなって( )が大量に増えるなどの環境問題も起こってきた。これらに対して、( )型社会の実現に向けて c さまざまな取り組みがおこなわれている。

(1) 文章中( )~( )にあてはまる語句を下から記号で選びなさい。

ア 男性    イ 大量    ウ 輸入    エ ごみ    オ 女性    カ 社会    キ 耐久    ク 循環

(2) 下線部 a を何というか。

(3) 1960 年代後半に「3C」とよばれて注目的になった電化製品名を書きなさい。

(4) 下線部 b について、今まだ多くの問題が多く残されている。どのような問題か。次の語句を用いて簡潔に説明しなさい。<格差>

(5) 下線部 c についてどのような取り組みがなされているか。簡潔に説明しなさい。

[解答欄]

(1)			
	(2)	(3)	
(4)			
(5)			

[解答](1) オ カ キ イ エ ク (2) 高度経済成長 (3) カラーテレビ, 自動車, クーラー (4) 雇用や賃金や昇進などで男女間に格差があること (5) 省エネルギーや資源の再利用を考えた製品の開発・生産をすすめたり、地域でゴミ処理の有料化やエネルギー化を実施すること。

[問題](1 学期中間)

次の文を読んで、下の各問いに答えなさい。

(a)1950年から1970年代にかけて、日本人のくらしは大きく変化しました。新幹線や(A)が整えられることによって、人やものの移動は大量に、しかも速くなりました。人々の(B)が増えるにつれて生活水準は向上し、(C)が普及するなどして、くらしが便利になりました。また、栄養水準の上昇や公衆衛生・医療技術の改善は、子どもたちの(D)を向上させ、日本人の(E)を世界のトップクラスにおし上げました。

人の移動もはげしく、工場や事務所の集中する都市には、人々が移り住むようになりました。

(b)(F)とよばれる集合住宅が現れ、おおぜいの人々のくらしが、大家族中心から(G)中心へと変わっていきました。人口の増えた都市にはデパート、飲食店、劇場、娯楽施設など第(H)次産業が発達し、さらに、たくさんの人々をひきつけました。

また、人々の暮らしは豊かになりましたが、逆に(c)失ったものも少なくありませんでした。

(1) 文中の(A)～(H)にあてはまる言葉を入れなさい。

(2) (a)の年代に関係のあることがらを下から4つ選んで記号で答えなさい。

ア ソ連の解体 イ 日本万国博覧会開催 ウ 阪神・淡路大震災

エ インスタントラーメン発売開始 オ 沖縄が日本に復帰 カ 石油危機

(3) (b)に書かれているように、この時代に私たちのくらしが大きく変わっていきました。これは何によってもたらされたのでしょうか。

(4) (c)で、工業化による開発の影響で、四大公害が発生し、大きな問題になりました。この四つの公害の名前を書きなさい。

[解答欄]

(1)A	B	C	D	E
F	G	H	(2)	(3)
(4)				

[解答](1)A 高速道路 B 所得 C 電化製品 D 体格 E 平均寿命 F 団地 G 核家族 H 三

(2) イ, エ, オ, カ (3) 高度経済成長 (4) 水俣病, 四日市ぜんそく, 新潟水俣病, イタイイタイ病

【】食生活の変化

[問題](1 学期期末)

文中の( )に適する語句を語群から選び、記号で書け。

1950 年代後半に即席ラーメンが発売されると、コーヒーやみそしるなど、熱湯を注いで簡単に調理できる( )食品が普及した。さらに 1965 年に発売された 2 ドア冷凍冷蔵庫と家庭用( )の普及によって、さまざまな冷凍食品や( )食品が出回り、食の( )化が進んだ。1970 年代以降はファミリーレストランやファーストフードの店など( )産業が急成長した。

ア レトルト イ 電子レンジ ウ 簡便 エ インスタント オ 外食

[解答欄]

--	--	--	--	--

[解答] エ イ ア ウ オ

[解説]

経済成長は、食生活においても大きな変化を引き起こした。1958 年には、即席ラーメンが発売され、続いて、熱湯をそそぐだけという簡単な調理法で済むコーヒーや味噌汁などのインスタント食品が普及した。1965 年に電子レンジと 2 ドア冷凍冷蔵庫が発売され、その普及により冷凍食品、レトルト食品が出回るようになって食の簡便化が進んだ。1970 年代になると、ファーストフード店やファミリーレストランなどの外食産業が目立つようになった。

[問題](増補 06)(1 学期期末)

文章中( )~( )にあてはまる語句を語群から記号で選びなさい

食生活においても、1950 年代後半に即席ラーメンが発売され、コーヒーやみそ汁など簡単に調理できる( )食品が普及した。さらに 2 ドア冷凍冷蔵庫と家庭用( )の普及により、さまざまな冷凍食品や( )食品が出まわり、1970 年代以降はファミリーレストランやファーストフードなどの( )産業が急成長した。

(1) 文中の ~ にあてはまる語句を次から選びなさい。

ア インスタント イ 外食 ウ 電子レンジ エ レストラン オ 洋食 カ レトルト

(2) 次の a・b・c を年代の古い順に符号を並べなさい。

- a.ファミリーレストランの開店      b.即席ラーメンの発売  
c.冷凍食品やレトルト食品の普及

[解答欄]

(1)				(2)
-----	--	--	--	-----

[解答](1) ア ウ カ イ (2) b, c, a

**[問題](1 学期中間)**

次の問いに答えなさい。

- (1) 1950年代から始まる日本の経済成長は、単に政治や経済だけではなく、食生活においても大きな変化を引き起こした。1958年には、即席ラーメンが発売され、続いて、熱湯をそそぐだけという簡単な調理法で済むコーヒーや味噌汁などが60年以降急速に家庭に浸透した。このような簡単な調理法ですむ食品を何食品というか。
- (2) 1965年には、ある電化製品の普及にともなって、冷凍食品やレトルト食品が出まわり、食の簡便化がいっそう進んだが、ある電化製品とは何か2つ書きなさい。

**[解答欄]**

(1)	(2)
-----	-----

**[解答]**(1) インスタント食品 (2) 2 ドア冷凍冷蔵庫, 電子レンジ

**[問題](2 学期中間)**

ファミリーレストランや外資系のファーストフード店などの産業を何とよぶか。

**[解答欄]**

**[解答]**外食産業

**[問題](1 学期中間)**

ファミリーレストランやファーストフード店などの産業名を書きなさい

**[解答欄]**

**[解答]** 外食産業

**[問題](1 学期中間)**

1950年代のころの食事は次のうちのどれですか。

ア ごはん, さしみ, ハンバーグ, サラダ      イ ごはん, 魚の干物, みそ汁, つけもの

**[解答欄]**

**[解答]**イ

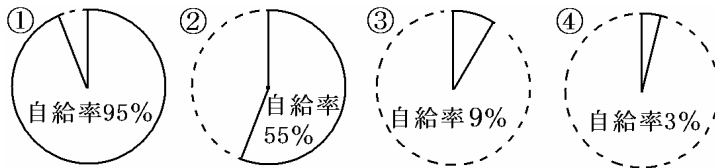
【】食の国際化と食糧自給率

[問題](増補 06)(1 学期中間)

次の文を読んで、後の問いに答えなさい。

世界各地の食品があふれ、食の( )化が進む一方で、食料の国内消費量に対する食料の国内生産量の割合を示す a( )は毎年低下し、今や日本は b 世界一の食料輸入国となっている。

- (1) 文中の , にあてはまる語句を書きなさい。
- (2) 次の円グラフはオの文中の a( )を示しています。 ~ は何か、それぞれ下の[ ]の中から選びなさい。



[野菜 大豆 肉類 米 小麦 果物]

- (3) 下線部 b について、輸入食品について問題となっていることは何ですか。簡単に書きなさい。

[解答欄]

(1)		(2)	
		(4)	

[解答](1) 国際 食糧自給率 (2) 米 肉類 小麦 大豆 (4) 安全性

[解説]今日、日本は世界一の食糧輸入国になり、食卓には世界各地の食品があふれ、食の国際化が進んでいる。それにともなって、日本の食料自給率は毎年低下し、1961年には82%であった穀物自給率は、2003年には27%にも下がっている。自給率95%以上である米をのぞけば、いずれも、他の国々にくらべて非常に低い。(一番自給率が低い穀物は大豆(4%)、ついで小麦(14%) (2003年))

[問題](1 学期中間)

次の問いに答えなさい。

- (1) 国内で消費される食料をどれだけ国内で生産できるかを、パーセントであらわしたものを何と  
いうか。
- (2) 日本で(1)の率が1番高い穀物は、何ですか。
- (3) 日本で(1)の率が1番低い穀物は、何ですか。
- (4) 日本で(1)の率が2番目に低くて、パンやパスタ類、うどん等の原料になる穀物は何か。

[解答欄]

(1)	(2)	(3)	(4)
-----	-----	-----	-----

[解答](1) 食糧自給率 (2) 米 (3) 大豆 (4) 小麦

[問題](1 学期期末)

今の日本は食の(1)化が進んでいる。日本の食料(2)はかなり低い。

(1) 文中の(1), (2)に適する言葉を答えなさい。

(2) 下線部の中で、自給率が90%を超えている農作物は何ですか。

[解答欄]

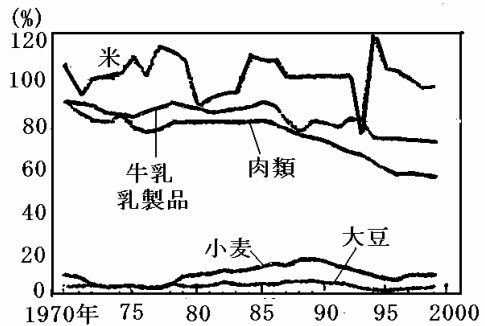
(1)1	2	(2)
------	---	-----

[解答](1)1 国際 2 自給率 (2) 米

[問題](1 学期期末)

右のグラフを参考にして、文章の空欄にあてはまる語句を下から選び、記号で答えなさい。

日本は( )を除き小麦・大豆をはじめ、多くの食料品を( )にたより、( )は毎年( )し、現在日本は世界一の食料( )国となっている。



[語群]

- ア 肉類 イ 牛乳・乳製品 ウ 米 エ 輸出 オ 輸入 カ 国民総生産  
キ 食料自給率 ク 増加 ケ 低下

[解答欄]


--	--	--	--	--

[解答] ウ オ キ ケ オ

[問題](前期中間)

次の資料を見て次の各問いに答えよ。

年度	1960	1970	1980	1990	1998
米	102	106	100	100	95
小麦	39	9	10	15	9
大豆	28	4	4	5	3
野菜	100	99	97	91	84
果実	100	84	81	63	49



(1) 1998年、海外からの食料輸入が止まった場合、食卓から消えてしまう可能性の高いものを上の図中からひとつ選んで書け。

- (2) わが国の食糧自給率について述べた次のア～エから正しいものをひとつ選び、記号で書け。
- ア) 1960年と1970年では、全ての品目の自給率が低下している。
  - イ) 1960年と1970年では、小麦と大豆の自給率はいずれも低下している。
  - ウ) 1970年と1980年では、小麦と野菜の自給率はいずれも上昇している。
  - エ) 1980年と1990年では、米と果実の自給率はいずれも上昇している。

[解答欄]

(1)	(2)
-----	-----

[解答](1) なっとう (2) イ

[問題](増補 05)(1 学期中間)

次の会話文を読み、右のグラフを見て、各問いに答えよ。

まゆ：「今日もご飯がおいしいね。そういえば、日本は色々な国から食材を輸入しているんだよね。」

母：「そうね。今の日本は食の(1)化が進んでいるわ。

でも、a日本の食料(2)はかなり低いそうよ。」

父：「(1)化は食以外でも進んでいるよ。現代は、人やもの、情報が国境を越えて飛び交っているからね、最近ではアジアや南米から労働者としてやってきた人たちをよく見かけるだろう。さまざまな人や文化が共存する

(3)社会が日本でも進展しているね。私たちは、それぞれの文化の違いを尊重し合い、共に協力して生活する(4)社会を築くことが求められているよ。」

- (1) 文中の( )に適する語句を漢字で答えよ。  
 (2) 下線部 a について、グラフの A・B に適するものを下から1つずつ選び、記号で答えよ。

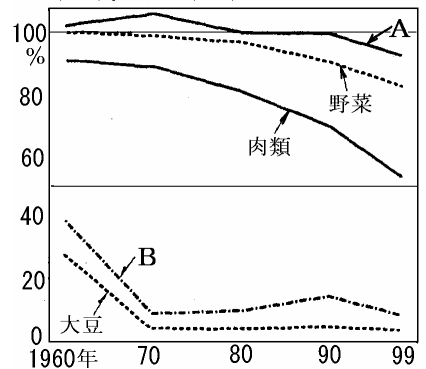
ア 果実    イ 米    ウ 小麦    エ 魚介類

[解答欄]

(1)1	2	3	4
(2)A :	B :		

[解答](1)1 国際 2 自給率 3 多文化 4 共生 (2)A:イ B:ウ

日本の食品別の(2)



[問題](1 学期期末)

国内で消費される食料を、国内でどれだけ生産できるかをパーセントで表したものを何というか書け。

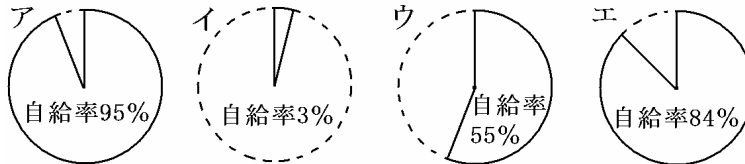
[解答欄]

[解答]食糧自給率

[問題](増補 06)(1 学期期末)

今日、日本では食の国際化が進んでいる一方で、a 食糧自給率は低下しており、b ぼう大な量の輸入食品が日本の食卓を支えている。

(1) 下線部 a について米・野菜の自給率を示しているのはどれか。それぞれ記号で答えなさい。



(2) 下線部 b について、この結果どのような問題が生じているか。簡潔に説明しなさい。

[解答欄]

(1)米：	野菜：	(2)
-------	-----	-----

[解答](1)米：ア 野菜：エ (2) 輸入食品の安全性

[問題](1 学期期末)

日米間の貿易摩擦の解消策の 1 つとして、1988 年に日本が輸入自由化を決めたものは、牛肉と何か。

[解答欄]

[解答]オレンジ

## 【】高度経済成長の終わり

### [問題](1 学期中間)

次の文を読んで、下の各問いに答えなさい。

20年近く高度成長を続けた日本経済は、1973年以降、(a)2度の( A )にみまわれました。石油の輸入に大きく依存していた日本経済は、石油の国際価格が10倍にも上がったため、大きな打撃を受け、1974年には戦後初めて経済の成長が( B )になりました。

それでも日本の経済は、(b)製品や技術に工夫を加えたり、発展させて、( A )を乗り越けると、それ以後は安定した経済の成長が続くようになりました。こうしたなかで企業や人々の多くは、(c)値上がりによる利益を目的に( C )や株を買うようになり、1980年代末ごろから( C )や株の値段が急激に上昇しはじめました。

ところが、1990年代にはいると、それまで上がりつづけていた( C )や株の値段が暴落し、( D )と言われる現象が起きました。その結果、大量の( C )や株をかかえていた企業や銀行のなかには( E )するところも続出し、90年代を通じて日本経済は低成長におちいってしまいました。

このように現在では、経済がとどこおるようになりましたが、コンピュータや通信技術の分野などで、新たな成長への期待も生まれてきています。

(1) 文中の(A)～(E)にあてはまる言葉を入れなさい。

(2) (a)の2度のうち、1度は1973年ですが、もう1度はいつか、下から記号を選びなさい。

ア 1976年 イ 1979年 ウ 1984年

(3) (b)で、日本経済は、製品や技術にどのような工夫や知恵を出して乗り越えたのか、具体的に1つ書きなさい。

(4) (c)のような経済を何というか。

### [解答欄]

(1)A	B	C	D	E
(2)	(3)	(4)		

[解答](1)A 石油危機 B マイナス C 土地 D バブル崩壊 E 倒産 (2) イ (3) 省エネルギー (4) バブル経済

### [解説]

20年近く高度成長を続けた日本経済は、アラブ諸国による石油価格の引き上げと石油の輸出制限が原因で、1970年代に石油危機にみまわれた。(1973年に第一次石油危機、1979年に第二次石油危機) 石油の輸入に大きく依存していた日本経済は、石油の国際価格が10倍にも上がったため、大きな打撃を受け、1974年には戦後初めて経済の成長がマイナスとなった。

それでも日本の経済は、エネルギー消費を節約するような製品や技術を発展させて、石油危機を乗り越えると、それ以後は安定した経済の成長が続くようになった。それまでの「重厚長大」の時代

から、軽薄短小の商品が売れる時代にかわってきた。

こうしたなかで企業や人々の多くは、値上がりによる利益を目的に土地や株を買うようになり、1980年代末ごろから土地や株の値段が急激に上昇しはじめた。これをバブル経済という。ところが、1990年代にはいと、それまで上がりつづけていた土地や株の値段が暴落し、バブル崩壊と言われる現象が起きた。その結果、大量の土地や株をかかえていた企業や銀行のなかには倒産するところも続出し、90年代を通じて日本経済は低成長におちいってしまった。

このように現在では、経済がとどこおるようになったが、コンピュータや通信技術の分野などで、新たな成長への期待も生まれてきている。

[問題](1学期期末)

次の文中の( )に適語を入れなさい。

1973年、アラブ諸国による石油価格の引き上げと石油の輸出制限が原因で、( )がおこった。

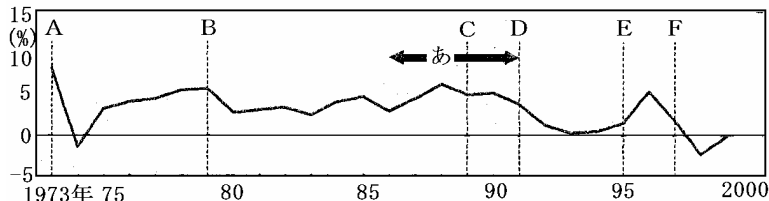
[解答欄]

[解答]石油危機

[問題](1学期期末)

次のグラフを見て、問いに答えなさい。

高度経済成長後の日本の実質経済成長率の推移



(1) グラフ中のA~Fに適するできごとを、次のア~カから1つずつ選び記号で書け。

- ア バブル崩壊      イ 阪神・淡路大震災      ウ 第一次石油危機      エ 消費税導入  
 オ 第二次石油危機      カ 金融機関の破綻続出

(2) (あ)の時期は、土地や株の値段が急激に上昇した。このときの日本経済の状態を何というか。

(3) 1国の経済水準を図る指標で、その国の国内で生産されたものの総額を何というか。

[解答欄]

(1) A	B	C	D	E	F	(2)	(3)
-------	---	---	---	---	---	-----	-----

[解答](1) A ウ    B オ    C エ    D ア    E イ    F カ (2) バブル経済 (3) GDP



**[問題](増補 06)(前期期末)**

現代社会の歩みについて、次の各問いに答えなさい。

- (1) 年表中の ~ にあてはまる語句や数字を書きなさい。
- (2) A の時代, 3C が普及する以前に, 三種の神器と呼ばれていたのは, テレビ・電気冷蔵庫ともうひとつは何ですか。
- (3) B の期間, 人々の生活は向上しましたが, その反面, 水俣病・四日市ぜんそくといった ( ) が発生しました。  
( ) にあてはまる語句を書きなさい。

[1950~60年代] 親たちが生まれ育った時代… A  
 ・ ( ① ) 経済成長… B  
 ・ 3C (クーラー, カラーテレビ, ( ② )) の普及

[1970~80年代] 時代の変わり目に生まれた私たち  
 ・ ( ③ ) ショックがおこり (①) 経済成長が終わる  
 1987年…世界人口が ( ④ ) 億人をこす  
 1988年…日米が ( ⑤ ) ・ オレンジの自由化で合意  
 1989年… ( ⑥ ) 税が導入される。  
 1990年…東西 ( ⑦ ) の統一… C

[1990年代] 私たちが育ってきた時代  
 ・ 環境破壊が深刻な問題となる… D  
 ・ 暮らしの中にコンピューターやインターネットが普及する

- (4) C の前年, 冷戦の象徴であった壁が取り壊されました。壁の名称を書きなさい。
- (5) D に関して, 地球規模で問題となっている環境問題をひとつあげなさい。

**[解答欄]**

(1)			
			(2)
(3)	(4)	(5)	

**[解答]**(1) 高度 自動車 石油 50 牛肉 消費 ドイツ (2) 電気洗濯機  
 (3) 公害 (4) ベルリンの壁 (5) 地球温暖化(オゾン層の破壊)

【】循環型社会

[問題](1 学期中間)

次の問いに答えなさい。

- (1) 生産されたものの再利用を徹底し、廃棄物ゼロをめざす社会を何というか。
- (2) 廃棄物処理法やリサイクル法などをまとめる基本法として、2000年に成立した法律は何か。

[解答欄]

(1)	(2)
-----	-----

[解答](1) 循環型社会 (2) 循環型社会形成推進基本法

[問題](増補 06)(1 学期中間)

次の各問いに答えなさい。

- (1) 1990年代以降、大量生産・大量消費社会の反省から、生産されたものの再利用を徹底し、環境への影響を最小限にしようという考え方が出てきたが、このような社会を何というか。
- (2) (1)の社会を実現するために、あなたがふだんの生活の中で気をつけようと思うことを1つ書きなさい。

[解答欄]

(1)	(2)
-----	-----

[解答](1) 循環型社会 (2) ゴミの分別収集に協力する

[問題](1 学期期末)

空き缶などを回収して再利用することを何というか。

[解答欄]

--

[解答]リサイクル

[問題](1 学期中間)

ごみ問題を解決する1つの方法として、「分別(ぶんべつ)」の語句を使って、あなたが取り組めることを書きなさい。

[解答欄]

--

[解答]ゴミの分別収集に協力する

## 【】余暇生活の変化

### [問題](増補 06)(1 学期期末)

次の文章を読んで各問いに答えなさい。

1980 年代になると、週休 2 日制の普及で( )時間が増え、日本各地ではレジャーを目的とした巨大開発が進められ( )開発ブームがおこった。また、a 出生率の低下と平均寿命の伸びにともなった少子化と高齢化が急速に進んでいるが、いっぽう高齢者のなかには生涯学習や地域の( )活動に積極的に取り組んでいる人たちもいる。

職業も多様化し、情報や宅配便産業などのように「サービス」を売る産業も急速に発達している。

(1) ( )～( )にあてはまる語句を下から記号で選びなさい。

ア アニメ    イ コミュニケーション    ウ 情報化社会    エ 余暇  
オ ホームページ    カ ボランティア    キ リゾート

(2) 下線部 a のような社会を何というか。

(3) 下線部 b のような産業を何というか。

### [解答欄]

(1)		(2)	(3)
-----	--	-----	-----

[解答](1) エ    キ    カ (2) 少子高齢社会 (3) サービス産業

### [解説]

1980 年代にはいと、週休二日制の普及で余暇時間が増え、余暇生活も大きく変化した。国内や海外の旅行者も急激に増え、日本各地では、レジャーを目的とした巨大開発が進められてリゾート開発ブームが起こり、東京ディズニーランドのようなテーマパークがつくられた。また、出生率の低下と平均寿命の伸びにより、少子高齢社会が到来したが、高齢者のなかには生涯学習や地域のボランティア活動に積極的に取り組んでいる人たちもいる。職業も多様化し、情報や宅配便産業などのようなサービス産業が急速に発達している。

### [問題](増補 06)(1 学期中間)

次の各問いに答えなさい。

(1) 現代の日本は、出生率が低下し、高齢者の割合が年々増加しています。このような社会を何社会とよんでいますか。

(2) 1980 年代に入って国民の余暇時間が大幅に増えてきますが、それはなぜでしょう。簡単に書きなさい。

(3) 国民の所得・余暇時間が増えたことにより、レジャー産業が盛んになり、各地に東京ディズニーランドのような施設がつくられました。このような施設を一般に何とよんでいますか。

(4) 余暇時間が増えた今、高齢者は余暇時間を過ごすためにどのようなことを行っていますか。

(5) 国民の生活水準が向上する中で、産業も大きく変わってきました。現在では、「もの」を売る産業から「もの」ではなくあるものを売る産業が盛んになってきました。このあるものとは何ですか。また、その産業にあてはまらないものを次の中から1つ選び記号を書きなさい。

[ア.美容師 イ.大工 ウ.運転手]

[解答欄]

(1)	(2)	(3)
(4)	(5)	

[解答](1) 少子高齢社会 (2) 週休2日制が普及したから (3) テーマパーク (4) 生涯学習, ボランティア活動 (5) サービス イ

[問題](2 学期中間)

労働時間が減り、余暇に海外旅行に行く人がふえたが、労働日数の減少をもたらした制度名を答えなさい。

[解答欄]

[解答]週休二日制

[問題](1 学期期末)

1980年代には週休二日制が普及し、人々の( )時間が増えた。

[解答欄]

[解答]余暇

[問題](1 学期中間)

現在の生活について、次の( )にあてはまる語句を下から選んで書きなさい。

家庭：( A )にかかる時間が減った。( B )が普及した。

職場：( C )が広まった。

[週休二日制 電化製品 家事 労働]

[解答欄]

A	B	C
---	---	---

[解答]A 家事 B 電化製品 C 週休二日制

**[問題](1 学期期末)**

自ら進んで自分の技能や時間を、無給で社会に提供する奉仕活動を何というか。カタカナで書け。

**[解答欄]**

**[解答]**ボランティア

**[問題](2 学期中間)**

阪神・淡路大震災がおきた時、若者を中心に多くの人が救援にかけつけて、話題をよんだ。災害救援に限らず、地域活動などに自分の力を自発的に提供することを何とよぶか。

**[解答欄]**

**[解答]**ボランティア

**[問題](1 学期中間)**

自ら進んで自分の技能や時間を、社会に提供する奉仕活動を何というか。

**[解答欄]**

**[解答]**ボランティア

【】職業の変化

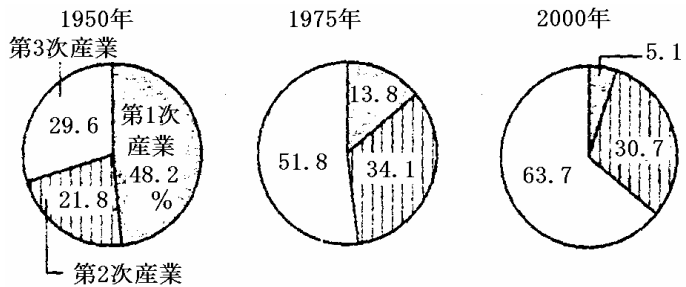
[問題](1 学期期末)

下の資料を見て、次の問いに答えなさい。

(1) 第 1 次産業の具体例を 1 つ答えなさい。

(2) 第 3 次産業と関係の深い産業を次から選び答えなさい。

- [ 自動車, 建設, 養殖, 通信 ]



(3) 日本の産業は、1950年からどのように変化してきたか。

[解答欄]

(1)	(2)	(3)
-----	-----	-----

[解答](1) 農業 (2) 通信 (3) 第 1 次産業が減少し、第 3 次産業が増加した

[解説]

第一次産業は農業・水産業・林業で、第二次産業は製造業・建設業・鉱業などで、第三次産業は商業・サービス業・金融業などである。第一次産業は、1950 年ごろには就業人口の半分近くを占めていたが、高度経済成長とともに大幅に減少し、現在では 5%程度になっている。第二次産業は、高度経済成長とともに増加したが、1970 年以降はほぼ横ばいである。第三次産業の人口は増加している。

[問題](1 学期期末)

右のグラフを見て答えなさい。

(1) 1950 年まで産業別就業者の割合が最も多かったのはどの産業ですか。

(2) 1950 年から 1998 年までで産業別就業人口の割合が最も減少しているのはどの産業ですか。

(3) 1950 年から 1998 年までで、産業別就業者の割合が最も増加しているのは何産業ですか。

(4) 次のうち第三次産業にあてはまる業種を 2 つ選びなさい。

- 鉱業, 建設業, 漁業, 林業, 運輸業, 製造業, 金融業, 農業

産業別の就業者割合

年	第一次産業	第二次産業	第三次産業
1950年 (3602万人)	48.2	22	30
1970年 (5259万人)	13.8	34	47
1980年 (5581万人)	13.8	34	55
1990年 (6168万人)	5.1	33	59
1998年 (6793万人)	5.1	31.4	63

[解答欄]

(1)	(2)	(3)	(4)
-----	-----	-----	-----

[解答](1) 第一次産業 (2) 第一次産業 (3) 第三次産業 (4) 運輸業, 金融業

[問題](増補 05)(1 学期中間)

国民の生活水準が向上するなかで発達した, 情報産業や宅配便産業, リース産業などのような産業を何というか。

[解答欄]

[解答]サービス産業

[問題](1 学期期末)

情報産業やリース(貸す)産業のような産業を何というか。次から選んで書け。

第一次産業 第二次産業 サービス産業

[解答欄]

[解答]サービス産業

[問題](1 学期中間)

情報産業やリース産業などのような産業は, 第何次産業になりますか。

[解答欄]

[解答]第三次産業

[問題](1 学期中間)

次の職業は第何次の産業に従事していることになるだろうか。数字を記入しなさい。

A : アルミサッシの製造業者      B : 宅配便の運転手      C : 大工  
D : 道路や橋を建設する作業員      E : 保育士      F : 農家

[解答欄]

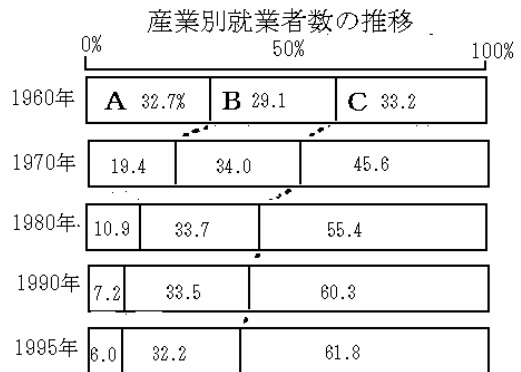
A	B	C	D	E	F
---	---	---	---	---	---

[解答]A 2 B 3 C 2 D 2 E 3 F 1

**[問題](1 学期中間)**

次の文を読んで、下の問いに答えなさい。

1950年代の後半から、a 日本の経済はめざましい成長をとげた。しかし、1970年代の前半に b 転換期をむかえ、低成長時代となった。その間、日本の c 産業構造は大きく変化し、d 大気汚染や水質汚濁などの問題も引き起こした。日本の産業の中心は、農業から工業、そして第3次産業へとかわった。



- (1) 下線部 a の時期を何とといいますか。
- (2) a の時期、「三種の神器」とよばれた電気製品を3つ書きなさい。
- (3) 下線部 b の原因となった、1973年におこった出来事を何とといいますか。
- (4) 下線部 c に関して、次の項目にあてはまる産業を、グラフ中のA～Cから選んで書きなさい。  
工業      商業      農業
- (5) 下線部 d を何とといいますか。

**[解答欄]**

(1)	(2)	(3)
(4)	(5)	

**[解答]**(1) 高度経済成長 (2) テレビ,洗濯機,冷蔵庫 (3) 石油危機 (4) B C A (5) 公害

【】情報社会

[問題](増補 06)(1 学期期末)

次の文章を読んで各問いに答えなさい。

20 世紀は、a マスメディアが急速に発達した世紀であり、テレビはリアムタイムで世界の情報を手に入れる利点があり流行の発信源となっている。

- (1) 下線部 a の例をテレビ以外で 2 つあげなさい。
- (2) 下線部 a による弊害を簡潔に書きなさい。
- (3) 1990 年代にはいって急速に一般の人々が情報を収集したり交換したりするのに幅広く利用されるようになったものは何か。
- (4) (3)の利用における新たに生じた問題について簡潔に答えなさい。

[解答欄]

(1)	(2)
(3)	(4)

[解答](1) 新聞, ラジオ (2) 流れてくる情報を一方的に受け取ることによる弊害 (3) インターネット (4) プライバシー情報の流出, コンピューター犯罪の増加, コンピューターを使える人と使えない人との情報格差

[解説]

20 世紀になって発達した、新聞・雑誌・テレビ・ラジオなどの情報を人々に伝達する手段をマスメディアといい、これらが発達した現在の日本のような社会を情報社会という。情報社会ではマスメディアが大きな影響力を持つが、情報の流れが一方的になる<sup>へいがい</sup>弊害もある。

1990 年代に入ってから急速に、情報通信網とコンピューターの発達によってインターネットという世界的情報ネットワークが普及した。その利点は情報の流れが双方向的であることである。検索によって必要な情報をさまざまなホームページから入手し、また、知ってもらいたい情報を簡単に発信できる。しかし、その反面で、プライバシー情報の流出、コンピューター犯罪の増加、コンピューターを使える人と使えない人との情報格差などの問題が生じている。

[問題](1 学期期末)

次の問いに答えよ。

- (1) 20 世紀に急速に発達した新聞・雑誌・ラジオ・テレビなどのメディアを何というか。また、これらが発達した現在の日本のような社会を何というか書け。
- (2) ホームページを見ることができる新しいメディアを何というか書け。
- (3) 情報を簡単に交換できるようになって、個人の情報など個人の何を守ることが問題になっているか書け。

[解答欄]

(1)		(2)	(3)
-----	--	-----	-----

[解答](1) マスメディア 情報社会 (2) インターネット (3) プライバシー

[問題](増補 06)(1 学期中間)

次の各文を読んで、後の問いに答えなさい。

- ・ 20 世紀に急速に発達した、新聞、雑誌、映画、テレビなどの情報伝達手段を( )という。
  - ・ マスコミから送られてくる情報は一方的なものが多かったが、パソコンの普及とともに新しいコミュニケーションの手段として一方的でない( )が普及してきた。便利な反面、コンピュータを使った犯罪や、( )情報の流出など新たな問題も起こっている。
- (1) 文中の ~ にあてはまる語句を書きなさい。
  - (2) 1960 年代からテレビで大人気となり、子どもたちが同時期に共通体験するようになったものは何ですか。

[解答欄]

(1)			(2)
-----	--	--	-----

[解答](1) マスメディア インターネット プライバシー (2) アニメ

[問題](1 学期中間)

次の問いに答えなさい。

- (1) 放送、新聞、出版などによる情報の大量伝達のこと、英語の mass communication の略語を何というか。
- (2) (1)の放送、新聞、出版などを何というか。

[解答欄]

(1)	(2)
-----	-----

[解答](1) マスコミ (2) マスメディア

[問題](増補 05)(1 学期中間)

20 世紀になり発達した，新聞・雑誌・テレビなどの情報を人々に伝達する手段を何というか。

[解答欄]

[解答]マスメディア

[問題](1 学期中間)

マスコミの情報を伝えるようなマスメディアとして使われていないものを，次のア～エから選びなさい。

ア 衛星放送      イ 携帯電話      ウ 週刊誌      エ インターネット

[解答欄]

[解答]イ，エ

[問題](1 学期期末)

1990 年代に世界的に普及したパソコンなどのコンピュータを通信回線によって結んだ情報ネットワークを何というか。

[解答欄]

[解答]インターネット

[問題](前期中間)

次の文を読んで，下の各問いに答えよ。

a 情報社会とよばれる現代では，情報は，読む情報に加えて，聞く情報，そして見る情報と b 多様に発展してきました。

(1) 下線部 a に関する考え方で適当なものを，次のア～ウから 1 つ選べ。

- ア 多くの情報があり，わずらわしいので，特定の情報で判断する。
- イ 政治参加ということから，国などの情報を知ることは大切である。
- ウ 一方的に情報を知るだけで，情報発信は必要ない。

(2) 下線部 b に関して 1990 年代にインターネットが普及してきたことによる利点を答えなさい。

[解答欄]

(1)	(2)
-----	-----

[解答](1) イ (2) 必要な情報をすぐ入手できる。情報を簡単に発信できる。

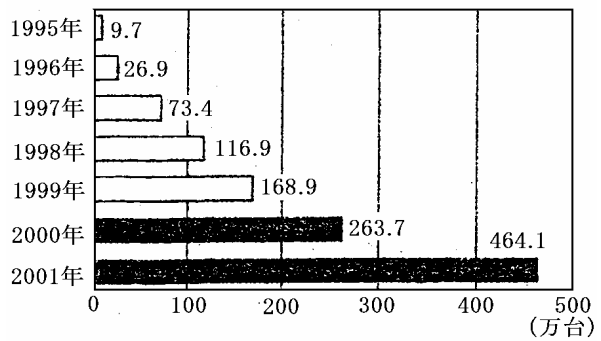
**[問題](1 学期期末)**

右のグラフは、日本のインターネット  
ホスト数である。2001 年のインターネ  
ットホスト数は、1995 年の約何倍にな  
っているか。少数第 1 位を四捨五入して  
整数で書きなさい。

**[解答欄]**

**[解答]48 倍**

わが国のインターネットホスト数



## 【】国際社会と日本の役割

### [問題](1 学期中間)

次の各問いに答えなさい。

- (1) 人やもの、情報が国境をこえてゆききすることで、日本社会はいやおうなしに国際社会の一部となっていくます。これからは、政治のしくみや文化など、多くのことが国際的な基準と相互理解によって判断されるようになります。このような流れを何というか。
- (2) 国際社会が結びつきを強めるなかで、特にアジアで日本は発展から取り残されている国に対して経済協力が期待されています。その1つに「ODA」というのがあります。日本は世界でもトップクラスにいます。この「ODA」とは何のことか、漢字6字で答えなさい。
- (3) また、政治的貢献もアジア各国から望まれています。1993年に行われたカンボジアで選挙の監視にあたりたりした国連の平和維持活動がそれにあたります。この国連の平和維持活動のことを何というか、アルファベット3文字で答えなさい。

### [解答欄]

(1)	(2)	(3)
-----	-----	-----

[解答](1) グローバル化 (2) 政府開発援助 (3) PKO

### [解説]

国際社会の中で、グローバル化という世界を一体化する動きが進んでいるが、国際平和や経済協力を進めるうえでの日本の役割はいつそう大きいものになっている。

発展途上国と先進国との経済的な格差を南北問題という。国連のユニセフ(国連児童基金)は世界中の飢えで苦しんでいる子どもたちを助けるための活動を行っている。わが国の政府開発援助(ODA)は世界有数であるが、民間の非政府組織(NGO)の活動もさかんである。また、わが国の国際協力事業団から青年海外協力隊(JOCV)が派遣されている。

[問題](前期中間)

次の文を読んで下の問いに答えよ。

( )国では、学校に行けない子供がたくさんいる。  
( )や戦争により、a 写真のような子供たちがいる。子供たちを救う国際機関として、( ) (国連児童基金)がある。わが国では、国際協力事業団が派遣する団体が各地で国際協力を進めている。



- (1) 文中の( )に当てはまる語句を書け。
- (2) 下線部 a について、写真は家族の保護や支援がなく路上生活をする子どもたちである。このような子供たちを何というか。
- (3) 国際協力の活動をしている組織のうち民間非政府組織をアルファベット3文字で何というか。
- (4) 国際協力で資金援助を行う政府開発後助をアルファベット3文字で何というか。

[解答欄]

(1)			(2)
(3)	(4)		

[解答](1) 発展途上 内戦 ユニセフ (2) ストリートチルドレン (3) NGO (4) ODA

[問題](1 学期期末)

次の文中の( )に適語を入れなさい。

わが国の国際協力事業団から( )(JOCV)が派遣されている。

[解答欄]

[解答]青年海外協力隊

[問題](1 学期期末)

次の文中の( )に適語を入れなさい。

発展途上国と先進国との経済的な格差から( )問題がおこっている。

[解答欄]

[解答]南北

【】多文化社会・共生社会

[問題](増補 06)(1 学期中間)

次の文の( )に適する語句を答えよ。

世界の多くの国々ではさまざまな人や文化が共存する( )社会ができ、「内なる国際化」とよばれている。また、( )社会では、それぞれの文化のちがいを尊重し合い、ともに協力していく( )社会をつくることが求められている。

[解答欄]

--	--

[解答] 多文化 共生

[解説]

人やものや情報が、国境をこえて飛びかう国際化によって、さまざまな人や文化が共存する多文化社会ができています。日本では第二次世界大戦の前から、韓国・朝鮮人、中国人などが暮らしていたが、1980年代以降、おもにアジアや南米(ブラジルなど)から労働者としてやってくる人々が増加した。現在、在日外国人は日本の人口の1%をこえており、その比率は韓国・朝鮮、中国、ブラジル、フィリピンの順である。その国の人と外国の人が、文化の違いを尊重しあい、協力して暮らしていく共生社会をつくることが求められている。

[問題](1 学期期末)

現代は、人やもの、情報が国境をこえて飛び交っている。最近ではアジアや南米から労働者としてやってきた人たちをよく見かける。さまざまな人や文化が共存する( 1 )社会が日本でも進展している。わたしたちは、それぞれの文化のちがいを尊重し合い、ともに協力して生活する( 2 )社会を築くことが求められている。

[解答欄]

(1)	(2)
-----	-----

[解答](1) 多文化 (2) 共生

[問題](1 学期中間)

次の文章の空欄に当てはまる用語を下より選んで、記号で記入しなさい。

世界の多くの国では、さまざまな人や文化が共存する( 1 )社会ができており、そこでは( 2 )の違いを尊重し合い、ともに協力して暮らす( 3 )社会を作ることが求められる。

(語群)

ア 共同 イ 異文化 ウ 文化 エ 共生 オ 多文化 カ 民主

[解答欄]

(1)	(2)	(3)
-----	-----	-----

[解答](1) オ (2) ウ (3) エ

[問題](1 学期期末)

次の問いに答えよ。

- (1) さまざまな人や文化が共存する社会を何というか。また、その社会で必要とされる、違う文化を尊重し合いともに協力して暮らす社会を何というか書け。
- (2) 近年日本にアジアや南米からやってくる人が増えている。その主な目的は何か書け。

[解答欄]

(1)	(2)
-----	-----

[解答](1) 多文化社会 共生社会 (2) 日本で働くこと

[問題](増補 06)(1 学期期末)

各問いに答えなさい。

- (1) さまざまな人や文化が共存する社会を何というか。
- (2) 「共生社会」とはどのような社会か。次の語句を用いて説明しなさい。<文化・尊重・協力>

[解答欄]

(1)	(2)
-----	-----

[解答](1) 多文化社会 (2) それぞれの文化の違いを尊重し合い、ともに協力して暮らしていく社会

[問題](1 学期中間)

1980 年代以降、アジア・中南米などからの外国人が増えているが、これらの人が増えているおもな要因を書きなさい。

[解答欄]

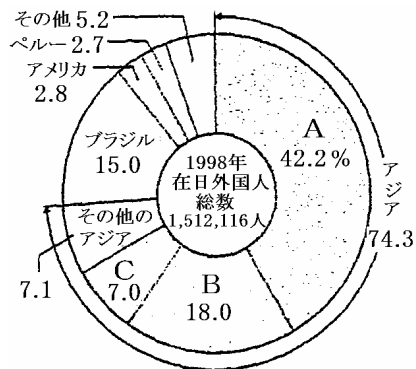
--

[解答]日本で働くために日本に来る外国人が増えたため

**[問題](2 学期期末)**

右のグラフは日本に在留する外国人の割合を示したものである。

- (1) 韓国・朝鮮にあたるものはA～Cのうちのどれか。
- (2) 在日韓国・朝鮮人の現状はどのようになっているか。ア～エの中でまちがっているものを選び記号で答えなさい。
  - ア) 納税などの義務は課せられているが、選挙権などの権利は保障されていない。
  - イ) 就職に際して外国籍を理由に採用されない場合がある。
  - ウ) スポーツの面などでは全国高等学校総体育大会に朝鮮高級学校が出場するなど差別は解消されている。
  - エ) 二世帯、三世帯にわたって日本に居住しているが、完全に外国人として扱われている。



**[解答欄]**

(1)	(2)
-----	-----

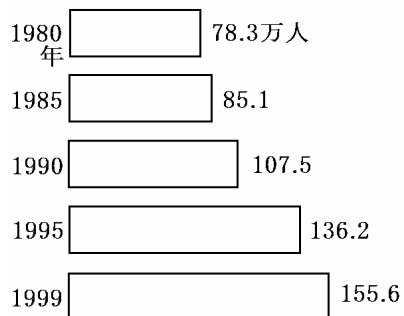
**[解答]**(1) A (2) ウ

**[問題](1 学期期末)**

右のグラフは日本に住む外国人登録者数の推移である。

次の各問いに答えなさい。

- (1) 増加数が最も高いのは何年から何年の間か。
- (2) それは何万人増加しているか。
- (3) 1980年と1999年を比べたとき、1999年は1980年のおよそ何倍になっているか。
- (4) 国内にある道路標識や看板などに外国語が使われていることが多くなっている。その理由を簡単に答えなさい。



**[解答欄]**

(1)	(2)	(3)	(4)
-----	-----	-----	-----

**[解答]**(1) 1990年から1995年 (2) 28.7万人 (3) 約2倍 (4) 在日外国人が増えたため

[問題](1 学期期末)

次の文を読み、各問いに答えなさい。

科学技術の進歩と工業化は、私たちの社会全体に大きな変化をもたらした。産業の変化は人口の( 1 )部への集中をうながし、それは「核家族化」ともなった。また、現代は人やモノや情報が国境を越えて移動する( 2 )化の時代であり、それにともない言語や宗教などさまざまな文化が共存する( 3 )社会の時代である。日本もその例外ではなく、多くの外国人が来日し、各地で生活している。

問：文中の空欄 1～3 に適語を選び答えなさい。

[ 国際、孤立、自由、工業、都市、農業、多文化、農村、異文化 ]

[解答欄]

(1)	(2)	(3)
-----	-----	-----

[解答](1) 都市 (2) 国際 (3) 多文化

[問題](1 学期中間)

日本は古代から近世にかけて、海外からの文化を基礎にして発展してきたが、それらに欧米の文化を取り入れて日本独自の文化が生まれた。

情報通信手段の発達を基礎に、社会生活や産業分野の中で、情報が大きな位置を占めるようになった。

外国の文化を学び、それを尊重することで外国の人々と親しくすると同時に、日本の文化も理解してもらい、互いの交流を深めることが大切である。

問：～ の各文に関係が深い語句を、次の語群から選びなさい。

伝統文化 多文化社会 国際交流 情報社会 共通文化

[解答欄]

--	--	--

[解答] 伝統文化 情報社会 国際交流

[問題](1 学期中間)

次の各問いに答えなさい。

- (1) 日本の経済は昔から貿易に大きく依存して成長してきました。その結果、世界経済のなかで大きな位置を占めるようになりました。日本の輸出の主な製品を時代を追ってみると、せんい製品などの軽工業製品から、鉄鋼・船舶・自動車などの重化学工業製品をへて、現在ではどのような製品に変わってきましたか。
- (2) また、輸入については、かつては鉄鉱石や石炭などの原材料が中心でしたが、最近では、製品の輸入額が全体の5割をこえています。これは、アジアの新興工業経済地域から日用品・電子・機機部品や電機製品などの輸入が増えたり、日本企業が海外で生産した製品を逆輸入するケースが増えたりしたことによるものです。このアジアの新興工業経済地域のことを何というか、アルファベット4文字で答えなさい。
- (3) 多くの日本企業は、国内での活動だけでなく、賃金・原材料の安い国や、市場の広がりのある国を求めて、海外に工場や支店を設け、国際的な企業活動を行うようになりました。このように、多くの企業が海外に工場をつくると、日本の国内にどのような問題が起きてくるか、説明しなさい。

[解答欄]

(1)	(2)
(3)	

[解答](1) 自動車，電気機械，半導体などの電子部品，精密機械など (2) NIES (3) 産業の空洞化

[問題](1 学期期末)

次の文中の( )に適語を入れなさい。

先進国どうしの間で、輸出と輸入の不均衡が原因で( )がおこることがある。

[解答欄]

--

[解答]貿易摩擦

【】キャッチフレーズに見る生活の変化

[問題](前期中間)

次の各問いに答えよ。

- (1) 1978年にあるコンビニエンスストアが出したキャッチフレーズを、次のア～エから選び、記号で答えよ。

ア「わけあって、安い」 イ「大きいことはいいことだ」

ウ「あいててよかった」 エ「24時間たたかえますか」

- (2) 次の～のキャッチフレーズはどのような社会問題をあつかったものか。下の語群から選び、記号で答えよ。

「わたしたちの製品は、公害と、騒音と、廃棄物を生み出しています。」

「150万人の方の新しいシニアライフが進行中です。」

「人と出会える。情報と出会える。」

ア．高齢化社会 イ．貿易摩擦 ウ．情報化社会

エ．円高・円安 オ．少子化社会 カ．環境問題

[解答欄]

(1)	(2)		
-----	-----	--	--

[解答](1) ウ (2) カ ア ウ

[問題](1学期期末)

現代社会の歩みについて、次の問いに答えなさい。

- (1) 次の～は、1950(昭和25)～60年代にわが国ではやったキャッチフレーズである。それぞれ何を宣伝するためのキャッチフレーズか。次のア～オから1つずつ選び、記号で答えなさい。

「声のカメラ」(1955年)

「ボタンひとつで避暑地をよび出す」(1960年)

「オリンピックをカラーで見たい カラーで見せたい」(1964年)

ア カメラ イ カラーテレビ ウ テープレコーダー エ ステレオ オ クーラー

- (2) 1978年にあるコンビニエンスストアが出したキャッチフレーズを、次のア～エから1つ選び、記号で答えなさい。

ア「じぶん、新発見」 イ「大きいことはいいことだ！」

ウ「あいててよかった」 エ「モーレッツからビューティフルへ」

[解答欄]

(1)			(2)
-----	--	--	-----

[解答](1) ウ オ イ (2) ウ

[問題](増補 06)(前期期末)

次の ~ は、1950~1960 年代にわが国ではやったキャッチフレーズです。それぞれ何を宣伝するためのキャッチフレーズだと思いますか。次のア~オから 1 つずつ選んで記号を書きなさい。

「声のカメラ」(1955 年)

「ボタンひとつで避暑地をよび出す」(1960 年)

「オリンピックをカラーで見たい、カラーで見せたい」(1964 年)

ア：カメラ イ：カラーテレビ ウ：テープレコーダー エ：ステレオ オ：クーラー

[解答欄]

--	--	--

[解答] ウ オ イ

[問題](前期中間)

右の年表をみて、各問いに答えよ。

- (1) 次の ~ は、ある時期の企業のコマースャルで使われたキャッチフレーズである。それぞれいつ頃のものか、右の年表中の A~D から 1 つずつ選び、記号で答えよ。

「人と出会える。情報と出会える。」

「オリンピックをカラーで見たい...。」

「じぶん、発見」、「不思議、大好き」、

「おいしい生活」

「ガソリン節約時代がやって来ました。」

- (2) 次の ~ の文は、年表中の A~D の時期のようすを簡単に表したものである。それぞれの時期のものか、正しいと思うものを 1 つずつ選び記号で答えよ。

石油ショックの影響で物価が急上昇し

た。また、公害問題も大きくなった。

経済が低成長になってきたが、情報化、高齢化など社会が大きく変化してきた。

高度経済成長の時代で日本経済が世界に進出した。

石油ショックを克服し、国民一人ひとりが生活の向上を求めるようになった。

年代	おもなできごと	
1960	池田内閣の所得倍増政策	A
1964	東海道新幹線開通 東京オリンピック開催	
1972	札幌冬季オリンピック開催 沖縄が日本に復帰	
1973	石油ショックがおこる	
1978	日中平和友好条約に調印	
1986	男女雇用機会均等法施行	C
1987	国鉄の分割民営化実施	
1989	昭和天皇崩御 元号「平成」	
1991	雲仙普賢岳の噴火	D
1995	阪神・淡路大震災	
1998	長野冬季オリンピック開催	

[解答欄]

(1)	(2)
-----	-----

[解答](1) D A C B (2) B D A C

**[問題]**(1 学期中間)

次の文中の( )に適語を入れなさい。

1950 年代の「声のカメラ」、1960 年代の「大きいことはいいことだ」、1970 年代の「あいててよかった」などの( )は時代の世相を反映している。

**[解答欄]**

**[解答]**キャッチフレーズ

**[印刷 / 他の PDF ファイルについて]**

このファイルは FdData 中間期末社会公民(7,200 円)を PDF 形式に変換したサンプルで印刷はできないようになっています。製品版の FdData 中間期末社会公民は Word(または一太郎)の文書ファイルで、印刷・編集を自由に行うことができます。

FdData 中間期末社会公民全分野の PDF ファイル、および他の科目(地理・歴史・理科・数学)の全 PDF ファイル、FdData 入試(社会・理科)の全 PDF ファイル、および製品版の購入方法は、<http://www.fdttext.com/dat/> に掲載しております。

下図のような、[FdData 無料閲覧ソフト(RunFdData)]を、Windows のデスクトップ上にインストールすれば、FdData 中間期末・FdData 入試の全 PDF ファイル(各教科約 1500 ページ)を自由に閲覧できます。次のリンクを左クリックするとインストールが開始されます。

RunFdData(Word 版) 【 <http://www.fdttext.com/lnk/instRunFdDataWDs.exe> 】

RunFdData(一太郎版) 【 <http://www.fdttext.com/lnk/instRunFdDataTAs.exe> 】

ダイアログが表示されたら、【実行】ボタンを左クリックしてください。インストール中、いくつかの警告が出ますが、[実行][許可する][次へ]等を選択します。

**【イメージ画像】**



【Fd 教材開発 : URL <http://www.fdttext.com/dat/> Tel (092) 404-2266】