

【】間接民主主義・普通選挙

[問題](2学期中間)

政治を行うしくみについて、次の ・ のやり方を何というか。

国民全体が直接話し合いに参加するやり方。

代表者を選挙で選び、代表者が国会で話し合って決めるやり方。

[解答欄]

--	--

[解答] 直接民主主義 間接民主主義(議会制民主主義)

[解説]

民主政治には、国民全員が直接話し合いに参加する直接民主主義(直接民主制)と、代表者を選挙で選び、その代表者が話し合う間接民主主義(間接民主制、議会制民主主義)の2つがあり、多くの国では間接民主主義がとられている。話し合っても意見が一致しないときは、多数の意見に従うことが一般的である。これを多数決の原理という。その場合、少数意見も尊重することが必要になる。

[問題](2学期中間)

次の問いに答えなさい。

- (1) 選挙で選ばれた国民の代表者が、国会で話し合って決めるやり方を何というか。
- (2) 民主政治における話し合いでは、多数者の意見に従う()の原理がとられている。

[解答欄]

(1)	(2)
-----	-----

[解答](1) 間接民主主義(議会制民主主義) (2) 多数決

[問題](1学期期末)

選挙で選ばれた代表者が国会で話し合って決めるやり方を何といひますか。

[解答欄]

--

[解答]間接民主主義(議会制民主主義)

[問題](2 学期中間)

民主政治は、国民の代表である議員が作る議会によって行われますが、これを何といいますか。

[解答欄]

[解答]間接民主主義(議会制民主主義)

[問題](2 学期中間)

民主政治は、一般に国民の代表である議員がつくる議会によって行われるが、これを何というか。

[解答欄]

[解答]間接民主主義(議会制民主主義)

[問題](2 学期期末)

国会を中心として、話し合いで日本のことを決めていく方法を()主義という。空欄にあてはまる言葉を答えなさい。

[解答欄]

[解答]間接民主(議会制民主)

[問題](2 学期中間)

次の文章を読んで、あとの問いに答えなさい。

人々の間の争いや対立をなくすためにルールをつくり、調整し解決に導くことを()といい、話し合いによる a 民主主義を基本としています。しかし、意見が一致しない場合もあり、このときは多数の意見に従うことが一般的です。国民全員が直接話し合いに参加する()民主制と、代表者を選挙で選び、その代表者が話し合う()民主制の 2 つがあり、多くの国では()民主制がとられています。

(1) 文中の ~ にあてはまる語句を書け。

(2) 下線部 a が行われるためにはどんなことが必要か。次から 2 つ選び記号で書け。

- | | |
|-------------------|------------------|
| ア 最終的な決定者が国民であること | イ 強い指導者がいること |
| ウ 個人の利益が最優先されること | エ 全体の利益が最優先されること |
| オ 基本的人権が確立されていること | カ 意見をあまり言わないこと |

[解答欄]

(1)			(2)
-----	--	--	-----

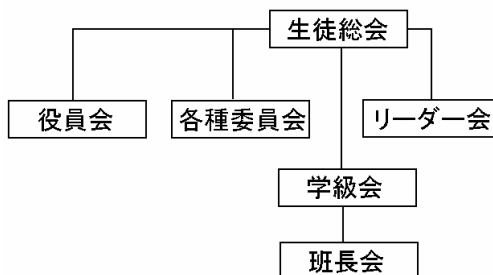
[解答](1) 政治 直接 間接 (2) ア, 才

[問題](増補 06)(1 学期期末)

次の文を読み、各問いに答えなさい。

医療や福祉の充実など社会生活を営む上で多くの問題がある。このような問題を解消するためにルールを定め解決に導くことを、広い意味で(A)とよんでいる。(A)には、a 一人の指導者がすべてを決定するやり方もあるが、b みんなで話し合い決定するというやり方もあり、この考え方を(B)という。(B)は一人ひとりを尊重する(C)を基本としている。

- (1) 文中の A~C にあてはまる語句を書きなさい。
- (2) 下線部 a のような政治のやり方を何といますか。
- (3) 下線部 b のような政治のやり方の場合、話し合いで意見が一致しないときは、どのような方法で決定をしますか。また、そのときに気をつけなければならないことは何か。2 つ書きなさい。
- (4) 国民全体が直接政治の話し合いに参加するやり方を何といいいますか。
- (5) 国民が政治のあり方を最終的に決定する権利を持っていることを何といいいますか。
- (6) 代表者を選挙で選び、その代表者が議会で話し合っていて決めるというやり方を何といいいますか。
- (7) 右の図のうち、(4)のやり方にあてはまるものをすべて選び、解答欄に書きなさい。



[解答欄]

(1)A	B	C	(2)
(3)			
(4)	(5)	(6)	
(7)			

[解答](1)A 政治 B 民主主義 C 個人の尊重 (2) 独裁政治 (3) 多数決で決定を行う 少数意見も尊重する, 反対意見を持つ人も多数決の決定に従う (4) 直接民主主義 (5) 国民主権 (6) 間接民主主義 (7) 生徒総会, 学級会

【】選挙の4つの原則

[問題](2学期中間)

次の選挙の原則をそれぞれ何というか。

一人につき、一票の投票権を持つ。

無記名で投票を行う。

一定の年齢に達していれば、誰にでも選挙権は与えられる。

議員を直接選挙する。

[解答欄]

--	--	--	--

[解答] 平等選挙 秘密選挙 普通選挙 直接選挙

[解説]

現在の選挙の4つの原則は、普通選挙(一定の年齢に達していれば、誰にでも選挙権が与えられる)、平等選挙(一人につき一票の投票権)、秘密選挙(無記名で投票を行う)、直接選挙(議員を直接選挙する)である。

[問題](2学期中間)

現在の選挙の原則となっている次の ~ を何といいますか。

一人一票の選挙。

無記名で投票を行う選挙。

年齢の制限のみで誰にでも選挙権が与えられる選挙。

[解答欄]

--	--	--

[解答] 平等選挙 秘密選挙 普通選挙

[問題](1学期期末)

次の各文は選挙の4原則のうちどれを説明したものですか。

一定の年齢に達すれば、だれにも選挙権が与えられる。

一人に一票の選挙権が与えられている。

[解答欄]

--	--

[解答] 普通選挙 平等選挙

[問題](2 学期中間)

次の文章を読み、()にあてはまる語句や数字を下の語群から選び、記号で答えなさい。

日本の選挙は、満 20 歳以上の誰にでも選挙権が与えられる()選挙で、一人一票の()選挙、議員を直接選出する()選挙、無記名で投票する()選挙の 4 つが原則です。

(語群) ア 秘密 イ 直接 ウ 自由 エ 中選挙区 オ 国民代表 カ 平等
キ 間接 ク 普通

[解答欄]

--	--	--	--

[解答] ク カ イ ア

[問題](増補 06)(1 学期期末)

次の文を読み、各問いに答えなさい。

国民が政治に参加する重要な機会が選挙である。選挙権は憲法で保障されており、国会議員の選挙などでは、投票できるのは満()歳以上とされている。それ以外の制限はないため、誰にでも選挙権は与えられている。かつては、財産などで選挙権が制限されたり、女性の参政権が認められなかった時代があった。

- (1) 文中の空欄にあてはまる数字を書きなさい。
- (2) 都道府県知事選挙に立候補できるのは満何歳以上ですか。
- (3) 文中の下線部のような選挙を何といいますか。
- (4) 誰が誰に投票したかわからないようにしておこなう選挙を何といいますか。

[解答欄]

(1)	(2)	(3)	(4)
-----	-----	-----	-----

[解答](1) 20 (2) 30 歳以上 (3) 普通選挙 (4) 秘密選挙

[問題](増補 05)(2 学期中間)

普通選挙とは、どのようなことを指すのですか。説明しなさい。

[解答欄]

--

[解答]一定年齢以上のすべての国民に選挙権が与えられている選挙

[問題](2 学期中間)

次の問いに答えなさい。

- (1) 選挙では、一人一票で投票の価値は同じであるという原則がとられますが、これを何というか。
- (2) 現在、わが国では満()歳以上のすべての国民に選挙権が与えられている。

[解答欄]

(1)	(2)
-----	-----

[解答](1) 平等選挙 (2) 20

[問題](2 学期中間)

わが国の現在の選挙制度についての説明としてまちがっているものを、次のア～エから選びその記号を書きなさい。

- ア 一定の年齢に達したすべての者に選挙権を与える普通選挙が行われている。
- イ 投票が無記名で行われる秘密選挙が行われている。
- ウ 一人一票を投票する平等選挙が行われている。
- エ 議員を間接的に選出する間接選挙が行われている。

[解答欄]

[解答]エ

[問題](増補 05)(2 学期中間)

選挙の 4 つの原則のうち、「無記名で投票する」原則を何といいますか。

[解答欄]

[解答]秘密選挙

[問題](2 学期期末)

選挙の原則として、無記名で投票することを何というか、答えなさい。

[解答欄]

[解答]秘密選挙

【】日本の選挙制度の歴史

[問題](増補 05)(2 学期中間)

わが国で、一番最初に議会政治が行われた明治時代、1889 年に行われた選挙は、制限選挙とよばれるものでした。どのような人が選挙権を持っていましたか。その条件をすべて答えなさい。

[解答欄]

[解答]直接国税 15 円以上を納める 25 歳以上の男子

[解説]

わが国で、一番最初に議会政治が行われた明治時代、1889 年に行われた第 1 回衆議院選挙では、選挙権は、直接国税 15 円以上を納める 25 歳以上の男子に限られていた。大正時代の 1925 年、普通選挙法が成立し、選挙権は 25 歳以上の全ての男子に与えら、納税額による選挙資格の制限が撤廃された。戦後の 1945 年に選挙法が改正され、20 歳以上の全ての男女に選挙権が与えられ、^{のうぜい}婦人参政権が認められた。これによって、完全な普通選挙が実現した。

[問題](増補 06)(2 学期期末)

右の表を参考に、問いに答えなさい。

(1) 1890 年のとき、選挙権があったのは()歳以上の男子で、15 円以上の納税者だけであった。

(2) 1946 年に有権者数が急激に増加している。その理由を答えなさい。

(3) 現在の日本の選挙について正しいものを 1 つ選び、記号で答えなさい。

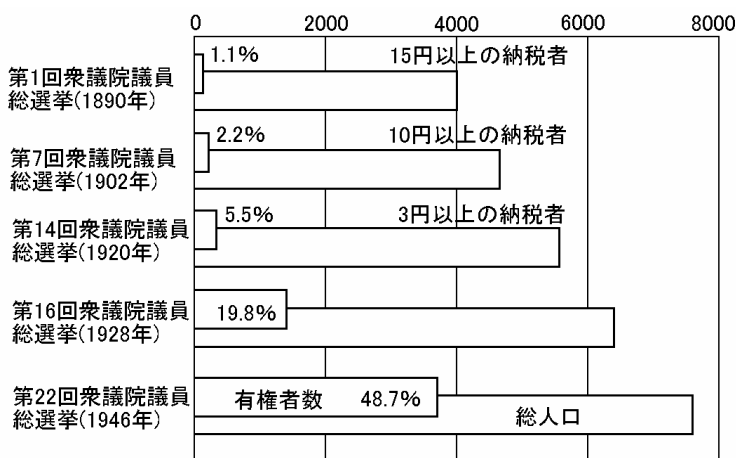
イ 総選挙の投票率は徐々に高くなっている。

ロ 選挙の投票は秘密である。

ハ 選挙違反はない。

(4) 選挙に関することを決めた法律は何か。漢字で書きなさい。

(5) 右の表で当選するのは誰か。A~D の記号で答えなさい。



衆議院議員S小選挙区選挙の結果

A 39020票	B 5400票
C 39021票	D 39019票

- (6) 衆議院議員を選ぶ、選挙の仕方は、「小選挙区()並立制」である。()にあてはまる語句を漢字で書きなさい。

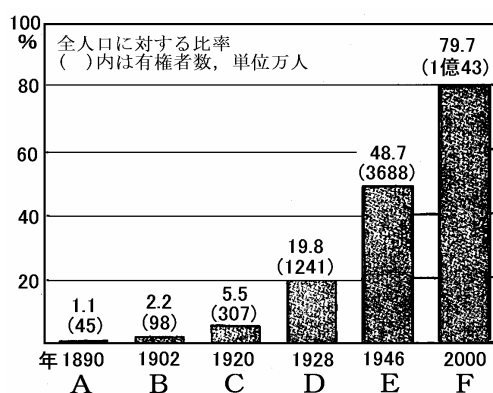
[解答欄]

(1)	(2)	(3)
(4)	(5)	(6)

[解答](1) 25 (2) 女性の選挙権が認められたから (3) 口 (4) 公職選挙法 (5) C (6) 比例代表

[問題](増補 05)(2 学期期末)

右のグラフは、日本の選挙権の拡大を表しています。



- (1) Aの年に実施された選挙の種類を、次のア～エから選びなさい。

ア：第1回衆議院議員選挙

イ：第1回参議院議員選挙

ウ：第1回貴族院議員選挙

エ：第1回府県知事選挙

- (2) 「普通選挙法」成立後初めての選挙は、A～Fのどの時ですか。

- (3) 女性が初めて被選挙権を得たのは、A～Fのどの時ですか。

- (4) EとFの間には選挙権の条件的変化はありません。ところが有権者の全人口に対する比率は、EよりもFの方が約30%高くなっています。次のア～オから、この理由として最も適するものを選びなさい。

ア：不在者投票が導入された イ：投票率が約30%高くなった

ウ：人口が約30%増加した エ：人口の自然減 オ：少子高齢化がすすんだ

- (5) Fの年の衆議院議員選挙投票率は約62.5%、今年11月9日に実施された選挙[G]の投票率は約59.9%でした(2003年11月9日現在の有権者数は、およそ1億223万人)。棄権した人の実数が多いのはF、Gのどちらの選挙ですか。

[解答欄]

(1)	(2)	(3)	(4)	(5)
-----	-----	-----	-----	-----

[解答](1) ア (2) D (3) E (4) オ (5) G

[問題](2 学期中間)

次の文を読んで、下の各問いに答えなさい。

国民が政治に参加する重要な機会が()である。()は()で保障されており、国会議員の()などでは、投票できるのは満()歳以上とされている。それ以外の制限はないため、誰にでも選挙権は与えられている。かつては()などで選挙権が制限されたり、女性の()が認められなかった時代があった。

(1) 文中の ~ にあてはまる語句・数字を下の語群から選びなさい。

[参政権 20 25 財産 憲法 選挙権 選挙]

(2) 下線部のような選挙を何といいますか。

(3) 女性に選挙権が認められた時期を、次のア～ウから1つ選びなさい。

ア 大日本帝国憲法制定後の選挙

イ 普通選挙法制定後の選挙

ウ 太平洋戦争後初の総選挙

[解答欄]

(1)				
	(2)	(3)		

[解答](1) 選挙 選挙権 憲法 20 財産 参政権 (2) 普通選挙 (3) ウ

[問題](増補 04)(2 学期中間)

次の文を読んで、各問いに答えなさい。

日本国憲法は、(a)を実現させるために、(x)間接民主制を採用している。間接民主制をとる民主主義の政治にとって選挙は、国民の意思を政治に反映させ、政治の方向を決める上で、重要な役割をになっている。日本の初期の選挙制度は、納税額の有無や性別などによって差別される選挙であったが、現在では、(y)(b)選挙が憲法で保証され、満(c)歳以上に達したすべての国民に選挙権が与えられている。

(1) 文中の(a)にあてはまる、日本国憲法の基本原則を答えなさい。

(2) 文中の(b)と(c)にあてはまる、語句・数字を、次の語群の中から選んで、記号で答えなさい。

ア 直接 イ 普通 ウ 平等 エ 20 オ 25 カ 30

(3) 次の と は、下線部(x)の例外として、日本国憲法が示す直接民主制の制度です。()に共通して当てはまる語句を答えなさい。

憲法改正の際の() 最高裁判所裁判官の国民審査のための()

(4) 文中の下線部(y)が、初めて認められたのは何年のことですか。

[解答欄]

(1)	(2)(b)	(c)	(3)	(4)
-----	--------	-----	-----	-----

[解答](1) 国民主権 (2)(b) イ (c) 工 (3) 投票 (4) 1945 年

【】小選挙区制・比例代表制

[問題](1 学期期末)

次の文を読み、後の問いに答えなさい。

現在、衆議院では、1つの選挙区から1人の代表を選ぶ(ア)制度と、政党が得票した数に応じて議席を政党に配分する(イ)制度の2つの選挙制度を組み合わせた制度がとられている。

- (1) ()内に適語を入れなさい。
(2) 現在の衆議院選挙でとられている選挙制度を何と呼んでいますか。

[解答欄]

(1)ア	イ	(2)
------	---	-----

[解答](1)ア 小選挙区 イ 比例代表 (2) 小選挙区比例代表並立制

[解説]

1 選挙区から1名を選ぶのが小選挙区制で、費用が少なくすむ反面、死票の割合が多い。比例代表制は政党名を書いて投票し、得票率に応じて各政党に議席を配分する。支持する候補者に投票できないという問題点がある。衆議院議員選挙の選挙制度は、小選挙区制(定数300)と比例代表制(定数180)を組み合わせたものである(小選挙区比例代表並立制)。また、参議院議員選挙では、都道府県を選挙区とする選挙区選出議員選挙と、全国を一つの単位とした比例代表選出議員選挙で行われている。小選挙区制では単独政権が成立しやすく、比例代表制では多党制になりやすい。

[問題](2 学期中間)

次の選挙制度をそれぞれ何というか。

1つの選挙区で一人の代表者を選ぶ制度。

政党に投票して、政党の得票率に応じて議席を配分する制度。

現在の衆議院議員選挙で採られている選挙制度。

[解答欄]

--	--	--

[解答] 小選挙区制 比例代表制 小選挙区比例代表並立制

[問題](2 学期中間)

次の問いに答えなさい。

- (1) 一つの選挙区から一人の代表を選出する選挙制度を何というか。
- (2) 現在、衆議院議員選挙でとられている選挙制度を何というか。

[解答欄]

(1)	(2)
-----	-----

[解答](1) 小選挙区制 (2) 小選挙区比例代表並立制

[問題](2 学期中間)

今日、世界各国で行われている選挙は、大きく分けると、1 区から 1 名を選出する()制と、政党の名前や候補者名を書いて政党(候補者名の場合は所属する政党)の得票率に応じて議席を配分する()制の 2 つがある。

[解答欄]

--	--

[解答] 小選挙区 比例代表

[問題](2 学期中間)

衆議院議員選挙の選挙制度は、(a)制(定数 300)と(b)制(定数 180)を組み合わせたものである。また、参議院議員選挙では、都道府県を選挙区とする(c)議員選挙と、全国を一つの単位とした(d)議員選挙で行われている。

[解答欄]

a	b	c	d
---	---	---	---

[解答]a 小選挙区 b 比例代表 c 選挙区選出 d 比例代表選出

[問題](2 学期中間)

比例代表制とはどのような制度か。「政党」「議席」の 2 つの語句を使って説明しなさい。

[解答欄]

--

[解答]政党に投票して、政党の得票率に応じて議席を配分する

[問題](増補 04)(2 学期中間)

次の文を読んで、各問いに答えなさい。

実際の選挙では、金権選挙や腐敗選挙が横行し、政治不信から選挙を棄権する国民も少なくない。こうした課題を解決するべく、政府は、1994 年政治改革を行い、その中で選挙制度のしくみを変更し、国民が衆議院議員を選ぶ方法としての選挙区制を、従来の中選挙区制から、1 つの選挙区から 1 人の代表者を選出する(a)制と各政党の得票率に応じて議席を配分する (b)制を並列させる制度に変えた。

- (1) 文中の(a)と(b)にあてはまる、語句を答えなさい。
- (2) 文中の下線部のしくみの特徴として、正しいものを次のア～エの中から一つ選び、記号で答えなさい。
 - ア 小さな政党の候補者が、選出されやすくなる。
 - イ 小さな政党の候補者が、選出されにくくなる。
 - ウ 同じ政党の候補者どうしが、争うことが多くなる。
 - エ 落選者に投票された死票が少なくてすむ。

[解答欄]

(1)(a)	(b)	(2)
--------	-----	-----

[解答](1)(a) 小選挙区 (b) 比例代表 (2) イ

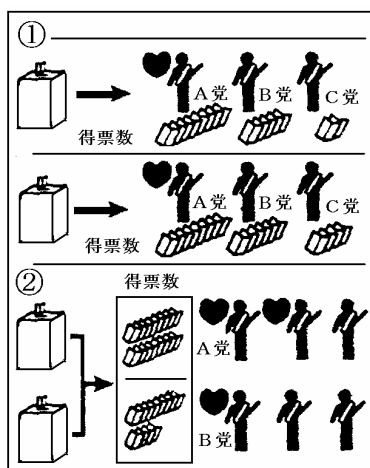
[問題](2 学期中間)

- (1) 右の選挙制度の図 ・ にあてはまる制度名を書きなさい。
- (2) 現在の衆議院で行われている表の 2 つの制度を組み合わせた選挙を何とよびますか。

[解答欄]

(1)	
(2)	

[解答](1) 小選挙区制 比例代表制 (2) 小選挙区比例代表並立制

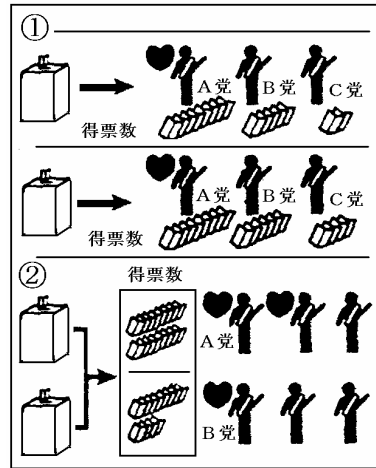


[問題](増補 06)(1 学期期末)

次の ・ の各文は、右の選挙制度の図の ・ について述べたものです。この ・ にあてはまる語句を書きなさい。

1 つの選挙区から最も多くの票を獲得した一人を代表者として選出する。

政党に投票して、政党の得票率に応じて議席を配分し、政党内で当選者を決める。



[解答欄]

--	--

[解答] 小選挙区制度 比例代表制度

[問題](後期中間)

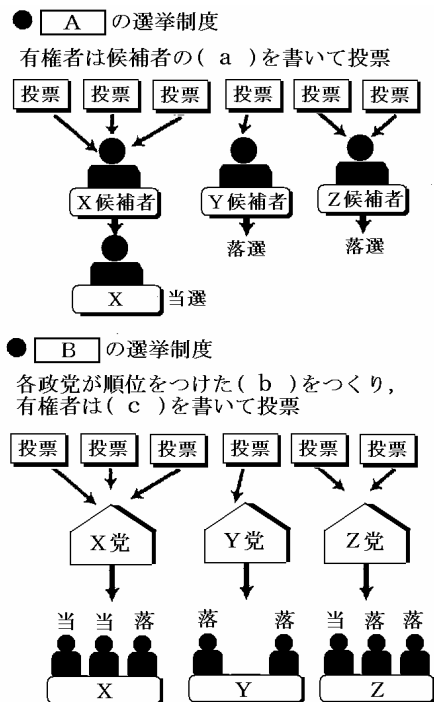
右の図を見て次の問いに答えよ。

- (1) 図中の A, B の選挙制度を何というか。
- (2) 図中の a~c に当てはまる語句を次から選んで記号で答えよ。
ア 政策 イ 政党名 ウ 指名
エ 名簿 オ 名前
- (3) 次の文のような特徴があるのは, A・B どちらの制度か。それぞれ記号で書け。

死票が出て有権者の意志が反映されにくい。

多党制が生まれやすく、連立政権がつくられることが多い。

多数党による単独政権が成立しやすい。



[解答欄]

(1)A	B	(2)a	b	c
(3)				

[解答](1)A 小選挙区制 B 比例代表制 (2)a オ b 工 c イ (3) A B A

[問題](2 学期期末)

右の図を見て、次の各問いに答えなさい。

- (1) 図1のしくみで選挙が行われたとき、当選するのは、どの政党の候補者が。A~C から一つ選び、記号を書きなさい。
- (2) 図2のしくみでは、各政党に対する議席の割り当ては、何に比例して行われるか、書きなさい。
- (3) 図1と図2のしくみを並立して行っている選挙を、次から選び、記号を書きなさい。
 ア 参議院議員選挙 イ 衆議院議員選挙
 ウ 地方議会議員選挙 エ 知事選挙
- (4) 図2のしくみの選挙でみられる特色を、次から一つ選び、記号を書きなさい。
 ア 小政党の候補者は不利になる。
 イ 多党化をまねく傾向がある。
 ウ 2大政党制を維持するのに適している。
- (5) 図1の選挙では、得票数に関してどのような問題があると考えられるか。簡潔に書きなさい。

選挙制度の比較

図1 候補者に対して投票が行われ、一つの選挙区から1名の代表者を選出。

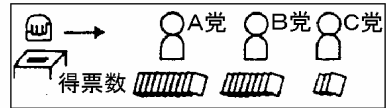
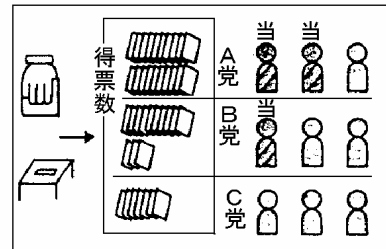


図2 投票は政党に対して行われ、政党に議席数が割り当てられる。



[解答欄]

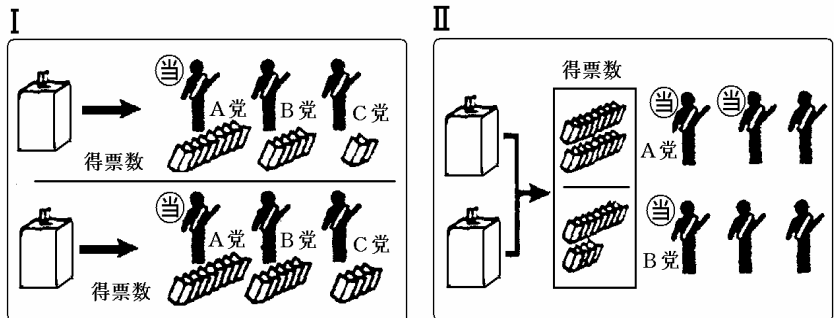
(1)	(2)	(3)	(4)	(5)
-----	-----	-----	-----	-----

[解答](1)A (2) 得票数 (3) イ (4) イ (5) 死票が出て有権者の意志が反映されにくい。

【】当選者数の計算

[問題](2学期中間)

次の資料を見て下記の問いに答えなさい。



III

1区 a a a b b c c d	2区 a a a a a b b b c d	3区 a a a a b b b c c d	4区 a a a a b b b c c d	5区 a a a a a a b b c d
6区 a a a b b b b c c c d	7区 a a a a a a b b b c c d	8区 a a b b b c c c c d	9区 a a a a b b b c c d	10区 a a a b b b b c d

A, B, C, Dの政党から10の選挙区に1人ずつ立候補しました。それぞれの政党の得票数は上の通りです。(aはA党, bはB党, CはC党, dはD党への立候補者の投票とします。)

- 選挙制度には ・ の方法があります。それぞれ何と言いますか。
- の方法で選出される衆議院議員の数は何人ですか。
- の方法で選出される参議院議員の1回の選挙で選出される人数は何人ですか。
- の選挙結果から1区から10区選挙区をまとめて一つの選挙区とし、各政党の得票数を出し、10人の当選者数を選出することとします。B党は何人当選しますか。選挙制度としては、の方法です。
- の選挙結果から1区から10区各選挙区で1名の当選者を出した場合のB党の当選者数を答えなさい。選挙制度としては、の方法です。

[解答欄]

(1)		(2)	(3)	(4)	(5)
-----	--	-----	-----	-----	-----

[解答](1) 小選挙区制 比例代表制 (2) 300人 (3) 48人 (4) 3人 (5) 2人

[解説]

(4) は比例代表制である。1区~10区を1つの選挙区とすると、A党は合計で40票、B党は30票、C党は20票、D党は10票を獲得している。得票数の比率は、A:B:C:D=40:30:20:10=4:3:2:1で、得票数に比例して、10議席を配分すると、A党が4議席、B党が3議席、C

党が2議席，D党が1議席となる。

(5) は1選挙区から1名を選ぶ小選挙区制である。のような投票結果の場合，1区では最も多く票を獲得したA党の候補者が当選する。同様に，2区ではA党，3区ではA党，4区ではA党，5区ではA党，6区ではB党，7区ではA党，8区ではC党，9区ではA党，10区ではB党の候補者がそれぞれ当選する。全体では，A党が7名，B党が2名，C党が1名当選する。

[問題](2学期中間)

右の図を見て，以下の各問いに答えなさい。

- (1) 図の選挙が小選挙区制として， ， の各問いに答えなさい。

当選者となる条件を簡単に書きなさい。

A党とD党の当選者は，合計でそれぞれ何人ですか。

- (2) 図の選挙でA党とD党の全選挙区の合計の得票数はそれぞれ何票ですか。

- (3) 図の8つの選挙区すべてあわせて比例代表制で当選者を8人出す場合，A党，B党，C党，D党の当選者はそれぞれ何人ですか。

A,B,C,Dの政党から8つの選挙区に1人ずつ立候補した。選挙の結果の得票数は次の通りである。

1区	a a a a a a	b b	c	d
2区	a a a a	b b b b b	c	d
3区	a a a a a a	b	c c	d
4区	a a a	b	c c c c	d d
5区	a a a a a a	b b		d
6区	a a a	b b b b	c	d
7区	a a a a a a	b b b b	c	d
8区	a a a a a a	b		d d

aはA党，bはB党，cはC党，dはD党への投票
全選挙区の各党の得票数

A党	B党	C党	D党
	20	10	

[解答欄]

(1)	A党： 人 D党： 人
(2) A党： 票 D党： 票	(3) A党： 人 B党： 人 C党： 人 D党： 人

[解答](1) その選挙区での得票数が第1位であること A党：5人 D党：0人 (2) A党：40票 D党：10票 (3) A党：4人 B党：2人 C党：1人 D党：1人

[問題](2学期中間)

次の文章を読み、()にあてはまる語句や数字を下の語群から選び、記号で答えなさい。

選挙制度には、一つの選挙区で一人の代表を選ぶ()制度と、政党の得票数に応じて議席を配分する()制度があります。

()制度のドント方式という方法について説明します。A党が得票数1000票、B党が550票、C党が350票の得票があったとします。定員は6名。するとA党の獲得議席は()、B党の獲得議席は()、C党の獲得議席は()となるわけです。

以前は参議院選挙のみ()制度は実施されていましたが、公職選挙法の改正により衆議院でもこの制度が採用され、()制となりました。

(語群)

ア 中選挙区 イ 小選挙区 ウ 比例代表 エ 0議席 オ 1議席 カ 2議席
キ 3議席 ク 4議席 ケ 小選挙区比例代表並立 コ 中選挙区比例代表並立

[解答欄]

--	--	--	--	--	--

[解答] イ ウ キ カ オ ケ

[解説]

現在、日本ではドント式という比例配分の方法をとっている。これは、各党の得票数を1, 2, 3...の自然数で割っていき、その商の大きい順に定員まで数え、決めていく方法である。

割る数	A党	B党	C党
1	①1000	②550	④350
2	③500	⑥275	175
3	⑤333	183	116
当選	3人	2人	1人

【】政党

[問題](増補 06)(前期期末)

以下の各問いに答えなさい。

同じ政治的考え(主義)や政策を持つ人々が、その実現を目指して作った組織を()という。選挙のときにはその考えや政策を訴え、できるだけ多くの当選者を出そうと運動する。衆議院議員選挙で最大多数を占めると、その党首が国会で()に指名され、内閣を組織することになることが多い。

- (1) 文中 ・ に当てはまることばを書きなさい。
- (2) A 党は単独で過半数に達しなかったため、主義や政策が似ている B 党とともに内閣を組織したとする。こうした政権を、何政権というか。
- (3) (2)のとき、政権を担当する政党、監視・批判する政党を、それぞれ何と呼ぶか。

[解答欄]

(1)		(2)	(3)

[解答](1) 政党 内閣総理大臣 (2) 連立政権 (3) 与党 野党

[解説]

同じ政治的考え(主義)や政策を持つ人々が、その実現を目指して作った組織を政党という。一般に、衆議院議員選挙で第一党となった政党の党首が、国会で内閣総理大臣に指名され、内閣を組織する。内閣を組織する政党を与党という。最近では、内閣が1つの政党ではなく複数の政党から組織されることが多くなったが、このような政権を連立政権という。(2006年現在は、自由民主党と公明党の連立政権である) 与党以外の政党を野党という。野党は、与党や政府の行う政治を監視し、政治の方向を修正する役割をはたす。小選挙区制では二党制が発達しやすい。比例代表制では、多党制が生まれやすい。

[問題](2 学期中間)

次の問いに答えなさい。

- (1) 国会で多数の議席をしめ、政権を担当する政党を何というか。
- (2) 政権に加わらず、内閣に対して監視・批判を行う政党を何というか。
- (3) 内閣が、1つの政党ではなく、複数の政党で組織された場合、このような政権を何というか。

[解答欄]

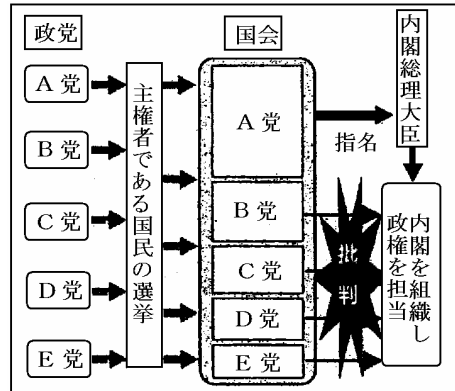
(1)	(2)	(3)
-----	-----	-----

[解答](1) 与党 (2) 野党 (3) 連立政権

[問題](2学期中間)

図を見て、あとの問いに答えなさい。

- (1) 図中 A のような政党を何と呼びますか。
- (2) A 以外の政党を何と呼びますか。
- (3) B～E の党が国会で過半数を占めると、複数の政党によって内閣がつくられることとなります。近年多くなった、このような政権を何といいますか。



[解答欄]

(1)	(2)	(3)
-----	-----	-----

[解答] (1) 与党 (2) 野党 (3) 連立政権

[問題](増補 05)(2学期中間)

政党について答えなさい。

- (1) 内閣を組織し、政権を担う政党を何といいますか。
- (2) 最近では、内閣が1つの政党ではなく複数の政党から組織されることが多くなりました。現在の内閣は、どのような政党によって組織されていますか。内閣を組織している政党名をすべて答えなさい。
- (3) (2)のような複数の政党で組織される政権を何といいますか。

[解答欄]

(1)	(2)	(3)
-----	-----	-----

[解答](1) 与党 (2) 自民党, 公明党 (3) 連立政権

[問題](増補 05)(2学期中間)

次の文は、与党と野党のどちらにあてはまりますか。それぞれ答えなさい。

- (1) 政府に対して、監視・批判などをおこなう。
- (2) 国民の少数意見を、国の政治に反映する努力をする。
- (3) 選挙で第一党となった政党の党首が国会で首相に指名され、内閣をつくる。

[解答欄]

(1)	(2)	(3)
-----	-----	-----

[解答](1) 野党 (2) 野党 (3) 与党

[問題](1 学期期末)

次の各問いに答えなさい。

- (1) 政権を担当する政党を何といいますか。
- (2) 政権を担当する政党の党首は、国会で何に指名されますか。
- (3) 政権を担当する政党が複数ある場合、このような政権を何といいますか。
- (4) 日本で 1955 年以來、1990 年はじめまで政権を担当していた政党は何か。
- (5) 政権を担当する政党を監視・批判する政党を何といいますか。

[解答欄]

(1)	(2)	(3)	(4)	(5)
-----	-----	-----	-----	-----

[解答](1) 与党 (2) 内閣総理大臣 (3) 連立政権 (4) 自由民主党 (5) 野党

[問題](2 学期中間)

次の問いに答えなさい。

同じ(ア)考えをもつ人が目標実現のためにつくった組織を政党という。(イ)選挙のときには()をたて、その(ウ)方針をうったえ、できるだけ多く当選者を出すように運動する。その結果、国会で最大多数を占めると、()となつて、その()が内閣総理大臣の指名を受け、内閣を組織する。

- (1) ()~()に適語を入れなさい。
- (2) 下線部(ア)、(ウ)を別の言葉で書きなさい。
- (3) 下線部(イ)について、総選挙とは、衆議院、参議院どちらの選挙のことですか。

[解答欄]

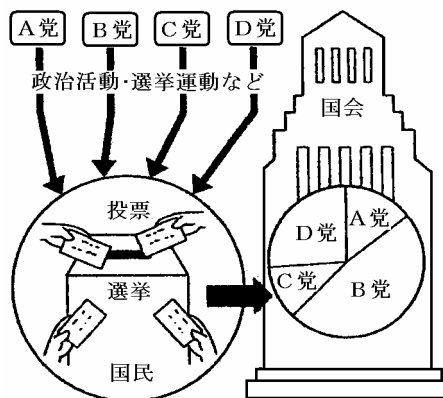
(1)			(2)ア	イ
(3)				

[解答](1) 候補者 第一党 党首 (2)ア 主義 イ 政策 (3) 衆議院

[問題](2学期中間)

右の図を見て、次の問いに答えなさい。

- (1) 政権を担当するのは、ふつう、図中A～D党のうちどの政党ですか。
- (2) (1)以外の政権に加わらない政党を何といいますか。
- (3) B党とC党が協力して政権を担当した場合、このような政権を何といいますか。
- (4) 次の文の()にあてはまる語句を書きなさい。
一般に、()院議員選挙で第一党となった政党の党首が、国会で()に指名され、内閣を組織します。
- (5) 議会で多数党を形成して政権を担当する立場にある政党を何といいますか。
- (6) わが国の場合、二党制と多党制のどちらで政治が行われていますか。



[解答欄]

(1)	(2)	(3)	(4)	
(5)	(6)			

[解答](1) B党 (2) 野党 (3) 連立政権 (4) 衆議 内閣総理大臣 (5) 与党 (6) 多党制

[問題](2学期中間)

選挙に勝って議会で多数を占め、政権を担う政党を何といいますか。

[解答欄]

[解答]与党

[問題](2学期期末)

内閣総理大臣が党首であり、実際に政治を行っている政党を何というか、答えなさい。

[解答欄]

[解答]与党

[問題](2 学期中間)

与党や政府の行う政治を監視し、政治の方向を修正する役割を持った政党を何とよんでいますか。

[解答欄]

[解答]野党

[問題](2 学期期末)

現在国会議員がいる政党を 1 つ答えなさい。(一般的な略でも可)

[解答欄]

[解答]自由民主党

[問題](2 学期中間)

次の新聞記事を参考にして問いに答えなさい。

- (1) 与党とはどのような政党をいうのか説明しなさい。
- (2) 現在の与党を 2 つあげなさい。略称でかまいません。

[解答欄]

(1)	(2)
-----	-----

[解答](1) 内閣を組織する政党 (2) 自民党, 公明党



[問題](増補 04)(2 学期中間)

次の各問いに答えなさい。

- (1) 現在、国会議員を有している日本の政党名を知っているだけ答えなさい。
- (2) 現在の日本では、複数の政党によって内閣が組織されています。このような内閣を何といいますか。
- (3) 内閣を組織し、政権を担当している政党を何と呼びますか。

[解答欄]

(1)	(2)	(3)
-----	-----	-----

[解答](1) 自民党, 民主党, 公明党, 共産党, 社民党 (2) 連立内閣 (3) 与党

[問題](2 学期期末)

- (1) 市民の立場から行政の不正行為や税金のむだづかいなどを正しく改善させるためにさまざまな活動をする人や団体を何というか。答えなさい。
- (2) 経営者団体，労働団体，医療団体，農業団体など共通の利害や要求を実現するために政治や政党，議員に対して政治的に働きかける団体を何というか。答えなさい。
- (3) 政権に加わらない政党は野党と呼び，政権を担当する政党を与党というが，現在の与党を 1 つ答えなさい。

[解答欄]

(1)	(2)	(3)
-----	-----	-----

[解答](1) 市民団体 (2) 圧力団体 (3) 自由民主党

【】世論

[問題](2 学期期末)

次の各問いに答えなさい。

- (1) 政治のさまざまな問題に対して多くの国民が考えている意見を何といいますか。
- (2) 政治の世界のできごとを情報として国民に送る役割をはたしている新聞・テレビなどをカタカナで何といいますか。
- (3) 単独で過半数をとった政党がなく、2 つ以上の政党でつくる政権を何といいますか。

[解答欄]

(1)	(2)	(3)
-----	-----	-----

[解答](1) 世論 (2) マスメディア (3) 連立政権

[解説]

政治や社会の問題についての国民の意見を世論^{せろん}といい、その形成に大きな役割をはたしているのがマスメディアである。

[問題](2 学期中間)

マスメディアを通じて形成される、国民の多数意見のことを何というか。

[解答欄]

[解答]世論

[問題](1 学期期末)

マスメディアなどを通じて形成される、国民の意思や考えを何といいますか。

[解答欄]

[解答]世論

[問題](増補 05)(2 学期中間)

政治や社会問題に対する国民全体の意見を何といいますか。

[解答欄]

[解答]世論

[問題](増補 04)(3 学期中間)

政治や社会について、多くの国民が思っている意見を何というか。

[解答欄]

[解答]世論

[問題](2 学期中間)

国民の意見を明らかにする調査を何というか。

[解答欄]

[解答]世論調査

[問題](2 学期中間)

近年、選挙への関心が薄れ、選挙に行かない人が多くなっている。このことを何というか。

[解答欄]

[解答]政治的無関心

【】総合問題

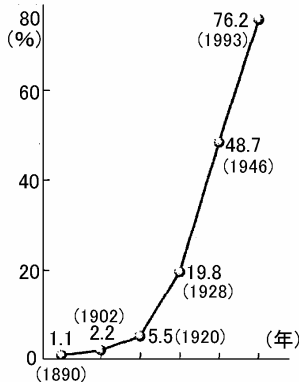
[問題](増補 06)(前期期末)

次の資料をもとに、以下の各問いに答えなさい。

資料Ⅰ 日本国憲法前文

日本国民は、正当に()された国会における代表者を通じて行動し、…ここに主権が国民に存することを宣言し、この憲法を確定する。

資料Ⅱ 有権者の全人口に対する比率 資料Ⅲ



	飛鳥党	天下統一党	維新党
A ○○1区	聖徳太子 6000	織田信長 7500	坂本竜馬 8000
B 名簿	1位 聖徳太子	1位 織田信長	1位 西郷隆盛
	2位 小野妹子	2位 明智光秀	2位 吉田松陰
	3位 蘇我馬子	3位 徳川家康	3位 高杉晋作
得票数 (÷2)	24000	36000	60000
(÷3)	12000	18000	30000
	8000	12000	20000

- (1) 資料 の()に当てはまる言葉を、次のア～エから一つ選び、記号で答えなさい。
ア 支配 イ 選挙 ウ 抽選 エ 議論
- (2) 資料 に示されているのは、民主主義の方法のうち何とよいか。次のア～エの中から当てはまるものを選び、記号で答えなさい。
ア 直接民主主義 イ 間接民主主義 ウ 独裁政治
- (3) 資料 で 1928 年、1946 年に有権者数が増加している理由を、次のア～エからそれぞれ一つずつ選び、記号で答えなさい。
ア 女性に選挙権が認められた。 イ 財産などによる制限が撤廃された。
ウ 投票終了時刻が延長された。 エ 年齢による制限が撤廃された。
- (4) 衆議院議員選挙で、資料 のような結果となった。B の選挙の定数(当選者数)を 3 とするとき、A・B の選挙を合わせた当選者の名前を、全て書きなさい。
- (5) A・B を合わせて実施する日本の衆議院選挙の方法を何とよいか。漢字 11 字で書きなさい。
- (6) 衆議院議員選挙のうち、A で選出されるのは何人か。
- (7) 次のアイは、何という選挙の原則について述べたものか。
ア 1 人 1 票である。 イ 財産などによって、選挙権を制限されない。
- (8) 投票は無記名で行われるが、この選挙の原則を何とよいか。また、それは何のためか。
- (9) A の選挙は、どのようなねらいで導入されたか、またこの方法だけで行くと、どのような問題点があるのか、簡単に書きなさい。

[解答欄]

(1)	(2)	(3)	
(4)	(5)		
(6)	(7)ア	イ	(8)
(9)			

[解答](1) イ (2) イ (3) イ ア (4) 坂本竜馬, 西郷隆盛, 織田信長, 吉田松陰 (5) 小選挙区比例代表並立制 (6) 300 人 (7)ア 平等選挙 イ 普通選挙 (8) 秘密選挙 有権者の自由な意思による投票を保障するため (9) 選挙区がせまいので, 選挙民は候補者をよく知ることができ, 選挙費用も少なくすむ。 死票が多くなり, 少数意見が代表されにくい。

[問題](前期期末)

次の文の空欄に記入すべき最適語を語群より選び, 記号で答え, 問いにも答えよ。

我が国では, (A)民主主義の政治が行われている。民主主義の政治には, 全員が決定に参加する(1)と代表者による政治, いわゆる(2)があり, わが国では(2)がとられている。このため, 国民にとって第一の政治参加となるのが(3)である。現在は, 満(4)歳になれば, だれでも(3)権が与えられる(5)が行われているが, かつては, 納税額によって(3)権が与えられる(6)が行われていた。また, 現在の選挙については(5)に加え, 一人一票の(7), 無記名で投票を行う(8), 議員を直接選ぶ(9)の 4 原則で行われている。

衆議院の選挙制度は, 定数 300 の(10)と定数 180 の(11)を組み合わせた制度がとられている。(10)は, 一つの選挙区から一人を選ぶもので, この場合, 候補者を良く知ることができる。

多数党に有利で安定政権ができるなどの利点がある反面, (12)が多く, 国民の意思が反映されにくいなどの欠点もある。このため, 各政党に投票し, その得票数に応じて議席数を配分する(11)がとり入れられている。

国会において, 議員は政党を中心に活動し, 政党が政治を運営するかたちになっている。一般に衆議院議員選挙で第一党になった政党の党首が, 総理大臣に選出され, 内閣を組織することが多い。このように政権を担当する政党を(B)(13)といい, 政権に加わらない政党を(14)という。時には二つ以上の政党で, (15)内閣を組織することもある。

(語群) ア)与党 イ)制限選挙 ウ)普通選挙 エ)秘密選挙 オ)野党 カ)間接選挙
 キ)直接選挙 ク)公開選挙 ケ)大選挙区制 コ)中選挙区制 サ)小選挙区制
 シ)平等選挙 ス)直接民主制 セ)間接民主制 ソ)比例代表制 タ)20 チ)連立
 ツ)合同 テ)選挙 ト)25 ナ)死票 ニ)有効票 又)無効票 ネ)30

- (1) 下線部(A)の原理を端的に表現したとされるアメリカ合衆国 16 代大統領の言葉を答えよ。
- (2) 国民の意思や考えは，国民の声といえるが，これを何というか。漢字 2 字で答えよ。
- (3) 現在の下線部(B)に該当する政党名を答えよ。

[解答欄]

1	2	3	4	5	6	7
8	9	10	11	12	13	14
15	(1)				(2)	
(3)						

[解答]1 ス 2 セ 3 テ 4 タ 5 ウ 6 イ 7 シ 8 エ 9 キ 10 サ 11 ソ 12 ナ 13 ア
 14 オ 15 チ (1) 人民の，人民による，人民のための政治 (2) 世論 (3) 自由民主党

