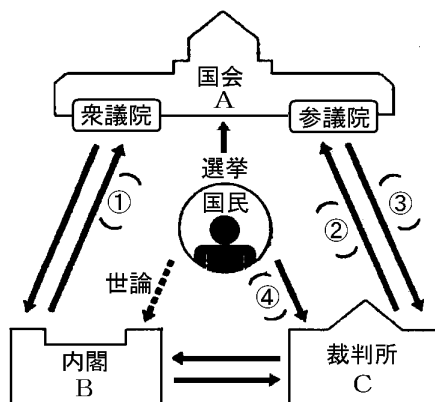


【】三権分立

[問題](2 学期中間)

右の図を見て、次の各問いに答えなさい。

- (1) 図のように権力を3つに分け、たがいに抑制し合い、均衡を保つしくみを何といいますか。
- (2) 図のようなしくみを、著書「法の精神」の中で説いた思想家はだれですか。
- (3) A～Cの機関がもつ権力をそれぞれ何といいますか。
- (4) 図の～にあてはまることばを、次から選んで書きなさい。



[裁判官の弾劾 内閣総理大臣の指名 衆議院の解散 国民審査 違憲立法審査 裁判官の任命]

- (5) 違憲立法の審査において、法令が合憲か違憲かの最終決定権をもち、「憲法の番人」とよばれるのはどこですか。

[解答欄]

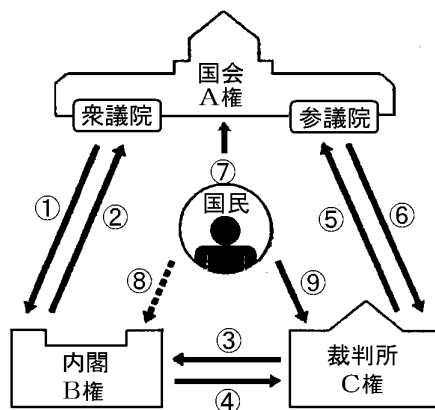
(1)	(2)	(3)A	B
C	(4)		
	(5)		

[解答](1) 三権分立 (2) モンテスキュー (3)A 立法権 B 行政権 C 司法権 (4) 衆議院の解散 違憲立法審査 裁判官の弾劾 国民審査 (5) 最高裁判所

[解説]

三権分立とは、国の権力を国会、内閣、裁判所という独立した機関に担当させ、お互いに抑制しあい、均衡を保つしくみで、モンテスキューが「法の精神」の中で主張した。

- 内閣総理大臣の指名
- 衆議院による内閣不信任の決議
- 衆議院の解散
- 違憲審査権
- 裁判官の指名・任命



違憲審査権

裁判官の弾劾裁判

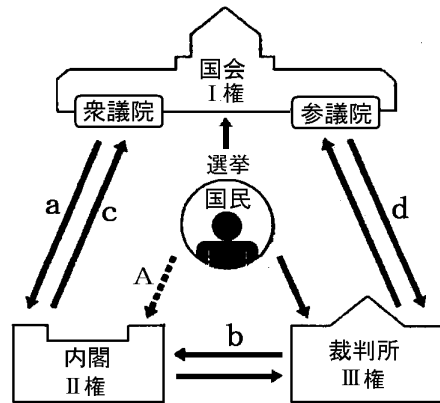
選挙 世論 国民審査

A 立法 B 行政 C 司法

[問題](2 学期期末)

右の図を見て、次の各問いに答えなさい。

- (1) 図のように三権が抑制しあい、均衡するしくみを何といいますか。
- (2) このしくみを主張したのは、フランスの政治思想家モンテスキューです。何という著書で主張しましたか。
- (3) 図の ~ にあてはまる語句をそれぞれ漢字 2 字で答えなさい。
- (4) 図の a~d が示すものを、次のア~エから 1 つずつ選び記号で答えなさい。



ア 内閣総理大臣の指名

イ 弾劾裁判所を設け、裁判官を裁判する

ウ 衆議院を解散する。

エ 命令・規則・処分が憲法に違反していないか審査する。

- (5) 図中 A は、政治や社会について多くの国民が思っている意見です。この意見のことを何といいますか。

[解答欄]

(1)	(2)	(3)	
	(4)a	b	c
d	(5)		

[解答](1) 三権分立 (2) 法の精神 (3) 立法 行政 司法 (4)a ア b エ c
ウ d イ (5) 世論

- (2) 裁判所は、通常の裁判をおこなうとともに、特に法律や国の行為が憲法に違反していないかどうかを審査することがありますが、この制度のことを何といいますか。
- (3) この図のように、国の権力を3つに分け、それぞれ別の機関に担当させ、互いに抑制しあい、均衡を保つようにしているしくみを何といいますか。

[解答欄]

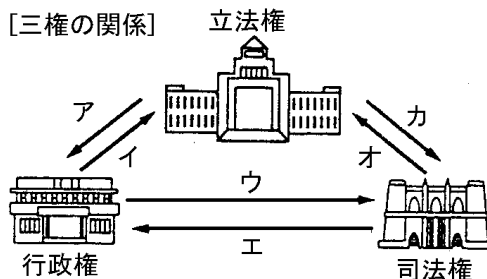
(1)a	b	c	(2)
(3)			

[解答](1)a 解散 b 弾劾裁判 c 任命 (2) 違憲審査制 (3) 三権分立

[問題](2 学期期末)

次の新聞の見出しと図をみて、あとの各問いに答えなさい。

A	内閣不信任案を可決
B	最高裁長官を閣議決定
C	衆院解散、総選挙へ
D	現行定数配分は違憲



- (1) 新聞の見出しのA~Dは、右図のどれにあたるか。ア~カから選べ。
- (2) Dに「現行定数配分は違憲」とあるが、このように裁判所が判断できる権利を何と叫ぶか。
- (3) 図のような国の権力を分けるしくみを何と叫ぶか。
- (4) (3)のしくみが導入されている理由を、「権力、集中、人権」の語句を使って説明せよ。

[解答欄]

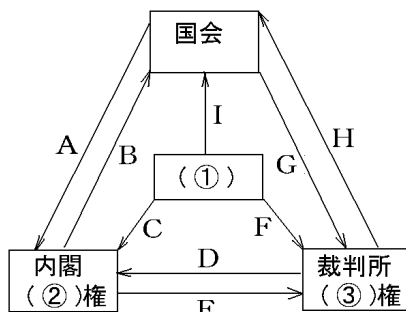
(1)A	B	C	D
(2)	(3)		
(4)			

[解答](1)A ア B ウ C イ D オ (2) 違憲審査権 (3) 三権分立 (4) 権力の集中によって権力が濫用されて人権が侵害されるのをふせぐため。

[問題](2 学期中間)

次の図は三権の均衡と抑制を示したものである。下の各問いに答えなさい。

- (1) 図の ~ にあてはまる言葉を入れなさい。
- (2) 図のような考え方を「法の精神」に著したフランスの思想家の名を答えなさい。
- (3) 図のように三権が均衡を保ち、抑制しあうしくみがとられている理由を答えなさい。
- (4) 次の文章は三権の均衡と抑制の図の A ~ のどこにあてはまるか答えなさい。



刑法 200 条「尊属殺人は死刑又は無期懲役」は憲法 14 条違反であると判決が

下り、1973 年に最高裁で違憲判決がでて 1995 年に刑法 200 条が削除された。

国会で多数を占めた自民党が分裂し、宮沢内閣の内閣不信任案が可決した。

自民、公明、保守の三党が森喜朗氏を内閣総理大臣に指名し、過半数を占めた。

三木首相の名をかたり、捜査情報を手に入れようとして判事補が、弾劾裁判所で有罪となり、裁判官の地位を失った。

やめさせたほうが良いと思う最高裁判所の裁判官の名前に×をつける。

[解答欄]

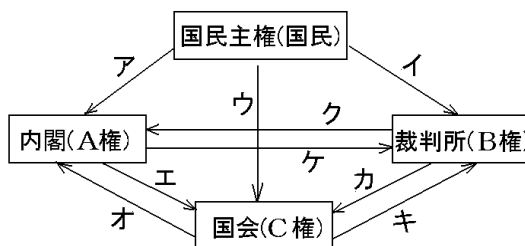
(1)			(2)
(3)			
(4)			

[解答](1) 国民 行政 司法 (2) モンテスキュー (3) 権力の集中による、権力の濫用をふせぐため。 (4) H A A G F

[問題](2 学期中間)

日本の政治のしくみについての次の図について、各問いに答えなさい。

- (1) A ~ C の空欄にあてはまる語句を書きなさい。
- (2) 次の ~ の内容は、図の中の A ~ ケのどの部分にあてはまりますか。記号で答えなさい。



首相は、国会議員の中から選ばれる。

参議院議員の選挙が行われた。

地方裁判所の裁判官である A 氏が犯罪を犯したということで、その職を辞めさせるかどうかという話し合いがもたれた。

内閣に対する国民の期待が高く、その支持率が高い。

最高裁判所長官の指名と裁判官の任命が行われた。

内閣は臨時国会の召集を決定した。

衆議院議員定数について 1 票の価値が異なるのは憲法違反であると、最高裁判所が判決を下した。

最高裁判所の裁判官については国民審査が行われる。

裁判所は行政事件について裁判を行う。

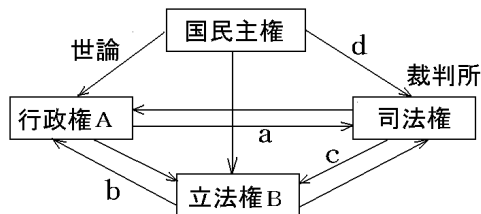
[解答欄]

(1)A	B	C	(2)

[解答](1)A 行政 B 司法 C 立法 (2) オ ウ キ ア ケ エ
カ イ ク

[問題](2 学期中間)

右の図を見て、次の各問いに答えなさい。

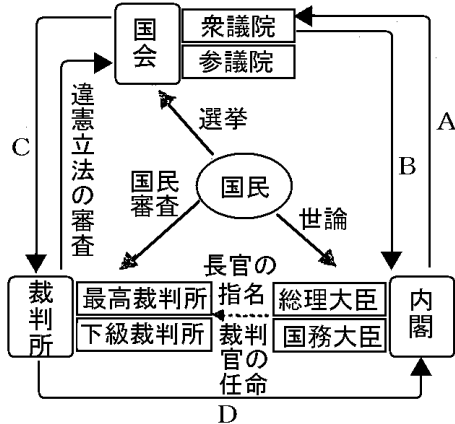


- (1) 図の A, B にあてはまる機関の名を書きなさい。
- (2) 図の a ~ d にあてはまることから次のア ~ オから 1 つずつ選び 記号を書きなさい。
ア 違憲立法の審査
イ 最高裁判所長官の指名
ウ 選挙
エ 国民審査
オ 内閣総理大臣の指名
- (3) 違憲審査制において、法令が合憲か違憲かの最終決定権をもち、「憲法の番人」とよばれるのはどこですか。

[問題](2 学期中間)

右の図を見て、各問いに答えなさい。

- (1) 図中の矢印 A~D が示すものを、次からそれぞれ選び記号で答えよ。
 ア 内閣不信任の決議
 イ 行政処分の違憲審査
 ウ 裁判官の弾劾
 エ 衆議院の解散
- (2) 三権の抑制と均衡はどのようなねらいをもっているか。「権力」「集中」という語句をつかい、簡潔に説明せよ。



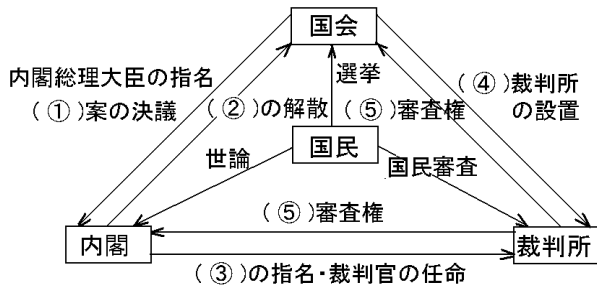
[解答欄]

(1)A	B	C	D
(2)			

[解答](1) A エ B ア C ウ D イ (2) 権力の集中による権力の濫用をふせぐため。

[問題](2 学期期末)

次の三権の抑制と均衡の関係の図を見て問題に答えなさい。



- (1) 上の図の ~ にあてはまる言葉を答えなさい。
 (2) 国会、内閣、裁判所の三権を分けているのはなぜか、簡単に説明しなさい。

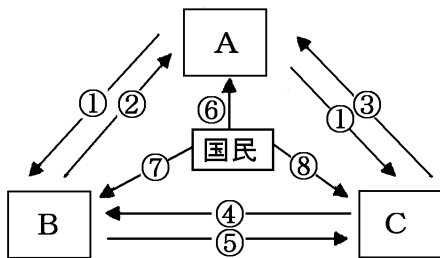
[解答欄]

(1)		
(2)		

[解答](1) 内閣不信任 衆議院 最高裁判所長官 弾劾 違憲 (2) 権力の集中による、権力の濫用をふせぐため。

[問題](2 学期期末)

次は、日本の三権分立のしくみを表したものです。ただし、Aには「違憲審査」、Bには「選挙」が入ります。



(1) A ~ Cに入る語を、それぞれ下の[]から選びなさい。

- [国民審査 国政調査 裁判官の任命
衆議院の解散 不信任決議 選挙
弾劾裁判 内閣総理大臣の任命]

(2) Bには「政治や社会について、多くの国民が思っている意見」を意味する語が入ります。この語を漢字2文字で書きなさい。

(3) (2)のあり方に大きな影響をおよぼす、マスメディアの具体例を1つ、書きなさい。

(4) A~Cに「国会」「内閣」「裁判所」の、どれかを入れなさい。

[解答欄]

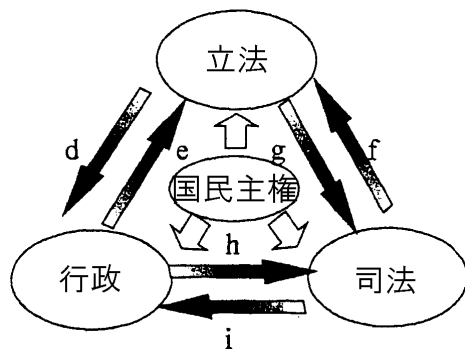
(1)			
	(2)	(3)	(4)A
B	C		

[解答](1) 弾劾裁判 裁判官の任命 衆議院の解散 不信任決議 国民審査 (2) 世論 (3) 新聞 (4)A 裁判所 B 国会 C 内閣

[問題](2 学期期末)

以下の文章と右の三権分立の図を見て各問いに答えなさい。

三権分立は()という著書でモンテスキューが示した原理である。三つの権力が互いに()しあって均衡を保つことによって権力の集中を防ぐ政治制度である。日本では三権が分立しているが、立法と行政が密接に結びついている()という制度を採用



し、内閣は国会の()に基づいて成立し国会に対して連帯して責任を負っている。右の図では国民と内閣は()で結びついている。これに大きな影響を及ぼすのは()で、これらの機関によって内閣の支持率などが公表されている。司法は司法権の独立という原則のもと、裁判官は憲法と法律にのみ従い、自分の()に従って裁判を行う。

- (1) 文中の ~ にあてはまる語句を書きなさい。
- (2) 図中 d には総理大臣の指名と何が入りますか。書きなさい。
- (3) 図中 f には違憲立法審査権が入ります。どんな権限か説明しなさい。
- (4) 図中 g には何が入りますか。書きなさい。

[解答欄]

(1)			
			(2)
(3)			(4)

[解答](1) 法の精神 抑制 議院内閣制 信任 世論 マスメディア
良心 (2) 内閣不信任の決議 (3) 法律や国の行為が憲法に違反していないか審査する権限。 (4) 弾劾裁判

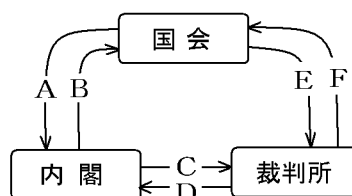
[問題](2 学期期末)

次の各問いに答えなさい。

- (1) 次のア～エのことは、右の図の A～F のどれにあてはまるか。A～F の記号で答えなさい。

ア 弾劾裁判 イ 衆議院の解散
ウ 内閣総理大臣の指名 エ 違憲立法審査権

- (2) 図に示されている政治のしくみを漢字で書きなさい。



- (3) (2)のことが行われている理由を、「監視」「濫用」という言葉を使って説明しなさい。

[解答欄]

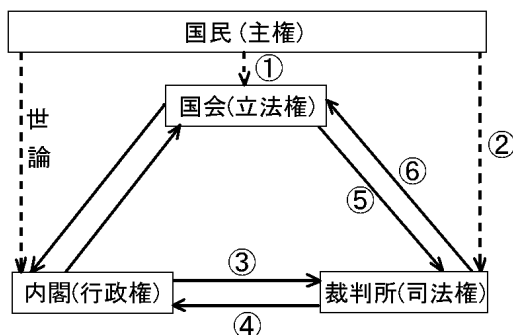
(1)ア	イ	ウ	エ	(2)
(3)				

[解答](1)ア E イ B ウ A エ F (2) 三権分立 (3) 三権を互いに監視させ、権力の集中による権力の濫用をふせぐ目的。

[問題](2 学期中間)

右の図を見て、各問いに答えなさい。

- ア 選挙
- イ 国民審査
- ウ 内閣不信任決議
- エ 最高裁判所長官の指名
- オ 行政処分の違憲・違法
- カ 違憲立法の審査
- キ 裁判官の弾劾裁判
- ク 衆議院の解散
- ケ 国会召集の決定



- (1) 図の ~ にあてはまることばを上のア～ケから1つずつ選んで記号で書きなさい。
- (2) 図のように国の権力を立法、行政、司法の三権に分け、それぞれ国会、内閣、裁判所に担当させるしくみを何というか。
- (3) なぜ、(2)の解答のようなしくみをとっているのか。簡潔に説明しなさい。

[解答欄]

(1)			
		(2)	
(3)			

[解答](1) ア イ エ オ キ カ (2) 三権分立 (3) 権力の集中による権力の濫用をふせぐため。

[問題](後期中間)

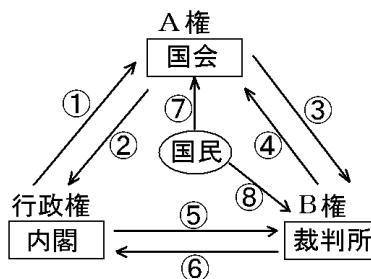
右の図をもとに、以下の各問いに答えなさい。

- (1) 図中 A, B に当てはまる言葉を答えなさい。
- (2) 次のア, イは図中の何番に当たるか、また、それぞれ何と呼ばれるか。

ア 自分が裁判を担当する被告からゴルフセットを受け取ったとして、裁判官 T は裁判官をやめさせられた。

イ 最高裁判所の裁判官は、衆議院議員選挙の際に審査を受ける。

- (3) 民主主義の原則に照らし、三権分立はなぜ大切なのか。簡単に説明しなさい。



[解答欄]

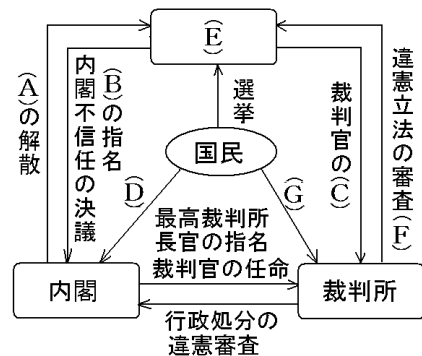
(1)A	B	(2)ア	イ
(3)			

[解答](1)A 立法 B 司法 (2)ア , 弾劾裁判 イ , 国民審査 (3) 権力の集中による, 権力の濫用をふせぐため。

[問題](2 学期期末)

右の図をみて, 各問いに答えなさい。

- 図中の A ~ E にあてはまる語句を書きなさい。
- 図中の G は, 最高裁判所の裁判官が適任であるかどうかを審査する仕組みであるが, これを何というか。
- 衆議院で内閣不信任の決議が出された場合, 内閣はどのような対応をするか。
- 図中の F の違憲審査制について次の語句を使って簡潔に説明しなさい。
(法律, 憲法)
- 図のように, 国の権力を 3 つに分けて, それぞれを独立した機関が担当することを何というか。
- (5)のようなくみが取られているのはなぜか。簡潔に説明しなさい。



[解答欄]

(1)A	B	C	D
E	(2)		
(3)			
(4)			(5)
(6)			

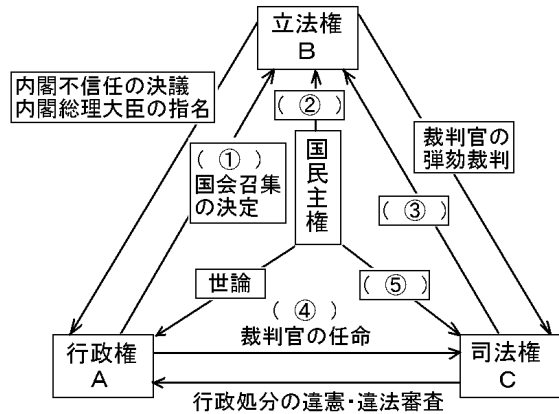
[解答](1)A 衆議院 B 内閣総理大臣 C 弾劾裁判 D 世論 E 国会 (2) 国民審査 (3) 衆議院を解散するか, 10 日以内に総辞職する。 (4) 国会が制定した法律が憲法に反しないか否かを審査する。 (5) 三権分立 (6) 権力の集中による, 権力の濫用をふせぐため。

[問題](3 学期)

三権分立について下の各問いに答えなさい。

(1) 右の図 ~ に当てはまるものを記号で答えなさい。

- ア：国民審査 イ：関税自主権
- ウ：選挙 エ：違憲立法審査権
- オ：衆議院の解散 カ：大統領制
- キ：公的資金の投入
- ク：最高裁判所長官の指名



(2) 図の A の機関の名称を答えなさい。

(3) 図の B の機関は憲法で国権の何と記されているか。

(4) 図の B の機関で、予算の先議権はどちらの議院にあるか答えなさい。

(5) 図の C の機関で、札幌市に設置されていないものは何か答えなさい。

(6) 三権分立を説いたモンテスキューの著書は何か。

[解答欄]

(1)			
	(2)	(3)	(4)
(5)	(6)		

[解答](1) オ ウ エ ク ア (2) 内閣 (3) 最高機関 (4) 衆議院
 (5) 最高裁判所 (6) 法の精神

[問題](3 学期)

日本国憲法は、権力の濫用を防ぐため、三権分立のしくみを定め、a 国会に立法権を、内閣に行政権を、裁判所に司法権をそれぞれ分担させ、b 各機関がたがいに抑制し合って、均衡を保つようにしている。

(1) 下線部 a に関して、国会のはたらきとして誤っているものを選びなさい。

- ア 条約の締結 イ 法律の制定 ウ 予算の議決 エ 内閣総理大臣の指名

(2) 下線部 b に関する説明として誤っているものを選びなさい。

- ア 内閣は、衆議院で内閣不信任決議案が可決されると、衆議院を解散するか、総辞職しなければならない。
- イ 裁判所は、国会が制定した法律が憲法に違反していないか判断する違憲立法審査権を持っている。

- ウ 国会は、国会議員の中から、内閣総理大臣を指名する。内閣総理大臣は、国務大臣を任命する。ただし、その過半数は国会議員でなければならない。
- エ 内閣は、弾劾裁判所を設け、重大なあやまちのあった裁判官をやめさせることができる。

[解答欄]

(1)	(2)
-----	-----

[解答](1) ア (2) エ

[問題](2 学期期末)

右は、18 世紀中ごろにモンテスキューが著した書物の一部分です。

- (1) 書物名を書きなさい。
- (2) () に共通する漢字 2 文字を入れなさい。
- (3) 文中の「執行権」を与えられている、日本の国家機関を何といいますか。漢字 2 文字で答えなさい。
- (4) 三権はお互いに抑制しあうしくみを持っていますが、日本国憲法第 41 条では国会を特に「国権の最高機関」としています。なぜ最高か、根拠を簡単に述べなさい。

同一人、または同一の執政官団体の掌中に立法権と執行権が結合されているときには自由はない。なぜなら、同じ君主あるいは同じ元老院が暴政的な法律を定め、それを暴政的に執行するおそれがありうるからである。() 権が、立法権と執行権から分離されていないときにもまた、自由はない。もしそれが、立法権に結合されていれば、市民の生命と自由を支配する権力は恣意的であろう。なぜならば、() 官が立法者なのだから。もしそれが執行権に結合されていれば、() 官は压制者の力をもちうることになる。

[解答欄]

(1)	(2)	(3)
(4)		

[解答](1) 法の精神 (2) 司法 (3) 内閣 (4) 選挙によって選ばれた国会議員によって構成されるから。

[問題](前期期末)

次の文の空欄に記入すべき最適語を語群より選び、記号で答えよ。

我が国の政治組織の原理としては、イギリスのロックやフランスの(1)がとなえた権力分立制が採用されている。しかし、アメリカの大統領制と異なり、お互いに関係しあいながら、権力の行き過ぎを防ぎ、バランスのとれた政治を行なうという方法をとっている。

国会の地位は国権の(2)であり、唯一の(3)であるとされ、国会が制定した法律に基づき、法律に従って政治が行われる。日本の国会は衆議院と参議院とで構成される(4)をとっている。これは慎重な審議を行う意味からも重要なことであり、両院の性格が異なる構成となっている。また、両院の議決が対立した場合は、(5)の優越が認められている。

日本の政治体制は、国会と内閣が密接な関連をもっている(6)である。内閣総理大臣は(7)の中から(8)の議決で指名され、内閣総理大臣が任命する(9)の過半数は国会議員でなければならない。また内閣は、行政権の行使にあたり、国会に対して(10)を負い、国会の信任を得なければ存立できない。内閣は、憲法第 73 条に規定されているように、いろいろな仕事があるが、特に重要なことが(11)を誠実に施行し、国務を総理することである。また、(12)を処理し、(13)を締結する。内閣が法律で決められたことを実施するために定めるきまりは(14)である。また、そのほかに天皇の国事行為について(15)と(16)を与えること、最高裁判所長官の指名その他の裁判官の任命などもその職務である。

すべて司法権は(17)と法律の定めるところにより設置する(18)に属するとなっている。日本国では、一つの事件について裁判を三段階まで求められる(19)を取り入れており、判決が不服の時は、上級の裁判所に裁判を求めることができる。また、裁判には、刑事裁判と民事裁判がある。裁判は社会の秩序を維持し、国民の権利を守るものであるから、公正に行われる必要がある。そこで司法権にはいかなる国家機関・社会的勢力・人からも干渉を受けず、指揮命令にも拘束されない原則がある。このため、裁判官には憲法によりきわめて強い身分保証がなされている。

(語群)

- ア)命令 イ)指名 ウ)任命 エ)助言 オ)国務大臣 カ)批准 キ)政令
ク)有限責任 ケ)最高機関 コ)承認 サ)国会 シ)連帯責任
ス)衆議院 セ)国会議員 ソ)立法機関 タ)ペリー チ)参議院議員
ツ)衆議院議員 テ)憲法 ト)モンテスキュー ナ)参議院 ニ)大統領制
ヌ)最高裁判所 ネ)シラク ノ)条約 ハ)議院内閣制 ヒ)三審制
フ)下級裁判所 ヘ)法律 ホ)二院制 マ)外交関係

[解答欄]

(1)	(2)	(3)	(4)
(5)	(6)	(7)	(8)
(9)	(10)	(11)	(12)
(13)	(14)	(15)	(16)
(17)	(18)	(19)	

[解答](1) ト (2) ケ (3) ソ (4) ホ (5) ス (6) ハ (7) セ (8) サ (9) オ (10) シ
(11) ヘ (12) マ (13) ノ (14) キ (15) エ (16) コ (17) ヌ (18) フ (19) ヒ

[印刷 / 他の PDF ファイルについて]

このファイルは、FdData 中間期末社会公民(7,200 円)の一部を PDF 形式に変換したサンプルで、印刷はできないようになっています。製品版の FdData 中間期末社会公民は Word(または一太郎)の文書ファイルで、印刷・編集を自由に行うことができます。

FdData 中間期末(社会・理科・数学)全分野の PDF ファイル、および製品版の購入方法は <http://www.fdtype.com/dat/> に掲載しております。

下図のような、[FdData 無料閲覧ソフト(RunFdData)]を、Windows のデスクトップ上にインストールすれば、FdData 中間期末・FdData 入試の全 PDF ファイル(各教科約 1500 ページ)を自由に閲覧できます。次のリンクを左クリックするとインストールが開始されます。

RunFdData(Word 版) 【 <http://www.fdtype.com/lnk/instRunFdDataWDs.exe> 】

RunFdData(一太郎版) 【 <http://www.fdtype.com/lnk/instRunFdDataTAs.exe> 】

ダイアログが表示されたら、【実行】ボタンを左クリックしてください。インストール中、いくつかの警告が出ますが、[実行][許可する][次へ]等を選択します。

【イメージ画像】



【Fd 教材開発 : URL <http://www.fdtype.com/dat/> Tel (092) 404-2266】