

【】地方公共団体

[問題](増補 10)(2 学期期末)

わたしたちが住んでいる都道府県や市町村を地方自治体，または何というか。

[解答欄]

[解答]地方公共団体

[解説]

都道府県と市町村を<sup>ちほうこうきゅうだんたい</sup>地方公共団体(地方自治体)という。  
地方自治とは，住民が自分たちの住んでいる地域を自主的に治めることを意味する。地方公共団体は，身近な生活についての独自の地域に適応した<sup>じょうれい</sup>条例を法律の範囲内で制定できる。

【地方公共団体】  
・都道府県・市町村など  
地方自治を行う単位  
・法律の範囲で 条例 を制定

憲法 92 条は「地方公共団体の組織及び運営に関する事項は，地方自治の本旨に基いて，法律でこれを定める。」と定めている。これにもとづいて制定された法律が地方自治法である。

[問題](2 学期期末)

地方公共団体とは何か。

[解答欄]

[解答]市町村や都道府県など地方自治を行う単位

[問題](2 学期中間)

次の各問いに答えなさい。

- (1) 住民が自分たちの住んでいる地域を自主的に治めることを何といいますか。
- (2) 都道府県や市町村など一定の地域を基盤として，(1)をおこなっている団体を何といいますか。
- (3) 地方議会の議決を経て，その地方公共団体だけに適用される自主的な法を何といいますか。

[解答欄]

(1)	(2)	(3)
-----	-----	-----

[解答](1) 地方自治 (2) 地方公共団体 (3) 条例

[問題](後期中間)

次の問いに答えよ。

- (1) 地域に住む人々の意志と責任で政治を行うことを何というか。
- (2) その地方公共団体にだけに適用される決まりを何というか。

[解答欄]

(1)	(2)
-----	-----

[解答](1) 地方自治 (2) 条例

[問題](2 学期期末)

地方自治体が身近な生活について制定することができる決まりを何といいますか。

[解答欄]

--

[解答]条例

[問題](増補 10)(2 学期期末)

地方公共団体は( )法という法律にもとづいて政治を行っている。( )法は( )の規定にもとづいて制定されている。

[解答欄]

--	--

[解答] 地方自治 憲法

【】民主主義の学校

[問題](2 学期期末)

地方自治とは、住民が自分たちの住んでいる地域を自主的に治めることを意味します。そのため、地方自治は何の学校といわれていますか。

[解答欄]

[解答]民主主義の学校

[解説]

規模の大きくない地方政治は、直接民主制が実現しやすく、一般の人々が民主主義を学ぶには最高の場である。この意味で、イギリスの政治学者ジェームズ＝ブライス(1838～1922)は「地方自治は民主主義の学校」と表現した。

地方自治は  
民主主義の学校

[問題](増補 10)(2 学期期末)

地方自治が「民主主義の学校」といわれている理由を説明せよ。

[解答欄]

[解答]規模の小さい地方政治では直接民主制が実現しやすく、一般の人々が民主主義を学ぶには最高の場であるから。

[問題](2 学期期末)

文中 ～ に適する語句をいれなさい。

地方の政治は( )の原則により、住んでいる住民の手で行うことが基本である。そのため、「( )の学校」と呼ばれている。都道府県や市町村のことを( )といい、その長のことを( )と呼んでいる。ではその団体だけに通用するきまりである( )を制定している。

[解答欄]


[解答] 地方自治      民主主義      地方公共団体(地方自治体)      首長      条例

[問題](2 学期期末)

次の文を読んで、後の問いに答えなさい。

- (1) 住民が自分たちの住んでいる地域を自主的に治める、という原則を何といいますか。
- (2) (1)はまた、「( )の学校」、とも呼ばれています。( )にあてはまる語句を書きなさい。

[解答欄]

(1)	(2)
-----	-----

[解答](1) 地方自治 (2) 民主主義

## 【】地方分権

[問題](2 学期期末)

政治を行う権力を国だけに集中させずに、地方公共団体にできるだけ多くの権力を与え、地方の行政や財政を担当させることを何といいますか。

[解答欄]

[解答]地方分権

[解説]

地域の問題に国(中央政府)があまり関与しないで、できるだけその地域に住む住民の判断にゆだねるしくみを地方分権という。1999年にいわゆる地方分権一括法が制定され、県や市町村が国の下請け機関のようになっていた中央集権の性格を改めるため、それまで国がやっていた仕事を、各自治体にまかせるようになった。例えば、「1クラスの児童生徒数」の決定権が国から地方公共団体に移され、地方公共団体が独自の判断で「少人数学級」をつくることも可能になった。

また、2002年12月に構造改革特別区域法が成立し、構造改革特区の制度が設けられた。これは当時の小泉内閣の規制緩和政策として採用されたものである。従来の法規制等の関係で事業化が不可能な事業を、ある地域に限って認めるものである。例としては、認可第1号となった群馬県太田市の外国語教育特区がある。これは小学校から高校まで国語などを除き、すべて英語で授業を行うという構想である。そのほかにも、公立学校の民間移託、株式会社による農地の賃借と大規模経営などがある。このような試みは、全国一律だった地方自治に風穴を開けるものである。また、特区で行われた政策が十分な効果をあげた場合、全国に拡大されるので、規制緩和の呼び水にもなることが期待されている。

### 【地方分権】

中央集権 → 地方分権

1999年 地方分権一括法

2002年 構造改革特区の制度

[問題](増補 10)(2 学期期末)

国が地方公共団体に、行政や財政上の自治を大幅に認め、地方公共団体が独自性を発揮して活動できるようにする仕組みを何といいますか。

[解答欄]

[解答]地方分権

[問題](増補 10)(2 学期期末)

地方分権を進めるため、1999 年に制定され、翌年から施行されている法律は何か。

[解答欄]

[解答]地方分権一括法

[問題](増補 10)(2 学期期末)

私の住んでいる熊本県宇城(うき)地区では、高齢者福祉施設に障害のある子どもを受け入れています。これは、ある地域に限って、規制を緩和する( )特区の指定を受けたことによりできたことだそうです。

[解答欄]

[解答]構造改革

[問題](増補 10)(2 学期期末)

私の住んでいる市では、英語で授業をする小中高一貫校が新設されました。これは、ある地域に限って規制を緩和する( )に認定されたからできたのだそうです。

[解答欄]

[解答]構造改革特区

## 【】首長

[問題](2 学期中間)

都道府県の首長を何といいますか。

[解答欄]

[解答]都道府県知事

[解説]

地方公共団体の執行機関(行政)の長を首長という。都道府県の首長は都道府県知事で、市町村の首長は市町村長である。

[問題](2 学期期末)

地方政治について、各問いに答えなさい。

- (1) 地方自治体の執行機関の長を何といいますか。
- (2) また、(1)の人たちは内閣総理大臣と違って、どんな方法で選ばれますか。簡単に説明しなさい。

[解答欄]

(1)	(2)
-----	-----

[解答](1) 首長 (2) 住民の直接選挙で選ばれる。

[解説]

首長(都道府県知事、市町村長)がはいずれも住民の直接選挙で選ばれる。都道府県知事の被選挙権は30歳以上、市町村長の被選挙権は25歳以上である。

【首長】

首長 (都道府県知事(被選挙権は30歳以上)  
市町村長(被選挙権は25歳以上)  
↑  
住民が直接、選挙で選ぶ

住民の直接選挙で選ぶというので、国の行政権の長である内閣総理大臣の選出方法と異なっている。

[問題](2 学期中間)

文中の( )にあてはまる語句を書きなさい。

地方自治を具体化するため、住民には、首長や地方議員を( )したり、要望を陳情したりすることができる。

[解答欄]

[解答]選挙

[問題](2 学期期末)

次の文を読んで、あとの問いに答えなさい。

私たちが生活している都道府県や市町村を( A )という。日本国憲法は、この(A)の政治が、住民の手により、住民のために行なわれるという地方自治の原則を打ち立てた。国の政治が国会で選ばれる首相を中心に行われるのに対し、X 地方行政の責任者は、住民によって( B )選ばれ、また、都道府県議会や市町村議会などの地方議会も、住民によって(B)選挙された議員によって構成される。

(1) 文中の(A)，(B)に適語を漢字で書きなさい。

(2) 文中の下線部 X のことを一般的に何と呼んでいますか。漢字で書きなさい。

[解答欄]

(1)A	B	(2)
------	---	-----

[解答](1)A 地方公共団体 B 直接 (2) 首長

[問題](増補 10)(2 学期期末)

地方の政治について、その説明として正しいものを、次のア～ウから記号で 1 つ選びなさい。

ア 地方議会は、国会と同じように二院制である。

イ 首長は、地域住民が直接選挙で選ぶ。

ウ 地方議会の議員の被選挙権は、20 歳以上である。

[解答欄]

[解答]イ

[問題](増補 10)(2 学期期末)

都道府県知事の被選挙権は、何歳以上かを書きなさい。

[解答欄]

[解答]30 歳以上

[解説]

都道府県知事の被選挙権は 30 歳以上、市町村長の被選挙権は 25 歳以上である。また、地方議会の議員の被選挙権は 25 歳以上である。

[問題](2 学期中間)

選挙権と被選挙権は一定の年齢になるとあたえられる。選挙権は 20 歳以上であるが、都道府県知事と、市町村長と地方議会の議員の被選挙権はそれぞれ何歳以上か。

[解答欄]

--	--

[解答] 30 歳以上 25 歳以上

[問題](増補 10)(2 学期期末)

次のうち、被選挙権が満 30 歳以上と定めてあるものを選んで書きなさい。

[市町村長 市町村議会議員 都道府県知事 都道府県議会議員]

[解答欄]

--

[解答]都道府県知事

## 【】首長と地方議会

[問題](2 学期期末)

下の文章の(ア)～(オ)にあてはまる語句を書きなさい。

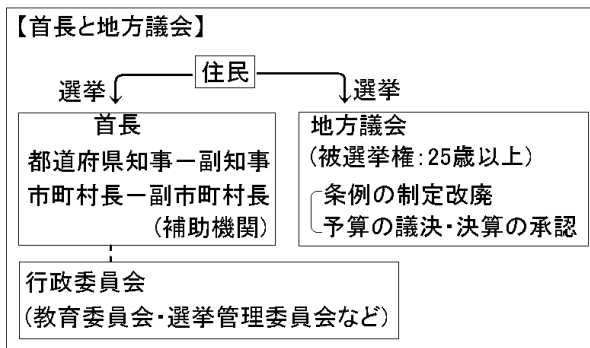
地方公共団体の仕事は、住民の手により、住民のために行われているという(ア)の原則で運営されている。地方公共団体の長である(イ)や、議会である(ウ)の議員は、住民から直接(エ)で選ばれる。地方公共団体は、身近な生活についての独自の地域に適應した(オ)を制定している。

[解答欄]

ア	イ	ウ	エ
オ			

[解答]ア 地方自治 イ 首長 ウ 地方議会 エ 選挙 オ 条例

[解説]



地方公共団体の議決機関は地方議会である。地方議会には都道府県議会と市町村議会がある。これらの地方議会は、住民の直接選挙で選ばれた議員から構成される。議員の被選挙権は25歳以上で、任期は4年である。

地方議会は、地域の実情や住民の意思を生かして予算を決め、決算を承認し、地方税の率や公共料金などを定め、条例の制定や改定、廃止などを行う。議会や議事録は原則として公開されており、住民は誰でも自分たちの意志を生かした決定がなされているかを確かめることができる。

行政を行うのが執行機関で、その長を首長(都道府県知事と市町村長)という。首長の補助機関として、都道府県知事の下には副知事、市町村長の下には副市長が置かれている。首長から独立した機関としては、監査委員と、公安委員会(警察関係)・教育委員会(教育関係)・選挙管理委員会(選挙関係)などの行政委員会が置かれている。

[問題](1 学期期末)

次の各文は住民が選ぶ首長と議会についてのもので、空欄に適語を記入しなさい。

私たち住民の意志を代表する( )機関として、( )議会と( )議会がある。これらの( )議会は、( )の選挙で選ばれた議員から構成される。議会は、地域の実情や住民の意思を生かして( )を決め、( )を承認し、( )税の率や( )料金などを定め、( )の制定や改定、廃止などを行う。議会や議事録は原則として( )されており、住民は誰でも自分たちの意志を生かした決定がなされているかを確認することができる。

首長を助ける機関として、都道府県には( )がおかれている。また、首長に権力が集中するのを防ぎ、公正な行政の運営を行うために、首長から独立した( )会や( )会などがおかれている。

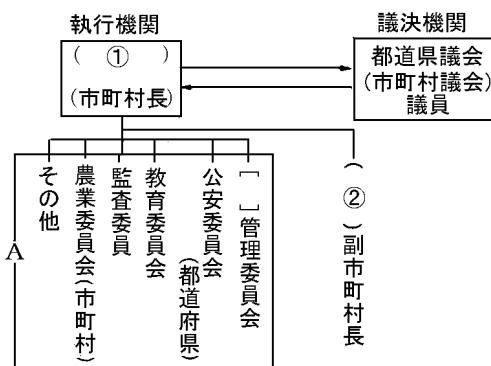
[解答欄]


[解答] 議決 都道府県 市町村 地方 住民 予算 決算  
地方 上下水道 条例 公開 副知事 教育委員 選挙管理委員

[問題](2 学期期末)

次の各問いに答えなさい。

- 右の図は、地方の政治のしくみを示しています。( )~( )にあてはまる語を答えなさい。
- 図中の A は、公正な行政を行うため、首長から独立した組織になっています。[ ]にあてはまる語を答えなさい。



[解答欄]

(1)	
(2)	

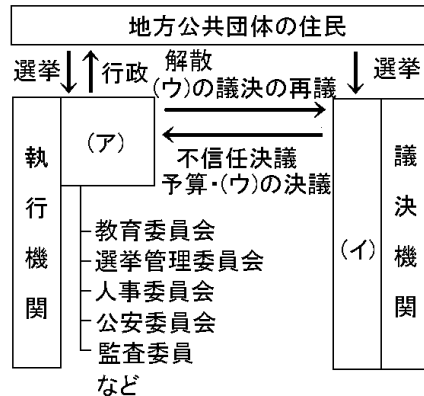
[解答](1) 都道府県知事 副知事 (2) 選挙

[問題](2 学期期末)

右の図を見ながら，各問いに答えなさい。

地方公共団体には都道府県と市(区)町村があり，互いに似かよったしくみをもっている。地方公共団体の長は一般に A(ア)とよばれ，地方行政の責任者である。(ア)は執行機関の中心であり，B 住民による直接選挙で選ばれる。

(イ)は地方公共団体の意思を決める機関で，やはり住民によって直接選挙された C 議員によって構成されている。(イ)は予算の議決や決算の承認，(ウ)の制定・改廃などを仕事としている。



- (1) 文中の(ア)～(ウ)にあてはまる語句を書きなさい。
- (2) 下線部 A について，都道府県の(ア)を何といますか。
- (3) 下線部 B について，(2)の被選挙権は何歳以上ですか。
- (4) 下線部 C の議員の任期は何年ですか。

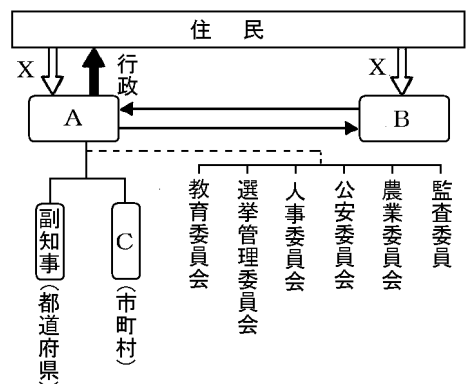
[解答欄]

(1)ア	イ	ウ	(2)
(3)	(4)		

[解答](1)ア 首長 イ 地方議会 ウ 条例 (2) 都道府県知事 (3) 30 歳以上 (4) 4 年

[問題](増補 10)(2 学期期末)

- (1) 図中の X にあてはまる語句を答えなさい。
- (2) 図中の A にあてはまる語句を漢字 2 字で答えなさい。(都道府県知事，市町村長という地方の行政機関の代表者のこと)
- (3) 図中の C は，市町村長を補佐する役職である。これを何というか。
- (4) 次の文は，図中の A，B の関係について述べている。～にあてはまる語句を漢字で答えなさい。(B には，地方議会があてはまる)



A は地方行政の責任者であり，B は( )の議決や決算の承認，( )の制定・改廃を行う。B は，A の政治の方針に反対のときは，( )の決議をすることができる。

[解答欄]

(1)	(2)	(3)	(4)

[解答](1) 選挙 (2) 首長 (3) 副市町村長 (4) 予算 条例 不信任

[問題](2 学期期末)

地方議会の議員の任期は何年か。

[解答欄]

[解答]4 年

## 【】 首長と地方議会

[問題](2 学期期末)

地方議会は、首長の方針に反対であれば、どんな決議をすることができますか。

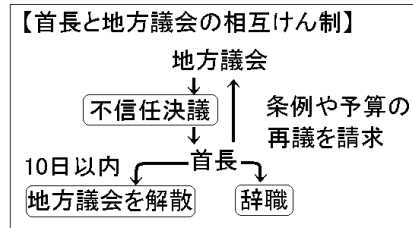
[解答欄]

[解答] 不信任の決議

[解説]

国政の場合と同様に地方議会は首長の不信任の議決をすることができます。議会の不信任議決がなされた場合、首長は10日以内に議会を解散することができます。10日以内に議会を解散しないとき、または、解散後はじめての議会でふたたび不信任の議決を受けたときは、首長は辞職しなければならない。

首長は、議会が決めた条例や予算に反対のときは、10日以内に、その理由をつけて審議のやり直しを求めることができます。これを再議請求権という。(内閣の場合はこのような権限はない。すなわち、国会が議決した法律を拒否したり、審議のやり直しを求めたりすることはできない。)



[問題](1 学期期末)

首長と議会はともに住民の意思を代表するので、両者が対立したり、干渉し合うのを防ぎ、調和を保てるように工夫されている。例えば議会は首長の方針に反対であれば、( )の議決をすることができる。それに対して、首長は議会の( )権を持っている。

[解答欄]

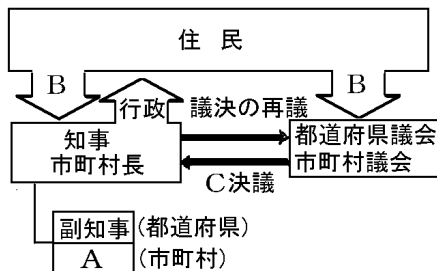
--	--

[解答] 不信任 解散

[問題](増補 10)(2 学期期末)

図中の A～C にあてはまる語句を、次から選んで書きなさい。

[解散 不信任 選挙 指名 副市町村長 地方議会議員]



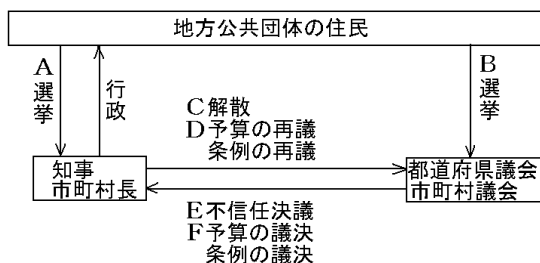
[解答欄]

A	B
C	

[解答]A 副市町村長 B 選挙 C 不信任

[問題](増補 10)(2 学期期末)

下の図の A～F のうち、国の政治には取り入れられていないもので、地方公共団体にだけ取り入れられているものを 2 つ選びなさい。



[解答欄]

[解答]A, D

[解説]

A：地方公共団体の首長は住民の直接選挙で選ばれるが、国の内閣総理大臣は国会の指名で選出される。

D：首長は、議会が定めた条例や予算に反対のときは、その理由をつけて審議のやり直しを求めることができる。国の場合には、内閣にはこのような権限はない。

[問題](増補 10)(後期中間)

地方公共団体が定める条例について述べた文としてあてはまらないものを次から選び、記号で書け。

- ア 地方公共団体は、法律の範囲内で条例を制定する。
- イ 条例の制定には、住民投票による過半数の賛成が必要である。
- ウ 知事や市町村長は、条例の制定に関する議会の議決に対して、審議のやり直しを求めることができる。
- エ 住民は条例の制定や改廃を直接要求することができる。

[解答欄]

[解答]イ

[解説]

イが誤り。条例の制定を行うのは地方議会である。住民投票は必要ない。  
ウは正しい。地方公共団体では国の場合と違って、首長は住民の直接選挙によって選ばれるので、首長にかなり強い権限が認められている。すなわち、首長は、議会が決めた条例や予算に反対のときは、10 日以内に、その理由をつけて審議のやり直しを求めることができる。国の場合は、国会が議決した法律や予算を内閣が拒否する権限はない。

【】地方公共団体の仕事

[問題](2 学期中間)

地方公共団体の仕事にあてはまるものを，次のア～カから 4 つ選んで記号を書きなさい。

- ア 福祉施設の建設      イ 条約の承認      ウ 上下水道の整備  
エ 消防・水防          オ 郵便事業          カ ごみの収集や処理

[解答欄]

[解答]ア，ウ，エ，カ

[解説]

地方公共団体の仕事としては，まちづくりの基礎になる，道路や河川，上下水道などの建設や管理(ただし，大河川や空港・港は国の管理) ごみの収集や処理，保健所の設置・管理，消防・水防，学校の設置・運営，図書館・公民館の設置や運営，高齢者福祉や障害者福祉，介護保険の運営 などがある。

【地方公共団体のしごと】

- ・道路，河川，上下水道  
(国道，大河川，空港は国)
- ・学校，図書館，公民館
- ・ゴミ，消防，保健所
- ・福祉施設，介護保険の運用

[問題](2 学期期末)

地方公共団体の仕事として正しくないものを次から一つ選び，記号で答えなさい。

- ア 地方税の徴収      イ 介護保険の運営      ウ 学校の設置  
エ ごみの処理      オ 大河川や空港・港の管理      カ 条例の制定

[解答欄]

[解答]オ

[問題](後期中間)

ア～エの中から，地方公共団体の仕事に当てはまらないものを一つ選び，記号で答えなさい。

- ア 郵便の配達      イ 学校の設置や管理      ウ ごみの収集や処理      エ 上下水道の整備

[解答欄]

[解答]ア

[問題](2 学期期末)

地方公共団体の仕事としてあてはまらないものを2つ選んで答えなさい。

- ア 上下水道の整備    イ ごみ処理のしごと    ウ 消防の仕事  
エ 郵便局の仕事    オ 地域の高齢者や障害のある人への支援  
カ 地方裁判所の設置    キ 図書館・公民館の設置

[解答欄]

[解答]エ, カ

[問題](前期期末)

次の仕事の中で、本来、国が行うべき事務であるが、法律・政令にもとづいて地方公共団体が処理しているものを選び、記号で答えよ。

- ア)交通の取り締まり    イ)パスポートの交付    ウ)消防    エ)保健所の設置・管理

[解答欄]

[解答]イ

[問題](2 学期期末)

次の各問いに答えなさい。

(1) 次の中から、地方自治体の仕事ではないものを記号で選びなさい。

- ア 郵便局の設置や運営    イ 地方裁判所の設置  
ウ 図書館・公民館の設置や運営    エ ゴみの収集や処理    オ 上下水道の整備

(2) また(1)の他にも地方自治体には次のような仕事があります。次の文中の( )に共通してあてはまる語句を答えなさい。

地方自治体の仕事には、地域の高齢者や障害のある人への支援があります。この支援が高齢者( ), 障害者( )であり、いろいろな( )施設もつくっています。

[解答欄]

(1)	(2)
-----	-----

[解答](1) ア, イ (2) 福祉

## 【】地方財政

[問題](増補 10)(2 学期期末)

地方公共団体が自由に使える独自財源を 1 つ書きなさい。

[解答欄]

[解答]地方税

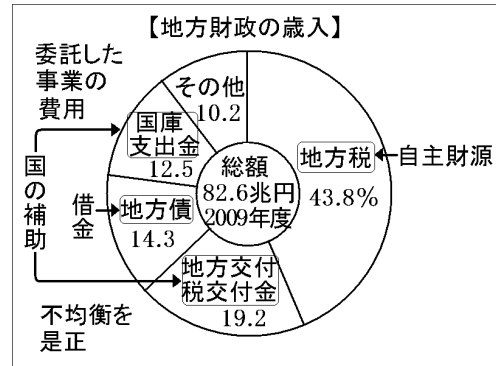
[解説]

地方公共団体の歳入は、第一は住民から徴収する<sup>ちほうせうせい</sup>地方税で、これは自治体が自由に使える<sup>じしゆざいげん</sup>自主財源である。地方税には、住民税、固定資産税、事業税などがある。

歳入の第二は、使い道を指定せずに国が地方公共団体に交付する<sup>ちほうこうふせいこうふきん</sup>地方交付税交付金である。これは、地方によって産業・経済のようすがちがひ、税収入にも大きな差があるので、国税の一部を地方に回すことによって地域間の不平等を小さくしていこうとするものである。

第三は国から<sup>じたく</sup>委託された仕事について国が交付する<sup>こくこししゆつぎん</sup>国庫支出金である。国から委託された仕事には、義務教育、社会保険事務、公共事業などがある。国庫支出金は、地方交付税交付金と違い、使いみちが指定されている。

第四は住民への借金である<sup>ちほうさい</sup>地方債である。



[問題](前期期末)

地方自治体の財源は、地方税などの自主財源の他に、特定の事業のため国が地方に支出するもの、地方の財政不足に対し、国税の一定割合を交付するものなどがあるが、それぞれ何というか。

[解答欄]

[解答] 国庫支出金 地方交付税交付金

[問題](2 学期期末)

- (1) 国が地方公共団体の財政格差を是正するために配分するお金で、使い道は地方公共団体に任されているものを何とといいますか。
- (2) 国が地方に委託した事業の分担金や助成金で、その使い道が限定されているものを何とといいますか。

[解答欄]

(1)	(2)
-----	-----

[解答](1) 地方交付税交付金 (2) 国庫支出金

[問題](2 学期期末)

地方財政について、国からの補助金のうち、使い道を指定せずに、地方間の格差を補うために出されるのは何というお金ですか。答えなさい。

[解答欄]

[解答]地方交付税交付金

[問題](増補 10)(2 学期期末)

地方交付税交付金は、地方公共団体の財政を補うお金である。このお金はどこが支払っていますか。

[解答欄]

[解答]国

[問題](3 学期)


国庫支出金の特徴を簡潔に答えなさい。

[解答欄]

[解答]国が地方に委託した事業の分担金や助成金で、その使い道が限定されている。

[問題](増補 10)(2 学期期末)

右の円グラフは、地方公共団体の財政の歳入について示したものである。円グラフ中の A～C は、それぞれ何という歳入の種類か。下の説明文を参考にして、それぞれあてはまる名称を漢字で書け。



A 地方公共団体の収入の不足を補うために国から支払われる補助金である。

B 地方公共団体の収入の不足を補うための借入金で、地方公共団体の借金にあたる。

C 国から委任された義務教育や公共事業などの特定の活動のために、国が負担する補助金である。

[解答欄]

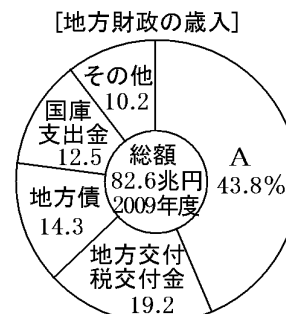
A	B	C
---	---	---

[解答]A 地方交付税交付金 B 地方債 C 国庫支出金

[問題](3 学期)

右の資料を見て、問いに答えなさい。

- (1) グラフの A に当てはまる語句を書きなさい。
- (2) 国からの補助金の割合は何%になっているか。「その他」に補助金を含まないものとして計算せよ。



[解答欄]

(1)	(2)
-----	-----

[解答](1) 地方税 (2) 31.7%

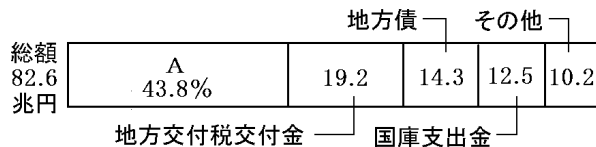
統計修正：「日本国勢図会 2009/2010 年版」P385・386

[解説](2)  $19.2 + 12.5 = 31.7(\%)$

[問題](2 学期中間)

次の文と下のグラフを見て，下の問いに答えなさい。

地方公共団体の歳入 (2009年度)



地方公共団体は，1年間の a 予算をたて， b 住民に必要な仕事をしている。

- (1) 下線部 a に関して，グラフ中の A は，公共事業や社会保障などについて，国が地方公共団体に支出するお金です。これを何といいますか。
- (2) 右のグラフで，国からの補助は何%と考えられますか。
- (3) 地方財政の予算を議決する機関はどこですか。

[解答欄]

(1)	(2)	(3)
-----	-----	-----

[解答](1) 国庫支出金 (2) 31.7% (3) 地方議会

[問題](増補 10)(2 学期期末)

地方財政の予算を議決する機関はどこですか。

[解答欄]

[解答]地方議会

## 【】地方財政の問題点

[問題](2 学期期末)

多くの地方自治体では財源が (不足 / 過剰)となっており, 地方分権が (進んでいる / 進まない)原因の 1 つになっている。

[解答欄]

--	--

[解答] 不足 進まない

[解説]

地方財政の問題点は, 自主財源である地方税による収入が十分でなく, 国からの補助である地方交付税交付金・国庫支出金にたよっている点である。財源が不足し, その多くを国に依存している現状では, その地域独自の政策を行うことが難しい。地方分権をすすめるためには, 自主財源の割合を増やす必要がある。

### 【地方財政の問題点】

- ・地方税などの自主財源が少ない
- ・国からの補助にたよっている  
(地方交付税交付金・国庫支出金)

↓  
地方分権の障害

自主財源を増やして地方分権を進める目的で三位一体の改革が行われている。三位一体の改革とは, 地方の独立性を高めるため, 国から使い途を指定される国庫補助金を削減, 地方交付税交付金を削減して地方財政の国への依存を解消, 国から地方へ一部の税源を移譲し, 地方財源を拡充, の 3 点を同時に行っていく行政改革のことである。地方分権一括法の施行とともに「地方にできることは地方に」という理念のもと, それまで国がもっていた権限・財源を, 地方公共団体に移す動きが広まっている。これにより, 国庫支出金などを通じた国の関与から地方が自由になり, 地方の実情に合わせた弾力的な予算編成が行えるようになるとともに, 税源を国から地方へ移譲することで, 地方公共団体の税収不足を補うことができると期待されている。しかし, 国の省庁が権限の移譲に抵抗しており, 税源移譲も補助金などの削減に比して不十分であるなど, 課題も指摘されている。

[問題](2 学期期末)

地方財政の問題点を述べなさい。

[解答欄]

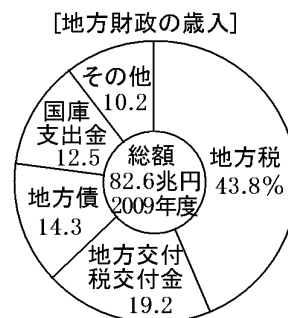
--

[解答] 自主財源が少ない。

[問題](2 学期期末)

右の資料を見て、各問いに答えなさい。

- (1) 資料から、国からの補助にあたるものを 2 つ選んで書きなさい。
- (2) 地方財政について正しく述べているものを 1 つ選んで記号で書きなさい。
  - a 財源が苦しい地方公共団体は、教育・消防などの仕事を国に委任するところが増加している。
  - b 地方公共団体は、国よりも財源が豊かで、国の事業の多くにかかわりをもっている。
  - c 多くの地方公共団体の財政は豊かでなく、自由に使える財源が乏しく、これが問題となっている。



[解答欄]

(1)	(2)
-----	-----

[解答](1) 地方交付税交付金, 国庫支出金 (2) c

統計修正: 「日本国勢図会 2009/2010 年版」 P385・386

[問題](後期中間)

次の文を読み、問いに答えなさい。

明治以来続いてきた中央集権の性格を改め、地方公共団体が独自性を生かして活動できるようにすることを( )という。1999 年には、これを実現するための法律が可決された。しかし、地方公共団体には自由に使える財源が少ないことが問題となっている。

地方公共団体の歳入 (2009 年度)



- (1) 文中の( )に適する語句を書きなさい。
- (2) 下線部について、上のグラフを見て、あとの問いに答えなさい。

A は地方公共団体が自主的に集めることができる資金である。これを何といいますか。

国から得ている収入は、全体の何%を占めていますか。

[解答欄]

(1)	(2)	
-----	-----	--

[解答](1) 地方分権 (2) 地方税 31.7%

[問題](2 学期中間)

右の資料は 3 県の収入の比率を示したものである。これを見て問いに答えなさい。

(1) 国から配分される資金の割合が最も大きいのは、A～C のどの県か。記号で答えなさい。

(2) 借入れの割合が税収よりも上回っているのはどの県か、記号で答えなさい。

(3) 財政状態が比較的豊かであるのはどの県か、記号で答えなさい。

(4) 地方分権を進めるにはどの収入がもっと増えた方がよいですか。

	A 県	B 県	C 県
地方税	23.4%	15.6%	35.3%
地方交付税交付金	21.5	30.1	9.3
国庫支出金	21.5	19.9	17.2
地方債	16.5	15.9	19.6
その他	17.1	18.5	18.6

[解答欄]

(1)	(2)	(3)	(4)
-----	-----	-----	-----

[解答](1) B 県 (2) B 県 (3) C 県 (4) 地方税

[解説]

(1) 国から配分される資金は、地方交付税交付金と国庫支出金である。その合計をそれぞれ計算すると、A 県： $21.5 + 21.5 = 43(\%)$ 、B 県： $30.1 + 19.9 = 50(\%)$ 、C 県： $9.3 + 17.2 = 26.5(\%)$ となる。

(2) 借入れは地方債で、税収は地方税である。B 県は地方税(15.6%)より地方債(15.9%)が大きくなっている。

(3) 地方税の占める割合が比較的大きく、国からの地方交付税交付金が小さい C 県が 3 県の中では豊かであると判断できる。

(4) 完全に自由に使える自主財源の地方税の割合が増えるほど、国からの干渉を受けずに政治を行うことができ、地方分権を進めることができる。

[問題](後期中間)

次の図を見て、以下の各問いに答えなさい。

(1) 図の高知県で、国から交付される収入にたよる割合は何%か。

(2) 図の 4 つの県を、東京都と愛知県、高知県と沖縄県の 2 つのグループに分けた時、収入の内訳にどのような特色の違いが読みとれるか。を比較して簡単に説明しなさい。

おもな地方公共団体の財政収入(2000年度)

東京都	65.5%	7.9	6.7	17.4
		2.5		
愛知県	48.2	7.8	14.6	11.9
				17.5
高知県	12.3	36.1	21.9	10.8
				18.9
沖縄県	14.3	35.0	34.9	6.0
				9.8
全国	32.0	22.4	17.6	11.5
				16.5
	地方税	地方交付 税交付金	国庫 支出金	地方債 その他

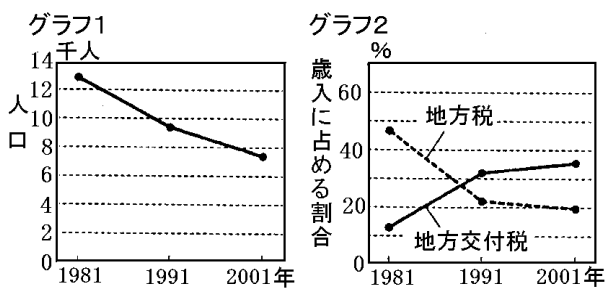
[解答欄]

(1)	(2)

[解答](1) 58.0% (2) は自主財源である地方税の比率が高い。 は国からの補助金である地方交付税交付金や国庫支出金の比率が高い

[問題](2 学期期末)

グラフ 1 は、ある町の人口の推移を示し、グラフ 2 は、同じ町の歳入にしめる地方税の割合と地方交付税(地方交付税交付金)の割合の推移を示したものです。グラフ 2 における地方税の割合と地方交付税の



割合のそれぞれの推移を、グラフ 1 における人口の推移と関連づけて簡単に書きなさい。

[解答欄]

[解答]人口減少によって地方税収入が減少し、それをおぎなうために地方交付税交付金が増加した。

## 【】市町村合併

[問題](増補 10)(2 学期期末)

文中 ~ にあてはまる語句を、下の[ ]から選んで書きなさい。

私の住んでいる町は周辺の 2 つの町村と合併して新しい市になりました。最近、日本の各地で( )が進んでいます。その理由は、( )を進めるため、( )社会になって福祉などの仕事が増えていること、市町村の( )が悪化していることなどといわれています。

[民営化 財政 市町村合併 都道府県合併 中央集権 地方分権 高齢 情報 多文化]

[解答欄]

--	--	--	--

[解答] 市町村合併 地方分権 高齢 財政

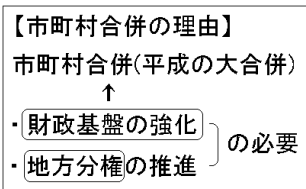
[解説]

「平成の大合併」によって、1999 年の段階で 3200 あまりあった市町村が、現在(2010 年 1 月)では約 1760 に減少した。市町村合併の最大の目的は、合併によって自治体の財政基盤を強化することである。例えば過疎地域に A 町、B 町、C 村があったとする。どんなに小さくて人口の少ない村でも、そこに住民がいる以上は、ゴミ処理場や学校、病院など最低限のインフラやサービスを提供する必要がある。しかし、利用者がほとんどいない町立病院、生徒がほとんどいない町立小学校を運営していくのは効率が悪い。そこで、近隣に同じような悩みを抱えている町があれば、合併して、ゴミ処理場や病院や学校などを統廃合してしまったほうが、運営費を節約できる。また、合併によって、行政の重複をなくすことで、公務員の数を削減して人件費を減らすことも期待できる。

また、今後さらに高齢化が進み、それに対応する福祉のための費用が増大していくと予想されている。この負担増に耐えていくためにも、財政基盤を強化しておくことが必要である。

政府にも地方分権の一步にしたいとの考えがある。国の行政スリム化を行うためには、「地方にできるものは地方へ」、そのためには、地方の財政力を強化する必要がある。

市町村合併の可否について、住民の意見を聞くための住民投票を実施した市町村もある。また、不便になったり、昔ながらの社会が大きく変わったり、住民の意見が届きにくくなるなどの理由から合併を見送った市町村もある。



[問題](増補 10)(2 学期期末)

～ にあてはまる語句を、下の[ ]から選んで書きなさい。

私の住んでいる美作市は、2005 年 3 月 31 日に、6 つの町村が合併して誕生しました。最近、日本各地で市町村合併が行われた理由は、( )が進んでいること、高齢社会になって福祉などの仕事が増えていること、市町村の( )が悪化していることなどだそうです。長野県の平谷村では、2003 年に行われた市町村合併の賛否を問う( )に中学生も参加したそうです。

[政令指定都市 中央集権 住民投票 民営化 地方分権 財政]

[解答欄]

--	--	--

[解答] 地方分権 財政 住民投票

[問題](増補 10)(後期中間)

市町村合併が進んだ理由としてあてはまらないものを次から選び、記号で書け。

- ア 高齢社会となって福祉などの仕事が増えているため。
- イ 地方分権を進めるため。
- ウ 地方行政を複雑にするため。
- エ 地方財政が悪化しているため。

[解答欄]

--

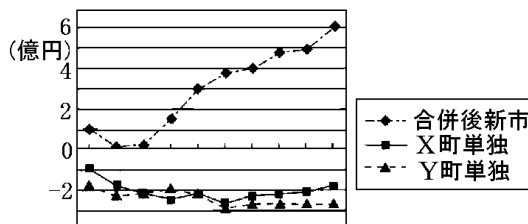
[解答]ウ

[問題](増補 10)(補充問題)

1999 年から 2005 年にかけて、全国で「平成の大合併」といわれる市町村の合併が行われ私たちの県でも合併が進みました。市町村合併を行う理由について、次の二つの資料からわかることを簡潔に書きなさい。

【資料1】合併に伴う議員数・職員数の変化 【資料2】施策可能経費の推移(推計)

[合併前の X 町と Y 町]	
議員数	X 町 16 名 Y 町 16 名
職員数	両町計 263 名
[合併後の新しい市]	
議員数	18 名
職員数	196 名



(注) H18 20 22 24 26 (年度)

施策可能経費とは、収入総額から、人件費・物件費・公債費などを除いた額で、まちづくりのための新たな事業や現在のサービスの充実のために使うことができる費用のこと。

[解答欄]

[解答]人件費などの歳出をおさえ、市町村の財政が改善されることで、施策可能経費が増えるから。(人件費などの歳出をおさえ、市町村財政が改善されることで、住民サービスを向上させることができるから。)

[解説]

資料 1 を見ると、合併後の新しい市の議員数・職員数は、合併前よりも減っている。議員数・職員数が減ると人件費が減るので、施策可能経費が増え(資料 2)、住民サービスを向上させることができる。

[問題](増補 10)(2 学期期末)

合併には、仕事の効率がよくなるなどのメリットがありますが、合併に慎重な市町村もあります。それはどのような理由からですか。「住民」という語句を使って、簡単に説明しなさい。

[解答欄]

[解答]不便になったり、昔ながらの社会が大きく変わったり、住民の意見が届きにくくなるなどの理由。

【】直接請求権 : 種類

[問題](後期中間)

請求の種類	必要な署名数	請求先
( 1 )の制定・改廃の請求	有権者の1/50以上	( 2 )
監査請求	有権者の( 3 )以上	監査委員
地方議会の( 4 )請求	有権者の1/3以上	( 5 )
首長・議員の解職請求	有権者の( 6 )以上	( 5 )

- (1) 表中の(1)に適する語句を書きなさい。
- (2) 表中の(3)に適する語句を書きなさい。
- (3) 表中の(5)に適する語句を書きなさい。
- (4) 表中の(6)に適する語句を書きなさい。
- (5) 表のような、住民が直接政治に参加する権利を何といいますか。

[解答欄]

(1)	(2)	(3)	(4)	(5)
-----	-----	-----	-----	-----

[解答](1) 条例 (2) 1/50 (3) 選挙管理委員会 (4) 1/3 (5) 直接請求権

[解説]

(直接請求権の種類)

直接請求権	必要な署名数	請求先
条例の制定・改廃の請求	1/50 以上	首長
監査請求		監査委員
議会の解散請求	1/3 以上	選挙管理委員会
首長や議員の解職請求		選挙管理委員会・首長

通常、地方の政治も、住民が選挙で選んだ首長や議員によって行われる代議制(間接民主主義)がとられている。しかし、一定数の署名によって、条例の制定などを地方公共団体に直接求める直接請求権が保障されている。

条例の制定・改廃請求と監査請求のための署名数は、有権者総数の 1/50 以上 と比較的ゆるやかである。条例の制定・改廃の請求は首長に対して行い、首長は 20 日以内に議会を招集して採決にかけなければならない。監査請求は監査委員に対して行い、監査委員は監査を実施して、その結果を発表しなければならない。

議会の解散請求と首長や議員の解職請求は、いったん選挙で選んだ者の職を奪うものであるため、必要な署名数は、有権者総数の 1/3 以上 と、かなり厳しい条件がつけられている。投票がからんでくるので、選挙管理委員会に対して請求を行う。選挙管理委員会は、解職(解散)について投票を実施し、過半数の賛成で、解職(解散)が成立する。

[問題](2 学期中間)

次の資料を見て問いに答えなさい。

	必要な署名	請求先
条例の制定，改廃の請求	有権者の A 以上	首長
監査請求	有権者の A 以上	監査委員
解散請求	有権者の B 以上	選挙管理委員会
解職請求	有権者の B 以上	議員・首長は選挙管理委員会 副知事などは首長

- (1) A，B の空欄にあてはまる数字を書きなさい。
- (2) この資料は住民の何という権利についてまとめたものですか。
- (3) この権利のように，地方公共団体の仕事は，住民の手により，住民のために行われるという原則を，何といいますか。

[解答欄]

(1)A	B	(2)	(3)
------	---	-----	-----

[解答](1)A 50 分の 1 B 3 分の 1 (2) 直接請求権 (3) 地方自治

[問題](1 学期期末)

次の文は住民の権利について書いたものです。資料を読んで問いに答えなさい。

テルさんのクラスが町役場を訪ねたときの質問の一部。

質問1 地域の川をきれいにするために，町独自の決まりを作ること考えていませんか。

質問2 首長がその職にふさわしくない場合どうしたらよいのですか。

- (1) 下線部を何というか。漢字2文字で答えなさい。
- (2) 質問2について，下記の表の空欄に語群より選び適語を書きなさい。

請求の種類	必要な署名数	請求先
条例の制定・改廃の請求	有権者の( 2 )以上	首長
監査請求	有権者の( 3 )以上	監査委員
議会の( 1 )請求	有権者の( 4 )以上	選挙管理委員会
首長・議員の解職請求	有権者の( 5 )以上	選挙管理委員会

(語群)： 招集 解散 2分の1 3分の1 50分の1(二回使用可能)

[解答欄]

(1)	(2)1	2	3	4	5
-----	------	---	---	---	---

[解答](1) 条例 (2)1 解散 2 50 分の 1 3 50 分の 1 4 3 分の 1 5 3 分の 1

[問題](前期期末)

次の表は、地方自治の直接請求権に関するものである。表の空欄に記入すべき適語を記入しなさい。

請求の種類	必要な署名数	取り扱い
( 1 )の制定・改廃の請求	有権者の( 2 )以上	首長が議会にかけ、結果を公表
監査請求	有権者の( 2 )以上	監査結果を公表、議会や首長に報告
議会の( 3 )請求	有権者の( 4 )以上	( 5 )の結果、過半数の同意で解散
(6)の請求	議員・首長	( 5 )の結果、過半数の同意で失職
	副知事など	議会にかけ、3分の2以上の議員が出席し、4分の3以上の同意で失職

[解答欄]

1	2	3	4	5
6				

[解答]1 条例 2 50分の1 3 解散 4 3分の1 5 投票 6 解職

[問題](2 学期期末)

次の表を見て、各問いに答えなさい。

請求の種類	必要な署名数	請求先
の制定・改廃	有権者の	
( )請求	( )以上	監査委員
議会の解散請求	有権者の	( )
・議員の( )請求	( )以上	

(1) 表中の( )~( )にあてはまる語句や数字を書きなさい。

・ は特定の語句が入ります。

(2) 表にまとめられた住民の権利を何といいますか。

[解答欄]

(1)			
	(2)		

[解答](1) 監査 解職 50分の1 3分の1 選挙管理委員会 (2) 直接請求権

[問題](2 学期期末)

下の表の空欄に適語を入れなさい。

内 容	必要な署名数	請求先
(ア)の制定・改廃の請求	1/(イ)以上	首長
監査請求		(ウ)
(エ)請求	1/(カ)以上	選挙管理委員会
(オ)請求		首長または選挙管理委員会

[解答欄]

ア	イ	ウ	エ	オ
カ				

[解答]ア 条例 イ 50 ウ 監査委員 エ 解散 オ 解職 カ 3

[問題](2 学期期末)

次の表を見ながら，各問いに答えなさい。

種類	必要な署名数	提出先
条例の制定および改廃	有権者の( )以上	首長
監査	有権者の( )以上	( )
首長・議院の解職	有権者の( )以上	( )

- 表の ~ にあてはまる数字や語句を書きなさい。
- 表のように住民に認められている権利を何といいますか。

[解答欄]

(1)			
(2)			

[解答](1) 50分の1 3分の1 監査委員 選挙管理委員会 (2) 直接請求権

[問題](3 学期)

条例の制定やリコール，地方議会の解散などを求めることのできる住民に認められている権利とは何か答えなさい。

[解答欄]

[解答]直接請求権

[問題](2 学期中間)

地方公共団体の住民に直接請求権が認められている理由を簡単に説明しなさい。

[解答欄]

[解答]地域の政治は住民に身近なものであり、住民の意思を直接反映させることが適当であるから。

[問題](増補 10)(後期中間)

住民が地域政治へ参加する権利として、正しく述べたものを次から 2 つ選べ。

- ア 地方議会に対する解散請求が選挙管理委員会に出され、住民投票の結果、過半数の同意があれば解散する。
- イ 有権者の一定の署名数があれば、知事や地方議会議員の解職を請求することができる。
- ウ 有権者の一定の署名数があれば、地方公共団体はオンブズマン制を導入できる。
- エ 条例の制定は請求できるが、改廃は請求できない。

[解答欄]

[解答]ア、イ

[解説]

ウは誤り。オンブズマン制を導入するためには、その詳細等を定める条例が必要になる。まず、オンブズマン制度制定を求める署名(有権者の 50 分の 1 以上)を集め、首長に提出する。首長は、条例案を作成して、地方議会にかけ、議会でその可否を採決することになる。

エは誤り。条例の制定だけでなく、改廃(改正や廃止)を求めることもできる。

【】直接請求権 : 必要な署名数

[問題](2 学期中間)

次の各問いに答えなさい。

- (1) 住民の意思を地域の政治に反映させるための、条例の制定や地方議会の解散などを求める権利を何といいますか。
- (2) (1)にある『条例の制定』を求めるには、地域の有権者の何分の 1 以上の署名が必要ですか。また、その請求先はどこですか。

[解答欄]

(1)	(2)	
-----	-----	--

[解答](1) 直接請求権 (2) 50 分の 1 以上 首長

[解説]

4 つの直接請求権のうち、条例の制定改廃請求と監査請求については、請求を行うために必要な署名数は有権者総数の 50 分の 1 と比較的少なくすむ。条例の制定・改廃の請求は首長に対して行い、首長は 20 日以内に議会を招集して採決にかけなければならない。監査請求は監査委員に対して行い、監査委員は監査を実施して、その結果を発表しなければならない。これに対し、議会の解散請求と首長や議員の解職請求(リコール)は、いったん選挙で選んだ者の職を奪うものであるため、必要な署名数は、有権者総数の 1/3 以上 と、かなり厳しい条件がつけられている。投票がからんでくるので、選挙管理委員会に対して請求を行う。選挙管理委員会は、解職(解散)について住民投票を実施する。解散(解職)に過半数の賛成が得られたときは、解職(解散)が成立する。

[問題](2 学期期末)

解職請求については、有権者の署名がどれくらい必要ですか。

[解答欄]

[解答]3 分の 1

[問題](増補 10)(2 学期中間)

- (1) むつ市を活性化させるための条例案を考え、その条例の制定を議会に求めるために、署名を集めようと思います。何人以上の署名を集めればよいか答えなさい。ただし、むつ市の有権者数は 53,239 人とする。
- (2) 署名が集まり、条例案が議会にかけられましたが、わずかな差で否決されました。そのため、議会の解散を求めようと思います。今度は、何人以上の署名を集めなくてはならないか、答えなさい。

[解答欄]

(1)	(2)
-----	-----

[解答](1) 1,065 人以上 (2) 17,747 人以上

[解説]

- (1) 条例の制定改廃を請求するために必要な署名数は有権者の 50 分の 1 である。  
 $53,239 \div 50 = 1064.78$  人以上なので、最低でも 1065 人の署名が必要である。
- (2) 議会の解散を請求するために必要な署名数は有権者の 3 分の 1 である。  
 $53,239 \div 3 = 17746.3333 \dots$  人以上なので、最低でも 17,747 人の署名が必要である。

[問題](増補 10)(3 学期)

- (1) 住民には、一定数の署名を集めることで、首長や議員の解職を求める直接請求権が認められている。この解職請求の別名を、次の[ ]から選んで答えなさい。  
[イニシアチブ オンブズマン リコール レファレンダム]
- (2) むつ市の場合、(1)には何名の署名が必要か答えなさい。ただし、むつ市の有権者数は 53,021 人とする。

[解答欄]

(1)	(2)
-----	-----

[解答](1) リコール (2) 17,674 名以上

[問題](増補 10)(2 学期期末)

- (1) 有権者が 12350 人のある市で、市長の解職請求をするには、何人以上の署名を集めて、どこへ提出するか。
- (2) (1)の請求が認めらると、次に何が行われるか。

[解答欄]

(1)		(2)
-----	--	-----

[解答](1) 4117 人以上 / 選挙管理委員会 (2) 住民投票

[問題](増補 10)(2 学期期末)

議員の解職請求のことをカタカナで何というか。

[解答欄]

--

[解答]リコール

## 【】住民投票

[問題](2 学期期末)

特定の地方公共団体にしか適用されない特別法を制定するには、あることをして住民の過半数の承認が必要になります。あることとは何ですか。

[解答欄]

[解答]住民投票

[解説]

住民投票が行われるのは、次の3つの場合である。

国会が特定の地方公共団体だけに適用される法律(特別法)をつくるときは、住民投票を実施して、過半数の賛成を得なければならない。この手続きによ

って制定された特別法としては、広島平和記念都市建設法、長崎国際文化都市建設法、首都建設法などがある。

有権者の3分の1以上の署名で、議会解散請求や首長・議員の解職請求がなされたとき、その可否を問う住民投票が実施される。たとえば、市長の解職請求がなされると、選挙管理委員会は住民投票を実施する。住民投票の結果、過半数が解職に賛成であった場合、市長は解職される。その後、市長を選び直す選挙が実施される。

最近では、産業廃棄物処理場の設置、原子力発電所の建設、市町村合併など、地域の重要な問題について住民の意思を問うための住民投票が行われるようになった。このタイプの住民投票を行うためには、まず、その住民投票を実施するための条例を制定しなければならない。ただし、住民投票の結果に法的拘束力はない。

### 【住民投票を行う3つの場合】

- ・特定の地方に適用される特別法→住民投票
- ・直接請求権(議会解散、首長や議員の解職)→住民投票
- ・民意を問う必要→条例を制定→住民投票

[問題](2 学期中間)

次の新聞記事の要約を読み、下の問いに答えなさい。

2000年1月23日、徳島県徳島市では、吉野川に可動堰をつくるという国の計画について、( )が実施された。特定の問題をめぐって( )を実施するには、(a)条例を制定することが必要である。そのため、これに先立ち、可動堰建設に反対する人々によって有権者の(b)署名が集められ、条例制定が(c)直接請求された。

- (1) 文中の( )には「地域にとって重要な問題について、住民の賛否を問う投票」を表す語句が入ります。その語句を書きなさい。
- (2) 下線部 a について条例を制定するのはどこですか。
- (3) 下線部 b について、この場合、有権者の何分の1以上の署名が必要ですか。また、請求先はどこですか。

(4) 下線部 c について、直接請求できることは条例制定のほかは何がありますか。次のア～オから 3 つ選びなさい。

- ア 首長・議員のリコール    イ 議会の解散請求    ウ 憲法改正  
エ 監査請求    オ 国政の調査

[解答欄]

(1)	(2)	(3)	(4)
-----	-----	-----	-----

[解答](1) 住民投票 (2) 地方議会 (3) 50 分の 1, 首長 (4) ア, イ, エ

[問題](2 学期期末)

近年、政策や計画などについて住民投票を行うケースが増えています。実際に行われた住民投票の例にあてはまるものを、次のア～エから 2 つ選びなさい。

- ア 原子力発電所の建設    イ 憲法改正の是非  
ウ 裁判官の罷免    エ 産業廃棄物処理場の設置

[解答欄]

[解答]ア, エ

## 【】オンブズマン・NPO

[問題](2 学期期末)

住民の苦情を処理し、行政が適正に行なわれているかを監視する制度のことを何といいますか。

[解答欄]

[解答]オンブズマン制度

[解説]

オンブズマン制度は 19 世紀の初めにスウェーデンで生まれ、20 世紀中ごろから世界各地に広まった。日本では、1990 年に神奈川県の川崎市が初めて導入した。川崎市では、市長が任命した 3 人のオンブズマンが行政活動の監視を行っている。主な職務権限は苦情処理である。その一例をあげよう。中学校で体育の授業のための着替えを行う際、カーテンなどの仕切りもないまま男女同室で着替えをしていることに対して至急改善してほしいとの要望を受け、オンブズマンは市に対し事態の改善を強く要請した。その後、川崎市教育委員会から男女が同室で着替えるような事態がすべての市立中学校で解消された。

これとは別に、市民が自発的に行政の執行過程を監視しようとする市民オンブズマンの活動が注目を集めている。地方公共団体が国の職員を接待したりする官官接待の問題や、職員の食料費や出張費の公開などを通して、地方公共団体の不適切なお金の使い方を追及したのも、この「市民オンブズマン」である。

[問題](2 学期期末)

地方自治体の中には、住民の苦情を処理し、行政が適切に行われているかを監視するために、ある制度を導入したところがあります。この制度名を答えなさい。

[解答欄]

[解答]オンブズマン制度

[問題](2 学期中間)

- (1) 行政に対する住民の苦情を処理したり、行政が適正におこなわれているかを監視する人のことを何といいますか。
- (2) 行政にたよらないで、地域のための活動を独自に行う民間の組織を何といいますか。

[解答欄]

(1)	(2)
-----	-----

[解答](1) オンブズマン (2) NPO

[解説]

NPOとは、Not-for-Profit(利益) Organization(組織)の略称で、ボランティア活動など、利益を得ることを自的とせずにつくられた組織のことである。行政に頼らず、地域のための活動を独自に行う非営利組織などがある。

1995年の阪神・淡路大震災を契機に市民活動団体、ボランティア団体等で法人格の必要性がクローズアップされ、市民活動団体の法人格取得を容易にするため、1998年に特定非営利活動促進法が制定された。

[問題](2 学期中間)

ボランティア活動など、利益を得ることを自的とせずにつくられた組織のことを何といいますか。

[解答欄]

[解答]NPO

[問題](2 学期期末)

次の各問いに答えなさい。

- (1) 住民の苦情を処理し、行政が適正に行われているかを監視する制度を何といいますか。
- (2) 特色ある町づくりをするための例を1つあげなさい。
- (3) 地域を良くしようと独自に活動を行う民間の人たちによる非営利組織を、アルファベットを使って答えなさい。

[解答欄]

(1)	(2)	(3)
-----	-----	-----

[解答](1) オンブズマン制度 (2) 一村一品運動 (3) NPO

[印刷 / 他の PDF ファイルについて]

このファイルは、FdData 中間期末社会公民(7,200 円)の一部を PDF 形式に変換したサンプルで、印刷はできないようになっています。製品版の FdData 中間期末社会公民は Word(または一太郎)の文書ファイルで、印刷・編集を自由に行うことができます。

FdData 中間期末(社会・理科・数学)全分野の PDF ファイル、および製品版の購入方法は <http://www.fdtype.com/dat/> に掲載しております。

下図のような、[FdData 無料閲覧ソフト(RunFdData)]を、Windows のデスクトップ上にインストールすれば、FdData 中間期末・FdData 入試の全 PDF ファイル(各教科約 1500 ページ)を自由に閲覧できます。次のリンクを左クリックするとインストールが開始されます。

RunFdData(Word 版) 【 <http://www.fdtype.com/lnk/instRunFdDataWDs.exe> 】

RunFdData(一太郎版) 【 <http://www.fdtype.com/lnk/instRunFdDataTAs.exe> 】

ダイアログが表示されたら、【実行】ボタンを左クリックしてください。インストール中、いくつかの警告が出ますが、[実行]許可する[次へ]等を選択します。

【イメージ画像】



【Fd 教材開発 : URL <http://www.fdtype.com/dat/> Tel (092) 404-2266】