

【】財政：租税

[問題](1 学期期末)

政府の活動について各問いに答えなさい。

- (1) 政府のおもな収入は何か。
- (2) 政府の経済活動を何というか。
- (3) 政府が国民の要望にこたえて行うサービスを特に何というか。

[解答欄]

(1)	(2)	(3)
-----	-----	-----

[解答](1) 税金(租税) (2) 財政 (3) 公共サービス

[解説]

政府の仕事は、公共サービスを提供したり、社会資本を充実させたりすることであるが、そのための資金は、主として家計や企業から集める税金(租税)によってまかなわれている。このような政府の活動を財政という。

[問題](後期中間)

政府が租税などによって収入を得て、予算を立て、それを支出する活動を何といいますか。

[解答欄]

[解答]財政

[問題](2 学期期末)

次の文を見て、各問いに答えなさい。

租税には、国税と()税、また、A 直接税と()税とがある。B 所得税では所得の多少に応じて税率を決める方法がとられている。また、税金だけでは歳入が不足する場合にはC 国債を発行し、資金を集めている。しかし、国債の発行額が年々大きくなっており国債の利子の支払いや、元金の返済のための費用が非常に増え国の財政を圧迫している。

- (1) 文中の ， の中にあてはまる語を、各々書きなさい。
- (2) 下線部 A に当てはまらないものを次のア～エから一つ選び、記号で答えなさい。
[ア 相続税 イ 法人税 ウ 消費税 エ 固定資産税]
- (3) 下線部 B 所得税について、所得の多少に応じて税率を決める方法を何というか答えなさい。
- (4) どうして(3)のような方法をとっているのか簡単に説明しなさい。

[解答欄]

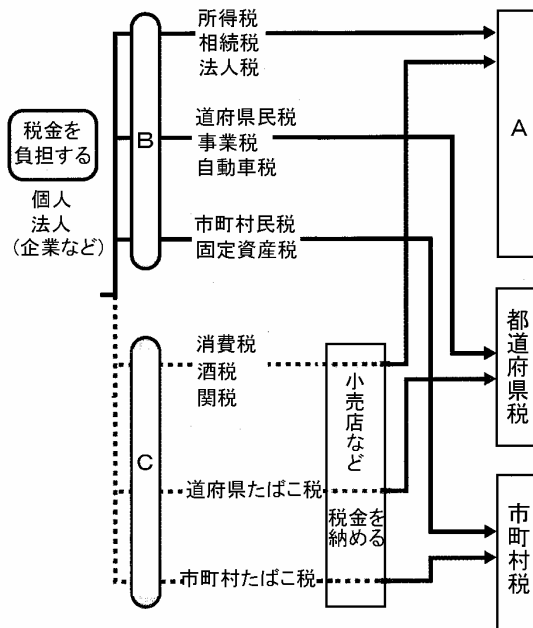
(1)A	B	C	D	(2)a
b				

[解答](1)A 国税 B 地方税 C 法人税 D 消費税 (2)a 直接税 b 間接税

[問題](増補 06)(3 学期)

右の図を見て、後の問いに答えなさい。

- 図中の A～C にあてはまる租税の種類を書きなさい。
- 図中で、次のア・イにあたる税金名をそれぞれ書きなさい。
ア 商品・サービスを購入する際にかかる税。
イ 会社などの利益に対してかけられる税。
- 所得税では、所得が多くなればなるほど税率を高くする方法がとられています。このような課税方法を何といいますか。
- 政府や地方公共団体が税金をもとに提供する教育施設や道路・港湾など社会全体に必要な公共施設をまとめて何といいますか。
- 景気が悪くなると行う政府の対策を何といいますか。また、具体的にどのようなことを行うか、簡単に書きなさい。
- 政府は第二の予算といって特別な債券を発行し、市場から集めた資金をもとに、公庫や公団に融資や投資を行っていますが、これを何といいますか。



[解答欄]

(1)A	B	C	(2)ア
イ	(3)	(4)	(5)
(6)			

[解答](1)A 国税 B 直接税 C 間接税 (2)ア 消費税 イ 法人税 (3) 累進課税 (4) 社会資本 (5) 財政政策 減税を行ったり、公共投資を増やしたりして、消費や生産の活動を活発にしようとする。 (6) 財政投融资

[問題](増補 06)(後期期末)

次の文章を読み、各問いに答えなさい。

市場経済は、家計や企業などの民間の経済活動を中心にして営まれています。一方、国や地方公共団体は、おもに税金によって収入を得て、さまざまな仕事を行うためにそれを支出するという経済活動を行っています。この税金のうち、国が集めるものを(A)税、地方公共団体が集めるものを(B)税といいます。

- (1) (A)・(B)にあてはまる語句を書きなさい。
- (2) 下線部の税金に関して、所得税には、所得が多くなれば多くなるほど税率を高くするというしくみがとられています。このしくみを何と言いますか。
- (3) 税金には 直接税と 間接税とがあります。それぞれにあてはまるものを 1 つずつ答えなさい。ただし、所得税は除きます。
- (4) (3)の間接税はどのような税ですか。「納税者」と「税負担者」の語句を使って説明しなさい。

[解答欄]

(1)A	B	(2)	(3)
	(4)		

[解答](1)A 国 B 地方 (2) 累進課税 (3) 法人税 消費税 (4) 税負担者と納税者が一致しない税金

[問題](増補 06)(3 学期)

次の問いに答えなさい。

政府はさまざまな仕事を行うために、毎年膨大な額の資金を必要とします。この資金は家計や()から集やられる税金によってまかなわれる。国が集める税金を()、都道府県や市町村が集める税金を()という。

ここで、税金を納める義務を負った人が、実際に税金を負担するとは限らない。さまざまな税金のうち、A 納税者が実際に税金を負担するものを()、B 納税者と税金を負担する人が違っているものを()という。

(語群)ア：酒税 イ：直接税 ウ：間接税 エ：まいった税 オ：しつこい税
 カ：企業 キ：利潤 ク：地方自治体 ケ：地方税 コ：特殊法人
 サ：国税 シ：自由

- (1) 上の文の()に当てはまるものを記号で答えなさい。
- (2) 下にあげた各種の税は、上の文の下線 A・B のどちらに当てはまるか記号で答えなさい。
 ア：所得税 イ：酒税 ウ：市民税
- (3) 所得税には、所得が多くなればなるほど税率を高くするという方法がとられていますが、これを何と言いますか。

[解答欄]

(1)			
(2)ア	イ	ウ	(3)

[解答](1) カ サ ケ イ ウ (2)ア A イ B ウ A (3) 累進課税

[問題](増補 06)(2 学期期末)

税金に関する次の文を読んで各問いに答えなさい。

私たちは買い物をするたびに、代金の支払いを通じて(ア)税を負担している。また、会社などで働くようになると収入に応じて(イ)税や住民税を支払うことになる。このようにして、A 納めた税金は国や(ウ)が行う活動の財源になる。税金はどこに納めるかによって(エ)税と地方税に分けられる。また、B 税を納める人と実質的に負担する人が同じ(オ)税と、ことなる(カ)税に分けることもできる。

- (1) 文中のア～カに適する語句を答えなさい。
- (2) 文中の傍線 A について、このような政府の経済活動を何といいますか。
- (3) 歳出にしめる割合が高い上位 3 つは、国債費、地方交付税交付金と()である。
- (4) 揮発油税や酒税などでは、「税はそれぞれが受ける利益に応じて負担すべきだ」という考え方がありますが、この考え方の問題点について説明しなさい。

[解答欄]

(1)ア	イ	ウ	エ
オ	カ	(2)	(3)
(4)			

[解答](1)ア 消費 イ 所得 ウ 地方公共団体 エ 国 オ 直接 カ 間接 (2) 財政 (3) 社会保障関係費 (4) 所得にかかわらず、同じ商品を買えば同額の税金を負担しなければならないので、所得の少ない人ほど所得にしめる税負担の割合が高くなる。

[問題](後期中間)

所得が多くなるほど税率を高くし、負担のつり合いをはかる課税方法を何といいますか。

[解答欄]

[解答]累進課税

[問題](2学期中間)

所得税は累進課税が採用されている。これはどのような制度か。

[解答欄]

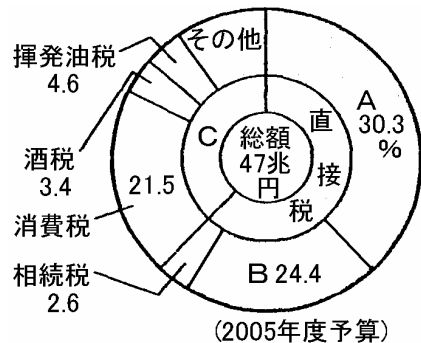
[解答]所得が多くなればなるほど税率を高くする制度

【】財政：歳入と歳出

[問題](増補 06)(3 学期)

わが国の国税収入のうちわけを示した右のグラフをみて各問いに答えなさい。

- (1) グラフ中 A は個人の所得に、B は会社の所得にか
けられるものである。A・B それぞれの税の名前を
書きなさい。
- (2) A のように、個人の所得にかけられる税は、所得の
多少に応じて税率が定められている。この方法を何
というか。
- (3) グラフ中 C にあてはまる税の名前を書きなさい。
- (4) わが国の直接税で、国が徴収するものを下から 1
つ選んで記号で答えなさい。



ア 事業税 イ 固定資産税 ウ 相続税

- (5) 国が、収入や支出の活動を手段として、景気の安定化などの目的を達成しようとする政策を何
というか。
- (6) 政府は、租税収入の不足を補うために、国民から借金をするという形で何を発行するか。

[解答欄]

(1)A	B	(2)	(3)
(4)	(5)	(6)	

[解答](1)A 所得税 B 法人税 (2) 累進課税 (3) 間接税 (4) ウ (5) 財政政策 (6) 国債

[解説]

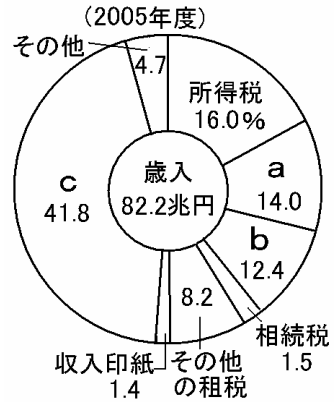
国税収入の6割弱は直接税で、個人の所得にかかる^{しよとくぜい}所得税(約30%)、企業の利益にかかる^{ほうじんぜい}法人税(約24%)の比率が高い。国税収入の約4割は間接税で、そのうち商品・サービスの価格に5%を課税する消費税(約22%)が約半分を占める。

税収に見合った支出をするというのが健全な財政のあり方であるが、深刻な不景気のために税収が減っている一方で景気対策のための支出を増やさなければならない場合など、税金だけでは支出をまかなえない場合が出てくる。このようなときに、政府は税収の不足を補うために^{こくさい}国債を発行して、国民などからお金を借り入れる。わが国が国債の大量発行時代を迎えるにいたったきっかけは1973年の石油危機である。その後、国債の残高が増加し続け、現在は541兆円(2006年度見込み)と残高が大きくふくらんでしまっている。この金額は、1年間のGDPの金額とほぼ等しく、国民1人あたり428万円の借金をかかえている計算になる。国債は国の借金であり、利息および元金の返済は、将来、国民の税金でまかなわなければならない。

[問題](2学期中間)

次の文章を読み、グラフを見て、あとの問いに答えなさい。

歳入・歳出の予算で歳入を見てみると、直接税のうち最も多く占めるのが 所得税、ついで(a)です。間接税で最も多いのが (b)で、すべての商品に5%かかります。グラフのように、歳入の約42%は(c)です。 国が多くの借金をかかえていることがわかります。



- (1) (a)(b)(c)に適切な語句を入れなさい。
- (2) 下線部 の場合、所得が多いほど税率が高くなります。このしくみを何といいますか。
- (3) 下線部 から、どのようなことが考えられますか。次の文の()にあてはまる語句を書きなさい。
景気が()くなって、税収入が()していることが考えられる。
- (4) 歳出の国債費は利子の支払いや元金の返済にあてられます。これは将来、最終的に何でもかかわなければいけませんか。

[解答欄]

(1)(a)	(b)	(c)	(2)
(3)		(4)	

[解答](1)(a) 法人税 (b) 消費税 (c) 公債金 (2) 累進課税 (3) 悪 不足 (4) 税収入

[問題](2学期中間)

右のグラフの各項目についての説明として、正しいものを、次のア～エから、1つ選んで記号で書け。


ア：所得税は個人の所得にかかる税金で、全体の約2割を占めるが、税金を納める義務のある人と負担する人は異なる。

イ：消費税は、全体の1割程度を占めているが、累進課税の方法がとられ、税金の負担のつり合いをはかる工夫がなされている。

ウ：公債金を除くと、法人税や消費税などの間接税の割合が圧倒的に多く、直接税の5倍以上を占めている。

エ：全体の4割近くを占める公債金は、租税収入の不足を補うために発行される公債による収入で、政府の借金である。

国の歳入の内訳 (2005年度)



[解答欄]

[解答]エ

[問題](後期中間)

租税収入の不足を補うために、国や地方公共団体が発行する債券を何といいますか。

[解答欄]

[解答]公債

[問題](2学期中間)

わが国の財政赤字は拡大しているか、縮小しているか。

[解答欄]

[解答]拡大している

[問題](2学期中間)

次の説明にあてはまる項目を右のグラフから選んで書け。

税収の少ない地方自治体に対して支出されるもの
借金の返済にあたるもの

[解答欄]

<input type="text"/>	<input type="text"/>
----------------------	----------------------

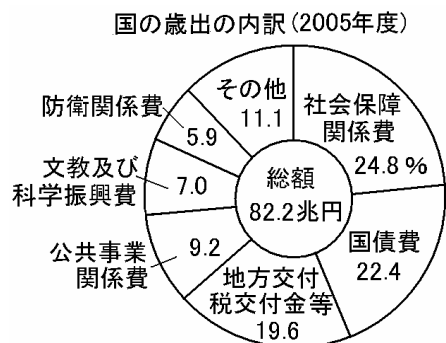
[解答] 地方交付税交付金 国債費

[解説]

国の歳出の上位3つは^{しゃかいほしょうかんけいひ}社会保障関係費、^{こくさいひ}国債費、^{ちほうざいせいひ}地方財政費

である。このうち、戦後大幅に増加したのは、社会保障関係費と地方財政費である。社会保障関係費は、医療費、年金、公的扶助などのための費用である。地方財政費は税収の少ない地方自治体に対して支出される地方交付税交付金などである。国債費は、国の国民に対する借金である国債の返済や利子に当てるための経費で、国の財政支出に占める国債費の割合は20%以上と非常に高い水準にある。

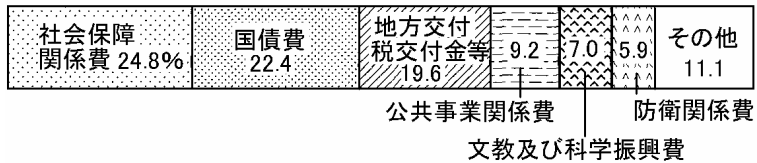
このほか、公共事業関係費は道路・橋の整備等のための支出で、文教及び科学振興費は義務教育にかかる費用などである。



[問題](増補 06)(後期期末)

次のグラフを見て、各問いに答えなさい。

一般会計歳出の主要経費別変化の割合(2005年)



- (1) 国債費とは何ですか。「国民」「借金」の語句を使って簡単に説明しなさい。
- (2) 上のグラフをみて、国の歳出の問題点を、「国債費」の語句を使って説明しなさい。
- (3) 財政のはたらきには、ア 公共施設や公共サービスの提供、イ 景気の調節、ウ 所得の調整などがあります。次の ~ のことがらは、それぞれア~ウのどのはたらきにもっともよくあてはまりますか。

学校や保育園などをつくる。

公共事業を増やす。

社会保障の充実

[解答欄]

(1)			
(2)			
(3)			

[解答](1) 国債は国民に対する借金であるが、国債費はその返済や利子を支払うための費用である。

(2) 国の財政支出に占める国債費の割合が非常に高いこと。 (3) ア イ ウ

[問題](増補 06)(3 学期)

次の各問いに答えなさい。

- (1) 右の のグラフ A・B にあてはまる税を，次の説明を参考に，答えなさい。

A 収入を得た個人に対して課税される。

B 商品・サービスの価格に一定率を課税する。

- (2) (1)A や相続税は，額が多くなればなるほど，税率を高くする課税方法がとられています。この課税方法を何といいますか。

- (3) 会社などの利益に対してかけられる税を何といいますか。

- (4) 税金を納める義務のある人(納税者)と実際に負担する人(担税者)とから見た場合，次のような税は何といいますか。

納税者と担税者が一致する税。

納税者と担税者が一致しない税。

- (5) 間接税は，所得の高い人と低い人とでは，どちらが負担が大きいですか。

- (6) のグラフの C にあてはまる歳出の費用を何費といいますか。

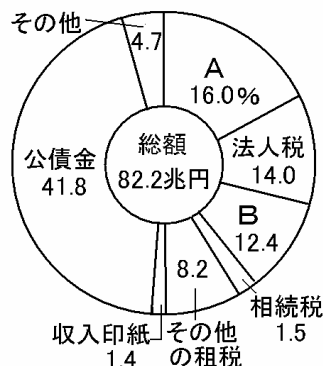
- (7) 次の説明にあてはまる項目を， のグラフから 1 つずつ選んで答えなさい。

財政上の必要から借り入れた借金の返済や，利子の支払いにあてられる。

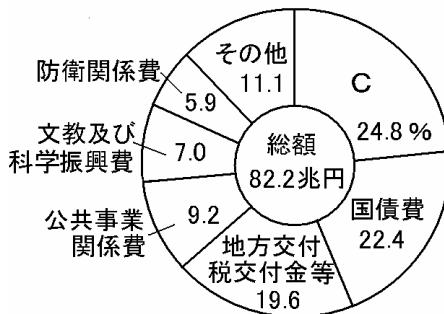
道路，橋など国民生活に必要な施設の建設や，災害対策などにあてられる。

- (8) 景気が行きすぎて，物価が上昇する現象を何といいますか。

I 国の歳入の内訳 (2005年度)



II 国の歳出の内訳 (2005年度)



[解答欄]

(1)A	B	(2)	(3)
(4)		(5)	(6)
(7)		(8)	

[解答](1)A 所得税 B 消費税 (2) 累進課税 (3) 法人税 (4) 直接税 間接税 (5) 所得の低い人 (6) 社会保障関係費 (7) 国債費 公共事業関係費 (8) インフレーション

[問題](増補 06)(3 学期)

次のグラフをみて，各問いに答えなさい。

- (1) の A・B にあてはまる税を，次の説明を参考に，書きなさい。

- A 収入を得た個人に対して課税される。
 B 商品・サービスの価格に一定率を課税する。

- (2) の A では，累進課税の方法がとられている。累進課税とはどういうことですか。説明しなさい。

- (3) 間接税は，所得の高い人と低い人とでは，どちらが負担の割合が高くなりますか。

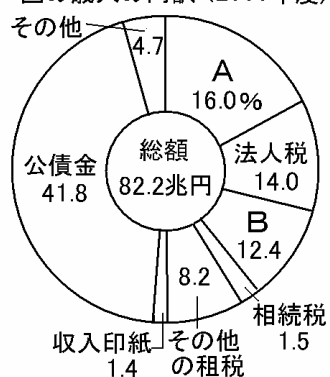
- (4) の C にあてはまる項目を，次から 1 つ選んで書きなさい。

- ア 防衛関係費 イ 社会保障関係費
 ウ 経済協力費

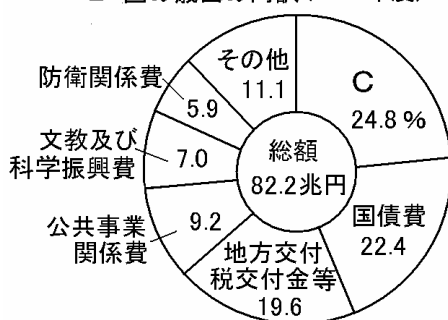
- (5) 次の説明にあてはまる項目を， から 1 つずつ選んで，書きなさい。

財政上の必要から借り入れた借金の返済や，
 利子の支払いにあてられる。
 道路・橋など国民生活に必要な施設の建設や，
 災害対策にあてられる。

I 国の歳入の内訳 (2005年度)



II 国の歳出の内訳 (2005年度)



[解答欄]


(1)A	B	(2)	
(3)	(4)	(5)	

[解答](1)A 所得税 B 消費税 (2) 所得が多い人ほど高い税率が適用される制度 (3) 所得の低い人 (4) イ (5) 国債費 公共事業関係費

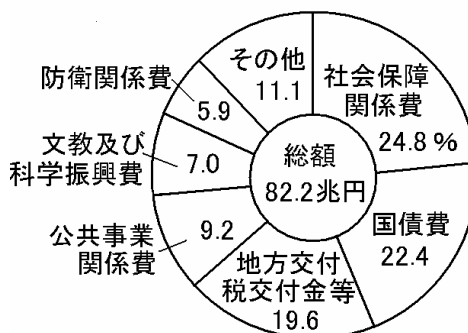
[問題](増補 06)(3 学期)

次の資料を見て、あとの問いに答えなさい。

資料 I 国の歳入の内訳 (2005年度)



資料 II 国の歳出の内訳 (2005年度)



- (1) 国の歳入について正しく述べているものはどれか。次のア～エから適切なものを 1 つ選び、記号で書け。
- ア 歳入の約 50%が租税・印紙収入で占められている。
 - イ 間接税よりも、直接税の割合の方が低い。
 - ウ ほとんど借金に頼らない、健全な財政である。
 - エ 直接税の中で一番割合が高いのは、消費税である。
- (2) 国は、わたしたちの税金をもとにして、さまざまな活動を行っている。次のア～ウのための費用は、資料 I のどの項目にあてはまるか。それぞれ選んで書け。
- ア 義務教育を行うための費用
 - イ 国内の都道府県・市町村への援助金
 - ウ 道路の整備
- (3) もし税金がなくなったら、わたしたちの生活はどのようになると考えられるか。次のア～エから適切なものを 1 つ選び、記号で書け。
- ア 公園や図書館などが増え、生活が豊かになる。
 - イ 消防などのサービスが向上し、治安がよくなる。
 - ウ 道路の整備費がなくなり、道路がガタガタになってしまう。
 - エ 税金がなくなると、その分消費が増え、経済が成長し続ける。

[解答欄]

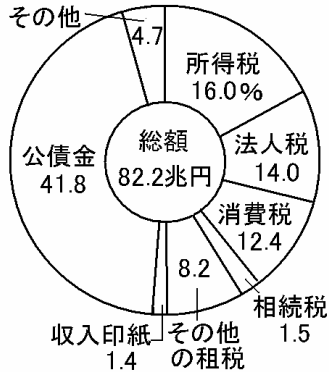
(1)	(2)ア	イ
ウ	(3)	

[解答](1) ア (2)ア 文教及び振興費 イ 地方交付税交付金 ウ 公共事業関係費 (3) ウ

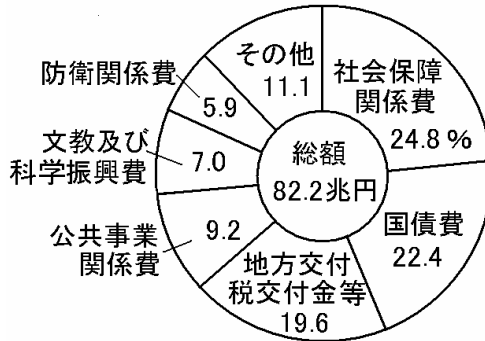
[問題](増補 06)(2 学期中間)

日本の国家財政の割合を表した、次の2つのグラフを見て、問いに答えなさい。

資料 I 国の歳入の内訳 (2005年度)



資料 II 国の歳出の内訳 (2005年度)



- (1) 税負担の公正という観点から支払い能力に応じた負担を求めるため、所得税や相続税について、所得や遺産が多い人ほど高い税率が適用される制度を何といいますか。
- (2) 会社や協同組合などの所得にかかる税を、グラフから選んで書きなさい。
- (3) 次の ~ から、グラフを正しく読み取っている文を選び、番号を答えなさい。

国としての借金をまったくしていない

国としての借金は順調に減っている

国の財政の収入のおよそ4分の1は、借金でまかなっている

借金を返しながら、それ以上の額を国として借金している

[解答欄]

(1)	(2)	(3)
-----	-----	-----

[解答](1) 累進課税 (2) 法人税 (3)

[問題](2 学期期末)

郵便局に預けているお金や、企業や家計から政府に納められた年金の掛け金などは、政府の計画に従い、主に公社・公団を通じて比較的安い利子で貸し出されている。これを何というか。

[解答欄]

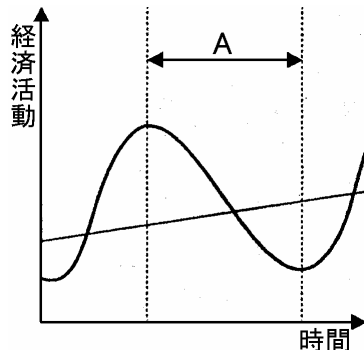
[解答]財政投融资

【】景気と財政政策・金融政策

[問題](増補 06)(2 学期期末)

景気変動のグラフを見て、各問いに答えなさい。

- (1) グラフ中 A の時期の経済活動について、「生産」「消費」「失業」「倒産」という言葉を使って説明しなさい。
- (2) グラフ中 A の時期に、政府や日本銀行が行う景気調整政策について説明しなさい。



[解答欄]

(1)

(2)

[解答](1) A の景気後退の時期には消費も減少するため、商品の在庫が増加し、企業は生産を縮小し、人員整理等の合理化を行うため失業者が増大する。さらに倒産する企業の数も増加する。(2) 政府は公共投資の増加・減税などの財政政策を行い、日本銀行は公定歩合を引き下げるなどの金融政策を行う。

[解説]

好景気(好況)と不景気(不況)とは交互にくり返される(景気変動)。好景気のときには、商品の売り上げ高が増加するため企業は生産を増やし、労働者の賃金も増加する。景気が後退したと、商品が売れ残るようになるため、企業は生産を縮小し、労働者の賃金も減少する。さらに景気が悪くなると、企業は人員整理等の合理化を行うため失業者が増大する。また、倒産する企業の数も増加する。

不景気になると物価が下落するデフレーションになるが、政府は減税を行って消費者の購買力を増やし、公共投資を増やして生産や消費の活動を活発にしようとする。このような財政を通して景気を調整しようとする政策を財政政策という。また、日本銀行は、一般銀行に貸し出す金利である公定歩合を引き下げて、一般銀行への資金の貸出量を増やして通貨量を増やす金融政策を行う。これに対し、好景気が行きすぎてインフレーションのおそれが出ると、政府は公共事業の削減と増税という財政政策を行い、日本銀行は公定歩合を引き上げる金融政策を行い、景気をおさえようとする。

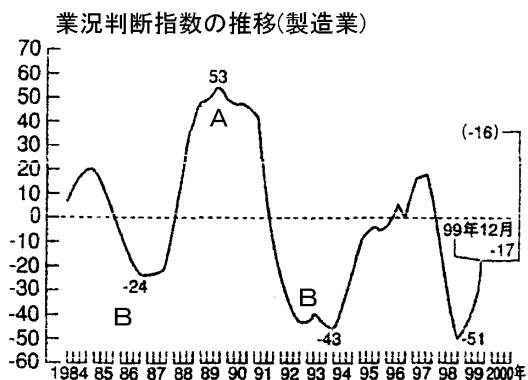
[問題](2学期中間)

次の問いに答えなさい。

- (1) 右の図中の A の状態を何というか。
 (2) 次のことがらは A・B のどちらのことが。

あてはまるものを下から 3 つずつ選んで記号を書け。

- ア 商品がよく売れる
- イ 商品が余ってしまう
- ウ 失業者が増える
- エ 企業はたくさん生産する
- オ 企業は生産を縮小する
- カ 賃金が高くなる



- (3) 図のように A と B の時期が交互にくることを何というか。

[解答欄]

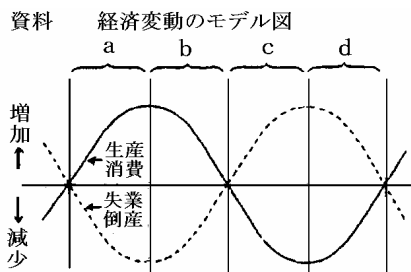
(1)	(2)A :	B :	(3)
-----	--------	-----	-----

[解答](1) 好景気 (2)A : ア, エ, カ B : イ, ウ, オ (3) 景気変動

[問題](2学期中間)

資料の a~d の時期の説明として、正しいものを、次のア~エから 1 つ選び、記号で書け。

- ア a の時期は物価が下がり、デフレーション状態が生じやすい。企業は生産を縮小する傾向がある。
- イ b の時期は、物価がどんどん上がり、インフレーションの状態になりやすい。労働者の賃金は上昇し、消費や需要が増える傾向がある。
- ウ c の時期は、企業は合理化を行って、雇用を減らそうとする傾向がある。
- エ d の時期は、企業は設備投資をひかえる傾向が続き、生産が回復しない。1人あたりの賃金が増えないため、国民の消費は減少しやすい。



[解答欄]

[解答]ウ

[問題](増補 06)(3 学期)

右の図を見て、次の各問いに答えなさい。

- (1) 図の ~ にあてはまる語句を次から選んで書きなさい。

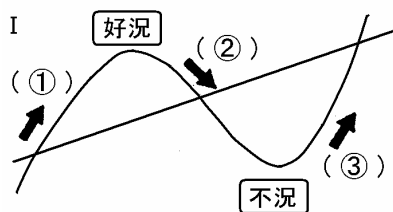
景気後退 恐慌 景気上昇 景気回復

- (2) 好況と不況の時には、どのような現象が見られますか。あてはまるものを、次から 2 つずつ選んで記号を書きなさい。

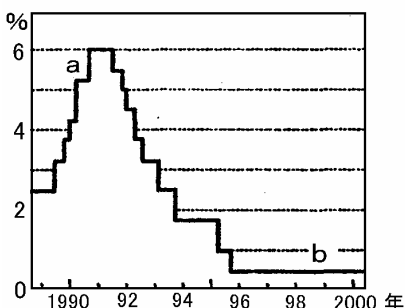
- ア 生産が縮小され、失業者が増大する。
- イ 生産が拡大され、雇用が増大する、
- ウ 賃金が上昇するが、物価も上昇する、
- エ 物価が下落し、賃金は上がらなくなる。

- (3) 図で、a、bの時期の景気は、それぞれ好況・不況のどちらですか。

- (4) 図のように、日本銀行が公定歩合の上げ下げによって通貨の流通量を増減させる政策を何といいますが。



II 公定歩合の推移



[解答欄]

(1)			(2)好況：
不況：	(3) a	b	(4)

[解答](1) 景気上昇 景気後退 景気回復 (2)好況:イ,ウ 不況:ア,エ (3) a 好況 b 不況 (4) 金融政策

[問題](増補 06)(3 学期)

次の各問いに答えなさい。

- (1) 景気が悪くなり、物価が下落していく状態を何と言いますか。
 (2) (1)に対して、一般には政府はどのような対策をとりますか。次から 2 つ選んで、記号で答えなさい。

ア 公共事業を減らす イ 公共事業を増やす ウ 減税 エ 増税

[解答欄]

(1)	(2)
-----	-----

[解答](1) デフレーション (2) イ,ウ

[問題](2 学期中間)

次の問いに答えよ。

- (1) 現在、不況下にある日本経済を回復させるには、どのような財政政策が必要か。「税率」と「公共事業」の2つの語句を用いて簡潔に説明しなさい。
- (2) 現在、不況にある日本経済を回復させるには、どのような金融政策が必要か。「公定歩合」を用いて簡潔に説明しなさい。
- (3) 前の(1)・(2)の政策の結果、日本の市場経済や社会、国民生活にどのような変化が期待できるか。簡潔に説明しなさい。

[解答欄]

(1)	(2)
(3)	

[解答](1) 税率を下げ、公共事業を増やす (2) 公定歩合を下げる (3) 消費や設備投資が増加し、景気が回復する

[問題](2 学期期末)

政府は公共施設をつくったり、公共サービスを提供する働きのほかに景気を調節する働きも行っている。次のア～エから正しい働きを一つ選び、記号で答えなさい。

- ア 好景気の際は税金を減らす。 イ 好景気の際は歳出を増やす。
ウ 不景気の際は公共事業を増やす。 エ 不景気の際は通貨発行量を減らす。

[解答欄]

[解答]ウ

[問題](増補 06)(3 学期)

下の文章の(a)・(b)にあてはまる語句の正しい組み合わせを記号で答えなさい。

不景気になると、政府は財政支出を増やしたり(a)したりして、景気を回復させようとする。また、日本銀行も紙幣の発行をゆるめたり、銀行への貸し付けを(b)たりして通貨の流通量を調整する。

- ア a 増税 b 増やし イ a 増税 b 減らし
ウ a 減税 b 増やし エ a 減税 b 減らし

[解答欄]

[解答]ウ

[問題](2 学期中間)

政府は不景気するとき、次のどの政策をとりますか。記号で選びなさい。

- ア 公共事業の拡大と減税
- イ 公共事業の拡大と増税
- ウ 公共事業の縮小と減税

[解答欄]

[解答]ア

[問題](2 学期中間)

国の財政にはさまざまな役割があり、社会資本の供給、所得のあるていどの平等化や景気を調節するなどの働きがある。一般に景気が悪いときは、財政支出を増やすほかに、消費者や企業がものを買いやすくする方法として何を行うか。

[解答欄]

[解答]減税

[問題](増補 06)(3 学期)

政府が行う景気調整を財政政策といいますが、財政政策について次の ・ の正しい語句を選んで、文章を完成させなさい。

景気が悪い時には (増税・減税)を行ったり、公共事業への支出を (増やし・減らし)たりして、経済を活性化させようとする。

[解答欄]

<input type="text"/>	<input type="text"/>
----------------------	----------------------

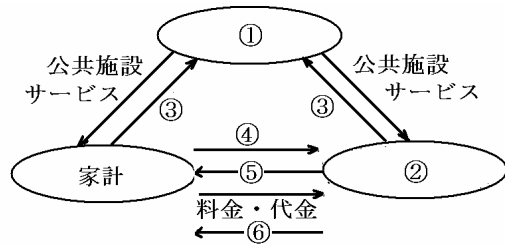
[解答] 減税 増やし

【】国民経済

[問題](1 学期期末)

右の図を見て、次の問いに答えなさい。

- (1) 図中の ~ にあてはまる語句を、下から選んで書きなさい。
もの・サービス, 賃金, 政府
企業, 税金, 労働
- (2) 図のように三者の間でお金・もの・サービスが交換されていく経済のしくみを何といいますか。
- (3) あなたの家で国や地方公共団体から具体的にサービスをうけているものを2つあげなさい。
- (4) 企業と政府との関係で「公共事業」というものがありますが、その中身にどんなものがあるか、具体的に2つ書きなさい。



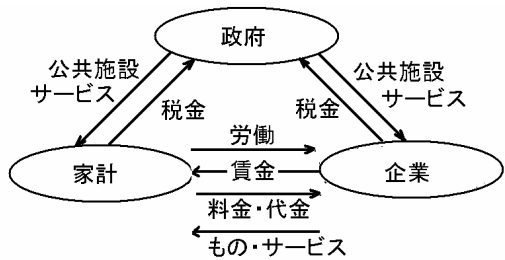
[解答欄]

(1)					
(2)	(3)	(4)			

[解答](1) 政府 企業 税金 労働 賃金 もの・サービス (2) 経済の循環
(3) 中学校の教育, 近所の公園 (4) 道路の建設, 橋の建設

[解説]

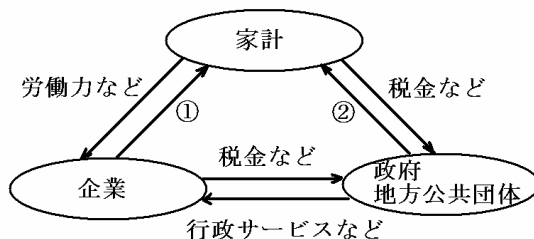
家計と企業の関係は、1)労働力の提供に対する賃金の支払い, 2)消費財やサービスの提供に対する代金の支払い,
家計と政府の関係は、行政サービスと租税の支払い, 企業と政府の関係は、行政サービスと租税の支払い, である。



[問題](2学期期末)

次の図を見て、各問いに答えなさい。

- (1) 図中 について企業から家計に提供されるものとして正しい組み合わせのものを次のア～エから一つ選び、記号で答えなさい。



- ア 賃金・配当金・預金
- イ 賃金・配当金・利子
- ウ 利子・配当金・預金
- エ 利子・配当金・資本金

- (2) 図中 について政府や地方公共団体から家計に提供される公共サービスの正しい組み合わせのものを次のア～エから一つ選び、記号で答えなさい。

- ア 公共料金・消防・教育・ゴミ処理
- イ 公定価格・消防・警察・上下水道
- ウ 教育・消防・ゴミ処理・上下水道
- エ 税金・教育・ゴミ処理・上下水道

[解答欄]

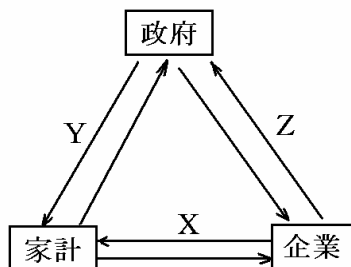
(1)	(2)
-----	-----

[解答](1) イ (2) ウ

[問題](増補 04)(3学期中間)

右の図中の X・Y・Z にあてはまるものを、次のア～エから1つ選んで、記号で答えよ。

- ア 公共サービス・賃金
- イ 税金・労働力
- ウ 商品・賃金
- エ 税金・商品



[解答欄]

X	Y	Z
---	---	---

[解答]X ウ Y ア Z エ

[問題](1学期期末)

政府・家計・企業の間をお金が血液のように流れている。これを経済の何というか。

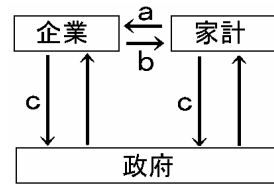
[解答欄]

[解答]経済の循環

[問題](増補 06)(3 学期)

右の図は、国民経済のしくみを示している。図中の a~c にあてはまるものを下から記号で選びなさい。

- | | |
|-----------|-------------|
| ア 公共事業の発注 | イ 税金を払う |
| ウ 労働力を提供 | エ 公共サービスの提供 |
| オ 海外援助 | カ 賃金を支払う |



[解答欄]

a	b	c
---	---	---

[解答]a ウ b カ c イ

[問題](増補 04)(3 学期中間)

それぞれの説明文にあてはまる語句等を答えなさい。

- (1) 経済活動の自由と私有財産のもとに私企業が生産の中心となった経済。
- (2) 生活に必要なものやサービスの生産、流通、消費のしくみ全体。

[解答欄]

(1)	(2)
-----	-----

[解答](1) 資本主義経済 (2) 国民経済

【】 社会保障・福祉

[問題](2 学期中間)

次の各問いに答えよ。

(1) 社会保障制度に関して、次の表中の A～D にあてはまる語句を、下から選んで書け。

種類	(A)	(B)	(C)	(D) 環境衛生
内容	生活保護 ・生活扶助 ・住宅扶助 ・教育扶助 ・医療扶助	健康保険 国民健康保険 (X) 厚生年金保険 国民年金 雇用保険 労災保険	老人福祉 心身障害者福祉 児童福祉 母子福祉 など	伝染病予防 予防接種 上下水道 清掃 など

[社会保険，公衆衛生，公的扶助，社会福祉]

- (2) 日本の社会保障制度の中心となっているのは、(3)の A～D のうちのどれか。記号で書け。
 (3) 表中の X は、老人の介護問題にそなえて 2000 年から導入された保険制度である。これを何と
 いうか。

[解答欄]

(1)A	B	C	D
(2)	(3)		

[解答](1)A 公的扶助 B 社会保険 C 社会福祉 D 公衆衛生 (2) B (3) 介護保険

[解説]

日本の社会保障制度は、「すべて国民は、健康で文化的な最低限度の生活を営む権利を有する」という憲法 25 条の規定にもとづいて整備された。そして、社会保険(医療保険、年金、雇用保険)、社会福祉(母子家庭、高齢者、障害者の福祉)、公的扶助(生活に困っている人への経済的援助)、公衆衛生(伝染病の予防や下水道の整備)の 4 つを基本としている。

この4つの中で社会保障の中心となっているのは、社会保険で、病気や事故・失業や老後の生活にそなえて、加入者が日ごろから少しずつ掛け金を積み立てておき、必要なときに給付を受けるしくみになっている。そのうちの医療保険は、病気やけがの際に給付を受ける保険である。年金保険は高齢者世帯の収入の多くを占め、高齢者を支える保険である。雇用保険は失業したとき生活費を支給し、再就職を助ける制度である。また、高齢化が進むなか、自宅や施設で保健・医療・福祉サービスが総合的に受けられることを目的とした介護保険制度が2000年から導入され、40歳以上の全ての国民が保険料を負担することになった。

[問題](3 学期期末)

次の各問いに答えよ。

- (1) 表中の A~D に適する語句を書け。
- (2) 加入者が一定の掛け金を出し合い、国と専業主の補助を受けて、病気やけがの際に給付を受ける保険を何というか。
- (3) 高齢者世帯の収入の多くを占め、高齢者を支えているものは何か。
- (4) 40 歳以上の国民が保険料を支払い、介護を必要とする人が介護サービスを受けることができる制度を何というか。

A	ふだん保険料を支払い、高齢・失業などのときに給付を受ける。
B	生活に困っている人に対して、国が援助する。
C	児童・母子世帯などの生活を保護し、その福祉を進める。
D・医療	伝染病予防・予防接種・下水道などのサービスを提供する。

[解答欄]

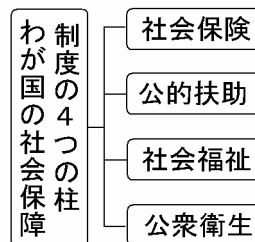
(1)A	B	C	D
(2)	(3)	(4)	

[解答](1)A 社会保険 B 公的扶助 C 社会福祉 D 公衆衛生 (2) 医療保険 (3) 年金保険 (4) 介護保険

[問題](増補 06)(3 学期)

社会保障関係費に関連した次の各問いに答えなさい。

- (1) 次の説明にあてはまる制度を図中から選びなさい。
 - A 所得の少ない人に生活費を支給する。
 - B 病気の予防や環境衛生の改善を行う。
 - C 病気・失業・高齢になったときの生活を保障する。
 - D 保護や援助を必要とする障害者・児童・高齢者の生活を支える。



- (2) 図中の公的扶助・社会福祉・公衆衛生の費用は何でまかなわれていますか。また、社会保険の費用は何でまかなわれていますか。

[解答欄]

(1)A	B	C	D
(2)			

[解答](1)A 公的扶助 B 公衆衛生 C 社会保険 D 社会福祉 (2) 税金 保険加入者の掛け金

[問題](増補 06)(3 学期)

次の各問いに答えなさい。

- (1) 日本の社会保障制度をまとめた右の表中の A～D にあてはまるものを、それぞれ答えなさい。
- (2) 高齢社会に対応するため、2000 年から実施された保険の制度を何というか、答えなさい。

種類	仕事の内容
A	生活保護 生活扶助・住宅扶助 教育扶助・医療扶助
B	健康保険・介護保険 年金保険 雇用保険 労災保険
C	老人福祉 障害者福祉 児童福祉 母子福祉
D	伝染病予防 上下水道 一般廃棄物処理施設 公害対策

[解答欄]

(1)A	B
C	D
(2)	

- [解答](1)A 公的扶助 B 社会保険 C 社会福祉 D 公衆衛生
(2) 介護保険

[問題](増補 06)(3 学期)

下の文と図を見て問いに答えなさい。

生活が()になったとき、個人にかわって国が生活の保障を行う()の制度は、()の生活を保障するために出発し、今では()を押し進める重要なものとなった。

この制度は、日本国憲法第()条の規定に基づいて整備され、基本的な 4 つの柱がある。

- (1) 上の文中の ~ に当てはまる語句を下から記号で選びなさい。

ア：11 イ：14 ウ：25 エ：資本家
オ：労働者 カ：公共の福祉 キ：福祉社会
ク：社会保障 ケ：豊か コ：困難

- (2) 上の図 A と B に当てはまる語句を答えなさい。
- (3) 下のア～ウは上の図のどれに当てはまるか、「仕事の内容」の中から選びなさい。

ア：病気で病院に行ったとき医療費の給付を受ける。

イ：失業した労働者に一定期間生活の安定を保障し、再就職をうながす。

ウ：予防接種を受けさせる。

種類	仕事の内容
A	生活保護 生活扶助・住宅扶助 教育扶助・医療扶助
社会保険	健康保険・介護保険 年金保険 雇用保険 労災保険
B	老人福祉 障害者福祉 児童福祉 母子福祉
公衆衛生と医療	伝染病予防 上下水道 一般廃棄物処理施設 公害対策

[解答欄]

(1)				
(2)A	B	(3)ア	イ	
ウ				

[解答](1) コ ク オ キ ウ (2)A 公的扶助 B 社会福祉 (3)ア 健康保険 イ 雇用保険 ウ 伝染病予防

[問題](増補 06)(3 学期)

次の表を見て、各問いに答えなさい。

[③]・・・生活保護(生活扶助・教育扶助・医療扶助等)
[④]・・・医療保険・年金保険・雇用保険・労災保険等
[⑤]・・・老人福祉・児童福祉・母子福祉・障害者福祉等 公衆衛生と医療・・・(⑥)予防・公害対策

日本の社会保障制度は、「すべて国民は、()で文化的な()限度の生活を営む権利を有する」という規定にもとづいて整備された。そして、()・()・()・公衆衛生と医療の四つを基本としている。

- ～ にあてはまる語句を書きなさい。(～ は上の表と一致すること)
- 下線部の文章は憲法の第何条でしょうか。次の中から選び記号を書きなさい。
ア 第9条 イ 第25条 ウ 第31条 エ 第95条
- の1つで、40歳以上の全ての国民が保険料を負担し、高齢化社会の不安解消を図る目的で2000年から始まった新しい制度は何ですか。

[解答欄]

(1)			
		(2)	(3)

[解答](1) 健康 最低 公的扶助 社会保険 社会福祉 伝染病 (2) イ (3) 介護保険

[問題](2 学期期末)

次の文を読んで次の各問いに答えなさい。

日本国憲法は「すべて国民は()で()的な最低限度の生活を営む権利を有する。」と定めており、この考えにもとづいて、国民一人一人の福祉を社会全体で守っていくための()の制度が定められている。その内容は A 公的扶助・B 社会保険・C 社会福祉・D 公衆衛生の4つが柱となっている。

- (1) 文中 ~ にあてはまる語を各々書きなさい。
(2) 次の ~ の各文は下線部 A~D の内容を説明したものである。A~D より選び記号で答えなさい。

障害者や高齢者の生活を保障し自立を援助する。

生活が困難な人に生活費などを援助し、自立を助ける。

伝染病の予防や上下水道の整備など健康の保持、増進に努める。

病気・けが・失業などに備え、必要が生じたとき給付を受ける。

[解答欄]

(1)			(2)
-----	--	--	-----

[解答](1) 健康 文化 社会保障 (2) C A D B

[問題](2 学期中間)

次の問いに答えよ。

- (1) 日本の社会保障制度は、4 分野に分かれるが、次の A~D の説明は、それぞれどの分野のことを説明したものか書け。

A：予防接種や下水道など、国民の健康増進をはかり、伝染病などの予防を目指す。

B：母子福祉や老人福祉など、働くことが困難な人々に対して、生活の保障や援助のサービスをする。

C：医療保険や厚生年金保険など、加入者や国・事業主が保険料を積み立てておいて、必要なときに給付を受ける。

D：生活保護など、収入が少なく、最低限度の生活を営むことができない人に、生活費などを給付する。

- (2) (1)の C の分野に属し、2000(平成 12)年から導入され、40 歳以上の人全員が加入することとなった制度を何というか書け。
(3) 福祉社会の実現のために、近年バリアフリー化が進んでいるが、まだまだ十分とはいえないようだ。そこで、あなたが日常生活を振り返って、「こんなことが、このような人々には、バリア(障害)になっている」と感じることを波線_____のような形で、簡潔にまとめなさい。

[解答欄]

(1)A	B	C	D	(2)
(3)				

[解答](1) A 公衆衛生 B 社会福祉 C 社会保険 D 公的扶助 (2) 介護保険 (3) 中層団地にエレベーターがないことが、高齢者にはバリアになっている

[問題](増補 06)(2 学期期末)

社会保障制度について、次の A~D にあてはまる語句を答えなさい。

- A ふだん保険料を支払い、高齢・失業などのときに給付を受ける。
- B 生活に困っている人に対して、国が援助する。
- C 児童・母子世帯などの生活を保障し、その福祉をすすめる。
- D 伝染病予防・予防接種などのサービスを提供する。

[解答欄]

A	B	C	D
---	---	---	---

[解答]A 社会保険 B 公的扶助 C 社会福祉 D 公衆衛生

【】 少子高齢化と社会保障

[問題](3 学期期末)

次の会話文を読み、下のグラフと表を見て、問いに答えなさい。

かつみ：今の日本は、a 高齢者の割合が増えて、生まれてくる子どもの数が減っているんだってね。

ひろき：そうだよ。2020 年には約()人に 1 人が 65 歳以上の高齢者になると予想されているよ。

かつみ：そうだと、どのような問題が出てくるのかな。

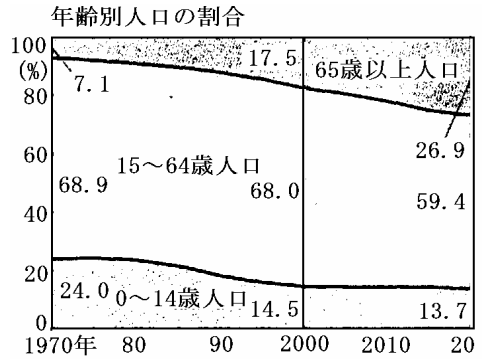
ひろき：うーん。社会保障制度に関する問題がよくいわれているね。

(1) 文中の()に適する数字をグラフを見て書け。

(2) グラフで、2020 年には高齢者の割合は 2000 年の約何倍になるか。

(3) 下線部 a の傾向を何というか。

(4) 社会保障を充実させていくと、働き盛りの世代の負担はどのようになるか。「税」・「社会保険料」の 2 つの語句を使って、簡単に書け。



[解答欄]

(1)	(2)	(3)
(4)		

[解答](1) 4 (2) 1.5 倍 (3) 少子高齢化 (4) 社会保険料の増加または税金の増加という形で負担が大きくなる。

[解説]

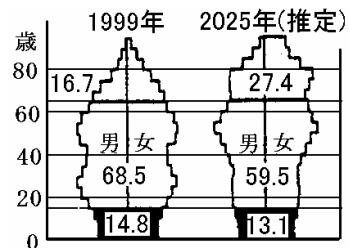
日本では現在、出生率の低下と平均^{じゅみょう}寿命ののびによって、人口に占める高齢者の割合が増加し、少子高齢社会に突入している。21 世紀の前半には、人口の 4 人に 1 人が 65 歳以上の高齢者になると予想されている。少子高齢化が進むと、社会保険などの給付額は増大するのに、働き手が減るので収入は減ってしまうことになる。このような資金不足が最も深刻になると考えられるのは公的年金である。保険料の引き上げか、支給金額の引き下げ・受給開始年齢の引き上げのいずれか、または、その両方を行わざるをえない状況になっている。

[問題](増補 06)(後期期末)

次の文章を読んで、各問いに答えなさい。

日本の社会保障制度は、日本国憲法第 25 条の規定にもとづいて整備され、(A)、(B)、公的扶助、公衆衛生・医療の 4 つの柱から成り立っています。

右の人口ピラミッドのグラフを見ると、2025 年のものは 1999 年のものと比べて、(C)ことがわかります。今後ますますこの傾向は進むことが予想され、政府にさまざまな対策が求められています。



- (1) (A)と(B)にあてはまる語句を書きなさい。
- (2) 下線部 この傾向の社会を一般に何と言いますか。漢字 6 字で書きなさい。
- (3) (C)には 2025 年の人口ピラミッドの特徴を 1999 年と比較した文が入ります。グラフの変化から読み取れることを、「高齢者人口」「若年者人口」の語句を使って簡単に書きなさい。

[解答欄]

(1)A	B	(2)
(3)		

[解答](1)A 社会保険 B 社会福祉 (2) 少子高齢社会 (3) 若年者人口の割合が減少して高齢者人口の割合が増える

[問題](1 学期期末)

次の文に()にあてはまる語句を下から選び書け。

現在は()の低下で子どもの数は減少し、一方、()の割合は増えており()社会とよばれる。

若年者 死亡率 高齢者 出生率 少子高齢

[解答欄]

--	--	--

[解答] 出生率 高齢者 少子高齢

[解説]

現在の日本では、出生率が低下し子どもの人数が減少傾向にある(少子化)。また、高齢者の割合が増えてきている(高齢化)。このように子どもの数が少なくなり、高齢者の割合が大きくなっていく社会を少子高齢社会という。

[問題](1 学期中間)

次の文章の空欄に当てはまる用語を下より選んで、記号で記入しなさい。

現代は、(1)の低下で子供の数は減少し、一方、(2)の割合は増えており、(3)社会とよばれる。

(語群)

ア 多産少子型 イ 出生率 ウ 若年者 エ 多産少子型 オ 高齢者 カ 少子高齢

[解答欄]

(1)	(2)	(3)
-----	-----	-----

[解答](1) イ (2) オ (3) カ

[問題](1 学期中間)

一人の女性が生涯に産む子供の数の平均が1999年には1.34まで低下した。また、高齢化率は、16.7%で、今後ますます増えるものと考えられるが、このことを何社会というか。

[解答欄]

[解答]少子高齢社会

[問題](1 学期期末)

現在、子どもの出生数は減少傾向にあり、平均寿命は延びている。このような現象を何というか。

[解答欄]

[解答]少子高齢化

[問題](2 学期中間)

少子高齢社会とは何か、説明しなさい。

[解答欄]

[解答]子どもの数が少なくなり、高齢者の割合が大きくなっている社会

[問題](2 学期期末)

次の問いに答えなさい。

- (1) 日本では現在、高齢者の割合が増加する少子高齢社会に突入している。その原因を次の 2 つの語を使用して答えなさい。

[出生率, 平均寿命]

- (2) 少子高齢社会の問題点を簡単に説明しなさい。

[解答欄]

(1)	(2)
-----	-----

[解答](1) 出生率の低下と、平均寿命がのびたこと (2) 社会保障のための資金が不足すること

[問題](増補 06)(3 学期)

「少子高齢化社会」に突入している現在、生じると考えられる問題点を次の語句を用いて簡潔に説明しなさい。<社会保障費>

[解答欄]

--

[解答]人口に占める高齢者の割合が増加することで、年金保険等の社会保障費が増大し、資金が不足するという問題が生じている。

[問題](増補 06)(2 学期期末)

わが国の年金制度が抱える問題点について説明しなさい。また、あなたならどんな政策をとるかについても述べなさい。

[解答欄]

--

[解答]社会の少子高齢化が進むにつれて、支出が増大し、このままでは財源が不足してしまうという問題がある。保険料の引き上げと、支給金額の引き下げ・受給開始年齢の引き上げを同時に行うべきである。

[問題](2 学期中間)

次の文を読み、表を見て各問いに答えなさい。

1995 年日本は 65 歳以上の人口が 14%をこえて、高齢社会へ突入しました。このことで社会のしくみに問題が出てきています。たとえば、()を受け取る人々の増加によって、()層の負担が増大します。また、

	人口総数	15～64 歳	65 歳以上
1990 年	12361	8590	1490
2000 年	12691	8642	2187
2010 年		8119	2813
2020 年	12413	7381	3334

核家族化がすすんで、家族の人数が減り、家族だけによる()がむずかしくなっています。高齢者や障害者がくらしやすい()社会の実現のために公共的建物の()化も必要です。

(1) 文中の()にあてはまる語句や数字を、下から選んで書け。

〔福祉 標準 バリアフリー 介護 公的年金 若者 給料〕

(2) 2020 年の 65 歳以上の人口は 3334 万人である。およそ何人に 1 人が高齢者であるか。

[解答欄]

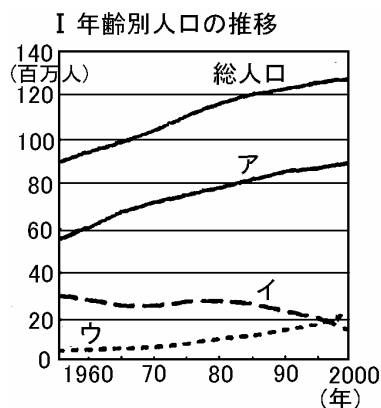
(1)				
(2)				

[解答](1) 公的年金 若者 介護 福祉 バリアフリー (2) 4 人

[問題](増補 06)(3 学期)

次のグラフをみて、各問いに答えなさい。

は、日本の総人口、0～14 歳、15～64 歳、65 歳以上の人口の推移を表しています。0～14 歳、65 歳以上の人口を示しているのは、ア～ウのうちどれですか。記号で答えなさい。



- 出生率の低下と平均寿命ののびによってもたらされた社会を、()社会とよんでいる。()にあてはまる語句を、漢字 4 字で答えなさい。
- の A に入る、社会保障制度の種類は何ですか。
- 次の説明にあうものを、のグラフの語句から選んで書きなさい。

生活がやむをえない事情で苦しい人々に、生活費などの援助を行う。

伝染病の予防や国民全体の健康増進をはかる。

[解答欄]

(1)		(2)	(3)
(4)			

[解答](1) イ ウ (2) 少子高齢 (3) 社会福祉 (4) 公的扶助 公衆衛生

[問題](2 学期中間)

- (1) 産業活動や私たちの生活を支える上で欠かすことのできない施設を何というか。漢字 4 文字で答えなさい。
- (2) 身体が不自由な人のために、たとえば階段をゆるやかなスロープにすることなどを何というか。カタカナで答えなさい。
- (3) わが国の社会保険制度のうち、高齢(65 歳)になったときに、生活費や医療費などを支給する保険を何というか。
- (4) わが国社会保険制度のうち、40 歳になったら加入し、介護が必要であると認定した場合に支給する保険を何というか。
- (5) 少子高齢化が進むとどのような問題がおこるのだろうか。解答欄に答えなさい。

[解答欄]

(1)	(2)	(3)	(4)
(5)			

[解答](1) 社会資本 (2) バリアフリー (3) 年金保険 (4) 介護保険 (5) 社会保障のための資金が不足すること

【】公害の防止と環境保全

[問題](増補 06)(後期期末)

次の表を見て、各問いに答えなさい。

病名	新潟()病	四日市()	イタイイタイ病	()病
地域	阿賀野川流域	三重県四日市	富山県神通川流域	熊本・鹿児島県
原因	水質汚濁	()	()	水質汚濁

(1) 上の表は、四大公害病に関するものです。表中の ~ にあてはまる語句を、次から記号で1つずつ選びなさい。

ア 大気汚染 イ 水質汚濁 ウ 水俣 エ ぜんそく

(2) 公害問題だけでなく、広い環境問題に総合的に対処するために、1993年に制定された法律は何ですか。

(3) 近年深刻化している生活公害の例を1つ上げなさい。

(4) 主な公害7つのうち3つの公害を上げなさい。ただし、大気汚染、水質汚濁は除きます。

[解答欄]

(1)				(2)
(3)	(4)			

[解答](1) ウ エ ア イ (2) 環境基本法 (3) ダイオキシンによる土壌汚染 (4) 騒音、ごみ、土壌汚染

[解説]

戦後、日本が急速な経済発展をとげるにつれて、各地で深刻な公害問題が発生した。なかでも、熊本県水俣湾の水俣病、三重県四日市の四日市ぜんそく、富山県神通川流域のイタイイタイ病、新潟県阿賀野川流域の新潟水俣病の4つは四大公害とよばれた。

これに対して、公害追放の住民運動が各地で展開されたため、公害を防止し、環境汚染をくいとめるべく、1967年に公害対策基本法が作られ、1971年には環境庁が新設された。また、1993年、環境基本法が作られた。

こうした努力によって生産活動による公害は少しずつ減っていった。しかし、その反面で騒音、排気ガス、ごみなどによる生活公害が大きな問題になっている。最近では、廃棄物焼却施設から排出されるダイオキシンによる土壌汚染・大気汚染が大きな問題となった。



[問題](3 学期期末)

以下の問いに答えなさい。

	水俣病	(ア)病	(イ)病	四日市ぜんそく
発生地	熊本県	阿賀野川流域	神通川流域	(ウ)県四日市市
原因	<a>		<c>	大気汚染

- (1) 上の表は四大公害訴訟についての表である。空欄(ア)～(ウ)に適する語句を記入しなさい。また、空欄<a>～<c>には適する語句を語群から選び、記号で答えなさい(同じ記号を何度使用してもかまわない)

あ ダイオキシン い 有機水銀 う カドミウム え シアン

- (2) 1967 年、公害抑制のために制定された法律は何か。
 (3) (2)の法律に代わって、1993 年に制定された法律は何か。

[解答欄]

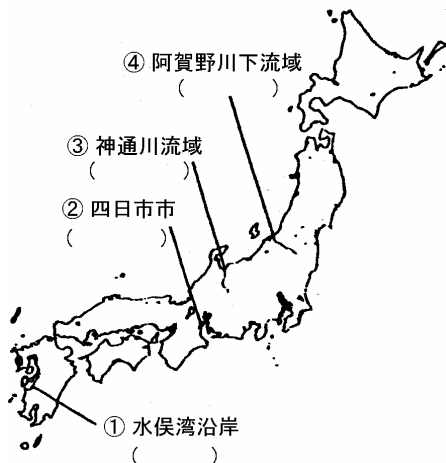
(1)ア	イ	ウ	a	b
c	(2)	(3)		

[解答](1)ア 新潟水俣 イ イタイイタイ ウ 三重 a い b い c う (2) 公害対策基本法 (3) 環境基本法

[問題](増補 06)(2 学期期末)

次の各問いに答えなさい。

- (1) 右の地図の ~ の地域で発生した公害名を答えなさい。
 (2) わが国では、1960～70 年代にかけて多くの公害が問題になりました。この時期に多くの公害が発生した理由を当時の時代背景とともに説明しなさい。



[解答欄]

(1)			
(2)			

[解答](1) 水俣病 四日市ぜんそく イタイイタイ病 新潟水俣病 (2) 1960～70年代の高度経済成長の時代には、産業の発展が最優先されたため、各地で多くの公害が発生した。

[問題](増補 06)(3 学期)

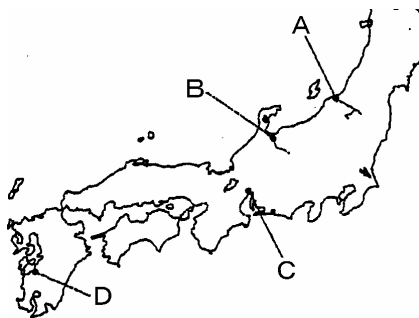
次の地図をみて、各問いに答えなさい。

(1) 地図中の A～D は、四大公害とよばれた公害が発生したところです。C・D で発生した公害名を答えなさい。

(2) A・B・D で発生した公害に共通する原因を、次から 1 つ選び、記号で答えなさい。

- ア 水質汚濁 イ 騒音
- ウ 大気汚染 エ 地盤沈下

(3) 公害・環境問題の新しい課題に対処するために、1993 年に定められた法律を答えなさい。



[解答欄]

(1)C	D	(2)	(3)
------	---	-----	-----

[解答](1)C 四日市ぜんそく D 水俣病 (2) ア (3) 環境基本法

[問題](増補 06)(3 学期)

～ の公害に関連する地図上の場所と語句を記号で答えよ。

四日市ぜんそく

水俣病

イタイイタイ病

新潟水俣病

足尾銅山鉍毒事件

〈 語 句 〉

ア：神通川 イ：阿賀野川 ウ：吉野川

エ：安春川 オ：チッソ カ：サンソ

キ：田中正造 ク：児島惟謙

ケ：石油コンビナート

コ：ナイスコンビネーション



[解答欄]

--	--	--	--	--

[解答] F,ケ J,オ G,ア D,イ E,キ

[問題](増補 04)(3 学期)

右の地図を見て、各問いに答えなさい。

- (1) 地図中の a・b で発生した公害病はそれぞれ何とよばれていますか。
- (2) 公害や環境問題に対処するために、1993 年に制定された法律は何ですか。



[解答欄]

(1)a	b	(2)
------	---	-----

[解答](1)a イタイタイ病 b 四日市ぜんそく (2) 環境基本法

[問題](増補 06)(3 学期)

次の各問いに答えなさい。

- (1) 次の ・ の地域で発生した公害の名称を答えなさい。
富山県神通川流域
三重県四日市市
- (2) 公害・環境問題の新しい展開に対処するために、国が 1993 年に制定した法律名を答えなさい。

[解答欄]

(1)		(2)
-----	--	-----

[解答](1) イタイタイ病 四日市ぜんそく (2) 環境基本法

[問題](2 学期中間)

次の問いに答えなさい。

- (1) 四大公害訴訟とは、新潟水俣病、四日市ぜんそく、イタイイタイ病ともうひとつは何か。
- (2) 公害対策だけではなく、近年の環境問題にも総合的に取り組むためのものとして、1993 年に新たに制定された法律を何というか。

[解答欄]

(1)	(2)
-----	-----

[解答](1) 水俣病 (2) 環境基本法

[問題](増補 06)(3 学期)

公害・環境問題について答えなさい。

- (1) 日本の四大公害のうち、大気汚染が原因となったのは何ですか(公害名)。
- (2) 近年深刻になってきた生活公害のうちゴミの焼却の過程で発生する、発がん性や免疫毒性があるとされている物質は何ですか。
- (3) 公害追放に向けて立ち上がった人々が行った活動を総称(まとめて名前を付けると)して何といいますか。
- (4) 公害・環境問題に対処するために、1993 年に制定された法律名を書きなさい。
- (5) 酸性雨や地球温暖化の原因とされていることは何ですか。「 の大量消費」という形で答えなさい。

[解答欄]

(1)	(2)	(3)	(4)
(5)			

[解答](1) 四日市ぜんそく (2) ダイオキシン (3) 住民運動 (4) 環境基本法 (5) 化石燃料の大量消費

[問題](増補 06)(3 学期)

公害・環境問題の新しい展開に対処するために、国が 1993 年に制定した法律は何か。

[解答欄]

--

[解答]環境基本法

【】日本経済の課題

[問題](増補 06)(3 学期)

次の各問いに答えなさい。

- (1) 1980 年代後半から 90 年代初めまで、企業や銀行の保有する資金が株や土地に投資され、これらの価格が急激に上昇していった経済の状態を、何とっていますか。
- (2) (3)のあと、金融機関が融資した多くの資金が回収不能となった。この資金を何といますか。
- (3) 最近、新技術や高度の知識をもとに、創造的な仕事を行う中小企業が、増えてきている。これらの企業を何と呼んでいますか。

[解答欄]

(1)	(2)	(3)
-----	-----	-----

[解答](1) バブル経済 (2) 不良債権 (3) ベンチャー企業

[解説]

1980 年代後半から 90 年代初め、企業や人々の多くは、値上がりによる利益を目的に土地や株を買うようになり、土地や株の値段が急激に上昇しはじめた。これをバブル経済という。ところが、1990 年代にはいると、それまで上がりつづけていた土地や株の値段が暴落し、バブル崩壊と言われる現象が起きた。バブル経済の時代に、銀行は不動産取引や開発のために巨額の資金を融資していたが、バブル崩壊によって相当の額が回収不能になり、銀行は多額の不良債権をかかえこみ、中には経営破綻に陥る銀行も出た。経営不振におちいった銀行は貸出に慎重になり、資金不足から倒産する企業があいついだ。こうして、90 年代を通じて日本経済は低成長におちいつてしまった。

このように現在では、経済がとどこおるようになったが、コンピュータや通信技術の分野などで、新たな成長への期待も生まれてきている。新技術や高度の知識をもとに、創造的な仕事を行うベンチャー企業が注目されている。

[問題](増補 06)(3 学期)

次の各問いに答えなさい。

- (1) 1980 年代後半から 1990 年代の初頭にかけて、日本経済は何といわれる経済状態でしたが、その名称を答えなさい。
- (2) (1)の崩壊で、不動産取引や開発のために金融機関が融資した資金が回収不能になったものごを何といますか。

[解答欄]

(1)	(2)
-----	-----

[解答](1) バブル経済 (2) 不良債権

[問題](増補 06)(3 学期)

次の各問いに答えなさい。

- (1) 日本では 1980 年代の後半から 1990 年代のはじめにかけて、地価・株価が急騰していますが、この経済を何といいますか。
- (2) (1)の崩壊により、銀行が回収不能となった多額の債権を何といいますか。

[解答欄]

(1)	(2)
-----	-----

[解答](1) バブル経済 (2) 不良債権

[問題](増補 06)(3 学期)

各文章を読み、間違っているものを 1 つ選んで記号で答えなさい。

- ア 日本経済は、バブルが崩壊すると一転して不況におちいり、現在でも、その後遺症から立ち直っていない。
- イ 産業構造の大きな転換期にあり、労働者を新しい技術や新しい産業へ適合させていくことが必要であり、外国企業との激しい競争の中で、新しい産業をどのように育成していくかは、日本経済の大きな課題である。
- ウ 日本の農業に今一番必要とされていることは、農家の生産意欲を高めるための環境づくりであり、農業を魅力ある産業にする政策が求められている。
- エ 公害防止の努力によって、生産活動による公害は少しずつ減ってきたが、その反面、騒音・排気ガス・ごみ・ダイオキシンによる土壌汚染などの生活公害が深刻さを増している。
- オ 高度経済成長により日本は工業国の仲間入りをし、アメリカにつぐ経済大国になった。現在の大変景気のよい経済状態のなか、情報通信産業・サービス・ソフトなどの産業が大きな比重を占めている。

[解答欄]

--

[解答]ア

[問題](増補 06)(3 学期)

次の各問いに答えなさい。

- (1) 21 世紀の中心的な産業といわれるものは何産業ですか。
- (2) 新技術や高度の知識をもとに、創造的な仕事を行う中小企業を何といいますか。

[解答欄]

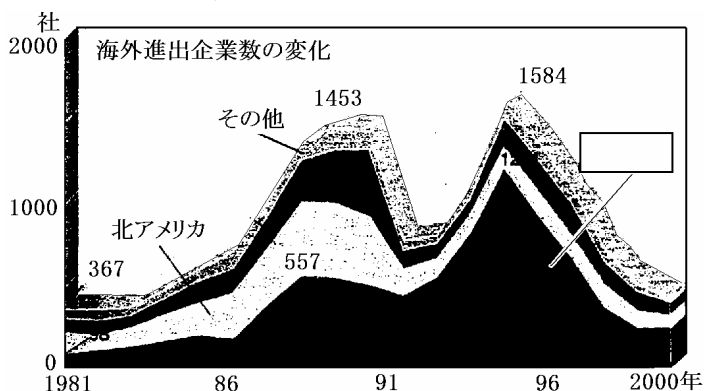
(1)	(2)
-----	-----

[解答](1) 情報通信産業 (2) ベンチャー企業

[問題](2 学期中間)

次の文や右の資料を見て、あとの問いに答えなさい。

日本の企業は、海外の企業とも競争している。自由な()によって世界中でつくられた安くてよいものをすべての国の消費者の手に送ることが可能になった。日本の企業の中にも海外に進出する企業が増え、特に製造業では、国際的な競争力を得るために、安い



労働()をもとめ工場を海外に移転し、国内の工場を閉鎖するところも多くなった。

- (1) 文中の()にあてはまる語句をそれぞれ漢字 2 字で書け。
- (2) 図の 〇 にあてはまる地域を、次から選べ。

ヨーロッパ アジア 南アメリカ アフリカ

- (3) 下線部について、こうした動きによって国内産業が衰退していくことを、何というか。

[解答欄]

(1)	(2)	(3)
-----	-----	-----

[解答](1) 貿易 資源 (2) アジア (3) 産業の空洞化

