

【】主権国家

[問題](2学期中間)

次の文を読んで、あとの設問に答えなさい。

国家が対外的に独立を保つ権利を(a)といい、(a)の確立した国を(a)国家あるいは独立国家という。(a)国家は、他国から支配や(b)を受けず、他国と(c)の権利をもつことが認められている。(a)の及ぶ範囲を領域といい、近年は排他的経済水域を設ける国も増えている。

国際社会における各国の交わりにはルールが必要となる。このルールを国際法といい、国際(d)と、国家間で結ばれる(e)とがある。

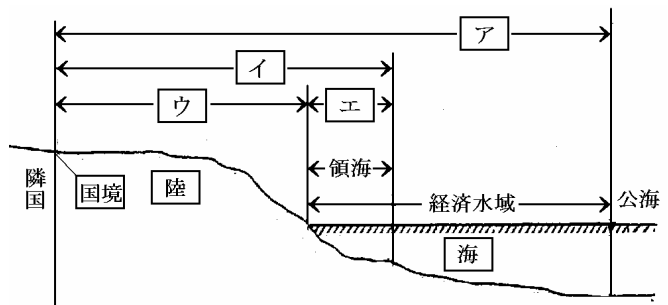
(1) 文中の()にあてはまる語句を、次の中から選び、記号で答えなさい。

ア 対等 イ 条例 ウ 主権 エ 自治 オ 慣習法 カ 干渉 キ 条約

(2) 下線部 について、現在独立国家はどれくらいあるか。次の中から一つ選び記号で答えなさい。

ア 約 150 イ 約 170 ウ 約 190 エ 約 210

(3) 下線部 について、右図は国家の領域を示している。図中のア～エのうち、領空の範囲を正しく示すものはどれか。最も適切なものを一つ選び、記号で答えなさい。



(4) 図中の領海の範囲は、現在一般に沿岸から何海里とされているか。もっとも適切な数字を次のア～

エから一つ選び、記号で答えなさい。

ア 200 海里 イ 100 海里 ウ 12 海里 エ 3 海里

(5) 図中の公海について、正しいことがらを一つ選び、記号で答えなさい。

他国の船は、その国の指示に従わなければならない。

いかなる船も自由に航海することができる。

海底の地下資源の開発では、沿岸国に優先権がある。

まわりの国が協議をして、許可を受けた船のみが航海できる。

(6) 下線部 について、これを何というか。漢字2文字で答えなさい。

[解答欄]

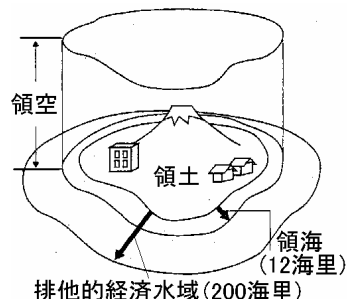
(1)a	b	c	d	e	(2)	(3)
(4)	(5)	(6)				

[解答](1)a ウ b カ c ア d オ e キ (2) ウ (3) イ (4) ウ (5) (6) 外交

[解説]

世界には約 190 の国があるが、それぞれの国は主権をもっている。主権は、他国から支配や干渉を受けない権利(内政不干渉の原則)、多の国々と対等である権利(主権平等の原則)からなっている。主権の確立した国を主権国家という。

国家の領域は、領土・領海(海岸線から 12海里)^{かいり}・領空(領土と領海の上空)である。(1 海里は 1852m) 領海の外は公海でどの国の船でも自由に航海できる。これを公海自由の原則という。さらに海岸から 200 海里の範囲を経済水域^{けいざいすいしき}として漁業資源などを沿岸国の権利として認めている。(ただし、南極大陸は、どこの国の領域にもなっておらず、人類の共通資産となっている。)



国際社会における各国の交わり(外交)にはルールが必要となる。このルールを国際法^{こくさいほう}といい、国際慣習法^{こくさいかんじゆほう}と、国家間で結ばれる条約^{じょうやく}とがある。

[問題](増補 04)(3 学期)

右の図を見て、各問いに答えなさい。

- (1) 図の A～D にあてはまる語句を答えなさい。
- (2) 次の文にあてはまる国際社会の原則をそれぞれ何と申しますか。

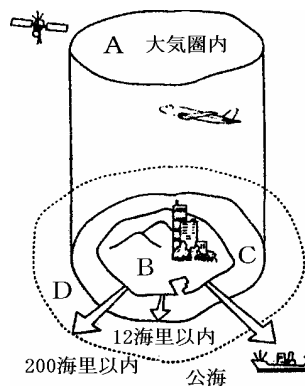
ある国が他国に支配されたり、干渉されない権利。

他の国々と対等である権利

- (3) どこの国の領域にもなっていない、人類の共通資産となっている大陸はどこですか。
- (4) 経済水域とはどのようなものか。次の 2 語を使って簡潔に説明しなさい。

[水産・地下資源 沿岸国]

- (5) 国際法にはどのようなものがありますか。2 つ答えなさい。



[解答欄]

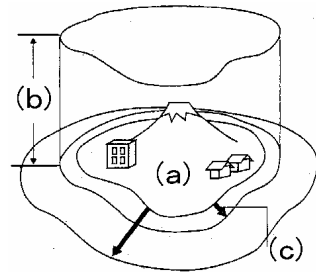
(1)A	B	C	D
(2)			(3)
(4)	(5)		

[解答](1)A 領空 B 領土 C 領海 D 経済水域 (2) 内政不干渉の原則 主権平等の原則 (3) 南極大陸 (4) 水産・地下資源の権利が沿岸国にある水域 (5) 条約、国際慣習法

[問題](増補 06)(3 学期)

次の文や図を見て，各問いに答えなさい。

世界の人々は，どこかの国の国民として暮らしている。世界には () ほどの国があり，それぞれの国は主権をもっている。主権は，(ア)ある国が他国に支配されたり，干渉されたりしない権利や，(イ)他の国と対等である権利からなっている。現在の国際社会は主権をもつ国々からなっており，(ウ)国家の主権が及ぶ範囲を領域という。領域の外側の水域が公海で，どの国の船や漁船でも自由に航行や操業ができる。(エ)領域のまわりの水域で漁業資源をとる権利が沿岸の国にある範囲もある。



国家が互いに主権を尊重しあっていくために(オ)国際社会には守られなければならないルールがある。国と国が結ぶ取り決めや国際慣習法などである。各国はこれらのルールを守り，国際協調の精神で行動することが必要である。

- (1) 文中の()にあてはまる語句を書きなさい。
- (2) 下線ア・イの権利を何と言いますか。
- (3) 下線ウについて図中の(a)～(c)を書きなさい。
- (4) 下線エの範囲を何と言いますか。また，その距離はどのくらいですか。
- (5) 下線オを一般に何と言いますか。
- (6) (5)の国際的なルールの例を一つあげなさい。

[解答欄]

(1)	(2)ア	イ
(3)(a)	(b)	(c)
(5)	(6)	

[解答](1) 190 (2)ア 内政不干渉の原則 イ 主権平等の原則 (3)(a) 領土 (b) 領空 (c) 領海 (4) 経済水域，200 海里 (5) 国際法 (6) 公海自由の原則

[問題](3 学期期末)

今日、世界の国々の多くは相互に外交関係を保ち、国際社会を形成している。国際社会は(A)(1)国家をその基本的な構成単位として成立しており、国家の(1)が及ぶ範囲を(2)という。(2)は、領土・領海・領空からなり、日本の領海は、(3)海里である。領海の外側が(4)で、(B)どの国の船でも自由な航行が保障されている。

- (1) 文中の()に適語を入れよ。
- (2) 近年、経済水域と呼ばれる水域が設定されているが、これは一般に何海里か。
- (3) 下線部(A)について、他国に一切干渉されない権利があるがこの原則を何というか。
- (4) 下線部(B)のような原則を何というか。
- (5) 国際社会に必要な、守らなければならない国内法のような規範を何というか。

[解答欄]

(1)1	2	3	4	(2)
(3)	(4)	(5)		

[解答](1)1 主権 2 国家領域 3 12 4 公海 (2) 200 海里 (3) 内政不干渉の原則 (4) 公海自由の原則 (5) 国際法

[問題](増補 05)(3 学期)

今から 15 年ほど前に、約 300 億円をかけて水没から守るための工事が行われた、日本の最南端の領土である島の名前を答えなさい。

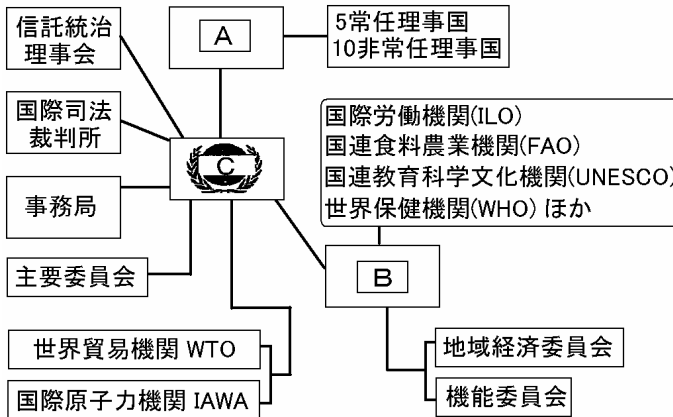
[解答欄]

[解答]沖ノ鳥島

【】国際連合

[問題](増補 06)(3 学期)

次の図を見て、問いに答えなさい。



- (1) 图中 A ~ C に適する組織名を答えよ。
- (2) 現在，国連の事務総長は誰か。人物名と国名を答えよ。
- (3) ア～ウにあたる国連の組織名を答えよ。
 ア 国家間の国際法上の紛争についての裁判を行う。
 イ 労働条件と生活水準の改善を国際的に実現することを目的とする。
 ウ 伝染病の撲滅をはじめ，麻薬取り扱いの規律を定めている。
- (4) A の 5 常任理事国のうち 1 国でも反対すれば，国際紛争の処理など重要な議案について決定できない権利を何と言うか。
- (5) 現在，国連に加盟しているのは何か国か。
- (6) 国際連合の本部は何という都市にあるか。

[解答欄]

(1)A	B	C
(2)	(3)ア	イ
ウ	(4)	(5)
(6)		

[解答](1)A 安全保障理事会 B 経済社会理事会 C 総会 (2) パン・ギムン，韓国 (3)ア 国際司法裁判所 イ 国際労働機関 ウ 世界保健機関 (4) 拒否権 (5) 191ヶ国 (6) ニューヨーク

[解説]

1945年にサンフランシスコに51ヶ国が集まり，こくさいれんごうけんしゅう国際連合憲章きりやくを採択し，国際連合が成立した。現在の加盟国数は191ヶ国である。その本部はそんごうニューヨークに置かれている。総会は全加盟国で構成さ

れ、年に1回定期的に開かれる。各国1票の投票権をもち、^{たすうけつ}多数決制をとっている。

平和と安全の維持にあたっているのは^{あんぜんほしやうりじかい}安全保障理事会で、アメリカ、イギリス、フランス、ロシア、中国の5ヶ国が^{じょうにんりじこく}常任理事国で、非常任理事国は10ヶ国である。重要問題の議決には、5常任理事国を含む9理事国以上の賛成が必要で、常任理事国のうち1か国でも反対すれば^{ぎげつ}議決されない。これを^{きよひけん}拒否権という。国際連合は、紛争地域に平和維持軍(PKF)を派遣して、停戦の監視などの平和維持活動(PKO)を行っている。

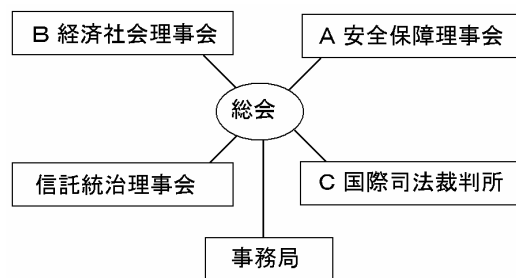
経済社会理事会の専門機関としては、国連教育科学文化機関(ユネスコ)(UNESCO)(教育・科学・文化を通じて、各国間の相互理解や協力を推進)、国際労働機関(ILO)(労働者の地位向上)、世界保健機関(WHO)(保健に関する国際協力)、国際通貨基金(IMF)(為替の安定や貿易の拡大をはかる)、国際復興開発銀行(IBRD)(発展途上国の産業振興をはかり、貸し付けなどを行う)などがある。また、総会によって設立された機関としては、国連貿易開発会議(UNCTAD)(南北問題の解決をはかる)、国連児童基金(ユニセフ)(UNICEF)(発展途上国の子どものために医療や食料などを援助)、国連難民高等弁務官事務所(UHCHR)(1991年から2000年まで緒方貞子さんが最高責任者をつとめた)などがある。

国際法についての紛争を裁くのは国際司法裁判所(オランダのハーグに置かれている)、非自治地域などの自立や安全をはかるのは^{しんたくどうち}信託統治理事会である。事務局の長は事務総長ある(現在の事務総長はガーナ出身のアナン氏)。

[問題](増補 06)(2 学期期末)

国際連合について、下の図を見て各問いに答えなさい。

- (1) 国際連合の本部は何という国の何という都市にありますか。
- (2) 図中 C は何という国の何という都市にありますか。
- (3) 図中 A の常任理事国は、アメリカ・フランス・イギリスとどこですか。2カ国答えなさい。



- (4) 図中 A における、手続き事項以外の議決の仕方を答えなさい。
- (5) 図中 B の専門機関について、～ にあてはまるものをアルファベット(略称)で答えなさい。

世界各国の人々の労働条件の向上を目指している。

発展途上国の産業振興をはかり、貸し付けなどを行う。

文化財の保護や教育の普及、文化交流の促進に努めている。

- (6) 1945 年、国際連合が発足する際、採択されたものは何ですか。

[解答欄]

(1)	(2)	(3)
(4)		
(5)		(6)

[解答](1) アメリカのニューヨーク (2) オランダのハーグ (3) ロシア, 中国 (4) 15 の理事国のうち 9 理事国以上の賛成が必要。ただし, 常任理事国は拒否権を持つ。 (5) ILO IBRD UNESCO (6) 国際連合憲章

[問題](2 学期中間)

次の表を見て, 以下の各問い答えなさい。

A	全加盟国で構成され, 年に 1 回定期的に開かれる
B	15 の理事国で構成され, 世界の平和と安全の確保を目的とする
経済社会理事会	経済・社会・文化・人権などに関する問題を処理する

- 表中の A, B にあてはまる語句を書きなさい。
- 国際連合の本部がある都市はどこですか。
- B の機関を構成する理事国のうち, アメリカ合衆国・ロシア・イギリス・フランス・中国の 5 カ国を特に何といいますか。
- B の議事は(2)であげた国のうち 1 カ国でも反対すると決定できませんが, これらの国に認められたこの権利を何といいますか。
- 経済社会理事会の専門委員会のうち, 次の ~ であらわされた組織を何といいますか。下のア~オから選んで記号で答えなさい。

労働者の地位の安定と労働条件の向上をはかる国際労働機関

伝染病の撲滅などのために活動している世界保健機関

教育・科学・文化を通じて, 世界平和と国際間の理解を進める活動をしている国連教育科学文化機関

ア: WHO イ: UNICEF ウ: UNESCO エ: ILO オ: IMF

- 次の文章は, 平和をおびやかす行動に対して国際連合ができる制裁について簡単にまとめたものです。文中の()にあてはまる語句を書きなさい。

経済制裁や()的措置を含む制裁を加えることができる。

[解答欄]

(1)A	B	(2)	(3)
(4)	(5)	(6)	

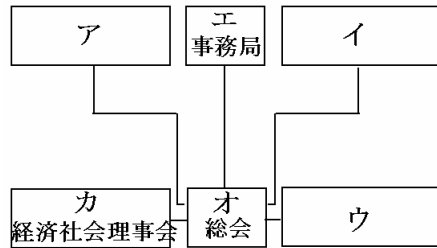
[解答](1)A 総会 B 安全保障理事会 (2) ニューヨーク (3) 常任理事国 (4) 拒否権 (5) エ ア ウ (6) 軍事

[問題](2学期中間)

国際連合の主要機関を示した右下の図を見て、以下の設問に答えなさい。

- (1) 図中のア～ウにあてはまる機関の名称を、以下の文を参考にして答えなさい。

- ア 条約の解釈や国際法についての紛争を裁く。
 イ 非自治地域などの自立や安全をはかる。
 ウ 国際社会の平和維持に関して、最も重要な役割を果たす。5 常任理事国と 10 非常任理事国とで構成される。



- (2) 図中のアはどこ都市にあるか、次の中から選び記号で答えなさい。
 ニューヨーク ジュネーブ ロンドン ハーグ
- (3) 図中のウの機関において、現在 5 常任理事国ではない国を以下から二つ選び記号で答えなさい。
 中国 ドイツ アメリカ 日本 フランス イギリス ロシア
- (4) ウの決議は常任理事国のうち 1 カ国でも反対すれば、成立しない。常任理事国がもつこのような権限は一般に何と呼ばれるか。
- (5) 当事国の要請を受けた場合、ウの決議に基づいて、紛争地域に軽装備の軍隊をおくり、兵力の引き離しを行う活動をする。この際の軍隊 PKF を日本語で(漢字を用いて)答えなさい。
- (6) エの事務局に関して、次の設問に答えなさい。
 事務局の長を何といいますか。
 現在は誰がその職についていますか。その人物の名前を答えなさい。
- (7) オの総会に関して、次の ~ のうち誤りを含むものを一つ選び記号で答えなさい。
 すべての討議事項について、過半数の賛成を必要とする。
 全加盟国で構成される。
 年 1 回定期的に開かれる。
 国の大小にかかわらず、1 国 1 票の投票権をもっている。
- (8) 次の A～C の専門機関が置かれているのは、図中のア～カのうちどの機関か。また、A～D それぞれの略称を語群から選び、記号で答えなさい。

- A 世界貿易機関 B 国際労働機関 C 世界保健機関 D 国連教育科学文化機関
 語群 UNICEF UNESCO UNEP UNCTAD WTO
 WHO IMF ILO NGO

[解答欄]

(1)ア	イ	ウ	(2)
(3)	(4)	(5)	(6)
(7)	(8)	A B C D	

[解答](1)ア 国際司法裁判所 イ 信託統治理事会 ウ 安全保障理事会 (2) (3) , (4)
拒否権 (5) 平和維持軍 (6) 事務総長 パン・ギムン (7) (8) カ A B
C D

[問題](3 学期期末)

次の文の空欄に記入すべき語句で最も適当と思われるものを語群より選び、記号で答えよ。また、問いにも答えよ。

歴史的に見ると、国際関係が拡大するにつれて、経済的、政治的対立も拡大していった。このようなかで、国際紛争の処理方法として仲裁裁判制度や国際組織を設けて、国家間の調整をはかろうとする考えが出るようになった。その代表的なものが第一次世界大戦後にできた(1)であった。しかし、この組織は全会一致制をとっていたため、全体の意思決定が極めて難しく、組織の設立を提唱したアメリカ合衆国が上院の反対で加盟せず、敗戦国ドイツと社会主義国家となったソ連が当初参加を許されなかった等の問題点があり、第二次世界大戦の勃発を防ぐことができなかった。

1945年、(1)の反省に基づいて組織されたのが国際連合である。国際連合は、本部を(2)に置き、すべての加盟国からなる(3)と理事会に異なった権限が与えられ、議決方式も全会一致制を取らず、決議の円滑化をはかった。また、国際連盟が規約違反に対する制裁力を欠いたのに対し、国際連合では、正式のものは存在しないが、安全保障理事会と加盟国との特別協定による国連軍が組織されることになった。安保理は最重要の機関であり、常任理事国と、非常任理事国で構成されているが、重要事項の決議は、常任理事国(4)ヶ国のすべてを含む(5)理事国以上の賛成投票によるため、(C)安保理の常任理事国は、いわゆる(6)を持っていることになり、自国に不利な決議を否決するなどの大きな問題も現れた。特に米ソの対立時代には、国際紛争に有効に対応できなかったが、現在では(6)の発動も極めて少なくなって、国連の役割も大きくなっており、国連カンボジア暫定行政機構、略号(7)などの(D)紛争地域の敵対する兵力の引き離しや停戦の監視などの活動も行っている。

近年、地域としてのまとまりを強化して、国際協調や協力を強めようとする(8)と呼ばれる動きが顕著になっており、ヨーロッパの欧州連合やアジア・太平洋地域の(9)などがその例である。

(語群)

ア)総会 イ)ニューヨーク ウ)国際連盟 エ)事務局 オ)統治権 カ)ロンドン
キ)公海 ク)決定権 ケ)法治 コ)拒否権 サ)ジュネーブ シ)モスクワ
ス)国家領域 セ)主権 ソ)国際規約 タ)本会 チ)ワシントン ツ)5 テ)6
ト)7 ナ)8 ニ)9 ヌ)10 ネ)11 ノ)12 ハ)ASEAN ヒ)UNICEF
フ)NAFTA ヘ)UNHCR ホ)UNTAC マ)APEC ミ)リージョナリズム ム)ナショナリズム

- (1) 国際組織の加盟国は他国に侵略しないことを約束し、もし侵略が生じた場合には、加盟国が共同で制裁する考えかたを何というか。(漢字6字)
- (2) 下線部(C)をすべて記せ。
- (3) 下線部(D)の名称と略号を記せ。

[解答欄]

1	2	3	4	5	6	7
8	9	(1)				
(2)					(3)	

[解答]1 ウ 2 イ 3 ア 4 ツ 5 ニ 6 コ 7 ホ 8 ミ 9 マ (1) 集団安全保障 (2) アメリカ、イギリス、フランス、ロシア、中国 (3) 平和維持活動、PKO

[問題](増補 05)(3 学期)

国際通貨制度を整え、貿易を促進する目的でつくられた国際機構の名を答えなさい。(日本語、略称どちらで答えてもかまわない)

[解答欄]

[解答]IMF

[問題](増補 05)(3 学期)

UNCTAD が活動している主目的は、次のア～オのどれですか。

ア：各国の労働者の労働条件の向上 イ：南北問題の解決

ウ：伝染病の撲滅や衛生状態の改善 エ：戦災地域の復興と開発

オ：教育の普及、文化財保護、文化交流の促進

[解答欄]

[解答]イ

[問題](2 学期中間)

国際連合は、国際連盟の失敗に対する反省から、侵略国に対して加盟国全体で武力制裁を含む制裁措置を行うしくみがとられている。このしくみは何とよばれているか。

[解答欄]

[解答]集団安全保障

[問題](2 学期中間)

(1) 国際連合に関する説明として、誤りを含むものを一つ選び、記号で答えなさい。

国際連合は略して「UN」と表記される。

国際連合に日本が加盟したのは1956年である。

アメリカ合衆国は国際連合発足時には加盟していなかった。

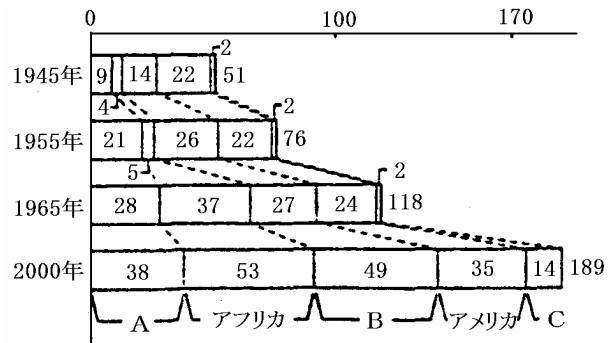
国際連合の本部はニューヨークに置かれている。

(2) 国際連合の設立当初の加盟国は51カ国であった。右のグラフはその後の加盟国数移り変わりを表している。これについて、以下の設問に答えなさい。

グラフのA～Cは次のあ～うのいずれかである。このうちBにあてはまる地域をあ～うから選び、記号で答えなさい。

あ) オセアニア い) ヨーロッパ う) アジア

アフリカの加盟国数が、1955年に比べ1965年には大きく増えている。その理由を答えなさい。



[解答欄]

(1)	(2)	
-----	-----	--

[解答](1) (2) い 多くの国が独立したから

[解説]

日本が国際連合に加盟したのは1956年である。(この年にソ連と日ソ共同宣言を結び、ソ連の反対がなくなって加盟が実現した)

図のAはアジアで、第二次世界大戦後、多くの国が独立したために1945～1955年の間の国連加盟国数が増加している。1960年は「アフリカ年」といわれ、多くの独立国が生まれた。これによって、1955～1965年の間のアフリカ諸国の国連加盟国数が増加している。Bはヨーロッパで、1965～2000年に加盟国数が増加しているのは、1991年にソ連が崩壊し、多くの共和国が生まれたためである。

[問題](増補 05)(3 学期)

右は、独立国の増加を表したグラフです。これを見て、あとの問いに答えなさい。

- (1) 1900 年には独立国が全く無かった X の地域名を答えなさい。

- (2) 日本が主権を回復し、また国際連合に加盟したのは、A～F のどれとどれの間ですか。

- (3) E と F の間に、アジアおよびヨーロッパで独立国が増えたことに最も関係が深いできごとを、次のア～エから選び、記号で答えなさい。

ア：CIS 誕生 イ：EU 発足
ウ：アフリカの年 エ：国際連盟成立

1900年 A	7カ国	21	20	2	X	50 カ国
1920年 B	9	27	22	3	2	63
1940年 C	12	27	22	3	2	66
1960年 D	30	31	22	27	2	112
1980年 E	37	31	35	52	13	168
2002年 F	アジア 46	ヨーロッパ 43	アメリカ 35	アフリカ 53	14	191

- (4) 2002 年 5 月に独立した、アジアで最も新しい国名を答えなさい。
(5) X 地域の 14 番目の国家として独立した、最後の信託統治領名を答えなさい。

[解答欄]

(1)	(2)	(3)	(4)
(5)			

[解答](1) オセアニア (2) C と D の間 (3) ア (4) 東ティモール (5) パラオ

[問題](1 学期期末)

次の資料を見て、各問いに答えなさい。

- (1) 右図は、第二次世界大戦後の世界平和を維持するためにつくられた組織のマークである。この組織を何と言いますか。
(2) 日本が(1)の組織に加盟したのは 1956 年のことである。この年にソ連との間で国交が回復し、ソ連の反対がなくなったからである。このソ連と日本の国交回復が実現した宣言を何と言いますか。



[解答欄]

(1)	(2)
-----	-----

[解答](1) 国際連合 (2) 日ソ共同宣言

【】人口・食料問題

[問題](増補 06)(3 学期)

人口・食料問題について答えなさい。

- (1) 人口増加率がいちじるしい地域を次の中から 2 つ選んで、記号を書きなさい。
 ア オセアニア イ 東アジア ウ 南アジア エ アフリカ オ ヨーロッパ
- (2) 地球の北側に位置する先進工業国とそれより南側に位置する(あ)国との間の経済格差、およびそれから発生する様々な問題を(い)問題とといいます。(あ)の国々の中でも、産油国や新興工業国と最貧国といわれる国々との間にも多くの問題がある。これを(う)問題とといいます。(あ)~(う)にあてはまる語句を書きなさい。
- (3) 先進工業国といわれる国々の人口の増減は今後どうなっていますか。また、年齢構成での問題点はどんなところですか。簡単に書きなさい。

[解答欄]

(1)	(2)あ	い	う
(3)			

[解答](1) ウ, エ (2)あ 発展途上 い 南北 う 南南 (3) 人口増加はほぼ横ばい 少子高齢化の問題

[解説]

人口増加率は、南アジア・東南アジア、アフリカなどの発展途上国で著しい(人口爆発)。これに対し、アメリカ、ヨーロッパ、日本などの先進工業国の人口増加はほぼ横ばいの状態、出生率の低下と平均寿命ののびにより、少子高齢化が問題となっている。

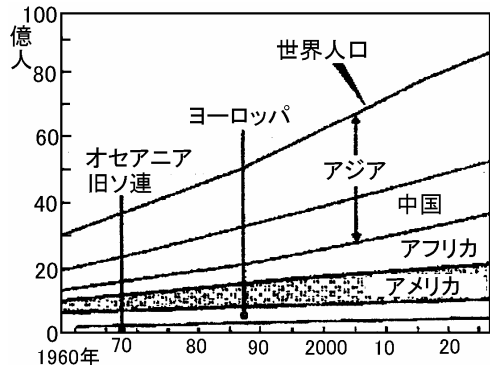
先進工業国の多くは北半球に位置し、世界の人口の 8 割を占める発展途上国の多くは南半球に位置している。このことから、この経済格差の問題を南北問題とよんでいる。発展途上国の中でも、産油国や新興工業国と最貧国といわれる国々との間にも大きな格差があるが、これを南南問題という。南北問題を解決するため、1962 年に国連貿易開発会議(UNCTAD)が設立され、世界銀行(IBRD)も協力して、先進国から途上国への技術と資金の移転や国際的な所得の再配分をすすめてきた。特に日本の政府開発援助(ODA)は世界のトップクラスの水準に達している。青年海外協力隊も日本の ODA の一環である。

人口移動も今後の課題で、災害、内戦、経済上の理由で国外にのがれた難民も増加し、国連では、彼らの保護を行うために国連難民高等弁務官事務所(UNHCR)を置いている。

[問題](増補 06)(3 学期)

右のグラフを見て，下の問いに答えなさい。

- (1) 世界の中で人口の占める割合が 1 番高い国はどこか。
- (2) 人口増加がいちじるしい地域を 2 つ見つけなさい。
- (3) 上にあげた 2 つの地域には，「工業先進国」と「発展途上国」のどちらが多いか。
- (4) 少子高齢化の問題をかかえる国は，「工業先進国」と「発展途上国」のどちらに多いか。




[解答欄]

(1)	(2)	(3)	(4)
-----	-----	-----	-----

[解答](1) 中国 (2) アジア，アフリカ (3) 発展途上国 (4) 工業先進国

[問題](1 学期期末)

資料は主な国の発展途上国への援助に関するものです。日本の特徴を，資料から読み取り，書け。



[解答欄]

[解答]援助総額は世界一であるが，他国に比べて贈与の割合が低い。

【】環境問題

[問題](3 学期期末)

次の文の空欄に記入すべき語句で最も適当と思われるものを語群より選び、記号で答えよ。また、問いにも答えよ。

現在の地球には、地球社会の課題とされている問題がいくつか存在している。

世界の人口は、約 40 年後には、86 億になると予測されている。先進国の人口は、ほぼ横ばいの状態であるが、(1)とよばれている国々の多くでは、いちじるしい人口増加が見られ、(2)と呼ばれている。人口移動も今後の課題で、災害、内戦、経済上の理由で国外にのがれた(3)も増加し、国連では、(A)彼らの保護を行なう機関を置いている。

環境問題では、窒素酸化物と硫黄酸化物による(4)雨や、(5)といわれる地球の気温の上昇、フロンによる(6)破壊、アフリカのサヘル地域に代表される(7)などがあげられており、加えて熱帯気候のもとで生育する森林である(8)などの森林が破壊されて行く現象も大きな問題である。

- (語群)ア)避難民 イ)人口爆発 ウ)電離層 エ)公害 オ)熱帯雨林 カ)第三世界
 キ)高齢化 ク)酸性 ケ)流星 コ)地球温室化 サ)地球温暖化
 シ)脱北民 ス)A・A 諸国 セ)弱酸性 ソ)タイガ タ)難民 チ)人口破壊
 ツ)オゾン層 テ)さばく化

- (1) 下線部(A)を何というか。
 (2) 世界的な問題には先進工業国の多い地域と、発展途上国の多い地域の格差も存在するが、これを何というか。

[解答欄]

1	2	3	4	5	6	7
8	(1)	(2)				

[解答]1 カ 2 イ 3 タ 4 ク 5 サ 6 ツ 7 テ 8 オ (1) UNHCR (2) 南北問題

[解説]

エネルギーの大量消費などによって空気中の二酸化炭素が増加し地球温暖化をもたらしている。温暖化によって気候が変動し、生態系が変わるだけでなく、海水面が上昇してツバルやモルディブなど世界各地の低地が水没するおそれが出てきている。

地球上の森林は二酸化炭素を吸収し、酸素を供給する働きをしているが、その森林が急速に減少していることも地球温暖化の原因になっている。例えば、発展途上国の中には、人口増加により食料や燃料が必要になり、森林の伐採が進んで砂漠化した地域がある(アフリカのサヘル地域など)。東南アジアでは、日本へ輸出するラワン材を過度に伐採したり、日本などに輸出する養殖エビを育てるための池づくりで、マングローブなどの熱帯林が破壊され、海辺の生態系を破壊するだけでなく、洪水・高潮といった災害の発生にもつながっている。

ヨーロッパなどでは、窒素酸化物と硫黄酸化物による酸性雨によって森林が枯れたり、湖の魚が死んだりする被害が出ている。このほか、フロンガスによるオゾン層の破壊も深刻な問題である。このような地球環境問題に対処するため、1972年には「かけがいのない地球」をテーマにストックホルムで国連人間環境会議が開催された。1992年にはブラジルで国連環境開発会議が開催され、「環境と開発に関するリオ宣言」を採択し、環境を守り「持続可能な発展」を目指すことが確認された。1997年には京都で地球温暖化防止のための国際会議が開かれ、二酸化炭素の削減目標を先進工業国に義務づける京都議定書が採択された。さらに、2002年には持続可能な開発に関する世界首脳会議(環境開発サミット)が開かれた。

[問題](増補 06)(3 学期)

a 南北問題は、経済以外に b 生活水準の面でも見られる。南側は 1955 年に()会議で相互協力を進めたが、c 南南問題の拡大で連帯意識は弱まっている。また、酸性雨などの d 地球環境問題も深刻である。1992 年の()会議では、「環境と開発に関する()」を採択し、環境を守り「()な発展」を目指すことが確認された。一方で、後世に残すべき環境を条約で定めたものもある。

- (1) 文中の空欄 ~ に適する語をかけ。
- (2) 南北問題を解決するために、1964 年以来活動している国連の機関は何か。
- (3) 下線 c で経済的に発展したアジア数か国を、何と言うか。
- (4) 酸性雨の原因は硫黄酸化物などであるが、どんな被害をこうむっているか。
- (5) 下線 d でツバルやモルディブなどが、海に沈むといわれるのはなぜか。
- (6) ODA の一環として発展途上国の支援に出かけている青年たちを何と言うか。

[解答欄]

(1)		
	(2)	(3)
(4)		
(5)		(6)

[解答](1) アジア・アフリカ 国連環境開発 リオ宣言 持続可能 (2) 国連貿易開発会議(UNCTAD) (3) アジア NIES (4) 森林が枯れたり、湖の魚が死んだりする被害 (5) 地球温暖化が原因で海水面が上昇するため (6) 青年海外協力隊

[問題](増補 06)(3 学期)

下の説明文中の()に当てはまる語句を後から選び、記号で答えなさい。

日本などに輸出する()エビを育てるための池づくりで 東南アジアの()が伐採されている。このことは、魚や天然えびの生育環境など海辺の()を破壊するだけでなく、()・高潮といった災害の発生にもつながっている。

また、世界一の木材輸入国である日本は、()を大量に輸入している。このままでいくと、21 世紀前半には、()が消滅する恐れがある。

- A 台風 B 洪水 C 養殖 D ラワン材 E 熱帯林 F 生態系

[解答欄]

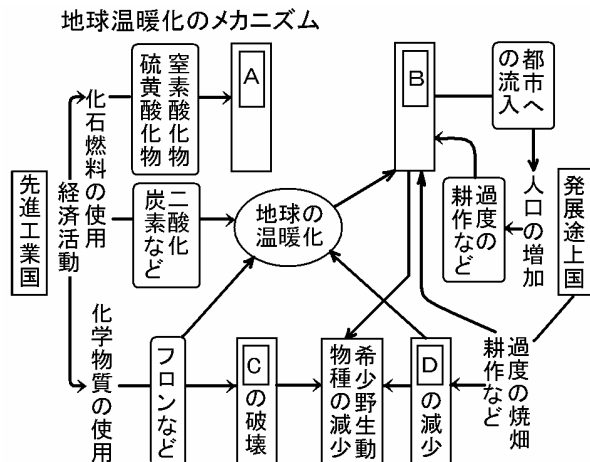
--	--	--	--

[解答] C E F B D

[問題](増補 06)(3 学期)

右の図を見て、次の各問いに答えなさい。

- (1) 図中の A~D にあてはまる語句を次から選んで書きなさい。
熱帯林 生物種 砂漠化
酸性雨 二酸化炭素 オゾン層
- (2) 1972 年「かけがいのない地球」をテーマにストックホルムで開催された環境問題の会議を何といいますか。
- (3) 1992 年にブラジルで開催された環境問題の会議を何といいますか。
- (4) 1997 年日本で地球温暖化防止のための国際会議が開かれた都市はどこですか。



[解答欄]

(1)A	B	C	D
(2)	(3)	(4)	

[解答](1)A 酸性雨 B 砂漠化 C オゾン層 D 熱帯林 (2) 国連人間環境会議 (3) 国連環境開発会議 (4) 京都

[問題](1 学期中間)

- A オゾン層の破壊や温暖化などの地球環境問題の解決のため、1992年には、ブラジルで()会議が開催された。
- B 人権侵害をなくすため、国連は世界人権宣言などで、()の保障が地球上のすべての人々に必要なことを明らかにした。
- C 冷戦が終わった今日でも、()が残っており、核兵器拡散防止条約や INF 全廃条約などによって、()の廃絶の実現を目指している。
- D 地域紛争に対して、国連は停戦監視などの()活動を行っている。
- E 国際経済は自由主義を基本としてきたが、()や地域主義も強まっている。

(1) 文中の ~ にあてはまる語句を次から選んで、書きなさい。

[核兵器 保護主義 基本的人権 地球環境 世界恐慌 平和維持]

(2) 現代社会では、さまざまな問題を抱えている。特に、発展途上国では多くの課題がある。これを支援する市民グループがあらゆるところで活動を行っている。この組織を何といいますか。アルファベット 3 字で書きなさい。

[解答欄]

(1)				
(2)				

[解答](1) 地球環境 基本的人権 核兵器 平和維持 保護主義 (2) NGO

[問題](増補 06)(3 学期)

次の各問いに答えなさい。

- (1) 日本政府は石油に変わる代替エネルギーの中心を何に置いていますか。
- (2) 現在開発が進められている自然エネルギーを利用した発電を 1 つ書きなさい。

[解答欄]

(1)	(2)
-----	-----

[解答](1) 原子力 (2) 太陽光発電

【】地域主義

[問題](増補 06)(3 学期)

国際社会と世界平和について、下の文が説明していることがらを何と云うか答えなさい。

- (1) 今日では、日常生活でも外国との関係をぬきにしては考えられなくなってきた。様々な問題解決も地球規模で連帯・協調することが求められている。このような地球規模で一体となった社会を何とよぶか。
- (2) 世界には、安全保障や、経済や環境問題など共通の問題をかかえている国家や地域がまとまりを作って協力する組織がある。このような動きを何とよぶか。
- (3) 東南アジアの国々が 1967 年に、地域内の安定と発展のために加盟国を増やししながら、経済と政治の協力を進めている組織の名は何か。(日本語でも、英文字 5 字でも可)

[解答欄]

(1)	(2)	(3)
-----	-----	-----

[解答](1) グローバル社会 (2) 地域主義 (3) ASEAN

[解説]

今日では、資源・エネルギー・人口と食料などの問題は、もはや一国だけでは解決ができない地球規模の問題になっている。地球規模で一体となった社会(グローバル社会)として、このような問題に取り組むことが必要になってきている。こうした状況の下で、経済・環境・安全保障などで、同じ問題をかかえている一定地域の国家がまとまりをつくって、そこで協調や協力を強めようとする動きが出てきているが、これを地域主義(リージョナリズム)という。ヨーロッパでは、ヨーロッパ統合をめざす動きがおこったが、現在では EU(ヨーロッパ連合)が発足し、ユーロという共通通貨を導入して経済的な統合をすすめている。東南アジアでは、1967 年に経済・政治の分野での協力を目的に ASEAN(東南アジア諸国連合)が設立され、経済と政治の分野での協力をすすめている。

[問題](増補 06)(3 学期)

次の各問いに答えなさい。

- (1) 安全保障、食料・環境問題を抱える国や地域がまとまりをつくり、国際的に協調を強める動きを何といいますか。
- (2) (1)のまとまりのうち、ヨーロッパでつくられている組織の略称を書きなさい。また、そこで導入された共通通貨を何といいますか。
- (3) 東南アジアは 1967 年に経済・政治の分野での協力を目的に組織がつけられています。この組織を何といいますか。アルファベットを使って表しなさい。
- (4) 冷戦時代、地域紛争は代理戦争となる場合が多かったのですが、東アジア、東南アジアでおこった代表的な代理戦争を書きなさい。
- (5) 地域紛争だけでなく、近年、民族紛争が顕著になっています。その大きな原因となっているものは何でしょう。

【】軍縮と世界平和

[問題](2学期中間)

次の文を読んで、あとの設問に答えなさい。

第二次世界大戦後、アメリカ合衆国を中心とする資本主義の陣営と、ソ連を中心とする社会主義の陣営の間で、< A >あるいは「東西対立」といわれる対立が激しくなり、人類を滅亡させて余りあるほどの核兵器が作られた。

核兵器の開発競争がおこる背景には、お互いに対する強い不信感がある。それは相手よりもより強い軍備をもっていれば、反撃されたときの被害を恐れて、相手が攻撃してこなくなるはずだ、という考え方によく現れている。

1989年、地中海のマルタ島での米ソ首脳会談で、< A >の終結が宣言された。これにより核戦争の危機はいくらか遠のいたように見えたが、核兵器はなお大量に蓄積されており、廃棄と処理の問題はまだ始まったばかりである。

核兵器の削減を求める動きは、おもに、米ソ両政府による2国間交渉と、国連ジュネーブ軍縮会議での多国間交渉で行われてきた。しかし、核兵器その他の大量破壊兵器の拡散の危険もなくなってはいない。アメリカは、現在でも未臨界核実験を行っている。さらに、世界全体で1億個に達すると推定される地雷の撤去も大きな課題となっている。

- (1) < A >に適語を入れなさい。
- (2) 下線部 に関して、西側とは(あ)資本主義陣営、(い)社会主義陣営のどちらをさすか、(あ)、(い)の記号で答えなさい。
- (3) 下線部 について、こうした考え方を 論という。 に適語を入れなさい。ただし、には漢字1文字が入る。
- (4) 下線部 に関して、右の年表の ~ にあてはまる条約を、次の中から一つずつ選び記号で答えなさい。

- ア 包括的核実験禁止条約
- イ 中距離核戦力全廃条約
- ウ 第一次戦略兵器制限交渉(条約)
< SALT >
- エ 部分的核実験禁止条約
- オ 核兵器拡散防止条約
- カ 第一次戦略兵器削減交渉(条約)
< START >

年代	できごと
1963年	米英ソが()に調印
1968年	米英ソが()に調印
1987年	米ソが()に調印
1991年	米ソが()に調印
1996年	国連総会()を採択
1998年	インドと(B)が核実験を行う

- (5) 前問エ)において、核実験の禁止から除外されたのはどこか。次の中から一つ選び記号で答えなさい。 ア) 水中 イ) 大気圏 ウ) 地下 エ) 宇宙空間
- (6) 右の表(B)にあてはまる国名を答えなさい。
- (7) 下線部 について、1997年に結ばれた対人地雷の製造貯蔵までを禁止した条約を何というか。

[解答欄]

(1)	(2)	(3)	(4)
(5)	(6)		(7)

[解答](1) 冷たい戦争 (2) (あ) (3) 抑止力 (4) エ オ イ カ ア (5) ウ
 (6) パキスタン (7) 対人地雷全面禁止条約

[問題](3 学期期末)(私立中学)

次の文の空欄に記入すべき語句で最も適切と思われるものを語群より選び、記号で答えよ。また問いにも答えよ。

「バルト海のステッテンからアドリア海のトリエステまで(1)が下ろされている」と言ったチャーチルの言葉に代表される東西の対立は、米ソの核兵器開発と軍拡競争で一層深刻化していった。1954 年にはアメリカ合衆国がビキニ環礁で水爆実験を強行し現地付近の島民や日本の漁船などが被害を受けた。これ以降、核兵器開発に対する反対運動が高まり、翌年には第 1 回原水爆禁止大会が開催された。このころから東西間で話し合いの姿勢が見られるようになり、いわゆる「雪解け」が始まったが、ソ連が(2)にミサイル基地を建設しようとする一気に緊張が高まり、世界は核戦争の危機に直面したのである。しかし、これを機に、米ソ両大国は(A)緊張緩和、平和共存を模索し始め、1968 年には非核保有国が新たに核兵器を保有すること、保有国が非保有国に核兵器をわたすことを禁止した(3)条約に調印した。また、米ソ間で戦略兵器に関する制限・削減交渉も始まり、1972 年に第一次戦略兵器制限条約が調印された。1980 年代に入るとソ連のアフガニスタンへの軍事介入などの影響で再び対立が激化したものの、社会主義経済の停滞からソ連では 1985 年に(4)氏が共産党書記長に就任して以来、(B)政治・経済の改革が進められ、西側との協調外交・軍縮が実現、アメリカの戦略防衛構想によって一時的に暗礁に乗り上げたが、1987 年に初めて核兵器を削減することになった INF 全廃条約を米ソが調印、1989 年には(5)の終結が宣言された。

(5)終結後の世界では、幾つかの変化が見られている。中国は(C)社会主義体制を一部変更した新たな経済体制を導入、先進国以外への核兵器の保有の可能性とともに、1991 年の(6)戦争のきっかけとなったイラクの(7)侵攻、シャロン氏を首相とする(8)とパレスチナの対立など、地域紛争も激化している。

このような時代に、日本は、憲法の理念である(9)に基づいた(D)国際貢献を行わなければならないだろう。さらに、(E)近隣諸国との関係も良い方向に維持していかなければならない。

- (語群) ア)フルシチョフ イ)クウェート ウ)ベトナム エ)法治主義 オ)核兵器拡散防止
 カ)ブーテン キ)キューバ ク)湾岸 ケ)鉄のカーテン コ)核実験禁止
 サ)ゴルバチョフ シ)ハイチ ス)中東 セ)平和主義 ソ)ジュネーブ
 タ)シュワルナゼ チ)イスラエル ツ)冷戦 テ)ベルリンの壁 ト)サンフランシスコ
 ナ)ヤナーエフ ニ)アフガニスタン

- (1) 下線部(A)は外来語を使用すると何というか。カタカナで記せ。
- (2) 下線部(B)をロシア語で何というか。カタカナで記せ。
- (3) 下線部(C)を何というか。
- (4) 下線部(D)の一つに政府開発援助がある。この略号を答えよ。
- (5) 下線部(E)についてロシアとの関係では北方領土の問題が存在する。北方領土をすべて答えよ。

[解答欄]

1	2	3	4	5	6	7
8	9	(1)	(2)	(3)		
(4)		(5)				

[解答]1 ケ 2 キ 3 オ 4 サ 5 ツ 6 ク 7 イ 8 チ 9 セ (1) デタント (2) ベレストロイカ (3) 開放経済 (4) ODA (5) 国後島, 択捉島, 色丹島, 歯舞群島

[問題](1 学期期末)

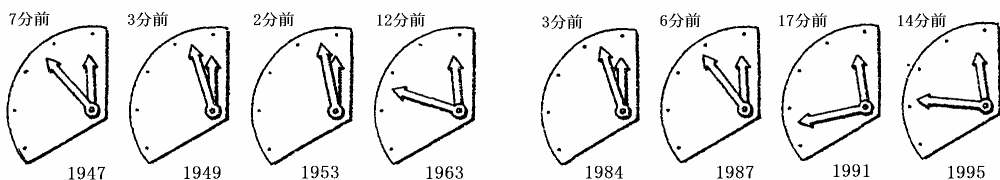
次の文章の空欄に、あてはまる語句を下の選択肢から選び、記号で答えなさい。

アメリカの科学者たちがつくっているある科学雑誌には、毎号その表紙に「運命の日の時計」が掲載されている。この時計は、人類を破滅させる()の危機がどのくらいせまっているかを、分針が午前0時の何分前を指しているかで示している。

1947年の創刊の時には、針は7分前を指していた。それが、()が原爆を開発した1949年には針は一気に3分前まで進んだ。その後、米ソ両国が水爆の開発にしめざをけずっていた1953年には、針はとうとう2分前までせまったが、()が結ばれた1963年には、針は12分前までもどされ、人類破滅の危機はひとまず遠のいた。

1980年代に入ると、()廃絶を求める国際的な世論が高まり、1982年には第2回国連軍縮特別総会が開かれ、()の完全禁止と軍縮が強くさげられた。しかし、米ソの軍備拡大競争の激化を反映して、時計の針は思うようにもどらず、1984年には3分前を指した。1987年に()が結ばれると、針は6分前にもどり、米ソの()や大はばな核軍縮の動きを受けて、1990年には10分前に、1991年には17分前に修正された。

()による冷戦の終了は、核廃絶に向けて大きな前進となったが、1995年、中国・フランスが核実験を強行し、世界から強い批判をあびるなど、今後への課題も多い。こうした中で、()の廃絶に向けて、被爆国()の果たすべき役割はさらに重くなっている。



[選択肢]

ア 部分的核実験停止条約 イ 中距離核戦力全廃条約 ウ 緊張緩和
エ ソ連崩壊 オ 核兵器 カ 日本 キ 核戦争 ク ソ連

[解答欄]

[解答] キ ク ア オ イ ウ エ カ

[問題](増補 05)(3 学期)

次の問いに答えなさい。

- (1) アメリカ合衆国が 1954 年に水爆実験を実施した環礁名を答えなさい。
- (2) 第 1 回原水爆禁止世界大会が開かれた，日本の都市はどこですか。

[解答欄]

(1)	(2)
-----	-----

[解答](1) ビキニ環礁 (2) 広島

[問題](1 学期期末)

1973 年にイスラエルと周りのアラブ諸国との間に起こった戦争を何と言いますか。また，この戦争をきっかけに日本をふくむ世界の経済が大打撃を受けたできごとを何と言いますか。

[解答欄]

--	--

[解答]第四次中東戦争 石油危機

