

【】年代のあらわし方

[問題](前期中間)

次の各問いに答えなさい。

- (1) イエス・キリストが生まれたと考えられる年を紀元 1 年と数える年代の表し方を何といいますか。
- (2) 中国にならって、7 世紀の半ばごろから日本でも使われるようになった年代の表し方を何といいますか。
- (3) 中国にならって、日本で最初の(2)がつくられたのは、645 年、中大兄皇子らが蘇我氏を倒した年からである。何という(2)か。書きなさい。

[解答欄]

(1)	(2)	(3)
-----	-----	-----

[解答](1) 西暦年 (2) 年号(元号) (3) 大化

[解説]

年代の表し方には、^{せいれき}西暦年と^{ねんごう}年号がある。

西暦年はイエス・キリストが生まれたと考えられる年を^{きげん}紀元1(元)年と決めたもので、それよりも前を紀元前(B.C.)、後を紀元後(A.D.)で表す。

西暦年 (例:2011年) 紀元前 B.C. 紀元後 A.D. 年号 (例:平成23年) (最初の年号は「大化」)
--

年号(元号)は昭和 45 年とか平成 23 年などである。

^{たいか}大化の^{かいしん}改新(西暦 645 年)の後、中国にならってはじめて「大化」という年号を定めた。

[問題](1 学期期末)

次の文の ~ に適語を入れよ。

西暦はイエス・キリストが生まれたと考えられる年を紀元 1(元)年としてつくられている。省略して書くと、紀元前は()、紀元後は()となる。世紀は西暦の 100 年を 1 つの単位として区切る表し方である。3 世紀は()~()年までをさす。また、16 世紀は()~()年までをさす。現在は()世紀である。

[解答欄]

[解答] B.C. A.D. 201 300 1501 1600 21

[解説]

世紀は 100 年を 1 つの単位として区切ったものである。1 年～100 年を 1 世紀,101 年～200 年を 2 世紀という。1192 年は 1101～1200 年の間にあるので 12 世紀である。また, 1600 年は 1501～1600 年の間にあるので 16 世紀である。

世紀 (101年～200年は2世紀)

[問題](1 学期中間)

次の年表を見て各問いに答えよ。(数字は年を表す)

201	200	101	100	1	1	100	101	200	201
(ア)					(イ)紀元後(A.D.)				

- (1) この年表は 100 年を 1 つの単位として区切っている。100 年単位を何というか。
- (2) イを紀元後(A.D.)というのに対し,アを何というか。
- (3) 1192 年は源頼朝が征夷大將軍になった年である。これは何世紀のできごとか。
- (4) 1600 年は関ヶ原の戦いがあった年である。これは何世紀のできごとか。

[解答欄]

(1)	(2)	(3)	(4)
-----	-----	-----	-----

[解答](1) 世紀 (2) 紀元前(B.C.) (3) 12 世紀 (4) 16 世紀

[問題](1 学期期末)

次のできごとは,何世紀のことであるか。

752 年 東大寺の大仏が完成した。

1889 年 大日本帝国憲法が発布された。

1603 年 江戸幕府が成立した。

[解答欄]

--	--	--

[解答] 8 世紀 19 世紀 17 世紀

[問題](増補 11)(2 学期期末)

紀元(後)701 年は,何世紀に含まれるか。

[解答欄]

--

[解答]8 世紀

【】時代区分

[問題](1 学期期末)

次の時代区分を時代の古い方から順に並べなさい。

[平安時代 縄文時代 鎌倉時代 江戸時代 安土・桃山時代 弥生時代 室町時代
古墳時代 奈良時代 飛鳥時代]

[解答欄]

--

[解答]縄文時代，弥生時代，古墳時代，飛鳥時代，奈良時代，平安時代，鎌倉時代，室町時代，安土・桃山時代，江戸時代

[解説]

縄文時代→弥生時代→古墳時代→飛鳥時代→奈良時代→平安時代 →鎌倉時代→室町時代→(戦国時代)→安土・桃山時代→江戸時代 →明治時代→大正時代→昭和時代→平成時代

明治以降は天皇が変わるたびに年号をかえるようになっている。

歴史を学習するとき、この時代順と変わり目の年(西暦)をしっかりと覚えておく必要がある。奈良時代以降の、各時代の始まりの年は次のようになる。

奈良時代： 710 年(南都(710)平城京)

平安時代： 794 年(鳴くよ(794)ウグイス平安京)

鎌倉時代： 1185 年(人々和合(1185)の鎌倉幕府)

室町時代： 1338 年(將軍尊氏勇み肌(1338))

安土・桃山時代： 1573 年(以後情(1573)けは無用と義昭追放(室町幕府消滅))

江戸時代： 1603 年(人群れ満(1603)ちる徳川幕府)

明治時代： 1868 年(人は狼狽(1868)御誓文)

大正時代： 1912 年(行く人に(1912)告げよ大正デモクラシー)

昭和時代： 1926 年(一国難(1926)し昭和の時代)

[問題](後期中間)

次の ~ に、正しくあてはまる時代名を書きなさい。

縄文時代→弥生時代→()時代 ()時代→奈良時代→()時代
→()時代→室町時代 (戦国時代)→()時代→江戸時代

[解答欄]

[解答] 古墳 飛鳥 平安 鎌倉 安土・桃山

[問題](1 学期期末)

次の時代区分は、社会のしくみの特徴によって分けたものである。時代の古い方から順に並べなさい。

[中世 現代 原始 古代 近世 近代]

[解答欄]

[解答]原始，古代，中世，近世，近代，現代

[解説]

社会のしくみの特徴によって分けると，

原始・古代(縄文・弥生・古墳・飛鳥・奈良・平安)→中世(鎌倉・室町)→近世(安土桃山・江戸)→近代(明治・大正・昭和(戦前))→現代(昭和(戦後)・平成)

【】人類の出現

[問題](1 学期期末)

以下の文は、人類の進化についての記述である。A～D を正しい順番に並びかえなさい。

人類の祖先は、サルによく似た動物で木の上で生活していた。



- A 石を打ちかいて鋭い刃を持つ石器を作り始めた。
- B 地球の環境が変化して森が少なくなったため、木の上からおりた。
- C 草原で食物をさがしているうちに、後ろ足で大地に立つようになった。
- D 自由になった両手で木ぎれや石などの道具を使うことを覚えた。

[解答欄]

[解答]BCDA

[解説]

最も古い人類は猿人^{えんじん}で、その骨がアフリカで発見されている。彼らは、サルによく似た動物で、四本足で森林の木の上で生活していた。環境^{かんきょう}が変わり、森が少なくなってきたため、草原でも食べ物をさがすようになり、うしろ足で大地に立ち、直立^{ちよくりつ}二足歩行^{にそくほこう}を始めた。立って歩くことで重い脳^{のう}を支えられるようになり脳の発達を助けたと考えられる。最初の頃は、自由になった両手で木ぎれや石などの簡単な道具^{かんたん どうぐ}を使っていたと考えられる。

アフリカで猿人
直立二足歩行→脳が発達
200万年前 打製石器

200 万年前ぐらいになると、石を打ち欠いて、すどい刃をもつ道具^{だせいせっき}(打製石器)をつくることを覚えた。打製石器を使い、狩り^かや漁、採集^{さいしゅう}などで生活していた時代を旧石器時代という。

最古の猿人の化石は、以前は、約 400 万年前の「アウストラロピテクス」とされていたが、それよりも古い「ラミダス猿人」の化石がエチオピアで発見されている。また、それよりも古い猿人である可能性のある化石も発見されている。

以前は、「現在知られている最も古い人類の祖先を何というか。カタカナで書きなさい。(解答：アウストラロピテクス)」という問題がよく出題されていたが、正解が明確でないため、削除した。

[問題](1 学期中間)

次の文の ， に適語を入れよ。

人類の祖先はサルによく似た動物で、もともと()の上で生活していた。やがて後足で大地に立ち、自由になった()で木ぎれや石を使い始めた。

[解答欄]

--	--

[解答] 木 前足(手)

[問題](2 学期中間)

次の各問いに答えよ。

- (1) 最古の人類である「猿人」は、何大陸で誕生したのか、大陸名を書け。
- (2) 「人類の祖先はサルである」と進化論を唱えたイギリスの生物学者は誰か、人名を書け。
- (3) 人類とサル(類人猿)の違いは何か、歩行の仕方から簡単に説明せよ。

[解答欄]

(1)	(2)
(3)	

[解答](1) アフリカ大陸 (2) ダーウィン (3) サルは四足歩行であるが、人類は直立二足歩行である。

[解説]

猿人の身長は 120cm ~ 140cm くらいで、脳の容積は現代人の約 3 分の 1 程度でチンパンジーとほとんど変わらない。姿勢は直立したチンパンジーというイメージである。チンパンジーとの大きな違いは直立二足歩行を行うという点である。

[問題](1 学期中間)

人類の祖先はある種のサルであると考えられている。サルと人間の大きなちがいに『人間は脳が発達している』ことと『サルは四本足で歩くが、人間は二本足で直立して歩く』ことがあげられる。それでは、人間に進化していった時『脳の発達』が先か『直立二足歩行』が先か、どちらか答えなさい。また、どうしてそういえるのか、理由を説明しなさい。

[解答欄]

--

[解答] 『直立二足歩行』が先。直立二足歩行によって脳が発達したから。

[問題](2 学期中間)

次の各問いに答えよ。

- (1) 人類は長い間、右の図のように、石を打ち欠いて作った石器を使用してきた。このような石器を何石器というか、漢字で書け。
- (2) (1)のような道具を使い、狩りや漁、採集などで生活していた時代を何時代というか。



[解答欄]

(1)	(2)
-----	-----

[解答](1) 打製石器 (2) 旧石器時代

[解説]

猿人は最初の頃は、自由になった両手で木ぎれや石などの簡単な道具を使っていたと考えられる。200 万年前ぐらいになると、石を打ち欠いて、するどい刃をもつ道具(打製石器)をつくることを覚えた。打製石器を使い、狩りや漁、採集などで生活していた時代を旧石器時代という。

[問題](1 学期期末)

次のア～オのうち、猿人にあてはまるものを 2 つ選び、記号で答えよ。

- ア 道具をつくるようになった。
- イ 火を使って食物を調理したり、言葉を用いたりするようになった。
- ウ ホモ・サピエンスともよばれ、世界中に広がった。
- エ アフリカにあらわれたサルによく似た動物であった。
- オ サルの 2 倍ほどの脳を持ち、土器を使用していた。

[解答欄]

--

[解答]ア，エ

[解説]

アは正しい。最初の頃は簡単な道具を使っていたが、200 万年前ぐらいになると、石を打ち欠いて、するどい刃をもつ道具(打製石器)をつくることを覚えた。

イは誤り。人類は、猿人→原人(北京原人など)→新人(現代人の祖先)と進化していったが、火を使うようになったのは原人からである。

ウは誤り。ホモ・サピエンスとは新人のことである。

エは正しい。

オは誤り。土器の使用は、ずっと後の新石器時代である。

【】人類の進化

[問題](1 学期中間)

次の文の ~ に適語を入れよ。

今から 100 万年前から，地球は()時代に入り，陸地の 3 分の 1 が氷におおわれた時期と，温暖な時期を何度か繰り返した。人類は少しずつ進化し()を使って調理し，()を用いて意思を伝えあうようになった。

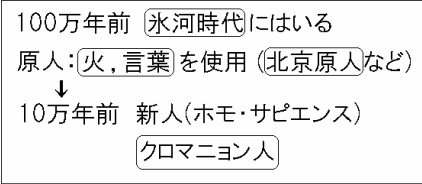
[解答欄]

--	--	--

[解答] 氷河 火 言葉

[解説]

今から 100 万年ほど前から，地球は氷河時代に入ったが，その間にも人類は少しずつ進化し，やがて火を使って冬の寒さをしのいだり食べ物を調理したりするようになり，また，狩りをするときなど，仲間と言葉を使って協力するようになった。



中国の北京郊外で約 50 万年前の地層から発見された北京原人の洞くつからは灰の層も発見され，火を使っていたことが確かめられている。

今から 10 万年ほど前，現在の人類の直接の祖先にあたる新人(ホモ・サピエンス)があらわれ，世界中に広がっていった。「新人」のうちフランスで発見されたのはクロマニヨン人である。

[問題](2 学期中間)

人類は，次の 3 つのものを使いこなすことで大きな進化をとげていく。次の文の()にあてはまる語句を書け。

人類の祖先は自由になった手で簡単な()を使い始めるようになった。やがて，狩りをするときなど，仲間と()を使って協力しあうようになった。また，冬の寒さをしのぐために()も使うようになり，食生活も大きく前進した。

[解答欄]

--	--	--

[解答] 道具 言葉 火

[問題](2 学期中間)

人類であるポイントを 4 つ書きなさい。

[解答欄]

--

[解答]直立して歩く, 道具を使用, 火を使用, 言葉を話す

[問題](1 学期中間)

次の設問を読み, 答えとして適当なものを, 下の[]から選べ。

- (1) 陸地の 1/3 が氷におおわれた寒冷な時代を何というか。
- (2) 中国で骨が発見された, 火を使用した原人は何か。
- (3) 打製石器を使用し, 狩りや採集を行っていた時代を何というか。

[旧石器時代 北京原人 ジャワ原人 氷河時代 新石器時代]

[解答欄]

(1)	(2)	(3)
-----	-----	-----

[解答](1) 氷河時代 (2) 北京原人 (3) 旧石器時代

[問題](増補 11)(2 学期中間)

次の文中の ~ にあてはまる語を下の[]より選べ。

最も古い人類である()は, 今から 400 万年ほど前に()大陸にあらわれた。彼らは()によく似た動物で, 環境の変化により木の上の生活から地上に下り立った。長い年月をかけて彼らは道具を作ることを覚え, 狩りや採集を行って生活した。この長い時期を()時代とよぶ。

彼らはさらに進化し, やがて()を使い, また, 仲間と協力して働くうちに()を用いるようになった。今から 10 万年ほど前に, 現在の人類の直接の祖先にあたる()があらわれ, 世界中に広がっていった。

[新石器 旧石器 火 言葉 サル 猿人 新人 原人 アフリカ アジア]

[解答欄]

[解答] 猿人 アフリカ サル 旧石器 火 言葉 新人

[問題](2 学期中間)

次の各問いに答えよ。

- (1) 中国の首都郊外で約 50 万年前の地層から、原人の化石(人骨)が発見された。同じ地層からは灰の層も確認され、彼らの生活の様子が想像できるが、この原人の名を書け。
- (2) 現代人の直接の祖先といわれる「新人」のうち、フランスで発見された「新人」の名を書け。

[解答欄]

(1)	(2)
-----	-----

[解答](1) 北京原人 (2) クロマニヨン人

[問題](2 学期中間)

約 10 万年前に現代人の直接の祖先といわれるクロマニヨン人が出現した。これについて、次の各問いに答えよ。

- (1) クロマニヨン人が狩りをしていたとき、どのような大型動物がいたか、1 つ書け。
- (2) クロマニヨン人は洞窟等に、動物の絵を描いていますが、主にどのような思いから描いたと考えられるか。

[解答欄]

(1)	(2)
-----	-----

[解答](1) マンモス (2) 獲物が多くとれることをいのって描いた。

[問題](増補 11)(1 学期中間)

次の文について、各問いに答えよ。

現在の人類の直接の祖先とされる新人の化石が発見され、ラスコーでは、壁や天井に牛・馬・鹿などの動物を描いた洞窟が残っている。

- (1) この新人を何というか。
- (2) ラスコーと同じような洞窟壁画のあるアルタミラは、どこの国にある遺跡か。国名を書け。

[解答欄]

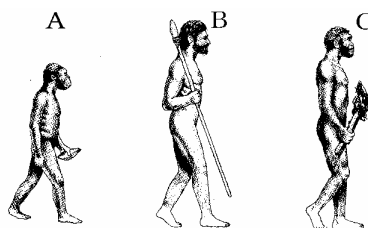
(1)	(2)
-----	-----

[解答](1) クロマニヨン人 (2) スペイン

[問題](1 学期中間)

右の絵を見て各問いに答えなさい。

- (1) 図は人類の進化のようすを表した想像図であるが、進化の順序が正しく並んでいない。正しく並べかえて記号で答えなさい。
- (2) 図のそれぞれが持っている石器は石を打ちかいて作ったものである。この石器を何というか答えなさい。



[解答欄]

(1)	(2)
-----	-----

[解答](1) ACB (2) 打製石器

[問題](増補 11)(1 学期期末)

次の年表について、各問いに答えなさい。

()万年前	最古の人類 = 猿人が現れる・・・A
180 万年前	()や言葉を使った原人が現れる・・・B
50 万年前	中国に()原人が現れる
4 万年前	()が現れる・・・C
()万年前	日本列島が今とほぼ同じ形になる・・・D
紀元前 3000 年頃	古代文明がおこる・・・E

- (1) 年表中の ~ に適切な数字や漢字を書きなさい。
- (2) 年表中の A について。地球の気候変動により森林が草原に変わった。森林に住んでいたサル的一种が草原に適応し、人類の祖先である猿人となった。彼らが身につけていたと考えられる草原の移動の仕方を何というか。漢字 6 文字で答えなさい。
- (3) 年表中の B について。猿人は自由になった前足である両手を使って道具をつくるようになった。この道具を()石器とよんでいる。()に適切な漢字 2 文字を答えなさい。
- (4) 年表中の C について。人間の直接の祖先の()は世界各地にひろがった。ヨーロッパで発見されたクロマニヨン人は洞くつ壁画をえがき、墓をつくるなど(a)術や(b)教のめばえもみられた。a と b に適切な漢字 1 文字をそれぞれ答えなさい。
- (5) 年表の D と E の間で、人類は植物を栽培し、家畜を飼育するようになった。イランで出土した土器に、ヤギやムギの穂がえがかれている。何が始まったと考えられるか。漢字 4 文字で答えなさい。

[解答欄]

(1)			
	(2)	(3)	(4)a
b	(5)		


[解答](1) 400 火 北京 新人 1 (2) 直立二足歩行 (3) 打製 (4)a
芸 b 宗 (5) 農耕牧畜

【】新石器時代

[問題](増補 11)(2 学期期末)

次の文の ~ に適語を入れよ。

今から 1 万年ほど前に氷河時代が終わり、気温が上がると食用となる木の実が増えた。人々は魚や貝をとったり、弓と矢を用いて動物をとらえたりするようになった。このころ()が発明されて食物を煮ることができるようになった。また、右の写真のように、木を切ったり、加工したりしやすいように()も作られるようになった。()や()を使うようになった時代を()時代という。この時代、野生の植物を栽培する()や、野生の動物を飼いならす()も始められた。



[解答欄]

[解答] 土器 磨製石器 新石器 農耕 牧畜

[解説]

今から 1 万年ほど前に、氷河時代が終わりマンモスなどの大型の動物が絶滅した。気温が上がると、食用となる木の実が増えた。人々は木の実や魚や貝をとり、弓と矢を用いて動物をとらえたりするようになった。このころ 土器が発明され、食べ物を煮ることができるようになった。また、表面をみがいた 磨製石器もつくられるようになった。土器や磨製石器を使うようになったこの時代を 新石器時代という。この時代、野生の植物を栽培する 農耕や、野生の動物を 飼いならす 牧畜も始められた。

[新石器時代]
1 万年前 氷河期が終わる
磨製石器、土器
農耕や牧畜が始まる

[問題](1 学期中間)

以下の各問いに答えよ。

- (1) 1 万年ほど前に、食物を煮て食べるために発明された道具は何か。
- (2) 表面をみがいた石器を何というか。
- (3) (2)で答えた石器が使われた時代を何というか。

[解答欄]

(1)	(2)	(3)
-----	-----	-----

[解答](1) 土器 (2) 磨製石器 (3) 新石器時代

[問題](1 学期期末)

約 1 万年前になると、石の表面をみがいた石器が使われたが、これを何というか。


[解答欄]

[解答]磨製石器

[問題](2 学期期末)

右の 2 つの図を見て次の各問いに答えなさい。

- (1) 石を打ちかいて作られた石器は A, B のどちらですか。
- (2) 旧石器時代に使われた石器は A, B のどちらですか。
- (3) マンモスやナウマン象などの大型動物の狩りに使用されたのは A, B のどちらですか。
- (4) 2 つのうちより高度な道具は A, B のどちらですか。



[解答欄]

(1)	(2)	(3)	(4)
-----	-----	-----	-----

[解答](1) A (2) A (3) A (4) B

[解説]

A は石を打ちかいて作られた^{だせいせっき}打製石器で^{きゅうせっき}旧石器時代のものである。B は表面をみがいて作った^{ませい}磨製石器で、^{しんせっき}新石器時代のものである。約 1 万年前に^{ひょうがき}氷河期が終わり、気温の上昇によってマンモスやナウマン象などの大型動物の食料となる草木は激減し、マンモスやナウマン象は^{ぜつめつ}絶滅したと考えられる。したがって、マンモスやナウマン象は 1 万年前より以前の旧石器時代の大型動物である。

[問題](1 学期期末)

今からおよそ 1 万年前になるとある時代が終わり、気温が上がるようになった。それまでは何という時代であったか。

[解答欄]

[解答]旧石器時代

[問題](2 学期期末)

今から 1 万年前になると ,どんな時代にかわったのか。次の文の中から正しいものを ,
2 つ選んで答えよ。

- ア 気候が急激に寒くなり ,マンモスなどの大型の動物が登場した。
- イ 気候が急激に暖かくなり ,マンモスなどの大型の動物が絶滅した。
- ウ 磨いて形を整えた石器が登場し ,農耕や牧畜が始まり ,定住するための集落が作られた。
- エ 石を打ち割っただけの石器を使い ,けものを狩り ,木の実などを採集してくらしした。

[解答欄]

[解答]イ ,ウ

[解説]

アは誤りで ,イが正しい。約 1 万年前に氷河期が終わり ,気温が上がった。気温の上昇によってマンモスの食料となる草木は激減し ,マンモスは絶滅したと考えられる。

ウは正しい。エは旧石器時代である。

【】古代文明 : 各文明

[問題](増補 11)(1 学期期末)

次の各問いに答えよ。

- (1) ナイル川流域におこった古代文明を何というか。
- (2) (1)の文明では巨大な王の墓がつけられた。これを何というか。

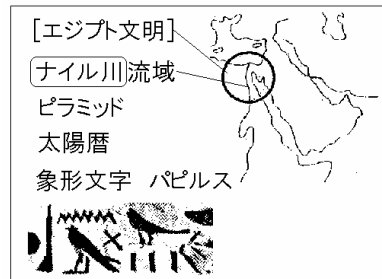
[解答欄]

(1)	(2)
-----	-----

[解答](1) エジプト文明 (2) ピラミッド

[解説]

エジプト文明はナイル川流域で発達した。石づくりの巨大な王の墓であるピラミッドで有名である。ナイル川のはんなりの時期を知るための太陽暦や洪水でうまった土地を測り直すための測量術が発達した。文字は象形文字が使われた。象形文字は、墓の壁などに書かれるだけでなく、ナイル川流域に生えている草を材料にして作られたパピルスという紙のようなものに書かれた。



[問題](後期中間)

次の文の ~ に適語を入れなさい。

()文明は紀元前 3100 年ごろ、アフリカの()川の流域に生まれた文明です。王は神とみなされ、巨大な墓と考えられる()をつくるなど、強い権力をふるいました。

[解答欄]

--	--	--

[解答] エジプト ナイル ピラミッド

[問題](1 学期期末)

エジプト文明でつくられ、1 年を 365 日とする暦は何か。

[解答欄]

--

[解答]太陽暦

[問題](増補 11)(1 学期期末)

次の[]内より、エジプト文明と関係があるものをすべて選びなさい。

[ハンムラビ法典 太陽暦 太陰暦 モヘンジョ・ダロ 60 進法 くさび形文字
ピラミッド ハラッパー 象形文字]

[解答欄]

[解答]太陽暦，ピラミッド，象形文字

[問題](増補 11)(1 学期中間)

次の文について、各問いに答えよ。

B.C.3000 年頃 農業 測量術 天文学の発達した文明が栄えた。
王は神殿やピラミッドの建設を行い、絶大な権力を誇った。

- (1) この地を流れる河川名を書け。
- (2) 右のような象形文字は、墓の壁などに書かれるだけでなく、
(1)の河川流域に生える草を材料にして作られた紙のような
ものに書かれた。このような紙の一種を何というか。



[解答欄]

(1)	(2)
-----	-----

[解答](1) ナイル川 (2) パピルス

[問題](増補 11)(1 学期期末)

右図の X の地域におこった文明の名を答えなさい。

[解答欄]



[解答]メソポタミア文明

[解説]

メソポタミア文明はチグリス川とユーフラテス川流域で発達した。くさび形文字が使われた。紀元前18世紀ごろにつくられたハンムラビ(ハムラビ)法典で名高い。太陰暦，七曜制，60進法が使われた。

[メソポタミア文明]

チグリス川とユーフラテス川流域
ハンムラビ法典
太陰暦，七曜制，60進法
くさび形文字



[問題](増補 11)(1 学期中間)

メソポタミア文明の位置として正しいものを、右の地図中のア～エから 1 つ選び、記号で答えなさい。



[解答欄]

--

[解答]ウ

[問題](後期中間)

次の文の ~ に適語を入れなさい。

()文明は、紀元前 3500 年ごろ()川と()川の流域に生まれた文明です。巨大な神殿を中心に都市がつけられ、粘土板などに細い棒で刻んだ()文字が使われていました。

[解答欄]

--	--	--	--

[解答] メソポタミア チグリス ユーフラテス(は順不同) くさび形

[問題](増補 11)(1 学期期末)

次の各問いに答えよ。

- (1) チグリス川・ユーフラテス川流域におこった古代文明を何というか。
- (2) ハンムラビ法典で使われていた文字を何文字というか。

[解答欄]

(1)	(2)
-----	-----

[解答](1) メソポタミア文明 (2) くさび形文字

[問題](1 学期期末)

次の各問いに答えよ。

- (1) メソポタミア文明でつけられ、月の満ち欠けをもとにした暦は何か。
- (2) メソポタミア文明のあった場所から発見された石柱に「自由人の目をつぶした者はその目をつぶす。奴隷が自由人のほほをなくれば、その耳を切り取る」という記述がある。これは何法典とよばれるものか。

[解答欄]

(1)	(2)
-----	-----


[解答](1) 太陰暦 (2) ハンムラビ法典(ハムラビ法典)

[問題](増補 11)(1 学期中間)

次の文について，各問いに答えよ。

B.C.3000 年頃，日干しれんがで建設された神殿を中心にしたウル，バビロンなどの都市国家が成立した。

- (1) この文明の名前を書け。
- (2) この地域を流れる河川名を 2 つ答えよ。
- (3) 次の文字は，この地域で使用されたものである。このような文字を何というか。



- (4) B.C.1800 年頃，この地方を統一した王は，次のような法典を作成した。この法典を何というか。

196 条 自由人の目をつぶした者は，その目をつぶせ。

205 条 奴隷が自由人のほほをなくれば，耳を切り取られる。

[解答欄]

(1)	(2)
(3)	(4)

[解答](1) メソポタミア文明 (2) チグリス川，ユーフラテス川 (3) くさび形文字 (4) ハンムラビ法典(ハムラビ法典)

[問題](増補 11)(1 学期期末)

次の[]内より，メソポタミア文明と関係があるものをすべて選びなさい。

[ハンムラビ法典 太陽暦 太陰暦 モヘンジョ・ダロ 60 進法 くさび形文字
ピラミッド ハラッパー 象形文字]

[解答欄]

--

[解答]ハンムラビ法典，太陰暦，60 進法，くさび形文字

[問題](増補 11)(1 学期中間)

次の文について、各問いに答えよ。

B.C.2500 年頃、モヘンジョ・ダロなど、下水道が完備された、れんが造りの都市が成立し、文明が栄えた。B.C.2000 年頃、中央アジアより侵入してきたアーリア人により、先住民が支配された。

- (1) この地域を流れる河川名を書け。
- (2) アーリア人が信仰していた宗教は何か。
- (3) (2)の宗教に基づいて成立し、近代化を妨げる 1 つの原因となっている厳しい身分制度を何というか。
- (4) (3)の身分制度を否定し、仏教を開いた人物は誰か。

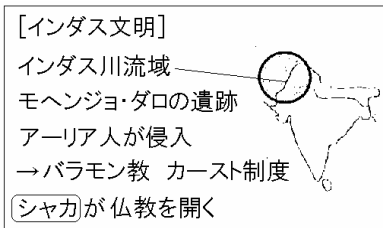
[解答欄]

(1)	(2)	(3)	(4)
-----	-----	-----	-----

[解答](1) インダス川 (2)バラモン教 (3)カースト制度 (4) シャカ

[解説]

インダス文明はインダス川^{りゅういき}流域^{きげんぜん}で紀元前2500 年ごろにおこった文明である。モヘンジョ・ダロの^{いせき}遺跡^{いせき}で有名である。しかし、紀元前 1500 年ごろに中央アジアからアーリア人^{しんにゅう}が侵入^{しんにゅう}して先住民^{せんじゅうみん}を従え、バラモン(僧)を頂点とする厳しい身分制度(カースト制度)をつくった。紀元前 6 世紀^{ひほん}ごろ、シャカがバラモンの教えを批判して仏教を開いた。



[問題](増補 11)(1 学期期末)

次の各問いに答えなさい。

- (1) インダス文明は紀元前 2500 年頃から都市を中心に栄えた。しかし、中央アジアからアーリア人が侵入して先住民を従えて厳しい身分制度をつくりました。この身分制度を何といいますか。
- (2) (1)の身分制度を批判して仏教をつくったのは誰ですか。

[解答欄]

(1)	(2)
-----	-----

[解答](1) カースト制度 (2) シャカ

[問題](1 学期期末)

インドで紀元前 6 世紀ごろ，仏教を開いたのは誰ですか。

[解答欄]

[解答]シャカ

[問題](増補 11)(1 学期期末)

インダス文明は紀元前 1500 年頃アーリア民族により滅ぼされた。この時つくられた，僧侶(バラモン)を頂点とする身分差別制度を何というか。

[解答欄]

[解答]カースト制度

[問題](増補 11)(1 学期期末)

次の[]内より，インダス文明と関係があるものをすべて選びなさい。

[ハンムラビ法典 太陽暦 太陰暦 モヘンジョ・ダロ 60 進法 くさび形文字
ピラミッド ハラッパー]

[解答欄]

[解答]モヘンジョ・ダロ，ハラッパー

[問題](増補 11)(1 学期期末)

インダス文明の説明として，最も適しているものを 1 つ選べ。

ア チグリス川・ユーフラテス川の流域に発達し，ハンムラビ法典という法律が作られた。

イ インダス川の流域に発達し，モヘンジョ・ダロのような都市遺跡が発掘されている。

ウ ナイル川の流域に発達し，ピラミッドという大建築物がつけられた。

[解答欄]

[解答]イ

【】古代文明 : 比較

[問題](増補 11)(1 学期中間)

地図中の a~d の文明に関する下の表の ~ に適する語句を、語群より選びなさい。



(語群)

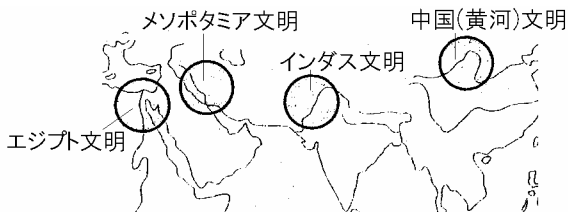
[エジプト文明 インダス文明 ヘレニズム文明
メソポタミア文明 ギリシャ文明 黄河 長江
ガンジス川 ナイル川 象形文字 くさび形文字 甲骨文字]

	a	b	c	d
文明名	()	()	()	中国文明
河川名	()	チグリス川 ユーフラテス川	インダス川	()
文字	()	()	インダス文字	()

[解答欄]

[解答] エジプト文明 メソポタミア文明 インダス文明 ナイル川
黄河 象形文字 くさび形文字 甲骨文字

[解説]



文明	エジプト文明	メソポタミア文明	インダス文明	中国(黄河)文明
大きな川	ナイル川	チグリス川・ユーフラテス川	インダス川	黄河
文字	しょうけいもじ 象形文字	くさび形文字	インダス文字	こうこつ 甲骨文字
その他	ピラミッド たいようれき 太陽暦	ほんむらびほふてん 法典 たいいんれき 太陰暦・七曜制 60 進法	モヘンジョ・ダロ カースト制度	いんせいとうき 殷・青銅器 ばんりちやうじやう 万里の長城 へいばよう 兵馬俑

[問題](1 学期期末)

次の表を見て，各問いに答えなさい。

文明	エジプト文明	文明	文明	中国文明
大きな川		チグリス・ユーフラテス川	インダス川	黄河
文字			インダス文字	
できごと				秦の時代に が つくられた

- (1) ~ にあてはまる語句を書きなさい。
- (2) 表の ~ にあてはまる語句を下から選びなさい。
[甲骨文字 象形文字 くさび形文字]
- (3) 表の ~ にあてはまる文章を下から選んで記号で書きなさい。
ア ハンムラビ法典がつけられた。
イ カースト制度がつけられた。
ウ ピラミッドがつけられた。
- (4) は秦の始皇帝が北方の民族の侵入を防ぐためにつくらせたものである。 ~ にあてはまる語句を書きなさい。

[解答欄]

(1)			(2)
		(3)	
	(4)		

[解答](1) メソポタミア インダス ナイル川 (2) 象形文字 くさび形文字 甲骨文字 (3) ウ ア イ (4) 万里の長城

[問題](1 学期中間)

下の表について，質問に答えなさい。

	河川	文字	文化
			太陰暦・
インダス		象形文字	・ 青銅器
	ナイル川		・ ピラミッド
中国(黄河)	黄河		殷・ 青銅器

- (1) , に入る文明の名前と, それに関係のある , の河川名を書きなさい。
- (2) ~ に当てはまる文字を下の写真から選び, 記号で答えなさい。また, それぞれの文字は何とよばれていますか。



- (3) ~ に入る語句を次から選びなさい。

[モヘンジョ・ダロ 兵馬俑 カースト制 太陽暦 北京原人 七曜制 新生代
60 進法]

[解答欄]

(1)			
	(2)		
(3)			

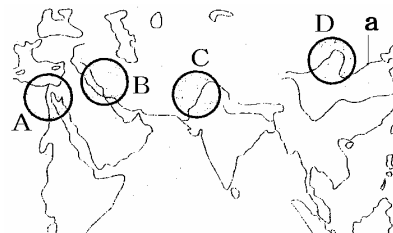
[解答](1) メソポタミア エジプト チグリス川・ユーフラテス川 インダス川 (2) c, くさび形文字 a, 象形文字 b, 甲骨文字 (3) 七曜制 60 進法(と は順不同) モヘンジョ・ダロ カースト制(と は順不同) 太陽暦 兵馬俑

[問題](1 学期中間)

次の設問に答えよ。

- (1) 地図中の A~D の地域で発生した古代文明の名前をそれぞれ答えよ。
- (2) 地図中の a の河川名を次の中から 1 つ選べ。

[ナイル川 チグリス・ユーフラテス川
インダス川 黄河]



[解答欄]

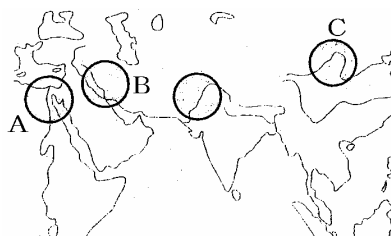
(1) A	B	C	D
(2)			

[解答](1)A エジプト文明 B メソポタミア文明 C インダス文明 D 中国文明 (2) 黄河

[問題](2 学期中間)

右の地図を見て各問いに答えなさい。

- (1) 地図中の A～C の文明の名称とその特徴をあらわした写真をア～エから選びなさい。
- (2) なぜこれらの地域に早くから文明が発達したのか、主な理由を書きなさい。



[解答欄]

(1)A	B	C
(2)		

[解答](1) A エジプト文明, E B メソポタミア文明, A C 中国文明, U (2) 大きな川の流域にあり, 農業が発達したから。

[問題](増補 11)(1 学期期末)

古代文明の分布を示した右の地図を見て、各問いに答えなさい。

- (1) 地図中の A～D は世界の四大文明の発生地を示したものである。それぞれの文明の名前を書きなさい。
- (2) 地図中の A～D の地域に流れる河川名をそれぞれ答えなさい。(B は 2 つ)



[解答欄]

(1)A	B	C	D
(2)A	B	C	
D			

[解答](1)A エジプト文明 B メソポタミア文明 C インダス文明 D 中国文明 (2)A ナイル川 B チグリス川, ユーフラテス川 C インダス川 D 黄河

[問題](2 学期期末)

文明のおこりについて、次の文の()にあてはまる語句を、語群から選んで答えなさい。

農耕と牧畜により生活は安定し、人口が増えました。やがて、()を祭り、人々を指導する者のなかから、富と権力を手にして人々を支配する()が出現しました。穀物栽培の盛んな()流域では、都市や巨大な建造物、文字、()器がつくられ、人類の()が始まりました。

(語群) [身分 文明 王 神 どれい 金属 大河]

[解答欄]

[解答] 神 王 大河 金属 文明

【】ギリシャ・ローマ

[問題](後期中間)

次の文の ~ に適語を入れなさい。

()では、ポリスとよばれる多くの()国家が生まれました。最大の都市の()では、成人男子の市民による()政治が行われました。

[解答欄]

--	--	--	--

[解答] ギリシャ 都市 アテネ 民主

[解説]

四大文明のほかにギリシャ・ローマ文明がある。紀元前 8 世紀ころに古代ギリシャ文明が急速に開花し、ポリスとよばれる都市国家が成立するようになった。その中でも最大の都市のアテネでは、成人男子の市民による民主政治が行われた。

紀元前 4 世紀の末、ギリシャ北方のマケドニアのアレクサンダー大王(アレクサンドロス大王)が、ギリシャ・エジプトからインドの一部にわたる大帝国をつくった。その結果、ギリシャの文化は各地に伝わり、その土地の文化ととけあって、新しい文化が生まれた。この文化をヘレニズム文化という。

ローマは、紀元前 1 世紀、地中海^{ちちゅうかい}一帯に広がる大帝国になった。ローマ帝国に支配されていたパレスチナで、イエスが現れ、キリスト教をおこした

[問題](増補 11)(1 学期中間)

次の文について、各問いに答えよ。

B.C.8 世紀頃、アテネ、スパルタなどの多くの都市国家が建設され、独自の神、軍隊、法律を持ち、お互いに競い栄えていった。

(1) アテネやスパルタなどの都市国家を何というか。カタカナ 3 文字で答えよ。

(2) アテネのアクロポリスの丘に建設された右の写真の建物を何というか。

(3) (2)の建物の柱は、中央がふくらんだ工法で建てられている。このような工法を何というか。

(4) この地方は、B.C.4 世紀後半に、北方に成立した国に制圧された。この国名と、その国王の名を書け。

(5) (4)の王は東方遠征を行い、領土を広げていったため、

西洋の文化と、オリエントの文化が融合した新しい文化が誕生した。日本や朝鮮半島にも影響を及ぼしたこの文化を何というか。



[解答欄]

(1)	(2)	(3)
(4)		(5)

[解答](1) ポリス (2) パルテノン神殿 (3) エンタシス (4) マケドニア アレキサンダー大王(アレクサンドロス大王) (5) ヘレニズム文化

[問題](1 学期期末)

ローマ帝国に支配されていたパレスチナで、キリスト教をおこしたのは誰ですか。

[解答欄]

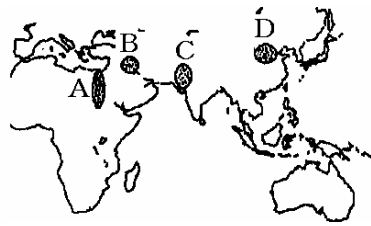
[解答]イエス

【】中国文明：殷

[問題](1 学期中間)

次の各問いに答えなさい。

- (1) 右図は世界の古代文明が発達した地域である。中国文明が起こった場所を地図中の A～D から選び、記号で答えなさい。
- (2) 右図の A～D の文明は大きな川のそばにある。中国文明のそばにある川を答えなさい。
- (3) 中国文明で紀元前 1600 年ころ殷という国が起こり、漢字のもとになった文字がつくられた。この文字を何といいますか。



[解答欄]

(1)	(2)	(3)
-----	-----	-----

[解答](1) D (2) 黄河 (3) 甲骨文字

[解説]

中国文明は黄河^{こうが}流域で発達した。紀元前 1600 年ごろに殷^{いん}という国がつくれ、亀^{かめ}の甲や牛の骨に刻まれた甲骨^{こうこつ}文字が使われた。また、青銅器^{せいどうき}もつくられた。



[問題](増補 11)(1 学期中間)

紀元前 1500 年ごろ、中国ではすぐれた青銅器の文明をもった国がおこりました。

- (1) この国を何といいますか。
- (2) この国では漢字のもととなった文字がつけられました。その文字を何といいますか。

[解答欄]

(1)	(2)
-----	-----

[解答](1) 殷 (2) 甲骨文字

[問題](増補 11)(1 学期中間)

紀元前 1500 年頃、中国に出現した古代国家を何といいますか。漢字で答えなさい。

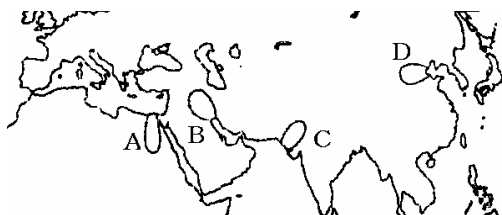
[解答欄]

--

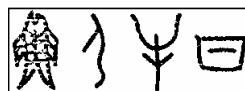
[解答]殷

[問題](1 学期中間)

次の地図を見て各問いに答えなさい。



- (1) 地図中の A～D の地域で古代文明が発生した。D の地域で起こった文明を何といいますか。
- (2) 地図中の D の文明で使用された、右の文字を何といいますか。



[解答欄]

(1)	(2)
-----	-----

[解答](1) 中国文明 (2) 甲骨文字

[問題](1 学期期末)

次の各問いに答えよ。

- (1) 中国文明は、何という川の流域で生まれたか。
- (2) 殷という国でつくられた漢字のもとになった文字を何というか。

[解答欄]


(1)	(2)
-----	-----

[解答](1) 黄河 (2) 甲骨文字

[問題](1 学期中間)

次の各問いに答えなさい。

- (1) 中国の古代文明で使われた、動物の骨に刻まれている右のような文字を何といいますか。
- (2) 中国の殷を中心に栄えた古代文明に関係の深い川の名を書きなさい。



[解答欄]

(1)	(2)
-----	-----

[解答](1) 甲骨文字 (2) 黄河

[問題](前期中間)

文中の()に適語を入れよ。

数千年前、小麦などの栽培に適した場所に古代文明がおこった。中国では()の流域に中国文明が生まれ、殷という国ができた。祭りでは独特の形をした()器に酒や作物が入れられ、神にそなえられた。占いの記録は今の漢字のもとになる()で書かれた。

[解答欄]

--	--	--

[解答] 黄河 青銅 甲骨文字

【】中国文明：春秋戦国・秦・漢

[問題](増補 11)(1 学期中間)

次の各問いに答えよ。

- (1) 殷の後に成立した，封建制度を取り入れた国を何というか。
- (2) B.C.770 年～B.C.221 年は，各地の支配者が領地をめぐる戦いをくり広げていた時代である。この時代を何というか。
- (3) (2)の時代は，各地で産業がさかんになり，多くの思想家も生まれた。右の写真は，儒教を説いた人物の生誕 2540 年記念の切手である。この人物名を書け。
- (4) (3)の人物の儒教の教えをまとめたものを何というか。



[解答欄]

(1)	(2)	(3)	(4)
-----	-----	-----	-----

[解答](1) 周 (2) 春秋・戦国時代 (3) 孔子 (4) 論語

[解説]

中国文明が起こったのは黄河^{こうが}流域^{いん}である。殷^{いん}の時代には，^{かめ}亀の甲^{こう}や牛の骨^{こうこつ}に刻まれた甲骨文字^{こうこつ}が使われた。殷を滅ぼした周^{しゅう}は，やがて，支配力を弱め，多くの国が争う春秋・戦国時代^{しゅうんじゅう せんごくじだい}になった。春秋・戦国時代に，青銅器^{せいどうき}よりかたくて丈夫な鉄製の農具が使われるようになり，農業の生産力が大きく高まった。この戦乱の中で，孔子^{こうし}は，親子・兄弟などの秩序をたいせつにし，思いやりの心(仁^{じん})による政治を説いた。この教えを儒教^{じゅきょう}といい，「論語^{ろんご}」という書物にまとめられている。

殷→周→春秋・戦国時代
鉄製農具の普及
儒教：孔子，論語

[問題](前期中間)

文中の()に適語を入れよ。

中国では，紀元前 8 世紀ごろから()器の使用などにより，農業生産が高まった。このころ中国はいくつもの国が争う時代だったが，この時代に生まれた孔子の()という教えは，その後の東アジアに大きな影響をあたえた。

[解答欄]

--	--

[解答] 鉄 儒教

[問題](増補 11)(1 学期中間)

紀元前 6 世紀に、孔子がといた教えを何といいますか。

[解答欄]

[解答]儒教

[問題](後期中間)

中国では、春秋・戦国時代に、青銅器よりかたくて丈夫な()製の農具が使われるようになり、農業の生産力が大きく高まりました。

[解答欄]

[解答]鉄

【】中国文明：秦・漢

[問題](増補 11)(1 学期中間)

次の各問いに答えよ。

- (1) 春秋・戦国時代は、B.C.221 年、ある人物によって、中国が統一されて終わりをづげることになる。この中国を統一した人物と、その国名を書け。
- (2) (1)の人物が建造した世界遺産にも指定されている右の写真の建造物は何か。(写真は当時のものではなく、明時代のものである)
- (3) (2)は何の目的で建造されたか、簡単に記述せよ。



[解答欄]

(1)		(2)
(3)		

[解答](1) 始皇帝 秦 (2) 万里の長城 (3) 北方の遊牧民族の侵入を防ぐため。

[解説]

紀元前 3 世紀に中国を統一して秦^{しん}という国を成立させたのは始皇帝^{しこうてい}である。始皇帝は北方の遊牧民^{ゆうぼくみん}の侵入^{しんにゆう}を防ぐために万里の長城^{ばんり ちょうじょう}

紀元前3世紀:秦の始皇帝が中国を統一
↓
万里の長城
漢:ローマ帝国とシルクロードでつながる

を築いた。しかし、万里の長城の建設や度重

なる外征^{がいせい}に多くの農民をかりたてたため、始皇帝の死後各地で反乱が起きて秦は滅び、漢^{かん}がこれにかわった。漢の時代に西のほうではローマ帝国が栄えていたが、この2つの文明はシルクロード^{きぬ}(絹の道)でつながっていた。

[問題](増補 11)(1 学期中間)

次の各問いに答えなさい。

- (1) 紀元前 221 年に中国を統一し、秦をつくった皇帝は誰ですか。
- (2) (1)の皇帝が、北方の遊牧民族の侵入を防ぐために築いた土塁を何といいますか。

[解答欄]

(1)	(2)
-----	-----

[解答](1) 始皇帝 (2) 万里の長城

[問題](1 学期中間)

紀元前 3 世紀，始皇帝は中国を統一して何という王朝をはじめたか，書きなさい。

[解答欄]

--

[解答]秦

[問題](前期中間)

次の文の ~ に適語を入れよ。

秦の()によって中国は統一された。()は遊牧民の侵入を防ぐために()を築いた。()の建設やたび重なる外征のために，秦は短期間で滅亡したが，そのあとをついだ()は大帝国となった。

[解答欄]

--	--	--

[解答] 始皇帝 万里の長城 漢

[問題](増補 11)(1 学期期末)

次の各問いに答えよ。

- (1) 始皇帝の死後まもなく，農民の反乱により秦は紀元前 208 年に滅亡した。紀元前 202 年に中国を再び統一したのは劉邦である。国名を漢字 1 文字で答えなさい。なお，この国は前後に分かれ約 400 年続いた。
- (2) (1)のころ地中海沿岸を支配していたのは何という帝国か。
- (3) 中国とヨーロッパを結ぶ当時の交通路を何というか。カタカナで答えよ。

[解答欄]

(1)	(2)	(3)
-----	-----	-----

[解答](1) 漢 (2) ローマ帝国 (3) シルクロード

[問題](増補 11)(1 学期中間)

次の各問いに答えなさい。

- (1) 秦の後 約 400 年にわたり中国を支配した国を何といいますか。漢字で答えなさい。
- (2) (1)の時代に向けた，西方への交通路を何といいますか。カタカナで答えなさい。

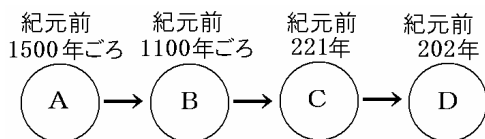
[解答欄]

(1)	(2)
-----	-----

[解答](1) 漢 (2) シルクロード

[問題](1 学期中間)

中国の古代国家について、図を見て次の各問いに答えよ。



(1) 図を見て、A～D にあてはまる中国の王朝名をそれぞれ次から選べ。

[秦 漢 周 殷 晋]

(2) C の王は中国を統一したが、何という名前の王か。

(3) C の王が築いた、外敵を防ぐための巨大な建造物を何というか。

(4) B の時代に広まった道具は何か。

(5) ローマ帝国と D を結んだ交通路を何というか。

[解答欄]

(1)A	B	C	D
(2)	(3)	(4)	(5)

[解答](1)A 殷 B 周 C 秦 D 漢 (2) 始皇帝 (3) 万里の長城 (4) 鉄器 (5) シルクロード(絹の道)

[問題](増補 11)(1 学期中間)

下の文を読んで、次の各問いに答えなさい。

文明の交流は古くから各地で行われていた。その中でもよく知られているのが、中国から中央アジアをへて西アジアにぬける、いわゆる()を通じての東西交流である。1～2世紀のころには、中国の漢王朝から遠く地中海のローマ帝国まで、交通路がひらかれた。

(1) 上の文中の()にあてはまる交通路の名前を答えなさい。

(2) (1)の交通路がひらかれたことにより、中国からローマ帝国に運ばれたもの、インドから中国に伝えられた教えは何ですか。それぞれ1つずつ答えなさい。

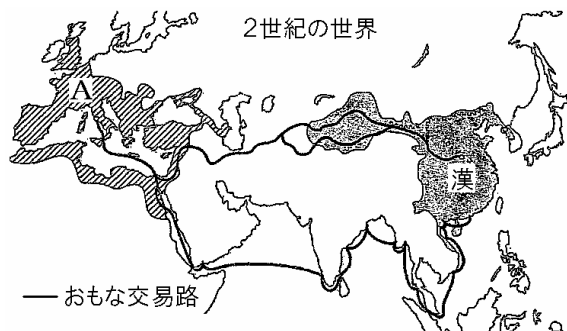
[解答欄]

(1)	(2)	
-----	-----	--

[解答](1) シルクロード(絹の道) (2) 絹 仏教

[問題](増補 11)(1 学期期末)

次の図をみて、各問いに答えなさい。



- (1) 図の A の国名を答えなさい。
- (2) 図の A と漢を結ぶ交易路は、東西の貿易、文化の交流の通路として歴史上重要な役割を果たした。この交易路を何といいますか。
- (3) 漢の時代に発明されたものを下の[]から選びなさい。
[火薬 羅針盤 紙 剣]

[解答欄]

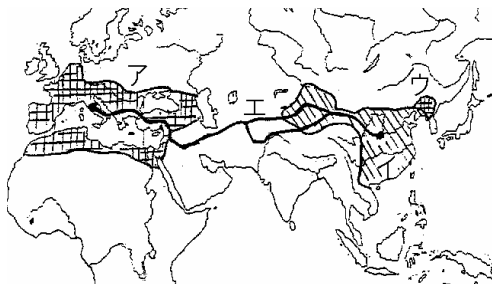
(1)	(2)	(3)
-----	-----	-----

[解答](1) ローマ帝国 (2) シルクロード(絹の道) (3) 紙

[問題](増補 11)(1 学期中間)

右の 2 世紀ごろの地図を見て、各問いに答えよ。

- (1) 地図中のア～ウの国名を書け。
- (2) 地図中エは、ヨーロッパとアジアを結ぶ交易路である。この交易路を何というか。
- (3) 地図中イの国では、北方や西方の外国を「胡」とよんでいた。そのためこの時代に西方から伝えられた産物には、「胡」の漢字がつくものがある。「胡瓜」はきゅうり「胡麻」はごまであるが、「胡桃」は何か。
- (4) 地図中アの国では、奴隷の力を利用して多くのものが建造された。剣闘士や猛獣による競技が行われた、右の写真の円形競技場を何というか。



[解答欄]

(1)ア	イ	ウ	(2)
(3)	(4)		

[解答](1)ア ローマ帝国 イ 漢 ウ 高句麗 (2) シルクロード(絹の道) (3) くるみ
(4) コロッセオ

[問題](増補 11)(1 学期期末)

次のア～ウのできごとのうち，最も新しいできごとを記号で答えなさい。

ア シルクロード(絹の道)が発達し，インドでおこった仏教が日本に伝わった。

イ 春秋・戦国時代には，孔子の説いた儒教のような新しい思想が生まれた。

ウ 秦の始皇帝が中国を統一し大帝国をつくりあげた。

[解答欄]

[解答]ア

[問題](増補 11)(1 学期中間)

漢王朝が領土の拡大のため，朝鮮半島北部に設置した代表的な郡を何とといいますか。

[解答欄]

[解答]楽浪郡

[問題](1 学期期末)

漢の支配を打ち破って，中国の東北地方から朝鮮北部にかけた地域に強力な国家を築いた国を何とといいますか。

[解答欄]

[解答]高句麗

[印刷 / 他の PDF ファイルについて]

このファイルは、FdData 中間期末社会歴史(7,200 円)の一部を PDF 形式に変換したサンプルで、印刷はできないようになっています。製品版の FdData 中間期末社会歴史は Word(または一太郎)の文書ファイルで、印刷・編集を自由に行うことができます。

FdData 中間期末(社会・理科・数学)全分野の PDF ファイル、および製品版の購入方法は <http://www.fdttext.com/dat/> に掲載しております。

下図のような、[FdData 無料閲覧ソフト(RunFdData)]を、Windows のデスクトップ上にインストールすれば、FdData 中間期末・FdData 入試の全 PDF ファイル(各教科約 1500 ページ)を自由に閲覧できます。次のリンクを左クリックするとインストールが開始されます。

RunFdData(Word 版) 【 <http://www.fdttext.com/lnk/instRunFdDataWDs.exe> 】

RunFdData(一太郎版) 【 <http://www.fdttext.com/lnk/instRunFdDataTAs.exe> 】

ダイアログが表示されたら、【実行】ボタンを左クリックしてください。インストール中、いくつかの警告が出ますが、[実行][許可する][次へ]等を選択します。

【イメージ画像】



【Fd 教材開発 : URL <http://www.fdttext.com/dat/> Tel (092) 404-2266】