

【】江戸幕府の成立と支配のしくみ

[江戸幕府の成立]

[問題](後期中間)

次の文章中の①，②に適語を入れよ。

1600年，徳川家康を中心とする東軍と(①)を中心とする西軍の間で(②)の戦いが起こった。この戦いに勝った徳川家康は，1603年に征夷大將軍に任じられ，江戸幕府を開いた。

[解答欄]

①	②
---	---

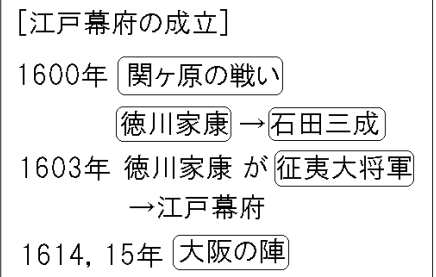
[解答]① 石田三成 ② 関ヶ原

[解説]

豊臣秀吉とよとみひでよしの死後，徳川家康とくがわいえやすは1600年の関ヶ原せきがはらの戦いで石田三成いしだみつなりを中心とする豊臣方を破り，実権をにぎった。



1603年には征夷大將軍せいゐたいしょうぐんに任じられ，江戸幕府えどまくふを開いた。(人最多ひとむれおほ(1600)い関ヶ原／人群れ満(1603)ちる江戸幕府) これ以降 260年余り続いた時代を江戸時代という。



徳川家康は，1614，1615年の二度にわたる大阪の陣おおさかのじんで豊臣氏をほろぼした。

※この単元で特に出題頻度が高いのは「関ヶ原の戦い」である。「石田三成」「徳川家康」「征夷大將軍」「大阪の陣」もよく出題される。

[問題](3学期)

次の文章中の①～④にあてはまる語句を答えよ。

(①)(人物名)は1600年の(②)の戦いで石田三成らの西軍(豊臣方)を破り，実権をにぎった。(①)は，1603年には(③)に任じられ，江戸幕府を開いた。その後，(①)は1614，1615年の2度にわたる(④)で豊臣氏をほろぼした。

[解答欄]

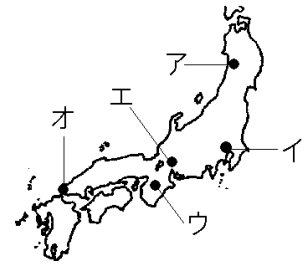
①	②	③	④
---	---	---	---

[解答]① 徳川家康 ② 関ヶ原 ③ 征夷大將軍 ④ 大阪の陣

[問題](2 学期中間)

次の各問いに答えよ。

- (1) 1600 年の天下分け目の戦いを何というか。
- (2) (1)の戦いで、西軍(豊臣方)の中心人物は誰か。
- (3) (1)の戦いで、東軍の中心人物は誰か。
- (4) (1)の戦いが行われた場所を右図のア～オから選べ。また、現在の都道府県名を答えよ。
- (5) (3)の人物は 1603 年、朝廷より何に任じられて幕府を開いたか。
- (6) (3)の人物はどこに幕府を開いたか。その場所を右図のア～オから選べ。また、当時の地名を答えよ。
- (7) ①(6)の幕府を何というか。②これ以降 260 年余り続いた時代を何時代というか。
- (8) (3)の人物は 1614, 1615 年の 2 度にわたる(①)の陣で(②)氏をほろぼした。①, ②に適語を入れよ。



[解答欄]

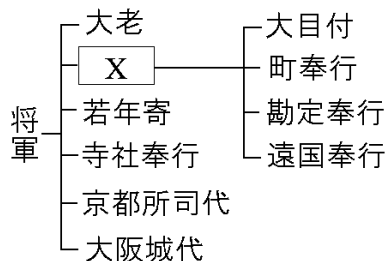
(1)	(2)	(3)	(4)
(5)	(6)	(7)①	②
(8)①	②		

[解答](1) 関ヶ原の戦い (2) 石田三成 (3) 徳川家康 (4) エ, 岐阜県 (5) 征夷大將軍 (6) イ, 江戸 (7)① 江戸幕府 ② 江戸時代 (8)① 大阪 ② 豊臣

[江戸幕府のしくみ]

[問題](2 学期中間)

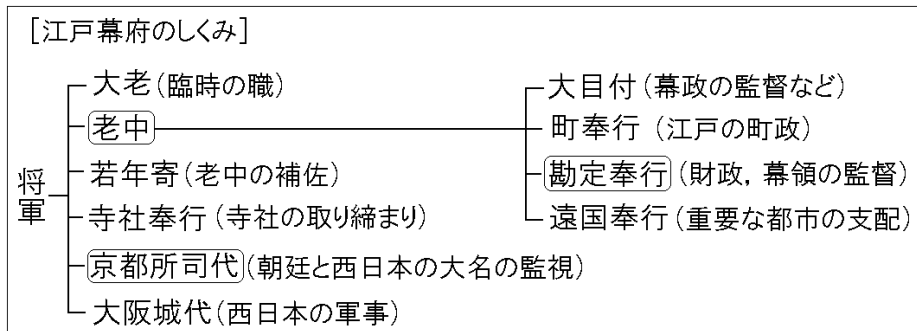
次の資料中の X にあてはまる、将軍の下で政治を行った役職を何というか。



[解答欄]

[解答]老中

[解説]



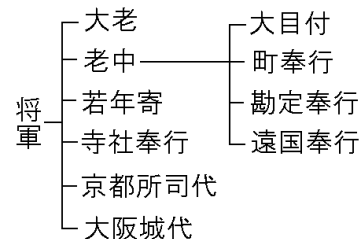
将軍のもとにあつて幕政を統括したのは複数人からなる老中^{ろうじゅう}で、重要事項はその合議で決められた。

※この単元で特に出題頻度が高いのは「老中」である。「京都所司代」「勘定奉行」の出題頻度も高い。「大老」「町奉行」「寺社奉行」「若年寄」もしばしば出題される。

[問題](2 学期中間)

右の資料は、江戸幕府のしくみを示している。次の①～③は、どの役職を説明したものか。右の資料から役職名をぬき出せ。

- ① 将軍の下で政治の運営にあたった。
- ② 幕府の財政や幕府の領地の監督を行った。
- ③ 朝廷と西日本の大名の統制を行った。



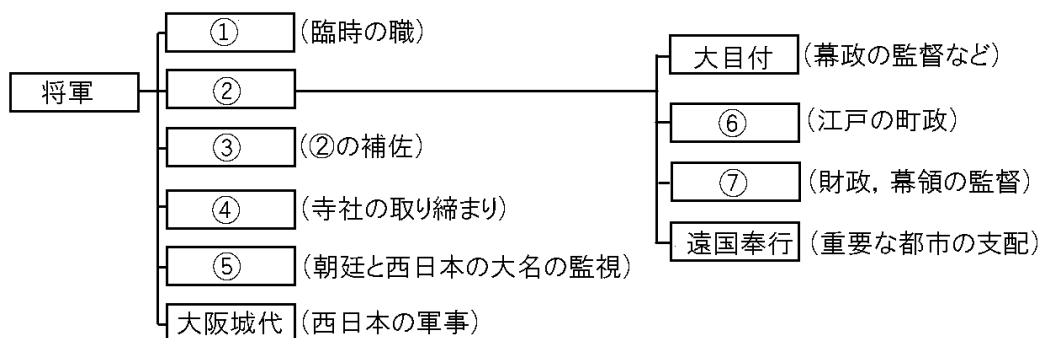
[解答欄]

①	②	③
---	---	---

[解答]① 老中 ② 勘定奉行 ③ 京都所司代

[問題](2 学期中間)

次の江戸幕府のしくみの図の①～⑦の役職名を答えよ。



[解答欄]

①	②	③	④
⑤	⑥	⑦	

[解答]① 大老 ② 老中 ③ 若年寄 ④ 寺社奉行 ⑤ 京都所司代 ⑥ 町奉行 ⑦ 勘定奉行

[幕領など]

[問題](2 学期期末)

次の文の①, ②に適語を入れよ。

幕府の直接の支配地である(①)は約 400 万石で、直接の家臣である旗本や御家人の領地を合わせると、全国の石高約 3000 万石の(②)分の 1 近くにおよんだ。

[解答欄]

①	②
---	---

[解答]① 幕領 ② 4

[解説]

幕府の直轄領である幕領は約 400 万石で、直接の家臣である旗本や御家人の領地を合わせると、全国の石高約 3000 万石の約 4 分の 1 近くにおよんだ。

[幕府の圧倒的な経済力]

幕領は400万石

幕領と家臣の領地は全国の $\frac{1}{4}$

また、大阪(「天下の台所」)、京都(朝廷の所在地)、長崎(海

外貿易の港)、奈良などの重要な都市や、佐渡の金山など国内の主な鉱山を直接に支配し、貨幣の鑄造権も独占していたため、他の大名とはけた違いの経済力をもっていた。また、江戸の

日本橋に始まる五街道の整備に努め、街道には宿場を、箱根などの要地には関所を置いた。

※この単元でときどき出題されるのは「幕領」「4 分の 1」である。

[問題](2 学期期末)

次の各問いに答えよ。

(1) 江戸幕府が直接支配する幕領の石高はどれくらいだったか。次の[]から選べ。

[約 200 万石 約 300 万石 約 400 万石 約 500 万石]

(2) 次のア～エのうち、幕府が直接支配する地にあたらないものを 1 つ選べ。

ア 外国との貿易港 イ 金や銀の鉱山 ウ 本州の北端と西端 エ 朝廷の所在地

[解答欄]

(1)	(2)
-----	-----

[解答](1) 約 400 万石 (2) ウ

[幕藩体制]

[問題](前期中間)

大名とは、将軍から1万石以上の領地をあたえられた武士をいい、大名の領地とその支配のしくみを藩といった。幕府が藩を通じて全国の土地と人々を支配する体制を何というか。

[解答欄]

[解答]幕藩体制

[解説]

幕府と藩の力で全国の土地と人民を支配する政治の体制を**幕藩体制**という。大名とは**1万石以上**の領地を与えられた武士である。また、大名の支配する領地とその支配のしくみを**藩**という。将軍直属の家臣で領地が1万石未満で、将軍に直接会うことができる武士を**旗本**、直接会うことができない武士を**御家人**といった。
※この単元でやや出題頻度が高いのは「幕藩体制」「1万石以上」である。

[幕藩体制]
大名:**1万石以上**の武士→藩
将軍直属:旗本,御家人

[問題](2学期期末)

次の各問いに答えよ。

- (1) 大名とは将軍から何石以上の領地をあたえられた武士をいうか。
- (2) 大名の領地と支配のしくみを何というか。漢字1字で答えよ。
- (3) 幕府が(2)を通じて全国の土地と人々を支配する体制を何というか。
- (4) 将軍直属の家臣で領地が1万石未満で、①将軍に直接会うことができる武士を何というか。②また、直接会うことができない武士を何というか。

[解答欄]

(1)	(2)	(3)	(4)①
②			

[解答](1) 1万石以上 (2) 藩 (3) 幕藩体制 (4)① 旗本 ② 御家人

[大名の分類と配置]

[問題](3学期)

次の大名を何というか。下の[]の中からそれぞれ選べ。

- ① 将軍家の親戚である大名。
- ② 古くから徳川氏の家臣として従っていた大名。
- ③ 関ヶ原の戦い以後に徳川氏に従った大名。

[外様大名 親藩 譜代大名]

[解答欄]

①	②	③
---	---	---

[解答]① 親藩 ② 譜代大名 ③ 外様大名

[解説]

江戸幕府は大名を、将軍家の親戚である親藩(尾張, 紀伊, 水戸は御三家), 関ヶ原の戦いより前から徳川氏の家来だった譜代大名, 関ヶ原の戦い以後に徳川氏の家来になった外様大名の3つに分けた。

[大名の分類と配置]

- 親藩 : 将軍家の親戚, 御三家
 - 譜代大名 : 関ヶ原の戦い以前からの家臣
 - 外様大名 : 関ヶ原の戦い以後に従った
- 江戸から遠いところに配置

江戸幕府を永続させるため、全国の領地の4分の

1をしめる圧倒的な実力を背景にして、徹底した大名統制を行った。大名の領地がえを行って、関東、中部、近畿などの重要な所には親藩や譜代大名を配置し、有力な外様大名(外様大名は石高が大きい藩が多かった)は九州、四国、東北など江戸から遠いところに配置し、親藩や譜代大名をその間に配置して外様大名を監視させた。

※この単元で特に出題頻度が高いのは「江戸から遠いところに配置」である。「親藩」「譜代大名」「外様大名」の出題頻度も高い。

[問題](2 学期中間)

次の文章中の①～④に適語を入れよ。

大名とは1万石以上の領地を与えられた武士で、将軍家の親戚である(①), 関ヶ原の戦い以前からの家臣である(②), 関ヶ原の戦い以後に従った(③)がある。(③)の領地は江戸から(④)いところに配置されている場合が多かった。

[解答欄]

①	②	③	④
---	---	---	---

[解答]① 親藩 ② 譜代大名 ③ 外様大名 ④ 遠

[問題](1 学期期末)

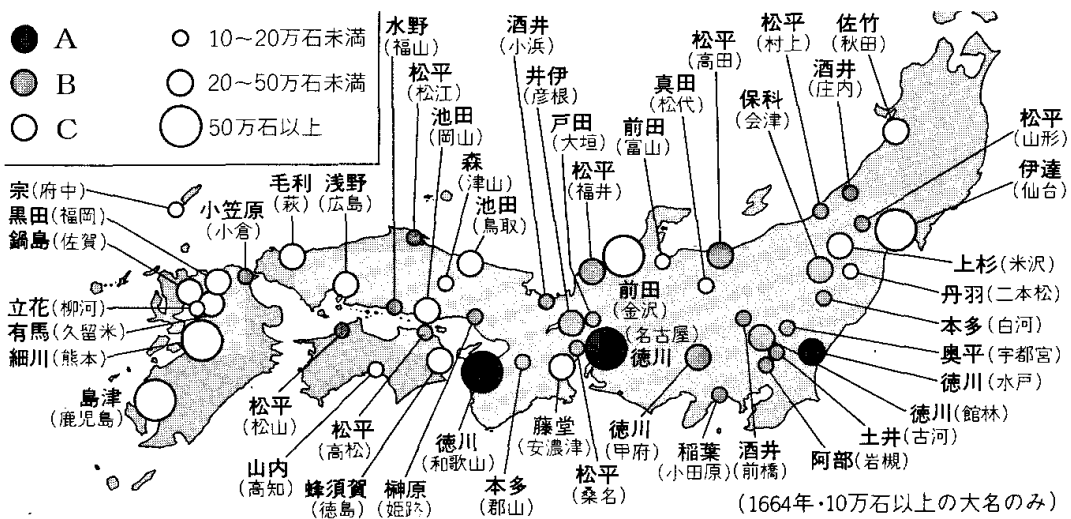
江戸時代、外様大名はどのようなところに配置されたか。「江戸」という語句を使って説明せよ。

[解答欄]

[解答]江戸から遠いところに配置された。

[問題](前期期末)

次の江戸時代の大名の配置図を見て、後の各問いに答えよ。



- (1) Aは紀伊藩、尾張藩、水戸藩である。この3つの藩は親藩の中でも特に何と呼ばれたか。
- (2) B, Cにあてはまる大名は、それぞれ次の[]のどれか。
 [親藩・譜代大名 外様大名]
- (3) Cはどのようなところに配置されたか。
- (4) Cはどのような藩が多いか。「石高」という語句を使って答えよ。

[解答欄]

(1)	(2)B	C
(3)		
(4)		

[解答](1) 御三家 (2)B 親藩・譜代大名 C 外様大名 (3) 江戸から遠いところに配置された。(4) 石高が大きい藩が多い。

[武家諸法度]

[問題](2 学期中間)

次の資料は、1615年に江戸幕府が出した法律の一部である。この法律の名前を答えよ。

- 一 学問と武道にひたすら精を出すようにせよ。
- 一 諸国の城は、修理する場合であっても、必ず幕府にもうし出ること。まして新しい城をつくることは厳しく禁止する。
- 一 幕府の許可なしに、婚姻を結んではならない。

[解答欄]

[解答]武家諸法度

[解説]

幕府は、武家諸法度という法律を定め、大名が許可なく城を修理したり、大名どうしが幕府の許可なしに婚姻を結ぶことを禁止した。最初の武家諸法度は、第2代将軍徳川秀忠のとき、1615年に、軍職を退いていた徳川家康が定めた。以後、将軍がかわるたびごとに出された。

[武家諸法度]

大名が、幕府の許可なしに
城を修理すること
婚姻を結ぶこと を禁止

江戸幕府初期には、多くの大名が武家諸法度違反などの理由で処罰された。たとえば、1619年、関ヶ原の合戦で功績があった福島正則は、武家諸法度で禁じられていた城の修築を無断で行ったという理由でお家取りつぶしの処罰を受けている。これは、昔からの功労者であった大名でも法度に背けば容赦しないという武断政治の姿勢を示したものである。

※この単元で特に出題頻度が高いのは「武家諸法度」である。「城の修理」「婚姻」もときどき出題される。

[問題](2学期中間)

次の資料をみて、後の各問いに答えよ。

- 一 学問と武道にひたすら精を出すようにせよ。
 - 一 諸国の(①)は、修理する場合であっても、必ず幕府にもうし出ること。まして新しい(①)をつくることは厳しく禁止する。
 - 一 幕府の許可なしに、(②)を結んではならない。
- (1) この法律の名前を書け。
(2) この法律は誰を対象として出されたか。
(3) 資料中の①, ②に適語を入れよ。

[解答欄]

(1)	(2)	(3)①	②
-----	-----	------	---

[解答](1) 武家諸法度 (2) 大名 (3)① 城 ② 婚姻

[参勤交代]

[問題](2学期期末)

次の文章中の①, ②に適語を入れよ。

徳川家康は、豊臣氏をほろぼした後、(①)という法律をつくり、大名が許可なく城を修理したり、大名家どうしが無断で婚姻関係を結んだりすることを禁止した。さらに、3代将軍の徳川家光は(②)の制度を定め、大名は江戸に妻子を人質として置き、1年おきに領地と江戸を往復することを義務づけた。往復のための費用や江戸での生活のための費用は大きな負担となり、このために各藩の財政は非常に苦しくなり、大名の経済力が弱められた。

[解答欄]

①	②
---	---

[解答]① 武家諸法度 ② 参勤交代

[解説]

大名の参勤(江戸に来ること)には、將軍と大名の主従関係を確認するためという目的があったが、第3代將軍徳川家光は、参勤交代を制度として定め、大名は江戸に妻子を人質として置き、1年おきに領地と江戸を往復することを義務づけた。

[参勤交代] 徳川家光が定める 往復の費用や江戸での生活のために多くの出費をしいられた

往復の費用や江戸での生活のために多くの出費をしいられた。その結果、各藩の財政は非常に苦しくなり、大名の経済力が弱められた。

※この単元で特に出題頻度が高いのは「参勤交代」である。「徳川家光」「往復の費用や江戸での生活のために多くの出費をしいられた」も出題頻度が高い。

[問題](2 学期期末)

次の資料をみて、後の各問いに答えよ。

- 一 大名は、毎年四月中に江戸に参勤すること。
- 一 幕府の許可なしに、婚姻を結んではならない。

- (1) 資料は何という法律の一部か。
- (2) 資料中の下線部の制度を何というか。
- (3) (2)の制度を定めた將軍は誰か。

[解答欄]

(1)	(2)	(3)
-----	-----	-----

[解答](1) 武家諸法度 (2) 参勤交代 (3) 徳川家光

[問題](2 学期中間)

次の各問いに答えよ。

- (1) 大名が江戸と領地を1年おきに往復する制度を何というか。
- (2) (1)の制度を定めた將軍の名前を書け。
- (3) (1)の制度の目的を「主従関係」という語句を使って簡単に書け。
- (4) (1)の制度により大名の経済力が弱まったが、その理由を「往復」「江戸での生活」という語句を使って簡潔に書け。

[解答欄]

(1)	(2)
(3)	
(4)	

[解答](1) 参勤交代 (2) 徳川家光 (3) 将軍と大名の主従関係を確認するため。 (4) 往復の費用や江戸での生活のために多くの出費をしいられたから。

[問題](2 学期中間)

参勤交代を実施したことによって大名の経済力が弱まったが、その理由を簡単に説明せよ。

[解答欄]

--

[解答]往復の費用や江戸での生活のために多くの出費をしいられたから。

[朝廷の統制]

[問題](前期期末)

幕府が定めた、天皇や公家の行動を制限するための法律を何というか。

[解答欄]

--

[解答]禁中並公家諸法度

[解説]

幕府は、^{きやうとしよしがい}京都所司代を置いて朝廷を監視し、^{きんちゆうならびにくげしよほつと}禁中並公家諸法度という法律で天皇や公家の行動を制限し、政治上の力を持たせなかった。

※この単元でやや出題頻度が高いのは「禁中並公家諸法度」である。

[朝廷の監視] 禁中並公家諸法度 京都所司代

[問題](2 学期中間)

次の文中の①、②に適語を入れよ。

幕府は、(①)という法律で天皇や公家の行動を制限し、(②)という役所を置いて朝廷を監視した。

[解答欄]

①	②
---	---

[解答]① 禁中並公家諸法度 ② 京都所司代

[全般]

[問題](2 学期中間)

次の各問いに答えよ。

- (1) 1600 年、徳川家康を中心とする東軍と石田三成を中心とする西軍の間で起こった戦いを何というか。
- (2) (1)の戦いに勝った徳川家康は 1603 年に何に任命されて江戸幕府を開いたか。
- (3) 江戸幕府の政治全体を指揮するために、常に置かれていた役職を何というか。
- (4) 次の A～C の大名を何というか。
- A 徳川氏の一門の大名。
- B 関ヶ原の戦い以前から徳川氏に従っていた大名。
- C 関ヶ原の戦い以後に徳川氏に従った大名。
- (5) (4)の C の大名は、どのようなところに配置されたか。
- (6) 大名の領地とその支配のしくみを何というか。漢字 1 字で書け。
- (7) 次の資料をみて、①～③の各問いに答えよ。
- 一 大名は、毎年四月中に江戸に参勤すること。
 - 一 幕府の許可なしに、婚姻を結んではならない。
- ① 資料は何という法律か。
- ② 資料中の下線部の制度を何というか。
- ③ ②の制度を定めた将軍は誰か。

[解答欄]

(1)	(2)	(3)	(4)A
B	C	(5)	
(6)	(7)①	②	③

[解答](1) 関ヶ原の戦い (2) 征夷大將軍 (3) 老中 (4)A 親藩 B 譜代大名 C 外様大名
(5) 江戸から遠い所。 (6) 藩 (7)① 武家諸法度 ② 参勤交代 ③ 徳川家光

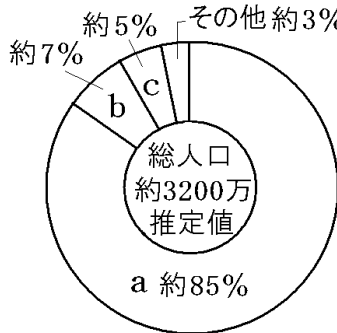
【】 さまざまな身分とくらし

[身分別の人口の割合]

[問題](2 学期期末)

次のグラフ中の a~c にあてはまる身分を書け。

江戸時代の身分別人口の割合



[解答欄]

a	b	c
---	---	---

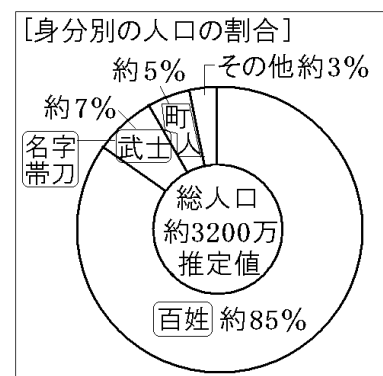
[解答] a 百姓 b 武士 c 町人

[解説]

江戸時代の人口の内訳は、百姓が 85%、武士が 7%、町人が 5%であった。

支配身分の武士は、名字・帯刀などの特権をもっていたが、武士道というきびしい道徳を課された。商人や職人は合わせて 町人と呼ばれた。町ごとに町名主や町年寄などの町役人が選ばれて自治を行ったが、町の運営に参加できるのは、地主や家持に限られた。

※この単元で出題頻度が高いのは「百姓」「町人」「武士」「名字・帯刀」である。



[問題](2 学期中間)

次の各問いに答えよ。

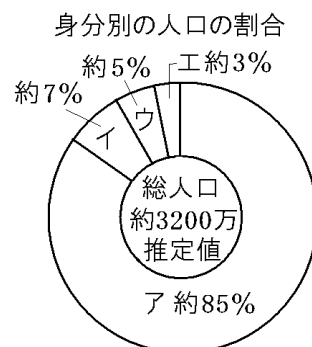
- 右のグラフのア~エのうち武士はどれか。
- 武士にだけ許された特権を次から 2 つ選べ。

【お茶 名字 結婚 寺社詣で 帯刀】

[解答欄]

(1)	(2)
-----	-----

[解答](1) イ (2) 名字, 帯刀



[問題](後期中間)

次の文中の①の()内より適する数字を選べ。また、②～⑤に適語を入れよ。

江戸時代、百姓は全人口の約①(45%/65%/85%)をしめていた。支配身分の武士は、名字・(②)などの特権をもっていたが、(③)道というきびしい道徳を課された。商人や職人は合わせて(④)と呼ばれた。町ごとに町名主や町年寄などの(⑤)が選ばれて自治を行ったが、町の運営に参加できるのは、地主や家持に限られた。

[解答欄]

①	②	③	④
⑤			

[解答]① 85% ② 帯刀 ③ 武士 ④ 町人 ⑤ 町役人

[村と百姓]

[問題](前期中間)

江戸時代の百姓の中で、①土地を持つ者、②土地を持たず小作を行う者をそれぞれ何百姓と呼んだか。

[解答欄]

①	②
---	---

[解答]① 本百姓 ② 水のみ百姓

[解説]

百姓のうち、土地を持つ者を 本百姓 といい、土地を持たず小作を行う者を 水のみ百姓 といった。有力な本百姓は 庄屋(名主)・組頭・百姓代 などの 村役人 になった。

百姓や町人の下に、えた身分・ひにん身分 を設けた。これは百姓などに自分たちよりさらに身分の低い者がいることを意識させ、さらに、身分間で反目させて不満をそらすためであった。

えた身分は、農業に従事して年貢をおさめたほか、死んだ牛馬の解体や 皮革業、雪駄生産、雑業 などをして生活した。また、犯罪者をとらえることや 牢番 など役人の下働きも、役目として務めた。ひにん身分も、役人の下働きや芸能、雑業などで生活した。

※この単元で出題頻度が高いのは「本百姓」「水のみ百姓」である。

[百姓の分類・村役人]

- 本百姓
- 水のみ百姓

村役人: 庄屋, 組頭, 百姓代

 えた身分・ひにん身分

[問題](1学期中間)

「本百姓」と「水のみ百姓」のちがいを「土地」「小作」という語句を用いて説明せよ。

[解答欄]

--

[解答]本百姓は土地を持つ者で、水のみ百姓は土地を持たず小作を行う者である。

[問題](前期中間)

次の各問いに答えよ。

(1) 村の政治をაずかった有力な本百姓は、村の自治をになうとともに年貢を徴収して領主におさめる義務を負った。このような有力者を何役人というか。

(2) (1)の役人を次の[]から3つ選べ。

[水のみ 庄屋 老中 組頭 若年寄 百姓代 地主 小作人 親方]

[解答欄]

(1)	(2)
-----	-----

[解答](1) 村役人 (2) 庄屋, 組頭, 百姓代

[問題](2 学期期末)

次の各問いに答えよ。

(1) 百姓の不满をそらすために、きびしく差別された身分の人々を何というか。2つ答えよ。

(2) (1)の人たちがしていた仕事を次から1つ選べ。

[皮革業 織物業 酒造業]

[解答欄]

(1)	(2)
-----	-----

[解答](1) えた身分, ひにん身分 (2) 皮革業

[年貢と農民統制]

[問題](1 学期中間)

年貢の納入や犯罪の防止について、百姓に連帯責任を負わせたしくみを何というか。

[解答欄]

--

[解答]五人組

[解説]

武士の生活は百姓が納める年貢^{ねんぎ}でささえられていた。幕府や藩は、四公六民^{しこうろくみん}(収穫高^{しゅうかくたか}の4割が年貢で、6割が百姓の手元に残る)や五公^{ごこう}五民^{ごみん}という重い年貢を取り立て、財政をまかになった。

[年貢と農民統制]

慶安の御触書: 安定して年貢を取るため

五人組: 年貢の納入や犯罪の防止に連帯責任

百姓から安定して年貢を取るために、1649年に慶安の御触書を出して、「朝には早起きして草を刈り、昼は田畑の耕作をし、…」 「酒や茶を買って飲んではならない」など百姓の生活のあらゆる面にわたって細かく規制した。また、五人組の制度をつくり、五戸前後を一組として年貢の納入や犯罪の防止などについて百姓に連帯責任を負わせた。

村のしきたりや寄合で定められたおきてを破る者には、葬式など以外には協力しないという村八分というばつがあたえられた。

※この単元で特に出題頻度が高いのは「五人組」である。「年貢納入と犯罪防止」「安定して年貢を取るため」もよく出題される。

[問題](後期中間)

次の文中の①～③に適語を入れよ。

江戸幕府は、百姓から(①)を安定して取るために、「朝には早起きして草を刈り、昼は田畑の耕作をし、…」など百姓の生活のあらゆる面にわたって細かく規制する法令を出した。また、(②)の制度をつくり、五戸前後を一組として(①)の納入や(③)の防止などについて百姓に連帯責任を負わせた。

[解答欄]

①	②	③
---	---	---

[解答]① 年貢 ②五人組 ③ 犯罪

[問題](1学期中間)

農村では「五人組」という制度が設けられたが、この制度の目的を「年貢」「犯罪」「連帯」という語句を使って説明せよ。

[解答欄]

--

[解答]年貢の納入や犯罪の防止について百姓に連帯責任を負わせるため。

[問題](2学期中間)

次の資料(「慶安の御触書」)を見て、以下の各問いに答えよ。

- 一 朝は早く起きて草を刈り、昼は田畑の耕作をし、晩には縄をない、俵をあみ、それぞれの仕事に気をぬくことなくはげむこと。
- 一 酒や茶を買って飲まないようにせよ。
- 一 百姓は雑穀を食べ、米を多く食いつぶさぬようにせよ。
- 一 百姓の衣類は、麻と木綿に限る。

- (1) 資料の御触書は幕府がどの身分の人たちに対して出したものか。
 (2) この御触書を出した目的は何を確実におさめさせるためか。漢字 2 字で答えよ。
 (3) 年貢の納入や犯罪の防止について百姓に連帯責任を負わせる制度を何というか。

[解答欄]

(1)	(2)	(3)
-----	-----	-----

[解答](1) 百姓 (2) 年貢 (3) 五人組

[問題](後期期末)

次の資料について、後の各問いに答えよ。

- 一 朝は早く起きて草を刈り、昼は田畑の耕作をし、晩には縄をない、俵をあみ、それぞれの仕事に気をぬくことなくはげむこと。
- 一 酒や(①)を買って飲まないようにせよ。
- 一 百姓は雑穀を食べ、(②)を多く食いつぶさぬようにせよ。
- 一 百姓の衣類は、麻と(③)に限る。

- (1) 資料の御触書を何というか。
 (2) 資料中の①～③に適語を入れよ。
 (3) 幕府や藩はなぜ、このような御触書を百姓に示したのか。「年貢」の語句を使って答えよ。
 (4) 百姓が納める年貢の割合には、五公五民、四公六民といわれるものがあるが、百姓にとっては、どちらがきびしいか。
 (5) 村のしきたりや寄合で定められたおきてを破る者には、葬式など以外には協力しないという何というばつがあたえられたか。

[解答欄]

(1)	(2)①	②	③
(3)			
(4)	(5)		

[解答](1) 慶安の御触書 (2)① 茶 ② 米 ③ 木綿 (3) 安定して年貢を取るため。 (4) 五公五民 (5) 村八分

[全般]

[問題](1 学期期末)

次の文の①～⑩に適語を入れよ。

江戸時代の身分は(①)と(②)・(③)に大きく分かれていた。支配身分の(①)は、名字・(④)などの特権をもっていたが、武士道というきびしい道徳を課された。(②)は、全人口の約 85%をしめ、生活は自給自足に近いものだった。(②)には、土地をもつ(⑤)と土地をもたない(⑥)との区別があり、有力な(⑤)は、(⑦)(または名主)・組頭・百姓代などの村役人になった。

幕府は、「朝は早く起きて草を刈り、昼は田畑の耕作をし、晩には縄をない、俵をあみ、それぞれの仕事に気をぬくことなくはげむこと」という御触書を出し、百姓の生活を細かく規制したが、これは(⑧)を確実に納めさせるためであった。また、(⑨)の制度をつくり、五戸前後を一組として(⑧)の納入や(⑩)の防止などについて百姓に連帯責任を負わせた。

[解答欄]

①	②	③	④
⑤	⑥	⑦	⑧
⑨	⑩		

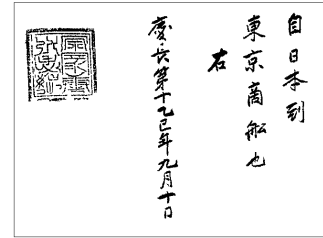
[解答]① 武士 ② 百姓 ③ 町人 ④ 帯刀 ⑤ 本百姓 ⑥ 水のみ百姓 ⑦ 庄屋 ⑧ 年貢 ⑨ 五人組 ⑩ 犯罪

【】 貿易の振興から鎖国へ

[朱印船貿易と日本町]

[問題](3 学期)

江戸時代の初め、徳川家康は右の資料のような朱印状を大名や商人に与えて貿易することを許した。



- (1) この貿易を何というか。
- (2) この貿易にともない多くの日本人が東南アジアなどに移住し、日本人が住む町ができた。このような町を何というか。

[解答欄]

(1)	(2)
-----	-----

[解答](1) 朱印船貿易 (2) 日本町

[解説]

徳川家康は、最初、大名や大商人に海外渡航を許可する朱印状をあたえて貿易をすすめた。これを朱印船貿易という。西国の大名や京都、堺、長崎などの商人は、朱印船を派遣して貿易を行った。その結果、東南アジア各地に日本人が進出し、日本町がつくられた。タイのアユタヤで町の指導者となった山田長政が有名である。

[朱印船貿易と日本町]
徳川家康
朱印状 → 朱印船貿易
東南アジアに 日本町

また、家康は、あらたに來航したオランダやイギリスからの貿易の願いも許した。オランダ、イギリス両国は、平戸(長崎県)に商館を設け、貿易が始まった。

輸入品は、中国産の生糸や絹織物が中心であった。輸出品としては、銀が中心で、刀や工芸品もあった。

※この単元で特に出題頻度が高いのは「朱印船貿易」「朱印状」「日本町」である。

[問題](1 学期中間)

次の文章中の①～④に適語を入れよ。

徳川家康は、最初、大名や商人に海外渡航を許可する(①)状をあたえて、貿易をすすめた。これを(②)貿易という。西国の大名や京都、堺、長崎などの商人は、(②)を派遣して貿易を行った。その結果、(③)アジア各地に日本人が進出し、(④)町がつくられた。

[解答欄]

①	②	③	④
---	---	---	---

[解答]① 朱印 ② 朱印船 ③ 東南 ④ 日本

[問題](2 学期期末)

次の各問いに答えよ。

- (1) 幕府から貿易の許可証をもらった船が、東南アジア各地と行った貿易を何と呼ぶか。
- (2) (1)の貿易で、幕府が出した海外渡航の許可証を何というか。
- (3) (1)の貿易を始めた将軍は誰か。
- (4) (1)の貿易により、東南アジア各地にできた町を何というか。
- (5) タイのアユタヤで(4)の町の指導者となった日本人は誰か。
- (6) ①(1)の貿易で日本が輸入した中国産の品物を 2 つあげよ。②また、日本が輸出したものとしては何があるか、刀や工芸品以外で 1 つあげよ。
- (7) (3)の人物は、新しく来航したオランダやイギリスからの貿易の願いも許した。この両国は現在の長崎県のどこに商館を設けたか。

[解答欄]

(1)	(2)	(3)	(4)
(5)	(6)①	②	(7)

[解答](1) 朱印船貿易 (2) 朱印状 (3) 徳川家康 (4) 日本町 (5) 山田長政 (6)① 生糸, 絹織物 ② 銀 (7) 平戸

[禁教と貿易統制の強化]

[問題](2 学期中間)

1612 年に幕府が幕領に出したキリスト教を禁止する命令を何というか。

[解答欄]

[解答]キリスト教禁止令(禁教令)

[解説]

徳川家康は、最初は海外貿易の利益のために、キリスト教については黙認していた。しかし、この間に全国にキリスト教の信者が増加していった。家康は三河の時代に一向一揆に苦しめられた経験からキリスト教徒が増えて大きな勢力になり、信者たちが団結して、領主に対して一揆を起こす

危険があると考えた。家康は 1612 年、幕領にキリスト教禁止令(禁教令)を出した。また、1616 年にはヨーロッパ船の来航を長崎と平戸に限定して貿易を独占した。第 3 代将軍徳川家光は、1624 年、スペイン船の来航を禁止した。

[禁教と貿易統制の強化]

キリスト教徒の増加

- ↓
- 1612年 幕領にキリスト教禁止令(禁教令)
 - 1616年 ヨーロッパ船の来航を長崎と平戸に限定
 - 1624年 スペイン船の来航を禁止
 - 1635年 日本人の海外渡航と帰国を禁止

さらに、1635年、日本人の海外渡航を全面的に禁止して朱印船貿易を停止するとともに、海外に住む日本人の帰国もいっさい禁止した。長崎の町中に住んでいたポルトガル人を出島に移し、日本人と交流できないようにした。

※この単元はときどき出題される。

[問題](2 学期中間)

次の文章中の①～③に適語を入れよ。

徳川家康は、貿易の利益のため、キリスト教の布教を黙認し、そのためキリスト教の信者が全国に広まった。家康は1612年、幕領に(①)令を出し、迫害を開始した。1616年にはヨーロッパ船の来航を長崎と(②)に限定して貿易を独占した。第3代将軍徳川家光は、1624年には(③)船の来航を禁止し、さらに、1635年、日本人の海外渡航を全面的に禁止して朱印船貿易を停止するとともに、海外に住む日本人の帰国もいっさい禁止した。

[解答欄]

①	②	③
---	---	---

[解答]① キリスト教禁止(禁教) ② 平戸 ③ スペイン

[絵踏]

[問題](3 学期)

長崎では、毎年、正月の行事として、右図のようなキリストの像などを踏ませる行事が行われた。これはキリスト教徒の発見を目的としたものであった。この行事を何というか。



[解答欄]

[解答]絵踏

[解説]

幕府は、キリスト教徒を発見するために絵踏を行い、役人の前でキリストや聖母マリアの像などを踏ませてキリスト教徒でないことを証明

[絵踏]

キリスト教徒を
発見するため

させた。絵踏は1629年に始められたが、1637年の島原・天草一揆の後、強化された。なお、絵踏で使われたキリストや聖母マリアの像を刻んだ銅板などを踏絵という。




(絵踏のようす)

※この単元で特に出題頻度が高いのは「絵踏」である。「キリスト教徒を発見するため」の出題頻度も高い。

[問題](1 学期中間)

次の各問いに答えよ。

資料1



資料2



- (1) 資料1は何を行っているようすか。漢字2文字で答えよ。
- (2) (1)で使われた資料2の板を何というか。
- (3) (1)のようなことが行われた目的は何か。簡潔に説明せよ。

[解答欄]

(1)	(2)	(3)
-----	-----	-----

[解答](1) 絵踏 (2) 踏絵 (3) キリスト教徒を発見するため。

[島原・天草一揆]

[問題](2 学期期末)

1637年、重税とキリスト教徒への厳しい弾圧に苦しんだ農民たちが、天草四郎という少年を総大将にして一揆を起こした。この一揆を何というか。

[解答欄]

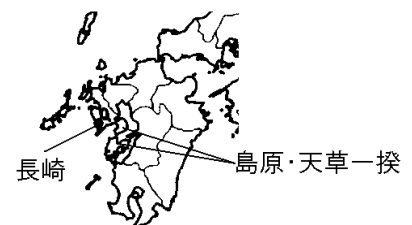
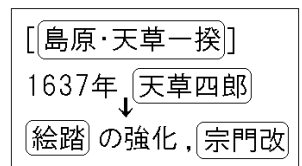
[解答]島原・天草一揆

[解説]

1637年、^{しまばら}島原(長崎県)・^{あまくさ}天草(熊本県)地方のキリスト教徒約3万7千人が、無理な^{ねんぐ}年貢の取り立てとキリスト教徒(キリシタン)へのきびしい取りしまりに反対して^{しまばら あまくさいっま}島原・天草一揆を起こした(指導者は^{あまくさしろう}天草四郎という少年)。幕府は12万の大軍を送ってようやく一揆をしずめた。(人むざんなり(1637)島原・天草一揆)

島原・天草一揆の後、幕府は、キリスト教徒の発見のための^{えふみ}絵踏を強化した。また、^{しゅうもんあらため}宗門改によって仏教の信者であることを寺に証明させた。

※この単元で特に出題頻度が高いのは「島原・天草一揆」である。「天草四郎」「宗門改」もよく出題される。



[問題](2 学期期末)

次の文章中の①～④に適語を入れよ。

1637 年、重税とキリスト教徒への厳しい弾圧に苦しんだ 3 万 7 千人の人々が、(①) という少年を大将にして(②)一揆を起こした。(②)一揆に驚いた幕府は、12 万の大軍を送ってようやく一揆をしずめた。その後、キリスト教徒への徹底した弾圧を行い、キリスト教徒の発見のために行う(③)を強化した。また、(④)によって仏教の信者であることを寺に証明させた。

[解答欄]

①	②	③	④
---	---	---	---

[解答]① 天草四郎 ② 島原・天草 ③ 絵踏 ④ 宗門改

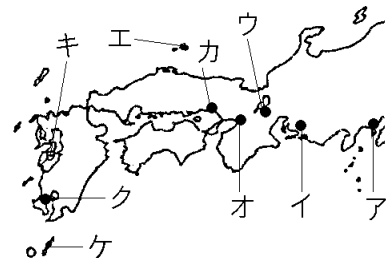
[問題](後期期末)

1637 年、キリスト教徒の一揆が起こった。

- (1) この一揆は何と呼ばれているか。
 (2) この一揆について正しく説明している文を、下のア～エから 1 つ選んで記号で答えよ。

- ア 信仰で結びついた武士や農民たちが、守護大名を倒した。
 イ 幕府に借金の帳消しを求めて起こした。
 ウ シャクシャインを指導者として起こしたが、しずめられた。
 エ 信仰の迫害や重税に苦しむ人々が起こした。

- (3) この一揆の起こった場所を、地図のア～ケから選んで答えよ。



- (4) この一揆の中心人物の名前を書け。
 (5) キリスト教徒は、この当時何と呼ばれていたか。
 (6) この一揆の後、幕府はキリスト教徒の発見のためにキリストの像などを踏ませる何を強化したか。
 (7) (6)と同時に、人々をいずれかの仏教寺院の檀家として所属させ、仏教徒であることを寺院に証明させた。この制度を何というか。

[解答欄]

(1)	(2)	(3)	(4)
(5)	(6)	(7)	

[解答](1) 島原・天草一揆 (2) エ (3) キ (4) 天草四郎 (5) キリシタン (6) 絵踏 (7) 宗門改

[鎖国]

[問題](1 学期期末)

幕府は、1639 年にポルトガル人を追放し、1641 年には平戸のオランダ商館を長崎の出島に移した。こうして、オランダ船と中国船だけが、長崎で貿易を許されることになった。このような幕府による貿易統制、外交独占、禁教の体制を何と呼ぶか。漢字 2 字で答えよ。

[解答欄]

[解答]鎖国

[解説]

当時、海外進出を行っていたヨーロッパ国の中で、ポルトガルとスペインのカトリックの国は、貿易とともにキリスト教の布教を行っていた。(これらの国は、まず宣教師を送りこんで信者を増やし、反乱をおこさせて、やがてそこを植民地としてしまうということもやっていた)

すでに1624年にスペイン船の来航を禁止していたが、島原・天草一揆後の1639年、第3代将軍徳川家光はポルトガル人の来航を禁止した。

当時日本と貿易を行っていたオランダは、キリスト教のプロテスタントの国で、布教は行わず、貿易のみを行っていたので、引き続き貿易を認めることとし、1641年にオランダ商館を平戸から長崎の出島に移した。

また、清(17世紀の初め中国では明が滅んで清が建国した)の商人も長崎でのみ貿易を認められた。中国人は長崎の中にある唐人屋敷に住まわせられ、奉行の監督下に置かれた。

幕府は、ヨーロッパやアジアの情勢を文書にまとめて提出することをオランダ人に義務づけ(オランダ風説書)、中国人にも唐船風説書を提出させ、海外の情報を独占した。

幕府による禁教、貿易統制、外交独占の体制を鎖国と呼ぶ。(一路鎖国(1639))

※この単元で特に出題頻度が高いのは「鎖国」「長崎の出島」「オランダ」である。「ポルトガル人」「清」「オランダ風説書」の出題頻度も高い。

[鎖国]の完成(徳川家光)

1639年 ポルトガル人の来航禁止

1641年 オランダの商館を平戸から
長崎の出島に移す
オランダ風説書

清も長崎、唐船風説書、唐人屋敷



[問題](2 学期期末)

次の文章中の①～④に適語を入れよ。

1639 年、第 3 代将軍徳川家光は(①)人の来航を禁止した。1641 年には、平戸にあった(②)商館を長崎の(③)へ移し、(②)と中国(清)に限って長崎での貿易を認めることにした。こうして(④)が完成した。

[解答欄]

①	②	③	④
---	---	---	---

[解答]① ポルトガル ② オランダ ③ 出島 ④ 鎖国

[問題](後期中間)

次の各問いに答えよ。

- (1) 1639 年、幕府は、何という国の船が来航するのを禁じたか。
- (2) 幕府による、禁教、貿易統制、外交独占の体制を何というか。
- (3) (2)の体制後、貿易を許されたヨーロッパの国をあげよ。
- (4) (3)の国との貿易は、ある都市の右図のような人工島に限って行われた。①この人工島の名称と、②所在する都市名を書け。
- (5) 幕府は(3)に対し、ヨーロッパやアジアの情勢を文書にまとめて提出することを義務づけたが、この文書を何というか。
- (6) (3)とともに貿易が許された国を 1 つあげよ。



[解答欄]

(1)	(2)	(3)	(4)①
②	(5)	(6)	

[解答](1) ポルトガル (2) 鎖国 (3) オランダ (4)① 出島 ② 長崎 (5) オランダ風説書 (6) 清

[問題](前期期末)

幕府が鎖国を行った理由を 2 つ書け。ただし、それぞれ、「キリスト教が」「貿易によって」という書き出しで始めること。

[解答欄]

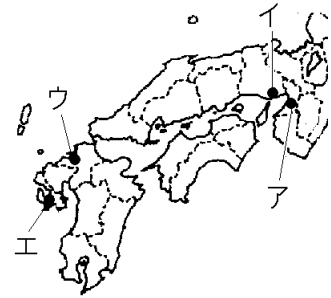
キリスト教が
貿易によって

[解答](キリスト教が)広がるのを防ぐため。 (貿易によって)西国の大名が経済力を強めるのを防ぐため。

[問題](2 学期中間)

次の各問いに答えよ。

- (1) 1639 年に、日本への来航が禁じられたヨーロッパの国はどこか。
- (2) (1)のときの将軍は誰か。
- (3) 鎖国ののち、オランダと中国に限って貿易が認められた都市を右の地図中のア～エから 1 つ選べ。
- (4) (3)の都市名を書け。
- (5) オランダ人を(4)の何というところに移したか。
- (6) なぜ、幕府はヨーロッパの国で唯一オランダとの貿易を続けたのか。「布教」の語句を使って簡潔に説明せよ。
- (7) 幕府はオランダに対し、ヨーロッパやアジアの情勢を文書にまとめて提出することを義務づけたが、この文書を何というか。
- (8) (7)と同様に、幕府は中国人に対しても文書を提出させた。この文書を何というか。
- (9) 中国人は長崎の中にある何という屋敷に住まわせられ、奉行の監督下に置かれたか。
- (10) 17 世紀の前半に明をほろぼして女真族がつくった中国の王朝の名前を漢字 1 字で答えよ。



[解答欄]

(1)	(2)	(3)	(4)
(5)	(6)		
(7)	(8)	(9)	
(10)			

[解答](1) ポルトガル (2) 徳川家光 (3) エ (4) 長崎 (5) 出島 (6) オランダはキリスト教を布教しない国だったから。 (7) オランダ風説書 (8) 唐船風説書 (9) 唐人屋敷 (10) 清

[全般]

[問題](前期中間)

次の年表について、後の各問いに答えよ。

年代	おもなできごと
1604年	日本船の海外渡航の許可証を出して海外との貿易を奨励。…A
1612年	幕領でのキリスト教を禁止する命令を出す。…B
1624年	スペイン船の来航を禁止。
1637年	天草四郎を総大将にしたキリスト教徒らの一揆が起こる。…C
1639年	()船の来航を禁止。…D
1641年	平戸のオランダ商館を長崎の()に移す。…E

- (1) Aについて、①この許可証を何というか。②この貿易を何というか。③この貿易の結果、東南アジアには日本人の住む町ができたが、この町を何というか。
- (2) Bを何というか。
- (3) Bのあと、キリスト教徒への弾圧が行われた。①右の資料は何を行っている様子か。漢字2文字で答えよ。②このようなことが行われた目的は何か。
- (4) Cの一揆を何というか。
- (5) Dの()に適語を入れよ。
- (6) Eの()に適語を入れよ。
- (7) Eによって完成した幕府による禁教、貿易統制、外交独占の体制を何というか。漢字2文字で答えよ。
- (8) (7)の後、日本との貿易を許されたのはオランダとどこか。当時の国名で答えよ。
- (9) 幕府は、ヨーロッパやアジアの情勢を文書にまとめて提出することをオランダ人に義務づけたが、この文書を何というか。



[解答欄]

(1)①	②	③
(2)	(3)①	
②		
(4)	(5)	(6)
(7)	(8)	(9)

[解答](1)① 朱印状 ② 朱印船貿易 ③ 日本町 (2) キリスト教禁止令(禁教令) (3)① 絵踏 ② キリスト教徒を発見するため。(4) 島原・天草一揆 (5) ポルトガル (6) 出島 (7) 鎖国 (8) 清 (9) オランダ風説書

[問題](1 学期期末)

次の出来事を年代の古い順番に記号で並びかえよ。

- A 九州で天草四郎を総大将とするキリスト教徒らの大規模な一揆が起こる。
- B ポルトガル船の来航が禁止される。
- C 日本人の海外渡航・帰国が禁止される。

[解答欄]

[解答]C→A→B


【】 鎖国下の対外関係

[朝鮮]

[問題](2 学期期末)

次の各問いに答えよ。

- (1) 右図は、徳川家康の時代に国交が回復した朝鮮からやって来た使節の様子である。この使節を何というか。
- (2) この当時、朝鮮との国交や貿易の拠点となった藩の名前を答えよ。



[解答欄]

(1)	(2)
-----	-----

[解答](1) 朝鮮通信使 (2) 対馬藩

[解説]

豊臣秀吉の朝鮮侵略の後、朝鮮との国交はとだえていたが、対馬藩の努力で、1609年、徳川家康のときに国交が回復した。その後、将軍の代わりごとに朝鮮から朝鮮通信使という使節が訪れた。対馬藩は朝鮮との国交の実務を担当するかわりに、朝鮮との貿易を許可されて、銀や銅を輸出し、朝鮮にんじん、木綿、絹織物などを輸入した。

[朝鮮との国交と貿易]
対馬藩
朝鮮通信使 という使節



※この単元で特に出題頻度が高いのは「朝鮮通信使」「対馬藩」である。

[問題](後期期末)

次の各問いに答えよ。

①私たちの国は、豊臣秀吉に攻められて全土が荒れ果てたが、②江戸幕府と正式の国交をもち、将軍の代わりごとに使節を送ることになった。

- (1) 下線部①の「私たちの国」とはどの国のことか。
- (2) 下線部②の使節を何というか。
- (3) (1)との国交回復の仲立ちをつとめたのは何という藩か。
- (4) (3)の藩が(1)の国から輸入していたものを1つあげよ。

[解答欄]

(1)	(2)	(3)	(4)
-----	-----	-----	-----

[解答](1) 朝鮮 (2) 朝鮮通信使 (3) 対馬藩 (4) 朝鮮にんじん(木綿, 絹織物)

[琉球王国]

[問題](3 学期)

それまで独立国だったこの国は、17 世紀の初め、薩摩藩に攻められて服属した。しかし、幕府がこの国を異国と位置づけたため、国際的には独立国で、明や清にも朝貢し、貿易も行ってた。この国とはどこか。

[解答欄]

[解答]琉球王国

[解説]

17 世紀の初め、琉球王国は薩摩藩に征服された。幕府がこの国を異国と位置づけたため、国際的には独立国で、明や清にも朝貢し、貿易も行ってた。薩摩藩は、きびしく監督をしたり、中国や東アジアとの貿易を、薩摩藩の管理の下で続けさせたりして利益を得た。また、薩摩藩は、将軍や琉球王国の国王に代わりがあると、使節を江戸に連れてきて、将軍にあいさつさせた。これを琉球使節という。

※この単元で出題頻度が高いのは「琉球王国」「薩摩藩」である。

[琉球王国]
[薩摩藩]の支配下
琉球使節



[問題](前期期末)

次の文章中の①～③に適語を入れよ。

それまで独立国だった(①)国は、17 世紀の初め、(②)藩に攻められ服属した。しかし、幕府がこの国を異国と位置づけたため、国際的には独立国で、明や清にも朝貢し、貿易も行ってた。(②)藩は、将軍やこの国の国王に代わりがあると、使節を江戸に連れてきて、将軍にあいさつさせた。これを(③)使節という。

[解答欄]

①	②	③
---	---	---

[解答]① 琉球王 ② 薩摩 ③ 琉球

[蝦夷地]

[問題](2 学期中間)

松前藩がアイヌの人々との交易を独占して暴利を得たため、不利益を受けたアイヌの人々が 17 世紀後半に戦いを起こした。このときのアイヌの指導者は誰か。

[解答欄]

[解答]シャクシャイン

[解説]

蝦夷地にはアイヌ人が住んでいたが、蝦夷地南部に領地をもつ松前藩は、アイヌ人との取引を独占し暴利を得ていた。これに不満をいだいたアイヌの人々は17世紀の後半、シャクシャインを指導者として戦いを起こした。松前藩は幕府に助けを求めて、ようやくこれをしずめた。

※この単元で出題頻度が高いのは「シャクシャイン」「松前藩」である。

[蝦夷地]
松前藩
シャクシャイン



[問題](2 学期期末)

次の各問いに答えよ。

- (1) ()藩は、蝦夷地での取引を独占し、アイヌが不利になるような取引を行って大きな利益を得ていた。()に適語を入れよ。
- (2) (1)の下線部に不満をいだいたアイヌの人々は戦いを起こしたが、そのときのアイヌの指導者の名前を答えよ。

[解答欄]

(1)	(2)
-----	-----

[解答](1) 松前 (2) シャクシャイン

[問題](2 学期期末)

シャクシャインの反乱が起こった理由を「松前藩」「独占」という語句を使って答えよ。

[解答欄]

--

[解答]松前藩がアイヌの人々との取引を独占して暴利を得ていたため、アイヌの人々が不満を持ったから。

[全般]

[問題](2 学期期末)

鎖国下の対外関係について、次の各問いに答えよ。

- (1) 朝鮮との窓口となった藩の名前を答えよ。また、その藩の位置を地図中のア～キから選べ。
- (2) 日本の将軍が変わるごとに朝鮮から使節が派遣された。この使節を何というか。
- (3) 現在の沖縄にあった王国は何か。
- (4) (3)の国を攻めて服属させた藩の名前を答えよ。また、その藩の位置を、地図中のア～キから選べ。
- (5) アイヌの人々と交易を行った藩の名前を答えよ。また、その藩の位置を、地図中のア～キから選べ。
- (6) (5)の藩がアイヌの人々との交易を独占して暴利を得ていたため、17 世紀後半にアイヌの人々が戦いを起こしたが、このときのアイヌの指導者は誰か。



[解答欄]

(1)	(2)	(3)
(4)	(5)	(6)

[解答](1) 対馬藩, オ (2) 朝鮮通信使 (3) 琉球王国 (4) 薩摩藩, キ (5) 松前藩, ア (6) シャクシャイン

【】農業や諸産業の発達

[新田開発]

[問題](後期期末)

次の文章中の①，②に適語を入れよ。

幕府や藩は，土地の開墾に力を注ぎ，用水路をつくったり，有明海や児島湾，広い沼地を干拓したりして，(①)開発を行った。また，少しずつ荒地を開く農民の努力もあって，耕地面積は，18世紀のはじめには，豊臣秀吉のころの約(②)倍に増えた。

[解答欄]

①	②
---	---

[解答]① 新田 ② 2

[解説]

幕府や藩は土地の開墾に力を注いだ。大規模な用水路をつくって水を引き，荒地を開墾して田畑の面積を広げ，有明海や児島湾，広い沼地を干拓したりして新田開発を行った。その結果，田畑の面積は豊臣秀吉のころから100年の間に約2倍になった。大規模な用水路建設を可能にしたのは，戦国時代から近世にかけての築城で使われた測量・掘削などの技術革新であった。

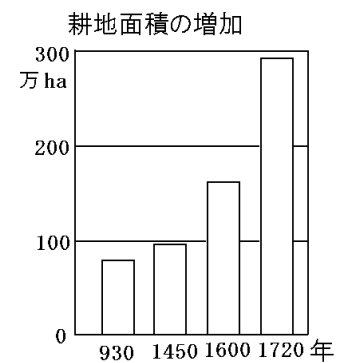
[新田開発]
干拓などで
耕地面積が約2倍

※この単元で出題頻度が高いのは「新田開発」である。「2倍」もよく出題される。

[問題](1学期中間)

次の各問いに答えよ。

- (1) 右のグラフから，1720年ごろの全国の耕地面積は，安土・桃山時代の終わりに比べて約何倍になっているか。整数で答えよ。
- (2) 右のグラフのように，耕地面積が増えたもっとも大きな理由は何か。漢字4文字で答えよ。
- (3) (2)のため，有明海や児島湾などではどのようにして土地を広げたか。漢字2文字で答えよ。



[解答欄]

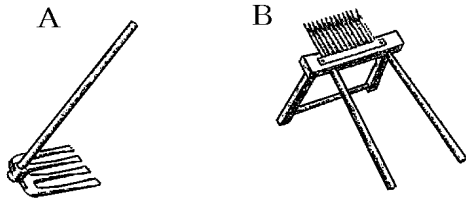
(1)	(2)	(3)
-----	-----	-----

[解答](1) 約2倍 (2) 新田開発 (3) 干拓

[農具の進歩]

[問題](1 学期中間)

次の A, B は江戸時代に普及した農具である。それぞれの名称を下の[]から選べ。



[備中ぐわ 唐箕 千歯こき 踏車]

[解答欄]

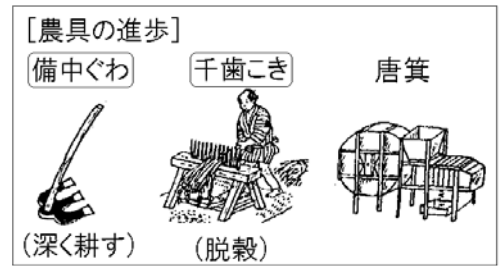
A	B
---	---

[解答]A 備中ぐわ B 千歯こき

[解説]

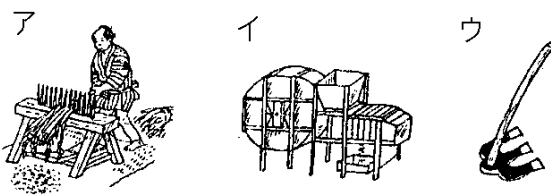
江戸時代になって、備中ぐわ(土を深く耕すことを可能にした)、千歯こき(稲穂からもみをしごいてとる(脱穀)), 唐箕(風を送りもみがらなどを取りさる)などの農具が普及し、農業技術が向上した。

※この単元で特に出題頻度が高いのは「備中ぐわ」「千歯こき」である。「唐箕」もしばしば出題される。



[問題](1 学期中間)

次の①, ②の説明に適する農具をア～ウから、農具名を[]から1つずつ選べ。



① 稲穂からもみをしごいてとる(脱穀)。

② 土を深く耕せる。

[唐箕 千歯こき 備中ぐわ]


[解答欄]

①	②
---	---

[解答]① ア, 千歯こき ② ウ, 備中ぐわ

[問題](2 学期中間)

次の各問いに答えよ。



(1) 上のア～ウの農具の名前を答えよ。

(2) ア～ウの農具は、どんな作業と関係があるか。次の A～D より 1 つずつ選び、記号で答えよ。

A 稲を脱穀する。

B 風を送り、もみがらなどを取りさる。

C 田や畑を深く耕す。

D 米粒をふるいわける。

[解答欄]

(1)ア	イ	ウ	(2)ア
イ	ウ		

[解答](1)ア 備中ぐわ イ 千歯こき ウ 唐箕 (2)ア C イ A ウ B

[商品作物]

[問題](2 学期期末)

麻、わた、あぶらな、あい、べにばな など商品として販売し、現金収入を得ることができる作物を何というか。

[解答欄]

[解答]商品作物

[解説]

都市で織物や菜種油なたねあぶらしぼりなどの手工業が発展すると、農村では織物の原料となる麻やわた、菜種油の原料になるあぶらな、染料せんりょうに使うあいやべにばななどの商品作物の栽培が広まった。べにばなは化粧品けしょうひんの原料としても使われた。

※この単元で出題頻度が高いのは「商品作物」である。

〔商品作物〕

麻、わた、あぶらな、あい、べにばな

[問題](2 学期期末)

次の各問いに答えよ。

- (1) 農業の生産が高まるにつれて栽培されるようになった、商品として販売し、現金収入を得ることができる作物を何というか。
- (2) (1)のような作物のうち、化粧品や染料として使用されたものを1つあげよ。

[解答欄]

(1)	(2)
-----	-----

[解答](1) 商品作物 (2) ベにばな

[水産業]

[問題](1 学期期末)

九十九里浜では大規模ないわし漁が行われるようになった。いわしは肥料に加工され、おもに近畿地方などの綿作地域に売られた。この肥料は何と呼ばれたか。

[解答欄]

[解答]干鰯

[解説]

水産業では、網が改良されて大量漁獲が可能になった。
 九十九里浜(千葉県)では、このような網を使った大規模な
いわし漁がおこなわれるようになった。いわしは干鰯とい
 う肥料に加工されて、近畿地方などの綿作地帯に売られた。
 蝦夷地では、にしん漁やこんぶ漁が発達した。にしんやこ
 んぶは、蝦夷地の松前藩がアイヌの人々から米や鉄器など
 との交換で得ていた。紀伊や土佐では捕鯨やかつお漁がさかんになった。

[水産業]

網の改良→大量漁獲が可能に

九十九里浜: いわし→干鰯

蝦夷地: こんぶ, にしん

紀伊や土佐: 捕鯨やかつお

※この単元で出題頻度が高いのは「干鰯」である。「いわし」もよく出題される。「かつお」「こんぶ、にしん」はときどき出題される。

[問題](2 学期期末)

次の文章中の①～④に適語を入れよ。

江戸時代、水産業では、麻糸でつくった強い網ができたため、九十九里浜では大規模な
 (①)漁が行われるようになった。(①)は(②)という肥料に加工され、おもに近畿地方
 などの綿作地域に売られた。また、紀伊や土佐では捕鯨や(③)漁、蝦夷地ではにしん漁
 や(④)漁がさかんになった。

[解答欄]

①	②	③	④
---	---	---	---

[解答]① いわし ② 干鰯 ③ かつお ④ こんぶ

[問題](2 学期期末)

江戸時代の水産業について、次の各問いに答えよ。

- (1) 九十九里浜などで大規模な漁がおこなわれていたが、その魚は何であったか。
- (2) (1)の魚は加工されて何と呼ばれたか。
- (3) (2)の加工品はどのような用途に用いられたか。
- (4) 九十九里浜などでの大量漁獲を可能にした要因としてどういうことがあげられるか。
- (5) 蝦夷地の松前藩がアイヌの人々から米や鉄器などとの交換で得ていた海産物は次の [] のうちのどれか。すべて選べ。

[たい かつお こんぶ にしん くじら]

[解答欄]

(1)	(2)	(3)
(4)	(5)	

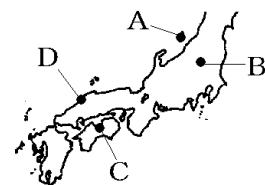
[解答](1) いわし (2) 干鰯 (3) 肥料 (4) 網が改良されたこと。 (5) こんぶ, にしん

[鉱業]

[問題](前期期末)

金の鉱山の位置を右の地図中から選び記号で書け。

また、鉱山名も書け。



[解答欄]

位置：	鉱山名：
-----	------

[解答]位置：A 鉱山名：佐渡金山

[解説]

採掘・排水・精錬などの技術進歩により、佐渡金山(新潟県)、生野銀山(兵庫県)、石見銀山(島根県)、別子銅山(愛媛県)、足尾銅山(栃木県)などが開かれ、17世紀の初めに、日本は世界でも有数の金銀の産出国になった。17世紀後半になると、金銀の産出量は急減し、かわって銅の産出量が増加した。

幕府は、江戸や京都に設けた金座や銀座などで、大判・小判・一分金といった金貨や、銀貨をつくった。

<p>[鉱山]</p> <p>生野銀山</p> <p>石見銀山</p> <p>別子銅山</p> <p>足尾銅山</p> <p>佐渡金山</p>
<p>[貨幣]</p> <p>金座・銀座：江戸と京都</p> <p>銀座：各地、「寛永通宝」</p>

また、全国各地に設けられた錢座で寛永通宝^{かんえいつうほう}という銅貨を大量につくって全国に流通させた。
 ※この単元で出題頻度が高いのは「佐渡金山(とその位置)」である。「足尾銅山」「寛永通宝」もよく出題される。

[問題](1 学期中間)

江戸時代、貨幣の原料となる金、銀、銅を産出していた鉱山を、次の[]の中からそれぞれ選べ。(金 1 つ、銀 2 つ、銅 2 つ)

[足尾 生野 佐渡 石見 別子]

[解答欄]

金：	銀：	銅：
----	----	----

[解答]金：佐渡 銀：生野、石見 銅：足尾、別子

[問題](2 学期中間)

次の文章中の①～⑥に適語を入れよ。

鉱山の採掘や精錬技術が進み、(①)金山(新潟県)、(②)銀山(島根県)、生野銀山(兵庫県)、別子銅山(愛媛県)、(③)銅山(栃木県)などの開発が進んだ。幕府は、江戸や(④)に設けた金座や(⑤)などで、大判・小判・一分金といった金貨や、銀貨をつくったほか、全国各地に設けられた錢座で(⑥)という銅貨を大量につくって全国に流通させた。

[解答欄]

①	②	③	④
⑤	⑥		

[解答]① 佐渡 ② 石見 ③ 足尾 ④ 京都 ⑤ 銀座 ⑥ 寛永通宝

【】 交通路の整備と都市の繁栄

[五街道]

[問題](1 学期期末)

右の地図中の、五街道の1つであるXの街道の名前を答えよ。

[解答欄]

--



[解答] 東海道

[解説]

全国的な陸上交通の整備は豊臣政権にはじまり、江戸幕府により完成された。幕府は、江戸を中心とうかいどう なかせんどう こうしゅうどうちゅう おうしゅうどうちゅうに東海道・中山道・甲州道中・奥州道中・日光道中にっこうどうちゅう ごかいどう せいびを整備した。東海道の箱根はこねや新居あらい、中山道の碓氷うすいなどには関所せきしよを設け、人々の通行や荷物の運送かんしを監視した。街道沿いには宿泊施設などが整備され、宿場町しゆくばまちが栄えた。また、手紙や荷物を運ぶ飛脚ひきやくが街道を行き来した。

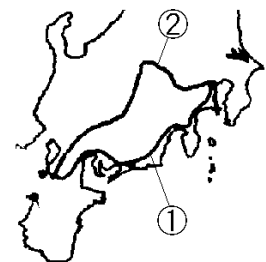


※この単元で出題頻度が高いのは「東海道」である。「中山道」「五街道」もよく出題される。

[問題](2 学期期末)

次の各問いに答えよ。

- (1) 幕府は全国の交通路の整備を行い、江戸の日本橋を起点に右図の①、②をはじめとする()を定め、街道のとちゅうには宿場を整備した。文中の()にあてはまる語句を書け。
- (2) 地図中の①と②の街道名を書け。



[解答欄]

(1)	(2)①	②
-----	------	---

[解答](1) 五街道 (2)① 東海道 ② 中山道

[問題](前期期末)

次の各問いに答えよ。

- (1) 江戸時代に、江戸を中心に整えられ幕府が直接支配した 5 つの街道をあわせて何というか。
- (2) 次の①～③は何という街道について説明したものか。街道名を答えよ。
 - ① 江戸と京都を結ぶ街道で、品川から大津まで 53 の宿場がおかれた。
 - ② 高崎、安中や碓氷峠を通り、京都に行く街道。
 - ③ 江戸の日本橋と陸奥国の白河を結ぶ街道。
- (3) 街道沿いには宿泊施設などが整備され、町は旅の中継地点として栄えた。街道沿いの各地にあったこのような町を何というか。
- (4) 街道には手紙や荷物を運ぶため人々がおかれた。彼らは何と呼ばれたか。
- (5) 箱根や碓氷などに置かれた治安維持のための施設を何というか。

[解答欄]

(1)	(2)①	②	③
(3)	(4)	(5)	

[解答](1) 五街道 (2)① 東海道 ② 中山道 ③ 奥州道中 (3) 宿場町 (4) 飛脚 (5) 関所

[海上交通]

[問題](前期期末)

東北地方や北陸地方の米を日本海沿岸から瀬戸内海をまわって大阪に運ぶために開かれた航路の名前を書け。

[解答欄]

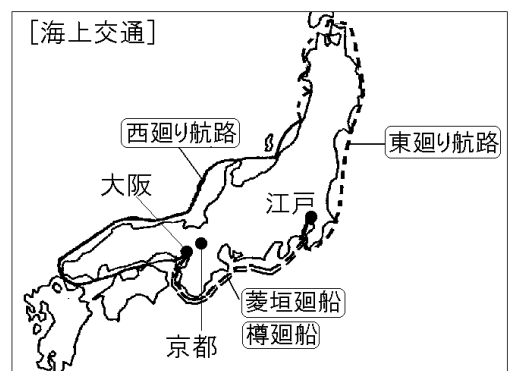
[解答]西廻り航路

[解説]

東北地方などの米を、太平洋沿岸をまわって江戸に運ぶ航路を東廻り航路、日本海沿岸から瀬戸内海をまわって大阪に運ぶ航路を西廻り航路と呼んだ。

江戸・大阪間には、木綿や油、しょう油を運ぶ菱垣廻船、酒を運ぶ樽廻船と呼ばれる定期船が運行され、これらの物資を大阪から江戸へ運んだ。

※この単元で出題頻度が高いのは「西廻り航路」「菱垣廻船」「樽廻船」である。「東廻り航路」もよく出題される。



[問題](2学期中間)

次の文中の①～③に適語を入れよ。

東北地方などの米を、津軽海峡、太平洋沿岸をまわって江戸に運ぶ航路を東廻り航路、日本海沿岸から瀬戸内海をまわって大阪に運ぶ航路を(①)航路と呼んだ。江戸・大阪間には、木綿や油、しょう油を運ぶ(②)廻船、酒を運ぶ(③)廻船とよばれる定期船が運行され、これらの物資を大阪から江戸へ運んだ。

[解答欄]

①	②	③
---	---	---

[解答]① 西廻り ② 菱垣 ③ 樽

[問題](前期期末)

江戸時代の海運について、次の各問いに答えよ。

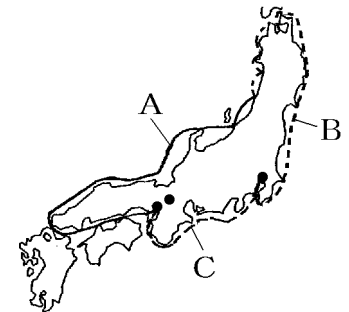
(1) 図のAとBの航路ではおもにどんなものが運ばれていたか。漢字1字で答えよ。

(2) 東北・北陸地方の物資を、日本海沿岸から瀬戸内海をまわって大阪に運ぶAの航路を何といったか。

(3) 東北地方の物資を、津軽海峡、太平洋側を通り江戸に運ぶBの航路を何といったか。

(4) Cの航路で木綿、油、しょう油などを運んでいた定期船を何というか。

(5) Cの航路でおもに酒を運んでいた定期船を何というか。



[解答欄]

(1)	(2)	(3)	(4)
(5)			


[解答](1) 米 (2) 西廻り航路 (3) 東廻り航路 (4) 菱垣廻船 (5) 樽廻船

[大阪：天下の台所]

[問題](2学期中間)

次の文章中の①、②に適語を入れよ。

江戸時代、全国の商業や金融の中心となっていた都市は大阪である。右の絵は、諸藩が米や特産物を売りさばくために、大阪においた(①)屋敷である。当時の大阪は商業や金融の中心地であったため、(②)と呼ばれた。




[解答欄]

①	②
---	---

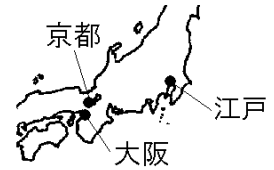
[解答]① 蔵 ② 天下の台所

[解説]

各地の大名は、大阪に蔵屋敷をおいて米や特産品を販売して藩の財政をまか
 った。大阪は、全国の商業や金融の中心
 として栄えた商業都市で、「天下の台所」
 と呼ばれた。



[大阪]
 諸藩が蔵屋敷をおいた
 天下の台所




※この単元で特に出題頻度が高いのは

「蔵屋敷」「天下の台所」である。「大阪とその位置」の出題頻度も高い。

[問題](2 学期中間)

次の各問いに答えよ。

- (1) 江戸時代、右の資料のような諸藩の倉庫が置かれた都市はどこか。
- (2) 右の資料のような諸藩の倉庫を何というか。
- (3) 江戸時代、全国の商業や金融の中心となっていた(1)の都市は何と呼ばれていたか。
- (4) (2)に最も多く収められていたものは何か。資料を見て1つ答えよ。



[解答欄]

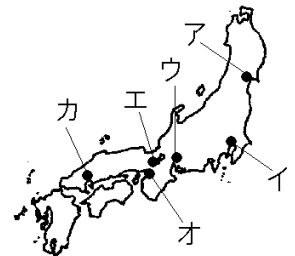
(1)	(2)	(3)	(4)
-----	-----	-----	-----

[解答](1) 大阪 (2) 蔵屋敷 (3) 天下の台所 (4) 米

[問題](前期期末)

次の各問いに答えよ。

- (1) 江戸時代、諸藩が蔵屋敷を置き、「天下の台所」と呼ばれていた都市はどこか。都市名を答えよ。
- (2) (1)の都市の位置を右図のア～カから選べ。



[解答欄]

(1)	(2)
-----	-----

[解答](1) 大阪 (2) オ

[問題](1 学期期末)

江戸時代、大阪は「天下の台所」と呼ばれていたが、その理由を「蔵屋敷」「米や特産物」「商業や金融」という語句を使って書け。

[解答欄]

[解答]大阪には諸藩が米や特産物を販売するために蔵屋敷をおき、大阪は全国の商業や金融の中心であったから。

[三都]

[問題](前期期末)

次の各問いに答えよ。

- (1) 江戸時代、将軍の城下町で政治の中心地であった江戸は何と呼ばれていたか。
- (2) 朝廷がある古代からの都で、西陣織や清水焼などの優れた工芸品もつくられ、文化の中心地としてさかえた都市はどこか。

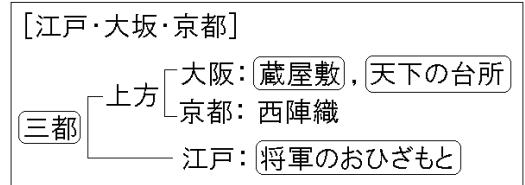
[解答欄]

(1)	(2)
-----	-----

[解答](1) 将軍のおひざもと (2) 京都

[解説]

江戸は「将軍のおひざもと」といわれ、人口は約 100 万人に達した。京都は、朝廷がある古代からの都で、にしじんおり西陣織やきよみずやき清水焼などの優



れた工芸品もつくられ、文化の中心地としてさかえた。

大阪・京都をかみがた上方という。また、江戸、大阪、京都をあわせてさんと三都と呼んだ。

※この単元で出題頻度が高いのは「京都とその位置」「江戸とその位置」「将軍のおひざもと」である。「三都」もよく出題される。

[問題](1 学期期末)

次の①～③は、江戸時代の何という都市の説明か。都市名と、その位置(右図のア～カ)を答えよ。

- ① ここは「将軍のおひざもと」といわれ、政治の中心地であった。
- ② ここは朝廷がある古代からの都で、西陣織や清水焼などの優れた工芸品もつくられ、文化の中心地としてさかえた。



③ ここは「天下の台所」といわれ、全国の商業や金融の中心であり、諸藩が蔵屋敷を置いた。

【解答欄】

①	②	③
---	---	---

【解答】① 江戸, イ ② 京都, エ ③ 大阪, オ

【問題】(2 学期期末)

次の文章中の①～⑦に適語を入れよ。

将軍の城下町である(①)は「将軍のおひざもと」と呼ばれ、18 世紀になると人口は約(②)人に達し、日本最大の都市になった。(③)は全国の流通・商業や金融の中心地として発展し、諸藩が米や特産物の販売のために(④)を置き、(⑤)と呼ばれた。(⑥)は高級絹織物などの工芸品の発達した都市であった。(①), (③), (⑥)はあわせて(⑦)と呼ばれた。

【解答欄】

①	②	③	④
⑤	⑥	⑦	

【解答】① 江戸 ② 100 万 ③ 大阪 ④ 蔵屋敷 ⑤ 天下の台所 ⑥ 京都 ⑦ 三都

【商業】

【問題】(2 学期中間)

幕府に公認された同業者の組織を何というか。

【解答欄】

【解答】株仲間

【解説】

都市では、問屋や仲買などの大商人が株仲間という同業者の組織をつくり、幕府の許可を得て営業を独占し、大きな力を持つようになった。

【商業】
株仲間
両替商(三井、鴻池)

東日本では金、西日本では銀がおもに流通したため、金銀を両替する両替商も増え、江戸の三井家や大阪の鴻池家のように有力なものは、大名にも貸し付けを行うなど大名の財政にも影響力を持つようになった。江戸の越後屋という呉服店は「現金かけ値なし」という薄利多売の新しい商法で大成功した。

※この単元で出題頻度が高いのは「株仲間」である。

[問題](1学期中間)

次の文章中の①～④に適語を入れよ。

都市では、問屋・仲買などの大商人が(①)という同業者の組織をつくり幕府の許可を得て、営業を独占した。貨幣は、東日本では金、西日本では銀がおもに流通したため、(②)商が金銀の交換や金貸しによって経済力を持ち、江戸の三井家や大阪の(③)家のように有力なものは、大名にも貸しつけを行うなど藩財政にもかかわった。また、江戸の(④)という呉服店は「現金かけ値なし」の新しい商法で大成功した。

[解答欄]

①	②	③	④
---	---	---	---


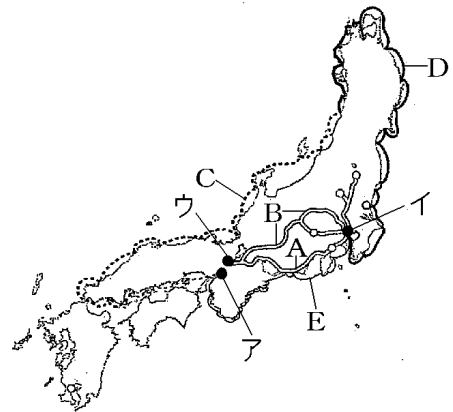
[解答]① 株仲間 ② 両替 ③ 鴻池 ④ 越後屋

[全般]

[問題](後期中間など)

次の各問いに答えよ。

- (1) 図の A と B の街道の名前を答えよ。
- (2) 図の C と D の航路の名前を答えよ。
- (3) 大阪と江戸を結ぶ E の航路で、①おもに酒を運んでいた定期船、②木綿、油、しょう油などを運んでいた定期船はそれぞれ何と呼ばれたか。
- (4) 地図中アの都市について、①都市名を答えよ。
②全国の商業や金融の中心だったことから、何と呼ばれたか。③右の資料の建物は、米や特産物を売るために、諸藩が地図中のアの都市に建てたものである。これを何というか。
- (5) 地図中イの都市について、①都市名を答えよ。②イの都市は、「将軍の()」と呼ばれた。()にあてはまる語句を書け。
- (6) 地図中のウは古代からの都で、西陣織や清水焼などの優れた工芸品もつくられ、文化の中心地としてさかえた。ウの都市名を答えよ。
- (7) 江戸時代、問屋や仲買などの大商人は何という同業者の組織をつくって営業を独占したか。



[解答欄]

(1)A	B	(2)C	D
(3)①	②	(4)①	②
③	(5)①	②	(6)
(7)			

[解答](1)A 東海道 B 中山道 (2)C 西廻り航路 D 東廻り航路 (3)① 樽廻船 ② 菱垣廻船 (4)① 大阪 ② 天下の台所 ③ 蔵屋敷 (5)① 江戸 ② おひざもと (6) 京都 (7) 株仲間

【】幕府政治の安定と元禄文化

[綱吉の政治と正徳の治]

[問題](前期期末)

儒学の中の朱子学を奨励し、生類憐みの令を出した第5代将軍は誰か。

[解答欄]

--

[解答]徳川綱吉

[解説]

第5代将軍徳川綱吉は儒学を奨励した。儒学の中では、身分秩序を重視する朱子学が広く学ばれた。綱吉は、「(綱吉に)子どもができないのは前世における殺生のためである」というある僧のすすめに従い、生類憐みの令を出し、鳥獣、とくに犬を大切にし、殺傷した者は重い刑に処した。綱吉の時代、幕府の財政は苦しくなっていた。そこで、貨幣の質を落として発行する量を増やし、幕府の収入を増やそうとした。しかし、物価の上昇を招く結果になった。

綱吉の後、18世紀初めに正徳の治を行った新井白石は貨幣の質を元にもどした。

※この単元で出題頻度が高いのは「徳川綱吉」である。「朱子学」「生類憐みの令」はときどき出題される。

【徳川綱吉】 儒学の中の朱子学 生類憐みの令 貨幣の質を落とす
--

[問題](2学期期末)

次の各問いに答えよ。

- (1) 儒学を奨励した第5代将軍は誰か。
- (2) (1)は儒学の中でも特に何という学問を重視したか。
- (3) (1)が出した極端な動物愛護令を何というか。

[解答欄]

(1)	(2)	(3)
-----	-----	-----

[解答](1) 徳川綱吉 (2) 朱子学 (3) 生類憐みの令

[問題](前期中間)

次の各問いに答えよ。

- (1) 徳川綱吉の時代、幕府の財政は苦しくなっていた。これを補うために徳川綱吉が行ったことを「貨幣」「質」「収入」という語句を使って簡潔に説明せよ。
- (2) 18世紀初めに「正徳の治」を行った人物は誰か。

[解答欄]

(1)
(2)

[解答](1) 貨幣の質を落として発行する量を増やし、幕府の収入を増やそうとした。(2) 新井白石

[元禄文化の特徴]

[問題](1 学期中間)

17世紀の終わりから18世紀の初めにかけて、京都や大阪を中心とする上方で、都市の繁栄を背景に、経済力を持った町人をにない手とする新しい文化が栄えた。この文化を何というか。

[解答欄]

--

[解答]元禄文化

[解説]

17世紀の終わりから18世紀の初めにかけて、徳川綱吉の時代に、京都や大阪を中心とする上方では、都市の繁栄を背景に、経済力を持った町人をにない手とする文化が栄えた。この文化を元禄文化という。
※この単元で特に出題頻度が高いのは「元禄文化」である。「上方で、経済力を持った町人をにない手とする文化」もよく出題される。

[元禄文化] 上方(京都・大阪) 経済力を持った町人

[問題](前期中間)

次の文中の①～③に適語を入れよ。

5代将軍(①)の時代、京都や大阪を中心とする(②)で、経済力を持った町人をにない手とする(③)文化が栄えた。

[解答欄]

①	②	③
---	---	---

[解答]① 徳川綱吉 ② 上方 ③ 元禄

[問題](後期中間)

元禄文化の特徴を「町人」「上方」という2つの語句を用いて簡潔に説明せよ。

[解答欄]

--

[解答]京都や大阪を中心とする上方で、経済力を持った町人をにない手とする文化。

[文学など]

[問題](1 学期期末)

「奥の細道」などの作品を残し、自己の内面を表現する新しい作風を生み出し、俳諧をりっぱな芸術にまで高めた人物を答えよ。

[解答欄]

--

[解答]松尾芭蕉

[解説]

各地を旅しながら俳諧(俳句)を芸術の域まで高めたのは「奥の細道」で名高い松尾芭蕉である。近松門左衛門は「曾根崎心中」など人形浄瑠璃の台本に、義理と人情の板ばさみになやむ男女の気持ちを書いた。大阪の町人井原西鶴は、「日本永代蔵」など、当時の世相や町人のくらしをありのままに浮世草子という小説にえがいた。歌舞伎では、坂田藤十郎や市川団十郎らの名優が出た。

[文学など]

松尾芭蕉: 俳諧、「奥の細道」

近松門左衛門: 人形浄瑠璃

井原西鶴: 浮世草子(小説)

※この単元で出題頻度が高いのは「俳諧の松尾芭蕉」「人形浄瑠璃の近松門左衛門」である。「浮世草子の井原西鶴」もよく出題される。

[問題](前期期末)

次の文中の①～③に適語を入れよ。

徳川綱吉の時代、上方を中心に(①)文化が栄えた。この時期には、「奥の細道」などを執筆し俳諧を大成した(②), 人形浄瑠璃の台本を書いた(③), 当時の世相や町人のくらしをありのままに浮世草子という小説にえがいた井原西鶴などが活躍した。

[解答欄]

①	②	③
---	---	---

[解答]① 元禄 ② 松尾芭蕉 ③ 近松門左衛門

[問題](2 学期期末)

元禄文化について、次の各問いに答えよ。

- (1) 人形浄瑠璃の台本に名作を残したのは誰か。
- (2) 俳諧を芸術の域にまで高めたのは誰か。
- (3) 浮世草子と呼ばれる小説で町人の生活をえがいたのは誰か。
- (4) 歌舞伎の名優として名高かった人物を2人あげよ。

[解答欄]

(1)	(2)	(3)
(4)		

[解答](1) 近松門左衛門 (2) 松尾芭蕉 (3) 井原西鶴 (4) 坂田藤十郎, 市川団十郎

[問題](前期期末)

次の①～③は元禄文化の代表的な人物である。それぞれの人物に適するものを[]からそれぞれ選べ。

- ① 松尾芭蕉 ② 井原西鶴 ③ 近松門左衛門

[人形浄瑠璃 浮世草子 俳諧]

[解答欄]

①	②	③
---	---	---

[解答]① 俳諧 ② 浮世草子 ③ 人形浄瑠璃

[浮世絵など]

[問題](2学期中間)

浮世絵の「見返り美人図」をえがいた人物名を答えよ。

[解答欄]

[解答]菱川師宣

[解説]

菱川師宣^{ひしかわものぶ}は、町人の風俗^{ふうぞく}をえがき、浮世絵^{うきよゑ}の祖となった。その代表作は「見返り美人図^{みかえびじんず}」である。装飾画^{そうしよくが}では、17世紀前半の俵屋宗達^{たわらやそうたつ}(「風神雷神図屏風^{ふうじんらいじんずびょうぶ}」)の影響を受けた尾形光琳^{おがたこうりん}が大和絵風のはなやかな装飾画を大成した。

[浮世絵など]


浮世絵 菱川師宣「見返り美人図」
装飾画 俵屋宗達, 尾形光琳

菱川師宣「見返り美人図」 俵屋宗達「風神雷神図屏風」



尾形光琳

「紙本金地著色燕子花図」



※この単元で出題頻度が高いのは「浮世絵」「菱川師宣」である。「俵屋宗達」「尾形光琳」「見返り美人」もしばしば出題される。

[問題](後期期末)

次の各問いに答えよ。

- (1) 右の絵は「()美人図」である。()に適語を入れよ。
- (2) 右のような形式の絵を何絵というか。
- (3) 右の絵の作者は誰か。



[解答欄]

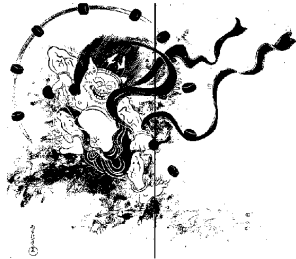
(1)	(2)	(3)
-----	-----	-----

[解答](1) 見返り (2) 浮世絵 (3) 菱川師宣

[問題](前期中間)

次の資料 A, B, C の作者名を下の[]からそれぞれ選べ。

資料 A 「見返り美人図」 資料 B 「風神雷神図屏風」



資料 C 「紙本金地著色燕子花図」



[俵屋宗達 尾形光琳 菱川師宣 宮崎友禅]

[解答欄]

資料 A :	資料 B :	資料 C :
--------	--------	--------

[解答]資料 A : 菱川師宣 資料 B : 俵屋宗達 資料 C : 尾形光琳

[全般]

[問題](2 学期期末)

次の各問いに答えよ。

- (1) 儒学の中の朱子学を奨励した第 5 代将軍は誰か。
- (2) 17 世紀の終わりから 18 世紀の初めにかけて、上方で発達した、経済力を持った町人にならぬ手とする文化を何というか。
- (3) 「閑かさや岩にしみ入る蝉の声」「夏草や兵どもが夢の跡」などをよんで、俳諧を芸術の域まで高めた人物は誰か。
- (4) 人形浄瑠璃の台本に、義理と人情の板ばさみになやむ男女の気持ちをえがいた人物は誰か。
- (5) 浮世草子と呼ばれる小説で、町人の生活をえがいた人物は誰か。
- (6) 「見返り美人図」という浮世絵の作者は誰か。

[解答欄]

(1)	(2)	(3)	(4)
(5)	(6)		

[解答](1) 徳川綱吉 (2) 元禄文化 (3) 松尾芭蕉 (4) 近松門左衛門 (5) 井原西鶴 (6) 菱川師宣

【】 総合問題

[問題](要点整理)

次の年表中の①～⑳に適語を入れよ。

年代	おもなできごと
1600年	(①)の戦い：東軍の(②)が西軍の石田三成らを破る。
1603年	(②)が(③)に任命され、江戸幕府を開く。
1604年	(②)が(④)状を発行して(④)船貿易を奨励。 東南アジアに(⑤)町。
1609年	琉球王国が(⑥)藩に攻められて服属。
1609年	(⑦)藩の仲立ちで朝鮮との国交が回復し、将軍がかわるごとに朝鮮(⑧)使が日本を訪れる。
1612年	幕領に(⑨)教禁止令。
1615年	大阪の陣で豊臣氏をほろぼす。
1615年	(⑩)：「幕府の許可なしに、婚姻を結んではならない」など大名統制。
1629年	(⑨)教徒を発見するために(⑪)を始める。
1635年	(⑫)：大名は1年おきに領地と江戸を往復。3代将軍(⑬)が制定。
1637年	(⑭)一揆：天草四郎を総大将にしたキリスト教徒らの一揆。
1639年	(⑮)船の来航を禁止。
1641年	平戸の(⑯)商館を長崎の(⑰)に移す。 (⑯)と中国(清)のみ貿易を許す。→(⑱)の完成
1669年	アイヌ民族が、首長の(⑲)を指導者として、(⑳)藩と戦う。

[解答欄]

①	②	③	④
⑤	⑥	⑦	⑧
⑨	⑩	⑪	⑫
⑬	⑭	⑮	⑯
⑰	⑱	⑲	⑳

[解答]① 関ヶ原 ② 徳川家康 ③ 征夷大將軍 ④ 朱印 ⑤ 日本 ⑥ 薩摩 ⑦ 対馬
⑧ 通信 ⑨ キリスト ⑩ 武家諸法度 ⑪ 絵踏 ⑫ 参勤交代 ⑬ 徳川家光 ⑭ 島原・天
草 ⑮ ポルトガル ⑯ オランダ ⑰ 出島 ⑱ 鎖国 ⑲ シャクシャイン ⑳ 松前

[問題](要点整理)

次の表中の①～⑮に適語を入れよ。

江戸幕府の組織	(①)(将軍の下で政治の運営にあたる) 町奉行・(②)奉行・寺社奉行 (③)(朝廷と西日本の大名の統制)
大名統制など	関ヶ原の戦い以降にしたがった(④)大名は江戸から(⑤)い所に、 (⑥)(徳川家の親戚)や(⑦)大名を重要な所に配置。 武家諸法度・参勤交代 (⑧)法度(天皇や公家を統制)
身分制度	武士の特権:(⑨) 人口の85%は(⑩):土地を持つ(⑪)と、持たない(⑫) 村役人:庄屋・組頭・(⑬) (⑭):犯罪防止と(⑮)の納入に連帯責任を負わせる。

[解答欄]

①	②	③	④
⑤	⑥	⑦	⑧
⑨	⑩	⑪	⑫
⑬	⑭	⑮	

[解答]① 老中 ② 勘定 ③ 京都所司代 ④ 外様 ⑤ 遠 ⑥ 親藩 ⑦ 譜代 ⑧ 禁中並公家諸 ⑨ 名字・帯刀 ⑩ 百姓 ⑪ 本百姓 ⑫ 水のみ百姓 ⑬ 百姓代 ⑭ 五人組 ⑮ 年貢

[問題](要点整理)

次の表中の①～⑳に適語を入れよ。

産業	農業：(①)(深く耕すことを可能にした), (②)(脱穀を効率化), 唐箕 (③)開発によって, 耕地面積は豊臣秀吉のころの約2倍 漁業：九十九里浜でいわし→(④)という肥料に加工 鉱業：(⑤)金山など
交通 都市	五街道：(⑥)道, 中山道など 航路：東廻り航路, (⑦)航路(東北→瀬戸内海→大阪)など 大阪と江戸間は, 菱垣廻船と(⑧)廻船 大阪は(⑨)と呼ばれ, (⑩)屋敷が置かれた。 (⑪)は「将軍のおひざもと」と呼ばれた。 (⑫)：大商人の同業者組織。
文化	5代将軍(⑬)：儒学の中でも朱子学を奨励, 生類憐れみの令 (⑭)文化：上方中心の, 経済力を持った町人をにない手とする文化。 俳諧：(⑮)の「奥の細道」 人形浄瑠璃の台本：(⑯) 浮世草子：(⑰) (⑱)絵：(⑲)の「見返り美人図」 装飾画：(⑳)の「風神雷神図屏風」, 尾形光琳

[解答欄]

①	②	③	④
⑤	⑥	⑦	⑧
⑨	⑩	⑪	⑫
⑬	⑭	⑮	⑯
⑰	⑱	⑲	⑳

[解答]① 備中ぐわ ② 千歯こき ③ 新田 ④ 干鰯 ⑤ 佐渡 ⑥ 東海 ⑦ 西廻り ⑧ 樽 ⑨ 天下の台所 ⑩ 蔵 ⑪ 江戸 ⑫ 株仲間 ⑬ 徳川綱吉 ⑭ 元禄 ⑮ 松尾芭蕉 ⑯ 近松門左衛門 ⑰ 井原西鶴 ⑱ 浮世 ⑲ 菱川師宣 ⑳ 俵屋宗達

[問題](1 学期期末など)

次の年表について、後の各問いに答えよ。

年代	おもなできごと
1600 年	徳川家康が()の戦いで石田三成らを破る。…A
1603 年	徳川家康が()に任命され、江戸幕府が成立する。…B
1604 年	徳川家康が渡航許可証を出して海外貿易を奨励。…C
1609 年	琉球王国が()藩に攻められて服属。…D
1609 年	朝鮮との国交が回復する。…E
1612 年	幕領にキリスト教禁止令を出す。
1615 年	大阪の陣で、豊臣氏が滅びる。
1624 年	スペイン船の来航を禁止する。
1635 年	日本人の海外渡航を禁止する。
1637 年	九州地方でキリスト教徒の一揆が起きる。…F
1639 年	()船の来航を禁止する。…G
1641 年	平戸の()商館を長崎に移す。…H

- (1) A の()内に適語を入れよ。
- (2) B の()内に適語を入れよ。
- (3) C に関し、①この渡航許可証を何というか。②この貿易を何というか。③この貿易にともない、多くの日本人が東南アジア各地に移住し、日本人が住む町がつくられたが、この町を何というか。
- (4) D の()内に適語を入れよ。
- (5) E について、国交回復の仲立ちをした藩はどこか。①藩の名前を答えよ。②その藩の位置を右図のア～キから選べ。③将軍の代わりごとに朝鮮から祝賀の使節が派遣される慣例になったが、この使節を何というか。
- (6) 蝦夷地では、ある藩がアイヌとの交易を独占し大きな利益を得ていたが、17 世紀後半、これに不満をいだいたアイヌの人々が戦いを起こした。①「ある藩」の名前を答えよ。②①の藩の位置を右図のア～キから選べ。③戦いを起こしたときのアイヌの指導者の名前を答えよ。
- (7) F について、①この一揆を何というか。②この一揆軍の大將は少年であった。その名前を書け。
- (8) F の前から長崎では、毎年、正月の行事として、右図のようなキリストの像などを踏ませる行事が行われた。①この行事を何というか。②その目的は何か。
- (9) G の()内に適語を入れよ。



(10)H について、①()に適する国名を書け。②長崎の何という人工島に移したか。③これによって完成した幕府による禁教，貿易統制，外交独占の体制を何というか。④ ③が完成した後も，貿易をすることが許された国は①のほかは何という国があるか。

【解答欄】

(1)	(2)	(3)①	②
③	(4)	(5)①	②
③	(6)①	②	③
(7)①	②	(8)①	
②			(9)
(10)①	②	③	④

【解答】(1) 関ヶ原 (2) 征夷大將軍 (3)① 朱印状 ② 朱印船貿易 ③ 日本町 (4) 薩摩 (5)① 対馬藩 ② オ ③ 朝鮮通信使 (6)① 松前藩 ② ア ③ シャクシャイン (7)① 島原・天草一揆 ② 天草四郎 (8)① 絵踏 ② キリスト教徒を発見するため。 (9) ポルトガル (10)① オランダ ② 出島 ③ 鎖国 ④ 中国(清)

【問題】(前期中間など)

次の各問いに答えよ。

(1) 江戸幕府における，次の①～③の役職は何か。

- ① 将軍のもとにあつて幕政を統括した。
- ② 幕府の財政や幕府の領地の監督を行った。
- ③ 朝廷と西日本の大名の統制を行った。

(2) 次の大名をそれぞれ何というか。

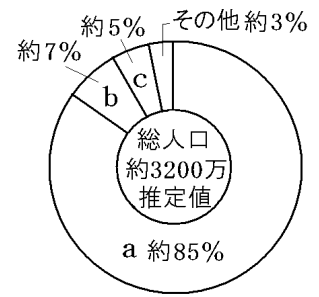
- ① 徳川氏一門の大名。
- ② 古くからの徳川氏の家臣である大名。
- ③ 関ヶ原の戦い以後に徳川氏に従った大名。

(3) (2)の③の大名はどのようなところに配置されたか。「江戸」という語句を使って説明せよ。

(4) 次は幕府が大名に対して出した法律の一部である。①この法律を何というか。②この法律の中に定められている下線部のきまりを何というか。③②のきまりを定めた将軍は誰か。

- 一 大名は、毎年四月中に江戸に参勤すること。
- 一 幕府の許可なしに，婚姻を結んではならない。

(5) 右図の a は(①)で、土地を持つ(②)と土地を持たない(③)の区別があった。武士は右図の b, c のうちの(④)で、名字・(⑤)などの特権があった。①～⑤に適語を入れよ。



(6) 年貢の納入や犯罪の防止などについて百姓に連帯責任を負わせた制度は何か。

【解答欄】

(1)①	②	③	(2)①
②	③	(3)	
(4)①	②	③	(5)①
②	③	④	⑤
(6)			

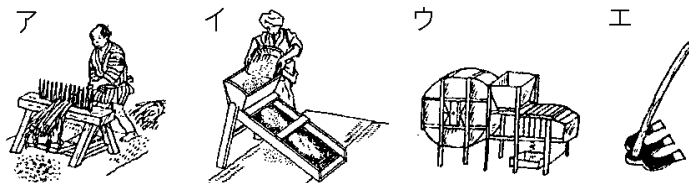
【解答】(1)① 老中 ② 勘定奉行 ③ 京都所司代 (2)① 親藩 ② 譜代大名 ③ 外様大名
 (3) 江戸から遠いところに配置された。(4)① 武家諸法度 ② 参勤交代 ③ 徳川家光
 (5)① 百姓 ② 本百姓 ③ 水のみ百姓 ④ b ⑤ 帯刀 (6) 五人組

【問題】(後期期末)

次の各問いに答えよ。

(1) 江戸時代に普及した次の農具の名前を答えよ。また、図のア～エから選べ。

- ① 田や畑を深く耕すことを可能にした農具。
- ② 稲穂からもみをしごいてとる脱穀のための農具。



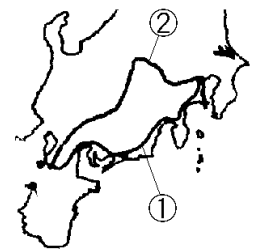
(2) 右の①, ②の街道の名前を答えよ。

(3) 東北や北陸の米などを、瀬戸内海を通過して大阪まで運ぶ海上輸送路を何というか。

(4) 全国の商業や金融の中心地である大阪は、①何と呼ばれたか。

②諸藩が米や特産物を売りさばくために置いた屋敷は何か。

(5) 「将軍のおひざもと」と呼ばれ、政治の中心地であった都市はどこか。



- (6) 問屋・仲買などの大商人が同業者の組織をつくり、幕府の許可を得て、営業を独占した。その組織を何というか。
- (7) ①1685年に出された極端な動物愛護令の名前と、②この命令を出した将軍の名前を書け。③また、②の将軍がとくに奨励した学問は、儒学のうちの何という学派か。
- (8) 俳諧で、自己の内面を表現する新しい作風を生み出した人物は誰か。
- (9) 義理と人情に生きる男女の悲劇を人形浄瑠璃の台本にえがいた人物は誰か。
- (10) 右の絵は「(①)美人図」で、作者は(②)である。右のような形式の絵を(③)絵という。①～③に適語を入れよ。



[解答欄]

(1)①	②	(2)①
②	(3)	(4)①
(5)	(6)	(7)①
③	(8)	(9)
②	③	(10)①

[解答](1)① 備中ぐわ, エ ② 千歯こき, ア (2)① 東海道 ② 中山道 (3) 西廻り航路
 (4)① 天下の台所 ② 蔵屋敷 (5) 江戸 (6) 株仲間 (7)① 生類憐みの令 ② 徳川綱吉
 ③ 朱子学 (8) 松尾芭蕉 (9) 近松門左衛門 (10)① 見返り ② 菱川師宣 ③ 浮世

[印刷／他の PDF ファイルについて]

※このファイルは、FdData 中間期末社会歴史(7,800 円)の一部を PDF 形式に変換したサンプルで、印刷はできないようになっています。製品版の FdData 中間期末社会歴史は Word の文書ファイルで、印刷・編集を自由に行うことができます。

※FdData 中間期末(社会・理科・数学)全分野の PDF ファイル，および製品版の購入方法は <http://www.fdttext.com/dat/> に掲載しております。

【Fd 教材開発】(092) 404-2266

Mail : info2@fdtext.com