

【】享保の改革

[問題](3 学期)

徳川吉宗の享保の改革について、文中の()に[]から適語を選べ。

吉宗は()の制を定め、大名の参勤交代を一時的にゆるめるかわりに、幕府に米を献上させた。また、民衆の意見や希望を政治に生かすため、市中に()を設置した。新田の開発を奨励したが、年貢の率を()にまで引き上げたため、農民たちが年貢引き下げを要求する()がおこり、都市でも商人に対する()がおこった。

この改革では、武士に()をすすめるとともに、公正な裁判を行うために()を定めるなど、政治体制の引き締めを行ったが、根本的な解決にはならなかった。

[百姓一揆 質素儉約 上げ米 目安箱 五公五民 四公六民 打ちこわし

武家諸法度 公事方御定書 商品作物]

[解答欄]

[解答] 上げ米 目安箱 五公五民 百姓一揆 打ちこわし 質素儉約 公事方御定書

[解説]

1716年、徳川吉宗が八代将軍になったとき、幕府は、旗本・御家人に支給する米にも不足していた。そこで、徳川吉宗は享保の改革とよばれる次のような改革を実施した。(美男ヒーロー(1716)吉宗公)

- ・武士に質素・儉約をすすめた。
- ・上げ米の制を定め、参勤交代の負担を軽くすることを条件に、1万石について百石の米を各大名に出させた。
- ・新田開発をすすめた。
- ・豊作・不作にかかわらず年貢の率を一定にし、年貢の率を五公五民に引き上げた。

このような改革によって、幕府の収入は増加し、財政はいったん立ち直った。

さらに、公事方御定書という法令集をつくらせて裁判の基準とした。民衆の意見を直接聞くために目安箱を設けた。なお、吉宗の時代に江戸で初めての打ちこわしがおこった。

享保の改革：徳川吉宗

・財政再建：新田開発，上げ米，年貢の定率化

・公事方御定書，目安箱

[問題](2 学期中間)

次の各問いに答えよ。

- (1) 18世紀初め、八代将軍になった()は新田開発を進め、年貢の率を引き上げるなどして、財政の立て直しをはかった。()にあてはまる人物の名を書け。
- (2) (1)の人物が行った政治改革を何というか。
- (3) (1)の人物が裁判の基準を示すためにつくった法令集を何というか。
- (4) (1)の人物が人々の意見を聞くために設けた投書箱を何というか。
- (5) 都市で、貧しい人々が米商人などをおそったできごとを何というか。

[解答欄]

(1)	(2)	(3)	(4)
(5)			

[解答](1) 徳川吉宗 (2) 享保の改革 (3) 公事方御定書 (4) 目安箱 (5) 打ちこわし

[問題](2 学期期末)

享保の改革について、次の各問いに答えよ。

- (1) 民衆の意見を直接聞くための投書箱を何というか。
- (2) 裁判の基準をまとめた法律は何か。
- (3) 幕府の収入をふやすため、一時的に大名にさし出させたものは何か。

[解答欄]

(1)	(2)	(3)
-----	-----	-----

[解答](1) 目安箱 (2) 公事方御定書 (3) 米

[問題](増補 11)(1 学期中間)

享保の改革における上げ米の制とはどのような制度であったか、説明しなさい。

[解答欄]

--

[解答]参勤交代を一時ゆるめるかわりに、幕府に米を献上させる制度。

[問題](2 学期中間)

公事方御定書とはどのようなものか，簡単に説明しなさい。

[解答欄]

[解答]裁判の基準となる法令集

[問題](増補 11)(1 学期中間)

享保の改革について，あてはまらないものを 1 つ選び，記号で答えよ。

- ア 新田開発を進め，年貢の率を引き上げた。
- イ 昌平坂学問所をつくり，朱子学を学ばせた。
- ウ 公事方御定書をまとめ，裁判のよりどころとした。
- エ 上げ米の制を定め，大名に米を出させた。

[解答欄]

[解答]イ

[解説]

昌平坂学問所がつくられたのは，寛政の改革のころである。

【】農村の変化・百姓一揆と打ちこわし

[問題](3 学期)

次の文は、18 世紀ころの農村の変化を説明したものである。()に最も適する語句を、下の語群からそれぞれ選べ。

()経済の広がり、農村では、自給自足に近かった経済がくずれ始めた。農民は農具や肥料を購入し、加工業の原料になるものを栽培し始めた。こうして、手工業は各地の農村に広がっていった。最初は、商人が道具や材料を農家に貸し出して製品にする()であったが、のちにたくさんの労働者が分業によって製品をつくる()に変わっていった。

()経済に巻き込まれた農村では、()の差が大きくなり、貧しい農民の土地を手に入れて()となる者と、土地を失って()になる者があらわれた。このような中でも村の団結は強くなり、年貢の軽減や不正な代官の交代などを要求する()が起こるようになった。

(語群)[問屋制家内工業 工場制手工業 百姓一揆 小作人 貨幣 貧富 地主]

[解答欄]

[解答] 貨幣 問屋制家内工業 工場制手工業 貧富 地主 小作人
百姓一揆

[解説]

18 世紀になると、木綿の原料となる綿、油の原料となる菜種、染料となるあいや紅花などの商品作物の栽培がさかんになった。これらの商品作物の栽培には干鰯などの肥料を購入すること

18世紀, 商品作物の栽培(綿, 菜種, あい, 紅花)
自給自足経済→貨幣経済が農村へ浸透
→貧富の差が拡大(地主と小作人)
問屋制家内工業→工場制手工業

が必要であったので、それまでの自給自足経済がくずれ貨幣経済が農村にも浸透した。成功して他の農民の土地を手に入れて地主となる者がいるいっぽうで、土地を手放して小作人となる農民も多くなり、貧富の差が大きくなった。また、このころ、手工業が各地の農村に広がっていった。最初は、商人が織機や材料を農家に貸し出し製品にする問屋制家内工業であったが、のちにたくさんの労働者が分業によって製品をつくる工場制手工業に変わっていった。

[問題](2 学期期末)

次の各問いに答えよ。

- (1) 加工業の発達で各地に普及した商品作物のうちで、染料の原料となるものを 2 つ答えよ。
- (2) 貨幣経済の広がりによっておこった農村の変化を「小作人」「貧富の差」の 2 語を使って説明せよ。

[解答欄]

(1)	(2)
-----	-----

[解答](1) 紅花, あい (2) 貧富の差が大きくなり, 土地を手放して小作人になる者が増えた。

[問題](2 学期期末)

次の各問いに答えよ。

- (1) 材料や道具を農民に貸し, 製品を買い取ることを, 何工業というか。
- (2) 工場に働き手を集め, 製品を分業して仕上げる生産方法を何というか。

[解答欄]

(1)	(2)
-----	-----

[解答](1) 問屋制家内工業 (2) 工場制手工業

[問題](3 学期)

江戸時代の農業や農村としてあてはまらないものを, 次のア~エから 1 つ選び, 記号を書け。

- ア 新田が開発され, 耕地面積が増加した。
- イ 綿・菜種などの商品作物が栽培された。
- ウ 備中ぐわで, より深く耕せるようになった。
- エ 貨幣経済が広がり, 貧富の差が小さくなった。

[解答欄]

--

[解答]エ

[解説]

エが誤り。貨幣経済が広がることで自給自足経済がくずれ, 貧富の差が大きくなった。

[問題](増補 11)(前期期末)

次の文を読んで、各問いに答えなさい。

幕府や諸藩のきびしい()の取り立てや商品作物の安い買い上げなどで生活が苦しくなった百姓のなかには、地主や商人からの借金が返せずに土地を手ばなして()人となるものも少なくなかった。また、江戸や大阪に出かせぎに出る者も増えた。そのため農村では、荒れた田畑がめだつようになり、日照り、長雨、虫の害なども重なって、()が続いて発生するようになった。生活が苦しくなると、A くわや竹やりで武装して、自分たちの要求を通そうとする動きが活発になり、江戸や大阪でも、B 都市の貧しい人々が米の売りおしみをする商人などをおそうことが多くなった。

- (1) 文中の ~ にあてはまる語句を答えなさい。
 (2) A, B のできごとをそれぞれ何といいますか。

[解答欄]

(1)			(2)A
B			

[解答](1) 年貢 小作 ききん (2)A 百姓一揆 B 打ちこわし

[解説]

貧しい小作人が増えると、日照り・長雨・いなどの害などによって不作になると、大勢の人が飢え死にするききんがおこりやすくなった。

とくに、1783年の浅間山の噴火によって火山灰が降りつもり、関東から東北地方にかけて深刻

なききんに見舞われた(天明のききん)。こうしたなかで、農村では年貢の軽減や不正な代官の交代などを要求する百姓一揆がおこった。右図は、一揆の参加者が円形に署名した傘連判状である。円形に署名しているのは、誰が指導者であるかわからないようにするためである。

江戸や大阪などの都市では、貧しい人々が、米の値段をつり上げる大商人をおそう打ちこわしを行った。

貧しい小作人の増加
 →ききん が起こりやすくなる
 (天明のききん, 天保のききん)
 ↓
 農村では、年貢の軽減を求めて 百姓一揆
 都市では、打ちこわし (傘連判状)

(傘連判状)



[問題](2 学期中間)

次の各問いに答えよ。

- (1) 18 世紀になると、団結した農民が、領主に年貢の軽減や不正な代官の交代などを要求するようになった。これを何というか。
- (2) 都市の貧しい人々が団結して、米の買い占めをした商人に対しておこした暴動を何というか。
- (3) 前問(1)や(2)は、どのようなできごとのころに最も多くおこっているか。

[解答欄]

(1)	(2)	(3)
-----	-----	-----

[解答](1) 百姓一揆 (2) 打ちこわし (3) ききん

[問題](1 学期中間)

百姓一揆の目的を簡単に書きなさい。

[解答欄]

[解答]年貢の軽減や不正な代官の交代などを要求するため。

[問題](1 学期中間)

百姓一揆の原因と幕府の対策について述べた次のア～エから、適するものを1つ選べ。

- ア ききんが起こると百姓一揆がふえ、幕府は政治の改革を行った。
- イ 幕府の改革に反発して百姓一揆がふえ、幕府はききんを見過ごした。
- ウ 北方探検の費用負担から百姓一揆がふえ、幕府は政治の改革を行った。
- エ ききんが起こると百姓一揆がふえ、幕府は北方探検で百姓の目をそらせた。

[解答欄]

[解答]ア

[問題](増補 11)(2 学期中間)

右の資料は、百姓一揆のとき、参加した人が署名したものです。これを何とよびますか。

[解答欄]

[解答]傘連判



[問題](増補 11)(前期期末)

右の資料は、百姓一揆の参加者が訴え状などに署名した「傘連判」です。円形に署名した理由を説明しなさい。



[解答欄]

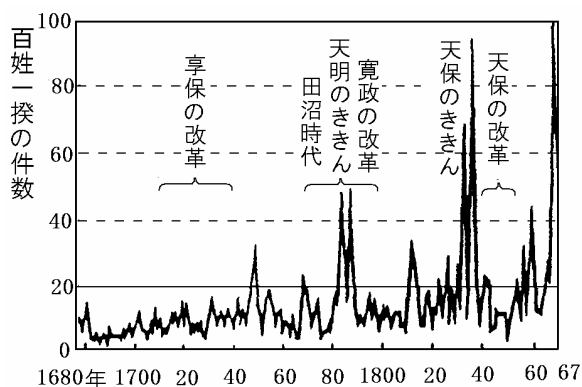
[解答]誰が指導者であるかがわからないようにするため。

[問題](2 学期期末)

下の各問いに答えよ。

- (1) 右のグラフをみて、次の文の()にあてはまる語句を答えよ。

百姓一揆の件数が、最初に年間 30 件をこえたのは、()の改革のあとである。また、()のききんのときには、年間 40 件をこえ、()のききんのときは 60



件以上に達した。百姓一揆は、村々の農民がこぞって城下などにおしかけ、集団の力を示しながら、()の軽減や不正な代官の交代などを要求するようになった。

- (2) 江戸や大阪などの都市では、貧しい人々が、米の値段をつり上げる大商人をおそった。こうした行動を何というか。

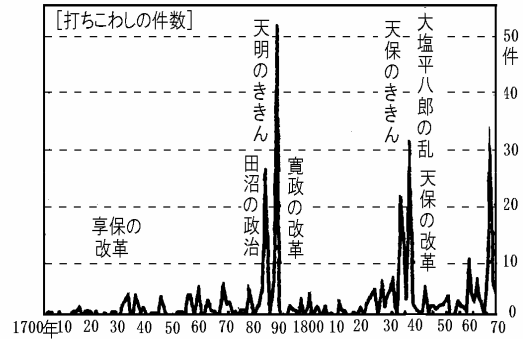
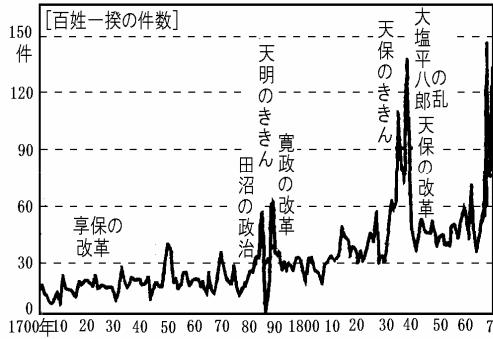
[解答欄]

(1)			
(2)			

[解答](1) 享保 天明 天保 年貢 (2) 打ちこわし

[問題](2 学期中間)

下のグラフについて説明した次の文の()にあてはまる語句や人名を書け。()は資料中の語句で書くこと。)



百姓一揆は、()のときにとくに多い。また、打ちこわしが最も多くおこったのは、()が失脚し、かわって()が老中になったころである。

[解答欄]

--	--	--

[解答] 天保のききん 田沼意次 松平定信

【】田沼の政治

[問題](1 学期中間)

次の文の()の中に適語を入れよ。

18 世紀後半になると幕府の財政はいきづまった。1772 年に老中になった()は商人の経済力を利用して財政を立て直す政策をとった。すなわち、商工業者が同業者どうしてつくれた()に営業を独占させ、そのかわりに税を納めさせた。また、現在の千葉県の()の干拓、蝦夷地の開発、長崎貿易の振興をすすめた。しかし、一部の商人と結びついたので()が横行して政治が乱れた。1783 年、()のききんがおこり、農村では百姓一揆が、都市では打ちこわしがおこり、田沼は老中をやめさせられた。

[解答欄]

[解答] 田沼意次 株仲間 印旛沼 わいろ 天明

[解説]

18 世紀後半になると幕府の財政はいきづまりの状態になった。1772 年に老中になった田沼意次は商人の経済力を利用することによって幕府の財政を立て直す政策をとった。(非難何(1772)するものぞと田沼さん) すなわち、商工業者が株

1772年 田沼意次 が老中になる
・新田開発(印旛沼), 長崎貿易, 蝦夷地の開発
・株仲間 を奨励, わいろ が横行
↓
天明のききん で百姓一揆と打ちこわし
老中を罷免される

仲間を結ぶことを奨励して、これに特権を与えるかわりに税を取り立てた。(株仲間を結んだ商人は営業を独占することで大きな利益をあげることができた) 町人に出資させて印旛沼(千葉県)などの干拓を行い、新田を増やそうとした。長崎貿易で金銀を輸入するため、銅や海産物の輸出を奨励した。蝦夷地の開発をこころみた。しかし、一部の商人と結びつき、わいろが横行して政治が乱れた。

1783 年、天明のききんがおこり、農村では百姓一揆が、都市では打ちこわしがおこり、田沼は老中をやめさせられた。

[問題](2 学期中間)

株仲間を結ぶことは、商工業者にとってどのような有利な点があったか。

[解答欄]

--

[解答] 営業を独占することで大きな利益をあげることができること。

[問題](増補 11)(1 学期中間)

次の文は田沼意次の政策をまとめたものである。()にあてはまる語句を下の[]から選べ。

()を発展させることによって、()から()を取り、幕府の収入を増やし、財政を安定させようとした。

[商人 農民 商業 農業 年貢 税]

[解答欄]

--	--	--

[解答] 商業 商人 税

[問題](2 学期期末)

田沼意次が干拓を行った千葉県の沼を答えよ。

[解答欄]

--

[解答] 印旛沼

[問題](2 学期期末)

老中の田沼意次がおこなった政治とその影響を述べた下のア～エの文で誤って説明しているものを 1 つ選べ。

ア 商人の経済力を利用することによって幕府の財政を立て直す政策をとった。

イ 商人達の株仲間を公認したり、流通の独占を認めたりした。

ウ わいるなどの不正が社会に広まっていった。

エ 株仲間の解散を命じた。

[解答欄]

--

[解答] エ

【】寛政の改革

[問題](1 学期中間)

次の文の()の中に適語を入れよ。

1783 年、()のききんがおこり、農村では百姓一揆が、都市では打ちこわしがおこり、田沼意次は老中をやめさせられた。田沼のあとに老中になった()は()の改革をはじめた。農民の都市へのおかせぎを禁止したり、凶作やききんに備えるため、農村に倉を設けて米を蓄えさせたり、旗本や御家人の生活難を救うため、金融業を営んでいた札差からの借金を帳消しにしたりした。しかし、この改革は十分な効果をあげることができず、きびしい統制や儉約の強要は民衆の反発をうんだ。

[解答欄]

--	--	--

[解答] 天明 松平定信 寛政

[解説]

田沼意次たぬまおきつぐにかわって 1787 年に老中ろうじゅうになったのは白河藩の藩主であった松平定信まつだいらさだのぶである。(非難はな(1787)いかと定信さん) 松平定信はつぎのような寛政かんせいの改革を行った。

1787年 松平定信の寛政の改革

- ・農民を農村へ帰す。困米
- ・旗本御家人の借金を帳消しにした
- ・朱子学以外の学問の禁止

農民の都市へのおかせぎを禁止し、江戸などに出てきていた農民を農村に帰した。凶作きょうさくやききんに備えるため、農村に倉を設けて米を蓄えさせた(困米)。旗本はたもとや御家人ごけにんの生活難を救うため、金融業を営んでいた札差ふださしからの借金を帳消しにした。昌平しょう平坂学問所では、朱子学しゅしきがくを公認の学問として他の学問を禁止した。出版物の内容まできびしい統制をくわえた。しかし、この改革は十分な効果をあげることができず、きびしい統制けんやくや儉約の強要は民衆の反発をうんだ。

[問題](2 学期中間)

次の各問いに答えよ。

- (1) 寛政の改革を行った人物はだれか。漢字で書け。
- (2) (1)の政治にあてはまるものを、次のア～エから 1 つ選べ。
 - ア 極端な動物愛護令をだした。
 - イ 豊作・不作にかかわらず年貢の率を一定にした。
 - ウ 長崎貿易を制限した。
 - エ 旗本・御家人の商人からの借金を帳消しにした。

[解答欄]

(1)	(2)
-----	-----

[解答](1) 松平定信 (2) エ

[問題](2 学期期末)

老中の松平定信がおこなった政治の改革を述べた下のア～エの文で誤って説明しているものを1つ選べ。

- ア 江戸・大阪周辺の土地を幕府領にしようとした。
- イ ききんに備えて各地に倉をつくり、米を貯蔵させた。
- ウ 武士に貸している借金を帳消しにするよう商人たちに命じた。
- エ 都市に出ている農民を村に帰らせた。

[解答欄]

[解答]ア

[解説]

アが誤り。江戸・大阪周辺の土地を幕府領にしようとしたのは天保の改革を行ったみずのたかくに水野忠邦である。

[問題](1 学期中間)

松平定信の幕府での役職は何か。

[解答欄]

[解答]老中

[問題](2 学期中間)

寛政の改革で農村に米をたくわえさせたのは、浅間山の噴火を原因とするききんが起こったためである。このききんの名を答えなさい。

[解答欄]

[解答]天明のききん

[問題](2 学期中間)

次の資料を見て各問いに答えなさい。

[資料] a 白河の清きに魚のすみかねてもとの b 濁りの c 田沼恋しき

- (1) 資料は、何の改革について風刺していますか。
- (2) 下線部 a, c は、それぞれだれのことをさしていますか。次から選んで書きなさい。
[松平定信 田沼意次 徳川吉宗]
- (3) 下線部 b は、何がさかに行われていたことをさしていますか。
- (4) 資料は、短歌の形を借りて、世相を風刺したものです。このようなものを何といいますか。

[解答欄]

(1)	(2)a	c	(3)
(4)			

[解答](1) 寛政の改革 (2)a 松平定信 c 田沼意次 (3) わいろ (4) 狂歌

[解説]

a 「白河」は白河藩の藩主であった松平定信のことをさし、c 「田沼」は田沼意次のことをさしている。また、「濁り」とはわいろで政治が濁っていたことをさしている。松平定信の寛政の改革があまりにも厳しすぎて、むしろ田沼時代のほうがまだ良かったと皮肉っている。政治や世相を風刺したもので、資料のように五七五・七七の短歌形式になっているものを狂歌といい、「役人の子はにぎにぎをよく覚え」などのように五七五の俳句の形式になっているものを川柳という。

[問題](2 学期期末)

次の文を読んで、あとの各問いに答えなさい。

18 世紀後半、幕府の財政を立て直そうと商工業者に(a)を結ぶことをすすめた人物は(b)である。また、この人物にかわって老中となった松平定信は(c)の改革を行った。

- (1) a は、幕府から特権を認めてもらうかわりに税を払って営業を独占した。a にあてはまる組織の名称を書きなさい。
- (2) b にあてはまる人物の名を書きなさい。
- (3) c にあてはまる語句を書きなさい。
- (4) c の改革について述べたものを、次から選びなさい。
ア 印旛沼などの干拓を行い、新田の開発に力を入れた。
イ 長崎貿易を奨励し、新しい輸出の開発を進めた。
ウ ききんなどに備え、農村に倉を設けて米をたくわえさせた。

[解答欄]

(1)	(2)	(3)	(4)
-----	-----	-----	-----

[解答](1) 株仲間 (2) 田沼意次 (3) 寛政 (4) ウ

【】外国船打払令

[問題](1 学期中間)

文中の()に適語を入れよ。

18 世紀末頃から日本の沿岸にロシア、イギリス、アメリカの船が現れるようになったが、幕府は 1825 年に()令を出した。()学を通じて世界の動きに目を向けていた()や渡辺華山は()令の無謀さを説き、幕府を批判し、処罰された。しかし、1840 年に起こった()戦争で清がイギリスに敗れたことが伝わると、老中()は()令を緩和した。

[解答欄]

[解答] 外国船打払(異国船打払) 蘭 高野長英 アヘン 水野忠邦

[解説]

18 世紀末頃から日本の沿岸にロシア、イギリス、アメリカの船が現れるようになった。

1792 年、ロシアのラクスマンが、漂流民の大黒屋光太夫を連れて根室に来航し通商を求めたが、幕府はこれを断わった。ロシアの接近を警戒した幕府は、間宮林蔵らに命じて、蝦夷地や樺太を探検させた。

1792年 ロシア人のラクスマンが
漂流民(大黒屋光太夫)を連れて根室に来航
1808年 間宮林蔵が樺太を探検
1808年 イギリス船のフェートン号が長崎に侵入する。
↓
1825年 **外国船打払令**
→ 蘭学者の**高野長英**や 渡辺華山が批判→蛮社の獄
↓
1840年 **アヘン戦争**で清が敗れる
→ 外国船打払令を緩和(水野忠邦)

さらに、1808 年には、イギリスの軍艦フェートン号が当時敵国であったオランダ船を追って長崎に侵入する事件が起こった。その後もイギリス船やアメリカ船が日本近海に出没し、薪水・食料などを強要することが多くなった。

これに対処するため、幕府は 1825 年に外国船打払令(異国船打払令)を出した。(いやに剛気(1825)な打ち払い) 蘭学を通じて世界の動きに目を向けていた高野長英や渡辺華山は外国船打払令の無謀さを説き、幕府を批判し、処罰された。(蛮社の獄)

しかし、1840 年に起こったアヘン戦争で清がイギリスに敗れ、南京条約という不平等条約を結んだことが伝わると、水野忠邦は外国船打払令(異国船打払令)を緩和した。

[問題](増補 11)(後期中間)

ラクスマンについて、正しく述べた文章を次の中から選べ。

- ア オランダ船を追いかけ、日本にやってきて、食糧や水などを奪っていった。
- イ アメリカが日本に進出していることを将軍に知らせ、注意をしにやってきた。
- ウ 日本人の漂流民を助けて日本にやってきたが、幕府に大砲で撃退されてしまった。
- エ 日本人の漂流民を助けて、その人を届ける名目で通商を求めに来たが、断られた。

[解答欄]

[解答]エ

[問題](増補 11)(2 学期中間)

1808 年に間宮林蔵が樺太を探検したが、その背景には、この時期にある国の船が日本近海にひんぱんに姿を現したり、通商を求めてきたりしたことがある。この国とはどこですか。

[解答欄]

[解答]ロシア

[問題](増補 11)(2 学期中間)

幕府の命令で蝦夷地や樺太を探検して、樺太が島であることを証明し、海峡に名前を残した人物は誰か。

[解答欄]

[解答]間宮林蔵

[問題](2 学期中間)

18 世紀後半から日本近海に外国船が来航するようになる。これについて次の各問いに答えなさい。

- (1) 右図の人物は、1792 年に 10 年ぶりに帰国した大黒屋光太夫である。この人物を連れてきたラクスマンとはどこの国の人ですか。
- (2) 18 世紀半ば頃から 19 世紀にかけて日本近海に出没した外国船はどこの国の船であったか。(1)以外で 2 か国答えなさい。(清とオランダを除く)



- (3) 幕府は(2)に対して 1825 年にある命令を出した。何という命令か答えなさい。
 (4) (3)の命令を批判した人物を次から 2 人選んで答えなさい。

[間宮林蔵 近藤重蔵 渡辺華山 大黒屋光太夫 高野長英]

[解答欄]

(1)	(2)	(3)
(4)		

[解答](1) ロシア (2) イギリス, アメリカ (3) 外国船打払令(異国船打払令) (4) 渡辺華山, 高野長英

[問題](増補 11)(後期中間)

次の文の ~ に適語を入れよ。

1792 年 ()人のラクスマンが北海道の根室に来航する。

1808 年 イギリス船の()号が長崎に侵入する。

1825 年 幕府が()という命令を出し, 外国船に対する態度を変えた。

1837 年 ()の命令によりアメリカ船を打ち払ってしまい, 一部の学者が幕府を批判。

[解答欄]

--	--	--

[解答] ロシア フェートン 外国船打払令(異国船打払令)

[問題](2 学期中間)

次の各問いに答えよ。

(1) 寛政の改革のころ, ロシアの使節が 1792 年に根室に来て通商を求めたが, その人物名を答えよ。

(2) 外国船が日本にしばしば接近したために, 1825 年に幕府が出した法令は何か。

(3) (2)の法令を批判する書物を書いたため, 幕府に処罰された人物を, 次より 2 人選べ。

[高野長英 大塩平八郎 間宮林蔵 渡辺華山]

[解答欄]

(1)	(2)	(3)
-----	-----	-----

[解答](1) ラクスマン (2) 外国船打払令(異国船打払令) (3) 高野長英, 渡辺華山

[問題](1 学期中間)

次の資料を読んで各問いに答えよ。

(資料 1)

西洋の国は、わが国で禁じられている(ア)教の国だから、今後どこの港においても、外国船が近づくのを見かけたら、その場にいる人夫たちで有無をいわず、一途に打ち払い、……もし、上陸してきたならば、からめ捕り、また殺してもかまわない。

(資料 2)

日本の漂流民を救い送りとどけてくれたのに、わけも聞かず、いきなり打ち払うとは、仁義のない国であることを諸国に示すものだ。……着岸を許すことと、貿易を許すこととは別のことではないか。

(1) 資料中のアにあてはまる語句を次から選べ。

[儒 イスラム キリスト]

(2) 資料 2 は「夢物語」という書物の一部である。この書物を書き、幕府の鎖国政策を批判して、処罰された人物はだれか。

(3) (2)の人物が学んでいた学問は何か。

[解答欄]

(1)	(2)	(3)
-----	-----	-----

[解答](1) キリスト (2) 高野長英 (3) 蘭学

[問題](増補 11)(2 学期期末)

外国船打払令を批判した高野長英たちは処罰されたが、この事件を何というか。

[解答欄]

[解答]蛮社の獄

[問題](増補 11)(1 学期期末)

1839 年に渡辺華山と高野長英が幕府によって処罰されたが、それはなぜか。簡単に説明しなさい。

[解答欄]

[解答]外国船打払令(異国船打払令)の無謀さを説き、幕府を批判したため。

[問題](2 学期中間)

外国船打払令が緩和されたのは、1840年にイギリスと中国との間に起こった戦争が原因である。この戦争を何というか。また、この戦争の後、イギリスと中国との間でむすばれた条約の名を答えよ。

[解答欄]

--	--

[解答] アヘン戦争 南京条約

[問題](増補 11)(2 学期期末)

老中の水野忠邦は外国船打払令を緩和したが、その理由として、最も適当なものを次の中から 1 つ選べ。

- ア ほぼ同時期に、中国でアヘン戦争が起き、清が敗れ、日本にも影響が及ぶのをおそれたから。
- イ ほぼ同時期に、イギリスで名誉革命が起き、日本にも革命の影響が及ぶのをおそれたから。
- ウ ほぼ同時期に、アメリカで南北戦争が起き、日本にも戦争の影響が及ぶのをおそれたから。

[解答欄]

--

[解答]ア

【】天保の改革

[問題](1 学期中間)

次の文の()に適語を入れよ。

1830 年代 ()のききんが全国をおおい,百姓一揆と打ちこわしが頻発した。1837 年,もと大阪町奉行所の役人だった()はききんで苦しむ人々を救うため,大阪で乱をおこした。

1841 年に老中()は()の改革を始めた。儉約令を出し,農民が江戸に出稼ぎにくるのを禁止し,()を解散させたが,改革はわずか 2 年で失敗に終わった。

[解答欄]

[解答] 天保 大塩平八郎 水野忠邦 天保 株仲間

[解説]

1830 年代,天保のききんが全国をおおい,百姓一揆と打ちこわしが頻発した。

1837 年,もと大阪町奉行所の役人で,儒学の中の陽明学の学者であった大塩平八郎はききんで苦しむ人々を救うため,大阪で乱をおこした。(人はみな

(1837)大塩したい打ちこわし) 陽明学は「世の中の矛盾を知るだけでは何の価値もなく,行動を起こすことが大切である」という「知行合一」を重視する革命の理論という一面をもっていた。

1841 年に老中水野忠邦は天保の改革を始めた。(日はよい(1841)改革水野さん) 儉約令を出し,農民が江戸に出稼ぎにくるのを禁止し,物価を下げるために株仲間を解散させたが,江戸・大阪周辺の農村を幕府の領地にしようとしたことで,大名や旗本の反対に会い,改革はわずか 2 年で失敗に終わった。

1830年代 天保のききん
 1837年 大阪で,大塩の乱(大塩平八郎)
 (もと大阪町奉行所の役人,陽明学者)
 1841年 水野忠邦が老中→天保の改革
 ・農民が江戸に出稼ぎにくるのを禁止
 ・株仲間を解散
 ・江戸・大阪周辺を幕府の領地にしようとした
 →大名や旗本の反対→失敗

[問題](2 学期期末)

次の文を読んで、あとの各問いに答えなさい。

- (1) 19 世紀前半に行われた政治改革では株仲間が解散された。この政治改革を何とい
いますか。
- (2) (1)の改革を行ったのはだれですか。
- (3) (1)の改革の少し前、幕府の役人であった人物が、ききんで苦しむ人々を救うため大
阪で乱をおこした。この乱を何といいますか。

[解答欄]

(1)	(2)	(3)
-----	-----	-----

[解答](1) 天保の改革 (2) 水野忠邦 (3) 大塩の乱

[問題](増補 11)(2 学期中間)

大塩の乱をおこしたのはどのような役職の人物でしたか。

[解答欄]

[解答]奉行所の役人

[問題](1 学期期末)

大塩平八郎の乱は幕府に大きな衝撃を与えましたが、その理由を説明しなさい。

[解答欄]

[解答]幕府の直轄領である大阪で、奉行所のもとの役人が反乱を起こしたので。

[問題](1 学期中間)

次の年表を見て、各問いに答えなさい。

- (1) 年表中の ~ について説明した次の文を
読んで、あてはまる語句や人物名を書きなさい。
幕府が鎖国を守るために出した法令。
もと大阪町奉行所の役人で、貧しい人々を
救うために反乱を起こした。

年代	おもなできごと
1825 年	が出される。
1837 年	が乱を起こす。… A
1841 年	が老中になる。… B

幕府政治の改革を行ったが、厳しすぎたため 2 年余りで改革は失敗した。

- (2) 年表中 A に最も関係の深い語句を次から 1 つ選びなさい。

[朱子学者 陽明学者 蘭学者 国学者]

- (3) 年表中 B の改革を何というか。改革名を答えなさい。

- (4) Bの改革の内容にあてはまらないものをア～エから1つ選んで答えなさい。
- ア 農民が江戸に出かせぎに行くのを禁止し、江戸に出ている農民を村に帰らせた。
 - イ 株仲間をおおいに認め、奨励した。
 - ウ 出版や風俗を厳しく規制した。
 - エ 江戸・大阪周辺の領地(農村)を幕府の領地にしようとした。

[解答欄]

(1)			(2)
(3)	(4)		

[解答](1) 外国船打払令(異国船打払令) 大塩平八郎 水野忠邦 (2) 陽明学者
(3) 天保の改革 (4) イ

[問題](2 学期期末)

老中の水野忠邦がおこなった政治の改革を何といいますか。

[解答欄]

[解答]天保の改革

[問題](1 学期中間)

天保の改革のころ、藩の政治改革に成功したところがあったが、肥前藩のほかに2つの藩の名を書きなさい。

[解答欄]

[解答]薩摩藩，長州藩

[解説]

江戸時代後半，どの藩でも財政難がひどくなった。その中で，薩摩藩^{さつまはん}や長州藩^{ちようしゅうはん}では，能力のある下級武士を重く用い，商人からの借金をたな上げにした。また，特産物の生産を奨励^{しょうれい}し，藩内の特産物を独占的に買い占めて大阪や江戸で売り，大きな利益を得る専売制^{せんばいせい}を実施して財政の立て直しを行った。こうして，藩政の改革に成功した薩摩藩と長州藩は，幕末の政治に大きな影響をあたえることができた。

[問題](1 学期中間)

江戸幕府は、改革に失敗したが、薩摩藩(鹿児島県)、長州藩(山口県)は改革に成功していた。その内容にあてはまらないものを次のア～エから 1 つ選んで答えよ。

- ア 専売制を強化し、特産物の生産に努めた。
- イ 米が収入源であるから米づくりに力を入れた。
- ウ 家がらや身分にこだわらず、能力のある下級武士を重く用いた。
- エ 身分差別を強化し、農民支配を徹底した。

[解答欄]

[解答]エ

[問題](増補 11)(1 学期中間)

藩政改革の 1 つとして「専売制」があげられるが、専売制とは何か。「特産物」「独占」「利益」の語句を使って説明しなさい。

[解答欄]

[解答]藩内の特産物を独占的に買い占めて大阪や江戸で売り、大きな利益を得る制度。

[問題](1 学期中間)

岡山藩では 1855 年、農民の不満をそらすため、差別強化を行った。この翌年差別された人々が反対の一揆を起こした。この一揆を何というか。答えなさい。

[解答欄]

[解答]渋染一揆

【】年表・総合問題 : 幕政の改革

[問題](1 学期期末)

年表や資料を参考にして, 各問いに答えよ。

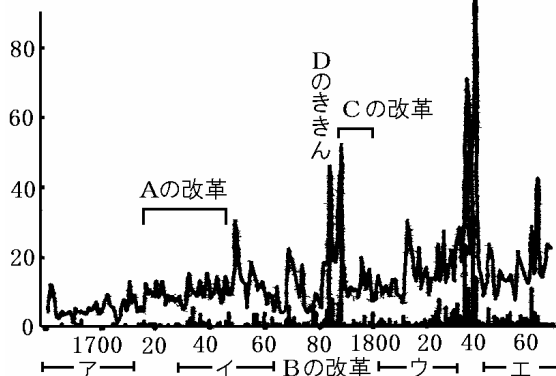
- (1) 右の年表の ~ にあてはまる語句を書け。
- (2) 年表中 A の人物が行った改革を何というか。
- (3) 年表中の A の人物が改革を行った理由を 1 つ記号で選べ。
ア ききんのため
イ 一揆の防止
ウ 学問を広める
エ 財政難のたてなおし

年代	おもなできごと
1709 年	新井白石の政治
1716 年	()が八代将軍となる…A
1742 年	()を定めて裁判の基準を示す
1772 年	田沼意次が()になる…B
1774 年	オランダの医学書を翻訳して()を出版する……………E
1787 年	松平定信の寛政の改革……………C

- (4) 年表中 E の書物を出版した医者をして 1 人書け。 また, このようにして新しく始まった学問を何というか。
- (5) 次の ~ は, 右の資料の A~C のどの政治と関係が深いか。あてはまるものをそれぞれ記号で選べ。

公事方御定書を定めた。
株仲間に特権を与え 納税させた。
凶作やききんに備え 米をたくわえさせた。
昌平坂学問所で朱子学を学ばせた。

資料: 百姓一揆と打ちこわしの発生件数



- (6) 資料中の D のききんを何というか。
- (7) 資料中の C の改革の結果で正しいものを 1 つ記号で選べ。
ア わいろが用いられた。 イ 幕府の収入が増加し, 一時的に財政は立ち直った。
ウ ぜいたくになりすぎた。 エ きびしすぎたため, 失敗に終わった。

[解答欄]

(1)			
(2)	(3)	(4)	
(5)			
(6)	(7)		

[解答](1) 徳川吉宗 公事方御定書 老中 解体新書 (2) 享保の改革 (3) 工 (4) 杉田玄白(前野良沢) 蘭学 (5) A B C C (6) 天明のききん (7) 工

[問題](1 学期期末)

次の各問いに答えなさい。

- (1) 右の年表の に入る人物は誰ですか。
 (2) 年表 の人物の役職は何ですか。
 (3) 「株仲間の公認」と結びつく出来事は A~D のうちのどれですか。

年代	おもなできごと
1680 年	徳川綱吉が将軍になる…………… A
1716 年	()が享保の改革を始める… B
1772 年	田沼意次が老中になる…………… C
1787 年	()が寛政の改革を始める… D

[解答欄]

(1)	(2)	(3)
-----	-----	-----

[解答](1) 徳川吉宗 (2) 老中 (3) C

[問題](2 学期中間)

次の略年表を見て、下の各問いに答えよ。

年	1680	1687	1709	1716	1721	1772	1787	1798	1802	1825	
できごと	()	生類憐れみの令を出す	(a)が俳諧をりっぱな芸術に高める… A	新井白石が政治を行う	()	江戸に目安箱を設置する	()	寛政の改革が始まる	(b)が「古事記伝」を著す 栗毛」を著す… B	十返舎一九が「東海道中膝栗毛」を著す… B	()

- (1) 年表中の ~ にあてはまるできごとを、次のア~エから 1 つずつ選べ。
 ア 徳川吉宗が将軍になる イ 徳川綱吉が将軍になる
 ウ 田沼意次が老中になる エ 外国船打払令を出す
- (2) 年表中の()の a, b にあてはまる人名を書け。
- (3) A, B のころに栄えた文化をそれぞれ何というか。漢字で書け。

[解答欄]

(1)			
(2)a	b	(3)A	B

[解答](1) イ ア ウ エ (2)a 松尾芭蕉 b 本居宣長 (3)A 元禄文化
B 化政文化

[問題](2 学期期末)

右の年表をみて、次の各問いに答えよ。

- (1) 年表中の ~ について説明した次の文を読んであてはまる語句や人名を書け。

八代将軍が行った改革。

商人の力を利用して、幕府の財政を立て直そうとした老中。

のあとに政治改革を行った老中。

来航した外国船は、ただちにうちはらえと命じた法令。

江戸・大阪周辺を幕府の領地にしようとした老中。

年代	おもなできごと
1716年	()の改革が始まる……A
1772年	()が老中になる……B
1782年	天明のききんがおこる
1787年	()が老中になる……C
1825年	()を出す……D
1837年	大塩平八郎の乱が起こる E
1841年	()が老中になる……F

- (2) 1)年表中の A を行った将軍は誰か。2)また、この改革の中で、裁判の基準になるものをつくったが、それを何というか。
- (3) 年表中の B のときに、商工業者たちの同業者の組合を認めたが、その組合を何というか。
- (4) 年表中の C の老中が行った改革を何というか。
- (5) 年表中 D の法令を、のちに幕府はゆるめる政策にきりかえたが、そのきっかけになった事件は何か。
- (6) 年表中の E の事件(乱)は 1 日で鎮圧されましたが、幕府は強い衝撃を受けた。その理由を 2 つ答えよ。
- (7) 年表中の F の老中が行った改革を何というか。

[解答欄]

(1)			
	(2)1)	2)	(3)
(4)	(5)		
(6)			
(7)			

[解答](1) 享保 田沼意次 松平定信 外国船打払令(異国船打払令)
水野忠邦 (2)1) 徳川吉宗 2) 公事方御定書 (3) 株仲間 (4) 寛政の改革 (5) アヘン戦争 (6) 幕領の大阪でおこったこと。もと奉行所の役人がおこしたこと。 (7) 天保の改革

[問題](2 学期中間)

江戸幕府が行った ~ について、享保の改革についてあてはまるものを「享保」、田沼の政治を「田沼」、寛政の改革を「寛政」、天保の改革を「天保」と答えよ。

農村に倉を設けて米をたくわえさせた。

株仲間を結ぶことを奨励した。

公事方御定書という法律を作った。

朱子学以外の学問を禁止した。

外国船打払令を緩和した。

[解答欄]

[解答] 寛政 田沼 享保 寛政 天保

[問題](3 学期)

次の A~E の文を読んで、下の各問いに答えよ。

A 老中(a)は、商人を利用して幕府の財政を立て直そうとしたが、わいろが横行した。

B 徳川吉宗の(b)の改革により、幕府の財政はいったん立ち直った。

C 老中(c)の行った天保の改革は、わずか 2 年余りで失敗に終わった。

D 老中松平定信は、出かせぎ農民を故郷に帰した。

E もと大阪町奉行所の役人であった(d)は、貧しい人々を助けるために乱をおこした。

(1) 文中の a~d にあてはまる人物名または語句を書け。

(2) A~D の文に関係する人物がおこなったことを、次のア~オから選び、記号を書け。

ア 株仲間を解散した。

イ 長崎貿易で、銅や海産物の輸出を奨励した。

ウ 旗本や御家人の借金を帳消しにした。

エ 大名を統制するために武家諸法度を定めた。

オ 目安箱を設置して、政治の参考にした。

[解答欄]

(1)a	b	c	d
(2)A	B	C	D

[解答](1)a 田沼意次 b 享保 c 水野忠邦 d 大塩平八郎 (2)A イ B オ C ア D
ウ

[問題](2 学期中間)

次の各文の下線部が正しければ を，誤っている場合は適切な語句を書け。

徳川吉宗は，人々の意見を反映させるために蘭学塾を設けた。

田沼意次は，商工業者が寄合を結ぶことを奨励し，税をとった。

幕府の対外政策を批判したため，高野長英は処罰された。

[解答欄]

--	--	--


[解答] 目安箱 株仲間

【】新しい学問

[問題](2 学期中間)

次の各問いに答えよ。

- (1) 右の資料は、18 世紀後半に翻訳・出版された医学書のとびらである。この書名を答えよ。また、この本を翻訳した人物を 1 人答えよ。
- (2) (1)の出版により、オランダ語で西洋の文化を学ぶ学問の基礎が築かれた。この学問を何というか。
- (3) 西洋の測量術を取り入れて、はじめて全国の沿岸を実測し、日本全図をつくった人物は誰か。
- (4) 日本の古典を研究する学問を何というか。また、この学問を大成し、「古事記伝」をあらわした人物は誰か。



[解答欄]

(1)		(2)	(3)
(4)			

[解答](1) 解体新書 杉田玄白(前野良沢) (2) 蘭学 (3) 伊能忠敬 (4) 国学
本居宣長

[解説]

徳川吉宗が漢訳の洋書の輸入を許可してから、蘭学が発達した。蘭学者の杉田玄白と前野良沢はオランダの医学書を翻訳して解体新書^{かいたいしんしょ}を出版した。江戸時代後半に来日したドイツ人シーボルトは長崎の鳴滝^{なるたき}で医学を教え、多くの弟子を育てた。

伊能忠敬^{いのうただたか}は、幕府の命令で全国の海岸線を 17

年かけて測量し、現在とほとんど変わらないほど正確な日本地図をつくった。

仏教や儒教にとらわれない、日本の古典について研究する学問を国学^{こくがく}といい、本居宣長^{もとおりのりなが}により大成された。

[蘭学]

杉田玄白, 前野良沢: 解体新書

シーボルト: 長崎の鳴滝で医学を教えた

伊能忠敬: 日本地図

[国学]

本居宣長: 古事記伝

[問題](2 学期中間)

次の各問いに答えよ。

- (1) 前野良沢と「解体新書」を出版した人はだれか。
- (2) 江戸時代後半、長崎に鳴滝塾をつくったドイツ人はだれか。

[解答欄]

(1)	(2)
-----	-----

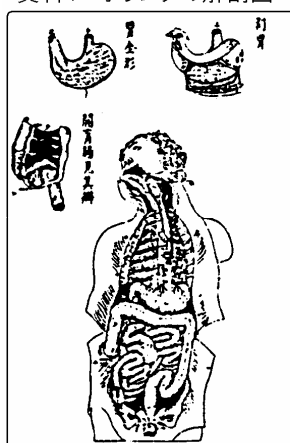
[解答](1) 杉田玄白 (2) シーボルト

[問題](2 学期期末)

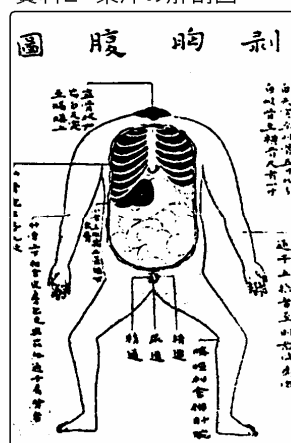
あとの各問いに答えなさい。

- (1) オランダの解剖書を前野良沢とともに中心となって翻訳した人はだれですか。
- (2) 右の資料 1, 2 からわかる, オランダの解剖図と東洋の解剖図のちがいを, 内臓について書きなさい。
- (3) (1)のころ, 長崎から入ってきた西洋の学問を何といいますか。
- (4) (1)のころ, 国内でも日本の古典についての研究が進み, 新しい学問が成立した。その学問を何といいますか。

資料1 オランダの解剖図



資料2 東洋の解剖図



[解答欄]

(1)	(2)
(3)	(4)

[解答](1) 杉田玄白 (2) オランダの解剖図が正確である。 (3) 蘭学 (4) 国学

[問題](1 学期中間)

次の文を読み, 各問いに答えよ。

私は, オランダの人体解剖書を翻訳して出版した。

私は, 儒教や仏教の影響を受ける前の日本人の考えを明らかにしようと『古事記』を研究して『古事記伝』を書いた。

私は, 幕府の命令で全国の海岸線を測量し, 正確な日本地図をつくった。

- (1) 上の ~ の「私」に適する人物を下の[]から 1 人ずつ選べ。
[シーボルト 平賀源内 関孝和 杉田玄白 安藤昌益 高野長英 伊能忠敬 徳川光圀 本居宣長 宮崎安貞]
- (2) ・ に関係ある学問名をそれぞれ漢字で答えよ。

[解答欄]


(1)			(2)

[解答](1) 杉田玄白 本居宣長 伊能忠敬 (2) 蘭学 国学

[問題](2 学期期末)

右の資料に関係ある人物について、正しく組み合わせてある番号を、下の1~4の中から選べ。

1. 前野良沢・杉田玄白 2. 渡辺華山・高野長英
3. 間宮林蔵・伊能忠敬 4. 安藤昌益・井原西鶴



[解答欄]

--

[解答]1

[問題](2 学期期末)

杉田玄白らがオランダ語の解剖書を翻訳して出版した書物を何というか。

[解答欄]

--

[解答]解体新書

[問題](1 学期期末)

次の(1), (2)にあたる人物名を下の[]から選べ。

- (1) 国学を発展させた人。
(2) 日本全図(地図)をつくった人。

[本居宣長 平賀源内 伊能忠敬 十返舎一九]

[解答欄]

(1)	(2)
-----	-----

[解答](1) 本居宣長 (2) 伊能忠敬

[問題](増補 11)(後期中間)

「エレキテル」という静電気を発生させる装置を作った人物はだれですか。

[解答欄]

[解答]平賀源内

[問題](2 学期中間)

次の各問いに答えよ。

江戸時代には 民衆の教育が進められた。また新しい学問も発達し、杉田玄白は()学を学び、本居宣長は()学を大成した。

- (1) 下線部 を進めた、読み・書き・そろばんを教える施設を何というか。
- (2) ()と()にあてはまる語句を書け。
- (3) 杉田玄白らがオランダ語の人体解剖書を翻訳して出版した書物の名を書け。

[解答欄]

(1)	(2)		(3)
-----	-----	--	-----

[解答](1) 寺子屋 (2) 蘭 国 (3) 解体新書

[解説]

(1) 読み・書き・そろばんを教える寺子屋^{てらこや}は江戸時代後期に急増し、当時の世界でもめずらしいほどに初等教育が普及していた。

[問題](2 学期期末)

江戸時代、寺子屋で子供たちに教えた内容を 3 つ書きなさい。

[解答欄]

[解答]読み・書き・そろばん


【】化政文化

[問題](2 学期中間)

次の資料を見て、以下の各問いに答えよ。

- (1) 資料 A, B の浮世絵をえがいた人物を、次より 1 人ずつ選べ。

[歌川広重 葛飾北斎
菱川師宣 喜多川歌麿]



- (2) 川柳とともに流行した、世相を皮肉った短歌を何というか。
 (3) 与謝蕪村や小林一茶で知られるのは、どんな芸術か。
 (4) こどもに読み・書き・そろばんなど、実用的な知識を教えるために開かれた教育機関を何というか。
 (5) 文化・文政年間に栄えた、江戸を中心とする文化を何というか。

[解答欄]

(1)A	B	(2)	(3)
(4)	(5)		

[解答](1)A 喜多川歌麿 B 葛飾北斎 (2) 狂歌 (3) 俳諧 (4) 寺子屋 (5) 化政文化


[解説]

19 世紀の初め、江戸を中心に民衆の文化が栄えたが、この文化を化政文化という。文芸では、世の中を風刺した狂歌や川柳が流行した。(五七五・七七の短歌形式になっているものを狂歌といい、「役人の子はにぎにぎをよく覚え」などのように五七五の俳句の形式になっているものを川柳という。)

[化政文化] 19世紀初め、江戸が中心地
 ・俳諧: 小林一茶、与謝蕪村
 ・狂歌や川柳
 ・十返舎一九「東海道中膝栗毛」
 滝沢馬琴「南総里見八犬伝」
 ・浮世絵: 錦絵(多色刷りの版画)
 風景画 安藤広重 や 葛飾北斎
 美人画 喜多川歌麿

十返舎一九の「東海道中膝栗毛」のようなこ

っけいな小説が人気を集める一方で、滝沢馬琴の「南総里見八犬伝」なども多くの人に読まれた。俳諧では、与謝蕪村が絵のような風景を表現し、小林一茶は素朴な感情をよんだ。



浮世絵の技術も進み、錦絵とよばれる多色刷りの版画が大流行した。歌川広重(安藤広重)や葛飾北斎は風景画のすぐれた作品を残

し、喜多川歌麿は美人画を描いた。(右の「神奈川沖浪裏」は葛飾北斎の作品である)

[問題](2 学期期末)

あとの各問いに答えよ。

(1) 右の絵について、次の各問いに答えよ。

右の浮世絵は多色刷の版画にされ、
人々に愛好された。下線部の絵を何
というか。

右の絵の作者を、次から選べ。

[喜多川歌麿 葛飾北斎 歌川広重
 菱川師宣]

この絵がえがかれたころ栄えた文化の
中心地はどこか。



(2) 次の人物と作品の組み合わせで正しいものを1つ選び、記号を書け。

ア 与謝無村 - 「南総里見八犬伝」 イ 安藤昌益 - 「海国兵談」

ウ 十返舎一九 - 「東海道中膝栗毛」 エ 滝沢馬琴 - 「土佐日記」

(3) 子どもたちの教育を行う場として各地につくられたものは何か。

[解答欄]


(1)			(2)
(3)			

[解答](1) 錦絵 葛飾北斎 江戸 (2) ウ (3) 寺子屋

[問題](1 学期中間)

下の A~C の浮世絵の作者を語群から選べ。

(語群) [葛飾北斎 喜多川歌麿 歌川広重 東州斎写楽]



[解答欄]

A	B	C
---	---	---

[解答]A 葛飾北斎 B 歌川広重 C 喜多川歌麿

[問題](1 学期期末)

化政文化について、あてはまる語句をそれぞれ[]より選べ。

(1) 次の資料のような作品

「白河の清きに魚のすみかねてもとの濁りの田沼恋しき」

(2) 小説「東海道中膝栗毛」を書いた人

(3) 化政文化の中心となった都市

[川柳 狂歌 俳諧 本居宣長 平賀源内 赤川次郎 伊能忠敬 江戸 上方
十返舎一九 滝沢馬琴]

[解答欄]

(1)	(2)	(3)
-----	-----	-----

[解答](1) 狂歌 (2) 十返舎一九 (3) 江戸

[問題](2 学期期末)

次の各問いに答えなさい。

(1) 化政文化について、次にあてはまる人物を下の[]から選んで書きなさい。

俳句によって、絵のような美しさを表現した。

「東海道中膝栗毛」というこっけいなベストセラーを書いた。

勸善懲悪の長編小説を書いた。代表作は「南総里見八犬伝」である。

[滝沢馬琴 与謝蕪村 千利休 十返舎一九]

(2) 元禄文化では、菱川師宣が「見返美人図」を書いたが、その浮世絵は化政文化ではもっと発達した。浮世絵の作家名を1人あげなさい。

(3) 「雀の子 そこのけそこのけ お馬が通る」や「やれ打つな 蠅が手をする 足を
する」などの弱者への愛情を感じさせる俳句を作った人物を漢字で書きなさい。

[解答欄]

(1)		(2)
(3)		

[解答](1) 与謝蕪村 十返舎一九 滝沢馬琴 (2) 葛飾北斎(歌川広重、喜多川歌麿) (3) 小林一茶

[問題](増補 11)(1 学期期末)

化政文化の特色にあてはまるものを，次のア～オからすべて選べ。

ア 文化・文政年間に栄えたので化政文化という。

イ 文化の中心は江戸である。

ウ 文化の中心は上方(京都，大阪)である。

エ 近松門左衛門が義理人情に生きる男女の悲劇を感動的にえがいた。

オ 「東海道中膝栗毛」のようなこっけいな小説が人気を集めた。

[解答欄]

[解答]ア，イ，オ

【】文化総合

[問題](1 学期中間)

江戸時代の文化についての ， の文を読み，各問いに答えよ。

江戸を中心に民衆の文化が栄え，地方にも広まった。世の中を風刺した()や川柳が好まれた。浮世絵の技術も進み，歌川広重や()は風景画のすぐれた作品を残した。

大阪・京都を中心に豊かな町人の文化が栄えた。大阪の町人()は，町人の生活を『日本永代蔵』などの小説にえがき，武士出身の()は，『曽根崎心中』などの人形浄瑠璃の台本を書いた。


(1) 文中の ~ に適する語句を下の[]から選べ。

[狂歌 狂言 井原西鶴 近松門左衛門 喜多川歌麿 葛飾北斎 松尾芭蕉 十返舎一九]

(2) ・ の文化をそれぞれ何というか，漢字で答えよ。

(3) 多色刷りの浮世絵を何というか。

(4) ・ の文化に適するものをすべて，下からそれぞれ選び，記号で答えよ。



[解答欄]

(1)			
(2)		(3)	(4)

[解答](1) 狂歌 葛飾北斎 井原西鶴 近松門左衛門 (2) 化政文化 元禄文化 (3) 錦絵 (4) A E, F

[問題](2 学期期末)

資料 A と B の作品の種類, 作者, 文化名を正しく組み合わせる番号を, 下の 1~2 の中から選び答えよ。

1. A 浮世絵・菱川師宣・化政文化
B 錦絵, 歌川(安藤)広重, 元禄文化
2. A 浮世絵・菱川師宣・元禄文化
B 錦絵, 歌川(安藤)広重, 化政文化



[解答欄]

[解答]2

[解説]

浮世絵画家のうち, 図 A の「見返り美人」で有名な菱川師宣は元禄文化に属する。風景画を描いた安藤広重と葛飾北斎は化政文化に属する。図の B は安藤広重の作品である。

[問題](2 学期期末)

次の ~ の人物や仕事など関係の深いものをア~サの中から記号で選べ。(各人物はだいたい登場順に並んでいる)

徳川綱吉	徳川吉宗	青木昆陽	田沼意次	松平定信
本居宣長	杉田玄白	平賀源内	伊能忠敬	大塩平八郎

- ア 薩摩芋の栽培を奨励・普及させた。
- イ 海産物の輸出や印旛沼の干拓をするなどして幕府財政の改革に努めた。
- ウ 『古事記伝』を著して, 日本古来の真心こそが大切だと説いた。
- エ 旗本の借金を帳消しにしたり, 儉約と風紀を正したりした。
- オ 目安箱を設置したり, 大岡越前守を起用したりした。新田開発も奨励。
- カ 大阪で適塾を開き, 蘭学者を養成した。
- キ 陽明学者だった彼は幕府の悪政に憤り, 貧民救済のため門人と大阪で反乱をおこした。
- ク 儒学を諸大名に講義した。生類憐れの令を出した。
- ケ 精密な日本地図を作った。
- コ 同じ蘭学者の前野良沢と共にターヘル・アナトミアを苦勞して日本語に訳した。
- サ 蘭学者でエレキテルの発明や油絵も書いた。

[解答欄]

[解答] ク オ ア イ エ ウ コ サ ケ キ

【】ペリーの来航と不平等条約

[問題](1 学期期末)

次の文の()に適語を入れよ。

1853 年アメリカのペリーが()に入港し,開港を求める国書を幕府に差し出した。翌 1854 年,幕府は()条約を結び,()と()の 2 港を開きアメリカ船に食料・水・石炭などを供給することを認めた。

さらに 1858 年,大老()は,反対派の意見をおさえ,朝廷の許可を得ないまま()条約を結び,函館・新潟・神奈川・兵庫・長崎の 5 港を貿易港として開いた。しかし,この条約は,日本で罪を犯した外国人をその国の領事が裁く()を認め,輸入品に自由に関税をかける()が日本にないという不平等なものであった。続いて幕府は,イギリス・オランダ・ロシア・フランスとも,同じような条約を結んだ。開国後の最大の貿易相手国は()であった。輸出品は()と茶で,輸入品は毛織物・絹織物・武器・艦船であった。

[解答欄]

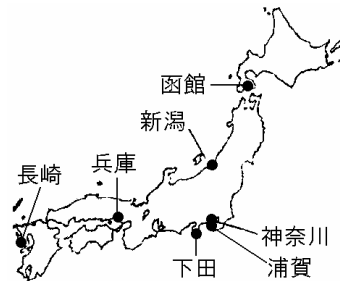
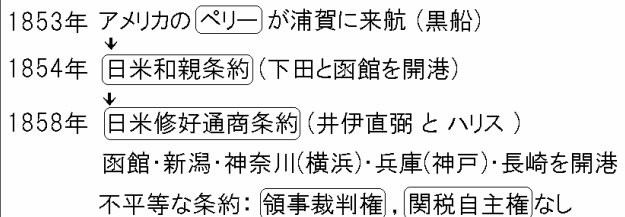
[解答] 浦賀 日米和親 下田 函館(と は順不同) 井伊直弼
日米修好通商 領事裁判権(治外法権) 関税自主権 イギリス 生糸

[解説]

1853 年アメリカの使節ペリーが,4 隻の軍艦(黒船)をひきいて浦賀(神奈川県)沖に現れ,幕府に開国をせまった。

(いや御三(1853)家!とペリー来航) アメリカは,貿易船

や捕鯨船などが日本の港で燃料・水・食料を補給できるように求めた。幕府は,翌年の返事を約束してペリーをいったん引きとらせた。幕府は,このことを朝廷に報告し,大名などの意見も聞いたが,こうしたことは今までにないことで,幕府の力のおとろえを示す結果となった。翌 1854 年にペリーは,再び江戸湾に来航し,回答をせまった。幕府は,やむなく,日米和親条約を結び,下田



(静岡県)と函館(北海道)の2港を開き、燃料・水・食料を補給することと、下田に領事をおくことなどを認めた。


下田に着任したアメリカ総領事ハリスは、貿易開始のための条約を結ぶことを要求してきた。幕府は朝廷に許可を求めたが、得られなかった。1858年、通商がされないと判断した大老の井伊直弼は、反対派の意見をおさえて、日米修好通商条約を結んだ。この条約によって、函館・新潟・神奈川(横浜)・兵庫(神戸)・長崎の5港を貿易港として開いた。しかし、この条約は、日本で罪を犯した外国人をその国の領事が裁く領事裁判権(治外法権)を認め、輸入品に自由に関税をかける関税自主権が日本にないという不平等なものであった。続いて幕府は、イギリス・オランダ・ロシア・フランスとも、同じような条約を結んだ。

開国後の最大の貿易相手国はイギリスであった。輸出品は生糸と茶で、輸入品は毛織物・綿織物・武器・艦船であった。

[問題](1学期期末)

次の資料を見て、各問いに答えよ。

- (1) 1853年に訪れた右の4隻の黒船は、どこの国から来たか。また、その国の使節はだれか。
- (2) (1)のできごとの翌年に日本が結んだ条約の名前を書け。
- (3) (2)で開かれた港を次から2つ選べ。



- [函館 新潟 長崎 兵庫 下田 神奈川]
- (4) 1858年には貿易を開始する内容の条約を結ぶことになるが、その条約を結んだ幕府の大老の名を漢字で書け。
 - (5) (4)の条約の内容には不平等な点が2つあった。次の文中の()にあてはまる語句をそれぞれ書け。
 - ・日本で罪を犯した外国人をその国の領事が裁く(A)を認めた。
 - ・輸入品に自由に関税をかける(B)が日本にない。

[解答欄]

(1)		(2)	(3)
(4)	(5)A	B	

[解答](1) アメリカ ペリー (2) 日米和親条約 (3) 函館, 下田 (4) 井伊直弼 (5)A 領事裁判権(治外法権) B 関税自主権

[問題](増補 11)(1 学期期末)

アメリカが日本を開国させようと考えた当初の目的を、次のア～オから 1 つ選べ。

ア 琉球を日本からゆずりうけて、アメリカの植民地とするため。

イ 江戸幕府の政治のしくみを学ぶため。

ウ 日本にキリスト教を布教するため。

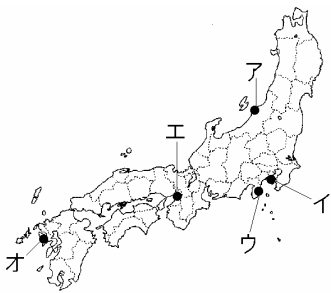
エ アメリカの捕鯨船や貿易船が日本で水、食料や燃料などを手に入れるため。

オ ロシアの南下政策に対抗するため。

[解答欄]

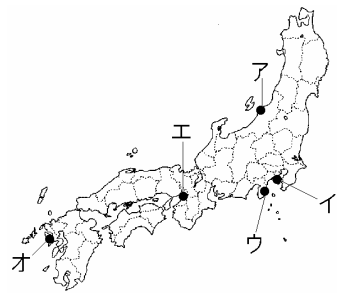
[解答]エ

[問題](1 学期中間)

次の  にあてはまる場所を右の地図中のア～オから選び、その地名も答えよ。

ペリーが 1853 年に来航した。

日米和親条約によって開港し、アメリカの領事館がおかれた。

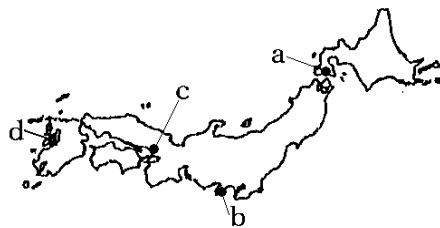


[解答欄]

[解答] イ, 浦賀 ウ, 下田

[問題](1 学期期末)

ペリーと幕府との間で結ばれた日米和親条約で開港された場所を地図中 a～d から 2 つ選びなさい。



[解答欄]

[解答] a, b

[問題](1 学期期末)

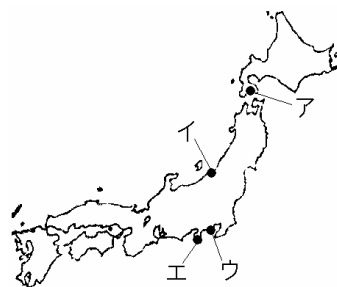
次の年表を見て、各問いに答えなさい。

- (1) 年表の ， にあてはまる語句を書きなさい。
- (2) A の黒船があらわれた浦賀は現在の何県か。答えなさい。また、浦賀の場所を右の日本地図ア～エから1つ選んで記号で答えなさい。
- (3) 年表中の の条約に関する次の文章の()内に適する語句を書きなさい。

年代	おもなできごと
1853年	黒船の来航・・・A
1854年	()を結ぶ。
1858年	()を結ぶ。

この条約は、外国人が犯罪をおかしても、日本人が裁判ができないという(ア)を認め、外国製品に対する(イ)がないという不平等条約であった。

- (4) 開国してからの日本のおもな輸出品は次のうちのどれか。2つ選びなさい。



[生糸 茶 アヘン 武器 艦船]

[解答欄]

(1)		(2)
(3)ア	イ	(4)

[解答](1) 日米和親条約 日米修好通商条約 (2) 神奈川県,ウ (3)ア 領事裁判権(治外法権) イ 関税自主権 (4) 生糸, 茶

[問題](増補 11)(2 学期中間)

日米修好通商条約で、5つの港が開かれました。その5港とは、函館・新潟・兵庫・長崎と、もう1つの港の名前を答えなさい。

[解答欄]

[解答]神奈川(横浜)

[問題](1 学期中間)

日米修好通商条約が結ばれたのは何年ですか。

[解答欄]

[解答]1858年

[問題](増補 11)(後期中間)

次の資料について、各問いに答えよ。

第4条 すべて日本に対して輸出入する商品は、とりきめにしたがって、日本政府へ関税を納めること。

第6条 日本人に対して法を犯したアメリカ人は、アメリカ領事裁判所において取り調べの上、アメリカの法律によって罰すること。

(1) 上の条約文は、日米和親条約と日米修好通商条約のどちらか。

(2) 上の条約文は、どちらの国にとってどのように不平等な内容だったか、説明せよ。

[解答欄]

(1)

(2)

[解答](1) 日米修好通商条約 (2) 関税自主権がなく領事裁判権(治外法権)を認めるなど、日本にとって不平等な条約であった。

[問題](1 学期期末)

日米修好通商条約は不平等なものであったが、それはなぜか。日本にとってどのような条約だったのかという視点で説明しなさい。

[解答欄]

[解答]関税自主権がなく領事裁判権(治外法権)を認めるなど、日本にとって不平等な条約であった。

[問題](2 学期中間)

日米修好通商条約では、日本人に対してアメリカ人が罪をおかした場合、日本とアメリカのどちらの国の法律で裁かれることになっていましたか。

[解答欄]

[解答]アメリカの法律

[問題](1 学期中間)

日米修好通商条約と同じような不平等条約が、イギリスと中国の間でも結ばれていました。それは何という条約ですか。

[解答欄]

[解答]南京条約

[問題](1 学期期末)

日米修好通商条約が結ばれた後、日本にとって最大の貿易相手国は開国を要求したアメリカではなくイギリスであった。それはなぜか。アメリカの国内状況を考えて答えなさい。

[解答欄]

[解答]アメリカでは 1861 年に南北戦争という内戦が起こり、貿易を拡大する余裕がなかったため。

【】開国の影響

[問題](2 学期中間)

幕末の貿易で、輸出品の大部分を占めていたものは何か。

[解答欄]


[解答]生糸

[解説]

開国後の最大の貿易相手国はイギリス

であった。輸出品は生糸と茶で、輸入品は毛織物・綿織物・武器・艦船であった。

貿易が始まると、日本の経済は大きな影響を受けた。関税自主権がなかったために、イギリスの安価な機械製の綿織物が大量に輸入され、国内



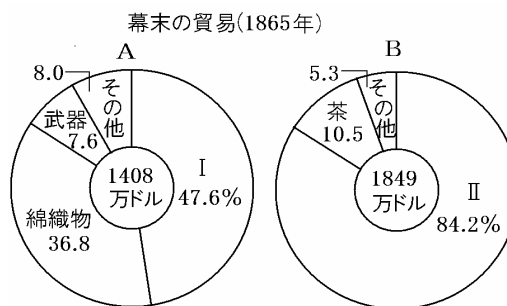
の綿織物業は成り立たなくなってしまった。また、最大の輸出品は生糸で、輸出額の8割以上を占めていたが、このために国内の生糸が品不足となり、各地の絹織物業が圧迫された。さらに、金と銀の交換比率が日本と外国で違っていたため、外国商人は日本に銀を持ち込み金貨を持ち出した。これに対して幕府は金貨の質を落としたが、それは国内の物価の急激な上昇をもたらし、国内経済は混乱した。

[問題](2 学期期末)

右のグラフは、幕末の 1865 年の日本の主要輸出入品の割合を示している。

- 輸出品を示すグラフは、A、B のうちのどちらか。記号で答えよ。
- グラフ中の \square にあてはまる貿易品を、次から 1 つずつ選べ。

[米 毛織物 生糸 絹織物 陶磁器]



[解答欄]

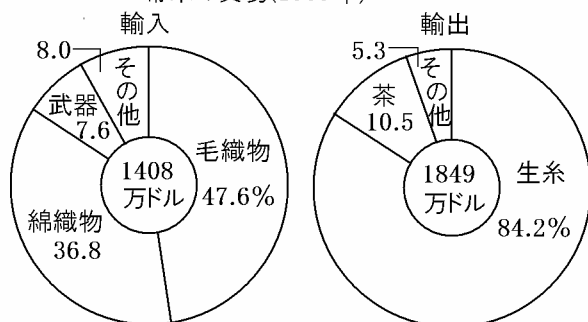
(1)	(2)	
-----	-----	--

[解答](1) B (2) 毛織物 生糸

[問題](増補 11)(後期中間)

1858年に日米修好通商条約が結ばれ、貿易が始まったが、このことで日本の経済はどのような影響を受けたか。次のグラフを参考にして簡潔に説明しなさい。

幕末の貿易(1865年)



[解答欄]

[解答]輸出によって生糸が品不足になった。また、安価な綿織物が輸入されたことで、国内の綿織物業や綿作を圧迫した。

[問題](増補 11)(2 学期期末)

開国後に日本国内から輸出され品不足になったのは何か。次の[]から2つ選べ。

[ろうそく 紙 生糸 油 金 茶]

[解答欄]

[解答]生糸、茶

[問題](1 学期期末)

開国後、綿織物が安く大量に輸入されたことは当時の日本にどのような影響を与えたか。簡潔に書きなさい。

[解答欄]

[解答]農村で発達していた綿織物業や綿作を圧迫した。

[問題](2 学期中間)

次の文の ， に適語を入れよ。

綿製品の輸入は国内の生産地に打撃をあたえ、おもな輸出品も貿易商人に買い集められて品不足になった。そのうえ、()の買い占めや、幕府が()の海外流出を防ぐため粗悪な貨幣をつくったこともあって、日常品の物価までが上昇した。このようななかで、武士や庶民は、外国に対する反感を強めた。

[解答欄]

--	--

[解答] 米 金

[問題](1 学期期末)

開国後のようすについて、各問いに答えよ。

(1) 貿易開始直後の日本の最大の貿易相手国はどこか。

(2) 次の文中の()に「輸出」または「輸入」の語句をいれよ。

外国との貿易が始まって、しばらくの間、日本は()額より()額の方が多く、貿易による利益をあげていた。しかし、1867 年になると()額より()額の方が多く、()超過で、貿易により日本は大きな損失を出した。

(3) 開国後の日本のようすについてあてはまらないものを次から選び、記号を書け。

ア 国内の絹織物業者は原料の不足で倒産するものも多かった。

イ 輸出向けに養蚕を始める農家もあった。

ウ 機械でつくられた安価な製品が大量に輸入され、国内の綿織物業者はなりたたなくなった。

エ 安い輸入品が大量に国内に出回り、物価が下がった。

[解答欄]

(1)	(2)		
		(3)	

[解答](1) イギリス (2) 輸入 輸出 輸出 輸入 輸入 (3) エ

[問題](1 学期期末)

日米修好通商条約が結ばれた後、外国との貿易がはじまるが、正しい説明文を下よりえらび、記号で答えよ。

ア 開港した港は、下田と函館であった。

イ 国内の物価は、下がりはじめた。

ウ 金と銀の交換比率がちがうため、日本から金が流出した。

[解答欄]

[解答]ウ

【】安政の大獄・尊王攘夷運動

[問題](1 学期期末)

文中の()に適語を入れよ。

開国によって貿易が始まると、物価の急上昇など国内経済は混乱した。このような中で、外国や幕府に対する反感が武士や民衆の間に高まり、天皇を尊び、外国人を打ち払えという()論が高まった。これに対し、幕府の大老()は反対していた大名や武士を弾圧した。これを()という。これに反発した水戸の浪士たちは()で()を暗殺した。

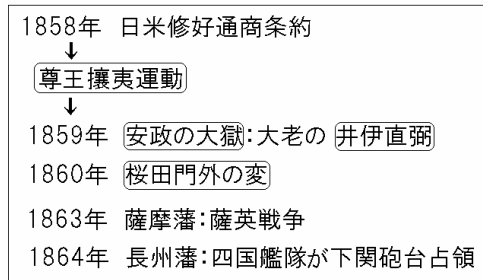
1863 年、幕府は、朝廷や大名の主張に動かされて、やむなく外国を排除する攘夷の命令を全国に出した。これを受けて()藩は 1863 年、下関を通る外国船に砲撃をくわえた。しかし、翌年、イギリス・フランス・アメリカ・オランダからなる四国艦隊に攻撃され、下関砲台を占領された。()藩も、1862 年、イギリス商人を殺害する事件を起こしたため、翌 1863 年にイギリス艦隊に鹿児島を砲撃され、大きな損害を受けた。これによって、()藩や()藩は攘夷の実行が不可能であることをさとった。

[解答欄]

[解答] 尊王攘夷 井伊直弼 安政の大獄 桜田門外 長州 薩摩

[解説]

開国後の混乱の中で、外国や幕府に対する反感が武士や民衆の間に高まり、外国人を打ち払えという攘夷論が高まった。さらに、幕府が朝廷の反対を退けて開国したことから、攘夷論と、朝廷の権威を高めようとする尊王論とが結びつき、尊王攘夷運動に発展していった。



1858 年に幕府の大老の井伊直弼は日米修好通商条約を結んだが、反対していた大名や武士を弾圧した。これを安政の大獄というが、これによって、長州藩の吉田松陰や越前藩の橋本左内は死刑に処せられた。しかし、かえって反発は強まり、1860 年、江戸城桜田門外で、井伊直弼は水戸藩の浪人によって暗殺された。(桜田門外の変) 井伊直弼の死によって、尊王攘夷運動は勢いを得ていった。

1863 年、幕府は、朝廷や大名の主張に動かされて、やむなく外国を排除する攘夷の命令を全国に出した。これを受けて長州藩は 1863 年、下関を通る外国船に砲撃をくわえ

た。しかし、翌年、イギリス・フランス・アメリカ・オランダからなる四国艦隊に攻撃され、^{しものせきほうだい}下関砲台を占領された。^{さつま}薩摩藩も、1862年、イギリス商人を殺害する事件(^{なまむぎ}生麦事件)を起こしたため、翌1863年にイギリス艦隊に鹿児島を砲撃され、大きな損害を受けた(^{きつえい}薩英戦争)。これらの事件によって、長州藩と薩摩藩は、外国の軍事力の強大さを思い知り、攘夷が不可能であることを悟った。

[問題](増補 11)(2 学期期末)

次の文の ~ に適語を入れよ。

1858年、幕府の()となった()は朝廷の許可を得ないまま条約に調印し、一方的に将軍の跡継ぎを決め、反対の立場の大名・武士・公家を弾圧した。これを()という。しかし、かえって反発は強まり、()は江戸城外で暗殺された。これを()の変という。このころ、下級の武士や民間の志士の間には天皇を尊び、外国人を追い払おうという()の考えが広まった。

[解答欄]

[解答] 大老 井伊直弼 安政の大獄 桜田門外 尊王攘夷

[問題](1 学期期末)

外国からの圧迫を受けて政治や経済が不安定になると、日本国内では外国と幕府に対する反感が高まりました。天皇を尊び、外国勢力を追いはらうことをめざした運動を何とよいか。

[解答欄]

--

[解答] 尊王攘夷運動

[問題](1 学期中間)

「尊王攘夷運動」とはどんなことをいいますか、簡単に説明しなさい。

[解答欄]

--

[解答] 天皇を尊び、外国勢力を追いはらうことをめざした運動。

[問題](3 学期)

以下の設問に答えなさい。

- (1) 開国に反対した大名や公家を処罰したため、1860 年に江戸城桜田門外で水戸藩などの浪士たちに暗殺された幕府の大老はだれですか。
- (2) 天皇をうやまい、外国人を排除しようとする運動を何といいますか。
- (3) (2)の運動で、長州藩はどこを通る外国船を攻撃しましたか。
- (4) 薩摩藩の武士が、生麦村(現在の横浜市)で行列を横切ったイギリス人を殺害したため、翌年イギリスから報復を受けた。これを何といいますか。

[解答欄]

(1)	(2)	(3)	(4)
-----	-----	-----	-----

[解答](1) 井伊直弼 (2) 尊王攘夷運動 (3) 下関海峡 (4) 薩英戦争

[問題](1 学期中間)

以下の文を読み、後の各問いに答えなさい。

1858 年に幕府は条約を結ぶが、反対をしていた大名や武士を(ア)弾圧した。しかしかえって反発は強まり、(イ)幕府の大老は暗殺されてしまう。日本では外国の排斥と天皇を尊ぶ考えが結び付いて、(ウ)大きな運動となっていく。

- (1) 傍線アの弾圧とは何か、答えなさい。 また、この弾圧によって処刑された人物を 1 人答えなさい。
- (2) 傍線イの事件を何というか。 また、暗殺された人物名も書きなさい。
- (3) 傍線ウの大きな運動とは何か、6 字で書きなさい。

[解答欄]

(1)		(2)	
(3)			

[解答](1) 安政の大獄 吉田松陰(橋本左内) (2) 桜田門外の変 井伊直弼
(3) 尊王攘夷運動

[問題](前期期末)

桜田門外で暗殺された井伊直弼は、江戸幕府の大老職にあったが、なぜ暗殺されてしまったのか。理由を書きなさい。

[解答欄]

--

[解答]開国に反対した大名・公家・志士を厳しく処罰したため。

[問題](1 学期期末)

次の文を読んで、各問いに答えなさい。

- A 大老()は、反対派の意見をおさえ、朝廷の許可を得ないまま、アメリカと条約を結んだ。
- B 幕府の政治に反対する人々は朝廷をよりどころとして日本をまとめ、外国を排除しようとした。
- C この藩は、イギリス商人を殺害する事件をおこしたため、イギリス艦隊に砲撃され、大きな被害を受けた。
- (1) A の文中の()にあてはまる人物名を答えなさい。
- (2) B の下線部の運動を何というか。答えなさい。
- (3) C の下線部の「この藩」とはどこですか。

[解答欄]

(1)	(2)	(3)
-----	-----	-----

[解答](1) 井伊直弼 (2) 尊王攘夷運動 (3) 薩摩藩

[問題](2 学期期末)

次の各問いに答えよ。

- (1) 次の , は、どの藩について述べたものか。藩名を[]より選べ。
下関砲台をイギリスなどに占領され、攘夷が不可能なことを知った。
大名行列を横切ったイギリス人を殺害し、翌年にその報復を受けて敗れた。
[薩摩藩 土佐藩 水戸藩 長州藩]
- (2) (1)の , の藩に共通する点は何か。次より1つ選べ。
[旗本 外様大名 譜代大名 御三家]
- (3) (1)の , の藩で実権をにぎっていた人物を、次の[]より1人ずつ選べ。
[大久保利通 吉田松陰 岩倉具視 木戸孝允]

[解答欄]

(1)		(2)	(3)

[解答](1) 長州藩 薩摩藩 (2) 外様大名 (3) 木戸孝允 大久保利通

[解説]

1862年にイギリス商人を殺害する事件を起こしたため、翌1863年にイギリス艦隊に鹿^{ほうげき}児島を砲撃され、大きな被害を受けたのは薩^{さつ}摩^ま藩である(薩^{さつ}英^{えい}戦争)。1863年に下^{しも}関^{のせき}を

通る外国船に砲撃をくわえたため、イギリス・フランス・アメリカ・オランダからなる
四国艦隊に攻撃され、下関砲台^{ほうだい}を占領されたのは長州藩^{ちようしゅう}である。長州藩の指導者は
木戸孝允^{きと かのよし}と高杉晋作^{たかすぎしんさく}で、薩摩藩の指導者は西郷隆盛^{さいごうたかもり}と大久保利通^{おおくぼとしみち}であった。

[問題](増補 11)(2 学期期末)

横浜郊外でイギリス人が殺傷された事件の名前を書きなさい。

[解答欄]

[解答]生麦事件

[問題](後期中間)

薩摩藩や長州藩が攘夷の実行が不可能であることをさとったのはなぜか。右の写真の出来事をもとに、説明しなさい。



[解答欄]

[解答]長州藩・薩摩藩ともに、実際に外国の艦隊の砲撃を受け、その軍事力の強さを思い知ったから。

【】 倒幕

[問題] (3 学期)

文中の()に適語を入れよ。

1866 年, 土佐藩出身の()の仲立ちで, 薩摩藩と長州藩は()同盟を結び, 倒幕へとむかっていった。この両藩が武力で幕府を倒す計画を進めているとき, 15 代將軍の()は, 政權を天皇に返すことを申し出た。これを()という。これに対し, 朝廷は()を發表して新政府の成立を宣言し, 幕府の領地を取り上げ, 天皇が直接政治を行うことを決めた。

これを不満とした旧幕府軍と新政府軍が京都近郊の()で戦端を開き, ()戦争がおこった。戦いは翌年まで続き, 北海道の()で新政府軍の勝利に終わった。

[解答欄]

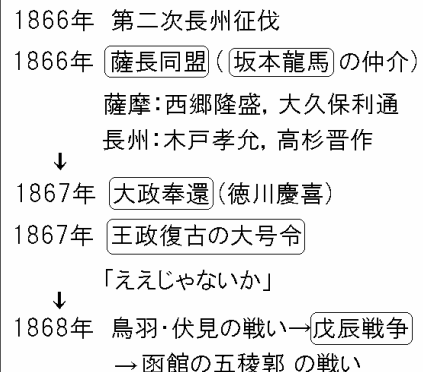
[解答] 坂本龍馬(竜馬) 薩長 徳川慶喜 大政奉還 王制復古の号令
鳥羽・伏見 戊辰 函館

[解説]

外国艦隊の砲撃を受け, 完全な敗北を経験した長州藩と薩摩藩は, 攘夷が不可能なことを身をもってさとした。さらに, この強力な欧米列強の植民地になることをまぬかれ, 独立を保っていくためには, 幕府を倒して強い統一国家を作るしかないという結論に達した。

1866 年に, 土佐藩出身の坂本龍馬(竜馬)らの仲立ちで, 薩摩藩と長州藩は薩長同盟を結び, 薩摩藩の西郷隆盛と大久保利通, 長州藩の木戸孝允と高杉晋作を中心に, 倒幕へとむかっていった。

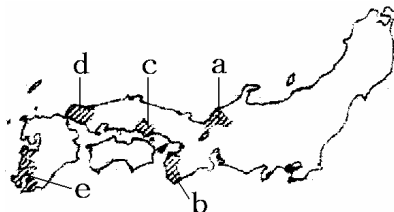
1866 年, 幕府は, 第二次長州征伐を行ったが, 各地で破れた。このころ, 全国で世直しを期待して一揆が起こり, 1867 年には, 「ええじゃないか」といって人々が熱狂するさわぎが, 各地で流行した。1867 年, 薩摩藩と長州藩が武力で幕府を倒す計画を進めているとき, 15 代將軍の徳川慶喜は, 政權を天皇に返すことを申し出た。これを大政奉還という。慶喜は, 天皇のもとに大名の会議を作り, 自分は議長として政治の実権を持ち続けようと考えていた。これに対し,



朝廷は王政復古の号令を發表して新政府の成立を宣言し、幕府の領地を取り上げ、天皇が直接政治を行うことを決めた。これを不満とした旧幕府軍は、1868年1月、新政府と戦争を起したが、鳥羽・伏見の戦いで敗れた。新政府は、軍を東にすすめ、江戸城を明け渡させた。ついで、会津若松など東北地方で戦い、最後に北海道函館の五稜郭にたてこもった幕府軍を打ち破った。鳥羽・伏見から函館にいたるこの戦いを戊辰戦争という。

[問題](1 学期中間)

右の地図で倒幕の中心となった藩を a~e から 2 つ選び、その藩名も漢字で答えなさい。



[解答欄]

--	--

[解答] e, 薩摩藩 d, 長州藩

[解説]

倒幕の中心になったのは e の薩摩藩と d の長州藩であった。薩摩藩の指導者は西郷隆盛で、竹馬の友である大久保利通とともに倒幕をおしすすめた。長州藩の指導者は木戸孝允(当時は桂小五郎)であった。薩長同盟を結ぶ以前には、薩摩と長州の間には感情的な対立があったが、幕府の長州征伐を受けて窮地に追い込まれていた長州藩に、最新式の鉄砲を薩摩が仲立ちとなって輸入することを土佐藩出身の坂本龍馬(竜馬)があっせんした。こうして、坂本龍馬(竜馬)の仲立ちによって薩長同盟が成立し、倒幕の体制が整った。

[問題](増補 11)(2 学期中間)

次の各問いに答えなさい。

- (1) 幕末に薩摩藩の政治を実質的に動かしていた中心人物を、下の[]から 2 人選びなさい。
- (2) 幕末に長州藩の政治を実質的に動かしていた中心人物を、下の[]から 2 人選びなさい。

[木戸孝允 勝海舟 西郷隆盛 後藤象二郎 大隈重信 大久保利通 高杉晋作]

[解答欄]

(1)	(2)
-----	-----

[解答](1) 西郷隆盛, 大久保利通 (2) 木戸孝允, 高杉晋作

[問題](前期期末)

慶子さんは、薩長同盟についてインターネットを使って調べていました。すると、この同盟は、江戸幕府をたおして強力な統一国家を作るために、右の人物が仲立ちとなって結成されたことがわかりました。



- (1) この人物の 名前と、 出身藩を書きなさい。(ヒント：現在の高知県)
- (2) 薩長とは、薩摩藩と長州藩をさすが、それぞれの藩で幕末に活躍していた人物名を 1 人ずつ書きなさい。

[解答欄]

(1)		(2)薩摩：	長州：
-----	--	--------	-----

[解答](1) 坂本龍馬(竜馬) 土佐藩 (2)薩摩：西郷隆盛(大久保利通) 長州：木戸孝允(高杉晋作)

[問題](1 学期期末)

倒幕のための同盟をつくる仲立ちをした、土佐藩出身の武士はだれですか。

[解答欄]

[解答]坂本龍馬(竜馬)

[問題](後期中間)

大政奉還を行った徳川最後の 15 代将軍は誰ですか。

[解答欄]

[解答]徳川慶喜

[問題](1 学期期末)

大政奉還は、政権を どころが、 どこに返還したことですか。それぞれ漢字 2 字で書きなさい。

[解答欄]

--	--

[解答] 幕府 朝廷

[問題](増補 11)(1 学期期末)

大政奉還とは何か，15 字以内で簡単に答えなさい。

[解答欄]

[解答]幕府が朝廷に政権を返すこと。

[問題](増補 11)(前期期末)

大政奉還の舞台となった城を次の[]から選びなさい。

[江戸城 小田城 二条城 大阪城]

[解答欄]

[解答]二条城

[問題](増補 11)(1 学期中間)

次の各問いに答えなさい。

- (1) 1867 年，幕府は朝廷に政権を返したが，このできごとを何といいますか。
- (2) (1)を行った幕府の将軍はだれですか。
- (3) (1)に対し，西郷隆盛や岩倉具視らは，朝廷を動かして，天皇の政治にもどすことを宣言しました。このことを何といいますか。
- (4) (1)のころ，各地で右の資料のようなさわぎが流行しました。これを何といいますか。
- (5) この後，旧幕府軍と新政府軍の間で 1 年半にわたる戦いがおこりました。この戦いを何といいますか。



[解答欄]

(1)	(2)	(3)
(4)	(5)	

[解答](1) 大政奉還 (2) 徳川慶喜 (3) 王政復古の号令 (4) ええじゃないか (5) 戊辰戦争

[問題](1 学期中間)

幕末当時、力のある藩のうち 2 つの藩はやがて手を結び、倒幕へと時代が動いていく。1867 年、徳川慶喜は政権を朝廷に返すことを申し出た。倒幕勢力はすぐさま(A)を出し、天皇中心の政府をつくることを宣言した。その後、日本国内は内戦状態になる。この戦争を(B)という。

- (1) 傍線の 2 つの藩が手を結んだことを何といいますか。
- (2) 文中の(A)(B)に適する語句を入れなさい。
- (3) この倒幕運動で活躍をした人物を 2 人書きなさい。
- (4) 上の文のような流れで江戸幕府は倒れ、明治新政府ができていく。この倒幕から新しい国が作り出されていく中の政治、社会の大きな変化を何とというか。4 字で答えなさい。

[解答欄]

(1)	(2)A	B
(3)	(4)	

[解答](1) 薩長同盟 (2)A 王政復古の号令 B 戊辰戦争 (3) 西郷隆盛、木戸孝允(大久保利通) (4) 明治維新

[問題](1 学期期末)

次の各問いに答えよ。

- (1) 新政府と旧幕府軍の戦いを何とよぶか。
- (2) (1)の戦いの時、白虎隊の悲劇を生んだ福島県の都市とはどこか。都市名を答えよ。
- (3) (1)の戦いで、旧幕府軍は最後にどこで降伏したのか。その地名を答えよ。また、現在の都道府県名を答えよ。

[解答欄]

(1)	(2)	(3)	
-----	-----	-----	--

[解答](1) 戊辰戦争 (2) 会津若松 (3) 函館 北海道

[解説]

鳥羽・伏見の戦いに敗れた徳川慶喜は江戸にのがれた。西郷隆盛が率いる官軍は江戸に攻め下ったが、すでに戦意を失っていた慶喜は恭順の意を示し、官軍側の西郷隆盛と幕府側の勝海舟の交渉で江戸城の無血接收が決まった。官軍は、会津若松など東北地方で戦い、最後に北海道函館の五稜郭にたてもった幕府軍を打ち破った。鳥羽・伏見から函館にいたるこの戦いを戊辰戦争という。

[問題](増補 11)(1 学期期末)

戊辰戦争の原因を、下のア～エから 1 つ選び、記号で答えなさい。

- ア 幕府が大政奉還を行い、朝廷の政治への影響力を取りのぞこうとしたため。
- イ 朝廷が大政奉還を行い、幕府の政治への影響力を取りのぞこうとしたため。
- ウ 幕府が王政復古の号令を発し、朝廷の政治への影響力を取りのぞこうとしたため。
- エ 朝廷が王政復古の号令を発し、幕府の政治への影響力を取りのぞこうとしたため。

[解答欄]

[解答]エ

[問題](後期中間)

幕府軍が最後の抵抗をしたのは函館の何というところですか。

[解答欄]

[解答]五稜郭

[問題](1 学期期末)

次の A～D の文を古い順に並べかえなさい。

- A 旧幕府軍は、新政府と戦争をおこしたが、相次いで敗れ、降伏した。
- B 土佐藩出身の坂本龍馬は、薩摩藩と長州藩にひそかに同盟を結ばせた。
- C 外国の艦隊は連合して長州藩に報復の攻撃をし、下関砲台を占領した。
- D 15 代将軍徳川慶喜は、政権を朝廷に返し、約 260 年続いた江戸幕府の政治は終わった。

[解答欄]

[解答]C, B, D, A

【】年表・総合問題 : 幕末

[問題](後期中間)

次の年表をみて、各問いに答えなさい。

- (1) 年表中の ~ にあてはまるできごとを下から選びなさい。
 ア 日米和親条約が結ばれる
 イ 王政復古の大号令が出される
 ウ 外国船打払令が出される
 エ 安政の大獄がおこる
- (2) 年表中 a にあてはまる人物を書きなさい。
- (3) 年表中 A で、この事件により暗殺された人物は誰ですか。
- (4) 年表中 B で、仲立ちを行った人物は誰ですか。

年代	おもなできごと
1825 年	()
1837 年	大塩平八郎の乱がおきる
1841 年	天保の改革が始まる
1853 年	(a)が浦賀に来航する
1854 年	()
1858 年	日米修好通商条約が結ばれる
1859 年	()
1860 年	桜田門外の変がおきる……A
1866 年	薩長同盟が成立する………B
1867 年	大政奉還がおこなわれる
1867 年	()
1868 年	戊辰戦争がおこる

[解答欄]

(1)			
(2)	(3)	(4)	

[解答](1) ウ ア エ イ (2) ペリー (3) 井伊直弼 (4) 坂本龍馬(竜馬)

[問題](1 学期期末)

右の年表を見て、次の各問いに答えなさい。

- (1) 年表中の ~ にあてはまる語句を、次から選んで書きなさい。
 [徳川慶喜 井伊直弼 大塩平八郎 坂本龍馬 寛政の改革 天保の改革]
- (2) 年表中の高野長英らは、幕府が鎖国を続けるために出した外国船を撃退する法令を批判したため、処罰されました。その法令とは何ですか。
- (3) 年表中の A によって、討幕運動が勢いを増しました。この 2 つの藩はどこですか。次から選んで書きなさい。
 [尾張藩 薩摩藩 水戸藩 長州藩 彦根藩]

年代	おもなできごと
1837 年	幕府の役人だった()が反乱をおこす
1839 年	幕府が高野長英らを処罰する
1841 年	水野忠邦が()を行う
1858 年	()が大老となる
1866 年	2 つの藩が同盟を結ぶ A
1867 年	大政奉還が行われる

[解答欄]

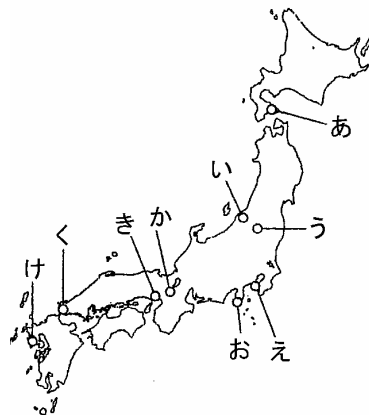
(1)			(2)
(3)			

[解答](1) 大塩平八郎 天保の改革 井伊直弼 (2) 外国船打払令(異国船打払令) (3) 薩摩藩, 長州藩

[問題](2 学期期末)

次の年表や地図を見て, 以下の各問いに答えよ。

年代	おもなできごと
1853 年	()が浦賀に来る … A
1854 年	()条約を結ぶ … B
()年	()条約を結ぶ … C
1860 年	()外で大老()が暗殺される
1866 年	薩摩藩と()藩が同盟を結ぶ … D
1867 年	()が行われる … E
1867 年	朝廷が()を発する
1868 年	()戦争が始まる



- 年表中の ~ にあてはまる適当な語句や数字を答えよ。
- 年表中 A の時にやってきた軍艦を, 人々は何とよんでおそれたか。
- 年表中 B で開かれた港を, 2 つとも答えよ。また, それぞれの港の位置を上の地図のあ~けより 1 つずつ選び, 記号で答えよ。
- 年表中 C は, 日本にとって不利で不平等な内容を含んでいた。どのような点が不利で不平等であったか。2 つとも答えよ。
- わが国が開国したのは, 年表中 A ~ C のどの時か。記号で答えよ。
- 年表中 D の同盟のなかだちをした, 土佐藩出身の人物は誰か。
- 年表中 E を行った江戸幕府の 15 代将軍は誰か。

[解答欄]

(1)			
		(2)	(3)
	(4)		
(5)	(6)	(7)	

[解答](1) ペリー 日米和親 1858 日米修好通商 桜田門 井伊直弼 長州 大政奉還 王政復古の大号令 戊辰 (2) 黒船 (3) 下田, お函館, あ (4) 領事裁判権(治外法権)を認めたこと。日本が関税自主権をもたないこと。(5) B (6) 坂本龍馬(竜馬) (7) 徳川慶喜

[問題](1 学期期末)

次の年表を見て, 各問いに答えなさい。

- (1) 年表中 A のできごとを何というか。答えなさい。
- (2) 年表中の a, b にあう出来事を次の[] からそれぞれ選びなさい。
[島原・天草一揆 薩長同盟 桜田門外の変 外国船打払令]
- (3) 年表中 B を行った人物は誰か。答えなさい。
- (4) 年表中 , にあてはまる語句を書きなさい。
- (5) 「ええじゃないか」といって人々が熱狂したのは, 年表中のア~エのうちのどの時期にあてはまるか。記号で答えなさい。

年代	おもなできごと
1853 年	黒船の来航 ↓ア
1854 年	日米和親条約を結ぶ。
1858 年	日米修好通商条約を結ぶ。 ↓イ
1859 年	吉田松陰らが処刑される。A
1860 年	(a)が起きる。 ↓ウ
1866 年	(b)が結ばれる。 ↓エ
1867 年	大政奉還が行われる。…B
1868 年	()の大号令 ()戦争がおこる

[解答欄]

(1)	(2) a	b	(3)
(4)		(5)	

[解答](1) 安政の大獄 (2)a 桜田門外の変 b 薩長同盟 (3) 徳川慶喜 (4) 王政復古 戊辰 (5) エ

[問題](1 学期期末)

次の文を読み、各問いに答えよ。

- A ()藩は、下関で外国船に砲撃を加えた。しかし、四国艦隊に攻撃され大きな損害を受けた。
- B 近畿・東海道・関東南部で伊勢神宮のお札が降ってきたといううわさをきっかけに、民衆が歌い踊る騒ぎがおこった。
- C 朝廷は新政府の成立を宣言し、天皇が直接政治を行うことを決めた。
- D 土佐藩出身の()の仲立ちで、()が結ばれ、武力で幕府を倒す計画が進められた。
- E 新政府軍は、鳥羽・伏見の戦いで旧幕府軍をむかえうち、この戦争が始まった。函館は最後の決戦場となった。
- F 15代将軍()は政権を天皇に返すことを申し出た。

- (1) ~ にあてはまる語句をそれぞれ漢字で書け。
- (2) Aのような外国人をうち払えという考え方を何というか。
- (3) Cのできごとを何というか。
- (4) Dのできごとに関係のない人物を次の[]から選べ。
[大久保利通 高杉晋作 伊能忠敬 西郷隆盛]
- (5) Eの戦争を何というか、漢字で書け。
- (6) Fのできごとを何というか。
- (7) A~Fでもっとも古いできごとと、最後のできごとをそれぞれ選び、記号を書け。

[解答欄]

(1)			
(2)	(3)	(4)	(5)
(6)	(7)古い:	最後:	

[解答](1) 長州 坂本龍馬(竜馬) 薩長同盟 徳川慶喜 (2) 攘夷 (3) 王政復古の大本営 (4) 伊能忠敬 (5) 戊辰戦争 (6) 大政奉還 (7)古い:A 最後:E

[印刷 / 他の PDF ファイルについて]

このファイルは、FdData 中間期末社会歴史(7,200 円)の一部を PDF 形式に変換したサンプルで、印刷はできないようになっています。製品版の FdData 中間期末社会歴史は Word(または一太郎)の文書ファイルで、印刷・編集を自由に行うことができます。

FdData 中間期末(社会・理科・数学)全分野の PDF ファイル、および製品版の購入方法は <http://www.fdtype.com/dat/> に掲載しております。

下図のような、[FdData 無料閲覧ソフト(RunFdData)]を、Windows のデスクトップ上にインストールすれば、FdData 中間期末・FdData 入試の全 PDF ファイル(各教科約 1500 ページ)を自由に閲覧できます。次のリンクを左クリックするとインストールが開始されます。

RunFdData(Word 版) 【 <http://www.fdtype.com/lnk/instRunFdDataWDs.exe> 】

RunFdData(一太郎版) 【 <http://www.fdtype.com/lnk/instRunFdDataTAs.exe> 】

ダイアログが表示されたら、【実行】ボタンを左クリックしてください。インストール中、いくつかの警告が出ますが、[実行][許可する][次へ]等を選択します。

【イメージ画像】



【Fd 教材開発 : URL <http://www.fdtype.com/dat/> Tel (092) 404-2266】