

【】市民革命

[問題](1学期中間)(増補 08)

次の文章の ~ に適当な語句や数字を入れなさい。

16 世紀のイギリスでは軍隊(常備軍)を背景に国王の権力が強くなった。この王による政治を( )王政とよぶ。とくに権力が強かったのは女王( )一世の時代であった。17 世紀に入り議会や市民が力をつけ,王と対立するようになり,1640 年ついに( )革命がおき,さらに 1688 年( )革命により議会政治の基礎がつくられた。

アメリカでは移住したイギリス植民地の人々が,白人中心の新天地をつくりあげていった。しかしイギリス本国は,重い税をかけ弾圧した。そこで人々は抗議し立ち上がった。( )年に独立宣言を発表し,ワシントン<sup>ワシントン</sup>を総司令官に任命し,彼の活躍で独立を勝ち取った。このときは 13 州であったが,現在は( )州になっている。

フランスにおいての( )王政の絶頂期はベルサイユ宮殿を建てた( )の時代であった。しかし,しだいに財政難におちいり人々に重い税をかけたため,( )年にフランス革命が起こった。身分の特権を廃止し,自由・平等・人民主権などをうたう( )を発表した。革命の波及を恐れる国々が干渉し,長い戦争が始まった。この不安定な政情のなかで軍人の( )が政権につき,1804 年皇帝の地位につきヨーロッパの大部分を支配した。

[解答欄]


[解答] 絶対 エリザベス 清教徒 名誉 1776 50 ルイ 14 世 1789  
人権宣言 ナポレオン

[解説]

16 世紀のイギリスでは軍隊を背景に国王の権力が強くなった。この王による政治を絶対王政とよぶ。とくに権力が強かったのは女王エリザベス一世の時代であった。イギリスでは 1642 年に清教徒革命<sup>せいきょうと</sup>が起こり,1649 年に国王が処刑され共和制がひかれた。しかし,政権をにぎったクロムウェルの独裁政治は人々の不満をまねき,その死後,王政が復活した。1688 年に名誉革命<sup>めいよ</sup>が起こり,国王を追放した議会は新しい国王を迎えて国民の権利と自由を守ることを約束させた。「国王は国会の承認なしに法律を停止することはできない。国会における言論の自由は守られねばならない。…」はこのときに出された権利の章典<sup>しやうてん</sup>である。こうして議会政治の基礎ができあがった。(名誉革命一路はや(1688))

年代	おもなできごと
1642 年	イギリスで清教徒革命が始まる。
1688 年	イギリスで名誉革命が始まる。
1775 年	アメリカの独立戦争が始まる。
1789 年	フランス革命が始まる。
1804 年	ナポレオンがフランスの皇帝になる。

イギリスの植民地であったアメリカは、1775年に独立戦争を起こし、1776年には、「我々は、次の真理を自明のものと認める。すべての人は平等につくられている…」という独立宣言を出し、総司令官のワシントンを初代の大統領に選んだ。(ひとつ名なろう(1776)と独立宣言) 独立戦争に勝ったアメリカは、人民主権、連邦制、三権分立を柱とする合衆国憲法を制定した。

フランスでは、17世紀の後半、ベルサイユ宮殿をつくったルイ14世の時代が絶対王政の最盛期であった。1789年にバスチーユ牢獄襲撃<sup>バスチーユ</sup>事件をきっかけに、フランス革命が起こり、国王ルイ16世が処刑された。(非難は急(1789)だフランス革命) 「人は生まれながら、自由で平等な権利を持つ。社会的な区別は、ただ公共の利益に関係のある場合にしか設けられてはならない。」はこのときに出された人権宣言である。その後、革命の影響が及ぶのをおそれたまわりの国々がフランスに攻め込んだが、こうした中で軍人のナポレオンが政権をにぎり、1804年にフランス皇帝になり、一時はヨーロッパのほとんどを征服した。

[問題](増補06)(1学期期末)

近世のヨーロッパの動きについて次の各問いに答えなさい。

- (1) 16世紀後半から、ヨーロッパでは、国王中心の強力な政治のしくみが作られた。議会を無視し軍隊を強化し大商人と結んで海外へ進出していった。このような政治のしくみを何というか答えよ。
- (2) イギリスとフランスで、(1)の政治のもと繁栄した国王の名前を、下から選んで答えよ。  
イギリス：スペインの艦隊を破り東インド会社を設立しアジアへ進出した。  
フランス：ベルサイユ宮殿を建設し、海外へも進出していった。  
[ナポレオン ルイ14世 ルイ16世 エリザベス1世]

[解答欄]

(1)	(2)	
-----	-----	--

[解答](1) 絶対王政 (2) エリザベス1世 ルイ14世

[問題](増補 06)(3 学期)

アメリカの独立戦争について、次の各問いに答えなさい。

- (1) 北アメリカに移住した人々は、本国による新しい税と弾圧に抗議して、1776 年に何を発表しましたか。
- (2) (1)の「本国」とはどこか。
- (3) 独立戦争のとき、アメリカを援助した国はどこか。
- (4) 独立戦争に勝ったアメリカは、人民主権、連邦制、三権分立を柱に民主的な憲法を定めた。この憲法を何といいますか。

[解答欄]

(1)	(2)	(3)	(4)
-----	-----	-----	-----

[解答](1) 独立宣言 (2) イギリス (3) フランス (4) 合衆国憲法

[問題](増補 06)(3 学期)

次の各問いに答えなさい。

- (1) 18 世紀までのフランスでは、強力な官僚制と常備軍をもとに、国王が絶対的な権力をにぎっていた。この政治のしくみを何といいますか。
- (2) 1789 年、国王の政治に対する不満から、フランスでおこった革命を何といいますか。
- (3) 下の資料は、(2)の革命のときに発表されたものである。この資料を何といいますか。  
第 1 条 人は生まれながら、自由で平等な権利を持つ。社会的な区別は、ただ公共の利益に関係のある場合にしか設けられてはならない。  
第 3 条 主権のみなもとは、もともと国民のなかにある。  
第 11 条 思想および言論の自由な発表は人間の最も尊い権利の一つである。
- (4) (2)の革命の後、まわりの国々による干渉が始まったが、その理由を簡単に説明しなさい。
- (5) 不安定な政情のなかでフランスの政権をにぎり、ヨーロッパの大部分を征服した軍人はだれですか。

[解答欄]

(1)	(2)	(3)
(4)		

[解答](1) 絶対王政 (2) フランス革命 (3) 人権宣言 (4) 革命が広がるのをおそれたため。 (5) ナポレオン

[問題](1 学期中間)

次の年表を見て、次の各問いに答えなさい。

- (1) 年表中の ~ について説明した次の文を読んで、あてはまる語句や人物名を書きなさい。

議会が王をとらえて処刑し、共和制をしいた。

無血で実現した革命で、市民社会にふさわしい議会政治の基礎が固まった。

パリの民衆が立ち上がり、全国各地で農民が領主の館を襲った。

一時はヨーロッパ大陸をほぼ征服し、ロシア遠征を試みたが失敗した。

年代	おもなできごと
1642 年	イギリスで( )が始まる。 …A
1688 年	イギリスで( )が始まる。 …B
1775 年	アメリカの独立戦争が始まる …
1789 年	C
1804 年	( )が始まる。 ( )がフランスの皇帝になる。

- (2) 年表中の A ~ C にもっとも関係の深い語句や人物を、次から 1 つ選んで書きなさい。

[マルクス 農奴解放 アダム・スミス クロムウェル 鉄血宰相

ワシントン 奴隷解放 ビスマルク 権力の章典 ルター カルバン]

- (3) の革命は、人々がある牢獄をおそった事件がきっかけとなっている。この牢獄は何か。書きなさい。

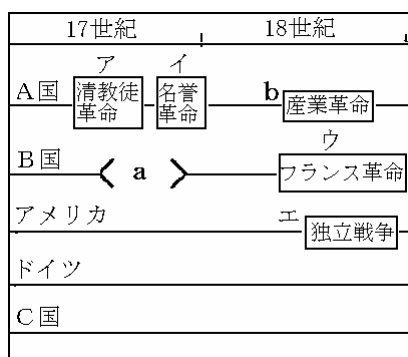
[解答欄]

(1)			
(2)A	B	C	(3)

[解答](1) 清教徒革命 名誉革命 フランス革命 ナポレオン (2)A クロムウェル  
B 権力の章典 C ワシントン (3) パスチュー牢獄

[問題](1 学期中間)

次の各問いに答えなさい。



[資料 ]

第 1 条 人は生まれながら、自由で( )な権利を持つ。社会的な区別は、ただ公共の利益に関係のある場合にしか設けられてはならない。

[資料 ]

我々は、次の真理を自明のものと認める。すべての人は( )につくられていること。かれらは、創造者によって、一定のゆずれない権利をあたえられていること。…これらの権利を確保するために、政府が設けられ…

- (1) 図中 a の頃、ベルサイユ宮殿をつくった王の名前を答えなさい。

- (2) の資料は、それぞれ、図中のア～エのうちどの時に発表されたものか。答えなさい。
- (3) の資料中の( )に共通して当てはまる語句を答えなさい。
- (4) の資料をそれぞれ何というか。答えなさい。
- (5) 図中エの独立戦争後に定められた合衆国憲法の内容に当てはまらないものを次から 1 つ選びなさい。

[立憲王政 人民主権 三権分立 連邦制度]

[解答欄]

(1)	(2)	(3)	(4)
	(5)		

[解答](1) ルイ 14 世 (2) ウ エ (3) 平等 (4) 人権宣言 独立宣言 (5) 立憲王政

[問題](増補 06)(1 学期期末)

次の資料を読んで、以下の問いに答えなさい。

[A]

第 1 条 人間は生まれながらにして( a )かつ( b )な権利を持っている

第 2 条 あらゆる政治的結合の目的は、自然にして侵すことの出来ない人権を維持することにある。その権利とは、自由・財産所有・安全および圧政に対する抵抗である。

第 3 条 あらゆる主権の原理は、本来国民の内にある。

[B]

1 ( c )は国会の承認なしに法律の効力を止めさせ、または法律の失効を止めさせられる権限があると言っているが、そのようなことは違法である。

4 国会が承認するのと違う方法で、王のために金銭を徴収することは違法である。

5 ( c )に請願することは臣民の権利であり、そのような請願をしたことを理由に逮捕したり裁判したりすることは違法である。

[C]

われわれは、次の真理を自明なものと認める。すべての人は平等につくられていること。彼らは、その創造者によって、一定の譲るべからざる権利を与えられていること。それらの中には、( d )・( a )および幸福の追求が数えられること。そうして、これらの権利を確保するために、人々の間に( e )が設けられ、その正当な権力は治められる人の同意にもとづくこと。どんな形態の(e)でも、この目的に有害なものとなれば、それを変更または廃止して新しい(e)をつくることは、人民の権利であること。

(1) 上の資料中の(a)～(e)に当てはまる語句を答えなさい。

(2) 上の資料 A～C の名前をそれぞれ答えなさい。

(3) 上の資料 A～C を時代の古い順に並べ替えなさい。

(4) 上の資料 A～C と深い関係のある出来事をそれぞれ選び、記号で答えなさい。

ア 産業革命    イ 名譽革命    ウ 南北戦争    エ 戊辰戦争    オ 独立戦争  
カ フランス革命    キ IT 革命

[解答欄]

(1)a	b	c	d	e
(2)A	B		C	(3)
(4)A	B	C		

[解答](1)a 自由 b 平等 c 国王 d 生命 e 政府 (2)A フランス人権宣言 B 権利章典 C アメリカ独立宣言 (3) B, C, A (4)A カ B イ C オ

[問題](1 学期期末)

次の資料を読んで、各問いに答えよ。

[資料 ]  
国王は(ア)の承認なしに法律を停止することはできない。  
(ア)における言論の自由は守られねばならない。

[資料 ]  
第1条 人間は生まれながらにして、(イ)・(ウ)である。  
第3条 (エ)は国民にある。

[資料 ]  
われらは、次のことを自明の真理だと信ずる。すべての人は(ウ)につくられ、生命・(イ)、幸福追求の権利を、神からあたえられている。これらの権利を守るために政府がつくられた。

- (1) 資料中の( )にあてはまる語句を書け。ただし、同一記号の( )には同じ語句がはいる。
- (2) それぞれの資料は何という革命の時に出されたものか。それぞれの革命を書け。
- (3) 資料 ・ とそれぞれ関係の深い人物を次から選び、記号を書け。  
1 リンカーン    2 ルイ 16 世    3 クロムウエル    4 ワシントン
- (4) 上の資料に関係する革命が起こる前にイギリスやフランスなどでおこなわれた、国王が大きな力をもった政治を何というか。
- (5) 上の資料を年代の古い順に並べなさい。

[解答欄]

(1)ア	イ	ウ	エ	(2)
		(3)	(4)	(5)

[解答](1)ア 議会    イ 自由    ウ 平等    エ 主権 (2) 名譽革命    フランス革命    独立戦争  
(3) 2    4 (4) 絶対王政 (5)

**[問題](1学期中間)**

文中の( ) ~ にあてはまる人物名を答えなさい。

アメリカの独立戦争に先立って、西ヨーロッパでは啓蒙思想が広まっていた。( )の説いた社会契約説はアメリカ独立の支えとなり、三権分立を説いた( )や、自然への回帰と人民主権を唱えた( )らに大きな影響をあたえた。

**[解答欄]**

--	--	--

**[解答]** ロック      モンテスキュー      ルソー

## 【】産業革命

### [問題](1 学期期末)

次の文を読んで、各問いに答えよ。

( )世紀後半から( )では紡績機や織機があいついで発明、改良された。また、蒸気機関が改良され、動力に用いられるようになると、工場制手工業にかわり、( )工業がおこってきた。このような社会の大きな変化を( )という。この結果、( )の工場で安い綿織物が大量に生産されるようになり、( )は綿織物の輸出国から輸入国にされてしまった。

(1) 文中の( )にあてはまる語句や数字を次から選べ。

[18 19 20 アメリカ 日本 イギリス インド 産業革命 市民革命 工場制機械  
問屋制家内]

(2) このころの社会のようすを表すものとして、正しいものを次から2つ選び、記号を書け。

ア 工場で働く労働者の生活は楽になり、豊かな生活が送れるようになった。

イ 農業の発達で、農村の人口が増加した。

ウ 労働災害や貧富の差をめぐる社会問題が生じた。

エ 農村から都市へ人口が移動した。

### [解答欄]

	(2)		

[解答] 18 イギリス 工場制機械 産業革命 インド (2) ウ, エ

### [解説]

18世紀のイギリスでは、インドの良質の綿布に対抗するために、紡績機や織機があいついで発明、改良され、綿織物業から産業革命が始まった。また、蒸気機関が改良され、動力に用いられるようになると、工場制手工業にかわり、工場制機械工業がおこってきた。19世紀にイギリスは、その繁栄ぶりから「世界の工場」とよばれた。

産業革命によって、農村から都市へ人口が移動し、都市には工場で働く労働者があふれた。資本家は利益をあげるために、労働者を安い賃金で長時間働かせた。その結果、労働災害や貧富の差をめぐる社会問題が生じた。労働者は生活を守るために労働組合を結成し、さらに、資本主義の経済の矛盾を克服しようとする社会主義の考え方も芽ばえた。

[問題](1 学期中間)

次の文を読んで、各問いに答えなさい。

18 世紀後半から 19 世紀にかけて、ヨーロッパやアメリカで、(a)機械による生産と社会の仕組みの変革がおこると、資本家が労働者を雇って利潤第一に経営する( )主義の経済が進んだが、その経済の矛盾を克服しようとする( )主義の支持者も増えた。

(1) 文中の( ) ~ にあてはまる語句を答えなさい。

(2) 下線部 a の変革を何というか、答えなさい。

[解答欄]

(1)		(2)
-----	--	-----

[解答](1) 資本 社会 (2) 産業革命

[問題](増補 06)(1 学期期末)

次の資料を読んで、下の問いに答えなさい。

18 世紀のイギリスは、ア 自国で良質の綿糸、線布を作るために、技術革新が続きました。蒸気力による機械が実用化されると、工場であいイギリス綿布が大量に生産されました。

さらに、( イ )機関車による鉄道が広まり、製鉄、機械、車両、造船、武器などの産業も発達し人々の生活は大きく変わりました。

(1) 下線部アで、イギリスはそれまでどこの国の綿布を輸入していましたか。

(2) 上の文章中のイに当てはまる語句を書きなさい。

(3) 上の文で表される変革を何といいますか。

(4) このころの社会のようすを表すものとして、正しいものを次から 2 つ選び、記号で答えなさい。

ア 物資が豊かになり、生活も便利になった。

イ 労働者の生活は楽になり、豊かな生活が送れるようになった。

ウ 農業の発達で、農村の人口が増えた。

エ 労働災害や貧富の差をめぐる社会問題が生じた。

[解答欄]

(1)	(2)	(3)	(4)
-----	-----	-----	-----

[解答](1) インド (2) 蒸気 (3) 産業革命 (4) ア, エ

[問題](1 学期中間)(増補 08)

18 世紀後半、実用化された蒸気力による動力機関は何か。

[解答欄]

--

[解答]蒸気機関

**[問題](増補 06)(3 学期)**

蒸気機関を発明したのは誰か。次から選びなさい。

[ジョン・ケイ ワット アダム・スミス カートライト]

**[解答欄]**

**[解答]**ワット

**[問題](1 学期中間)**

産業革命はどのような産業から始まったか。次から 1 つ選びなさい。

[造船業 製鉄業 綿織物業 毛織物業]

**[解答欄]**

**[解答]**綿織物業

**[問題](1 学期中間)**

19 世紀にイギリスは、その繁栄ぶりから何とよばれたか。

**[解答欄]**

**[解答]**世界の工場

**[問題](増補 06)(3 学期)**

以下の設問に答えなさい。

- (1) 18 世紀のイギリスでは、技術革新が続き、製鉄、機械などの産業が発達し、人々の生活も大きく変わった。このような変革を何といいますか。
- (2) (1)の変革によって、資本を持つ者が( )をやとって生産するしくみが広まった。こういう経済のしくみを( )主義という。( )にはいる適語を答えなさい。
- (3) (2)の が労働条件の改善をもとめて結成した団体を何といいますか。
- (4) 産業革命の結果、どんな問題が起こってききましたか。
- (5) (4)の問題を解決するために、どんな思想を誰が唱えましたか。

**[解答欄]**

(1)	(2)		(3)
(3)	(4)		

[解答](1) 産業革命 (2) 労働者 資本 (3) 労働組合 (4) 貧富の差や労働災害などの社会問題 (5) 社会主義, マルクス

[問題](増補 06)(1 学期期末)

産業革命に成功した国々は、次々に海外に進出して行った。その目的は、安い( )・食料・製品の( )を求めて、アジア・アフリカに進出し、( )を作ることだった。 ~ にあてはまる言葉を、次の語群から選んで答えなさい。

[植民地 原料 市場]

[解答欄]

--	--	--

[解答] 原料 市場 植民地

【】19世紀の欧米諸国

[問題](増補06)(3学期)

以下の設問に答えなさい。

- (1) イギリスから独立したアメリカでは、自由貿易や奴隷制をめくり、1861年に内戦がおこった。この内戦を何といいますか。
- (2) (1)の内戦中、ゲティスバーグで演説した大統領はだれですか。
- (3) (2)の大統領は民主主義政治について有名な言葉を述べた。それを書きなさい。

[解答欄]

(1)	(2)	(3)
-----	-----	-----

[解答](1) 南北戦争 (2) リンカーン (3) 人民の、人民による、人民のための政府

[解説]

アメリカでは、自由貿易や奴隷制をめぐって北部と南部が対立していた。南部では綿花の栽培が行われていたが、綿つみのためにアフリカから連れてこられた黒人を奴隷として使っていたので、奴隷制を守ろうとした。これに対し、北部では工業が発達し、工場労働者を確保する必要から黒人奴隷の解放を主張した。1860年に南北戦争が起こった。北部側の大統領リンカーンは、奴隷解放宣言を出した。

[問題](後期中間)

綿花栽培などに黒人奴隷を使っていた国は、ある地域から黒人を商品として連れだしていた。どの地域から どの国へ運ばれましたか。

[解答欄]

--	--

[解答] アフリカ アメリカ

[問題](1学期中間)

南北戦争が起こった当時の南部の様子を次のア～エから1つ選びなさい。

- ア 奴隷制度を守ろうとした。 イ 奴隷制度をやめようとしていた。  
ウ 工業製品を多く輸出した。 エ 綿花栽培をやめようとしていた。

[解答欄]

--

[解答]ア

[問題](1 学期中間)(増補 08)

黒人は奴隷として連れてこられた人々の子孫で、1863 年の( )大統領の奴隷解放宣言のあとは、白人社会の中に入っていった。

[解答欄]

[解答]リンカーン

[問題](3 学期)(増補 08)

18 世紀から 19 世紀にかけての欧米諸国のことについての文を読み、各問いに答えなさい。

- A この国は、軽くて美しいインド綿布に対抗して、自国内で良質の綿糸・綿布をつくるために、技術革新を行い、蒸気による機械の実用化により工場で大量に綿布を生産した。また様々な産業発展により人々の生活は大きく変化した。
- B 皇帝の専制政治が続き、たえず南に勢力をのばして行った(南下政策)。また近代化の必要性から農奴を解放した。
- C 自由貿易や奴隷制をめぐり内戦をおこなったこの国は、大陸・横断鉄道を開通させ、国力の充実をはかり成長した。
- D 富国強兵をすすめたこの国はやがてフランスと戦い、その後統一した帝国をつくった。
- (1) A～D の国名を答えなさい。
- (2) A の下線部の変革を何というか答えなさい。
- (3) A の国では世界でもっとも早く資本主義という経済のしくみを完成させた。この経済の説明をした次の文の ， にあてはまる適切な語句を答えなさい。  
生産のもとでになる( )を持つ者が、( )をやとって生産をするしくみが広まった。
- (4) C の内戦は 1861 年に始まった。この戦争名を答えなさい。
- (5) C の内戦後、この国の人物は次の演説をおこなった。次の演説の一部の英文を訳しなさい。  
Government of the people , by the people , for the people
- (6) (5)の演説をおこなった人物を答えなさい。
- (7) D の下線部をすすめた政策を何というか答えなさい。

[解答欄]

(1)A	B	C	D
(2)	(3)		(4)
(5)		(6)	(7)

[解答](1)A イギリス B ロシア C アメリカ D ドイツ (2) 産業革命 (3) 資本 労働者 (4) 南北戦争 (5) 人民の、人民による、人民のための政府 (6) リンカーン (7) 鉄血政策

[解説]

A のイギリスは産業革命後、資本を持つ者が労働者を雇って生産を行う資本主義経済のしくみができあがった。イギリスは「世界の工場」とよばれ世界経済の中心になり、経済力を背景に自由主義が広まり、保守党と労働党による二大政党政治が行われた。

B のロシアは皇帝の専制政治が続いた。1853 年、ロシアはイギリス・フランスとクリミア戦争で戦って敗れたが、その後、近代化の必要性を痛感し農奴解放を行った。

遅れて近代化を始めた D のドイツは、<sup>てっけつさいしやう</sup>鉄血宰相といわれたビスマルクの指導のもと、工業化の進んだ軍事大国をめざす富国強兵策(鉄血政策)を進めた。

[問題](増補 06)(1 学期期末)

文中の( )に適語をいれよ。

世界経済の中心となった( )では、経済力を背景に自由主義が広まり、保守党と労働党による二大政党政治が行われた。産業革命は( )から他の国々にも及んだが、( )は「鉄血政策」と呼ばれる富国強兵をすすめ、軍事大国になった。アメリカでは、自由貿易や奴隷制をめぐる対立から国が分裂し、1861 年に( )戦争がおこった。内戦の最中、北部の( )大統領は( )宣言を出した。この内戦を克服したアメリカは資本主義大国として急成長をとげた。

[解答欄]


[解答] イギリス      ドイツ      南北      リンカーン      奴隷解放

[問題](1 学期中間)

ビスマルクのドイツ帝国は、どんな国家をめざしていたか。簡単に説明しなさい。

[解答欄]

--

[解答]工業化の進んだ軍事大国

[問題](1 学期中間)

1853 年、ロシアはイギリス・フランスと戦って敗れたが、この戦いを何というか。

[解答欄]

--

[解答]クリミア戦争

【】ヨーロッパのアジア侵略

[問題](増補 06)(2 学期中間：改題)

文中の( )に適語をいれよ。

イギリスは清から( )や絹を輸入し、大幅な輸入超過であった。そこでイギリスは、綿製品などの工業製品をインドへ売り込み、インドで作らせた( )を清に密輸で売り込む三角貿易を行った。( )患者が増加し、貿易赤字が大きくなった清は( )の輸入を禁止した。これに対し、1940 年イギリスは艦隊を送り清を屈服させた。この戦争を( )という。1842 年に( )条約が結ばれて、イギリスは清から( )を譲り受けた。南京条約は、( ) (外国人が犯罪を犯しても清は裁判をする権利がない)を認め、関税自主権が清にないことを内容とする不平等条約であった。( )後、賠償金支払いなどのために清は農民に重税を課したので、( )を指導者とする反乱がおこり、( )という国を建てた。清は 14 年がかりでこの反乱を抑えた。

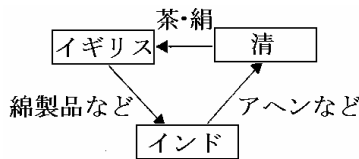
1857 年、イギリスの東インド会社に雇われていた( )というインド兵が反乱をおこし、農民なども加わって反乱は全国に広がった。これを( )という。これを鎮圧したイギリスはムガル帝国を滅ぼし、インドをイギリスの領土とした。

[解答欄]


[解答] 茶 アヘン アヘン戦争 南京 香港 領事裁判権 洪秀全 太平天国 セポイ インドの大反乱

[解説]

イギリスは清から茶や絹を輸入し、大幅な輸入超過であった。そこでイギリスは、綿製品などの工業製品をインドへ売り込み、インドで作らせたアヘンを清に密輸で売り込む三角貿易を行った。



アヘン患者が増加し、貿易赤字が大きくなった清はアヘンの輸入を禁止した。これに対し、1940 年イギリスは艦隊を送り清

を屈服させた。これをアヘン戦争という。(アヘン戦争一発清を(1840)おどろかし) 1842 年に南京条約が結ばれて、イギリスは清から香港を譲り受けた。南京条約は、領事裁判権(外国人が犯罪を犯しても清は裁判をする権利がない)を認め、関税自主権(輸入品の関税率を定める権利)が清にないことを内容とする不平等条約であった。

アヘン戦争後、賠償金支払いなどのために清は農民に重税を課したので、洪秀全を指導者とする

る反乱がおこり、太平天国という国を建てた。清は14年がかりでこの反乱を抑えた。  
イギリスの東インド会社に雇われていたセボイというインド兵が反乱をおこし、農民なども加わって反乱は全国に広がった。これをインドの大反乱という。これを鎮圧したイギリスはムガル帝国を滅ぼし、インドをイギリスの領土とした。(インドの大反乱いやご難(1857))

[問題](1 学期期末)

右の地図と図を見て、各問いに答えよ。

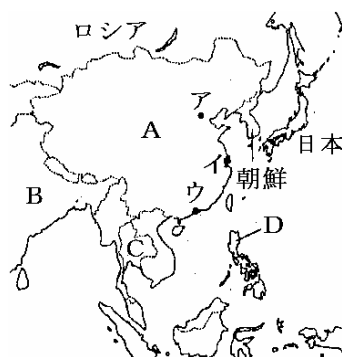
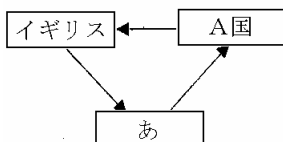
(1) 地図中の A の国を何というか。

(2) 右の図の「あ」にあてはまる国を地図中の B~D から選び、記号を書け。

(3) 右上の図で A 国からイギリスへ輸出されたもの、イギリスから「あ」へ輸出されたものを書け。

(4) 1840 年に A 国でおきた戦争は何というか。また、その結果結ばれた条約は何というか。

(5) (4)で答えた条約でイギリスが獲得した場所を地図中のア~ウから選び、記号を書け。また、その地名も答えよ。



[解答欄]

(1)	(2)	(3)	
(4)		(5)	

[解答](1) 清 (2) B (3) 茶・絹 綿布などの工業製品 (4) アヘン戦争 南京条約 (5) ウ, 香港

[問題](1 学期中間)

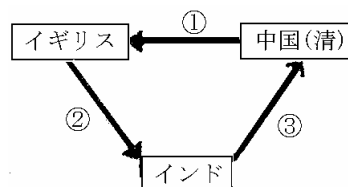
右の資料を見て、次の問いに答えなさい。

(1) 資料は 19 世紀の三角貿易を示したものである。 ~ にあてはまるものを、次から 1 つずつ選びなさい。

[アヘン 綿製品 茶・絹 香辛料 生糸 象牙・金]

(2) 1840 年におこった清とイギリスとの戦争の結果、1842 年に結ばれた条約名を答えなさい。

(3) (2)の条約は、不平等条約である。内容は、次のようなものであった。( )内にあてはまる語句と内容を簡単に説明しなさい。 清は( )を認め、関税自主権がない。



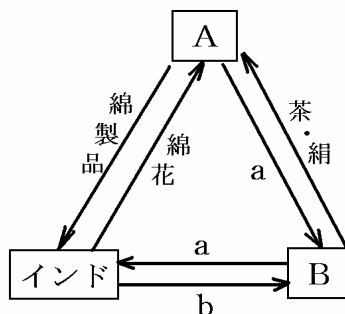
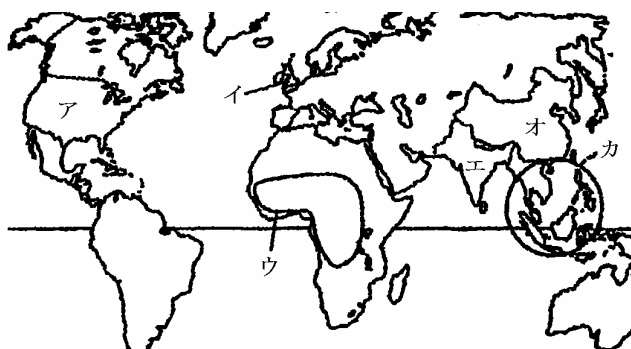
[解答欄]

(1)		(2)
(3)		

[解答](1) 茶・絹 綿製品 アヘン (2) 南京条約 (3) 領事裁判権。外国で犯した事件でもその国の法律ではなく自分の国の法律で裁判を行う権利。

[問題](後期中間)

次の地図や関係図をみて、各問いに答えなさい。



- (1) 関係図 A・B にあてはまる国を地図中ア～カから記号で選びなさい。
- (2) 図中の茶・綿の支払いに使われた、a は何ですか。
- (3) A が密貿易でインドから B へ売り込ませた b は何ですか。

[解答欄]

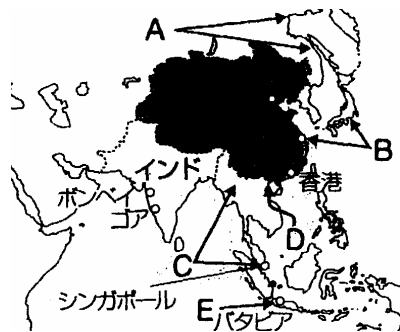
(1)A	B	(2)	(3)
------	---	-----	-----

[解答](1)A イ B オ (2) 銀 (3) アヘン

[問題](2 学期中間)

地図を見て、各問いに答えなさい。

- (1) 地図は、欧米諸国のアジアへの侵略経路を示している。地図中の A と C はどの国の侵略を表しているか。
- (2) 1840 年、イギリスと清との間で起こった戦争を何というか。
- (3) (2)の戦争の結果、清が 1842 年にイギリスと結んだ条約を何というか。
- (4) (3)の条約によって、外国人が清の国内で罪を犯しても清には裁く権利がない。これを何というか。
- (5) (3)の条約によって、イギリスが清から得た都市を、地図中から 1 つ選んで書け。



**[解答欄]**

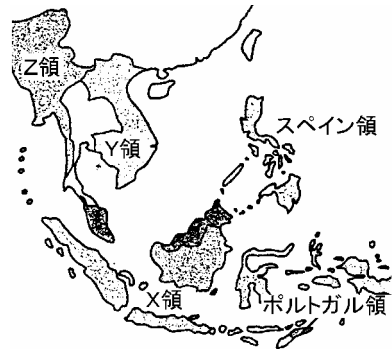
(1)A	C	(2)	(3)
(4)	(5)		

**[解答]**(1)A ロシア C イギリス (2) アヘン戦争 (3) 南京条約 (4) 領事裁判権 (5) 香港

**[問題](増補 06)(1 学期中間)**

右の地図の X, Y, Z を植民地支配したヨーロッパの国名を, 次から一つずつ選びなさい。

[イギリス フランス オランダ]



**[解答欄]**

X	Y	Z
---	---	---

**[解答]**X オランダ Y フランス Z イギリス

**[問題](1 学期中間)**

次の各問いに答えなさい。

- (1) 1851 年に洪秀全が建てた国を何というか。答えなさい。
- (2) 洪秀全が建てた(1)国の説明文ア~エのうち, 間違っているものを1つ選びなさい。
  - ア 多くの農民が建国に賛成した。
  - イ 男女平等の社会をめざしていた。
  - ウ 貧富の差のない社会をめざしていた。
  - エ 約 140 年間国が続いた。

**[解答欄]**

(1)	(2)
-----	-----

**[解答]**(1) 太平天国 (2) エ

**[問題](2 学期中間)**

次の問いに答えよ。

- (1) アヘン戦争ののちに、1851年に中国南部で反乱を起こした人物は誰か。
- (2) (1)の人物が建てた国を何というか。

**[解答欄]**

(1)	(2)
-----	-----

**[解答]**(1) 洪秀全 (2) 太平天国

**[問題](2 学期中間)**

次の問いに答えよ。

- (1) 清と同じようにイギリスによって植民地にされ、三角貿易に利用されたアジアの国はどこか。
- (2) (1)で、300年ほど続いていたが、イギリスによってほろばされた帝国を何というか。
- (3) 1857年、(2)でイギリスの植民地支配に反対して起こった反乱を何というか。

**[解答欄]**

(1)	(2)	(3)
-----	-----	-----

**[解答]**(1) インド (2) ムガル帝国 (3) インドの大反乱

**[問題](1 学期中間)**

1857年に反乱を起こした、イギリスに雇われていたインド兵を何というか。答えなさい。

**[解答欄]**

--

**[解答]**セボイ

[印刷 / 他の PDF ファイルについて]

このファイルは、FdData 中間期末社会歴史(7,200 円)を PDF 形式に変換したサンプルで、印刷はできないようになっています。製品版の FdData 中間期末社会歴史は Word(または一太郎)の文書ファイルで、印刷・編集を自由に行うことができます。

FdData 中間期末社会歴史全分野の PDF ファイル、および他の科目(地理・公民・理科・数学)の全 PDF ファイル、FdData 入試(社会・理科)の全 PDF ファイル、および製品版の購入方法は、<http://www.fdttext.com/dat/> に掲載しております。

下図のような、[FdData 無料閲覧ソフト(RunFdData)]を、Windows のデスクトップ上にインストールすれば、FdData 中間期末・FdData 入試の全 PDF ファイル(各教科約 1500 ページ)を自由に閲覧できます。次のリンクを左クリックするとインストールが開始されます。

RunFdData(Word 版) 【 <http://www.fdttext.com/lnk/instRunFdDataWDs.exe> 】

RunFdData(一太郎版) 【 <http://www.fdttext.com/lnk/instRunFdDataTAs.exe> 】

ダイアログが表示されたら、【実行】ボタンを左クリックしてください。インストール中、いくつかの警告が出ますが、[実行][許可する][次へ]等を選択します。

【イメージ画像】



【Fd 教材開発 : URL <http://www.fdttext.com/dat/> Tel (092) 404-2266】