

【】条約改正

[問題](2学期中間)(増補 08)

次の各問に答えなさい。

- (1) 次の文の()にあてはまる国名を書きなさい。
1878年,()は条約改正にいち早く応じたが,()などの合意が得られず実現しなかった。
- (2) 鹿鳴館で舞踏会をもよおすなどの欧化政策をとって条約改正の交渉にあたったが、国内の反対を受け、失敗した人物はだれですか。次の[]から選びなさい。
[小村寿太郎 井上馨 伊藤博文]
- (3) 1886年、イギリス船が和歌山県沖で沈没し、日本人乗客全員が水死する事件がおこり、不平等条約改正を求める世論が高まった。この事件を何といいますか。
- (4) 日本での領事裁判権の撤廃を初めて認めたのはどこの国ですか。

[解答欄]

(1)		(2)	(3)
(4)			

[解答](1) アメリカ イギリス (2) 井上馨 (3) ノルマントン号事件 (4) イギリス

[解説]

条約改正にいち早く応じたのはアメリカで、1878年(明治11年)に関税自主権の回復に合意したが、イギリスなどの賛成が得られず実現しなかった。その後、外務大臣井上馨は、鹿鳴館を建てて外国人をまねき舞踏会を開くなど条約改正の努力を続けた。1886年(明治19年)にイギリス船ノルマントン号が和歌山県沖で沈没し、日本人乗客全員が水死する事件が起きた。しかし、イギリス領事裁判所は、イギリス人船長に軽い罰をあたえただけだったため、不平等条約改正を求める世論が高まった。井上は日本国内を外国人に開放することと、外国人を被告とする裁判には半数以上の外国人裁判官を採用することを条件に交渉をすすめた。しかし、外国人裁判官の採用については、政府部内でも国家主権の侵害になるとの反対意見が強く、井上は交渉を中止して外相を辞任した。

日清戦争直前の1894年(明治27年)、外相陸奥宗光はイギリスと交渉して領事裁判権の撤廃に成功した。この時期に条約改正にイギリスが応じたのは、ロシアの東アジアへの進出に対抗するため日本と手を結ぶ政策をとるようになったからである。それと、憲法が制定され、議会も開設されてアジアで初めて立憲制国家になったことも条約改正に有利に働いた。

関税自主権の回復は、日露戦争後の1911年(明治44年)であった。外相小村寿太郎はアメリカと交渉して関税自主権の回復をはたした。(自主権回復ひどくい(1911))

[問題](1 学期期末)(増補 08)

条約改正のため欧化政策を実施し鹿鳴館で舞踏会を行ったのは誰か。

[解答欄]

--

[解答]井上馨


[問題](増補 06)(2 学期中間)

次の各問いに答えなさい

- (1) A のイラストのようなことが行なわれていた建物の名を書きなさい。



- (2) B のイラストは、1886 年に和歌山県沖でおきた、ある事件を風刺したのですが、この事件を何といいますか。



- (3) B の出来事と最も関係の深いことを、次から 1 つ選びなさい。

[日露戦争 日清戦争 殖産興業 条約改正 地租改正]

[解答欄]

(1)	(2)	(3)
-----	-----	-----

[解答](1) 鹿鳴館 (2) ノルマントン号事件 (3) 条約改正

[問題](1 学期期末)

次の問いに答えなさい。

- (1) 自由民権運動家と政府は、対立しながらも不平等条約の改正についてはともに強く希望していました。しかし欧米諸国は、なかなか改正に応じませんでした。そのため政府は、1883 年、東京に()を建てて外国人をまねく舞踏会を開いたり、外国人を()に採用しようとしてたりして()の糸口にしようとしてしました。
- (2) 1894 年の日清戦争直前に、領事裁判権は撤廃されました。その時の外相はだれですか。関税自主権の回復は、日露戦争後の 1911 年のことでした。その外相はだれですか。

[解答欄]

(1)		(2)

[解答](1) 鹿鳴館 裁判官 条約改正 (2) 陸奥宗光 小村寿太郎

[問題](2 学期中間)

1894 年に領事裁判権の撤廃に成功したが、これについて次の問いに答えよ。

- (1) この時の外相名を漢字で答えよ。
- (2) どこの国との条約改正が成功したのか、あてはまる国を 1 つ選べ。

[アメリカ イギリス フランス ロシア]

[解答欄]

(1)	(2)
-----	-----

[解答](1) 陸奥宗光 (2) イギリス

[問題](2 学期中間)(増補 08)

1894 年の日英通商航海条約と最もかわりの深い人物を次から 1 人選びなさい。

[陸奥宗光 伊藤博文 小村寿太郎 黒田清隆]

[解答欄]

--

[解答]陸奥宗光

[問題](増補 06)(2 学期中間)

イギリスが日本との不平等条約を 1894 年に改正し、領事裁判権を撤廃したのはなぜか。

[解答欄]

--


[解答]南下政策をとるロシアに対抗するのに、日本を味方につけるため。

【】日清戦争

[問題](2学期中間)

次の各問いに答えなさい。

- (1) 右の図は何という戦争の風刺画か、その戦争の名前を答えなさい。
- (2) 図の中の a, b, c にあたる国名を答えなさい。




[解答欄]

(1)	(2)a	b	c
-----	------	---	---

[解答](1) 日清戦争 (2)a 日本 b ロシア c 清

[解説]

朝鮮では、日本と清が勢力争いをくり広げていた。朝鮮国内では、明治維新になって近代化をはかろうとする親日派と、清との関係を維持しようとする親中派とが、激しく対立していた。当時、ロシアが南下政策をとりつつあり、朝鮮がロシアの手に落ちれば、やがて、日本そのものが危くなるという危機感があつた。朝鮮における清との対立が深まる中、日本は軍備の増強をはかった。図は日清戦争の風刺画である。a が日本、c が清で、水の中の魚は朝鮮である。日清戦争が朝鮮をめぐる日本と清の争いであつたことを表している。橋の上から漁夫の利を得ようと機会をうかがっている b はロシアである。



大まかな言い方をすれば、明治時代の前半は対内的な危機の時代で、特権を奪われた士族などの不満を制圧、吸収して立憲政治に収束させていった時代であった。これに対し、日清・日露戦争がおこった明治後半は対外的な危機の時代であった。幕末から明治維新の時期は欧米列強がアジアへの侵略を進めていたが、中でも危険であったのは南下政策をとるロシアであった。ロシアは清の領土を漸次奪い取り、さらにその勢力を朝鮮に及ぼそうとしていた。地理的・歴史的に見て、朝鮮は大陸の大国が日本に侵攻したり、また、その逆に日本が大陸に攻め込むときの日本と大陸を結ぶ架け橋となっていた(韓国のプサン(釜山)と福岡の距離はわずか 200km で、さらにその中間には対馬がある)。歴史的に見ると、鎌倉時代にモンゴル軍(元)が日本に來襲したのは、朝鮮半島の高麗を支配下においた後であった。また、豊臣秀吉が明の征服をくわだてたとき、まず、朝鮮半島を支配下におこうとした。

朝鮮がロシアの支配下に入れば、そこを拠点に日本に侵略の手をのばすことは、当時の国際情勢から十分考えられることで、明治政府の指導者たちは深刻な危機感をもっていた。当時、朝鮮は清を宗主国とおおいでいたが、清自体が弱体化していたため、まず、清の手から朝鮮をうばい取り、朝鮮を日本の勢力下に置こうとしたのである。

[問題](2 学期期末)

次の()に当てはまる語句を答えなさい。

朝鮮では日本と()が勢力争いをしていたが、1894 年に()戦争という農民の反乱が起きるとこれを鎮圧するために、両国が朝鮮に出兵し、()戦争が始まった。

戦いは日本が勝利し、翌年()条約が結ばれ、()半島や台湾を日本に譲り、多額の賠償金を日本は得ることとなった。しかし、ロシア、()、フランスの 3 国は()半島を返還するように勧告した。これを()という。

[解答欄]

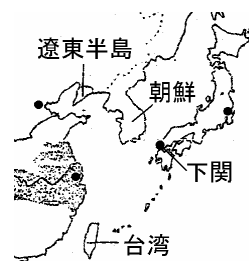
[解答] 清 甲午農民 日清 下関 遼東 ドイツ 三国干涉

[解説]

朝鮮では政治・経済が混乱するなかで、東学という民間宗教を信仰する農民などが、1894 年、外国人排斥や政治改革をめざして兵をあげた。これを甲午農民戦争という。これを機に、清と日本は出兵し、日清戦争が始まった。(一発急襲(1894)日清戦争)

日清戦争は日本の勝利に終わり、翌 1895 年、下関条約が結ばれた。この条約で清は、1)朝鮮の独立を認め、2)遼東半島、台湾などを日本に譲る、3)賠償金3 億円を日本に支払うこと、などを認めた。

一方、満州への進出をねらっていたロシアは、ドイツとフランスをさそって、日本に対して遼東半島を清に返すように要求してきた。これを三国干渉という。当時、日本はロシアなどと戦う力はなかったので、この圧力に屈して賠償金と引きかえに遼東半島を清に返還した。その後、ロシアはこの遼東半島を清から租借した。



[問題](2 学期中間)(増補 08)

1895 年、日清戦争の講和条約である()条約が締結された。は()県にある都市である。

[解答欄]

--	--

[解答] 下関 山口

[問題](2 学期中間)(増補 08)

日清戦争後の講和会議で、清は()の独立を認めるとともに、()半島、台湾を日本に譲り、巨額の賠償金を支払うことになった。

[解答欄]

--	--

[解答] 朝鮮 遼東

[問題](2 学期中間)(増補 08)

下関条約の内容としてあてはまらないものを次のア～エから 1 つ選び、記号で書きなさい。

- ア リアオトン半島・台湾・ポンペー諸島の譲渡
- イ 韓国に支配権
- ウ 朝鮮の独立
- エ 賠償金約 3 億円の支払い

[解答欄]

--

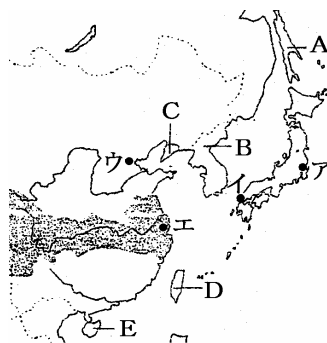
[解答]イ

[問題](2 学期中間)

日清戦争について、次の各問いに答えなさい。

()でおこった農民の反乱(甲午農民戦争)をきっかけに、この戦争が始まった。戦いは日本の勝利に終わり、a 講和条約が結ばれ、日本は b 領土を獲得し、賠償金を獲得した。戦後、列強は競って中国内に勢力を広げ様々な利権を獲得した。

- (1) 文中の()に適する場所を入れなさい。
- (2) 下線部 a の条約の名前と結ばれた場所を右の地図のア～エの中から 1 つ選びなさい。
- (3) 下線部 b にあてはまる地域を、右の地図中の A～E から 2 つ選びなさい。
- (4) (3)の日本が獲得した地域のうち、返還を要求された半島の名前を答えなさい。
- (5) 右の風刺画に示される、(4)の返還の要求を何というのか答えなさい。



[解答欄]

(1)	(2)	(3)	(4)	(5)
-----	-----	-----	-----	-----

[解答](1) 朝鮮 (2) 下関条約, イ (3) C, D (4) 遼東半島 (5) 三国干渉

[問題](増補 06)(3 学期)

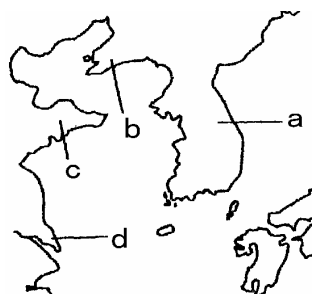
次の各問いに答えなさい。

(1) 日清戦争は、朝鮮半島内で起こった民衆の蜂起を鎮圧するため清と日本が朝鮮半島に出兵して始まった。この民衆の蜂起を何というか答えなさい。

(2) 日清戦争の講和会議で結ばれた条約の名前を答えなさい。また、この講和会議により、日本が得た遼東半島はどこか、図の a~d から記号で選びなさい。

(3) (2)の内容に対して、日本が得た遼東半島を清に返還するように勧告してきた三つの国の組み合わせとして正しいものをア~エから選び記号で答えなさい。また、この三ヶ国の要求を何というか答えなさい。

- ア ロシア・ドイツ・イギリス イ ロシア・ドイツ・アメリカ
 ウ ロシア・ドイツ・フランス エ ドイツ・フランス・イギリス



[解答欄]

(1)	(2)	(3)	
-----	-----	-----	--

[解答](1) 甲午農民戦争 (2) 下関条約, b (3) ウ 三国干渉

[問題](2 学期期末)(増補 08)

下関条約の後、ロシアなどがリアオトン半島の清への返還を要求してきた。この出来事を何というか。また、これによって日本が返還した地域を右の地図から記号で選びなさい。



[解答欄]

--	--

[解答]三国干渉 ア

[問題](前期期末)

次の問いに答えなさい。

- (1) 日清戦争のきっかけとなった朝鮮国内で起きた暴動を何といいますか。
- (2) 下関条約のあと日本は三国干渉を受け、やむなく獲得した領地を返還したが、その三国の名を答えなさい。

[解答欄]

(1)	(2)
-----	-----

[解答](1) 甲午農民戦争 (2) ロシア, フランス, ドイツ

【】列強の中国侵略と義和団事件

[問題](2 学期期末)(増補 08)

19 世紀後半，欧米諸国は資源や市場を求めてアジアやアフリカへ経済進出を強め，やがて軍事力によってこれらの地域を植民地としていきました。このような列強の動きを()という。「ねむれる獅子」とよばれていた清が日本にやぶれると，列強は次々に清に進出し，鉄道や鉱山開発の権利を獲得した。清国内では，このような列強の動きに反対して外国人排斥運動がおこったが，列強は共同して武力でこれをしずめ，清に賠償金の支払いと軍隊の駐屯を認めさせた。これを()とよんでいる。

[解答欄]

--	--

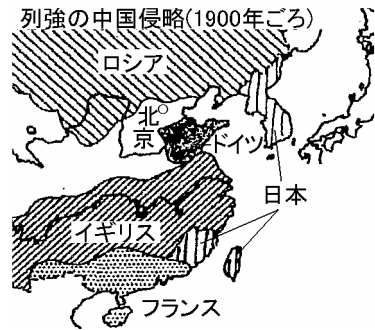
[解答] 帝国主義 義和団事件

[解説]

それまで「ねむれる獅子」とよばれていた清が日本にやぶれ，弱体化をさらけ出すと，欧米列強は，中国にせまって港湾などを租借し，鉱山の開発や鉄道の敷設権などのさまざまな利権を獲得し，中国分割を進め，中国は半ば植民地化されていった。

これに反発して中国国内では排外運動がおこり，1900 年に義和団が扶清滅洋を唱えて北京の列国公使館を包囲する事件が起こった。これに対し，日本やロシアを主力とする 8ヶ

国の約 7 万人の連合軍が派遣されてようやくこれを鎮圧した。義和団事件後，ロシアは満州に強大な軍隊をとどめて事実上ここを占領し，朝鮮半島へも勢力を伸ばそうとしていた。

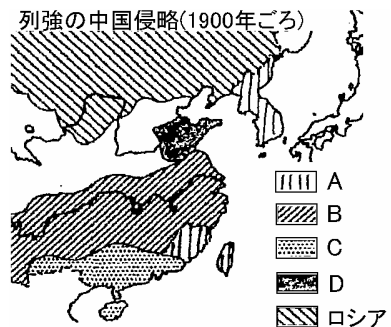


[問題](増補 06)(3 学期)

次の各問いに答えなさい。

- (1) 日清戦争後，欧米列強の中国侵略はますます拡大していきました。図は各国の中国における勢力範囲を示したものです。A～D に当てはまる国の組み合わせとして正しいものをア～エから選び記号で答えなさい。

- ア：A 日本 B ドイツ C イギリス D フランス
 イ：A 日本 B イギリス C フランス D ドイツ
 ウ：A イギリス B 日本 C ドイツ D フランス
 エ：A イギリス B フランス C 日本 D ドイツ



(2) 図のような列強の侵略に対して、中国の民衆がある宗教団体を中心に団結し、武装して立ち上がった。この事件を何というか答えなさい。またこの時、この団体が唱えたスローガンは何か漢字4文字で答えなさい。

[解答欄]

(1)	(2)	
-----	-----	--

[解答](1) イ (2) 義和団事件 扶清滅洋

[問題](1 学期期末)(増補 08)

義和団事件が起こった地域を地図のア～オから選びなさい。

[解答欄]

[解答]イ



[問題](2 学期中間)(増補 08)

1899年～1900年に清国内で起きた外国人排斥運動を何といいますか。

[解答欄]

[解答]義和団事件

【】日露戦争

[問題](増補 06)(2 学期中間：改題)

文中の()に適語を入れよ。

日清戦争後の列強の中国分割に対し、1900 年に()事件がおきた。()事件後、ロシアは満州に強大な軍隊をとどめて事実上ここを占領し、朝鮮半島へも勢力を伸ばそうとしていた。ロシアの中国への進出は、()が中国にもつ権益も危うくするものであったので、()は日本へ接近し、1902 年に()同盟が締結された。

[解答欄]

--	--	--

[解答] 義和団 イギリス 日英

[解説]

義和団事件後、ロシアは満州に強大な軍隊をとどめて事実上ここを占領し、朝鮮半島へも勢力を伸ばそうとしていた。当時の日本政府は、朝鮮半島がロシアの支配下に入ってしまうと、次は日本自体が危うくなるという危機感を持っていた。こうした、ロシアの中国への進出は、イギリスが中国にもつ^{けんえき}権益も危うくするものであったので、イギリスは日本へ接近し、同盟の締結をもちかけた。政府部内では、強大なロシアと戦火を交えることは避けたいと満韓交換(満州はロシア、朝鮮は日本)で、ロシアとの妥協をはかりたいとする考えもあったが、軍事力に自信を持つロシアはこれに応じる様子はなかった。そこで、政府はイギリスと手を結んでロシアの動きに対抗することことを決し、1902 年に^{にちえいどうめい}日英同盟が締結された。

[問題](増補 06)(3 学期)

次の各問いに答えなさい。

- (1) 1902 年、日本はある国と同盟を結びます。この国の名前を答えなさい。
- (2) (1)で結んだ条約を何といいますか。
- (3) (1)の国が日本と同盟を結んだ理由を次の中から 1 つ選びなさい。

ア アメリカのアジア進出に備えるため。

イ 支配に抵抗する中国の民衆をおさえるため。

ウ 東アジア進出をすすめるロシアに対抗するため。

エ 日本への輸出を増やすため。

[解答欄]

(1)	(2)	(3)
-----	-----	-----

[解答](1) イギリス (2) 日英同盟 (3) ウ

[問題](増補 06)(2 学期中間：改題)

1904 年,日本とロシアの間で()が始まった。日本国内では主戦論が圧倒的多数であったが,社会主義者の幸徳秋水,キリスト教徒の(),「ああ をとうとよ君を泣く…」という詩をよんだ()は戦争に反対の声をあげた。日本軍は苦戦を重ねつつも戦局を有利にすすめ,()海戦でも勝利をおさめた。しかし,日本の戦力は限界に達し,ロシアでも革命が起こるなど,両国とも戦争の継続が困難になった。

1905 年,()の大統領セオドア・ルーズベルトの仲立ちで講和会議が開かれ,()条約が結ばれた。この条約で,日本は()の南半分を獲得し,朝鮮における優越権や長春以南の鉄道の権利を得たが,賠償金を得ることはできなかった。これに対して国民の不満が高まり,各地で講和反対集会が開かれ,東京で()事件が起こった。

[解答欄]

[解答] 日露戦争 内村鑑三 与謝野晶子 日本海 アメリカ ポーツマス
樺太 日比谷焼き討ち

[解説]

1904 年,日本とロシアの間で日露戦争が始まった。社会主義者の幸徳秋水,キリスト教徒の内村鑑三,「ああ をとうとよ君を泣く…」という詩をよんだ与謝野晶子は戦争に反対の声をあげたが,当時のジャーナリズムは威勢のいい主戦論を書き立てていた。政府は巨大な軍力をもつロシアと戦うことには慎重で,何度もロシアと交渉を重ねた。しかし,ロシアとの間に妥協は成立せ

年代	おもなできごと
1894(明治 27)	日清戦争がおこる
1895(明治 28)	下関条約が結ばれる
1900(明治 33)	義和団事件がおこる
1901(明治 34)	八幡製鉄所の開業
1902(明治 35)	日英同盟が結ばれる
1904(明治 37)	日露戦争
1905(明治 38)	ポーツマス条約が結ばれる

ず,こうして,1904 年に日露戦争が勃発した。(引くをよし(1904)で開戦決定日露戦争)日本軍は苦戦を重ねつつも戦局を有利にすすめ,日本海海戦でも勝利をおさめた。しかし,日本の戦力は限界に達し,ロシアでも革命が起こるなど,両国とも戦争の継続が困難になった。

1905 年,アメリカ大統領のセオドア・ルーズベルトの仲介によって講和会議が開かれ,ポーツマス条約が結ばれた。この条約で,ロシアは,1)朝鮮における日本の優越権を認め,2)旅順・大連の租借権,長春以南の鉄道の利権を日本に譲る,3)樺太の南半分を日本に譲る,4)北緯 50 度以南の漁業権を日本へ譲る,ことを認めた。このときの日本の全権は外相の小村寿太郎であった。しかし,賠償金を得ることはできなかった。これに対して国民の不満が高まり,各地で講和反対集会が開かれ,東京の日比谷では焼き討ち事件が起こった。

[問題](2 学期中間)

次の各問いに答えなさい。

- (1) 右の図は何という戦争の風刺画か、その戦争の名前を答えなさい。
- (2) 図の中の a, b, c にあたる国名を答えなさい。



[解答欄]

(1)	(2)a	b	c
-----	------	---	---

[解答](1) 日露戦争 (2)a 日本 b ロシア c イギリス

[解説]

図は日露戦争の風刺画である。b のロシアに a の日本が立ち向かい、c のイギリスが日本を後押ししている様子が描かれている。イギリスは中国の長江流域を勢力範囲にしていたが、満州をおさえ、さらに南下しようとしていたロシアに対抗するため、日本と1902年に日英同盟を結んだ。



[問題](増補 06)(3 学期)

日露戦争に対しては、反対の声も上がりました。これについて次の問いに答えなさい。

- (1) キリスト教徒で、日露非戦を主張した代表的な人物は誰ですか。
- (2) 戦争に反対し、「ああ をとうとよ君を泣く…」という詩をよんだ人物は誰ですか。

[解答欄]

(1)	(2)
-----	-----

[解答](1) 内村鑑三 (2) 与謝野晶子

[問題](2 学期中間)

日露戦争に関する次の問いに答えなさい。

- (1) この戦争で日本を支持した国を下から2つ選びなさい。
[スペイン アメリカ オランダ イタリア フランス イギリス]
- (2) この戦争について、誤っているものを下から1つ選べ。
ア．幸徳秋水や内村鑑三が開戦に反対した。 イ．日本海海戦で日本が敗れた。
ウ．両国とも戦争の継続が難しくなった。 エ．戦場は中国や朝鮮半島である。

[解答欄]

(1)	(2)
-----	-----

[解答](1) アメリカ, イギリス (2) イ

[問題](増補 06)(3 学期)

次の各問いに答えなさい。

- (1) 日露戦争の講和会議を仲介したのは何という国の何という大統領でしたか。
- (2) この講和会議で結ばれた条約の名前を答えなさい。
- (3) (2)の条約の内容について、(ア)～(オ)に適語を入れなさい。
 (ア)での日本の優越権を認める。
 遼東半島の要地である(イ)(ウ)の租借権を日本へ譲る。
 沿海州、カムチャツカ半島沿岸の(エ)権を日本へ譲る。
 北緯 50 度以南の(オ)を日本へ譲る。
- (4) (2)の講和条約により南満州での勢力を確保した日本は鉄道会社を設立するが、この鉄道会社の名前を答えなさい。
- (5) 戦争の犠牲の大きさに比べて、日本の得た権益は少なかったとして、国民は激しく政府を攻撃し、東京では、暴動を伴う民衆運動が起こりました。この暴動のことを何というか答えなさい。

[解答欄]

(1)		(2)	(3)ア
イ	ウ	エ	オ
(4)	(5)		

[解答](1) アメリカ セオドア・ルーズベルト (2) ポーツマス条約 (3) ア 韓国 イ 旅順 ウ 大連 エ 漁業 オ 樺太 (4) 南満州鉄道 (5) 日比谷焼き討ち事件

[問題](2 学期中間)

日露戦争に関する次の問いに答えなさい。

- (1) この戦争の講和条約を何というのか答えなさい。
- (2) この講和条約の内容を次から 2 つ選びなさい。
 ア．長春以南の鉄道の利権を日本に譲る。 イ．満州における日本の優越権を認める。
 ウ．樺太の南半分を日本に譲る。 エ．遼東半島全域を日本に譲る。
- (3) 日比谷焼き打ち事件は、講和条約で日本が何を獲得できなかったために起きたのか。

[解答欄]

(1)	(2)	(3)
-----	-----	-----

[解答](1) ポーツマス条約 (2) ア, ウ (3) 賠償金

【】韓国併合

[問題](1 学期期末)

次の文の()に適語を入れよ。

日露戦争後のポーツマス条約で韓国における支配権をロシアに認めさせた日本は、()年に韓国を日本の領土にしてしまう。これを()という。

[解答欄]

--	--

[解答] 1910 年 韓国併合

[解説]

日本は、日露戦争後、韓国統監府を置いて朝鮮の植民地化を進めた。初代の韓国統監になった伊藤博文が、朝鮮人青年の安重根に暗殺される事件の後、1910 年に韓国併合を行った。(幾十(1910)年韓国泣かせた韓国併合) 日本は、朝鮮総督府を設置して、武力を背景にした朝鮮支配をおしすすめ、学校では朝鮮史を教えることを禁じ、日本史や日本語を教えて、日本人に同化させる教育をおこなった。

[問題](2 学期中間)(増補 08)

- (1) 1910 年に日本が朝鮮を植民地としたことを何というか。
- (2) (1)のあと、植民地政策として日本はどのようなことを行ったか、1 つ書きなさい。

[解答欄]

(1)	(2)
-----	-----

[解答](1) 韓国併合 (2) 日本人に同化させる教育をおこなった。

[問題](増補 06)(1 学期中間)

1910 年に日本は韓国を併合したが、これについて、次の問いに答えなさい。

- (1) 日本が植民地支配を推し進めるために 1910 年に韓国に設置した機関は何ですか。
- (2) 韓国併合の前年に、初代朝鮮統監の伊藤博文を暗殺したのは誰か。
- (3) 韓国を植民地化した後、日本が行ったこととして、間違っているものを 1 つ選び、記号で答えなさい。

ア 韓国の人々と協力し、生活の向上を図った。

イ 朝鮮史を教えることを禁止し、日本史を教えた。

ウ 土地の調査を進め、所有権が明確でない土地を取り上げた。

[解答欄]

(1)	(2)	(3)
-----	-----	-----

[解答](1) 朝鮮総督府 (2) 安重根 (3) ア

[問題](2 学期中間)(増補 08)

日本が行った韓国の植民地支配にあてはまらないものを次のア～ウから選びなさい。

- ア 日本の植民地支配が、第二次世界大戦終結の 1945 年まで続いた。
- イ 学校で朝鮮史を教えることを禁じ、日本史や日本語を教えて日本人に同化させようとした。
- ウ 土地の所有権が明確でないとして、多くの朝鮮農民に地券を強制的にわたし、地租を納めさせた。

[解答欄]

[解答]ウ

[問題](2 学期中間)(増補 08)

韓国併合に関してあてはまらないものを次のア～エから 1 つ選び、記号で書きなさい。

- ア 朝鮮人に日本語を「国語」として強制した。
- イ 朝鮮に総督府を置いて、以後 36 年間にわたって植民地支配をした。
- ウ 朝鮮は「ねむれる獅子」とよばれおそれられた。
- エ 朝鮮人を軽蔑し、差別するまちがった考えが日本人のなかに広まった。

[解答欄]

[解答]ウ

【】中国の辛亥革命

[問題](1 学期期末)

次の文の()に適語を入れなさい。

1911 年、中国で()革命がおこり、皇帝が退位する。そして()年に()という国が誕生する。この革命運動の中心が()であり、彼は()主義を主張していた。

[解答欄]

--	--	--	--	--

[解答] 辛亥 1912 中華民国 孫文 三民

[解説]

中国では帝国主義列強の圧迫に対抗する動きが強まり、清を倒して民族の独立と近代国家の建設をめざす運動がこった。1911 年、三民主義を唱える孫文^{そんぶん}を中心にして辛亥革命^{しんがいはい}がおこり、孫文を臨時大總統とし、南京を首都とする中華民国が建国された。(辛亥の三民主義は一句いい(1911))

[問題](増補 06)(2 学期期末)

19 世紀後半から 20 世紀初頭の中国に関する問題です。

(1) 当時の中国の様子を説明した文章として正しいものをひとつ選び、記号で答えよ。

ア：当時の中国は、イギリスとロシアの 2 カ国からのみ侵略を受けていた。

イ：当時租借地という期限付きで外国に土地を貸していたが、実質は領土と変わることはなかった。

ウ：当時の中国は、明という国が支配していた。

(2) 1899 年～1900 年にかけて、中国侵略に反発する運動がさかんになり、日本を主力とする連合国軍がこれを鎮圧した。この事件を何というか。

(3) 1911 年、全国に革命運動がおこり、多くの省が独立を宣言した。このことを何というか。下よりべ。

[太平天国の乱 辛亥革命 名譽革命 清教徒革命]

(4) 1912 年、アジア最初の共和国ができた。この新しくできた国名を答えよ。

(5) (4)の臨時大總統となった人物を答えよ。

[解答欄]

(1)	(2)	(3)	(4)	(5)
-----	-----	-----	-----	-----

[解答](1) イ (2) 義和団事件 (3) 辛亥革命 (4) 中華民国 (5) 孫文

[問題](2 学期中間)(増補 08)

以下の問に答えなさい。

- (1) 1911 年，中国で軍隊の反乱をきっかけにおこった革命を何といいますか。
- (2) (2)の革命の翌年，中国に建国された国を何といいますか。
- (3) (2)の革命の中心人物で，(2)の国の臨時大總統についたのはだれですか。
- (4) (3)の人物が唱えた革命の指導理論で，民族の独立(民族)，政治的民主化(民権)，民衆の生活の安定(民生)を合わせて何といいますか。
- (5) この頃，韓国が日本の植民地となるできごとが起きた。このことを何といいますか。

[解答欄]

(1)	(2)	(3)	(4)
(5)			

[解答](1) 辛亥革命 (2) 中華民国 (3) 孫文 (4) 三民主義 (5) 韓国併合

[問題](2 学期中間)(増補 08)

孫文の唱えた「三民主義」とは何か答えなさい。

[解答欄]

[解答]民族の独立(民族)，政治的民主化(民権)，民衆の生活の安定(民生)

[問題](1 学期期末)(増補 08)

孫文と手を結び，清の皇帝を退位させ清王朝を滅ぼしたのは誰か。

[解答欄]

[解答]袁世凱

【】年表・総合問題：日清・日露戦争

[問題](2学期中間)


年表を見て、次の各問いに答えなさい。

- (1) ~ にあてはまる年号・語句を答えなさい。
- (2) 右の資料の , はこの頃の国際関係を風刺したものである。

年代	おもなできごと
()	A 日清戦争がおこる
1895年	B ()条約を結ぶ, <u>三国干渉</u>
1902年	C ()同盟を結ぶ
1904年	D ()がおこる
1905年	E ()条約を結ぶ
1910年	F ()を併合する
1911年	G 中国で辛亥革命が起こる

A の戦争直前の様子を表しているのは , のどちらの資料ですか。

資料の中の a ~c は、それぞれこの国を表しているか。次の中から選びなさい。



(ただし図中の同じ記号は同じ国を表している)

ア 清 イ イギリス ウ 日本 エ ロシア オ ドイツ カ 朝鮮
キ アメリカ ク フランス

このころ、軍勢力を背景にアジアやアフリカを植民地化していった欧米列国の動きを何主義というか。

- (3) 年表中の B の下線部のできごとについて次の各問いに答えなさい。
3つの国とはどこの国ですか。(2) の選択肢の中から3つの国を選びなさい。
三国が清に返すよう要求したのはどこの半島か。
- (4) 下の各文は年表の B, E のできごとの結果を表したものである。年表 E の結果として正しい内容を下の文から2つ選び、記号で答えなさい。
ア 欧米列国が中国の重要な地点を租借地とし、鉱山や鉄道などの利権を獲得し、中国の分割が進んだ。
イ 日本は多額の賠償金を軍事費にあて、軍備の拡張を図り、産業革命も進展した。
ウ 韓国に対する日本の優越的な地位をロシアに認めさせ、樺太の南半分を領土とした。
エ 条約の内容について政府を非難する国民が日比谷焼きうち事件などの暴動を起こした。
- (5) 年表の G のできごとについて次の問いに答えなさい。

同じ年に起こったことを次の中から選び、記号で答えなさい。

ア 日本の領事裁判権が撤廃された イ 社会民主党が結成された。
ウ 日本の関税自主権が完全に回復した。 エ 中華民国が成立した。
三民主義を唱え、革命に大きな影響を与えたのは誰ですか。

[解答欄]

(1)				
	(2)	a	b	c
(3)			(4)	(5)

[解答](1) 1894年 下関 日英 日露戦争 ポーツマス 韓国 (2) a
 エ b ウ c カ 帝国主義 (3) エ,オ,ク 遼東半島 (4) ウ,エ (5) ウ
 孫文

[問題](前期期末)

次の年表を見て、各問いに答えなさい。

(1) 年表中 ~ にあてはまるできごとを下から選びなさい。

- ア 官営の八幡製鉄所が開業する
- イ 中華民国が成立する
- ウ 日本が韓国を併合する
- エ 日露戦争がおこる

(2) 年表中()内に適語を書きなさい。

(3) 年表中 C について、この事件をおさめるためにいくつの国が連合軍を派遣しましたか。

(4) 年表中 D について、この条約は当時のアメリカの大統領のなかだちがあって結ばれたが、その大統領名を書きなさい。

(5) 年表中 E について、これによって不平等条約が完全に撤廃されたが、この撤廃に成功した当時の外相の名を書きなさい。

(6) 年表中 F について、この革命を指導しのちに大總統に就任した人物は誰ですか。また、これにより清にかわって新しい政府がうまれたが、その国名を漢字で正しく書きなさい。

年代	おもなできごと
1894年	日清戦争がおこる..... A
1895年	下関条約が結ばれる..... B
1900年	義和団事件がおこる..... C
1901年	[]
1902年	()同盟が結ばれる
1904年	[]
1905年	ポーツマス条約が結ばれる..... D
1910年	[]
1911年	関税自主権が回復する..... E
1911年	辛亥革命がおこる..... F
1912年	[]

[解答欄]

(1)				(2)
(3)	(4)	(5)	(6)	

[解答](1) ア エ ウ イ (2) 日英 (3) 8ヶ国 (4) セオドア＝ルーズベルト (5) 小村寿太郎 (6) 孫文, 中華民国

[問題](増補 05)(2 学期中間)

次の各問いに答えなさい。

- (1) 年表中の ~ にあてはまる語句を，次の語群からそれぞれ選びなさい。

日清 日露 戊申 義和団 日英 三国

富岡製糸場 八幡製鉄所 台湾 韓国

- (2) 年表中のア，イにあてはまる語句を答えなさい。

- (3) 年表中の()A，Cの戦争の後に結ばれた講和条約を，次の語群からそれぞれ選びなさい

ポーツマス条約 日清修好条規

日朝修好条規 下関条約

- (4) 年表中 B によって日本が返還した半島を答えなさい。また，三国とはロシア，ドイツともう 1 カ国はどこか答えなさい。

- (5) 年表中の C の戦争のとき，戦争に反対する「君死にたまふことなかれ・・・」の詩を書いたのは誰か答えなさい。

- (6) 年表中の D の中華民国成立のきっかけになったのは，前年におきた革命です。この革命を何といいますか。

年代	おもなできごと
1894	(ア)の撤廃に成功する ()戦争が起こる …A
1895	三国干渉 …B
1900	中国で()事件が起こる
1901	()が操業を開始する
1902	()同盟が結ばれる
1904	()戦争が起こる …C
1910	()を併合する
1911	(イ)の回復が実現する
1912	中華民国が成立する …D

[解答欄]

(1)				
	(2)ア	イ	(3)A	C
(4)		(5)	(6)	

[解答](1) 日清 義和団 八幡製鉄所 日英 日露 韓国 (2)ア領事裁判権
イ 関税自主権 (3)A 下関条約 C ポーツマス条約 (4) 遼東半島 フランス (5) 与謝野晶子
(6) 辛亥革命

[問題](1 学期中間)

以下の資料や年表を見て、後の問いに答えなさい。

(ア) 第2条 清国は次の土地の主権と、その地方にある堡、兵器製造所および官有物を永久に日本国にわけ与えるものとする。 1.遼東半島 2.台湾全島およびその付属諸島

(イ) 第2条 もし日英の一方が他国と開戦した場合は、他の一方は厳正中立を守り、併せて両国以外の国が交戦に加わることを妨げること。

第3条 もし両国に対して、他の一国または数国が交戦に加わるときは、両国は共同して戦闘に当たること。

(ウ) ああをとうとよ君を泣く 君死にたまふことなけれ
末に生れし君なれば 親のなさはまさりしも
親は刃をにぎらせて 人を殺せとをしへしや
人を殺して死ねよとて 二十四までをそだてしや

(1) 年表中のイは何か。また、これが結ばれた年(a)に適する数字を入れなさい。

(2) 資料のア、ウは年表中のb~dのどこにあたるか、記号で答えなさい。

(3) アはある条約である。何という条約か。

(4) アの中に遼東半島とあるが、この半島はその後清に返されたが、なぜか。

(5) ウの詩は有名な詩である。作者は誰か。

年代	おもなできごと
1894	日清戦争が始まる b
1900 (a)	義和団事件がおこる (イ)が結ばれる c
1904	日露戦争が始まる d

[解答欄]

(1)	(2) ア ウ	(3)
(4)		(5)

[解答](1) 日英同盟,1902年 (2) ア b ウ d (3) 下関条約 (4) 日本が三国干渉を受けたため (5) 与謝野晶子

[問題](2 学期期末)

下の年表や資料を見て、次の問いに答えなさい。

	日本のできごと		世界のできごと
	政治	経済・社会	
1880 年代		産業革命がはじまる	ロシア・ドイツ・フランスの (3)が起こる..... D 義和団事件..... E 辛亥革命が起こる..... I
1891 年	足尾銅山鉍毒事件..... A		
1894 年	(1)がおこる..... B	軽工業の発達..... C	
1895 年	清との間に(2)が結ばれる 台湾の植民地化		
1900 年			
1902 年	イギリスと(4)を結ぶ		
1904 年	(5)がおこる	重工業の発達..... F	
1905 年	ロシアと(6)を結ぶ... G		
1910 年	韓国を併合する..... H		
1911 年			

(1) 年表中の(1)~(6)に適する語句を書きなさい。

(2) A の問題に、一生涯をかけて取り組んだ人物名を書きなさい。

(3) B の戦争後に建設された官営の製鉄所は、F の中心的役割を果たした。その製鉄所名を書きなさい。

(4) C や F のできごとによって、三井、三菱、住友、安田などは、金融、貿易、鉍山業などの多角経営を行い、日本経済を支配するようになっていった。これらを何というか。

(5) E と H のできごとが起こった地域を地図中の(あ)~(か)からそれぞれ選び記号で答えなさい。

(6) I の原動力となった中心的人物はだれか。また、その指導理論を何というか。



[解答欄]

(1) 1	2	3	4	5
6	(2)	(3)	(4)	(5) E H
(6)				

[解答](1) 1 日清戦争 2 下関条約 3 三国干渉 4 日英同盟 5 日露戦争 6 ポーツマス条約

(2) 田中正造 (3) 八幡製鉄所 (4) 財閥 (5) E い H あ (6) 孫文、三民主義

[問題](2学期中間)(増補 08)

次のア～キのことがらを古い順に記号で並べなさい。

- ア 領事裁判権の回復 イ 義和団事件 ウ 日清戦争 エ 日露戦争 オ 日英同盟
カ 関税自主権の回復 キ 三国干渉

[解答欄]

--

[解答]ア ウ キ イ オ エ カ

[問題](2学期中間)

次の各文が、日清戦争に関係が深ければ、日露戦争に関係が深ければ で答えよ。

日本は、朝鮮の完全な独立を認めさせた。

日本は、南満州の鉄道利権を譲り受けた。

日本は、北緯 50 度以南の樺太を譲り受けた。

日本は、遼東半島を三国干渉により返した。

腐敗した役人の追放や外国人の排斥をめざして、東学を信仰する農民が、朝鮮半島南部一帯で蜂起した。

[解答欄]

--	--	--	--	--

[解答]

[問題](前期期末)

下の条約内容で、下関条約の内容にあてはまるものには を、ポーツマス条約の内容にあてはまるものには を、どちらにもあてはまらない内容であれば×をそれぞれ書きなさい。

南樺太を譲り受けた。

韓国における優越権を得た。

朝鮮の独立を認めさせた

賠償金は得られなかった。

巨額の賠償金(約 3 億円)を得た。

GHQ の進駐を認めた。

[解答欄]

--	--	--	--	--	--

[解答]

×

【】日本の産業革命

[問題](2 学期中間)

日本の産業革命について、質問に答えなさい。

1880年代には政府が民間産業を育成する政策をとったこともあって、()などの工業が発展し日本も産業革命の時代を迎えた。重工業では、()戦争後に、相手国からの賠償金をもとに、官営の()製鉄所が建設され、その後、鉄鋼、電気、造船などが発達した。こうした産業の発展の中で三井、()、住友、安田の資本家は、金融・貿易・(A)鉱山業などの多角経営を行って、日本経済を支配する()に成長していった。

(1) 文中の()に適切なものを下から選びなさい。

[日露 日清 財閥 八幡 三菱 第一 紡績・製糸]

(2) 下線(A)に関連して銅山からの煙や廃液によって、渡良瀬川流域の住民が公害病で苦しんだ事件があった。その事件を何というか答えなさい。また、その時、住民の側にたつて事件の早期解決を図るために政府を相手にたたかった国会議員を答えなさい。

[解答欄]

(1)			
	(2)		

[解答](1) 紡績・製糸 日清 八幡 三菱 財閥 (2) 足尾銅毒事件 田中正造

[解説]

1880年代には政府が民間産業を育成する政策をとったこともあって、^{ぼうせき}紡績・製糸などの軽工業が発展し日本も産業革命の時代を迎えた。重工業では、日清戦争後に、清国からの賠償金をもとに、官営の^{やはた}八幡製鉄所が建設され、その後、鉄鋼、電気、造船などが発達した。こうした産業の発展の中で^{みつい みつびし すみとも やすだ}三井、三菱、住友、安田の資本家は、金融・貿易・鉱山業などの多角経営を行って、日本経済を支配する^{さいばつ}財閥に成長していった。その一方で、労働者は長時間労働・低賃金に苦しんだ。そこで、労働者は団結して、資本家に待遇改善を要求する^{ろうどうそうぎ}労働争議を行い、社会主義思想も広まり始めた。また、鉱工業がさかんになると、排水や煙による被害も出るようになった。栃木県の^{あしお}足尾銅山では銅毒が農産物などに被害を与え、^{しょうぞう}田中正造を中心にした公害反対運動が起こった。

[問題](2 学期中間)(増補 08)

産業革命をむかえた日本で、アメリカ向けの輸出産業として急速に発展した工業を、次から1つ選んで書きなさい。[製鉄業 製糸業 造船業]

[解答欄]

[解答]製糸業

[問題](増補 06)(2 学期中間)

次の文を読んで、あとの各問に答えなさい。

日本の産業革命は、a 軽工業から始まり、1900 年代になると重工業も発達した。しかし、b 労働条件が悪いため、労働者は()を結成した。また、c 公害などの社会問題も起こった。農村も変化し、土地を失って()になる人が増加した。

- (1) 文中の()にあてはまる語句を書きなさい。
- (2) 下線部 b について、どのように悪かったのか、具体的に説明しなさい。
- (3) 下線部 c について、鉱毒事件の解決に努めた人物は誰か、書きなさい。

[解答欄]

(1)		(2)	(3)
-----	--	-----	-----

[解答](1) 労働組合 小作人 (2) 低賃金, 長時間労働 (3) 田中正造


[問題](増補 05)(2 学期期末)

次の各問いに答えなさい。

- (1) 下の文の空欄にあてはまる語句を答えなさい。

日本の産業革命は 1880 年代の(ア)工業の発達から始まる。その後、(イ)戦争で得た賠償金をもとに 1900 年代には(ウ)工業が発達した。

- (2) 右の写真は、北九州に建設された官営の製鉄所です。名前を書きなさい。
- (3) 政府から鉱山や工場を払い下げられた大資本家たちは日本の経済を支配していきます。この大資本家たちのことを何といいますか。また、その大資本家の名前を 1 つあげなさい。
- (4) 産業革命を支えた労働者はどのような条件で働いていたか答えなさい。



[解答欄]

(1)ア	イ	ウ	(2)
(3)	(4)		

[解答](1)ア 軽 イ 日清 ウ 重 (2) 八幡製鉄所 (3) 財閥, 三菱 (4) 低賃金, 長時間労働

[問題](2 学期期末)(増補 08)

官営八幡製鉄所がつくられた目的は何か。次のア～オから正しいものを2つ選びなさい。

- ア 近くで鉄鉱石がとれたため
- イ 軍備拡張のため
- ウ 紡績業発展のため
- エ 九州の産業発展のため
- オ 重工業を発展させるため

[解答欄]

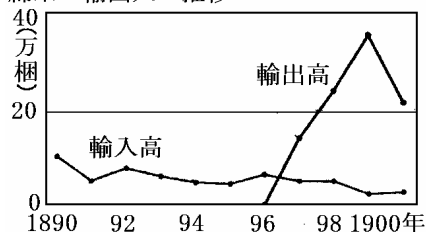
[解答]イ, オ

[問題](2 学期中間)

次の文を読み、右のグラフを見て、各問いに答えよ。

日本でも19世紀末頃に()が始まり、製糸業などの軽工業が発達した。グラフを見ると、()年には綿糸の輸出量が輸入量を上まわるようになったことがわかる。20世紀初めには、重工業も発達してきた。()とよばれる大資本家が、多くの企業を支配した。

綿糸の輸出入の推移



その一方で、()は長時間労働・低賃金に苦しんだ。そこで、()は団結して、資本家に待遇改善を要求する()を行った。

- (1) 文中の() ~ にあてはまる語句を答えよ。
- (2) 文中の()の大資本家名を1つ答えよ。
- (3) 文中の()が増えるとともに広まった思想を何主義というか。
- (4) 文中の下線部の重工業にあてはまらないものを1つ選び、記号で答えよ。

ア 造船 イ 紡績 ウ 鉄鋼 エ 軍事

- (5) 兵器原料の国産化のため、北九州に設立された官営工場は何か。
- (6) 栃木県で発生した日本最初の公害について、その反対運動の中心になった人物は誰か。

[解答欄]

(1)			
(2)	(3)	(4)	(5)
	(6)		

[解答](1) 産業革命 1897 財閥 労働者 労働運動 (2) 三菱 (3) 社会主義
 (4) イ (5) 八幡製鉄所 (6) 田中正造

[問題](増補 05)(2 学期中間)

近代の日本について、次の問いに答えなさい。

- (1) 足尾銅山鉱毒事件で、生涯を通してこの問題に取り組んだ人物は誰か。
- (2) 明治時代の産業の発展で、正しくないものを 1 つ選び、記号で答えなさい。
- ア 金融・貿易・鉱山業などを多角的に経営する財閥がおこった。
 - イ 生糸生産に関係する、桑の栽培や養蚕がさかんになった。
 - ウ 動力源としての石油の採掘が、筑豊や北海道で進んだ。
 - エ 商品経済に巻き込まれて、小作人や零細な農民の生活は苦しくなった。

- (3) 次の文の ・ にあてはまる語句を書きなさい。

日本の産業革命の頃、繊維工業で働くのは若い女性で、()は低く、きびしい()時間労働に従事していた。

[解答欄]

(1)	(2)	(3)	
-----	-----	-----	--

[解答](1) 田中正造 (2) ウ (3) 賃金 長

【】明治の文化

[問題](前期期末)

日清・日露戦争前後に栄えた近代文学や学問の発達について、関係のある人物を下からそれぞれ選びなさい。

- (1) 写実を重んじることを主張し、近代文学の出発点になった。
- (2) 「吾輩は猫である」「坊ちゃん」「三四郎」など多くの名作を残した。
- (3) 日本画に洋画の手法を取り入れた。
- (4) 細菌学で世界的な業績をあげた。
- (5) 「君死にたまふことなかれ」など多くの名作を残した。
- (6) 音楽の発展に貢献し、「荒城の月」をつくった。

(語群) ア 坪内逍遙 イ 北里柴三郎 ウ 横山大観 エ 与謝野晶子
オ 滝廉太郎 カ 夏目漱石

[解答欄]

(1)	(2)	(3)	(4)	(5)	(6)
-----	-----	-----	-----	-----	-----

[解答](1) ア (2) カ (3) ウ (4) イ (5) エ (6) オ

[解説]

(文学)

坪内逍遙：小説神髓：道徳にとらわれず写実を重んじ、近代文学の出発点になった。

島崎藤村：破戒、若菜集

夏目漱石：吾輩は猫である、坊ちゃん、三四郎：個人主義の立場から社会を厳しくとらえた。

森鷗外：舞姫：ドイツに留学して医学を学んだ。

樋口一葉：にごりえ、たけくらべ

与謝野晶子：みだれ髪：君死にたまふことなかれなど多くの名作を残した。

石川啄木：一握の砂：社会を見つめ生活をうたった和歌を作った。

正岡子規：俳句の近代化につとめた。

(美術・音楽)

黒田清輝：読書、湖畔など印象派の明るい画風。洋画の普及につとめた。

岡倉天心：フェノロサとともに日本の伝統美術の復興に力を注いだ。

横山大観：日本画に洋画の手法を取り入れた。

滝廉太郎：音楽の発展に貢献し、荒城の月をつくった。

(医学)

北里柴三郎：細菌学で破傷風血清療法の見見など、世界的な研究を成し遂げた。

野口英世：黄熱病の研究を行った。

志賀潔：赤痢菌を発見した。

[問題](2 学期期末)(私立中学)

(1)(2)の文にあてはまる人物を解答欄に答えなさい。

- (1) 「にぎりえ」「たけくらべ」の作者。
- (2) 「小説神髓」を発表して、写実主義を主張した。

[解答欄]

(1)	(2)
-----	-----

[解答](1) 樋口一葉 (2) 坪内逍遙

[問題](2 学期期末)(増補 08)

日清戦争の前後には、個性を重んじる()主義が主流となり、短歌の()、小説の()から女性の文学者が活躍した。

[解答欄]

--	--	--

[解答] ロマン 与謝野晶子 樋口一葉

[問題](増補 06)(2 学期中間)

次の各文にあてはまる人物を下のア～オより1つずつ選び、記号を書きなさい。

「吾輩は猫である」などをあらわした小説家。

「若菜集」など個性をのびのびと表現する作品を書いた。

ドイツに留学して医学を学び、帰国後「舞姫」などの作品を書いた。

ア 樋口一葉 イ 森鷗外 ウ 野口英世 エ 島崎藤村 オ 夏目漱石

[解答欄]

--	--	--

[解答] オ エ イ

[問題](増補 05)(2 学期中間)

次の文にあてはまる人名を書きなさい。

- (1) 「坊ちゃん」など知性と正義にあふれた作品をあらわした。
- (2) 細菌学で破傷風血清療法の発見など、世界的な研究を成し遂げた。

[解答欄]

(1)	(2)
-----	-----

[解答](1) 夏目漱石 (2) 北里柴三郎

[問題](1 学期期末)(増補 08)

日本の伝統的な木彫を復活させた人物は誰か。下の[]から選びなさい。

[横山大観 津田梅子 高村光雲 北里柴三郎]

[解答欄]

[解答]高村光雲

[問題](2 学期期末)(増補 08)

フェノロサと協力して、日本画の復興に努めたのはだれですか。

[解答欄]

[解答]岡倉天心

[問題](2 学期期末)

次の人物 ~ に関係ある事柄をア~オから選び記号で答えなさい。

夏目漱石 黒田清輝 志賀潔 石川啄木

- ア) 社会を見つめ生活をうたった和歌を作った。
- イ) 「吾輩は猫である」等の作品を作った。
- ウ) 赤痢菌を発見した。
- エ) ロダンに師事し、洋風の近代彫刻を制作した。
- オ) 印象派の明るい画風で「読書」を描いた。

[解答欄]

--	--	--	--

[解答] イ オ ウ ア

[問題](増補 05)(2 学期期末)

下の A~G の人物群と関係のあることがらを下から選び、記号で答えなさい。

A 野口英世 B 坪内逍遙 C 黒田清輝 D 夏目漱石

E 吉野作造 F 岡倉天心 G 正岡子規

ア 道徳にとらわれず人間のありのままの姿をとらえる。

イ 俳句の近代化につとめた。

ウ フェノロサとともに日本の伝統美術の復興に力を注いだ。

エ 黄熱病の研究を行った。

オ 「湖畔」などの作品をあらわし、洋画の普及につとめた。

カ 個人主義の立場から社会を厳しくとらえた。

キ 民本主義を唱え、普通選挙による政党政治の実現をめざした。

[解答欄]

A	B	C	D	E
F	G			

[解答]A エ B ア C オ D カ E キ F ウ G イ

[問題](1 学期期末)(増補 08)

次の人物に関係の深い文を選び、記号で答えなさい。

二葉亭四迷 石川啄木 北里柴三郎 長岡半太郎 フェノロサ

樋口一葉 黒田清輝 高村光雲 志賀潔 野口英世

ア 世の悲しみを「たけくらべ」につづった。

イ 「老猿」など、すぐれた彫刻を残した。

ウ 細菌学で知られ、黄熱病の研究中にガーナで死んだ。

エ 口語体で「浮雲」を著した。日本最初の近代小説といわれる。

オ 破傷風菌の純粋培養に成功した。

カ フランスの画風を伝え、わが国に洋画の技術を取り入れた。

キ 岡倉天心とともに、日本美術の復興につとめた。

ク 原子物理学者として、世界的な研究をなしとげた。

ケ 岩手県出身の詩人で「一握の砂」など、社会生活の現実を見つめた作品を残した。

コ 赤痢菌を発見した。

[解答欄]

[解答] エ ケ オ ク キ ア カ イ コ ウ

[問題](1 学期期末)

A 群と関連のあることがらを B 群から選び、記号で書け。

- <A 群> 1) 坊っちゃん 2) 油絵「読書」 3) 荒城の月 4) 民本主義
5) 足尾銅山鉍毒事件 6) 近代俳句
<B 群> ア 田中正造 イ 正岡子規 ウ 滝廉太郎 エ 吉野作造
オ 黒田清輝 カ 夏目漱石

[解答欄]

1)	2)	3)	4)	5)	6)
----	----	----	----	----	----

[解答]1) カ 2) オ 3) ウ 4) エ 5) ア 6) イ

[問題](2 学期中間)

次の問いに答えよ。

- (1) 「天は人の上に人をつくらず 人の下に人をつくらず」という考えを「学問のすすめ」の中で著した人は誰ですか。
- (2) 明治のはじめのころアメリカから札幌農学校に招かれた外国人で「少年よ 大志をいだけ」ということばでも知られている人はだれか。
- (3) 明治時代、北海道の開拓が進められていく中で、同化政策がとられたが、北海道の先住民民族の人たちを何というか。
- (4) 黄熱病の研究でも知られる福島県出身の医学者で 1000 円札の肖像となっている人は誰ですか。
- (5) 「坊ちゃん」を著した人は誰ですか。
- (6) 足尾鉍毒事件の解決のため、被害民とともにたたかった佐野市出身の人物はだれですか。

[解答欄]

(1)	(2)	(3)	(4)
(5)	(6)		

[解答](1) 福沢諭吉 (2) クラーク (3) アイヌ人 (4) 野口英世 (5) 夏目漱石 (6) 田中正造

[問題](1 学期期末)(私立中学)

以下のア～クの人名に最も関係のあるものを A～H から選び、記号で答えなさい。

- ア フェノロサ イ 滝廉太郎 ウ 森鷗外 エ 二葉亭四迷
 オ 岡倉天心 カ 島崎藤村 キ 志賀潔 ク 石川啄木
 A 破戒 B 赤痢菌の発見 C 日本美術の復興 D 舞姫
 E 花 F 東京美術学校 G 一握の砂 H 浮雲

[解答欄]

ア	イ	ウ	エ	オ	カ	キ	ク
---	---	---	---	---	---	---	---

[解答]ア C イ E ウ D エ H オ C カ A キ B ク G

[問題](2 学期期末)

- (1) 写真 をえがき、洋画の基礎を築いた人物はだれか。書きなさい。
 (2) 「吾輩は猫である」「坊ちゃん」などを著した写真 の人物はだれか。

写真 I



写真 II



[解答欄]

(1)	(2)
-----	-----

[解答](1) 黒田清輝 (2) 夏目漱石

[問題](2 学期期末)(増補 08)

次の組み合わせで正しいものを記号で書きなさい。

- ア 黄熱病の研究・北里柴三郎
 イ 「みだれ髪」・樋口一葉
 ウ 「坊ちゃん」「吾輩は猫である」・夏目漱石
 エ 老猿・横山大観

[解答欄]

--

[解答]ウ

[印刷 / 他の PDF ファイルについて]

このファイルは、FdData 中間期末社会歴史(7,200 円)を PDF 形式に変換したサンプルで、印刷はできないようになっています。製品版の FdData 中間期末社会歴史は Word(または一太郎)の文書ファイルで、印刷・編集を自由に行うことができます。

FdData 中間期末社会歴史全分野の PDF ファイル、および他の科目(地理・公民・理科・数学)の全 PDF ファイル、FdData 入試(社会・理科)の全 PDF ファイル、および製品版の購入方法は、<http://www.fdttext.com/dat/> に掲載しております。

下図のような、[FdData 無料閲覧ソフト(RunFdData)]を、Windows のデスクトップ上にインストールすれば、FdData 中間期末・FdData 入試の全 PDF ファイル(各教科約 1500 ページ)を自由に閲覧できます。次のリンクを左クリックするとインストールが開始されます。

RunFdData(Word 版) 【 <http://www.fdttext.com/lnk/instRunFdDataWDs.exe> 】

RunFdData(一太郎版) 【 <http://www.fdttext.com/lnk/instRunFdDataTAs.exe> 】

ダイアログが表示されたら、【実行】ボタンを左クリックしてください。インストール中、いくつかの警告が出ますが、[実行][許可する][次へ]等を選択します。

【イメージ画像】



【Fd 教材開発 : URL <http://www.fdttext.com/dat/> Tel (092) 404-2266】