

【】 帝国主義

[問題](2 学期期末)

次の各問いに答えよ。

- (1) 19 世紀末にイギリス, フランス, ドイツなどの列強が軍事力をもとに植民地支配を進めたが, このような動きを何というか。
- (2) 列強各国が植民地を求めた地域を 2 つ答えよ。
- (3) 植民地支配の動きを支えたのは交通網の拡大であるが, イギリスとインドの航海距離を半分に縮めた運河は何か。
- (4) 列強各国が植民地支配を進めた目的を答えよ。

[解答欄]

(1)	(2)	(3)
(4)		

[解答](1) 帝国主義 (2) アジア, アフリカ (3) スエズ運河 (4) 資源や市場を確保するため。

[解説]

19 世紀末, イギリス, フランス, ドイツなどの列強は原料や製品の市場を海外に求めるようになり, 軍事力を背景に植民地を求めてアジア・アフリカへ侵略を重ね, たがいに対立するようになった。このような動きを帝国主義という。イギリスとインドの航海距離を半分に縮めた交通路はスエズ運河である。1869 年にスエズ運河が開通すると, イギリスは運河会社の株を買い占め, さらにエジプトを占領してインドへの通路を確保した。

[帝国主義]

19世紀末, 資源や市場を確保するため  
列強→アジア・アフリカを植民地  
イギリス:スエズ運河(エジプト)

[問題](増補 11)(1 学期期末)

次の文中の ~ にあてはまる語句を, 下の[ ]から選んで書け。

19 世紀末, 資本主義の発達した( )とよばれる国々が, 資源や( )を求めて, アジアやアフリカなどを軍事力によって( )としていった。このような動きを( )主義という。

[ 帝国 列強 植民地 社会 経済 市場 資本 ]

[解答欄]

--	--	--	--

[解答] 列強 市場 植民地 帝国

[問題](増補 11)(2 学期中間)

次の文の , の( )内から適切な語句を選べ。

イギリスのケープ植民地の首相だったセシル・ローズは帝国主義政策を進めた。右図には、ライフルを肩に電信線を敷いている様子が描かれている。彼の左足は、当時イギリスの植民地であった (エジプト/インド)と、そこに建設されて帝国主義政策を支えた (大陸横断鉄道/スエズ運河)を踏みしめているといわれている。



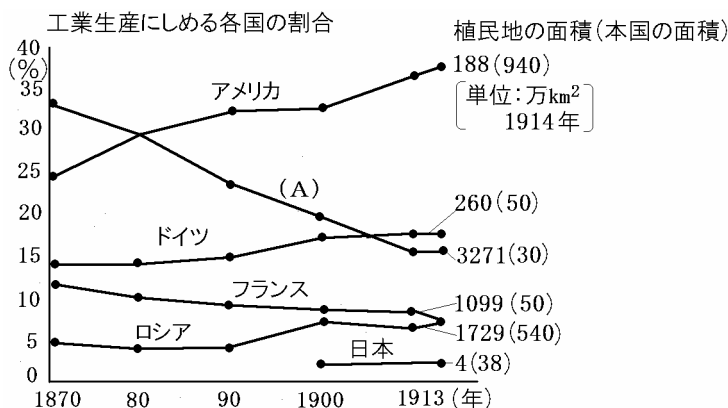
[解答欄]

--	--

[解答] エジプト      スエズ運河

[問題](2 学期中間)

次の資料を見て各問いに答えなさい。



- (1) 上の資料の(A)の国はどこか、その国名を答えなさい。
- (2) 上の資料から読みとれることとして正しいものをア～オから選びなさい。
  - ア 1900年前後でドイツは世界一の工業生産を誇るようになった。
  - イ (A)の国は、かつては世界一の工業国であったが、アメリカにその地位を奪われ、さらに工業生産の割合が低下し続けた。
  - ウ 世界で最も多く植民地を持つフランスは、徐々にだが工業生産が伸びていった。
  - エ 1900年前後を境に、日本は工業が急激に発展するようになった。
  - オ アメリカもヨーロッパ各国同様、さかんに海外植民地を求め、多くの植民地を有していた。

[解答欄]

(1)	(2)
-----	-----

[解答](1) イギリス (2) イ

[解説]

(1) 18世紀,最初に産業革命<sup>さんぎょうかくめい</sup>を達成して世界の工場といわれたイギリスは,インド,カナダ,オーストラリア,エジプトなど全世界に植民地を広げた。問題の資料で1870年に工業生産の割合が世界一であったこと,植民地の面積が圧倒的に多いことから(A)はイギリスであると判断できる。

(2) イギリスはかつて世界一の工業国であったが,アメリカにその地位を奪われ,さらに工業生産の割合が低下し続けたことが資料から読み取れる。したがってイが正しい。

[問題](2 学期中間)

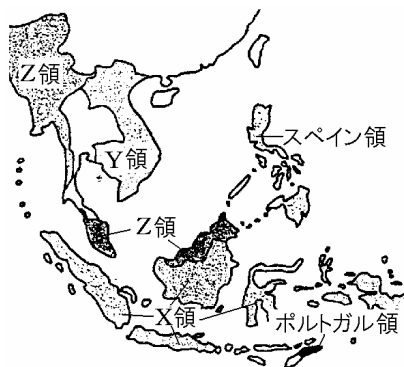
アフリカを分割したように,ヨーロッパ諸国が軍事力を使って植民地を広げていった動きを何というか。

[解答欄]

[解答]帝国主義

[問題](1 学期中間)

下の地図の X, Y, Z を植民地支配したヨーロッパの国名を,次から1つずつ選びなさい。[イギリス フランス オランダ]



[解答欄]

X	Y	Z
---	---	---

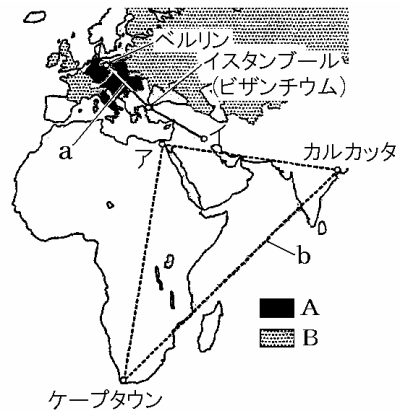
[解答]X オランダ Y フランス Z イギリス

【】列強の対立と第一次世界大戦の勃発

[問題](増補 11)(1 学期中間)

第一次世界大戦について，右の地図を見て各問いに答えよ。

- (1) 地図中 A, B で示した国の間にはどのような軍事的な取り決めがあったか。それぞれ答えよ。
- (2) 地図中の a はドイツの, b はイギリスの政策を示している。それぞれ何というか。
- (3) 地図中ア, イの都市名を書け。
- (4) 地図中 A の加盟国であったが, 領土問題から連合国側についた国はどこか。その国名を書け。
- (5) この戦争がおこった場所は「ヨーロッパの火薬庫」とよばれた半島である。この半島名を書け。
- (6) この戦争のきっかけとなった事件は何か。
- (7) (6)の事件の内容を説明せよ。

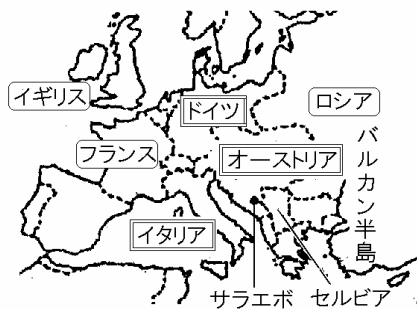
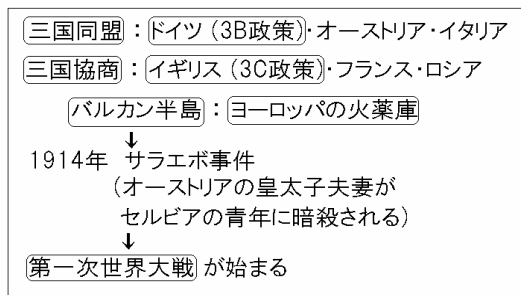


[解答欄]

(1)A	B	(2)a	b
(3)ア	イ	(4)	(5)
(6)	(7)		

[解答](1)A 三国同盟 B 三国協商 (2)a 3B 政策 b 3C 政策 (3)ア カイロ イ バグダッド (4) イタリア (5) バルカン半島 (6) サラエボ事件 (7) オーストリア皇太子夫妻が，セルビアの青年にサラエボで暗殺された事件。

[解説]



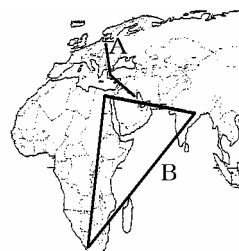
ドイツは，オーストリア，イタリアと<sup>さんこくどうめい</sup>三国同盟を結び，ベルリン - ビザンチウム - バグダッドへ積極的に勢力をのばそうとする3B政策をとった。これはイギリスの3C政策(カイロ - カルカタ - ケープタウン)と対立するものであり，イギリスは，フランス，ロシアと<sup>さんこくきょうしょう</sup>三国協商を結んで対抗した。

これらの列強は世界中で対立していたが、しだいにバルカン半島が対立の中心になり、民族・宗教の対立もからんで、バルカン半島は「ヨーロッパの火薬庫」とよばれるようになった。1914年、バルカン半島のサラエボという都市で、オーストリアの皇太子夫妻がセルビアの青年に暗殺されるというサラエボ事件がおこり、オーストリアとセルビアが開戦し、ドイツ、トルコなどの同盟国がオーストリアにつき、イギリス、フランス、ロシアなどの連合国がセルビアについて、戦争は世界中に広がって、第一次世界大戦が始まった。(第一次大戦行く銃士(1914)) なお、イタリアは戦争が始まると同盟国側についた。

[問題](増補 11)(1 学期中間)

地図中の A, B の記号について、次の各問いに答えよ。

- (1) A のベルリン・ビザンチウム・バグダッドを結ぶ政策を何というか。
- (2) (1)の政策をとった国名を答えよ。
- (3) B のカイロ・ケープタウン・カルカッタを結ぶ地域の支配を目的とする政策を何というか。
- (4) (3)の政策をとった国名を答えよ。



[解答欄]

(1)	(2)	(3)	(4)
-----	-----	-----	-----

[解答](1) 3B 政策 (2) ドイツ (3) 3C 政策 (4) イギリス

[問題](増補 11)(1 学期中間)

第一次世界大戦直前のヨーロッパのようすについて書かれた次の文の( )にあてはまる語句を書きなさい。

帝国主義諸国のうち、新興のドイツは 19 世紀末に( )・イタリアと三国同盟を結びました。いっぽう、イギリスはフランス・( )と( )を成立させドイツと対抗しました。このころ、トルコの支配がおとろえた( )半島は諸民族が対立し、「ヨーロッパの火薬庫」とよばれていました。1914 年、セルビア人青年による、( )皇太子夫妻暗殺事件がきっかけとなって、同盟国と連合国とのあいだで第一次世界大戦が始まりました。

[解答欄]

--	--	--	--

[解答] オーストリア      ロシア      三国協商      バルカン

[問題](2 学期中間)

次の文の( )に適語を入れよ。

( )主義の政策をとるヨーロッパ諸国は、植民地や勢力範囲をめぐる対立し、特に 3C 政策をとる( )と遅れて進出した 3B 政策の( )は激しく対立した。このころ、( )半島で民族の独立をめざす運動が高まると、( )主義諸国はたがいここの動きを利用して勢力をのばそうとし、この地域は「ヨーロッパの火薬庫」とよばれた。

1914 年、( )半島の( )でオーストリアの皇太子夫妻が( )の青年に暗殺された。これをきっかけとして、第一次世界大戦が始まった。

[解答欄]


[解答] 帝国 イギリス ドイツ バルカン サラエボ セルビア

[問題](2 学期中間)

図を見て、次の各問いに答えよ。

(1) 図中の a, b にあてはまる国名を答えよ。

(2) 対立の中心となった c 半島は当時「ヨーロッパの火薬庫」とよばれた。半島名を答えよ。

(3) c の半島を地図中の あ～え から選び、記号で答えよ。

(4) 図中の d は、第一次世界大戦のきっかけとなった事件を表している。この事件を次の語句を使って簡単に説明せよ。

[ オーストリア セルビア サラエボ ]

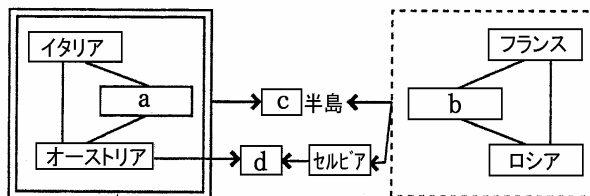
(5) (4)の事件の背景としてあてはまるものを 1 つ選べ。

ア 条約の調印をめぐる対立

イ 国際連盟への加盟をめぐる対立

ウ 民族をめぐる対立

エ アジアの植民地化をめぐる対立



[解答欄]

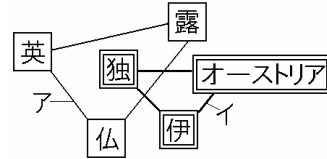
(1)a	b	(2)	(3)
(4)			(5)

[解答](1)a ドイツ b イギリス (2) バルカン半島 (3) え (4) オーストリアの皇太子夫妻がサラエボでセルビア人青年に暗殺された。 (5) ウ

[問題](3 学期)

図を見て、次の各問いに答えなさい。

- (1) 第一次世界大戦前の右図中アの3か国の軍事的な結びつきを何とといいますか。
- (2) 第一次世界大戦前の右図中イの3か国の軍事的な結びつきを何とといいますか。
- (3) ヨーロッパのある半島は紛争が絶えず、「ヨーロッパの火薬庫」とよばれていた。何という半島ですか、答えなさい。
- (4) 第一次世界大戦のきっかけとなった事件は何ですか。



[解答欄]

(1)	(2)	(3)	(4)
-----	-----	-----	-----

[解答](1) 三国協商 (2) 三国同盟 (3) バルカン半島 (4) サラエボ事件

[問題](後期期末)

第一次世界大戦について、次の各問いに答えなさい。

- (1) 「ヨーロッパの火薬庫」とよばれていた半島を、地図のA～エから1つ選び記号で書きなさい。
- (2) 第一次世界大戦のきっかけとなったできごとを、次のA～ウから1つ選び、記号を書きなさい。  
 A ドイツがオーストリアを攻撃した。  
 イ オーストリアの皇太子夫妻がセルビア人に暗殺された。  
 ウ イタリアがドイツとの同盟から脱退した。



[解答欄]

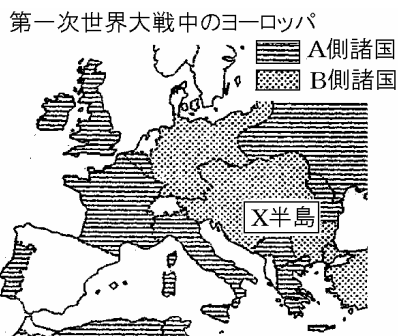
(1)	(2)
-----	-----

[解答](1) エ (2) イ

[問題](2 学期期末)

第一次世界大戦について、次の各問いに答えよ。

- (1) どの国の皇太子夫妻が暗殺されたことがきっかけで起こったか。
- (2) 地図中の A, B にあてはまる語句を、それぞれ漢字 3 字で書け。
- (3) 地図中の X 半島は民族紛争が絶えなかった。何という半島か。



[解答欄]

(1)	(2)A	B	(3)
-----	------	---	-----

[解答](1) オーストリア (2)A 連合国 B 同盟国 (3) バルカン半島

[解説]

第一次世界大戦が始まる前は、<sup>さんごくどうめい</sup>三国同盟(ドイツ・オーストリア・イタリア)と<sup>きようしやう</sup>三国協商(イギリス・フランス・ロシア)が対立していた。第一次世界大戦が始まると、イタリアは三国同盟を<sup>はき</sup>破棄して中立を宣言し、1915 年になってイギリス側にたって参戦した。そこで、第一次世界大戦のときの両陣営を、同盟国側(ドイツ・オーストリア・トルコ)と連合国側(イギリス・フランス・ロシア・イタリア、後にアメリカ)の 2 つに分けている。

[問題](1 学期中間)

文中の( )に適語を入れよ。

20 世紀の初めごろ、ヨーロッパ列強は、ドイツ・オーストリア・イタリアの三国( )とイギリス・ロシア・フランスの三国( )に分かれて対立していた。( )半島はこのような列強の対立と民族・宗教の対立がからまって紛争が絶えず、( )とよばれていた。( )年の夏、( )の皇太子夫妻が( )の青年に( )で暗殺される( )事件が起こった。オーストリアとセルビアが開戦し、ドイツ、トルコなどの( )国がオーストリアにつき、イギリス、フランス、ロシアなどの( )国がセルビアについて、戦争は世界中に広がって( )が始まった。

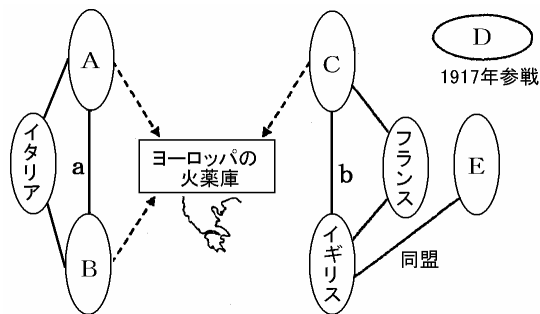
[解答欄]


[解答] 同盟 協商 バルカン ヨーロッパの火薬庫 1914 オーストリア セルビア サラエボ 同盟 連合 第一次世界大戦

[問題](3 学期)

右の図を見て以下の各問いに答えなさい。

- (1) ヨーロッパの火薬庫といわれたのは何半島ですか。
- (2) A の国の皇太子が暗殺されたことによって第一次世界大戦が起こったが、その事件を何といいますか。
- (3) A の国名を書きなさい。
- (4) イギリスと E の国の間で 1902 年に結ばれた同盟を何というか、答えなさい。
- (5) 1904 年に E と C の間に起こった戦争を何というか、答えなさい。
- (6) B と D の国名を答えなさい。
- (7) a・b の結びつきをそれぞれ何というか、答えなさい。



[解答欄]

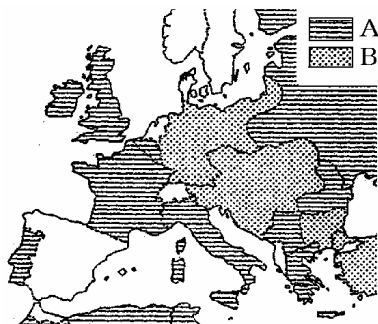
(1)	(2)	(3)	(4)
(5)	(6)B	D	(7)a
b			

[解答](1) バルカン半島 (2) サラエボ事件 (3) オーストリア (4) 日英同盟 (5) 日露戦争 (6)B ドイツ D アメリカ (7)a 三国同盟 b 三国協商

[問題](3 学期)

T 君は、第一次世界大戦について、地図と資料を使って調べました。次の各問いに答えなさい。

- (1) 右の地図の A, B は、第一次世界大戦中の同盟国と連合国を示しています。日本は、どちら側に立って参戦したか。記号で書きなさい。
- (2) この戦争が始まるきっかけとなった「ヨーロッパの火薬庫」とよばれた半島名を書きなさい。
- (3) 大戦に途中から参加し、戦後の世界に発言力を強めたこの地図にのっていない国はどこですか。国名を書きなさい。



[解答欄]

(1)	(2)	(3)
-----	-----	-----

[解答](1) A (2) バルカン半島 (3) アメリカ

[問題](2 学期期末)

文中の ~ にあてはまる国名や地名を書け。

植民地の拡大をめざす( )は( )やイタリアとむすびついた。一方,( )と対立した( )は( )とフランスと互いの勢力圏を保障しあってむすびついた。「ヨーロッパの火薬庫」といわれた( )半島でセルビアの青年が,( )の皇太子夫妻を暗殺する事件が起こると、これをきっかけとして第一次世界大戦が始まった。日本も参戦し、1917年にはアメリカも連合国側に加わった。戦争中に( )では革命が起こり、世界初の社会主義国が生まれた。その後,( )でも国内に革命が起こり降伏した。大戦後,( )では、多額の賠償金の支払いに苦しんだが、一方では労働者の団結権を認めた新しい憲法が作られた。

[解答欄]


[解答] ドイツ オーストリア イギリス ロシア バルカン

[問題](1 学期期末)

以下の各問いに答えよ。

(1) 次の[ ]のうち、第一次世界大戦の時に連合国側にたって戦った国はどれか、すべて選べ。

[ イギリス ドイツ アルゼンチン ロシア 日本 フランス アメリカ ]

(2) 上の[ ]の国のうち、いくつかは第一次世界大戦の直前に 2 つのグループに分かれて、対立していた。その 2 つのグループ名を書け。

(3) 第一次世界大戦直前、ヨーロッパのバルカン半島はいつ戦争がおきてもおかしくない状態であった。そのため、この危険な半島は何とよばれていたか。

[解答欄]

(1)	(2)
(3)	

[解答](1) イギリス, ロシア, 日本, フランス, アメリカ (2) 三国同盟, 三国協商 (3) ヨーロッパの火薬庫

[問題](後期中間)

次の文の下線部が正しければ，間違っていれば正しく書き直しなさい。

バルカン半島は，帝国主義の政策をとる列強の利害と民族の独立をめざす動きがからまって紛争が絶えず，「ヨーロッパの食料庫」とよばれた。

[解答欄]

[解答]火薬庫

[問題](3 学期)

世界中を巻きこんだ第一次世界大戦で使われた新兵器にあてはまらないものを，次から 1 つ選びなさい。

[ 毒ガス 飛行機 原子爆弾 戦車 ]

[解答欄]

[解答]原子爆弾

[解説]

第一次世界大戦では，飛行機・戦車・毒ガスなどの新兵器が使われた。戦いは各国の総力を挙げた消耗戦となり，戦死者数も 1500 万人とそれまでに例を見ない悲惨なものになった。

原子爆弾は第二次世界大戦中にアメリカが初めて開発に成功し，広島と長崎に投下した。

[問題](増補 11)(1 学期中間)

第一次世界大戦で新たに使用された兵器を 2 つ答えなさい。

[解答欄]

[解答]毒ガス，飛行機(戦車，潜水艦，飛行船)

## 【】日本の参戦

### [問題](後期末)

次の文の( )に適語を入れよ。

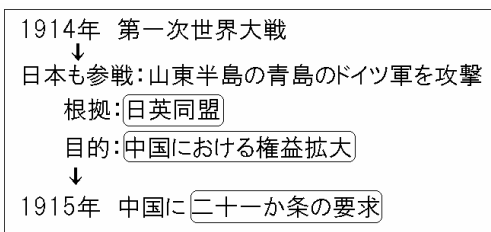
第一次世界大戦が始まると、日本は( )を根拠に連合国側にたって参戦し、同盟国側の中心国である( )の中国における拠点であった山東半島の青島を攻撃した。日本が参戦した目的は中国における権益の拡大であった。日本は中国に対し、( )の要求を突きつけ、山東半島の( )権益の継承、旅順・大連の租借期間の延長などを認めさせた。

### [解答欄]

--	--	--

[解答] 日英同盟      ドイツ      二十一か条

### [解説]



日本は、中国への権益をのばすために、日英同盟を根拠に連合国側にたってドイツの拠点であった山東半島の青島を攻撃した。さらに日本は中国に対して、山東半島のドイツ権益の継承、旅順・大連の租借期間の延長など二十一か条の要求を出し、これを認めさせた。

### [問題](後期中間)

次の各問いに答えなさい。

- (1) 日本は第一次世界大戦に連合国側にたって参戦すると、ある国の拠点であった中国の青島などを占領した。ある国とはどこですか。
- (2) 日本が第一次世界大戦に連合国側にたって参戦した理由を、ある国との関係にふれて説明しなさい。

### [解答欄]

(1)	(2)
-----	-----

[解答](1) ドイツ (2) 日英同盟を根拠として中国における権益を拡大するために参戦した。

[問題](1 学期期末)

第一次世界大戦が始まると日本は参戦することとなる。何を根拠として参戦したか。また、なぜ日本はこの戦争に参加したのか。

[解答欄]

[解答]日英同盟を根拠として、中国における権益を拡大するために参戦した。

[問題](1 学期中間)

日本は何という同盟を理由に連合国側に参加しましたか。

[解答欄]

[解答]日英同盟

[問題](増補 11)(後期中間)

日本は、「ある国」との同盟を理由に、第一次世界大戦に参戦しました。「ある国」の国名を書きなさい。

[解答欄]

[解答]イギリス

[問題](3 学期)

大戦中、戦場とならなかった日本は、隣国の中華民国に対して、山東省のドイツ権益の継承などを認めさせる要求を出します。この要求を何といいますか。

[解答欄]

[解答]二十一か条の要求

[問題](3 学期)

次の資料は、第一次世界大戦中の 1915 年に、日本が中国に示した二十一か条の要求の一部です。資料の ・ にあてはまる地名をそれぞれ[ ]から選んで書け。

- 一 中国政府は、ドイツが( )にもっているいっさいの権利を日本にゆずる。
- 一 日本の旅順・大連の租借の期限、( )鉄道の期限を 99 年延長する。

[ 遼東半島 東清 南満州 山東省 ]

[解答欄]

--	--

[解答] 山東省 南満州

[問題](増補 11)(後期中間)

次は、日本が中国に示した二十一か条の要求の一部です。下の各問いに答えなさい。

一 中国政府は、( )が山東省にもっているいっさいの権利を( )にゆずる。

一 ( )の旅順・大連の租借の期限、南満州鉄道の期限を 99 か年延長する。

(1) 文中の , にあてはまる国名を、それぞれ書きなさい。

(2) パリ講和会議で、これらの内容が認められると、中国国内で反日・反帝国主義の運動が一気に高まりました。この運動を何といいますか。

[解答欄]

(1)		(2)
-----	--	-----

[解答](1) ドイツ 日本 (2) 五・四運動

[問題](増補 11)(1 学期期末)

二十一か条の要求を中国政府にほぼ認めさせることができた背景は何か。「第一次世界大戦」という語句を使って書きなさい。

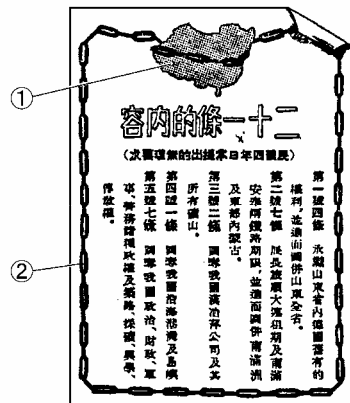
[解答欄]

--

[解答]第一次世界大戦で欧米列強のアジアへの関心がうすれていたため。

[問題](2 学期中間)

日本が第一次世界大戦で手薄になった中国に進出し、ドイツが山東省にもつ権利を日本に譲らせ、中国国内の鉞山の採掘権を認めさせるなど 21 条にわたる要求をつきつけた。その時、中国政府がその内容を国民に知らせるために右のようなポスターを出した。そのポスターの ①の部分、②の部分に注目して、中国政府はこのポスターを通して中国国民にどのようなことを伝えようとしていたのか説明しなさい。



[解答欄]

[解答]二十一か条の要求を認めれば，中国は鎖でつながれた状態になり，主権がそこなわれてしまうこと。

[解説]

は鎖くさりで，は鎖で中国が縛しばられている状態を表している。中国政府は，二十一か条の要求を認めれば，中国は鎖でつながれた状態になり，主権がそこなわれてしまうことを中国国民に伝えようとしたことがわかる。

## 【】大戦景気

[問題](2 学期中間)

次の文章中の ~ の( )から、あてはまる語句をそれぞれ選べ。

1914 年からヨーロッパで第一次世界大戦がおこっている 4 年間ほどの間、日本では(輸入超過 / 輸出超過)となり、(好景気 / 不景気)になっていた。造船・海運・鉄鋼業などで、にわかに巨額の利益をあげた(財閥 / 成金)とよばれる人々が生まれた。

[解答欄]

--	--	--

[解答] 輸出超過 好景気 成金

[解説]

1914 年に第一次世界大戦が始まると、ヨーロッパ各国からアジアなどへの輸出が減少したため、日本のアジア市場などへの輸出が約 3 倍に急増し、好景気になった。造船・海運・鉄鋼業などで、にわかに巨額の利益をあげた成金とよばれる人々が生まれた。しかし、戦争が終わってヨーロッパ各国がアジア市場にもどってくると、輸出は減少に転じた。

第一次世界大戦  
→ヨーロッパ各国の  
アジアなどへの輸出が減少  
↓  
日本の輸出が急増 → 成金

[問題](2 学期期末)

第一次世界大戦中に、日本の輸出は急激に増えたが、その理由を次の語句を使って簡単に答えなさい。[ヨーロッパ アジア 工業製品]

[解答欄]

--

[解答]ヨーロッパ各国のアジアなどへの工業製品の輸出が減少したため。

[問題](増補 11)(1 学期中間)

第一次世界大戦のころに、にわかに巨額の利益を得た右の資料のような人々を何というか。

[解答欄]

--

[解答]成金



[問題](増補 11)(前期中間)

第一次世界大戦のころの日本の経済や社会のようすとして、適当でないものをア～エから1つ選べ。

- ア ヨーロッパへの輸出拡大で好景気となったアメリカへの輸出が増加し、貿易は黒字になった。
- イ 米をはじめ国内の物価が急上昇し、都市の労働者や農民・漁民の生活は苦しくなった。
- ウ 紡績業や織物業が急速に発達し、軽工業分野で産業革命が進んだ。
- エ 空前の好景気となり、海運業を中心に「成金」が現れた。

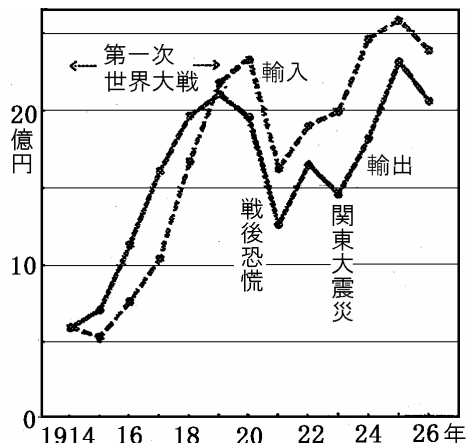
[解答欄]

[解答]ウ

[問題](2 学期期末)

次の資料を見て、各問いに答えよ。

- (1) 輸出・輸入額がともに長く増加し続けたのは、何年から何年までの間か。
- (2) (1)の期間は何かおきていた期間か。
- (3) (1)の期間に、輸入額はおよそ約何倍に増加したか。次の[ ]から1つ選んで書け。  
[ 約2倍 約3倍 約4倍 約5倍 ]
- (4) 輸入額が増加した原因について述べた次の文から最も適するものを1つ選び、記号を書け。



ア 工業製品の輸出が増えて、同時にその原料を輸入したから。

イ 人口が増加して、人々が消費する食料や工業製品を輸入したから。

ウ ききんがおきて食料を大量に輸入したから。

エ 植民地が増えて、食料や工業製品を輸入したから。

- (5) 輸出入額がともに最も減少したのは何年のことか。
- (6) (5)から回復して、輸出入額がともに最高になったのは何年のことか。

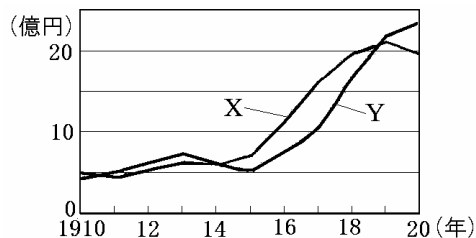
[解答欄]

(1)	(2)	(3)	(4)
(5)	(6)		

[解答](1) 1915年から1919年 (2) 第一次世界大戦 (3) 約4倍 (4) ア (5) 1921年  
(6) 1925年

[問題](増補 11)(後期中間)

右のグラフは第一次世界大戦前後の貿易額の推移を示しています。次の各問いに答えなさい。



- (1) Xは輸入ですか，輸出ですか。
- (2) 第一次世界大戦中の輸入額と輸出額は，他の年に比べ，どのような特徴がありますか。グラフからわかることを2つ説明しなさい。
- (3) 日本の貿易に(2)のような変化が起こったのはどうしてですか。第一次世界大戦と関連づけて説明しなさい。

[解答欄]

(1)	
(2)	
(3)	

[解答](1) 輸出 (2) 輸出入とも急激に増加した。輸出が輸入を超えた。 (3) 第一次世界大戦が始まると，ヨーロッパ各国からアジアなどへの輸出が減少したため，日本のアジア市場などへの輸出が急増したから。

[問題](増補 11)(1学期中間)

第一次世界大戦を中心とした時期の日本の景気の移り変わりについて説明した次のア～エを，大戦中と大戦後の2つに分類せよ。

- ア 造船や海運，鉄鋼などの産業が発展した。
- イ ヨーロッパの復興にともなって輸出が減少した。
- ウ 連合軍が日本から兵器や弾薬の輸入を行った。
- エ 中国などのアジアへの輸出を増加させた。

[解答欄]

大戦中：	大戦後：
------	------

[解答]大戦中：ア，ウ，エ 大戦後：イ

【 】ロシア革命と米騒動

[問題](2 学期中間)

文中の( )に適語を入れよ。

連合国側に立って参戦したロシアでは、( )を指導者とする( )革命がおこり、いち早くドイツと単独講和条約を結び戦争を終結させた。革命の影響が及ぶことを恐れた日本、アメリカ、イギリス、フランスは( )出兵を行った。日本国内では、( )出兵を見こした商人の米の買い占めによって、米は異常な値上がりが続けたため、( )が起こった。

[解答欄]

--	--	--	--

[解答] レーニン      ロシア      シベリア      米騒動

[解説]

戦争が長引くにつれ、ロシア国内では国民の生活が苦しくなり、労働者のストライキなどが広がった。こうした中、1917 年にレーニンを指導者としてロシア革命がおこり、1918 年ロシアはドイツと単独で講和した。(引く否(1917)とレーニン、ロシア革命) 1922 年、ソビエト社会主義共和国連邦が世界で初めての社会主義国として成立した。

1917年	ロシア革命(レーニン)
1918年	シベリア出兵を見こした 米の買い占め→米価高騰 →米騒動(富山県)
1922年	ソビエト社会主義共和国連邦

ロシア革命の影響が及ぶことを恐れた日本、アメリカ、イギリス、フランスはシベリア出兵を行った。日本国内では、シベリア出兵を見こした商人の米の買い占めによって、米は異常な値上がりが続けた。1918 年、富山県の漁村の主婦たちが、米の県外への積み出しを実力で止め、安売りを求める事件が起きた。新聞でこれが報道されると、全国各地で米の安売りを求めて民衆が集まり、米屋・金貸し・大商店におしかけるなどはげしい行動を起こした。これを米騒動という。(行く人は(1918)やる米騒動)



[問題](1 学期期末)

次の各問いに答えよ。

- (1) a の革命を指導した人物は誰か。
- (2) b が原因で、日本国内でおこったできごとを書け。
- (3) (2)のできごとは日本の何県からおきたか。

年代	できごと
1917 年	ロシア革命がおこる…………… a
1918 年	日本がシベリアに出兵する…… b

[解答欄]

(1)	(2)	(3)
-----	-----	-----

[解答](1) レーニン (2) 米騒動 (3) 富山県

[問題](増補 11)(1 学期中間)

次の資料を見て、各問いに答えなさい。

言葉の時は過ぎ去った。全ロシア( A )大会は、ぜひとも自己の手に権力をとり、人民に平和と土地とパンを保証すべきである。革命と人民を救うためにはそれが必要である。権力を(A)に。全戦線における即時休戦。土地を農民に。

- (1) 文章中の A にあてはまる語句を答えなさい。
- (2) この革命の名称を答えなさい。
- (3) (2)の革命を指導した人物の名前を答えなさい。
- (4) 革命の拡大を防ぐために日本を含む各国が軍隊を派遣したことを何といいますか。

[解答欄]

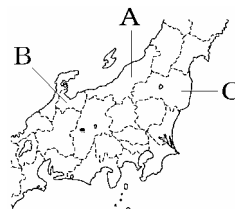
(1)	(2)	(3)	(4)
-----	-----	-----	-----

[解答](1) ソビエト (2) ロシア革命 (3) レーニン (4) シベリア出兵

[問題](増補 11)(1 学期中間)

次の各問いに答えよ。

- (1) 第一次世界大戦の末期に、米価が異常な値上がりをしたため、米の安売りを求める民衆が米屋などを焼き打ちしたりする事件が起きた。これを何というか。
- (2) (1)の事件が最初に起こった県名を答え、その位置を右の地図中の A～C から選び、記号で答えよ。



[解答欄]

(1)	(2)県名：	位置：
-----	--------	-----

[解答](1) 米騒動 (2)県名：富山県 位置：B

[問題](3 学期)

米騒動がおこった原因として適切なものを、次から 1 つ選べ。

- ア 日照りが続いて大ききんがおこったから。
- イ 戦争による被害が大きかったにもかかわらず、賠償金がとれなかったから。
- ウ シベリア出兵を見こした商人が米を買いしめ、米価が急上昇したから。
- エ 関東大震災の被害により物価が上昇したから。

[解答欄]

[解答]ウ

[問題](増補 11)(1 学期中間)

1918 年の米騒動は、米が異常な値上がりをしたためにおこった。米が異常な値上がりをしたのはなぜか。

[解答欄]

[解答]シベリア出兵による米の値上がりを見こした商人が米の買い占めを行ったから。

[問題](3 学期)

1922 年、世界で初めて社会主義国となった国の正式国名を答えなさい。また、その指導者は誰か。

[解答欄]

<input type="text"/>	<input type="text"/>
----------------------	----------------------

[解答] ソビエト社会主義共和国連邦      レーニン

[問題](後期中間)

次の文の下線部が正しければ、間違っていれば正しく書き直しなさい。

1917 年 11 月、ガンディーの指導のもとに党働者や兵士の代表会議が武装蜂起して、世界最初の社会主義政府をつくった。

[解答欄]

[解答]レーニン

## 【】ベルサイユ条約と国際連盟

[問題](1 学期中間)

次の文の( )内に適語を入れよ。

1918 年、ドイツが降伏し、パリで講和会議がひらかれ、1919 年に( )条約が結ばれた。この条約で、( )とフランスは、( )に巨額の賠償金や軍備縮小などをおしつけた。また、大戦後に生まれたヨーロッパの小さな国々が承認された。また、従来から民族自決を唱えていた( ) (国名)のウィルソン大統領の提案にもとづき、世界平和と国際協調をうたう( )が誕生した。しかし、戦勝国の利害が優先されヨーロッパ以外の民族自決は、あまり考慮されなかった。ロシアの革命政府は、内戦と列強の干渉戦争を切りぬけ、1922 年に( ) (正式国名で)を樹立した。

[解答欄]


[解答] ベルサイユ イギリス ドイツ アメリカ 国際連盟 ソビエト社会主義共和国連邦

[解説]

1918 年にドイツが降伏し、1919 年にパリで講和会議がひらかれ、ベルサイユ条約が結ばれた。イギリスとフランスは、ドイツに巨額の賠償金や軍備縮小をおしつけた。また、この条約でドイツは、領土を削減され、すべての植民地を失った。1920 年、アメリカ大統領のウ

1919年	フランスの(パリ)で講和会議 ベルサイユ条約 ドイツに巨額の賠償金・軍備制限
1920年	国際連盟(ウィルソン)の提案) 本部はジュネーブ
1921年	ワシントン会議

ィルソンの提案にもとづき、世界平和を守るための国際機構として国際連盟がつくられた。本部はスイスのジュネーブにおかれ、日本は4常任理事国の1つになった。しかし、当初は、アメリカ自身が議会の反対で参加しなかったうえ、ドイツやソビエト政府が除外されていた。さらに、平和を維持するための強制力をもたなかったため、世界平和を保つためには力不足であった。



なお、5000 円札の肖像画に描かれている新渡戸稲造は国際連盟本部の事務局次長として活躍した。

また、1921 年にはワシントン会議が開かれた。この会議で、アメリカ・イギリス・日本などの主力艦の保有量を制限する軍縮条約が結ばれた。また、アメリカ・イギリス・フランス・日本は、太平洋での勢力範囲の維持と、日英同盟の廃止を決めた四か国条約

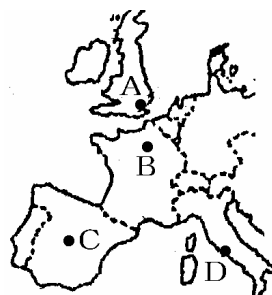
をむすんだ。さらに、中国の主権を尊重し、各国の中国での経済活動の自由を約束した九か国条約も結んだ。

一方、ロシアの革命政府は、内戦と列強の干渉戦争<sup>かんしやう</sup>を切り抜け、1922年に、ソビエト社会主義共和国連邦<sup>れんぽう</sup>(ソ連)を樹立したが、欧米各国は、当初、承認<sup>しょうにん</sup>を行わなかった。

[問題](後期中間)

右の地図を見て、各問いに答えなさい。

- (1) 第一次世界大戦の講和会議が開かれた都市を地図中のA~Dから1つ選び、記号と都市名を書きなさい。
- (2) 大戦後のベルサイユ条約で、巨額の賠償金や軍備縮小などをおしつけられた国の名前を書きなさい。



[解答欄]

(1)	(2)
-----	-----

[解答](1) B, パリ (2) ドイツ

[問題](2 学期中間)

次の各問いに答えよ。

- (1) 第一次世界大戦の講和会議が開かれた都市名を答えよ。
- (2) (1)で結ばれた条約の内容として正しくないものを1つ選び、記号で答えよ。
  - ア アメリカのウィルソン大統領が国際連盟を設置することを提案した。
  - イ イギリスとフランスは、ドイツに対して巨額の賠償金を要求した。
  - ウ ドイツは、領土の削減や軍備制限などを強いられた。
  - エ ロシアの革命政府を、ソビエト社会主義共和国連邦として認めた。

[解答欄]

(1)	(2)
-----	-----

[解答](1) パリ (2) エ

[解説]

ベルサイユ条約は1919年で、ソビエト社会主義共和国連邦の成立は1922年である。

[問題](前期期末)

ベルサイユ条約はどこの国で結ばれましたか。次から選びなさい。

[ ドイツ フランス イギリス アメリカ ]

[解答欄]

[解答]フランス

[解説]

フランスのパリで講和会議が開かれ、ベルサイユ条約が結ばれた。

[問題](1 学期中間)

次の各問いに答えなさい。

- (1) 大戦後の 1920 年に設立された国際連盟は、だれの提案にもとづいて誕生しましたか。
- (2) 国際連盟について正しく述べている文を次から 1 つ選び、記号で答えなさい。  
ア ジュネーブに本部があり、アメリカは 4 常任理事国の 1 つだった。  
イ サラエボに本部があり、ドイツとソ連ははじめ除外されていた。  
ウ ジュネーブに本部があり、日本は 4 常任理事国の 1 つだった。  
エ サラエボに本部があり、アメリカと日本ははじめ除外されていた。
- (3) 国際連盟が設立された目的を簡単に書きなさい。

[解答欄]

(1)	(2)	(3)
-----	-----	-----

[解答](1) ウィルソン (2) ウ (3) 世界平和を守るため。

[解説]

(2)アは誤り。国際連盟を提唱したのはアメリカ大統領のウィルソンであったが、アメリカ自身は議会の反対で当初国際連盟に加盟しなかった。

イは誤り。国際連盟の本部はジュネーブである。「ドイツとソ連ははじめ除外されていた」ことは正しい。

エは誤り。本部はジュネーブである。「アメリカと日本ははじめ除外されていた」も誤り。

[問題](増補 11)(1 学期中間)

国際連盟を創設することを提唱した 人物の名前を書け。また、その人物はどこの国の人がか。

[解答欄]

--	--

[解答] ウィルソン アメリカ

[問題](前期期末)

最初，国際連盟に参加しなかった国を次からすべて選びなさい。

[ ドイツ ロシア イギリス アメリカ ]

[解答欄]

--

[解答]ドイツ，ロシア，アメリカ

[問題](3 学期)

国際連盟はスイスの何という都市に本部を置いたか。

[解答欄]

--

[解答]ジュネーブ

[問題](1 学期期末)

第一次世界大戦後，世界平和と国際協力を目的としてできた機関がある。しかし数十年後，世界平和は保てず第二次世界大戦が起こってしまう。なぜこの機関は世界平和を維持できなかったのか答えなさい。また，この機関とは何か。

[解答欄]


[解答] 平和を維持するための強制力をもたなかったから。 国際連盟

[問題](3 学期)

1920 年に設立された国際連盟本部で，事務局次長として活躍した日本人はだれですか。

[解答欄]

--

[解答]新渡戸稲造

[問題](2 学期中間)

1921 年、( )会議が開かれ、軍縮条約や、日英同盟の廃止を決めた四か国条約が結ばれた。( )に入る語句を答えなさい。

[解答欄]

[解答]ワシントン

[問題](増補 11)(1 学期中間)

ワシントン会議で話し合われたこととして、正しいものをア～カから 2 つ選び、記号で答えなさい。

ア 中国の主権尊重    イ 不戦条約の締結    ウ ドイツの全ての植民地の没収  
エ 朝鮮を独立国として認める    オ 日英同盟の廃止    カ ヨーロッパの復興政策

[解答欄]

[解答]ア，オ

【】戦後のドイツなど

[問題](1 学期期末)

第一次世界大戦後、ドイツでは国民権や普通選挙などを定めた憲法を制定した。これは当時、最も民主的といわれた憲法である。この憲法を何というか。

[解答欄]

[解答]ワイマール憲法

[解説]

戦後のヨーロッパでは、民主主義の高まりとともに、労働者の権利が認められ、女性の社会進出も進んだ。ドイツでは 1919 年、当時最も民主的と

1919年 ドイツで「ワイマール憲法」  
社会権, 20歳以上の男女の普通選挙

いわれたワイマール憲法が制定され、20歳以上の男女の普通選挙や労働者の団結権が定められた。アメリカでは 1920 年に男女の普通選挙が実現し、イギリスでも 1924 年に労働党が初めて政権をにぎり、1928 年には男女の普通選挙が決められた。

[問題](2 学期中間)

第一次世界大戦後、欧米諸国では民主主義の動きが高まり、ドイツでも、男女普通選挙制や国民権をかかげた民主憲法が制定されたが、これを何というか。

[解答欄]

[解答]ワイマール憲法

[問題](1 学期期末)

次の写真は第一次世界大戦後のドイツ(A)とアメリカ(B)の様子を写した写真である。この2つの写真を通して当時のドイツとアメリカの状況を説明しなさい。



[解答欄]

[解答]ドイツでは天文学的なインフレが起こった。アメリカは経済的な繁栄を誇った。

[解説]

ベルサイユ条約でドイツに課せられた賠償金<sup>ばいしょうきん</sup>は1320億マルク(当時のドイツのGNPの20年分)という莫大<sup>ばくだい</sup>なものであった。多額の賠償責任を負

ドイツ：戦後、天文学的なインフレ  
アメリカ：繁栄→世界経済の中心に

わされたドイツでは、戦後天文学的なインフレがおこった。Aの写真の荷車に山積み<sup>さんかみ</sup>にされているのは紙幣<sup>しへい</sup>である。インフレによって紙幣が紙くず同然<sup>どうぜん</sup>になってしまった様子を表している。その後もドイツはこの過酷<sup>かこく</sup>な賠償条件に苦しみ、それが後に、ドイツ民族<sup>みんぞく</sup>の優位性<sup>ゆういせい</sup>を訴えるヒトラーのナチス政権を生み出す原因の1つとなった。これに対し、アメリカは第一次世界大戦で戦場になることがなく、疲弊<sup>ひへい</sup>したヨーロッパ諸国にかわって世界各国に製品を輸出したので、世界経済の中心になった。Bの写真はこのようなアメリカの繁栄を表している。

[問題](3 学期)

右の写真は第一次世界大戦後のある国の様子である。  
この国の名前を答えなさい。

[解答欄]

[解答]ドイツ



## 【】アジアの民族運動

[問題](1 学期中間)

文中の( )に適語を入れよ。

第一次世界大戦が終わると、アジアでは帝国主義に反対する民族運動や独立運動がさかんになった。日本の植民地支配のもとに置かれていた朝鮮では、1919年、ソウルで独立をめざす( )運動がおこった。同年、中国では、ベルサイユ条約でドイツの中国における權益を日本が引き継ぐことが認められたため、反日感情が爆発し、( )運動がおこった。インドでは、戦争に協力すれば自治を認めるという約束をイギリスが守らなかったため、非暴力・不服従を唱える( )を指導者として、独立運動がおこった。

[解答欄]

--	--	--

[解答] 三・一独立 五・四 ガンディー

[解説]

日本の植民地支配のもとに置かれていた朝鮮では、1919年3月1日、ソウルで独立をめざす知識人や学生らが日本からの独立を宣言する文章を発表し、人々は「独立万歳」をさげんでデモ行進を行

った。これに刺激された独立運動は、朝鮮全土に広がった。これを三・一独立運動という。日本は軍隊を動員してこれを鎮圧した。

1919年、ベルサイユ条約でドイツの中国における權益を日本が引き継ぐことが認められたため、中国の反日感情が爆発した。1919年5月4日の北京での学生集会をきっかけに、中国国内で反日運動がおこり、さらに帝国主義の侵略に反対する国民運動へと発展した。これを五・四運動という。(行く行く(1919)排日五・四運動) この運動をきっかけに、孫文は中国国民党を結成し、1921年に結成された中国共産党とともに、民族の独立と国家の統一をめざす運動をくり広げた。

インドでは 戦争に協力すれば自治を認めるという約束をイギリスが守らなかったため、非暴力・不服従を唱えるガンディーを指導者として、独立運動がおこった。

1919年 朝鮮で <u>三・一独立運動</u>
1919年 中国で <u>五・四運動</u>
→ 孫文が国民党を結成
インドで独立運動 <u>ガンディー</u> の非暴力・不服従

[問題](2 学期中間)

パリ講和会議で日本の中国における権益の拡大が認められたことから、1919年に中国で起こった運動を何といますか。

[解答欄]

--

[解答]五・四運動

[問題](1 学期期末)

第一次世界大戦後におこった民族運動・独立運動について、次の各問いに答えよ。

- (1) 朝鮮で「独立万歳」をさけんでデモ行進を行い、日本からの独立をめざした運動を何というか。
- (2) 北京の学生たちが抗議の運動をおこしたのがきっかけで、列強諸国の他国を支配していくやり方に反対する国民運動がおこった。これを何というか。
- (3) 非暴力・不服従を唱え、独立運動を指導したインド人は誰か。

[解答欄]

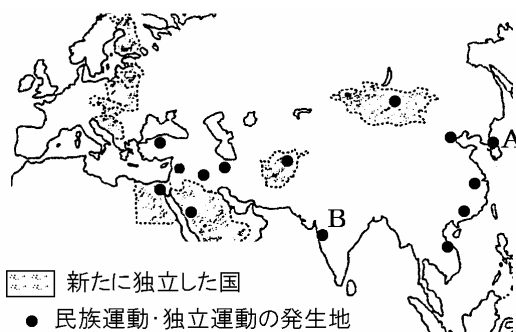
(1)	(2)	(3)
-----	-----	-----

[解答](1) 三・一独立運動 (2) 五・四運動 (3) ガンディー

[問題](3 学期)

地図を見て以下の各問いに答えよ。

- (1) A の地域は 1919 年当時どこの植民地だったか。
- (2) A の地域で 1919 年に起こった独立運動を何というか。
- (3) B の地域で独立のためにたたかった指導者は誰か。
- (4) 中国で(2)と同じ年に起きた運動を何というか。



[解答欄]

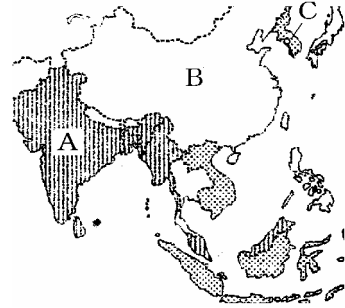
(1)	(2)	(3)	(4)
-----	-----	-----	-----

[解答](1) 日本 (2) 三・一独立運動 (3) ガンディー (4) 五・四運動

[問題](3 学期)

アジアでは、「民族自決」の原則に従って、独立運動が起こります。

- (1) 右の写真の人物名を答えなさい。
- (2) (1)の人物が行った非暴力・不服従運動は、右図 A, B, C のどの国でおこったか、記号を選びなさい。



[解答欄]

(1)	(2)
-----	-----

[解答](1) ガンディー (2) A

[問題](増補 11)(後期中間)

第一次世界大戦後、独立運動が多く起こった理由の 1 つとしてあげられる、民族のことは民族で決めるという考えを何といいますか。

[解答欄]

[解答]民族自決

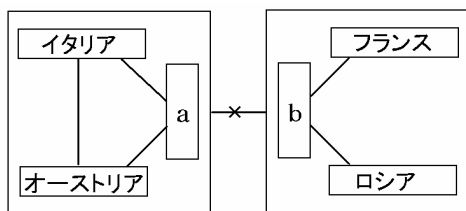
【】年表総合問題：第一次世界大戦

[問題](2 学期期末)

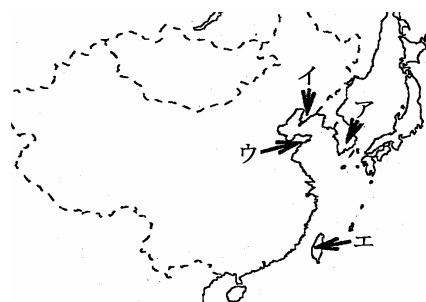
次の各問いに答えなさい。

- (1) 年表中の空欄ア, イ, ウにあてはまる語句を答えなさい。
- (2) 年表中 A の原因となった対立関係をあらわした下の図式の a, b にあてはまる国名を答えなさい。

年代	おもなできごと
1914 年	第一次世界大戦が始まる……A
1915 年	日本が(ア)を中国に出す ……B
1917 年	ロシア革命がおこる ……C
1918 年	日本で(イ)がおこる ……D
1919 年	ベルサイユ条約調印 ……E
1920 年	国際連盟が成立 ……F
1922 年	ソビエト社会主義共和国連邦成立
1923 年	日本で(ウ)という災害がおこる
1925 年	普通選挙法の実現 ……G



- (3) 上の対立関係の中心となった半島の名前を答えなさい。
- (4) 年表中の B で,日本が領地を要求した半島は右の地図中ア~エのどれですか。
- (5) 年表中 C の中心人物は誰ですか。
- (6) 年表中の D は漁村の主婦たちの訴えから全国に広がったが,何県の主婦たちでしたか。
- (7) 年表中 E の年, 中国と 朝鮮で起きた日本に対する反対運動の名前をそれぞれ答えなさい。
- (8) F を提唱したアメリカ大統領の名前を答えなさい。
- (9) 年表中 G の年, 共産主義者を取りしめる目的で作られた法律を何といいますか。



[解答欄]

(1)ア	イ	ウ	(2)a
b	(3)	(4)	(5)
(6)	(7)		(8)
(9)			

[解答](1)ア 二十一か条の要求 イ 米騒動 ウ 関東大震災 (2)a ドイツ b イギリス  
 (3) バルカン半島 (4) ウ (5) レーニン (6) 富山県 (7) 五・四運動 三・一独立運動 (8) ウィルソン (9) 治安維持法

[問題](2 学期中間)

20 世紀はじめの世界情勢について，各問いに答えよ。

- (1) 年表中ア～ウにあてはまる年代を答えよ。  
 (2) 次の文中の( )にあてはまる語句を入れ，年表中 A～D のどの時期にあてはまるか。記号で答えよ。

日本は，中国に対して( )をつきつけ，中国での権益を拡大しようとした。

日本は，( )と同盟を結び，ロシアに対抗しようとした。

( )の指導のもと，社会主義を唱える世界最初の政府がつくられた。

日本が( )を行い，朝鮮を植民地化した。

インドでは，非暴力・不服従を唱える( )の指導により完全な自治を求める運動が高まった。

孫文が三民主義をかかげた中国では，( )がおこり，中華民国が成立した。

年代	おもなできごと
ア	A
	日清戦争がおこる
イ	B
	日露戦争がおこる
ウ	C
	第一次世界大戦がおこる
	D

[解答欄]

(1)ア	イ	ウ
(2)		

[解答](1)ア 1894 年 イ 1904 年 ウ 1914 年 (2) 二十一か条の要求，D イギリス，B レーニン，D 韓国併合，C ガンディー，D 辛亥革命，C

[問題](後期中間)

次の年表を見て、各問いに答えなさい。

- (1) 年表中の ~ にあてはまるできごとを下から選びなさい。  
 ア 日清戦争がおこる  
 イ 米騒動がおこる  
 ウ 日本が中国に二十一か条の要求を出す  
 エ 日露戦争がおこる  
 オ ワシントン会議が開かれる  
 カ ソビエト社会主義共和国連邦が成立する
- (2) 年表中 a~d にあてはまる語句や年代を書きなさい。
- (3) A の設立を提案したアメリカの大統領は誰ですか。
- (4) A の組織には欠点がいくつかあり、結果として第二次世界大戦が起きたが、その欠点とは何かを書きなさい。
- (5) B と同じ年、共産主義に対する取りしまりを強めるために制定された法律を何といいますか。

年代	おもなできごと
1914年	( a )大戦が始まる
1915年	[                    ]
1917年	( b )革命がおこる
1918年	[                    ]
1918年	日本がシベリアに出兵する
1919年	( c )条約が結ばれる
1920年	国際連盟が成立する…………… A
1921年	[                    ]
1922年	全国水平社が結成される
1922年	[                    ]
1923年	関東大震災がおこる
( d )	普通選挙法が成立する…………… B

[解答欄]

(1)			
(2)a	b	c	d
(3)	(4)		
(5)			

[解答](1) ウ イ オ カ (2)a 第一次世界 b ロシア c ベルサイユ d 1925年 (3) ウィルソン (4) 平和を維持するための強制力をもたなかったこと。 (5) 治安維持法

[問題](2 学期期末)

年表を見て、次の各問いに答えなさい。

- (1) 年表の ~ にあてはまる語句を書きなさい。
- (2) 表中 A のできごとの中心となった人物名を答えなさい。
- (3) (2)の運動方法を答えなさい。

年代	できごと
1914 年	第一次世界大戦がはじまる
1915 年	日本が中国に( )をつきつける
1917 年	( )がおき、社会主義の政府が成立する
1918 年	富山県から( )がおこる
1919 年	朝鮮で( )運動がおこる パリ講和会議で( )条約を結ぶ 中国で( )運動がおこる インドでイギリスからの完全な自治を求める運動が高まる・・・A
1920 年	アメリカ大統領の提案で( )が発足する

[解答欄]

(1)		
	(2)	(3)

[解答](1) 二十一か条の要求    ロシア革命    米騒動    三・一独立    ベルサイユ  
五・四    国際連盟    (2) ガンディー    (3) 非暴力・不服従

[問題](2 学期中間)

第一次世界大戦について、次の各問いに答えよ。

19 世紀の終わりごろから、(あ)資本主義の著しく発達したヨーロッパの国々が、( )力を背景に資源や市場を求めて植民地を広げていったが、20 世紀にはいるとそれらの国々の勢力争いが起こり、とうとう 1914 年、第一次世界大戦に発展してしまった。そして、ドイツ、オーストリア、トルコの同盟国側とロシア、イギリス、フランスの連合国側に分かれて激しい戦闘が行われた。(い)日本は 1902 年にイギリスと結んでいた同盟を理由に連合国側に参戦し、その後アメリカも連合国側に加わった。戦いは連合国側の勝利に終わり、(う)1919 年フランスで講和条約が結ばれた。その条約は、特にドイツに対する報復の意味を持ち、高額な賠償金の支払いや、海外の植民地が取り上げられるなど、ドイツにとっては国内の経済活動が危機におちいるような厳しいものであった。

- (1) 下線(あ)の( )にあてはまる適切な語句を下から選べ。

[ 政治   経済   軍事   発言 ]

- (2) 下線(あ)のような動きを何というか。
- (3) 下線(い)の同盟を何というか。
- (4) 下線(う)の講和条約を何というか。
- (5) 第一次世界大戦後，アメリカ大統領ウィルソンの提案で世界平和と国際協調を目的に設立された国際組織は何か。

[解答欄]

(1)	(2)	(3)	(4)
(5)			

[解答](1) 軍事 (2) 帝国主義 (3) 日英同盟 (4) ベルサイユ条約 (5) 国際連盟

## 【】大正デモクラシー

[問題](1 学期中間)

次の文中の( )に適語を入れよ。

1912 年，藩閥勢力の桂内閣が議会を無視する態度をとったとして新聞人や知識人が( )運動をおこし，それが各地に広まり，翌年，内閣を退陣させた。これを第一次護憲運動という。大正時代は，民主主義がとなえられ，自由主義の風潮が高まった時期であったが，このような風潮を( )という。( )は普通選挙によって民意を政治に反映させるべきとする( )主義を唱え，( )は天皇機関説を唱えた。

1918 年，商人や地主による米の買い占めから( )が全国に広がり，藩閥内閣が倒れて，( )を首相とする最初の本格的政党内閣ができた。

( )内閣の後，ふたたび非政党内閣が続き，その間の 1923 年には( )という大災害が起こったが，1924 年，政党勢力は，普通選挙の実施などを主張して第二次護憲運動を起こし，1925 年には憲政会の加藤高明内閣が成立した。この内閣のもとで，1925 年，( )法が成立し，( )以上のすべての( )に選挙権が与えられた。一方，これによって共産主義者が勢力を伸ばすことを恐れた政府は，同時に，( )法を制定して，天皇を中心とする国の組織や私有財産制度の廃止をめざす共産主義の取り締まりを強化した。

[解答欄]


[解答] 憲政擁護 大正デモクラシー 吉野作造 民本 美濃部達吉  
米騒動 原敬 関東大震災 普通選挙 25 男子 治安維持

[解説]

1912 年，藩閥勢力の桂内閣が議会を無視した政治を行ったので，新聞人や知識人が憲政擁護運動を起こした。それを支持する運動(第一次護憲運動)が各地に広がり，翌年，桂内閣を退陣させた(大正政変)。

1912年 第一次護憲運動→桂内閣の退陣  
大正デモクラシー 吉野作造の民本主義  
美濃部達吉の天皇機関説  
1918年 米騒動→原敬の政党内閣  
1924年 第二次護憲運動→加藤高明内閣  
1925年 普通選挙法(25歳以上のすべての男子に選挙権)  
治安維持法(共産主義の取り締まり)

第一次護憲運動に始まり，政党政治の発展をみた大正時代は，民主主義がとなえられ，

自由主義の風潮が高まった時期であった。このような風潮を大正デモクラシーという。  
吉野作造は「選挙によって民意を政治に反映させるべきである」という民本主義をと  
え、美濃部達吉は「国家の主権は国家にあり、天皇は国家の機関の1つである」という  
天皇機関説をとええた。

1918年、シベリア出兵を見こした商人の米の買い占めによって、米は異常な値上がり  
を続けた。富山県の漁村の主婦たちが、米の県外への積み出しを実力で止め、安売りを  
求める事件が起きた。新聞でこれが報道されると、全国各地で米の安売りを求めて民衆  
が集まり、米屋・金貸し・大商店におしかけるなどはげしい行動を起こした。これを米  
騒動という。(行く人は(1918)やる米騒動)

米騒動の結果、藩閥内閣が倒れて、原敬を首相とする最初の本格的政党内閣ができた。  
しかし、原敬内閣は、社会運動には理解を示さず、普通選挙も時期尚早として、選挙  
権の納税条件を引き下げただけであった。

原敬内閣の後、ふたたび非政党内閣が続いたが、1924年、政党勢力は、普通選挙の実施  
などを主張して第二次護憲運動を起こし、1925年には憲政会の加藤高明内閣が成立し  
た。1925年、加藤高明内閣は、普通選挙法を成立させた。普通選挙法は、それまでの納  
税額による選挙権の制限を撤廃したところに特徴があり、25歳以上のすべての男子に選  
挙権が与えられた。(普選は制限解く符号(1925)) 一方、これによって共産主義者が勢  
力を伸ばすことを恐れた政府は、同時に、治安維持法を制定して、天皇を中心とする国  
の組織や私有財産制度の廃止をめざす共産主義の取り締まりを強化した。(いく人殺  
(1925)した治安維持法)

#### [問題](2学期中間)

次の大正デモクラシーについての文章を読み、各問いに答えなさい。

1912年、藩閥勢力の桂内閣が議会を無視した政治を行ったので、新聞人や知識人が  
( )運動を起こした。それを支持する運動が各地に広がり、翌年、桂内閣を退陣さ  
せた。これを第一次( )運動という。米騒動の直後、立憲政友会が本格的な政党内  
閣を組織した。この政党内閣樹立の裏には吉野作造や美濃部達吉などの思想があった。

(1) 文中の( )に下から適切な語句を選びなさい。

[ 護憲 普通 条件 憲政擁護 自由民権 ]

(2) 文中の下線部の吉野作造と美濃部達吉に関係が深いものを下のA、B群から選びそ  
れぞれ1つずつ選びなさい。

(A群) [ 民主主義 天皇機関説 民本主義 ]

- (B 群) ア 選挙によって民意を政治に反映させるべきである。  
 イ 早急に民撰議員を設立し、憲法を整備すべきである。  
 ウ 国家の主権は国家にあり、天皇は国家の機関の 1 つである。

[解答欄]

(1)	(2)吉野作造：
美濃部達吉：	

[解答](1) 憲政擁護 護憲 (2)吉野作造：民本主義 ,ア 美濃部達吉：天皇機関説 ,  
 ウ

[問題](2 学期中間)(私立中学)

次の各問いに答えよ。

- (1) 桂太郎内閣が 50 日で退陣したことを何というか。  
 (2) 立憲政治を守る運動を何といったか。

[解答欄]

(1)	(2)
-----	-----

[解答](1) 大正政変 (2) 憲政擁護運動(護憲運動)

[問題](3 学期)

1918 年に富山県の漁村の主婦たちが起こした騒動を何といったか。

[解答欄]

[解答]米騒動

[問題](増補 11)(1 学期中間)

米騒動の後、本格的な政党内閣が成立したが、平民宰相といわれた  
 右の写真の首相はだれか。

[解答欄]

[解答]原敬



[問題](増補 11)(1 学期中間)

米騒動後に成立した本格的な政党内閣の 首相は誰ですか。また、その 政党名は何ですか。両方とも下の[ ]から選びなさい。

首相 [ 加藤高明 原敬 寺内正毅 吉野作造 ]

政党名 [ 自由党 立憲改進黨 立憲政友会 憲政会 ]

[解答欄]

--	--

[解答] 原敬 立憲政友会

[問題](2 学期期末)

次の年表を見て、各問いに答えよ。

- (1) 年表中の ~ にそれぞれあてはまる語句や数字を次から選べ。

[ 1925 1927 日露 日中  
五・四運動 関東大震災  
シベリア ]

年代	できごと
1912 年	護憲運動が始まる…………… A
1918 年	日本など( )に出兵…………… B
1923 年	( )がおこる
( )年	普通選挙法が成立 治安維持法が成立する…………… C

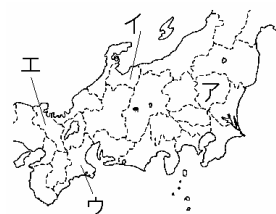
- (2) 年表中 A のころの 民主主義

的な風潮を何というか。また、当時のそのような風潮とは関係のない人物を次から選べ。

[ 美濃部達吉 吉野作造 中江兆民 尾崎行雄 ]

- (3) 年表中 B のできごとを目前にして米価が急上昇し、全国各地で米騒動が起こった。

この米騒動のきっかけとなる主婦たちが米の安売りを求める事件を起こした県を地図中のア～エから 1 つ選び、記号を書け。



米騒動後に成立した政党内閣の首相はだれか、漢字で書け。

- (4) 年表中 C の法律のねらいを簡単に書け。

[解答欄]

(1)			(2)
	(3)		(4)

[解答](1) シベリア 関東大震災 1925 (2) 大正デモクラシー 中江兆民 (3) イ 原敬 (4) 共産主義の取りしまり

[問題](1 学期中間)

大正時代に高まった政治の風潮を簡潔に説明しなさい。

[解答欄]

--

[解答]デモクラシーがとなえられ、自由主義の風潮が高まった。

[問題](2 学期中間)

次の文章を読み、各問いに答えなさい。

1925 年、今までの選挙と大きく内容が改められた( )選挙法が制定され、有権者(選挙権を持つ人)が大幅に増えた。

- (1) ( )に適語を入れなさい。
- (2) 文中の下線部について、以前の選挙制度と大きく内容が改められたのはどのようなところか。簡単に説明しなさい。
- (3) 民主主義の動きとは反対に、1925 年、共産主義を取り締まるために制定された法律を答えなさい。

[解答欄]

(1)	(2)
(3)	

[解答](1) 普通 (2) 納税額による制限をなくした普通選挙であること。 (3) 治安維持法

[問題](2 学期期末)

1925 年には、選挙資格の財産上の制限を撤廃し、25 歳以上の男子に選挙権を与える( )法が成立した。

- (1) ( )にあてはまる語句を書きなさい。
- (2) (1)の法律と同時に制定され、共産主義に対する取りしまりが強められることになった法律名を書きなさい。

[解答欄]

(1)	(2)
-----	-----

[解答](1) 普通選挙 (2) 治安維持法

[問題](増補 11)(1 学期中間)

次の資料を見て、各問いに答えよ。

国体を変革し、又は私有財産制度を否認することを目的として結社を組織し、又は情を知りて之に加入したる者は十年以下の懲役または禁固に処す。

- (1) 普通選挙法と同じ 1925 年に制定されたこの法律の名称を答えよ。
- (2) この法律は、だれを取り締まるために定められたか。

[解答欄]

(1)	(2)
-----	-----

[解答](1) 治安維持法 (2) 共産主義者

[問題](1 学期期末)

次の各問いに答えよ。

- (1) 普通選挙法の結果、どのような制限が廃止されたか。次の[ ]から選べ。

[ 納税額による制限 性別による制限 年齢による制限 ]

- (2) 普通選挙法と同じ年に成立した、共産主義をとりしめるための法律は何か。

[解答欄]

(1)	(2)
-----	-----

[解答](1) 納税額による制限 (2) 治安維持法

[問題](1 学期中間)

右の資料を見て、次の各問いに答えなさい。

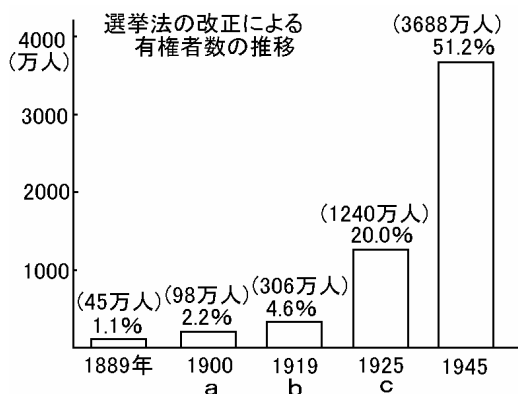
- (1) グラフ中の a~c の改正時の有権者について、あてはまるものを、次のア~エからそれぞれ選びなさい。

ア 満 20 歳以上の男女

イ 直接国税を 10 円以上納める、満 25 歳以上の男子

ウ 直接国税を 3 円以上納める、満 25 歳以上の男子

エ 満 25 歳以上の男子



- (2) c の選挙法の改正のときに同時に制定された法律名を答えなさい。

[解答欄]

(1)a	b	c	(2)
------	---	---	-----

[解答](1)a イ b ウ c エ (2) 治安維持法

[問題](増補 11)(1 学期中間)

次の各文の「私」は誰でしょう。名前を答えなさい。

私は米騒動の後、軍人が首相であった内閣にかわり、はじめて本格的な政党内閣をつくりました。

私は第二次護憲運動をすすめ、1924年に首相となり、普通選挙法や治安維持法を制定した。

私は、民本主義を主張し普通選挙の実施・政党内閣の確立などを主張して大正デモクラシーの理論的指導者となった。

私は労働者や農民の生活を描いたプロレタリア文学の代表的な作家で「蟹工船」を著し、大きな反響をよんだ。

[解答欄]

--	--	--	--

[解答] 原敬 加藤高明 吉野作造 小林多喜二

[問題](2 学期期末)

右の年表を見て、各問いに答えよ。

- (1) 年表の(a)には、年齢・性別が入るが、あてはまる年齢・性別を書け。
- (2) 1925年に実現した選挙を何というか。
- (3) 吉野作造が主張した、(2)によって民意を政治に反映させる考えを何というか。
- (4) Cと同時に制定された、共産主義を取りしめることを目的とした法律は何か。
- (5) BとCの間におこった大震災を何というか。
- (6) (5)の大震災のとき、混乱のなかで流言やデマが流されたが、そこでおきた人道に反する悲しいできごととは何か。

改正年	有権者の資格
A 1889年	直接国税 15円以上, (a)
B 1919年	直接国税 3円以上, (a)
C 1925年	納税制限なし, (a)

[解答欄]

(1)	(2)	(3)	(4)
(5)	(6)		

[解答](1) 25歳以上の男子 (2) 普通選挙 (3) 民本主義 (4) 治安維持法 (5) 関東大震災 (6) 多くの朝鮮人が虐殺された事件

[解説]

(5)(6) 1923年に<sup>かんとうだいしんさい</sup>関東大震災が起こった。(いく人さ(1923)まよう大震災) 震災の混乱の中で、朝鮮人が暴動を起こすといううわさが流れ、多くの朝鮮人が殺された。

[問題](2 学期期末)

1923 年 9 月 1 日には( )がおり、東京、横浜を中心とする地域は壊滅状態となった。( )に適語を入れなさい。

[解答欄]

[解答]関東大震災

【】社会運動の高まり

[問題](2 学期期末)(私立中学)

文中の( )に適語を入れよ。

大正時代にはさまざまな民衆運動が高まった。労働運動では、日本労働総同盟が労働者の団結と解放を目指して労働争議を指導し、1920 年 5 月 1 日には労働者の祭典である( )が行われた。農村でも、小作料の減免を要求する( )がひんぱんにおこった。部落問題の解決を目指す部落解放運動がすすめられ、1922 年に京都で全国( )が結成された。婦人運動では、「新しい女」をめざし、女性解放を唱えた( )が活躍した。

[解答欄]

--	--	--	--

[解答] メーデー 小作争議 水平社 平塚らいてう

[解説]

大正時代にはさまざまな民衆運動が高まった。労働運動では、日本労働総同盟が労働者の団結と解放を目指して労働争議を指導し、1920 年 5 月 1 日には労働者の祭典であるメーデーが行われた。農村でも、小作料の減免を要求する小作争議がひんぱんにおこった。

労働運動, 小作争議  
部落解放運動: 全国水平社  
女性運動: 平塚らいてうの青鞥社

差別からの解放を求めてきた被差別部落の人々は、1922 年に全国水平社を結成し、「全国に散在する部落の人々よ、団結せよ。…」という水平社宣言を発表した。女性差別からの解放をめざす運動もさかんになり、平塚らいてうを中心に青鞥社が結成され、「元始、女性は実に太陽であった。…」という宣言を出した。

[問題](前期期末)

全国水平社を説明する下の文の( )の中より適切な語句を 1 つ選べ。

「全国水平社は(男女 / 人種 / 部落)差別からの解放と自由・平等を求める運動を行った。」

[解答欄]

--

[解答]部落

[問題](増補 11)(1 学期中間)

女性の解放を主張して青鞥社を結成し、1920 年には市川房枝らと共に新婦人協会を作った人物の名前を答えなさい。

[解答欄]

--

[解答]平塚らいてう

[問題](1 学期期末)

資料を見て各問いに答えよ。

(資料 )

元始、女性は実に太陽であった。真正の人であった。今、女性は月である。他によって生き、他の光によってかがやく、病人のように青白い顔の月である。わたしたちはかくされてしまったわが太陽を今や取りもどさなくてはならない。

(資料 )

全国に散在する部落の人々よ、団結せよ。ここにわれわれが人間を尊敬することによって、みずからを解放しようとする運動をおこしたのは当然である。われわれは、心から人生の熱と光を求めるものである。人の世に熱あれ、人間に光あれ。

労働者の地位向上をめざして、労働条件の改善などを求めて運動することを何というか。

1922 年に京都で結成され差別からの解放をめざした団体を何というか。また、それに関連のある資料は、資料 ， のどちらか。

青鞥社を結成して、女性解放を唱えてきた人物は誰か。また、それに関連のある資料は、資料 ， のどちらか。

[解答欄]

--	--	--

[解答] 労働運動 全国水平社、資料 平塚らいてう、資料

[問題](2 学期中間)

民衆運動の高まりに関する質問に答えなさい。

(資料 1)

全国に散在する部落の人々よ、団結せよ。ここにわれわれが人間を尊敬することによって、みずからを解放しようとする運動をおこしたのは当然である。われわれは、心から人生の熱と光を求めるものである。人の世に熱あれ、人間に光あれ。

(資料 2)

( )の宣言

元始、女性は実に太陽であった。真正の人であった。今、女性は月である。他によって生き、他の光によってかがやく、病人のように青白い顔の月である。わたしたちはかくされてしまったわが太陽を今や取りもどさなくてはならない。

- (1) 資料 1 の下線部「部落の人々」とは具体的にどのような人々をさすか、簡単に説明しなさい。
- (2) 資料 2 の( )には、大正時代、婦人(女性)解放のために結成された組織の名前が入るが、その名前を答えなさい。
- (3) 資料 2 の下線部にある、「他」とは具体的には何を表しているか、答えなさい。

[解答欄]

(1)	(2)	(3)
-----	-----	-----

[解答](1) 被差別部落の人々 (2) 青鞆社 (3) 男性

[問題](増補 11)(1 学期中間)

次の文は、全国水平社創設の宣言文の一部である。( )にあてはまる語句を書け。

全国に散在する( )の人々よ。団結せよ。われわれが人間を尊敬することによって、自らを解放しようとする運動をおこしたのは当然である。…水平社はこうして生まれた。人の世に( )あれ、人間に( )あれ。

[解答欄]

--	--	--

[解答] 部落 熱 光

[問題](2 学期期末)

第一次世界大戦後，日本の景気は急速に悪化し始めた。失業者が増えていく中で労働者や農民は運動を広げ，全国的な組織をつくるようになった。この時期に，

- (1) 地主に対して小作農民が小作料の引き下げなどを要求して起こした行動を何というか，漢字で書け。
- (2) このころの民衆運動とは全く関係のない組織を次の中から 1 つ選べ。

[ 国会期成同盟 新婦人協会 日本農民組合 全国水平社 ]

[解答欄]

(1)	(2)
-----	-----

[解答](1) 小作争議 (2) 国会期成同盟

[問題](増補 11)(1 学期中間)

1901 年に社会民主党を結成した人物を 2 人答えなさい。

[解答欄]

[解答]幸徳秋水，片山潜

[問題](2 学期中間)

1910 年，幸徳秋水らを中心とする天皇暗殺未遂事件が起こった。この事件を何というか。

[解答欄]

[解答]大逆事件

[解説]

1910 年に，社会主義者による天皇暗殺未遂事件(大逆事件)が起こった。社会主義思想家の幸徳秋水など 26 名が逮捕され，全員が有罪判決を受け，幸徳秋水を含む 12 名が死刑を執行された。政府はこれを機に社会主義に弾圧を加えた。しかし，幸徳秋水自身は天皇暗殺計画には消極的だったらしく，今日では処刑された人々の中には無実だった者もあったとみられている。

[問題](1 学期期末)

社会主義思想家で 1910 年の大逆事件の時に処刑されたのは誰か。

[解答欄]

[解答]幸徳秋水

[問題](1 学期中間)

1922 年にひそかに結成された社会主義をめざした政党は何か。

[解答欄]

[解答]日本共産党

【】大正時代の文化

[問題](2 学期期末)

次の各問いに答えなさい。

- (1) 人道主義の理想をかかげた武者小路実篤や、志賀直哉らが、創刊した雑誌を何といいますか。
- (2) 知性的な作品で人々に新鮮な印象をあたえた、右の写真の人物の名を答えなさい。



[解答欄]

(1)	(2)
-----	-----

[解答](1) 白樺 (2) 芥川龍之介

[解説]

大正時代の文学については、まず、<sup>しらかば</sup>白樺派をあげなければならない。<sup>しがなおや</sup>志賀直哉は人道主義の理想をかかげ、<sup>むしやのこうじさねあつ</sup>武者小路実篤らとともに雑誌「白樺」を創刊した。また、<sup>あくたがわりゅうのすけ</sup>新思潮派の芥川龍之介

白樺派: 志賀直哉、武者小路実篤  
 新思潮派: 芥川龍之介「羅生門」  
 プロレタリア文学: 小林多喜二「蟹工船」

(小説「<sup>らしょうもん</sup>羅生門」で有名)は、知性的な作品で人々に新鮮な印象をあたえた。さらに、社会・労働運動の高揚にともない、<sup>たきじ</sup>小林多喜二(「<sup>かにこうせん</sup>蟹工船」)などのプロレタリア文学もおこった。(小林多喜二は警察の<sup>ごうもん</sup>拷問により<sup>ぎゃくさつ</sup>虐殺された。)

[問題](1 学期期末)

人道主義の理想をかかげ、武者小路実篤らとともに雑誌「白樺」を創刊した人物は誰か。

[解答欄]

[解答]志賀直哉

[問題](2 学期期末)

文中の( )に適語を入れよ。

大正時代は学問や文芸に新しい傾向が生まれた時代であった。文学では「羅生門」を書いた( )や、( )文学の小林多喜二などがあらわれた。

[解答欄]

--	--

[解答] 芥川龍之介 プロレタリア

[問題](2 学期期末)

次の説明にあてはまる人物名を語群から選べ。

「蟹工船」などの作品を発表した。警察の拷問により虐殺された。

婦人の地位の向上をめざした婦人運動の中心になった。

「羅生門」などの作品を発表した。

(語群)

[ 黒田清輝 樋口一葉 平塚らいてう 森鷗外 芥川龍之介 横山大観 小林多喜二 ]

[解答欄]

--	--	--

[解答] 小林多喜二 平塚らいてう 芥川龍之介

[問題](後期中間)

次の(1)～(4)にあてはまる人物を下の[ ]から選べ。

(1) 民本主義を唱え、普通選挙によって民意を政治に反映させることなどを主張した。

(2) 白樺派の文学者で、人道主義の理想をかかげた。

(3) 労働者の生活をえがいた作品をあらわし、プロレタリア文学をおし進めた。

(4) 1918年に政党内閣を組織した、立憲政友会の総裁。

[ 板垣退助 小林多喜二 芥川龍之介 吉野作造 原敬 西田幾太郎 志賀直哉 ]

[解答欄]

(1)	(2)	(3)	(4)
-----	-----	-----	-----

[解答](1) 吉野作造 (2) 志賀直哉 (3) 小林多喜二 (4) 原敬

[問題](2 学期期末)

大正時代の生活や文化を、次のア～エから2つ選べ。

ア 都市ではガス・水道・電気が普及した。

イ 太陽暦が採用された。

ウ 活動写真(無声映画)が登場した。

エ ラジオ放送が始まった。

[解答欄]

--

[解答]ア, エ

[解説]

大正時代，工業化の推進などによって日本の資本主義は飛躍的に発展し，それにともな  
って都市化と大衆化が進んだ。ガス，電気，水道などの普及によって，都市では，西洋  
風の生活様式が流行した。住宅の一部に西洋間を設けガラス窓を採用した「文化住宅」  
が流行し，カレーライス，トンカツ，コロッケなどの洋風料理が広まった。洋服は，ま  
ず男性に普及したが，バスガールや電話交換手など，働く女性が増加し，女性にも広が  
り始めた。1925年に始まったラジオ放送は，またたく間に全国に普及した。また，それ  
までの活動写真(無声映画)にかわってトーキーが登場し，レコードも普及した。

[問題](増補 11)(1 学期中間)

大正時代には都市の人口が増え，私鉄が発達し，大衆文化が発達した。これを述べた  
文として誤っているものを次から 1 つ選べ。

- ア バスガールや電話交換手など働く女性が増加した。
- イ 1925 年には正式にカラーテレビ放送が始まった。
- ウ 100 万部をこえる新聞や週刊誌があらわれた。
- エ 都市では電気・水道・ガスの普及により西洋風の生活様式が流行した。

[解答欄]

[解答]イ

[問題](2 学期期末)

大正時代に女性の職業となったものを，次から 1 つ選べ。

[パイロット タクシー運転手 バスガール]

[解答欄]

[解答]バスガール

