

【】世界恐慌

[問題](1 学期中間)

文中の()に適語を入れよ。

()年, ニューヨークの株式市場で()が大暴落し, 銀行や工場が倒産して失業者があふれ, また農産物価格も急落した。こうした混乱は, () (国名)から世界中に広がり, ()恐慌へと発展した。()は, ()大統領の()政策で公共事業を行った。また, イギリスやフランスは本国と植民地との結びつきを強める()によってこの混乱を克服しようとした。一方, ソ連では()を指導者として, 計画経済を進めていたため, 世界恐慌の影響は受けなかった。

[解答欄]

[解答] 1929 株価 アメリカ 世界 ルーズベルト ニューディール
ブロック経済 スターリン

[解説]

1929年 ^{かぶしきしじょう} ^{かぶか} ニューヨーク株式市場の株価が大暴落^{だいぼうらく}し, 銀行や工場が倒産して失業者があふれ, また農産物価格も急落した。この経済の混乱は世界中に広がり, ^{きょうこう} 世界恐慌をもたらしした。(ひどく

1929年 ニューヨークで株価が大暴落→世界恐慌
アメリカ:ルーズベルト大統領のニューディール政策
イギリス・フランス:ブロック経済
ソ連:世界恐慌の影響は受けず(スターリン), 五か年計画

憎(1929)い世界恐慌) アメリカでは 1933 年にルーズベルトが大統領になり, ニューディール政策を実施した。これは, 公共事業をおこし, 生産を調整し, 失業者を助け, 労働組合を保護する政策であった。

イギリスやフランスは, ^{しよくみんち} 植民地との貿易を拡大する一方, 他の国の商品には高い関税をかけて, これをしめだすブロック経済を実施した。

当時ソ連ではスターリンを指導者として, ^{けいかくけいざい} 五か年計画等の計画経済を進めていたため, 世界恐慌の影響は受けなかった。スターリンは, 反対する人々を大量に死刑や流刑にする独裁政治^{どくさい}を行った。

[問題](増補 11)(1 学期中間)

世界恐慌は、アメリカの何という都市からはじまりましたか。

[解答欄]

--

[解答]ニューヨーク

[問題](1 学期中間)

右のグラフを見て、後の各問いに答えなさい。

(1) 1929 年から、各国の生産が低下しているが、この出来事を何といいますか。

(2) (1)の出来事から立ち直るために取られた政策について、次の各問いに答えなさい。

アメリカのとった政策を何といいますか。

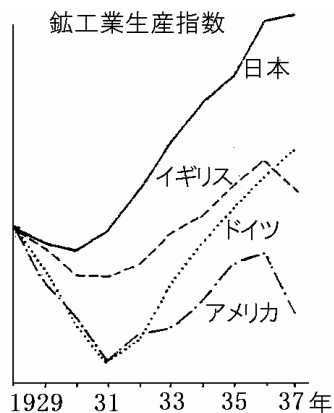
を行った大統領は誰ですか。

アメリカのとった政策を簡単に説明しなさい。

イギリスやフランスのとった政策を何といいますか。

(3) (1)の影響を受けなかった国はどこですか。

当時、 の国の指導者は誰ですか。



[解答欄]

(1)	(2)	
	(3)	

[解答](1) 世界恐慌 (2) ニューディール政策 ルーズベルト 公共事業をおこし、生産を調整し、失業者を助け、労働組合を保護する政策をおこなった。 プロック経済 (3) ソ連 スターリン

[問題](1 学期期末)

次の文章を読み、各問いに答えよ。

- A 政府が公共事業をおこしたり、産業の生産調整を行ったり、失業者の援助をしたりして、国民の購買力を高めた。
- B 計画経済をすすめ、農業の集団化や急速な工業化をはかっていたので、恐慌の影響をほとんど受けなかった。
- C 本国とインドなどの植民地との結びつきを強め、植民地の商品には関税を安くし、ほかの国の商品には高い関税をかけた。
- (1) A～C は世界恐慌のときに各国が行った政策を示したものである。A～C に適する国名を書け。
- (2) A、C が示しているような政策をそれぞれ何というか。
- (3) A を行った大統領は誰か。
- (4) B を行った指導者は誰か。

[解答欄]

(1)A	B	C
(2)A	C	(3)
(4)		

[解答](1)A アメリカ B ソ連 C イギリス (2)A ニューディール政策 C ブロック経済 (3) ルーズベルト (4) スターリン

[問題](増補 11)(前期中間)

次の各問いに答えなさい。

- (1) 世界恐慌への対策で、ブロック経済を行ったヨーロッパの国を 2 つ答えなさい。
- (2) (1)のブロック経済とはどのようなものでしたか。「関税」、「植民地」の語句を使い簡単に説明しなさい。

[解答欄]

(1)	(2)
-----	-----

[解答](1) イギリス、フランス (2) 本国と植民地の商品には関税を安くし、ほかの国の商品には高い関税をかけた政策。

[問題](3 学期)

ソ連は世界恐慌の影響を受けなかったが、その理由を説明しなさい。

[解答欄]

--

[解答]社会主義であったため世界恐慌の影響を受けなかった。

[問題](2 学期期末)

次の文の ~ に適語を入れよ。

()を指導者としたソ連は、1928 年から()計画をかかげて、重工業中心の工業化と農業の()を強行した。

[解答欄]

--	--	--

[解答] スターリン 五か年 集団化

【】ファシズム

[問題](1 学期中間)

文中の()に適語を入れよ。

ドイツでは()党を率いた()が独裁政治を行い、イタリアでは()がファシスト党を率いて独裁を行った。ドイツやイタリアにあらわれた、このような独裁政治をカタカナで()という。

[解答欄]

--	--	--	--

[解答] ナチス ヒトラー ムッソリーニ ファシズム

[解説]

イタリアでは、すでに 1922 年にムッソリーニがファシスト党を率いて独裁を行っていた。

ドイツは第一次世界大戦の賠償金の支払いに苦しみ、物価高がおこっていたが、世界恐慌は、経済をさらに悪化させ、失業者が増大した。ヒトラーの率いるナチス党は、国民生活の安定を約束

し、ドイツ民族の優秀さを大衆の感情に訴えることで国民の支持を集め、1933 年に政権を握った。ヒトラーは他の政党を解散させて独裁を完成し、国際連盟を脱退して軍備を強化し、さらにユダヤ民族を迫害した。ドイツやイタリアにあらわれた、このような政治をファシズムという。

[ファシズム]

イタリア：ムッソリーニのファシスト党
エチオピアへ侵攻

ドイツ：ヒトラーのナチス党

ユダヤ民族の迫害
(アウシュビッツ収容所)

[問題](増補 11)(前期中間)

次の文の ~ に適語を入れよ。

イタリアでは()党のムッソリーニが、ドイツではナチス党の()がそれぞれ政権をにぎり()政治を行なった。イタリアは()に侵攻し、ドイツは()人に対する差別政策を進めた。イタリア・ドイツのように反民主、反自由主義を掲げる()政治を()という。

[解答欄]

[解答] ファシスト ヒトラー 独裁 エチオピア ユダヤ ファシズム

[問題](1 学期期末)

世界恐慌と同時期にドイツやイタリアでおきた出来事について答えよ。

- (1) イタリアでファシスト党を率いて独裁を行った人物は誰か。
- (2) ドイツでナチスを率いて独裁を行った人物は誰か。
- (3) イタリアやドイツで行われた反民主主義・反自由主義をかかげた全体主義の政治を何というか。カタカナで書け。

[解答欄]

(1)	(2)	(3)
-----	-----	-----

[解答](1) ムッソリーニ (2) ヒトラー (3) ファシズム

[問題](2 学期期末)

世界的な不況の中、ドイツではベルサイユ条約の廃棄と a ドイツ民族の優秀さを訴えた b ナチス党が多数の支持を得ていく。ナチス党は、1933 年に政権をにぎると、ワイマール憲法の停止、他の政党の解散など独裁政治を進めていった。

- (1) ドイツで下線部 a の考え方で迫害された民族を書け。
- (2) 下線部 b を率いて、独裁政治を行った人物は誰か。

[解答欄]

(1)	(2)
-----	-----

[解答](1) ユダヤ民族 (2) ヒトラー

[問題](3 学期)

次の各問いに答えなさい。

- (1) ヒトラーが率いた政党名を答えなさい。
- (2) ヒトラーが弾圧した民族を答え、さらに、ポーランドにあったその最大の収容所名を答えなさい。
- (3) イタリアが侵略し、併合した国名を答えなさい。

[解答欄]

(1)	(2)		(3)
-----	-----	--	-----

[解答](1) ナチス党 (2) ユダヤ民族 アウシュビッツ (3) エチオピア

[問題](2 学期期末)

イタリアではムッソリーニがファシスト党を率いて 1922 年に政権を握った。そして武力による植民地獲得に動き出した。1936 年にアフリカのある国に侵略し併合したが、この国はどこか。

[解答欄]

--

[解答]エチオピア

[問題](1 学期中間)

次の各問いに答えなさい。

- (1) ドイツやイタリアでは、民主主義を否定し、軍事力を強めて他国に侵略する政治や動きが現れるが、これを何とよんでいますか。カタカナで書きなさい。
- (2) ドイツで独裁政治を行った人物は誰ですか。
- (3) (2)の人物が迫害した民族は、何という民族ですか。
- (4) (1)にたいして、社会主義者をはじめナチスに反対する人々の抵抗運動が各地で起こったが、この抵抗運動を何といいますか。
- (5) イタリアで独裁政治を行った人物は誰ですか。

[解答欄]

(1)	(2)	(3)	(4)
(5)			

[解答](1) ファシズム (2) ヒトラー (3) ユダヤ民族 (4) レジスタンス (5) ムッソリーニ

[問題](2 学期期末)

次の文の ~ に適語を入れよ。

イギリスやフランスでは、本国と植民地との関係を深め、外国商品に対する関税を強める()を行った。ソ連では、()を指導者として、「五か年計画」をかかげる政策をとった。ドイツでは、()の率いるナチス政権が、徹底した全体主義国家づくりをしたが、このような反民主主義をかかげる全体主義の政治を()という。

[解答欄]

--	--	--	--

[解答] ブロック経済 スターリン ヒトラー ファシズム

【】満州事変と五・一五事件

[問題](2 学期期末)

日本はロンドン軍縮会議に参加し、条約に調印した。しかし、一部の軍人や国家主義者はこれを激しく攻撃し、首相の()は狙撃され、退陣に追い込まれた。

[解答欄]

[解答]浜口雄幸

[解説]

大正時代は大正デモクラシーで政党政治が本格化した時代である。対外的にも対英米協調路線をとった時代であった。軍備を縮小し国民の負担を減らすため、政府は 1930 年、ロンドン海軍軍縮会議に参加し、イギリス、アメリカと協調して、条約に調印した。しかし、一部の軍人や国家主義者はこれを激しく攻撃し、首相の浜口雄幸は、右翼の一青年に狙撃されて重傷を負い、退陣に追い込まれた。また、国民の中には、財閥と結びついて汚職や政争をくりかえす政党への不満が高まっていった。

[問題](1 学期中間)

文中の()に適する語句を答えよ。

日本の軍部や国家主義者などは、「満州は日本の()線」と主張し、その侵略をくわだてた。関東軍は奉天郊外の()付近で()の線路を爆破し、これを中国軍のしわざだとして満州事変を引き起こした。そして翌年、清朝の最後の皇帝の()を元首とする「満州国」をつくった。

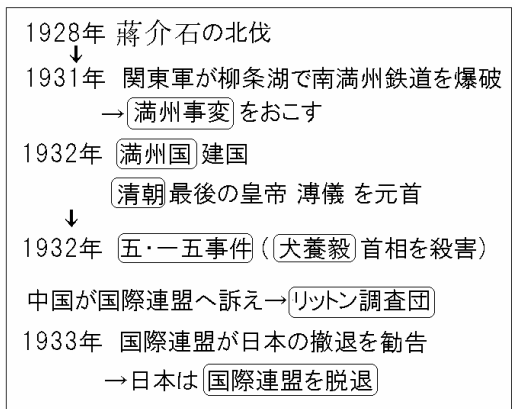
[解答欄]

--	--	--	--

[解答] 生命 柳条湖 南満州鉄道(満鉄) 溥儀

[解説]

1927 年、中国では蒋介石の率いる中国国民党が南京に国民政府を樹立し、中国の統一を進めていき、満州における日本の権益を中国に回収することを表明した。危機感をいだいた満州駐留の関東軍は、1931 年、奉天郊外の柳条湖で南満州鉄道(満鉄)を爆破し、これを中国軍のしわざ



であるとして満州事変を起こし、満州全土を占領した。(いくさ人(1931)満州事変に勇みたち) この計画は陸軍、それも出先機関の関東軍が勝手に始めたものであり、当時の若槻礼次郎内閣(政党内閣)にとっては、まさに寝耳に水であった。政府は不拡大方針をとろうとしたが、関東軍はこれを無視して占領地を拡大した。明治時代の藩閥政府のような強力な力を持たず、汚職や政争をくり返して国民の信頼を得ることができなかった政党内閣は、軍をコントロールする力に欠けていた。世論やマスコミはむしろ軍の行動を支持し、自信を失った若槻内閣は総辞職した。軍は、1932年に、清朝最後の皇帝溥儀を元首とする満州国をつくった。若槻内閣にかわった犬養毅内閣は、満州国の承認に反対する方針をとったが、これに対し、海軍将校の団が犬養毅首相を殺害した。この五・一五事件によって8年間続いた政党内閣の時代が終わった。(いくさに(1932)反対犬養さん)



満州事変はアメリカを中心に各国の反発を招き、中国からの訴えで国際連盟はリットン調査団を送り、日本軍の占領地からの撤退を勧告した。1933年、この勧告が総会で42対1で可決されると、日本は国際連盟を脱退し、国際的に孤立することになった。(国際連盟引くサッサ(1933))

[問題](増補 11)(1 学期中間)

国民党の指導者として南京に国民政府をつくり、中国統一をすすめた人物は誰か。

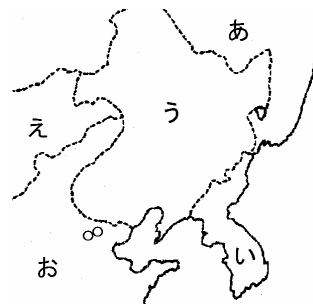
[解答欄]

[解答] 蒋介石

[問題](3 学期)

右の地図を見て答えなさい。

- (1) 日本が1932年につくった「満州国」の位置を、地図中のあ～おから選びなさい。
- (2) 満州国の元首(執政)にされた人物は何者ですか。次のア～エから選びなさい。
 ア 天皇の弟 イ 朝鮮国王のいとこ
 ウ 孫文の孫 エ 清の最後の皇帝



[解答欄]

(1)	(2)
-----	-----

[解答](1) う (2) エ

[問題](1 学期期末)

満州事変ののち、日本が行ったことを次のア～ウから選べ。

- ア 国際連盟の常任理事国となった。
- イ 清の元皇帝を元首とする満州国をつくった。
- ウ 南満州鉄道株式会社をつくった。

[解答欄]

[解答]イ

[問題](増補 11)(1 学期中間)

満州国の元首は、何という王朝の皇帝でしたか。

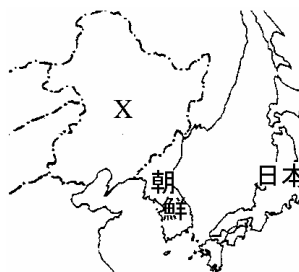
[解答欄]

[解答]清

[問題](1 学期中間)

1931 年、日本は、奉天郊外で鉄道爆破事件をおこした。これについて、次の各問いに答えなさい。

- (1) この事件を何といいますか。
- (2) この事件の後、地図中 X に日本がつくった国を何といいますか。
- (3) この事件の後、日本が脱退した組織は何ですか。
- (4) この事件以来、日本国内には軍国主義が広がり、当時の首相が射殺されるという事件も起こるのだが、この事件を何といいますか。射殺された首相は誰ですか。



[解答欄]

(1)	(2)	(3)	(4)

[解答](1) 満州事変 (2) 満州国 (3) 国際連盟 (4) 五・一五事件 犬養毅

[問題](2 学期期末)

五・一五事件で暗殺された右の写真の首相の名前を答えなさい。

[解答欄]

--

[解答]犬養毅



[問題](2 学期期末)

文中の()に適語を入れよ。

1931年、関東軍は柳条湖で南満州鉄道を爆破し、これを中国軍のしわざであるとして()を起こし、満州全土を占領した。翌1932年に、清朝最後の皇帝()を元首とする()国をつくった。当時の首相の()は()国の承認に反対の立場を取ったため、海軍将校の一団によって暗殺された。この()事件によって日本の政党政治は終わりを告げた。

いっぽう、国際連盟は()調査団を派遣して調査をおこない、満州国の建国を認めず、日本の撤兵を求めたが、これに反発して日本は国際連盟を脱退した。

[解答欄]

[解答] 満州事変 溥儀 満州 犬養毅 五・一五 リットン

[問題](1 学期中間)

次の文を読んであとの各問いに答えなさい。

- (1) 満州事変について国際連盟が送った調査団を何とよびますか。
- (2) (1)の調査団の報告に基づいておこなわれた決議に対して、日本はどのような態度をとりましたか。次のア～ウから選び記号で答えなさい。

ア 満州から撤兵した。 イ 中国側に謝罪した。 ウ 国際連盟から脱退した。

[解答欄]

(1)	(2)
-----	-----

[解答](1) リットン調査団 (2) ウ

[問題](1 学期中間)

下の資料と次の文を読んで、あとの各問いに答えよ。

「1931年9月18日、満州の奉天郊外にある南満州鉄道の線路上で爆発があったことはまちがいないが、その後長春から南へ向かった列車が通過して定刻に到着していることからすれば、それだけで軍事行動をおこすことは正当ではない。故に、その日の夜の日本の行動は正当な自衛の手段とは認めがたい。」

上の資料は、[A]の発端となった柳条湖事件を調査した報告書で、国際連盟が派遣した調査団によるものである。この報告書は、国際連盟において1933年2月に臨時総会で採択された。この結果、[B]。この間、日本国内では、「満州国」の承認をしる犬養毅首相が、1932年[C]に海軍の青年将校らに射殺される事件がおこった。この事件以降、国内の政治に大きな変化がみられることとなった。

- (1) 文中の[A]にあてはまる出来事を答えよ。
- (2) 下線部の「調査団」の団長の名前を答えよ。
- (3) 文中の[B]にあてはまる文として最も適当なものを次から1つ選び、記号で答えよ。
ア 日本は、しぶしぶ国際連盟の勧告に従った。
イ 日本はドイツ・イタリアと日独伊三国同盟を結んで対抗した。
ウ 日本は国際連盟を脱退し、国際的に孤立した。
エ 日本はイギリス・アメリカと密約を結んで、この決定を無視した。
- (4) 文中の[C]にあてはまる月日を答えよ。
- (5) 下線部の国内の政治の変化とはどのような変化か。「軍部」、「政党内閣」の2つの言葉を用いて説明せよ。

[解答欄]

(1)	(2)	(3)	(4)
(5)			

[解答](1) 満州事変 (2) リットン (3) ウ (4) 5月15日 (5) 政党内閣の時代が終わり、軍部の政治的発言力が大きくなった。

[問題](3 学期)

満州事変は奉天郊外でおきた軍部による線路の爆破事件がきっかけとなった。中国側は、この後、どのような行動に出たか。

[解答欄]

[解答]国際連盟に提訴した。

[問題](前期期末)

1931年の満州事変のあと、1933年に日本が国際連盟を脱退したのは、国際連盟からのどんな内容の勧告を不服としたからでしたか。簡単に説明しなさい。

[解答欄]

[解答]日本軍の占領地からの撤退。

【】二・二六事件

[問題](2 学期期末)

1936 年，陸軍の青年将校が首相官邸や警視庁を襲撃する()事件がおこったが，これ以降，軍部は政治的発言力を強め，軍備拡張をいっそうすすめていった。文中の()に適語を入れよ。

[解答欄]

[解答]二・二六

[解説]

1936 年，陸軍の一部の青年将校が首相官邸や警視庁などを襲撃する二・二六事件をおこした。これ以降，軍部は政治的発言権を強めていった。(二・二六ひどく寒い(1936)日におこる)

1931年	満州事変
1932年	五・一五事件
1936年	二・二六事件

[問題](3 学期)

二・二六事件について正しく述べているものを，次のア～エから 1 つ選べ。

- ア 陸軍の青年将校が首相官邸を襲撃し，犬養毅首相を暗殺した。
- イ 海軍将校の一団が首相官邸や警視庁を襲撃した。
- ウ 陸軍の青年将校が首相官邸や警視庁を襲撃した。
- エ 海軍将校の一団が首相官邸を襲撃し，犬養毅首相を暗殺した。

[解答欄]

[解答]ウ

[問題](増補 11)(1 学期中間)

次の資料を読んで，各問いに答えよ。

下士官兵に告ぐ。

- 一，今からでも遅くはないから原隊へ帰れ。
- 一，抵抗する者は全部逆賊であるから射殺する。
- 一，お前達の父母兄弟は国賊となるので皆泣いておるぞ。

- (1) 上の資料は，1936 年に東京を占拠した陸軍の将校らに配布されたビラである。この事件を何とというか。
- (2) 五・一五事件や(1)の事件のあと，日本の政治はどのようになっていったか。簡単に説明せよ。

[解答欄]

(1)	(2)
-----	-----

[解答](1) 二・二六事件 (2) 軍部の政治的発言力が強まった。

【 】日中戦争

[問題](3 学期)

1937 年に北京郊外でおこった日中の武力衝突事件を何というか。次から選びなさい。

[柳条湖事件 盧溝橋事件 大逆事件 生麦事件]

[解答欄]

[解答]盧溝橋事件

[解説]

1937 年、北京郊外の^{へきんこうがい}盧溝橋^{ろこうきょう}で日本軍が中国軍と衝突し、日中戦争が始まった(いくさ長(1937)びく日中戦争)。戦火は^{かほく}華北^{かちゅう}から華中^{なんぎん}に拡大し日本軍は中国の首都南京を占領した。その中で、多数の中国人を殺害する南京事件

を起こした。中国国内では、国民党の^{しょうかいせき}蔣介石と、中国共産党の^{もうたくとう}毛沢東とが対立し、内戦が続いていたが、共同して日本軍と戦うために手を結んで、抗日民族統一戦線^{こうにちみんぞくいつせんせん}を結成した。

1937年 盧溝橋事件→日中戦争が始まる
中国の首都南京を占領→南京事件
↓
中国共産党(毛沢東)と国民党(蔣介石)が
抗日民族統一戦線を結成



[問題](増補 11)(1 学期期末)

日本軍が中国の首都を占領し多くの中国人を殺害した事件を何というか。

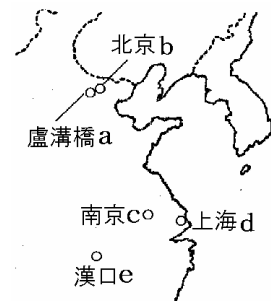
[解答欄]

[解答]南京事件

[問題](3 学期)

右の地図を見て答えなさい。

- (1) 日中戦争時に、日本軍が占領後 20 万人ともいわれる民衆を虐殺して問題になった都市の位置を、a~e から選びなさい。
- (2) 日中戦争開戦のきっかけになった事件がおきた位置を、a~e から選びなさい。



[解答欄]

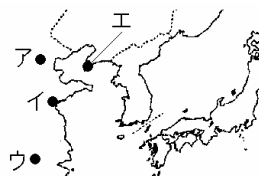
(1)	(2)
-----	-----

[解答](1) c (2) a

[問題](増補 11)(後期中間)

次の各問いに答えなさい。

- (1) 日本軍が中国で行なった「殺しつくし焼きつくし奪いつくす」作戦を何といいますか。
- (2) (1)の作戦によって多くの市民を殺傷し、国際的な非難をあげた事件が起きた場所を、右の略地図より記号で答えなさい。



[解答欄]

(1)	(2)
-----	-----

[解答](1) 三光作戦 (2) ウ

[問題](2 学期期末)

1937年、中国では、敵対する2つの組織が抗日について手を結んだ。中国国民党の指導者は蔣介石であった。もう一方の勢力は毛沢東が指導者であった。毛沢東が指導者であった組織名は何か。漢字5字で答えなさい。

[解答欄]

[解答]中国共産党

[問題](3 学期)

次の文の()にあてはまる語句を、下の語群からそれぞれ選べ。

1937年、()で日中両国軍の武力衝突がおり、()戦争が始まった。日本軍は華北から華中へ進出し、首都()を占領した。日本軍はその過程で女性や子供を含む多くの中国人を殺害した。中国では、内戦をしていた国民政府と()が協力して日本に対抗するため()を結成した。これにより中国の抵抗は強まり、日本と中国が総力をあげて戦う全面戦争となった。

(語群)

[抗日民族統一戦線 日中 太平洋 中国共産党 北京 南京 盧溝橋 柳条湖]

[解答欄]

[解答] 盧溝橋 日中 南京 中国共産党 抗日民族統一戦線

[問題](2 学期中間)

日本軍は、中国軍と衝突事件を起こし、宣戦布告のない戦争が始まったが、これについて、次の各問いに答えなさい。

- (1) この戦争を何といいますか。
- (2) このころ、中国では、国民政府と中国共産党が対立していましたが、それぞれの当時の指導者を答えなさい。
日本の侵略に対抗するために、国民政府と中国共産党がつくったものは何ですか。
- (3) 日本が、大量の住民を殺害し、略奪や暴行を行った地図中 X の都市名を答えなさい。



[解答欄]

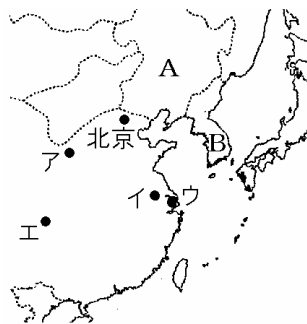
(1)	(2) 国民政府：	共産党：
	(3)	

- [解答](1) 日中戦争 (2) 国民政府：蔣介石 共産党：毛沢東 抗日民族統一戦線
(3) 南京

[問題](2 学期期末)

次の各問いに答えなさい。

- (1) 1937 年、右の地図中の北京郊外で日中両軍が衝突した事件をきっかけにはじまった戦争を何といいますか。
- (2) 日本軍は、当時の中国の首都を占領した。その都市を地図中のア～エから 1 つ選び、記号を書きなさい。また、この都市で多数の中国人を殺害したできごとを何といいますか。
- (3) 次の文は、中国の動きについてのものです。文中の()にあてはまる人名を答えなさい。
国民党の()と、中国共産党の()とが対立し、内戦が続いていたが、日本に対して共同で戦うための組織が結成された。
- (4) (3)の下線部の組織を何といいますか、答えなさい。
- (5) 地図中の B では、日本は人々に日本式の名前を名のらせた。これを何といいますか。



[解答欄]

(1)	(2)		(3)
	(4)		(5)

[解答](1) 日中戦争 (2) イ 南京事件 (3) 蔣介石 毛沢東 (4) 抗日民族統一戦線 (5) 創氏改名

[解説]

(4) 日本は、朝鮮で皇民化^{こうみんか}の政策をとり、日本語の使用を強制し、姓名を日本式に改めさせる創氏改名^{そうしかいめい}を行った。

日本は朝鮮で(皇民化政策)
日本語の強制や(創氏改名)

[問題](2 学期期末)

朝鮮では日本語の強制や創氏改名、志願兵制度が行われた。これらの政策を何というか。漢字 5 文字で答えなさい。

[解答欄]

[解答]皇民化政策

[問題](増補 11)(1 学期期末)

日本は、朝鮮に対する植民地支配を強化するために、皇民化政策という極端な同化政策をすすめた。具体的にはどのようなことを行ったか。3 つあげなさい。

[解答欄]

[解答]日本語の強制。姓名のあらわし方を日本式に改めさせる創氏改名。志願兵制度の実施。

【】戦時体制

[問題](3 学期)

次の文の ， に適語を入れよ。

日本では、日中戦争が長引き、戦時体制が強化された。1938年に()が公布され、産業・経済から国民生活のすべてにわたって、戦争に動員されることになった。また、1940年には、挙国一致の政治体制をつくるため、ほとんどの政党や政治団体が解散し、()が結成され、議会は形だけのものとなった。

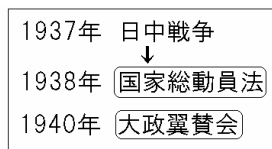
[解答欄]

--	--

[解答] 国家総動員法 大政翼賛会

[解説]

日中戦争の長期化にともない、1938年に^{こっかそうどういんぽう}国家総動員法をつくり、資源や労働力のすべてを戦争のために動員できるようにした。米などが^{はいきゆうせい}配給制となり、国民を戦争に協力させるために^{となりぐみ}隣組を組織した。さらに1940年、^{きよこくいっち}挙国一致の強力な新体制を樹立するため^{たいせいよくさんかい}大政翼賛会が結成された。これにより、議会で活動していた政党が解散し、議会は無力となった。



[問題](2 学期期末)

年表の ~ にあてはまる語句を書け。

年代	できごと
1936年	陸軍の青年将校が二・二六事件をおこす
1937年	盧溝橋事件をきっかけに()がおこる
1938年	()が制定され、国民生活のすべてが戦争目的に動員できるようになる
1940年	政党が解散され()が結成される

[解答欄]

--	--	--

[解答] 日中戦争 国家総動員法 大政翼賛会

[問題](2 学期中間)

次の各問いに答えなさい。

- (1) 国力のすべてを日中戦争に動員できるようにしたが、このために制定した法律は何ですか。
- (2) すべての政党を解散させた後、つくられた組織を何といいますか。

[解答欄]

(1)	(2)
-----	-----

[解答](1) 国家総動員法 (2) 大政翼賛会

[問題](前期期末)

大政翼賛会とは、戦争に協力するために、日本国内のどんな組織が解散させられ 1 つにまとめられたものですか。[]の中から 1 つ選べ。

[労働組合 政党 陸軍 海軍]

[解答欄]

--

[解答]政党

[問題](増補 11)(1 学期期末)

大政翼賛会について、次の各問いに答えなさい。

- (1) 大政翼賛会について説明している文章をア～ウから選び、記号で答えなさい。
 - ア 全ての政党，政治団体により結成され，議論を行いながら日本の方向性を決める組織。
 - イ 全ての政党，政治団体を解散し，国民を統合して国家全体で行動していくための組織。
 - ウ 全ての政党，政治団体の代表者によって構成され，国会の上位機関として設置された。
- (2) 大政翼賛会の末端組織として近隣住民によって町内会の下に設置された，相互援助・戦争協力のための組織を何とというか。漢字で答えなさい。

[解答欄]

(1)	(2)
-----	-----

[解答](1) イ (2) 隣組

[問題](増補 11)(1 学期中間)

相互援助と戦争遂行のため、町や村などで組織されたものを何といいますか。

[解答欄]

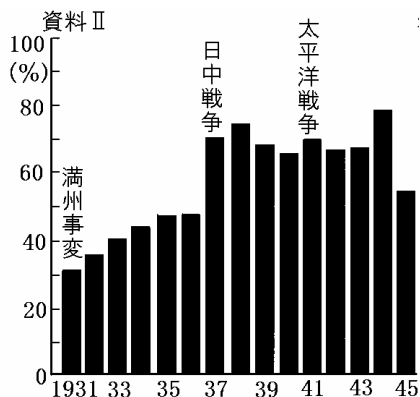
[解答]隣組

[問題](1 学期中間)

資料 Ⅰ，資料 Ⅱ を見て、各問いに答えよ。

(資料 Ⅰ 自由へのあこがれ)

作家の永井荷風は、政府によって A 純金の強制買上命令が出されると、金のついたキセルなどを吾妻橋(東京都)の上から隅田川に投げ捨てた。また、B 主義の世の中では節制して長生きしてもただ悲惨であり、「平生好むところのものを食して何の悔ゆるところかあらん。」「人の命のあるかぎり自由はほろびざるなり。」と日記に書いた。この日記は、C 警察にふみこまれることをおそれ、外出の時は下駄箱にかくしたりして書き継がれた。



- (1) 資料 Ⅰ - A のように、国民を戦争に協力させるため、政府が強制力をもてるように作られた法律名は何か。
- (2) 資料 Ⅰ - B の主義を何というか。
- (3) 資料 Ⅰ - C のように、国に反対する人を取り締まるために作られた法律名は何か。
- (4) 資料 Ⅱ は、「国家予算の歳出額」に占める何の費用の割合か。

[解答欄]

(1)	(2)	(3)	(4)
-----	-----	-----	-----

[解答](1) 国家総動員法 (2) 軍国主義 (3) 治安維持法 (4) 軍事費

[問題](増補 11)(1 学期中間)

国家総動員法が制定された結果、生活必需品の生産が圧迫を受け、米・砂糖・味噌・マッチ・しょう油・衣料品などは、切符制や何制になりましたか。

[解答欄]

[解答]配給制

【】年表・総合問題

[問題](2 学期期末)

次の年表をみて，各問いに答えなさい。

- (1) A について，このとき関東軍によって爆破された鉄道は何鉄道ですか。
- (2) B は，日本によって建国された国です。国名を答えなさい。
- (3) C の事件のとき暗殺された首相は誰ですか。答えなさい。
- (4) D の()には，日本が加盟していた国際的な組織があてはまります。組織名を答えなさい。
- (5) E の()は，陸軍の青年将校による反乱があてはまります。事件名を答えなさい。
- (6) (5)の事件以降，日本の政治はどのようになっていきましたか。この事件が与えた影響について説明しなさい。

年代	おもなできごと
1929 年	世界恐慌
1931 年	満州事変 A
1932 年	()建国 B 五・一五事件 C
1933 年	()脱退 D
1936 年	() E

[解答欄]

(1)	(2)	(3)	(4)
(5)	(6)		

[解答](1) 南満州鉄道(満鉄) (2) 満州国 (3) 犬養毅 (4) 国際連盟 (5) 二・二六事件
(6) 軍部が政治的発言力を強めていった。

[問題](2 学期期末)

次の各問いに答えなさい。



年代	できごと
1929 年	ニューヨークで株価が暴落し()がおこる
1931 年	柳条湖事件をきっかけに()がおこる
1932 年	海軍将校の一派により()がおこる
1933 年	アメリカで()政策がはじまる
1936 年	陸軍青年将校により()がおこる

- (1) 年表の ~ にあてはまる語句を書きなさい。
- (2) の事件と同じ年，軍部は清朝最後の皇帝を元首とする国を建国した。1)その国名を書きなさい。2)また，その地域を地図中のア～エから選び，記号で答えなさい。
- (3) の政策を行った大統領はだれですか。

[解答欄]

(1)			
	(2)1)	2)	(3)

[解答](1) 世界恐慌 満州事変 五・一五事件 ニューディール 二・二六事件 (2)1) 満州国 2) ア (3) ルーズベルト

[問題](2 学期期末)

次の年表を見て，各問いに答えよ。

- (1) 恐慌を乗り越えるためにアメリカがとった政策の名前を書け。
その政策を行った人物は誰か。
恐慌を乗り越えるためにイギリスやフランスがとった政策は何というか。

年代	できごと
1929 年	世界恐慌がおこる…………… A
1937 年	日中戦争が始まる…………… B
1938 年	国家総動員法が成立する…………… C
1940 年	政党や政治団体が解散する…………… D
1941 年	太平洋戦争が始まる…………… E

- (2) 年表中 A と B の間におこった次のできごとを年代の古い順にならべ，記号で書け。
ア 二・二六事件 イ 満州事変 ウ 国際連盟脱退 エ 五・一五事件
- (3) 年表中 B の戦争が始まったころ，日本の交戦相手国が日本と戦うために組織したものを漢字で書け。
- (4) 年表中 D の結果，何という組織にまとめられたか，漢字で書け。
- (5) 次の各文ともっとも関係の深いものを年表中の A～E から選び，記号を書け。
この出来事を前にして，日本は北方の安全をはかるためソ連と中立条約を結んだ。
この後，国民生活全般にわたって統制を加え，生活必需品などは配給制となっていた。
ニューヨーク証券取引所で株価の大暴落が起こった。

[解答欄]

(1)		
(2)	(3)	(4)
(5)		

[解答](1) ニューディール政策 ルーズベルト ブロック経済 (2) イエウア (3) 抗日民族統一戦線 (4) 大政翼賛会 (5) E C A

[問題](1 学期期末)

次の各問いに答えよ。

- (1) 満州事変ののちのできごとを示した次のア～エを年代の古い順に並べて記号で書け。
- ア 国際連盟を脱退する。
 - イ 陸軍の青年将校が首相や大臣をおそう。
 - ウ 北京郊外で日中両軍が衝突する。
 - エ 首相の犬養毅が暗殺される。
- (2) (1)の選択肢ア～エのうち、イとエはそれぞれ何事件とよばれるものか書け。

[解答欄]

(1)	(2)イ	エ
-----	------	---

[解答](1) エアイウ (2)イ ニ・二六事件 エ 五・一五事件

[問題](2 学期期末)

次のA～Cの文を読んで、あとの各問いに答えよ。

- A 犬養毅首相が海軍将校の一団によって暗殺される事件がおこった。これにより、
< >。
- B 陸軍の一部の青年将校が反乱をおこし、首相官邸や警視庁などを襲撃する事件がおこった。これにより、< >。
- C 挙国一致の強力な新体制を樹立するために大政翼賛会が結成された。これにより、
< >。
- (1) A～Cの< >にあてはまる文章を次の中から選び、記号で書け。
- ア 軍部が政治的発言力を強め、軍備拡張をいっそう進めた。
 - イ 藩閥政府を批判し、国民の参政権を求める自由民権運動が盛り上がった。
 - ウ 義務教育が6年に延長され、国民の就学率が高まった。
 - エ 議会で活動していた政党が解散し、議会は無力となった。
 - オ 政党政治がわずか8年で幕を閉じた。
 - カ 中央集権国家の基礎が固まった。
- (2) A、Bの事件をそれぞれ何というか。
- (3) Cのころ、朝鮮の人々は姓名を日本式に改めさせられた。これを何というか。
- (4) AとBの間のころ、ドイツではナチスが政権をにぎり、独裁政治をおし進めていたが、それを率いていた人物は誰か。
- (5) Bのころイタリアのファシスト党を率いていた人物は誰か。
- (6) アメリカではAの翌年ころから政府が積極的に公共事業をおこしたり、失業者を援助したりした。これを何政策というか。

[解答欄]

(1)A	B	C	(2)A
B	(3)	(4)	(5)
(6)			

[解答](1)A オ B ア C エ (2)A 五・一五事件 B 二・二六事件 (3) 創氏改名 (4) ヒトラー (5) ムッソリーニ (6) ニューディール政策

【】第二次世界大戦

[問題](増補 11)(後期中間)

次の文を読んで、下の各問いに答えなさい。

ドイツは、ヨーロッパの侵略に乗りだし、()とチェコスロバキアを併合した。そして全ヨーロッパを支配しようとして、ポーランドを攻撃したが、ポーランドを助ける約束をしていた()(島国)と()がドイツに宣戦した。1941年6月、ドイツはソ連も攻撃し、戦争は全ヨーロッパに及んだ。ドイツは各地で支配を広げたが、徐々に不利になっていった。()年9月には()が降伏し、1944年夏にはフランスがドイツの支配から解放された。東西から攻め込まれたドイツは、()年5月に連合国に降伏した。

- (1) 上の文の ~ に適語を入れなさい。
- (2) ドイツの侵略に対して、抵抗する運動がねばり強く進められましたが、この運動を何といいますか。
- (3) ポーランドのユダヤ人強制収容所は、何というところにありましたか。
- (4) 第二次世界大戦で、連合国に対して、ドイツを中心にした国々を何といいますか。

[解答欄]

(1)			
		(2)	(3)
(4)			

[解答](1) オーストリア イギリス フランス 1943 イタリア
1945 (2) レジスタンス (3) アウシュビッツ (4) 枢軸国

[解説]

ドイツは第一次世界大戦の賠償金の支払いに苦しみ、物価高がおこっていたが、世界恐慌は、経済をさらに悪化させ、失業者が増大した。ヒトラーの率いるナチス党は、国民生活の安定を約束し、ドイツ民族の優秀さを大衆の感情に訴えることで国民の支持を集め、1933年に政権を握った。

1933年	ヒトラー	のナチス党が政権をにぎる	
1938年	オーストリア	を併合	
1939年	独ソ不可侵条約		
1939年	ポーランドに侵攻		
		↓	
	イギリスとフランス	がドイツに宣戦布告	
	第二次世界大戦	が始まる	
	約600万人の	ユダヤ人	を虐殺

ナチス党のヒトラーに率いられたドイツは1938年にオーストリアを併合した。1939年8月にドイツはソ連と独ソ不可侵条約を結んだ上で、9月にポーランドを侵略した。これに対してイギリスとフランスはドイツに宣戦し、こうして第二次世界大戦が始まった。1940年にはフランスを降伏させ、イギリスへの空襲を行った。さらに、1941年6

月には、ドイツは不可侵条約を破ってソ連に侵攻した。大戦中、ドイツはユダヤ民族の絶滅をめざして強制収容所に連行し、約 600 万人のユダヤ人を虐殺した。

[問題](増補 11)(1 学期期末)

第二次世界大戦が始まったのはどのような原因からでしたか。「ドイツ・フランス・イギリス・ポーランド」の語句を使って説明しなさい。

[解答欄]

--

[解答]ドイツがポーランドに侵攻したことで、イギリスとフランスがドイツに宣戦布告したから。

[問題](2 学期期末)

文中の()に適語を入れよ。

1939 年、ドイツはソ連と()条約を結んだ上で、()を侵略した。これに対してイギリスとフランスはドイツに宣戦し、こうして第二次世界大戦が始まった。ドイツは、1940 年には()を降伏させ、イギリスへの空襲を行った。さらに、1941 年 6 月には、()条約を破ってソ連に侵攻した。大戦中、ドイツは()民族の絶滅をめざして強制収容所に連行し、約 600 万人の()人を虐殺した。

[解答欄]

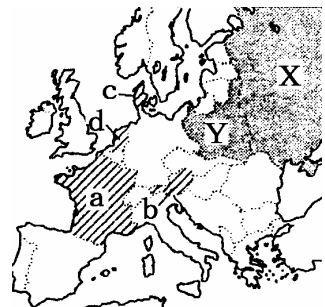
--	--	--	--

[解答] 独ソ不可侵 ポーランド フランス ユダヤ

[問題](2 学期期末)

右の地図をみて、各問いに答えなさい。

- (1) 1938 年にドイツが併合した地域を地図中の a~d から 1 つ選び、記号で答えなさい。
- (2) (1)の頃のドイツの指導者は誰ですか、また、彼が率いた政党名を答えなさい。
- (3) 1939 年にドイツが X 国と結んだ条約は何ですか。
- (4) 1939 年にドイツが Y 国に侵攻したことが、ある戦争のきっかけとなりました。Y 国の国名を答えなさい。
- (5) この戦争においてドイツが強制収容所をつくり迫害したのはどのような人々ですか。



[解答欄]

(1)	(2)		(3)
(4)	(5)		

[解答](1) b (2) ヒトラー ナチス党 (3) 独ソ不可侵条約 (4) ポーランド (5) ユダヤ民族(ユダヤ人)

[問題](増補 11)(1 学期中間)

次の各文の「私」は誰でしょう。名前を答えよ。

私はドイツのナチス党の党首で 1933 年政権を握り，翌年総統となって独裁政治をはじめた。連合軍に敗北し自殺した。

私はイタリアの政治家でファシスト党を率いて独裁政治をはじめた。世界恐慌におそわれると海外侵略をすすめ，エチオピアに出兵した。

私はユダヤ人の少女で，ドイツの秘密警察から逃れ屋根裏部屋で生活していたが，発見されて収容所で死亡した。後に私の日記が全世界で出版され，大きな感動をよんだ。

[解答欄]

--	--	--

[解答] ヒトラー ムッソリーニ アンネ・フランク

[問題](増補 11)(1 学期期末)

次の各問いに答えなさい。

- (1) 第二次世界大戦中にドイツが侵攻した，ベネルクス三国をすべて答えなさい。
- (2) 第二次世界大戦中にソ連が併合した，バルト三国をすべて答えなさい。
- (3) 1941 年にドイツがソ連に侵攻したときにアメリカとイギリスが民主主義を守るという目的で発表したものを何といいましたか。

[解答欄]

(1)	(2)
(3)	

[解答](1) オランダ，ベルギー，ルクセンブルク (2) エストニア，ラトビア，リトアニア (3) 大西洋憲章

【】三国同盟～開戦

[問題](2 学期中間)

日本は、フランス領インドシナへ進駐を行ったが、これについて次の各問いに答えなさい。

- (1) このとき、日本がドイツ・イタリアと結んだ同盟を何といいますか。
- (2) また、ソ連ともある条約を結ぶが、その条約名を答えなさい。

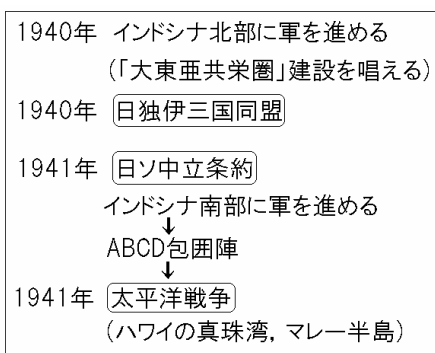
[解答欄]

(1)	(2)
-----	-----

[解答](1) 日独伊三国同盟 (2) 日ソ中立条約

[解説]

日本は、日中戦争のゆきづまりを打開するため、東南アジアを侵略して資源を手に入れ、連合国から中国への支援ルートを断とうとした。そして、アジアから欧米の勢力を追い出し、アジアの諸民族だけで栄えんとする「大東亜共栄圏」を唱えた。1940年9月、日本は、ドイツに降伏したフランスの領土であるインドシナ北部に軍を進め、ドイツ・イ



タリアと日独伊三国同盟を結んだ。さらに、翌年には、ソ連と日ソ中立条約を結んで北方の安全をはかりながら、インドシナ南部にまで勢力を伸ばした。この行動に、アメリカは他国と協力して、日本へ ABCD包囲陣(America(アメリカ),British(イギリス),China(中国),Dutch(オランダ))という経済封鎖をおこない、経済的圧迫を強めた。この圧力に対し、日本国内では開戦の考えが有力になり、陸軍軍人の東条英機が内閣総理大臣になった。1941年12月8日、日本軍はイギリス領のマレー半島に上陸し、ハワイの真珠湾のアメリカ海軍基地を奇襲攻撃して、アメリカ・イギリスを相手として太平洋戦争を始めた。(行くぞよい(1941)かと真珠湾)

[問題](3 学期)

1940年に日本と同盟を結んだ国を2つ答えなさい。

[解答欄]

[解答]ドイツ, イタリア

[問題](増補 11)(1 学期期末)

1941 年にアメリカ・中国・イギリス・オランダが日本に経済制裁を行った。これを何
というか。

[解答欄]

--

[解答]ABCD 包囲陣(網)

[問題](2 学期期末)

文中の()に適語を入れよ。

1940 年 ,日本は ,ドイツに降伏したフランスの領土であるインドシナ北部に軍を進め ,
ドイツ・イタリアと()同盟を結んだ。さらに ,翌年には ,ソ連と()条約を結
んで北方の安全をはかりながら ,インドシナ南部にまで勢力を伸ばした。この行動に ,
アメリカは他国と協力して ,日本へ ABCD 包囲陣をしき ,経済的圧迫を強めた。この圧
力に対し ,日本国内では開戦の考えが有力になり ,陸軍軍人の()が内閣総理大臣
になった。1941 年 12 月 8 日 ,日本軍はイギリス領のマレー半島に上陸し ,ハワイ()
湾のアメリカ海軍基地を奇襲攻撃して ,アメリカ・イギリスを相手として()戦争
を始めた。

[解答欄]

[解答] 日独伊三国 日ソ中立 東条英機 真珠 太平洋

[問題](2 学期期末)

太平洋戦争の始まりで ,日本が攻めた 2 か所を答えよ。

[解答欄]

--

[解答]ハワイの真珠湾 ,マレー半島

[問題](2 学期中間)

下の A～C はある時期の日本や世界の出来事を述べたものである。各問いに答えよ。

- A 1939 年 9 月、ヒトラーは宣戦布告なしに突然()へ侵入を開始した。これに対してイギリス・フランスはドイツに宣戦布告し、ここに世界中を巻き込んだ大規模な戦争が勃発した。
- B 日中戦争が長引くなか、日本は 1940 年 9 月にドイツ・()と三国同盟を結び、さらに翌年、()との間に中立条約を結んで、北方の心配をなくした。
- C 日本は、首相になった東条英機が開戦を決意し、1941 年 12 月 8 日、ハワイの()を奇襲し、イギリス・アメリカ・オランダと戦争を開始した。ここに太平洋戦争が始まった。
- (1) 文中の ~ にあてはまる国名を次の[]から 1 つずつ選べ。
[イタリア フランス イギリス ソ連 ポーランド]
- (2) ~にあてはまる地名を答えよ。
- (3) A の文中の下線部「世界中を巻き込んだ大規模な戦争」の名前を答えよ。

[解答欄]

(1)			(2)
(3)			

[解答](1) ポーランド イタリア ソ連 (2) 真珠湾 (3) 第二次世界大戦

【】 戦中～敗戦

[問題](2 学期期末)

文中の()に適語を入れよ。

1941 年,日本はハワイ真珠湾のアメリカ海軍基地を奇襲攻撃して,アメリカ・イギリスを相手として太平洋戦争を始めた。

しかし,1942 年の()海戦での敗北を機に日本軍の形勢が不利になっていった。1944 年に()島が陥落すると,アメリカ軍の日本本土への無差別爆撃が始まった。空襲が激しくなると,大都市の小学生は父母の元を離れて,農村に()した。1945 年 3 月に,アメリカ軍は()に上陸し激しい地上戦が行われた。さらに,1945 年 8 月 6 日に()に,8 月 9 日に()に原子爆弾が投下された。1945 年 8 月 15 日に日本は()宣言を受け入れて無条件降伏を行った。

[解答欄]

[解答] ミッドウェー サイパン 集団疎開 沖縄 広島 長崎
ポツダム

[解説]

1941 年,日本はハワイ^{しんじゆわん}真珠湾のアメリカ海軍基地を奇襲^{きしゆうこうげき}攻撃して,アメリカ・イギリスを相手として太平洋戦争を始めた。しかし,1942 年のミッドウェー海戦での敗北を機に日本軍の形勢が不利になっていった。戦争が進むにつれ,国内では生活物資が不足するようになり,配給量も減少し,金属器などの^{きようしゆつ}供出も行われた。1944 年にサイパン島^{かんらんく}が陥落すると,アメリカ軍の日本本土への^{むまべつばくげき}無差別爆撃が始まった。^{くうしゆう}空襲が激しくなると,大都市の小学生は父母の元を離れて,農村に^{そかい}集団疎開した。1945 年 3 月に,アメリカ軍は^{おきなわ}沖縄に上陸し激しい地上戦が行われた。さらに,1945 年 8 月 6 日に広島に,8 月 9 日に^{げんしばくだん}長崎に原子爆弾が投下された。その間,ソ連は日ソ中立条約を一方的に破棄して参戦し,満州・朝鮮に侵入した。こうした中で,1945 年 8 月 15 日,日本は^{せんげん}ポツダム宣言を受け入れて^{むじょうけんこうふく}無条件降伏を行った。

[太平洋戦争の推移]

1941年 ハワイ真珠湾を奇襲攻撃
↓
1942年 ミッドウェー海戦で敗北
1944年 サイパン島が陥落→本土空襲→ 集団疎開
↓
1945年 2月 ヤルタ会談(アメリカ, イギリス, ソ連)
ドイツの戦後処理とソ連の対日参戦
3月 アメリカ軍が(沖縄)上陸
7月 ポツダム会談(アメリカ, イギリス, ソ連)
日本の降伏と戦後の民主化を求める
8月 広島と長崎に(原爆)が投下される
(ポツダム宣言) 受諾→無条件降伏

[問題](2 学期中間)(私立中学)

日本は、真珠湾のアメリカ軍基地を攻撃し、宣戦を布告したが、これについて、次の各問いに答えなさい。

- (1) この戦争を何といいますか。
- (2) アメリカ軍の反撃が始まり、日本軍の形勢が不利になったのは、何という海戦での敗北以降ですか。
- (3) 日本本土への空襲が激しくなったのは、何という島が占領されてからですか。
- (4) この戦争で、唯一日本国内でアメリカとの地上戦があった県は、どこですか。
- (5) 日本に原爆が投下されたのは、広島とどこですか。
- (6) (5)の都市に原爆が投下されたのは、何年何月何日のことでしたか。
- (7) 日本は、何という宣言を受け入れて降伏しましたか。

[解答欄]

(1)	(2)	(3)	(4)
(5)	(6)	(7)	

[解答](1) 太平洋戦争 (2) ミッドウェー海戦 (3) サイパン島 (4) 沖縄県 (5) 長崎
(6) 1945年8月9日 (7) ポツダム宣言

[問題](2 学期期末)

空襲の影響で都市部の小学生たちが、危険を避けるために農村などに移り住んだことを何といいますか。

[解答欄]

[解答]集団疎開

[問題](3 学期)

アメリカ軍が上陸し、はげしい戦闘がくり広げられ、子どもや学生を含めて多くの犠牲者を出した県はどこか。

[解答欄]

[解答]沖縄県

[問題](2 学期期末)

1945 年のできごとについて、次のア～オを古い順に並べかえなさい。

- ア 広島に原爆投下 イ 日本の降伏 ウ ドイツの降伏
エ 長崎に原爆投下 オ ソ連の対日参戦

[解答欄]

--

[解答]ウアオエイ

[問題](増補 11)(後期中間)

次の各問いに答えなさい。

- (1) 日本がアメリカ、イギリスとの戦争を始めたのは、何年何月何日ですか。
(2) 1945 年 3 月 9 日から 10 日にかけて、日本は空襲の被害で 8 万人以上が一夜のうちに犠牲になりました。何という都市に対する空襲ですか。
(3) アメリカ軍が沖縄に上陸し、地上戦が行なわれたのはいつからですか。次の[]より選びなさい。

[1943 年 9 月 1944 年 6 月 1945 年 3 月 1945 年 8 月]

- (4) 1945 年 7 月に出され、日本に無条件降伏を求めた文書を、何といいますか。

[解答欄]

(1)	(2)	(3)	(4)
-----	-----	-----	-----

[解答](1) 1941 年 12 月 8 日 (2) 東京 (3) 1945 年 3 月 (4) ポツダム宣言

[問題](2 学期期末)(私立中学)

次のそれぞれの文は 20 世紀の日本と世界のできごとについてまとめたものである。各問いに答えよ。

1945 年 2 月、アメリカ、イギリス、ソ連の代表がソ連国内のある都市で戦後処理と戦争方針について話し合い、密約を結んだ。

- (1) 下線部の都市とはどこか。
(2) この会談にあてはまらないものを次から 1 つ選び、記号を書け。
ア ソ連の出席者はスターリンである。 イ ソ連の対日参戦を密約。
ウ ドイツの無条件降伏要求の確認。 エ 日本の降伏と戦後の民主化を求める。

[解答欄]

(1)	(2)
-----	-----

[解答](1) ヤルタ (2) エ

[解説]

1945年2月、アメリカのルーズベルト、イギリスのチャーチル、ソ連のスターリンがソ連国内のヤルタで会談し、ドイツの戦後処理とソ連の対日参戦を密約した。「日本の降伏と戦後の民主化を求める」話し合いが行われたのは、同年7月に行われたポツダム会談である。

[問題](増補 11)(1 学期中間)

右の写真は、第二次世界大戦末期、連合国側の3首脳が会談したようすである。

- (1) 会談が行われた地名を答えよ。
- (2) (1)の場所を地図中から1つ選び、記号を書け。
- (3) この会談ではドイツの戦後処理とともに、日本に関わる重要なことが話し合われた。その内容を記述せよ。



[解答欄]

(1)	(2)	(3)
-----	-----	-----

[解答](1) ヤルタ (2) e (3) ソ連の対日参戦

[問題](増補 11)(1 学期期末)

次の各問いに答えなさい。

- (1) 1945年には、戦後の処理についての会談が2月と7月に行われましたが、会談が行われた場所の国名と、会談名をそれぞれ答えなさい。
- (2) (1)の2月の会談に参加した国を3つ全て答えなさい。
- (3) 右の資料は(1)の2月に行われた会談の写真です。A, B, Cの人物名をそれぞれ答えなさい。
- (4) (2)の7月の会談でまとめられ、日本に向けて発表したものを何といましたか。
- (5) (4)の発表の内容は日本に対してどのような対応を求めたものでしたか、「無条件」「戦後」の語句を使い簡単に答えなさい。



[解答欄]

(1)2月：	7月：	(2)	
(3)A	B	C	(4)
(5)			

[解答](1)2月：ソ連，ヤルタ会談 7月：ドイツ，ポツダム会談 (2) アメリカ，イギリス，ソ連 (3)A チャーチル B ルーズベルト C スターリン (4) ポツダム宣言 (5) 日本の無条件降伏と，戦後の民主化を求めた。

[問題](3 学期)

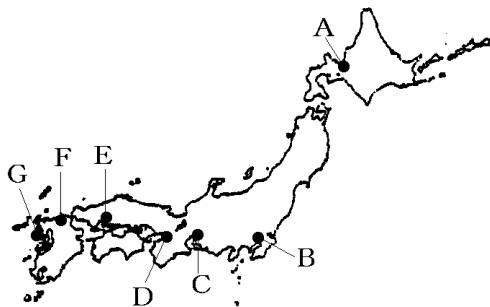
原子爆弾が投下された都市名を2つ答えなさい。

[解答欄]

[解答]広島，長崎

[問題](増補 11)(1 学期中間)

原子爆弾が投下された都市を下の地図から2つ選び，記号で答えなさい。



[解答欄]

[解答]E，G

[問題](3 学期)

太平洋戦争で，日本が降伏したのは1945年の何月何日か。

[解答欄]

[解答]8月15日

[問題](増補 11)(1 学期期末)

中立条約を破棄したソ連が満州・樺太・千島列島に侵攻した。このときに占領され、現在もまだ返還されておらず、領土問題となっている地域の名前を答えなさい。

[解答欄]

[解答]北方領土

【】年表・総合問題

[問題](1 学期中間)

年表中の ~ について説明した次の文を読んで、あてはまる語句を書け。

ヨーロッパを主戦場とし、世界中をまきこんで 4 年あまり続いた戦争。

世界初の社会主義政府が成立した革命。

米の安売りを求める全国的な民衆の運動。

日本からの独立をめざし朝鮮全土に広がった運動。

中国において、反日運動から発展した、帝国主義に反対する運動。

選挙権の納税条件を撤廃し、25 歳以上の男子に選挙権をあたえた法律。

アメリカから世界中に広まった不況。

関東軍が柳条湖で満鉄の線路を爆破したのを機に始まった軍事行動。

北京郊外で起こった盧溝橋事件を機に始まった戦争。

ドイツに対し、イギリスとフランスが宣戦して始まった戦争。

日本がハワイのアメリカ軍基地を奇襲して始まった戦争。

アメリカが世界ではじめて投下した核兵器。

日本に無条件降伏を要求した宣言。

年代	できごと
1914 年	がはじまる
1917 年	革命がおこる
1918 年	がおこる
1919 年	朝鮮で 運動がおこる
1919 年	中国で 運動がおこる
1925 年	法が成立する
1929 年	がおこる
1931 年	中国で がおこる
1937 年	戦争が始まる
1939 年	ヨーロッパで がはじまる
1941 年	がはじまる
1945 年	が投下される(漢字 4 字)
1945 年	宣言を受諾する

[解答欄]

[解答] 第一次世界大戦 ロシア 米騒動 三・一独立 五・四 普通選挙 世界恐慌 満州事変 日中 第二次世界大戦 太平洋戦争
 原子爆弾 ポツダム

[問題](1 学期中間)

右の年表を見て、各問いに答えよ。

(1) 年表の ~ にあてはまる語句、漢数字を答えよ。

(2) 次の出来事は年表内の何年に起こったか。西暦で答えよ。(同じ年があってもよい)

ソ連が日本に参戦

大政翼賛会

沖縄の戦い

日ソ中立条約

(3) 第二次世界大戦(太平洋戦争)で、日本が同盟を結んだ国を2つ、戦った国を2つ答えよ。

(4) 下の1~6の文は、年表A~Cのどれに関係があるか。記号で答えよ。

1. 配給制「ぜいたくは敵だ」

2. 「話せばわかる」「問答無用」

3. 「42:1 引き揚げろ」> 「わが道を行く」

4. 日本軍が夜間演習をしている際、銃声が聞こえ、兵士1名が一時いなくなった。日本軍はこれを中国軍が攻撃をしかけたとして戦いを起こした。

5. 柳条湖で、満州にいた日本軍が鉄道を爆破した。日本軍はこれを中国がしたこととして攻撃を開始した。

6. 陸軍はイギリス領マレー半島に奇襲上陸し、海軍が真珠湾を奇襲した。

年代	おもなできごと
1929年	世界恐慌が起こる
1931年	()が起こる…………… ア
1932年	満州国を建国…………… イ
	五・一五事件が起こる…………… ウ
1933年	国際連盟を脱退する…………… エ
1936年	()事件が起こる…………… オ
1937年	日中戦争が起こる…………… カ
1938年	国家総動員法を出す…………… キ
1939年	ドイツが()に侵入し、 第()次世界大戦が始まる…… ク
1940年	日独伊()国同盟を結ぶ
1941年	12月、太平洋戦争が始まる…… ケ
1942年	ミッドウェーで敗北
1943年	()が降伏
1944年	本土空襲→子供たちは()する
1945年	ドイツが降伏 日本が降伏…………… コ

[解答欄]

(1)			
			(2)
(3)同盟国：		戦った国：	
(4)1	2	3	4
5	6		

[解答](1) 満州事変 二・二六 ポーランド 二 三 イタリア
 集団疎開 (2) 1945年 1940年 1945年 1941年 (3)同盟国：ドイツ、イ
 タリア 戦った国：アメリカ、イギリス (4) 1 キ 2 ウ 3 エ 4 カ 5 ア 6 ケ

[問題](2 学期期末)

次の年表を見て、各問いに答えなさい。

年代	昭和	おもなできごと
1929年	4	a 世界恐慌がおこる
1930年	5	浜口雄幸首相が狙撃される
1931年	6	[A]・・・中国侵略の足がかりとする
1932年	7	満州国建国
1932年	7	[B]・・・犬養首相が暗殺され、 政党政治が終わる
1933年	8	国際連盟を脱退する
1934年	9	ワシントン海軍軍縮会議を廃棄する
1936年	11	[C]・・・軍部の力が強まる
1937年	12	日中戦争が始まる
1938年	13	b 国家総動員法が公布される
1940年	15	東南アジアに勢力を広げる
1941年	16	ハワイの真珠湾を攻撃する X
1945年	20	ポツダム宣言を受諾し、降伏する

- (1) 下線部 a のきっかけとなった株価の大暴落がおきた国を次の[]から選びなさい。
[イギリス ドイツ アメリカ 日本]
- (2) 年表中 A～C にあてはまるできごとを次の[]から選びなさい。
[二・二六事件 盧溝橋事件 満州事変 五・一五事件]
- (3) X の期間におこった、次の a～d を古い順に並べかえなさい。
a ドイツが連合国軍に降伏
b イタリアが連合国軍に降伏
c 広島・長崎に原子爆弾投下
d 連合国軍が沖縄に上陸する
- (4) 下線部 b の目的を次から選びなさい。
ア 政党・政治団体の解散 イ 資源や人力を戦争のために使用すること
ウ 労働争議の取り締まり エ 小学生を農村に集団疎開させること

[解答欄]

(1)	(2)A	B	C
(3)	(4)		

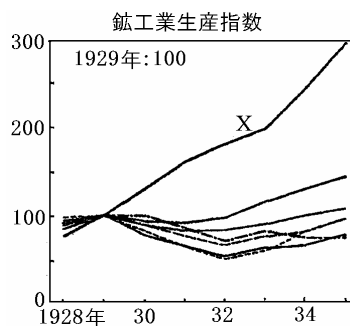
[解答](1) アメリカ (2)A 満州事変 B 五・一五事件 C 二・二六事件 (3) bdac (4) イ

[問題](1 学期中間)

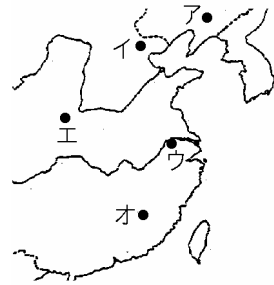
年表を見て次の各問いに答えよ。

年代	できごと
1922年	イタリアで(1)率いるファシスト党が政権をにぎる
1927年	昭和の恐慌がおこる
1929年	(a)で株価が突然大暴落し、世界恐慌となる……………
1931年	日本が奉天付近の鉄道爆破事件をきっかけに、これを中国軍のしわざとし、満州を占領する……………
1932年	犬養毅首相が暗殺される……………
1933年	ドイツで(2)率いるナチスが政権をにぎる……………
1936年	青年将校らが兵士を動員して、東京の中枢部を占拠する……………
1937年	日本軍が、ペキン郊外の盧溝橋で中国軍と衝突する……………
1938年	ドイツが、(b)の一部を領土として要求する……………
1939年	ドイツがソ連と(3)条約を結ぶ ドイツが(c)に侵入する 第二次世界大戦がはじまる
1940年	(4)同盟が結ばれる…………… 日本がフランス領インドシナに兵を進める……………
1941年	(5)中立条約が結ばれる 太平洋戦争がはじまる……………

- 1～5 に適語を入れよ。
- a～c にあてはまる国名を次から選べ。
[バルカン アメリカ フランス イギリス 日本
チェコスロバキア ポーランド ハンガリー]
- を乗り切るためにおこなった、各国の政策を答えよ。
1) アメリカ 2) イギリス・フランス
- に関して、右のグラフで X のグラフはどの国のものか。次の[]から選べ。
[アメリカ イギリス フランス ソ連 日本]
- の事件を何というか。



- (6) の事件を何というか。
 (7) に関して、ナチスはゲルマン人の優秀さを強調して、何人を迫害したか。
 (8) , の事件後、政治に対して軍部の力はようになっていったか。
 (9) をきっかけにした戦争を何というか。
 (10) 下線部___を右の地図から選び、記号で答えよ。
 (11) が認められた会談を何というか。
 (12) の同盟国の組み合わせとして、正しいものを1つ記号



で選べ。

- ア 日本・ドイツ・イタリア
- イ 日本・ソ連・イタリア
- ウ 日本・ドイツ・イギリス
- エ 日本・ソ連・オランダ
- オ 日本・フランス・イタリア

- (13) のころ、近衛内閣にかわって首相になったのはだれか。
 (14) は、日本がアメリカのどこを奇襲攻撃したのか。

[解答欄]

(1)1	2	3	4
5	(2)a	b	c
(3)1)	2)		(4)
(5)	(6)	(7)	
(8)			
(9)	(10)	(11)	(12)
(13)	(14)		

[解答](1)1 ムツソリーニ 2 ヒトラー 3 独ソ不可侵 4 日独伊三国 5 日ソ (2)a
 アメリカ b チェコスロバキア c ポーランド (3)1) ニューディール政策 2) ブロック
 経済 (4) ソ連 (5) 満州事変 (6) 五・一五事件 (7) ユダヤ人 (8) 政治に対する
 軍部の発言力が大きくなった。(9) 日中戦争 (10) イ (11) ミュンヘン会談 (12) ア
 (13) 東条英機 (14) ハワイ真珠湾

[問題](3 学期)

年表を見て、次の各問いに答えなさい。

- (1) 年表中の空欄 ~ にあてはまる語句を答えなさい。 は漢字 3 文字が入ります。
- (2) A はある国がポーランドを攻撃したことがきっかけとなった。ある国を答えなさい。
- (3) B は日本がアメリカのある基地を攻撃したことに始まるが、その場所を答えなさい。

年代	おもなできごと
1937 年	日中戦争がはじまる
1938 年	国家総動員法が制定され、戦時体制に入る
1939 年	第二次世界大戦が始まる・・・A
1940 年	()三国同盟を結ぶ
1941 年	()戦争の始まり ……B
1942 年	()海戦で大敗
1945 年	第二次世界大戦の終わり

- (4) B の年、日本が中立条約を結んだ国の名前を答えなさい。
- (5) 1942～1945 年の期間の日本の国民生活の状況をあらわした下の各文の中で間違っているものを 1 つ選び、記号で答えなさい。

ア 食料の配給が減らされ、きびしい節約を求められた。

イ 建物はなくても青空教室として学校の授業が再開された。

ウ 家庭にある金属などを政府に供出した。

エ 都市を離れ、田舎に集団で移動した。

- (6) 1945 年におこった、次のア～エのできごとを古い順にならべかえなさい。

ア 広島に原子爆弾が投下される。

イ アメリカ軍が沖縄に上陸する。

ウ 長崎に原子爆弾が投下される。

エ ポツダム宣言を受け入れる。

[解答欄]

(1)			(2)
(3)	(4)	(5)	(6)

[解答](1) 日独伊 太平洋 ミッドウェー (2) ドイツ (3) ハワイ真珠湾

(4) ソ連 (5) イ (6) イアウエ

[問題](3 学期)

次のア～エの出来事を古い順にならべかえよ。

- ア 日本軍は、ハワイの真珠湾を奇襲し、同時に東南アジアのマレー半島に上陸し、戦争は拡大していった。
- イ 関東軍は、奉天郊外の柳条湖で満州鉄道の線路を爆破し、それを機に軍事行動を開始した。
- ウ 北京郊外の盧溝橋でおこった日中両国軍の武力衝突により、戦争が始まった。
- エ 清朝最後の皇帝溥儀を元首とする満州国を建国し、実質的に支配するようになった。

[解答欄]

--

[解答]イエウア

[問題](1 学期中間)

次の A～D について各問いに答えなさい。

- A 日本軍は、中国軍と衝突事件を起こし、宣戦布告のない戦争が始まった。
 - B 日本は、()湾のアメリカ軍基地を攻撃し、宣戦を布告した。
 - C 日本は、()領インドシナへ進駐をはじめた。
 - D 日本は、奉天郊外で鉄道爆破事件をおこした。
- (1) A～D の文章を古い順に並べかえ、記号で答えなさい。
(2) 文中()内に適語を入れなさい。

[解答欄]

(1)	(2)	
-----	-----	--

[解答](1) DACB (2) 真珠 フランス

[問題](1 学期中間)

次の ~ の各人物に関係することからを、語群の[]から 1 つずつ選べ。

ヒトラー 毛沢東 溥儀 犬養毅 東条英機 アンネ・フランク

(語群)

[ナチス党 「ラストエンペラー」 陸軍大臣・首相 「ヤングマン」 共産党
日本国憲法 アウシュビッツ 五・一五事件 二・二六事件]

[解答欄]

[解答] ナチス党 共産党 「ラストエンペラー」 五・一五事件 陸軍
大臣・首相 アウシュビッツ

[問題](1 学期中間)

下の 4 枚の写真の人物の名前を答えなさい。



[解答欄]

--	--	--	--

[解答] ガンディー レーニン ヒトラー マッカーサー

[印刷 / 他の PDF ファイルについて]

このファイルは、FdData 中間期末社会歴史(7,200 円)の一部を PDF 形式に変換したサンプルで、印刷はできないようになっています。製品版の FdData 中間期末社会歴史は Word(または一太郎)の文書ファイルで、印刷・編集を自由に行うことができます。

FdData 中間期末(社会・理科・数学)全分野の PDF ファイル、および製品版の購入方法は <http://www.fdtype.com/dat/> に掲載しております。

下図のような、[FdData 無料閲覧ソフト(RunFdData)]を、Windows のデスクトップ上にインストールすれば、FdData 中間期末・FdData 入試の全 PDF ファイル(各教科約 1500 ページ)を自由に閲覧できます。次のリンクを左クリックするとインストールが開始されます。

RunFdData(Word 版) 【 <http://www.fdtype.com/lnk/instRunFdDataWDs.exe> 】

RunFdData(一太郎版) 【 <http://www.fdtype.com/lnk/instRunFdDataTAs.exe> 】

ダイアログが表示されたら、【実行】ボタンを左クリックしてください。インストール中、いくつかの警告が出ますが、[実行][許可する][次へ]等を選択します。

【イメージ画像】



【Fd 教材開発 : URL <http://www.fdtype.com/dat/> Tel (092) 404-2266】