

【】GHQの占領政策

[問題](3 学期)

文中の()に適語を入れよ。

1945年8月15日,()宣言を受諾して降伏すると,()軍を主力とする連合
国軍が日本を占領した。日本は,()を最高司令官とする()の指示を受け,さ
まざまな民主化政策に取り組みはじめた。

[解答欄]

--	--	--	--

[解答] ポツダム アメリカ マッカーサー GHQ(連合国軍最高司令官総司令部)

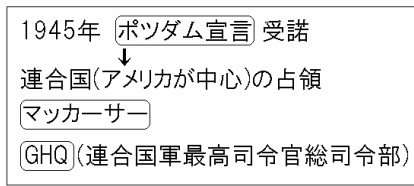
[解説]

1945年8月15日,日本の降伏と戦後の民主化を
求めるポツダム宣言を受け入れて無条件降
伏を行った。(人 窮し降(1945)伏ポツダム受諾)

日本は,アメリカを主力とする連合国軍に占領
されることになった。占領下におかれた日本の

政治は,アメリカのマッカーサーを最高司令官とするGHQ(連合国軍最高司令官総司令
部)の指令のもとに間接統治の形で進められた。

GHQは日本の民主化を目指して五大改革指令を出した。軍隊は解散され,戦争の責任
があるとされた軍人や政治家が極東国際軍事裁判(東京裁判)にかけられ,戦争中に重要な
地位にあった人は公職から追放された。また,天皇が神の子孫であることを否定する
人間宣言を行った。



[問題](1 学期中間)

次の各問いに答えよ。

- (1) 8月15日に日本は,連合国軍が発表した宣言を受け入れた。何という宣言か。
- (2) 戦争が終わるとともに,連合国軍が日本に入ってきた。どこの国が中心となった軍隊か。
- (3) GHQの最高司令官は誰か。

[解答欄]

(1)	(2)	(3)
-----	-----	-----

[解答](1) ポツダム宣言 (2) アメリカ (3) マッカーサー

[問題](1 学期中間)

GHQ の最高司令官はだれか。

[解答欄]

[解答]マッカーサー

[問題](3 学期)

マッカーサーを最高司令官として、日本の政治の方針を指令した連合国軍最高司令官総司令部の略称をアルファベット 3 文字で答えなさい。

[解答欄]

[解答]GHQ

[問題](2 学期期末)

GHQ の正式名称を答えなさい。

[解答欄]

[解答]連合国軍最高司令官総司令部

[問題](増補 11)(前期中間)

1945 年、連合国軍による日本の占領が始まった。これについて、次の各問いに答えなさい。

- (1) 占領政策を進めた組織をアルファベットで答えなさい。
- (2) (1)の最高司令官は誰でしたか。
- (3) (1)のもとで日本政府が政治を行う仕組みを何といいますか。
- (4) (1)が日本の民主化を目指して出した指令を何といいますか。

[解答欄]

(1)	(2)	(3)	(4)
-----	-----	-----	-----

[解答](1) GHQ (2) マッカーサー (3) 間接統治 (4) 五大改革指令

[問題](3 学期)

GHQ の指示や指令にもとづくもののうち，間違っているものをすべて選べ。

- ア 軍隊を解散した。
- イ 戦争を指導した者や協力した者を公共の仕事から追放した。
- ウ 戦争犯罪人を裁く極東国際軍事裁判が開かれた。
- エ 治安維持法を制定し，国家をくつがえす動きや社会主義の動きを取り締まった。
- オ 労働者の団結と組織としての労働組合が認められた。
- カ 天皇が神の子孫であるという考え方が否定され「人間宣言」が出された。
- キ 女性も政治演説会に参加できるようになったが，選挙権はなかった。

[解答欄]

[解答]エ，キ

【】日本国憲法の制定

[問題](補充問題)

文中の()に適語を入れよ。

日本国憲法は()年月日に公布され、その半年後の()年月日から施行された。日本国憲法の三大原則は、国民()、()の尊重、()主義である。天皇は日本国の()であると定められた。

[解答欄]

[解答] 1946年11月3日 1947年5月3日 主権 基本的人権 平和
象徴

[解説]

日本政府はGHQの示した案をもとに、憲法改正案をつくり、議会の審議を経て1946年11月3日に公布し、その半年後の1947年5月3日から施行した。日本国憲法の三大原則は、国民主権、基本的人権の尊重、平和主義である。日本国憲法1条は「天皇は、日本国の象徴であり日本国民統合の象徴であって、この地位は、主権の存する日本国民の総意に基づく。」と、国民が主権を持つこと、天皇は象徴であることを定めている。

[日本国憲法の制定]

1946年11月3日に公布

1947年5月3日から施行

三大原則

国民主権、基本的人権の尊重、平和主義

(天皇は象徴)

[問題](1学期中間)

次の各問いに答えなさい。

- (1) 日本国憲法が公布、施行された年月日をそれぞれ答えなさい。
- (2) 日本国憲法の三大原則(三つの柱)を答えなさい。
- (3) 日本国憲法で、天皇の地位はどのように定められたか。次の条文の()にあてはまる語句を答えなさい。()には同じ語句が入る。
天皇は、日本国の()であり日本国民統合の()であって、この地位は、主権の存する日本国民の総意に基づく。
- (4) 日本国憲法の制定の過程として正しいものを、ア～エから1つ選びなさい。
ア GHQが作成し、政府の考えはいっさい排除された。
イ 憲法改正案が国民から募集され、政府によって修正された。
ウ GHQが示した憲法改正案にもとづいて、政府が作成した。
エ 政府が作成したものを、GHQが一部修正した。

[解答欄]

(1)公布：	施行：		
(2)	(3)	(4)	

[解答](1)公布：1946年11月3日 施行：1947年5月3日 (2) 国民主権，基本的人権の尊重，平和主義 (3) 象徴 (4) ウ

[問題](3 学期)

GHQの指示で，日本政府は新しい憲法の制定に着手しました。新しい憲法は1946年11月3日，()として公布されました。

[解答欄]

[解答]日本国憲法

[問題](1 学期中間)

日本国憲法について，次の各問いに答えよ。

- (1) 主権はだれにあるか。
- (2) 天皇は日本国または日本国民統合の何であると定められたか。

[解答欄]

(1)	(2)
-----	-----

[解答](1) 国民 (2) 象徴

[問題](3 学期)

日本国憲法の三大原則のうち「平和主義」以外の2つを答えなさい。

[解答欄]

[解答]国民主権，基本的人権の尊重

[問題](3 学期)

次の各問いに答えなさい。

- (1) 日本国憲法の施行は何年の何月何日からか，答えなさい。
- (2) 日本国憲法の三大原則を答えなさい。

[解答欄]

(1)	(2)
-----	-----

[解答](1) 1947年5月3日 (2) 国民主権, 基本的人権の尊重, 平和主義

[問題](1 学期中間)

日本国憲法が施行されたのは何年何月何日ですか。

[解答欄]

[解答]1947年5月3日

【】財閥解体と農地改革

[問題](3 学期)

次の文の()に適語を入れよ。

経済の民主化としては、()が行われ、これまで日本の産業や経済を独占してきた三井・三菱・住友などが解体された。また、政府が地主の土地を買い上げ、小作人に安く売り渡す()が行われた。

[解答欄]

--	--

[解答] 財閥解体 農地改革

[解説]

農村では、農地改革が行われ、村に住んでいない地主の全耕地と在村地主の1ha以上の耕地は、国が買い上げて、小作人に安く売り渡した。その結果、自作農家が増えて小作農家が減少した。

[経済の民主化]

(農地改革): 自作農家が増える

(財閥解体)

労働者の保護: 労働組合法, 労働基準法など

GHQ は財閥を軍国主義政策への協力勢力として、財閥解体を命じ、これまで日本経済を支配してきた大資本家の支配をやめさせ、それぞれの会社を独立させた。

また、労働者の権利を守るため、団結権・団体交渉権・争議権を保障した労働組合法、最低限の労働条件を定めた労働基準法、そして労働関係調整法が制定された。

[問題](1 学期中間)

戦後の民主化について、資料を見て、各問いに答えなさい。

- 資料の(X)にあてはまる語句を答えなさい。
- 資料の(ア)~(ウ)は自作, 自小作, 小作のいずれかである。小作は(ア)~(ウ)のどれか。記号で答えなさい。
- 資料を見て、この改革によって、農家はどのように変わったか。説明しなさい。
- 資料の改革の他に、経済の民主化を進めるために、GHQ は三井・三菱・住友・安田などに対して持ち株の縮小(解体)を命じた。これを何といいますか。
- 戦後の民主化を進めるために、労働者を保護する法律が作られた。1つ答えなさい。

自作, 小作別農家の割合の変化

改革前	(ア)	(イ)	(ウ)
1930年	31.1	42.4	26.5
↓	(X)改革を実施する		
↓			
改革後	62.5		32.4
1950年			

5.1

[解答欄]

(1)	(2)	(3)
(4)	(5)	

[解答](1) 農地 (2) (ウ) (3) 小作農が減少して自作農が増えた。 (4) 財閥解体 (5) 労働組合法(労働基準法, 労働関係調整法)

[問題](1 学期中間)

次の各問いに答えよ。

- (1) これまで日本経済を支配してきた大資本家の支配をやめさせ、それぞれの会社を独立させたことを何というか。
- (2) 労働者の団結権・団体交渉権・争議権を保障した法律を何というか。

[解答欄]

(1)	(2)
-----	-----

[解答](1) 財閥解体 (2) 労働組合法

[問題](1 学期中間)

戦後の民主化政策の中で、学校教育の民主化がはかられ、新たに六・三・三・四制の学校制度ができた。このときに制定された法律名を答えなさい。

[解答欄]

--

[解答]教育基本法

[解説]

小中学校を義務教育とし、男女共学などを定めた教育基本法が定められた。

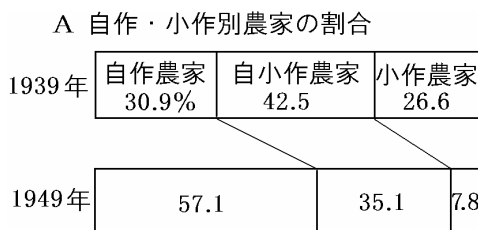
【】総合問題 : 戦後の民主化

[問題](2 学期期末)

次の文章を読んで、あとの各問いに答えなさい。

戦後の日本の民主化と改革について、戦争の体制を経済的に支えていたとして三井・三菱などの(a)が解体された。憲法の改正により日本国憲法がつくられ、国民主権・(b)・平和主義の3つを原則とし、天皇は(c)であるとした。教育勅語は廃止され、教育の目的は平和な国家・社会の形成者を育てることとした民主的な教育の原則を決めた(d)法が定められた。1947年には労働者の労働条件の最低基準を定めた(e)法が制定された。

- (1) 文中の a~e にあてはまる語句を書きなさい。ただし、a と c は漢字 2 字で書きなさい。
- (2) A のグラフを参考にして、次の文中の ~ にあてはまる語句を答えなさい。



「1939年に比べ、1949年には()のしめる割合は約2倍に、()のしめる割合はおよそ3分の1になった。これは()が行われた結果である。」

- (3) B の写真は、第二次世界大戦後はじめての総選挙で投票する人々です。この写真からこの時の選挙制度がそれまでの制度と大きく異なることがわかります。この違いを「選挙権」の語句を使って説明しなさい。

[解答欄]

(1)a	b	c	d
e	(2)		
(3)			

[解答](1)a 財閥 b 基本的人権の尊重 c 象徴 d 教育基本 e 労働基準 (2) 自作農家 小作農家 農地改革 (3) 女性にも選挙権が与えられた。

[問題](後期期末)

次の各問いに答えなさい。

- (1) 第二次世界大戦後、日本はアメリカ軍を主力とする連合国軍に占領された。占領下の日本で、日本政府に指令を出して民主化政策をおしすすめた機関を何といいますか。アルファベット 3 文字で答えなさい。
- (2) 日本の民主化について述べた次の文中にあてはまる語句や数字を書きなさい。
 - ・()歳以上の男女に選挙権を認めた。
 - ・日本の経済を支配してきた、三井・三菱・住友などの()が解体された。
 - ・農村では地主と小作人の関係を根本から改める()が行われた。
- (3) (2)の結果について、簡単に説明しなさい。
- (4) 日本国憲法の三大原則を書きなさい。
- (5) 日本国憲法が公布された年月日を書きなさい。

[解答欄]

(1)	(2)		
(3)			
(4)			(5)

[解答](1) GHQ (2) 20 財閥 農地改革 (3) 小作人に農地が与えられた結果、多くの自作農が生まれた。(4) 国民主権、基本的人権の尊重、平和主義 (5) 1946 年 11 月 3 日

[問題](1 学期中間)

次の A~E は、GHQ の占領政策です。これを読んで、後の各問いに答えなさい。

- A 村に住んでいない地主の全耕地と在村地主の 1ha 以上の耕地は、国が買い上げて、小作人に安く売り渡した。
- B 労働者たちに、組合を結成することを認めた。
- C 軍隊を解散させ、戦争の指導者を裁判にかけ、戦争犯罪人として処罰した。
- D 民主主義教育をめざし、男女共学となった。
- E 憲法が改正された。
- (1) GHQ の最高司令官としてやってきた人物は誰ですか。
 - (2) 資料 A の政策を何といいますか。
 - (3) 資料 B について、組合の結成などについて定めた法律を何といいますか。
 - (4) 資料 C について、このとき天皇は、自分は神の子孫ではないという宣言を出したが、この宣言を何といいますか。

- (5) 資料 D について定めた法律を何といいますか。
- (6) 資料 E について
 改正された憲法の正式名を答えなさい。
 この憲法の 3 原則を答えなさい。
- (7) 資料からもわかるように，連合国は日本をどのような国に変えようとしたのですか。
- (8) 日本の産業・経済を支配していた三井・三菱などに対して行った政策を何といいますか。

[解答欄]

(1)	(2)	(3)	(4)
(5)	(6)		
(7)		(8)	

[解答](1) マッカーサー (2) 農地改革 (3) 労働組合法 (4) 人間宣言 (5) 教育基本法 (6) 日本国憲法 国民主権，基本的人権の尊重，平和主義 (7) 平和な民主国家 (8) 財閥解体

【】国際連合

[問題](1 学期中間)

連合国が世界平和をめざしてつくった組織を何といますか。

[解答欄]

--

[解答]国際連合

[解説]

1945 年 4 月、サンフランシスコで国際連合
憲章の調印が行われ、10 月に、平和を維持す
る機関として、ニューヨークに本部を置く国際
連合が**つくられた**。国際紛争の解決をはかるた
めに安全保障理事会が設置され、アメリカ、イ
ギリス、フランス、ソ連、中国が**常任理事国**と

1945年 国際連合 が発足 本部： ニューヨーク 目的：平和の維持 安全保障理事会 常任理事国 には拒否権 (アメリカ、イギリス、フランス、ソ連、中国)

なった。非常任理事国は 10 か国で、選挙で選ばれ任期は 2 年である。理事会の決定には、15 理事国のうちの 9 か国以上の賛成が必要である。ただし、常任理事国の中で反対が 1 票でもあれば否決されるという五大国一致の原則がとられている。このような常任理事国の権利を**拒否権**という。

[問題](1 学期中間)

次の各問いに答えなさい。

- (1) 国際連合の本部はどこにおかれたか。都市名を答えなさい。
- (2) 国際連合が作られた目的を説明しなさい。
- (3) 国際連合の中心組織である安全保障理事会の常任理事国にあてはまらない国を次から 2 つ選びなさい。

[アメリカ ソビエト連邦 日本 イギリス 中国 ドイツ フランス]

[解答欄]

(1)	(2)	(3)
-----	-----	-----

[解答](1) ニューヨーク (2) 平和の維持 (3) 日本、ドイツ

[解説]

国際連合の安全保障理事会の常任理事国となったのは、第二次世界大戦の戦勝国(アメリカ、イギリス、フランス、ソ連、中国)である。

[問題](後期期末)

次の各問いに答えよ。

- (1) 2つの大きな大戦の反省に立ち、1945年に51か国の調印によって発足した国際機関を書きなさい。
- (2) (1)の本部は何という都市にありますか。

[解答欄]

(1)	(2)
-----	-----

[解答](1) 国際連合 (2) ニューヨーク

[問題](増補 11)(前期中間)

次の各問いに答えなさい。

- (1) 1945年に国際連合憲章の調印が行われましたが、どこで行われましたか、都市名を答えなさい。
- (2) 国際連合の本部はどこにありますか、都市名を答えなさい。
- (3) 国際連合の中心組織の1つで、国際紛争の解決をはかることを任務とする理事会の名前を答えなさい。
- (4) (3)のなかでも権力を持つ5つの国を何といいますか。
- (5) (4)の5つの国をすべて答えなさい。
- (6) (3)の中で、(4)以外の国は選挙によって10か国選出されますが、その任期は何年ですか。
- (7) (3)は合計15か国による決議を行いますが、(4)の国の中で反対が1票でもあれば否決されるという仕組みを何といいますか。
- (8) (4)の国が持つ(7)のような権利を何といいますか。

[解答欄]

(1)	(2)	(3)
(4)	(5)	
(6)	(7)	(8)

[解答](1) サンフランシスコ (2) ニューヨーク (3) 安全保障理事会 (4) 常任理事国 (5) アメリカ、イギリス、フランス、ソ連(ロシア)、中国 (6) 2年 (7) 五大国一致の原則 (8) 拒否権

【】冷たい戦争

[問題](増補 11)(1 学期期末)

次の文章を読んで、空欄 ~ にあてはまる語句を書け。

第二次世界大戦後、()を中心とする資本主義の()側諸国。()を中心とする社会主義の()側諸国、旧植民地から独立を達成した南の諸国と、世界は 3 つに分かれた。政治や経済だけでなく、科学技術やスポーツでも()と()の対立が深まり、緊張状態が続いた。このような状態を、熱い戦争(熱戦)に対して()という。

[解答欄]

[解答] アメリカ 西 ソ連 東 冷たい戦争(冷戦)

[解説]

戦後アメリカを中心にする西側諸国(資本主義諸国)と、ソ連を中心にする東側諸国(社会主義諸国)の対立が激しくなった。ドイツは西半分をアメリカなどが、東半分をソ連が占領したが、戦後の米ソの対立のために、そのまま分割されて資本主義の西ドイツと社会主義の東ドイツになった。

冷たい戦争(冷戦)

西側:アメリカが中心、資本主義諸国
北大西洋条約機構(NATO)

東側:ソ連が中心、社会主義諸国
ワルシャワ条約機構

ドイツ:西ドイツと東ドイツに分断

アメリカを中心とする西側諸国は、1949年に北大西洋条約機構(NATO)という軍事同盟を結んだ。これに対し、ソ連を中心とする東側諸国は、1955年にワルシャワ条約機構を結んだ。このような東西の対立は深刻なものであったが、核戦争の恐怖から米ソの直接の軍事衝突にまでは至らなかった。戦火は交えない深刻な対立であったため、冷たい戦争(冷戦)と呼ばれた。

[問題](増補 11)(1 学期期末)

次の各問いに答えなさい。

- (1) 第二次世界大戦後、ドイツは東西に分裂したが、東側を占領した国の名前を答えなさい。
- (2) ベルリンで東側から西側に逃亡する国民が増えたため、(1)の国がベルリンに築いた壁を何といいますか。

[解答欄]

(1)	(2)
-----	-----

[解答](1) ソ連 (2) ベルリンの壁

[問題](1 学期中間)

米ソの対立の中で分割された国を 1 つ答えなさい。ただし朝鮮はのぞく。

[解答欄]

[解答]ドイツ

[問題](1 学期中間)

次の各問いに答えなさい。

- (1) 第二次世界大戦後の国際社会で、超大国として大きな力を発揮した 2 つの国はどこですか。
- (2) (1)の 2 国を中心とする東西両陣営の間には、大きな戦争がいつおこるかかわからないほどの緊張関係がありました。この対立のことを何といいますか。

[解答欄]

(1)	(2)
-----	-----

[解答](1) アメリカ, ソ連 (2) 冷たい戦争(冷戦)

[問題](1 学期中間)

米ソのきびしい緊張関係を何といいますか。漢字 2 字で答えなさい。

[解答欄]

[解答]冷戦

[問題](後期期末)

冷たい戦争(冷戦)とはどのような状態をいうのか、簡単に説明しなさい。

[解答欄]

[解答]戦火は交えない深刻な対立

[問題](1 学期期末)

第二次世界大戦後、世界はアメリカ中心の西側とソ連中心の東側とにわかれて対立し、その対立は冷たい戦争とよばれていた。なぜ「冷たい」戦争なのか、理由を簡潔に答えなさい。

[解答欄]

--

[解答]深刻な対立であったが、軍事衝突までは至らなかったから。

[問題](1 学期中間)

第二次世界大戦後、連合国は世界平和をめざして組織をつくるのだが、現実には2つの世界に別れていくことになる。

- (1) この2つのグループのにらみ合いを何とよんでいるか。
- (2) アメリカを中心としたグループがつくった軍事的な機構を何というか。
- (3) アメリカは資本主義体制をとっていたが、ソ連の国家体制は何であったか。
- (4) 次の ~ の国は、アメリカとソ連のどちらの陣営だったか。

イギリス 中華人民共和国 キューバ フランス

[解答欄]

(1)	(2)	(3)
(4)		

[解答](1) 冷たい戦争(冷戦) (2) 北大西洋条約機構(NATO) (3) 社会主義 (4) アメリカ ソ連 ソ連 アメリカ

[問題](増補 11)(1 学期期末)

次の各問いに答えよ。

- (1) アメリカが中心となって結成した軍事同盟を何というか。正式名称を漢字で答えよ。
- (2) ソ連が中心となって結成した軍事同盟を何というか。

[解答欄]

(1)	(2)
-----	-----

[解答](1) 北大西洋条約機構 (2) ワルシャワ条約機構

[問題](増補 11)(1 学期中間)

次の各問いに答えよ。

- (1) 第二次世界大戦後、東西両陣営の対立は深まりを増した。こうした状態を何というか。
- (2) (1)のような情勢を、イギリスの元首相のチャーチルは「バルト海のシェチェンからアドリア海のトリエステまで、大陸を横断して、()が降ろされている。」と演説した。()にあてはまる語句を記入せよ。
- (3) (1)に関連して、西側陣営と東側陣営は、それぞれ軍事同盟を結成し対立した。ヨーロッパを中心に結成されたこれらの軍事同盟をそれぞれ何というか。

[解答欄]

(1)	(2)	(3)西側：
東側：		

[解答](1) 冷たい戦争(冷戦) (2) 鉄のカーテン (3)西側：北大西洋条約機構(NATO)
東側：ワルシャワ条約機構

[問題](1 学期中間)

北大西洋条約機構の略称を答えなさい。

[解答欄]

[解答]NATO

【】東アジアの情勢

[問題](増補 11)(1 学期期末)

中国について、次の各問いに答えなさい。

- (1) 国民政府との内戦に勝利した中国共産党の指導者の名前を漢字で答えなさい。
- (2) (1)の人物を国家主席とする、1949 年に成立した国家の正式名称を漢字で答えなさい。

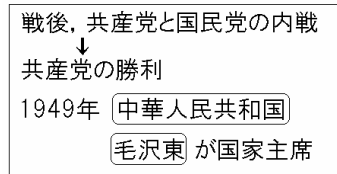
[解答欄]

(1)	(2)
-----	-----

[解答](1) 毛沢東 (2) 中華人民共和国

[解説]

第二次大戦後の中国では共産党と国民党の内戦が始まり、これに勝利をおさめた共産党が、1949 年、毛沢東 もうたくとう ちゅうかじんみんきょうわこく を主席とする 中華人民共和国 をつくった。敗れた国民党の蔣介石は台湾にのがれた。



[問題](1 学期中間)

中華人民共和国はだれを主席として成立したか。

[解答欄]

[解答]毛沢東

[問題](後期期末)

1949 年、毛沢東を主席として成立した国の正式名称を答えなさい。

[解答欄]

[解答]中華人民共和国

[問題](増補 11)(1 学期中間)

中華人民共和国が成立したとき、負けた国民党はどこに移りましたか。

[解答欄]

[解答]台湾

[問題](1 学期中間)

朝鮮では 1948 年に 2 つの国に分かれた。 北朝鮮， 南朝鮮はそれぞれ何という国になったか。正式国名で答えよ。

[解答欄]

--	--

[解答] 朝鮮民主主義人民共和国 大韓民国

[解説]

朝鮮は，日本の敗北により植民地から解放されたが，北緯 38 度の線を境に，北をソ連に，南をアメリカに占領され，やがて 1948 年には，北に北朝鮮(朝鮮民主主義人民共和国)，南に韓国(大韓民国)がつくられた。



[問題](後期期末)

第二次世界大戦後，朝鮮を南北に分断していたのは北緯何度の緯線ですか。

[解答欄]

--

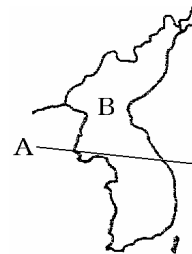
[解答]北緯 38 度線

【】朝鮮戦争と日本の独立

[問題](1 学期中間)

右の地図を見て、各問いに答えなさい。

- (1) 分割占領する時に使われた、地図中 A の緯線は何度の緯線ですか。
- (2) 地図中 B の国が武力統一をめざして南下したことをきっかけにして始まった戦争を何といいますか。
- (3) この戦争が起こったのは何年ですか。



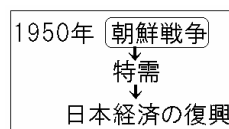
[解答欄]

(1)	(2)	(3)
-----	-----	-----

[解答](1) 北緯 38 度 (2) 朝鮮戦争 (3) 1950 年

[解説]

1950 年、北朝鮮が韓国に侵攻して朝鮮戦争が始まった。韓国軍は半島の南端まで追いつめられたが、アメリカ軍を主力とする国連軍が韓国を助けるため参戦した。国連軍が北朝鮮を追って、中国との国境に近づくと、今度は中国が北朝鮮側に立って参戦



し、戦局は 38 度線付近で一進一退をくり返した。(ひどく号令(1950)朝鮮戦争)

朝鮮戦争が起こると、アメリカは大量の軍需物資を日本に発注した。そのため、日本経済は不景気から回復し、復興を早めることができた。

[問題](前期期末)

第二次世界大戦後、日本の経済を活気づかせ、復興を早める役割を果たした戦争は何でしたか。

[解答欄]

[解答]朝鮮戦争

[問題](後期期末)

朝鮮戦争によって、日本の経済がどのようになったのか、簡単に説明しなさい。

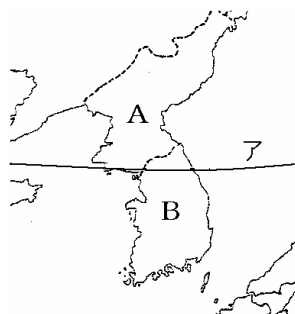
[解答欄]

[解答]軍需物資等の特需により、日本経済は不景気から回復し、復興を早めることができた。

[問題](2 学期中間)

次の各問いに答えよ。

- (1) 1948 年，朝鮮を南北に分けた地図中の境界線アは，北緯何度線か。
- (2) (1)によって分けられた右の地図中の A ,B の国名をそれぞれ正式な名前で答えよ。
- (3) 1950 年，(2)の 2 つの国の間ではじまった戦争を何というか。
- (4) (3)の戦争がおこった 1950 年に，総司令部の指示で日本に設けられ，その後，保安隊，自衛隊と改組・拡大された組織は何か。



[解答欄]

(1)	(2)A	B
(3)	(4)	

[解答](1) 北緯 38 度線 (2)A 朝鮮民主主義人民共和国 B 大韓民国 (3) 朝鮮戦争 (4) 警察予備隊

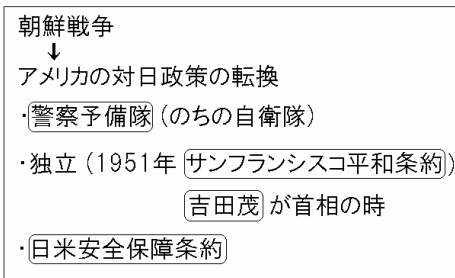
[解説]

朝鮮戦争が始まると，アメリカは日本に警察予備隊をつくらせた。これが現在の自衛隊の前身である。

アメリカは日本を西側陣営の強力な一員にするため，サンフランシスコで講和会議を開き，日本の独立を急がせた。1951 年，サンフランシスコ平和条約が締結され，日本はようやく

独立を回復した。しかし，ソ連などの社会主義国は条約に反対して調印せず，戦争の最大の被害国である中国は会議に招かれなかった。また，日本が多額の賠償金支出にたえられないことから，大半の国が賠償を求めなかった。また，日本が侵略したアジアの国々との間でも，経済協力を賠償にかえることが多く行われた。

これと同時に，日本に対する武力攻撃を防ぎ，東アジアの平和を維持するために，アメリカと日米安全保障条約が結ばれた。吉田茂が首相のときであった。



[問題](3 学期)

朝鮮戦争の時、日本では、警察予備隊が組織されたが、これは次第に強化され、現在、何という組織になっているか。

[解答欄]

--

[解答] 自衛隊

[問題](1 学期中間)

次の文中の()に適語を入れよ。

1950 年、北朝鮮が北緯()度の境界線を越えて侵攻して()戦争が始まった。()戦争が始まると、アメリカは日本に、現在の自衛隊の前身にあたる()隊をつくらせた。さらに、アメリカは日本の独立を急がせ、1951 年に()条約が締結され、日本はようやく独立を回復した。これと同時に、日本に対する武力攻撃を防ぎ、東アジアの平和を維持するために、アメリカと()条約が結ばれた。

[解答欄]

[解答] 38 朝鮮 警察予備 サンフランシスコ平和 日米安全保障

[問題](1 学期中間)

朝鮮戦争は、日本に大きな影響を及ぼした。これに関し、次の各問いに答えなさい。

- (1) GHQ が活動を制限したのはどんな思想を持った人々ですか。
- (2) 日本につくらせた自衛隊のもとになる組織は何ですか。
- (3) アメリカは、この戦争により日本の独立を急がせたが、日本の独立を認めた条約を何といいますか。
- (4) (3)の条約にサインをした、当時の日本の首相は誰ですか。
- (5) 日本は(3)の条約の締結と同時に、引き続き日本国内でのアメリカ軍の駐留と、軍事上の施設の利用をアメリカに認める条約を結んだが、これを何といいますか。

[解答欄]

(1)	(2)	(3)
(4)	(5)	

[解答](1) 共産主義 (2) 警察予備隊 (3) サンフランシスコ平和条約 (4) 吉田茂 (5) 日米安全保障条約

[解説]

朝鮮戦争が始まると、GHQ は共産主義者の公職追放などを行った。

[問題](3 学期)

次の各問いに答えなさい。

- (1) 北朝鮮軍が朝鮮を統一しようと北緯 38 度線を越えたために起きた戦争を漢字 4 字で答えなさい。
- (2) 1951 年に日本が結んだ、平和条約を下の 1～3 から選びなさい。
- (3) (2)と同時に日本がアメリカと結んだ条約の名前を答え、下の 1～3 から選びなさい。
 - 1 …陸軍・空軍及び海軍を日本国及びその付近に配備する権利を、日本国は許し…この軍隊は、極東における国際の平和と安全の維持に寄与し、並びに一または二以上の外部の国による…外部からの武力攻撃に対する日本国の安全に寄与するために使うことができる。
 - 2 日本国と各連合国との間の戦争状態は、この条約が効力を生ずる日に終了する。連合国は、日本国及びその領水に対する日本国民の完全な主権を回復する。
 - 3 日本国民をだまして世界征服にのり出させた者の権力と勢力は永久にとりのぞかれなければならない。日本国の主権は、本州・北海道・九州・四国とわれらが決定する諸小島に限られる。

[解答欄]

(1)	(2)	(3)
-----	-----	-----

[解答](1) 朝鮮戦争 (2) 2 (3) 日米安全保障条約, 1

[問題](1 学期中間)

次の各問いに答えよ。

- (1) サンフランシスコ平和条約と同時に、日本に対する武力攻撃を防ぎ東アジアの平和を維持するために、アメリカと結んだ条約を何というか。
- (2) サンフランシスコ平和条約と(1)の条約を結んだ首相はだれか。

[解答欄]

(1)	(2)
-----	-----

[解答](1) 日米安全保障条約 (2) 吉田茂

[問題](増補 11)(1 学期中間)

1951 年，日本と連合側との講和会議が開催された。

- (1) この会議が行われた都市を書け。
- (2) この会議に出席した当時の日本の首相を答えよ。
- (3) 締結された平和条約は日本と 48 か国との間で調印された。会議には日本以外に 51 か国が参加したが，調印しなかった国を 1 つ答えよ。

[解答欄]

(1)	(2)	(3)
-----	-----	-----

[解答](1) サンフランシスコ (2) 吉田茂 (3) ソ連

[問題](1 学期期末)

次の各問いに答えなさい。

- (1) 次の資料はサンフランシスコ講和会議の時に日本が結んだ条約です。条約名を答えなさい。
「アメリカの陸・海・空軍を日本国内及びその付近に配備する権利を日本国は許可する。」
- (2) (1)の条約で現在も多くのアメリカ人が駐留し，それをめぐる問題が起こっている都道府県はどこですか。

[解答欄]

(1)	(2)
-----	-----

[解答](1) 日米安全保障条約 (2) 沖縄県

[問題](1 学期中間)

サンフランシスコ平和条約と同時に，日本とアメリカの間で結ばれた条約は何ですか。

[解答欄]

--

[解答]日米安全保障条約

[問題](前期期末)

サンフランシスコ平和条約について、誤っているものを次のア～エから 1 つ選んで記号で書け。

- ア ソ連などの社会主義国は条約に反対して調印しなかった。
- イ 戦争の最大の被害国である中国は会議に招かれなかった。
- ウ 日本は大半の国から賠償金の支払いを求められなかった。
- エ この条約の調印で、日本の国際連合への加盟が実現した。

[解答欄]

[解答]エ

[解説]

エが誤り。日本が国際連合に加盟したのは、1956年にソ連と国交して日ソ共同宣言^{にっ そ きょうどうせんげん}を調印した後であった。

[問題](1 学期中間)

ソ連とは、何に調印して国交を回復したか。

[解答欄]

[解答]日ソ共同宣言

【】アジア・アフリカ会議など

[問題](増補 11)(1 学期中間)

平和五原則を中国の周恩来とともに発表したインドの首相は誰か。

[解答欄]

[解答]ネルー

[解説]

1954 年，中国の周恩来^{しゅうおんらい}首相とインドのネルー首相は，領土と主権の尊重・相互不侵略などの平和五原則を発表した。

翌 1955 年，アジア・アフリカの 29 ヶ国が，インドネシアのバンドンでアジア・アフリカ会議を開き，植民地支配反対と，平和を守ることなどを決めた。

1954年	平和五原則
	(中国の周恩来と, インドのネルー)
1955年	アジア・アフリカ会議
	(インドネシアのバンドン)

[問題](増補 11)(1 学期期末)

領土と主権の尊重・相互不侵略などの 5 つの原則を発表した 中国と インドの首相の名前をそれぞれ答えなさい。また，この原則を何というか。漢字で答えよ。

[解答欄]

--	--	--

[解答] 周恩来 ネルー 平和五原則

[問題](1 学期中間)

次の各問いに答えなさい。

- (1) 新しく独立した国々が 1955 年にインドネシアで開いた会義を何といいますか。
- (2) (1)はインドネシアの何という都市で開かれましたか。

[解答欄]

(1)	(2)
-----	-----

[解答](1) アジア・アフリカ会議 (2) バンドン

[問題](増補 11)(1 学期中間)

1955 年、アジア・アフリカ 29 カ国の代表者が集まって、帝国主義諸国の植民地支配反対と平和を守ることなどを決めた「アジア・アフリカ会議」が開かれた。開催された都市を答えよ。また、その都市はどこの国にあるか。

[解答欄]

--	--

[解答] バンドン インドネシア

[問題](増補 11)(1 学期期末)

次の文の ~ に適語を入れよ。

1955 年、()のスカルノ大統領のよびかけで、アジアやアフリカの独立国の代表者が()の()に集まり、植民地主義反対・民族自決・民族の平等などの()を公表した。これにより、資本主義・社会主義の対立からの中立を宣言し、アジアやアフリカなどの南の諸国は「第三世界」として力を持つようになった。この会議を()会議という。

[解答欄]

--	--	--	--

[解答] インドネシア バンドン 平和十原則 アジア・アフリカ

[問題](1 学期中間)

第二次世界大戦後に多くの国が独立した地域を次の[]から 2 つ選びなさい。

[ヨーロッパ アジア 北アメリカ アフリカ]

[解答欄]

--

[解答] アジア, アフリカ

【】高度経済成長の時代

[問題](前期期末)

戦後，日本は資本主義世界で国民総生産(GNP)第 2 位にまで発展をとげましたが，このような経済の状態を何といったか。

[解答欄]

[解答]高度経済成長

[問題](増補 11)(1 学期期末)

次の表の 1～4 に入る語句の組み合わせで正しいものを，ア～エから 1 つ選んで記号で答えよ。

病名	四日市ぜんそく	1	2
発生場所	三重県四日市市	3	4
原因	亜硫酸ガス	メチル水銀	カドミウム

- ア 1 イタイイタイ病 2 新潟水俣病 3 阿賀野川下流域 4 神通川下流域
 イ 1 イタイイタイ病 2 新潟水俣病 3 神通川下流域 4 阿賀野川下流域
 ウ 1 新潟水俣病 2 イタイイタイ病 3 阿賀野川下流域 4 神通川下流域
 エ 1 新潟水俣病 2 イタイイタイ病 3 神通川下流域 4 阿賀野川下流域

[解答欄]

[解答]ウ

[解説]

戦後，日本が急速な経済発展をとげるにつれて，各地で深刻な公害問題が発生した。なかでも，熊本県水俣湾の水俣病，三重県四日市市の四日市ぜんそく，富山県神通川流域のイタイイタイ病，新潟県阿賀野川流域の新潟水俣病の 4 つは四大公害とよばれた。

これに対して，公害追放の住民運動が各地で展開されたため，公害を防止し，環境汚染をくいとめるべく，1967 年に公害対策基本法が作られ，1971 年には環境庁が新設された。また，1993 年，環境基本法が作られた。



[問題](前期期末)

高度経済成長のころ，公害の発生が問題となりました。代表的な公害病を2つ答えなさい。

[解答欄]

[解答]水俣病，四日市ぜんそく(イタイイタイ病，新潟水俣病)

[問題](増補 11)(1 学期期末)

公害問題の取り組みを強めるために，1967 年につくられた法律名を答えなさい。

[解答欄]

[解答]公害対策基本法

[問題](3 学期)

1973 年，イスラエルとアラブ諸国との第四次中東戦争が始まり，日本ではオイルショックがおきた。これをきっかけに 1960 年代から続いた()も終わった。

[解答欄]

[解答]高度経済成長

[解説]

20 年近く高度成長を続けた日本経済は，アラブ諸国による石油価格の引き上げと石油の輸出制限が原因で，1970 年代に石油危機(オイルショック)にみまわれた。(1973 年に第一次石油危機，1979 年に第二次石油危機) 石油の輸入に大きく依存していた日本経済は，石油の国際価格が 10 倍にも上がったため，大きな打撃を受け，1974 年には戦後初めて経済の成長がマイナスとなった。

[問題](3 学期)

1973 年の石油危機は何が原因で起こったのか。簡単に答えなさい。

[解答欄]

[解答]第四次中東戦争をきっかけとして石油価格が高騰したため。

[問題](増補 11)(1 学期中間)

次の文の ， に適語を入れよ。

1954 年、アメリカは()環礁で水爆実験を行った。このとき、第五福竜丸というマグロ漁船が被爆した。このできごとがきっかけで、その後毎年、()大会が開かれるようになった。

[解答欄]

--	--

[解答] ビキニ 原水爆禁止世界

[解説]

アメリカは第二次世界大戦末期に原爆を開発していたが、1949 年にはソ連も原爆の開発に成功した。1954 年にはアメリカがビキニ環礁で水爆実験を強行し、現地付近の島民や日本の漁船などが被害を受けた。このころソ連も水爆の開発に成功しており、アメリカとソ連は核兵器の開発競争を行っていった。アメリカのビキニ環礁での水爆実験以降、核兵器開発に対する反対運動が高まり、翌 1955 年には広島で第 1 回原水爆禁止世界大会が開催された。

[問題](増補 11)(1 学期期末)

第五福竜丸の事件がきっかけとなり、広島で第 1 回大会が開かれた大会名を漢字 9 字で答えなさい。

[解答欄]

--

[解答]原水爆禁止世界大会

[問題](増補 11)(1 学期期末)

核兵器に対する日本の基本方針で「持たず、作らず、持ち込ませず」を何というか。漢字 5 字で答えなさい。

[解答欄]

--

[解答]非核三原則

[問題](3 学期)

非核三原則とは何か。3 つあげなさい。

[解答欄]

[解答]核兵器を持たず，作らず，持ち込ませず。

[問題](増補 11)(1 学期期末)

核兵器をもたない国があらたにもつことと，核兵器をもつ国がもたない国に核兵器をわたすことを禁止した条約を何というか。次の[]から選びなさい。

[部分的核実験停止条約 中距離核戦力全廃条約 戦略兵器削減条約 核拡散防止条約 包括的核実験禁止条約]

[解答欄]

[解答]核拡散防止条約

[問題](増補 11)(1 学期期末)

国際連合が，紛争地域に軍隊や停戦監視団を派遣して，平和をたもとうとする活動を何というか。アルファベット 3 字で答えなさい。

[解答欄]

[解答]PKO

[問題](増補 11)(1 学期期末)

太平洋を囲む国々が参加する経済協力会議の名称をアルファベット 4 字で答えなさい。

[解答欄]

[解答]APEC

【】総合問題

[問題](2 学期期末)

次の年表を見て，各問いに答えなさい。

年代	おもなできごと
1945	新しい国際平和組織である()が発足する
1946	()が公布される
1949	中国で()が成立する
1950	北緯 38 度線付近で()が始まる
1951	()平和条約と同時にアメリカとの間に()保障条約が結ばれる
1956	日本が()と国交を回復する

(1) 年表中の ~ にあてはまる語句を次から選んで書きなさい。

[中華民国 日米安全 ワシントン 国際連盟 中華人民共和国 国際連合
サンフランシスコ ソビエト連邦 朝鮮戦争 日本国憲法 ベトナム戦争]

(2) 右の地図中の 1)X，Y の条約機構の名前を答えなさい。また，2)X と Y の 2 つの陣営の対立(戦火を交えない戦争)を何といいますか。



(3) ポツダム宣言を受諾後日本政府に憲法改正などの民主化の指示を出した機関の 1)名前と，2)その最高司令官の名前を書きなさい。

(4) 年表中の をきっかけに日本に警察予備隊がつくられましたが，1)その理由を書きなさい。また，2)警察予備隊は，その後強化され現在は何という組織になっていますか。

[解答欄]

(1)			
			(2)1)X
Y	2)	(3)1)	2)
(4)1)			2)

[解答](1) 国際連合 日本国憲法 中華人民共和国 朝鮮戦争 サンフランシスコ 日米安全 ソビエト連邦 (2)1)X 北大西洋条約機構 Y ワルシャワ条約機構 2) 冷たい戦争(冷戦) (3)1) GHQ 2) マッカーサー (4)1) アメリカ軍が朝鮮に出動した後の日本国内の治安を維持するため。 2) 自衛隊

[問題](1 学期中間)

年表中の ~ にあてはまる語句を、次の[]から選んで書け。

[中華人民共和国 アメリカ 朝鮮 サンフランシスコ 日本国 ソ連]

	1945	1946	1949	1950	1951	1955	1956
おもなできごと	新しい国際組織が発足する	()憲法が公布される	中国に()が成立する	()戦争が始まる	()平和条約を結ぶ	アジア・アフリカ会議が開かれる	()と国交を回復する

[解答欄]

[解答] 日本国 中華人民共和国 朝鮮 サンフランシスコ ソ連

[問題](1 学期中間)

年表中の ~ について説明した次の文を読んで、あてはまる語句を書け。

共産党が国民政府に勝利して建てた国。

日本に好景気(特需)をもたらした戦争。

日本がアメリカなど 48 カ国と締結した平和条約。

この宣言をきっかけに日本は国際連合に加盟した。

第二次世界大戦では、アメリカ軍が上陸し戦場となった。

アメリカが支援する南とソ連・中国が支援する北との戦争で、北側が勝利。

東側陣営(社会主義諸国)の主軸であった国。

年代	できごと
1949 年	中国で 国が成立する
1950 年	戦争がおこる
1951 年	平和条約を結ぶ
1956 年	宣言を出す
1972 年	県が日本に復帰する
1975 年	戦争が終結する
1991 年	が解体する

[解答欄]

[解答] 中華人民共和 朝鮮 サンフランシスコ 日ソ共同 沖縄
ベトナム ソビエト連邦(ソ連)

[問題](2 学期中間)

次の文章を読んで、各問いの答えを下の語群から選べ。

1945 年 4 月に連合国の a 会議で、世界平和のための組織づくりが決定し、第二次世界大戦の終了した 10 月に b その組織が設立された。しかし世界は、c 西側と d 東側という勢力に分裂し、e 戦火を交えない対立がしたいにあらわれてきた。日本は 1951 年、世界の 48 カ国との間で f 平和条約を結んだ。

- (1) a の会議は何という都市で行なわれたか。
- (2) b の組織は何という名前か。
- (3) c の勢力の中心になった国はどこか。
- (4) d は社会主義の国々だが、中心となった国はどこか。当時の名前で答えよ。
- (5) e の対立を何とよんでいるか。
- (6) f の条約を結ぶために、日本を代表して出席した総理大臣は誰か。
- (7) f の条約とともに、東アジアの平和と、日本への武力攻撃を防ぐために、日本とアメリカとの間で結ばれた条約は何か。
- (8) アメリカやイギリスが中心となって、パレスチナにつくられたユダヤ人の国を何というか。
- (9) 1945 年にホーチミンを中心として、フランスから独立宣言を行なった国はどこか。
- (10) 日中戦争終了後、国民政府を台湾に追い出し、毛沢東が主席となった国はどこか。

(語群)[サンフランシスコ 冷たい戦争 ベトナム 中華民国 タイ 国際連合

吉田茂 中華人民共和国 パレスチナ解放機構 日米和親条約 アメリカ

日米安全保障条約 小泉純一郎 熱い戦争 ユーゴスラビア ソ連 イスラエル

日本 国際連盟 ニューヨーク]

[解答欄]

(1)	(2)	(3)
(4)	(5)	(6)
(7)	(8)	(9)
(10)		

[解答](1) サンフランシスコ (2) 国際連合 (3) アメリカ (4) ソ連 (5) 冷たい戦争
(6) 吉田茂 (7) 日米安全保障条約 (8) イスラエル (9) ベトナム (10) 中華人民共和
国

【】総合問題

[問題](2 学期期末)

次の年表をみて，各問いに答えなさい。

(1) A の政策のうち，農村における民主化をめざした改革を何と
いいますか。

(2) B の憲法の 3 大原則とは何です
か，3 つとも答えなさい。

(3) () にあてはまる語句を答え
なさい。

(4) C が実現した講和会議が開かれ
た都市名を答えなさい。

(5) () にあてはまる語句を答え
なさい。

(6) D の闘争はある条約に反対して
行われたものです。条約名を答えなさい。

(7) () にあてはまる語句を答えなさい。

(8) E の正常化の後 1978 年に結ばれた条約名を答えなさい。

(9) 1950 年代半ばから F の時期にかけて日本は急速な経済の成長をなしとげた。この
ことを何というか，答えなさい。

(10) G によって終わりをとげたといわれる，アメリカとソ連の 2 大陣営の対立を何とい
うか，答えなさい。

年代	おもなできごと	
1945 年	日本の民主化政策がはじまる	A
1946 年	日本国憲法が公布される	B
1950 年	() 戦争が起こる	
1951 年	日本が独立を回復する	C
1956 年	日本が() に加盟する	
1960 年	安保闘争が起こる	D
1965 年	() 戦争にアメリカが介入	
1972 年	日本が中国と国交を正常化する	E
1973 年	石油危機がおきる	F
1989 年	ベルリンの壁が崩壊する	G

[解答欄]

(1)	(2)	(3)	
(4)	(5)	(6)	
(7)	(8)	(9)	(10)

[解答](1) 農地改革 (2) 国民主権，基本的人権の尊重，平和主義 (3) 朝鮮 (4) サン
フランシスコ (5) 国際連合 (6) 日米安全保障条約 (7) ベトナム (8) 日中平和友好
条約 (9) 高度経済成長 (10) 冷たい戦争(冷戦)

[問題](1 学期期末)

次の年表を見て、各問いに答えよ。

年	日本のできごと	年	世界のできごと
1945	広島・長崎に原子爆弾 ポツダム宣言を受けて降伏する	1945	ドイツの降伏，ポツダム会談 国際連合ができる
1946	財閥解体・農地改革・選挙法改正・・・ ア	1947	インド・パキスタンの独立
1946	昭和天皇の人間宣言		冷たい戦争が始まる…………… キ
1950	日本国憲法の公布	1949	北大西洋条約機構
1950	警察予備隊ができる…………… イ		中華人民共和国の成立…………… ク
1951	サンフランシスコ平和条約…………… ウ	1950	朝鮮戦争
	日米安全保障条約を結ぶ		
1953	奄美諸島が日本に復帰する	1954	アメリカがピキニで水爆実験…………… ケ
1954	自衛隊の発足	1955	アジア・アフリカ会議
1956	日ソの国交回復，国際連合に加入 (経済が急速に発展)	1956	エジプトのスエズ運河国有化宣言 アフリカ諸国の独立相次ぐ
1960	日米安全保障条約の改定		
1963	部分的核実験停止条約に調印	1963	部分的核実験停止条約
1965	日韓基本条約を結ぶ…………… エ		ベトナム戦争が激しくなる
	公害と環境破壊が進む…………… オ	1967	イスラエルとアラブの紛争
1968	小笠原諸島が日本に復帰する		ヨーロッパ共同体(EC)の発足…………… コ
1969	同和対策事業特別措置法ができる	1968	核兵器拡散防止条約
1970	公害対策基本法の改正	1971	中国が国連の代表権を獲得する
1972	沖縄が日本に復帰する…………… カ		東西両ドイツが国連に加盟する
	中華人民共和国との国交の正常化	1975	ベトナム戦争の終結
1978	日中平和友好条約を結ぶ	1979	米中の国交正常化
		1980	イラン・イラク戦争
		1987	INF 全廃条約
		1990	東西ドイツの統一
		1991	湾岸戦争がおこる，ソ連の解体

- (1) アによって選挙権を認められた人はどのような資格の人か。
- (2) イはその後何という組織になったか。年表中の用語で書け。
- (3) ウにより日本は何を回復することになったか。
- (4) 日本が国際社会に復帰したのは何年か。
- (5) エの結果，日本と国交が開かれていない国はどこか。略称で書け。
- (6) オについて四大公害といわれた病気を1つ書け。

- (7) カは実現したが、どんな課題が残ったか。簡単に書け。
- (8) カの次の年に日本をおそった経済的な大打撃を何というか。
- (9) キで対立した2大国(当時の国名)を書け。
- (10) クの国の主席(指導者)は誰であったか。
- (11) ケにより被爆した焼津港所属の漁船名を書け。
- (12) コは、1993年に何という組織に発展したか。
- (13) 年表から核軍縮にむけた動きを3つ書け。

[解答欄]

(1)	(2)	(3)	(4)
(5)	(6)	(7)	
(8)	(9)	(10)	(11)
(12)	(13)		

[解答](1) 20歳以上の男女 (2) 自衛隊 (3) 独立 (4) 1956年 (5) 北朝鮮 (6) 水俣病(四日市ぜんそく, イタイイタイ病, 新潟水俣病) (7) 米軍基地が置かれていること。
 (8) 石油危機(石油ショック, オイルショック) (9) アメリカ, ソ連 (10) 毛沢東 (11) 第五福竜丸 (12) EU (13) 部分的核実験停止条約, 核拡散防止条約, INF全廃条約

[問題](1 学期期末)

各問いに答えなさい。

- (1) ~ にあてはまる語句を書きなさい。
- (2) A について, 3 原則を答えなさい。
- (3) B について, この講和条約と同時に結ばれた条約の名前を答えなさい。
- (4) C をうけて, 日本と中国は 1978 年に条約を結んだ。この条約の名前を答えなさい。
- (5) D について, これはある戦争の際, アラブ諸国がとった石油戦略の影響を受けたものである。ある戦争とは何ですか。

年代	できごと
1945 年	ポツダム宣言受諾 ()が成立する
1946 年	日本国憲法成立・・・・・・・・・・ A
1949 年	()成立
1950 年	()戦争はじまる
1951 年	第二次世界大戦の講和条約を結ぶ B
1956 年	日ソ共同宣言が発表される 日本が()に加盟する
1965 年	ベトナム戦争激化
1972 年	()が日本に復帰する 日中国交正常化・・・・・・・・・・ C
1973 年	オイルショック・・・・・・・・・・ D
1990 年	()統一・・・・・・・・・・ E

- (6) E について, 前年の 1989 年にはベルリンの壁が崩され, この統一が実現した。
()にあてはまる国名を答えなさい。

[解答欄]

(1)			
	(2)		(3)
(4)	(5)		(6)

- [解答](1) 国際連合 中華人民共和国 朝鮮 国際連合 沖縄 (2) 国民主権, 基本的人権の尊重, 平和主義 (3) 日米安全保障条約 (4) 日中平和友好条約 (5) 第四次中東戦争 (6) ドイツ

[問題](1 学期期末)

次の各問いに答えよ。

- (1) 警察予備隊は 1954 年拡大・改編されて新しい組織になった。何とよばれる組織になったか。
- (2) 1960 年はアフリカで 17 もの国が独立を果たし、このようによばれている。この独立を果たす起点となった 1955 年の会議の名前を答えよ。

年代	日本のできごと	世界のできごと
1950 年	(1)警察予備隊発足	(2)「アフリカの年」
1960 年 1970 年	↑ A ↓	
1980 年 1990 年	(5)環境庁発足	(6)国連平和維持活動協力法成立

- (3) 年表中の A の時期は、日本の経済が大きく伸び、生産も消費も増えた時期である。これを何というか。
- (4) A 時期の日本には、世界の資本主義国の中で第 2 位になったものがある。国の経済力を示すものであるが、何か。
- (5) この省庁は、A のマイナス面である公害に対応していくために設置された。このころ被害が深刻であった公害を 1 つあげよ。
- (6) 年表中の下線部は、停戦の監視などを行うものであり、日本も参加している。アルファベットで何とよばれているか、答えよ。

[解答欄]

(1)	(2)	(3)
(4)	(5)	(6)

[解答](1) 自衛隊 (2) アジア・アフリカ会議 (3) 高度経済成長 (4) GNP (5) 水俣病 (四日市ぜんそく, イタイイタイ病, 新潟水俣病) (6) PKO

[問題](2 学期期末)

次の年表を見て、各問いに答えなさい。

年代	おもなできごと
1955 年	()が開かれる 広島で第 1 回()世界大会が開かれる
1965 年	韓国と()条約を結ぶ
1967 年	西ヨーロッパで()が発足する
1978 年	()条約が結ばれる
1991 年	()が解体する
1993 年	()が発足する

- (1) 年表中の ~ にあてはまる語句を次から選んで書きなさい。
[日中平和友好 ドイツ 原水爆禁止 ソビエト連邦 EU 日韓基本 EC
アジア・アフリカ会議 APEC]
- (2) 1973 年、アラブ産油国などが結成した組織が原油価格を大幅に引き上げ、先進国に打撃をあたえた出来事を 何とといいますか。また、その組織の名前を次から 1 つ選んで書きなさい。
[APEC ASEAN OPEC OECD]
- (3) 1950 年代中ごろから 1970 年代初めにかけて日本は国内の産業が急速に発展し、貿易も拡大した。この経済の発展を何とよんでいますか。
- (4) 1960 年代に、インドシナのある国が南北に分かれて長く戦争が続きました。この戦争を何戦争とといいますか。また、この戦争で使われた人体に悪い影響を与えた薬物を次から 1 つ選んで書きなさい。
[二酸化炭素 亜硫酸ガス 枯れ葉剤]
- (5) 1975 年に第 1 回が開催された主要先進国首脳会議をアルファベットで書きなさい。

[解答欄]

(1)			
			(2)
	(3)	(4)	
(5)			

[解答](1) アジア・アフリカ会議 原水爆禁止 日韓基本 EC 日中平和友好 ソビエト連邦 EU (2) 石油危機(石油ショック, オイルショック) OPEC (3) 高度経済成長 (4) ベトナム戦争 枯れ葉剤 (5) SUMMIT

[印刷 / 他の PDF ファイルについて]

このファイルは、FdData 中間期末社会歴史(7,200 円)の一部を PDF 形式に変換したサンプルで、印刷はできないようになっています。製品版の FdData 中間期末社会歴史は Word(または一太郎)の文書ファイルで、印刷・編集を自由に行うことができます。

FdData 中間期末(社会・理科・数学)全分野の PDF ファイル、および製品版の購入方法は <http://www.fdtype.com/dat/> に掲載しております。

下図のような、[FdData 無料閲覧ソフト(RunFdData)]を、Windows のデスクトップ上にインストールすれば、FdData 中間期末・FdData 入試の全 PDF ファイル(各教科約 1500 ページ)を自由に閲覧できます。次のリンクを左クリックするとインストールが開始されます。

RunFdData(Word 版) 【 <http://www.fdtype.com/lnk/instRunFdDataWDs.exe> 】

RunFdData(一太郎版) 【 <http://www.fdtype.com/lnk/instRunFdDataTAs.exe> 】

ダイアログが表示されたら、【実行】ボタンを左クリックしてください。インストール中、いくつかの警告が出ますが、[実行][許可する][次へ]等を選択します。

【イメージ画像】



【Fd 教材開発 : URL <http://www.fdtype.com/dat/> Tel (092) 404-2266】