

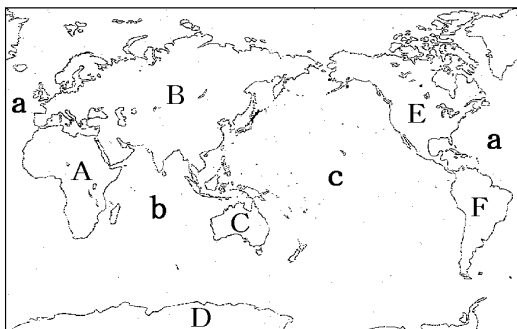
【FdData 中間期末：中学社会地理】

[六大陸・三大洋]

[問題](1 学期中間)

次の各問いに答えなさい。

(1) 次の A～F の大陸の名を答えなさい。



- A まっすぐな国境線をもつ国が多い大陸。
- B 6つの大陸でいちばん面積の大きい大陸。
- C 6つの大陸でいちばん面積の小さい大陸。
- D 厚い氷でおおわれている大陸。
- E 南北が陸地につながっている大陸の、北の部分にあたる大陸。
- F Eの大陸の南に位置する大陸。

(2) 地図中の a～c の大洋の名を書きなさい。

(3) 地球の陸と海の面積の割合を、次から選んで書きなさい。

[2:8 3:7 4:6 5:5]

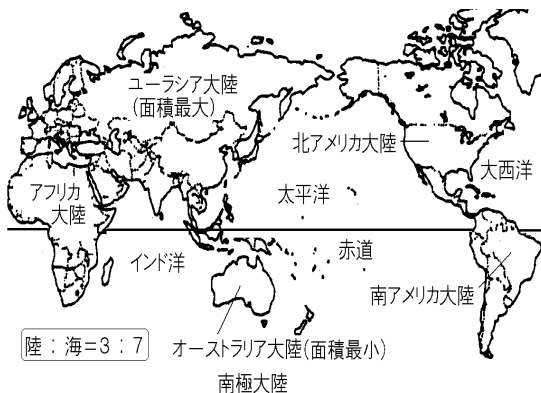
[解答](1)A アフリカ大陸 B ユーラシア大陸

C オーストラリア大陸 D 南極大陸

E 北アメリカ大陸 F 南アメリカ大陸

(2)a 大西洋 b インド洋 c 太平洋 (3)3:7

[解説]

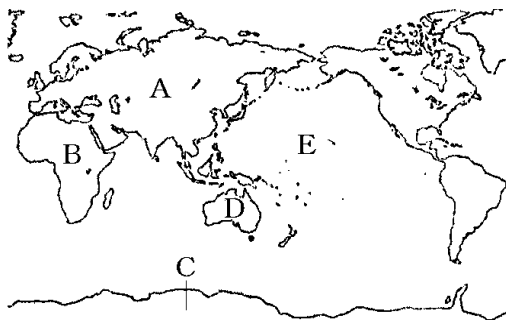


地球の陸地と海の面積比は、(陸地):(海)=3:7である。三大洋は、大きい順に、太平洋、大西洋、インド洋である。太平洋の面積は全陸地の面積よりも大きい。いっぽう陸地は、大きなかたまりと多くの島々からなっている。大きなかたまりは大

陸とよばれ、面積の大きい順に、ユーラシア大陸・  
アフリカ大陸・北アメリカ大陸・南アメリカ大陸・  
南極大陸・オーストラリア大陸の六大陸がある。

[問題](1 学期期末)

地図を見て、次の問いに答えなさい。



- (1) 次の文に適する大陸・大洋の名を書きなさい。
- ① 面積が最も大きい大陸 A
  - ② 大陸 A とせまい陸地につながっている大陸 B
  - ③ 氷でおおわれている大陸 C
  - ④ 面積が最も小さい大陸 D
  - ⑤ すべての陸をあわせた面積より大きい海 E

(2) 地球上の陸と海との面積の割合はおよそどのくらいか。次から選びなさい。

[2 : 3 3 : 7 4 : 6 5 : 5]

[解答](1)① ユーラシア大陸 ② アフリカ大陸  
③ 南極大陸 ④ オーストラリア大陸  
⑤ 太平洋 (2) 3 : 7

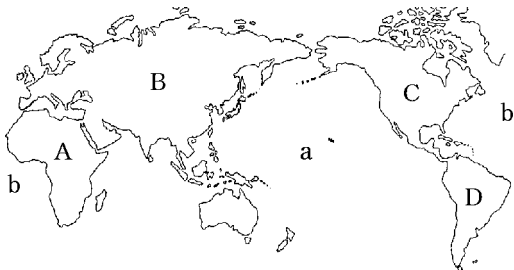
[問題](1 学期中間)

地球の表面で、陸地と海の割合は、何対何になっているか。

[解答]3 : 7

[問題](1 学期中間)

地図をみて、問いに答えなさい。



- (1) 図中のA～Dの大陸名を答えなさい。
- (2) 図中のa, bの海洋名を答えなさい。
- (3) 地球上で海のしめる割合は何%か。次から選んで答えなさい。

[ 10% 30% 50% 70% 90% ]

[解答](1)A アフリカ大陸 B ユーラシア大陸  
C 北アメリカ大陸 D 南アメリカ大陸

(2)a 太平洋 b 大西洋 (3) 70%

[問題](1 学期中間)

次の文の( )にあてはまる語句・数字を、下の[ ]から選びなさい。

地球は、表面積の( ① )%ほどが海におおわれた水の星で、大きな海には、( ② )・大西洋・インド洋の三大洋がある。日本海や地中海などは、三大洋に付属した小さな海である。いっぽう陸地は、大きなかたまりと多くの島々からなっている。大きなかたまりは大陸とよばれ、大きい順に、( ③ )・アフリカ・北アメリカ・南アメリカ・南極・( ④ )の六大陸がある。また、( ⑤ )は、地球をそのままの形で小さく縮めた模型である。

[30 70 地球儀 太平洋 オーストラリア  
ユーラシア ]

[解答]① 70 ② 太平洋 ③ ユーラシア  
④ オーストラリア ⑤ 地球儀

◆社会地理の各ファイルへのリンク

<http://www.fdtype.com/dp/sc1/index.html>

◆FdData 中間期末の特徴(QandA 方式)

[http://www.fdtype.com/dp/qanda\\_k.html](http://www.fdtype.com/dp/qanda_k.html)

◆製品版(パソコン Word 文書：印刷・編集用)  
の価格・購入方法

<http://www.fdtype.com/dp/seihin.html>

※ iPhone でリンク先が開かない場合は、  
「iBooks」を開いてリンクをタップください。

【Fd 教材開発】 Mail : [info2@fdtype.com](mailto:info2@fdtype.com)