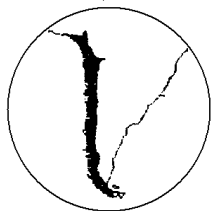


【FdData 中間期末：中学社会地理：世界の国】
[国境線]

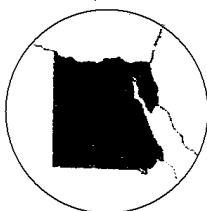
[問題](1 学期期末)

次の各問いに答えよ。

ア



イ



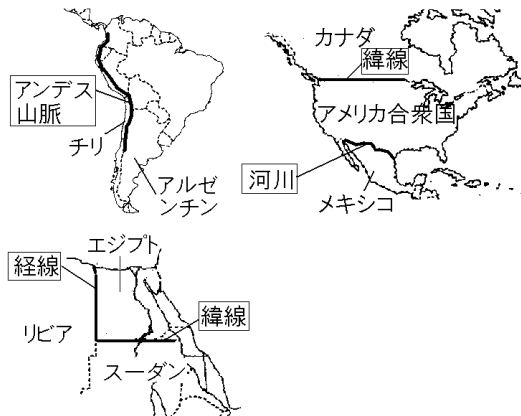
- (1) アの国のとなりになるアルゼンチンとの境は何によって国境線が決められたのか書け。
- (2) イの国の国境線は、大部分が直線になっています。これは、何を利用して決められたのか書け。(たてとよこの直線があることに注目)

[解答](1) アンデス山脈 (2) 経線と緯線

[解説]

[国境線の種類]

- ① 山脈や河川などを利用したもの
- ② 経線や緯線を利用したもの



国境線としては、①山脈・河川・湖沼・海などの地形を利用したもの、②緯線や経線を利用した人為的なものがある。

②の典型例はエジプトの国境線で、経線と緯線に平行に国境線が引かれている。アフリカ大陸には直線的な国境線が多いが、これは、ヨーロッパ諸国が植民地として支配したときに、経線や緯線によって支配地域を分割したなごりである。そのほ

かに、アメリカ合衆国とカナダの国境線も緯線を利用して引かれている。

①の例としては、アンデス山脈沿いに引かれているチリとアルゼンチンの国境がある。河川を国境線としているのはアメリカ合衆国の南部とメキシコ北部の国境などである。

[問題](1 学期中間)

次の各問いに答えなさい。

- (1) カナダとアメリカ合衆国の国境線にはまっすぐな部分がある。この部分は何が国境線になっているか。
- (2) チリは細長い国だが、アルゼンチンとの国境線に何があるのか、答えなさい。

[解答](1) 緯線 (2) アンデス山脈

[問題](1 学期期末)

アメリカ合衆国とカナダの国境の一部で直線となっているところは、何を利用した国境線か。

[解答]緯線

【問題】(1 学期期末)

次の①～③のそれぞれ 2 か国どうしの国境(一部をふくむ)となっているものを, []から1つずつ選びなさい。

- ① チリとアルゼンチンの国境, 中国とネパールの国境
- ② アメリカ合衆国の南部とメキシコ北部の国境, タイとラオスの国境, ブルガリアとルーマニアの国境
- ③ カナダ南部とアメリカ合衆国北部の国境, エジプトとスーダンの国境

[緯線 経線 海 川 山脈]

【解答】① 山脈 ② 川 ③ 緯線

【問題】(1 学期期末)

アメリカ合衆国とカナダの国境線は直線になっている。考えられる理由は次のうちどれか。記号で答えよ。

- ア この線にそって大きな山があるため。
- イ この線にそって大きな川が流れているため。
- ウ 緯線を利用しているため。

【解答】ウ

[問題](2 学期中間)

アメリカ合衆国と国境で接している国を2つ答えなさい。

[解答]カナダ，メキシコ

[問題](1 学期期末)

次の各問いに答えよ。

(1) 右の地図中の A の国名を答えよ。

(2) A の国の国境線が直線となっている理由は何か。次から選べ。



ア この線にそってナイル川という大きな川が流れているため。

イ 19世紀の終わりごろ，ヨーロッパ諸国が占領した地域に勝手に国境線を引いたため。

ウ この線に沿って大きな山が連なっているため。

[解答](1) エジプト (2) イ

[問題](2 学期期末)

エジプトと西側の国との国境は、まっすぐに切り取ったような形をしています。この国境はどのようにして決められたか。簡単に答えなさい。

[解答]経線を利用して決められた。

◆社会地理の各ファイルへのリンク

<http://www.fdtype.com/dp/sc1/index.html>

◆FdData 中間期末の特徴(QandA 方式)

http://www.fdtype.com/dp/qanda_k.html

◆製品版(パソコン Word 文書：印刷・編集用) の価格・購入方法

<http://www.fdtype.com/dp/seihin.html>

※ iPhone でリンク先が開かない場合は、
「iBooks」を開いてリンクをタップください。

【Fd 教材開発】 Mail : info2@fdtype.com