

【FdData 中間期末：中学社会地理】

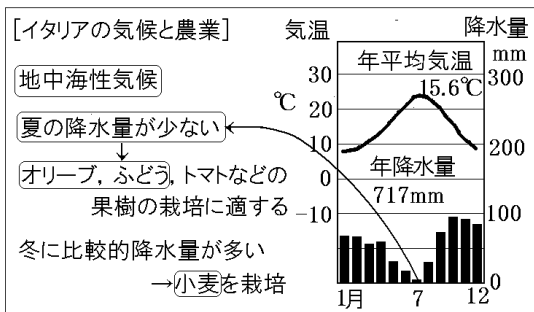
[世界各地のくらしと気候：温帯のくらし]

[問題](2学期中間)

同じ温帯でも、イタリアの気候は日本の気候とは大きく異なる。夏に乾燥し、冬に比較的降水量の多いイタリアの気候を何というか。

[解答]地中海性気候

[解説]



地中海に面したイタリアは^{おんたい}温帯の中の^{ち ちゅうかいせい}地中海性^{きこう}気候である。イタリア中部は、^{れいたい}冷帯に属する北海道と同じくらいの緯度にあるが、1年を通して温暖である。上のローマの雨温図を見ればわかるように、^{つゆ}夏(7月ごろ)の降水量が非常に少ない。(日本のような梅雨はない) 夏に暑くて乾燥する気候は、オリーブ(オリーブオイルの原料)、ふどう(ワインの原料)、^{かじゅ}トマトなどの果樹の栽培に適する。比較的降水量が多い冬に小麦を栽培する。

[問題](1 学期期末)

次の各問いに答えよ。



(1) 地図の X の国名と、Y の海洋名をそれぞれ答えよ。

(2) 次の文章は X 国の気候を説明したものである。①～④にあてはまる語句を答えよ。

(①)は乾燥するが、(②)は比較的雨がふり温暖である。乾燥に強いぶどうや(③)が栽培される。X 国の食事には、ぶどうからつくった(④)や、(③)の実をしぼった(③)オイル、トマトが欠かせない。

(3) X 国の気候は温帯の中でも何という気候に属するか。

(4) X の国の中部は日本のどの地域と同じくらいの緯度か、次の[]から選べ。

[北海道 東京都 鹿児島県]

[解答](1)X イタリア Y 地中海 (2)① 夏
② 冬 ③ オリーブ ④ ワイン (3) 地中海性
気候 (4) 北海道

[問題](前期中間)

次の各問いに答えよ。

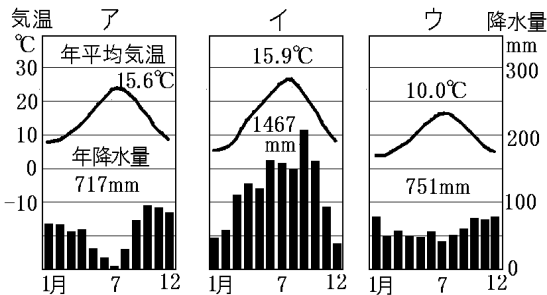
イタリアでは、夏の暑くて乾燥した気候に適した①農作物が栽培されている。イタリアは日本と同じ(②)帯に属するが、日本の6月のような(③)はない。

- (1) 下線部①について、イタリアで広く栽培されている農作物を次の[]から1つ選べ。
[オリーブ ジャガイモ とうもろこし]
- (2) 文中の②, ③に適語を入れよ。

[解答](1) オリーブ (2)② 温 ③ 梅雨

[問題](1 学期中間)

下の雨温図ア～ウはいずれも温帯のものである。
次の各問いに答えよ。



- ア～エの中でイタリアのローマを表す雨温図を1つ選べ。
- (1)のように判断する理由を「降水量」という言葉を使って簡潔に説明せよ。
- ローマのような気候の地域でよく育てられている作物を2つ答えよ。

[解答](1) ア (2) 夏の降水量が少ないから。

(3) ぶどう, オリーブ(トマト)

[解説]

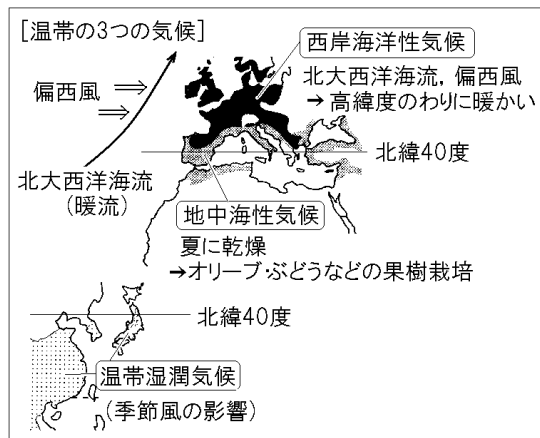
温帯は、さらに、おんたいしつじゅんきこう おんだんしつじゅん 温帯湿潤気候(温暖湿潤気候)、
せいがんかいようせい 西岸海洋性気候、ちちゅうかいせい 地中海性気候の3つに分けられる。アは夏の降水量が少ないことから地中海性気候と判断できる。イは降水量が多く、夏と冬の気温の差も大きいことから温帯湿潤気候(温暖湿潤気候)とわかる。ウは1年を通して平均して雨が降り、夏と冬の気温の差も小さいことから西岸海洋性気候と判断できる。

[問題](後期中間)

温帯を3つに分けた場合の気候区分名を答えよ。

[解答]地中海性気候、西岸海洋性気候、温帯湿潤気候(温暖湿潤気候)

[解説]



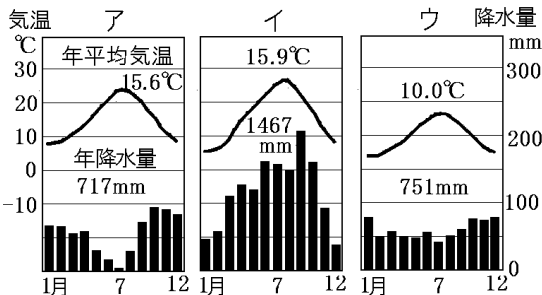
温帯は四季の変化があり、一般に雨が多めで暖かい。そのため、米や小麦などの生産量が多く、牧畜もさかんで、多くの人々が生活している。温帯は、さらに、おんたいしつじゅんきこう 温帯湿潤気候 (温暖湿潤気候), せいがんかいようせい 西岸海洋性気候, ちちゅうかいせい 地中海性気候の3つに分けられる。日本を含むアジアは温帯湿潤気候 (温暖湿潤気候) である。季節風 (モンスーン) の影響を受け、夏は熱帯のように高温多雨であるが、冬は寒さが厳しい。四季の変化がもっとも明確である。

西ヨーロッパの大西洋岸は大西洋を流れる 北

大西洋海流(暖流)とその上を1年じゅう西から
ふく偏西風の影響を受けて、高緯度のわりに温和
な西岸海洋性気候になっている。1年間を通して、
気温や降水量の変化が小さいことが特徴である。
ヨーロッパの地中海沿岸の気候は地中海性気候で
ある。夏の降水量が極端に少ないのが特徴で、夏
の乾燥に耐えられるオリーブ、ぶどう、オレンジ
などの栽培がさかんである。

[問題](1 学期期末)

次の各問いに答えよ。



(1) 同じヨーロッパでも、イギリスはイタリアとは異なる気候である。比較的高緯度でも気温の年較差が小さいのは暖流と風の影響のためである。次の問いに答えよ。

- ① イギリスの気候に影響を与えている風を何というか。
- ② イギリスの気候は温帯の中でも何という気候に属するか。
- ③ ②の気候の雨温図は上のア～ウのどれか。

(2) 日本の東京の気候はイタリアと同じ気候帯に入る。次の問いに答えよ。

- ① 東京の気候は温帯の中でも何という気候に属するか。

- ② 夏は海洋から大陸に，冬は大陸から海洋と風向きが変わり，日本も影響を受ける風を何というか。
- ③ ①の気候の雨温図は上のア～ウのどれか。

[解答](1)① 偏西風 ② 西岸海洋性気候 ③ ウ
(2)① 温帯湿潤気候(温暖湿潤気候) ② 季節風(モンスーン) ③ イ

[解説]

アは夏の降水量が少ないことから地中海性気候と判断できる。イは降水量が多く，夏と冬の気温の差も大きいことから温帯湿潤気候(温暖湿潤気候)とわかる。ウは 1 年を通して平均して雨が降り，夏と冬の気温の差も小さいことから西岸海洋性気候と判断できる。

[問題](2 学期中間)

次の各問いに答えよ。

- (1) 温帯は大きく分けて 3 つの気候に分けられる。その中でも，イギリスなどにみられるような湿潤で，冬が比較的温暖な気候のことを特に何というか。
- (2) (1)の気候に大きな影響を与えている海流名を答えよ。

[解答](1) 西岸海洋性気候 (2) 北大西洋海流

◆社会地理の各ファイルへのリンク

<http://www.fdtype.com/dp/sc1/index.html>

◆FdData 中間期末の特徴(QandA 方式)

http://www.fdtype.com/dp/qanda_k.html

◆製品版(パソコン Word 文書 : 印刷・編集用)
の価格・購入方法

<http://www.fdtype.com/dp/seihin.html>

※ iPhone でリンク先が開かない場合は、
「iBooks」を開いてリンクをタップください。

【Fd 教材開発】 Mail : info2@fdtype.com