

【FdData 中間期末：中学社会地理】

【世界の食事・住居・衣服】

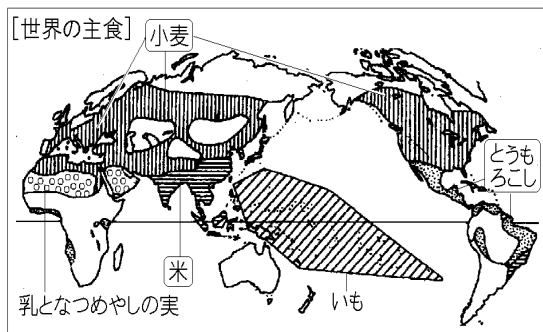
【問題】(2 学期中間)

世界の主食について、以下の各問いに答えよ。

- (1) 雨の多い日本、中国南部、東南アジアなどで栽培され、日本では主に炊いて食べる穀物は何か。
- (2) 雨が比較的少ない地域で栽培され、粉にしてパンなどにする穀物は何か。
- (3) メキシコなどで粉にして練ってうすくのぼして焼いて食べる穀物は何か。

【解答】(1) 米 (2) 小麦 (3) とうもろこし

【解説】



米が主食になっているのは、アジア(日本、中国南部、東南アジア、インド東部など)の雨が多い地域である。炊いて食べるほかに、ベトナムのフォーのように粉にしてめんにして食べることもある。小麦は、ヨーロッパ、北アメリカ、中国北部などで、粉にしてパンやめん(イタリアのパスタ、インドのチャパティなど)にして食べられる。とうもろこしはメキシコなどで粉を練^ねってのぼしたものを焼いたトルティーヤとして食べている。いも類は南太平洋の熱帯の島々ではヤムいも、南アメリカではじゃがいもなどが食べられている。

[問題](2 学期期末)

メキシコで主食になっている食べ物を次の
[]の中から選べ。

[米 小麦 いも類 肉と乳 とうもろこし]

[解答]とうもろこし

[問題](2 学期期末)

いも類を主食とする地域はどの気候帯に最も広く分布しているか。気候帯の名前を答えよ。

[解答]熱帯

[問題](2 学期中間)

以下の A, B の説明にあてはまる料理名を下の [] から 1 つずつ選べ。

A ベトナムでは、米を粉にしてめんを作り写真のようにして食べる。



B 小麦からつくられた、マカロニやスパゲティ。
[ギョウザ キムチ フォー シュウマイ
パスタ ナン]

[解答]A フォー B パスタ

【問題】(1 学期中間)

世界では現在さまざまな食材が手に入るようになり、今まで食べることがなかったものも食べられるようになってきた。その1つにハンバーガーがある。世界のハンバーガーについて説明した次の文の①～③に入る言葉を答えよ。

現在ではハンバーガーショップは世界に広がっているが、地域ごとに特色を残した部分も多い。例えばサウジアラビアにあるハンバーガーショップでは、(①)教の影響で注文コーナーが男性と女性で分けられている。またインドではマハラジャバーガーといって、(②)の肉を一切使わず羊の肉で作ったハンバーガーが売られていたり、韓国では伝統のつけ物である(③)を使ったハンバーガーが売られていたりする。

【解答】① イスラム ② 牛 ③ キムチ

[問題](2 学期期末)

次の住居はどの地域のものか, []から選べ。

①

石の家



(強い日ざしを白い壁で防ぐ)

②

移動式住居



(遊牧用のテント)

③



高床式の家

④

日干しれんがの家



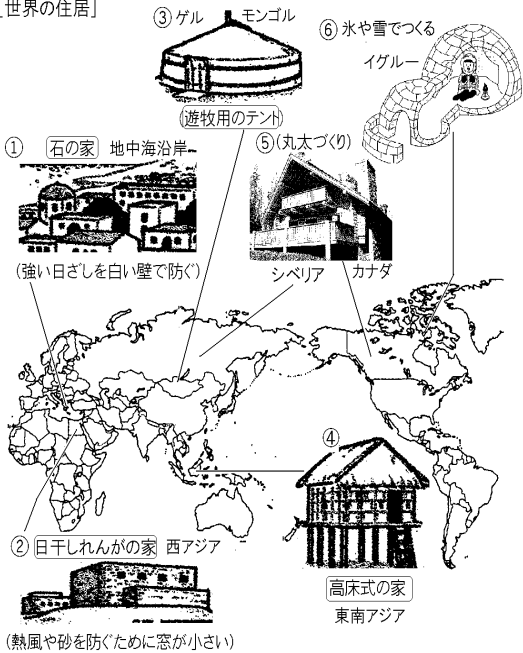
(熱風や砂を防ぐために窓が小さい)

[中央アジア(モンゴル) 東南アジア 西アジア
地中海沿岸]

[解答]① 地中海沿岸 ② 中央アジア(モンゴル)
③ 東南アジア ④ 西アジア

【解説】

[世界の住居]



- ① 地中海沿岸は石の家が特徴的である。強い日差しを白い壁で反射させている。
- ② 西アジアや北アフリカの乾燥帯では木材が手に入らないため、日干しれんがを使っている。外の暑い空気を防ぐために窓を小さくしてい

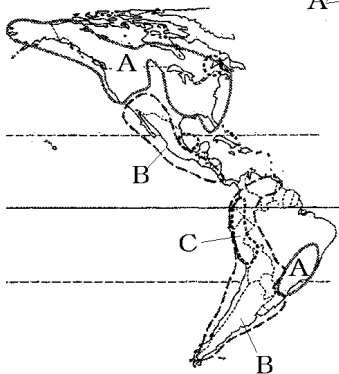
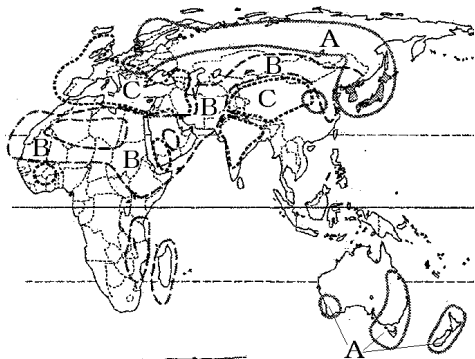
る。また、雨がほとんど降らないため屋根は平らになっている。

- ③ 中央アジアのモンゴルではゲルという住居が特徴的である。木の骨組みに、家畜の毛で作ったフェルトのキャンバスをはってある。家畜のえさとなる草を求めて移動する遊牧生活に適するように、組み立て式になっている。
- ④ 東南アジアの赤道直下の地域では竹とやしの葉を使った高床式たかゆかしきの家が多い。1年じゅう高温で、雨が多い地域にあるため床を高くして湿気を防ぎ、風通しをよくしている。
- ⑤ カナダやロシアのシベリアなどの針葉樹林帯では、丸太作りの家が特徴的である。
- ⑥ 雪と氷に閉ざされた寒帯で生活するイヌイットは、雪のブロックや氷でイグルーという簡易住居を作る。

[問題](2 学期期末)

下の資料中の A~C の地域で家の材料に最も多く使われてきたものを、次の[]の中からそれぞれ選べ。

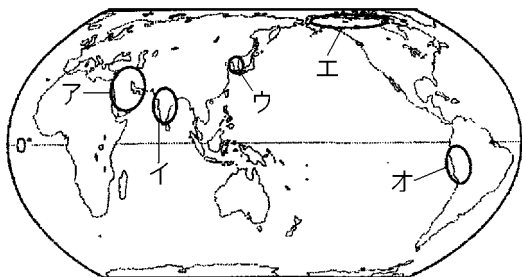
[雪 石 木 土 布]



[解答]A 木 B 土 C 石

[問題](2学期中間)

下のA, Bの伝統的な衣装が見られる地域を、
地図のア～オから1つずつ選べ。



[解答]A ウ B ア

[解説]

[世界の衣服]



韓国の
チマ・チョゴリ



インドの
サリー



イランの
チャドル



ペルーの
ポンチョ




イヌイットの
毛皮のコート



サウジ
アラビア

[問題](2学期中間)

次のア～オの服は地図中の a～d のどの地域で見られるか。それぞれ1つずつ選び、記号で答えよ。



[解答]ア b イ d ウ a エ e オ f

[問題](2 学期期末)

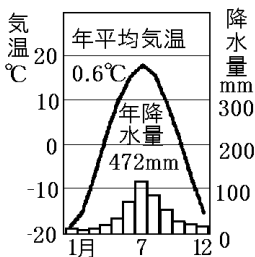
右のグラフで示した地域でみられる衣服について述べたものを、次のア～エから1つ選べ。

ア 砂ぼこりや日ざしを避けるため、全身を白い長そでの服でおおう。

イ ポンチョのような上着を着る。

ウ 風通しのよい木綿や麻などの衣服を着る。

エ 動物の毛皮など保温性のよい材料を使う。



[解答]エ

[解説]

アは乾燥帯、イは南アメリカのペルーの高山気候、ウは熱帯、エは冷帯や寒帯の衣服である。問題の雨温図は冷帯のものである。

[問題](2 学期期末)

次の文の①～④にあてはまる語句を，下の
[]の中から選べ。

- ・世界の住居は，その土地の(①)や(②)
にあった材料が使われている。
- ・衣服には，暑さや寒さ，強い日ざしから(③)
役割がある。
- ・世界各地で主食となる食べ物は，その地域で作
られている(④)と深いかかわりをもってい
る。

[農作物 宗教 生活習慣 身を守る 気候
伝統 儀式 食文化]

[解答]① 気候 ② 生活習慣(①と②は順不同)
③ 身を守る ④ 農作物

【問題】(2 学期中間)

次の A～D の説明文はそれぞれどの地域の伝統的な生活のようすを述べたものか。あてはまるものを下のア～カから 1 つずつ選べ。

- A イヌイットとよばれる人々がカリブーやアザラシをとり、その肉を食料とし、毛皮を防寒具として利用してきた。
- B 多くの家の壁は石でつくられており、降水量の少ない夏にぶどうやオリーブが栽培されている。
- C 屋根をヤシの葉でおおった家に住み、キャッサバやタロイもなどを栽培している。
- D インディオとよばれる人々がじゃがいもやとうもろこしを栽培したり、リヤマやアルパカを飼育したりしている。

ア アンデス山脈

イ 北極海に面したカナダ北部

ウ 南太平洋のフィジー

エ 地中海に面したイタリア

オ サハラさばくのふちにあるサヘル

カ 東南アジアのバンコク

【解答】A イ B エ C ウ D ア

◆社会地理の各ファイルへのリンク

<http://www.fdtype.com/dp/sc1/index.html>

◆FdData 中間期末の特徴(QandA 方式)

http://www.fdtype.com/dp/qanda_k.html

◆製品版(パソコン Word 文書：印刷・編集用)
の価格・購入方法

<http://www.fdtype.com/dp/seihin.html>

※ iPhone でリンク先が開かない場合は、
「iBooks」を開いてリンクをタップください。

【Fd 教材開発】 Mail : info2@fdtype.com