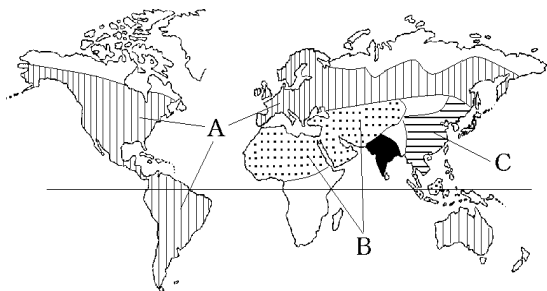


【FdData 中間期末：中学社会地理】

【宗教：分布】

【問題】(2 学期中間)

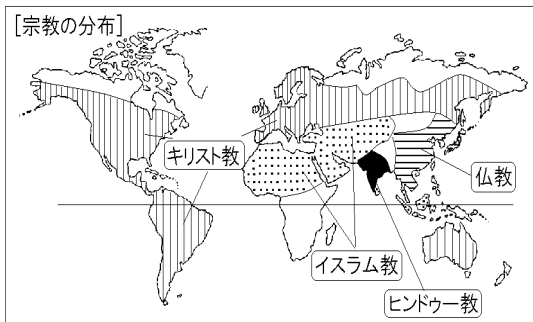
次の地図中の A～C の地域で広く信仰されている宗教をそれぞれ答えよ。



【解答】A キリスト教 B イスラム教 C 仏教

【解説】

【宗教の分布】



世界の三大宗教は、キリスト教、イスラム教、仏教である。そのほかにヒンドゥー教などがある。仏教は紀元前6世紀ごろのインドでシャカが始め、その後、中国や東南アジアに伝わった。しかし、インドでは仏教はおとろえ、ヒンドゥー教が中心となっている。

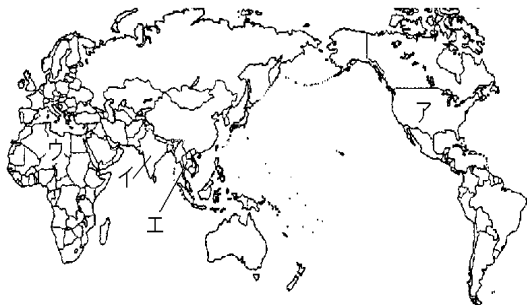
イスラム教は、610年にアラビア半島の商人ムハンマドが始めた宗教である。ムハンマドはアラビア半島を統一し、さらにその後継者^{こうけいしゃ}たちが西は北アフリカから、西アジアや中央アジアにまでいたる巨大なイスラム帝国をつくった。さらに、イスラム商人によって東南アジアの一部(インドネシア、マレーシアなど)に伝えられた。

キリスト教はイエスがユダヤ教をもとにはじめた宗教である。ヨーロッパやロシアで信仰されている。地理上の発見の後、ヨーロッパ人は南アメリカ、北アメリカに進出し、キリスト教をもちこんだ。また、イギリスの植民地となったオセアニアにもキリスト教が広まった。

[問題](1 学期期末)

地図のア～エの地域で信仰されている宗教を下の[]からそれぞれ選べ。

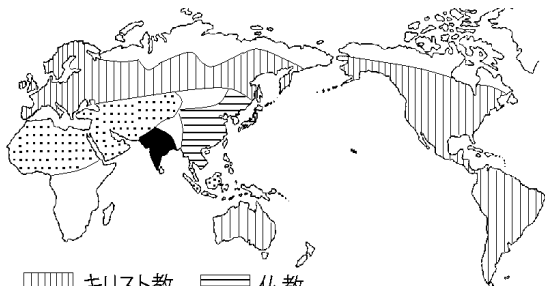
[キリスト教 イスラム教 ヒンドゥー教
仏教]



[解答]ア キリスト教 イ ヒンドゥー教
ウ イスラム教 エ 仏教

[問題](1 学期中間)

下の図は世界の宗教の分布を表している。この図からわかることを説明した次のア～エの中で、間違っているものを1つ選べ。



||||| キリスト教 ≡≡≡ 仏教
●●●● イスラム教 ■■■■■ ヒンドゥー教

- ア この図を見ると、一番多くの州で信仰されているのはキリスト教だとわかる。
- イ ヒンドゥー教は主にインドで信仰されている。
- ウ 仏教は主にアジアの東部で信仰されている。
- エ イスラム教はアジアの西部と、アフリカ大陸のほぼすべての地域で信仰されている。

[解答]エ

[問題](2 学期中間)

次の①～④の地域や国で信者が多い宗教を下の
[]からそれぞれ選べ。

- ① 西アジアや北アフリカ
- ② ヨーロッパや北アメリカ
- ③ タイ, ベトナム
- ④ インド

[キリシト教 仏教 イスラム教
ヒンドゥー教]

[解答]① イスラム教 ② キリシト教 ③ 仏教
④ ヒンドゥー教

[問題](2 学期期末)

- 次のア～エで、正しいものをすべて選べ。
- ア キリシト教は、おもにヨーロッパ州、南・北アメリカ州などに分布している。
 - イ イスラム教は、おもにヨーロッパ州、アフリカ州に分布している。
 - ウ ヒンドゥー教は、おもにアジア州、オセアニア州に分布している。
 - エ 仏教は、おもにアジア州に分布している。

[解答]ア, エ

◆社会地理の各ファイルへのリンク

<http://www.fdtype.com/dp/sc1/index.html>

◆FdData 中間期末の特徴(QandA 方式)

http://www.fdtype.com/dp/qanda_k.html

◆製品版(パソコン Word 文書：印刷・編集用)
の価格・購入方法

<http://www.fdtype.com/dp/seihin.html>

※ iPhone でリンク先が開かない場合は、
「iBooks」を開いてリンクをタップください。

【Fd 教材開発】 Mail : info2@fdtype.com