

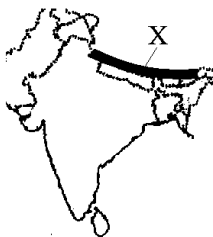
【FdData 中間期末：中学社会地理：アジア】

【地形・国名】

【問題】(2 学期中間)

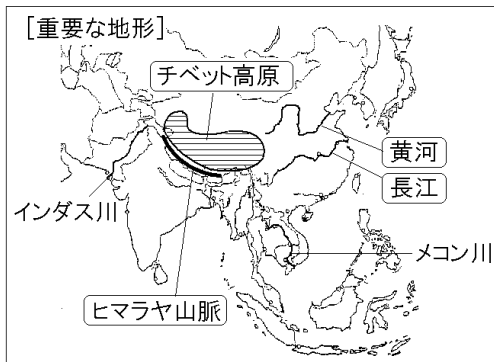
次の各問いに答えよ。

- (1) X の山脈の名前を答えよ。
- (2) (1)の山脈の北部に広がる高原の名前を答えよ。



【解答】(1) ヒマラヤ山脈 (2) チベット高原

【解説】

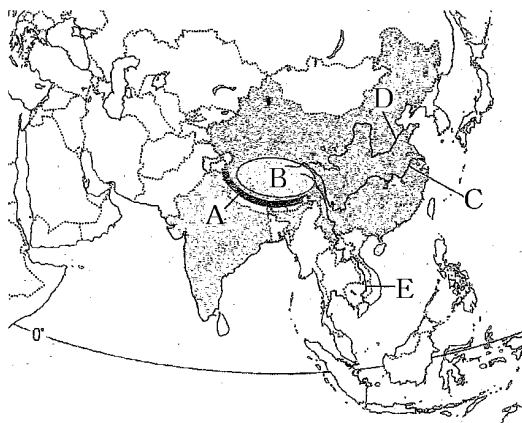


アジアの中央には 8000mをこえるヒマラヤ山脈がそびえ、その北側には「世界の屋根」ともいわれるチベット高原が広がっている。

それらの山地から、東には長江、黄河、西にはインダス川、南にはメコン川などの大河川が流れ出ている。

[問題](2学期中間)

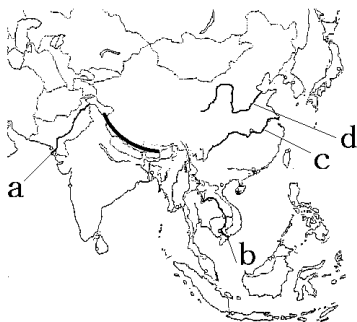
次の地図の A の山脈、B の高原、C～E の河川
の名称を答えよ。



[解答]A ヒマラヤ山脈 B チベット高原
C 長江 D 黄河 E メコン川

[問題](2 学期期末)

次の各問いに答えよ。

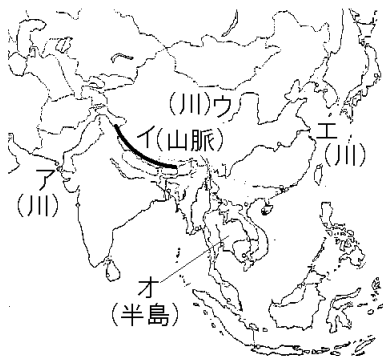


- (1) a～d の河川名を，それぞれ書け。
- (2) a～d の河川が流れ出す高原を何というか。

[解答](1)a インダス川 b メコン川 c 長江
d 黄河 (2) チベット高原

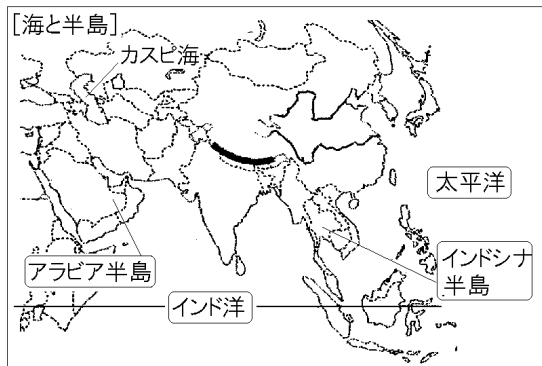
[問題](前期期末)

次の地図中のア～オの地形の名称を答えよ。



[解答]ア インダス川 イ ヒマラヤ山脈
ウ 黄河 エ 長江 オ インドシナ半島

[解説]

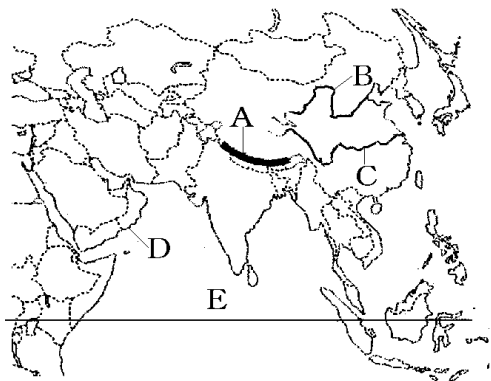


ユーラシア大陸に位置するアジア州をとりまく
大洋は、^{たいよう}太平洋と^{たいへいよう}インド洋である。

海に突き出た半島^{はんとう}としては、アラビア半島やインドシナ半島などがある。

[問題](2学期中間)

アジア州を示した次の地図のAの山脈、BとCの河川、Dの半島、Eの海洋の名をそれぞれ答えよ。

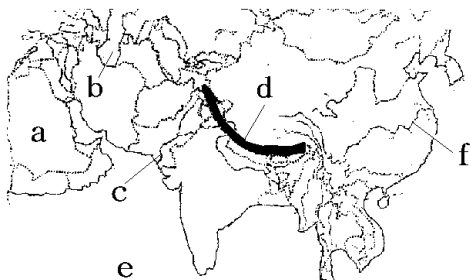


[解答]A ヒマラヤ山脈 B 黄河 C 長江
D アラビア半島 E インド洋

[問題](2学期期末)

地図中の a～f にあてはまるものを、下の [] からそれぞれ選べ。

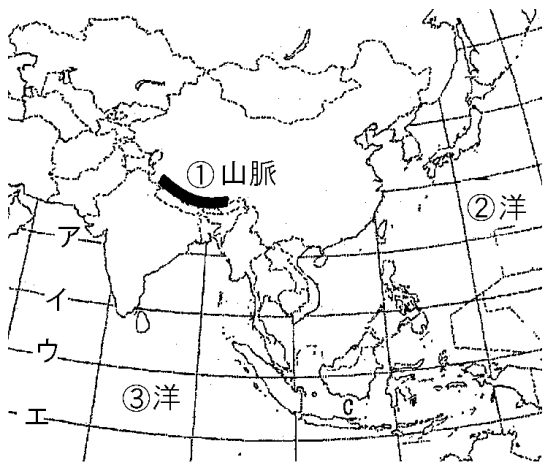
[ヒマラヤ山脈 アルプス山脈 アラビア半島
カスピ海 長江 インダス川 ガンジス川
大西洋 インド洋]



[解答] a アラビア半島 b カスピ海 c インダス川
d ヒマラヤ山脈 e インド洋 f 長江

[問題](前期期末)

次の地図を見て、各問いに答えよ。



- (1) アジアの多くの国々が位置している大陸名を書け。
- (2) 地図中のア～エのうち、赤道を表している線の記号を書け。
- (3) 地図中の①～③の地形名を書け。

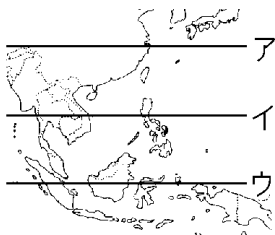
[解答](1) ユーラシア大陸 (2) ウ
(3) ① ヒマラヤ ② 太平 ③ インド

[解説]

赤道は南アメリカ大陸のアマゾン川流域^{りゅういき}、アフリカ大陸のギニア湾^{わん}、東南アジアのシンガポール付近を通っている。

[問題](2 学期期末)

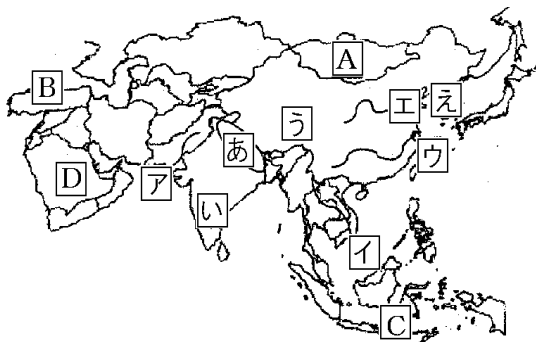
次の地図中のア～ウの緯線のうち、赤道を示しているものはどれか。



[解答]ウ

[問題](2学期中間)

次の地図を見て各問いに答えよ。

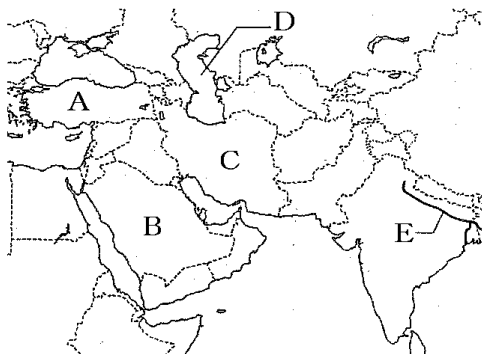


- (1) A～Dの国名を答えよ。
- (2) ア～エの河川名を答えよ。
- (3) あ～えの山脈・高原・高原・半島を答えよ。

[解答](1)A モンゴル B トルコ C インドネシア
D サウジアラビア (2)ア インダス川
イ メコン川 ウ 長江 エ 黄河
(3)あ ヒマラヤ山脈 い デカン高原
う チベット高原 え 朝鮮半島

[問題](2学期中間)

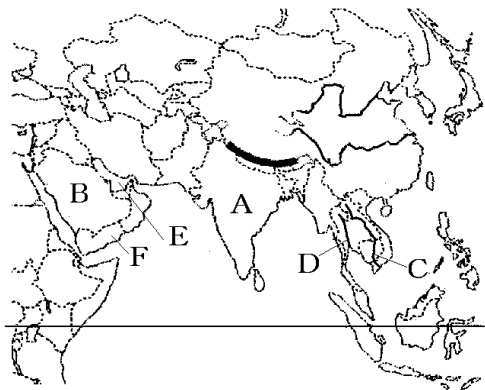
次の地図の A, B, C の国名と, D, E の地形名を答えよ。



[解答]A トルコ B サウジアラビア C イラン
D カスピ海 E ガンジス川

[問題](2学期中間)

次の地図の A, B の国名, C, D の河川名, E の湾名, F の半島名を答えよ。



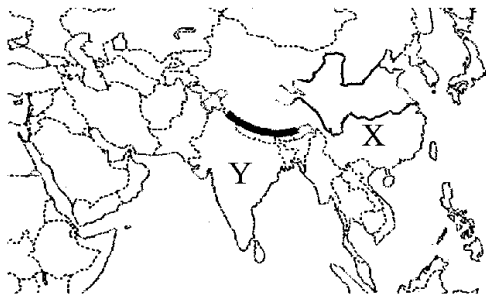
[解答]A インド B サウジアラビア

C メコン川 D チャオプラヤ川 E ペルシヤ湾

F アラビア半島

[問題](2学期中間)

下の地図のXとYの国は人口が10億人をこえている。XとYの国名を答えよ。
ただし、Xの国名は正式名称で答えること。



[解答]X 中華人民共和国 Y インド

[問題](2学期中間)

次の各問いに答えよ。

(1) アジア州の最東端の国の名前を次の[]から選べ。

[日本 大韓民国

朝鮮民主主義人民共和国 インド]

(2) アジア州の最西端の国の国名を次の[]から選べ。

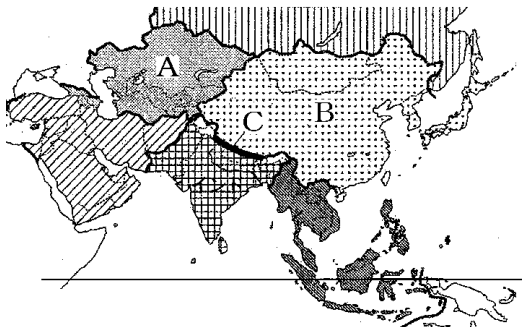
[ドイツ サウジアラビア トルコ

ヨルダン]

[解答](1) 日本 (2) トルコ

[問題](2 学期期末)

下の資料はアジアを細かく区分している。A, B の地域名と C の山脈名を答えよ。

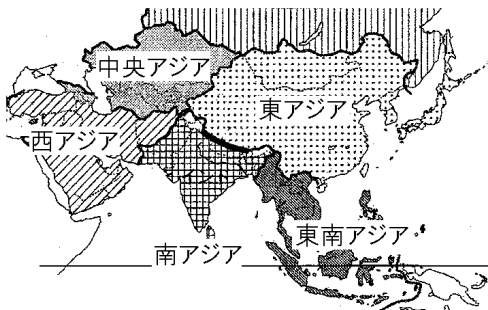


[解答]A 中央アジア B 東アジア

C ヒマラヤ山脈

[解説]

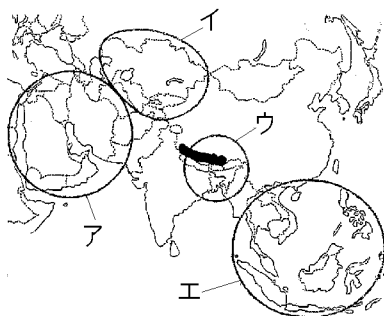
[アジア州の区分]



アジア州は、東アジア、東南アジア、南アジア、西アジア、中央アジア、シベリア地方に区分される。

[問題](2学期中間)

次の各問いに答えよ。



- (1) 中央アジアとよばれる地域を地図中のア～エから1つ選べ。
- (2) 中央アジアに属する国を次から1つ選べ。
[パキスタン カザフスタン
バングラデシュ トルコ]

[解答](1) イ (2) カザフスタン

[問題](前期期末)

次に示した A~H の国は、東アジア、東南アジア、西アジア、中央アジア、南アジアのどの地域にある国か、それぞれ答えよ。

- A インド B ウズベキスタン
C トルコ D 大韓民国 E ベトナム
F イラン G 日本 H ミャンマー

[解答]A 南アジア B 中央アジア C 西アジア
D 東アジア E 東南アジア F 西アジア
G 東アジア H 東南アジア

◆社会地理の各ファイルへのリンク

<http://www.fdttext.com/dp/sc2/index.html>

◆FdData 中間期末の特徴(QandA 方式)

http://www.fdttext.com/dp/qanda_k.html

◆製品版(パソコン Word 文書：印刷・編集用)
の価格・購入方法

<http://www.fdttext.com/dp/seihin.html>

※ iPhone でリンク先が開かない場合は、
「iBooks」を開いてリンクをタップください。

【Fd教材開発】 Mail : info2@fdtext.com