

# 【FdData 中間期末：中学社会地理：アジア】

## 【農業】

### 【問題】(2 学期期末)

地図中のXの地域で栽培がさかんで、主食となっている農産物は何か。



【解答】米

【解説】

### 【アジアの稲作地帯】

季節風→降水量が多い→稲作



東アジアから南アジアにかけての平野部は、きせつふう季節風(モンスーン)の影響でこうすいりょう降水量が多く、いなさく稲作が行われている。中国ではちょうこう長江流域やそれより南、東南アジアではタイ、ベトナム、ミャンマーなど、

インドでは東部(ガンジス川流域)などで稲作がさかんである。

[問題](2 学期中間)

中国の長江流域やそれより南でさかんな農業は何か。

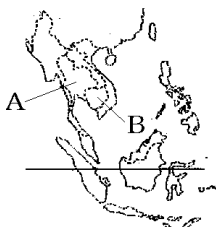
[解答]稲作

[問題](2 学期中間)

次の各問いに答えよ。

- (1) 右の地図中の A や B の国で多く生産される農作物を次から選べ。

[ 小麦 米 大麦  
いも ]



- (2) 同じ土地で、年に2回同じ作物をつくることを何というか。

[解答](1) 米 (2) 二期作

## [解説]

[東南アジアの稲作]

米の 二期作

かんがい設備 の整備 → 増産

東南アジアでは、年に2回米を収穫<sup>しゅうかく</sup>する二期作<sup>にきさく</sup>が行われている。1970年代に、南アジアや東南アジアでは、かんがい設備<sup>せつび</sup>の整備などで米の増産が進んだ。

## [問題](2 学期中間)

次の各問いに答えよ。


- (1) 東南アジアの大河川の流域などでおもに生産されている農作物は何か。
- (2) 1970年代に入ると、南アジアや東南アジアでは(1)の農作物の増産が進んだ。その理由としては農業の近代化があげられるが、特に耕地に水を運べるように整備したことが大きい。下線部の設備を何設備というか。
- (3) (1)の作物を年に2度収穫する農業を何というか。漢字で書け。

[解答](1) 米 (2) かんがい設備 (3) 二期作


[問題](2学期中間)

次のグラフは、米の生産と輸出の割合を表している。生産1, 2位の国が、輸出の1, 2位になっていないのはなぜか、その理由を簡潔に答えよ。

生産(2010年)



輸出(2009年)



[解答]中国やインドは人口が多いため国内の消費も多いから。

[解説]

[米の生産国と輸出国の違い]

〔米の生産国：中国(1位), インド(2位)〕

〔米の輸出国：タイ(1位)〕

中国とインドは人口が多い



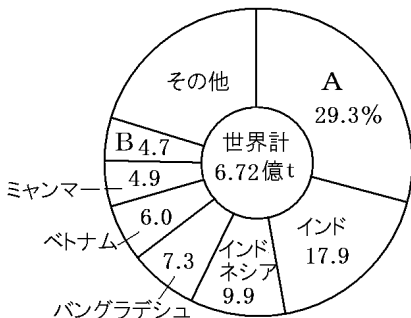
生産は多いが、輸出は少ない

グラフのように、米の生産が多いのは中国とインドである。しかし、中国とインドは人口が多いため国内の消費も多く、生産した米のほとんどを国内で消費するため、輸出量は少ない。米の輸出が多いのは、東南アジアのタイ(世界1位)やベトナムである。

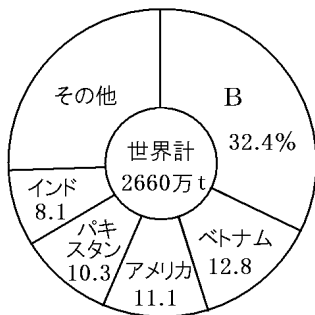
[問題](2 学期期末)

次の各問いに答えよ。

生産(2010年)



輸出(2009年)



- (1) 上のグラフは米の国別生産量と輸出量を示している。A, Bの国名を書け。
- (2) 米の生産量の多い国と、輸出量が多い国が異なる理由を、簡単に書け。

(3) 東南アジアでは、年に2回米を収穫する稲作がさかんに行われている。これを何とつか。

[解答](1)A 中国 B タイ (2) 人口が多い国では、国内の消費も多いから。 (3) 二期作

[問題](前期期末)

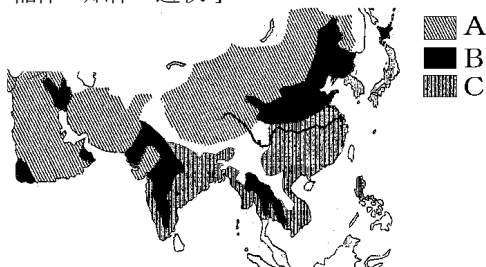
中国とインドでは米と小麦の生産量は多いが輸出はさかんではない。その理由を説明せよ。

[解答]中国とインドは人口が多く、生産した米や小麦のほとんどを国内で消費するため。

[問題](2 学期中間)

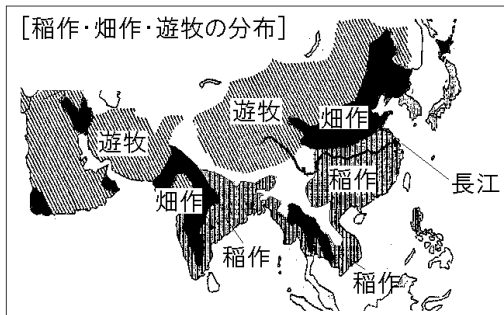
次の地図のA～Cの地域で行われている農業を [ ]から1つずつ選べ。

[ 稲作 畑作 遊牧 ]



[解答]A 遊牧 B 畑作 C 稲作

[解説]



東アジアから南アジアにかけての平野部は、  
季節風(モンスーン)の影響で降水量が多いため  
稲作がさかんである。中国北部やインド西部など  
降水量があまり多くない地域では畑作(小麦, 綿花  
など)がおこなわれている。

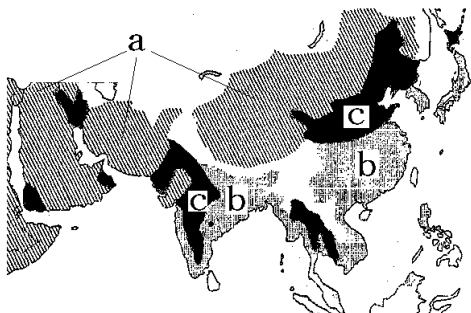
西アジア, 中央アジア, 中国西部などの乾燥地帯  
では, 羊などの遊牧がおこなわれている。ただし,  
地下水や大きな川の水が利用できるオアシスでは,  
なつめやしや小麦などを栽培している。サウジアラビア  
では, 地下水をくみあげてセンターピボット(右図)  
で散水する農業もおこなわれている。





[問題](前期期末)

次の地図はアジアの農業の分布を表している。

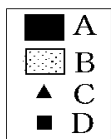


- (1) 地図中の a～c の地域で行われている農業を次の[ ]からそれぞれ選べ。  
[ 稲作 畑作 遊牧 ]
- (2) このような地域による農業のちがいは何と関係が深いか。漢字3文字で答えよ。

[解答](1)a 遊牧 b 稲作 c 畑作 (2) 降水量

[問題](2 学期期末)

次の各問いに答えよ。

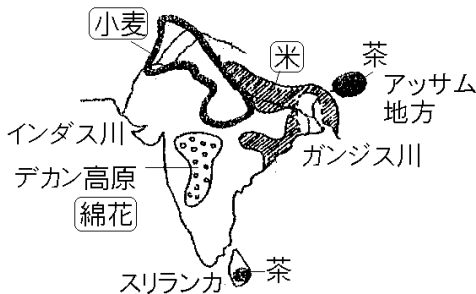


- (1) 上の地図は、南アジアで栽培がさかんな農産物の分布を示している。A～D にあてはまる農産物を、次からそれぞれ選べ。  
[ 大豆 とうもろこし 綿花 米  
小麦 茶 ]
- (2) 毎年洪水にみまわれる、ガンジス川下流のバングラデシュでは、増水量にともなって茎が伸びる稲が育てられている。この稲を何というか。
- (3) 乾燥した地域にみられる、さばくの中で水のわき出るところを何というか。
- (4) (3) のようなところを中心に栽培されていて、主食や菓子などの材料につかわれる、乾燥に強い農産物は何か。

[解答](1)A 米 B 小麦 C 綿花 D 茶

(2) 浮稻(浮き稲) (3) オアシス (4) なつめやし

[解説]



インドの農業分布は、<sup>こうすいりょう</sup>降水量と密接な関係がある。米は年降水量 1000mm以上の地域(ガンジス川流域など)で多く生産されている。降水量が 500mm ~1000mmの地域(インダス川流域など)では、<sup>かんそく</sup>乾燥した気候に適した小麦の栽培が行われている。デカン高原では<sup>めんか</sup>綿花の栽培がさかんである。アッサム地方やスリランカでは茶の栽培がさかんである。

[問題](2学期中間)

西アジアでよくみられる、羊などの家畜をとめない、家畜とともに移動する農業を何というか。漢字2字で答えよ。

[解答]遊牧

[問題](2学期中間)

北アフリカ～西アジアの地域にあるさばくの中には、水が得られ、樹木の育っているところがあり、そこでは、集落や畑が見られて隊商の中継地や保養地ともなっている。このような場所を何というか、カタカナ4字で書け。

[解答]オアシス

[問題](前期期末)

サウジアラビアでは右の写真のようなセンターピットとよばれるしくみで農業が行われている。この際の農業に必要な水はどこから入手しているか。



## [解答]地下水

### ◆社会地理の各ファイルへのリンク

<http://www.fdtype.com/dp/sc2/index.html>

### ◆FdData 中間期末の特徴(QandA 方式)

[http://www.fdtype.com/dp/qanda\\_k.html](http://www.fdtype.com/dp/qanda_k.html)

### ◆製品版(パソコン Word 文書：印刷・編集用) の価格・購入方法

<http://www.fdtype.com/dp/seihin.html>

※ iPhone でリンク先が開かない場合は、  
「iBooks」を開いてリンクをタップください。

【Fd 教材開発】 Mail : [info2@fdtype.com](mailto:info2@fdtype.com)