

【FdData 中間期末：中学社会地理：アジア】

【中国の経済成長】

【問題】(2 学期期末)

右図の▲は、外国の資本や技術の導入を目的に、税金を安くするなどの特別なあつかいをあたえている5都市・地域を表している。これを何とよぶか。



【解答】経済特区

【解説】

【経済特区】



中国：資金と技術を導入する目的
外国企業：労働者の賃金が安い

中国は、日本やアメリカなどの先進国から資金と技術を導入して工業の発展をはかるため、1979年にシェンチェンやアモイなどを経済特区に指定した。日本やアメリカの企業にとって、労働者の賃金^{ちんぎん}が安くかつ労働力が豊富である中国へ進出する利益が大きかったため、あいついで進出を行った。(現在は、経済成長で豊かになった中国国内向けの工業製品を生産するために進出する外国企業も増えている。)

指定された地区はいずれも沿海部^{えんかいぶ}である。これは、沿海部のほうが、原料等の輸入や製品の輸出にかかる輸送費用が安くてすむためである。(陸上輸送の費用は海上輸送費用よりはるかに高い) その後、沿海部を中心に工業化、経済成長が進んだ。

[問題](2 学期期末)

次の各問いに答えよ。

- (1) 右の地図中の▲は外国企業を受け入れるために設けられた区域である。何かというか。
- (2) 中国では沿海部と内陸部のどちらの経済が発達しているか。



[解答](1) 経済特区 (2) 沿海部

[問題](1 学期中間)

中国の沿海部で工業化が進んでいる理由を、「経済特区」という言葉を使って答えよ。

[解答]輸出入という有利な立地条件にある沿海部を経済特区に指定して外国企業を受け入れ、その後も沿海部を中心に工業化が進んだから。

[問題](前期期末)

中国や東南アジアの国々では近年外国の企業の進出がいちじるしい状態にある。その理由を2つあげて説明せよ。

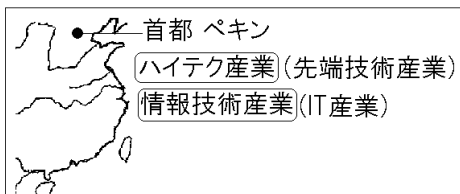
[解答]賃金が安く豊富な労働力があること。アジア市場に近いこと。

[問題](2 学期中間)

中国の首都である()では、ハイテク産業やIT産業がさかんである。

[解答]ペキン

[解説]



中国の首都であるペキンでは、ハイテク産業^{せんたん}(先端技術産業)や情報技術産業(IT産業)が発達している。ハイテク産業(先端技術産業)とは、コンピューターなどの電子機器、ロボットのような工作機械、ニューセラミックスのような新しい素材を生産する、高度な知識と技術にもとづく産業である。情報技術産業(IT産業)とは、^{けいたい}携帯電話やコンピューターなどの機器や通信サービスなどにかかわる産業である。

[問題](1 学期中間)

ペキンを中心とする地域でさかんな産業を2つ答えよ。

[解答]ハイテク産業(先端技術産業), 情報技術産業(IT 産業)

[問題](2 学期中間)

中国では沿海部のシェンチェンやアモイなどが経済成長し、工業化を進めてきた。首都のペキンには、政府機関や大学が集中し、(①)や(②)が発達している。

- (1) 下線部が経済成長した方法を「経済特区」という言葉を用いて答えよ。
- (2) ①, ②にあてはまる産業を答えよ(順不同)。

[解答](1) 中国はシェンチェンなどを経済特区に指定し、先進国から資金と技術を導入して工業の発展をはかった。(2)① ハイテク産業(先端技術産業) ② 情報技術産業(IT 産業)(①と②は順不同)

[問題](2 学期期末)

次の①, ②の産業をそれぞれ何というか。

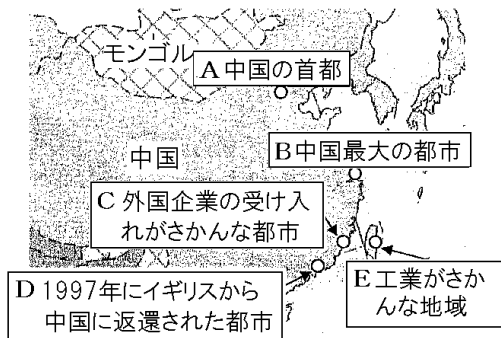
- ① 携帯電話やコンピューターなどの機器や通信サービスなどにかかわる産業
- ② コンピューターなどの電子機器, ロボットのような工作機械, ニューセラミックスのような新しい素材を生産する, 高度な知識と技術にもとづく産業

[解答]① 情報技術産業(IT 産業) ② ハイテク産業(先端技術産業)

[問題](2 学期期末)

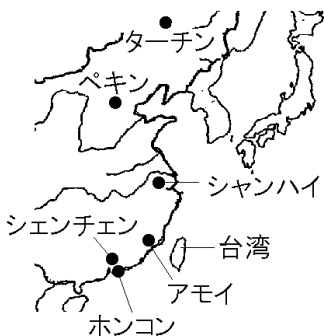
下の地図中のA~Eの都市や地域の名前を次の[]から1つずつ選べ。

[ホンコン アモイ 台湾 ペキン シーアン シャンハイ]



[解答]A ペキン B シャンハイ C アモイ
D ホンコン E 台湾

[解説]



Bはシャンハイで、中国最大の都市で、大きな貿易港がある。Cはアモイでシェンチェンとともに経済特区に指定され、外国企業が進出して発展した都市である。Dはホンコンで 1997 年にイギリスから中国に返還された都市である。Eは台湾で、コンピューターや半導体などのハイテク産業がさかんである。台湾では、アメリカのシリコンバレーで活躍した人々によってハイテク産業がさかんになった。

[問題](1 学期中間)

台湾では、アメリカの()で活躍した人々によってハイテク産業がさかんになった。()に地域名を入れよ。

[解答]シリコンバレー

[問題](2 学期中間)

次の各問いに答えよ。



(1) 次の①～③に適する都市を地図中のA～Cから選び、都市名も答えよ。

- ① 中国の首都であり、工業が発展している。
- ② 中国最大の都市で、大貿易港があり、海外との貿易がさかんである。
- ③ 大きな油田のある都市である。

- (2) 地図中のアモイやシェンチェンは海外資本や技術を導入するために開発された都市である。このような地区を何とというか。
- (3) A の都市を中心に発達している産業は IT 産業ともう 1 つは何産業か。

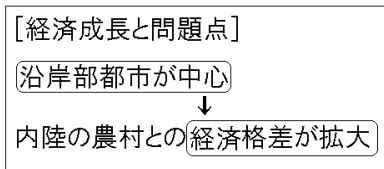
[解答](1)① A, ペキン ② C, シャンハイ
③ B, ターチン (2) 経済特区 (3) ハイテク産業(先端技術産業)

[問題](2 学期期末)

中国国内の経済問題を「沿海部」「内陸部」の語句を用いて書け。

[解答]内陸部では所得水準が低いままで、沿海部との経済格差が広がっている。

[解説]



がいしどうにゆう

外資導入などの改革開放政策により、1990年代から、中国は高い経済成長を続け、現在では「世界の工場」を自負するまでになっている。

しかし、経済成長の中心は沿海部の都市で、内陸部、とくに農村は貧しいままになっている。沿海部都市と農村部の経済格差は拡大し続けており、農民の不満は深刻な問題になっている。

内陸部の農村と沿海部の都市では所得の格差があるため、農村から都市へ出かせぎへ行く人が増えている。しかし、中国では建国以来の戸籍制度で、農村から都市への移住を厳しく制限してきた。現在でも、例えば、農民が都市へ移住した場合、戸籍を移せないために、子どもを小学校に入れてくれない、社会保障を受けられないなどの不利益を受ける。また、都市の戸籍をもたないことを理由に、給料の安い働き場所しかないなどの問題がある。また、急激な経済成長と営利第一の考え方により、大気汚染や河川などの水質汚濁などの環境問題が深刻化している。

[問題](2 学期中間)

中国の沿海部と内陸部の間にはどのような問題が起きているか。

[解答]内陸部と沿海部の経済格差が大きくなっている。

[問題](2 学期中間)

経済が発展した中国の問題として正しいものを次のア～エから1つ選べ。

- ア 都市から農村部へと人口が流出している。
- イ 内陸部と沿海部の経済格差が大きくなっている。
- ウ 華人が国外で活躍する機会が減少している。
- エ 一人っ子政策が行われている現在でも、人口の増加率がインドよりも高い。

[解答]イ

[問題](2 学期中間)

最近の中国のようすについて述べた文のうち、正しくないものを次のア～エから 1 つ選べ。

- ア 中国は急速に工業が発展し、「世界の工場」とよばれている。
- イ 賃金の高い沿海部への出かせぎが増えている。
- ウ 環境対策がとられているため、公害問題は起こっていない。
- エ 中国では地域間の経済格差が広がり、問題となっている。

[解答]ウ

[問題](1 学期中間)

経済の発展した中国がかかえる問題として適するものを、次のア～エから 1 つ選べ。

- ア 都市から農村部へと人口が流出している。
- イ 内陸部と沿海部との経済格差が大きくなっている。
- ウ 華人が国外で活躍する機会が減少している。
- エ 工業団地が減少し、都市圏が縮小している。

[解答]イ

◆社会地理の各ファイルへのリンク

<http://www.fdtype.com/dp/sc2/index.html>

◆FdData 中間期末の特徴(QandA 方式)

http://www.fdtype.com/dp/qanda_k.html

◆製品版(パソコン Word 文書：印刷・編集用)
の価格・購入方法

<http://www.fdtype.com/dp/seihin.html>

※ iPhone でリンク先が開かない場合は、
「iBooks」を開いてリンクをタップください。

【Fd 教材開発】 Mail : info2@fdtype.com