

【FdData 中間期末：中学社会地理：アジア】

【西アジア・中央アジア】

【問題】(2 学期中間)

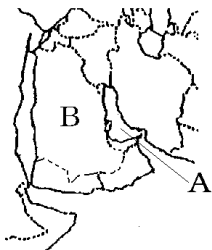
次の各問いに答えよ。

(1) A の湾の名前を答えよ。

(2) A の湾の周辺で採掘される地下資源は何か。

(3) B は、日本が最も多くの(2)を輸入している国である。この国の名前を答えよ。

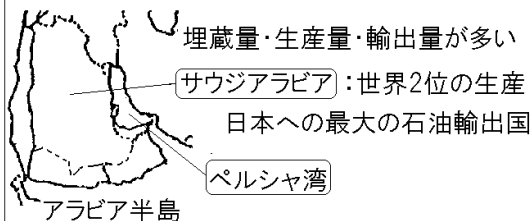
(4) (3)の国が位置している半島全体の名前を答えよ。



【解答】(1) ペルシャ湾 (2) 石油 (3) サウジアラビア (4) アラビア半島

[解説]


[ペルシャ湾沿岸の石油]



世界の石油埋蔵量の約半分は、ペルシャ湾沿岸を中心とする一帯に集中している。また、石油の生産量・輸出量ともにペ

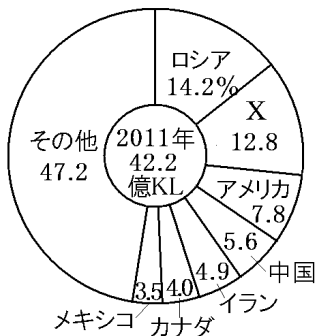
ルシャ湾沿岸の産油国きんゆこくが大きな割合を占めている。日本の石油輸入の約8割はペルシャ湾沿岸の国々からである。その中でも多いのが、サウジアラビアである。サウジアラビアはロシアに次ぐ世界第2位の産油国(2011年)であり、石油埋蔵量まいぞうりょうは世界1位である。

日本の石油の輸入先



[問題](2学期中間)

次の図は石油の生産を示したグラフである。
図中の X にあてはまる国名を答えよ。



[解答]サウジアラビア

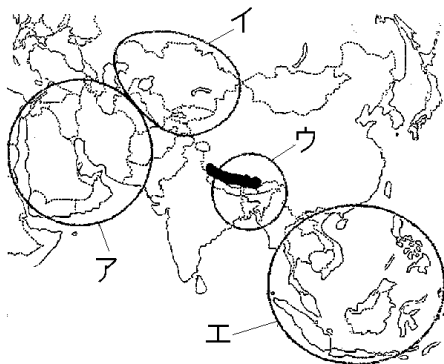
[問題](1学期期末)

サウジアラビアやイランで多く産出される鉱産資源は何か。

[解答]石油

[問題](2学期中間)

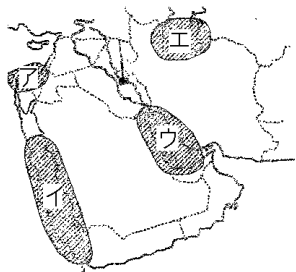
日本が石油の多くを輸入している地域を下の地図中のア～エから1つ選べ。



[解答]ア

[問題](2学期期末)

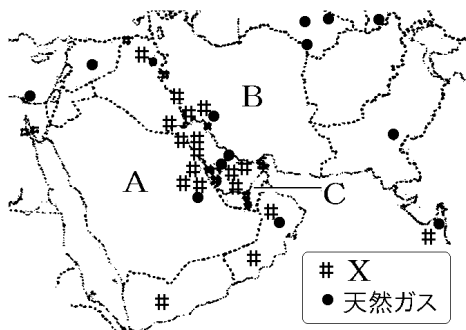
西アジアには世界最大の油田地帯があるが、それはど
の一带か、地図のア
～エから選べ。



[解答]ウ

[問題](1 学期中間)

次の各問いに答えよ。



- (1) 上の資料の A~C の国名をそれぞれ答えよ。
- (2) 資料中の X の資源名を答えよ。
- (3) (2)の資源を輸出している西アジアなどの国々が 1960 年に結成した組織の名を書け。

[解答](1)A サウジアラビア B イラン

C アラブ首長国連邦 (2) 石油 (3) OPEC(石油輸出国機構)

【解説】

かつて、西アジア
の油田を開発した

OPEC(石油輸出国機構)

のは、メジャーとよばれるアメリカやイギリスなどの石油会社であった。メジャーは産油国さんゆこくに対してわずかな利権料を支払うだけであったので、産油国は貧しいままの状態に置かれていた。そこで、産油国はメジャーとの石油価格の交渉を有利に進めるため、1960年にOPEC(石油輸出国機構きこく)を結成し、70年代になると、石油産業の国有化や、価格引き上げをおこなうようになった。

1973年、イスラエルとアラブ諸国の間で第四次中東戦争がおこった。アラブ諸国は、イスラエルを支持する先進国に対抗するため、石油の輸出を制限し、その価格を大きく引き上げた。石油価格の高騰こうとうによって、ヨーロッパ諸国や日本では物価が高騰こうとうし、経済が混乱して世界的な不況にみまわれた。これを石油危機という。

[問題](2 学期期末)

西アジアなどの石油を産出する国々で設立された、産油国の組織を何というか。

[解答]OPEC(石油輸出国機構)

[問題](2 学期中間)

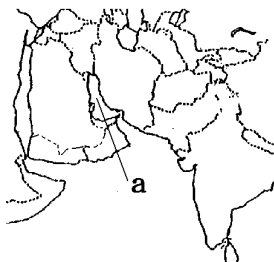
次の各問いに答えよ。

- (1) 西アジアの産油国などが加盟している石油輸出国機構の略称を、アルファベットで答えよ。
- (2) (1)の機構が設立された目的を[交渉 メジャー]という語句を使って簡潔に説明せよ。

[解答](1) OPEC (2) メジャーとの石油価格の交渉を有利に進めるため。

[問題](2 学期期末)

次の各問いに答えよ。



- (1) 世界有数の石油の産出国が集中している，地図中の a の湾を何というか。
- (2) 西アジアの産油国は，何という組織をつくって，世界の石油価格をコントロールするようになったか。アルファベットで書け。

[解答](1) ペルシヤ湾 (2) OPEC

[問題](2 学期中間)

次の文の①，②に適語を入れよ。

西アジアの国々は(①)を設立し，(②)を輸出した利益で工業化や農業の改善を行っている。

[解答]① OPEC(石油輸出国機構) ② 石油

[問題](2 学期中間)

アジアの工業について、①～⑥にあてはまる語句をそれぞれ答えよ。

タイやマレーシアなどでは(①)をつくって外国企業を積極的に受け入れ、工業化を進めてきた。情報・通信技術が世界中で発達する中で、インドの(②)産業なども発展している。西アジアのサウジアラビアなどでは大量にとれる(③)を輸出することで経済発展をしている。中国の工業製品は世界で大きな割合をしめ、「世界の(④)」とよばれるようになった。1980年代から、外国企業を受け入れる(⑤)を沿海部に設け、外国企業が進出したため急速に工業化が進んだが、地域間の(⑥)の拡大が問題になっている。

[解答]① 工業団地 ② 情報技術(IT) ③ 石油
④ 工場 ⑤ 経済特区 ⑥ 経済格差

[問題](1 学期中間)

中央アジアでは、世界的に埋蔵量が少なく重要な希少金属が産出される。この希少金属をカタカナで何というか。

[解答]レアメタル

[解説]

中央アジアでは、世界的に埋蔵量が少なく貴重な希少金属(レアメタル)が産出

[中央アジア]

希少金属(レアメタル)

シルクロード(歴史遺産)

される。また、中央アジアには、中国とヨーロッパを結んだ古代の交易路(シルクロード)の歴史遺産が多く、観光客が増えている。

[問題](2 学期中間)

次の各問いに答えよ。

- (1) 中央アジアでは、世界的に埋蔵量が少なく貴重な希少金属が産出される。この希少金属をカタカナで何と書くか。
- (2) 中央アジアには、中国とヨーロッパを結んだ古代の交易路の歴史遺産が多く、観光客が増えている。この交易路を何というか。

[解答](1) レアメタル (2) シルクロード

[問題](2 学期期末)

古代に中国とヨーロッパを結び、現在も中央アジアにさまざまな歴史的遺跡が残る交易路を何と
いうか。

[解答]シルクロード

◆社会地理の各ファイルへのリンク

<http://www.fdtype.com/dp/sc2/index.html>

◆FdData 中間期末の特徴(QandA 方式)

http://www.fdtype.com/dp/qanda_k.html

◆製品版(パソコン Word 文書：印刷・編集用) の価格・購入方法

<http://www.fdtype.com/dp/seihin.html>

※ iPhone でリンク先が開かない場合は、
「iBooks」を開いてリンクをタップください。

【Fd 教材開発】 Mail : info2@fdtype.com