

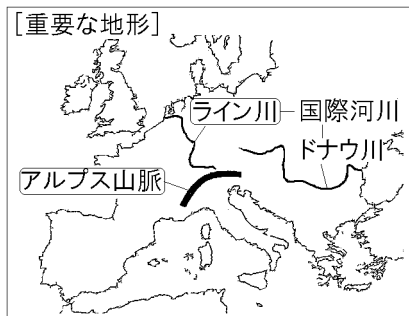
【FdData 中間期末：中学社会地理：ヨーロッパ】
[地形]

[問題](2学期中間)

オランダ、ドイツなど複数の国を流れる国際河川で、河口にはユーロポートがある川は何か。

[解答]ライン川

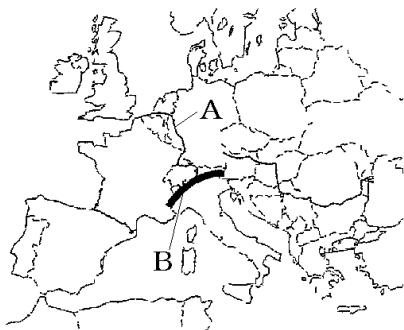
[解説]



アルプス^{さんみやく}山脈はスイスとイタリアの国境に位置している。ライン川はアルプス山脈に源を發し、ドイツなど6か国を通過しており、ヨーロッパの水上交通の大動脈になっている。ライン川のように複数の国をまたがって流れる川を^{こくさいかせん}国際河川という。ドナウ川も国際河川である。

[問題](2 学期期末)

次の地図を見て各問いに答えよ。



- (1) Aは複数の国を流れる国際河川である。Aの川の名前を答えよ。
- (2) Bの山脈の名前を答えよ。

[解答](1) ライン川 (2) アルプス山脈

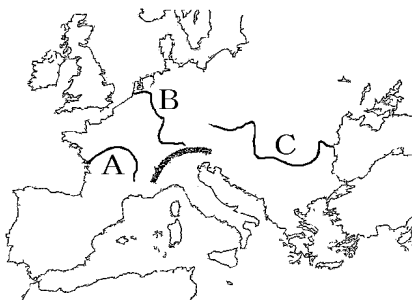
[問題](2 学期期末)

ライン川やドナウ川のように複数の国をまたがって流れる川を何というか。

[解答]国際河川

[問題](2学期中間)

下図のA～Cの中で、「国際河川」とよばれている河川はどれか。すべてあげよ。



[解答]B, C

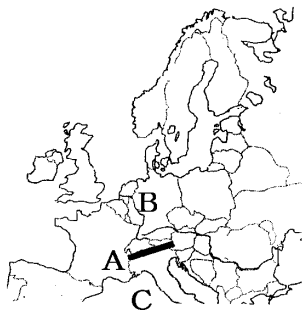
[問題](2学期中間)

スイスとイタリアの国境に位置する山脈は何か。

[解答]アルプス山脈

[問題](2学期中間)

A の山脈, B の川, C の海の名前をそれぞれ答えよ。



[解答]A アルプス山脈 B ライン川 C 地中海

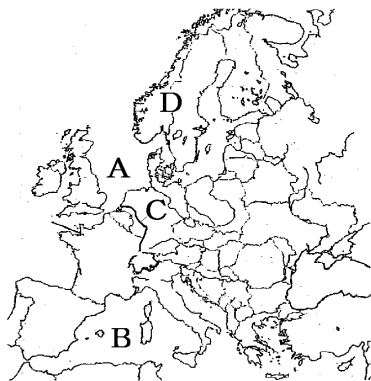
[解説]



ヨーロッパをとりまく海としては、三大洋の1つである^{たいせいよう}大西洋、ヨーロッパ州とアフリカ州に囲まれた^{ちちゅうかい}地中海、^{ほっかいゆでん}北海油田がある北海などがある。
^{はんとう}半島としては、スカンディナビア半島、イベリア半島などがある。

[問題](2学期中間)

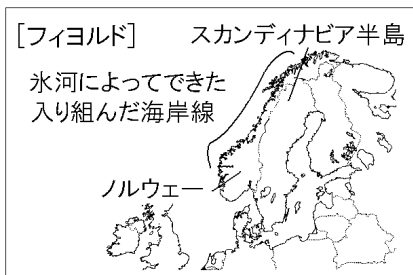
次の地図中のA～Dの地形名を下のヒントを参考にして答えよ。



- A 油田が発見された海
- B ヨーロッパ州とアフリカ州に囲まれた海
- C ヨーロッパの大動脈といわれる国際河川
- D フィヨルドという入り江のある半島

[解答]A 北海 B 地中海 C ライン川
D スカンディナビア半島

[解説]



D スカンディナビア半島西部のノルウェーの海岸部は入り組んだ地形になっている。これは氷河^{ひょうが}によってけずられた谷の奥深くまで海水が入りこんでできた海岸線である。このような地形をフィヨルドという。

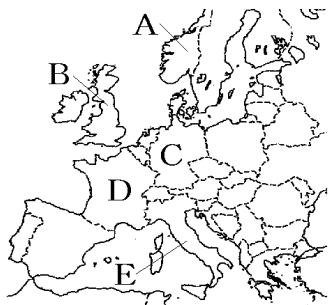
[問題](2 学期中間)

スカンディナビア半島西部のノルウェーの海岸部の氷河で削られた入り組んだ地形の海岸を何と
いうか。

[解答]フィヨルド

[問題](後期中間)

この国ではフィヨルドとよばれる入りくんだ海岸線が見られる。

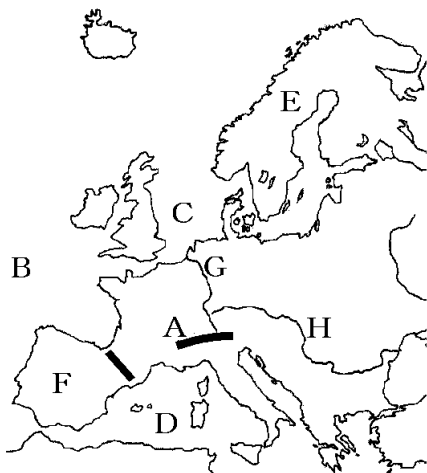


- (1) ①「この国」の国名を答えよ。②また、その位置を地図のA～Dから選べ。
- (2) フィヨルドの入りくんだ海岸線は何によってけずられてできたものか。

[解答](1)① ノルウェー ② A (2) 氷河

[問題](1 学期中間)

ヨーロッパ州の様子について、次の略地図を見て以下の各問いに答えよ。



- (1) A の山脈を何というか。
- (2) B～D の海洋を何というか。
- (3) E, F の半島を何というか。
- (4) E の半島では、氷河によって作られた地形が見られる。この地形を何というか。
- (5) G, H の河川は、国境をこえて流れ、水運にも利用されている。G と H の河川をそれぞれ何というか。

[解答](1) アルプス山脈 (2)B 大西洋 C 北海
D 地中海 (3)E スカンディナ비아半島
F イベリア半島 (4) フィヨルド
(5)G ライン川 H ドナウ川

[問題](2 学期期末)

次の地図をみて、各問いに答えよ。



(1) 地図中のa～fの地形名を下の[]から選んで書け。

[大西洋 地中海 スカンディナ비아半島
バルカン半島 アルプス山脈
ピレネー山脈 ドーバー海峡]

- (2) ライン川やドナウ川は、複数の国を流れているため、何とよばれているか。
- (3) ライン川は何か国を流れているか。
- (4) ノルウェーの海岸線にみられる、氷河の侵食によってできた湾や入り江を何というか。

[解答](1)a 大西洋 b ドーバー海峡

c スカンディナヴィア半島 d ピレネー山脈

e 地中海 f アルプス山脈 (2) 国際河川

(3) 6か国 (4) フィヨルド

[解説]

(1)bのドーバー^{かいきょう}海峡にはフランスとイギリスを結ぶユーロトンネルが通っている、

d のピレネー山脈はスペインとフランスの国境線になっている。

(3) ライン川が流れている国は、ドイツ、オランダ、フランス、スイス、オーストリア、リヒテンシュタインの6か国である。

[問題](前期期末)

下の地図中のア～オのうち、本初子午線を表している線の記号を書け。



[解答]イ

[解説]

ほんしょしごせん
本初子午線はイギリスのロンドン付近を
通っているなのでイと
判断できる。



[問題](2 学期期末)

ヨーロッパは何大陸の西端にあるか。

[解答]ユーラシア大陸

[解説]

[ユーラシア大陸]



◆社会地理の各ファイルへのリンク

<http://www.fdtype.com/dp/sc2/index.html>

◆FdData 中間期末の特徴(QandA 方式)

http://www.fdtype.com/dp/qanda_k.html

◆製品版(パソコン Word 文書：印刷・編集用)
の価格・購入方法

<http://www.fdtype.com/dp/seihin.html>

※ iPhone でリンク先が開かない場合は、
「iBooks」を開いてリンクをタップください。

【Fd 教材開発】 Mail : info2@fdtype.com