

【FdData 中間期末：中学社会地理：ヨーロッパ】
【ヨーロッパ各国】

【問題】(3 学期)

次の各問いに答えよ。

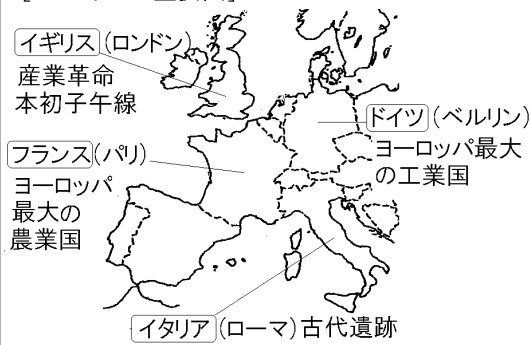


- (1) 地図中①～⑤の国の名前を書け。
(2) 地図中①, ④, ⑤の国の首都を答えよ。

【解答】(1)① ドイツ ② オランダ ③ イギリス
④ フランス ⑤ イタリア (2)① ベルリン
④ パリ ⑤ ローマ

[解説]

[ヨーロッパの主要国]



[問題](2 学期期末)

次の各問いに答えよ。



- (1) 地図中の A の国の首都は本初子午線が通っている。この国の①国名と、②首都名を答えよ。
- (2) 地図中の B, C の国の首都名を答えよ。

[解答](1)① イギリス ② ロンドン

(2)B パリ C ローマ

[問題](2 学期期末)

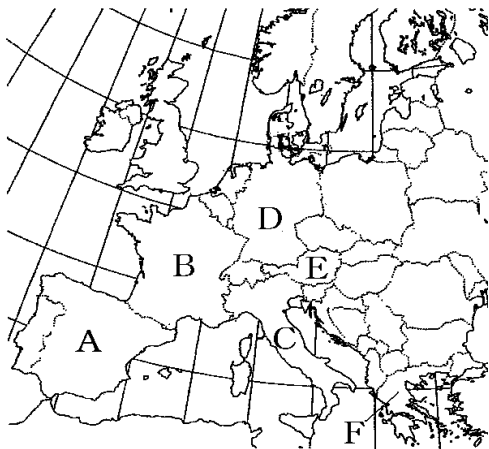
次の地図の A～F の国名を書け。



[解答]A スペイン B フランス C スイス
D オランダ E ドイツ F スウェーデン

[問題](2 学期期末)

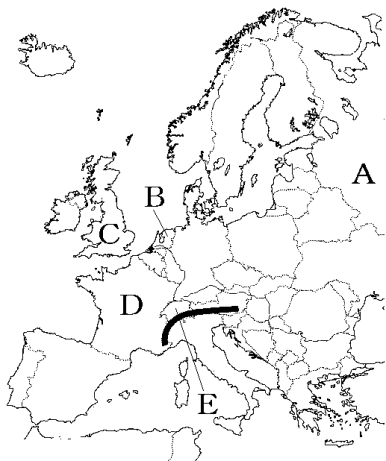
次の地図の A～F の国の首都の名前を書け。



[解答]A マドリード B パリ C ローマ
D ベルリン E ウィーン F アテネ

[問題](2学期中間)

地図中の A～E の国名を答え、各国の説明をしている文を下のア～オから選び、記号で答えよ。

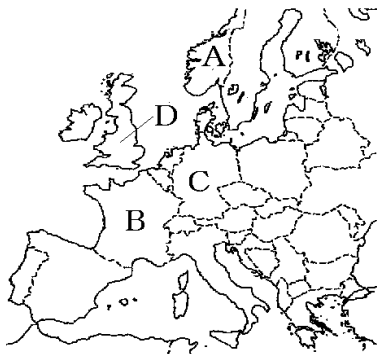


- ア ヨーロッパ最高峰のアルプス山脈があり、乳牛ややぎの牧畜がさかんな国。
- イ EU 最大の農業国、中でも小麦などの穀物類の生産が特に多い。
- ウ ポルダーとよばれる干拓地を作り、国土を広げてきた国。園芸農業がさかん。
- エ 石油や天然ガスをパイプラインでEUなどに輸出している資源大国。
- オ 18世紀、最初に産業革命が起こり、かつて「世界の工場」とよばれていた国。

[解答]A ロシア連邦, エ B オランダ, ウ
C イギリス, オ D フランス, イ
E スイス, ア

[問題](2 学期期末)

次の地図を見て, 各問いに答えよ。



- (1) A の国の海岸沿いにある氷河によってつくられた地形を何というか。
- (2) A の国がある半島の名前を書け。
- (3) 次の文を参考にして B~D にあてはまる国名を書け。

B ヨーロッパを代表する国の 1 つで小麦の収穫量が多い農業国でもある。首都パリは, 日本からの観光客も多い。

- C ライン川の流域に位置し、自動車をはじめとする機械工業がさかんである。
- D 大西洋に面した島国で、18世紀、産業革命によって近代工業がおこった。

[解答](1) フィヨルド (2) スカンディナヴィア半島 (3) B フランス C ドイツ D イギリス

[問題](前期期末)

次の①、②の文は、地図中のA～Eのうちどの国について説明したものか、それぞれ、国名と記号を書け。



- ① 複数の言語を公用語とし、「永世中立」を宣言している国。
- ② 上の写真の遺跡がある国

[解答]① スイス, E ② イタリア, D

◆社会地理の各ファイルへのリンク

<http://www.fdttext.com/dp/sc2/index.html>

◆FdData 中間期末の特徴(QandA 方式)

http://www.fdttext.com/dp/qanda_k.html

◆製品版(パソコン Word 文書 : 印刷・編集用)
の価格・購入方法

<http://www.fdttext.com/dp/seihin.html>

※ iPhone でリンク先が開かない場合は,
「iBooks」を開いてリンクをタップください。

【Fd 教材開発】 Mail : info2@fdtext.com