

【FdData 中間期末：中学社会地理：ヨーロッパ】

【民族・宗教】

【問題】(2 学期中間)

次のヨーロッパの民族分布で記されていないロシア人などが属する民族を何とよぶか。



【解答】スラブ系民族

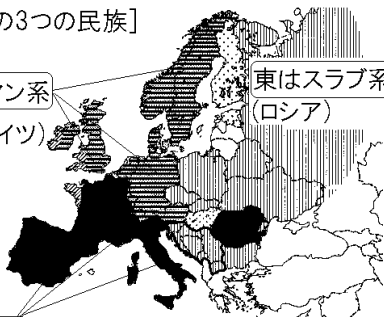
【解説】

【ヨーロッパの3つの民族】

北はゲルマン系  
(イギリス, ドイツ)

東はスラブ系  
(ロシア)

南はラテン系 (フランス, イタリア, スペイン)



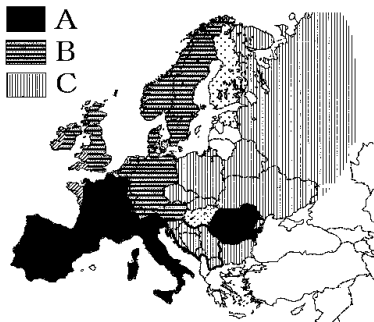
ヨーロッパの民族は、使用している言語によって次の3つに分類される。

- ・ラテン系民族(ラテン系言語)：フランス，イタリア，スペイン，ポルトガルなど
- ・ゲルマン系民族(ゲルマン系言語)：イギリス，ドイツ，<sup>ほくおう</sup>北欧など
- ・スラブ系民族(スラブ系言語)：ロシア，東ヨーロッパ諸国

ベルギーやスイスは自分の国の言葉を持たず，フランス語やドイツ語などを使用している。それらの言葉を母語(母国語)ではなく，<sup>こうようご</sup>公用語とよぶ。

[問題](2学期中間)

図はヨーロッパ州の民族構成を表している。地図中のA～Cは何民族が多くくらす地域か。下の[ ]から1つずつ選べ。



[ ゲルマン系民族 スラブ系民族  
ラテン系民族 ]

[解答]A ラテン系民族 B ゲルマン系民族  
C スラブ系民族

[問題](2 学期中間)

次の文の①～③に入れる適語を下の[ ]より選べ。

ヨーロッパには多様な民族がくらししており、独自の言語や文化を持っている。ヨーロッパの言語を大まかに分けると、3つのグループに分けられる。北西部では英語やドイツ語などの( ① )系言語、南部ではフランス語やイタリア語などの( ② )系言語、東部ではロシア語やポーランド語などの( ③ )系言語が使われている。

[ゲルマン ケルト バスク ラテン スラブ]

[解答]① ゲルマン ② ラテン ③ スラブ

[問題](2 学期期末)

ヨーロッパの言語についてまとめた下の表の X と Y にあてはまる語句をそれぞれ書け。

( X )系言語	英語, ドイツ語
( Y )系言語	フランス語, イタリア語

[解答]X ゲルマン Y ラテン

[問題](1 学期中間)

イギリスでおもに使用されている言語の系統の名を次の[ ]から選べ。

[ ラテン系言語   ゲルマン系言語  
スラブ系言語 ]

[解答]ゲルマン系言語

[問題](2 学期期末)

イタリアで話されている言語は何系言語か。

[解答]ラテン系言語

[問題](1 学期期末)

ロシア連邦やポーランドは何系言語を使用しているか。

[解答]スラブ系言語

### [問題](2 学期中間)

ベルギーやスイスは自分の国の言葉を持たず、フランス語やドイツ語などを使用している。それらの言葉を母語(母国語)ではなく、何とよぶか。

[解答]公用語

### [問題](1 学期中間)

ヨーロッパでは1つの国に複数の民族が存在する国もあり、( )問題が生じて紛争になることもあった。( )にあてはまる語句を書け。

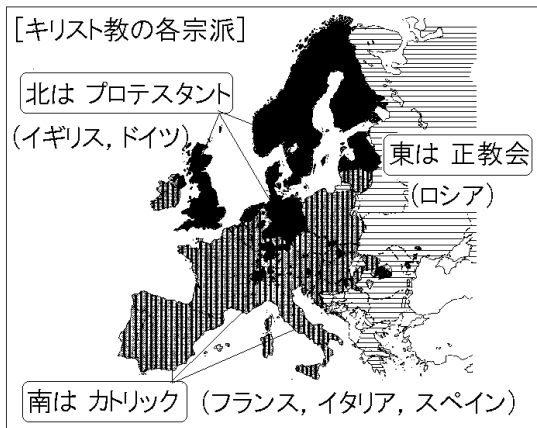
[解答]民族

### [問題](2 学期期末)

ヨーロッパ州の多くの地域で信仰されている宗教は何か。

[解答]キリスト教

## [解説]



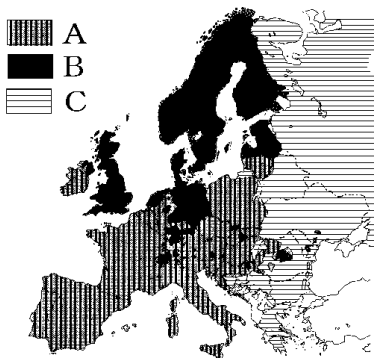
ヨーロッパやロシアではキリスト教が<sup>しんこう</sup>信仰されている。キリスト教は、3つの宗派に分かれている。ローマ<sup>きょうこう</sup>教皇を頂点とするカトリックは、イタリア、フランス、スペインなどラテン系民族の国々に広がっている。ドイツのルターの宗教改革(16世紀)によって、カトリックから分かれたプロテスタントは、ドイツ、イギリス、北欧などゲルマン系民族の国々に広がっている。

ロシア連邦、ギリシャ、東ヨーロッパなどスラブ系民族の国々などでは正教会<sup>せいきょうかい</sup>が中心である。

[問題](2 学期期末)

次の地図はヨーロッパのキリスト教の分布図である。A, B, C のキリスト教の宗派名を下の[ ] から選べ。

[ プロテスタント 正教会 カトリック ]



[解答]A カトリック B プロテスタント  
C 正教会



[問題](2学期中間)

次の文の①～③に入れる適語を下の[ ]より選べ。


ヨーロッパでは広くキリスト教が信仰されている。大きく分けると、ローマ教皇を最高指導者とする( ① ), ルターの宗教改革を始まりとする( ② ), ギリシャやロシア連邦などの東ヨーロッパの国に多い( ③ )の3つに分けられる。

[カトリック 正教会 プロテスタント]

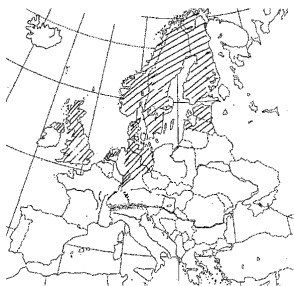
[解答]① カトリック ② プロテスタント

③ 正教会

[問題](前期期末)

右の地図中の  
の地域で信仰されているキリスト教の宗派を何というか。次から選べ。

[カトリック  
プロテスタント  
正教会]



[解答]プロテスタント

[問題](後期中間)

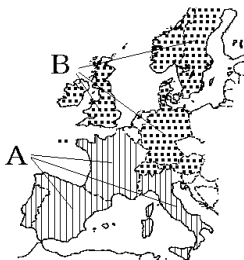
右の資料はヨーロッパ州のキリスト教の分布図である。

(1) A, B の地域で信仰されているキリスト教の宗派をそれぞれ答えよ。

(2) キリスト教の祭り

の中で、イエスの復活を祝う祭りは何か。次の[ ]の中から選べ。

[ クリスマス ハロウィン イースター  
サンクスギビングデー ]



[解答](1)A カトリック B プロテスタント

(2) イースター

[解説]

(2) クリスマスはイエスの誕生を祝う日。ハロウインは民俗行事。イースターはイエスの復活を祝う祭り。サンクスギビングデーは感謝祭である。

[問題](1 学期中間)

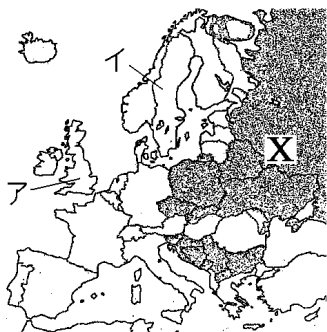
次の X の国名を書き，その国の人々がおもに信仰しているキリスト教の宗派を書け。



[解答]国名：ロシア連邦 宗派：正教会

【問題】(2 学期期末)

次の地図を見て、各問いに答えよ。



- (1) ヨーロッパの民族は、使用言語にもとづいておおまかに分類される。図の X の民族を何と  
いうか。
- (2) X で話されている言語を、次から 1 つ選べ。  
[ フランス語 ロシア語 ドイツ語 スペ  
イン語 ]
- (3) アやイの国でおもに信仰されているキリス  
ト教の宗派は何か。
- (4) 1960 年代以降、アフリカやトルコなどヨー  
ロッパ以外から働き口を求めてヨーロッパ  
に移住する人々がいる中で、信仰する人が増  
えている宗教は何か。

[解答](1) スラブ系民族 (2) ロシア語  
(3) プロテスタント (4) イスラム教  
[解説]

(4) 1960年代以降、イスラム教徒が多い北アフリカやトルコ(西アジアにある)から、仕事を求めてヨーロッパに移住する人々が増えている。

[問題](1 学期中間)

ヨーロッパで、近年、イスラム教を信仰する人が増えている理由を、「西アジア」「北アフリカ」という語句を使って説明せよ。

[解答]西アジアや北アフリカの国から、イスラム教を信仰する人々が職を求めてヨーロッパに移住してきたため。

## [問題](2 学期期末)

キリスト教はヨーロッパで広く信仰されている宗教である。このキリスト教について述べた文として正しいものを1つ選べ。

ア 金曜日には教会に礼拝に行く。

イ 教会はモスクとよばれる。

ウ プロテスタントやカトリックなどの宗派があり、スペインではカトリックを信仰している人が多い。

エ メーデーはこの宗教に関わる行事である。

[解答]ウ

[解説]

アは誤り。キリスト教徒が教会に礼拝に行くのは日曜日である。

イは誤り。モスクはイスラム教の礼拝堂である。

ウは正しい。

エは誤り。メーデーは労働者の祭りで、キリスト教とは関係がない。

◆社会地理の各ファイルへのリンク

<http://www.fdtype.com/dp/sc2/index.html>

◆FdData 中間期末の特徴(QandA 方式)

[http://www.fdtype.com/dp/qanda\\_k.html](http://www.fdtype.com/dp/qanda_k.html)

◆製品版(パソコン Word 文書：印刷・編集用)  
の価格・購入方法

<http://www.fdtype.com/dp/seihin.html>

※ iPhone でリンク先が開かない場合は、  
「iBooks」を開いてリンクをタップください。

【Fd 教材開発】 Mail : [info2@fdtype.com](mailto:info2@fdtype.com)