

【FdData 中間期末：中学社会地理：ヨーロッパ】
【ヨーロッパの農業】

【問題】(2 学期期末)

次の各問いに答えよ。



- (1) 地中海式農業が行なわれている都市として、正しいものをア～ウより選べ。
- (2) 地中海式農業を説明した次の文の①, ②に適する語句を下の[]から選べ。

地中海式農業は、乾燥した夏に(①)やオレンジを、湿潤な冬には(②)を栽培している。

[天然ゴム 小麦 ヤムイモ バナナ
さとうきび オリーブ]

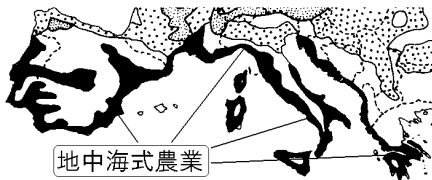
[解答](1) ウ (2)① オリーブ ② 小麦

[解説]

[地中海式農業の特色]

夏:乾燥→乾燥に強い **オリーブ・オレンジ・ぶどう**

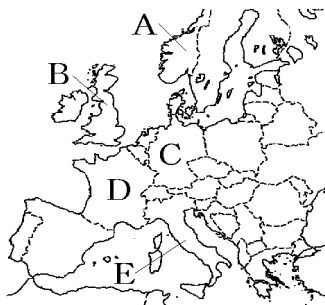
冬:温暖で雨が多い→**小麦**



アルプス山脈より南の地中海沿岸は、地中海性気候^{ちちゅうかい}で夏の降水量が少ない。このため、夏には乾燥^{かんそう}に強いオリーブ・オレンジ・ぶどうなどの果樹を栽培し、温暖で雨の多い冬には小麦^{おんだん}を栽培する地中海式農業^{ちちゅうかいしき}が行われている。地中海式農業が行われているイタリアでは、パスタやピザといった、小麦やオリーブオイルを使った料理が食べられている。ワインの原料になるぶどうは、イタリア、フランス、スペインで多く生産されている。

[問題](後期中間)

この国ではパスタやピザといった、小麦やオリーブオイルを使った料理が食べられている。

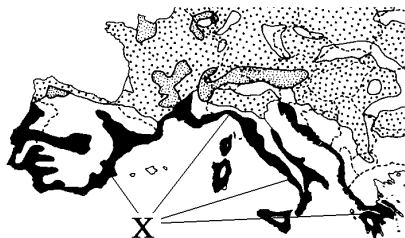


- (1) ①「この国」の国名を答えよ。②また、その位置を地図のA～Eから選べ。
- (2) このような乾燥に強い農作物をつくる農業を何とよぶか。

[解答](1)① イタリア ② E (2) 地中海式農業

[問題](2 学期期末)

次の各問いに答えよ。



- (1) 上の地図中の X の地域で行われている農業の種類名を下から選べ。
[混合農業 地中海式農業 酪農]
- (2) 地図中の X の地域でさかんに作られている農作物でワインの原料になるものは何か。

[解答](1) 地中海式農業 (2) ぶどう

[問題](前期期末)

次の文の①, ②に適語を入れよ。

イタリア, フランス, スペイン, ギリシャではオリーブの栽培がさかんである。夏に乾燥するヨーロッパ南部の気候にあわせ乾燥に強いオリーブなどを栽培する農業を(①)という。また, ドイツなどではじゃがいもや小麦などの栽培のほかに, 牛や豚の飼育や家畜のえさにする作物の栽培も行っている。このような農業を(②)という。

[解答]① 地中海式農業 ② 混合農業

[解説]



フランス・ドイツ・東ヨーロッパなどヨーロッパの大部分では^{こんごう}混合農業が行われている。混合農業は、小麦などの穀物栽培、家畜のえさになる飼料作物の栽培、豚や牛などの家畜の飼育を組み合わせた農業である。

穀物と飼料作物を3～7年周期で交互に^{りんさく}輪作するが、輪作を行うのは、同じ作物を連続して栽培すると地力が落ちて^{しゅうかく}収穫が減るためである。

フランスは、EU域内の最大の農業国で、小麦の生産が多く、EU各国に輸出している。

[問題](2 学期中間)

次の各問いに答えよ。

- (1) アルプス山脈より南の地域でみられる農業を何とというか。
- (2) 混合農業について[家畜 小麦 作物]の語をすべて用いて説明せよ。

[解答](1) 地中海式農業 (2) 小麦などの穀物栽培，家畜のえさになる飼料作物の栽培，豚や牛などの家畜の飼育を組み合わせた農業。

[問題](1 学期期末)

混合農業について簡単に説明せよ。

[解答]小麦などの穀物栽培，家畜のえさになる飼料作物の栽培，豚や牛などの家畜の飼育を組み合わせた農業。

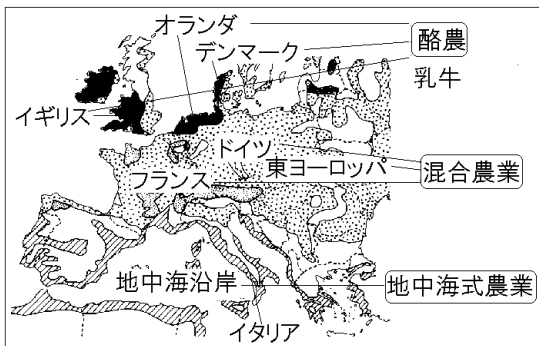
[問題](2学期中間)

ヨーロッパの農業について、次の各問いに答えよ。

- (1) 小麦やライ麦などの穀物栽培，飼料作物の栽培，豚などの家畜の飼育を組み合わせた農業を何というか。
- (2) 地中海の沿岸でおこなわれ，夏に乾燥に強いオリーブなどを栽培し，雨がやや多い冬に小麦を栽培する農業を何というか。
- (3) 冷涼な北部やアルプスで行われ，乳牛などを飼育して，生乳やバター，チーズなどの乳製品を生産する農業を何というか。

[解答](1) 混合農業 (2) 地中海式農業 (3) 酪農

[解説]



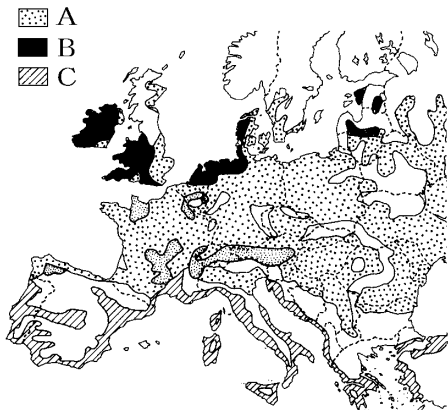
ヨーロッパの農業は、アルプス山脈より南の地中海式農業、アルプス山脈より北のヨーロッパの大部分で行われている混合農業、そして、酪農の3つに分けることができる。

酪農は、冷涼で穀物栽培に適さないヨーロッパ北部のオランダ・デンマーク・イギリスなどで行われ、乳牛などを飼育して、生乳やバター、チーズなどの乳製品を生産する農業である。オランダは国土の約4分の1をポルダーという干拓地がしめ、酪農のほか花の栽培もさかんである。なお、スイスではアルプス山脈の気候を利用して移牧という方法でやぎや羊などの牧畜を行っている。

[問題](2 学期期末)

次の①～③の地域を地図中の A～C から選んで記号を書き，それぞれの農業名を答えよ。

ヨーロッパの農業分布



- ① 乳牛を飼いバターやチーズを生産している。
- ② オリーブ，オレンジ，小麦などを栽培している。
- ③ 小麦などの作物栽培，飼料作物の栽培，家畜の飼育を組み合わせている。

[解答]① B, 酪農 ② C, 地中海式農業
③ A, 混合農業

[問題](1 学期期末)

乳牛などを飼育し、生乳やバターやチーズなどの乳製品を生産する農業を何というか。

[解答]酪農

[問題](2 学期期末)

ヨーロッパの農業について、次の文の①～⑥に適語を入れよ。


ヨーロッパでは、氷河によって作られたやせた土地が多く、農産物の収穫量をあげるために家畜のふんやたい肥を混ぜて肥えた土を作らねばならず、家畜のえさである飼料の栽培が必要であった。畑作については飼料や小麦やライ麦などを順番に毎年違う土地で作る輪作により土地の力を保ってきた。このように畑作と家畜の飼育を組み合わせた農業を(①)という。EU 域内の最大の農業国は(②)で、ヨーロッパの主食である(③)の生産が多く、EU 各国に輸出している。またイタリアやギリシャなどでは乾燥に強い(④)、ぶどう、オレンジが多く栽培されている。また、(⑤)(国名)はチーズの生産や花の生産で知られる。スイスでは(⑥)山脈の気候を利用して移牧という方法でやぎや羊などの牧畜を行っている。

[解答]① 混合農業 ② フランス ③ 小麦
④ オリーブ ⑤ オランダ ⑥ アルプス

[問題](2 学期期末)

次の各問いに答えよ。

- (1) アルプス山脈の南側で行われている、乾燥して暑い夏にオリーブなどを栽培する農業を何というか。
- (2) アルプス山脈の北側の平野で行われている、麦類を中心にした畑作に牛や豚の飼育を組み合わせた農業を何というか。
- (3) 牛乳・チーズ・バターなどの乳製品を生産する農業を何というか。
- (4) 右の写真は、オランダの国土の約4分の1を占める干拓地のようすである。牧草地が広がり、花の栽培もさかんな、この干拓地を何というか。



[解答](1) 地中海式農業 (2) 混合農業 (3) 酪農
(4) ポルダー

◆社会地理の各ファイルへのリンク

<http://www.fdtype.com/dp/sc2/index.html>

◆FdData 中間期末の特徴(QandA 方式)

http://www.fdtype.com/dp/qanda_k.html

◆製品版(パソコン Word 文書：印刷・編集用)
の価格・購入方法

<http://www.fdtype.com/dp/seihin.html>

※ iPhone でリンク先が開かない場合は、
「iBooks」を開いてリンクをタップください。

【Fd 教材開発】 Mail : info2@fdtype.com