

【FdData 中間期末：中学社会地理：ヨーロッパ】
【EU の工業】

【問題】(2 学期中間)

ライン川沿いにあるドイツの工業地域を何というか。

【解答】ルール工業地域

【解説】



ヨーロッパ最大の工業国はドイツである。その代表的な^{こうぎょうちいき}工業地域の 1 つはルール工業地域で、石炭、鉄鉱石、ライン川の水運にめぐまれて、戦後、^{てっこうぎょう}鉄鋼業などの重工業が発達した。しかし、1970 年以降、鉄鋼業などはじょじょにおとろえている。しかし、ミュンヘンではハイテク産業(^{せんたんぎじゅつ}先端技術産業)が成長している。また、ドイツでは、自動車産

業も発達している。

ライン川は、アルプス山脈から流れ出て^{ほっかい}北海にそそぎ、どの国の船も自由に航行できる^{こくさいかせん}国際河川である。ライン川の河口の国はオランダで、ユーロポートは^{ほっかいゆでん}国際的な貿易港になっている。北海油田は1960年から開発が進められ、これによってイギリスやノルウェーは産油国になった。

[問題](2 学期期末)

次の文の①、②に適語を入れよ。

ヨーロッパには工業の発達した国がいくつもあるが、その中でも輸出額世界3位(2011年)である(①)が最大の工業国といえる。この国では近くの主要な川の水運を生かし、近くにある地下資源を活用して、重工業を発展させた。おもな工業地域は(②)工業地域である。

[解答]① ドイツ ② ルール

[解説]

輸出額順位(2011年) : 1位 中国, 2位 アメリカ合衆国, 3位 ドイツ, 4位 日本

[問題](2 学期期末)

次の各問いに答えよ。

- (1) ドイツで、ヨーロッパ州最大の工業地域がある地方はどこか。
- (2) オランダのライン川河口近くに建設された港を何というか。
- (3) イギリスやノルウェーは、何という油田の開発で産油国になったか。

[解答](1) ルール地方 (2) ユーロポート

(3) 北海油田

[問題](後期中間)

オランダにあるヨーロッパ連合最大の輸出港は何か。

[解答]ユーロポート

[問題](2 学期期末)

次の各問いに答えよ。

- (1) 医薬品や情報通信機器などの生産を行う産業を何というか。
- (2) ヨーロッパの国々が、各部分ごとに生産を分担し、フランスで組み立てを行っている輸送機械は何か。

[解答](1) ハイテク産業(先端技術産業)

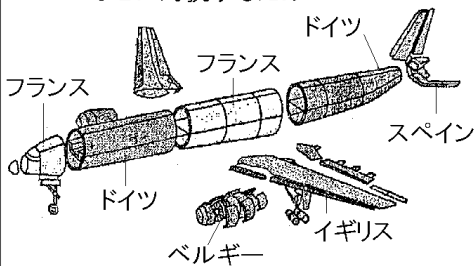
(2) 航空機

[解説]

[航空機]

国境をこえて協力し共同で生産

アメリカなどに対抗するため



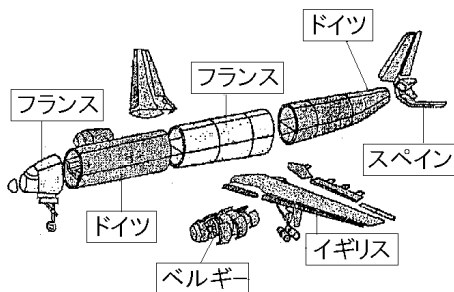
こうくうき

航空機産業については、アメリカ合衆国などに対抗するために、EU各国は、国境をこえて協力し共同で生産を行っている。航空機の開発にはばく

大な費用がかかり、ヨーロッパの既存の各社が単独では、アメリカの航空機メーカーに対抗できなくなっただためである。EU各国が、上図のように、各部分ごとに生産を分担し、フランスで組み立てを行っている。

【問題】(1 学期中間)

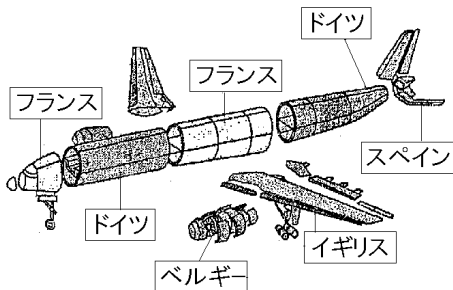
次の資料は、EUにおける航空機の生産の様子を示したものである。この資料を見ると、EU各国は工業面でも結びついていることがわかる。この資料の航空機の生産の特色を説明せよ。



【解答】EU 各国は国境をこえて協力し共同で生産を行っている。

[問題](前期期末)

次の資料のように、ヨーロッパ各国が共同で工業製品を生産するのは何のためか。「対抗」の語を使って説明せよ。



[解答]アメリカ合衆国などの工業製品に対抗するため。

[問題](2 学期期末)

ドイツやデンマークで増えつつある、風の力を利用して電気をおこす発電方法を何というか。

[解答]風力発電

◆社会地理の各ファイルへのリンク

<http://www.fdtype.com/dp/sc2/index.html>

◆FdData 中間期末の特徴(QandA 方式)

http://www.fdtype.com/dp/qanda_k.html

◆製品版(パソコン Word 文書：印刷・編集用)
の価格・購入方法

<http://www.fdtype.com/dp/seihin.html>

※ iPhone でリンク先が開かない場合は、
「iBooks」を開いてリンクをタップください。

【Fd 教材開発】 Mail : info2@fdtype.com